



根据国家教育部新课程标准编写

◎主 编 于晓华

◎丛书主编 周伟成

小学数学

教辅资料站

电子教辅 试卷练习  
知识总结 备课资源



—— 扫码关注获取更多学习资料 ——

# 口算

题卡


基础 口算

拓展 速算

趣味 巧算

## 小能手

1 年级·上册  
配 R J 版



WUHAN UNIVERSITY PRESS  
武汉大学出版社



根据国家教育部新课程标准编写

◎主 编 于晓华

◎丛书主编 周伟成

小学数学

# 口算

题卡

基础 口算

拓展 速算

趣味 巧算

## 小能手

# 1

一年级·上册

配 R J 版

$2+2=\square$

$4-2=\square$

$5-2=\square$

$2+\square=\square$

$2+\square=\square$

$2+\square=\square$

$2+\square=\square$

$2+\square=\square$

$1+2=\square$

$3-1=\square$

$1+3=\square$

$4-1=\square$

$4-1=\square$

$4-1=\square$

$4-1=\square$

$4-1=\square$

$4-1=\square$

$4-1=\square$

$1+4=\square$

$5-1=\square$

$5-1=\square$

$5-1=\square$

$5-1=\square$

$5-1=\square$

$5-1=\square$

$5-1=\square$

$5-1=\square$

$5-1=\square$

$5-1=\square$


$4-\square=2$

$\square-3=2$

$\square-3=2$

$\square-3=2$

$\square-3=2$



WUHAN UNIVERSITY PRESS  
武汉大学出版社

关注微信公众号“教辅资料站”获取更多学习资料

# 目 录



## 第一单元

### 准备课

数一数 .....	1
比多少 .....	2

## 第二单元

### 位置

上下前后 .....	3
左右 .....	4
第一、二单元口算能力测试 .....	5

## 第三单元

### 1~5 的认识与加减法

1~5 的认识 .....	6
比大小 .....	7
第几 .....	8
分与合 .....	9
加法 .....	10
减法 (1) .....	11
减法 (2) .....	12
0 的认识 (1) .....	13
0 的认识 (2) .....	14
第三单元口算能力测试 .....	15

## 第四单元

### 认识图形 (一)

认识图形 (1) .....	16
认识图形 (2) .....	17
认识图形 (3) .....	18
认识图形 (4) .....	19
第四单元口算能力测试 .....	20

## 第五单元

### 6~10 的认识和加减法

6 和 7 (1) .....	21
6 和 7 (2) .....	22
6 和 7 和加减法 .....	23
解决问题 .....	24
8 和 9 (1) .....	25
8 和 9 (2) .....	26
8 和 9 的加减法 .....	27
解决问题 .....	28
10 .....	29
10 的加减法 .....	30
连加连减 .....	31
加减混合 (1) .....	32
加减混合 (2) .....	33





# CONTENTS

第五单元口算能力测试 ..... 34

期中口算能力测试 ..... 35

## 第六单元

### 11~20 各数的认识

11~20 各数的认识 (1) ..... 36

11~20 各数的认识 (2) ..... 37

加减法 (1) ..... 38

加减法 (2) ..... 39

解决问题 (1) ..... 40

解决问题 (2) ..... 41

第六单元口算能力测试 ..... 42

## 第七单元

### 认识钟表

认识钟表 (1) ..... 43

认识钟表 (2) ..... 44

第七单元口算能力测试 ..... 45

## 第八单元

### 20 以内进位加法

9 加几 (1) ..... 46

9 加几 (2) ..... 47

9 加几 (3) ..... 48

8、7、6 加几 (1) ..... 49

8、7、6 加几 (2) ..... 50

8、7、6 加几 (3) ..... 51

5、4、3、2 加几 (1) ..... 52

5、4、3、2 加几 (2) ..... 53

5、4、3、2 加几 (3) ..... 54

解决问题 (1) ..... 55

解决问题 (2) ..... 56

解决问题 (3) ..... 57

解决问题 (4) ..... 58

解决问题 (5) ..... 59

解决问题 (6) ..... 60

第八单元口算能力测试 ..... 61

## 第九单元

### 总复习

口算能力测试 (1) ..... 62

口算能力测试 (2) ..... 63

口算能力测试 (3) ..... 64

口算能力测试 (4) ..... 65

口算能力测试 (5) ..... 66

口算能力测试 (6) ..... 67

口算能力测试 (7) ..... 68

口算能力测试 (8) ..... 69

期末口算能力测试 ..... 70

参考答案 ..... 71






# 第一单元 准备课



1 先数一数,再画○表示它们的个数。



















2 看数继续画△。



4



6



3



9



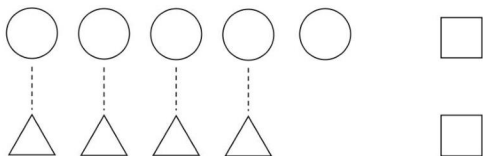
检测时间: \_\_\_ 分 \_\_\_ 秒 答对题数: \_\_\_ 题 检测评价: ★ 1 ★



## 比多少

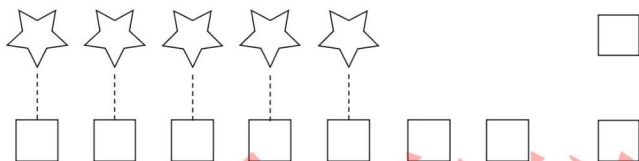
1

在多的后面画√。





2

在少的后面画√。



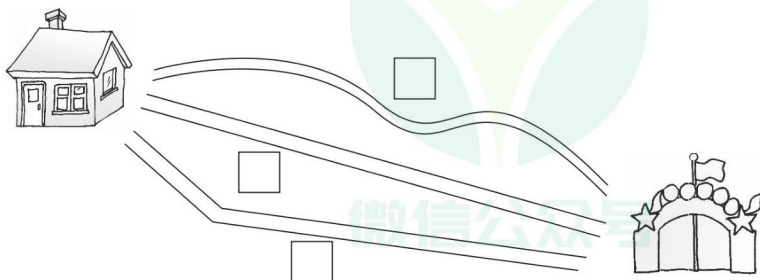
3

高的画√,矮的画○。



4

小红去上学,走哪条路最近? 在最近的旁边画√。

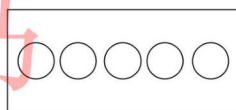
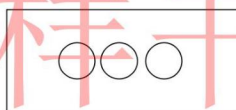
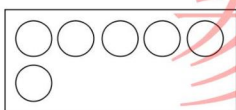
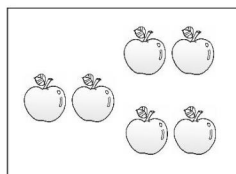







## 第二单元 位置




### 1 连一连。



### 2 填一填，帮小动物们排好队。（把序号填在对应的横线上）




我在 的前面。



我排在最前面。



我的前面只有2只小动物。



我的前面是 。



检测时间：\_\_分\_\_秒

答对题数：\_\_题

检测评价：👍👍👍👍👍



★ 3 ★






## 左右





按要求画一画。

在“★”的左边画“□”，在“★”的右边画“○”。


在“★”的上面画“△”，在“★”的下面画“⊙”。



在每杯水里放3颗同样大的糖，哪一杯最甜？在□里画√。



最重的画√，最轻的画○。





# 第一、二单元


kousuan nengli ceshi  
□算能力测试

1


看图圈数。



1 3 5



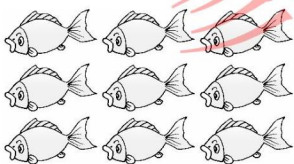
3 4 5



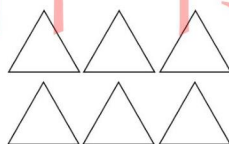
4 6 7



4 5 6



8 9 10



8 7 6

2

圈一圈。



哪个图形最多? [ ○ △ □ ]

哪个图形最少? [ ○ △ □ ]



检测时间: \_\_\_ 分 \_\_\_ 秒

答对题数: \_\_\_ 题

检测评价: [ thumbs up icons ]

★ 5 ★



### 第三单元 1~5 的认识与加减法

#### 1~5 的认识



照样子,圈一圈,连一连。



5

2

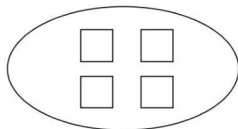
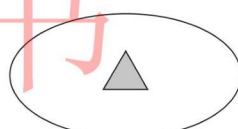
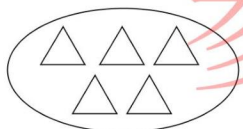
3

1

4



看图写数。



按从 1 到 5 的顺序画迷宫的路线。

2	1	3	2	1	←入口
3	5	4	3	4	
4	5	1	2	5	
5	4	3	2	1	出口←







1

看图填数。




>







>






<




2

填一填。

5 3

 > 
 < 

2 4

 > 
 < 

1 3

 > 
 < 

3

填一填。

5 > ( )

3 < ( )

3 > ( )

1 > ( )

( ) < 3

( ) > 4

( ) = ( )

( ) < ( )



检测时间：\_\_分\_\_秒

答对题数：\_\_题

检测评价：👍👍👍👍👍



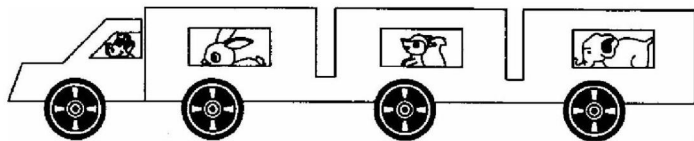
★ 7 ★



第几

1

看图填数。



第  第  第  第

2

小动物排队。(填一填)



(1) 如果 排在第 1 位, 那么 排在第 ( ) 位。

(2) 如果 排在第 1 位, 那么 排在第 ( ) 位。

(3) 无论从左往右数, 还是从右往左数, ( ) 排的位置相同, 都是第 ( ) 位。

3

转动以后, 小刚排在第 ( ) 位。



小刚

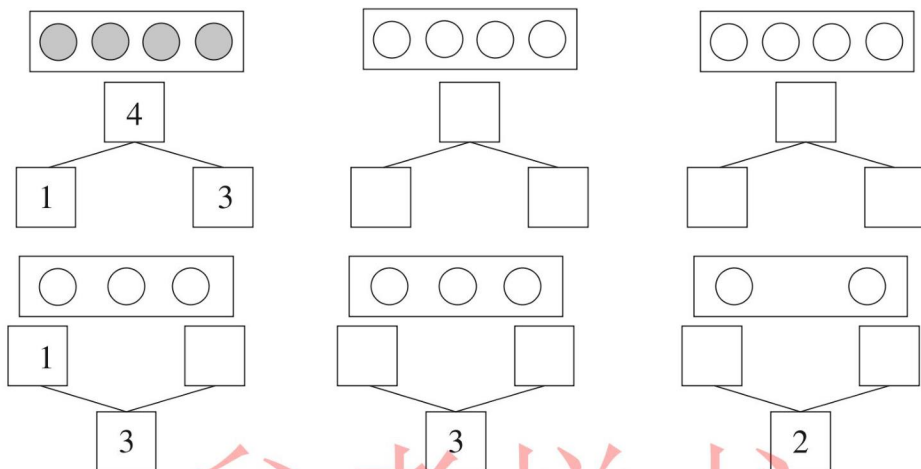




## 分与合

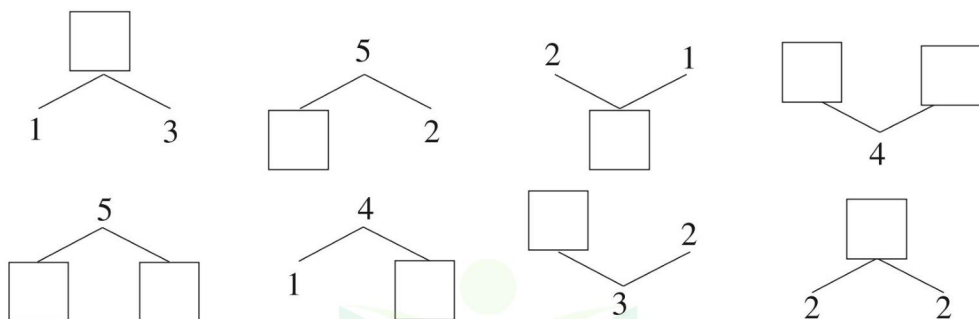
1

涂一涂,填一填。



2

分一分,填一填。



3

把5枝花插在两个花盆中,有几种插法,请写出来。






检测时间:\_\_\_分\_\_\_秒

答对题数:\_\_\_题

检测评价:



★ 9 ★





## 加法

1

口算。

$1 + 1 = \square$

$1 + 3 = \square$

$4 + 1 = \square$

$2 + 2 = \square$

$3 + 1 = \square$

$2 + 3 = \square$

$1 + 2 = \square$

$1 + 4 = \square$

$3 + 2 = \square$

2

填上合适的数。

$1 + \square = 3$

$2 + \square = 5$

$1 + \square = 4$

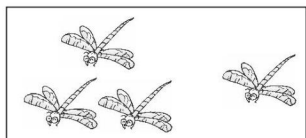
$3 + \square = 5$

$3 + \square = 4$


$\square + 1 = 2$

3


看图填数。




$\square + \square = \square$



$\square + \square = \square$



$\square + \square = \square$



$\square + \square = \square$





## 减法(1)

1

口算。

$1 + 1 = \square$

$1 + 2 = \square$

$1 + 4 = \square$

$2 - 1 = \square$

$3 - 1 = \square$

$5 - 1 = \square$

$2 + 2 = \square$

$1 + 3 = \square$

$2 + 3 = \square$

$4 - 2 = \square$

$4 - 1 = \square$

$5 - 3 = \square$

2

填上合适的数。

$5 - \square = 3$

$5 - \square = 4$

$4 - \square = 2$

$2 + \square = 5$

$2 - \square = 1$

$\square - 3 = 2$

$3 - \square = 2$

$1 + \square = 2$

$\square + 4 = 5$


$3 + \square = 4$

$\square - 4 = 1$


$5 - \square = 2$

3

看图列式计算。



$\square - \square = \square$



$\square - \square = \square$



检测时间：\_\_分\_\_秒

答对题数：\_\_题

检测评价：👍👍👍👍👍



★ 11 ★



口算。

$5 - 4 = \square$

$5 - 2 = \square$

$5 - 1 = \square$

$3 + 1 = \square$

$4 - 1 = \square$

$3 - 2 = \square$

$4 - 3 = \square$

$4 - 2 = \square$

$1 + 2 = \square$

$5 - 3 = \square$

$1 + 4 = \square$

$2 + 3 = \square$

$3 + 2 = \square$

$2 + 2 = \square$

$1 + 1 = \square$



填上合适的数。

$1 + \square = 3$

$1 + \square = 5$

$5 - \square = 1$

$3 + \square = 5$

$3 - \square = 1$

$\square + 2 = 3$

$4 - \square = 3$

$1 + \square = 4$

$3 - \square = 2$


$4 - \square = 1$

$5 - \square = 2$

$5 - \square = 4$




看图列式计算。



$\square + \square = \square$



$\square - \square = \square$



$\square - \square = \square$



# 0 的认识(1)

1

口算。

$0 + 2 = \square$

$3 - 0 = \square$

$3 + 0 = \square$

$1 + 1 = \square$

$5 - 0 = \square$

$0 + 5 = \square$

$0 + 1 = \square$

$0 + 0 = \square$

$0 + 4 = \square$

$0 + 3 = \square$

$5 - 5 = \square$

$4 - 0 = \square$

$2 - 2 = \square$

$1 - 1 = \square$

$2 + 3 = \square$

2

在○里填上“>”“<”或“=”。

$3 - 3 \bigcirc 3$

$5 + 0 \bigcirc 5 - 0$

$3 + 2 \bigcirc 0 + 5$

$2 - 2 \bigcirc 2 + 2$

$0 + 2 \bigcirc 5 - 1$

$4 + 0 \bigcirc 4 - 0$

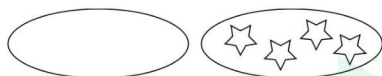
$4 - 0 \bigcirc 2 + 3$

$1 + 1 \bigcirc 2 - 0$

$2 + 1 \bigcirc 5 - 0$

3

看图列式计算。



$\square + \square = \square$



$\square + \square = \square$



$\square - \square = \square$



$\square - \square = \square$



检测时间：\_\_分\_\_秒

答对题数：\_\_题

检测评价：👍👍👍👍👍



★ 13 ★





## 0 的认识(2)

1

口算。

$3 - 3 = \square$

$4 + 0 = \square$

$4 - 4 = \square$

$3 - 1 = \square$

$1 + 0 = \square$

$3 + 1 = \square$

$5 - 1 = \square$

$3 - 2 = \square$

$4 - 2 = \square$

$2 - 0 = \square$

$5 - 2 = \square$

$2 + 0 = \square$

$2 - 1 = \square$

$5 + 0 = \square$

$2 + 2 = \square$

2

填上合适的数。

$3 + \square = 4$

$\square - 0 = 5$

$\square - 2 = 0$

$4 - \square = 2$

$\square - 2 = 1$

$5 - \square = 1$

$\square + 1 = 4$

$4 - \square = 3$

$3 - \square = 0$

$\square + 5 = 5$

$\square - 2 = 2$

$\square + 1 = 5$

3

 $\square$ 里可以填几?

$\square - \square = 1$

$\square + \square = 5$

$\square - \square = 2$

$\square - \square = 3$

$\square - \square = 4$

$\square + \square = 0$





# 第三单元

kousuan nengli ceshi

口算能力测试

1

口算。

$0 + 2 = \square$

$3 - 0 = \square$

$4 - 3 = \square$

$2 + 0 = \square$

$4 - 0 = \square$

$4 - 1 = \square$

$0 + 3 = \square$

$5 - 0 = \square$

$5 - 3 = \square$

$3 + 0 = \square$

$1 - 1 = \square$

$5 - 2 = \square$

$0 + 4 = \square$

$2 - 2 = \square$

$3 + 2 = \square$

$4 + 0 = \square$

$3 - 3 = \square$

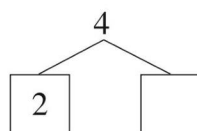
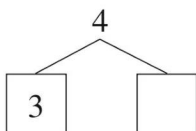
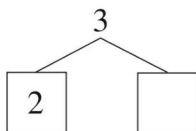
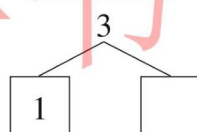
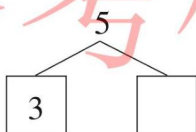
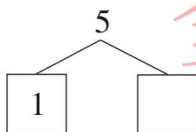
$2 + 3 = \square$

$0 + 5 = \square$

$4 - 4 = \square$

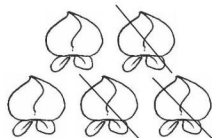
2

分一分,填一填。




3


看图列式计算。



$\square \bigcirc \square = \square$



$\square \bigcirc \square = \square$



$\square \bigcirc \square = \square$



检测时间: \_\_\_ 分 \_\_\_ 秒

答对题数: \_\_\_ 题

检测评价: 🍌🍌🍌🍌🍌



★ 15 ★



## 第四单元 认识图形(一)



## 认识图形(1)

1

口算。

$2 + 3 = \square$

$3 + 2 = \square$

$2 - 0 = \square$

$2 - 2 = \square$

$2 + 2 = \square$

$3 - 2 = \square$

$4 - 2 = \square$

$5 - 2 = \square$

$5 - 1 = \square$

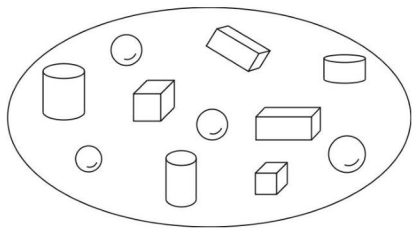
$2 + 0 = \square$

$0 + 3 = \square$

$3 + 1 = \square$

2

数一数。



长方体有( )个。

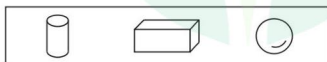
正方体有( )个。

圆柱有( )个。

球有( )个。

3

下面哪些物体能画出左边的图形？请你圈出来。





## 认识图形(2)

1

口算。

$2 - 1 = \square$

$0 - 0 = \square$

$3 + 1 = \square$

$1 + 1 = \square$

$5 - 0 = \square$

$2 + 2 = \square$

$4 + 0 = \square$

$5 - 2 = \square$

$3 + 2 = \square$

$4 - 3 = \square$

$0 + 1 = \square$

$1 + 2 = \square$

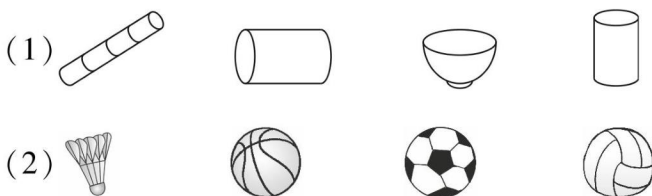
$0 + 0 = \square$

$2 + 3 = \square$

$1 + 4 = \square$

2

把下面每组中形状与众不同的物品圈起来。



3

要把下面每个图形的各个面都涂上不同的颜色,分别需要多少种颜料?



( )种



( )种



( )种



检测时间: \_\_分\_\_秒

答对题数: \_\_题

检测评价: 



★ 17 ★





## 认识图形(3)

1

口算。

$2 + 1 = \square$

$2 - 2 = \square$

$3 - 1 = \square$

$0 + 3 = \square$

$0 + 4 = \square$

$3 + 2 = \square$

$5 - 4 = \square$

$1 + 4 = \square$

$5 - 5 = \square$

$3 + 0 = \square$

$4 + 0 = \square$

$0 + 1 = \square$

$5 - 1 = \square$

$4 + 1 = \square$

$4 - 0 = \square$

2

下面各立体图形分别是由几个正方体摆成的。



( ) 个



( ) 个



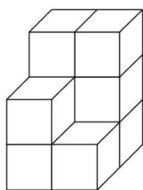
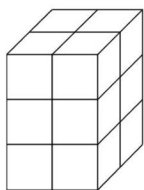
( ) 个



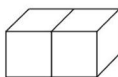
( ) 个

3

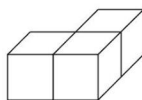
下面右边的哪些图形可以拼成左边的图形？把它们的序号圈起来。



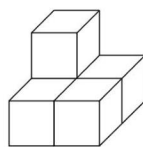
①



②



③



④





# 认识图形(4)

1

口算。

$3 + 1 = \square$

$0 + 1 = \square$

$1 + 4 = \square$

$4 - 1 = \square$

$0 + 3 = \square$

$0 + 5 = \square$

$1 + 2 = \square$

$2 + 3 = \square$

$2 - 1 = \square$

$1 - 1 = \square$

$5 - 0 = \square$

$1 + 3 = \square$

$5 - 5 = \square$

$3 - 2 = \square$

$3 + 2 = \square$

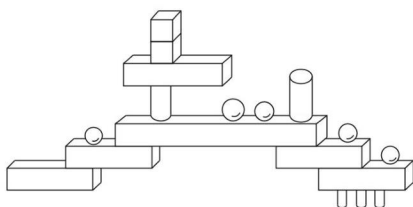
$2 + 2 = \square$

$1 + 3 = \square$

$3 - 1 = \square$

2

数一数。



有( )个。

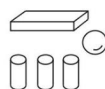
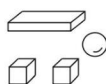
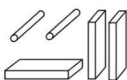
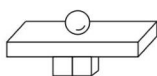
有( )个。

有( )个。

有( )个。

3

把上面一行的组合图形与它所用的材料连起来。



检测时间：\_\_分\_\_秒

答对题数：\_\_题

检测评价：👍👍👍👍👍



★ 19 ★



## 第四单元

kousuan nengli ceshi

口算能力测试

1

口算。

$3 - 2 = \square$

$3 + 2 = \square$

$2 + 3 = \square$

$5 - 4 = \square$

$3 + 0 = \square$

$1 + 4 = \square$

$5 - 3 = \square$

$4 - 4 = \square$

$2 - 1 = \square$

$1 - 1 = \square$

$5 - 1 = \square$

$2 - 2 = \square$

$1 + 2 = \square$

$3 - 3 = \square$

$2 - 0 = \square$

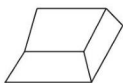
$1 + 3 = \square$

$3 - 0 = \square$

$1 - 0 = \square$

2

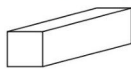
在长方体下面画○,在正方体下面画△。



( )



( )



( )




( )



( )



( )



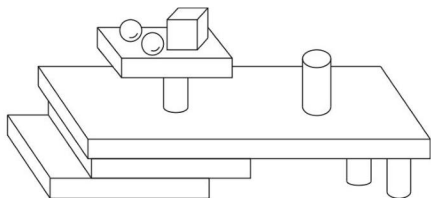
( )



( )

3

数一数,填一填。



有( )个。

有( )个。

有( )个。

有( )个。

★ 20 ★



检测时间: \_\_\_ 分 \_\_\_ 秒

答对题数: \_\_\_ 题

检测评价:





## 第五单元 6~10的认识和加减法



### 1 口算。

$6 - 5 = \square$

$7 + 0 = \square$

$1 + 4 = \square$

$6 - 3 = \square$

$6 - 5 = \square$

$1 + 2 = \square$

$6 - 1 = \square$

$6 - 2 = \square$

$5 - 0 = \square$

$4 - 1 = \square$

$7 - 3 = \square$

$4 + 2 = \square$

$3 + 3 = \square$

$2 + 4 = \square$

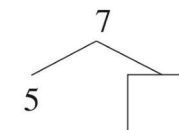
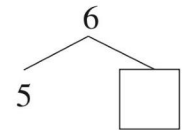
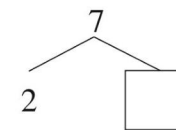
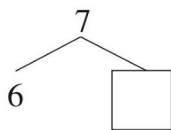
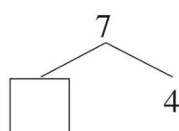
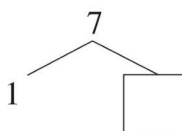
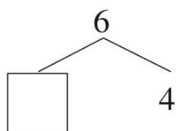
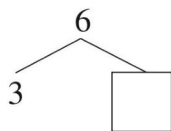
$4 + 3 = \square$

$4 - 2 = \square$

$4 + 1 = \square$

$2 + 0 = \square$

### 2 算一算。



### 3 填空。

(1) 一共有( )个。



(2) 从左往右数, 给第7个笑脸涂上颜色。

(3) 把右边的4个笑脸圈起来。



检测时间: \_\_\_ 分 \_\_\_ 秒

答对题数: \_\_\_ 题

检测评价:



★ 21 ★





口算。

$2 + 3 = \square$

$5 - 3 = \square$

$5 + 1 = \square$

$4 + 2 = \square$

$7 - 6 = \square$

$5 - 1 = \square$

$5 + 2 = \square$

$3 + 2 = \square$

$7 - 4 = \square$

$5 - 4 = \square$

$4 - 2 = \square$

$3 - 3 = \square$

$0 + 5 = \square$

$0 + 1 = \square$

$1 + 1 = \square$

$6 - 0 = \square$

$2 - 2 = \square$

$1 + 5 = \square$



在○里填上“&gt;”“&lt;”或“=”。

$5 \bigcirc 6$

$4 \bigcirc 7$

$6 \bigcirc 3$

$7 \bigcirc 5$

$7 \bigcirc 7$

$0 \bigcirc 6$

$2 \bigcirc 4$

$3 \bigcirc 2$

$1 \bigcirc 0$

$3 \bigcirc 1$

$4 \bigcirc 4$

$0 \bigcirc 0$



看图列式计算。



$\square + \square = \square$



$\square - \square = \square$



$\square + \square = \square$



$\square - \square = \square$





## 6 和 7 和加减法

1

口算。

$1 + 5 = \square$

$7 - 0 = \square$

$7 - 7 = \square$

$3 + 4 = \square$

$4 + 1 = \square$

$2 + 1 = \square$

$0 + 1 = \square$

$2 + 0 = \square$

$7 - 5 = \square$

$2 + 5 = \square$

$4 + 2 = \square$

$3 - 2 = \square$

$6 - 6 = \square$

$7 - 6 = \square$

$1 + 0 = \square$

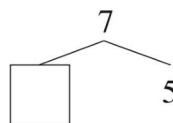
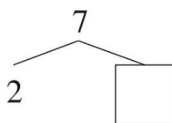
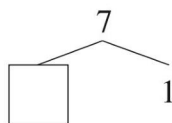
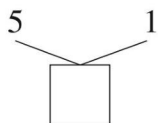
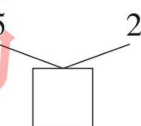
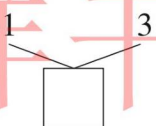
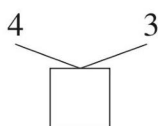
$1 - 1 = \square$

$0 + 4 = \square$

$4 - 4 = \square$

2

填空。



3

看图列式计算。



(1) 哪两堆 相加得 6?

$\square \bigcirc \square = \square$

$\square \bigcirc \square = \square$

(2) 哪两堆 相加得 7?

$\square \bigcirc \square = \square$

$\square \bigcirc \square = \square$



检测时间: \_\_\_ 分 \_\_\_ 秒

答对题数: \_\_\_ 题

检测评价:



★ 23 ★



口算。

$1 + 5 = \square$

$2 + 4 = \square$

$3 + 3 = \square$

$6 + 0 = \square$

$6 - 0 = \square$

$1 + 6 = \square$

$3 + 4 = \square$

$6 - 1 = \square$

$6 - 2 = \square$

$6 - 4 = \square$

$6 - 5 = \square$

$7 - 1 = \square$

$7 - 3 = \square$

$7 - 4 = \square$

$7 - 5 = \square$

$0 + 4 = \square$

$3 + 1 = \square$

$2 + 1 = \square$



想一想,填一填。

$3 + \square = 6$

$\square - 2 = 5$

$6 - \square = 4$

$7 - \square = 0$

$\square + 2 = 7$

$6 - \square = 6$

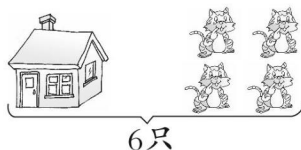

$\square + \square = 6$

$3 - \square = 3$

$2 + \square = 5$



看图列式计算。



$\square \bigcirc \square = \square \text{ (人)}$

$\square \bigcirc \square = \square \text{ (只)}$

★ 24 ★



检测时间: \_\_\_ 分 \_\_\_ 秒

答对题数: \_\_\_ 题

检测评价:





# 8 和 9(1)

## 1 口算。

$1 + 7 = \square$

$8 - 5 = \square$

$9 - 3 = \square$

$2 + 6 = \square$

$9 - 8 = \square$

$9 - 4 = \square$

$8 - 3 = \square$

$6 + 3 = \square$

$8 - 7 = \square$

$9 - 1 = \square$

$5 + 4 = \square$

$8 - 6 = \square$

$3 + 6 = \square$

$8 - 1 = \square$

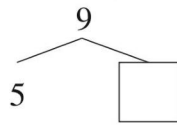
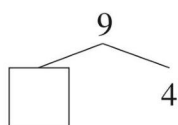
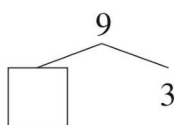
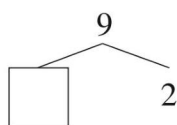
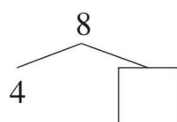
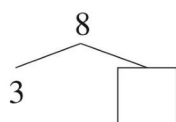
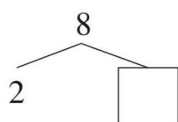
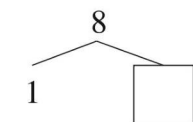
$8 + 1 = \square$

$4 + 5 = \square$

$8 - 2 = \square$

$7 + 2 = \square$

## 2 想一想,填一填。



## 3 猜一猜,下面的小动物分别表示什么数?



检测时间: \_\_\_ 分 \_\_\_ 秒

答对题数: \_\_\_ 题

检测评价:



★ 25 ★





## 8 和 9(2)

1

口算。

$9 - 6 = \square$

$3 + 4 = \square$

$9 - 5 = \square$

$5 + 4 = \square$

$2 + 2 = \square$

$2 + 6 = \square$

$7 - 5 = \square$

$8 - 2 = \square$

$9 - 8 = \square$

$5 - 5 = \square$

$9 - 3 = \square$

$8 + 1 = \square$

$7 - 4 = \square$

$7 + 2 = \square$

$9 - 4 = \square$

$8 - 8 = \square$

$8 - 6 = \square$

$4 + 2 = \square$

2

在○里填上“&gt;”“&lt;”或“=”。

$7 \bigcirc 8$

$8 \bigcirc 9$

$7 \bigcirc 9$

$8 \bigcirc 5$

$9 \bigcirc 6$

$9 \bigcirc 4$

$4 \bigcirc 3$

$8 \bigcirc 0$

$2 \bigcirc 6$


$3 \bigcirc 3$

$8 \bigcirc 8$

$9 \bigcirc 5$

3

看图列式计算。



$\square \bigcirc \square = \square$

$\square \bigcirc \square = \square$

$\square \bigcirc \square = \square$

$\square \bigcirc \square = \square$





# 8 和 9 的加减法

1

口算。

$6 + 2 = \square$

$2 + 6 = \square$

$8 - 6 = \square$

$3 + 5 = \square$

$5 + 3 = \square$

$8 - 3 = \square$

$1 + 8 = \square$

$8 + 1 = \square$

$9 - 1 = \square$

$4 + 4 = \square$

$8 - 4 = \square$

$4 + 5 = \square$

$9 - 4 = \square$

$9 - 5 = \square$

$1 + 7 = \square$

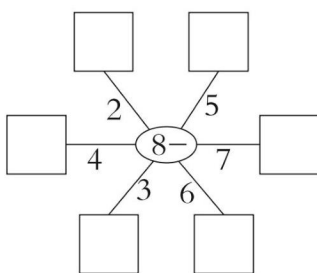
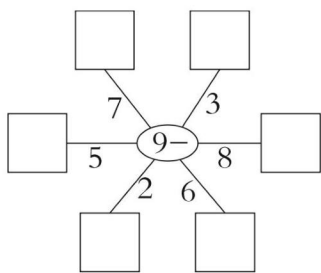
$9 - 9 = \square$

$8 + 0 = \square$

$4 + 3 = \square$

2



中间圈里的数减线上的数,把得数填在相应的  $\square$  里。





3

( ) 里填上合适的数。

 +  = 8

 +  = 9

 = ( )

 = ( )



检测时间: \_\_\_ 分 \_\_\_ 秒

答对题数: \_\_\_ 题

检测评价: 



★ 27 ★



口算。

$2 + 6 = \square$

$8 + 1 = \square$

$9 - 2 = \square$

$9 - 1 = \square$

$0 + 0 = \square$

$4 + 1 = \square$

$9 - 7 = \square$

$9 - 6 = \square$

$8 - 4 = \square$

$8 - 1 = \square$

$9 + 0 = \square$

$8 - 5 = \square$

$5 + 4 = \square$

$6 + 3 = \square$

$5 + 3 = \square$

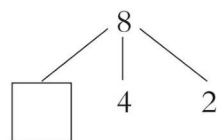
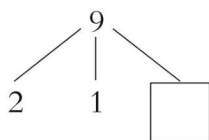
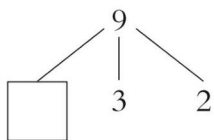
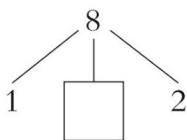
$9 - 4 = \square$

$2 + 5 = \square$



$9 - 9 = \square$




分一分,填一填。



看图列式计算。

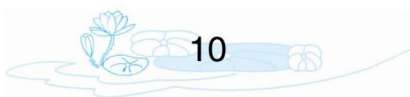


$\square \bigcirc \square = \square \text{ (只)}$



$\square \bigcirc \square = \square \text{ (只)}$





口算。

$1 + \square = 10$

$2 + \square = 10$

$3 + \square = 10$

$4 + \square = 10$

$5 + 5 = \square$

$10 - 1 = \square$

$10 - 2 = \square$

$10 - 3 = \square$

$10 - 4 = \square$

$10 - 5 = \square$

$10 - 9 = \square$

$10 - \square = \square$

$10 - \square = \square$

$10 - \square = \square$

$10 - \square = \square$



填一填。

6	4	$\square$
8	+	2 = $\square$
7	3	$\square$

6	$\square$
10	- 7 = $\square$
8	$\square$

0	$\square$
10	- 5 = $\square$
9	$\square$



接着画满 10 个,再填一填,涂一涂,圈一圈。



(1) 数一数,○有( )个,△有( )个,▢有( )面,( )和( )的数量同样多。

(2) 把从左边数第 4 个,第 7 个和第 10 个涂上一样的颜色。

(3) 把从右边数第 4 个圈起来。



检测时间:\_\_\_分\_\_\_秒

答对题数:\_\_\_题

检测评价:👍👍👍👍👍



★ 29 ★



## 10 的加减法



口算。

$10 - 2 = \square$

$1 + 9 = \square$

$7 + 3 = \square$

$6 + 3 = \square$

$8 - 7 = \square$

$9 - 7 = \square$

$10 - 4 = \square$

$3 + 6 = \square$

$10 - 1 = \square$

$10 - 9 = \square$

$7 + 2 = \square$

$5 - 3 = \square$

$9 - 8 = \square$

$8 - 2 = \square$

$8 - 3 = \square$

$6 + 4 = \square$

$5 + 4 = \square$

$10 - 5 = \square$



在○里填上“&gt;”“&lt;”或“=”。

$5 + 5 \bigcirc 9$

$10 - 3 \bigcirc 5$

$10 - 3 \bigcirc 7$

$3 + 4 \bigcirc 9$

$8 - 2 \bigcirc 5$

$3 + 6 \bigcirc 9$


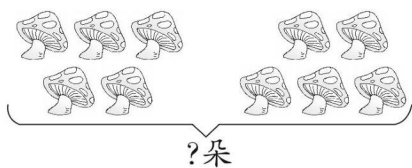
$5 + 4 \bigcirc 10$

$2 + 8 \bigcirc 10$

$10 - 8 \bigcirc 3$



看图列式计算。



$\square \bigcirc \square = \square \text{ (朵)}$

$\square \bigcirc \square = \square \text{ (朵)}$

★ 30 ★



检测时间: \_\_\_ 分 \_\_\_ 秒

答对题数: \_\_\_ 题

检测评价:







# 连加连减

## 1 口算。

$1 + 8 = \square$

$10 - 7 = \square$

$7 + 1 = \square$

$2 + 8 = \square$

$10 - 6 = \square$

$4 + 4 = \square$

$10 - 3 = \square$

$3 + 5 = \square$

$10 - 9 = \square$

$10 - 4 = \square$

$6 + 3 = \square$

$10 - 8 = \square$

$9 - 9 = \square$

$10 - 1 = \square$

$6 + 4 = \square$

$9 - 3 = \square$

$10 - 2 = \square$

$10 - 5 = \square$

## 2 连线。

$2 + 8$

$4 + 5$

$2 + 6$

$9 - 2$

$2 + 7$

$5 + 3$

$3 + 4$

$3 + 7$

$7 - 5$

$9 - 3$

$8 - 4$

$6 - 3$


$7 - 4$

$6 - 4$

$9 - 5$


$8 - 2$

## 3 看图列式计算。



? 朵

$\square \bigcirc \square \bigcirc \square = \square \text{ (朵)}$



10 个

$\square \bigcirc \square \bigcirc \square = \square \text{ (个)}$



检测时间: \_\_\_ 分 \_\_\_ 秒

答对题数: \_\_\_ 题

检测评价:

★ 31 ★



## 加减混合(1)

1

口算。

$3 + 4 - 1 = \square$

$7 - 2 - 1 = \square$

$2 - 2 + 4 = \square$

$6 + 4 + 0 = \square$

$4 + 3 + 2 = \square$

$5 + 0 + 3 = \square$

$1 + 4 + 5 = \square$

$2 + 7 + 1 = \square$

$10 - 4 - 4 = \square$

$8 - 1 - 3 = \square$

$7 - 6 + 5 = \square$

$2 + 6 - 4 = \square$

2

在○里填上“+”或“-”。

$10 \bigcirc 1 = 9$

$7 \bigcirc 2 = 5$

$8 \bigcirc 0 = 8$

$3 \bigcirc 6 = 9$

$5 \bigcirc 4 = 9$

$6 \bigcirc 2 \bigcirc 2 = 10$


$10 \bigcirc 8 \bigcirc 2 = 0$

$7 \bigcirc 3 = 10$


$6 \bigcirc 0 = 6$

3

看图列式计算。



$\square \bigcirc \square \bigcirc \square = \square \text{ (只)}$



$7 - \square + \square = \square \text{ (人)}$





# 加减混合(2)

1

口算。

$$6 - 3 + 4 = \square$$

$$6 + 4 - 3 = \square$$

$$8 - 5 + 2 = \square$$

$$8 + 2 - 5 = \square$$

$$6 + 0 - 3 = \square$$

$$6 - 3 + 0 = \square$$

$$9 + 1 - 5 = \square$$

$$9 - 5 + 1 = \square$$

$$5 - 3 + 4 = \square$$

$$5 + 4 - 3 = \square$$

$$3 + 7 - 2 = \square$$

$$3 - 2 + 7 = \square$$

$$5 + 2 + 3 = \square$$

$$5 + 3 + 2 = \square$$

$$10 - 4 - 2 = \square$$

2

填一填。

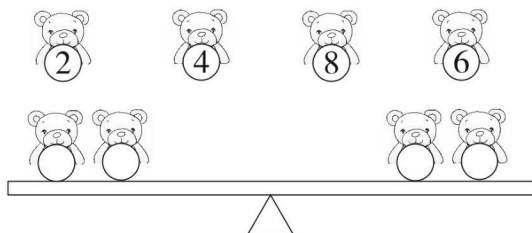
$$10 \xrightarrow{-8} \square \xrightarrow{+2} \square \xrightarrow{-4} \square \xrightarrow{+8} \square$$

$$5 + 5 = \square + \square = \square + \square = \square + \square$$

$$6 - 2 = \square - \square = \square - \square = \square - \square$$

3

怎样分小熊才能使跷跷板平衡?



检测时间: \_\_\_ 分 \_\_\_ 秒

答对题数: \_\_\_ 题

检测评价:



★ 33 ★



## 第五单元

kousuan nengli ceshi

口算能力测试

1

口算。

$9 + 1 = \square$

$10 - 4 = \square$

$2 + \square = 10$

$10 - 7 = \square$

$3 + \square = 10$

$10 + 0 = \square$

$10 - 6 = \square$

$3 + 7 = \square$

$10 - 2 = \square$

$5 + 5 = \square$

$10 - 6 = \square$

$10 - \square = 10$

$10 - 10 = \square$

$4 + \square = 10$

$8 + 2 = \square$

$5 + 1 = \square$

$7 + 3 = \square$

$10 - 8 = \square$

2

填一填。

$6 + 3 + 0 = ( \quad )$

$10 - 7 + 3 = ( \quad )$

$1 + 4 + 5 = ( \quad )$

$3 - 2 + 7 = ( \quad )$

$8 - 5 - 3 = ( \quad )$

$7 - 4 + 6 = ( \quad )$

$10 - 2 - 3 = ( \quad )$

$6 + 3 - 2 = ( \quad )$

$10 - 1 - 1 = ( \quad )$

$10 - 2 + 1 = ( \quad )$

$5 + 4 - 3 = ( \quad )$

$6 - 2 + 4 = ( \quad )$

$1 + 0 + 8 = ( \quad )$

$2 + 8 - 6 = ( \quad )$

$10 + 0 - 5 = ( \quad )$

3

在  $\square$  里填上“+”或“-”。

$9 \square 5 \square 4 = 8$

$7 \square 1 \square 3 = 9$

$3 \square 5 \square 4 = 4$

$10 \square 6 \square 2 = 6$

$9 \square 4 \square 5 = 0$

$3 \square 6 \square 7 = 2$

★ 34 ★



检测时间：\_\_分\_\_秒

答对题数：\_\_题

检测评价：





期中

kousuan nengli ceshi  
口算能力测试

1

口算。

$10 - 9 = \square$

$1 + 5 = \square$

$3 + 4 = \square$

$6 + 1 = \square$

$4 + 5 = \square$

$9 - 8 = \square$

$8 + 2 = \square$

$3 + 0 + 4 = \square$

$8 - 1 + 2 = \square$

$2 + 2 - 4 = \square$

$1 + 3 + 3 = \square$

$7 + 1 + 0 = \square$

$5 - 1 + 2 = \square$

$3 + 4 - 1 = \square$

$3 + 3 + 3 = \square$

$8 - 4 + 2 = \square$

$10 - 3 + 1 = \square$

$9 - 2 - 2 = \square$

$3 - 2 + 3 = \square$

$1 + 8 + 0 = \square$

$10 - 4 - 6 = \square$

2

在○里填上“&gt;”“&lt;”或“=”。

$7 + 3 \bigcirc 6 + 3$

$6 + 3 \bigcirc 7 + 2$

$2 + 7 \bigcirc 4 + 4$

$4 - 3 \bigcirc 5 - 4$

$10 - 1 \bigcirc 6 + 2$

$8 - 6 \bigcirc 10 - 8$

$4 - 1 \bigcirc 9 - 6$

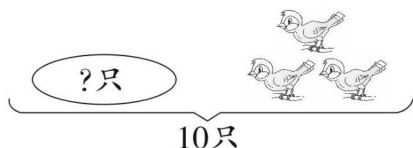
$3 + 2 \bigcirc 9 - 4$

$4 + 2 \bigcirc 0 + 5$

3

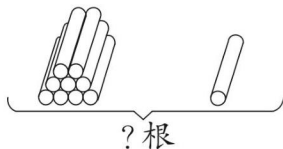
看图列式计算。

(1)



$\square \bigcirc \square = \square \text{ (只)}$

(2)



$\square \bigcirc \square = \square \text{ (根)}$



检测时间：\_\_分\_\_秒

答对题数：\_\_题

检测评价：👍👍👍👍👍

★35★





## 第六单元 11~20 各数的认识

## 11~20 各数的认识(1)

1

口算。

$4 - 1 - 2 = \square$

$4 - 2 + 7 = \square$

$1 + 7 - 6 = \square$

$5 + 2 - 5 = \square$

$4 - 3 + 6 = \square$

$9 - 1 - 4 = \square$

$8 + 2 - 6 = \square$

$3 + 0 + 6 = \square$

$6 - 1 + 4 = \square$

$3 + 4 + 3 = \square$

$7 - 2 - 5 = \square$

$7 + 3 - 4 = \square$

$10 - 3 - 7 = \square$

$3 + 5 - 2 = \square$

$7 - 5 - 1 = \square$

$5 - 2 + 3 = \square$

$10 - 5 + 3 = \square$

$3 + 7 - 4 = \square$

$2 + 7 - 9 = \square$

$8 - 2 + 4 = \square$

$2 + 6 - 5 = \square$

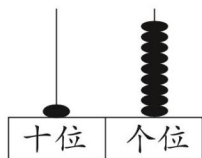
2

把下列数字按从小到大的顺序排一排。

 $(\quad) < (\quad) < (\quad) < (\quad) < (\quad)$ 

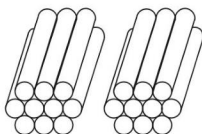
3

看图写一写,读一读。



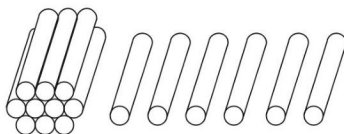
写作: ( )

读作: ( )



写作: ( )

读作: ( )



写作: ( )

读作: ( )



## 11~20 各数的认识(2)

1

口算。

$8 - 4 + 4 = \square$

$5 - 1 - 2 = \square$

$8 - 3 + 4 = \square$

$3 + 6 - 7 = \square$

$3 + 6 + 1 = \square$

$4 + 6 - 7 = \square$

$4 - 2 + 5 = \square$

$8 - 7 + 7 = \square$

$4 - 3 + 5 = \square$

$5 + 3 + 0 = \square$

$5 + 1 + 3 = \square$

$6 + 2 + 2 = \square$

$4 + 4 - 3 = \square$

$5 + 4 - 7 = \square$

$10 - 4 - 6 = \square$

$3 + 5 - 6 = \square$

$2 - 2 + 9 = \square$

$4 + 5 - 2 = \square$

2

帮小老鼠们写出门牌号。

我有6个一  
和1个十。我有1个十  
和3个一。我是19前  
面一个数。我是16和18  
中间的数。

3

猜一猜,小猪代表几?

我比19小, 但比15大, 我可能是 ( )。



检测时间: \_\_\_ 分 \_\_\_ 秒

答对题数: \_\_\_ 题

检测评价: 

★ 37 ★



## 加减法(1)

1

口算。

$15 - 2 = \square$

$14 + 3 = \square$

$19 - 7 = \square$

$10 + 9 = \square$

$19 - 5 = \square$

$12 + 0 = \square$

$8 + 10 = \square$

$18 - 5 = \square$

$12 + 6 = \square$

$16 + 2 = \square$

$10 + 2 = \square$

$13 - 1 = \square$

$12 + 6 = \square$

$14 - 4 = \square$

$0 + 2 = \square$

$17 - 7 = \square$

$14 - 10 = \square$

$14 - 4 = \square$

2

□里可以填什么数?

$10 + \square = 18$

$7 + \square = 17$

$\square + 5 = 15$

$13 - \square = 10$

$19 - \square = 11$

$\square - 6 = 12$

$15 + \square = 19$

$\square + 12 = 17$

$\square - 5 = \square$

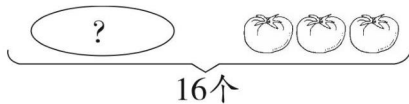
3

看图列式计算。



$\square + \square = \square$

$\square - \square = \square$



$\square + \square = \square$



# 加减法(2)

1

口算。

$$12 + 3 = \square$$

$$10 + \square = 19$$

$$\square + 4 = 16$$

$$16 - 3 = \square$$

$$9 + \square = 19$$

$$5 + \square = 10$$

$$14 + \square = 17$$

$$0 + 17 = \square$$

$$6 + \square = 10$$

$$13 + \square = 19$$

$$5 + \square = 18$$

$$5 + 12 = \square$$

$$\square + 10 = 15$$

$$6 + \square = 18$$

$$18 - 3 = \square$$

2

连一连。

$$11 + 4$$

$$17 - 5$$

$$13 - 3$$

$$10 + 5$$

$$10 - 0$$

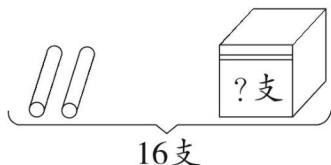
$$11 + 1$$



3

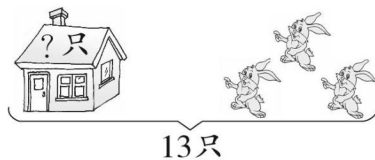
看图列式计算。

(1)



$$\square - \square = \square \text{ (支)}$$

(2)



$$\square - \square = \square \text{ (只)}$$



检测时间：\_\_分\_\_秒

答对题数：\_\_题

检测评价：👍👍👍👍👍



★ 39 ★



### 解决问题(1)

1

口算。

$10 - 5 = \square$

$9 + 1 = \square$

$12 + 4 = \square$

$11 + 7 = \square$

$10 + 0 + 2 = \square$

$10 + 9 - 6 = \square$

$13 + 2 = \square$

$15 - 3 = \square$

$13 + 6 = \square$

$17 - 5 = \square$

$10 - 6 + 5 = \square$

$5 + 4 - 6 = \square$

$12 + 4 = \square$

$14 - 3 = \square$

$6 + 3 = \square$

$19 - 2 = \square$

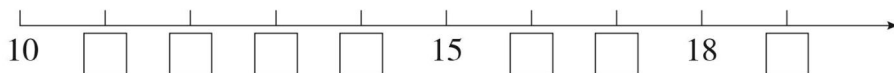
$5 + 5 - 3 = \square$

$12 + 2 - 4 = \square$

2

按顺序填数。

	11			14					
--	----	--	--	----	--	--	--	--	--



3

解决问题。

大象和小松鼠之间有几只小动物?







## 解决问题(2)

1

口算。

$11 + 4 = \square$

$14 - 3 = \square$

$11 + 0 = \square$

$15 - 4 = \square$

$3 + 11 = \square$

$4 + 15 = \square$

$16 - 0 = \square$

$14 - 4 = \square$

$17 - 3 = \square$

$14 - 2 = \square$

$15 + 1 = \square$

$16 - 4 = \square$

$18 - 4 = \square$

$12 + 4 = \square$

$10 + 7 = \square$

$19 - 5 = \square$

$15 + 3 = \square$

$17 - 5 = \square$

2

在○里填上“&gt;”“&lt;”或“=”。

$13 \bigcirc 20$

$15 - 4 \bigcirc 5$

$3 + 6 \bigcirc 10$

$18 \bigcirc 17$

$19 - 7 \bigcirc 15$

$3 + 12 \bigcirc 20$

$17 \bigcirc 19$

$14 \bigcirc 11 + 2$

$20 \bigcirc 15 + 3$

$16 \bigcirc 14$

$11 \bigcirc 13 - 10$

$15 \bigcirc 7 + 5$

3

解决问题。

小明要写 15 个大字,上午写了 5 个,下午又写了 4 个,他还要写几个大字?



检测时间: \_\_\_ 分 \_\_\_ 秒

答对题数: \_\_\_ 题

检测评价:



★ 41 ★



## 第六单元

kousuan nengli ceshi

口算能力测试

1

口算。

$15 - 2 = \square$

$15 + 4 = \square$

$7 + 11 = \square$

$14 + 5 = \square$

$12 - 2 + 6 = \square$

$18 - 4 - 4 = \square$

$13 - 3 = \square$

$11 + 0 = \square$

$18 - 2 = \square$

$3 + 11 = \square$

$17 - 4 + 2 = \square$

$13 + 5 - 8 = \square$

$15 - 3 = \square$

$16 + 2 = \square$

$2 + 13 = \square$

$14 - 3 = \square$

$11 - 0 + 5 = \square$

$15 + 2 - 1 = \square$

2

连一连。

$15 + 3$

$17 - 4$

$13 + 3$

$10 + 5$

$19 - 4$

$19 - 1$

$12 + 4$

$10 + 3$

3

解决问题。

这本书现在还有多少页？

这本书共有18页。



可是它的第11~16页  
都被人撕掉了。





## 第七单元 认识钟表



## 认识钟表(1)

1

口算。

$7 + 3 = \square$

$4 + 9 = \square$

$5 + 12 = \square$

$18 - 5 = \square$

$3 + 10 = \square$

$12 + 5 = \square$

$14 + 1 = \square$

$7 + 11 = \square$

$11 + 8 = \square$

$8 + 2 = \square$

$7 + 6 = \square$

$16 - 10 = \square$

$10 + 6 = \square$

$17 - 3 = \square$

$10 - 7 = \square$

$15 - 1 = \square$

$5 + 8 = \square$

$10 - 6 = \square$

2

连一连。






放学

上课

吃早餐

3

画出时针和分针。



早晨6时起床

上午7时上学

晚上9时睡觉



检测时间：\_\_分\_\_秒

答对题数：\_\_题

检测评价：👍👍👍👍👍



★ 43 ★



## 认识钟表(2)

1

口算。

$14 + 3 = \square$

$8 + 11 = \square$

$17 - 5 = \square$

$13 + 5 = \square$

$2 + 16 = \square$

$5 + 14 = \square$

$19 - 6 = \square$

$16 - 4 = \square$

$16 + 3 = \square$

$10 - 8 = \square$

$15 + 4 = \square$

$14 + 5 = \square$

$19 - 8 = \square$

$16 - 5 = \square$

$19 - 7 = \square$

$12 + 4 = \square$

$7 + 12 = \square$

$18 - 2 = \square$

2

写出钟面上大约上几时?



大约( )时



大约( )时



大约( )时

3

判断钟面上拨出的时间,对的画“√”,错的画“×”。

6 时



( )

10 时



( )

12 时



( )

3 时



( )





## 第七单元

kousuan nengli ceshi

口算能力测试

1

口算。

$8 + 10 = \square$

$6 + 12 = \square$

$16 + 3 = \square$

$13 + 4 = \square$

$18 + 1 = \square$

$14 + 1 = \square$

$4 + 15 = \square$

$10 - 8 = \square$

$8 + 11 = \square$

$14 - 2 = \square$

$16 - 3 = \square$

$6 + 13 = \square$

2

写出小明一天的作息時間。



早上( )时起床



早上( )时背书包上学





快( )时了吃午饭



下午( )时在写作业

3

谁和谁通电话,请你用线连一连。



检测时间: \_\_分\_\_秒

答对题数: \_\_题

检测评价:

★45★





## 第八单元 20以内进位加减法



1

口算。

$12 + 3 = \square$

$15 + 4 = \square$

$19 - 9 = \square$

$16 + 2 = \square$

$18 - 4 = \square$

$11 + 8 = \square$

$7 + 3 = \square$

$9 + 1 = \square$

$9 + 3 = \square$

$17 - 6 = \square$

$9 + 5 = \square$

$9 + 7 = \square$

$6 + 2 = \square$

$9 + 2 = \square$

$9 + 4 = \square$

$10 - 3 = \square$

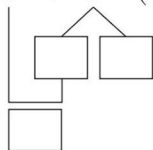
$9 + 6 = \square$

$9 + 8 = \square$

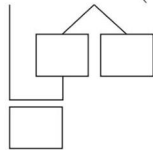
2

想一想,填一填。

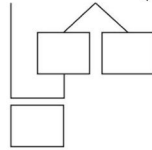
$9 + 5 = ( \quad )$



$9 + 6 = ( \quad )$




$9 + 7 = ( \quad )$




3

看图列式计算。



? 朵

$\square \bigcirc \square = \square \text{ (朵)}$



? 人

$\square \bigcirc \square = \square \text{ (人)}$



## 9 加几(2)

1

口算。

$14 - 2 = \square$

$13 - 3 + 9 = \square$

$2 + 8 + 9 = \square$

$0 + 12 = \square$

$9 + 1 + 3 = \square$

$9 + 2 + 0 = \square$

$16 - 5 = \square$

$19 - 6 - 3 = \square$

$3 + 4 + 3 = \square$

$7 + 12 = \square$

$17 + 1 - 8 = \square$

$5 + 0 + 2 = \square$

$14 + 3 = \square$

$1 + 2 + 9 = \square$

$10 + 8 - 2 = \square$

$13 + 6 = \square$

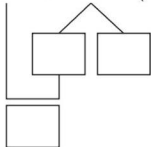
$9 + 3 + 3 = \square$

$9 + 2 + 2 = \square$

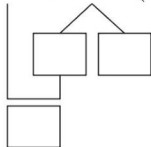
2

想一想,填一填。

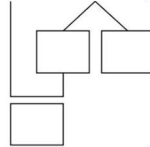
$9 + 8 = ( \quad )$



$9 + 9 = ( \quad )$



$9 + 3 = ( \quad )$



3

解决问题。

两人一共投进了多少个球?

我投进了7个球。



我比你多投进了2个。



检测时间: \_\_\_ 分 \_\_\_ 秒

答对题数: \_\_\_ 题

检测评价: 

★ 47 ★



口算。

$9 + 1 + 2 = \square$

$9 + 3 = \square$

$9 + 1 + 1 = \square$

$9 + 2 = \square$

$9 + 1 + 6 = \square$

$9 + 7 = \square$

$9 + 1 + 8 = \square$

$9 + 9 = \square$

$9 + 1 + 7 = \square$

$9 + 8 = \square$

$9 + 1 + 4 = \square$

$9 + 5 = \square$

$2 + 8 = \square$

$10 + 9 = \square$

$8 + 1 = \square$

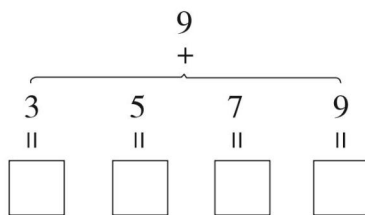
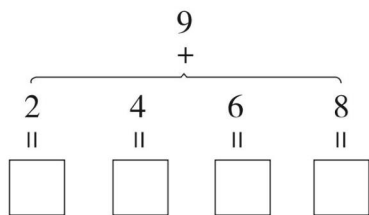
$3 + 6 = \square$

$4 + 4 = \square$

$6 + 2 = \square$



想一想,填一填。



解决问题。

它们一共采了多少个松果?

我采了9个松果。



我采的松果的个数和你同样多。



## 8、7、6 加几(1)

1

口算。

$8 + 2 + 5 = \square$

$8 + 7 = \square$

$9 + 1 + 3 = \square$

$9 + 4 = \square$

$11 + 2 - 3 = \square$

$18 - 8 + 5 = \square$

$9 + 1 = \square$

$8 + 2 = \square$

$7 + 3 = \square$

$1 + 9 = \square$

$13 - 3 + 8 = \square$

$8 + 4 = \square$

$7 + 10 = \square$

$6 + 1 = \square$

$9 + 10 = \square$

$5 + 5 = \square$

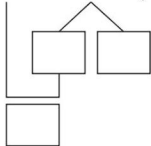
$6 + 9 = \square$

$9 + 1 + 5 = \square$

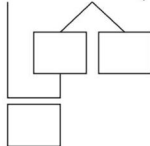
2

想一想,填一填。

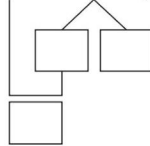
$8 + 5 = ( )$



$8 + 6 = ( )$



$7 + 4 = ( )$




3


看图列式计算。



$\square \bigcirc \square = \square$



$\square \bigcirc \square = \square$



检测时间: \_\_\_ 分 \_\_\_ 秒

答对题数: \_\_\_ 题

检测评价: 

★ 49 ★



## 8、7、6 加几(2)

1

口算。

$7 + 3 + 2 = \square$

$7 + 5 = \square$

$8 + 2 + 4 = \square$

$8 + 6 = \square$

$6 + 4 + 2 = \square$

$6 + 6 = \square$

$8 + 2 + 4 = \square$

$8 + 6 = \square$

$7 + 3 + 4 = \square$

$7 + 7 = \square$

$6 + 3 + 1 = \square$

$6 + 4 = \square$

$8 + 2 + 1 = \square$

$8 + 3 = \square$

$7 + 3 + 3 = \square$

$7 + 6 = \square$

$6 + 4 + 1 = \square$

$6 + 5 = \square$

2

在○里填上“&gt;”“&lt;”或“=”。

$8 + 5 \bigcirc 8 + 4$

$7 + 9 \bigcirc 15$

$8 + 5 \bigcirc 9 + 5$

$7 + 6 \bigcirc 13$

$8 + 6 \bigcirc 7 + 7$

$8 + 5 \bigcirc 12$

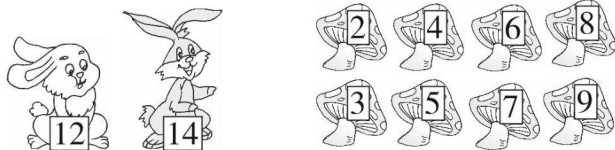
$7 + 6 \bigcirc 8 + 5$

$8 + 8 \bigcirc 16$

$8 + 9 \bigcirc 9 + 9$

3

解决问题。



小白兔可以采哪两朵蘑菇？小灰兔呢？用算式表示出来。





## 8、7、6 加几(3)

1

口算。

$3 + 5 = \square$

$6 + 4 = \square$

$7 + 3 = \square$

$4 + 6 = \square$

$3 + 7 = \square$

$8 + 9 = \square$

$8 + 5 = \square$

$9 + 8 = \square$

$8 + 6 = \square$

$7 + 8 = \square$

$7 + 9 = \square$

$8 + 8 = \square$

$9 + 7 = \square$

$7 + 7 = \square$

$9 + 9 = \square$

2

在○里填上“+”或“-”。

$6 \bigcirc 9 = 15$

$8 \bigcirc 6 = 14$

$9 \bigcirc 4 = 13$

$9 \bigcirc 8 = 8 \bigcirc 9$

$18 \bigcirc 3 = 7 \bigcirc 8$

$15 \bigcirc 5 = 10 \bigcirc 10$


$9 \bigcirc 0 = 9$

$14 \bigcirc 7 = 7$

$2 \bigcirc 4 = 12 \bigcirc 6$


3

看图列式计算。




又来了9只,一共有几只?

$\square \bigcirc \square = \square \text{ (只)}$



鸭和鸡一共有几只?

$\square \bigcirc \square = \square \text{ (只)}$



检测时间: \_\_\_ 分 \_\_\_ 秒

答对题数: \_\_\_ 题

检测评价: 

★ 51 ★



5、4、3、2 加几(1)



口算。

$6 + 5 = \square$

$6 + 3 = \square$

$2 + 8 = \square$

$6 + 6 = \square$

$7 + 8 = \square$

$7 + 3 = \square$

$9 + 5 = \square$

$7 + 10 = \square$

$6 + 8 = \square$

$9 + 9 = \square$

$6 + 2 = \square$

$8 + 7 = \square$

$8 + 9 = \square$

$6 + 9 = \square$

$9 + 8 = \square$

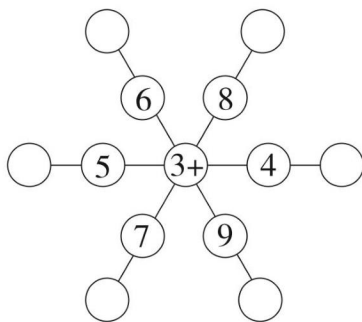
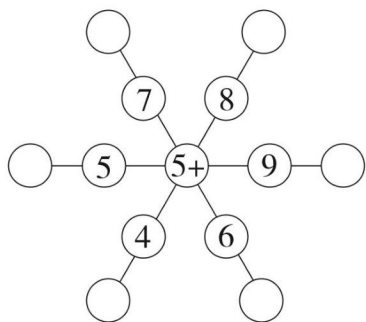
$7 + 2 = \square$

$7 + 4 = \square$

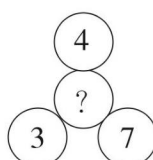
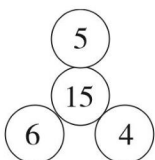
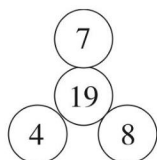
$8 + 10 = \square$



算一算。



“?”表示几呢?



## 5、4、3、2 加几(2)

1

口算。

$8 + 4 = \square$

$7 + 7 = \square$

$9 + 7 = \square$

$6 + 9 = \square$

$7 + 9 = \square$

$7 + 6 = \square$

$8 + 0 = \square$

$1 + 5 = \square$

$9 + 9 = \square$

$5 + 2 = \square$

$6 + 8 = \square$

$8 + 7 = \square$

$7 + 4 = \square$

$10 + 6 = \square$

$8 + 3 = \square$

$6 + 10 = \square$

$9 + 4 = \square$

$9 + 8 = \square$

2

在○里填上“+”或“-”。

$7 \bigcirc 8 = 15$

$9 \bigcirc 2 \bigcirc 1 = 10$

$8 \bigcirc 3 = 5$

$9 \bigcirc 2 \bigcirc 3 = 10$

$4 \bigcirc 7 = 11$

$8 \bigcirc 5 \bigcirc 10 = 3$

$8 \bigcirc 6 = 2$

$4 \bigcirc 4 \bigcirc 6 = 6$

$7 \bigcirc 7 = 0$

3

一共有多少只鸡？

左边8只，  
右边7只。

$\square \bigcirc \square = \square$  (只)

母鸡9只，  
公鸡6只。

$\square \bigcirc \square = \square$  (只)



检测时间：\_\_分\_\_秒

答对题数：\_\_题

检测评价：👍👍👍👍👍



★ 53 ★



## 5、4、3、2 加几(3)

1

口算。

$16 + 2 = \square$

$4 + 8 - 2 = \square$

$17 - 2 = \square$

$14 - 3 + 6 = \square$

$14 + 4 = \square$

$7 + 7 - 3 = \square$

$3 + 9 + 5 = \square$

$4 + 14 = \square$

$2 + 9 + 7 = \square$

$14 - 2 = \square$

$5 + 5 - 10 = \square$

$8 + 7 + 2 = \square$

$11 + 7 = \square$

$5 + 9 - 3 = \square$

$19 - 9 = \square$

$8 + 9 - 5 = \square$

$15 - 4 = \square$

$18 - 8 + 2 = \square$

2

找一找,每排中哪个算式的得数和左边苹果上的数不同?把它圈出来。



$4 + 6$

$10 + 1$

$5 + 6$

$12 - 1$

$8 + 3$



$3 + 9$

$2 + 9$

$8 + 4$

$7 + 5$

$12 + 0$



$4 + 9$

$7 + 6$

$8 + 5$

$3 + 10$

$5 + 7$

3

用两种方法列式计算。



一共有多少人?

$\square \bigcirc \square = \square$  (人)

$\square \bigcirc \square = \square$  (人)



## 解决问题(1)

1

口算。

$9 + 0 = \square$

$8 + 1 = \square$

$7 + 2 = \square$

$9 + 7 = \square$

$8 + 8 = \square$

$7 + 9 = \square$

$8 + 0 = \square$

$7 + 1 = \square$

$9 + 6 = \square$

$8 + 7 = \square$

$7 + 8 = \square$

$9 + 10 = \square$

$7 + 0 = \square$

$9 + 2 = \square$

$8 + 6 = \square$

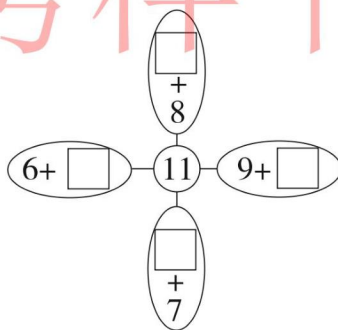
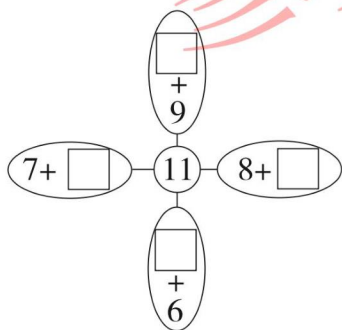
$7 + 7 = \square$

$9 + 9 = \square$

$8 + 10 = \square$





2

想一想,填一填。



3

填一填。

				
大班	7 个	6 只	4 架	5 个
小班	6 个	5 只	8 架	9 个
合计	( ) 个	( ) 只	( ) 架	( ) 个



检测时间: \_\_\_ 分 \_\_\_ 秒

答对题数: \_\_\_ 题

检测评价: 

★ 55 ★



## 解决问题(2)

1

口算。

$8 + \square = 16$

$\square + 9 = 13$

$8 + \square = 10$

$9 + \square = 9$

$8 + \square = 11$

$7 + \square = 16$

$9 + \square = 18$

$8 + \square = 13$

$9 + \square = 10$

$\square + 8 = 17$

$8 + \square = 14$

$7 + \square = 11$

$7 + \square = 13$

$7 + \square = 14$

$7 + \square = 17$

$7 + \square = 10$

$9 + \square = 11$

$\square + 9 = 14$

2

在○里填上“&gt;”“&lt;”或“=”。

$9 + 6 \bigcirc 8 + 7$

$8 + 6 \bigcirc 14$

$7 + 4 \bigcirc 8 + 2$

$9 + 4 \bigcirc 14$

$7 + 9 \bigcirc 9 + 7$

$9 + 3 \bigcirc 12$

$8 + 3 \bigcirc 7 + 6$


$7 + 4 \bigcirc 11$

$7 + 3 \bigcirc 8 + 3$

3

解决问题。

原来衣架上有多少件衣服?



我一共拿走了6件。





# 解决问题(3)

1

口算。

$8 + 2 + 5 = \square$

$8 + 7 = \square$

$7 + 3 + 4 = \square$

$7 + 7 = \square$

$6 + 4 + 1 = \square$

$6 + 5 = \square$

$7 + 3 + 2 = \square$

$7 + 5 = \square$

$6 + 4 + 5 = \square$

$6 + 9 = \square$

$6 + 4 + 3 = \square$

$6 + 7 = \square$

$6 + 4 + 4 = \square$

$6 + 8 = \square$

$7 + 3 + 5 = \square$

$7 + 8 = \square$

$7 + 3 + 1 = \square$

$7 + 4 = \square$

2

填一填。

0
2
4
6
8

 $+ 9 =$ 


6
4
2
8
0

 $+ 8 =$ 


$7 +$ 

0
2
4
6
8

 $=$ 


3

解决问题。

原来有多少人跳绳?



刚才小芳带着小明、小红和小伟去跑步了。



检测时间: \_\_\_ 分 \_\_\_ 秒

答对题数: \_\_\_ 题

检测评价:

★ 57 ★



## 解决问题(4)

1

口算。

$6 + 6 = \square$

$9 + 5 = \square$

$4 + 9 = \square$

$9 + 3 = \square$

$4 + 8 = \square$

$9 + 9 = \square$

$9 + 8 = \square$

$8 + 4 = \square$

$8 + 5 = \square$

$6 + 9 = \square$

$7 + 4 = \square$

$8 + 5 = \square$

$7 + 9 = \square$

$8 + 6 = \square$

$8 + 2 = \square$

$5 + 7 = \square$

$8 + 9 = \square$

$6 + 8 = \square$

2

在  $\square$  里填上合适的数。

$13 \xrightarrow{-3} \square \xrightarrow{+8} \square \xrightarrow{-5} \square \xrightarrow{-10} \square \xrightarrow{+7} \square \xrightarrow{+9} \square$

$6 \xrightarrow{+9} \square \xrightarrow{-9} \square \xrightarrow{+8} \square \xrightarrow{-8} \square \xrightarrow{+7} \square \xrightarrow{-7} \square$

$8 \xrightarrow{+2} \square \xrightarrow{-4} \square \xrightarrow{+4} \square \xrightarrow{-8} \square \xrightarrow{+6} \square \xrightarrow{-3} \square$

3

解决问题。

地里的萝卜拔了  
6个, 还有6个。

原来地里有多少个萝卜?



## 解决问题(5)

1

口算。

$5 + 7 + 4 = \square$

$6 + 8 - 2 = \square$

$8 - 4 + 7 = \square$

$5 + 9 - 3 = \square$

$8 + 9 - 5 = \square$

$13 - 3 - 3 = \square$

$9 + 2 = 4 + \square$

$6 + 6 = 5 + \square$

$8 + 5 = 6 + \square$

$7 + 9 = 8 + \square$

$7 + 8 = 9 + \square$

$5 + 9 = 7 + \square$

2

在○里填上“+”或“-”。

$6 \bigcirc 8 = 14$

$3 \bigcirc 2 \bigcirc 3 = 2$

$9 \bigcirc 5 = 4$

$3 \bigcirc 2 \bigcirc 3 = 8$

$12 \bigcirc 2 = 10$

$9 \bigcirc 6 \bigcirc 3 = 6$

$7 \bigcirc 7 = 14$

$9 \bigcirc 6 \bigcirc 3 = 0$

$9 \bigcirc 9 = 18$


$18 \bigcirc 10 \bigcirc 8 = 0$

$9 \bigcirc 3 \bigcirc 6 = 6$

$8 \bigcirc 2 \bigcirc 4 = 14$

3

用两种方法列式计算。



一共有多少朵花?

$\square \bigcirc \square = \square \text{ (朵)}$

$\square \bigcirc \square = \square \text{ (朵)}$



检测时间: \_\_\_ 分 \_\_\_ 秒

答对题数: \_\_\_ 题

检测评价: 

★ 59 ★



## 解决问题(6)

1

口算。

$7 - 1 = \square$

$17 - 2 = \square$

$8 + 1 = \square$

$2 + 4 = \square$

$12 + 5 = \square$

$9 + 3 = \square$

$6 - 2 = \square$

$16 - 4 = \square$

$6 + 4 = \square$

$9 + 3 = \square$

$4 + 13 = \square$

$15 - 7 = \square$

$10 - 8 = \square$

$19 - 8 = \square$

$18 - 8 = \square$

$6 + 5 = \square$

$16 - 2 = \square$

$12 - 2 = \square$

2

在○里填上“&gt;”“&lt;”或“=”。

$2 + 7 \bigcirc 8 + 1$

$2 + 10 \bigcirc 6 + 7$

$4 + 8 \bigcirc 5 + 6$

$5 + 8 \bigcirc 3 + 10$

$9 + 2 \bigcirc 7 + 8$

$15 - 10 \bigcirc 17 - 10$

$10 - 3 \bigcirc 10 - 4$

$6 + 6 \bigcirc 5 + 7$

$17 - 7 \bigcirc 18 - 8$

3

一共有多少匹马?

6匹黑马,  
8匹白马。左边有9匹,  
右边有5匹。

$\square \bigcirc \square = \square$  (匹)

$\square \bigcirc \square = \square$  (匹)

★ 60 ★



检测时间: \_\_\_ 分 \_\_\_ 秒

答对题数: \_\_\_ 题

检测评价:





## 第八单元

kousuan nengli ceshi

口算能力测试

1

口算。

$7 - 0 = \square$

$7 + 7 = \square$

$8 + 0 = \square$

$5 + 2 = \square$

$15 - 2 = \square$

$8 + 4 = \square$

$9 + 5 = \square$

$17 - 3 = \square$

$2 + 2 = \square$

$6 + 6 = \square$

$6 + 8 = \square$

$15 - 6 = \square$

$7 + 9 = \square$

$5 + 7 = \square$

$9 + 9 = \square$

$8 + 6 = \square$

$4 + 8 = \square$

$7 + 6 = \square$

2

连一连。

$7 + 8$

$3 + 8$

$8 + 5$

$10 + 6$

$9 + 9$



3

老师在给小朋友们发球。

每人发一个球，还多6个。

老师一共带了多少个球？



检测时间：\_\_分\_\_秒

答对题数：\_\_题

检测评价：👍👍👍👍👍



★61★



## 第九单元 总复习

## 口算能力综合测试(1)



口算。

$9 + 5 = \square$

$7 + 5 = \square$

$7 + 9 = \square$

$6 + 6 = \square$

$8 + 8 = \square$

$7 + 7 = \square$

$9 + 8 = \square$

$9 + 3 = \square$

$9 + 4 = \square$

$9 + 6 = \square$

$8 + 6 = \square$

$6 + 5 = \square$

$4 + 8 = \square$

$6 + 8 = \square$

$5 + 6 = \square$

$4 + 9 = \square$

$3 + 8 = \square$

$9 + 2 = \square$



在○里填上“&gt;”“&lt;”或“=”。

$9 + 6 \bigcirc 16$

$7 + 7 \bigcirc 13$

$8 + 3 \bigcirc 15$

$8 + 8 \bigcirc 17$

$9 - 4 \bigcirc 12$

$12 + 3 \bigcirc 15$

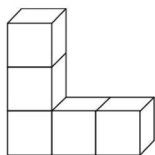
$6 + 5 \bigcirc 10$

$7 + 4 \bigcirc 10$

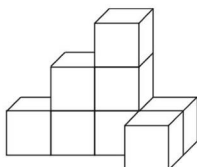
$5 + 8 \bigcirc 12$



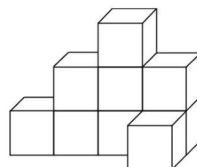
数一数,下面的图形分别是由几个小正方体搭起来的。



( ) 个



( ) 个



( ) 个







# 口算能力综合测试(2)

1

口算。

$8 + 7 = \square$

$6 + 6 = \square$

$3 + 8 = \square$

$12 + 5 = \square$

$6 + 8 = \square$

$9 + 7 = \square$

$6 + 7 = \square$

$7 + 4 = \square$

$15 + 2 = \square$

$8 + 4 = \square$

$9 + 9 = \square$

$8 + 5 = \square$

$4 + 7 = \square$

$18 - 8 = \square$

$9 + 5 = \square$

$9 - 2 = \square$

$7 + 6 = \square$

$14 + 5 = \square$

$5 + 6 = \square$

$8 - 3 = \square$

$18 - 3 = \square$

$4 + 8 = \square$

$7 + 5 = \square$

$8 + 6 = \square$

$4 + 6 = \square$

$5 + 8 = \square$

$11 + 6 = \square$

2

解决问题。

(1) 小丽做了 6 面红旗, 小红做了 8 面。两人一共做了多少面?

(2) 第一组有 6 名男同学, 女同学和男同学同样多, 第一组有多少名同学?



检测时间: \_\_\_ 分 \_\_\_ 秒

答对题数: \_\_\_ 题

检测评价:



★ 63 ★



## 口算能力综合测试(3)

1

口算。

$16 - 4 = \square$

$6 + 5 = \square$

$16 + 3 = \square$

$10 - 8 = \square$

$4 + 8 = \square$

$17 - 3 = \square$

$5 + 6 = \square$

$3 + 12 = \square$

$18 - 7 = \square$

$7 + 4 = \square$

$15 + 0 = \square$

$18 - 5 = \square$

$4 + 9 = \square$

$13 + 6 = \square$

$19 - 7 = \square$

$7 + 8 = \square$

$8 + 11 = \square$

$12 + 7 = \square$

$9 - 8 = \square$

$5 + 7 = \square$

$12 + 3 = \square$

$17 - 10 = \square$

$8 + 4 + 2 = \square$

$3 + 3 + 6 = \square$

$2 + 9 + 4 = \square$

$9 + 6 - 3 = \square$

$6 + 8 - 6 = \square$

$5 + 6 + 3 = \square$

$9 - 2 - 4 = \square$

$7 + 1 + 6 = \square$

$19 - 9 - 8 = \square$



$3 + 3 + 3 = \square$

$9 + 4 + 2 = \square$

2

解决问题。

一共有多少只小动物？





# 口算能力综合测试(4)

1

口算。

$9 + 4 = \square$

$14 + 2 = \square$

$9 + 8 = \square$

$13 + 6 = \square$

$9 + 5 = \square$

$7 + 3 = \square$

$9 + 1 = \square$

$4 + 6 = \square$

$10 - 8 = \square$

$4 - 4 = \square$

$3 + 3 = \square$

$1 + 9 + 8 = \square$

$19 - 7 - 2 = \square$

$10 - 0 + 6 = \square$

$5 + 4 + 6 = \square$

$7 + 3 + 9 = \square$

$6 + 4 - 1 = \square$

$9 - 2 + 5 = \square$

$2 + 7 + 8 = \square$

$18 - 8 + 5 = \square$

$7 + 2 + 7 = \square$

$10 - 2 + 10 = \square$

$4 + 6 - 9 = \square$

$9 - 1 + 5 = \square$

$3 + 4 - 6 = \square$

$10 - 8 + 4 = \square$

$3 + 2 - 5 = \square$

$9 - 6 + 7 = \square$

$6 + 3 - 8 = \square$

$8 + 6 - 10 = \square$

$3 + 4 + 9 = \square$

$5 - 4 - 1 = \square$

$5 + 5 + 6 = \square$

2

连一连。



检测时间：\_\_分\_\_秒

答对题数：\_\_题

检测评价：👍👍👍👍👍



★ 65 ★



## 口算能力综合测试(5)



口算。

$6 + 4 = \square$

$3 + \square = 12$

$7 + \square = 14$

$4 + 7 = \square$

$2 + \square = 12$

$\square + 6 = 13$

$0 + 6 = \square$

$6 + \square = 16$

$\square + 6 = 13$

$5 + \square = 14$

$4 + \square = 10$

$6 + 3 = \square$

$7 + \square = 16$

$6 + \square = 11$

$3 + 7 = \square$

$4 + \square = 12$

$5 + \square = 13$

$7 + 5 = \square$

$\square + 9 = 15$

$7 + 9 = \square$

$5 + \square = 9$

$8 + \square = 16$

$8 + 8 = \square$

$5 + \square = 15$

$3 - \square = 2$

$2 + 9 = \square$

$8 + \square = 13$

参考样书



解决问题。

幼儿园中班有 16 个小朋友,送给每个小朋友一只纸鹤,够吗?





# 口算能力综合测试(6)

1

口算。

$10 + 0 = \square$

$3 + 7 + 6 = \square$

$\square + 3 = 12$

$18 - 4 = \square$

$5 + 2 + 3 = \square$

$\square + 5 = 14$

$19 - 4 = \square$

$2 + 3 + 4 = \square$

$\square + 7 = 15$

$8 - 4 + 2 = \square$

$\square + 2 = 10$

$6 + 8 = \square$

$6 + 5 - 1 = \square$

$4 + \square = 19$

$13 + 3 = \square$

$14 - 4 - 2 = \square$

$8 + \square = 8$

$6 + 9 = \square$

$4 + \square = 11$

$10 - 7 = \square$

$4 + 6 - 3 = \square$

$\square + 10 = 15$

$8 - 6 = \square$

$7 + 2 - 6 = \square$

$7 + \square = 17$

$11 + 5 = \square$

$9 - 4 + 5 = \square$

2

填空。

(1) 2个十是( ); 9个一和1个十组成( )。

(2) 填一填,画一画。 17 10 9 6 20 11 15 1 13 2 8

①一共有( )张卡片,最大的数是( ),最小的数是( )。

②左边第五个是( );把右边四个数圈起来。



检测时间: \_\_\_分\_\_\_秒

答对题数: \_\_\_题

检测评价:



★ 67 ★



## 口算能力综合测试(7)



口算。

$5 + 6 = \square$

$6 + 7 = \square$

$9 - 4 = \square$

$9 + 4 = \square$

$8 + 9 = \square$

$7 - 6 = \square$

$9 + 9 = \square$

$14 + 4 = \square$

$9 + 3 = \square$

$9 + 1 = \square$

$7 + 1 + 2 = \square$

$15 - 2 - 3 = \square$

$3 + 13 + 2 = \square$

$4 + 6 - 7 = \square$

$1 + 8 + 9 = \square$

$12 - 2 + 7 = \square$

$16 - 6 + 7 = \square$

$3 + 2 + 6 = \square$

$12 - 2 + 5 = \square$

$5 + 4 + 1 = \square$

$2 + 2 + 9 = \square$

$3 + 0 + 5 = \square$

$7 + 8 - 10 = \square$

$10 - 6 + 7 = \square$

$15 - 5 - 8 = \square$

$6 + 8 - 2 = \square$

$1 + 7 - 4 = \square$

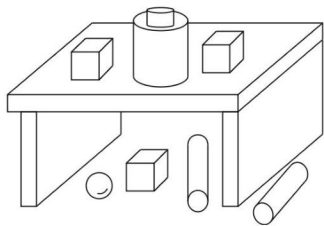
$7 + 3 - 8 = \square$





$8 - 5 + 2 = \square$



$10 - 9 + 7 = \square$



数一数,填一填。



			
( ) 个	( ) 个	( ) 个	( ) 个

( ) 最多, ( ) 最少, ( ) 和 ( ) 同样多;  比  多( ) 个,  比  少 ( ) 个。





# 口算能力综合测试(8)

1

口算。

$4 + 9 = \square$

$9 + 5 = \square$

$7 + 7 = \square$

$9 + 10 = \square$

$18 - 5 = \square$

$7 - 6 = \square$

$10 + 5 = \square$

$10 - 6 = \square$

$9 + 3 = \square$

$5 + 12 = \square$

$7 + 5 = \square$

$9 - 9 + 7 = \square$

$8 + 6 - 4 = \square$

$6 + 7 + 3 = \square$

$9 + 2 + 8 = \square$

$7 + 4 - 5 = \square$

$11 + 6 - 7 = \square$

$8 - 2 + 2 = \square$

$8 - 3 + 5 = \square$

$4 + 5 - 2 = \square$

$5 - 3 + 4 = \square$

$9 - 7 + 6 = \square$

$10 - 7 + 6 = \square$

$7 + 5 - 10 = \square$

$9 + 3 - 2 = \square$

$0 + 7 + 8 = \square$

$4 + 3 + 6 = \square$

$14 - 4 - 7 = \square$

$2 + 2 + 7 = \square$

$19 - 9 - 5 = \square$

$9 - 6 + 8 = \square$

$3 + 5 + 2 = \square$


$14 - 4 + 9 = \square$

2


写出下面各钟面上的时刻。



( )



( )



( )



检测时间：\_\_分\_\_秒

答对题数：\_\_题

检测评价：👍👍👍👍👍



★ 69 ★



期 末

kousuan nengli ceshi  
口算能力测试

1

口算。

$5 + 5 = \square$

$6 + 6 = \square$

$7 + 5 = \square$

$5 + 7 = \square$

$6 + 5 = \square$

$9 + 8 = \square$

$2 + 9 = \square$

$7 + 4 = \square$

$9 + 9 = \square$

$1 + 9 = \square$

$7 + 2 = \square$

$5 + 9 = \square$

$6 + 10 = \square$

$8 + 8 = \square$

$14 + 3 = \square$

$9 + 6 = \square$

$7 + 6 = \square$

$9 + 2 = \square$

2

在  $\square$  里填上合适的数。

$7 \xrightarrow{-5} \square \xrightarrow{+9} \square \xrightarrow{+2} \square \xrightarrow{-3} \square \xrightarrow{-4} \square \xrightarrow{+6} \square$

$9 \xrightarrow{+7} \square \xrightarrow{-6} \square \xrightarrow{-4} \square \xrightarrow{+3} \square \xrightarrow{-7} \square \xrightarrow{+9} \square$

$15 \xrightarrow{-10} \square \xrightarrow{+8} \square \xrightarrow{+6} \square \xrightarrow{-7} \square \xrightarrow{-2} \square \xrightarrow{+6} \square$

3

解决问题。

原来一共有多少只天鹅？

剩下的天鹅和  
飞走的同样多。

飞走了5只天鹅。



★ 70 ★



检测时间：\_\_分\_\_秒

答对题数：\_\_题

检测评价：





## 参 考 答 案

### 第1页

- ○○○○○○  
○○○○○○○○○○  
○○○○○○○○ ○○○○○○  
○○○○○○○○○○ ○ ○○○○○○
- △△ △△△△ △ △△△△△△△

### 第2页

- 后的 ☒
- ☆后的 ☒
- ☒ ☐ ☐ ☒
- 中间的路最近。

### 第3页

- ④ 小猫 ② 公鸡 ① 小猴 ③ 小兔

### 第4页

- 

- 水最少的最甜,第3杯下面画 ☒。
- 大象 ☒ 小兔 ☐

### 第5页

- 3 5 7 4 9 6
- □

### 第6页

- 5 3 1 2 4

### 第7页

- $3 > 2$   $4 > 3$   $3 < 4$
- $2.5 > 3$   $4 > 2$   $3 > 1$

$$3 < 5 \quad 2 < 4 \quad 1 < 3$$

### 第8页

- 1 2 3 4
- (1)4 (2)2 (3)小猫 3
- 3

### 第9页

- 4 2 2 4 3 1 2 2 1 1 1
- 4 3 3 2 2 1 4 (答案不唯一)
- 3 1 4

- 3.1 4 2 3 3 2 4 1

### 第10页

- 2 4 5 4 4 5 3 5 5
- 2 3 3 2 1 1
- $1+3=4$   $3+2=5$   $2+2=4$   $1+1=2$

### 第11页

- 2 3 5 1 2 4 4 4 5 2 3 2
- 2 1 2 3 1 5 1 1 1 1 5 3
- $5-1=4$   $5-2=3$

### 第12页

- 1 3 4 4 3 1 1 2 3
- 2 5 5 5 4 2
- 2 2 4 4 2 2 1 1 3 1 3 3 1
- $3+2=5$   $5-1=4$   $5-2=3$

### 第13页

- 2 3 3 2 5 5 1 0 4 3 0 4
- 0 0 5
- $< = < < = < = <$
- $3.0+4=4$   $3+1=4$   $5-5=0$   $3-2=1$



## 第14页

1. 0 4 0 2 1 4 4 1 2 2 3 2

1 5 4

2. 1 5 2 2 3 4 3 1 3 0 4 4

## 第15页

1. 2 3 1 2 4 3 3 5 2 3 0 3

4 0 5 4 0 5 5 0

2. 4 2 2 1 1 2

3.  $5-3=2$   $5-1=4$   $3+2=5$ 

## 第16页

1. 5 5 2 0 4 1 2 3 4 2 3 4

2. 2 2 3 4

3. (1)圈 (2)圈 (3)圈

## 第17页

1. 1 0 4 2 5 4 4 3 5

1 1 3 0 5 5

2. (1)圈 (2)圈

3. 6 6 3

## 第18页

1. 3 0 2 3 4 5 1 5 0 3 4 1

4 5 4

2. 3 4 5 6

3. 圈① ③

## 第19页

1. 4 3 0 1 5 1 5 1 5

3 0 4 3 5 4 5 4 2

2. 2 5 6 5

3. 

## 第20页

1. 1 2 3 5 0 0 5 1 2

1 0 4 3 4 3 5 0 1

3. 4 1 2 4

## 第21页

1. 1 5 6 7 4 6 5 5 7

3 3 2 1 4 5 3 6 2

2. 3 2 6 3 1 5 1 2

3. (1)7

## 第22页

1. 5 2 6 6 1 4 7 5 3

1 2 0 5 1 2 6 0 6

2.  $< < > > = <$  $< > > > = =$ 3.  $4+2=6$   $6-2=4$  $2+5=7$   $7-5=2$ 

## 第23页

1. 6 1 0 7 2 1 0 2 1

7 7 0 5 6 4 3 1 0

2. 7 7 7 4 7 6 6 5 2

3. (1) $1+5=6$   $2+4=6$ (2) $1+6=7$   $2+5=7$  $3+4=7$ (写出两个即可)

## 第24页

1. 6 6 6 6 6 7 7 5 4

2 1 6 4 3 2 4 4 3

2. 3 7 2 7 5 0 2 4 0 3

3.  $4+2=6$   $6-4=2$ 

## 第25页

1. 8 5 9 3 9 7 6 1 9

8 8 9 1 9 6 5 2 9



2. 7 6 5 4 7 6 5 4

3. 9 7 6 8

### 第26页

1. 3 2 3 7 6 9 4 1 5

9 0 0 4 6 2 8 9 6

2. < < < > > > > >

< = = >

3.  $4+5=9$   $5+4=9$   $9-5=4$   $9-4=5$

### 第27页

1. 8 8 2 8 8 5 9 9 8

8 4 9 5 4 8 0 8 7

2. 2 6 1 3 7 4 6 3 1 2 5 4

3. 4 5

### 第28页

1. 8 2 9 9 3 9 7 4 8

8 7 5 0 9 7 5 3 0

2. 5 4 6 2

3.  $5+3=8$   $2+7=9$

### 第29页

1. 9 9 1 8 8 8 2 7 7 7 3

6 6 6 4 10 5 5 5

2. 10 10 10 4 3 2 10 5 1

3. (1) 4 3 3  $\triangle$   $\triangleright$

### 第30页

1. 8 10 10 9 1 2 6 9 9

1 9 2 1 6 5 10 9 5

2. > > = < > = < = <

3.  $5+5=10$   $10-3=7$

### 第31页

1. 9 7 0 3 8 9 8 1 10

10 6 6 4 9 8 8 2 5

3.  $4+2+1=7$   $10-6-3=1$

### 第32页

1. 6 4 4 10 9 8 10 10 2 4 6 4

2. + - +或- + +

+ + - - + +或-

3.  $5+2+2=9$   $7-2+3=8$

### 第33页

1. 7 7 5 5 3 3 5 5 6

6 8 8 10 10 4

2. 2 4 0 8

$10=2+8=3+7=4+6$  (答案不唯一)

$4=8-4=6-2=5-1$  (答案不唯一)

3.  $4+6=2+8$

### 第34页

1. 10 6 8 3 7 10 4 10 8

10 4 0 0 6 10 6 10 2

2. 9 6 10 8 0 9 5 7 8

9 6 8 9 4 5

3. - + - + + -

- + - - + -

### 第35页

1. 1 7 9 6 9 6 7 0 8 7 7 5

9 8 4 1 6 9 10 6 0

2. > = > = > = = = >

3.  $10-3=7$   $9+1=10$

### 第36页

1. 1 9 2 2 7 4 4 9 9 10 0 6

0 6 1 6 8 6 0 10 3

2.  $8<10<12<15<19$

3. 19 十九 20 二十 16 十六

### 第37页

1. 8 2 9 2 10 3 7 8 6

8 9 10 5 2 0 2 9 7



2. 16 13 18 17

3. 16 17 18

### 第38页

1. 13 18 18 17 13 10 12 18 2

19 18 10 14 12 4 12 12 10

2. 8 10 10 3 8 18 4 5 15 10 (答案

不唯一)

3.  $5+5=10$   $10-5=5$

$16-3=13$

### 第39页

1. 15 5 13 9 3 17 12 17 5

13 4 12 10 6 15

3.  $16-2=14$   $13-3=10$

### 第40页

1. 5 15 16 10 12 11 16 19 9

18 12 17 12 9 7 13 3 10

2. 10 12 13 15 16 17 18 19

11 12 13 14 16 17 19

3. 4只

### 第41页

1. 15 16 14 11 10 16 11 14 17

11 12 14 14 16 18 19 12 12

2.  $<$   $>$   $<$   $>$   $<$   $<$   $<$   $>$   $>$

$>$   $>$   $>$

3.  $15-5-4=6$ (个)

### 第42页

1. 13 10 12 19 11 18 18 16 15

19 14 11 16 15 16 10 10 16

3.  $18-(16-11+1)=12$ (页)

### 第43页

1. 10 15 16 13 18 14 17 19 3

13 10 14 13 13 13 17 6 4

3.



### 第44页

1. 17 19 12 18 18 19 13 12 19

2 19 19 11 11 12 16 19 16

2. 2 9 8

3.  $\sqrt{\quad} \times \sqrt{\quad} \times$

### 第45页

1. 18 18 19 17 19 15 19 2 19

12 13 19

2. 6 8 12 4

### 第46页

1. 15 10 8 19 10 11 10 12 13

18 11 7 14 14 15 19 16 17

2. 1 4 10 14 1 5 10 15 1

6 10 16

3.  $9+5=14$   $6+9=15$

### 第47页

1. 12 19 19 12 13 11 11 10 10

19 10 7 17 12 16 19 15 13

2. 1 7 10 17 1 8 10 18

1 2 10 12

3.  $7+7+2=16$ (个)

### 第48页

1. 12 18 10 12 18 19 11 17 9

11 17 9 16 14 8 16 14 8

2. 11 13 15 17 12 14 16 18

3.  $9+9=18$ (个)

### 第49页

1. 15 10 17 15 10 7 13 10 19 13

10 10 10 18 15 15 12 15





2. 2 3 10 13 2 4 10 14 3

1 10 11

3.  $8+3=11$   $6+6=12$

### 第50页

1. 12 14 11 12 14 11 14 14 13

14 14 13 12 10 11 12 10 11

2.  $>$   $>$   $<$   $=$   $=$   $>$   $=$   $=$   $<$

3.  $7+5=12$   $8+6=14$  (答案不唯一)

### 第51页

1. 8 10 10 10 10 17 13 17 14

15 16 16 16 14 18

2.  $+$   $+$   $+$   $+$   $+$   $-$   $+$

$+$   $+$   $+$  或  $-$   $-$   $+$   $-$

3.  $7+9=16$   $4+9=13$

### 第52页

1. 11 14 17 9 17 15 10 14 17

12 18 9 15 8 11 10 15 18

2. 12 13 14 11 9 10

9 11 7 12 10 8

3. 14

### 第53页

1. 12 14 16 15 16 13 8 6 18

7 14 15 11 16 11 16 13 17

2.  $+$   $+$   $-$   $-$   $-$   $+$   $+$   $+$   $-$

$-$   $-$   $+$   $-$

3.  $8+7=15$   $9+6=15$

### 第54页

1. 18 17 18 10 18 11 15 18 10

17 12 12 18 0 11 11 17 12

2. 圈  $4+6$  圈  $2+9$  圈  $5+7$

3.  $5+7=12$   $7+5=12$

### 第55页

1. 9 8 7 9 8 11 9 15 14

16 15 14 16 15 18 16 19 18

2. 2 3 5 4 3 2 4 5

3. 13 11 12 14

### 第56页

1. 8 9 6 4 5 7 2 1 10

0 9 3 3 6 2 9 4 5

2.  $=$   $=$   $>$   $<$   $=$   $=$

$<$   $=$   $<$

3.  $7+6=13$  (件)

### 第57页

1. 15 12 14 15 12 14 14 15 15

14 15 15 11 13 11 11 13 11

2. 9 11 13 15 17 14 12 10 16 8

7 9 11 13 15

3.  $8+4=12$  (人)

### 第58页

1. 12 14 13 12 12 18 17 12 13

15 11 13 16 14 10 12 17 14

2. 10 18 13 3 10 19

15 6 14 6 13 6

10 6 10 2 8 5

3.  $6+6=12$  (个)

### 第59页

1. 16 12 11 11 12 7 7 7 7

8 6 7

2.  $+$   $+$   $-$   $-$   $+$   $+$   $-$   $-$   $+$

$+$   $-$   $-$   $+$



- - + - + +

3.  $7+6=13$   $6+7=13$

## 第60页

1. 6 15 9 6 17 12 4 12 10

12 17 8 2 11 10 11 14 10

2. = &lt; &gt; = &lt; &lt;

&gt; = =

3.  $6+8=14$   $9+5=14$

## 第61页

1. 7 14 8 7 13 12 14 14 4

12 14 9 16 12 18 14 12 13

3.  $8+6=14$ (个)

## 第62页

1. 14 17 12 12 12 14 16 13 11

12 15 13 16 14 11 14 11 11

2. &lt; &gt; &lt; &lt; &lt; = &gt; &gt; &gt;

3. 5 8 9

## 第63页

1. 15 12 11 12 18 5 11 13 15

17 11 12 14 10 12 16 14 14

13 7 10 11 13 13 17 19 17

2. (1)  $6+8=14$ (面) (2)  $6+6=12$ (名)

## 第64页

1. 12 13 14 11 13 12 19 19 15

2 12 12 12 15 8 14 19 14

11 19 3 15 1 14 11 12 2

11 15 9 15 7 15

2.  $4+10=14$ (只)

## 第65页

1. 13 18 1 16 10 13 17 16 1

19 15 6 14 19 0 10 9 10

10 12 1 10 17 4 2 15 16

0 16 0 6 18 16

## 第66页

1. 10 9 6 9 6 16 7 9 4 11 9 8

10 5 16 7 10 10 6 8 1

10 8 11 7 12 5

2.  $8+4+3=15$ (个)  $15<16$  答:不够。

## 第67页

1. 10 6 7 16 8 3 9 14 7

14 10 5 10 15 2 9 16 3

15 8 10 9 0 16 8 15 10

2. (1) 20 19

(2) ①11 20 2 ②20

## 第68页

1. 11 10 13 13 10 8 5 18 5

13 3 11 17 18 2 1 17 12

18 17 4 18 11 2 12 15 5

10 10 8

2. 3 3 4 1

圆柱体 球 长方体 正方体 2 1

## 第69页

1. 13 7 9 14 10 2 14 16 10

19 19 15 13 6 13 1 10 3

15 8 11 4 10 5 12 7 11

17 6 10 12 8 19

2. 4时 6时 10时

## 第70页

1. 10 12 12 12 11 17 11 11 18

10 9 14 16 16 17 15 13 11

2. 2 11 13 10 6 12

16 10 6 9 2 11

5 13 19 12 10 16

3.  $5+5=10$ (只)