

教辅资料站

电子教辅 试卷练习  
知识总结 备课资源



—— 扫码关注获取更多学习资料 ——



王运才●主编

# 口算题卡 + 应用题集训

**题型多样化**

□算 竖式 脱式 填空 判断 选择 应用题

**分时段检测**

阶段测 单元测 期中测 期末测

靓丽  
升级



南海出版公司



1 随堂练吧·BS  
一年级上册



# 口算题卡 + 应用题集训

王运才 ● 主编

题型多样化

口算 竖式 脱式 填空 判断 选择 应用题

分时段检测

阶段测 单元测 期中测 期末测



姓名 \_\_\_\_\_ 班级 \_\_\_\_\_

学校 \_\_\_\_\_



微信公众号

教辅资料站



关注微信公众号“教辅资料站”获取更多学习资料

# ◆◆◆ 前 言 ◆◆◆

为了提高课堂效率，使小朋友们学好每一课，牢固掌握每一个知识点，我们以最新课标为指导，组织全国课改实验区部分名校名师和优秀教师精心编写了这套“口算题卡+应用题集训”。本套丛书参考最新教科书，以书中的例题、练习题为基本单位划分章节，力求使学生将每一个例题、每一道练习题所体现的知识点掌握好、运用好。在题型的设置上，本套丛书具有如下特点：

一、第一题是以口算、速算、笔算为基本类型的计算题，目的是训练学生敏捷的思维能力，培养学生良好的数感以及在计算中总结规律的能力。

二、第二题紧密联系当前所学，题型有竖式计算、脱式计算、填空、选择、判断等等。这些题型，不仅丰富了数学学习的内容，而且能够强化学生对数学学科的认识和理解。

三、第三题以应用题型为主，重点培养学生的逻辑思维能力、分析问题和解决问题的能力。

为了使“口算题卡+应用题集训”系列丛书真正成为广大师生、家长的良师益友，我们将竭尽全力将这套丛书打造成科学、高效、实用的辅导书，希望大家提出宝贵意见和建议，我们必将虚心接受，努力提升，以便让这套丛书更好地为大家服务。

编 者

微信公众号

教辅资料站

关注微信公众号“教辅资料站”获取更多学习资料

# 目 录

|                          |    |                            |    |
|--------------------------|----|----------------------------|----|
| <b>第一单元 生活中的数</b> .....  | 1  | <b>第七节 单元小结(1)</b> .....   | 18 |
| 第一节 快乐的家园 .....          | 1  | <b>第八节 猜数游戏(1)</b> .....   | 19 |
| 第二节 玩具 .....             | 2  | <b>第九节 猜数游戏(2)</b> .....   | 20 |
| 第三节 小猫钓鱼 .....           | 3  | <b>第十节 背土豆(1)</b> .....    | 21 |
| 第四节 文具 .....             | 4  | <b>第十一节 背土豆(2)</b> .....   | 22 |
| 第五节 快乐的午餐 .....          | 5  | <b>第十二节 跳绳(1)</b> .....    | 23 |
| 第六节 动物乐园 .....           | 6  | <b>第十三节 跳绳(2)</b> .....    | 24 |
| 第一单元能力测试 .....           | 7  | <b>第十四节 可爱的企鹅(1)</b> ..... | 25 |
| <b>第二单元 比较</b> .....     | 8  | <b>第十五节 可爱的企鹅(2)</b> ..... | 26 |
| 第一节 过生日 .....            | 8  | <b>第十六节 小鸡吃食(1)</b> .....  | 27 |
| 第二节 下课啦 .....            | 9  | <b>第十七节 小鸡吃食(2)</b> .....  | 28 |
| 第三节 跷跷板 .....            | 10 | <b>第十八节 乘车(1)</b> .....    | 29 |
| 第二单元能力测试 .....           | 11 | <b>第十九节 乘车(2)</b> .....    | 30 |
| <b>第三单元 加与减(一)</b> ..... | 12 | <b>第二十节 单元小结(2)</b> .....  | 31 |
| 第一节 一共有多少(1) .....       | 12 | <b>第二十一节 做个加法表</b> .....   | 32 |
| 第二节 一共有多少(2) .....       | 13 | <b>第二十二节 做个减法表</b> .....   | 33 |
| 第三节 还剩下多少(1) .....       | 14 | 第三单元能力测试 .....             | 34 |
| 第四节 还剩下多少(2) .....       | 15 | <b>整理与复习(1)</b> .....      | 35 |
| 第五节 可爱的小猫(1) .....       | 16 | <b>整理与复习(2)</b> .....      | 36 |
| 第六节 可爱的小猫(2) .....       | 17 | <b>期中综合能力测试(一)</b> .....   | 37 |




|              |    |              |    |
|--------------|----|--------------|----|
| 期中综合能力测试(二)  | 38 | 第八节 有几棵树(2)  | 57 |
| 第四单元 分类      | 39 | 第九节 有几只小鸟(1) | 58 |
| 第一节 整理房间     | 39 | 第十节 有几只小鸟(2) | 59 |
| 第二节 一起来分类    | 40 | 第十一节 单元小结    | 60 |
| 第四单元能力测试     | 41 | 第十二节 做个加法表   | 61 |
| 第五单元 位置与顺序   | 42 | 第七单元能力测试     | 62 |
| 第一节 前后       | 42 | 数学好玩         | 63 |
| 第二节 上下       | 43 | 第一节 淘气的校园    | 63 |
| 第三节 左右       | 44 | 第二节 一起做游戏    | 64 |
| 第四节 教室       | 45 | 第八单元 认识钟表    | 65 |
| 第五单元能力测试     | 46 | 第一节 小明的一天(1) | 65 |
| 第六单元 认识图形    | 47 | 第二节 小明的一天(2) | 66 |
| 第一节 认识图形     | 47 | 第八单元能力测试     | 67 |
| 第二节 我说你做     | 48 | 总复习          | 68 |
| 第六单元能力测试     | 49 | 第一节 数与代数(1)  | 68 |
| 第七单元 加与减(二)  | 50 | 第二节 数与代数(2)  | 69 |
| 第一节 古人计数(1)  | 50 | 第三节 数与代数(3)  | 70 |
| 第二节 古人计数(2)  | 51 | 第四节 图形与几何    | 71 |
| 第三节 搭积木(1)   | 52 | 第五节 巩固练习     | 72 |
| 第四节 搭积木(2)   | 53 | 期末综合能力测试(一)  | 73 |
| 第五节 有几瓶牛奶(1) | 54 | 期末综合能力测试(二)  | 74 |
| 第六节 有几瓶牛奶(2) | 55 | 部分参考答案       | 75 |
| 第七节 有几棵树(1)  | 56 |              |    |



## 第一单元 生活中的数

### 第一节 快乐的家园

#### 1. 照样子数一数,再涂色。



#### 2. 快乐连一连。



7

8

5

6

10

日期: \_\_\_\_月\_\_\_\_日 用时: \_\_\_\_分\_\_\_\_秒 成绩等级: \_\_\_\_ 家长签字: \_\_\_\_\_

#### 3. 按要求做题。

(1) 根据给出的数,画出缺少的○。


4



7



9



(2) 看一看,说一说。




有几只海狮? 第几只是









## 第二节 玩具

### 1. 数一数,描一描,写一写。

|   |   |   |   |  |  |  |  |  |  |
|---|---|---|---|--|--|--|--|--|--|
|  | / | / | / |  |  |  |  |  |  |
|  | 2 | 2 | 2 |  |  |  |  |  |  |
|  | 3 | 3 | 3 |  |  |  |  |  |  |
|  | 4 | 4 | 4 |  |  |  |  |  |  |
|  | 5 | 5 | 5 |  |  |  |  |  |  |

### 2. 看数字涂颜色。

|   |   |
|---|---|
|  |  |
| 1   | 5   |
|  |  |
| 2   | 4   |

### 3. 数一数,写一写。



日期: \_\_\_月\_\_\_日 用时: \_\_\_分\_\_\_秒 成绩等级: \_\_\_ 家长签字: \_\_\_\_\_



### 第三节 小猫钓鱼

#### 1. 按顺序写数。

|   |  |  |   |  |  |   |  |  |  |
|---|--|--|---|--|--|---|--|--|--|
| 0 |  |  | 2 |  |  | 4 |  |  |  |
|---|--|--|---|--|--|---|--|--|--|

|   |   |  |  |  |  |   |  |  |  |
|---|---|--|--|--|--|---|--|--|--|
| 5 | 4 |  |  |  |  | 1 |  |  |  |
|---|---|--|--|--|--|---|--|--|--|

#### 2. 数一数, 写一写。



|  |  |
|--|--|
|  |  |
|  |  |



|  |  |
|--|--|
|  |  |
|  |  |



|  |  |
|--|--|
|  |  |
|  |  |



|  |  |
|--|--|
|  |  |
|  |  |

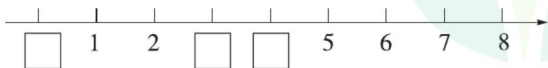


|  |  |
|--|--|
|  |  |
|  |  |



|  |  |
|--|--|
|  |  |
|  |  |

#### 3. 填一填。



#### 4. 数一数, 每盆各有几朵花。



|  |  |
|--|--|
|  |  |
|  |  |



|  |  |
|--|--|
|  |  |
|  |  |



|  |  |
|--|--|
|  |  |
|  |  |



|  |  |
|--|--|
|  |  |
|  |  |

日期: \_\_\_月\_\_\_日 用时: \_\_\_分\_\_\_秒 成绩等级: \_\_\_ 家长签字: \_\_\_\_\_



## 第四节 文具

### 1. 数一数,涂一涂,写一写。



### 2. 连一连。



6

7

10

8

9

日期: \_\_\_\_月\_\_\_\_日 用时: \_\_\_\_分\_\_\_\_秒 成绩等级: \_\_\_\_ 家长签字: \_\_\_\_\_


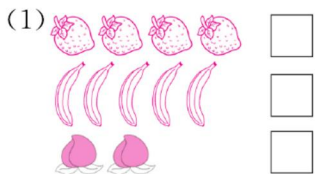
### 3. 看图写数。





## 第五节 快乐的午餐

1. 比一比,最多的画“○”,最少的画“△”。



2. 画一画。

(1) 画△,比□多。



(2) 画○,比☆少。



(3) 画□,和○一样多。



(4) 画△,比□少。



3. 填一填,圈一圈。



比 比 (多 少)。



比 比 (多 少)。

日期: \_\_\_月\_\_\_日 用时: \_\_\_分\_\_\_秒 成绩等级: \_\_\_ 家长签字: \_\_\_\_\_





## 第六节 动物乐园

### 1. 看图填一填。



桃子比西瓜 ( ),  $4 \bigcirc 6$ 。 西瓜比桃子 ( ),  $6 \bigcirc 4$ 。



玉米比茄子 ( ),  $6 \bigcirc 5$ 。 茄子比玉米 ( ),  $5 \bigcirc 6$ 。

### 2. 在○里填上“>”“<”或“=”。

$3 \bigcirc 4$

$5 \bigcirc 8$

$7 \bigcirc 6$

$7 \bigcirc 5$

$10 \bigcirc 6$

$8 \bigcirc 8$


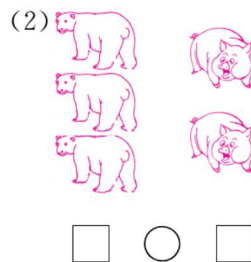
$9 \bigcirc 8$

$4 \bigcirc 6$

$5 \bigcirc 4$

日期: \_\_\_\_月\_\_\_\_日 用时: \_\_\_\_分\_\_\_\_秒 成绩等级: \_\_\_\_ 家长签字: \_\_\_\_\_






### 3. 比一比,填一填。





## 第一单元能力测试

### 1. 照样子画一画,写一写。

|   |   |
|---|---|
|  |  |
|  | 10  |
|  |  |
|   |   |

### 2. 圈一圈,比一比。

|   |   |  |  |
|---|---|--|--|
|  |  |  和  同样多    | <input type="checkbox"/> <input type="checkbox"/> <input type="checkbox"/> |
|  |  |  比  (多, 少) | <input type="checkbox"/> <input type="checkbox"/> <input type="checkbox"/> |
|  |  |  比  (多, 少) | <input type="checkbox"/> <input type="checkbox"/> <input type="checkbox"/> |

### 3. 在○里填上“>”“<”或“=”,在□里填上合适的数。

$7 \bigcirc 6$     $8 \bigcirc 10$     $6 \bigcirc 6$     $\square < \square < 4$     $5 < \square < 8$

日期: \_\_\_\_月\_\_\_\_日 用时: \_\_\_\_分\_\_\_\_秒 成绩等级: \_\_\_\_ 家长签字: \_\_\_\_\_

### 4. 画一画。



画○,比少。



画△,比多。



画□,和一样多。

(4) 用□和△表示出  $5 > 2$ 。



## 第二单元 比较

### 第一节 过生日

#### 1. 比一比。

(1) 大的画“√”，小的画“○”。



(2) 最大的画“√”，最小的画“○”



#### 2. 哪杯装得最多？最多的画“√”，最少的画“○”。



#### 3. 比一比。

(1) 哪个水壶里的水最多？画“√”。



(2) 在下面每个水杯里各放入一个铁块，三个水杯的水面一样高。想一想，原来几号杯里的水最多，几号杯里的水最少？



①



②



③

( ) 号杯里的水最多，  
( ) 号杯里的水最少。

日期：\_\_月\_\_日 用时：\_\_分\_\_秒 成绩等级：\_\_ 家长签字：\_\_

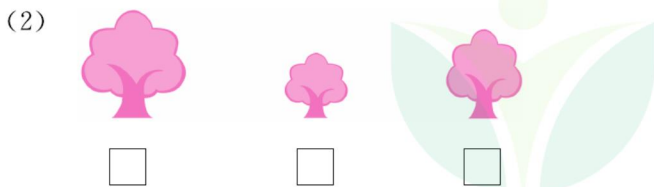



## 第二节 下课啦

### 1. 绳长的画“√”，绳短的画“○”。

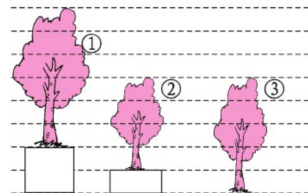


### 2. 最高的画“√”，最矮的画“○”。



### 3. 按要求做一做。


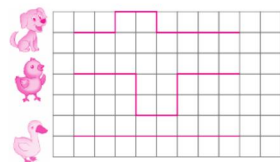
#### (1) 从高到矮排一排。



( ) ( ) ( )

#### (2) 走的路线最长的画

“√”，最短的画“○”。


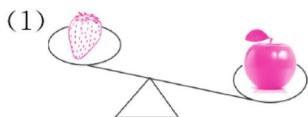


日期：\_\_月\_\_日 用时：\_\_分\_\_秒 成绩等级：\_\_ 家长签字：\_\_


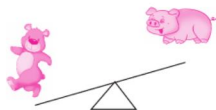



### 第三节 跷跷板

1. 重的画“√”，轻的画“○”。



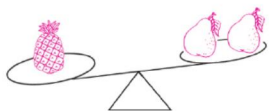

2. 下面四个动物中，最重的画“√”，最轻的画“○”。



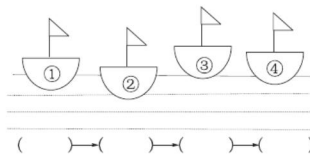
日期：\_\_月\_\_日 用时：\_\_分\_\_秒 成绩等级：\_\_ 家长签字：\_\_

3. 按要求做一做。

(1) 最重的画“√”，最轻的画“○”。



(2) 把船按从重到轻的顺序排列起来。


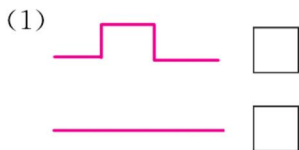


( ) ( ) ( ) ( )

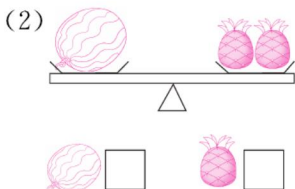



## 第二单元能力测试

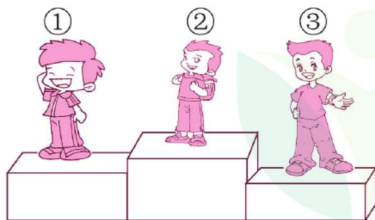
1. 长的画“√”，短的画“○”。



2. 轻的画“○”，重的画“√”。



3. 把下面的小朋友按从高到矮的顺序排一排。

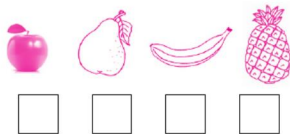
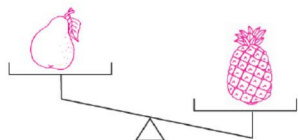
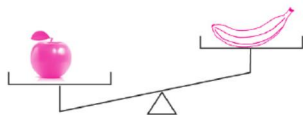
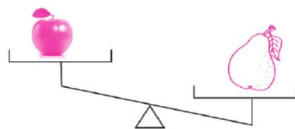


( ) → ( ) → ( )

日期：\_\_月\_\_日 用时：\_\_分\_\_秒 成绩等级：\_\_ 家长签字：\_\_

4. 在最重的下面画“√”

最轻的下面画“○”。







## 第三单元 加与减(一)

### 第一节 一共有多少(1)

#### 1. 口算。

$2+3=$

$1+3=$

$3+1=$

$1+4=$

$2+1=$

$4+1=$

$1+1=$

$2+2=$

$1+2=$

#### 2. 填一填。



$1+2=\square$



$2+2=\square$



$4+1=\square$



$3+2=\square$

#### 3. 看图列式计算。

(1)



$\square+\square=\square$

(2)



$\square+\square=\square$

(3)



$\square\bigcirc\square=\square$

(4)



$\square\bigcirc\square=\square$

日期：\_\_月\_\_日 用时：\_\_分\_\_秒 成绩等级：\_\_ 家长签字：\_\_



## 第二节 一共有多少(2)

### 1. 口算。

$2+1=$

$3+1=$

$3+2=$

$4+1=$

$1+2=$

$1+4=$

$2+2=$

$2+3=$

$1+3=$

### 2. 给下面的小动物找到自己的房子。



$2+3=$



$1+3=$



$1+2=$



$1+1=$



$2+1=$



$3+2=$



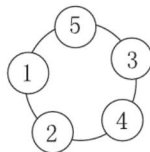
$3+1=$



$1+4=$

### 3. 按要求做一做。

(1) 先把能组成 5 的两个数连起来,再写出加法算式。



$\square + \square = \square$

$\square + \square = \square$

$\square + \square = \square$

$\square + \square = \square$

(2) 苹果和梨代表几?

$\text{苹果} + \text{梨} = 4$

$\text{梨} + 4 = 5$

$\text{苹果} = ( \quad )$

$\text{梨} = ( \quad )$

日期: \_\_\_月\_\_\_日 用时: \_\_\_分\_\_\_秒 成绩等级: \_\_\_ 家长签字: \_\_\_\_\_



## 第三节 还剩下多少(1)

## 1. 口算。

$2-1=$

$5-3=$

$4-2=$

$5-2=$

$4-3=$

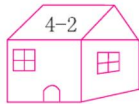
$5-1=$

$5-4=$

$3-2=$

$3-1=$

## 2. 找一找,连一连。



## 3. 画一画,算一算。



$3-1=\square$

$4-\square=\square$

$5-3=\square$

## 4. 看图列式计算。



$\square-\square=\square$



$\square-\square=\square$



$\square-\square=\square$



$\square-\square=\square$



$\square-\square=\square$



# 第四节 还剩下多少(2)

## 1. 口算。

$3-2=$

$5-1=$

$5-4=$

$3-1=$

$4-1=$

$2-1=$

$5-3=$

$5-2=$

$4-2=$

## 2. 摘桃子。(填入适当的数)

$4 - \text{桃子} = 2$

$5 - \text{桃子} = 4$

$2 + \text{桃子} = 5$

$\text{桃子} - 3 = 1$

$3 - \text{桃子} = 2$

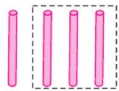
$5 - \text{桃子} = 2$

$\text{桃子} + 3 = 4$

$\text{桃子} - 2 = 3$

$1 + \text{桃子} = 5$

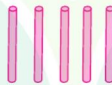
## 3. 圈一圈,填一填。



$4-3=$



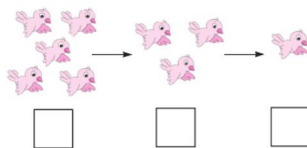
$3-2=$



$5-2=$

## 4. 看图填一填。

(1) 每次减少  只小鸟。



(2) 看图,在相应的算式下面画“√”。



$3-1$

$4-1$

$4+1$



(3)  $\text{苹果} = 2$   $\text{桃子} = 3$   $\text{梨} = 5$

$\text{梨} - \text{桃子} =$

$\text{苹果} + \text{桃子} =$

$\text{梨} - \text{苹果} =$

日期:  月  日 用时:  分  秒 成绩等级:  家长签字:



## 第五节 可爱的小猫(1)

## 1. 口算。

$2+2=$

$0+4=$

$4+1=$

$5-5=$

$4-0=$

$2+3=$

$3+1=$

$3-0=$

$5-2=$

$4-1=$

$1+0=$

$2-0=$

$0+3=$

$2-2=$

$1+1=$

## 2. 看一看,填一填。

|                             |                         |                         |                         |
|-----------------------------|-------------------------|-------------------------|-------------------------|
|                             |                         |                         |                         |
| 笼中有 <input type="text"/> 只鸟 | $4 - \square = \square$ | $3 - \square = \square$ | $1 - \square = \square$ |

## 3. 看图列式计算。




$\square + \square = \square$



$\square - \square = \square$



$\square \bigcirc \square = \square$



$\square \bigcirc \square = \square$

日期:     月    日 用时:     分    秒 成绩等级:      家长签字:



## 第六节 可爱的小猫(2)

### 1. 口算。

$2+0=$

$3-3=$

$1+3=$

$5-5=$

$3+1=$

$5-0=$

$0+1=$

$4-4=$

$3+2=$

$2-1=$

$0+3=$

$5-1=$

$4+1=$

$4-2=$

$1+2=$

### 2. 连一连。

$5-0$

4

$5-2$

$5-1$

2

$4-2$

$1+3$

3

$3+0$

$4+1$

5

$3-1$

### 3. 应用题。

(1) 一只小鸡吃一条虫，还差几条虫？



$\square \bigcirc \square = \square$

(2) 每人一个蛋糕，一瓶水，还差几个蛋糕？几瓶水？



$\square - \square = \square$

$\square - \square = \square$

日期：\_\_月\_\_日 用时：\_\_分\_\_秒 成绩等级：\_\_ 家长签字：\_\_





## 第七节 单元小结(1)

## 1. 口算。

$1+3=$

$2-1=$

$1+4=$

$3-3=$

$0+4=$

$5-1=$

$2+2=$

$1-1=$

$2+0=$

$5-2=$

$3+2=$

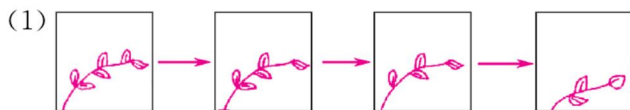
$4-4=$

$3+0=$

$5-3=$

$2+1=$

## 2. 看图填一填。



每次少( )片。



每次多( )片。

## 3. 看图列式计算。



$2 + \square = \square$



$1 + \square = \square$



$5 - \square = \square$



$4 - \square = \square$

日期: \_\_\_月\_\_\_日 用时: \_\_\_分\_\_\_秒 成绩等级: \_\_\_ 家长签字: \_\_\_\_\_



## 第八节 猜数游戏(1)

### 1. 口算。

$6-2=$

$4+2=$

$6-3=$

$1+5=$

$6-4=$

$3+2=$

$6-5=$

$5+1=$

$6-1=$

$6-0=$

$3+3=$

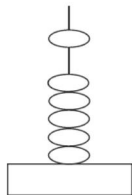
$6+0=$

$1+4=$

$6-6=$

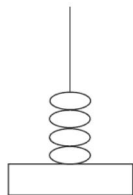
$5-2=$

### 2. 画一画,填一填。



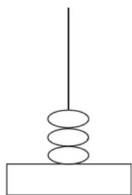
$5+1=\square$

$6-1=\square$



$4+\square=6$

$6-\square=4$




$3+\square=6$

$6-3=\square$

### 3. 看图列式计算。

(1)



$\square+\square=\square$

$\square-\square=\square$

(2)



$\square+\square=\square$

$\square-\square=\square$

(3)



$\square+\square=\square$

$\square-\square=\square$

日期: \_\_\_月\_\_\_日 用时: \_\_\_分\_\_\_秒 成绩等级: \_\_\_ 家长签字: \_\_\_\_\_



## 第九节 猜数游戏(2)

### 1. 口算。

$5+1=$

$6-3=$

$2+4=$

$1+3=$

$6-4=$

$3+3=$

$6-1=$

$4+2=$

$6-5=$

$6+0=$

$5-1=$

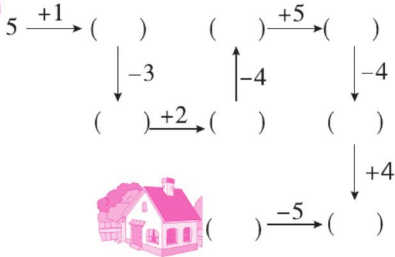
$6-2=$

$3-1=$

$1+5=$

$2+3=$

### 2. 送小猫回家。



### 3. 应用题。

(1)把 6 只小鸟放在两个鸟笼里,可以怎么放?



(2)画一画,使总数为 6。

\_\_\_\_\_  
 \_\_\_\_\_  
 \_\_\_\_\_  
 \_\_\_\_\_  
 \_\_\_\_\_

日期: \_\_\_\_月\_\_\_\_日 用时: \_\_\_\_分\_\_\_\_秒 成绩等级: \_\_\_\_ 家长签字: \_\_\_\_\_



# 第十节 背土豆(1)

## 1. 口算。

$7+0=$

$2+5=$

$7-3=$

$1+6=$

$7-4=$

$5+2=$

$7-7=$

$2+5=$

$7-5=$

$4+3=$

$6+1=$

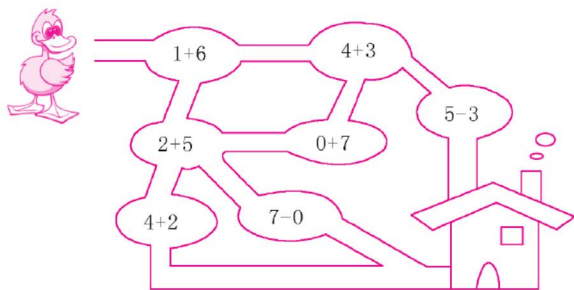
$7-6=$

$7-1=$

$5-4=$

$6+0=$

2. 只有得数是 7 的路口小鸭子才能通过, 请你把小鸭子送回家。你能找到哪几条路?

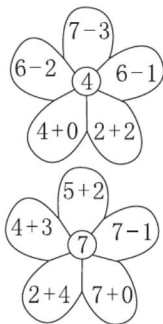


## 3. 按要求做一做。

(1) 填一填。

|   |   |
|---|---|
| 7 |   |
| 4 | 3 |
| 0 |   |
|   | 2 |
| 6 |   |
|   | 4 |

(2) 把得数是 4 的花瓣涂上红色, 得数是 7 的花瓣涂上黄色。



日期: \_\_\_月\_\_\_日 用时: \_\_\_分\_\_\_秒 成绩等级: \_\_\_ 家长签字: \_\_\_\_\_



## 第十一节 背土豆(2)

### 1. 口算。

$7-2=$

$3+3=$

$6+1=$

$7-6=$

$7-4=$

$5+2=$

$5+1=$

$2+4=$

$7-3=$

$3+4=$

$7-1=$

$7-5=$

$7-7=$

$4+1=$

$2+3=$

### 2. 看图写算式。



$\square + \square = \square$



$\square - \square = \square$

### 3. 在○里填上“+”或“-”。

$2 \bigcirc 5 = 7$

$7 \bigcirc 3 = 4$

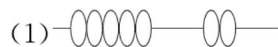
$6 \bigcirc 1 = 7$

$0 \bigcirc 7 = 7$

$7 \bigcirc 1 = 6$

$3 \bigcirc 4 = 7$

### 4. 画一画,填一填。



$(1) \quad 5 + 2 = \square$

$7 - 5 = \square$



$(2) \quad 3 + \square = 7$

$7 - 3 = \square$



$(3) \quad 1 + \square = 7$

$7 - 1 = \square$



$(4) \quad 4 + \square = 7$

$7 - 4 = \square$

日期: \_\_\_\_月\_\_\_\_日 用时: \_\_\_\_分\_\_\_\_秒 成绩等级: \_\_\_\_ 家长签字: \_\_\_\_\_



## 第十二节 跳绳(1)

## 1. 口算。

$1+7=$

$8-4=$

$5+3=$

$8-2=$

$6+2=$

$8-8=$

$4+4=$

$8-3=$

$2+6=$

$8-1=$

$3+5=$


$8-7=$

$8+0=$

$7-3=$

$5+2=$

## 2. 填一填。



$\square + \square = \square$

$\square + \square = \square$

$\square - \square = \square$

$\square - \square = \square$

## 3. 在○里填上“&gt;”“&lt;”或“=”。

$8 \bigcirc 4+4$

$8 \bigcirc 6+1$

$5+3 \bigcirc 9$

$6+2 \bigcirc 9$

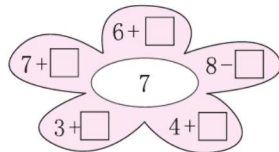
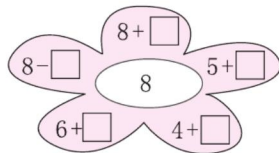
$8-3 \bigcirc 7-4$

$8-1 \bigcirc 2+6$

## 4. 按要求做一做。

(1) 填一填。

|   |   |
|---|---|
| 8 |   |
|   | 6 |
| 5 |   |
|   | 1 |
| 4 |   |
|   | 0 |

 (2) 在  $\square$  里填数,使花瓣里算式的得数和花心里的数相等。


日期: \_\_\_月\_\_\_日 用时: \_\_\_分\_\_\_秒 成绩等级: \_\_\_ 家长签字: \_\_\_\_\_





## 第十三节 跳绳(2)

### 1. 口算。

$7+2=$

$9-6=$

$4+5=$

$9-0=$

$1+8=$

$9-2=$

$0+8=$

$9-8=$

$3+6=$

$9-9=$

$7+1=$

$9-4=$

$4+4=$

$9-7=$

$3+5=$

### 2. 看图列式计算。

(1)



$\square + \square = \square$

$\square - \square = \square$

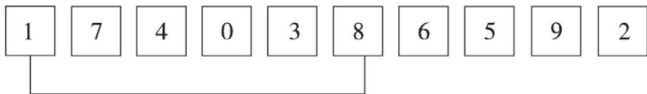
(2)



$\square + \square = \square$

$\square - \square = \square$

### 3. 哪两张卡片上的数相加等于9? 连一连。



### 4. 画一画,填一填。

(1)  $\bigcirc \bigcirc \bigcirc \bigcirc \bigcirc$  \_\_\_\_\_

$5 + \square = 9$

(2)  $\star \star \star \star \star \star$  \_\_\_\_\_

$6 + \square = 9$

(3)  $\square \square \square \square \square \square \square$  \_\_\_\_\_

$7 + \square = 9$

(4)  $\triangle$  \_\_\_\_\_

$1 + \square = 9$

日期: \_\_\_\_月\_\_\_\_日 用时: \_\_\_\_分\_\_\_\_秒 成绩等级: \_\_\_\_ 家长签字: \_\_\_\_\_



# 第十四节 可爱的企鹅(1)

## 1. 口算。

$9-8=$

$8+0=$

$9-4=$

$6+2=$

$9-5=$

$5+4=$

$8-1=$

$6+3=$

$8-5=$

$2+7=$

$9-0=$

$3+5=$

$8-4=$

$1+7=$

$9-2=$

## 2. 开火车。

(1)



(2)




## 3. 哪个算式的得数与框外的数相同?“用”标出。

(1)  $\boxed{2+7}$      $9-0$      $6+3$      $8-3$      $4+5$     ⑨

(2)  $\boxed{9-1}$      $5+3$      $9-3$      $6+2$      $4+4$     ⑧

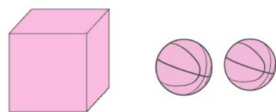
## 4. 应用题。

(1) 一共有几只?



$\square \bigcirc \square = \square$

(2) 一共有 8 个球, 箱子里有几个球?



$\square \bigcirc \square = \square$

日期: \_\_\_月\_\_\_日    用时: \_\_\_分\_\_\_秒    成绩等级: \_\_\_    家长签字: \_\_\_\_\_



## 第十五节 可爱的企鹅(2)

### 1. 口算。

|        |        |        |
|--------|--------|--------|
| $8-2=$ | $9-3=$ | $0+9=$ |
| $5+4=$ | $2+7=$ | $8-8=$ |
| $1+8=$ | $9-2=$ | $2+6=$ |
| $8-3=$ | $6+3=$ | $8-7=$ |
| $8+0=$ | $9-7=$ | $3+5=$ |

### 2. 填一填。

|  |  |
|--|--|
| $\begin{array}{c} ( ) \\ 6 \\ ( ) \end{array}$<br>$\begin{array}{c} ( ) \quad 1 \quad 2 \quad ( ) \\ ( ) \quad 3 \quad 4 \quad ( ) \\ ( ) \quad 5 \quad 0 \quad ( ) \end{array}$<br>$+3$ | $\begin{array}{c} ( ) \\ 9 \\ ( ) \end{array}$<br>$\begin{array}{c} ( ) \quad 5 \quad 8 \quad ( ) \\ ( ) \quad 7 \quad 6 \quad ( ) \\ ( ) \quad 4 \quad 2 \quad ( ) \end{array}$<br>$-2$ |
|--|--|

### 3. 比一比,在得数比 8 小的算式后面画“√”。

|                                |                                |                                |
|--------------------------------|--------------------------------|--------------------------------|
| $2+6=8$                        | $9-1=8$                        | $4+4=8$                        |
| $2+4$ <input type="checkbox"/> | $9-3$ <input type="checkbox"/> | $4+3$ <input type="checkbox"/> |
| $2+7$ <input type="checkbox"/> | $9-0$ <input type="checkbox"/> | $5+4$ <input type="checkbox"/> |

日期:     月    日 用时:     分    秒 成绩等级:      家长签字:                     

### 4. 应用题。

(1) 草丛里有几只蜗牛?



$$\square \bigcirc \square = \square$$

(2) 一共有几本书?



$$\square \bigcirc \square = \square$$



## 第十六节 小鸡吃食(1)

## 1. 口算。

$1+9=$

$7+3=$

$10-9=$

$6+4=$

$10-1=$

$5+5=$

$10-2=$

$5+4=$

$10-6=$

$3+6=$

$10-5=$

$8+2=$

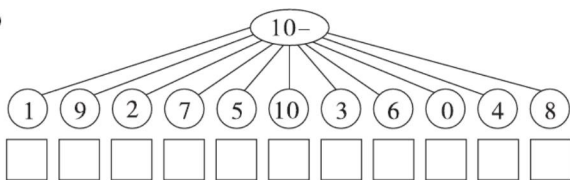
$10-10=$

$0+10=$

$10-8=$

## 2. 按要求做一做。

(1)



(2) 在○里填上“&gt;”“&lt;”或“=”。

$10-8 \bigcirc 3$

$6+4 \bigcirc 9$

$10-3 \bigcirc 7$

$7+2 \bigcirc 8$

(3)

|   |   |   |   |   |   |   |   |   |
|---|---|---|---|---|---|---|---|---|
| 9 | 2 |   | 4 |   | 6 |   | 8 |   |
| 1 |   | 3 |   | 5 |   | 7 |   | 9 |

## 3. 应用题。

(1) 篮子里还有几个萝卜？



一共有10个萝卜。

$\square \bigcirc \square = \square$

(2) 一共有几支笔？



$\square \bigcirc \square = \square$

日期：\_\_月\_\_日 用时：\_\_分\_\_秒 成绩等级：\_\_ 家长签字：\_\_



## 第十七节 小鸡吃食(2)

## 1. 口算。

$10-2=$

$7+3=$

$10-3=$

$6+4=$

$10-4=$

$5+5=$

$10-1=$

$8+2=$

$10-5=$

$10-9=$

$10-6=$

$9+1=$

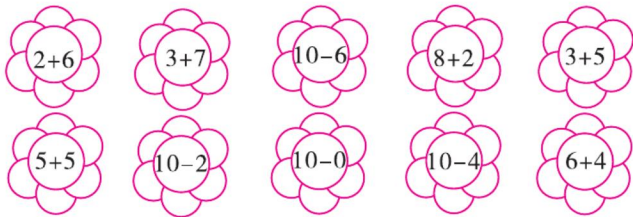
$0+10=$

$8+1=$

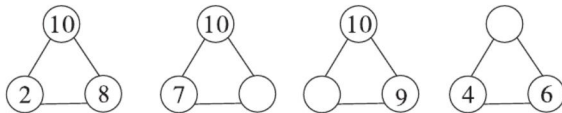
$10-7=$

## 2. 按要求做一做。

(1) 找出得数相同的花朵, 并涂上相同的颜色。




(2) 找规律, 填一填。



## 3. 应用题。

(1) 还剩下几根胡萝卜?



$\square \bigcirc \square = \square$

(2) 一共有多少只小鸟?



$\square \bigcirc \square = \square$

日期: \_\_\_月\_\_\_日 用时: \_\_\_分\_\_\_秒 成绩等级: \_\_\_ 家长签字: \_\_\_\_\_



# 第十八节 乘车(1)

## 1. 口算。

$3+4+1=$

$1+3+3=$

$8-2-2=$

$9-0-5=$

$10-7-0=$

$3+4+0=$

$6+3+1=$

$3+7+0=$

$10-4-3=$

$4+4+2=$

$9-4-3=$

$10-2-5=$

$7-6-1=$

$2+3+4=$

$9-3-5=$

## 2. 将结果相同的算式用线连起来。



$10-7-2$

$8-0-5$



$2+3+4$

$7+0+3$



$8-0-4$

$10-4-2$



$2+4+4$

$1+3+5$



$10-6-1$

$7-5-1$




## 3. 应用题。

(1) 一共有几只小蜜蜂?



$\square \bigcirc \square \bigcirc \square = \square$

(2) 一共有 8 块糖。



还剩几块糖?

$\square \bigcirc \square \bigcirc \square = \square$

日期: \_\_\_月\_\_\_日 用时: \_\_\_分\_\_\_秒 成绩等级: \_\_\_ 家长签字: \_\_\_\_\_



## 第十九节 乘车(2)

## 1. 口算。

$8-3+2=$

$7+2-3=$

$8-6+8=$

$6+2-8=$

$2+3-4=$

$6+4-5=$

$7-3+4=$

$5+4-6=$

$10-9+4=$

$3+4-6=$

$8+2-4=$

$4+4-3=$

$6-4+2=$

$10-8+5=$

$7+3-5=$

## 2. 按要求做一做。

(1) 填空。

$\boxed{8} \xrightarrow{-5} \boxed{3} \xrightarrow{+3} \boxed{6}$

$\boxed{4} \xrightarrow{+5} \boxed{\phantom{0}} \xrightarrow{-7} \boxed{\phantom{0}}$

$\boxed{10} \xrightarrow{-8} \boxed{\phantom{0}} \xrightarrow{+5} \boxed{\phantom{0}}$

$\boxed{5} \xrightarrow{+5} \boxed{\phantom{0}} \xrightarrow{-9} \boxed{\phantom{0}}$

(2) 在○里填上“&gt;”“&lt;”或“=”

$5+3-4 \bigcirc 4$

$3+3-2 \bigcirc 6$

$6-4+8 \bigcirc 9$

$10-7+1 \bigcirc 5$

$2+5-6 \bigcirc 0$

$8+2-5 \bigcirc 2$

(3) 在○里填上“+”或“-”。

$7 \bigcirc 2 \bigcirc 1 = 8$

$8 \bigcirc 5 \bigcirc 3 = 6$

## 3. 应用题。

(1) 家里原有 5 个苹果。



现在有几个苹果?

$\square \bigcirc \square \bigcirc \square = \square$

(2) 停车场原有 8 辆汽车, 开走了 3 辆, 后来又开进来 2 辆, 停车场现在有多少辆汽车?



$\square \bigcirc \square \bigcirc \square = \square$

日期: \_\_\_\_月\_\_\_\_日 用时: \_\_\_\_分\_\_\_\_秒 成绩等级: \_\_\_\_ 家长签字: \_\_\_\_\_





## 第二十个 单元小结(2)

### 1. 口算。

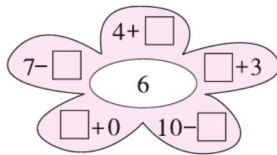
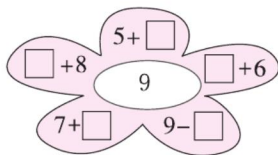
|           |           |          |
|-----------|-----------|----------|
| $9-6=$    | $7+3=$    | $10-3=$  |
| $6+4=$    | $10-4=$   | $5+3=$   |
| $9-5=$    | $8+2=$    | $6-4=$   |
| $3+6+1=$  | $10-2-4=$ | $6+2+1=$ |
| $10-8-2=$ | $0+10-6=$ | $4-4+2=$ |

### 2. 按要求做一做。

(1)   $-2 \rightarrow$    $-2 \rightarrow$    $-2 \rightarrow$    $-2 \rightarrow$

(2)   $=$    $+7 =$    $+2 =$    $+4 =$    $-10 =$

(3) 在  里填数,使算式的得数等于花心里的数。



日期:  月  日 用时:  分  秒 成绩等级:  家长签字:

### 3. 应用题。

(1) 笑笑上午采了 8 朵花,下午又采了 2 朵,一共采了几朵花?

$$\square \bigcirc \square = \square$$

(2) 一共有 9 个桃子。

?个



我拿走2个。

$$\square \bigcirc \square = \square$$





## 第二十一节 做个加法表

## 1. 口算。

$4+3=$   $4+2=$   $3+1=$

$6+2=$   $8+1=$   $5+4=$

$6+1=$   $4+4=$   $2+3=$

$7+0=$   $1+9=$   $6+3=$

$4+6=$   $5+5=$   $2+1=$

## 2. 每个邮筒里会有哪些加法算式卡片？



|      |     |  |     |  |
|------|-----|--|-----|--|
| 10+0 | 9+0 |  | 7+0 |  |
|      | 8+1 |  | 6+1 |  |
|      | 7+2 |  | 5+2 |  |
|      | 6+3 |  | 4+3 |  |
|      | 5+4 |  | 3+4 |  |
|      | 4+5 |  | 2+5 |  |
|      | 3+6 |  | 1+6 |  |
|      | 2+7 |  | 0+7 |  |
|      | 1+8 |  |     |  |
|      | 0+9 |  |     |  |
|      |     |  |     |  |

## 3. 应用题。

(1) 小明有 4 张卡片，小红有 6 张卡片，两人一共有多少张卡片？

$\square \bigcirc \square = \square$

(2) 小英用彩纸做了 5 朵红花，做了 4 朵黄花，她一共做了多少朵花？

$\square \bigcirc \square = \square$

日期：\_\_月\_\_日 用时：\_\_分\_\_秒 成绩等级：\_\_ 家长签字：\_\_



## 第二十二节 做个减法表

### 1. 口算。

$7-2=$

$5-4=$

$4-2=$

$9-7=$

$7-5=$

$10-4=$

$3-3=$

$8-1=$

$9-6=$

$10-5=$

$6-3=$

$7-4=$

$9-1=$

$6-5=$

$8-2=$

### 2. 把下面的减法表补充完整。

|       |      |     |      |     |     |      |   |     |      |    |
|-------|------|-----|------|-----|-----|------|---|-----|------|----|
| 0     | 1    | 2   | 3    | 4   | 5   | 6    | 7 | 8   | 9    | 10 |
| 10-10 | 10-9 |     | 10-7 |     |     | 10-4 |   |     | 10-1 |    |
|       |      |     |      | 9-5 |     |      |   | 9-1 |      |    |
| 8-8   |      | 8-6 |      |     | 8-3 | 8-2  |   |     |      |    |
|       | 7-6  |     | 7-4  |     |     |      |   |     |      |    |
|       |      | 6-4 |      | 6-2 |     | 6-0  |   |     |      |    |
|       |      |     | 5-2  | 5-1 |     |      |   |     |      |    |
| 4-4   | 4-3  | 4-2 |      |     |     |      |   |     |      |    |
|       |      |     | 3-0  |     |     |      |   |     |      |    |
|       |      | 2-0 |      |     |     |      |   |     |      |    |
|       | 1-0  |     |      |     |     |      |   |     |      |    |
| 0-0   |      |     |      |     |     |      |   |     |      |    |

### 3. 应用题。

(1) 小红买了一个冰激凌, 付给售货员阿姨 10 元, 应找回多少钱?



4 元

$$\square \bigcirc \square = \square$$

(2) 谢阿姨买了 10 个梨, 买的苹果比梨少 3 个, 谢阿姨买了几个苹果?

$$\square \bigcirc \square = \square$$

日期: \_\_\_\_ 月 \_\_\_\_ 日 用时: \_\_\_\_ 分 \_\_\_\_ 秒 成绩等级: \_\_\_\_ 家长签字: \_\_\_\_\_



## 第三单元能力测试

## 1. 口算。

$1+6=$

$10-4=$

$8+2=$

$5-4=$

$5+2=$

$7-3=$

$3+2=$

$8-5=$

$10+0=$

$5+0-3=$

$10-6+3=$

$4+6-7=$

$8+2-7=$

$5-2+5=$

$6+3-6=$

## 2. 按要求做一做。

(1) 看图列式计算。



$\square + \square = \square$

$\square \bigcirc \square = \square$

$\square - \square = \square$

(2) 哪边大就在下面的括号里面画“√”。


$$\frac{5+4}{(\quad)\triangle(\quad)} \quad \frac{7-1}{(\quad)\triangle(\quad)} \quad \frac{2+3}{(\quad)\triangle(\quad)} \quad \frac{8-2}{(\quad)\triangle(\quad)} \quad \frac{9-2}{(\quad)\triangle(\quad)} \quad \frac{6+0}{(\quad)\triangle(\quad)}$$

$$\frac{6+1}{(\quad)\triangle(\quad)} \quad \frac{8+0}{(\quad)\triangle(\quad)} \quad \frac{10-3}{(\quad)\triangle(\quad)} \quad \frac{4+2}{(\quad)\triangle(\quad)} \quad \frac{10-5}{(\quad)\triangle(\quad)} \quad \frac{9-5}{(\quad)\triangle(\quad)}$$

日期: \_\_\_月\_\_\_日 用时: \_\_\_分\_\_\_秒 成绩等级: \_\_\_ 家长签字: \_\_\_\_\_

## 3. 应用题。

(1) 一共有多少只小鸟?



$\square \bigcirc \square = \square$

(2) 8 个小朋友捉迷藏。



房子里有几人?

$\square \bigcirc \square \bigcirc \square = \square$



## 整理与复习(1)

### 1. 口算。

$2+2=$

$5-3=$

$7+3=$

$8-4=$

$9+0=$

$6-3=$

$1+7=$

$8-6=$

$4+2=$

$9+0-4=$

$10-5+3=$

$7+3-5=$

$4+6-3=$

$9-5+4=$

$10-2-6=$

### 2. 按要求做一做。

(1) 在每组多的后面画“√”。



(2) 在○里填上“>”“<”或“=”。

$10-3 \bigcirc 7$

$8-8 \bigcirc 0$

$8-3 \bigcirc 7-2+4$

$8 \bigcirc 6+3$

$10-1 \bigcirc 8$

$3+1+5 \bigcirc 6$

(3) 按规律填数。



日期: \_\_\_月\_\_\_日 用时: \_\_\_分\_\_\_秒 成绩等级: \_\_\_ 家长签字: \_\_\_\_\_

### 3. 应用题。

(1) 一共有多少个同学?



$\square \bigcirc \square = \square$

(2) 一共要种 9 棵树。

已经种了4棵。



还要种多少棵?

$\square \bigcirc \square = \square$



## 整理与复习(2)

### 1. 口算。

$9-2=$

$0+9=$

$5+3=$

$7+2=$

$8-4=$

$7-3=$

$6-5=$

$7+1=$

$4+5=$

$10+0-4=$

$10-4+3=$

$4+3-3=$

$5+5-2=$

$5-2+6=$

$7+3-9=$

### 2. 连一连。



$4+5$



7



$2+3+3$



$9-2$



$5+4-2$



$3+6$



8



$10-7+6$



$10-2$



$7-3+4$



$2+7$



9



$9-6+4$

### 3. 应用题。

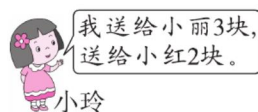
(1)一共有 7 根胡萝卜。



筐里面有几根?

$\square \bigcirc \square = \square$

(2)



小玲还剩几块糖?

$\square \bigcirc \square \bigcirc \square = \square$

日期: \_\_\_\_月\_\_\_\_日 用时: \_\_\_\_分\_\_\_\_秒 成绩等级: \_\_\_\_ 家长签字: \_\_\_\_\_



## 期中综合能力测试(一)

### 1. 口算。

$8-2=$

$5+0=$

$9-1=$

$4+2=$

$9-4=$

$4+6=$

$5-3=$

$2+7=$

$8-5=$

$6+0-2=$

$10-6+2=$

$4+4-2=$

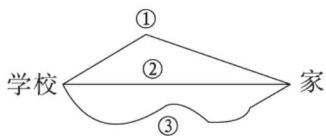
$5+2-3=$

$8-2+4=$

$5+3-8=$

### 2. 按要求做一做。

(1) 哪条路回家近? 哪条路远? 最近的画“○”, 最远的画“√”。



① ☐

② ☐

③ ☐

(2) 在○里填上“>”“<”或“=”。

$10-3 \bigcirc 7$

$8-8 \bigcirc 0$

$10-4-2 \bigcirc 2$

$8 \bigcirc 6+3$

$10-1 \bigcirc 8$

$7 \bigcirc 6+3-4$

日期: \_\_\_\_月\_\_\_\_日 用时: \_\_\_\_分\_\_\_\_秒 成绩等级: \_\_\_\_ 家长签字: \_\_\_\_\_


### 3. 应用题。

(1) 现在树上还剩几个桃?



$\square \bigcirc \square = \square$

(2) 小猴在山上摘到了2个樱桃, 3个草莓, 5个橘子, 小猴一共摘到了几个果子?



$\square \bigcirc \square \bigcirc \square = \square$



## 期中综合能力测试(二)

## 1. 口算。

$7-3=$

$4+5=$

$6-2=$

$4+2=$

$9-4=$

$6+3=$

$5-5=$

$2+5=$

$8-4=$

$7+0-3=$

$10-8+3=$

$4+6-5=$

$5+3-6=$

$7-3+6=$

$3+6-8=$

## 2. 比比谁最快。



$9-4=$

$5+3=$

$8-6=$

$2+7=$

$9-3=$



$6+2=$

$8+0=$

$7-3=$

$4+4=$

$5-1=$



$7-2=$

$6+4=$


$3-3=$

$5+2=$

$8-7=$

## 3. 应用题。

(1) 还剩几根木头?



$\square \bigcirc \square = \square$

(2) 一共有几个小朋友?



$\square \bigcirc \square \bigcirc \square = \square$

日期: \_\_\_月\_\_\_日 用时: \_\_\_分\_\_\_秒 成绩等级: \_\_\_ 家长签字: \_\_\_\_\_



## 第四单元 分类

### 第一节 整理房间

#### 1. 口算。

$7+2=$

$9-8=$

$6+3=$

$7-4=$

$4+5=$

$6-3=$

$6+4=$

$5-1=$

$2+5=$

$5+5=$

$10-4=$

$4+2=$

$10-1=$

$3+7=$

$2-0=$

#### 2. 在水果下面画“√”，蔬菜下面画“○”。



( )

( )

( )

( )



( )


( )

( )

( )

#### 3. 应用题。

(1) 一共有 8 个小朋友，帐篷里有几个小朋友？



$\square \bigcirc \square = \square$

(2) 一共有几只小松鼠？



$\square \bigcirc \square = \square$

日期：\_\_月\_\_日 用时：\_\_分\_\_秒 成绩等级：\_\_ 家长签字：\_\_





## 第二节 一起来分类

## 1. 口算。

$8+0=$

$7-2=$

$4+3=$

$9-4=$

$6+1=$

$10-3=$

$1+8=$

$4-4=$

$4+5=$

$5+2=$

$2+6=$

$10-8=$

$7-4=$

$5-1=$

$2+7=$

## 2. 分一分。



①



②



③



④



⑤



⑥



⑦



⑧

按大小分: \_\_\_\_\_

按形状分: \_\_\_\_\_

## 3. 看图列式计算。



$\square + \square = \square$

$\square - \square = \square$



$\square + \square = \square$

$\square - \square = \square$



$\square \bigcirc \square \bigcirc \square = \square$



$\square \bigcirc \square = \square$



## 第四单元能力测试

### 1. 口算。

$2+2=$

$5-3=$

$7+3=$

$8-4=$

$9+0=$

$6-3=$

$9+1=$

$7-5=$

$5+3=$

$7-2=$

$2+4=$

$8-8=$

$4+6=$

$9-5=$

$7+2=$

### 2. 把不同类的圈起来。

(1)



(2)



(3)



### 3. 应用题。

(1) 借走 6 本, 还剩多少本?



图书角有 10 本故事书。

$\square \bigcirc \square = \square$

(2) 原来有多少个桃子?



我吃了 2 个桃子。

$\square \bigcirc \square = \square$

日期: \_\_\_\_月\_\_\_\_日 用时: \_\_\_\_分\_\_\_\_秒 成绩等级: \_\_\_\_ 家长签字: \_\_\_\_\_



## 第五单元 位置与顺序

### 第一节 前后

#### 1. 口算。

$3+1=$

$7-2=$

$6+3=$

$10-2=$

$4+5=$

$7-3=$

$5+1=$

$5-4=$

$1+3=$

$5-1=$

$6+2=$

$9-2=$

$0+7=$

$9-8=$

$4+2=$

#### 2. 看一看,填一填。



(1)小猴在小狗的( )面,小狗在小猴的( )面。

(2)小兔在小猴的( )面,小兔在小猪的( )面。

(3)小狗在小猪的( )面,小猪在小猴的( )面。

(4)小猪的前面有( )只动物。

#### 3. 应用题。

(1)一共有几名小朋友拔河?



$\square \bigcirc \square = \square$

(2)还有几只“小鸡”没抓住?



$\square \bigcirc \square \bigcirc \square = \square$

日期: \_\_\_\_月\_\_\_\_日 用时: \_\_\_\_分\_\_\_\_秒 成绩等级: \_\_\_\_ 家长签字: \_\_\_\_\_



## 第二节 上下

### 1. 口算。

$2+2=$

$5-2=$

$2+8=$

$9-1=$

$4+3=$

$7-5=$

$4+1=$

$10-7=$

$3+5=$

$9-4=$

$7+2=$


$5-3=$

$7+0=$

$6-6=$

$1+8=$

### 2. 看图填一填。



钟表在文具盒的( )面,小汽车在水杯的( )面;

墨水在尺子的( )面,杯子在机器人的( )面。

日期: \_\_月\_\_日 用时: \_\_分\_\_秒 成绩等级: \_\_ 家长签字: \_\_\_\_\_

### 3. 应用题。

(1)下面是红红和明明两人摘下的苹果。两人一共摘了多少个苹果?



$\square \bigcirc \square = \square$

(2)一共有 10 只兔子,房子里有几只?



$\square \bigcirc \square = \square$



## 第三节 左右

## 1. 口算。

$0+2=$

$1+7=$

$9-3=$

$8-2=$

$5-2=$

$4+5=$

$1+0=$

$10-2=$

$6+4=$

$6-2=$

$5+5=$

$8-3=$

$7+3=$

$6-4=$

$2+3=$

## 2. 看一看,填一填。



(1)从左数,第( )个是 ,  是第( )个。

(2)从右数,第( )个是 ,  是第( )个。

(3)在梨的左边,在苹果的右边,它是( )。

日期: \_\_\_月\_\_\_日 用时: \_\_\_分\_\_\_秒 成绩等级: \_\_\_ 家长签字: \_\_\_\_\_

## 3. 应用题。

(1)小岳原有 8 块糖。



还剩几块?

$\square \bigcirc \square = \square$

(2)一共有多少块糖?



$\square \bigcirc \square = \square$



# 第四节 教室

## 1. 口算。

$7+2=$

$7-7=$

$1+9=$

$4-0=$

$3+5=$

$8-7=$

$2+5=$

$3-2=$

$7+3=$

$9-5=$

$4+4=$

$6-5=$

$1+6=$

$7-5=$

$3+1=$

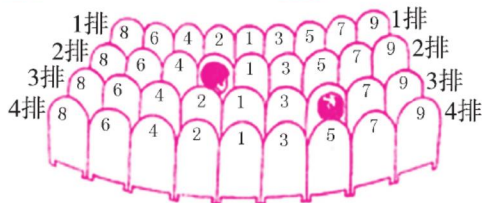
## 2. 电影院。(找座位填空)



\_\_\_\_排\_\_\_\_号



\_\_\_\_排\_\_\_\_号



(1) 小红在第 1 排从左数第 2 个座位, 她在 1 排( )号。

(2) 小亮在第 3 排, 从右数第 4 个座位, 她在 3 排( )号。

## 3. 应用题。

(1) 小红买 1 支牙膏和 1 个水杯需要多少钱?



4 元



5 元

$\square \bigcirc \square = \square$

(2) 一共有多少只小鸡?



$\square \bigcirc \square \bigcirc \square = \square$

日期: \_\_\_\_月\_\_\_\_日 用时: \_\_\_\_分\_\_\_\_秒 成绩等级: \_\_\_\_ 家长签字: \_\_\_\_\_



## 第五单元能力测试

## 1. 口算。

$5+5=$

$6-5=$

$6+3+1=$

$7-2=$

$4+3=$

$8-5+4=$

$7+2=$

$1+5=$

$10-6-2=$

$9-5=$

$8-4=$

$4+5-3=$


$2+1=$

$9-9=$

$6+2-4=$

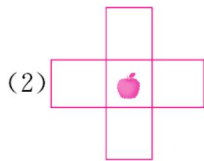
## 2. 填一填,画一画。

## (1) 赛车比赛。



① 4号车前面有( )辆车,后面有( )辆车。

② 2号车前面是( )号车,5号车排第( )。



(2)

在🍎上面画△,下面画○;

在🍎左面画□,右面画♡。

## 3. 应用题。

(1) 白萝卜和胡萝卜一共有多少个?




4个



3个

$\square \bigcirc \square = \square$

(2) 还剩几个气球?



$\square \bigcirc \square = \square$

日期: \_\_\_月\_\_\_日 用时: \_\_\_分\_\_\_秒 成绩等级: \_\_\_ 家长签字: \_\_\_\_\_



## 第六单元 认识图形

### 第一节 认识图形

#### 1. 口算。

$3+2=$

$6-2=$

$6+3=$

$9-8=$

$5+1=$

$10-3=$

$4+5=$

$7-1=$

$1+7=$

$8-4=$

$5+5=$

$9-6=$

$0+5=$

$7-3=$

$3+3=$

#### 2. 连一连。

长方体

正方体

圆柱

球



日期：\_\_月\_\_日 用时：\_\_分\_\_秒 成绩等级：\_\_ 家长签字：\_\_

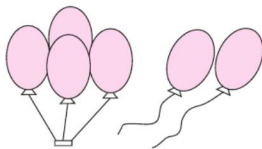
### 3. 应用题。

(1) 停车场原来有多少辆车？



$\square \bigcirc \square = \square$

(2) 还剩几个气球？



$\square \bigcirc \square = \square$





## 第二节 我说你做

### 1. 口算。

$4+2=$

$5+3=$

$8-3=$

$8-4=$

$7+2=$

$10-5=$

$4+5=$

$8-2=$

$1+6=$

$7-5=$

$4+6=$

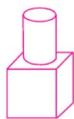
$3+0=$

$2+6=$

$9-5=$

$3-2=$

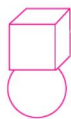
### 2. 搭一搭,哪一组能站稳?在( )里画“√”。



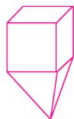
( )



( )



( )



( )



( )



( )

### 3. 应用题。

(1)一共有多少个蘑菇?



$\square \bigcirc \square = \square$

(2)一共有 10 人,藏着的有几人?



$\square \bigcirc \square = \square$

日期: \_\_\_月\_\_\_日 用时: \_\_\_分\_\_\_秒 成绩等级: \_\_\_ 家长签字: \_\_\_\_\_



## 第六单元能力测试

### 1. 口算。

$8-7=$

$1+4=$

$6+0=$

$1+4=$

$6+4=$

$10-1=$

$4+5=$

$9-2=$

$5+3=$

$8-4=$

$4-3=$



$2+7=$

$2+8=$

$5+1=$

$9-4=$

2. 给正方体涂上红色,长方体涂上绿色,球涂上蓝色,圆柱涂上黄色。



### 3. 应用题。

(1) 小红一共要浇多少盆花?



$\square \bigcirc \square = \square$

(2) 一共有 6 支笔,文具盒里有几支?



$\square \bigcirc \square = \square$

日期: \_\_\_\_月\_\_\_\_日 用时: \_\_\_\_分\_\_\_\_秒 成绩等级: \_\_\_\_ 家长签字: \_\_\_\_\_



## 第七单元 加与减(二)

## 第一节 古人计数(1)

## 1. 口算。

$10+2=$

$10+3=$

$10+6=$

$10+4=$

$8+10=$

$10+10=$

$10+1=$

$10+5=$

$10+7=$

$4+10=$

$10+0=$

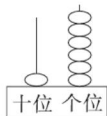
$9+10=$

$9+1=$

$5+4=$

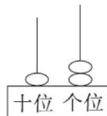
$6+2=$

## 2. 填一填,画一画。



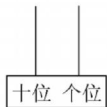
( )

( )个十和( )个一



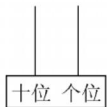
( )

( )个十和( )个一



( 20 )

( )个十



( )

1个十和5个一

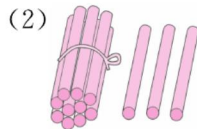
日期: \_\_\_月\_\_\_日 用时: \_\_\_分\_\_\_秒 成绩等级: \_\_\_ 家长签字: \_\_\_\_\_

## 3. 应用题。

(1)一共有多少只兔子?



$\square \bigcirc \square = \square$



一共有多少根小棒?

$\square \bigcirc \square = \square$



## 第二节 古人计数(2)

### 1. 口算。

$5+10=$

$10+8=$

$10+7=$

$10+4=$

$5+5=$

$9+10=$

$1+10=$

$6+10=$

$6+3=$

$2+8=$

$10+10=$

$8+10=$

$10+3=$

$4+4=$

$10+2=$

### 2. 在 ○ 里填上“>”“<”或“=”。

$12 \bigcirc 10+2$

$3+10 \bigcirc 16$

$13 \bigcirc 7+3$

$14 \bigcirc 5+5$

$5+2 \bigcirc 5-2$

$9-6 \bigcirc 8-1$

$10-8 \bigcirc 10+2$

$10+10 \bigcirc 7+3$

$7-2 \bigcirc 3+4$

$1+6 \bigcirc 4+5$

$8+2 \bigcirc 1+7$

$10+5 \bigcirc 0+10$

$10+6 \bigcirc 10-7$

$4+1 \bigcirc 2+3$

$10-4 \bigcirc 5+10$

日期: \_\_月\_\_日 用时: \_\_分\_\_秒 成绩等级: \_\_ 家长签字: \_\_\_\_\_

### 3. 应用题。

(1) 一共有多少个杯子?



$\square \bigcirc \square = \square$

(2) 一共有多少朵花?



$\square \bigcirc \square = \square$



## 第三节 搭积木(1)

## 1. 口算。

$11+2=$   $16-5=$   $14+3=$

$15-3=$   $13+3=$   $16-2=$

$12+1=$   $14-3=$   $14+5=$

$12-2=$   $16+2=$   $17-5=$

$14+4=$   $18-7=$   $11+6=$

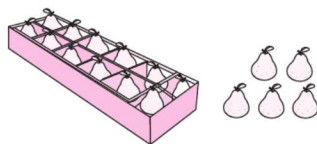
## 2. 填一填,仔细思考你发现了什么?

|     |    |    |    |    |    |    |    |    |  |
|-----|----|----|----|----|----|----|----|----|--|
| + 2 |    |    |    |    |    |    |    |    |  |
| 10  | 11 | 12 | 13 | 14 | 15 | 16 | 17 | 18 |  |
| 12  |    |    |    |    |    |    |    |    |  |

|      |   |   |   |   |   |   |   |   |   |
|------|---|---|---|---|---|---|---|---|---|
| 19 - |   |   |   |   |   |   |   |   |   |
| 0    | 1 | 2 | 3 | 4 | 5 | 6 | 7 | 8 | 9 |
| 19   |   |   |   |   |   |   |   |   |   |

## 3. 应用题。

(1)一共有几个梨?



$\square \bigcirc \square = \square$

(2)还剩多少个蘑菇?



$\square \bigcirc \square = \square$

日期: \_\_\_月\_\_\_日 用时: \_\_\_分\_\_\_秒 成绩等级: \_\_\_ 家长签字: \_\_\_\_\_



## 第四节 搭积木(2)

### 1. 口算。

$13+2=$

$13-2=$

$12+4=$

$17-3=$

$11+3=$

$14-2=$

$15+1=$

$15-4=$

$14+5=$

$18-4=$

$10+2=$

$16-5=$

$12+3=$

$19-4=$

$11+6=$

### 2. 小蝌蚪找妈妈。

$16-3$

$16-6$

$12+2$

$17-7$

14



10



13



$19-5$


$15-2$

$13+1$

$17-4$

### 3. 应用题。

(1)一共有多少只小鸡?



$\square \bigcirc \square = \square$

(2)小明身上有 18 元钱,    
买完这筒羽毛球还剩多  
少元?

$\square \bigcirc \square = \square$



8 元

日期: \_\_\_\_月\_\_\_\_日 用时: \_\_\_\_分\_\_\_\_秒 成绩等级: \_\_\_\_ 家长签字: \_\_\_\_\_



## 第五节 有几瓶牛奶(1)

### 1. 口算。

$9+4=$

$9+6=$

$7+9=$

$11+7=$

$5+9=$

$9+2=$

$3+9=$

$9+1=$

$15+4=$

$4+3=$

$4+9=$

$9+9=$

$9+8=$

$12+6=$

$7+3=$

### 2. 按要求做一做。

(1)圈一圈,算一算。



$9+3=\square$

$6+9=\square$

$$(2) 9 + \begin{array}{|c|} \hline 2 \\ \hline 4 \\ \hline 6 \\ \hline 8 \\ \hline \end{array} = \begin{array}{|c|} \hline \\ \hline \\ \hline \\ \hline \end{array}$$

$$\begin{array}{|c|} \hline 3 \\ \hline 5 \\ \hline 7 \\ \hline 9 \\ \hline \end{array} + 9 = \begin{array}{|c|} \hline \\ \hline \\ \hline \\ \hline \end{array}$$

### 3. 应用题。

(1)一共游来了多少只鹅?



$\square \bigcirc \square = \square$

(2)一共有多少只乌龟?



$\square \bigcirc \square = \square$

日期: \_\_\_月\_\_\_日 用时: \_\_\_分\_\_\_秒 成绩等级: \_\_\_ 家长签字: \_\_\_\_\_



## 第六节 有几瓶牛奶(2)

### 1. 口算。

$9+5=$

$9+3=$

$10+3=$

$5+4=$

$7+9=$

$9+9=$

$9+2=$

$8+9=$

$6+9=$

$4+5=$

$12+3=$

$4+4=$

$1+9=$

$9+4=$

$13+5=$

### 2. 连一连。



### 3. 应用题。

(1) 原来有多少根丝瓜?



$\square \bigcirc \square = \square$

(2) 一共有多少个足球?



$\square \bigcirc \square = \square$

日期: \_\_\_\_月\_\_\_\_日 用时: \_\_\_\_分\_\_\_\_秒 成绩等级: \_\_\_\_ 家长签字: \_\_\_\_\_





## 第七节 有几棵树(1)

## 1. 口算。

$8+1=$

$8+3=$

$7+2=$

$4+8=$

$5+8=$

$8+7=$

$8+8=$

$8+2=$

$9+8=$

$13+5=$

$6+8=$

$5+12=$

$4+6=$

$10+8=$

$3+6=$

## 2. 按要求做一做。

(1) 圈一圈, 算一算。



$8+5=\square$



$\square+\square=\square$

(2)

$$8+ \begin{cases} 2=\square \\ 9=\square \\ 4=\square \\ 7=\square \end{cases}$$

|   |
|---|
| 3 |
| 5 |
| 6 |
| 8 |

 $+8=$ 

|  |
|--|
|  |
|  |
|  |
|  |

## 3. 应用题。

(1) 一共有多少只小鸟?



$\square\bigcirc\square=\square$

(2) 一共有多少块糖?



$\square\bigcirc\square=\square$

日期: \_\_\_月\_\_\_日 用时: \_\_\_分\_\_\_秒 成绩等级: \_\_\_ 家长签字: \_\_\_\_\_



## 第八节 有几棵树(2)

### 1. 口算。

$4+8=$

$6+8=$

$8+5=$

$9+6=$

$9+7=$

$8+6=$

$8+8=$

$8+2=$

$9+4=$

$2+9=$

$8+9=$

$10+8=$

$10+3=$

$5+8=$

$8+7=$

### 2. 选一选,填一填。

$9+6$

$7+8$

$6+10$

$7+5$

$2+9$

$8+8$

$6+9$

$8+9$

$10+5$

$8+3$

$7+9$

$9+4$

得数比 14 大的

得数比 14 小的

### 3. 应用题。

(1)

桶里有 8 条鱼。



小猫一共钓了多少条鱼?

$\square \bigcirc \square = \square$

(2) 两只小熊一共掰了多少个玉米?

我掰了 8 个玉米。



我掰了 7 个玉米。



$\square \bigcirc \square = \square$

日期: \_\_\_月\_\_\_日 用时: \_\_\_分\_\_\_秒 成绩等级: \_\_\_ 家长签字: \_\_\_\_\_



## 第九节 有几只小鸟(1)

## 1. 口算。

$5+6=$

$4+6=$

$7+5=$

$7+9=$

$6+6=$

$3+9=$

$5+5=$

$5+9=$

$4+7=$

$8+4=$

$8+7=$

$6+8=$

$6+7=$

$5+8=$

$9+6=$

## 2. 填一填。

$$6 + \begin{array}{|c|} \hline 5 \\ \hline 9 \\ \hline 7 \\ \hline 4 \\ \hline 8 \\ \hline 6 \\ \hline \end{array} = \begin{array}{|c|} \hline \\ \hline \\ \hline \\ \hline \\ \hline \\ \hline \\ \hline \end{array}$$

$$5 + \begin{array}{|c|} \hline 7 \\ \hline 9 \\ \hline 5 \\ \hline 8 \\ \hline 10 \\ \hline 6 \\ \hline \end{array} = \begin{array}{|c|} \hline \\ \hline \\ \hline \\ \hline \\ \hline \\ \hline \\ \hline \end{array}$$

$$7 + \begin{array}{|c|} \hline 9 \\ \hline 8 \\ \hline 5 \\ \hline 6 \\ \hline 4 \\ \hline 7 \\ \hline \end{array} = \begin{array}{|c|} \hline \\ \hline \\ \hline \\ \hline \\ \hline \\ \hline \\ \hline \end{array}$$

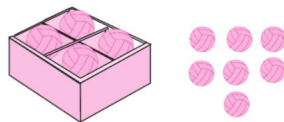
## 3. 应用题。

(1)小松鼠已经采了 5 个蘑菇,地上还有 6 个蘑菇,一共有多少个蘑菇?



$$\square \bigcirc \square = \square$$

(2)一共有多少个排球?



$$\square \bigcirc \square = \square$$

日期: \_\_\_\_月\_\_\_\_日 用时: \_\_\_\_分\_\_\_\_秒 成绩等级: \_\_\_\_ 家长签字: \_\_\_\_\_



## 第十节 有几只小鸟(2)

### 1. 口算。

$6+9=$

$9+8=$

$7+4=$

$4+8=$

$5+3=$

$7+5=$

$5+8=$

$7+8=$

$5+9=$

$4+6=$

$6+8=$

$7+7=$

$7+3=$

$9+2=$

$6+6=$

### 2. 将得数正确的涂上红色。

$5+8=$ 

12

13

14

$4+7=$ 

11

12

13

$3+7=$ 

10

12

11

$6+9=$ 

17

16

15

### 3. 应用题。

(1) 他们一共钓了多少条鱼?



我钓了6条鱼。



我钓了7条鱼。

$\square \bigcirc \square = \square$

(2) 原来有多少根香蕉?



$\square \bigcirc \square = \square$

日期: \_\_\_月\_\_\_日 用时: \_\_\_分\_\_\_秒 成绩等级: \_\_\_ 家长签字: \_\_\_\_\_



## 第十一节 单元小结

### 1. 口算。

$8+6=$

$16-3=$

$7+4=$

$15-4=$

$5+9=$

$9+8=$

$6+8=$

$16+2=$

$3+8=$

$9+0=$

$9+3=$

$12+4=$

$7+5=$

$2+9=$

$5+6=$

### 2. 帮鸡宝宝找家。



我家门牌号比9多5。



我家门牌号比10少1。



我家门牌号比8多7。



### 3. 应用题。

(1)原来有多少只小鸟?



已经飞走了8只。

$\square \bigcirc \square = \square$

(2)拍皮球。



我拍了6下。



我也拍了6下。

他们一共拍了多少下?

$\square \bigcirc \square = \square$

日期: \_\_\_月\_\_\_日 用时: \_\_\_分\_\_\_秒 成绩等级: \_\_\_ 家长签字: \_\_\_\_\_



## 第十二节 做个加法表

### 1. 口算。

|        |        |        |
|--------|--------|--------|
| $3+8=$ | $5+7=$ | $7+4=$ |
| $8+6=$ | $7+9=$ | $5+9=$ |
| $4+9=$ | $8+8=$ | $6+5=$ |
| $6+7=$ | $9+6=$ | $9+3=$ |
| $8+5=$ | $2+9=$ | $7+8=$ |

### 2. 想一想,填一填。

|    |     |     |     |     |     |     |     |  |
|----|-----|-----|-----|-----|-----|-----|-----|--|
| 11 | 9+2 | 8+3 | 7+4 |     | 5+6 |     | 3+8 |  |
| 12 | 9+3 |     |     | 6+6 |     | 4+8 |     |  |
| 13 |     | 8+5 | 7+6 |     | 5+8 |     |     |  |
| 14 |     | 8+6 |     |     |     |     |     |  |
| 15 | 9+6 |     |     | 6+9 |     |     |     |  |
| 16 |     | 8+8 | 7+9 |     |     |     |     |  |
| 17 | 9+8 |     |     |     |     |     |     |  |
| 18 |     |     |     |     |     |     |     |  |

(1) 把上面的加法表补充完整。

(2) 认真观察加法表,横着看第一行有什么规律?

### 3. 应用题。

(1) 他们一共折了多少朵花?



我折了8朵红花。



我折了6朵黄花。

$$\square \bigcirc \square = \square$$

(2) 一共有多少辆车?



$$\square \bigcirc \square = \square$$

日期: \_\_\_月\_\_\_日 用时: \_\_\_分\_\_\_秒 成绩等级: \_\_\_ 家长签字: \_\_\_\_\_



## 第七单元能力测试

## 1. 口算。

$8+4=$

$14-2=$

$10+7=$

$16-3=$

$7+6=$

$16-4=$

$12+2=$

$16-4=$

$6+7=$

$6+8=$

$16+2=$


$13-3=$

$9+5=$

$5+6=$

$7+9=$

2. 把和是 14 的小鱼涂上红色, 和是 15 的小鱼涂上绿色, 和是 18 的小鱼涂上黄色。



## 3. 应用题。

(1) 拿走两个苹果, 还剩几个?



$$\square \bigcirc \square = \square$$

(2) 原来有多少个桃?

我吃了8个桃。



$$\square \bigcirc \square = \square$$

日期: \_\_\_\_月\_\_\_\_日 用时: \_\_\_\_分\_\_\_\_秒 成绩等级: \_\_\_\_ 家长签字: \_\_\_\_\_



## 数学好玩

### 第一节 淘气的校园

#### 1. 口算。

$5+6=$

$7+9=$

$9-2=$

$9-4=$

$18-5=$

$10+7=$

$6+6=$

$5+7=$

$12-2=$

$10-6=$

$4+9=$

$8+7=$

$12+3=$

$8-5=$

$6+8=$

#### 2. 把小蚂蚁送回家。(连一连)



$9+3$



$8+9$



$19-3$



$3+14$



$10+2$



$9+8$



$7+9$



$14-2$



$3+9$



$18-2$

日期：\_\_月\_\_日 用时：\_\_分\_\_秒 成绩等级：\_\_ 家长签字：\_\_

#### 3. 应用题。

(1) 他们一共捐了多少本书？



$\square \bigcirc \square = \square$

(2) 山上有 12 头牛，山下有 3 头牛，一共有几头牛？

$\square \bigcirc \square = \square$





## 第二节 一起做游戏

### 1. 口算。

$9+6=$

$15-5=$

$10+2=$

$8-4=$

$4+6=$

$12+4=$

$5+7=$

$18-4=$

$7+7=$

$10-5=$

$6+5=$

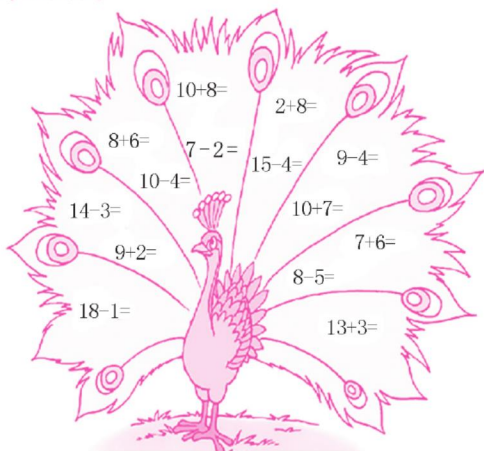
$8+9=$

$12+1=$

$9-6=$

$6+6=$

### 2. 孔雀开屏。



### 3. 应用题。

(1) 小东和小红一共跳了多少下?



$$\square \bigcirc \square = \square$$

(2) 妈妈买了 16 粒扣子, 做衣服用去了 4 粒, 还剩几粒扣子?

$$\square \bigcirc \square = \square$$

日期: \_\_\_\_月\_\_\_\_日 用时: \_\_\_\_分\_\_\_\_秒 成绩等级: \_\_\_\_ 家长签字: \_\_\_\_\_



## 第八单元 认识钟表

### 第一节 小明的一天(1)

#### 1. 口算。

$10 + 2 =$

$8 - 4 =$

$7 + 6 =$

$15 - 4 =$

$7 + 9 =$

$13 - 3 =$

$9 + 10 =$

$10 - 9 =$

$12 + 4 =$

$16 - 4 =$

$3 + 9 =$

$14 - 1 =$

$5 + 3 =$

$8 - 2 =$

$5 + 8 =$

#### 2. 连一连。



10时

12:00



2时半

9:30



12时

2:30



9时半

10:00


#### 3. 应用题。

(1) 小兔和小猪比赛跳绳。



小兔和小猪一共跳了多少下?

(2) 一共有多少个橘子?



日期: \_\_\_月\_\_\_日 用时: \_\_\_分\_\_\_秒 成绩等级: \_\_\_ 家长签字: \_\_\_\_\_



## 第二节 小明的一天(2)

### 1. 口算。

$9+2=$

$16-3=$

$12+2=$

$8-4=$

$12+5=$

$13-3=$

$9+9=$

$6+8=$

$7+5=$

$10-4=$

$15+3=$

$16-2=$

$8+3=$

$10-5=$

$4+7=$

### 2. 认一认,连一连。



### 3. 应用题。

(1)妈妈一共给小兔准备了10个萝卜,还剩下几个?

我吃了8个萝卜。



$$\square \bigcirc \square = \square$$

(2)两只兔子一共采了多少个蘑菇?

我采了9个蘑菇。



我采了8个蘑菇。



$$\square \bigcirc \square = \square$$

日期: \_\_\_\_月\_\_\_\_日 用时: \_\_\_\_分\_\_\_\_秒 成绩等级: \_\_\_\_ 家长签字: \_\_\_\_\_



# 第八单元能力测试

## 1. 口算。

$5+6=$

$10-4=$

$3+5=$

$17-6=$

$9+4=$

$10-5=$

$9+5=$

$12-2=$

$8+6=$

$17-2=$

$13+3=$

$16-3=$

$8+3=$

$9-6=$

$5+7=$

## 2. 按要求做一做。

(1) 写出钟面上的时间。



6 时半

\_\_\_\_\_

\_\_\_\_\_

\_\_\_\_\_

6:30

\_\_\_\_\_

\_\_\_\_\_

\_\_\_\_\_

(2) 按规律写出最后一幅图的时间。



( : )

日期：\_\_月\_\_日 用时：\_\_分\_\_秒 成绩等级：\_\_ 家长签字：\_\_

## 3. 应用题。

(1) 书架的第一层放着 7 本书，第二层放着 9 本书。这两层一共有多少本书？

$\square \bigcirc \square = \square$

(2) 晶晶要折 19 只小鸟送给学前班的小朋友，她已经折了 9 只，还需再折多少只？

$\square \bigcirc \square = \square$



## 总复习

## 第一节 数与代数(1)

## 1. 口算。

$8+5=$

$15-4=$

$5+7=$

$8-6=$

$9+3=$

$10-5=$

$7+2=$

$10-4=$

$8+3=$

$16-5=$

$2+9=$

$6+8=$

$7+8=$

$6-3=$

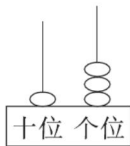
$10+2=$

## 2. 填一填。

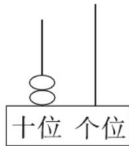
(1) 看图写数。



( )



( )



( )

(2) 在○里填上“&gt;”“&lt;”或“=”

$9+5 \bigcirc 13$

$4+7 \bigcirc 12$

$5+7 \bigcirc 6+6$

$15 \bigcirc 9+5$

$16-5 \bigcirc 7+8$

$11+5 \bigcirc 9+8$

日期: \_\_\_月\_\_\_日 用时: \_\_\_分\_\_\_秒 成绩等级: \_\_\_ 家长签字: \_\_\_\_\_

## 3. 应用题。

(1)



一共有多少只 ?

$\square \bigcirc \square = \square$

(2) 妈妈买了 8 个 .

还买了 5 个 , 妈妈一共买了多少个水果?

$\square \bigcirc \square = \square$



## 第二节 数与代数(2)

### 1. 口算。

$12+4=$

$16-3=$

$14-4=$

$13-3=$

$8+5=$

$5+6=$

$10-5=$

$6+7=$

$9+8=$

$7+9=$

$9-4=$

$16-3=$

$8-7=$

$12+2=$

$7+7=$

### 2. 蚂蚁回家。(连一连)



$6+9$



$18-6$



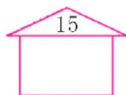
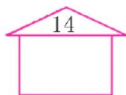
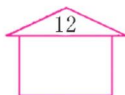
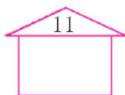
$4+8$



$13-2$



$8+6$



$17-2$



$7+8$



$7+7$



$15-3$



$5+6$

### 3. 应用题。



2人      8人      4人

(1) 跳绳的和打乒乓球的一共有多少人?

$$\square \bigcirc \square = \square$$

(2) 一共有多少人参加运动?

$$\square \bigcirc \square \bigcirc \square = \square$$

(3) 自己提出一个问题并解答。

日期: \_\_\_\_月\_\_\_\_日 用时: \_\_\_\_分\_\_\_\_秒 成绩等级: \_\_\_\_ 家长签字: \_\_\_\_\_



### 第三节 数与代数(3)

#### 1. 口算。

$14+2=$

$7-3=$

$9+3=$

$8+5=$

$10+4=$

$6-3=$

$16-5=$

$7+9=$

$8+5=$

$5+7+1=$

$16-2-4=$

$1+8+4=$

$4+6-3=$

$7+5+4=$

$9+6-3=$

#### 2. 按要求做一做。

(1) 写出钟面上的时间。



\_\_\_\_\_

\_\_\_\_\_

\_\_\_\_\_

\_\_\_\_\_

(2) 14 前面的一个数是( ), 后面的一个数是( )。

(3) 在( )里填数, 使横线上下得数相同。

$$\begin{array}{r} 9+2 \\ 9+1+(\quad) \end{array}$$

$$\begin{array}{r} 8+7 \\ 8+(\quad)+5 \end{array}$$

$$\begin{array}{r} 8+8 \\ 8+(\quad)+6 \end{array}$$

日期: \_\_\_\_月\_\_\_\_日 用时: \_\_\_\_分\_\_\_\_秒 成绩等级: \_\_\_\_ 家长签字: \_\_\_\_\_

#### 3. 应用题。

(1) 明明去超市买玩具, 买了 1 辆玩具汽车和 1 把玩具手枪, 花了多少钱?



4 元



8 元

$$\square \bigcirc \square = \square$$

(2) 学校组织植树活动, 已经栽了 11 棵, 还有 7 棵没有栽, 一共要栽多少棵?

$$\square \bigcirc \square = \square$$



## 第四节 图形与几何

### 1. 口算。

$7+2=$

$10-3=$

$5+7=$

$16-2=$

$9+7=$

$9-6=$

$8+5=$

$15-3=$

$2+8=$

$6+4+8=$

$9-2+8=$

$4+6+7=$


$8+5-2=$

$7-6+4=$

$6+7-3=$

### 2. 按要求做一做。

(1) 数一数。



( ) 个

( ) 个

( ) 个

( ) 个

(2)

|   |   |   |
|---|---|---|
| 9 | 0 | 8 |
| 4 | 2 | 3 |
| 7 | 5 | 6 |

① 2 的上面是( ), 下面是( ),

左面是( ), 右面是( )。

② 5 在 7 的( ) 面, 在 6 的( ) 面。

### 3. 应用题。



6 元



8 元



16 元



4 元

(1) 一架玩具飞机比一辆玩具汽车贵多少钱?

$$\square \bigcirc \square = \square$$

(2) 买一只玩具狗和一艘玩具轮船一共需付多少钱?

$$\square \bigcirc \square = \square$$

(3) 自己提出一个问题并解答。

日期: \_\_\_\_ 月 \_\_\_\_ 日 用时: \_\_\_\_ 分 \_\_\_\_ 秒 成绩等级: \_\_\_\_ 家长签字: \_\_\_\_\_





## 第五节 巩固练习

## 1. 口算。

$5+6=$

$8+4=$

$10-7=$

$5+8=$

$13-2=$

$9+3=$

$7-2=$

$4+9=$

$6+6=$

$8-4+7=$

$8+9-4=$

$8+4+5=$

$7+2+8=$

$16-4-2=$

$8+6-2=$

## 2. 照样子把得数相同的算式圈起来。

12

$4+8$

$6+5$

$10+2$

$5+7$

14

$6+8$

$10+4$

$5+7$

$11+2$

11

$5+6$

$7+5$

$8+4$

$10+1$

15

$7+7$

$10+5$

$9+6$

$19-3$

17

$9+8$

$8+10$

$19-4$

$14+3$

## 3. 应用题。



7元



5元



6元



8元

(1) 买两把玩具枪需要花多少钱？

$\square \bigcirc \square = \square$

(2) 买一辆玩具坦克和一个汉堡一共要花多少钱？

$\square \bigcirc \square = \square$

(3) 自己提出一个问题并解答。

日期：\_\_月\_\_日 用时：\_\_分\_\_秒 成绩等级：\_\_ 家长签字：\_\_



## 期末综合能力测试(一)

### 1. 口算。

|         |         |           |
|---------|---------|-----------|
| $9+4=$  | $16-5=$ | $4+5+6=$  |
| $12-1=$ | $6+13=$ | $16+3-5=$ |
| $9-5=$  | $2+9=$  | $2+7+8=$  |
| $15+4=$ | $18-4=$ | $18-6-2=$ |
| $6+7=$  | $7+8=$  | $10-8+9=$ |

### 2. 填一填。

(1) 比 15 大又比 18 小的数有( )和( )。

(2) 按规律,在叶子上或花上填上合适的数。



(3) 在○里填上“>”“<”或“=”。

|                   |                    |                     |
|-------------------|--------------------|---------------------|
| $6+5 \bigcirc 12$ | $10+8 \bigcirc 19$ | $7+6 \bigcirc 5+8$  |
| $7+9 \bigcirc 16$ | $5+6 \bigcirc 7+2$ | $9+2 \bigcirc 17-5$ |

(4) 在○里填上“+”或“-”。

|                    |                               |                               |
|--------------------|-------------------------------|-------------------------------|
| $5 \bigcirc 4 = 9$ | $9 \bigcirc 6 \bigcirc 3 = 6$ | $6 \bigcirc 6 \bigcirc 7 = 7$ |
|--------------------|-------------------------------|-------------------------------|

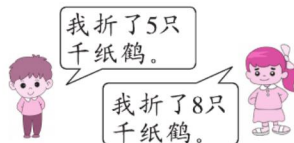
日期: \_\_\_月\_\_\_日 用时: \_\_\_分\_\_\_秒 成绩等级: \_\_\_ 家长签字: \_\_\_\_\_

### 3. 应用题。

(1) 小明想买一本《百科全书》,这本书的价钱是 18 元,可是他只有 8 元,还差几元?

$$\square \bigcirc \square = \square$$

(2) 他们一共折了多少只千纸鹤?



$$\square \bigcirc \square = \square$$



## 期末综合能力测试(二)

### 1. 口算。

$2+4=$

$10-3=$

$6+7-2=$

$5+7=$

$14+1=$

$8-7+9=$

$9-5=$

$8+10=$

$7+8+3=$

$7+8=$

$16-4=$

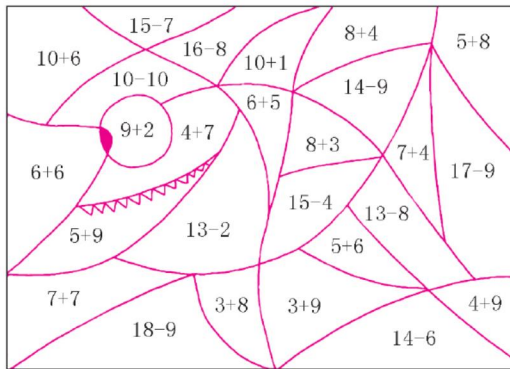
$18-3-4=$

$18-6=$

$9+9=$

$11+8-7=$

### 2. 涂颜色。(把得数是11的算式涂上你喜欢的颜色)



### 3. 应用题。

(1) 小明有 10 本课外读物, 捐给校图书馆一部分后, 还剩 4 本, 小明捐给校图书馆多少本?

$\square \bigcirc \square = \square$

(2) 小白兔要运 10 筐白菜回家, 上午运了 5 筐, 下午运了 3 筐, 还有几筐没有运?

$\square \bigcirc \square \bigcirc \square = \square$

日期: \_\_\_\_月\_\_\_\_日 用时: \_\_\_\_分\_\_\_\_秒 成绩等级: \_\_\_\_ 家长签字: \_\_\_\_\_



## 部分参考答案

### P1

- (2) 涂 4 个 (3) 涂 5 个
- 略
- (1) 略  
(2) 5 只 第 4 只

### P2

- 略
- 涂 1 个 涂 5 个 涂 2 个  
涂 4 个
- 2 4 3 1 5

### P3

- 1 3 5 3 2 0
- 5 4 3 2 1 0
- 0 3 4
- 5 4 2 0

### P4

- 涂 6 个 6 涂 8 个 8
- 略
- 7 8 9 6 10

### P5

- (1) 在香蕉后面画“○”，在桃后面画“△”。  
(2) 在苹果后面画“○”，在梨后面画“△”。
- 略
- (1) 8 6 圈多

- (2) 5 8 圈少

### P6

- (1) 少 < 多 >  
(2) 多 > 少 <
- < < > > > =  
> < >
- (1)  $1 < 2$  (2)  $3 > 2$   
(3)  $4 > 3$

### P7

- 略
- $4 = 4$  多  $5 > 4$  或  $4 < 5$   
少  $3 < 4$  或  $4 > 3$
- > < = 1 2 6 (后两题答案不唯一)

### P8

- (1) √ ○ ○ √ (2) 第 2 个画“√”，第 1 个画“○”。  
第 3 个画“√”，第 2 个画“○”。
- (1) 第 3 个画“√”。  
(2) ③ ②

### P9

- (1) 上面的画“○”，下面的画“√”。(2) 上面的画“○”，下面的画“√”。(3) 左边的画“○”，右边的画“√”。
- (1) 第 1 个画“○”，第 3 个

画“√”。

- (2) 第 1 个画“√”，第 2 个画“○”。
- (1) ① ③ ②  
(2) 第 2 个画“√”，第 3 个画“○”。

### P10

- (1) 草莓下面画“○”，苹果下面画“√”。  
(2) 桃下面画“○”，梨下面画“√”。
- 小羊下面画“○”，大象下面画“√”。
- (1) 梨下面画“○”，西瓜下面画“√”。  
(2) ② ① ④ ③

### P11

- (1) 上面的画“√”，下面的画“○” (2) 上面的画“√”，下面的画“○”
- (1) √ ○ (2) √ ○
- ③ ① ②
- 香蕉下面画“○”，菠萝下面画“√”。

### P12

- 5 4 4 5 3 5 2 4 3
- 2 3 4 5 5
- (1)  $3 + 2 = 5$  (2)  $4 + 1 = 5$



(3)  $3+1=4$  (4)  $2+2=4$

**P13**

1. 3 4 5 5 3 5 4 5 4

2. 略

3. (1)  $1+4=5$   $4+1=5$

$2+3=5$   $3+2=5$

(2) 3 1

**P14**

1. 1 2 2 3 1 4 1 1 2

2. 略

3. 2 2 2 2

4. (1)  $5-2=3$  (2)  $4-2=2$

(3)  $4-1=3$  (4)  $5-1=4$

(5)  $5-4=1$

**P15**

1. 1 4 1 2 3 1 2 3 2

2. 2 1 3 4 1 3 1 5 4

3. 1 1 3

4. (1) 2 5 3 1 (2) 在  $4-1$  下面画“√”。

(3) 2 5 3

**P16**

1. 4 4 5 0 4 5 4 3

3 3 1 2 3 0 2

2. 4 1 3 2 1 1 0

3. (1)  $3+0=3$  (2)  $2-2=0$

(3)  $4-3=1$  (4)  $3-3=0$

**P17**

1. 2 0 4 0 4 5 1 0

5 1 3 4 5 2 3

2. 略

3. (1)  $4-2=2$  (2)  $5-3=2$

$5-4=1$

**P18**

1. 4 1 5 0 4 4 4 0

2 3 5 0 3 2 3

2. (1) 1 (2) 2

3. (1)  $2+2=4$  (2)  $1+3=4$

(3)  $5-2=3$  (4)  $4-2=2$

**P19**

1. 4 6 3 6 2 5 1 6

5 6 6 6 5 0 3

2. 6 5 2 2 3 3

3. (1)  $3+3=6$   $6-3=3$

(2)  $2+4=6$  或  $4+2=6$

$6-2=4$  或  $6-4=2$

(3)  $5+1=6$  或  $1+5=6$

$6-5=1$  或  $6-1=5$

**P20**

1. 6 3 6 4 2 6 5 6

1 6 4 4 2 6 5

2. 6 3 5 1 6 2 6 1

3. 略

**P21**

1. 7 7 4 7 3 7 0 7

2 7 7 1 6 1 6

2. 略

3. 略

**P22**

1. 5 6 7 1 3 7 6 6

4 7 6 2 0 5 5

2.  $4+3=7$  或  $3+4=7$

$7-4=3$

3. + - + + - +

4. 画图略 (1) 7 2 (2) 4 4

(3) 6 6

(4) 3 3

**P23**

1. 8 4 8 6 8 0 8 5

8 7 8 1 8 4 7

2.  $4+4=8$   $8-4=4$

$5+3=8$  或  $3+5=8$

$8-5=3$  或  $8-3=5$

3. = > < < > <

4. 略

**P24**

1. 9 3 9 9 9 7 8 1

9 0 8 5 8 2 8

2. (1)  $4+5=9$  或  $5+4=9$

$9-4=5$  或  $9-5=4$

(2)  $6+3=9$  或  $3+6=9$

$9-3=6$  或  $9-6=3$

3. 略

4. (1) ○○○○ 4

(2) ☆☆☆ 3

(3) □□ 2

(4) △△△△△△△△ 8


**P25**

1. 1 8 5 8 4 9 7 9  
3 9 9 8 4 8 7  
2. (1) 6 8 4 (2) 9 2 8  
3. (1)  $9-0$   $6+3$   $4+5$   
(2)  $9-1$   $5+3$   $6+2$   $4+4$   
4. (1)  $3+6=9$  (2)  $8-2=6$

**P26**

1. 6 6 9 9 9 0 9 7  
8 5 9 1 8 2 8  
2. 略  
3. 分别在  $2+4$ ,  $9-3$ ,  $4+3$  后面画“√”。  
4. (1)  $9-5=4$  (2)  $7+1=8$

**P27**

1. 10 10 1 10 9 10 8  
9 4 9 5 10 0 10 2  
2. (1) 9 1 8 3 5 0 7  
4 10 6 2  
(2)  $<$   $>$   $=$   $>$  (3) 略  
3. (1)  $10-4=6$   
(2)  $7+3=10$

**P28**

1. 8 10 7 10 6 10 9  
10 5 1 4 10 10 9 3  
2. (1) 略 (2) 3 1 10  
3. (1)  $10-3=7$   
(2)  $5+5=10$

**P29**

1. 8 7 4 4 3 7 10

- 10 3 10 2 3 0 9 1

**2. 略**

3. (1)  $2+4+2=8$   
(2)  $8-2-3=3$

**P30**

1. 7 6 10 0 1 5 8 3  
5 1 6 5 4 7 5  
2. (1) 9 2 2 7 10 1  
(2)  $=$   $<$   $>$   $<$   $>$   $>$   
(3)  $+$   $-$   $-$   $+$   
3. (1)  $5+4-2=7$   
(2)  $8-3+2=7$

**P31**

1. 3 10 7 10 6 8 4  
10 2 10 4 9 0 4 2  
2. (1) 8 6 4 2  
(2) 1 6 4 2 (3) 略  
3. (1)  $8+2=10$  (2)  $9-2=7$

**P32**

1. 7 6 4 8 9 9 7 8  
5 7 10 9 10 10 3  
2. 略  
3. (1)  $4+6=10$  (2)  $5+4=9$

**P33**

1. 5 1 2 2 2 6 0 7  
3 5 3 3 8 1 6  
2. 略  
3. (1)  $10-4=6$   
(2)  $10-3=7$

**P34**

1. 7 6 10 1 7 4 5 3

- 10 2 7 3 3 8 3

2. (1)  $5+4=9$  或  $4+5=9$   
 $9-5=4$  或  $9-4=5$   
 $10-4=6$

**(3) 略**

3. (1)  $7+3=10$   
(2)  $8-2-2=4$

**P35**

1. 4 2 10 4 9 3 8 2  
6 5 8 5 7 8 2  
2. (1) 铅笔后面画“√”，草莓后面画“√”。  
(2)  $=$   $=$   $<$   $<$   $>$   $>$   
(3) 5 6 4 2 3 9  
3. (1)  $6+2=8$   
(2)  $9-4=5$

**P36**

1. 7 9 8 9 4 4 1 8  
9 6 9 4 8 9 1  
2. 略  
3. (1)  $7-3=4$   
(2)  $10-3-2=5$

**P37**

1. 6 5 8 6 5 10 2 9  
3 4 6 6 4 10 0  
2. (1) 第②条路后面“○”，第③条路后面画“√”。  
(2)  $=$   $>$   $<$   $>$   $>$   
3. (1)  $9-2=7$   
(2)  $2+3+5=10$



### P38

1. 4 9 4 6 5 9 0 7

4 4 5 5 2 10 1

2. 5 8 2 9 6

8 8 4 8 4

5 10 0 7 1

3. (1)  $7-1=6$

(2)  $3+3+1=7$

### P39

1. 9 1 9 3 9 3 10 4

7 10 6 6 9 10 2

2. ☒ ☐ ☒ ☐ ☒ ☐

☒ ☒

3. (1)  $8-4=4$  (2)  $5+4=9$

### P40

1. 8 5 7 5 7 7 9 0

9 7 8 2 3 4 9

2. 按大小分: ②④⑤⑧ ①③

⑥⑦

按形状分: ①⑧ ②⑦ ③⑤

④⑥

3. (1)  $8+2=10$  或  $2+8=10$

$10-8=2$  或  $10-2=8$

(2)  $6+3=9$  或  $3+6=9$

$9-6=3$  或  $9-3=6$

(3)  $2+3+4=9$  (4)  $8-3=5$

### P41

1. 4 2 10 4 9 3 10

2 8 5 6 0 10 4 9

2. (1) 圈量角器 (2) 圈蘑菇

(3) 圈梨

3. (1)  $10-6=4$

(2)  $3+2=5$  或  $2+3=5$

### P42

1. 4 5 9 8 9 4 6 1

4 4 8 7 7 1 6

2. (1) 后 前 (2) 后 前

(3) 前 后 (4) 3

3. (1)  $4+4=8$

(2)  $9-1-3=5$

### P43

1. 4 3 10 8 7 2 5 3

8 5 9 2 7 0 9

2. 上 下 上 下

3. (1)  $4+4=8$  (2)  $10-5=5$

### P44

1. 2 8 6 6 3 9 1 8

10 4 10 5 10 2 5

2. (1) 3 4 (2) 1 4 (3) 桃

3. (1)  $8-3=5$  (2)  $5+4=9$

### P45

1. 9 0 10 4 8 1 7 1

10 4 8 1 7 2 4

2. 4 5 3 2 (1) 6 (2) 3

3. (1)  $4+5=9$

(2)  $2+3+2=7$

### P46

1. 10 1 10 5 7 7 9

6 2 4 4 6 3 0 4

2. (1) ① 3 1 ② 1 3 (2) 略

3. (1)  $4+3=7$

(2)  $7-2=5$

### P47

1. 5 4 9 1 6 7 9 6

8 4 10 3 5 4 6

2. 略

3. (1)  $5+4=9$  (2)  $6-2=4$

### P48

1. 6 8 5 4 9 5 9 6

7 2 10 3 8 4 1

2. 略

3. (1)  $6+4=10$

(2)  $10-5=5$

### P49

1. 1 5 6 5 10 9 9 7

8 4 1 9 10 6 5

2. 略

3. (1)  $5+2=7$  (2)  $6-2=4$

### P50

1. 12 13 16 14 18 20

11 15 17 14 10 19

10 9 8

2. 16 1 6 12 1 2 2 15

3. (1)  $10+5=15$

(2)  $10+3=13$

### P51

1. 15 18 17 14 10 19



11 16 9 10 20 18 13  
8 12

2.  $= < > > > <$   
 $< > < < > >$   
 $> = <$

3. (1)  $10+4=14$

(2)  $2+10=12$

### P52

1. 13 11 17 12 16 14  
13 11 19 10 18 12  
18 11 17

2. 13 14 15 16 17 18  
19 20  
18 17 16 15 14 13  
12 11 10

3. (1)  $12+5=17$

(2)  $17-2=15$

### P53

1. 15 11 16 14 14 12  
16 11 19 14 12 11  
15 15 17

2. 略

3. (1)  $11+3=14$

(2)  $18-8=10$

### P54

1. 13 15 16 18 14 11  
12 10 19 7 13 18 17  
18 10

2. (1)  $12+5=17$  (2)  $11+3=14$

15 17 12 14 16 18

3. (1)  $9+7=16$

(2)  $9+6=15$

### P55

1. 14 12 13 9 16 18  
11 17 15 9 15 8 10  
13 18

2. 略

3. (1)  $9+3=12$

(2)  $9+5=14$

### P56

1. 9 11 9 12 13 15  
16 10 17 18 14 17  
10 18 9

2. (1)  $13+6+8=14$  (2)  $10+7+12=15$

17 12 15 11 13 14 16

3. (1)  $8+3=11$

(2)  $8+6=14$

### P57

1. 12 14 13 15 16 14  
16 10 13 11 17 18  
13 13 15

2. 略

3. (1)  $8+3=11$

(2)  $8+7=15$

### P58

1. 11 10 12 16 12 12  
10 14 11 12 15 14  
13 13 15

2. 11 15 13 10 14 12;

12 14 10 13 15 11;

16 15 12 13 11 14

3. (1)  $5+6=11$

(2)  $4+7=11$

### P59

1. 15 17 11 12 8 12  
13 15 14 10 14 14  
10 11 12

2. 略

3. (1)  $6+7=13$

(2)  $5+8=13$

### P60

1. 14 13 11 11 14 17  
14 18 11 9 12 16 12  
11 11

2. 略

3. (1)  $5+8=13$

(2)  $6+6=12$

### P61

1. 11 12 11 14 16  
14 13 16 11 13 15  
12 13 11 15

2. 略

3. (1)  $8+6=14$

(2)  $5+6=11$

### P62

1. 12 12 17 13 13 12  
14 12 13 14 18 10  
14 11 16

2. 略

3. (1)  $12-2=10$

(2)  $8+4=12$

### P63

1. 11 16 7 5 13 17





12 12 10 4 13 15 15  
3 14

2. 略

3. (1)  $5+5=10$

(2)  $12+3=15$

**P64**

1. 15 10 12 4 10 16  
12 14 14 5 11 17 13  
3 12

2. 略

3. (1)  $7+8=15$

(2)  $16-4=12$

**P65**

1. 12 4 13 11 16 10  
19 1 16 12 12 13 8  
6 13

2. 略

3. (1)  $6+6=12$

(2)  $13+6=19$

**P66**

1. 11 13 14 4 17 10  
18 14 12 6 18 14 11  
5 11

2. 略

3. (1)  $10-8=2$

(2)  $9+8=17$

**P67**

1. 11 6 8 11 13 5 14  
10 14 15 16 13 11 3  
12

2. (1) 9 时 9:00 11 时半  
11:30 3 时 3:00

(2) 7:30

3. (1)  $7+9=16$

(2)  $19-9=10$

**P68**

1. 13 11 12 2 12 5 9  
6 11 11 11 14 15 3 12

2. (1) 15 13 20

(2)  $> < = > < <$

3. (1)  $9+9=18$

(2)  $8+5=13$

**P69**

1. 16 13 10 10 13 11  
5 13 17 16 5 13 1  
14 14

2. 略

3. (1)  $2+4=6$

(2)  $2+8+4=14$

(3) 略

**P70**

1. 16 4 12 13 14 3  
11 16 13 13 10 13 7  
16 12

2. (1) 3:00 5:30 11:30  
6:00

(2) 13 15

(3) 1 2 2

3. (1)  $4+8=12$

(2)  $11+7=18$

**P71**

1. 9 7 12 14 16 3 13  
12 10 18 15 17 11 5

10

2. (1) 4 2 8 3

(2) ① 0 5 4 3

② 右 左

3. (1)  $16-4=12$

(2)  $6+8=14$

(3) 略

**P72**

1. 11 12 3 13 11 12  
5 13 12 11 13 17 17  
10 12

2. 略

3. (1)  $7+7=14$

(2)  $5+6=11$

(3) 略

**P73**

1. 13 11 15 11 19 14  
4 11 17 19 14 10 13  
15 11

2. (1) 16 17 (2) 12 3 17  
(3)  $< < = = > <$   
(4)  $+ - + - +$

3. (1)  $18-8=10$

(2)  $5+8=13$

**P74**

1. 6 7 11 12 15 10 4  
18 18 15 12 11 12  
18 12

2. 略

3. (1)  $10-4=6$

(2)  $10-5-3=2$



图书在版编目 (CIP) 数据

口算题卡+应用题集训. 一年级. 上册 / 王运才编  
著. — 海口: 南海出版公司, 2014.6

(随堂练吧)

ISBN 978-7-5442-5849-4

I. ①口… II. ①王… III. ①速算—小学—习题集  
②应用题—小学—习题集 IV. ①G624.505

中国版本图书馆CIP数据核字(2014)第075140号

出版发行 南海出版公司 电话: (0898) 66568511(出版)  
65350227(发行)

社 址 海南省海口市海秀中路51号星华大厦五楼

邮 编 570206

电子信箱 nhpublishing@163.com

经 销 新华书店

印 刷 北京中振源印务有限公司

开 本 880毫米×1230毫米 1/24

印 张 3.5

字 数 70千

书 号 ISBN 978-7-5442-5849-4

定 价 18.80元

责任编辑: 张 媛 李凤君  
封面设计: 杨西福



定价: 18.80元



关注微信公众号“教辅资料站”获取更多学习资料