



▶ 与九年义务教育教科书配套使用

口算应用题整合集训

口算题卡

口算 竖式口算 脱式口算

教辅资料站

电子教辅 试卷练习
知识总结 备课资源



王运才/主编

—— 扫码关注获取更多学习资料 ——



一年级 上册



南海出版公司



► 与义务教育最新**课程标准**教材配套使用

口算应用题整合集训

口算题卡

口算 竖式口算 脱式口算

王运才/主编

班级_____

一年级 上册

姓名_____



前言

本书根据最新教学大纲以及现行最新课本编写，目的是培养学生学习数学的兴趣，对学生进行扎实口算、笔算技能训练，提高计算的速度和准确率。

本套书以计算为主，紧密结合各单元的教学目标，与课本同步，注重对学生基本口算能力和运算速度的训练。每页一般为两道大题，第一题主要是针对教材例题所设置的口算题，第二题主要是针对相关例题设置的竖式计算、脱式计算以及简便计算等。对于教材中没有涉及计算的例题，复习的是前面所学的关于计算的内容。

书中每页一次练习，需时 10~15 分钟，难度适中，既可在课内完成，也可作为家庭作业使用。坚持使用本书练习，运算速度会得到明显提升，计算的正确率也会达到满意的效果。真心希望本套书能够成为老师教学的好伴侣，学生学习的好伙伴。

编者



微信公众号
教辅资料站

目 录

第一单元 准备课

- 1. 数一数 1
- 2. 比多少 2
- 3. 整理和复习 3

第二单元 位 置

- 1. 上、下、前、后 4
- 2. 左、右 5
- 3. 整理和复习 6

第三单元 1~5 的认识和加减法

- 1. 1~5 的认识 7
- 2. 比大小 8
- 3. 第 几 9
- 4. 分与合 10
- 5. 加 法 11
- 6. 减 法 12
- 7. 小 结 13
- 8. 0 的认识 14
- 9. 整理和复习 15

第四单元 认识图形（一）

- 1. 认识图形(1) 16
- 2. 认识图形(2) 17
- 3. 整理和复习 18

第五单元 6~10 的认识和加减法

- 1. 6、7 的认识和加减法(1) 19
- 2. 6、7 的认识和加减法(2) 20
- 3. 6、7 的认识和加减法(3) 21
- 4. 8、9 的认识和加减法(1) 22
- 5. 8、9 的认识和加减法(2) 23
- 6. 8、9 的认识和加减法(3) 24
- 7. 小 结 25
- 8. 解决问题 26
- 9. 10 的认识和加减法(1) 27
- 10. 10 的认识和加减法(2) 28
- 11. 10 的认识和加减法(3) 29
- 12. 连加、连减(1) 30
- 13. 连加、连减(2) 31

微信公众号
教辅资料站

14. 连加、连减(3)	32
15. 加减混合(1)	33
16. 加减混合(2)	34
17. 小 结	35
18. 整理和复习	36

第六单元 11~20 各数的认识

1. 数数、读数、数的顺序	37
2. 写 数	38
3. 10 加几、十几加几和相应的减法(1)	39
4. 10 加几、十几加几和相应的减法(2)	40
5. 10 加几、十几加几和相应的减法(3)	41
6. 解决问题	42
7. 整理和复习	43
数学乐园	44

第七单元 认识钟表

1. 认识钟表(1)	45
2. 认识钟表(2)	46

3. 整理和复习	47
----------------	----

第八单元 20 以内的进位加法

1. 1.9 加几	48
2. 8、7、6 加几(1)	49
3. 8、7、6 加几(2)	50
4. 小 结	51
5. 5、4、3、2 加几(1)	52
6. 5、4、3、2 加几(2)	53
7. 解决问题(1)	54
8. 解决问题(2)	55
9. 整理和复习	56

第九单元 总复习

1. 总复习(1)	57
2. 总复习(2)	58
3. 总复习(3)	59
4. 总复习(4)	60
5. 总复习(5)	61
6. 总复习(6)	62

参考答案	63
------------	----

第一单元 准备课


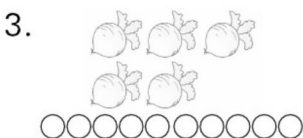
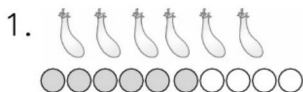
1. 数一数



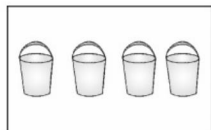
___月___日

用时：___分___秒


一、照样子数一数，再涂色。



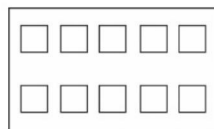
二、数一数，圈一圈。



(2 3 4 5)



(5 6 7 8)



(7 8 9 10)

三、连一连。



2 3 4 5 6 7 8 9 10 1



自我评价

☐ 真棒

☐ 很好

☐ 继续努力



2. 比多少




___月___日

用时: ___分___秒

一、比一比,画一画。

1. 在多的后面画“○”。



2. 在少的后面画“△”。



3. 在多的后面画“√”,在少的后面画“×”。



二、想一想,做一做。

1.



左边再来几只小鸡,就和右边同样多了? 在正确答案的下面画“√”。

2

☐

3

☐

4

☐

2. 兔妈妈给两只小兔的萝卜同样多,下面是它们吃剩下的。谁吃的萝卜多? 把它圈起来。




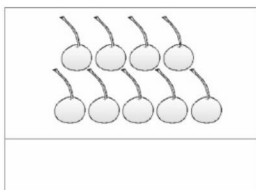




3. 整理和复习



___月___日

用时：___分___秒

一、数一数，在方框里画出相同数量的△。



二、画一画。

1. 画△，△比□多。




2. 画○，○比☆少。



3. 画□，□和○一样多。



三、在多的后面画“√”。



四、根据给出的数，画出缺少的□。

4



7



9



自我评价

☐ 真棒

☐ 很好

☐ 继续努力



第二单元 位置

1. 上、下、前、后



___月___日

用时: ___分___秒

一、填一填。

1.




(1) 在 的()面, 在 的()面。

(2) 在最()面, 在最()面。

(3) 把 前面的那个动物圈起来。

2.



(1) 的()面是 , ()面是 .

(2) 在 的()面, 在 的()面。

二、四个小动物排成一队去参加森林运动会。小猴排在小鹿的前面,小兔排在小象的后面,小象排在小鹿的后面。在排在最前面的动物下面画“○”,排在最后面的下面画“△”。



()

()

()

()



2. 左、右



___月___日

用时：___分___秒

一、下面各图是左手的画“√”，是右手的画“○”。



()



()



()



()



()



()


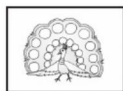


()



()


二、把正确的答案圈起来。



1. 的左边是(), 右边是()。

2. 的右边是(), 左边是()。

三、填一填。



1. 在 的()面,

的()面是 .

2. 在 的()面,

在 的()面。

四、画一画,使小女孩的左手拿2个气球,右手拿3个气球。



自我评价

☐ 真棒

☐ 很好

☐ 继续努力



3. 整理和复习



___月___日

用时: ___分___秒

一、填一填,涂一涂。

1.




在的()面,在的()面;



的()面有两只动物,的()面有两只动物。

2.



(1) 给 上面的蔬菜涂上黄色。

(2) 给 左边的蔬菜涂上绿色,右边的蔬菜涂上红色。

(3) 给 下面的蔬菜涂上蓝色。

二、涂一涂,画一画。

1. 将左边 2 朵 涂成红色,右边 3 朵 涂成黄色。



2. 在树上画 2 个 ,在树的下面画 1 个 ,左边画 1 片 ,右边画 2 朵 。



第三单元 1~5 的认识和加减法


1. 1~5 的认识



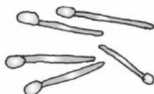
___月___日

用时：___分___秒

一、数一数，描一描，写一写。



二、数一数，写出每一种物品的个数。



三、看数涂色。



3



5



2



4



自我评价

☐ 真棒

☐ 很好

☐ 继续努力



2. 比大小



___月___日

用时: ___分___秒

一、在○里填上“>”“<”或“=”，在()里填上合适的数。

$2 \bigcirc 4$

$5 \bigcirc 3$

$4 \bigcirc 3$

$2 \bigcirc 3$

$3 \bigcirc 5$

$3 \bigcirc 3$

$1 \bigcirc 5$

$1 \bigcirc 3$

$4 < (\quad)$

$(\quad) > 2$

$3 < (\quad)$

$4 > (\quad)$

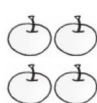
$3 < (\quad)$

$(\quad) > 2$


$1 < (\quad)$

$(\quad) < 2$



二、比一比，在□里填数，在○里填“>”“<”或“=”。



$4 < \square$



$2 \bigcirc 2$



$\square > \square$

三、圈一圈，比一比。

☆ 和 同样多



$\square \bigcirc \square$

比 多



$\square \bigcirc \square$

比 少



$\square \bigcirc \square$

四、给蜻蜓排排队。



___ < ___ < ___ < ___ < ___



3. 第 几



___月___日



用时: ___分___秒

一、填一填。

1. 看图填空。



(1) 图中共有()种水果。

(2) 从左数,  排在第(),  排在第()。

(3)  的左边有()种水果, 右边有()种水果。

2.



第 1 个

第 4 个

第 5 个

盖住的是第()个和第()个, 盖住了()个。

二、操作题。

1. 涂一涂。

(1) 把从右数第 3 朵涂上颜色。(2) 把左边 3 个涂上颜色。



2. 画苹果。



(1) 从左数第 2 个盘子里画 3 个苹果。

(2) 从左数第 3 个盘子和第 5 个盘子里都画 4 个苹果。



自我评价

☐ 真棒

☐ 很好

☐ 继续努力



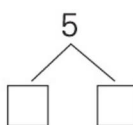
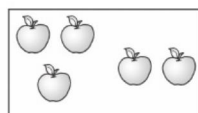
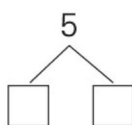
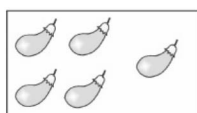
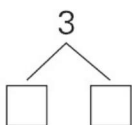
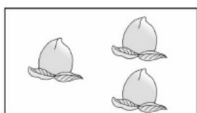
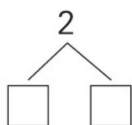

4. 分与合



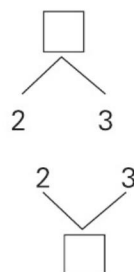
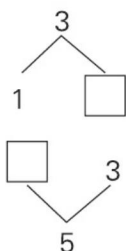
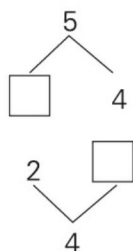
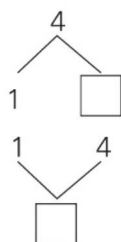
___月___日

用时：___分___秒

一、看图填一填。



二、在□里填上合适的数。



三、照样子，填一填。

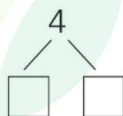
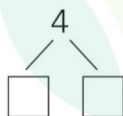
	1		3
4	3	2	

	2		3	
5	3	1		4

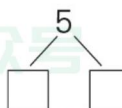
四、照样子，先涂色后填数。



1. ○ ○ ○ ○



2. ○ ○ ○ ○ ○



5. 加 法



___月___日

用时：___分___秒

一、填一填。



$$1 + 2 = \square$$



$$2 + 2 = \square$$



$$4 + 1 = \square$$



$$3 + 2 = \square$$

二、算一算。

$$3 + 1 =$$

$$2 + 1 =$$

$$3 + 2 =$$

$$1 + 4 =$$

$$2 + 3 =$$


$$2 + 2 =$$

$$1 + 1 =$$

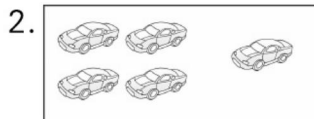
$$1 + 3 =$$

$$4 + 1 =$$

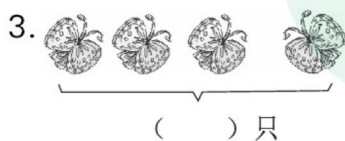
三、看图列式计算。




$$\square + \square = \square$$



$$\square + \square = \square$$



$$\square \bigcirc \square = \square$$



$$\square \bigcirc \square = \square$$



自我评价

☐ 真棒

☐ 很好

☐ 继续努力



6. 减 法



___月___日

用时：___分___秒

一、圈一圈，填一填。

1.



$$3 - 1 = \square$$

2.



$$5 - 4 = \square$$

3.



$$4 - 3 = \square$$

4.



$$5 - 2 = \square$$

二、算一算。

$$5 - 1 =$$

$$5 - 4 =$$

$$3 - 1 =$$

$$4 - 2 =$$

$$5 - 2 =$$

$$4 - 1 =$$

$$3 - 2 =$$

$$4 - 3 =$$

$$2 - 1 =$$

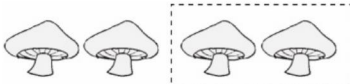
三、看图列式计算。

1.



$$\square - \square = \square$$

2.



$$\square - \square = \square$$

3.



$$\square - \square = \square$$

4.



$$\square - \square = \square$$

5.



$$\square - \square = \square$$

6.



$$\square - \square = \square$$



7. 小 结



___月___日

用时：___分___秒

一、算一算。

$3 + 1 =$

$2 - 1 =$

$4 + 1 =$

$2 + 3 =$

$3 - 2 =$

$5 - 1 =$

$3 - 1 =$

$1 + 4 =$

$2 + 2 =$

$4 - 3 =$

$5 - 3 =$

$1 + 1 =$

$5 - 4 =$

$4 - 2 =$

$5 - 2 =$


$2 + 1 =$

$4 - 1 =$

$3 + 2 =$


二、看图列式计算。

1.



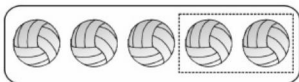
$2 + \square = \square$

2.



$1 + \square = \square$

3.



$5 - \square = \square$

4.



$4 - \square = \square$

三、连一连。



自我评价

☐ 真棒

☐ 很好

☐ 继续努力



8.0 的认识



___月___日

用时：___分___秒

一、口算。

$5 - 5 =$

$0 + 5 =$

$0 + 4 =$

$2 - 2 =$

$1 - 1 =$

$2 + 1 =$

$2 + 2 =$

$3 + 0 =$

$2 - 0 =$

$3 - 1 =$

$5 - 0 =$

$5 - 4 =$

$4 - 0 =$

$4 - 1 =$

$1 + 3 =$

$5 - 1 =$

$3 - 3 =$

$0 + 2 =$

$4 + 0 =$

$3 + 1 =$

$3 - 0 =$


$0 - 0 =$

$4 - 3 =$

$3 - 2 =$

二、看图列式计算。

1.



$\square + \square = \square$

2.



$\square - \square = \square$

三、算一算，填一填。

4-	0	1	2	3	4

5-	4	3	2	1	0

你发现了什么规律？



9. 整理和复习



____月____日
用时：____分____秒

一、口算。

$0 + 5 =$

$4 - 4 =$

$5 - 2 =$

$4 + 1 =$

$4 - 3 =$

$5 - 4 =$

$3 + 2 =$

$1 + 3 =$

$2 + 3 =$

$3 + 0 =$

$5 - 1 =$

$5 - 3 =$

$1 + 2 =$

$1 - 1 =$

$2 - 1 =$

$5 - 5 =$

$2 + 2 =$

$4 - 1 =$

$0 + 2 =$

$4 - 2 =$

$2 + 1 =$

$3 - 1 =$

$3 - 3 =$

$4 + 0 =$

$3 - 2 =$

$1 + 1 =$

$1 + 4 =$

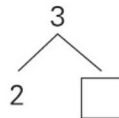
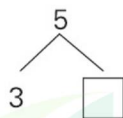
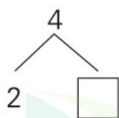
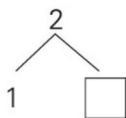
$1 + 0 =$

$3 - 0 =$

$3 + 1 =$

二、我会算。

1. 分一分。



2. 填一填。

1
2
3
0

 $+2=$

$5 -$

1
2
3
4

 $=$



自我评价

☐ 真棒

☐ 很好

☐ 继续努力



第四单元 认识图形(一)

1. 认识图形(1)



___月___日

用时: ___分___秒

一、口算。

$5 - 1 =$

$2 + 3 =$

$1 + 2 =$

$5 - 5 =$

$3 + 1 =$

$2 - 0 =$

$4 - 0 =$

$4 - 3 =$

$1 - 1 =$

$4 + 0 =$

$1 + 4 =$

$3 + 2 =$

$3 - 1 =$

$0 + 4 =$

$5 - 4 =$

$3 - 2 =$

$2 + 1 =$

$1 + 1 =$

$5 - 2 =$

$5 - 3 =$

$4 - 2 =$

$5 - 0 =$

$1 + 3 =$

$2 + 2 =$

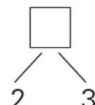
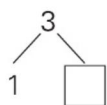
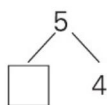
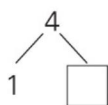
$4 - 1 =$

$4 + 1 =$

$2 - 1 =$

二、想一想,做一做。

1. 在□里填上合适的数。



2. 写出得数相等的4个不同的算式。

$\square \bigcirc \square = \square$

$\square \bigcirc \square = \square$

$\square \bigcirc \square = \square$

$\square \bigcirc \square = \square$



2. 认识图形 (2)



___月___日

用时: ___分___秒

一、口算。

$4 - 1 =$

$2 - 1 =$

$3 + 1 =$

$3 + 2 =$

$4 + 0 =$

$1 + 4 =$

$3 - 0 =$

$0 + 4 =$

$3 - 1 =$

$1 - 0 =$

$5 - 1 =$

$4 - 0 =$

$1 + 2 =$

$5 - 3 =$

$1 + 0 =$

$4 - 3 =$

$0 + 5 =$

$2 + 3 =$

$2 - 2 =$

$4 - 4 =$

$2 + 1 =$

$4 + 1 =$

$2 + 2 =$

$2 + 0 =$

$1 + 1 =$

$5 - 2 =$

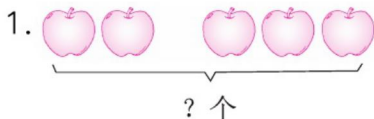
$5 - 4 =$

$4 - 2 =$


$1 + 3 =$

$3 - 2 =$

二、看图列式计算。



$\square \bigcirc \square = \square$



$\square \bigcirc \square = \square$



$\square \bigcirc \square = \square$



$\square \bigcirc \square = \square$



自我评价

☐ 真棒 🌟🌟🌟

☐ 很好 🌟🌟

☐ 继续努力 🌟🌟



3. 整理和复习



___月___日

用时：___分___秒

一、口算。

$3 - 2 =$

$1 + 1 =$

$2 + 1 =$

$1 - 1 =$

$4 - 0 =$

$4 - 3 =$

$4 + 0 =$

$2 + 3 =$

$1 + 4 =$

$5 - 2 =$

$4 - 2 =$

$5 - 3 =$

$5 - 5 =$

$2 - 0 =$

$3 + 1 =$

$2 + 2 =$

$1 + 3 =$

$5 - 0 =$

$1 + 2 =$

$3 - 1 =$

$3 - 3 =$

$5 - 4 =$

$5 - 1 =$

$3 + 2 =$

$2 - 1 =$

$4 + 1 =$

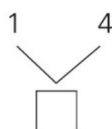
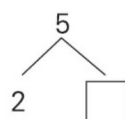
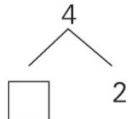
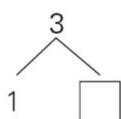
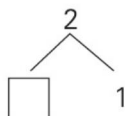
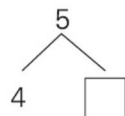
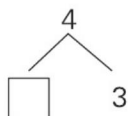
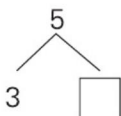
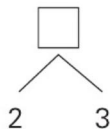
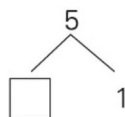
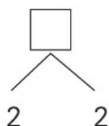
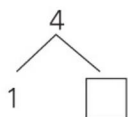
$4 - 1 =$

$1 + 2 =$

$0 + 5 =$

$0 + 4 =$

二、填一填。



第五单元 6~10 的认识和加减法

1. 6、7 的认识和加减法 (1)



___月___日
用时: ___分___秒

一、口算。

$6 - 3 =$

$7 - 0 =$

$4 + 3 =$

$1 + 4 =$

$4 + 0 =$

$5 + 2 =$

$3 + 2 =$

$6 - 6 =$

$6 - 4 =$

$5 + 0 =$

$6 - 1 =$

$7 - 1 =$

$6 + 1 =$

$3 + 1 =$

$7 - 4 =$

$2 + 5 =$

$6 - 2 =$

$2 + 4 =$

$5 - 3 =$

$3 + 0 =$

$2 + 2 =$

$6 - 5 =$

$3 + 3 =$

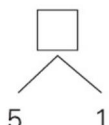
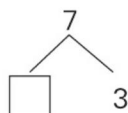
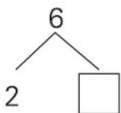
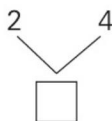
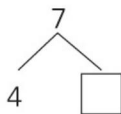
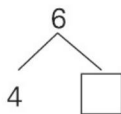
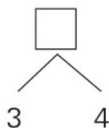
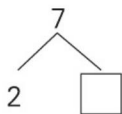
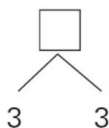
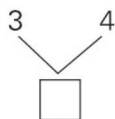
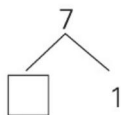
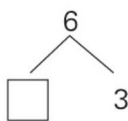
$7 - 6 =$

$7 - 2 =$

$4 - 3 =$

$3 + 4 =$

二、填一填。



自我评价

☐ 真棒

☐ 很好

☐ 继续努力



2.6、7 的认识和加减法 (2)



___月___日

用时: ___分___秒

一、口算。

$7 - 5 =$

$2 + 5 =$

$7 - 1 =$

$6 + 0 =$

$6 - 2 =$

$0 + 5 =$

$6 - 6 =$

$1 + 5 =$

$5 + 2 =$

$7 - 4 =$

$1 + 2 =$

$4 - 3 =$

$4 - 1 =$

$4 - 0 =$

$5 + 1 =$

$1 + 3 =$

$7 - 3 =$

$4 + 3 =$

$4 + 1 =$

$7 - 6 =$

$7 - 2 =$

$3 - 1 =$

$5 - 3 =$

$4 + 2 =$

$6 - 3 =$

$2 + 3 =$

$2 + 4 =$

$3 + 1 =$

$3 + 3 =$

$2 + 1 =$

二、连一连。



$6 - 3$



7



$6 - 0$



$7 - 3$



3



$6 + 1$



$2 + 5$



6



$7 - 4$



$3 + 3$



5



$6 - 2$



$6 - 1$



4



$7 - 2$



3.6、7 的认识和加减法 (3)



___月___日
用时: ___分___秒

一、口算。

$4 + 3 =$

$1 + 2 =$

$4 + 0 =$

$7 - 5 =$

$2 + 2 =$

$3 + 3 =$

$3 - 3 =$

$5 - 0 =$

$3 + 2 =$

$6 + 1 =$

$1 + 4 =$

$7 - 2 =$

$5 + 2 =$

$2 + 4 =$

$0 + 3 =$

$7 - 3 =$

$5 - 2 =$

$5 + 1 =$

$4 - 3 =$

$4 - 4 =$

$3 + 4 =$

$6 - 1 =$

$7 + 0 =$

$3 - 2 =$

$1 + 5 =$

$4 + 2 =$

$6 - 2 =$

$7 - 1 =$

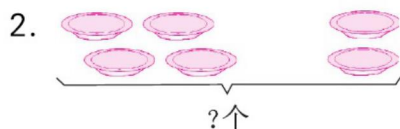
$6 - 5 =$

$2 + 5 =$

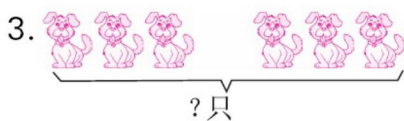
二、看图列式计算。



$\square \bigcirc \square = \square (\text{只})$



$\square \bigcirc \square = \square (\text{个})$



$\square \bigcirc \square = \square (\text{只})$



$\square \bigcirc \square = \square (\text{只})$



自我评价

☐ 真棒

☐ 很好

☐ 继续努力



4. 8、9 的认识和加减法 (1)



___月___日

用时: ___分___秒

一、口算。

$1 + 6 =$

$0 + 5 =$

$1 + 7 =$

$8 - 7 =$

$2 + 6 =$

$3 + 5 =$

$9 - 3 =$

$9 - 8 =$

$3 + 6 =$

$4 + 3 =$

$7 + 2 =$

$8 - 5 =$

$9 - 4 =$

$6 + 2 =$

$0 + 8 =$

$8 + 1 =$

$5 + 3 =$

$9 - 5 =$

$6 + 1 =$

$7 + 1 =$

$8 - 8 =$

$6 - 2 =$

$3 - 0 =$

$5 - 2 =$

$7 - 3 =$

$7 - 6 =$

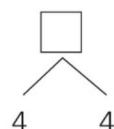
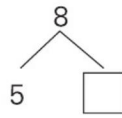
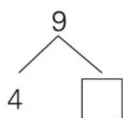
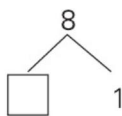
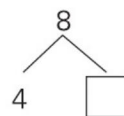
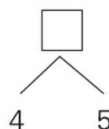
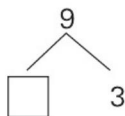
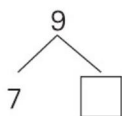
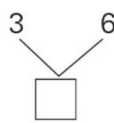
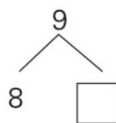
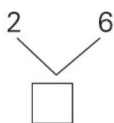
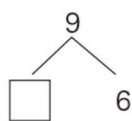
$1 + 5 =$

$4 + 4 =$

$9 - 1 =$

$3 + 4 =$

二、填一填。



5. 8、9 的认识和加减法 (2)



___月___日

用时: ___分___秒

一、口算。

$8 + 0 =$

$8 - 4 =$

$3 + 5 =$

$5 + 3 =$

$8 - 6 =$

$2 + 7 =$

$9 - 8 =$

$6 + 3 =$

$2 + 2 =$

$4 + 1 =$

$9 - 7 =$

$8 - 5 =$

$6 - 2 =$

$6 + 2 =$

$5 + 2 =$

$7 - 3 =$

$6 - 3 =$

$4 + 2 =$

$3 + 4 =$

$2 + 5 =$

$9 - 6 =$

$1 + 6 =$

$6 - 6 =$

$5 + 4 =$

$7 - 2 =$

$4 + 4 =$

$3 + 3 =$

$8 - 3 =$

$8 - 7 =$

$8 - 2 =$

二、看图填一填。



$6 + 3 = \square$

$9 - 3 = \square$

$3 + \square = \square$

$9 - \square = \square$



$3 + 5 = \square$

$8 - 5 = \square$

$5 + \square = \square$

$8 - \square = \square$



自我评价

☐ 真棒

☐ 很好

☐ 继续努力



6. 8、9 的认识和加减法 (3)



___月___日

用时: ___分___秒

一、口算。

$4 + 3 =$

$7 + 2 =$

$9 - 4 =$

$8 - 6 =$

$4 + 4 =$

$2 + 6 =$

$6 + 3 =$

$5 + 2 =$

$8 - 2 =$

$9 - 2 =$

$9 - 8 =$

$2 + 4 =$

$5 + 4 =$

$2 + 5 =$

$8 - 4 =$

$9 - 7 =$

$9 - 5 =$

$9 - 3 =$

$2 + 7 =$

$6 + 2 =$

$7 - 2 =$

$8 - 1 =$

$3 + 4 =$

$3 + 5 =$

$2 + 3 =$

$8 - 3 =$

$9 - 6 =$

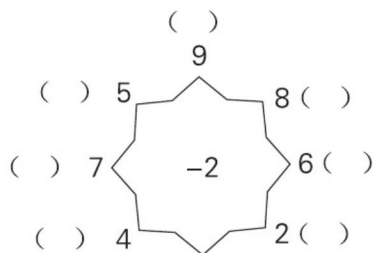
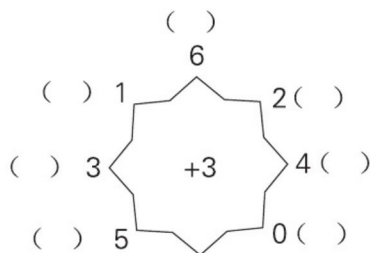
$8 - 5 =$

$8 + 1 =$

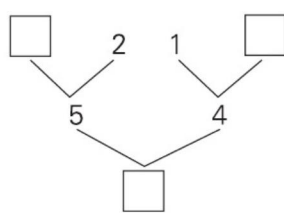
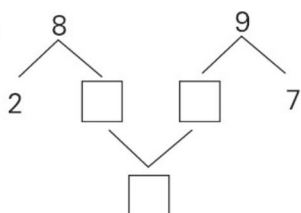
$5 + 3 =$

二、填一填。

1.



2.



7. 小 结



___月___日

用时: ___分___秒

一、口算。

$2 + 5 =$

$8 + 1 =$

$8 - 3 =$

$3 + 2 =$

$6 - 3 =$

$3 + 6 =$

$9 - 4 =$

$6 + 2 =$

$8 - 7 =$

$7 - 4 =$

$4 - 4 =$

$3 + 3 =$

$4 + 4 =$

$8 - 5 =$

$8 + 0 =$

$9 - 5 =$

$7 + 2 =$

$4 + 3 =$

$4 + 5 =$

$8 - 4 =$

$4 - 3 =$

$8 - 6 =$

$5 + 3 =$

$9 - 3 =$

$3 + 5 =$

$8 - 2 =$

$9 - 1 =$

$9 - 2 =$

$2 + 7 =$

$6 + 3 =$

二、在()里填上合适的数。

$() + 4 = 9$

$2 + () = 9$

$() + 1 = 9$

$2 + () = 5$

$4 + () = 8$

$() + 6 = 7$

$() + 7 = 9$

$() + 3 = 8$

$4 + () = 9$

$2 + () = 8$

$4 + () = 7$

$() + 2 = 9$

$3 + () = 9$

$() + 2 = 7$

$5 + () = 8$

$() + 5 = 9$

$() + 2 = 6$

$9 + () = 9$



自我评价

☐ 真棒

☐ 很好

☐ 继续努力



8. 解决问题



___月___日

用时: ___分___秒

一、口算。

$5 + 4 =$

$3 + 4 =$

$6 - 2 =$

$8 - 5 =$

$7 - 2 =$

$4 + 3 =$

$9 - 2 =$

$1 + 6 =$

$3 + 5 =$

$9 - 0 =$

$8 + 0 =$

$5 + 2 =$

$5 + 3 =$

$8 - 2 =$

$3 + 3 =$

$6 - 1 =$

$2 + 4 =$

$8 - 7 =$

$9 - 7 =$

$9 - 5 =$

$8 - 3 =$

$7 - 1 =$

$4 + 1 =$

$9 - 4 =$

$8 + 1 =$

$7 + 2 =$

$2 + 6 =$

$9 - 8 =$

$6 + 3 =$

$3 + 2 =$

二、看图列式计算。

1. 7只



一共有几只?

$\square \bigcirc \square = \square (\text{只})$

2. 一共有8个



吃了3个。

还剩几个



?

$\square \bigcirc \square = \square (\text{个})$



9.10 的认识和加减法 (1)



___月___日

用时: ___分___秒

一、口算。

$2 + 5 =$

$8 - 0 =$

$3 + 4 =$

$10 - 7 =$

$5 - 5 =$

$9 - 2 =$

$10 - 2 =$

$10 - 8 =$

$7 + 3 =$

$2 + 7 =$

$1 + 1 =$

$5 + 4 =$

$8 + 2 =$

$2 + 6 =$

$10 - 10 =$

$10 - 0 =$

$9 + 1 =$

$10 - 6 =$

$10 - 4 =$

$8 + 1 =$

$10 - 9 =$

$6 + 3 =$

$6 - 3 =$

$1 + 9 =$

$10 - 5 =$

$6 + 4 =$

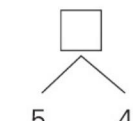
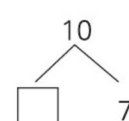
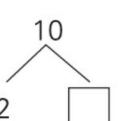
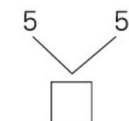
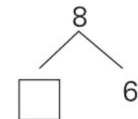
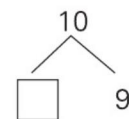
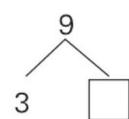
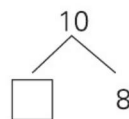
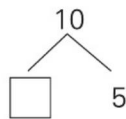
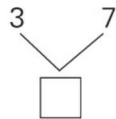
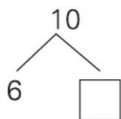
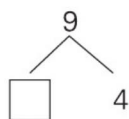
$5 + 5 =$

$9 - 7 =$

$9 - 8 =$

$10 - 3 =$

二、填一填。



自我评价

☐ 真棒

☐ 很好

☐ 继续努力



10. 10 的认识和加减法 (2)



___月___日

用时: ___分___秒

一、口算。

$8 - 2 =$

$5 + 5 =$

$2 + 8 =$

$1 + 8 =$

$2 + 6 =$

$10 - 4 =$

$2 + 4 =$

$7 + 3 =$

$9 - 0 =$

$3 + 7 =$

$8 - 4 =$

$1 + 9 =$

$8 - 3 =$

$9 - 6 =$

$7 + 2 =$

$2 + 3 =$

$4 + 5 =$

$4 - 3 =$

$9 - 3 =$

$3 + 6 =$

$6 - 3 =$

$2 + 1 =$

$6 + 3 =$

$6 + 4 =$

$4 + 6 =$

$10 - 9 =$

$10 - 2 =$

$9 - 2 =$

$5 + 1 =$

$8 + 2 =$


二、看图列式计算。

1. 一共有10支  。

里有几支?

$\square \bigcirc \square = \square (\text{支})$

2. 4个



一共有多少个?

$\square \bigcirc \square = \square (\text{个})$



11. 10 的认识和加减法 (3)



___月___日

用时: ___分___秒

一、口算。

$9 + 1 =$

$7 + 3 =$

$2 + 1 =$

$5 + 5 =$

$5 + 4 =$

$10 - 2 =$

$10 - 0 =$

$10 - 9 =$

$6 + 4 =$

$2 + 7 =$

$4 + 6 =$

$5 - 3 =$

$8 + 2 =$

$10 - 10 =$

$9 - 6 =$

$6 - 5 =$

$10 - 8 =$

$4 + 5 =$

$7 + 2 =$

$6 + 3 =$

$10 - 3 =$

$10 - 1 =$

$10 - 4 =$

$8 + 1 =$

$10 - 7 =$

$3 + 7 =$

$10 - 6 =$

$2 + 8 =$

$9 - 5 =$

$4 + 4 =$

二、在()里填上合适的数。

$5 + () = 10$

$6 + () = 10$

$3 + () = 9$

$() + 7 = 10$

$10 = 8 + ()$

$5 + () = 8$

$1 + () = 10$

$3 + () = 10$

$2 + () = 7$

$2 + () = 10$

$4 + () = 9$

$2 + () = 9$

$5 + () = 9$

$() + 10 = 10$

$9 = () + 8$

$1 + () = 8$

$6 + () = 9$

$9 + () = 9$



自我评价

☐ 真棒

☐ 很好

☐ 继续努力



12. 连加、连减 (1)



___月___日

用时: ___分___秒

一、口算。

$3 + 4 =$

$10 - 1 =$

$8 + 1 =$

$9 - 6 =$

$7 - 5 =$

$4 + 5 =$

$10 - 7 =$

$3 + 7 =$

$10 - 6 =$

$10 - 5 =$

$6 + 4 =$

$5 + 5 =$

$4 + 4 =$

$9 - 4 =$

$7 - 3 =$

$10 - 4 =$

$9 - 9 =$

$9 + 1 =$

$9 - 7 =$

$9 - 8 =$

$10 - 2 =$

$4 + 6 =$

$5 + 2 =$

$10 - 8 =$

$6 - 5 =$

$10 - 3 =$

$2 + 4 =$

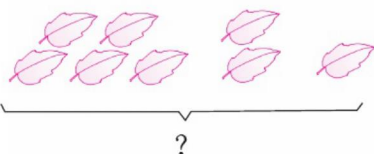
$7 + 3 =$

$8 + 2 =$

$6 + 3 =$


二、看图列式计算。

1.



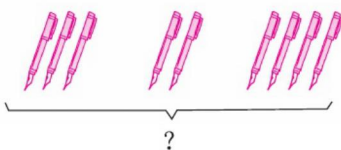
$5 + 2 + \square = \square$

2.



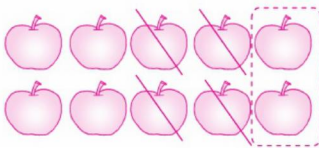
$9 - 3 - \square = \square$

3.



$\square \bigcirc \square \bigcirc \square = \square$

4.



$\square \bigcirc \square \bigcirc \square = \square$



13. 连加、连减 (2)



___月___日

用时: ___分___秒

一、口算。

$7 - 6 =$

$5 + 5 =$

$4 - 4 =$

$9 + 0 =$

$7 + 3 =$

$8 - 3 =$

$9 - 7 =$

$10 - 5 =$

$8 + 2 =$

$2 + 6 =$

$10 - 7 =$

$6 + 4 =$

$5 + 4 =$

$1 + 9 =$

$2 + 7 =$

$10 - 3 =$

$7 - 2 =$

$9 - 2 =$

$6 - 4 =$

$9 - 9 =$

$4 + 1 =$

$3 + 6 =$

$3 + 2 =$

$2 + 8 =$

$3 + 7 =$

$3 + 5 =$

$9 - 5 =$

$9 - 6 =$

$9 + 1 =$

$4 + 6 =$

二、在□里填上合适的数。

$$\begin{array}{c} 4 + 3 + 1 = \square \\ \square \end{array}$$

$$\begin{array}{c} 7 - 2 - 3 = \square \\ \square \end{array}$$

$$\begin{array}{c} 9 - 4 - 2 = \square \\ \square \end{array}$$

$$\begin{array}{c} 5 + 2 + 2 = \square \\ \square \end{array}$$

$$\begin{array}{c} 2 + 5 + 1 = \square \\ \square \end{array}$$

$$\begin{array}{c} 8 - 1 - 3 = \square \\ \square \end{array}$$



自我评价

☐ 真棒

☐ 很好

☐ 继续努力



14. 连加、连减 (3)



___月___日

用时: ___分___秒

一、口算。

$10 - 3 =$

$8 - 4 =$

$6 + 3 =$

$9 - 7 =$

$9 - 0 =$

$10 - 7 =$

$7 + 2 =$

$3 + 4 =$

$10 - 6 =$

$7 - 3 =$

$7 + 3 =$

$9 - 5 =$

$10 - 5 =$

$7 - 4 =$

$2 + 6 =$

$2 + 8 =$

$7 - 2 =$

$3 + 6 =$

$5 - 3 =$

$9 + 1 =$

$9 - 2 =$

$9 - 6 =$

$8 + 2 =$

$3 + 5 =$

$10 - 9 =$

$10 - 1 =$

$2 + 7 =$

$3 + 7 =$

$9 - 4 =$

$6 - 6 =$

二、计算。

$4 + 2 + 3 =$

$6 - 1 - 3 =$

$3 + 4 + 1 =$

$6 - 3 - 1 =$

$7 + 1 + 2 =$

$8 - 1 - 1 =$

$9 - 2 - 3 =$

$5 + 1 + 3 =$

$7 + 2 + 1 =$

$2 + 3 + 1 =$

$6 - 2 - 1 =$

$10 - 6 - 1 =$

$6 + 2 + 1 =$

$7 - 5 - 1 =$

$8 - 3 - 4 =$

$10 - 3 - 6 =$

$8 - 5 - 2 =$

$2 + 5 + 3 =$

$9 - 3 - 6 =$

$8 - 1 - 3 =$

$3 + 4 + 2 =$



15. 加减混合 (1)



___月___日

用时: ___分___秒

一、口算。

$9 - 8 =$

$10 - 3 =$

$9 - 7 =$

$5 + 5 =$

$10 - 4 =$

$7 + 3 =$

$9 - 4 =$

$7 + 2 =$

$8 - 2 =$

$6 + 3 =$

$6 - 4 =$

$10 - 7 =$

$8 - 5 =$

$3 + 5 =$

$2 + 8 =$

$10 - 9 =$

$10 - 5 =$

$10 - 2 =$

$3 + 7 =$

$10 - 6 =$

$9 - 1 =$

$3 - 2 =$

$4 + 3 =$

$8 - 4 =$

$9 + 1 =$

$8 + 1 =$

$4 + 4 =$

$6 + 4 =$

$8 + 2 =$

$10 - 8 =$

二、在□里填上合适的数。

$$\begin{array}{l} 7 + 3 - 5 = \square \\ \square \end{array}$$

$$\begin{array}{l} 7 - 4 + 6 = \square \\ \square \end{array}$$

$$\begin{array}{l} 10 - 6 + 2 = \square \\ \square \end{array}$$

$$\begin{array}{l} 8 + 2 - 5 = \square \\ \square \end{array}$$

$$\begin{array}{l} 5 + 3 - 2 = \square \\ \square \end{array}$$

$$\begin{array}{l} 6 - 4 + 5 = \square \\ \square \end{array}$$



自我评价

☐ 真棒

☐ 很好

☐ 继续努力



16. 加减混合 (2)



____月____日

用时: ____分____秒

一、口算。

$4 + 4 =$

$0 + 7 =$

$1 + 9 =$

$6 - 4 =$

$8 - 5 =$

$9 + 1 =$

$10 - 4 =$

$10 - 5 =$

$10 - 7 =$

$6 + 4 =$

$9 - 7 =$

$7 + 2 =$

$2 + 3 =$

$6 + 2 =$

$5 - 2 =$

$7 + 1 =$

$9 - 6 =$

$7 - 4 =$

$10 - 3 =$

$4 + 3 =$

$5 + 2 =$

$4 + 6 =$

$5 + 4 =$

$8 - 4 =$

$10 - 8 =$

$7 + 3 =$

$6 + 3 =$

$10 - 2 =$

$9 - 1 =$

$4 + 5 =$

二、算一算。

$6 - 4 + 3 =$

$3 + 7 - 4 =$

$2 + 5 - 3 =$

$8 - 5 + 3 =$

$4 + 5 - 7 =$

$10 - 8 + 5 =$

$2 + 6 - 5 =$

$7 + 3 - 6 =$

$5 - 2 + 4 =$

$4 + 3 - 2 =$

$6 - 2 + 5 =$

$9 - 8 + 7 =$

$5 - 5 + 4 =$

$7 + 3 - 5 =$

$0 + 9 - 3 =$

$4 + 2 - 6 =$

$8 - 3 + 3 =$

$10 - 7 + 3 =$



17. 小 结



___月___日

用时: ___分___秒

一、口算。

$10 - 5 =$

$9 - 8 =$

$2 + 7 =$

$8 + 2 =$

$5 + 5 =$

$8 - 1 =$

$9 - 7 =$

$6 - 5 =$

$0 + 9 =$

$6 + 2 =$

$4 + 4 =$

$7 - 7 =$

$9 - 5 =$

$4 + 5 =$

$8 - 7 =$

$5 + 2 =$

$7 + 3 =$

$2 + 5 =$

$7 - 3 =$

$4 - 2 =$

$1 + 9 =$

$4 + 2 =$

$5 + 3 =$

$10 - 3 =$

$6 + 4 =$

$10 - 2 =$

$8 + 1 =$

$5 + 4 =$

$9 - 2 =$

$0 + 8 =$

二、算一算。

$4 - 1 + 5 =$

$3 + 3 - 3 =$

$3 + 2 + 4 =$

$8 - 1 - 2 =$

$3 - 2 + 9 =$

$5 + 3 - 1 =$

$5 - 3 + 1 =$

$4 + 5 - 7 =$

$3 + 7 - 2 =$

$1 + 4 + 5 =$

$2 + 6 - 7 =$

$8 - 1 - 3 =$

$1 + 6 + 3 =$

$10 - 4 - 4 =$

$7 - 6 + 5 =$

$5 + 5 - 6 =$

$7 + 2 - 5 =$

$9 - 6 + 5 =$



自我评价

☐ 真棒

☐ 很好

☐ 继续努力



18. 整理和复习


 ____月____日
 用时：____分____秒

一、口算。

$10 - 1 =$

$7 + 3 =$

$4 + 5 - 1 =$

$10 - 10 =$

$8 - 4 =$

$10 - 3 + 2 =$

$2 + 5 =$

$9 - 6 =$

$7 + 2 + 1 =$

$8 + 2 =$

$10 - 9 =$

$7 - 2 - 2 =$

$9 - 7 =$

$6 + 4 =$

$6 + 3 - 1 =$

$3 + 2 =$

$8 - 5 =$

$9 + 1 - 3 =$

$7 - 4 =$

$2 + 3 =$

$7 - 3 - 4 =$

$5 - 3 =$

$4 + 6 =$

$10 - 6 - 1 =$

$8 + 1 =$

$9 - 3 =$

$3 + 4 + 3 =$

$1 + 9 =$

$8 - 2 =$

$2 + 5 - 4 =$

二、算一算，比一比。

$$1. 9 \xrightarrow{+1} \square \xrightarrow{-3} \square \xrightarrow{+1} \square \xrightarrow{-5} \square \xrightarrow{+7} \square$$

$$10 \xrightarrow{-5} \square \xrightarrow{+4} \square \xrightarrow{-3} \square \xrightarrow{+2} \square \xrightarrow{-7} \square$$

2. 在○里填上“>”“<”或“=”。

$2 + 6 \bigcirc 9$

$7 - 3 \bigcirc 3$

$8 + 1 \bigcirc 10$

$8 \bigcirc 6 + 3$

$6 \bigcirc 10 - 5$

$5 \bigcirc 10 - 3$

$9 \bigcirc 7 + 2$

$7 - 0 \bigcirc 6$

$4 + 5 \bigcirc 5 + 4$



第六单元 11~20 各数的认识

1. 数数、读数、数的顺序



____月____日
用时：____分____秒

一、口算。

$10 - 5 =$

$10 - 7 =$

$4 + 4 =$

$7 - 5 =$

$8 + 2 =$

$10 - 9 =$

$6 + 4 =$

$8 + 1 =$

$10 - 3 =$

$8 - 2 =$

$9 - 8 =$

$2 + 5 =$

$7 + 3 =$

$1 + 9 =$

$6 + 3 =$

$4 + 6 =$

$10 - 4 =$

$8 - 7 =$

$9 - 5 =$

$10 - 2 =$

$7 + 2 =$

$7 - 7 =$

$10 - 8 =$

$9 - 0 =$

$5 + 3 =$

$3 + 4 =$

$4 + 5 =$

二、在()里填上合适的数。

$0 + () = 10$

$6 + () = 9$

$5 + () = 10$

$() + 4 = 10$

$9 + () = 10$

$3 + () = 5$

$1 + () = 9$

$() + 6 = 7$

$() + 8 = 9$

$6 + () = 8$

$4 + () = 9$

$7 + () = 10$

$8 + () = 10$

$6 + () = 10$

$() + 6 = 6$

$5 + () = 6$

$8 + () = 8$

$() + 3 = 8$



自我评价

☐ 真棒

☐ 很好

☐ 继续努力



2. 写 数



___月___日

用时: ___分___秒

一、口算。

$4 + 5 =$

$3 + 4 =$

$6 + 3 =$

$10 - 2 =$

$5 + 3 =$

$9 - 0 =$

$5 + 4 =$

$7 - 2 =$

$9 - 3 =$

$2 + 2 =$

$8 - 6 =$

$2 + 5 =$

$7 - 6 =$

$7 + 3 =$

$10 - 5 =$

$8 + 2 =$

$9 - 8 =$

$8 + 1 =$

$4 + 4 =$

$10 - 7 =$

$10 - 8 =$

$2 + 7 =$

$2 + 8 =$

$9 - 5 =$

$9 - 4 =$

$1 + 9 =$

$1 + 8 =$

$6 + 4 =$

$4 - 4 =$

$7 - 4 =$

二、在□里填上合适的数。

$6 + \square = 8$

$3 + \square = 10$

$6 + \square = 8$

$7 + \square = 9$

$4 + \square = 9$

$4 + \square = 10$

$5 + 4 = \square + 2$

$8 - 2 = \square + 5$

$10 - 6 = 1 + \square$

$9 - 6 = \square + 1$

$6 + 2 = \square + 4$

$9 - 2 = 4 + \square$

$6 + 3 = \square + 4$

$8 - 4 + 5 = \square + 6$

$10 - 5 - 2 = \square + 2$



3. 10 加几、十几加几和相应的减法 (1)



___月___日

用时: ___分___秒

一、口算。

$9 - 8 =$

$6 + 4 =$

$12 - 2 =$

$13 - 10 =$

$9 - 3 =$

$4 + 4 =$

$5 + 4 =$

$11 + 5 =$

$8 - 5 =$

$2 + 7 =$

$17 - 3 =$

$13 + 4 =$

$1 + 8 =$

$10 + 6 =$

$3 + 7 =$

$18 - 4 =$

$3 + 6 =$

$4 + 5 =$

$10 - 4 =$

$10 - 3 =$

$15 - 5 =$

$10 + 7 =$

$4 + 6 =$

$9 - 5 =$

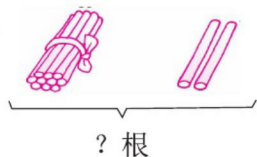
$9 - 4 =$

$13 + 2 =$

$12 + 7 =$

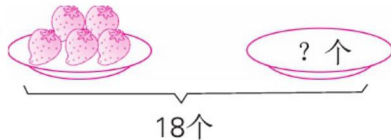
二、看图列式计算。

1.



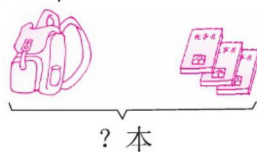
$\square \bigcirc \square = \square (\text{根})$

2.



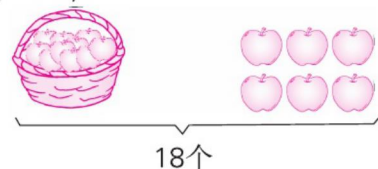
$\square \bigcirc \square = \square (\text{个})$

3. 12本



$\square \bigcirc \square = \square (\text{本})$

4. ? 个



$\square \bigcirc \square = \square (\text{个})$



自我评价

☐ 真棒

☐ 很好

☐ 继续努力



4. 10 加几、十几加几和相应的减法(2)



___月___日

用时: ___分___秒

一、口算。

$13 + 3 =$

$5 + 4 =$

$1 + 9 =$

$10 + 9 =$

$19 - 5 =$

$14 + 3 =$

$19 - 7 =$

$3 + 4 =$

$16 - 10 =$

$4 + 5 =$

$17 - 1 =$

$7 + 3 =$

$19 - 4 =$

$19 - 2 =$

$10 - 8 =$

$12 + 7 =$

$2 + 7 =$

$18 - 8 =$

$9 - 8 =$

$18 - 5 =$

$10 + 6 =$

$8 - 4 =$

$8 + 2 =$

$9 - 4 =$

$15 + 3 =$

$15 + 2 =$

$4 + 13 =$

$15 - 4 =$

$16 - 5 =$

$3 + 12 =$

二、在○里填上“>”“<”或“=”。

$12 \bigcirc 13 - 2$

$3 + 12 \bigcirc 16$

$13 \bigcirc 11 + 3$

$14 \bigcirc 18 - 5$

$15 - 2 \bigcirc 5 - 2$

$9 - 6 \bigcirc 19 - 6$

$10 - 8 \bigcirc 11 + 2$

$15 - 10 \bigcirc 7 + 3$

$19 - 9 \bigcirc 18 - 10$

$10 - 6 \bigcirc 14 - 10$

$8 + 2 \bigcirc 15 - 3$

$10 + 5 \bigcirc 16 - 5$

$10 + 6 \bigcirc 15 - 3$

$17 - 7 \bigcirc 16 - 6$

$10 - 4 \bigcirc 5 + 10$



5.10 加几、十几加几和相应的减法(3)



___月___日

用时: ___分___秒

一、口算。

$15 - 5 =$

$7 - 4 =$

$4 + 5 =$

$18 - 6 =$

$2 + 11 =$

$17 - 3 =$

$2 + 8 =$

$10 + 5 =$

$4 + 4 =$

$8 + 10 =$

$13 - 10 =$

$6 + 1 =$

$9 - 4 =$

$7 + 3 =$

$16 - 3 =$

$4 + 3 =$

$12 + 1 =$

$6 + 10 =$

$18 - 2 =$

$19 - 4 =$

$17 - 7 =$

$17 + 2 =$

$14 - 2 =$

$11 + 6 =$

$10 - 5 =$

$4 + 12 =$

$17 - 5 =$

$9 - 6 =$

$16 - 4 =$

$4 + 13 =$

二、在()里填上合适的数。

$10 + () = 14$

$() + 8 = 18$

$() + 6 = 16$

$() + 9 = 19$

$11 + () = 12$

$16 + () = 18$

$() + 10 = 11$

$11 + () = 13$

$16 + () = 19$

$() + 6 = 10$

$13 + () = 19$

$() + 5 = 15$

$12 + () = 15$

$() + 5 = 17$

$10 + () = 18$

$() + 6 = 17$

$11 + () = 14$

$() + 10 = 15$



自我评价

☐ 真棒

☐ 很好

☐ 继续努力



6. 解决问题



____月____日

用时：____分____秒

一、口算。

$1 + 9 =$

$3 + 16 =$

$5 - 4 =$

$3 + 13 =$

$14 - 4 =$

$9 - 4 =$

$8 - 4 =$

$5 + 5 =$

$1 + 8 =$

$9 + 1 =$

$17 - 5 =$

$11 + 7 =$

$16 - 2 =$

$8 + 2 =$

$10 - 8 =$

$10 + 7 =$

$14 - 1 =$

$7 + 12 =$

$18 - 5 =$

$6 + 4 =$

$19 - 6 =$

$7 + 3 =$

$9 - 7 =$

$4 + 6 =$

$19 - 7 =$

$14 + 3 =$

$6 + 13 =$

$14 - 3 =$

$3 + 11 =$

$18 - 2 =$

二、在□里填上合适的数。

$$\begin{array}{l} 19 - 5 + 2 = \square \\ \square \end{array}$$

$$\begin{array}{l} 3 + 16 - 4 = \square \\ \square \end{array}$$

$$\begin{array}{l} 14 - 2 + 5 = \square \\ \square \end{array}$$

$$\begin{array}{l} 7 - 6 + 10 = \square \\ \square \end{array}$$

$$\begin{array}{l} 11 + 7 - 5 = \square \\ \square \end{array}$$

$$\begin{array}{l} 15 - 5 + 4 = \square \\ \square \end{array}$$

$$\begin{array}{l} 13 + 5 - 6 = \square \\ \square \end{array}$$

$$\begin{array}{l} 10 + 4 - 3 = \square \\ \square \end{array}$$

$$\begin{array}{l} 13 - 3 + 4 = \square \\ \square \end{array}$$



7. 整理和复习



___月___日

用时: ___分___秒

一、口算。

$8 - 2 =$

$8 + 2 =$

$18 - 5 =$

$3 + 16 =$

$17 - 6 =$

$2 + 14 =$

$5 - 3 =$

$14 - 4 =$

$7 + 3 =$

$5 + 5 =$

$8 - 4 =$

$10 - 6 =$

$3 + 11 =$

$3 + 5 =$

$5 + 14 =$

$10 - 9 =$

$5 + 13 =$

$17 - 2 =$

$10 - 8 =$

$3 + 12 =$

$10 - 1 =$

$4 + 13 =$

$10 - 7 =$

$10 + 4 =$

$9 - 6 =$

$18 - 3 =$

$10 - 5 =$

$19 - 5 =$

$3 + 12 =$

$17 - 3 =$

二、计算。

$10 + 5 + 2 =$

$15 - 3 - 1 =$

$8 + 2 - 5 =$

$16 - 10 + 1 =$

$11 - 1 + 5 =$

$5 + 5 - 4 =$

$13 + 1 - 10 =$

$12 + 5 - 7 =$

$10 + 8 - 10 =$

$16 + 1 + 2 =$

$13 + 2 + 4 =$

$10 - 6 - 1 =$

$17 - 2 - 3 =$

$15 + 3 - 4 =$

$12 + 7 - 10 =$

$12 + 5 - 6 =$

$18 - 8 - 5 =$

$15 - 10 + 4 =$



自我评价

☐ 真棒

☐ 很好

☐ 继续努力



数学乐园



___月___日

用时：___分___秒

一、口算。

$10 + 5 - 1 =$

$1 + 14 - 5 =$

$17 - 7 + 2 =$

$2 - 1 - 0 =$

$10 - 2 - 2 =$

$9 - 4 - 1 =$

$16 + 2 - 4 =$

$12 + 3 - 5 =$

$18 - 7 - 0 =$

$9 + 1 - 8 =$

$2 + 8 - 7 =$

$8 + 2 - 9 =$

$19 - 7 + 1 =$

$18 - 5 + 0 =$

$13 - 2 + 4 =$

$1 + 2 + 7 =$

$4 + 5 + 1 =$

$2 + 3 + 2 =$

$19 - 6 + 2 =$

$17 + 0 - 3 =$

$19 - 2 + 1 =$

$15 + 2 - 6 =$

$17 - 6 + 8 =$

$12 + 3 - 4 =$

$18 - 0 + 1 =$

$15 - 2 + 4 =$

$14 - 2 + 3 =$

二、在□里填上合适的数。

$12 \xrightarrow{+5} \square \xrightarrow{-4} \square \xrightarrow{+2} \square \xrightarrow{-5} \square \xrightarrow{+6} \square$

$17 \xrightarrow{-2} \square \xrightarrow{+3} \square \xrightarrow{-8} \square \xrightarrow{+7} \square \xrightarrow{-4} \square$

$15 \xrightarrow{-3} \square \xrightarrow{-10} \square \xrightarrow{+8} \square \xrightarrow{+5} \square \xrightarrow{-3} \square$

$8 \xrightarrow{+2} \square \xrightarrow{+3} \square \xrightarrow{-10} \square \xrightarrow{+7} \square \xrightarrow{-2} \square$

$5 \xrightarrow{+10} \square \xrightarrow{-3} \square \xrightarrow{+3} \square \xrightarrow{-4} \square \xrightarrow{+5} \square$



第七单元 认识钟表

1. 认识钟表 (1)



___月___日

用时: ___分___秒

一、口算。

$11 + 3 =$

$6 + 10 =$

$10 - 7 =$

$17 - 7 =$

$8 - 4 =$

$12 + 4 =$

$13 - 10 =$

$16 - 6 =$

$17 - 4 =$

$14 + 3 =$

$17 - 5 =$

$15 + 1 =$

$5 + 5 =$

$2 + 13 =$

$14 - 3 =$

$12 - 1 =$

$10 + 8 =$

$19 - 6 =$

$14 - 10 =$

$19 - 8 =$

$10 + 5 =$

$10 + 1 =$

$6 + 3 =$

$10 + 3 =$

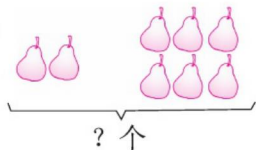
$17 - 3 =$

$18 - 7 =$

$1 + 9 =$

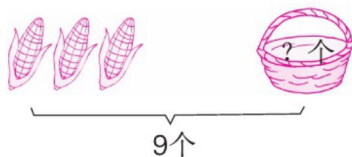
二、看图列式计算。

1.



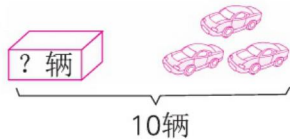
$\square \bigcirc \square = \square (\text{个})$

2.



$\square \bigcirc \square = \square (\text{个})$

3.



$\square \bigcirc \square = \square (\text{辆})$

4.



$\square \bigcirc \square = \square (\text{只})$



自我评价

☐ 真棒

☐ 很好

☐ 继续努力



2. 认识钟表 (2)



___月___日

用时: ___分___秒

一、口算。

$10 + 6 =$

$13 + 2 =$

$15 - 2 =$

$15 - 5 =$

$10 + 4 =$

$8 + 10 =$

$10 + 4 =$

$16 - 3 =$

$12 + 5 =$

$14 - 4 =$

$19 - 1 =$

$13 - 3 =$

$10 + 5 =$

$17 + 2 =$

$10 + 8 =$

$8 - 3 =$

$10 - 2 =$

$10 - 6 =$

$3 + 7 =$

$7 + 2 =$

$7 + 3 =$

$5 + 4 =$

$5 + 5 =$

$19 - 4 =$

$16 - 5 =$

$10 + 7 =$

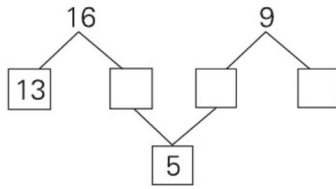
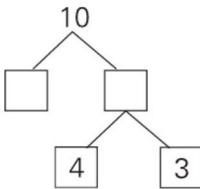
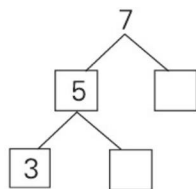
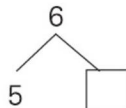
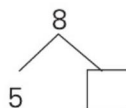
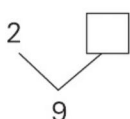
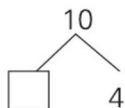
$12 + 6 =$

$12 - 2 =$

$15 - 10 =$

$19 - 10 =$

二、在□里填上合适的数。



3. 整理和复习



___月___日

用时：___分___秒

一、口算。

$2 + 8 =$

$11 + 6 =$

$16 - 3 - 10 =$

$9 - 1 =$

$8 + 2 =$

$2 + 3 + 4 =$

$3 + 7 =$

$9 - 3 =$

$14 - 2 + 3 =$

$8 - 3 =$

$15 - 3 =$

$4 + 4 + 2 =$

$10 - 6 =$

$10 - 3 =$

$9 - 3 + 10 =$

$15 - 4 =$

$11 + 1 =$

$8 - 2 + 12 =$

$7 + 2 =$

$15 - 2 =$

$13 - 3 - 6 =$

$4 + 10 =$

$18 - 4 =$

$18 - 6 - 2 =$

$14 - 1 =$

$5 + 4 =$

$3 + 6 - 2 =$

$3 + 12 =$

$10 + 5 =$

$18 - 5 - 2 =$

二、连一连。

$1 + 4$

$10 + 0$

$13 - 2 + 1$

$4 + 3 + 3$

$5 - 3$

$9 - 7$

$5 + 5 - 3$

$15 - 5 - 4$

$8 + 2$

$8 - 2$

$15 - 3 - 10$

$8 + 2 + 2$

$9 - 6$

$7 - 2$

$10 + 2 - 2$

$19 - 2 - 10$

$7 - 1$

$8 - 5$

$17 - 7 - 4$

$8 - 5 - 1$



自我评价

☐ 真棒

☐ 很好

☐ 继续努力



第八单元 20 以内的进位加法

1.9 加几



___月___日

用时：___分___秒

一、口算。

$9 + 9 =$

$10 - 4 =$

$9 - 7 =$

$9 + 4 =$

$3 + 2 =$

$12 + 1 =$

$2 + 12 =$

$13 + 1 =$

$9 + 7 =$

$9 + 10 =$

$9 - 4 =$

$19 - 9 =$

$9 + 5 =$

$14 - 2 =$

$5 + 4 =$

$9 + 8 =$

$7 + 3 =$

$18 - 4 =$

$17 + 2 =$

$9 + 3 =$

$9 + 6 =$

$9 + 2 =$

$18 - 3 =$

$10 - 5 =$

$5 + 3 =$

$7 - 3 =$

$11 + 6 =$

二、在□里填上合适的数。

$$\begin{array}{c} 9 + 5 = \square \\ \begin{array}{c} \diagup \quad \diagdown \\ \square \quad \square \\ \diagdown \quad \diagup \\ 10 \end{array} \end{array}$$

$$\begin{array}{c} 9 + 3 = \square \\ \begin{array}{c} \diagup \quad \diagdown \\ \square \quad \square \\ \diagdown \quad \diagup \\ 10 \end{array} \end{array}$$

$$\begin{array}{c} 9 + 2 = \square \\ \begin{array}{c} \diagup \quad \diagdown \\ \square \quad \square \\ \diagdown \quad \diagup \\ 10 \end{array} \end{array}$$

$$\begin{array}{c} 9 + 4 = \square \\ \begin{array}{c} \diagup \quad \diagdown \\ \square \quad \square \\ \diagdown \quad \diagup \\ 10 \end{array} \end{array}$$

$$\begin{array}{c} 9 + 6 = \square \\ \begin{array}{c} \diagup \quad \diagdown \\ \square \quad \square \\ \diagdown \quad \diagup \\ 10 \end{array} \end{array}$$

$$\begin{array}{c} 9 + 8 = \square \\ \begin{array}{c} \diagup \quad \diagdown \\ \square \quad \square \\ \diagdown \quad \diagup \\ 10 \end{array} \end{array}$$



2.8、7、6 加几 (1)



___月___日

用时: ___分___秒

一、口算。

$8 + 8 =$

$13 + 6 =$

$6 + 7 =$

$10 - 5 =$

$7 + 4 =$

$7 + 1 =$

$7 + 9 =$

$9 - 5 =$

$19 - 10 =$

$8 + 4 =$

$6 - 3 =$

$9 + 2 =$

$8 + 9 =$

$3 + 4 =$

$10 + 9 =$

$7 - 3 =$

$10 - 2 =$

$6 + 6 =$

$7 + 7 =$

$8 + 2 =$

$8 + 3 =$

$2 + 7 =$

$7 + 3 =$

$8 - 5 =$

$6 + 8 =$

$7 - 4 =$

$8 + 7 =$

$6 + 5 =$

$7 + 9 =$

$8 + 6 =$

二、在□里填上合适的数。

$$\begin{array}{c} 8 + 6 = \square \\ \swarrow \quad \searrow \\ \square \quad \square \\ \quad \quad \quad \downarrow \\ \quad \quad \quad 10 \end{array}$$

$$\begin{array}{c} 8 + 9 = \square \\ \swarrow \quad \searrow \\ \square \quad \square \\ \quad \quad \quad \downarrow \\ \quad \quad \quad 10 \end{array}$$

$$\begin{array}{c} 7 + 7 = \square \\ \swarrow \quad \searrow \\ \square \quad \square \\ \quad \quad \quad \downarrow \\ \quad \quad \quad 10 \end{array}$$

$$\begin{array}{c} 7 + 8 = \square \\ \swarrow \quad \searrow \\ \square \quad \square \\ \quad \quad \quad \downarrow \\ \quad \quad \quad 10 \end{array}$$

$$\begin{array}{c} 6 + 5 = \square \\ \swarrow \quad \searrow \\ \square \quad \square \\ \quad \quad \quad \downarrow \\ \quad \quad \quad 10 \end{array}$$

$$\begin{array}{c} 6 + 9 = \square \\ \swarrow \quad \searrow \\ \square \quad \square \\ \quad \quad \quad \downarrow \\ \quad \quad \quad 10 \end{array}$$



自我评价

☐ 真棒

☐ 很好

☐ 继续努力



3.8、7、6 加几 (2)



___月___日

用时: ___分___秒

一、口算。

$8 + 9 =$

$6 + 6 =$

$10 - 9 =$

$8 - 6 =$

$8 + 3 =$

$7 + 4 =$

$9 + 8 =$

$6 + 9 =$

$3 + 5 =$

$19 - 10 =$

$14 - 1 =$

$12 - 10 =$

$9 + 5 =$

$6 + 7 =$

$8 + 4 =$

$8 + 6 =$

$8 + 8 =$

$17 - 7 =$

$9 + 9 =$

$10 - 8 =$

$7 + 9 =$

$18 - 6 =$

$6 + 5 =$

$8 + 5 =$

$7 + 6 =$

$8 + 7 =$

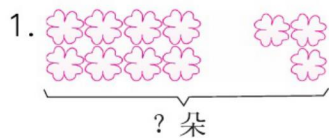
$9 - 9 =$

$10 - 7 =$

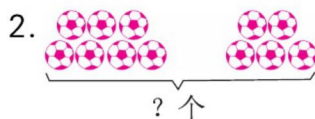
$8 + 9 =$

$13 - 1 =$

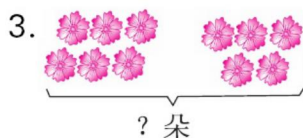
二、看图列式计算。



$\square \bigcirc \square = \square \text{ (朵)}$



$\square \bigcirc \square = \square \text{ (个)}$



$\square \bigcirc \square = \square \text{ (朵)}$



$\square \bigcirc \square = \square \text{ (颗)}$



4. 小 结



___月___日

用时：___分___秒

一、口算。

$9 + 5 =$

$9 + 3 =$

$8 + 2 =$

$6 + 6 =$

$6 + 5 =$

$7 + 7 =$

$3 + 3 =$

$7 + 8 =$

$6 + 7 =$

$9 + 2 =$

$7 + 4 =$

$8 + 10 =$

$10 - 4 =$

$8 + 6 =$

$7 + 6 =$

$8 + 8 =$

$9 + 8 =$

$8 + 4 =$

$8 + 5 =$

$8 + 9 =$

$7 + 9 =$

$15 - 5 =$

$5 + 5 =$

$17 - 4 =$

$6 + 2 =$

$9 + 4 =$

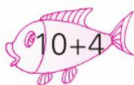
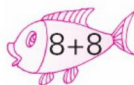
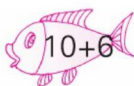


$7 + 5 =$

$8 + 7 =$

$6 + 9 =$

$9 - 6 =$

二、连一连。



自我评价

☐ 真棒 🌟🌟🌟🌟

☐ 很好 🌟🌟

☐ 继续努力 🌟🌟



5.5、4、3、2 加几 (1)



___月___日

用时: ___分___秒

一、口算。

$10 - 7 =$

$2 + 3 =$

$10 + 1 =$

$15 - 4 =$

$5 + 8 =$

$4 + 9 =$

$3 + 8 =$

$9 + 5 =$

$8 - 4 =$

$7 + 7 =$

$5 + 6 =$

$10 - 8 =$

$2 + 8 =$

$17 - 10 =$

$4 + 7 =$

$4 + 8 =$

$3 + 9 =$

$5 + 7 =$

$9 + 8 =$

$10 + 0 =$

$7 + 6 =$

$8 + 7 =$

$5 + 9 =$

$8 + 8 =$

$19 - 9 =$

$9 - 7 =$

$10 - 5 =$

$9 + 3 =$

$10 + 4 =$

$15 - 3 =$

二、在()里填上合适的数。

$() + 7 = 12$

$6 + () = 11$

$4 + () = 11$

$6 + () = 12$

$5 + () = 14$

$9 + () = 15$

$5 + () = 12$

$4 + () = 13$

$2 + () = 11$

$() + 5 = 11$

$() + 7 = 13$

$() + 9 = 13$

$8 + () = 13$

$9 + () = 12$

$() + 5 = 13$

$4 + () = 12$

$2 + () = 11$

$3 + () = 12$



6.5、4、3、2 加几 (2)



___月___日

用时: ___分___秒

一、口算。

$9 + 2 =$

$7 + 7 =$

$5 + 8 =$

$11 + 4 =$

$16 - 2 =$

$4 + 8 =$

$8 - 4 =$

$9 + 5 =$

$6 - 3 =$

$3 + 8 =$

$6 + 6 =$

$4 + 7 =$

$7 + 5 =$

$7 + 6 =$

$10 - 7 =$

$8 + 5 =$

$2 + 9 =$

$10 - 9 =$

$2 + 8 =$

$9 + 3 =$

$6 + 8 =$

$3 + 9 =$

$5 - 2 =$

$7 + 10 =$

$4 + 9 =$

$9 + 8 =$

$9 + 9 =$

$10 - 3 =$

$5 + 7 =$

$9 + 1 =$

二、算一算,涂一涂。

得数大于12的涂黄色,小于12的涂绿色,等于12的不涂色。

$4+9=$

$3+9=$

$6+8=$

$4+10=$

$5+7=$

$2+9=$

$7+7=$

$7+8=$

$3+6=$

$3+8=$



自我评价

☐ 真棒

☐ 很好

☐ 继续努力



7. 解决问题 (1)



___月___日

用时: ___分___秒

一、口算。

$10 - 2 =$

$12 + 3 =$

$6 + 7 =$

$9 + 5 =$

$3 + 8 =$

$6 + 6 =$

$4 + 7 =$

$7 + 1 =$

$2 + 7 =$

$9 + 2 =$

$9 + 8 =$

$6 - 2 =$

$9 - 7 =$

$8 + 8 =$

$6 - 4 =$

$9 + 6 =$

$4 + 8 =$

$5 + 7 =$

$5 + 5 =$

$5 + 6 =$

$8 - 4 =$

$9 + 7 =$

$7 + 5 =$

$5 + 9 =$

$9 - 4 =$

$7 + 7 =$

$2 + 9 =$

$6 + 8 =$

$8 + 7 =$

$3 + 9 =$

二、照样子把得数相同的算式圈起来。

12

$4 + 8$

$6 + 5$

$10 + 2$

$15 - 3$

14

$6 + 8$

$10 + 4$

$5 + 7$

$10 + 2$

15

$7 + 7$

$10 + 5$

$16 - 3$

$18 - 3$

17

$9 + 8$

$8 + 10$

$19 - 2$

$19 + 6$

11

$5 + 6$

$7 + 5$

$8 + 4$

$10 + 1$



8. 解决问题 (2)



___月___日

用时: ___分___秒

一、口算。

$10 - 9 =$

$8 + 1 =$

$7 + 5 =$

$10 - 4 =$

$7 + 7 =$

$8 + 3 =$

$4 + 8 =$

$4 + 2 =$

$4 + 6 =$

$9 + 5 =$

$16 + 3 =$

$3 - 2 =$

$3 + 8 =$

$3 + 5 =$

$3 + 9 =$

$3 + 4 =$

$6 + 9 =$

$5 + 12 =$

$2 + 7 =$

$5 + 7 =$

$4 + 7 =$

$4 + 9 =$

$5 + 9 =$

$10 - 7 =$

$9 + 3 =$

$3 + 7 =$

$2 + 9 =$

$4 + 5 =$

$5 + 8 =$

$5 + 6 =$

二、在○里填上“>”“<”或“=”。

$3 \bigcirc 9 + 8$

$9 + 9 \bigcirc 17$

$11 \bigcirc 11 + 2$

$18 - 10 \bigcirc 9$

$15 \bigcirc 17 - 7$

$7 + 8 \bigcirc 16$

$14 \bigcirc 3 + 9$

$14 \bigcirc 17 - 3$

$13 \bigcirc 9 + 5$

$12 \bigcirc 9 + 3$

$4 \bigcirc 9 - 3$

$16 \bigcirc 17 - 1$

$9 \bigcirc 12 - 2$

$17 \bigcirc 6 + 9$

$9 + 3 \bigcirc 12$



自我评价

☐ 真棒

☐ 很好

☐ 继续努力



9. 整理和复习



___月___日

用时: ___分___秒

一、口算。

$9 + 5 =$

$8 + 4 =$

$9 + 8 - 7 =$

$8 + 9 =$

$14 - 4 =$

$8 + 5 + 6 =$

$9 + 2 =$

$3 + 7 =$

$12 - 10 + 4 =$

$5 + 7 =$

$6 + 7 =$

$7 + 8 - 5 =$

$6 + 5 =$

$6 + 1 =$

$2 + 7 + 3 =$

$3 + 8 =$

$9 + 10 =$

$13 - 3 + 7 =$

$6 - 5 =$

$10 - 3 =$

$9 - 6 + 8 =$

$7 + 1 =$

$9 + 6 =$

$8 + 2 - 5 =$

$9 + 3 =$

$5 + 4 =$

$6 + 9 + 2 =$

$8 + 6 =$

$7 + 4 =$

$17 - 2 - 3 =$

二、填一填。

$$7 + 7 = \left\{ \begin{array}{l} \boxed{5} + \boxed{9} \\ \square + \square \\ \square + \square \\ \square + \square \\ \square + \square \\ \square + \square \\ \square + \square \end{array} \right.$$

$$4 + 8 = \left\{ \begin{array}{l} \boxed{9} + \boxed{3} \\ \square + \square \\ \square + \square \\ \square + \square \\ \square + \square \\ \square + \square \\ \square + \square \end{array} \right.$$



第九单元 总复习

1. 总复习 (1)



___月___日

用时: ___分___秒

一、口算。

$4 + 5 =$

$15 - 5 =$

$9 + 3 =$

$17 - 3 =$

$12 + 7 =$

$6 + 10 =$

$3 + 6 =$

$9 - 4 =$

$10 - 1 =$

$13 - 10 =$

$6 + 12 =$

$6 + 8 =$

$7 + 8 =$

$5 + 5 =$

$14 + 2 =$

$10 - 3 =$

$7 - 2 =$

$8 - 3 =$

$6 + 2 =$

$17 - 5 =$

$6 + 5 =$

$7 + 5 =$

$6 + 3 =$

$11 - 10 =$

$19 - 6 =$

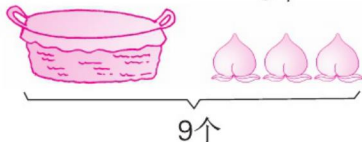
$5 + 9 =$

$3 + 8 =$

二、看图列式计算。

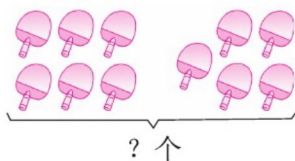
1. ? 个

3个




$\square \bigcirc \square = \square (\text{个})$

2.



$\square \bigcirc \square = \square (\text{个})$

3.



$\square + \square = \square$

$\square - \square = \square$

$\square + \square = \square$

$\square - \square = \square$



自我评价

☐ 真棒

☐ 很好

☐ 继续努力



2. 总复习 (2)



___月___日

用时: ___分___秒

一、口算。

$2 + 9 =$

$2 + 8 =$

$9 - 7 =$

$10 - 3 =$

$9 + 6 =$

$8 + 4 =$

$5 + 9 =$

$14 - 4 =$

$10 - 4 =$

$8 + 5 =$

$8 + 6 =$

$11 + 5 =$

$7 + 5 =$

$4 + 9 =$

$9 + 8 =$

$10 - 8 =$

$6 + 7 =$

$16 - 4 =$

$9 + 7 =$

$10 - 5 =$

$3 + 8 =$

$9 - 4 =$

$7 + 7 =$

$2 + 5 =$

$3 + 6 =$

$5 + 7 =$

$19 - 7 =$

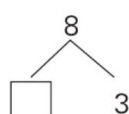
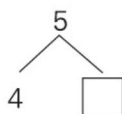
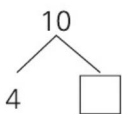
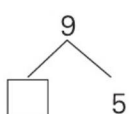
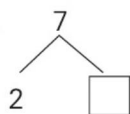
$4 + 7 =$

$8 - 7 =$

$7 + 9 =$

二、在□里填上合适的数。

1.



$2. 5 + \square = 10$

$\square + 8 = 18$

$\square + 3 = 13$

$\square + 4 = 13$

$\square + 5 = 11$

$9 + \square = 15$

$6 + \square = 16$

$12 + \square = 15$

$8 + \square = 12$



3. 总复习 (3)



___月___日

用时: ___分___秒

一、口算。

$8 + 5 =$

$7 + 5 =$

$6 - 3 =$

$16 - 5 =$

$2 + 7 =$

$13 - 3 =$

$7 + 8 =$

$10 - 5 =$

$6 + 8 =$

$13 - 10 =$

$5 + 8 =$

$8 + 9 =$

$3 + 7 =$

$10 - 9 =$

$8 + 8 =$

$2 + 9 =$

$4 + 7 =$

$15 - 3 =$

$18 - 6 =$

$9 - 3 =$

$5 + 6 =$

$4 + 8 =$

$9 + 9 =$

$8 - 4 =$

$3 + 6 =$

$8 - 2 =$

$5 + 7 =$

$17 - 7 =$

$7 + 4 =$

$19 - 2 =$

二、在□里填上合适的数。

$$\begin{array}{c} 7 + 5 = \square \\ \begin{array}{cc} \swarrow & \searrow \\ \square & \square \end{array} \\ \begin{array}{c} \text{---} \\ \text{---} \\ 10 \end{array} \end{array}$$

$$\begin{array}{c} 9 + 3 = \square \\ \begin{array}{cc} \swarrow & \searrow \\ \square & \square \end{array} \\ \begin{array}{c} \text{---} \\ \text{---} \\ 10 \end{array} \end{array}$$

$$\begin{array}{c} 8 + 5 = \square \\ \begin{array}{cc} \swarrow & \searrow \\ \square & \square \end{array} \\ \begin{array}{c} \text{---} \\ \text{---} \\ 10 \end{array} \end{array}$$

$$\begin{array}{c} 4 + 7 = \square \\ \begin{array}{cc} \swarrow & \searrow \\ \square & \square \end{array} \\ \begin{array}{c} \text{---} \\ \text{---} \\ 10 \end{array} \end{array}$$

$$\begin{array}{c} 6 + 9 = \square \\ \begin{array}{cc} \swarrow & \searrow \\ \square & \square \end{array} \\ \begin{array}{c} \text{---} \\ \text{---} \\ 10 \end{array} \end{array}$$

$$\begin{array}{c} 8 + 7 = \square \\ \begin{array}{cc} \swarrow & \searrow \\ \square & \square \end{array} \\ \begin{array}{c} \text{---} \\ \text{---} \\ 10 \end{array} \end{array}$$



自我评价

☐ 真棒 🌟🌟🌟🌟

☐ 很好 🌟🌟

☐ 继续努力 🌟🌟



4. 总复习 (4)



___月___日

用时: ___分___秒

一、口算。

$8 + 5 =$

$3 + 7 =$

$15 - 5 =$

$10 - 9 =$

$14 - 2 =$

$12 + 3 =$

$6 + 6 =$

$7 + 4 =$

$2 + 9 =$

$7 + 9 =$

$8 + 8 =$

$8 - 7 =$

$9 - 2 =$

$7 + 2 =$

$3 + 8 =$

$5 + 7 =$

$10 - 3 =$

$6 - 5 =$

$9 + 10 =$

$6 + 9 =$

$19 - 10 =$

$17 - 6 =$

$9 + 8 =$

$4 + 9 =$

$7 + 6 =$

$17 - 10 =$

$8 + 4 =$

$14 - 4 =$

$7 + 7 =$

$15 - 3 =$

二、在○里填上“>”“<”或“=”。

$17 - 10 \bigcirc 10$

$6 + 9 \bigcirc 16$

$15 - 3 \bigcirc 12$

$7 + 7 \bigcirc 15$

$13 - 2 \bigcirc 9$

$9 + 7 \bigcirc 15$

$9 + 5 \bigcirc 15$

$10 - 3 \bigcirc 8$

$8 + 8 \bigcirc 19 - 3$

$16 - 4 \bigcirc 10$

$11 + 6 \bigcirc 17$

$14 - 2 \bigcirc 7 + 6$

$5 + 11 \bigcirc 17$

$16 - 6 \bigcirc 12$

$9 + 6 \bigcirc 14 - 2$



5. 总复习 (5)



___月___日

用时: ___分___秒

一、口算。

$8 - 3 =$

$6 + 9 =$

$9 + 8 + 2 =$

$10 + 7 =$

$9 + 3 =$

$17 - 5 - 10 =$

$4 + 8 =$

$7 + 3 =$

$7 + 4 + 1 =$

$8 + 6 =$

$14 - 4 =$

$9 + 1 - 5 =$

$9 - 8 =$

$9 + 9 =$

$19 - 9 + 5 =$

$17 - 10 =$

$15 - 5 =$

$7 + 8 + 4 =$

$7 + 5 =$

$8 + 7 =$

$10 - 4 + 9 =$

$18 - 6 =$

$5 + 7 =$

$6 + 8 - 3 =$

$9 + 5 =$

$8 + 4 =$

$10 - 7 + 8 =$

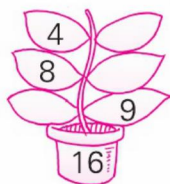
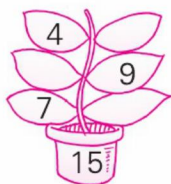
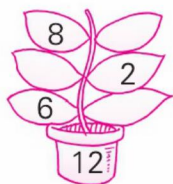
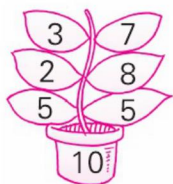
$5 + 10 =$

$17 - 4 =$

$9 + 5 + 2 =$

二、按要求做题。

1. 照样子, 在叶子上填上合适的数。



2. 在□里填上合适的数。

$8 + 1 = 7 + \square = 6 + \square = 5 + \square$

$10 + 4 = \square + 7 = \square + 12 = 8 + \square$



自我评价

☐ 真棒

☐ 很好

☐ 继续努力



6. 总复习 (6)



___月___日

用时: ___分___秒

一、口算。

$8 + 2 - 3 =$

$8 + 8 - 4 =$

$8 - 4 + 3 =$

$4 + 5 - 5 =$

$9 - 3 + 6 =$

$8 + 2 - 9 =$

$10 - 5 - 2 =$

$5 + 5 - 4 =$

$7 + 3 + 6 =$

$6 + 3 + 2 =$

$9 - 4 + 2 =$

$16 - 3 - 10 =$

$5 + 4 + 7 =$

$4 + 5 + 3 =$

$6 - 6 + 10 =$

$8 + 1 - 1 =$

$10 + 8 - 7 =$

$11 + 6 - 7 =$

$17 - 7 + 6 =$

$8 + 6 - 10 =$

$6 + 7 - 2 =$

$5 + 4 + 7 =$

$18 - 8 - 5 =$

$4 + 5 + 5 =$

$6 + 2 - 7 =$

$2 + 5 + 5 =$

$9 - 6 + 8 =$

二、在()里填上合适的数。

$6 + () = 15$

$8 + () = 16$

$10 + () = 13$

$() + 10 = 17$

$() + 12 = 19$

$() + 6 = 10$

$4 + () = 11$

$14 + () = 18$

$() + 18 = 19$

$5 + () = 14$

$() + 7 = 13$

$9 + () = 13$

$() + 14 = 19$

$() + 3 = 16$

$() + 4 = 17$

$6 + () = 16$

$8 + () = 13$

$9 + () = 17$



参考答案

第一单元 准备课

1. 数一数

一、2. 涂3个 3. 涂5个

4. 涂8个

二、圈4 圈8 圈10

三、略

2. 比多少

一、1. 在下面的□里画“○”。

2. 在下面的□里画“△”。

3. 在上面的□里画“√”，

下面的□里画“×”。

二、1. 在3的下面画“√”。

2. 圈左边的兔子。

3. 整理和复习

一、△△△△△ △△

△△△△△△△△

△△△△△△△

△△△△

△△△△△ △△△△

△△△△△△

二、1. 画3个或多于3个的△

2. 画4个或少于4个的○

3. 画7个□

三、1. 在上面的□里画“√”。

2. 在下面的□里画“√”。

四、□□ □□□□

□□□□

第二单元 位置

1. 上、下、前、后

一、1. (1)前 后 (2)前 后

(3)略

2. (1)上 下 (2)上 下

二、在小猴下面画“○”，小兔下面画“△”。

2. 左、右

一、○ ○ √ √

○ √ √ ○

二、1. 圈大象 圈小熊

2. 圈小兔 圈孔雀

三、1. 上 下 2. 左 右

四、略

3. 整理和复习

一、1. 前 后 前 后

2. (1)给萝卜涂黄色

(2)给黄瓜涂绿色，西红柿涂红色

(3)给辣椒涂蓝色

二、略

第三单元 1~5的认识和

加减法

1. 1~5的认识

一、略

二、2 4 5 3 1

三、略

2. 比大小

一、< > > < < =

< <

5 3 4 2 4 3

5 1(后两行答案不唯一)

二、5 = 4 3

三、略

四、1 2 3 4 5

3. 第几

一、1. (1)5 (2)4 2 (3)2 2

2. 2 3 2

二、略

4. 分与合

一、1 1 1 2 4 1 3 2

二、3 1 2 5 5 2 2 5

三、2 1 4 2 1

四、略

5. 加法

一、3 4 5 5

二、4 3 5 5 5

4 2 4 5

三、1. 3+2=5 2. 4+1=5

2. 4 3+1=4 4. 4 2+2=4

6. 减法

一、1. 2 2. 1 3. 1 4. 3

二、4 1 2 2 3 3

1 1 1

三、1. 5-2=3 2. 4-2=2



$3.4-1=3 \quad 4.5-1=4$

$5.5-4=1 \quad 6.4-3=1$

7. 小结

一、 $4 \quad 1 \quad 5 \quad 5 \quad 1 \quad 4$

$2 \quad 5 \quad 4 \quad 1 \quad 2 \quad 2$

$1 \quad 2 \quad 3 \quad 3 \quad 3 \quad 5$

二、 $1.2 \quad 4 \quad 2.3 \quad 4$

$3.2 \quad 3 \quad 4.2 \quad 2$



8.0 的认识

一、 $0 \quad 5 \quad 4 \quad 0 \quad 0 \quad 3$

$4 \quad 3 \quad 2 \quad 2 \quad 5 \quad 1$

$4 \quad 3 \quad 4 \quad 4 \quad 0 \quad 2$

$4 \quad 4 \quad 3 \quad 0 \quad 1 \quad 1$

二、 $1.3+0=3 \quad 2.2-2=0$

三、 $4 \quad 3 \quad 2 \quad 1 \quad 0$

$1 \quad 2 \quad 3 \quad 4 \quad 5$

9. 整理和复习

一、 $5 \quad 0 \quad 3 \quad 5 \quad 1 \quad 1$

$5 \quad 4 \quad 5 \quad 3 \quad 4 \quad 2$

$3 \quad 0 \quad 1 \quad 0 \quad 4 \quad 3$

$2 \quad 2 \quad 3 \quad 2 \quad 0 \quad 4$

$1 \quad 2 \quad 5 \quad 1 \quad 3 \quad 4$

二、 $1.1 \quad 2 \quad 2 \quad 1$

$2.3 \quad 4 \quad 5 \quad 2$

$4 \quad 3 \quad 2 \quad 1$

第四单元 认识图形(一)

1. 认识图形(1)

一、 $4 \quad 5 \quad 3 \quad 0 \quad 4 \quad 2$

$4 \quad 1 \quad 0 \quad 4 \quad 5 \quad 5$

$2 \quad 4 \quad 1 \quad 1 \quad 3 \quad 2$

$3 \quad 2 \quad 2 \quad 5 \quad 4 \quad 4$

$3 \quad 5 \quad 1$

二、 $1.3 \quad 1 \quad 2 \quad 5$

$2.5-1=4 \quad 2+2=4$

$3+1=4 \quad 1+3=4$

(答案不唯一)

2. 认识图形(2)

一、 $3 \quad 1 \quad 4 \quad 5 \quad 4 \quad 5$

$3 \quad 4 \quad 2 \quad 1 \quad 4 \quad 4$

$3 \quad 2 \quad 1 \quad 1 \quad 5 \quad 5$

$0 \quad 0 \quad 3 \quad 5 \quad 4 \quad 2$

$2 \quad 3 \quad 1 \quad 2 \quad 4 \quad 1$

二、 $1.2+3=5 \quad 2.2+2=4$

$3.4-2=2 \quad 4.5-5=0$

3. 整理和复习

一、 $1 \quad 2 \quad 3 \quad 0 \quad 4 \quad 1$

$4 \quad 5 \quad 5 \quad 3 \quad 2 \quad 2$

$0 \quad 2 \quad 4 \quad 4 \quad 4 \quad 5$

$3 \quad 2 \quad 0 \quad 1 \quad 4 \quad 5$

$1 \quad 5 \quad 3 \quad 3 \quad 5 \quad 4$

二、 $3 \quad 4 \quad 4 \quad 5 \quad 2 \quad 1$

$1 \quad 1 \quad 2 \quad 2 \quad 3 \quad 5$

第五单元 6~10 的认识

和加减法

1.6、7 的认识和加减法(1)

一、 $3 \quad 7 \quad 7 \quad 5 \quad 4 \quad 7$

$5 \quad 0 \quad 2 \quad 5 \quad 5 \quad 6$

$7 \quad 4 \quad 3 \quad 7 \quad 4 \quad 6$

$2 \quad 3 \quad 4 \quad 1 \quad 6 \quad 1$

$5 \quad 1 \quad 7$

二、 $3 \quad 6 \quad 7 \quad 6 \quad 5 \quad 7$

$2 \quad 3 \quad 6 \quad 4 \quad 4 \quad 6$

2.6、7 的认识和加减法(2)

一、 $2 \quad 7 \quad 6 \quad 6 \quad 4 \quad 5$

$0 \quad 6 \quad 7 \quad 3 \quad 3 \quad 1$

$3 \quad 4 \quad 6 \quad 4 \quad 4 \quad 7$

$5 \quad 1 \quad 5 \quad 2 \quad 2 \quad 6$

$3 \quad 5 \quad 6 \quad 4 \quad 6 \quad 3$



3.6、7 的认识和加减法(3)

一、 $7 \quad 3 \quad 4 \quad 2 \quad 4 \quad 6$

$0 \quad 5 \quad 5 \quad 7 \quad 5 \quad 5$

$7 \quad 6 \quad 3 \quad 4 \quad 3 \quad 6$

$1 \quad 0 \quad 7 \quad 5 \quad 7 \quad 1$

$6 \quad 6 \quad 4 \quad 6 \quad 1 \quad 7$

二、 $1.7-4=3 \quad 2.4+2=6$

$3.3+3=6 \quad 4.7-2=5$

4.8、9 的认识和加减法(1)

一、 $7 \quad 5 \quad 8 \quad 1 \quad 8 \quad 8$

$6 \quad 1 \quad 9 \quad 7 \quad 9 \quad 3$

$5 \quad 8 \quad 8 \quad 9 \quad 8 \quad 4$

$7 \quad 8 \quad 0 \quad 4 \quad 3 \quad 3$

$4 \quad 1 \quad 6 \quad 8 \quad 8 \quad 7$

二、 $3 \quad 8 \quad 1 \quad 9 \quad 2 \quad 6$

$9 \quad 4 \quad 7 \quad 5 \quad 3 \quad 8$

5.8、9 的认识和加减法(2)

一、 $8 \quad 4 \quad 8 \quad 8 \quad 2 \quad 9$

$1 \quad 9 \quad 4 \quad 5 \quad 2 \quad 3$

$4 \quad 8 \quad 7 \quad 4 \quad 3 \quad 6$

- 7 7 3 7 0 9
5 8 6 5 1 6
- 二、9 6 6 9 6 3
8 3 3 8 3 5
6. 8、9 的认识和加减法(3)
- 一、7 9 5 2 8 8
9 7 6 7 1 6
9 7 4 2 4 6
9 8 5 7 7 8
5 5 3 3 9 8
- 二、1. $6+3=9$ $2+3=5$
 $4+3=7$ $0+3=3$
 $5+3=8$ $3+3=6$
 $1+3=4$
 $9-2=7$ $8-2=6$
 $6-2=4$ $2-2=0$
 $4-2=2$ $7-2=5$
 $5-2=3$
2. 6 2 8 3 3 9
7. 小 结
- 一、7 9 5 5 3 9
5 8 1 3 0 6
8 3 8 4 9 7
9 4 1 2 8 6
8 6 8 7 9 9
- 二、5 7 8 3 4 1
2 5 5 6 3 7
6 5 3 4 4 0
8. 解决问题
- 一、9 7 4 3 5 7
7 7 8 9 8 7
8 6 6 5 6 1

- 2 4 5 6 5 5
9 9 8 1 9 5
- 二、1. $7+2=9$ $2. 8-3=5$
9. 10 的认识和加减法(1)
- 一、7 8 7 3 0 7
8 2 10 9 2 9
10 8 0 10 10 4
6 9 1 9 3 10
5 10 10 2 1 7
- 二、5 4 10 5 2
6 1 2 10 8
3 9
10. 10 的认识和加减法(2)
- 一、6 10 10 9 8 6
6 10 9 10 4 10
5 3 9 5 9 1
6 9 3 3 9 10
10 1 8 7 6 10
- 二、1. $10-2=8$
 $2. 6+4=10$
11. 10 的认识和加减法(3)
- 一、10 10 3 10 9 8
10 1 10 9 10 2
10 0 3 1 2 9
9 9 7 9 6 9
3 10 4 10 4 8
- 二、5 4 6 3 2 3
9 7 5 8 5 7
4 0 1 7 3 0
12. 连加、连减(1)
- 一、7 9 9 3 2 9
3 10 4 5 10 10

- 8 5 4 6 0 10
2 1 8 10 7 2
1 7 6 10 10 9
- 二、1. 1 8 2. 2 4
 $3. 3+2+4=9$
 $4. 10-2-4=4$
13. 连加、连减(2)
- 一、1 10 0 9 10 5
2 5 10 8 3 10
9 10 9 7 5 7
2 0 5 9 5 10
10 8 4 3 10 10
- 二、7 8 5 2 5 3
7 9 7 8 7 4
14. 连加、连减(3)
- 一、7 4 9 2 9 3
9 7 4 4 10 4
5 3 8 10 5 9
2 10 7 3 10 8
1 9 9 10 5 0
- 二、9 2 8 2 10 6
4 9 10 6 3 3
9 1 1 1 1 10
0 4 9
15. 加减混合(1)
- 一、1 7 2 10 6 10
5 9 6 9 2 3
3 8 10 1 5 8
10 4 8 1 7 4
10 9 8 10 10 2
- 二、10 5 3 9 4 6
10 5 8 6 2 7



16. 加减混合(2)

- 一、8 7 10 2 3 10
6 5 3 10 2 9
5 8 3 8 3 3
7 7 7 10 9 4
2 10 9 8 8 9
- 二、5 6 4 6 2 7
3 4 7 5 9 8
4 5 6 0 8 6

17. 小 结

- 一、5 1 9 10 10 7
2 1 9 8 8 0
4 9 1 7 10 7
4 2 10 6 8 7
10 8 9 9 7 8
- 二、8 3 9 5 10 7
3 2 8 10 1 4
10 2 6 4 4 8

18. 整理和复习

- 一、9 10 8 0 4 9
7 3 10 10 1 3
2 10 8 5 3 7
3 5 0 2 10 3
9 6 10 10 6 3
- 二、1. 10 7 8 3 10
5 9 6 8 1
2. $< > < < > <$
 $= > =$

第六单元 11~20 各数的认识

1. 数数、读数、数的顺序

- 一、5 3 8 2 10 1

- 10 9 7 6 1 7
10 10 9 10 6 1
4 8 9 0 2 9
8 7 9
- 二、10 3 5 6 1 2
8 1 1 2 5 3
2 4 0 1 0 5

2. 写 数

- 一、9 7 9 8 8 9
9 5 6 4 2 7
1 10 5 10 1 9
8 3 2 9 10 4
5 10 9 10 0 3
- 二、2 7 2 2 5 6
7 1 3 2 4 3
5 3 1

3. 10 加几、十几加几和

相应的减法(1)

- 一、1 10 10 3 6 8
9 16 3 9 14 17
9 16 10 14 9 9
6 7 10 17 10 4
5 15 19

二、1. $10 + 2 = 12$

2. $18 - 5 = 13$

3. $12 + 3 = 15$

4. $18 - 6 = 12$

4. 10 加几、十几加几和

相应的减法(2)

- 一、16 9 10 19 14 17
12 7 6 9 16 10
15 17 2 19 9 10

- 1 13 16 4 10 5
18 17 17 11 11 15
- 二、 $> < < > > <$
 $< < > = < >$
 $> = <$

5. 10 加几、十几加几和

相应的减法(3)

- 一、10 3 9 12 13 14
10 15 8 18 3 7
5 10 13 7 13 16
16 15 10 19 12 17
5 16 12 3 12 17
- 二、4 10 10 1 2 10
1 2 3 4 6 10
3 12 8 11 3 5

6. 解决问题

- 一、10 19 1 16 10 5
4 10 9 10 12 18
14 10 2 17 13 19
13 10 13 10 2 10
12 17 19 11 14 16
- 二、14 16 19 15 12 17
1 11 18 13 10 14
18 12 14 11 10 14

7. 整理和复习

- 一、6 10 13 19 11 16
2 10 10 10 4 4
14 8 19 1 18 15
2 15 9 17 3 14
3 15 5 14 15 14
- 二、17 11 5 7 15 6
4 10 8 19 19 3

12 14 9 11 5 9

数学乐园

一、14 10 12 1 6 4

14 10 11 2 3 1

13 13 15 10 10 7

15 14 18 11 19 11

19 17 15

二、17 13 15 10 16

15 18 10 17 13

12 2 10 15 12

10 13 3 10 8

15 12 15 11 16

第七单元 认识钟表

1. 认识钟表(1)

一、14 16 3 10 4 16

3 10 13 17 12 16

10 15 11 11 18 13

4 11 15 11 9 13

14 11 10

二、1. $2+6=8$

2. $9-3=6$

3. $10-3=7$

4. $16-4=12$

2. 认识钟表(2)

一、16 15 13 10 14 18

14 13 17 10 18 10

15 19 18 5 8 4

10 9 10 9 10 15

11 17 18 10 5 9

二、6 7 3 1 2 2

3 7 3 2 7

3. 整理和复习

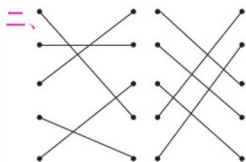
一、10 17 3 8 10 9

10 6 15 5 12 10

4 7 16 11 12 18

9 13 4 14 14 10

13 9 7 15 15 11



第八单元 20 以内的进位加法

1. 9 加几

一、18 6 2 13 5 13

14 14 16 19 5 10

14 12 9 17 10 14

19 12 15 11 15 5

8 4 17

二、1 4 14 1 2 12

1 1 11 1 3 13

1 5 15 1 7 17

2. 8、7、6 加几(1)

一、16 19 13 5 11 8

16 4 9 12 3 11

17 7 19 4 8 12

14 10 11 9 10 3

14 3 15 11 16 14

二、4 4 14 7 1 17

4 3 14 5 2 15

1 5 11 5 1 15

3. 8、7、6 加几(2)

一、17 12 1 2 11 11

17 15 8 9 13 2

14 13 12 14 16 10

18 2 16 12 11 13

13 15 0 3 17 12

二、1. $8+3=11$ 2. $7+5=12$

3. $6+5=11$ 4. $7+4=11$

4. 小结

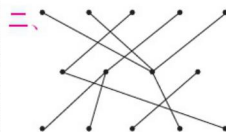
一、14 12 10 12 11 14

6 15 13 11 11 18

6 14 13 16 17 12

13 17 16 10 10 13

8 13 12 15 15 3



5. 5、4、3、2 加几(1)

一、3 5 11 11 13 13

11 14 4 14 11 2

10 7 11 12 12 12

17 10 13 15 14 16

10 2 5 12 14 12

二、5 5 7 6 9 6

7 9 9 6 6 4

5 3 8 8 9 9

6. 5、4、3、2 加几(2)

一、11 14 13 15 14 12

4 14 3 11 12 11

12 13 3 13 11 1

10 12 14 12 3 17

13 17 18 7 12 10

二、4 + 9 = 13 3 + 9 = 12

6 + 8 = 14 4 + 10 = 14



$5+7=12 \quad 2+9=11$

$7+7=14 \quad 7+8=15$

$3+6=9 \quad 3+8=11$

涂色略

7. 解决问题(1)

一、8 15 13 14 11 12

11 8 9 11 17 4

2 16 2 15 12 12

10 11 4 16 12 14

5 14 11 14 15 12

二、第2行圈6+8、10+4

第3行圈10+5、18-3

第4行圈9+8、19-2

第5行圈5+6、10+1

8. 解决问题(2)

一、1 9 12 6 14 11

12 6 10 14 19 1

11 8 12 7 15 17

9 12 11 13 14 3

12 10 11 9 13 11

二、< > < < > <

> = < = < =

< > =

9. 整理和复习

一、14 12 10 17 10 19

11 10 6 12 13 10

11 7 12 11 19 17

1 7 11 8 15 5

12 9 17 14 11 12

二、4+10 3+11 2+12

$6+8 \quad 13+1$

$5+7 \quad 6+6 \quad 8+4$

$10+2 \quad 11+1$ (答案不唯一)

第九单元 总复习

1. 总复习(1)

一、9 10 12 14 19 16

9 5 9 3 18 14

15 10 16 7 5 5

8 12 11 12 9 1

13 14 11

二、1. $9-3=6 \quad 2.6+5=11$

3. $10+2=12 \quad 2+10=12$

$12-2=10 \quad 12-10=2$

2. 总复习(2)

一、11 10 2 7 15 12

14 10 6 13 14 16

12 13 17 2 13 12

16 5 11 5 14 7

9 12 12 11 1 16

二、1. 5 4 6 1 5

2. 5 10 10 9 6 6

10 3 4

3. 总复习(3)

一、13 12 3 11 9 10

15 5 14 3 13 17

10 1 16 11 11 12

12 6 11 12 18 4

9 6 12 10 11 17

二、3 2 12 1 2 12

$2 \quad 3 \quad 13 \quad 1 \quad 3 \quad 11$

$5 \quad 1 \quad 15 \quad 2 \quad 5 \quad 15$

4. 总复习(4)

一、13 10 10 1 12 15

12 11 11 16 16 1

7 9 11 12 7 1

19 15 9 11 17 13

13 7 12 10 14 12

二、< < = < > >

< < = > = <

< < >

5. 总复习(5)

一、5 15 19 17 12 2

12 10 12 14 10 5

1 18 15 7 10 19

12 15 15 12 12 11

14 12 11 15 13 16

二、1. 从上到下:

4 10 6 11 6 8

12 8 7

2. 2 3 4 7 2 6

6. 总复习(6)

一、7 12 7 4 12 1

3 6 16 11 7 3

16 12 10 8 11 10

16 4 11 16 5 14

1 12 11

二、9 8 3 7 7 4

7 4 1 9 6 4

5 13 13 10 5 8



► 与九年义务教育教科书配套使用

口算应用题整合集训

必刷应用题

口算 竖式口算 脱式口算

王运才/主编



R J

一年级 上册

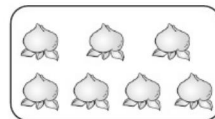


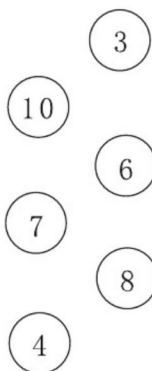
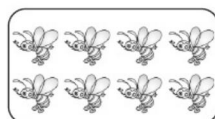
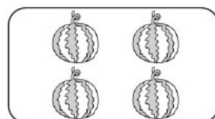

南海出版公司

关注微信公众号“教辅资料站”获取更多学习资料

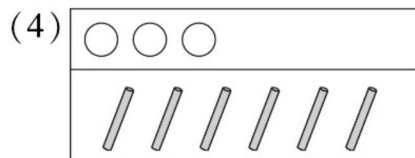
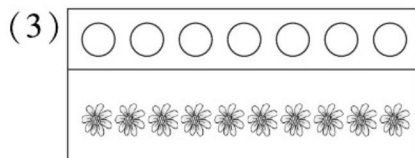
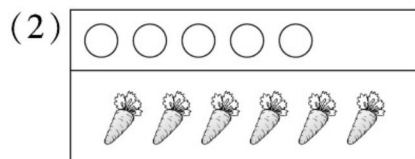
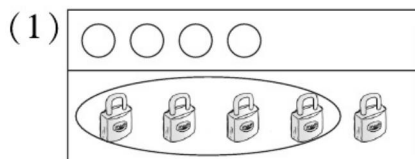


1 准备课应用题(1)

1. 数一数,连一连。




2. 照样子,圈一圈。



3. 把与数字同样多的部分圈起来。



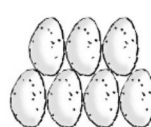
4



5



7






6



2 准备课应用题(2)

1. 把同样多的用线连起来。



2. 比一比。

在少的后面画“√”。



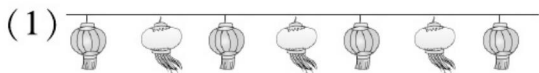
在多的后面画“○”。



3. 在多的后面画“√”。



4. 在多的后面画“√”。





3 位置应用题(1)

1. 圈出正确答案。

(1)




鸟在树的(上 下)面。

蛇在鸟的(上 下)面。

猫在象的(前 后)面。

象在球的(前 后)面。

(2)



① 兔的上面是(猫 猴), 象的下边的(鸭 兔)。


② 鸭的前面是(猴 象), 后面是(兔 猫)。

③ 猫的下边是(象 马), 前面是(鸭 兔)。

2. 分房子。(连一连)



我住二层。



我住在小猫下面的一层。



我住在小猪的上面。

我住在小猫上面的一层。






4 位置应用题(2)

1. 填“左”或“右”。



① 葡萄在西瓜的()边,香蕉在西瓜的()边。

② 苹果在葡萄的()边,草莓在菠萝的()边。




爸爸的()手牵着宝宝。

妈妈的()手牵着宝宝。

宝宝的()边是爸爸。

宝宝的()边是妈妈。

2. 填一填。



梨在西瓜的()面,胡萝卜在苹果的()边,

草莓在蘑菇的()边,蘑菇在苹果的()面。

3. 帮小动物找家。(连一连)

最左边是我的家,
我家右边是小狗的家。



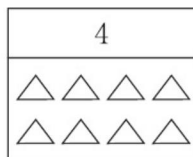
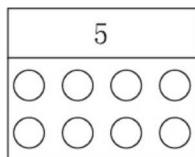
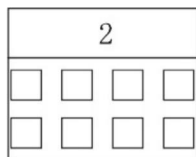
我家左边是小狗的家,
我家右边是小马的家。



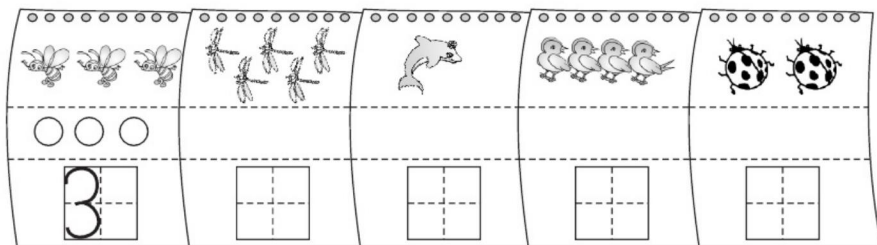


5 1~5 的认识和加减法应用题(1)


1. 看数涂色。



2. 数一数,画一画,写一写。



3. 数一数,图中的水果各有几个?



苹果()个, 桃子()个,
 梨()个, 香蕉()个,
 菠萝()个。

4. 接着画。

(1)

5
<input type="checkbox"/> <input type="checkbox"/> <input type="checkbox"/>

☐ ☐ _____

(2)

5
<input type="checkbox"/> <input type="checkbox"/> <input type="checkbox"/>

☐ ☐ ☐ _____

(3)

4
<input type="checkbox"/> <input type="checkbox"/> <input type="checkbox"/>

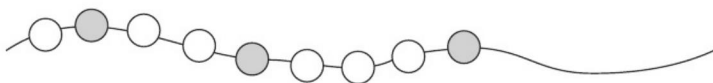
☐ ☐ ☐ _____

(4)

4
<input type="checkbox"/> <input type="checkbox"/> <input type="checkbox"/>

☐ ☐ _____

5. 按规律接着画出 5 个珠子。





必刷应用题

6 1~5 的认识和加减法应用题(2)

1. 圈一圈,比一比。

	花比叶(多,少) $4 \bigcirc 3$ 叶比花(多,少) $3 \bigcirc 4$
	帽比衫(多,少) $4 \bigcirc 2$ 衫比帽(多,少) $2 \bigcirc 4$

2. 涂一涂,比一比。

和 同样多 $3 = 3$
 比 多 $\square \bigcirc \square$
 比 少 $\square \bigcirc \square$

3. 我能排好队。(按号的大小排列)

2 3 5 4 1
 () > () > () > () > ()

4. 填一填,并在正确答案后面画“√”。

(1)

一只猫吃一条鱼,鱼够吃吗?

 $\square > \square$ 够 \square 不够 \square

(2)


下雨了,每人一把伞,够吗?

 $\square < \square$ 够 \square 不够 \square




7 1~5 的认识和加减法应用题(3)

1. 看图填一填。



一共有()个小朋友在跑步。()号跑第 1 名,1 号跑第()名。

2. 他们分别是谁? 请写上名字。



() () (小丽) ()

(1) 小文在小丽的左边。

(2) 从右往左数,小明排第 1,小红排第 4。

3. 数一数,填一填。



(1) 一共有()盆花,从左数,开 3 朵花的是第()盆。

(2) 从左数,开 1 朵花的是第()盆。

(3) 开花最多的是从右数第()盆。

4. 大客车从右数是第 4 辆。大树挡住了()辆车。

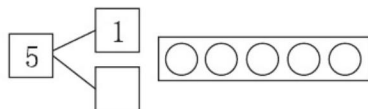
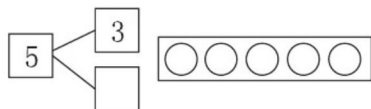
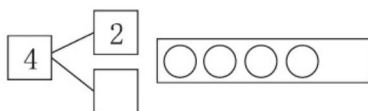
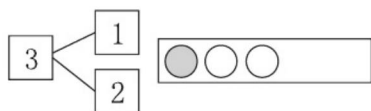




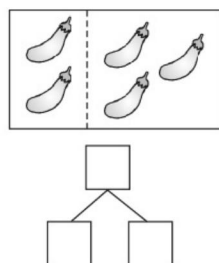
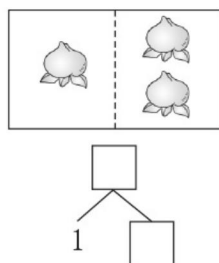
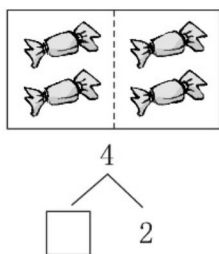
必刷应用题

8 1~5 的认识和加减法应用题(4)


1. 照样子涂一涂, 填一填。



2. 看图填一填。



3. 把 5 根萝卜分给两只小兔。



(1) 每只小兔能分得同样多的萝卜吗? 在正确答案后面画“√”。

能 ☐

不能 ☐

(2) 如果让你来分, 你会怎样分?

第一只小兔					
第二只小兔					



9 1~5 的认识和加减法应用题(5)

1. 先画一画,再填得数。


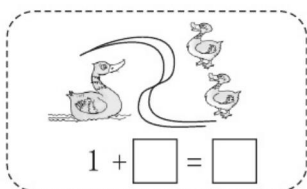
$2 + 1 = \square$

$4 + 1 = \square$

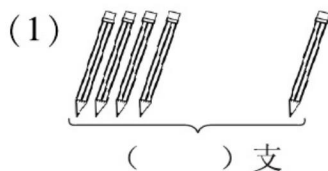
$3 + 2 = \square$

○○ ○

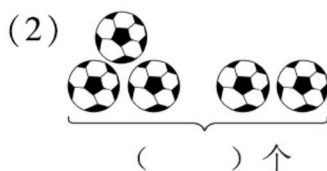
2. 一共有多少?



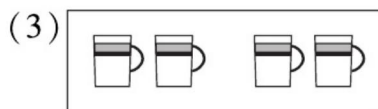
3. 说一说,填一填。



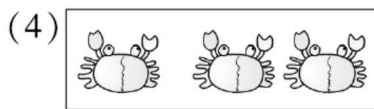
$\square + \square = \square$



$\square + \square = \square$



$\square + \square = \square$



$\square + \square = \square$

4. 算一算。

$3 + 1 = \square$

$2 + 1 = \square$

$3 + 2 = \square$

$1 + 4 = \square$

$2 + 3 = \square$

$2 + 2 = \square$



10 1~5 的认识和加减法应用题(6)

1. 划一划, 填一填。



$$3 - 1 = \square$$



$$5 - 3 = \square$$



$$4 - 2 = \square$$



$$5 - 4 = \square$$

2. 看图列式计算。



$$4 - 2 = \square$$

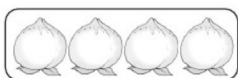


$$5 - \square = \square$$



$$\square - \square = \square$$

3. 数一数, 填一填。



\square



\square




\square



\square

每次少
() 个。

4. 一只猴子吃一个桃子, 还差几个桃子?



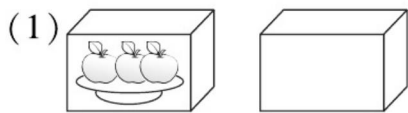
猴子有()只, 桃子有
()个, 还差()个
桃子。

$$\square \bigcirc \square = \square$$

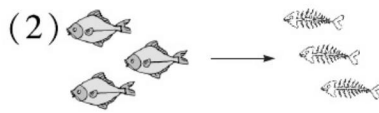


11 1~5 的认识和加减法应用题(7)

1. 看图列式计算。



$$3 + \square = \square$$



$$\square - \square = \square$$

2. 还有几个苹果?

树上有 \square 个	$5 - \square = \square$	$4 - \square = \square$	$2 - \square = \square$

3. 在得数是 0 的算式下面画“○”。

$0 + 0$

☐

$3 - 2$

☐

$1 - 1$

☐


$5 - 5$

☐

$0 + 4$

☐

4. 读问题,列算式选一选。



(1) 每人 1 双 还差几双?

$$\square - \square = \square$$

(2) 每人一个 , 够吗? 在正确答案后面画“√”。

$$\square - \square = \square$$

够

不够

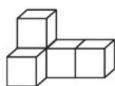


12 认识图形(一)应用题

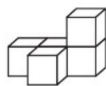
1. 数一数,下面的图形各由几个小正方体组成?



()个

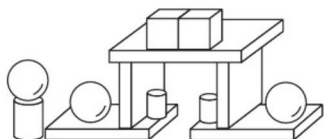


()个



()个

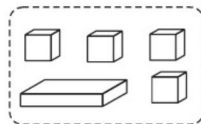
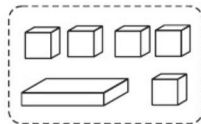
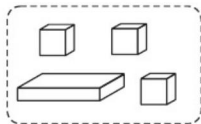
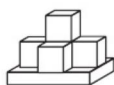
2. 数一数,填一填。



长方体有()个,正方体有()个,

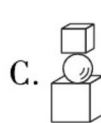
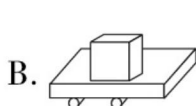
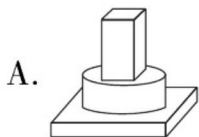
圆柱有()个,球有()个。

3. 在能搭出左图的积木下面画“√”。

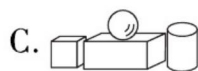
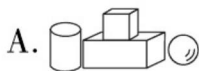


4. 选一选。

(1) 下面三组积木中,搭得最稳的是()。



(2) 先放一个长方体,在它的左边放一个球,上面放一个正方体,右边放一个圆柱,下面摆法正确的是()。





13 6~10 的认识和加减法应用题(1)


1. 圈起左边 6 朵, 再把右起第 7 朵涂上红色。




2. 把合起来是 7 的两张卡片涂上相同的颜色。




3. 照样子, 填一填。



4. 看一看, 填一填。

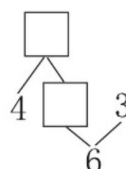
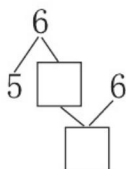
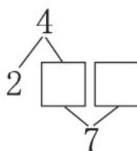


$$2 + 4 = \square$$



$$\square + \square = \square$$


5. 在 \square 里填上合适的数。





14 6~10 的认识和加减法应用题(2)


1. 填一填。



左边有 只, 右边有

只, 一共有几只?

$$\square \bigcirc \square = \square (\text{只})$$



一共有 只, 左边有

只, 右边有几只?

$$\square \bigcirc \square = \square (\text{只})$$

2. 游泳池里有 人, 岸上有 人。一共有多少人?




$$\square \bigcirc \square = \square (\text{人})$$

3. 每人一把雨伞, 还差几把?



$$\square \bigcirc \square = \square (\text{把})$$

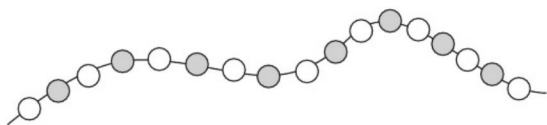
4. 每个筐里最少放 2 个, 可以怎样放, 用加法算式表示。






15 6~10 的认识和加减法应用题(3)

1. 填一填,比一比。

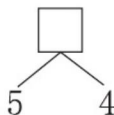
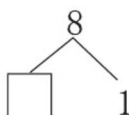
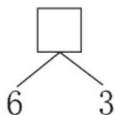
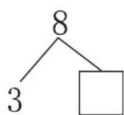


○()个 ●()个 □○□

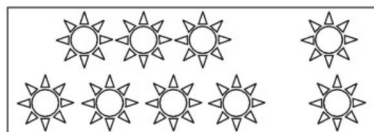

2. 哪两张卡片上的点数合起来是8? 连一连。



3. 分与合。



4. 看图填一填。



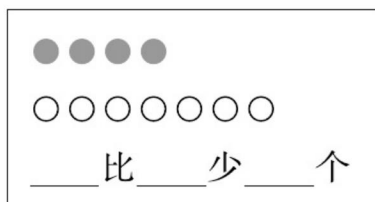
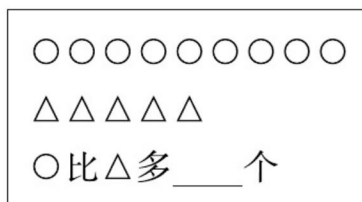
$$3 + 5 = \square \quad 8 - \square = \square$$

$$\square + \square = \square \quad \square - \square = \square$$

$$5 + \square = \square \quad 8 - \square = \square$$

$$\square + \square = \square \quad \square - \square = \square$$

5. 比一比,填一填。



○比△多____个

____比____少____个

$$\square \bigcirc \square = \square$$


$$\square \bigcirc \square = \square$$



16 6~10 的认识和加减法应用题(4)

1. 看图列式计算。


(1)



一共有几只?

$$\square \bigcirc \square = \square (\text{只})$$

(2) 一共有 9 只。



飞走了几只?

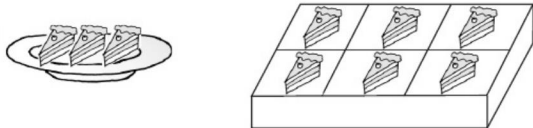
$$\square \bigcirc \square = \square (\text{只})$$

2. 原来有()把椅子,搬走了()把,还剩()把。



$$\square \bigcirc \square = \square (\text{把})$$

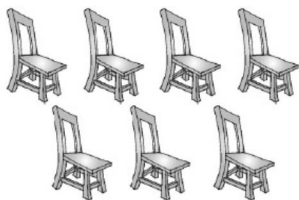
3.



原来有 3 块 , 又买来了()块, 现在一共有()块。

$$\square \bigcirc \square = \square (\text{块})$$

4. 要来 9 人, 每人一把椅子, 还需要几把椅子?



$$\square \bigcirc \square = \square (\text{把})$$




17 6~10 的认识和加减法应用题(5)

1. 连一连。(凑成 10)



2. 算一算。



$$10 - \begin{array}{|c|} \hline 2 \\ \hline 4 \\ \hline 6 \\ \hline 8 \\ \hline 10 \\ \hline \end{array} = \begin{array}{|c|} \hline \\ \hline \\ \hline \\ \hline \\ \hline \end{array}$$

3. 看图列式计算。


(1)



一共有多少只小鸟?

$$\square \bigcirc \square = \square (\text{只})$$

(2) 一共有 10 个草莓。



还剩几个?

$$\square \bigcirc \square = \square (\text{个})$$

4. 草丛里有几只?



一共有 10 只。

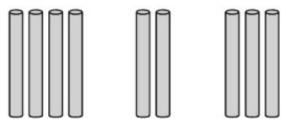


$$\square \bigcirc \square = \square (\text{只})$$

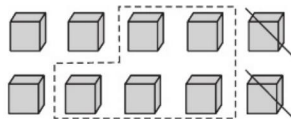


18 6~10 的认识和加减法应用题(6)

1. 填一填。



$$4 + \square + \square = \square$$




$$10 - 2 - \square = \square$$

2. 一共有几个足球?



$$\square \bigcirc \square \bigcirc \square = \square (\text{个})$$

3. 一共有 9 个橘子,箱子里有几个?



$$\square \bigcirc \square \bigcirc \square = \square (\text{个})$$

4. 10 个小朋友排队,小红后面有几个人?

我前面有 4 人。




$$\square \bigcirc \square \bigcirc \square = \square (\text{人})$$



19 6~10 的认识和加减法应用题(7)

1. 看图列式计算。



$$6 - \square + \square = \square$$

$$\square \bigcirc \square \bigcirc \square = \square$$

2. 还剩下几朵?



我做了5朵,
你做了4朵。



我们送6朵给小
班的小朋友吧。




$$\square \bigcirc \square \bigcirc \square = \square (\text{朵})$$

3. 车上原来有7人,现在有几?



$$\square \bigcirc \square \bigcirc \square = \square (\text{名})$$

4. 原来有5个小朋友在跳绳,有2个小朋友走了,又跑来5个小朋友,现在一共有几个小朋友在跳绳?



$$\square \bigcirc \square \bigcirc \square = \square (\text{人})$$



20 11~20 各数的认识应用题(1)

1. 

(1) 一共有()颗星。

(2) 给从左边数的第5颗星涂上红色,把右边的8颗星圈起来。

2. 它们是谁? 猜一猜。



()



()



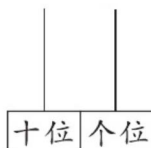
()



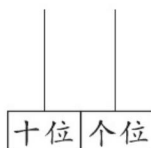
()

3. 小明的学号是一个两位数,个位上是4,十位上的数比个位上的数少3。小明的学号是多少?

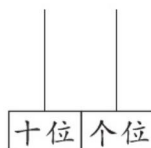
4. 有2个算珠,在计数器上可以表示哪些数? 画一画,写一写。



()



()



()




21 11~20 各数的认识应用题(2)

1. 它们一共钓了多少条鱼?



$$\square \bigcirc \square = \square (\text{条})$$

2. 要来 18 个人, 每人一把椅子, 还需要多少把椅子?

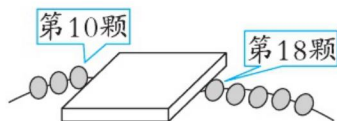


$$\square \bigcirc \square = \square (\text{把})$$

3. 小小图书馆买来一批新书, 按顺序给每本书编号, 从 8 编到 19。一共买来新书多少本?



4. 小明用珠子穿链子, 有一段卡在了盒子里, 你知道盒子里有几颗珠子吗?





22 认识钟表应用题

1. 圈出正确的时刻。



12:00
9:00



快1时了
11时过一点儿

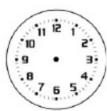


1:00
大约6时



6:00
12:00

2. 找规律,在最后一个钟面上画上时针和分针。



3. 小冬早上 9:00 到公园打球,他从家到公园要 1 小时。他 () 时从家出发,在钟面上画出时针和分针。



1小时



4. 小熊请小动物们吃晚饭。(表示的时间均是下午或晚上)









(1) 小熊的朋友们分别是什么时间到的? 在图下的方框里填一填。

(2) 小熊准备晚上 7:00 开饭,哪些朋友没有迟到? 请你在它旁边的□里画“√”。

(3) () 来得最早,比开饭时间早到 () 小时。




23 20 以内的进位加法应用题(1)

1. 左边有 个足球, 右边有 个, 一共有 个。



$$\square \bigcirc \square = \square (\text{个})$$

2. 原来有 人在溜冰, 又来了 人, 一共有 人。



$$\square \bigcirc \square = \square (\text{人})$$

3. 它们一共吃了多少条鱼?



我吃了9条鱼。

我和你吃得同样多。



$$\square \bigcirc \square = \square (\text{条})$$

4. 一共有多少只小熊?

我前面有9只小熊。




我后面有3只小熊。



24 20 以内的进位加法应用题(2)

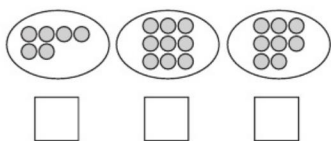
1.



树下有()个桃子,树上有()个桃子,一共有多少个桃子?

$$\square \bigcirc \square = \square (\text{个})$$


2. 选哪两堆比较合适? 在□里画“√”。



幼儿园大班有17人,每人一个球。



3. 盒子外面有()瓶,盒子里面有()瓶,一共有多少瓶?



$$\square \bigcirc \square = \square (\text{瓶})$$

4. 淘气两次得了15分,他可能投中了哪两个? 用算式表示。



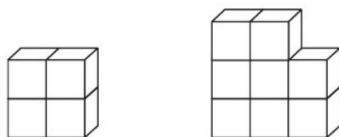
$$\square \bigcirc \square = \square$$

$$\square \bigcirc \square = \square$$



25 20 以内的进位加法应用题(3)

1. 一共有多少块积木?



$$\square \bigcirc \square = \square (\text{个})$$

2. 小华买了两盆花,最多有多少朵花? 最少有多少朵花?



最多: $\square \bigcirc \square = \square (\text{朵})$

最少: $\square \bigcirc \square = \square (\text{朵})$

3. 他们一共拍了多少下?

我拍了3下。



我拍了9下。



$$\square \bigcirc \square = \square (\text{下})$$

4. 一共有多少只蚂蚁在搬运食物?



$$\square \bigcirc \square = \square (\text{只})$$



26 20 以内的进位加法应用题(4)

1. 一共有多少片树叶?



方法一: $\square \bigcirc \square = \square$ (片)

方法二: $\square \bigcirc \square = \square$ (片)

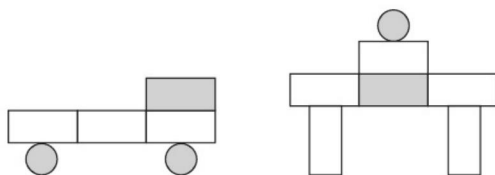
2. 一共有多少把雨伞?



方法一: $\square \bigcirc \square = \square$ (把)

方法二: $\square \bigcirc \square = \square$ (把)

3. 一共有多少块积木? 用三种方法计算。



方法一: _____

方法二: _____

方法三: _____



27 20 以内的进位加法应用题(5)

1. 小军原来有多少元?



小军


买书后还剩5元。



8元

$$\square \bigcirc \square = \square (\text{元})$$

2. 一共有多少颗糖?




吃了6颗,
还剩8颗。



$$\square \bigcirc \square = \square (\text{颗})$$

3. 已经游走了9只,原来有多少只鸭子?



$$\square \bigcirc \square = \square (\text{只})$$

4. 小明做了9道应用题,小强和小明做得同样多。

$$\square \bigcirc \square = \square (\text{道})$$

他们一共做了
多少道应用题?





部分参考答案

p2

1.



2.



3.



4.

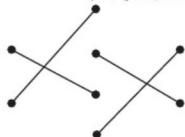


p3

1.

(1) ①上 下 前 后
(2) ①圈狐狸 圈兔 ②圈象
圈狐狸 ③圈马 圈鸭

2.



p4


1.

(1) ①左 右 ②左 右
(2) 右 左 左 右

2.

上 右 左 下

3.



p5

2.

5 1 4 2 (画一画略)

3.

5 4 2 3 1

4.

(1) ○○○○ (2) □□ (3) △
(4) ○○

5.

○○○○●

p6

1.

多 > 少 <
多 > 少 <

3.

5 4 3 2 1

4.

(1) 5 3 ☒ ☐
(2) 3 4 ☐ ☒

p7

1.

5 3 3

2.

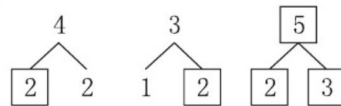
小红 小文 小明

3. (1) 5 4 (2) 3 (3) 4

4. 3

p8

2.



3.

(1) ☐ ☒

(2)	第一只小兔	1	2	3	4
	第二只小兔	4	3	2	1

p9

1.

3 5 5

2.

1 + = + 1 =

3.

(1) 5 4 + 1 = 5 (2) 5 3 + 2 = 5
(3) 2 + 2 = 4 (4) 1 + 2 = 3

4.

4 3 5 5 5 4

p10

1.

(1) 2 (2) 2 (3) 2 (4) 1

2.

2 5 - = - 1 =

3.

4 3 2 1 1

4.

4 3 1 4 - 3 = 1

p11

1.

(1) 3 + =

(2) - =

2.

5 - =

4 - = 2 - =

3.

4.

(1) 4 - 2 = 2

(2) 4 - 4 = 0 ☒ ☐

p12

1.

4 5 5

2.

5 2 3 3

3.

☒

4.

(1) A (2) B

p13

3.

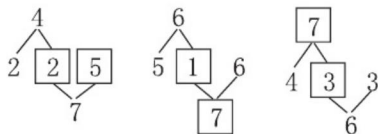
7 5 6 6

4.

2 + 4 = + =



5.



p14

1. (1) $5 + 2 = 7$
(2) $6 - 2 = 4$
2. $3 + 4 = 7$
3. $6 - 4 = 2$
4. $3 + 4 = 7$ $4 + 3 = 7$
 $2 + 5 = 7$ $5 + 2 = 7$

p15

1. $9 > 8$ 或 $8 < 9$
3. $5 > 7$ $9 > 7$
4. $3 + 5 = 8$ $8 - 3 = 5$
 $5 + 3 = 8$ $8 - 5 = 3$
 $7 + 2 = 9$ $9 - 7 = 2$
 $2 + 7 = 9$ $9 - 2 = 7$
5. $4 + 9 - 5 = 4$
● ○ $3 + 7 - 4 = 3$

p16

1. (1) $4 + 4 = 8$ (2) $9 - 6 = 3$
2. $8 - 2 = 6$
3. $6 + 3 = 9$
4. $9 - 7 = 2$

p17

- 1.
2. $8 + 6 + 4 + 2 = 0$
3. (1) $5 + 5 = 10$ (2) $10 - 2 = 8$
4. $10 - 4 = 6$

p18

1. $4 + 2 + 3 = 9$
 $10 - 2 - 5 = 3$
2. $4 + 3 + 2 = 9$
3. $9 - 4 - 3 = 2$
4. $10 - 4 - 1 = 5$

p19

1. $6 - 1 + 2 = 7$ $6 - 4 + 3 = 5$
2. $5 + 4 - 6 = 3$
3. $7 + 3 - 2 = 8$ 或 $7 - 2 + 3 = 8$

4. $5 - 2 + 5 = 8$

p20

1. (1) 12
2. 15 20 19 16
3. 14
4. 20 2 11

p21

1. $11 + 5 = 16$
2. $18 - 6 = 12$
3. $19 - 8 + 1 = 12$ (本)
4. $18 - 10 - 1 = 7$ (颗)

p22

1. 9:00 快1时了 大约6时
6:00
2. 时针指向10,分针指向12。
3. 8 时针指向8,分针指向12。
4. (1) 7:00 4:00 6:00 8:00
(2) ☒ ☒ ☒ ☐
(3) 黄牛 3

p23

1. $9 + 6 = 15$
2. $9 + 3 = 12$
3. $9 + 9 = 18$
4. $9 + 3 + 1 = 13$ (只)

p24

1. $8 + 5 = 13$
2. ☐ ☒ ☒
3. $6 + 8 = 14$
4. $6 + 9 = 15$ $7 + 8 = 15$

p25

1. $4 + 8 = 12$
2. $5 + 6 = 11$ $5 + 3 = 8$
3. $3 + 9 = 12$
4. $4 + 7 = 11$

p26

1. $6 + 8 = 14$ $7 + 7 = 14$
2. $8 + 7 = 15$ $6 + 9 = 15$
3. $6 + 7 = 13$ $5 + 8 = 13$ $10 + 3 = 13$

p27

1. $8 + 5 = 13$
2. $6 + 8 = 14$
3. $6 + 9 = 15$
4. $9 + 9 = 18$

✓ 提升运算能力 ✓ 强化口算速度
✓ 培养口算习惯 ✓ 提高数学成绩

图书在版编目(CIP)数据

口算·应用题整合集训. 一年级. 上册 / 王运才主编.
—海口: 南海出版公司, 2015.6 (2019.7重印)
ISBN 978-7-5442-7788-4

I. ①口… II. ①王… III. ①速算—小学—习题集 ②
应用题—小学—习题集 IV. ①G624.505

中国版本图书馆CIP数据核字(2015)第100918号

KOUSUAN·YINGYONGTI ZHENGHE JIXUN·YI NIANJI SHANGCE
口算·应用题整合集训·一年级上册

主 编 王运才
责任编辑 张 媛 曹冬育
装帧设计 杨西福
出版发行 南海出版公司
电话: (0898) 66568511(出版)
(0898) 65350227(发行)
社 址 海南省海口市海秀中路51号星华大厦五楼
邮编: 570206
电子信箱 nhpublishing@163.com
经 销 新华书店
印 刷 北京中振源印务有限公司
开 本 787毫米×1092毫米 1/16
印 张 4.5
字 数 113千
书 号 ISBN 978-7-5442-7788-4
定 价 26.80元

南海版图书 版权所有 盗版必究

责任编辑: 张 媛 向文雯
封面设计: 杨西福

定价: 26.80元

ISBN 978-7-5442-7788-4

