



► 与九年义务教育教科书配套使用

口算应用题整合集训

口算题卡

口算 竖式口算 脱式口算

教辅资料站

电子教辅 试卷练习
知识总结 备课资源



王运才/主编

—— 扫码关注获取更多学习资料 ——



一年级 上册



南海出版公司



► 与义务教育最新**课程标准**教材配套使用

口算应用题整合集训

口算题卡

口算 竖式口算 脱式口算

王运才/主编

班级_____

一年级 上册

姓名_____



前 言

本书根据最新教学大纲以及现行最新课本编写，目的是培养学生学习数学的兴趣，对学生进行扎实口算、笔算技能训练，提高计算的速度和准确率。

本套书以计算为主，紧密结合各单元的教学目标，与课本同步，注重对学生基本口算能力和运算速度的训练。每页一般为两道大题，第一题主要是针对教材例题所设置的口算题，第二题主要是针对相关例题设置的竖式计算、脱式计算以及简便计算等。对于教材中没有涉及计算的例题，复习的是前面所学的关于计算的内容。

书中每页一次练习，需时 10~15 分钟，难度适中，既可在课内完成，也可作为家庭作业使用。坚持使用本书练习，运算速度会得到明显提升，计算的正确率也会达到满意的效果。真心希望本套书能够成为老师教学的好伴侣，学生学习的好伙伴。

编 者



微信公众号
教辅资料站

目 录

可爱的校园

可爱的校园	1
-------------	---

第一单元 生活中的数

1. 快乐的家园(1)	2
2. 快乐的家园(2)	3
3. 玩 具	4
4. 小猫钓鱼	5
5. 小 结	6
6. 文具(1)	7
7. 文具(2)	8
8. 快乐的午餐	9
9. 动物乐园	10
10. 整理与复习	11

第二单元 比 较

1. 过生日	12
2. 下课啦	13
3. 跷跷板	14
4. 整理与复习	15

第三单元 加与减(一)

1. 一共有多少(1)	16
2. 一共有多少(2)	17
3. 还剩下多少(1)	18
4. 还剩下多少(2)	19
5. 可爱的小猫	20
6. 小结(1)	21
7. 猜数游戏	22
8. 背土豆	23
9. 小结(2)	24
10. 跳绳(1)	25
11. 跳绳(2)	26
12. 可爱的企鹅	27
13. 小鸡吃食	28
14. 小结(3)	29
15. 乘车(1)	30
16. 乘车(2)	31
17. 做个加法表	32

18. 做个减法表	33	2. 古人计数(2)	48
19. 整理与复习	34	3. 搭积木	49
第四单元 分 类		4. 有几瓶牛奶	50
1. 整理房间	35	5. 有几棵树	51
2. 一起来分类(1)	36	6. 有几只小鸟	52
3. 一起来分类(2)	37	7. 做个加法表	53
4. 整理与复习	38	8. 整理与复习	54
第五单元 位置与顺序		数学好玩	
1. 前 后	39	1. 淘气的校园	55
2. 上 下	40	2. 一起做游戏	56
3. 左 右	41	第八单元 认识钟表	
4. 教 室	42	1. 小明的一天	57
5. 整理与复习	43	2. 整理与复习	58
第六单元 认识图形		总复习	
1. 认识图形	44	1. 总复习(1)	59
2. 我说你做	45	2. 总复习(2)	60
3. 整理与复习	46	3. 总复习(3)	61
第七单元 加与减(二)		4. 总复习(4)	62
1. 古人计数(1)	47	参考答案	
			63

可爱的校园

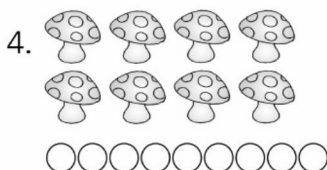


可爱的校园




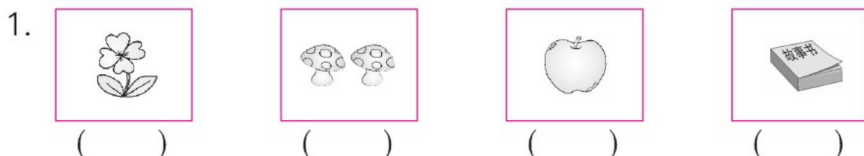
___月___日

用时: ___分___秒



一、照样子数一数,再涂色。



二、哪个框里的物体数量与其他框里的不一样?在()里画“√”。



三、把上下同样多的用线连起来。



自我评价

☐ 真棒

☐ 很好

☐ 继续努力



第一单元 生活中的数

1. 快乐的家园 (1)



___月___日

用时: ___分___秒

一、看数涂色。

△△△△△

2


○○○○○

5

□□□□□


4

二、数一数,在方框里画出相同数量的△。

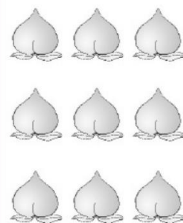


三、照样子,圈一圈。

1.




2.




四、把比给出的数多出的物体用“\”划掉。


4



3



2



2. 快乐的家园 (2)



___月___日

用时: ___分___秒

一、根据给出的数,画出缺少的□。

4

□□

7

□□□

9

□□□□□

二、连一连。



2

3

4

5

6

7

8

9


10

1



三、看一看,说一说。



有几只海狮? 第几只是  ?



自我评价

☐ 真棒

☐ 很好

☐ 继续努力


















3. 玩 具



___月___日

用时: ___分___秒

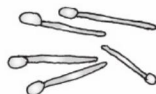
一、数一数,描一描,写一写。

						/	/	/						
							2	2	2					
								3	3	3				
									4	4	4			
										5	5	5		

二、数一数,写出每一种物品的个数。











三、看数涂色。



3



5



2



4



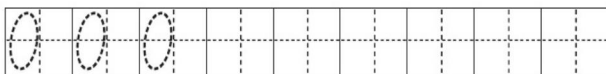
4. 小猫钓鱼







___月___日

用时: ___分___秒

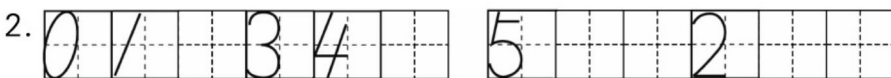
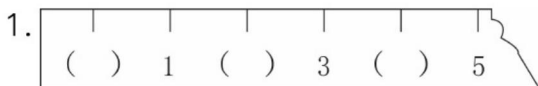
一、读一读,写一写。



二、数一数,写一写。




三、填一填。



四、数方格填数。



看一看,你发现了什么?



0 () 2 3 () ()



自我评价

☐ 真棒

☐ 很好

☐ 继续努力




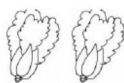
5. 小结





___月___日

用时: ___分___秒

一、数一数,填一填。



二、连一连。




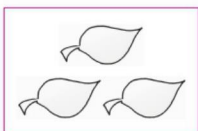

①

②

③

④

⑤



三、照样子圈一圈。



(3 4 ⑤) (3 4 5) (1 3 2) (1 3 2)



四、请把排错队的小鸟圈出来。





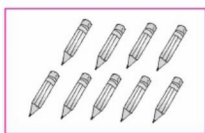
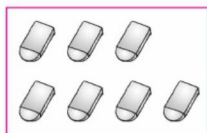
6. 文具 (1)



___月___日


用时: ___分___秒

一、看图写数。




二、看数接着画。

8



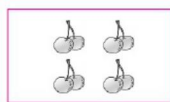
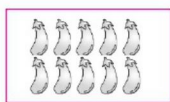


6



7



三、连一连。



6

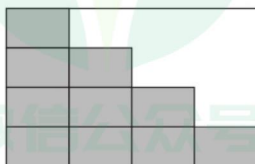
7

10

8

9

四、先画一画,再数一数,还要几块才能铺满?



自我评价

☐ 真棒

☐ 很好

☐ 继续努力



7. 文具 (2)



___月___日

用时: ___分___秒

一、按规律填数。

1		3				7		9	
---	--	---	--	--	--	---	--	---	--

10	9		7				3		
----	---	--	---	--	--	--	---	--	--

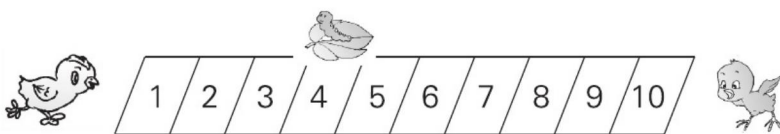
2	4			10		7	5		1
---	---	--	--	----	--	---	---	--	---

二、

2	8	7	3	6	5	9	1	0	4
---	---	---	---	---	---	---	---	---	---

第2张是8,第6张是(),第10张是()。

三、两只小鸡跑得一样快,谁先吃到 , 把它圈起来。

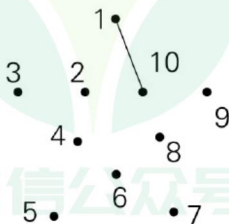


四、根据规律再画出一组。

1. □ □□ □□□□□ _____

2. ○○○○○○○○○ ○○○○○○○○ _____

五、按 1, 2, 3, …, 10 的顺序连线。



8. 快乐的午餐



___月___日

用时: ___分___秒

一、画一画。

1. 画△, △比□多。



2. 画○, ○比☆少。




3. 画□, □和○一样多。



4. 画□, □和☺一样多。



二、小朋友选衣服。(在正确答案后面的□里画“√”)



1. 每个小朋友各选一件上衣, 够不够?

够 ☐ 不够 ☐

2. 每个小朋友各选一条裙子, 够不够?

够 ☐ 不够 ☐

三、比一比, 最多的画“√”, 最少的画“△”。

1. ☐

2. ☐



自我评价

☐ 真棒

☐ 很好

☐ 继续努力



9. 动物乐园



___月___日

用时: ___分___秒

一、在○里填上“>”“<”或“=”，在()里填上合适的数。

$2 \bigcirc 4$

$7 \bigcirc 5$

$4 \bigcirc 3$

$2 \bigcirc 3$

$3 \bigcirc 5$

$8 \bigcirc 8$

$5 \bigcirc 9$

$1 \bigcirc 10$

$4 < (\quad)$

$8 > (\quad)$

$3 < (\quad)$

$4 > (\quad)$


$7 < (\quad)$

$(\quad) > 2$

$9 = (\quad)$

$(\quad) < 6$

二、比一比，在□里填数，在○里填“>”“<”或“=”。



$4 < \square$

$2 \bigcirc 2$

$\square > \square$

三、圈一圈，比一比。



☆和🐙同样多 $\square \bigcirc \square$



🍄比🐙(多, 少) $\square \bigcirc \square$



🦀比🐙(多, 少) $\square \bigcirc \square$

四、给蜻蜓排排队。



___ < ___ < ___ < ___ < ___



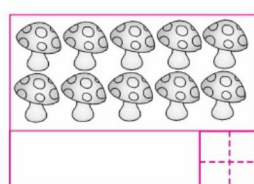
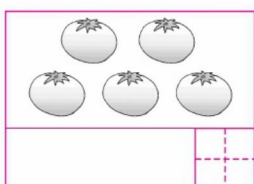


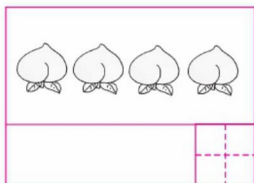
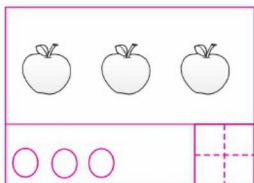
10. 整理与复习



___月___日

用时：___分___秒

一、画一画，写一写。



二、填一填。




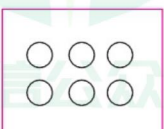
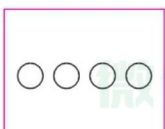

比 少 () 个, 比 多 () 个。

三、在正确答案的下面画“√”。

1. 比 5 大又比 8 小的数有: ☐ 9 ☐ 6 ☐ 8 ☐ 3 ☐ 7

2. 4 后面的第 3 个数是: ☐ 6 ☐ 7 ☐ 8

四、找规律画一画。



自我评价

☐ 真棒

☐ 很好

☐ 继续努力



第二单元 比 较

1. 过生日



___月___日

用时: ___分___秒

一、大的画“√”，小的画“×”。

1.



2.



二、最大的画“△”，最小的画“○”。




三、装水多的画“√”，装水少的画“○”。



四、在下面每个水杯里各放入一个铁块，三个水杯的水面一样高。


想一想，原来几号杯里的水最多，几号杯里的水最少？



①



②



③

()号杯里的水最多，()号杯里的水最少。



2. 下课啦



___月___日

用时: ___分___秒

一、长的画“√”，短的画“○”。


☐

2.


☐

☐

☐

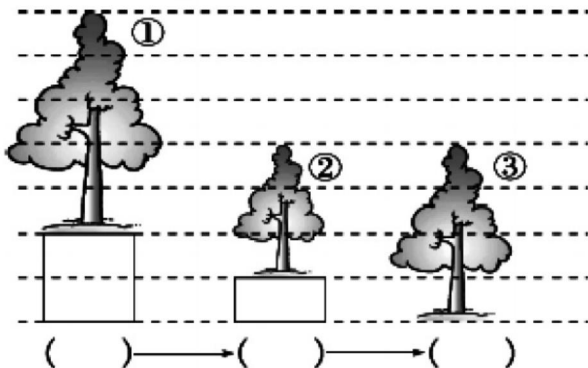
二、最高的画“√”，最矮的画“○”。


☐

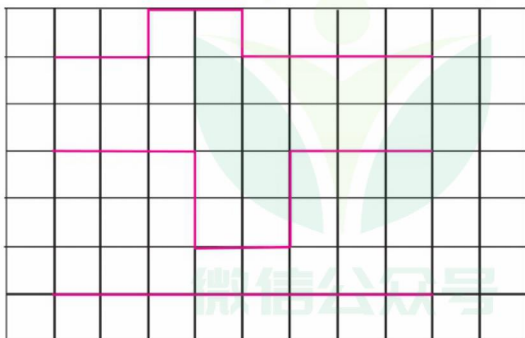
☐

☐

三、从高到矮排一排。



四、走的路线最长的画“√”，最短的画“○”。


☐
☐
☐


自我评价

☐ 真棒

☐ 很好

☐ 继续努力



3. 跷跷板

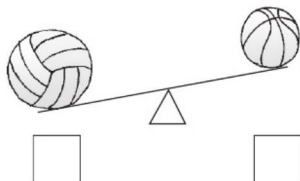


___月___日

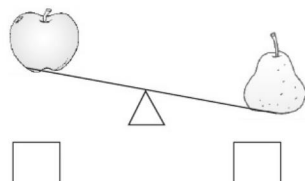
用时：___分___秒

一、轻的画“√”，重的画“○”。

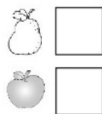

1.






2.



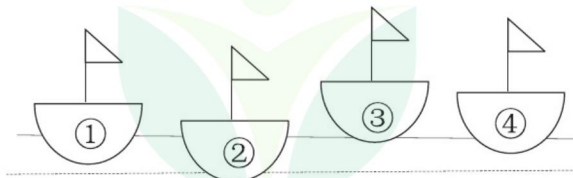
二、轻的画“√”，重的画“×”。



三、下面四个动物中，最重的画“√”，最轻的画“○”。



四、把船按从重到轻的顺序排列起来。



() > () > () > ()



4. 整理与复习



___月___日

用时: ___分___秒

一、长的画“√”，短的画“×”。




1. _____ ☐

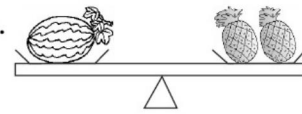


_____ ☐

2.  ☐


 ☐

二、轻的画“○”，重的画“√”。

1. 
 ☐  ☐

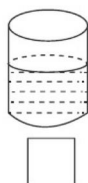
2. 
 ☐  ☐

三、把下面的小朋友按从高到矮的顺序排一排。



() → () → ()

四、原来的饮料一样多，现在是小亮、小红和小明喝剩下的饮料，你知道谁喝的最少吗？在下面画“√”。



小亮



小红



小明



自我评价

☐ 真棒

☐ 很好

☐ 继续努力



第三单元 加与减(一)

1. 一共有多少(1)



___月___日

用时: ___分___秒

一、填一填。



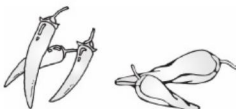
$$1 + 2 = \square$$



$$2 + 2 = \square$$



$$4 + 1 = \square$$



$$3 + 2 = \square$$

二、算一算。

$$3 + 1 =$$

$$2 + 1 =$$

$$3 + 2 =$$

$$1 + 4 =$$

$$2 + 3 =$$

$$2 + 2 =$$


$$1 + 1 =$$

$$1 + 3 =$$

$$4 + 1 =$$

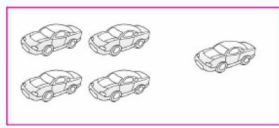
三、看图列式计算。

1.



$$\square + \square = \square$$

2.




$$\square + \square = \square$$

3.



$$\square \bigcirc \square = \square$$

4.



$$\square \bigcirc \square = \square$$



2. 一共有多少 (2)



___月___日

用时: ___分___秒

一、摆一摆,算一算。



$$\square + \square = \square$$



$$\square + \square = \square$$

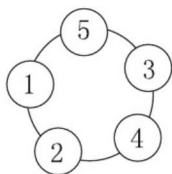


$$\square + \square = \square$$



$$\square + \square = \square$$

二、先把能组成 5 的两个数连起来,再写出加法算式。




$$\square + \square = \square \quad \square + \square = \square$$

$$\square + \square = \square \quad \square + \square = \square$$

三、帮小动物找家。(连一连)




$$2+1$$



$$1+1$$



$$1+3$$



$$2+3$$



四、我来解密码。

$$\text{Apple} + \text{Pear} = 4$$

$$\text{Pear} + 4 = 5$$

$$\text{Apple} = (\quad)$$

$$\text{Pear} = (\quad)$$



自我评价

☐ 真棒

☐ 很好

☐ 继续努力



3. 还剩下多少 (1)



___月___日

用时: ___分___秒

一、圈一圈,填一填。

1.



$$3 - 1 = \square$$

2.



$$5 - 4 = \square$$

3.



$$4 - 3 = \square$$

4.



$$5 - 2 = \square$$

二、算一算。

$$5 - 1 =$$

$$5 - 4 =$$

$$3 - 1 =$$

$$4 - 2 =$$

$$5 - 2 =$$

$$4 - 1 =$$

$$3 - 2 =$$

$$4 - 3 =$$

$$2 - 1 =$$

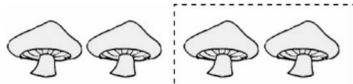
三、看图列式计算。

1.



$$\square - \square = \square$$

2.



$$\square - \square = \square$$

3.



$$\square - \square = \square$$

4.



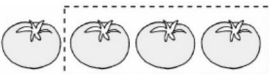
$$\square - \square = \square$$

5.



$$\square - \square = \square$$

6.



$$\square - \square = \square$$



4. 还剩下多少 (2)



___月___日

用时: ___分___秒

一、填一填。

1. $\bigcirc \bigcirc \bigcirc \boxed{\bigcirc \bigcirc}$

$5 - 2 = \square$

2. $\triangle \triangle \boxed{\triangle \triangle}$

$4 - \square = \square$

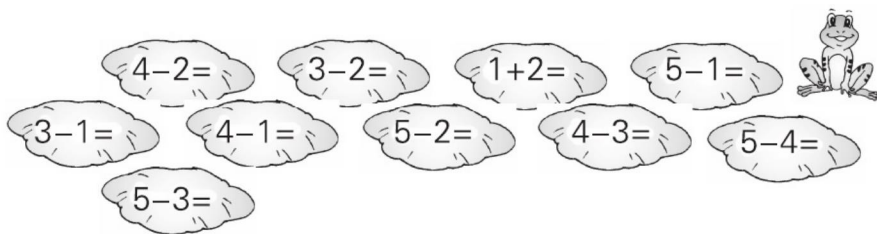
3. $\bigcirc \bigcirc \cancel{\bigcirc} \cancel{\bigcirc} \cancel{\bigcirc}$

$5 - 3 = \square$


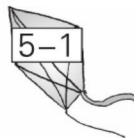
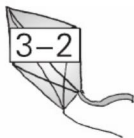
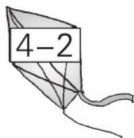
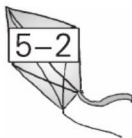
4. $\triangle \triangle \cancel{\triangle}$

$\square - \square = \square$

二、算一算。



三、连一连。



自我评价

☐ 真棒

☐ 很好

☐ 继续努力



5. 可爱的小猫



___月___日

用时：___分___秒

一、口算。

$5 - 5 =$

$0 + 5 =$

$0 + 4 =$

$2 - 2 =$

$1 - 1 =$

$2 + 1 =$

$2 + 2 =$

$3 + 0 =$

$2 - 0 =$

$3 - 1 =$

$5 - 0 =$

$5 - 4 =$

$4 - 0 =$

$4 - 1 =$

$5 + 0 =$

$5 - 1 =$

$3 - 3 =$

$0 + 2 =$

$4 + 0 =$

$3 + 1 =$

$3 - 0 =$

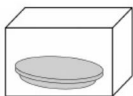

$0 - 0 =$

$4 - 3 =$

$3 - 2 =$

二、看图列式计算。

1.



$\square + \square = \square$

2.



$\square - \square = \square$

三、在□里填上合适的数。

$0 + \square = \square$

$\square - 0 = \square$

$\square - \square = 0$

$5 - \square = 3$

$3 = 1 + \square$

$\square + 2 = 4$

$4 = \square + 3$

$2 = \square - 0$

$\square + 1 = 5$

$2 + \square = 5$

$3 - \square = 1$

$\square - \square = 1$



6. 小结 (1)



___月___日

用时: ___分___秒

一、口算。

$3 + 1 =$

$2 - 1 =$

$4 + 0 =$

$2 + 3 =$

$3 - 2 =$

$5 - 1 =$

$3 - 1 =$

$1 + 4 =$

$2 + 2 =$

$4 - 0 =$

$5 - 3 =$

$1 + 1 =$

$5 - 4 =$

$4 - 2 =$

$5 - 2 =$

二、看图列式计算。

1.




$2 + \square = \square$

2.



$1 + \square = \square$

3.



$5 - \square = \square$

4.



$4 - \square = \square$

三、连一连。



自我评价

☐ 真棒

☐ 很好

☐ 继续努力




7. 猜数游戏



___月___日

用时: ___分___秒

一、看图列式计算。



$$\square + \square = \square$$

$$\square - \square = \square$$



$$\square + \square = \square$$

$$\square - \square = \square$$

二、算一算。

$6 - 2 =$

$5 - 4 =$

$3 + 2 =$

$4 + 1 =$

$2 + 3 =$

$6 - 3 =$

$3 + 3 =$

$1 + 5 =$

$6 - 4 =$

$6 - 0 =$

$5 + 0 =$

$6 - 6 =$

三、在○里填上“>”“<”或“=”。

$4 + 2 \bigcirc 6$

$3 \bigcirc 6 - 2$

$5 - 3 \bigcirc 1$

$2 \bigcirc 4 + 2$

$3 + 3 \bigcirc 6$

$5 + 0 \bigcirc 6$

四、送小猫回家。



$5 \xrightarrow{+1} () \quad () \xrightarrow{+5} ()$

$$\begin{array}{ccc} \downarrow -3 & \uparrow -4 & \downarrow -4 \\ () \xrightarrow{+2} () & () & () \end{array}$$



$() \xrightarrow{-5} ()$



8. 背土豆




___月___日

用时: ___分___秒

一、看图列式计算。

1.



$$\square + \square = \square$$

2.



$$\square - \square = \square$$

二、算一算。

$$7 - 2 =$$

$$4 + 3 =$$

$$5 + 2 =$$

$$6 + 1 =$$

$$7 - 7 =$$

$$7 - 1 =$$

$$3 + 4 =$$

$$7 - 2 =$$

$$7 - 5 =$$

$$7 - 3 =$$

$$1 + 6 =$$

$$7 - 4 =$$

三、在○里填上“+”或“-”。

$$7 \bigcirc 2 = 5$$

$$4 \bigcirc 3 = 7$$

$$6 \bigcirc 0 = 6$$

$$0 \bigcirc 4 = 4$$

$$5 \bigcirc 2 = 7$$

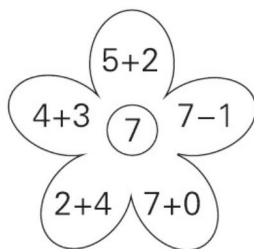
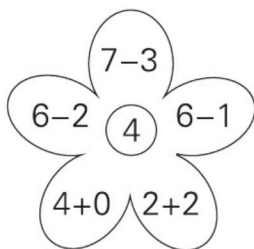
$$7 \bigcirc 5 = 2$$

$$2 \bigcirc 2 = 0$$

$$3 \bigcirc 2 = 5$$

$$5 \bigcirc 1 = 4$$

四、把得数是4的花瓣涂上红色,得数是7的花瓣涂上黄色。



自我评价

☐ 真棒

☐ 很好

☐ 继续努力



9. 小结 (2)



___月___日

用时: ___分___秒

一、口算。

$4 + 3 =$

$1 + 2 =$

$4 + 0 =$

$7 - 5 =$

$2 + 2 =$

$3 + 3 =$

$3 - 3 =$

$5 - 0 =$

$3 + 2 =$

$6 + 1 =$

$1 + 4 =$

$7 - 2 =$

$5 + 2 =$

$2 + 4 =$

$0 + 3 =$

$7 - 3 =$

$5 - 2 =$

$5 + 1 =$

$4 - 3 =$

$4 - 4 =$

$3 + 4 =$

$6 - 1 =$

$7 + 0 =$

$3 - 2 =$



$7 - 4 =$


$4 + 2 =$

$5 - 4 =$



二、连一连。


 $6-3$

 7 



$6-0$ 

 $7-3$

 3 

$6+1$ 

 $2+5$

 6 

$7-4$ 

 $3+3$

 5 

$6-2$ 

 $6-1$

 4 

$7-2$ 



10. 跳绳 (1)



___月___日

用时: ___分___秒

一、口算。

$6 + 2 =$

$8 - 2 =$

$3 + 5 =$

$7 - 4 =$

$4 + 4 =$

$6 - 1 =$

$5 + 3 =$

$7 - 1 =$

$2 + 6 =$

$1 + 6 =$

$8 - 5 =$

$7 - 2 =$

$6 - 4 =$

$7 + 1 =$

$8 - 3 =$

$8 - 4 =$

$5 + 2 =$

$6 - 2 =$

$6 - 5 =$

$8 - 8 =$

$7 - 6 =$

$1 + 7 =$

$7 - 3 =$

$8 - 7 =$

$8 - 6 =$

$8 - 0 =$

$6 - 3 =$

二、看图填算式。

1.



$\square + \square = \square$

$\square - \square = \square$

2.



$\square + \square = \square$

$\square - \square = \square$

三、照样子,填一填。

8-

2	5	1	6	7	3	4	8
6							



自我评价

☐ 真棒

☐ 很好

☐ 继续努力



11. 跳绳 (2)



___月___日

用时: ___分___秒

一、口算。

$2 + 7 =$

$9 - 6 =$

$9 - 1 =$

$3 + 5 =$

$4 + 5 =$

$6 + 3 =$

$8 - 6 =$

$9 - 8 =$

$8 - 3 =$

$9 - 3 =$

$8 + 1 =$

$9 - 7 =$

$8 - 5 =$

$4 + 4 =$

$5 + 4 =$

$3 + 6 =$

$9 - 4 =$

$8 - 4 =$

$8 - 2 =$

$5 + 3 =$

$1 + 8 =$

$9 + 0 =$

$9 - 9 =$

$8 - 7 =$

$4 + 2 =$

$6 - 1 =$

$5 - 3 =$

二、哪两张卡片上的数相加等于9? 连一连。

1

0

3

5

2

7

4

8

6

9

三、照样子,填一填。

9-

2	1	7	3	8	5	6	9	0	4
7									



12. 可爱的企鹅



____月____日
用时：____分____秒

一、口算。

$4 + 3 =$

$7 + 2 =$

$9 - 4 =$

$8 - 6 =$

$4 + 4 =$

$2 + 6 =$

$6 + 3 =$

$5 + 2 =$

$8 - 8 =$

$9 - 2 =$

$9 - 8 =$

$2 + 4 =$

$5 + 4 =$

$2 + 5 =$

$8 - 4 =$

$9 - 7 =$

$9 - 5 =$

$9 - 3 =$

$2 + 7 =$

$6 + 2 =$

$7 - 2 =$

$8 - 1 =$

$3 + 4 =$

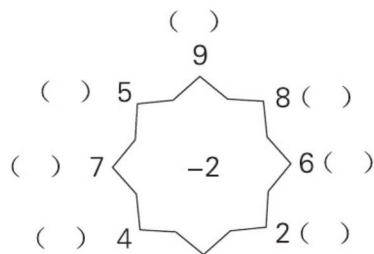
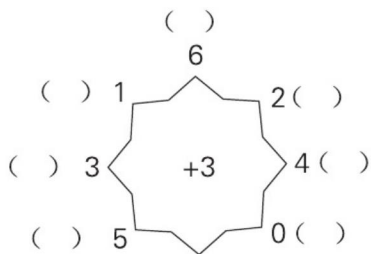
$3 + 5 =$

$2 + 3 =$

$8 - 3 =$

$9 - 6 =$

二、填一填。



三、在得数比 8 小的算式后面画“√”。

$2 + 6 = 8$

$9 - 1 = 8$

$4 + 4 = 8$

$2 + 4 \square$

$9 - 3 \square$

$4 + 3 \square$

$2 + 7 \square$

$9 - 0 \square$

$5 + 4 \square$



自我评价

☐ 真棒

☐ 很好

☐ 继续努力



13. 小鸡吃食



___月___日

用时: ___分___秒

一、口算。

$8 + 2 =$

$5 + 3 =$

$10 - 0 =$

$10 - 3 =$

$5 + 5 =$

$6 + 4 =$

$6 + 3 =$

$10 - 2 =$

$9 + 1 =$

$10 - 9 =$

$9 - 5 =$

$10 - 8 =$

$7 + 3 =$

$1 + 9 =$

$3 + 7 =$

$10 - 6 =$

$4 + 2 =$

$10 - 1 =$

$9 - 4 =$

$10 - 7 =$

$9 - 3 =$

$2 + 8 =$

$6 + 2 =$

$10 - 10 =$



$10 - 4 =$

$4 + 6 =$

$10 - 5 =$

二、看图填一填。

1.



里有4个苹果，外面有

()个，一共有()个。

$\square \bigcirc \square = \square$

2.



一共有10支铅笔，外面有

()支，盒子里有()支。

$\square \bigcirc \square = \square$



14. 小结 (3)



____月____日
用时: ____分____秒

一、口算。

$9 + 1 =$

$7 + 3 =$

$2 + 1 =$

$5 + 5 =$

$5 + 4 =$

$10 - 2 =$

$10 - 0 =$

$10 - 9 =$

$6 + 4 =$

$2 + 7 =$

$4 + 6 =$

$5 - 3 =$

$8 + 2 =$

$10 - 10 =$

$9 - 6 =$

$6 - 5 =$

$10 - 8 =$

$4 + 5 =$

$7 + 2 =$

$6 + 3 =$

$10 - 3 =$

$10 - 1 =$

$10 - 4 =$

$8 + 1 =$

$10 - 7 =$

$3 + 7 =$

$10 - 6 =$

$2 + 8 =$

$9 - 5 =$

$4 + 4 =$

二、在()里填上合适的数。

$5 + () = 10$

$6 + () = 10$

$3 + () = 9$

$() + 7 = 10$

$8 + () = 10$

$5 + () = 8$

$1 + () = 10$

$3 + () = 10$

$2 + () = 7$

$2 + () = 10$

$4 + () = 9$

$2 + () = 9$

$5 + () = 9$

$() + 10 = 10$

$() + 8 = 9$

$1 + () = 8$

$6 + () = 9$

$9 + () = 9$



自我评价

☐ 真棒

☐ 很好

☐ 继续努力



15. 乘车 (1)



___月___日

用时: ___分___秒

一、口算。

$9 - 8 =$

$10 - 3 =$

$9 - 7 =$

$5 + 5 =$

$10 - 4 =$

$7 + 3 =$

$9 - 4 =$

$7 + 2 =$

$8 - 2 =$

$6 + 3 =$

$6 - 4 =$

$10 - 7 =$

$8 - 5 =$

$3 + 5 =$

$2 + 8 =$

$10 - 9 =$

$10 - 5 =$

$10 - 2 =$

$3 + 7 =$

$10 - 6 =$

$9 - 1 =$

$3 - 2 =$

$4 + 3 =$

$8 - 4 =$

$9 + 1 =$

$8 + 1 =$

$4 + 4 =$

$6 + 4 =$

$8 + 2 =$

$10 - 8 =$

二、在□里填上合适的数。

$$\begin{array}{c} 7 + 3 - 5 = \square \\ \swarrow \searrow \\ \square \end{array}$$

$$\begin{array}{c} 7 - 4 + 6 = \square \\ \swarrow \searrow \\ \square \end{array}$$

$$\begin{array}{c} 8 + 2 - 3 = \square \\ \swarrow \searrow \\ \square \end{array}$$

$$\begin{array}{c} 10 - 6 + 2 = \square \\ \swarrow \searrow \\ \square \end{array}$$

$$\begin{array}{c} 8 + 2 - 5 = \square \\ \swarrow \searrow \\ \square \end{array}$$

$$\begin{array}{c} 10 - 5 + 2 = \square \\ \swarrow \searrow \\ \square \end{array}$$

$$\begin{array}{c} 5 + 3 - 2 = \square \\ \swarrow \searrow \\ \square \end{array}$$

$$\begin{array}{c} 6 - 4 + 5 = \square \\ \swarrow \searrow \\ \square \end{array}$$

$$\begin{array}{c} 2 + 7 - 4 = \square \\ \swarrow \searrow \\ \square \end{array}$$



16. 乘车 (2)



____月____日
用时: ____分____秒

一、口算。

$4 + 4 =$

$0 + 7 =$

$1 + 9 =$

$6 - 4 =$

$9 + 1 =$

$8 - 5 =$

$10 - 4 =$

$10 - 5 =$

$10 - 7 =$

$6 + 4 =$

$9 - 7 =$

$7 + 2 =$

$2 + 3 =$

$6 + 2 =$

$5 - 2 =$

$7 + 1 =$

$9 - 6 =$

$7 - 4 =$

$10 - 3 =$

$4 + 3 =$

$5 + 2 =$

$4 + 6 =$

$5 + 4 =$

$8 - 4 =$

$10 - 8 =$

$7 + 3 =$

$6 + 3 =$

$9 - 1 =$

$10 - 2 =$

$4 + 5 =$

二、算一算。

$6 - 4 + 3 =$

$3 + 7 - 4 =$

$2 + 5 + 3 =$

$8 - 5 - 3 =$

$4 + 5 - 7 =$

$10 - 8 + 5 =$

$2 + 6 - 5 =$

$7 + 3 - 6 =$

$5 - 2 + 4 =$

$4 + 3 + 2 =$

$6 - 2 + 5 =$

$9 - 8 + 7 =$

$5 - 5 + 4 =$

$7 + 3 - 5 =$

$0 + 9 - 3 =$

$4 + 2 - 6 =$

$8 - 3 - 3 =$

$10 - 7 - 3 =$



自我评价

☐ 真棒

☐ 很好

☐ 继续努力



17. 做个加法表



___月___日

用时: ___分___秒

一、口算。

$7 + 2 =$

$1 + 7 =$

$1 + 2 + 3 =$

$6 + 1 =$

$8 + 0 =$

$4 + 3 + 2 =$

$8 + 2 =$

$3 + 5 =$

$5 + 4 + 1 =$

$5 + 5 =$

$2 + 3 =$

$7 + 2 + 1 =$

$1 + 4 =$

$4 + 5 =$

$3 + 3 + 2 =$

$6 + 3 =$

$8 + 1 =$

$0 + 3 + 5 =$

$4 + 4 =$

$4 + 6 =$

$2 + 7 + 1 =$

$5 + 3 =$

$3 + 2 =$

$1 + 2 + 4 =$

$1 + 9 =$

$0 + 7 =$

$3 + 3 + 3 =$

$3 + 3 =$

$4 + 2 =$

$4 + 1 + 5 =$

二、将每行、每列上的3个数相加,和是多少?

	1	
5	3	2
	4	

()
()

5	4	1
1	2	3
3	0	4

() () ()
() () ()

三、写出得数与已知算式相等的加法算式。

$2 + 8$

$7 + 2$



18. 做个减法表



____月____日
用时：____分____秒

一、口算。

$8 - 3 =$

$5 - 4 =$

$4 + 5 - 3 =$

$4 - 2 =$

$9 - 7 =$

$8 - 4 - 4 =$

$7 - 5 =$

$10 - 4 =$

$7 - 3 - 2 =$

$3 - 3 =$

$8 - 1 =$

$10 - 2 - 2 =$

$10 - 1 =$

$5 - 5 =$

$8 - 1 - 4 =$

$9 - 5 =$

$6 - 3 =$

$10 - 6 + 3 =$

$7 - 3 =$

$4 - 1 =$

$9 - 3 - 4 =$

$7 - 7 =$

$10 - 7 =$

$10 - 4 - 3 =$

$9 - 1 =$

$6 - 5 =$

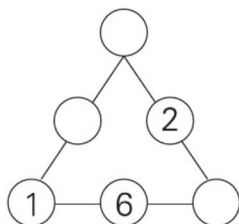
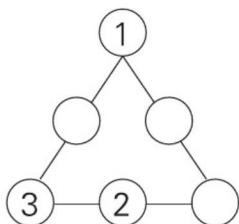
$7 - 1 - 3 =$

$8 - 5 =$

$6 - 0 =$

$8 - 3 - 1 =$

二、在○里填数,使每条线上的三个数相加都得10。



三、在()里填上合适的数。

$() - 3 = 6$

$10 - () = 8$

$7 - () = 0$

$9 - () = 4$

$7 - () = 3$

$6 - () = 1$



自我评价

☐ 真棒

☐ 很好

☐ 继续努力



19. 整理与复习



___月___日

用时: ___分___秒

一、口算。

$10 - 1 =$

$7 + 3 =$

$4 + 5 - 1 =$

$10 - 10 =$

$8 - 4 =$

$10 - 3 + 2 =$

$2 + 5 =$

$9 - 6 =$

$7 + 2 + 1 =$

$8 + 2 =$

$10 - 9 =$

$7 - 2 - 2 =$

$9 - 7 =$

$6 + 4 =$

$6 + 3 - 1 =$

$3 + 2 =$

$8 - 5 =$

$9 + 1 - 3 =$

$7 - 4 =$

$2 + 3 =$

$7 - 3 - 4 =$

$5 - 3 =$

$4 + 6 =$

$10 - 6 - 1 =$

$8 + 1 =$

$9 - 3 =$

$3 + 4 + 3 =$

$1 + 9 =$

$8 - 2 =$

$2 + 5 - 4 =$

二、算一算,比一比。

$1. 9 \xrightarrow{+1} \square \xrightarrow{-3} \square \xrightarrow{+1} \square \xrightarrow{-5} \square \xrightarrow{+7} \square$

$10 \xrightarrow{-5} \square \xrightarrow{+4} \square \xrightarrow{-3} \square \xrightarrow{+2} \square \xrightarrow{-7} \square$

2. 在○里填上“>”“<”或“=”。

$2 + 6 \bigcirc 9$

$7 - 3 \bigcirc 3$

$8 + 1 \bigcirc 10$

$8 \bigcirc 6 + 3$

$6 \bigcirc 10 - 5$

$5 \bigcirc 10 - 3$

$9 \bigcirc 7 + 2$

$7 - 0 \bigcirc 6$

$4 + 5 \bigcirc 5 + 4$



第四单元 分 类

1. 整理房间



___月___日

用时: ___分___秒

一、口算。

$6 + 4 =$

$9 - 8 =$

$8 - 4 =$

$8 - 2 =$

$7 - 5 =$

$10 - 5 =$

$7 - 6 =$

$10 - 2 =$

$4 + 4 =$

$5 + 5 =$

$7 - 3 =$

$9 - 4 =$

$9 - 6 =$

$4 + 6 =$

$5 + 3 =$

$7 + 2 =$

$8 - 3 =$

$10 - 3 =$

$10 - 4 =$

$7 + 3 =$

$6 + 2 =$

$6 + 3 =$

$5 + 4 =$

$9 - 5 =$

$3 + 7 =$

$10 - 1 =$

$2 + 8 =$

二、在()里填上合适的数。

$7 + () = 10$

$() + 2 = 9$

$() + 4 = 8$

$() + 5 = 9$

$5 + () = 8$

$6 + () = 10$

$4 + () = 7$

$() + 9 = 10$

$() + 3 = 10$

$6 + () = 8$

$8 + () = 9$

$5 + () = 7$

$3 + 6 = 5 + ()$

$10 - 3 = 4 + ()$

$() + 4 = 6$

$5 + 5 = () + 8$

$5 + 3 = () + 7$

$8 - 2 = 3 + ()$



自我评价

☐ 真棒

☐ 很好

☐ 继续努力



2. 一起来分类 (1)



___月___日

用时: ___分___秒

一、口算。

$10 - 3 =$

$8 - 4 =$

$6 + 3 =$

$9 - 7 =$

$9 - 0 =$

$9 + 1 =$

$10 - 6 =$

$3 + 4 =$

$2 + 5 =$

$7 - 3 =$

$10 - 7 =$

$9 - 5 =$

$2 + 6 =$

$7 - 4 =$

$3 + 6 =$

$9 - 1 =$

$2 + 7 =$

$10 - 5 =$

$5 - 3 =$

$10 - 4 =$

$7 + 2 =$

$3 + 5 =$

$8 + 2 =$

$9 - 6 =$

$10 - 9 =$

$5 + 4 =$

$7 - 2 =$

二、算一算。

$4 + 2 + 3 =$

$6 - 1 - 3 =$

$3 + 4 + 1 =$

$9 - 2 - 3 =$

$5 + 1 + 3 =$

$7 - 2 - 4 =$

$2 + 3 + 1 =$

$6 - 2 - 3 =$

$10 - 6 - 1 =$

$6 + 2 + 1 =$

$7 - 5 - 1 =$

$8 - 3 - 4 =$

$10 - 3 - 6 =$

$2 + 5 + 3 =$

$8 - 5 - 2 =$

$9 - 3 - 6 =$

$8 - 1 - 3 =$

$3 + 4 + 2 =$



3. 一起来分类 (2)



___月___日

用时: ___分___秒

一、口算。

$4 + 4 =$

$0 + 7 =$

$1 + 9 =$

$6 - 4 =$

$9 + 1 =$

$8 - 5 =$

$10 - 4 =$

$10 - 5 =$

$10 - 7 =$

$6 + 4 =$

$9 - 7 =$

$7 + 2 =$

$2 + 3 =$

$6 + 2 =$

$5 - 2 =$

$7 + 1 =$

$9 - 6 =$

$7 - 4 =$

$10 - 3 =$

$4 + 3 =$

$5 + 2 =$

$4 + 6 =$

$5 + 4 =$

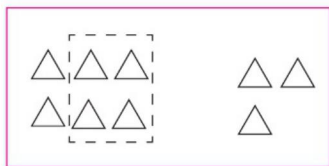
$8 - 4 =$

$10 - 2 =$

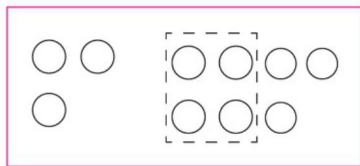
$9 - 1 =$

$4 + 5 =$

二、看图填一填。



$6 - \square + 3 = \square$



$3 + 7 - \square = \square$

三、连线。

$4 - 1 + 5$	9
$3 + 3 - 3$	8
$3 + 2 + 4$	3

7	$8 - 1 - 2$
5	$3 - 2 + 9$
10	$5 + 3 - 1$



自我评价

☐ 真棒

☐ 很好

☐ 继续努力



4. 整理与复习



____月____日
用时：____分____秒

一、口算。

$10 - 4 =$

$8 - 6 =$

$10 - 3 - 7 =$

$3 + 4 =$

$4 + 2 =$

$8 + 1 - 2 =$

$2 + 8 =$

$4 - 3 =$

$7 - 4 + 3 =$

$5 - 2 =$

$5 + 4 =$

$9 - 2 - 5 =$

$2 + 6 =$

$7 - 3 =$

$3 + 4 - 1 =$

$9 - 5 =$

$5 + 3 =$

$5 + 2 - 3 =$

$3 + 7 =$

$6 - 1 =$

$4 - 2 + 7 =$

$10 - 8 =$

$5 + 5 =$

$10 - 4 + 2 =$

$7 + 3 =$

$9 - 2 =$

$9 - 5 - 1 =$

二、按要求做题。

1. 在()里填上合适的数。

$() + 2 = 5$

$6 + () = 10$

$() + 2 = 7$

$3 + () = 6$

$() + 5 = 9$

$4 + () = 8$

$() + 6 = 9$

$2 + () = 10$

$7 + () = 9$

2. 在○里填上“>”“<”或“=”。

$2 + 6 \bigcirc 9$

$7 - 3 \bigcirc 3$

$9 - 4 - 3 \bigcirc 3$

$8 \bigcirc 6 + 3$

$6 \bigcirc 10 - 4$

$5 + 4 - 2 \bigcirc 6$



第五单元 位置与顺序

1. 前 后



___月___日

用时：___分___秒

一、口算。

$10 - 5 =$

$9 - 8 =$

$2 + 7 =$

$8 + 2 =$

$5 + 5 =$

$8 - 1 =$

$9 - 7 =$

$6 - 5 =$

$0 + 9 =$

$6 + 2 =$

$4 + 4 =$

$7 - 7 =$

$9 - 5 =$

$4 + 5 =$

$8 - 7 =$

$5 + 2 =$

$7 + 3 =$

$2 + 5 =$

$7 - 3 =$

$4 - 2 =$

$1 + 9 =$

$4 + 2 =$

$5 + 3 =$

$10 - 3 =$

$6 + 4 =$

$10 - 2 =$

$8 + 1 =$

二、算一算。

$4 - 1 + 5 =$

$3 + 3 - 3 =$

$3 + 2 + 4 =$

$8 - 1 - 2 =$

$3 - 2 + 9 =$

$5 + 3 - 1 =$

$5 - 3 + 1 =$

$4 + 5 - 7 =$

$3 + 7 - 2 =$

$1 + 4 + 5 =$

$2 + 6 - 7 =$

$8 - 1 - 3 =$

$1 + 6 + 3 =$

$10 - 4 - 4 =$

$7 - 6 + 5 =$

$5 + 5 - 6 =$

$7 + 2 - 5 =$

$9 - 6 + 5 =$



自我评价

☐ 真棒

☐ 很好

☐ 继续努力



2. 上 下



___月___日

用时: ___分___秒

一、口算。

$10 - 5 =$

$10 - 7 =$

$4 + 4 =$

$7 - 5 =$

$8 + 2 =$

$10 - 9 =$

$6 + 4 =$

$8 + 1 =$

$7 + 2 =$

$5 + 5 =$

$9 - 8 =$

$2 + 5 =$

$4 + 3 =$

$1 + 9 =$

$6 + 3 =$

$4 + 6 =$

$10 - 4 =$

$8 - 7 =$

$9 - 5 =$

$4 + 5 =$

$10 - 3 =$

$7 - 7 =$

$10 - 8 =$





$9 - 0 =$

$5 + 4 =$

$9 - 2 =$

$0 + 8 =$

二、连一连。



3. 左 右



____月____日
用时：____分____秒

一、口算。

$8 + 1 =$

$9 - 8 =$

$9 - 2 - 3 =$

$8 - 5 =$

$4 + 6 =$

$8 + 1 - 6 =$

$10 - 4 =$

$2 + 5 =$

$10 - 5 + 1 =$

$5 - 1 =$

$1 + 7 =$

$3 + 7 - 5 =$

$10 - 6 =$

$5 + 4 =$

$7 - 6 + 4 =$

$3 + 3 =$

$6 - 4 =$

$2 + 7 - 3 =$

$9 - 3 =$

$4 + 3 =$

$10 - 3 - 4 =$

$3 + 2 =$

$8 + 1 =$

$4 + 6 - 5 =$

$10 - 2 =$

$7 - 3 =$

$1 + 8 - 3 =$

二、填一填。

1	$+ 9 =$	
---	---------	--

1	$+ 8 =$	
2		

8	$- 4 =$	
6		
7		
10		

9	$- 3 =$	
5		
7		

4	$+ 4 =$	
6		
5		
3		



自我评价

☐ 真棒

☐ 很好

☐ 继续努力



4. 教室



___月___日

用时: ___分___秒

一、口算。

$5 + 3 =$

$9 - 4 =$

$3 + 2 =$

$10 - 7 =$

$2 + 6 =$

$9 - 8 =$

$3 + 1 =$

$4 + 5 =$

$6 + 3 =$

$4 - 2 =$

$7 - 3 =$

$5 - 2 =$

$7 + 2 =$

$2 + 8 =$

$10 - 5 =$

$3 + 0 =$

$5 - 1 =$

$2 - 2 =$

$8 - 5 =$

$4 + 4 =$

$7 - 2 =$

$10 - 1 =$

$4 + 2 =$

$9 - 3 =$

$8 - 7 =$

$6 - 0 =$

$4 + 3 =$

二、在○里填上“>”“<”或“=”。

$4 + 3 \bigcirc 8$

$2 + 3 \bigcirc 4 + 1$

$3 + 4 \bigcirc 3 + 7$

$9 - 6 \bigcirc 4$

$8 - 2 \bigcirc 3 + 3$

$9 + 0 \bigcirc 9 - 0$

$7 - 2 \bigcirc 4$

$7 - 5 \bigcirc 5 - 4$

$5 + 3 \bigcirc 5 - 3$

$4 \bigcirc 1 + 6$

$8 - 3 \bigcirc 2 + 3$

$3 + 5 \bigcirc 6 + 2$

$5 \bigcirc 8 - 1$

$9 - 4 \bigcirc 9 - 6$

$10 - 2 \bigcirc 3 + 6$



5. 整理与复习



____月____日
用时：____分____秒

一、口算。

$3 + 4 =$

$8 - 2 =$

$5 + 5 =$

$6 - 2 =$

$3 + 5 =$

$4 + 4 =$

$8 - 5 =$

$5 + 1 =$

$7 - 5 =$

$3 + 6 =$

$9 - 4 =$

$8 - 4 =$

$9 - 4 =$

$10 - 7 =$

$9 - 3 =$

$9 - 6 =$

$4 + 6 =$

$5 + 3 =$

$10 - 9 =$

$5 + 4 =$

$7 - 2 =$

$7 + 1 =$

$3 - 2 =$

$5 - 4 =$

$10 - 3 =$

$4 + 1 =$

$5 + 2 =$

二、将结果相同的算式用线连起来。



$10 - 7 - 2$

$8 - 0 - 5$



$2 + 3 + 4$

$7 + 0 + 3$



$8 - 0 - 4$

$10 - 4 - 2$



$2 + 4 + 4$

$1 + 3 + 5$



$10 - 6 - 1$

$7 - 5 - 1$



自我评价

☐ 真棒

☐ 很好

☐ 继续努力



第六单元 认识图形

1. 认识图形



___月___日

用时：___分___秒

一、口算。

$3 + 2 =$

$8 + 1 =$

$6 + 3 =$

$7 - 4 =$

$4 + 5 =$

$8 - 5 =$

$6 - 3 =$

$6 + 4 =$

$9 + 1 =$

$5 + 5 =$

$10 - 2 =$

$7 - 6 =$

$8 + 0 =$

$3 + 5 =$

$4 - 2 =$

$5 + 1 =$

$10 - 3 =$

$4 + 6 =$

$9 - 8 =$

$3 + 4 =$

$2 + 1 =$

$5 + 2 =$

$4 - 4 =$

$6 - 0 =$

$2 + 6 =$

$7 + 1 =$

$3 + 3 =$

二、算一算，填一填。

$9 \xrightarrow{+1} \square \xrightarrow{-3} \square \xrightarrow{+1} \square \xrightarrow{-5} \square \xrightarrow{+6} \square \quad \triangle$

$10 \xrightarrow{-5} \square \xrightarrow{+4} \square \xrightarrow{-3} \square \xrightarrow{+2} \square \xrightarrow{-7} \square \quad \triangle$

$8 \xrightarrow{-4} \square \xrightarrow{+6} \square \xrightarrow{-2} \square \xrightarrow{+1} \square \xrightarrow{-3} \square \quad \triangle$

$3 \xrightarrow{+6} \square \xrightarrow{-2} \square \xrightarrow{+3} \square \xrightarrow{-2} \square \xrightarrow{-4} \square \quad \triangle$

$5 \xrightarrow{+2} \square \xrightarrow{+3} \square \xrightarrow{-5} \square \xrightarrow{+4} \square \xrightarrow{-9} \square \quad \triangle$



2. 我说你做



___月___日

用时: ___分___秒

一、口算。

$1 + 6 =$

$5 - 3 =$

$8 + 2 =$

$8 - 4 =$

$9 + 0 =$

$6 - 3 =$

$2 + 2 =$

$7 + 3 =$

$5 + 4 =$

$9 - 6 =$

$8 - 2 =$

$7 + 1 =$

$9 - 2 =$

$10 + 0 =$

$5 + 3 =$

$7 + 2 =$

$10 - 4 =$

$3 + 4 =$

$5 + 0 =$

$1 + 8 =$

$7 - 3 =$

$9 - 4 =$

$4 + 6 =$

$6 + 0 =$

$10 - 6 =$

$4 + 4 =$

$5 + 3 =$

二、在()里填上合适的数。

$0 + () = 10$

$6 + () = 9$

$5 + () = 10$

$() + 4 = 10$

$9 + () = 10$

$3 + () = 5$

$1 + () = 9$

$() + 6 = 7$

$() + 8 = 9$

$6 + () = 8$

$4 + () = 9$

$7 + () = 10$

$8 + () = 10$

$6 + () = 10$

$() + 6 = 6$

$5 + () = 6$

$8 + () = 8$

$() + 3 = 8$



自我评价

☐ 真棒

☐ 很好

☐ 继续努力



3. 整理与复习



___月___日

用时: ___分___秒

一、口算。

$4 + 5 =$

$3 + 4 =$

$6 + 3 =$

$10 - 2 =$

$5 + 3 =$

$9 - 0 =$

$5 + 4 =$

$7 - 2 =$

$9 - 3 =$

$2 + 2 =$

$8 - 6 =$

$2 + 5 =$

$7 - 6 =$

$7 + 3 =$

$10 - 5 =$

$8 + 2 =$

$9 - 8 =$

$8 + 1 =$

$4 + 4 =$

$10 - 7 =$

$10 - 8 =$

$2 + 7 =$

$2 + 8 =$

$9 - 5 =$

$9 - 4 =$

$1 + 9 =$

$1 + 8 =$

$6 + 4 =$

$4 - 4 =$

$7 - 4 =$

二、在□里填上合适的数。

$6 + \square = 8$

$3 + \square = 10$

$6 + \square = 8$

$7 + \square = 9$

$4 + \square = 9$

$4 + \square = 10$

$5 + 4 = \square + 2$

$8 - 2 = \square + 5$

$10 - 6 = 1 + \square$

$9 - 6 = \square + 1$

$6 + 2 = \square + 4$

$9 - 2 = 4 + \square$

$6 + 3 = \square + 4 \quad 8 - 4 + 5 = \square + 6 \quad 10 - 5 - 2 = \square + 2$



第七单元 加与减(二)

1. 古人计数(1)



___月___日

用时: ___分___秒

一、口算。

$9 - 8 =$

$6 + 4 =$

$10 + 2 =$

$10 + 10 =$

$9 - 3 =$

$4 + 4 =$

$5 + 4 =$

$10 + 5 =$

$8 - 5 =$

$2 + 7 =$

$8 - 3 =$

$10 + 4 =$

$1 + 8 =$

$10 + 6 =$

$3 + 7 =$

$8 - 4 =$

$3 + 6 =$

$4 + 5 =$

$10 - 4 =$

$10 - 3 =$

$6 - 5 =$

$10 + 7 =$

$4 + 6 =$

$6 + 10 =$

$9 - 4 =$

$3 + 2 =$

$10 + 1 =$

二、算一算。

1. 横行、竖行三个数相加分别得几?

	1	
2	3	4
	6	

()

2. 横行、竖行三个数相加都得 10, 中填几?

	3	
1	5	



自我评价

☐ 真棒

☐ 很好

☐ 继续努力



2. 古人计数(2)



___月___日

用时: ___分___秒

一、口算。

$10 + 3 =$

$5 + 4 =$

$1 + 9 =$

$10 + 9 =$

$9 - 5 =$

$4 + 3 =$

$9 - 7 =$

$3 + 4 =$

$10 + 10 =$

$4 + 5 =$

$7 - 1 =$

$7 + 3 =$

$9 - 4 =$

$9 - 2 =$

$10 - 8 =$

$10 + 7 =$

$2 + 7 =$

$8 - 8 =$

$9 - 8 =$

$8 - 5 =$

$10 + 6 =$

$8 - 4 =$

$8 + 2 =$

$9 - 4 =$

$5 + 3 =$

$5 + 2 =$

$4 + 10 =$

二、在○里填上“>”“<”或“=”。

$12 \bigcirc 10 + 2$

$3 + 10 \bigcirc 16$

$13 \bigcirc 7 + 3$

$14 \bigcirc 5 + 5$

$5 + 2 \bigcirc 5 - 2$

$9 - 6 \bigcirc 8 - 1$

$10 - 8 \bigcirc 10 + 2$

$10 + 10 \bigcirc 7 + 3$

$7 - 2 \bigcirc 3 + 4$

$1 + 6 \bigcirc 4 + 5$

$8 + 2 \bigcirc 1 + 7$

$10 + 5 \bigcirc 0 + 10$

$10 + 6 \bigcirc 10 - 7$

$4 + 1 \bigcirc 2 + 3$

$10 - 4 \bigcirc 5 + 10$



3. 搭积木



___月___日

用时: ___分___秒

一、口算。

$15 - 5 =$

$7 - 4 =$

$4 + 5 =$

$18 - 6 =$

$2 + 11 =$

$17 - 3 =$

$2 + 8 =$

$10 + 5 =$

$4 + 4 =$

$8 + 10 =$

$13 - 2 =$

$6 + 1 =$

$9 - 4 =$

$7 + 3 =$

$16 - 3 =$

$4 + 3 =$

$12 + 1 =$

$6 + 10 =$

$18 - 2 =$

$19 - 4 =$

$17 - 7 =$

$17 + 2 =$

$14 - 2 =$

$11 + 6 =$

$10 - 5 =$

$4 + 12 =$

$17 - 5 =$

$9 - 6 =$

$16 - 4 =$

$4 + 13 =$

二、在()里填上合适的数。

$10 + () = 14$

$() + 8 = 18$

$() + 6 = 16$

$() + 9 = 19$

$11 + () = 12$

$16 + () = 18$

$() + 10 = 11$

$3 + () = 13$

$10 + () = 19$

$() + 6 = 10$

$13 + () = 19$

$() + 5 = 15$

$12 + () = 15$

$() + 5 = 17$

$10 + () = 18$

$() + 6 = 17$

$11 + () = 14$

$() + 10 = 15$



自我评价

☐ 真棒

☐ 很好

☐ 继续努力



4. 有几瓶牛奶



___月___日

用时: ___分___秒

一、口算。

$9 + 9 =$

$10 - 4 =$

$9 - 7 =$

$9 + 4 =$

$3 + 2 =$

$12 + 1 =$

$2 + 12 =$

$13 + 1 =$

$9 + 7 =$

$9 + 10 =$

$9 - 4 =$

$19 - 9 =$

$9 + 5 =$

$14 - 2 =$

$5 + 4 =$

$9 + 8 =$

$7 + 3 =$

$18 - 4 =$

$17 + 2 =$

$9 + 3 =$

$9 + 6 =$

$9 + 2 =$

$18 - 3 =$

$10 - 5 =$

$5 + 3 =$

$7 - 3 =$

$11 + 6 =$

二、在□里填上合适的数。

$$\begin{array}{c} 9 + 5 = \square \\ \begin{array}{c} \diagup \quad \diagdown \\ \square \quad \square \\ \diagdown \quad \diagup \\ 10 \end{array} \end{array}$$

$$\begin{array}{c} 9 + 3 = \square \\ \begin{array}{c} \diagup \quad \diagdown \\ \square \quad \square \\ \diagdown \quad \diagup \\ 10 \end{array} \end{array}$$

$$\begin{array}{c} 9 + 2 = \square \\ \begin{array}{c} \diagup \quad \diagdown \\ \square \quad \square \\ \diagdown \quad \diagup \\ 10 \end{array} \end{array}$$

$$\begin{array}{c} 9 + 4 = \square \\ \begin{array}{c} \diagup \quad \diagdown \\ \square \quad \square \\ \diagdown \quad \diagup \\ 10 \end{array} \end{array}$$

$$\begin{array}{c} 9 + 6 = \square \\ \begin{array}{c} \diagup \quad \diagdown \\ \square \quad \square \\ \diagdown \quad \diagup \\ 10 \end{array} \end{array}$$

$$\begin{array}{c} 9 + 8 = \square \\ \begin{array}{c} \diagup \quad \diagdown \\ \square \quad \square \\ \diagdown \quad \diagup \\ 10 \end{array} \end{array}$$



5. 有几棵树



___月___日

用时: ___分___秒

一、口算。

$8 + 2 =$

$9 + 3 =$

$9 + 10 =$

$1 + 9 =$

$8 + 1 =$

$8 + 9 =$

$9 + 4 =$

$8 + 8 =$

$7 + 2 =$

$8 + 7 =$

$7 + 3 =$

$8 + 3 =$

$9 + 8 =$

$8 + 10 =$

$7 + 1 =$

$8 + 4 =$

$9 + 6 =$

$9 + 2 =$

$5 + 5 =$

$8 + 5 =$

$10 + 3 =$

$9 + 1 =$

$11 + 6 =$

$9 + 7 =$

$12 + 4 =$

$9 + 9 =$

$8 + 6 =$

二、圈一圈,算一算。



$\square + \square = \square$



$\square + \square = \square$



$\square + \square = \square$



$\square + \square = \square$



自我评价

☐ 真棒

☐ 很好

☐ 继续努力



6. 有几只小鸟



___月___日

用时: ___分___秒

一、口算。

$9 + 2 =$

$5 + 7 =$

$9 + 3 =$

$8 + 4 =$

$9 + 4 =$

$5 + 8 =$

$7 + 4 =$

$4 + 7 =$

$3 + 8 =$

$5 + 6 =$

$2 + 9 =$

$8 + 6 =$

$3 + 9 =$

$8 + 5 =$

$6 + 9 =$

$9 + 9 =$

$6 + 8 =$

$9 + 5 =$

$6 + 7 =$

$4 + 9 =$

$8 + 3 =$

$4 + 8 =$

$7 + 5 =$

$6 + 6 =$

$8 + 7 =$

$9 + 7 =$

$7 + 8 =$

$9 + 6 =$

$6 + 5 =$

$5 + 9 =$

二、填一填。

$$6 + \begin{array}{|c|} \hline 5 \\ \hline 9 \\ \hline 7 \\ \hline 4 \\ \hline 8 \\ \hline 6 \\ \hline \end{array} = \begin{array}{|c|} \hline \\ \hline \\ \hline \\ \hline \\ \hline \\ \hline \\ \hline \end{array}$$

$$5 + \begin{array}{|c|} \hline 7 \\ \hline 9 \\ \hline 5 \\ \hline 8 \\ \hline 10 \\ \hline 6 \\ \hline \end{array} = \begin{array}{|c|} \hline \\ \hline \\ \hline \\ \hline \\ \hline \\ \hline \\ \hline \end{array}$$

$$7 + \begin{array}{|c|} \hline 9 \\ \hline 8 \\ \hline 5 \\ \hline 6 \\ \hline 4 \\ \hline 7 \\ \hline \end{array} = \begin{array}{|c|} \hline \\ \hline \\ \hline \\ \hline \\ \hline \\ \hline \\ \hline \end{array}$$



7. 做个加法表



___月___日
用时: ___分___秒

一、口算。

$3 + 8 =$

$5 + 7 =$

$7 + 4 =$

$8 + 6 =$

$7 + 9 =$

$5 + 9 =$

$4 + 9 =$

$8 + 8 =$

$6 + 5 =$

$6 + 8 =$

$4 + 7 =$

$8 + 7 =$

$8 + 4 =$

$8 + 9 =$

$7 + 7 =$

$6 + 9 =$

$5 + 6 =$

$9 + 4 =$

$9 + 2 =$

$4 + 8 =$

$8 + 3 =$

$8 + 5 =$

$6 + 7 =$

$7 + 6 =$

$9 + 6 =$

$5 + 8 =$

$3 + 9 =$

$6 + 6 =$

$7 + 5 =$

$7 + 8 =$

二、照样子,补算式。

$$7 + 7 = \left\{ \begin{array}{l} \boxed{5} + \boxed{9} \\ \boxed{} + \boxed{} \\ \boxed{} + \boxed{} \\ \boxed{} + \boxed{} \\ \boxed{} + \boxed{} \\ \boxed{} + \boxed{} \\ \boxed{} + \boxed{} \end{array} \right.$$

$$4 + 8 = \left\{ \begin{array}{l} \boxed{9} + \boxed{3} \\ \boxed{} + \boxed{} \\ \boxed{} + \boxed{} \\ \boxed{} + \boxed{} \\ \boxed{} + \boxed{} \\ \boxed{} + \boxed{} \\ \boxed{} + \boxed{} \end{array} \right.$$



自我评价

☐ 真棒

☐ 很好

☐ 继续努力



8. 整理与复习



___月___日

用时: ___分___秒

一、口算。

$9 + 7 =$

$8 + 9 =$

$14 - 3 =$

$7 + 6 =$

$8 + 3 =$

$7 + 7 =$

$4 + 8 =$

$18 - 3 =$

$4 + 6 =$

$9 + 5 =$

$16 + 3 =$

$9 + 9 =$

$3 + 12 =$

$8 + 5 =$

$13 - 2 =$

$8 + 8 =$

$6 + 9 =$

$5 + 12 =$

$16 - 2 =$

$5 + 7 =$

$4 + 7 =$

$4 + 9 =$

$17 - 5 =$

$9 + 8 =$

$9 + 3 =$

$8 + 6 =$

$2 + 9 =$

$8 + 7 =$

$6 + 6 =$

$5 + 6 =$

二、在○里填上“>”“<”或“=”。

$3 \bigcirc 9 + 8$

$9 + 9 \bigcirc 17$

$11 \bigcirc 11 + 2$

$18 - 10 \bigcirc 9$

$15 \bigcirc 17 - 7$

$7 + 8 \bigcirc 16$

$14 \bigcirc 3 + 10$

$14 \bigcirc 17 - 3$

$13 \bigcirc 12 + 5$

$12 \bigcirc 9 + 3$

$8 + 3 \bigcirc 12$

$16 \bigcirc 17 - 1$

$6 + 8 \bigcirc 8$

$17 \bigcirc 6 + 9$

$9 + 3 \bigcirc 12$



数学好玩

1. 淘气的校园



___月___日

用时: ___分___秒

一、口算。

$4 + 7 =$

$8 - 2 =$

$5 + 11 =$

$5 + 12 =$

$8 + 7 =$

$6 + 8 =$

$9 + 8 =$

$6 - 2 =$

$6 + 10 =$

$7 - 2 =$

$5 + 8 =$

$7 + 6 =$

$9 + 5 =$

$15 - 5 =$

$9 - 3 =$

$17 + 2 =$

$6 + 7 =$

$6 + 5 =$

$6 + 6 =$

$8 - 3 =$

$8 + 3 =$

$10 - 4 =$

$4 + 9 =$

$13 - 1 =$

二、在 ○ 里填上“+”或“-”，使等式成立。

$6 \bigcirc 4 = 2$

$7 \bigcirc 8 = 15$

$5 \bigcirc 9 = 14$

$16 \bigcirc 10 = 6$

$15 \bigcirc 5 = 10$

$7 \bigcirc 10 = 17$

$7 \bigcirc 9 = 16$

$8 \bigcirc 9 = 17$

$9 \bigcirc 9 = 18$

$10 \bigcirc 3 = 7$

$4 \bigcirc 9 = 13$

$7 \bigcirc 8 = 15$

$8 \bigcirc 6 = 2$

$11 \bigcirc 5 = 16$

$5 \bigcirc 9 = 14$



自我评价

☐ 真棒

☐ 很好

☐ 继续努力



2. 一起做游戏



___月___日

用时：___分___秒

一、口算。

$6 - 4 =$

$10 + 4 =$

$9 - 5 =$

$5 + 3 =$

$11 + 5 =$

$8 + 5 =$

$18 - 7 =$

$12 - 2 =$

$15 - 2 =$

$9 + 9 =$

$6 + 8 =$

$0 + 9 =$

$6 + 5 =$

$7 - 5 =$

$18 - 5 =$

$17 - 7 =$

$9 + 7 =$

$5 + 8 =$

$4 + 8 =$

$16 - 4 =$

$9 - 3 =$

$9 + 10 =$

$7 + 6 =$

$8 + 8 =$

$7 + 4 =$

$10 - 3 =$

$3 + 12 =$

二、算一算，填一填。

$3 \xrightarrow{+4} \square \xrightarrow{+5} \square \xrightarrow{-2} \square \xrightarrow{-7} \square \xrightarrow{+9} \square \quad \triangle$

$15 \xrightarrow{-5} \square \xrightarrow{+6} \square \xrightarrow{-10} \square \xrightarrow{+8} \square \xrightarrow{-3} \square \quad \triangle$

$12 \xrightarrow{+4} \square \xrightarrow{-6} \square \xrightarrow{+9} \square \xrightarrow{-6} \square \xrightarrow{+5} \square \quad \triangle$

$10 \xrightarrow{-3} \square \xrightarrow{+6} \square \xrightarrow{-10} \square \xrightarrow{+8} \square \xrightarrow{+4} \square \quad \triangle$

$9 \xrightarrow{+7} \square \xrightarrow{-6} \square \xrightarrow{-4} \square \xrightarrow{+7} \square \xrightarrow{-3} \square \quad \triangle$



第八单元 认识钟表

1. 小明的一天



___月___日

用时: ___分___秒

一、口算。

$8 + 5 =$

$3 + 7 =$

$15 - 5 =$

$12 + 3 =$

$14 - 3 =$

$10 + 2 =$

$6 + 6 =$

$7 + 4 =$

$2 + 9 =$

$10 - 9 =$

$19 - 9 =$

$13 + 4 =$

$9 - 2 =$

$7 + 2 =$

$3 + 8 =$

$5 + 7 =$

$10 - 3 =$

$6 - 5 =$

$9 + 10 =$

$6 + 9 =$

$18 - 6 =$

$9 + 8 =$

$11 + 5 =$

$17 - 7 =$

二、在○里填上“+”或“-”。

$5 \bigcirc 3 = 8$

$8 \bigcirc 6 = 2$

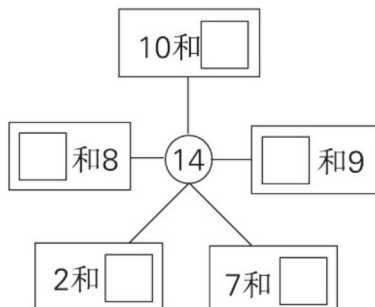
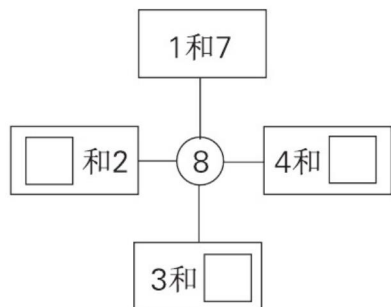
$13 \bigcirc 3 = 10$

$10 \bigcirc 6 = 16$

$5 \bigcirc 9 = 14$

$4 \bigcirc 9 = 13$

三、在□里填上合适的数。



自我评价

☐ 真棒 🌟🌟🌟🌟

☐ 很好 🌟🌟

☐ 继续努力 🌟🌟



2. 整理与复习



___月___日

用时: ___分___秒

一、口算。

$8 + 5 =$

$7 + 5 =$

$6 - 3 =$

$7 + 8 =$

$2 + 7 =$

$13 - 1 =$

$16 - 6 =$

$10 - 2 =$

$6 + 8 =$

$13 - 2 =$

$5 + 8 =$

$8 + 9 =$

$3 + 7 =$

$10 - 9 =$

$11 + 8 =$

$2 + 13 =$

$4 + 7 =$

$15 - 5 =$

$3 + 9 =$

$9 - 3 =$

$5 + 6 =$

$4 + 11 =$

$9 + 9 =$

$8 - 4 =$

$3 + 6 =$

$18 - 2 =$

$10 - 5 =$

$16 - 5 =$

$7 + 4 =$

$19 - 7 =$

二、照样子把得数相同的算式圈起来。

12

$4 + 8$

$6 + 5$

$10 + 2$

$5 + 7$

14

$6 + 8$

$10 + 4$

$5 + 7$

$11 + 2$

11

$5 + 6$

$7 + 5$

$8 + 4$

$10 + 1$

15

$7 + 7$

$10 + 5$

$6 + 2 + 7$

$19 - 3$

17

$9 + 8$

$8 + 10$

$5 + 2 + 6$

$5 + 5 + 7$



总复习

1. 总复习 (1)



___月___日

用时: ___分___秒

一、口算。

$5 + 6 =$

$4 + 10 =$

$3 + 5 + 6 =$

$8 - 3 =$

$7 + 2 =$

$7 - 5 + 8 =$

$7 + 8 =$

$5 + 7 =$

$14 - 4 + 5 =$

$12 + 4 =$

$9 - 2 =$

$6 - 2 + 7 =$

$8 + 7 =$

$16 - 4 =$

$9 - 4 + 9 =$

$17 - 6 =$

$9 + 4 =$

$16 - 6 + 7 =$

$3 + 2 =$

$3 + 11 =$

$8 - 3 + 7 =$

$15 - 4 =$

$13 - 2 =$

$4 + 9 - 3 =$

二、在 ○ 里填上“>”“<”或“=”。

$17 - 4 \bigcirc 10$

$6 + 9 \bigcirc 12$

$10 - 4 \bigcirc 14$

$1 + 11 \bigcirc 15$

$9 + 3 \bigcirc 14$

$9 + 7 \bigcirc 15$

$9 + 5 \bigcirc 15$

$10 - 3 \bigcirc 8$

$8 + 8 \bigcirc 10 + 6$

$10 - 2 \bigcirc 10$

$16 - 6 \bigcirc 9$

$9 + 6 \bigcirc 18 - 1$

$4 + 8 \bigcirc 7 + 6$

$6 + 5 \bigcirc 5 + 6$

$7 + 9 \bigcirc 12 + 7$



自我评价

☐ 真棒

☐ 很好

☐ 继续努力



2. 总复习 (2)



___月___日

用时: ___分___秒

一、口算。

$4 + 4 =$

$11 + 6 =$

$3 + 6 + 5 =$

$13 - 1 =$

$7 + 8 =$

$17 - 3 - 3 =$

$9 + 3 =$

$19 - 9 =$

$2 + 9 - 1 =$

$16 - 3 =$

$6 + 7 =$

$4 + 4 + 4 =$

$8 + 8 =$

$4 + 7 =$

$10 - 6 + 8 =$

$9 - 6 =$

$10 - 4 =$

$5 + 8 - 2 =$

$7 + 9 =$

$8 + 9 =$

$9 + 5 - 3 =$

$12 + 2 =$

$19 - 5 =$

$7 - 5 + 9 =$

$3 + 8 =$

$0 + 8 =$

$8 - 3 + 6 =$

二、照样子,在叶子上填上合适的数。



三、在□里填上合适的数。

$8 + 1 = 7 + \square = 6 + \square = 5 + \square = \square - 1$

$12 + 2 = \square + 7 = \square + 5 = 8 + \square = 10 + \square$



3. 总复习 (3)



____月____日
用时: ____分____秒

一、口算。

$8 - 3 =$

$6 + 9 =$

$2 + 8 + 2 =$

$10 + 7 =$

$9 - 3 =$

$17 - 7 - 6 =$

$4 + 8 =$

$7 + 3 =$

$3 + 4 + 5 =$

$12 + 6 =$

$14 - 4 =$

$9 + 1 - 5 =$

$9 - 8 =$

$9 + 9 =$

$19 - 7 + 5 =$

$17 - 3 =$

$15 - 2 =$

$2 + 8 + 4 =$

$7 + 5 =$

$8 + 7 =$

$10 - 4 + 9 =$

$18 - 4 =$

$11 + 5 =$

$6 + 8 - 4 =$

$9 + 5 =$

$8 + 4 =$

$10 - 7 + 8 =$

二、在()里填上合适的数。

$3 + () = 8$

$2 + () = 9$

$8 + () = 10$

$() + 9 = 12$

$() + 3 = 15$

$() + 10 = 12$

$8 + () = 14$

$() + 6 = 11$

$9 + () = 13$

$() + 3 = 13$

$4 + () = 12$

$7 + () = 11$

$6 + () = 13$

$() + 5 = 11$

$9 + () = 15$

$() + 5 = 10$

$5 + () = 12$

$() + 8 = 13$



自我评价

☐ 真棒

☐ 很好

☐ 继续努力



4. 总复习 (4)



___月___日

用时: ___分___秒

一、口算。

$8 + 2 - 3 =$

$8 + 8 - 5 =$

$8 - 4 + 3 =$

$4 + 5 - 5 =$

$9 - 3 + 6 =$

$8 + 2 - 9 =$

$8 + 7 - 2 =$

$16 - 5 + 4 =$

$7 + 3 + 6 =$

$15 - 3 + 2 =$

$9 - 4 + 2 =$

$4 + 4 + 4 =$

$5 + 4 + 7 =$

$4 + 5 + 3 =$

$6 - 6 + 10 =$

$8 + 1 - 1 =$

$9 + 8 - 7 =$

$5 + 6 - 1 =$

$17 - 5 + 6 =$

$8 + 6 - 3 =$

$16 - 5 + 8 =$

$5 + 4 + 7 =$

$3 + 11 + 2 =$

$4 + 5 + 5 =$

$6 + 2 + 7 =$

$2 + 5 + 5 =$

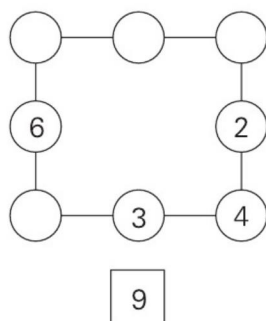
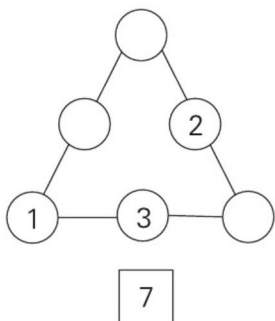
$9 + 6 - 5 =$

$8 + 4 - 2 =$

$7 + 5 - 1 =$

$8 - 3 + 7 =$

二、在○里填数,使每条线上的3个数相加等于□里的数。



参考答案

可爱的校园

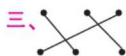
可爱的校园

一、2. 涂3个。 3. 涂5个。

4. 涂8个。

二、1. 在第2个括号里画“√”。

2. 在第1个括号里画“√”。



第一单元 生活中的数

1. 快乐的家园(1)

一、涂2个。涂5个。涂4个。

二、△ △△△ △△△△△

三、1. 圈4个蘑菇。

2. 圈5个桃。

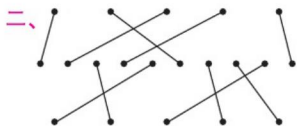
四、划掉2个。

划掉3个。

划掉3个。

2. 快乐的家园(2)

一、□□ □□□□ □□□□



三、5 4

3. 玩具

一、略

二、2 4 5 3 1

三、略

4. 小猫钓鱼

一、略

二、5 4 3 2 1 0

三、1. 0 2 4

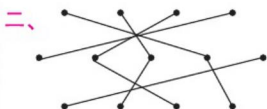
2. 2 5 4 3 1 0

四、1 4 5

发现:从左到右依次增加1。

5. 小结

一、3 2 5



三、④ ③ ②

四、第3个和第5个。

6. 文具(1)

一、7 9 6 8

二、○○○○○ □□

△△△△



四、6

7. 文具(2)

一、2 4 5 6 8 10

8 6 5 4 2 1

6 8 9 3

二、5 4

三、圈左边的小鸡。

四、1. □□□□□□□

2. ○○○○○○

五、略

8. 快乐的午餐

一、1. △△△△(答案不唯一)

2. ○○○(答案不唯一)

3. □□□□□□

4. □□□□

二、1. ☒ ☐

2. ☐ ☒

三、1. ☐ 2. ☐

☒ ☐

☐ ☒

9. 动物园

一、< > > < < =

< <

5 3 4 2 8 4 9 5

(后两行部分答案不唯一)

二、5 = 4 3

三、4 = 4 圈“多” 5 > 4

圈“少” 3 < 4

四、2 3 5 6 8

10. 整理与复习

一、3 4 8 6 5 10

画一画略

二、4 4

三、1. 在6、7下面画“√”。

2. 在7下面画“√”。

四、○○○○ ○○○○
○○○○ ○○○○

第二单元 比较

1. 过生日

一、1. ☒ ☐ 2. ☐ ☒



二、☐ ☐

三、在上面的☐里画“√”，在下面的☐里画“○”。

四、③ ②

2. 下课啦

一、1. 在上面的☐里画“○”，在下面的☐里画“√”。

2. 在上面的☐里画“○”，在下面的☐里画“√”。

二、☐ ☒ ☐

三、① ③ ②

四、在第2个☐里画“√”，在第3个☐里画“○”。

3. 跷跷板

一、1. ☐ ☒

2. ☒ ☐

二、在上面的☐里画“×”，在下面的☐里画“√”。

三、☐ ☐ ☐ ☒

四、② ① ④ ③

4. 整理与复习

一、1. 在上面的☐里画“×”，在下面的☐里画“√”。

2. 在上面的☐里画“√”，在

下面的☐里画“×”。

二、1. ☒ ☐

2. ☒ ☐

三、③ ① ②

四、小明喝的最少，在第3个☐里画“√”。

第三单元 加与减(一)

1. 一共有多少(1)

一、3 4 5 5

二、4 3 5 5 5 4

2 4 5

三、1.3 2 5 2.4 1 5

3.3+1=4 4.2+2=4

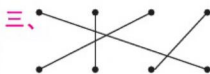
2. 一共有多少(2)

一、1+2=3 2+3=5

4+1=5 2+2=4

二、1+4=5 4+1=5 2+3=5

3+2=5



四、3 1

3. 还剩下多少(1)

一、1.2 2.1 3.1 4.3

二、4 1 2 2 3 3

1 1 1

三、1.5 2 3 2.4 2 2

3.4 1 3 4.5 1 4

5.5 4 1 6.4 3 1

4. 还剩下多少(2)

一、1.3 2.2 2 3.2

4.3-1=2

二、略



5. 可爱的小猫

一、0 5 4 0 0 3

4 3 2 2 5 1

4 3 5 4 0 2

4 4 3 0 1 1

二、1.3 0 3

2.2 2 0

三、5 5 8 8 7 7

2 2 2 1 2 4

3 2 5 4

(部分答案不唯一)

6. 小结(1)

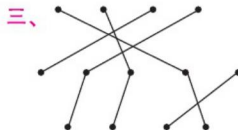
一、4 1 4 5 1 4

2 5 4 4 2 2

1 2 3

二、1.2 4 2.3 4

3.2 3 4.2 2



7. 猜数游戏

一、3+3=6 6-3=3

2+4=6

6-2=4(或6-4=2)

二、4 1 5 5 5 3

6 6 2 6 5 0

三、= < > < = <

四、6 3 5 1 6 2 6 1

8. 背土豆

一、1.4+3=7或3+4=7

2.7-3=4

二、5 7 7 7 0 6

7 5 2 4 7 3

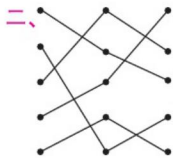
三、- + + (或-) + +

- - + -

四、略

9. 小结(2)

一、7 3 4 2 4 6
0 5 5 7 5 5
7 6 3 4 3 6
1 0 7 5 7 1
3 6 1



10. 跳绳(1)

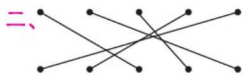
一、8 6 8 3 8 5
8 6 8 7 3 5
2 8 5 4 7 4
1 0 1 8 4 1
2 8 3

二、1. $2+6=8$ 或 $6+2=8$
 $8-2=6$ 或 $8-6=2$
2. $3+5=8$ 或 $5+3=8$
 $8-5=3$ 或 $8-3=5$

三、3 7 2 1 5 4 0

11. 跳绳(2)

一、9 3 8 8 9 9
2 1 5 6 9 2
3 8 9 9 5 4
6 8 9 9 0 1
6 5 2



三、8 2 6 1 4 3
0 9 5

12. 可爱的企鹅

一、7 9 5 2 8 8
9 7 0 7 1 6
9 7 4 2 4 6
9 8 5 7 7 8
5 5 3

二、 $6+3=9$ $2+3=5$
 $4+3=7$ $0+3=3$
 $5+3=8$ $3+3=6$
 $1+3=4$
 $9-2=7$ $8-2=6$
 $6-2=4$ $2-2=0$
 $4-2=2$ $7-2=5$
 $5-2=3$

三、在 $2+4$, $9-3$, $4+3$ 后面的

☐ 里画“√”。

13. 小鸡吃食

一、10 8 10 7 10 10
9 8 10 1 4 2
10 10 10 4 6 9
5 3 6 10 8 0
6 10 5

二、1. $6+10=16$
2. $2+8=10$ $10-2=8$

14. 小结(3)

一、10 10 3 10 9 8
10 1 10 9 10 2
10 0 3 1 2 9
9 9 7 9 6 9
3 10 4 10 4 8

二、5 4 6 3 2 3
9 7 5 8 5 7
4 0 1 7 3 0

15. 乘车(1)

一、1 7 2 10 6 10

5 9 6 9 2 3

3 8 10 1 5 8
10 4 8 1 7 4
10 9 8 10 10 2
二、10 5 3 9 10 7
4 6 10 5 5 7
8 6 2 7 9 5

16. 乘车(2)

一、8 7 10 2 10 3
6 5 3 10 2 9
5 8 3 8 3 3
7 7 7 10 9 4
2 10 9 8 8 9
二、5 6 10 0 2 7
3 4 7 9 9 8
4 5 6 0 2 0

17. 做个加法表

一、9 8 6 7 8 9
10 8 10 10 5 10
5 9 8 9 9 8
8 10 10 8 5 7
10 7 9 6 6 10

二、

1
5 3 2
4

 (10)
(8)

5	4	1
1	2	3
3	0	4

(10)
(6)
(7)
(9)(6)(8)

三、1+9 3+7 4+6 5+5
1+8 3+6 4+5 0+9
(答案不唯一)

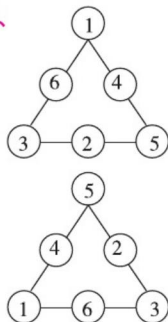
18. 做个减法表

一、5 1 6 2 2 0
2 6 2 0 7 6



9 0 3 4 3 7
4 3 2 0 3 3
8 1 3 3 6 4

二、



三、9 2 7 5 4 5

19. 整理与复习

一、9 10 8 0 4 9
7 3 10 10 1 3
2 10 8 5 3 7
3 5 0 2 10 3
9 6 10 10 6 3

二、1. 10 7 8 3 10

5 9 6 8 1

2. < > < < > <

= > =

第四单元 分 类

1. 整理房间

一、10 1 4 6 2 5
1 8 8 10 4 5
3 10 8 9 5 7
6 10 8 9 9 4
10 9 10

二、3 7 4 4 3 4
3 1 7 2 1 2
4 3 2 2 1 3

2. 一起来分类(1)

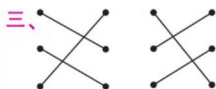
一、7 4 9 2 9 10
4 7 7 4 3 4
8 3 9 8 9 5
2 6 9 8 10 3
1 9 5

二、9 2 8 4 9 1
6 1 3 9 1 1
1 10 1 0 4 9

3. 一起来分类(2)

一、8 7 10 2 10 3
6 5 3 10 2 9
5 8 3 8 3 3
7 7 7 10 9 4
8 8 9

二、4 5 4 6



4. 整理与复习

一、6 2 0 7 6 7
10 1 6 3 9 2
8 4 6 4 8 4
10 5 9 2 10 8
10 7 3

二、1. 3 4 5 3 4 4 3 8
2

2. < > < < = >

第五单元 位置与顺序

1. 前 后

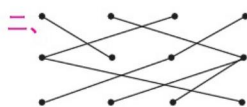
一、5 1 9 10 10 7
2 1 9 8 8 0
4 9 1 7 10 7
4 2 10 6 8 7

10 8 9

二、8 3 9 5 10 7
3 2 8 10 1 4
10 2 6 4 4 8

2. 上 下

一、5 3 8 2 10 1
10 9 9 10 1 7
7 10 9 10 6 1
4 9 7 0 2 9
9 7 8



3. 左 右

一、9 1 4 3 10 3
6 7 6 4 8 5
4 9 5 6 2 6
6 7 3 5 9 5
8 4 6

二、10 9 10 6 2 4
4 2 3 6 8 10
9 7

4. 教 室

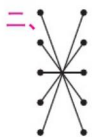
一、8 5 5 3 8 1
4 9 9 2 4 3
9 10 5 3 4 0
3 8 5 9 6 6
1 6 7

二、< = < < = =
> > > < = =
< > <

5. 整理与复习

一、7 6 10 4 8 8

3 6 2 9 5 4
5 3 6 3 10 8
1 9 5 8 1 1
7 5 7



第六单元 认识图形

1. 认识图形

一、5 9 9 3 9 3
3 10 10 10 8 1
8 8 2 6 7 10
1 7 3 7 0 6
8 8 6

二、10 7 8 3 9

5 9 6 8 1
4 10 8 9 6
9 7 10 8 4
7 10 5 9 0

2. 我说你做

一、7 2 10 4 9 3
4 10 9 3 6 8
7 10 8 9 6 7
5 9 4 5 10 6
4 8 8

二、10 3 5 6 1 2
8 1 1 2 5 3
2 4 0 1 0 5

3. 整理与复习

一、9 7 9 8 8 9
9 5 6 4 2 7
1 10 5 10 1 9

8 3 2 9 10 4
5 10 9 10 0 3

二、2 7 2 2 5 6

7 1 3 2 4 3
5 3 1

第七单元 加与减(二)

1. 古人计数(1)

一、1 10 12 20 6 8
9 15 3 9 5 14
9 16 10 4 9 9
6 7 1 17 10 16
5 5 11

二、1.

1
2 3 4
6

 (9)
(10)

2.

3
1 5 4
2

2. 古人计数(2)

一、13 9 10 19 4 7
2 7 20 9 6 10
5 7 2 17 9 0
1 3 16 4 10 5
8 7 14

二、= < > > > <
< > < < > >
> = <

3. 搭积木

一、10 3 9 12 13 14
10 15 8 18 11 7
5 10 13 7 13 16
16 15 10 19 12 17
5 16 12 3 12 17

二、4 10 10 10 1 2
1 10 9 4 6 10
3 12 8 11 3 5

4. 有几瓶牛奶

一、18 6 2 13 5 13
14 14 16 19 5 10
14 12 9 17 10 14
19 12 15 11 15 5
8 4 17

二、1 4 14 1 2 12
1 1 11 1 3 13
1 5 15 1 7 17

5. 有几棵树

一、10 12 19 10 9 17
13 16 9 15 10 11
17 18 8 12 15 11
10 13 13 10 17 16
16 18 14

二、1. $8 + 3 = 11$ $2. 4 + 8 = 12$
 $3. 5 + 8 = 13$ $4. 8 + 7 = 15$

6. 有几只小鸟

一、11 12 12 12 13 13
11 11 11 11 11 14
12 13 15 18 14 14
13 13 11 12 12 12
15 16 15 15 11 14
二、11 15 13 10 14 12
12 14 10 13 15 11
16 15 12 13 11 14

7. 做个加法表

一、11 12 11 14 16 14
13 16 11 14 11 15
12 17 14 15 11 13



11 12 11 13 13 13

15 13 12 12 12 15

二、 $4+10$ $6+8$ $9+5$ $8+6$

$13+1$

$5+7$ $6+6$ $7+5$ $8+4$

$2+10$

(答案不唯一)

8. 整理与复习

一、16 17 11 13 11 14

12 15 10 14 19 18

15 13 11 16 15 17

14 12 11 13 12 17

12 14 11 15 12 11

二、 $<$ $>$ $<$ $<$ $>$ $<$

$>$ $=$ $<$ $=$ $<$ $=$

$>$ $>$ $=$

数学好玩

1. 淘气的校园

一、11 6 16 17 15 14

17 4 16 5 13 13

14 10 6 19 13 11

12 5 11 6 13 12

二、 $-$ $+$ $+$ $-$ $-$ $+$

$+$ $+$ $+$ $-$ $+$ $+$

$-$ $+$ $+$

2. 一起做游戏

一、2 14 4 8 16 13

11 10 13 18 14 9

11 2 13 10 16 13

12 12 6 19 13 16

11 7 15

二、7 12 10 3 12

10 16 6 14 11

16 10 19 13 18

7 13 3 11 15

16 10 6 13 10

第八单元 认识钟表

1. 小明的一天

一、13 10 10 15 11 12

12 11 11 1 10 17

7 9 11 12 7 1

19 15 12 17 16 10

二、 $+$ $-$ $-$ $+$ $+$ $+$

三、从左到右、从上到下:

6 5 4

从上到下、从左到右:

4 6 5 12 7

2. 整理与复习

一、13 12 3 15 9 12

10 8 14 11 13 17

10 1 19 15 11 10

12 6 11 15 18 4

9 16 5 11 11 12

二、圈 6+8、10+4

圈 5+6、10+1

圈 10+5、6+2+7

圈 9+8、5+5+7

总复习

1. 总复习(1)

一、11 14 14 5 9 10

15 12 15 16 7 11

15 12 14 11 13 17

5 14 12 11 11 10

二、 $>$ $>$ $<$ $<$ $<$ $>$

$<$ $<$ $=$ $<$ $>$ $<$

$<$ $=$ $<$

2. 总复习(2)

一、8 17 14 12 15 11

12 10 10 13 13 12

16 11 12 3 6 11

16 17 11 14 14 11

11 8 11

二、从上到下:

4 10 6 12 6 8

11 8 7

三、2 3 4 10 7 9 6 4

3. 总复习(3)

一、5 15 12 17 6 4

12 10 12 18 10 5

1 18 17 14 13 14

12 15 15 14 16 10

14 12 11

二、5 7 2 3 12 2

6 5 4 10 8 4

7 6 6 5 7 5

4. 总复习(4)

一、7 11 7 4 12 1

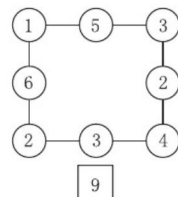
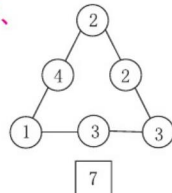
13 15 16 14 7 12

16 12 10 8 10 10

18 11 19 16 16 14

15 12 10 10 11 12

二、





► 与九年义务教育教科书配套使用

口算应用题整合集训

必刷应用题

口算 竖式口算 脱式口算

王运才/主编



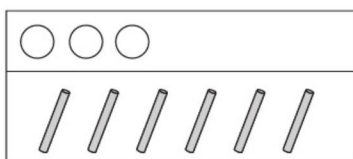
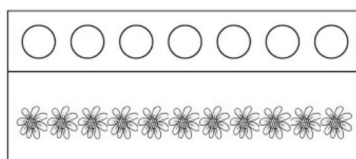

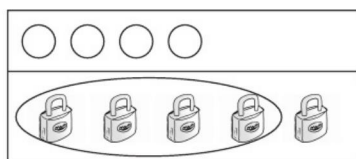
一年级 上册

南海出版公司







1 可爱的校园应用题

1. 照样子,圈一圈。



2. 把同样多的用线连起来。



3. 看图涂色。



2 生活中的数应用题(1)

1. 看数涂色。

5	8	10	0	3

2. 接着画下去。

5	
---	--

4	
---	--

6	
---	--

8	
---	--

3. 数一数,涂一涂。

(1) 涂出 6 个绿苹果。



(2) 把第 8 只鸭子圈起来。




4. 把与数字同样多的部分圈起来。



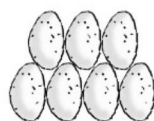
④



⑤



⑦

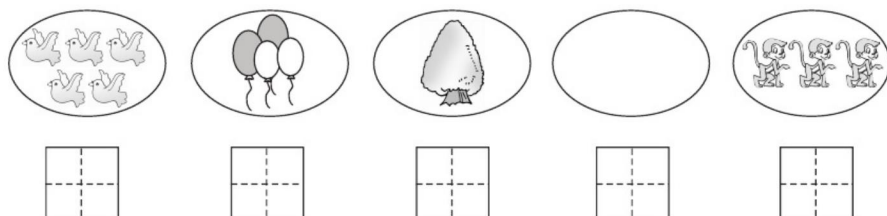


⑥



3 生活中的数应用题(2)


1. 数一数,写一写。



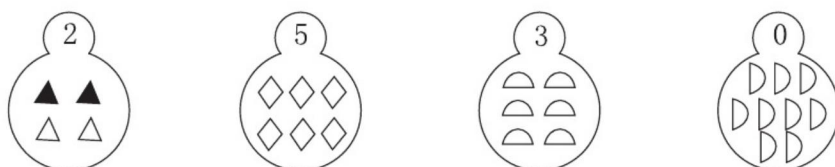
2. 按顺序写数。




3. 数一数,有几根 ?



4. 看数涂色。



5. 看图填一填。


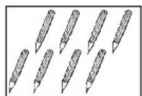
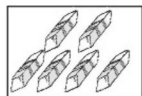


一共有()个小朋友在跑步。()号跑第 1 名,2 号跑第()名。



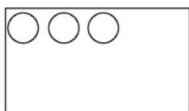
4 生活中的数应用题(3)

1. 看图写数。

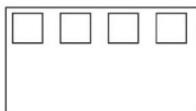


2. 看数接着画。

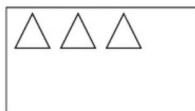
9



7



8



6



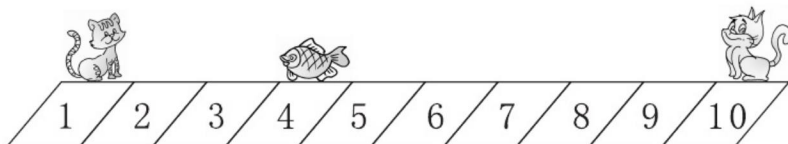
3. 看图填一填。



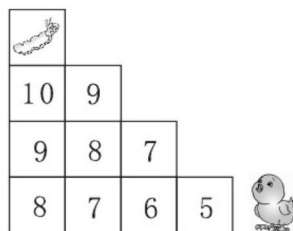
(1) 一共有()只小动物。

(2) 熊猫排第(), 青蛙排第()。

4. 说一说, 谁更接近?



5. 小鸡从 5 开始按顺序走到 10 才能吃到虫子。请你用不同颜色的笔画出几种不同的走法。





5 生活中的数应用题(4)

1. 画一画。

(1) 画△, △比□多2个。

□□

(2) 画○, ○比☆少3个。


☆☆☆☆☆☆

2. 哪一堆更合适? 画“√”。

(1) 每人一双




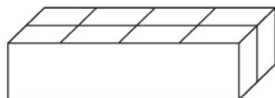
(2) 每只小猫1条



3. 圈一圈, 填一填。

	比 (多, 少) 4 ○ 3
	比 (多, 少) 3 ○ 4
	比 (多, 少) 4 ○ 2
	比 (多, 少) 2 ○ 4

4. 把这些巧克力蛋糕一格装一个, 装进盒子里, 能装下吗? (在正确答案后面画“√”)




能 ☐

不能 ☐




6 比较应用题(1)

1. 大的画“√”，小的画“○”。



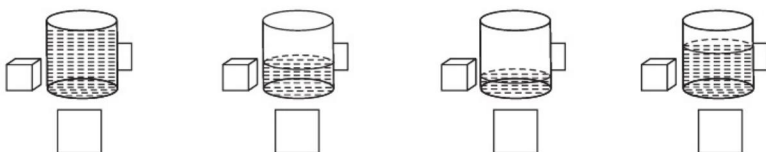
2. 最大的画“√”，最小的画“○”。




3. 装得多的画“√”。



4. 把同样多的方糖放在下面的杯中，哪杯最甜？画“√”，哪杯最淡画“○”。



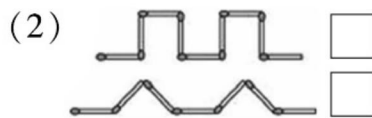
5. 下面3杯水放了糖后一样甜，给放入的糖最多的那杯画“○”。



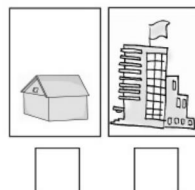



7 比较应用题(2)


1. 长的画“√”，短的画“○”。



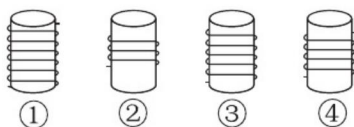
2. 矮的画“√”。



3. 从高到矮排一排。



4. 从短到长排一排。

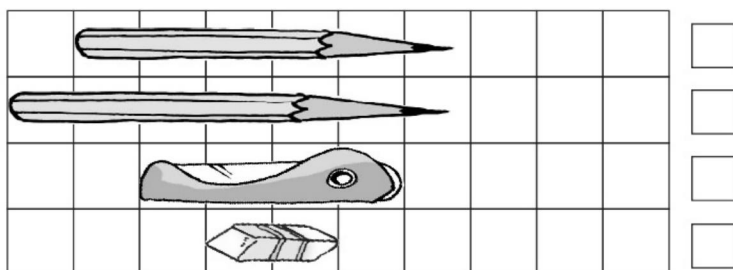


哪根绳子最长？



() < () < () < ()

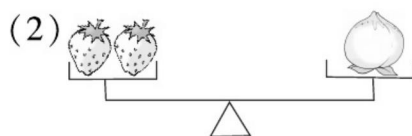

5. 在最长的文具后面画“√”。



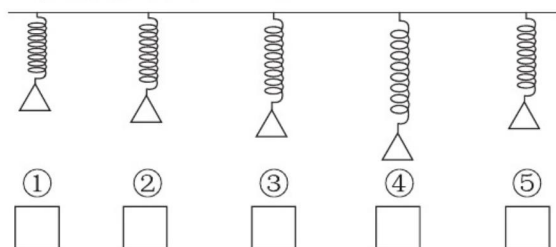


8 比较应用题(3)


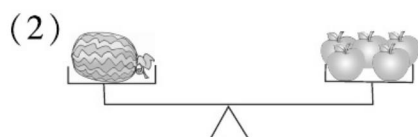
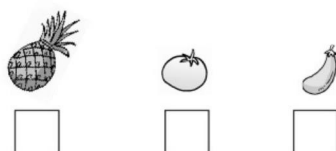
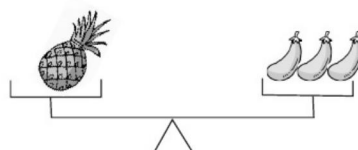

1. 轻的画“√”,重的画“○”。



2. 最轻的画“√”,最重的画“○”。



3. 最轻的画“√”,最重的画“○”。





9 加与减(一)应用题(1)

1. 先画一画,再填得数。


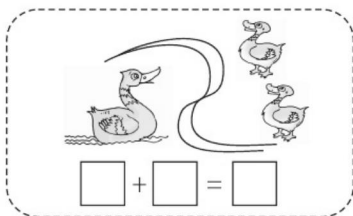
$$2 + 1 = \square$$

$$4 + 1 = \square$$

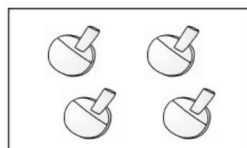
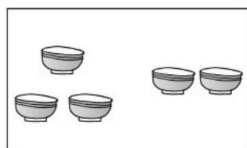
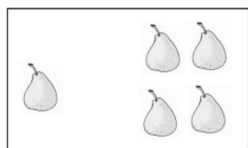
$$3 + 2 = \square$$

○ ○ ○

2. 一共有多少?



3. 数一数,算一算。



$$\square + \square = \square$$

$$\square + \square = \square$$

$$\square + \square = \square$$


4. 连一连。






10 加与减(一)应用题(2)

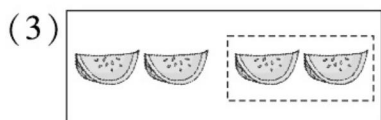
1. 填一填。




$$5 - \square = \square$$



$$3 - \square = \square$$



$$\square - 2 = \square$$



$$\square - \square = \square$$

2. 先画线,再填得数。

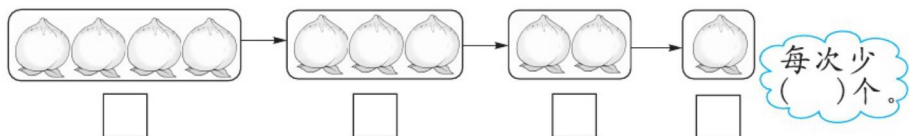
$$4 - 3 = \square$$

$$5 - 3 = \square$$


$$5 - 4 = \square$$



3. 数一数,填一填。



4. 一只猴子吃一个桃子,还差几个桃子?



猴子有()只,桃子有()个,还差()个桃子。

$$\square \bigcirc \square = \square$$



11 加与减(一)应用题(3)


1. 还有几个苹果?

树上有 <input type="text"/> 个	$5 - \square = \square$	$4 - \square = \square$	$2 - \square = \square$

2. 把得数相同的算式连一连。



3. 读问题列算式。



(1) 每人 1 双 还差几双?

$$\square - \square = \square$$


(2) 每人一个 , 够吗? (在正确答案后面画“√”)

$$\square - \square = \square \quad \text{够} \square \quad \text{不够} \square$$



12 加与减(一)应用题(4)

1. 看图列式计算。




$$\square + \square = \square$$




$$\square - \square = \square$$

2. 看一看,填一填。




$$2 + 4 = \square$$



$$\square + \square = \square$$

3. 把合起来是7的两张卡片涂上相同的颜色。



4. 游泳池里有 \square 人,岸上有 \square 人。一共有多少人?




$$\square \bigcirc \square = \square (\text{人})$$



13 加与减(一)应用题(5)

1. 看图列式计算。



$$\square + \square = \square$$

$$\square - \square = \square$$



$$\square + \square = \square$$

$$\square - \square = \square$$

2. 画一画, 填一填。

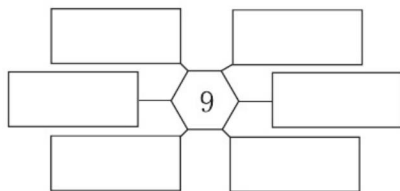
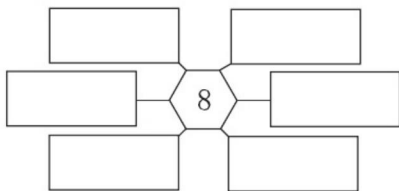
$\square \square \square$ _____

$$3 + \square = 9$$

$\triangle \triangle \triangle \triangle$ _____

$$4 + \square = 8$$

3. 填上加法或减法算式, 使它们的得数等于图案中心的数。



4. 一共有 8 个, 筐里有几个?



$$\square \bigcirc \square = \square$$

5. 一共有 9 颗星星。



猜一猜, 盖住了几个?






必刷应用题

14 加与减(一)应用题(6)

1. 在天平的另一端填上适当的数字,使天平平衡。



2. 草丛里有几只小兔?



一共有10只。

$$\square \bigcirc \square = \square$$



3.




又游来了5只。



现在有多少只鸭?

$$\square \bigcirc \square = \square$$

4. 树上原来有 10 只鸟,飞走了 3 只,还剩下几只?



$$\square \bigcirc \square = \square$$

5. 有下面 3 袋苹果,小明拿走了两袋。



(1) 他最多拿走了几个苹果?

$$\square \bigcirc \square = \square$$


(2) 最少拿走了几个苹果?

$$\square \bigcirc \square = \square$$



15 加与减(一)应用题(7)

1. 一共有多少个水果?



$$\square \bigcirc \square \bigcirc \square = \square$$

2. 一共有 9 个橘子,箱子里有几个?



$$\square \bigcirc \square \bigcirc \square = \square$$

3.



我做了5朵,
你做了4朵。



我们送6朵给小
班的小朋友吧。



还剩下几朵?

$$\square \bigcirc \square \bigcirc \square = \square$$

4. 摸牌游戏。



5、2、?

5、2、3



(1) 男孩摸了三张牌,它们的和是多少?

$$\square \bigcirc \square \bigcirc \square = \square$$

(2) 女孩也摸了三张牌,它们的和是 10,她摸的第三张牌上的数是多少?

$$\square \bigcirc \square \bigcirc \square = \square$$



16 加与减(一)应用题(8)

1.



我有3本课外书。

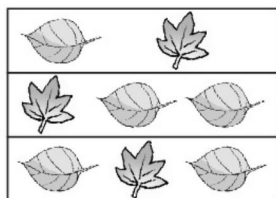
我有7本课外书。



她们一共有几本课外书?

$$\square \bigcirc \square = \square$$



2. 一共有多少片树叶?



方法一: $\square \bigcirc \square \bigcirc \square = \square$

方法二: $\square \bigcirc \square = \square$

3. 一共有多少只小鸟?



$$\square \bigcirc \square \bigcirc \square = \square$$

4. 一共有多少小朋友?

我前面有4个小朋友,
我后面有5个小朋友。




$$\square \bigcirc \square \bigcirc \square = \square$$



17 加与减(一)应用题(9)

1. 小丽画了 10 个气球。还有多少个气球没有涂色?



$$\square \bigcirc \square = \square$$

2. 原来有()根木头,大象搬走了()根,还剩多少根木头?



$$\square \bigcirc \square = \square$$

3. 再拿来几个  就和  同样多了?



$$\square \bigcirc \square = \square$$

4. 妈妈买来 8 个桃子,还剩几个桃子?



我吃了3个。

我吃了2个。




$$\square \bigcirc \square \bigcirc \square = \square$$




18 分类应用题

1. 把每组中不同类的圈起来。

(1) 



(2) 



(3) 



2. 先分一分,再算一算。



①



②



③



④



⑤



⑥



⑦



⑧



⑨



⑩



⑪



⑫

交通工具

办公用品

家用电器

交通工具和家用电器一共有多少个?

$$\square \bigcirc \square = \square$$

3. 按要求分一分。



①



②



③



④



⑤



⑥



⑦


(1) 分成两类: _____

(2) 分成三类: _____



19 位置与顺序应用题(1)

1. 填一填。



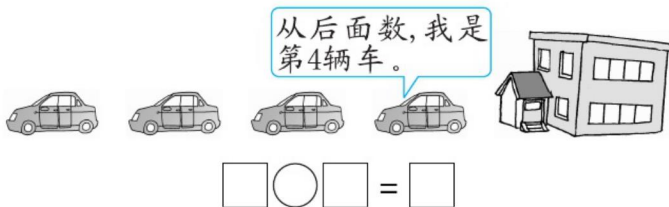
鸟在()的()面。

蛇在()的()面。

猫在()的()面。

象在()的()面。

2. 一共有几辆车?



3.



我前面有3人,
后面有6人。

一共有多少人
参加比赛?



$$\square \bigcirc \square \bigcirc \square = \square$$

4. 连一连。



我住二层。



我住在小猫下
面的一层。



我住在小猪
的上面。

我住在小猫上
面的一层。






20 位置与顺序应用题(2)

1. 填“左”或“右”。



① 葡萄在西瓜的()边,香蕉在西瓜的()边。

② 苹果在葡萄的()边,草莓在菠萝的()边。




爸爸的()手牵着宝宝。

妈妈的()手牵着宝宝。

宝宝的()边是爸爸。

宝宝的()边是妈妈。

2. 数一数,填一填。



(1) 一共有()盆花,把右边的4盆圈起来。

(2) 从左数第1盆开了()朵花,开3朵花的是第()盆。

(3) 开6朵花的是从右数第()盆,它左边一盆开()朵花。

(4) 从左数第()盆和第()盆合起来是9朵。

3. 在○的左边画3个○,右边画5个○,一共有多少个○?

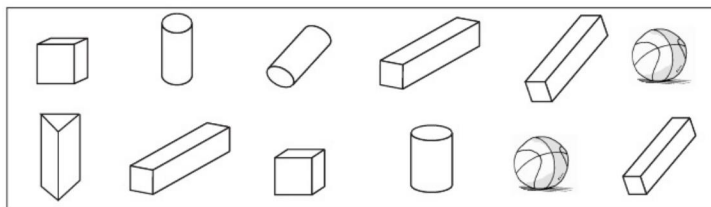


$$\square \bigcirc \square \bigcirc \square = \square$$



21 认识图形应用题





1. 填一填。

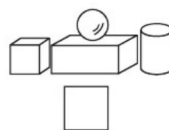
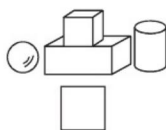
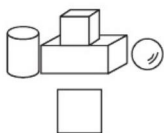


(1) 长方体有()个, 圆柱有()个, 正方体有()个, 球有()个。

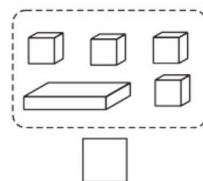
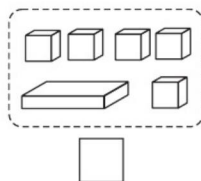
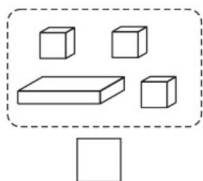
(2) 圆柱比长方体少()个。

2. 在正确的答案下面画“√”。

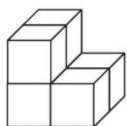
(1) 先放一个 , 在它的左边放一个 , 上面放一个 , 右边放一个 , 下面摆法正确的是:



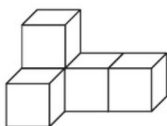
(2) 在能搭出左图的积木下面画“√”。



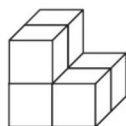
3. 下面每幅图中各用了几个小正方体?



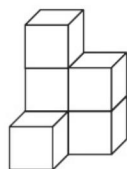
() 个



() 个



() 个


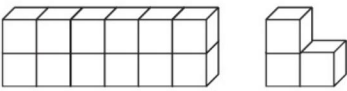


() 个



22 加与减(二)应用题(1)

1. 看图填算式。


	
$10 + 5 = \square$ $15 - \square = \square$	$12 + 3 = \square$ $\square - \square = \square$

2. 两种水果一共有多少个?



$$\square \bigcirc \square = \square$$

3. 要来 17 个人, 每人一把椅子, 还需要多少把椅子?



$$\square \bigcirc \square = \square$$

4. 它们一共钓了多少条鱼?



$$\square \bigcirc \square = \square$$

5. 有 13 人排成一队, 小红的前面有 3 人, 她的后面有几人?

$$\square \bigcirc \square \bigcirc \square = \square$$



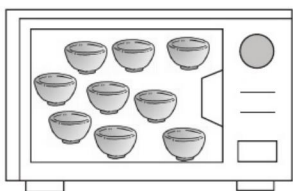
23 加与减(二)应用题(2)

1. 左边有 个, 右边有 个, 一共有 个。



$$\square \bigcirc \square = \square$$

2. 妈妈一共做了多少个  ?



我吃了3个, 还剩下这些。



$$\square \bigcirc \square = \square$$

3. 盒子里有 盒酸奶, 盒子外有 盒酸奶, 一共有 盒酸奶。



$$\square \bigcirc \square = \square$$

4. 原来有 人在踢毽子, 又来了 人, 一共有 人。



$$\square \bigcirc \square = \square$$



24 加与减(二)应用题(3)

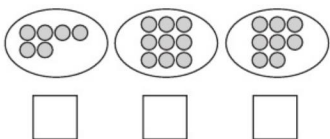
1.



树上有()个桃子,树下有()个桃子,一共有多少个桃子?

$$\square \bigcirc \square = \square$$


2. 选哪两堆比较合适? 在 ☐ 里面“√”。



幼儿园大班有17人,每人一个球。



3. 小朋友原来有多少颗糖?



吃了6颗糖,还剩8颗糖。



$$\square \bigcirc \square = \square$$

4. 他们一共买了多少本练习本?



我买了8本练习本。

我买的和你同样多。



$$\square \bigcirc \square = \square$$



25 加与减(二)应用题(4)

1. 原来有多少只鸭?



已经走了9只。



$$\square \bigcirc \square = \square$$

2. 淘气两次得了 15 分,他可能投中了哪两个? 用算式表示。



$$\square \bigcirc \square = \square \quad \square \bigcirc \square = \square$$

3.

我画了7颗五角星。



贝贝

我画了6颗五角星。



毛毛

我画了5颗五角星。



乐乐

(1) 贝贝和毛毛一共画了多少颗五角星?

$$\square \bigcirc \square = \square$$

(2) 毛毛和乐乐一共画了多少颗五角星?

$$\square \bigcirc \square = \square$$

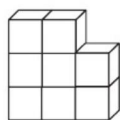
4. \triangle 和 \square 各表示什么数?

$$\triangle + \square = 13 \quad \square + 5 = 12 \quad \triangle = (\quad) \quad \square = (\quad)。$$



26 加与减(二)应用题(5)

1. 一共有多少块积木?



$$\square \bigcirc \square = \square$$

2. 公交车上原来有 6 名乘客,后来又上来同样多的人。车上现在有多少名乘客?

$$\square \bigcirc \square = \square$$

3. 小华买了两盆花,最多有多少朵? 最少有多少朵?



最多: $\square \bigcirc \square = \square$

最少: $\square \bigcirc \square = \square$

4. 两个小朋友一共做了多少朵黄花?



我做了 6 朵红花, 7 朵黄花。

我做了 8 朵红花, 4 朵黄花。



$$\square \bigcirc \square = \square$$

5. 小军原来有多少元?



买书后还剩 5 元。



8 元

$$\square \bigcirc \square = \square$$




27 认识钟表应用题

1. 找规律,画指针。



2. 小熊请小动物们吃晚饭。(表示的时间均是下午或晚上)



(1) 小熊的朋友们分别是什么时间到的? 在图下的方框里填一填。

(2) 小熊准备晚上 7:00 开饭, 哪些朋友没有迟到? 请你在它旁边的 ☐ 里画“√”。

(3) () 来得最早, 比开饭时间早到 () 小时。

3.



我整点报到, 1时敲一下, 2时敲.....

从 1 时到 4 时, 它一共敲了 () 下。

4. 观察下面的时钟, 回答问题。

(1) 小明生病了, 他现在吃药是几时?



(2) 医生告诉他每 6 小时吃一次药, 今天他第二次吃药应该是什么时候?



部分参考答案

p1

2.



p2

2.



p3

1. 5 4 1 0 3

2. 0 2 5

3. 5 3 1 0

5. 5 4

p4

1. 6 8 9 7

3. (1) 10 (2) 3 1

4. 左边的小猫更接近鱼。

p5

2. (1) ☐ ☒ (2) ☐ ☒

3. 多 > 少 < 多 > 少 <

4. ☐ ☒

p6

1. ☒ ☐ ☐ ☒ ☒ ☐

2. ☐ ☒ ☐

3. ☐ ☒

4. ☐ ☐ ☒ ☐

5. ☐ ☐ ☐

p7

1. (1) ☐ (2) ☒

2. ☐ ☒ ☐ ☒ ☒ ☐

3. 2 3 1 1 2 3

4. ② ④ ③ ① 第①根最长

5. 第2支铅笔后面画“√”。

p8

1. (1) ☒ ☐ (2) ☒ ☐

2. ☒ ☐ ☐ ☐ ☐

3. (1) ☐ ☐ ☒

(2) ☐ ☐ ☒

p9

1. 3 5 5

2. $1+2=3$ $3+2=5$

3. $1+4=5$ $3+2=5$ $2+2=4$

4.

p10

1. (1) $5 - \boxed{2} = \boxed{3}$

(2) $3 - \boxed{1} = \boxed{2}$

(3) $\boxed{4} - 2 = \boxed{2}$

(4) $\boxed{5} - \boxed{4} = \boxed{1}$

2. 1 2 1

3. 4 3 2 1 1

4. 4 3 1 $4-3=1$

p11

1. 5 $5 - \boxed{1} = \boxed{4}$ $4 - \boxed{2} = \boxed{2}$

$2 - \boxed{2} = \boxed{0}$

2.

3. (1) $4 - 2 = 2$ (2) $4 - 4 = 0$

☒ ☐

p12

1. $4+2=6$ 或 $2+4=6$

$7-3=4$

2. 6 $3+4=7$

4. 3 $4+3=7$

p13

1. $4+5=9$ 或 $5+4=9$

$9-4=5$ 或 $9-5=4$

$5+3=8$ 或 $3+5=8$

$8-5=3$ 或 $8-3=5$

2. 6 4

3. 等于8的: $8-0$ 、 $7+1$ 、 $2+6$ 、 $5+3$ 、 $9-1$ 、 $4+4$

等于9的: $4+5$ 、 $5+4$ 、 $6+3$ 、 $3+6$ 、 $8+1$ 、 $7+2$

(答案不唯一)



4. $8 - 3 = 5$

5. $9 - 4 = 5$

p14

1. $9 - 3 = 6$

2. $10 - 4 = 6$

3. $5 + 5 = 10$

4. $10 - 3 = 7$

5. (1) $6 + 4 = 10$ (2) $4 + 3 = 7$

p15

1. $3 + 2 + 5 = 10$

2. $9 - 4 - 3 = 2$

3. $5 + 4 - 6 = 3$

4. (1) $4 + 2 + 3 = 9$

(2) $10 - 5 - 2 = 3$

p16

1. $7 + 3 = 10$

2. $2 + 3 + 3 = 8$ $3 + 5 = 8$

3. $3 + 3 + 4 = 10$

4. $4 + 5 + 1 = 10$

p17

1. $10 - 4 = 6$

2. $10 - 3 - 10 - 3 = 7$

3. $9 - 5 = 4$

4. $8 - 3 - 2 = 3$

p18

1. (1) 圈书 (2) 圈花

(3) 圈羊

2. 交通工具: ②、⑥、⑦、⑨、⑫

办公用品: ③、⑩

家用电器: ①、④、⑤、⑧、⑪

$5 + 5 = 10$

3. (1) ①③④⑦ ②⑤⑥

(2) ①⑥ ②③⑦ ④⑤

p19

1. 上 下 前 后

2. $4 + 3 = 7$

3. $3 + 6 + 1 = 10$

p20

1. (1) ①左 右 ②左 右

(2) 右 左 左 右

2. (1) 6 (2) 4 5 (3) 3 1

(4) 1 2 或 4 5

3. $3 + 1 + 5 = 9$

p21

1. (1) 4 3 2 2 (2) 1

2. (1) ☐ ☒ ☐

(2) ☐ ☒ ☐

3. 6 5 6 6

p22

1. 15 5 10 或 10 5 15 15 3

12

2. $6 + 10 = 16$

3. $17 - 6 = 11$

4. $5 + 11 = 16$

5. $13 - 3 - 1 = 9$

p23

1. 6 9 15 $6 + 9 = 15$

2. $9 + 3 = 12$

3. 9 7 16 $9 + 7 = 16$

4. 9 5 14 $9 + 5 = 14$

p24

1. 5 8 $5 + 8 = 13$

2. ☐ ☒ ☒

3. $6 + 8 = 14$

4. $8 + 8 = 16$

p25

1. $9 + 6 = 15$

2. $7 + 8 = 15$ $9 + 6 = 15$

3. (1) $7 + 6 = 13$

(2) $6 + 5 = 11$

4. 6 7

p26

1. $8 + 4 = 12$

2. $6 + 6 = 12$

3. $6 + 5 = 11$ $3 + 5 = 8$

4. $7 + 4 = 11$

5. $8 + 5 = 13$

p27

1. 提示: 时针指向 5, 分针指向 12。

2. (1) 7:00 4:00 6:00

8:00

(2) 蜗牛, 黄牛, 小象没有迟到。

(3) 黄牛 3

3. 10

4. (1) 8 时 (2) 下午 2 时

✓ 提升运算能力 ✓ 强化口算速度
✓ 培养口算习惯 ✓ 提高数学成绩

图书在版编目(CIP)数据

口算·应用题整合集训. 一年级. 上册 / 王运才主编.
—海口: 南海出版公司, 2015.6 (2019.7重印)
ISBN 978-7-5442-7788-4

I. ①口… II. ①王… III. ①速算—小学—习题集 ②
应用题—小学—习题集 IV. ①G624.505

中国版本图书馆CIP数据核字(2015)第100918号

KOUSUAN·YINGYONGTI ZHENGHE JIXUN·YI NIANJI SHANGCE
口算·应用题整合集训·一年级上册

主 编 王运才
责任编辑 张 媛 曹冬育
装帧设计 杨西福
出版发行 南海出版公司
电话: (0898) 66568511(出版)
(0898) 65350227(发行)
社 址 海南省海口市海秀中路51号星华大厦五楼
邮编: 570206
电子信箱 nhpublishing@163.com
经 销 新华书店
印 刷 北京中振源印务有限公司
开 本 787毫米×1092毫米 1/16
印 张 4.5
字 数 113千
书 号 ISBN 978-7-5442-7788-4
定 价 26.80元

南海版图书 版权所有 盗版必究

责任编辑: 张 媛 向文雯
封面设计: 杨西福

定价: 26.80元

ISBN 978-7-5442-7788-4

