



▶ 与九年义务教育教科书配套使用

口算应用题整合集训

口算题卡

口算 竖式口算 脱式口算

教辅资料站

电子教辅 试卷练习
知识总结 备课资源



王运才/主编

—— 扫码关注获取更多学习资料 ——



一年级 上册



南海出版公司



► 与义务教育最新**课程标准**教材配套使用

口算应用题整合集训

口算题卡

口算 竖式口算 脱式口算

王运才/主编

班级_____

一年级 上册

姓名_____



前 言

本书根据最新教学大纲以及现行最新课本编写，目的是培养学生学习数学的兴趣，对学生进行扎实口算、笔算技能训练，提高计算的速度和准确率。

本套书以计算为主，紧密结合各单元的教学目标，与课本同步，注重对学生基本口算能力和运算速度的训练。每页一般为两道大题，第一题主要是针对教材例题所设置的口算题，第二题主要是针对相关例题设置的竖式计算、脱式计算以及简便计算等。对于教材中没有涉及计算的例题，复习的是前面所学的关于计算的内容。

书中每页一次练习，需时 10~15 分钟，难度适中，既可在课内完成，也可作为家庭作业使用。坚持使用本书练习，运算速度会得到明显提升，计算的正确率也会达到满意的效果。真心希望本套书能够成为老师教学的好伴侣，学生学习的好伙伴。

编 者



微信公众号
教辅资料站

目 录

第一单元 数一数	1	3. 小 结	16
第二单元 比一比	2	4. 8、9 的分与合	17
第三单元 分一分	3	5. 10 的分与合	18
第四单元 认位置	4	6. 小 结	19
第五单元 认识 10 以内的数		7. 整理与练习	20
1. 1~5 的认识和写法	5	第八单元 10 以内的加法和减法	
2. 第 几	6	1. 5 以内的加法	21
3. 0 的认识和写法	7	2. 5 以内的减法	22
4. 认识 =、> 和 <	8	3. 0 的加减法	23
5. 6~9 的认识和写法	9	4. 小 结	24
6. 10 的认识和写法	10	5. 得数是 6、7 的加法	25
7. 整理与练习	11	6. 6、7 减几	26
第六单元 认识图形（一）	12	7. 小 结	27
有趣的拼搭	13	8. 得数是 8 的加法及相应的减法	28
第七单元 分与合		9. 解决问题	29
1. 2~5 的分与合	14	10. 得数是 9 的加法及相应的减法	30
2. 6、7 的分与合	15		

微信公众号
教辅资料站

11. 得数是 10 的加法及相应的减法	31
12. 求未知加数	32
13. 连加(1)	33
14. 连加(2)	34
15. 连减(1)	35
16. 连减(2)	36
17. 小 结	37
18. 加减混合(1)	38
19. 加减混合(2)	39
20. 整理与练习	40
丰收的果园	41

第九单元 认识 11 ~20 各数

1. 数 数	42
2. 数的组成	43
3. 10 加几及相应的减法(1)	44
4. 10 加几及相应的减法(2)	45
5. 整理与练习	46

第十单元 20 以内的进位加法

1. 9 加几(1)	47
2. 9 加几(2)	48
3. 8、7 加几(1)	49
4. 8、7 加几(2)	50
5. 小 结	51
6. 6、5、4、3、2 加几(1)	52
7. 6、5、4、3、2 加几(2)	53
8. 整理与练习	54

第十一单元 期末复习

1. 期末复习(1)	55
2. 期末复习(2)	56
3. 期末复习(3)	57
4. 期末复习(4)	58
5. 期末复习(5)	59
6. 期末复习(6)	60
7. 期末复习(7)	61
8. 期末复习(8)	62

参考答案	63
------	----





第一单元 数一数






___月___日

用时：___分___秒


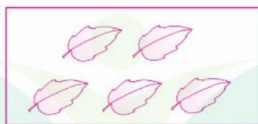

一、照样子数一数，再涂色。



二、数一数，在方框里画出相同数量的△。



三、把上下同样多的用线连起来。



自我评价

☐ 真棒

☐ 很好

☐ 继续努力




第二单元 比一比



___月___日

用时: ___分___秒

一、长的画“√”，短的画“○”。


☐

☐

☐

☐

二、1. 轻的画“√”，重的画“○”。 2. 最高的画“√”，最矮的画“○”。

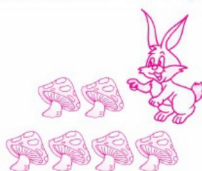

☐
☐

☐

☐

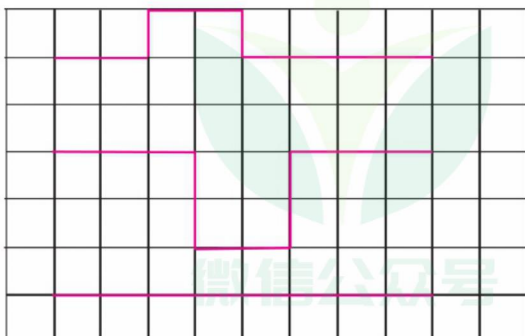
☐

三、蘑菇最多的画“√”，最少的画“○”。


☐

☐

☐

四、最长的画“√”，最短的画“○”。


☐
☐
☐


第三单元 分一分



___月___日

用时：___分___秒

一、涂一涂。

1. 把生活在水里的动物涂上颜色。



2. 把会飞的动物涂上颜色。



二、把每组中不同类的圈出来。

1.



2.



3.



三、把图形分成三类,有几种分法?选其中的一种连一连。



自我评价

☐ 真棒

☐ 很好

☐ 继续努力




第四单元 认位置



___月___日

用时: ___分___秒

一、把  左边的花涂红色,右边的花涂黄色。




二、把正确的答案圈起来。





1.  的左边是(  ), 右边是(  )。

2.  的右边是(  ), 左边是(  )。

三、涂一涂。

1. 把  上面的蔬菜涂黄色。

2. 把  左边的蔬菜涂绿色,右边的蔬菜涂红色。

3. 把  下面的蔬菜涂蓝色。



第五单元 认识 10 以内的数

1. 1~5 的认识和写法



___月___日

用时：___分___秒

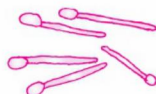
一、数一数，描一描，写一写。

					/	/	/						
					2	2	2						
					3	3	3						
					4	4	4						
					5	5	5						

二、数一数，写出每一种物品的个数。







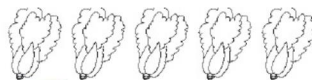




三、看数涂色。



3



5



2



4



自我评价

☐ 真棒

☐ 很好

☐ 继续努力



2. 第 几



___月___日



用时: ___分___秒

一、填一填。

1.



(1) 图中共有()种水果。

(2) 从左边数起,  排在第(),  排在第()。

(3)  的左边有()种水果, 右边有()种水果。

2.



第1个

第4个

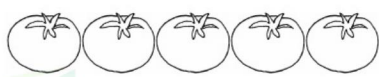
第5个

盖住的是第()个和第()个, 盖住了()个。

二、操作题。

1. 涂一涂。

(1) 把从右数第3朵涂上颜色。(2) 把左边3个涂上颜色。



2. 画苹果。



(1) 在从左数第2个盘子里画3个苹果。

(2) 在从右数第2个盘子和第3个盘子里都画4个苹果。



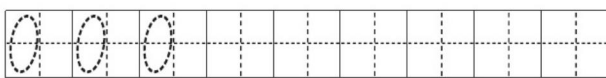
3.0 的认识和写法



___月___日

用时：___分___秒

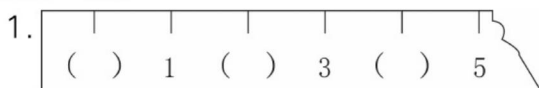
一、读一读，写一写。



二、数一数，写一写。



三、填一填。



四、数方格填数。



看一看，你发现了什么？



自我评价

☐ 真棒

☐ 很好

☐ 继续努力



4. 认识 =、> 和 <



___月___日

用时：___分___秒

一、在○里填上“>”“<”或“=”，在()里填上合适的数。

$2 \bigcirc 4$

$5 \bigcirc 3$

$4 \bigcirc 3$

$2 \bigcirc 3$

$3 \bigcirc 5$

$3 \bigcirc 3$

$1 \bigcirc 5$

$1 \bigcirc 3$

$4 < (\quad)$

$(\quad) > 2$

$3 < (\quad)$

$4 > (\quad)$


$3 < (\quad)$

$(\quad) > 2$

$1 < (\quad)$

$(\quad) < 2$

二、比一比，在□里填数，在○里填“>”“<”或“=”。



$4 < \square$



$2 \bigcirc 2$



$\square > \square$

三、圈一圈，比一比。



四、请给蜻蜓排排队。



___ < ___ < ___ < ___ < ___




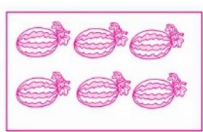
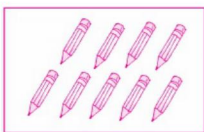

5.6~9 的认识和写法



___月___日


用时：___分___秒

一、看图写数。

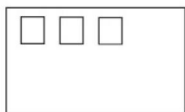


二、看数接着画。

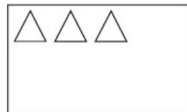
8



6




7



9



三、比一比。



比 多 () 个, 比 少 () 个。

四、圈一圈,涂一涂。



- 一共有 () 个南瓜。
- 把从左起第 8 个南瓜涂上黄色。
- 把右边的 4 个南瓜圈起来。



自我评价

☐ 真棒

☐ 很好

☐ 继续努力



6. 10 的认识和写法



___月___日

用时: ___分___秒

一、填一填。



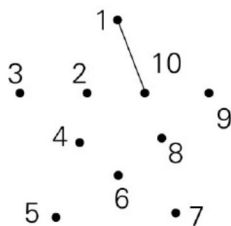
第1



排在第(), 前面有()只, 一共有()只鸭子。



二、按 1, 2, 3, ..., 10 的顺序连线。



三、在○里填“>”“<”或“=”，在□里填数。

$7 \bigcirc 3$

$4 \bigcirc 9$

$3 \bigcirc 3$

$10 \bigcirc 8$

$2 > \square$

$6 > \square$

$10 = \square$

$\square = 8$

四、在 9, 6, 4, 7, 3, 5, 1, 10 中, 把大于 4 的数写在下面。

--	--	--	--	--	--	--	--	--	--

在 10, 2, 0, 7, 3, 5, 4, 6 中, 把小于 6 的数写在下面。

--	--	--	--	--	--	--	--	--	--



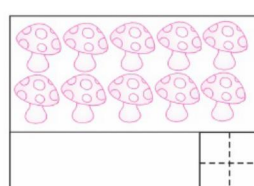
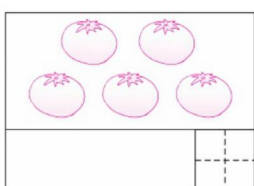
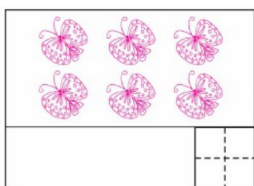
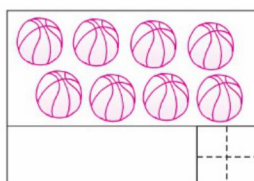
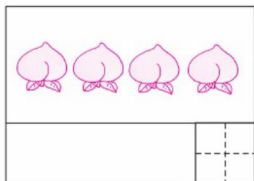
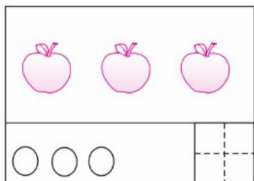
7. 整理与练习



___月___日

用时：___分___秒

一、画一画，写一写。



二、填一填。



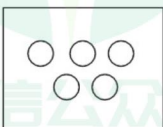

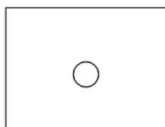
比 少 () 个, 比 多 () 个。

三、在正确答案的下面画“√”。

1. 比 5 大又比 8 小的数有: $\overset{9}{\square}$ $\overset{6}{\square}$ $\overset{8}{\square}$ $\overset{3}{\square}$ $\overset{7}{\square}$

2. 4 后面的第 3 个数是: $\overset{6}{\square}$ $\overset{7}{\square}$ $\overset{8}{\square}$

四、找规律画一画。



自我评价

☐ 真棒

☐ 很好

☐ 继续努力



第六单元 认识图形(一)



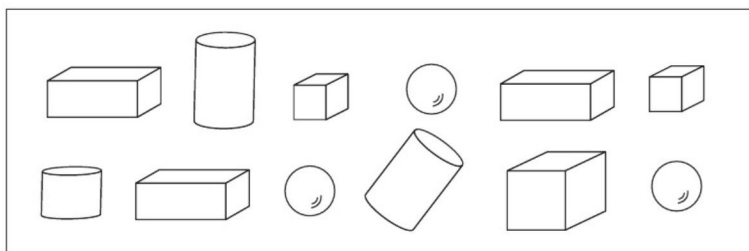
___月___日

用时: ___分___秒

一、连一连。




二、把长方体涂成红色,把正方体涂成蓝色,把圆柱涂成黄色,把球涂成绿色。



三、看图填一填。



1. 图中有()个,有()个,有()个,有()个。
2. 从左数,第()个是球。
3. 从右数,第2个和第()个的形状相同,都是()。



有趣的拼搭



___月___日


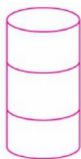

用时：___分___秒

一、画一画。

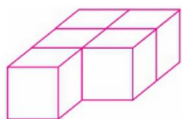
1. 在长方体的下面画“√”。



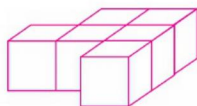
2. 哪一组能站稳？在下面画“√”。



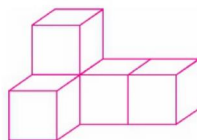
二、数一数。



() 个

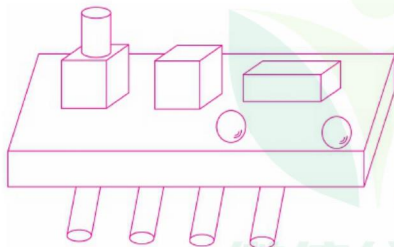


() 个



() 个

三、数一数，填一填。



() 个

() 个

() 个

() 个



自我评价

☐ 真棒

☐ 很好

☐ 继续努力



第七单元 分与合

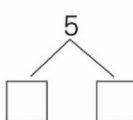

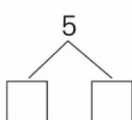
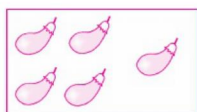
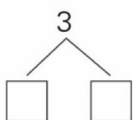

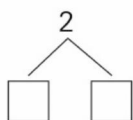
1. 2~5 的分与合



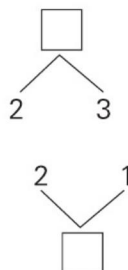
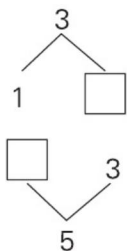
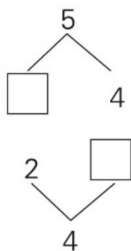
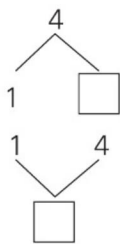
___月___日

用时: ___分___秒

一、看图填空。



二、在□里填上合适的数。

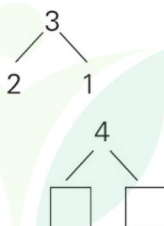
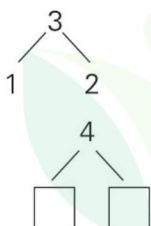


三、有顺序地填一填。

4	1	2	3

5	4	3	2	1

四、照样子,先涂色后填数。



1. ○ ○ ○ ○

2. ○ ○ ○ ○ ○



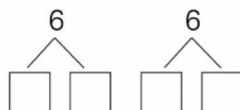
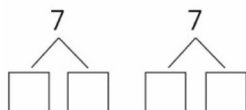
2.6、7 的分与合



___月___日

用时：___分___秒

一、分一分，填一填。



二、填一填。



三、分一分，合一合。

6		2		4	
	1		3		5

7	1	2			5	6
			3	4		

四、看图填空。



- 一共有()个鱼缸,从右边起第4个有()条鱼。
- 从左边起,第()个和第6个鱼缸里合起来是6条鱼。
- 从右边起,第1个和第()个鱼缸里合起来是7条鱼。



自我评价

☐ 真棒

☐ 很好

☐ 继续努力



3. 小 结




___月___日

用时：___分___秒

一、连一连。

1. 把上下合起来为 5 的连起来。



2. 把上下合起来为 7 的连起来。



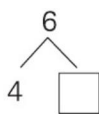
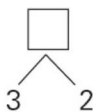
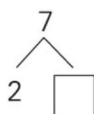
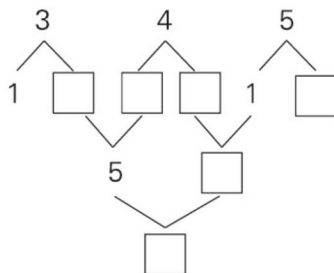
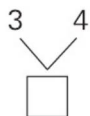
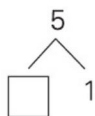
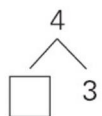
二、照样子接着画。

1. \triangle \triangle \square \square \triangle \triangle _____

2. \bigcirc \bigcirc \triangle \bigcirc \bigcirc \triangle _____

3. \star \star \star \triangle \triangle \star \star \star \triangle \triangle _____

三、填一填。



4.8、9 的分与合





___月___日

用时：___分___秒

一、连一连。

1. 把上下合起来为 8 的连起来。



2. 把上下合起来为 9 的连起来。

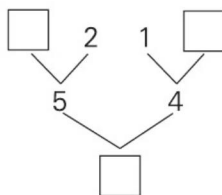
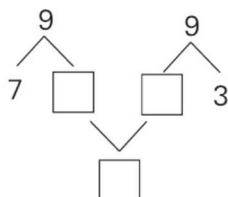


二、填一填。

1.

8		2		4		6	
	1		3		5		7

9	1	2			5	6		
			3	4			7	8



自我评价

☐ 真棒

☐ 很好

☐ 继续努力







5. 10 的分与合



___月___日

用时：___分___秒

一、画一画，使每张卡片上都有 10 个●。



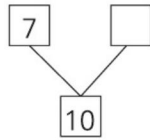
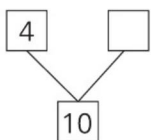
二、哪两个数合起来是 10？连一连。



三、画一画，填一填。

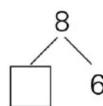
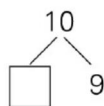
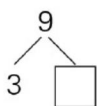
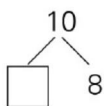
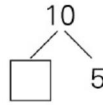
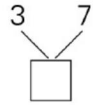
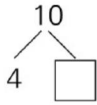
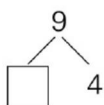
1. ○○○○

2. △△△△△△△



四、填一填。

10	7	2			5	6			3
			9	4			1	8	



6. 小 结


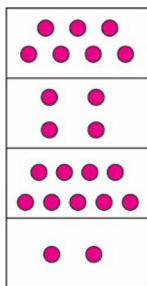


___月___日

用时：___分___秒

一、连一连。

1. 把合起来是 10 的连起来。



2. 把合起来是 8 的连起来。



二、照样子接着画。

1. $\triangle \triangle \bigcirc \bigcirc \triangle \triangle \bigcirc \bigcirc$ _____

2. $\bigcirc \bigcirc \triangle \triangle \triangle \bigcirc \bigcirc \triangle \triangle \triangle$ _____

三、照样子填一填。

8	
7	1
	2
	3
4	

10	
	1
7	
	2
5	

9	
5	
	2
3	
	1



自我评价

☐ 真棒

☐ 很好

☐ 继续努力



7. 整理与练习

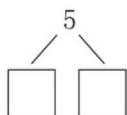


___月___日

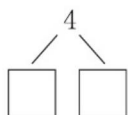
用时：___分___秒

一、分一分，填一填。

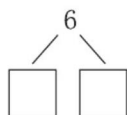
♡♡♡ ♡♡



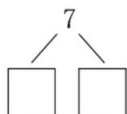
♡♡ ♡♡



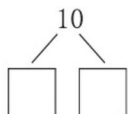
♡♡ ♡♡♡♡



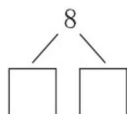
♡♡♡♡ ♡♡♡



♡♡♡♡♡ ♡♡♡♡♡



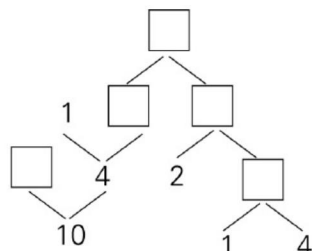
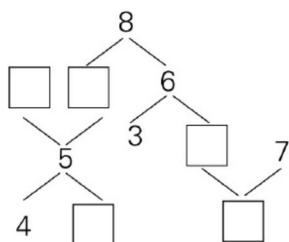
♡♡♡♡♡ ♡♡♡



二、照样子，填出另一朵花上的数。



三、在□里填上合适的数。



第八单元 10 以内的加法和减法

1.5 以内的加法



___月___日

用时: ___分___秒

一、填一填。




$1 + 2 = \square$



$2 + 2 = \square$



$4 + 1 = \square$



$3 + 2 = \square$

二、算一算。

$3 + 1 =$

$2 + 1 =$

$3 + 2 =$

$1 + 4 =$

$2 + 3 =$

$2 + 2 =$


$1 + 1 =$

$1 + 3 =$

$4 + 1 =$


三、看图列式计算。

1.



$\square + \square = \square$

2.




$\square + \square = \square$

3.



$\square \bigcirc \square = \square$

4.



$\square \bigcirc \square = \square$



自我评价

☐ 真棒 🌟🌟🌟🌟

☐ 很好 🌟🌟

☐ 继续努力 🌟🌟



2.5 以内的减法




___月___日

用时：___分___秒

一、圈一圈，填一填。

1.



$$3 - 1 = \square$$

2.



$$5 - 4 = \square$$

3.



$$4 - 3 = \square$$

4.



$$5 - 2 = \square$$

二、算一算。

$$5 - 1 =$$

$$5 - 4 =$$

$$3 - 1 =$$

$$4 - 2 =$$

$$5 - 2 =$$

$$4 - 1 =$$

$$3 - 2 =$$

$$4 - 3 =$$

$$2 - 1 =$$

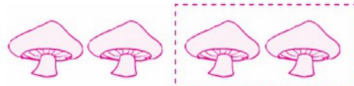
三、看图列式计算。

1.



$$\square - \square = \square$$

2.



$$\square - \square = \square$$

3.



$$\square - \square = \square$$

4.



$$\square - \square = \square$$

5.



$$\square - \square = \square$$

6.



$$\square - \square = \square$$



3.0 的加减法



___月___日

用时：___分___秒

一、口算。

$5 - 5 =$

$0 + 5 =$

$0 + 4 =$

$2 - 2 =$

$1 - 1 =$

$2 + 1 =$

$2 + 2 =$

$3 + 0 =$

$2 - 0 =$

$3 - 1 =$

$5 - 0 =$

$5 - 4 =$

$4 - 0 =$

$4 - 1 =$

$5 + 0 =$

$5 - 1 =$

$3 - 3 =$

$0 + 2 =$

$4 + 0 =$

$3 + 1 =$

$3 - 0 =$

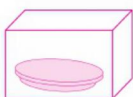

$0 - 0 =$

$4 - 3 =$

$3 - 2 =$

二、看图列式计算。

1.



$\square + \square = \square$

2.



$\square - \square = \square$

三、填一填。

3-

2	1	0	3

4-

2	1	0	3	4

5-

2	1	0	3	4	5



自我评价

☐ 真棒

☐ 很好

☐ 继续努力



4. 小 结



___月___日

用时：___分___秒

一、口算。

$3 + 1 =$

$2 - 1 =$

$4 + 0 =$

$2 + 3 =$

$3 - 2 =$

$5 - 1 =$

$3 - 1 =$

$1 + 4 =$

$2 + 2 =$

$4 - 0 =$

$5 - 3 =$

$1 + 1 =$

$5 - 4 =$

$4 - 2 =$

$5 - 2 =$

二、看图列式计算。

1.



$2 + \square = \square$

2.



$1 + \square = \square$

3.



$5 - \square = \square$

4.



$4 - \square = \square$

三、连一连。



5. 得数是 6、7 的加法



___月___日

用时：___分___秒

一、口算。

$5 - 1 =$

$5 + 1 =$

$3 + 2 =$

$5 - 4 =$

$6 - 0 =$

$1 + 2 =$

$1 + 6 =$

$2 + 2 =$

$4 + 2 =$

$4 - 3 =$

$2 + 5 =$

$0 + 5 =$

$2 + 4 =$

$4 + 3 =$

$6 + 1 =$

$4 + 1 =$

$4 - 2 =$

$5 - 2 =$

$4 - 1 =$

$3 + 3 =$

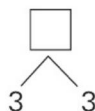
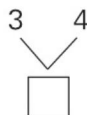
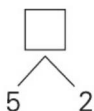
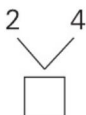
$1 + 5 =$

$3 + 1 =$

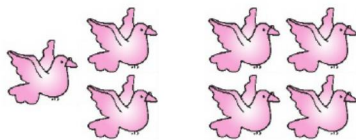
$0 + 3 =$

$6 - 6 =$

二、填一填。




三、看图填算式。



$\square + \square = \square$

$\square + \square = \square$



$\square + \square = \square$

$\square + \square = \square$



自我评价

☐ 真棒

☐ 很好

☐ 继续努力



6.6、7 减几



___月___日

用时：___分___秒

一、口算。

$6 - 2 =$

$7 - 5 =$

$6 - 1 =$

$7 - 0 =$

$6 - 3 =$

$5 - 2 =$

$4 - 2 =$

$3 - 2 =$

$7 - 6 =$

$4 + 2 =$

$6 - 6 =$

$6 - 4 =$

$5 - 1 =$

$4 + 3 =$

$7 - 2 =$

$4 - 3 =$

$7 - 4 =$

$5 - 3 =$

$1 + 5 =$

$3 - 1 =$


$5 + 2 =$

$5 - 4 =$

$3 + 3 =$


$5 - 5 =$

二、看图写算式。



$\square - \square = \square$

$\square - \square = \square$



$\square - \square = \square$

$\square - \square = \square$

三、照样子，填一填。

6-	2	1	0	3	4	5	6
	4						

7-	2	1	4	3	7	6	5



7. 小 结



___月___日

用时: ___分___秒

一、口算。

$4 + 3 =$

$1 + 2 =$

$4 + 0 =$

$7 - 5 =$

$2 + 2 =$

$3 + 3 =$

$3 - 3 =$

$5 - 0 =$

$3 + 2 =$

$6 + 1 =$

$1 + 4 =$

$7 - 2 =$

$5 + 2 =$

$2 + 4 =$

$0 + 3 =$

$7 - 3 =$

$5 - 2 =$

$5 + 1 =$

$4 - 3 =$

$4 - 4 =$

$3 + 4 =$

$6 - 1 =$

$7 + 0 =$

$3 - 2 =$

$7 - 4 =$

$4 + 2 =$

$5 - 4 =$

二、连一连。



$6-3$

7

3

$6-0$



$7-3$

3

6

$6+1$



$2+5$

6

5

$7-4$



$3+3$

5

4

$6-2$



$6-1$

4

$7-2$



自我评价

☐ 真棒

☐ 很好

☐ 继续努力



8. 得数是8的加法及相应的减法



___月___日

用时：___分___秒

一、口算。

$6 + 2 =$

$8 - 2 =$

$3 + 5 =$

$7 - 4 =$

$4 + 4 =$

$6 - 1 =$

$5 + 3 =$

$7 - 1 =$

$2 + 6 =$

$1 + 6 =$

$8 - 5 =$

$7 - 2 =$

$6 - 4 =$

$7 + 1 =$

$8 - 3 =$

$8 - 4 =$

$5 + 2 =$

$6 - 2 =$

$6 - 5 =$

$8 - 8 =$

$7 - 6 =$

$1 + 7 =$

$7 - 3 =$

$8 - 7 =$

$8 - 6 =$

$8 - 0 =$

$6 - 3 =$

二、看图填算式。

1.



$\square + \square = \square$

$\square + \square = \square$

$\square - \square = \square$

$\square - \square = \square$

2.



$\square + \square = \square$

$\square + \square = \square$

$\square - \square = \square$

$\square - \square = \square$



9. 解决问题



___月___日

用时：___分___秒

一、口算。

$6 + 1 =$

$4 + 3 =$

$8 - 4 =$

$6 - 4 =$

$2 + 6 =$

$3 + 3 =$

$3 + 2 =$

$8 - 2 =$

$6 - 3 =$

$7 - 3 =$

$6 - 5 =$

$4 + 1 =$

$6 - 2 =$

$3 + 5 =$

$4 + 4 =$

$8 - 5 =$

$5 + 1 =$

$7 - 5 =$

$7 + 1 =$

$8 - 1 =$

$6 - 1 =$

$7 - 6 =$

$7 - 4 =$

$4 + 2 =$

$3 + 4 =$

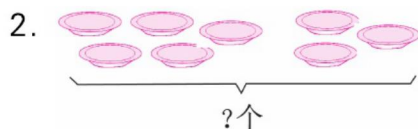
$6 - 6 =$

$8 - 3 =$

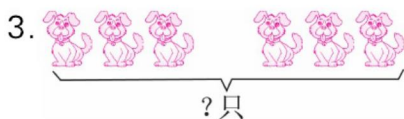
二、看图列式计算。



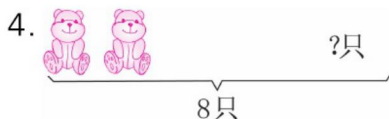
$\square \bigcirc \square = \square$



$\square \bigcirc \square = \square$



$\square \bigcirc \square = \square$



$\square \bigcirc \square = \square$



自我评价

☐ 真棒

☐ 很好

☐ 继续努力



10. 得数是9的加法及相应的减法



___月___日

用时：___分___秒

一、口算。

$2 + 7 =$

$9 - 6 =$

$9 - 1 =$

$3 + 5 =$

$4 + 5 =$

$6 + 3 =$

$8 - 6 =$

$9 - 8 =$

$8 - 3 =$

$9 - 3 =$

$8 + 1 =$

$9 - 7 =$

$8 - 5 =$

$4 + 4 =$

$5 + 4 =$

$3 + 6 =$

$9 - 4 =$

$8 - 4 =$

$8 - 2 =$

$5 + 3 =$

$1 + 8 =$

$9 + 0 =$

$9 - 9 =$

$8 - 7 =$

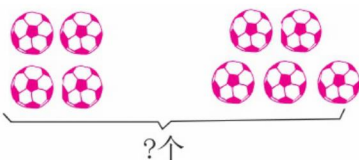
$4 + 2 =$

$6 - 1 =$

$5 - 3 =$

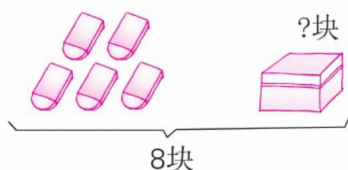
二、看图列式计算。

1.



$\square \bigcirc \square = \square$

2.



$\square \bigcirc \square = \square$

三、照样子,填一填。



2	1	7	3	8	5	6	9	0	4
7									



11. 得数是 10 的加法及相应的减法



___月___日

用时: ___分___秒

一、口算。

$8 + 2 =$

$5 + 3 =$

$10 - 0 =$

$10 - 3 =$

$5 + 5 =$

$6 + 4 =$

$6 + 3 =$

$10 - 2 =$

$9 + 1 =$

$10 - 9 =$

$9 - 5 =$

$10 - 8 =$

$7 + 3 =$

$1 + 9 =$

$3 + 7 =$

$10 - 6 =$

$4 + 2 =$

$10 - 1 =$

$9 - 4 =$

$10 - 7 =$

$9 - 3 =$

$2 + 8 =$

$6 + 2 =$

$10 - 10 =$

$10 - 4 =$

$4 + 6 =$

$10 - 5 =$

二、看图填一填。

1.



2.



里有4个  , 外面有  一共有10支

() 个, 一共有 () 个。 () 支, 盒子里有 () 支。

$\square \bigcirc \square = \square$

$\square \bigcirc \square = \square$



自我评价

☐ 真棒

☐ 很好

☐ 继续努力



12. 求未知加数



___月___日

用时: ___分___秒

一、口算。

$6 + 4 =$

$9 - 8 =$

$8 - 4 =$

$8 - 2 =$

$7 - 5 =$

$10 - 5 =$

$7 - 6 =$

$10 - 2 =$

$4 + 4 =$

$5 + 5 =$

$7 - 3 =$

$9 - 4 =$

$9 - 6 =$

$4 + 6 =$

$5 + 3 =$

$7 + 2 =$

$8 - 3 =$

$10 - 3 =$

$10 - 4 =$

$7 + 3 =$

$6 + 2 =$

$6 + 3 =$

$5 + 4 =$

$9 - 5 =$

$3 + 7 =$

$10 - 1 =$

$2 + 8 =$

二、在()里填上合适的数。

$7 + () = 10$

$() + 2 = 9$

$() + 4 = 8$

$() + 5 = 9$

$5 + () = 8$

$6 + () = 10$

$4 + () = 7$

$() + 9 = 10$

$() + 3 = 10$

$6 + () = 8$

$8 + () = 9$

$5 + () = 7$

$3 + 6 = 5 + ()$

$10 - 3 = 4 + ()$

$6 = () + 4$

$5 + 5 = () + 8$

$5 + 3 = () + 7$

$8 - 2 = 3 + ()$



13. 连加 (1)



___月___日

用时: ___分___秒

一、口算。

$8 + 2 =$

$10 - 8 =$

$4 + 2 + 1 =$

$9 - 3 =$

$4 + 4 =$

$3 + 5 + 1 =$

$10 - 6 =$

$6 + 2 =$

$8 + 1 + 1 =$

$8 - 2 =$

$6 - 3 =$

$1 + 5 + 3 =$

$6 + 1 =$

$2 + 7 =$

$1 + 2 + 3 =$

$10 - 7 =$

$4 + 3 =$

$7 + 1 + 2 =$

$6 + 3 =$

$7 - 1 =$

$3 + 4 + 2 =$

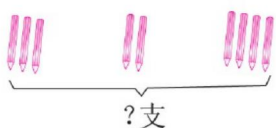
$10 - 4 =$

$6 + 4 =$

$5 + 4 + 1 =$

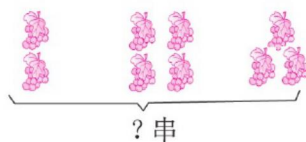
二、看图填一填。

1.



$3 + \square + \square = \square$

2.



$\square + \square + \square = \square$

三、求出每行、每列上 3 个数的和。

4	3	2	()
0	1	3	()
1	4	5	()

() () ()



自我评价

☐ 真棒

☐ 很好

☐ 继续努力



14. 连加(2)



____月____日

用时: ____分____秒

一、口算。

$7 + 2 =$

$4 + 4 =$

$8 - 3 =$

$9 - 7 =$

$0 + 2 =$

$9 - 5 =$

$4 + 1 =$

$10 - 5 =$

$8 - 6 =$

$2 + 7 =$

$4 + 2 =$

$10 - 6 =$

$6 + 1 =$

$3 + 4 =$

$7 - 3 =$

$5 - 3 =$

$7 - 2 =$

$6 + 3 =$

$8 - 4 =$

$6 + 3 =$

$7 - 1 =$

$5 + 3 =$

$2 + 5 =$

$7 - 6 =$

$9 - 2 =$

$3 + 7 =$

$10 - 2 =$

二、计算。

$2 + 5 + 3 =$

$1 + 3 + 5 =$

$1 + 6 + 2 =$

$6 + 2 + 2 =$

$7 + 0 + 1 =$

$4 + 2 + 2 =$

$5 + 2 + 1 =$

$4 + 1 + 2 =$

$3 + 5 + 0 =$

$2 + 4 + 0 =$

$6 + 0 + 3 =$

$3 + 3 + 3 =$

$7 + 1 + 2 =$

$4 + 4 + 1 =$

$3 + 2 + 5 =$

$3 + 2 + 3 =$

$3 + 6 + 1 =$

$4 + 3 + 2 =$



15. 连减 (1)



___月___日

用时: ___分___秒

一、口算。

$4 + 2 =$

$5 + 1 =$

$8 - 2 - 0 =$

$10 - 3 =$

$9 - 3 =$

$10 - 2 - 8 =$

$6 - 4 =$

$7 - 4 =$

$6 - 4 - 1 =$

$9 + 1 =$

$5 + 5 =$

$6 - 1 - 5 =$

$8 - 3 =$

$6 - 3 =$

$10 - 8 - 1 =$

$10 - 6 =$

$3 + 7 =$

$7 - 3 - 2 =$

$3 + 2 =$

$4 - 2 =$

$8 - 3 - 4 =$


$5 - 2 =$

$4 + 3 =$

$7 - 1 - 2 =$

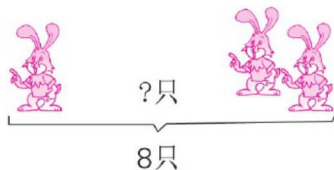
二、看图填一填。

1.



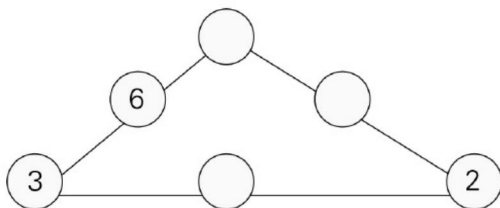
$10 - 2 - \square = \square$

2.



$\square - \square - \square = \square$

三、在○里填数,使每条线上的3个数相加都得“10”。



自我评价

☐ 真棒

☐ 很好

☐ 继续努力



16. 连减(2)



___月___日

用时: ___分___秒

一、口算。

$2 + 7 =$

$0 + 5 =$

$7 - 2 =$

$7 - 3 =$

$3 + 6 =$

$4 + 2 =$

$9 - 2 =$

$10 - 7 =$

$6 - 5 =$

$8 - 0 =$

$3 + 5 =$

$7 + 0 =$

$2 + 8 =$

$9 - 8 =$

$4 - 4 =$

$5 - 3 =$

$10 - 4 =$

$3 - 2 =$

$3 + 3 =$

$2 + 3 =$

$1 + 7 =$

$6 - 1 =$

$6 + 2 =$

$8 - 2 =$

$6 - 5 =$

$7 - 6 =$

$10 - 8 =$

二、计算。

$8 - 2 - 1 =$

$6 - 2 - 3 =$

$4 - 2 - 1 =$

$5 - 1 - 2 =$

$7 - 2 - 4 =$

$6 - 3 - 1 =$

$8 - 1 - 1 =$

$9 - 2 - 3 =$

$8 - 3 - 4 =$

$10 - 3 - 2 =$

$9 - 3 - 4 =$

$10 - 6 - 4 =$

$8 - 1 - 2 =$

$7 - 1 - 5 =$

$9 - 3 - 5 =$

$6 - 3 - 2 =$

$9 - 2 - 5 =$

$10 - 5 - 1 =$



17. 小 结



___月___日

用时: ___分___秒

一、口算。

$10 - 3 =$

$8 - 4 =$

$6 + 3 =$

$9 - 7 =$

$9 - 0 =$

$9 + 1 =$

$10 - 6 =$

$3 + 4 =$

$2 + 5 =$

$7 - 3 =$

$10 - 7 =$

$9 - 5 =$

$2 + 6 =$

$7 - 4 =$

$3 + 6 =$

$9 - 1 =$

$2 + 7 =$

$10 - 5 =$

$5 - 3 =$

$10 - 4 =$

$7 + 2 =$

$3 + 5 =$

$8 + 2 =$

$9 - 6 =$

$10 - 9 =$

$5 + 4 =$

$7 - 2 =$

二、计算。

$4 + 2 + 3 =$

$6 - 1 - 3 =$

$3 + 4 + 1 =$

$9 - 2 - 3 =$

$5 + 1 + 3 =$

$7 - 2 - 4 =$

$2 + 3 + 1 =$

$6 - 2 - 3 =$

$10 - 6 - 1 =$

$6 + 2 + 1 =$

$7 - 5 - 1 =$

$8 - 3 - 4 =$

$10 - 3 - 6 =$

$2 + 5 + 3 =$

$8 - 5 - 2 =$

$9 - 3 - 6 =$

$8 - 1 - 3 =$

$3 + 4 + 2 =$



自我评价

☐ 真棒

☐ 很好

☐ 继续努力



18. 加减混合 (1)



___月___日

用时: ___分___秒

一、口算。

$4 + 4 =$

$0 + 7 =$

$1 + 9 =$

$6 - 4 =$

$8 - 5 =$

$9 + 1 =$

$10 - 4 =$

$10 - 5 =$

$10 - 7 =$

$6 + 4 =$

$9 - 7 =$

$7 + 2 =$

$2 + 3 =$

$6 + 2 =$

$5 - 2 =$

$7 + 1 =$

$9 - 6 =$

$7 - 4 =$

$10 - 3 =$

$4 + 3 =$

$5 + 2 =$

$4 + 6 =$

$5 + 4 =$

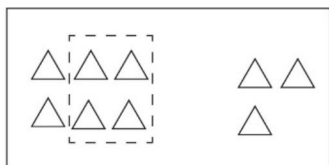
$8 - 4 =$

$10 - 2 =$

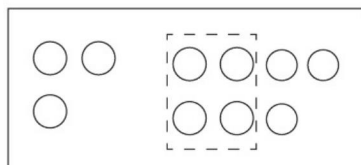
$9 - 1 =$

$4 + 5 =$

二、看图填一填。



$6 - \square + 3 = \square$



$3 + 7 - \square = \square$

三、连线。

$4 - 1 + 5$

9

7

$8 - 1 - 2$

$3 + 3 - 3$

8

5

$3 - 2 + 9$

$3 + 2 + 4$

3

10

$5 + 3 - 1$



19. 加减混合 (2)



___月___日

用时: ___分___秒

一、口算。

$9 - 8 =$

$10 - 3 =$

$9 - 7 =$

$5 + 5 =$

$6 + 3 =$

$7 + 3 =$

$9 + 1 =$

$7 + 2 =$

$8 - 5 =$

$10 - 4 =$

$6 - 4 =$

$10 - 7 =$

$8 - 7 =$

$3 + 5 =$

$2 + 8 =$

$10 - 9 =$

$10 - 5 =$

$10 - 2 =$

$8 + 2 =$

$5 - 4 =$

$9 - 1 =$

$3 - 2 =$

$8 - 4 =$

$4 + 3 =$

$1 + 9 =$

$8 + 1 =$

$10 - 6 =$

二、计算。

$6 - 4 + 3 =$

$3 + 7 - 4 =$

$2 + 5 - 3 =$

$8 - 5 + 3 =$

$4 + 5 - 7 =$

$10 - 8 + 5 =$

$2 + 6 - 5 =$

$7 + 3 - 6 =$

$5 - 2 + 4 =$

$4 + 3 - 2 =$

$6 - 2 + 5 =$

$9 - 8 + 7 =$

$7 + 3 - 5 =$

$5 - 5 + 4 =$

$0 + 9 - 3 =$

$4 + 2 - 6 =$

$8 - 3 + 3 =$

$10 - 7 + 3 =$



自我评价

☐ 真棒

☐ 很好

☐ 继续努力



20. 整理与练习



___月___日

用时: ___分___秒

一、口算。

$10 - 1 =$

$7 + 3 =$

$4 + 5 - 1 =$

$10 - 10 =$

$8 - 4 =$

$10 - 3 + 2 =$

$2 + 5 =$

$9 - 6 =$

$7 + 2 + 1 =$

$8 + 2 =$

$10 - 9 =$

$7 - 2 - 2 =$

$9 - 7 =$

$6 + 4 =$

$6 + 3 - 1 =$

$3 + 2 =$

$5 + 5 =$

$9 + 1 - 3 =$

$7 - 4 =$

$2 + 3 =$

$7 - 3 - 4 =$

$5 - 3 =$

$4 + 6 =$

$10 - 6 - 1 =$

$9 - 3 =$

$8 + 1 =$

$3 + 4 + 3 =$

二、算一算,填一填。

$9 \xrightarrow{+1} \square \xrightarrow{-3} \square \xrightarrow{+1} \square \xrightarrow{-5} \square \xrightarrow{+6} \square \quad \triangle$

$10 \xrightarrow{-5} \square \xrightarrow{+4} \square \xrightarrow{-3} \square \xrightarrow{+2} \square \xrightarrow{-7} \square \quad \triangle$

$8 \xrightarrow{-4} \square \xrightarrow{+6} \square \xrightarrow{-2} \square \xrightarrow{+1} \square \xrightarrow{-3} \square \quad \triangle$

$3 \xrightarrow{+6} \square \xrightarrow{-2} \square \xrightarrow{+3} \square \xrightarrow{-2} \square \xrightarrow{-4} \square \quad \triangle$

$5 \xrightarrow{+2} \square \xrightarrow{+3} \square \xrightarrow{-5} \square \xrightarrow{+4} \square \xrightarrow{-9} \square \quad \triangle$



丰收的果园



___月___日

用时：___分___秒

一、口算。

$10 - 4 =$

$8 - 6 =$

$10 - 3 - 7 =$

$3 + 4 =$

$4 + 2 =$

$8 + 1 - 2 =$

$2 + 8 =$

$4 - 3 =$

$7 - 4 + 3 =$

$5 - 2 =$

$5 + 4 =$

$9 - 2 - 5 =$

$2 + 6 =$

$7 - 3 =$

$3 + 4 - 1 =$

$9 - 5 =$

$5 + 3 =$

$5 + 2 - 3 =$

$3 + 7 =$

$6 - 1 =$

$4 - 2 + 7 =$

$10 - 8 =$

$5 + 5 =$

$10 - 4 + 2 =$

$7 + 3 =$

$9 - 2 =$

$9 - 5 - 1 =$

二、在()里填上合适的数。

$() + 2 = 5$

$6 + () = 10$

$() + 2 = 7$

$3 + () = 6$

$() + 5 = 9$

$4 + () = 8$

$() + 6 = 9$

$2 + () = 10$

$7 + () = 9$

三、在○里填上“>”“<”或“=”。

$2 + 6 \bigcirc 9$

$7 - 3 \bigcirc 3$

$9 - 4 - 3 \bigcirc 3$

$8 \bigcirc 6 + 3$

$6 \bigcirc 10 - 4$

$5 + 4 - 2 \bigcirc 6$



自我评价

☐ 真棒

☐ 很好

☐ 继续努力



第九单元 认识 11 ~ 20 各数

1. 数 数



___月___日

用时: ___分___秒

一、口算。

$10 - 5 =$

$10 - 7 =$

$4 + 4 =$

$7 - 5 =$

$8 + 2 =$

$10 - 9 =$

$6 + 4 =$

$8 + 1 =$

$7 + 2 =$

$5 + 5 =$

$9 - 8 =$

$2 + 5 =$

$4 + 3 =$

$1 + 9 =$

$6 + 3 =$

$4 + 6 =$

$10 - 4 =$

$8 - 7 =$

$9 - 5 =$

$4 + 5 =$



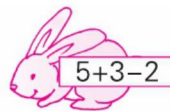
$10 - 3 =$

$7 - 7 =$

$10 - 8 =$

$9 - 0 =$

二、连一连。



2. 数的组成



___月___日

用时：___分___秒

一、口算。

$8 + 1 =$

$9 - 8 =$

$9 - 2 - 3 =$

$8 - 5 =$

$4 + 6 =$

$8 + 1 - 6 =$

$2 + 5 =$

$10 - 4 =$

$10 - 5 + 1 =$

$5 - 1 =$

$1 + 7 =$

$3 + 7 - 5 =$

$10 - 6 =$

$5 + 4 =$

$7 - 6 + 4 =$

$3 + 3 =$

$6 - 4 =$

$2 + 7 - 3 =$

$9 - 3 =$

$4 + 3 =$

$10 - 3 - 4 =$

$3 + 2 =$

$7 - 3 =$

$4 + 6 - 5 =$

$10 - 2 =$

$8 + 1 =$

$1 + 8 - 3 =$

二、填一填。

1	+ 9 =	
---	-------	--

1	+ 8 =	
2		

3	+ 6 =	
1		
2		
4		

2	+ 7 =	
1		
3		

4	+ 4 =	
6		
5		
3		



自我评价

☐ 真棒

☐ 很好

☐ 继续努力



3.10 加几及相应的减法(1)



___月___日

用时: ___分___秒

一、口算。

$13 - 10 =$

$8 + 10 =$

$19 - 9 =$

$10 + 9 =$

$13 - 3 =$

$12 - 10 =$

$7 + 10 =$

$19 - 10 =$

$10 + 4 =$

$5 + 4 =$

$10 + 1 =$

$15 - 10 =$

$17 - 7 =$

$14 - 10 =$

$5 + 10 =$

$10 - 3 =$

$12 - 2 =$

$11 - 10 =$

$11 - 1 =$

$17 - 10 =$

$10 + 3 =$

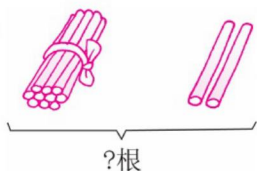
$10 + 2 =$

$6 + 10 =$

$18 - 10 =$

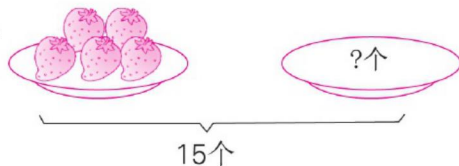
二、看图列式计算。

1.



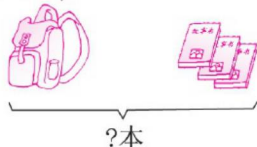
$\square \bigcirc \square = \square$

2.



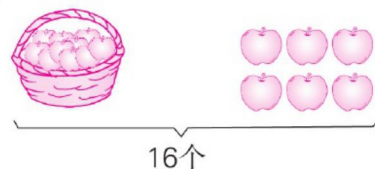
$\square \bigcirc \square = \square$

3. 10本



$\square \bigcirc \square = \square$

4. ?个



$\square \bigcirc \square = \square$



4. 10 加几及相应的减法 (2)



___月___日

用时: ___分___秒

一、口算。

$10 + 7 =$

$19 - 9 =$

$15 - 5 - 3 =$

$4 + 6 =$

$9 - 5 =$

$10 - 7 + 6 =$

$10 - 3 =$

$6 + 10 =$

$16 - 10 + 3 =$

$14 - 10 =$

$10 - 4 =$

$9 + 1 - 3 =$

$10 + 8 =$

$17 - 10 =$

$12 - 10 + 8 =$

$16 - 6 =$

$6 + 3 =$

$10 - 3 + 10 =$

$7 + 3 =$

$16 - 10 =$

$8 - 4 + 6 =$

$19 - 10 =$

$11 - 1 =$

$5 - 2 + 10 =$

$9 - 4 =$

$10 + 1 =$

$14 - 4 - 2 =$

二、在○里填上“>”“<”或“=”。

$10 - 6 \bigcirc 10$

$8 + 10 \bigcirc 18$

$19 - 9 \bigcirc 8 + 2$

$14 - 4 \bigcirc 8$

$16 - 6 \bigcirc 5$

$10 - 3 \bigcirc 17 - 10$

$10 - 8 \bigcirc 12$

$6 + 3 \bigcirc 10$

$6 + 3 \bigcirc 18 - 8$

$5 + 10 \bigcirc 15$

$16 - 10 \bigcirc 7$

$10 + 7 \bigcirc 16$

$17 - 7 \bigcirc 13$

$15 - 5 \bigcirc 15$

$5 + 4 \bigcirc 13 - 3$



自我评价

☐ 真棒

☐ 很好

☐ 继续努力



5. 整理与练习



___月___日

用时: ___分___秒

一、口算。

$14 - 4 =$

$9 + 10 =$

$6 + 4 - 3 =$

$6 + 10 =$

$10 - 2 =$

$12 - 10 + 8 =$

$11 - 1 =$

$12 - 10 =$

$9 - 7 - 2 =$

$19 - 10 =$

$19 - 9 =$

$16 - 6 - 5 =$

$4 + 10 =$

$10 + 7 =$

$3 + 4 + 10 =$

$13 - 3 =$

$5 + 10 =$

$6 - 2 + 10 =$

$10 - 4 =$

$14 - 4 =$

$15 - 10 + 4 =$

$14 - 10 =$

$8 + 2 =$

$1 + 7 + 2 =$

$15 - 5 =$

$16 - 6 =$

$17 - 10 - 5 =$

二、在()里填上合适的数。

$10 + () = 16$

$() + 2 = 10$

$() + 3 = 13$

$6 + () = 10$

$10 + () = 15$

$7 + () = 17$

$3 + () = 10$

$() + 8 = 18$

$() + 6 = 16$

$() + 7 = 9$

$5 + () = 8$

$() + 1 = 11$

$10 + () = 14$

$6 + () = 9$

$10 + () = 12$

$() + 9 = 19$

$1 + () = 10$

$4 + () = 9$



第十单元 20 以内的进位加法

1.9 加几 (1)



___月___日

用时: ___分___秒

一、口算。

$9 + 9 =$

$10 - 4 =$

$9 - 7 =$

$9 + 4 =$

$3 + 2 =$

$12 - 2 =$

$16 - 6 =$

$17 - 7 =$

$9 + 7 =$

$9 - 4 =$

$9 + 10 =$

$19 - 9 =$

$9 + 5 =$

$14 - 10 =$

$6 - 4 =$

$9 + 8 =$

$7 + 3 =$

$18 - 8 =$

$7 - 2 =$

$9 + 3 =$

$9 + 6 =$

$13 - 3 =$

$9 + 2 =$

$10 - 5 =$

二、在□里填上合适的数。

$$\begin{array}{c} 9 + 5 = \square \\ \begin{array}{c} \diagup \quad \diagdown \\ \square \quad \square \\ \diagdown \quad \diagup \\ \square \end{array} \end{array}$$

$$\begin{array}{c} 9 + 3 = \square \\ \begin{array}{c} \diagup \quad \diagdown \\ \square \quad \square \\ \diagdown \quad \diagup \\ \square \end{array} \end{array}$$

$$\begin{array}{c} 9 + 2 = \square \\ \begin{array}{c} \diagup \quad \diagdown \\ \square \quad \square \\ \diagdown \quad \diagup \\ \square \end{array} \end{array}$$

$$\begin{array}{c} 9 + 4 = \square \\ \begin{array}{c} \diagup \quad \diagdown \\ \square \quad \square \\ \diagdown \quad \diagup \\ \square \end{array} \end{array}$$

$$\begin{array}{c} 9 + 6 = \square \\ \begin{array}{c} \diagup \quad \diagdown \\ \square \quad \square \\ \diagdown \quad \diagup \\ \square \end{array} \end{array}$$

$$\begin{array}{c} 9 + 8 = \square \\ \begin{array}{c} \diagup \quad \diagdown \\ \square \quad \square \\ \diagdown \quad \diagup \\ \square \end{array} \end{array}$$



自我评价

☐ 真棒 🌟🌟🌟🌟

☐ 很好 🌟🌟

☐ 继续努力 🌟🌟



2.9 加几(2)



___月___日

用时: ___分___秒

一、口算。

$9 + 3 =$

$17 - 7 =$

$6 + 3 + 5 =$

$15 - 5 =$

$9 + 6 =$

$9 + 5 - 10 =$

$10 + 4 =$

$5 + 10 =$

$4 + 5 + 6 =$

$9 + 1 =$

$9 + 8 =$

$2 + 8 + 4 =$

$6 + 10 =$

$9 + 2 =$

$7 + 2 + 7 =$

$9 + 7 =$

$16 - 10 =$

$3 + 6 + 4 =$

$18 - 8 =$

$19 - 10 =$

$9 + 6 - 10 =$

$9 + 4 =$

$9 + 5 =$

$8 + 1 + 9 =$

二、填一填。

9+	2	1	7	3	8	5	6	9	4
11									

三、连一连。

$5 + 4 + 5$

$3 + 6 + 4$

$9 + 8$

$2 + 7 + 7$

$9 + 1 + 7$

$8 + 2 + 6$

$12 - 2 + 4$

$1 + 8 + 4$



3.8、7 加几 (1)



____月____日
用时: ____分____秒

一、口算。

$7 + 4 =$

$8 + 6 =$

$9 + 5 =$

$9 + 3 =$

$7 + 9 =$

$5 + 10 =$

$10 + 5 =$

$8 + 9 =$

$7 + 7 =$

$8 + 5 =$

$9 + 7 =$

$10 + 4 =$

$9 + 6 =$

$7 + 5 =$

$8 + 4 =$

$8 + 10 =$

$9 + 9 =$

$10 + 6 =$

$7 + 8 =$

$8 + 8 =$

$7 + 6 =$

$8 + 2 =$

$9 + 8 =$

$9 + 10 =$

$8 + 7 =$

$10 + 7 =$

$7 + 3 =$

二、填一填。

$$\begin{array}{c} 8 + 6 = \square \\ \swarrow \quad \searrow \\ \square \quad \square \\ \quad \quad \downarrow \\ \quad \quad \square \end{array}$$

$$\begin{array}{c} 8 + 9 = \square \\ \swarrow \quad \searrow \\ \square \quad \square \\ \quad \quad \downarrow \\ \quad \quad \square \end{array}$$

$$\begin{array}{c} 7 + 7 = \square \\ \swarrow \quad \searrow \\ \square \quad \square \\ \quad \quad \downarrow \\ \quad \quad \square \end{array}$$

$$\begin{array}{c} 7 + 8 = \square \\ \swarrow \quad \searrow \\ \square \quad \square \\ \quad \quad \downarrow \\ \quad \quad \square \end{array}$$

$$\begin{array}{c} 8 + 5 = \square \\ \swarrow \quad \searrow \\ \square \quad \square \\ \quad \quad \downarrow \\ \quad \quad \square \end{array}$$

$$\begin{array}{c} 7 + 5 = \square \\ \swarrow \quad \searrow \\ \square \quad \square \\ \quad \quad \downarrow \\ \quad \quad \square \end{array}$$



自我评价

☐ 真棒 🌟🌟🌟🌟

☐ 很好 🌟🌟

☐ 继续努力 🌟🌟



4. 8、7 加几 (2)



___月___日

用时: ___分___秒

一、口算。

$8 + 2 =$

$9 + 3 =$

$9 + 10 =$

$7 + 9 =$

$8 + 1 =$

$8 + 9 =$

$9 + 4 =$

$8 + 8 =$

$7 + 2 =$

$7 + 7 =$

$7 + 3 =$

$8 + 3 =$

$9 + 8 =$

$8 + 10 =$

$7 + 1 =$

$8 + 4 =$

$9 + 6 =$

$9 + 2 =$

$7 + 5 =$

$8 + 5 =$

$10 + 3 =$

$9 + 1 =$

$7 + 6 =$

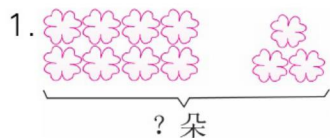
$9 + 7 =$

$7 + 4 =$

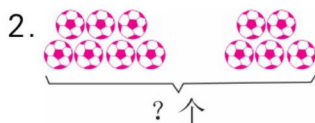
$9 + 9 =$

$8 + 6 =$

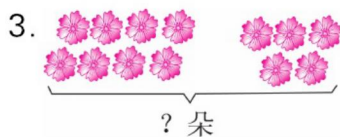
二、看图列式计算。



$\square \bigcirc \square = \square$



$\square \bigcirc \square = \square$



$\square \bigcirc \square = \square$



$\square \bigcirc \square = \square$



5. 小 结



___月___日

用时：___分___秒

一、口算。

$7 + 4 =$

$8 + 7 =$

$6 + 4 + 4 =$

$9 + 3 =$

$9 + 8 =$

$5 + 4 + 5 =$

$9 + 7 =$

$7 + 5 =$

$2 + 7 + 6 =$

$8 + 8 =$

$8 + 3 =$

$3 + 6 + 4 =$

$9 + 2 =$

$9 + 4 =$

$5 + 5 + 3 =$

$8 + 4 =$

$8 + 6 =$

$1 + 8 + 7 =$

$9 + 5 =$

$9 + 9 =$

$8 + 5 - 10 =$

$8 + 9 =$

$7 + 8 =$

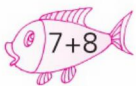
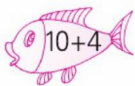


$9 + 3 - 10 =$

$8 + 5 =$

$7 + 6 =$

$7 + 6 - 3 =$

二、连一连。



自我评价

☐ 真棒 🌟🌟🌟🌟

☐ 很好 🌟🌟

☐ 继续努力 🌟🌟



6. 6、5、4、3、2 加几 (1)



___月___日

用时: ___分___秒

一、口算。

$9 + 2 =$

$5 + 7 =$

$9 + 3 =$

$8 + 4 =$

$9 + 4 =$

$5 + 8 =$

$7 + 4 =$

$4 + 7 =$

$3 + 8 =$

$5 + 6 =$

$2 + 9 =$

$8 + 6 =$

$3 + 9 =$

$8 + 5 =$

$6 + 9 =$

$9 + 9 =$

$6 + 8 =$

$9 + 5 =$

$6 + 7 =$

$4 + 9 =$

$8 + 3 =$

$4 + 8 =$

$7 + 5 =$

$6 + 6 =$

$8 + 7 =$

$9 + 7 =$

$7 + 8 =$

$9 + 6 =$

$6 + 5 =$

$5 + 9 =$

二、填一填。

6 +	5	=	
	9		
	7		
	4		
	8		
	6		

5 +	7	=	
	9		
	5		
	8		
	10		
	6		

4 +	9	=	
	8		
	5		
	6		
	4		
	7		



7. 6、5、4、3、2 加几 (2)



____月____日
用时: ____分____秒

一、口算。

$4 + 7 =$

$6 + 5 =$

$5 + 8 =$

$3 + 8 =$

$4 + 8 =$

$3 + 9 =$

$8 + 5 =$

$7 + 6 =$

$4 + 9 =$

$6 + 6 =$

$2 + 9 =$

$7 + 5 =$

$8 + 9 =$

$9 + 7 =$

$6 + 7 =$

$7 + 8 =$

$6 + 8 =$

$9 + 9 =$

$9 + 8 =$

$9 + 6 =$

$5 + 9 =$

$6 + 9 =$

$5 + 7 =$

$7 + 7 =$

$8 + 8 =$

$8 + 6 =$

$8 + 4 =$

二、在○里填上“>”“<”或“=”。

$5 + 8 \bigcirc 14$

$3 + 8 \bigcirc 11$

$5 + 7 \bigcirc 11$

$4 + 7 \bigcirc 10$

$5 + 5 \bigcirc 11$

$4 + 9 \bigcirc 12$

$3 + 9 \bigcirc 13$

$2 + 9 \bigcirc 12$

$4 + 8 \bigcirc 11$

$8 + 5 \bigcirc 12$

$6 + 8 \bigcirc 13$

$7 + 6 \bigcirc 14$

$3 + 9 \bigcirc 10$

$2 + 9 \bigcirc 11$

$6 + 5 \bigcirc 12$



自我评价

☐ 真棒

☐ 很好

☐ 继续努力



8. 整理与练习



___月___日

用时：___分___秒

一、口算。

$3 + 8 =$

$5 + 7 =$

$7 + 4 =$

$8 + 6 =$

$7 + 9 =$

$5 + 9 =$

$4 + 9 =$

$8 + 8 =$

$6 + 5 =$

$6 + 8 =$

$4 + 7 =$

$8 + 7 =$

$8 + 4 =$

$8 + 9 =$

$7 + 7 =$

$6 + 9 =$

$5 + 6 =$

$9 + 4 =$

$4 + 8 =$

$9 + 2 =$

$8 + 3 =$

$8 + 5 =$

$6 + 7 =$

$7 + 6 =$

$5 + 8 =$

$9 + 6 =$

$3 + 9 =$

$6 + 6 =$

$7 + 5 =$

$7 + 8 =$

二、照样子，补算式。

$$7 + 7 = \left\{ \begin{array}{l} \boxed{5} + \boxed{9} \\ \boxed{} + \boxed{} \\ \boxed{} + \boxed{} \\ \boxed{} + \boxed{} \\ \boxed{} + \boxed{} \\ \boxed{} + \boxed{} \end{array} \right.$$

$$4 + 8 = \left\{ \begin{array}{l} \boxed{9} + \boxed{3} \\ \boxed{} + \boxed{} \\ \boxed{} + \boxed{} \\ \boxed{} + \boxed{} \\ \boxed{} + \boxed{} \\ \boxed{} + \boxed{} \end{array} \right.$$



第十一单元 期末复习

1. 期末复习 (1)



___月___日

用时: ___分___秒

一、口算。

$4 + 7 =$

$8 - 2 =$

$5 + 4 =$

$5 + 9 =$

$8 + 7 =$

$6 + 8 =$

$9 + 8 =$

$6 - 2 =$

$6 + 10 =$

$7 - 2 =$

$5 + 8 =$

$7 + 6 =$

$9 + 5 =$

$15 - 5 =$

$9 - 3 =$

$3 + 2 =$

$6 + 7 =$

$6 + 5 =$

$6 + 6 =$

$8 - 3 =$

$7 - 2 =$

$10 - 4 =$

$4 + 9 =$

$13 - 10 =$

二、看图列式计算。

1.

? 个



9 个

$\square \bigcirc \square = \square$


2.



? 个


$\square \bigcirc \square = \square$

3.



$\square + \square = \square$

$\square + \square = \square$



$\square - \square = \square$

$\square - \square = \square$



自我评价

☐ 真棒

☐ 很好

☐ 继续努力



2. 期末复习 (2)



___月___日

用时: ___分___秒

一、口算。

$6 - 4 =$

$10 + 4 =$

$9 - 5 =$

$5 + 3 =$

$9 + 5 =$

$8 + 5 =$

$8 + 7 =$

$12 - 2 =$

$8 + 2 =$

$9 + 9 =$

$6 + 8 =$

$0 + 9 =$

$6 + 5 =$

$7 - 5 =$

$18 - 10 =$

$17 - 7 =$

$9 + 7 =$

$5 + 8 =$

$4 + 8 =$

$3 + 7 =$

$9 - 3 =$

$9 + 6 =$

$7 + 6 =$

$8 + 8 =$

$7 + 4 =$

$10 - 3 =$

$3 + 6 =$

二、在□里填上合适的数。

$$\begin{array}{c} 7 + 5 = \square \\ \begin{array}{cc} \swarrow & \searrow \\ \square & \square \end{array} \\ \downarrow \\ \square \end{array}$$

$$\begin{array}{c} 9 + 3 = \square \\ \begin{array}{cc} \swarrow & \searrow \\ \square & \square \end{array} \\ \downarrow \\ \square \end{array}$$

$$\begin{array}{c} 8 + 5 = \square \\ \begin{array}{cc} \swarrow & \searrow \\ \square & \square \end{array} \\ \downarrow \\ \square \end{array}$$

$$\begin{array}{c} 4 + 7 = \square \\ \begin{array}{cc} \swarrow & \searrow \\ \square & \square \end{array} \\ \downarrow \\ \square \end{array}$$

$$\begin{array}{c} 6 + 9 = \square \\ \begin{array}{cc} \swarrow & \searrow \\ \square & \square \end{array} \\ \downarrow \\ \square \end{array}$$

$$\begin{array}{c} 8 + 7 = \square \\ \begin{array}{cc} \swarrow & \searrow \\ \square & \square \end{array} \\ \downarrow \\ \square \end{array}$$



3. 期末复习 (3)



____月____日
用时: ____分____秒

一、口算。

$8 + 5 =$

$3 + 7 =$

$15 - 5 =$

$7 + 9 =$

$14 - 10 =$

$10 + 2 =$

$6 + 6 =$

$7 + 4 =$

$2 + 9 =$

$10 - 9 =$

$19 - 9 =$

$6 + 5 =$

$9 - 2 =$

$7 + 2 =$

$3 + 8 =$

$5 + 7 =$

$10 - 3 =$

$6 - 5 =$

$9 + 10 =$

$6 + 9 =$

$18 - 10 =$

$9 + 8 =$

$4 + 9 =$

$17 - 7 =$

$17 - 10 =$

$7 + 6 =$

$8 + 4 =$

二、在○里填上“+”或“-”。

$5 \bigcirc 3 = 8$

$8 \bigcirc 6 = 2$

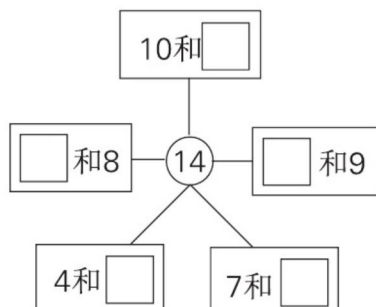
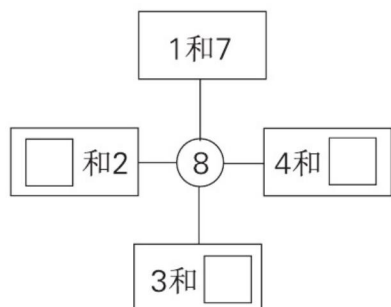
$13 \bigcirc 3 = 10$

$10 \bigcirc 6 = 16$

$5 \bigcirc 9 = 14$

$4 \bigcirc 9 = 13$

三、在□里填上合适的数。



自我评价

☐ 真棒 🌟🌟🌟🌟

☐ 很好 🌟🌟

☐ 继续努力 🌟🌟



4. 期末复习 (4)



___月___日

用时: ___分___秒

一、口算。

$8 + 5 =$

$7 + 5 =$

$6 - 3 =$

$7 + 8 =$

$2 + 7 =$

$13 - 3 =$

$16 - 6 =$

$5 + 7 =$

$6 + 8 =$

$13 - 10 =$

$5 + 8 =$

$8 + 9 =$

$3 + 7 =$

$10 - 9 =$

$8 + 8 =$

$2 + 9 =$

$4 + 7 =$

$15 - 5 =$

$3 + 9 =$

$9 - 3 =$

$5 + 6 =$

$4 + 8 =$

$9 + 9 =$

$8 - 4 =$

$3 + 6 =$

$8 - 2 =$

$10 - 5 =$

$4 + 9 =$

$7 + 4 =$

$19 - 10 =$

二、照样子把得数相同的算式圈起来。

12

4 + 8

6 + 5

10 + 2

5 + 7

14

6 + 8

10 + 4

5 + 7

10 + 2

11

5 + 6

7 + 5

8 + 4

10 + 1

15

7 + 7

10 + 5

6 + 2 + 7

19 - 10

17

9 + 8

8 + 10

5 + 2 + 6

5 + 5 + 7



5. 期末复习 (5)



____月____日
用时: ____分____秒

一、口算。

$5 + 6 =$

$4 + 8 =$

$3 + 5 + 6 =$

$8 - 3 =$

$7 + 2 =$

$7 - 5 + 8 =$

$7 + 8 =$

$5 + 7 =$

$14 - 4 + 5 =$

$5 + 4 =$

$9 - 2 =$

$6 - 2 + 7 =$

$8 + 7 =$

$7 - 4 =$

$9 - 4 + 9 =$

$6 + 6 =$

$9 + 4 =$

$16 - 10 + 7 =$

$3 + 2 =$

$3 + 8 =$

$8 - 3 + 7 =$

$7 + 7 =$

$6 + 7 =$

$4 + 9 - 3 =$

二、在○里填上“>”“<”或“=”。

$17 - 10 \bigcirc 10$

$6 + 9 \bigcirc 12$

$10 - 4 \bigcirc 14$

$7 + 7 \bigcirc 15$

$9 + 3 \bigcirc 14$

$9 + 7 \bigcirc 15$

$9 + 5 \bigcirc 15$

$10 - 3 \bigcirc 8$

$8 + 8 \bigcirc 10 + 6$

$10 - 2 \bigcirc 10$

$16 - 6 \bigcirc 9$

$9 + 6 \bigcirc 9 + 10$

$4 + 8 \bigcirc 7 + 6$

$6 + 5 \bigcirc 5 + 6$

$7 + 9 \bigcirc 10 + 7$



自我评价

☐ 真棒

☐ 很好

☐ 继续努力



6. 期末复习 (6)



___月___日

用时: ___分___秒

一、口算。

$4 + 4 =$

$6 + 6 =$

$3 + 6 + 5 =$

$13 - 10 =$

$7 + 8 =$

$17 - 7 - 3 =$

$9 + 3 =$

$19 - 9 =$

$2 + 9 - 1 =$

$13 - 3 =$

$6 + 7 =$

$4 + 4 + 4 =$

$8 + 8 =$

$4 + 7 =$

$10 - 6 + 8 =$

$9 - 6 =$

$10 - 4 =$

$5 + 8 - 10 =$

$7 + 9 =$

$8 + 9 =$

$9 + 5 - 10 =$

$9 + 9 =$

$7 + 7 =$

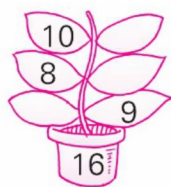
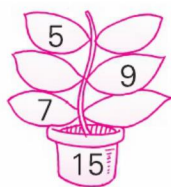
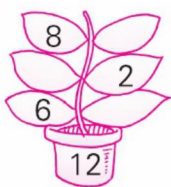
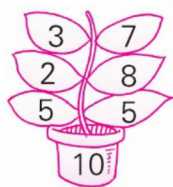
$7 - 5 + 9 =$

$3 + 8 =$

$0 + 8 =$

$8 - 3 + 6 =$

二、照样子,在叶子上填上合适的数。



三、在□里填上合适的数。

$8 + 1 = 7 + \square = 6 + \square = 5 + \square$

$10 + 4 = \square + 7 = \square + 5 = 8 + \square$



7. 期末复习 (7)



___月___日

用时: ___分___秒

一、口算。

$8 - 3 =$

$6 + 9 =$

$2 + 8 + 2 =$

$10 + 7 =$

$9 + 3 =$

$17 - 7 - 6 =$

$4 + 8 =$

$7 + 3 =$

$3 + 4 + 5 =$

$8 + 6 =$

$14 - 4 =$

$9 + 1 - 5 =$

$9 - 8 =$

$9 + 9 =$

$19 - 9 + 5 =$

$17 - 10 =$

$15 - 5 =$

$2 + 8 + 4 =$

$7 + 5 =$

$8 + 7 =$

$10 - 4 + 9 =$

$18 - 8 =$

$5 + 7 =$

$6 + 8 - 4 =$

$9 + 5 =$

$8 + 4 =$

$10 - 7 + 8 =$

二、在()里填上合适的数。

$3 + () = 8$

$2 + () = 9$

$8 + () = 10$

$() + 9 = 12$

$() + 5 = 15$

$() + 10 = 12$

$8 + () = 14$

$() + 6 = 11$

$9 + () = 13$

$() + 3 = 13$

$4 + () = 12$

$7 + () = 11$

$6 + () = 13$

$() + 5 = 11$

$9 + () = 15$

$() + 5 = 10$

$5 + () = 12$

$() + 8 = 13$



自我评价

☐ 真棒

☐ 很好

☐ 继续努力



8. 期末复习 (8)



___月___日

用时: ___分___秒

一、口算。

$8 + 2 - 3 =$

$8 + 8 - 10 =$

$8 - 4 + 3 =$

$4 + 5 - 5 =$

$9 - 3 + 6 =$

$8 + 2 - 9 =$

$3 + 7 - 7 =$

$5 + 5 - 4 =$

$7 + 3 + 6 =$

$6 + 3 + 2 =$

$9 - 4 + 2 =$

$4 + 4 + 4 =$

$5 + 4 + 7 =$

$4 + 5 + 3 =$

$6 - 6 + 10 =$

$8 + 1 - 1 =$

$9 + 8 - 7 =$

$5 + 6 - 1 =$

$17 - 7 + 6 =$

$8 + 6 - 10 =$

$16 - 10 + 8 =$

$5 + 4 + 7 =$

$3 + 7 + 2 =$

$4 + 5 + 5 =$

$6 + 2 + 7 =$

$2 + 5 + 5 =$

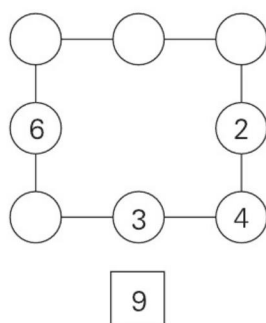
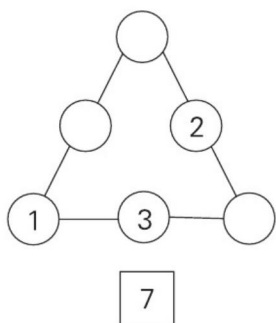
$9 + 6 - 5 =$

$8 + 4 - 2 =$

$7 + 5 - 10 =$

$8 - 3 + 7 =$

二、在○里填数,使每条线上的3个数相加等于□里的数。



参考答案

第一单元 数一数

一、2. 涂3个 3. 涂5个

4. 涂8个

二、△△△△△ △△

△△△△△△△△



第二单元 比一比

一、1. 在上面的□里画“○”，

下面的□里画“√”。

2. 在上面的□里画“○”，

下面的□里画“√”。

二、1. 在第1个□里画“○”，第

2个□里画“√”。

2. 在第2个□里画“√”，第

3个□里画“○”。

三、在第1个□里画“○”，第2

个□里画“√”。

四、在第2个□里画“√”，第3

个□里画“○”。

第三单元 分一分

一、1. 涂第2、4、6个

2. 涂第2、3、6个

二、1. 圈第2个

2. 圈第2个

3. 圈第4个

三、略

第四单元 认位置

一、略

二、1. 圈大象 圈小熊

2. 圈小兔 圈孔雀

三、略

第五单元 认识10以内的数

1. 1~5的认识和写法

一、略

二、2 4 5 3 1

三、略

2. 第几

一、1. (1)5 (2)4 2

(3)2 2

2. 2 3 2

二、略

3. 0的认识和写法

一、略

二、5 4 3 2 1 0

三、1. 0 2 4

2. 2 5 4 3 1 0

四、1 4 5

发现：从左到右依次增加1。

4. 认识=、>和<

一、< > > < < =

< <

5 3 4 2

4 3 5 1

(后两行答案不唯一)

二、5 = 4 3

三、略

四、1 2 3 4 5

5. 6~9的认识和写法

一、7 9 6 8

二、○○○ □□□

△△△△ ||||

三、3 3

四、1. 8 2. 略 3. 略

6. 10的认识和写法

一、6 5 10

二、略

三、> < = >

1 5 10 8

(部分答案不唯一)

四、9 6 7 5 10

2 0 3 5 4

7. 整理与练习

一、3 4 8 6 5 10

画一画略

二、4 4

三、1. 在6、7下面画“√”。

2. 在7下面画“√”。

四、○○○ ○○○○
○○○○ ○○○○

第六单元 认识图形(一)

一、略

二、略



三、1.2 1 3 1

2.5

3.5 长方体

有趣的拼搭

一、1. 在第2个和第4个下面画“√”。

2. 在第2个和第3个下面画“√”。

二、5 6 5

三、2 2 5 2

第七单元 分与合

1.2~5的分与合

一、1 1 1 2 4 1 3 2

二、3 1 2 5 5 2 2 3

三、3 2 1 1 2 3 4

四、略

2.6,7的分与合

一、3 4 4 3 2 4 4 2

二、7 4 3 6 5 2 3 7

三、从左到右、从上到下:

5 3 1 4 2

4 3 6 5 2 1

四、1.6 0

2.4

3.5

3.小结

一、1.

2.

二、1. □ □ △ △

2. ○ ○ △ ○

3. ☆ ☆

三、左边6个:1 4 7 5 5 2

最右边:2 3 1 4 2 7

4.8,9的分与合

一、1.

2.

二、1. 从左到右、从上到下:

7 5 3 1 6 4 2

6 5 2 1 8 7 4 3

2.3 8 1 8 2 6 8

3 3 9

5.10的分与合

一、画2个 画1个

画5个 画4个

二、

三、1.6 2.3 画一画略

四、从左到右、从上到下:

1 6 9 2 3 8 5 4

7 5 6 10 5 2 6 1

2

6.小结

一、1.

2.

二、1. △ △ ○ ○

2. ○ ○ △ △

三、6 5 4 9 3 8 5

4 7 6 8

7.整理与练习

一、3 2 2 2 2 4

4 3 5 5 5 3

二、1 5 7 7 2 3 3

三、3 2 3 1 10

10 3 7 6 5

第八单元 10以内的加法

法和减法

1.5以内的加法

一、3 4 5 5

二、4 3 5 5 5 4

2 4 5

三、1.3 2 5 2.4 1 5

3.3+1=4 4.2+2=4

2.5以内的减法

一、1.2 2.1 3.1 4.3

二、4 1 2 2 3 3

1 1 1

三、1.5 2 3 2.4 2 2

3.4 1 3 4.5 1 4

5.5 4 1 6.4 3 1

3.0的加减法

一、0 5 4 0 0 3

4 3 2 2 5 1

4 3 5 4 0 2

4 4 3 0 1 1

二、1.3 0 3

2.2 2 0

三、1 2 3 0

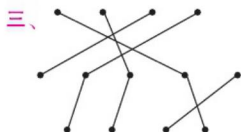
2 3 4 1 0

3 4 5 2 1 0

4. 小 结

一、 $4 \ 1 \ 4 \ 5 \ 1 \ 4$
 $2 \ 5 \ 4 \ 4 \ 2 \ 2$
 $1 \ 2 \ 3$

二、 $1.2 \ 4 \ 2.3 \ 4$
 $3.2 \ 3 \ 4.2 \ 2$



5. 得数是6、7的加法

一、 $4 \ 6 \ 5 \ 1 \ 6 \ 3$
 $7 \ 4 \ 6 \ 1 \ 7 \ 5$
 $6 \ 7 \ 7 \ 5 \ 2 \ 3$
 $3 \ 6 \ 6 \ 4 \ 3 \ 0$

二、 $6 \ 7 \ 7 \ 6$

三、 $3 \ 4 \ 7 \ 4 \ 3 \ 7$
 $4 \ 2 \ 6 \ 2 \ 4 \ 6$

6. 6、7 减几

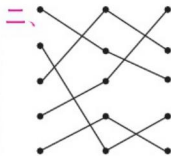
一、 $4 \ 2 \ 5 \ 7 \ 3 \ 3$
 $2 \ 1 \ 1 \ 6 \ 0 \ 2$
 $4 \ 7 \ 5 \ 1 \ 3 \ 2$
 $6 \ 2 \ 7 \ 1 \ 6 \ 0$

二、 $6 \ 2 \ 4 \ 6 \ 4 \ 2$
 $7 \ 5 \ 2 \ 7 \ 2 \ 5$

三、 $5 \ 6 \ 3 \ 2 \ 1 \ 0$
 $5 \ 6 \ 3 \ 4 \ 0 \ 1 \ 2$

7. 小 结

一、 $7 \ 3 \ 4 \ 2 \ 4 \ 6$
 $0 \ 5 \ 5 \ 7 \ 5 \ 5$
 $7 \ 6 \ 3 \ 4 \ 3 \ 6$
 $1 \ 0 \ 7 \ 5 \ 7 \ 1$
 $3 \ 6 \ 1$



8. 得数是8的加法及相应的减法

一、 $8 \ 6 \ 8 \ 3 \ 8 \ 5$
 $8 \ 6 \ 8 \ 7 \ 3 \ 5$
 $2 \ 8 \ 5 \ 4 \ 7 \ 4$
 $1 \ 0 \ 1 \ 8 \ 4 \ 1$
 $2 \ 8 \ 3$

二、 $1.2 \ 6 \ 8 \ 6 \ 2 \ 8$
 $8 \ 2 \ 6 \ 8 \ 6 \ 2$
 $2.3 \ 5 \ 8 \ 5 \ 3 \ 8$
 $8 \ 3 \ 5 \ 8 \ 5 \ 3$

9. 解决问题

一、 $7 \ 7 \ 4 \ 2 \ 8 \ 6$
 $5 \ 6 \ 3 \ 4 \ 1 \ 5$
 $4 \ 8 \ 8 \ 3 \ 6 \ 2$
 $8 \ 7 \ 5 \ 1 \ 3 \ 6$
 $7 \ 0 \ 5$

二、 $1.7-4=3 \ 2.5+3=8$
 $3.3+3=6 \ 4.8-2=6$

10. 得数是9的加法及相应的减法

一、 $9 \ 3 \ 8 \ 8 \ 9 \ 9$
 $2 \ 1 \ 5 \ 6 \ 9 \ 2$
 $3 \ 8 \ 9 \ 9 \ 5 \ 4$
 $6 \ 8 \ 9 \ 9 \ 0 \ 1$
 $6 \ 5 \ 2$

二、 $1.4+5=9$
 $2.8-5=3$

三、 $8 \ 2 \ 6 \ 1 \ 4 \ 3$
 $0 \ 9 \ 5$

11. 得数是10的加法及相应的减法

一、 $10 \ 8 \ 10 \ 7 \ 10 \ 10$
 $9 \ 8 \ 10 \ 1 \ 4 \ 2$
 $10 \ 10 \ 10 \ 4 \ 6 \ 9$
 $5 \ 3 \ 6 \ 10 \ 8 \ 0$
 $6 \ 10 \ 5$

二、 $1.6 \ 10 \ 4+6=10$
 $2.2 \ 8 \ 10-2=8$

12. 求未知加数

一、 $10 \ 1 \ 4 \ 6 \ 2 \ 5$
 $1 \ 8 \ 8 \ 10 \ 4 \ 5$
 $3 \ 10 \ 8 \ 9 \ 5 \ 7$
 $6 \ 10 \ 8 \ 9 \ 9 \ 4$
 $10 \ 9 \ 10$

二、 $3 \ 7 \ 4 \ 4 \ 3 \ 4$
 $3 \ 1 \ 7 \ 2 \ 1 \ 2$
 $4 \ 3 \ 2 \ 2 \ 1 \ 3$

13. 连加(1)

一、 $10 \ 2 \ 7 \ 6 \ 8 \ 9$
 $4 \ 8 \ 10 \ 6 \ 3 \ 9$
 $7 \ 9 \ 6 \ 3 \ 7 \ 10$
 $9 \ 6 \ 9 \ 6 \ 10 \ 10$

二、 $1.2 \ 4 \ 9 \ 2.2 \ 4 \ 3 \ 9$

三、从上到下:

$9 \ 4 \ 10 \ 5 \ 8 \ 10$

14. 连加(2)

一、 $9 \ 8 \ 5 \ 2 \ 2 \ 4$
 $5 \ 5 \ 2 \ 9 \ 6 \ 4$
 $7 \ 7 \ 4 \ 2 \ 5 \ 9$
 $4 \ 9 \ 6 \ 8 \ 7 \ 1$
 $7 \ 10 \ 8$

二、 $10 \ 9 \ 9 \ 10 \ 8 \ 8$



8 7 8 6 9 9

10 9 10 8 10 9

15. 连减(1)

一、6 6 6 7 6 0

2 3 1 10 10 0

5 3 1 4 10 2

5 2 1 3 7 4

二、1.3 5 2.8 1 2 5

三、从上到下:1 7 5

16. 连减(2)

一、9 5 5 4 9 6

7 3 1 8 8 7

10 1 0 2 6 1

6 5 8 5 8 6

1 1 2

二、5 1 1 2 1 2

6 4 1 5 2 0

5 1 1 1 2 4

17. 小结

一、7 4 9 2 9 10

4 7 7 4 3 4

8 3 9 8 9 5

2 6 9 8 10 3

1 9 5

二、9 2 8 4 9 1

6 1 3 9 1 1

1 10 1 0 4 9

18. 加减混合(1)

一、8 7 10 2 3 10

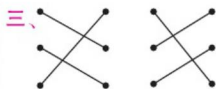
6 5 3 10 2 9

5 8 3 8 3 3

7 7 7 10 9 4

8 8 9

二、4 5 4 6



19. 加减混合(2)

一、1 7 2 10 9 10

10 9 3 6 2 3

1 8 10 1 5 8

10 1 8 1 4 7

10 9 4

二、5 6 4 6 2 7

3 4 7 5 9 8

5 4 6 0 8 6

20. 整理与练习

一、9 10 8 0 4 9

7 3 10 10 1 3

2 10 8 5 10 7

3 5 0 2 10 3

6 9 10

二、10 7 8 3 9

5 9 6 8 1

4 10 8 9 6

9 7 10 8 4

7 10 5 9 0

丰收的果园

一、6 2 0 7 6 7

10 1 6 3 9 2

8 4 6 4 8 4

10 5 9 2 10 8

10 7 3

二、3 4 5 3 4 4

3 8 2

三、< > < < = >

第九单元 认识 11~20 各数

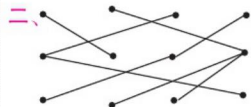
1. 数 数

一、5 3 8 2 10 1

10 9 9 10 1 7

7 10 9 10 6 1

4 9 7 0 2 9



2. 数的组成

一、9 1 4 3 10 3

7 6 6 4 8 5

4 9 5 6 2 6

6 7 3 5 4 5

8 9 6

二、10 9 10 9 8 10

9 7 8 10 8 10 9 7

3. 10 加几及相应的减法(1)

一、3 18 10 19 10 2

17 9 14 9 11 5

10 4 15 7 10 1

10 7 13 12 16 8

二、1. $10 + 2 = 12$

2. $15 - 5 = 10$

3. $10 + 3 = 13$

4. $16 - 6 = 10$

4. 10 加几及相应的减法(2)

一、17 10 7 10 4 9

7 16 9 4 6 7

18 7 10 10 9 17

10 6 10 9 10 13

5 11 8

二、< = = > > =

< < < = < >

< < <

5. 整理与练习

一、10 19 7 16 8 10

10 2 0 9 10 5

14 17 17 10 15 14

6 10 9 4 10 10

10 10 2

二、6 8 10 4 5 10

7 10 10 2 3 10

4 3 2 10 9 5

第十单元 20 以内的进位加法

1. 9 加几(1)

一、18 6 2 13 5 10

10 10 16 5 19 10

14 4 2 17 10 10

5 12 15 10 11 5

二、1 4 10 14

1 2 10 12

1 1 10 11

1 3 10 13

1 5 10 15

1 7 10 17

2. 9 加几(2)

一、12 10 14 10 15 4

14 15 15 10 17 14

16 11 16 16 6 13

10 9 5 13 14 18

二、10 16 12 17 14 15 18

13

三、

3. 8, 7 加几(1)

一、11 14 14 12 16 15

15 17 14 13 16 14

15 12 12 18 18 16

15 16 13 10 17 19

15 17 10

二、4 4 10 14

7 1 10 17

4 3 10 14

5 2 10 15

3 5 10 13

2 5 10 12

4. 8, 7 加几(2)

一、10 12 19 16 9 17

13 16 9 14 10 11

17 18 8 12 15 11

12 13 13 10 13 16

11 18 14

二、1. 8 + 3 = 11 2. 7 + 5 = 12

3. 8 + 5 = 13 4. 7 + 4 = 11

5. 小结

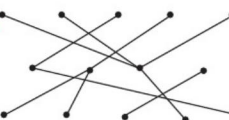
一、11 15 14 12 17 14

16 12 15 16 11 13

11 13 13 12 14 16

14 18 3 17 15 2

13 13 10

二、

6. 6, 5, 4, 3, 2 加几(1)

一、11 12 12 12 13 13

11 11 11 11 11 14

12 13 15 18 14 14

13 13 11 12 12 12

15 16 15 15 11 14

二、11 15 13 10 14 12

12 14 10 13 15 11

13 12 9 10 8 11

7. 6, 5, 4, 3, 2 加几(2)

一、11 11 13 11 12 12

13 13 13 12 11 12

17 16 13 15 14 18

17 15 14 15 12 14

16 14 12

二、< = > > < >

< < > > > <

> = <

8. 整理与练习

一、11 12 11 14 16 14

13 16 11 14 11 15

12 17 14 15 11 13

12 11 11 13 13 13

13 15 12 12 12 15

二、4 + 10 6 + 8 9 + 5 8 + 6

5 + 7 6 + 6 7 + 5 8 + 4

(答案不唯一)

第十一单元 期末复习

1. 期末复习(1)

一、11 6 9 14 15 14

17 4 16 5 13 13

14 10 6 5 13 11

12 5 5 6 13 3

二、1. 9 - 3 = 6 2. 6 + 5 = 11

3. 10 + 5 = 15 5 + 10 = 15



$15 - 10 = 5$ $15 - 5 = 10$

2. 期末复习(2)

一、2 14 4 8 14 13

15 10 10 18 14 9

11 2 8 10 16 13

12 10 6 15 13 16

11 7 9

二、3 2 10 12

1 2 10 12

2 3 10 13

1 3 10 11

5 1 10 15

2 5 10 15

3. 期末复习(3)

一、13 10 10 16 4 12

12 11 11 1 10 11

7 9 11 12 7 1

19 15 8 17 13 10

7 13 12

二、+ - - + + +

三、从左到右、从上到下:

6 5 4

从上到下、从左到右:

4 6 5 10 7

4. 期末复习(4)

一、13 12 3 15 9 10

10 12 14 3 13 17

10 1 16 11 11 10

12 6 11 12 18 4

9 6 5 13 11 9

二、圈 6+8、10+4

圈 5+6、10+1

圈 10+5、6+2+7

圈 9+8、5+5+7

5. 期末复习(5)

一、11 12 14 5 9 10

15 12 15 9 7 11

15 3 14 12 13 13

5 11 12 14 13 10

二、< > < < < >

< < = < > <

< = <

6. 期末复习(6)

一、8 12 14 3 15 7

12 10 10 10 13 12

16 11 12 3 6 3

16 17 4 18 14 11

11 8 11

二、从上到下:

4 10 6 10 6 8

6 8 7

三、2 3 4 7 9 6

7. 期末复习(7)

一、5 15 12 17 12 4

12 10 12 14 10 5

1 18 15 7 10 14

12 15 15 10 12 10

14 12 11

二、5 7 2 3 10 2

6 5 4 10 8 4

7 6 6 5 7 5

8. 期末复习(8)

一、7 6 7 4 12 1

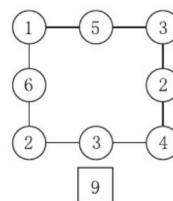
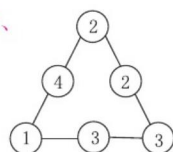
3 6 16 11 7 12

16 12 10 8 10 10

16 4 14 16 12 14

15 12 10 10 2 12

二、





► 与九年义务教育教科书配套使用

口算应用题整合集训

必刷应用题

口算 竖式口算 脱式口算

王运才/主编



S J
一年级 上册

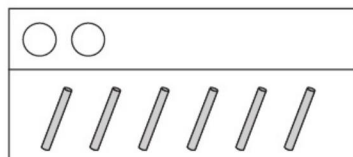
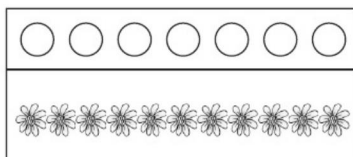

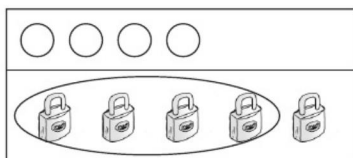
南海出版公司

关注微信公众号“教辅资料站”获取更多学习资料



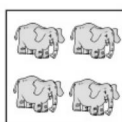



1 数一数应用题

1. 照样子,圈一圈。



2. 把同样多的用线连起来。



3. 哪个框里的物体数量与其他框里的不一样? 在()里画“√”。



()




()



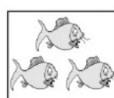
()



()



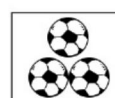
()



()



()



()




2 比一比应用题

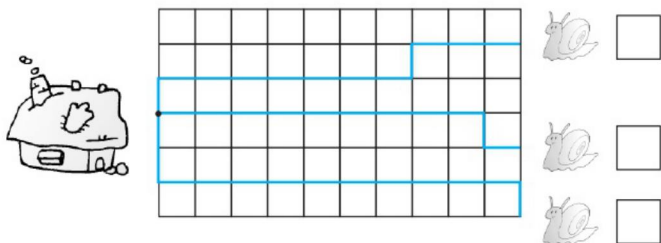
1. 杯子中水最多的画“√”，最少的画“○”。



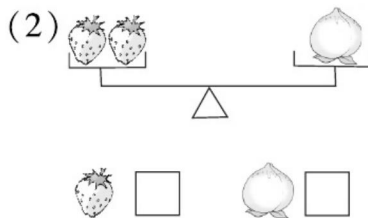
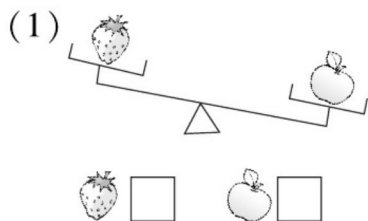
2. (1) 哪个高？高的画“√”。 (2) 最高的画“√”，最矮的画“○”。



3. 3 只蜗牛爬得一样快，哪只先到家？画“√”。



4. 重的画“√”。





3 分一分应用题

1. 把每组中不同类的圈起来。

(1)



(2)



(3)



2. 分一分,连一连。



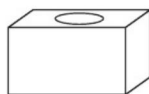
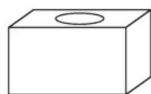
交通工具

办公用品

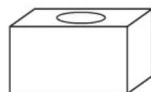
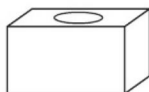
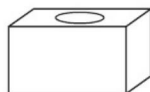
家用电器



3. 把这些卡片分在两个盒子里,用线连一连。



如果分在三个盒子里呢?





4 认位置应用题

1. 圈出正确答案。

(1)



鸟在蛇的(上 下)面。

蛇在鸟的(上 下)面。

猫在蛇的(前 后)面。

蛇在猫的(前 后)面。

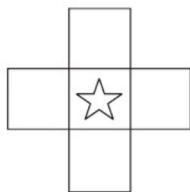
(2)



① 葡萄在西瓜的(左 右)边, 香蕉在西瓜的(左 右)边。

② 苹果在草莓的(左 右)边, 草莓在菠萝的(左 右)边。

2. 按要求画一画。



在☆的上面画“□”。在☆的下面画“△”。

在☆的左边画“♡”。在☆的右边画“○”。

3. 帮小动物找家。(连一连)

最左边是我的家,
我家右边是小狗的家。



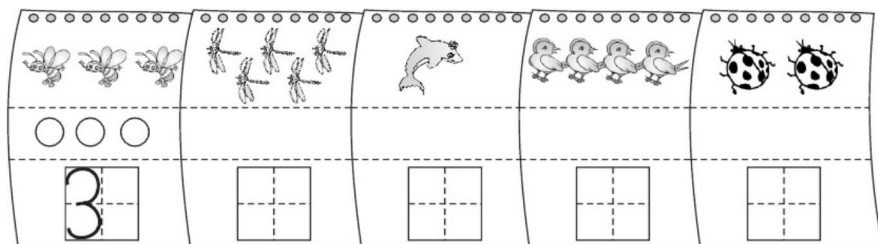
我家左边是小狗的家,
我家右边是小马的家。





5 认识 10 以内的数应用题(1)

1. 数一数,画一画,写一写。



2. 涂一涂。

(1) 把从右数第 3 朵涂上颜色。



(2) 把左边的 3 个涂上颜色。



3. 接着画。

3

5

4

4. 数一数,填一填。



(1) 一共有()盆花,从左数,开 3 朵花的是第()盆。

(2) 从左数,开 1 朵花的是第()盆。

(3) 开花最多的是从右数第()盆。



6 认识 10 以内的数应用题(2)

1. 数一数,填一填。









2. 填一填。



3. 圈一圈,填一填。

	<p> 比 (多, 少) $4 \bigcirc 3$</p> <p> 比 (多, 少) $3 \bigcirc 4$</p>
	<p> 比 (多, 少) $4 \bigcirc 2$</p> <p> 比 (多, 少) $2 \bigcirc 4$</p>

4. 涂一涂,比一比。

和 同样多

$$3=3$$

比 多

 \bigcirc

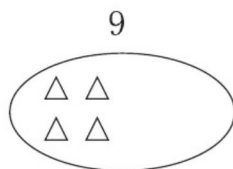
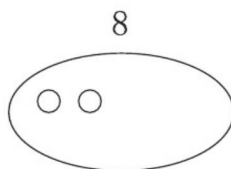
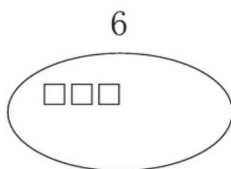
比 少

 \bigcirc



7 认识 10 以内的数应用题(3)

1. 看数接着画。



2. 在○里填上“>”或“<”，在□里填上合适的数。

$8 \bigcirc 5$

$4 \bigcirc 9$

$7 \bigcirc 6$

$9 \bigcirc 9$

$8 > \square$

$5 < \square$

$9 = \square$

$8 < \square$

3. 数一数,填一填。



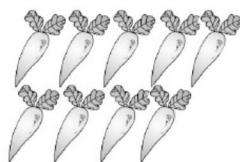

(1) 一共有()张数字卡片。

(2) 左起第 4 张是(), 右起第 2 张是()。

(3) 比 5 大, 比 9 小的数有()。

(4) 把右边的 6 张卡片圈起来。

4. 每只小兔分一根胡萝卜, 够吗? (在正确答案后面画“√”)



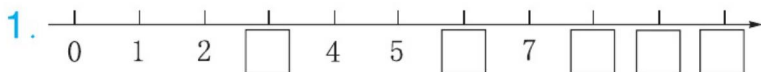
够 ☐

不够 ☐



必刷应用题


8 认识 10 以内的数应用题(4)



(1) 填出 里的数。

(2) 从左数第 10 个数是(), 它前面的数是(), 后面的数是()。

2. 看图填一填。

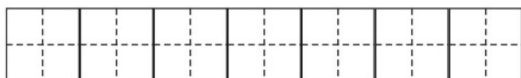


(1) 上图一共有()张点子图。

(2) 从右数, 第 5 张有()个点子。

(3) 从左数, 有 8 个点子的是第()张, 第 4 张有()个点子。

(4) 写出每张图中的点子数。



(5) 将这些数按照从大到小的顺序排列。

() > () > () > () > () > () > ()

3. 在 里填“>”“<”或“=”。

$6 \bigcirc 8$

$10 \bigcirc 8$

$10 \bigcirc 10$

$7 \bigcirc 6$

$8 \bigcirc 9$

$9 \bigcirc 10$


4. 按规律画一画。





9 认识图形(一)应用题

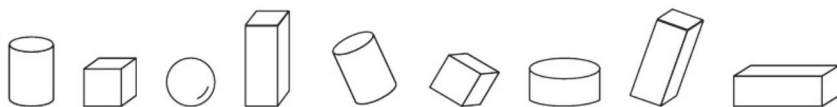
1. 分一分。(填序号)



长方体: _____ 正方体: _____

圆柱: _____ 球: _____

2.

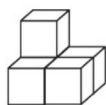


(1) 一共有()个图形, 有()个 。

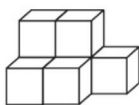
(2) 从左往右数, 是第()个和第()个。

(3) 把右边的3个图形圈起来。

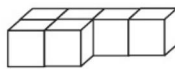
3. 数一数。



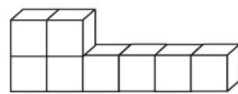
()个



()个

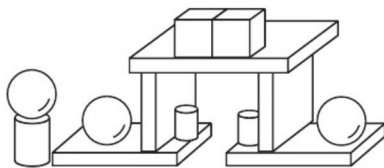


()个



()个

4. 数一数, 填一填。







有()个, 有()个, 有()个, 有()个。

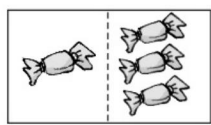
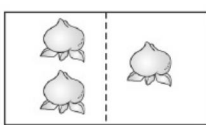
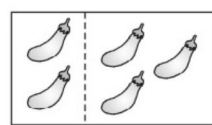


10 分与合应用题(1)

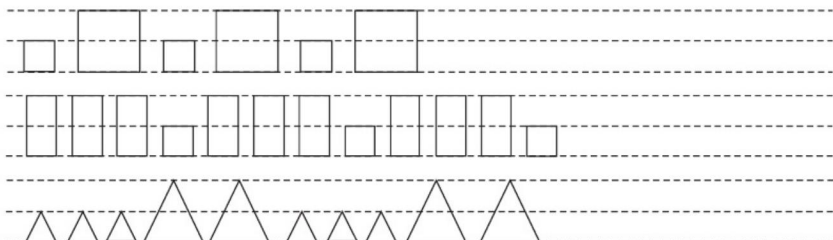
1. 照样子涂一涂,填一填。

$\begin{array}{c} \boxed{5} \begin{cases} \boxed{1} \\ \boxed{4} \end{cases} \end{array}$ 	$\begin{array}{c} \boxed{3} \begin{cases} \boxed{1} \\ \boxed{} \end{cases} \end{array}$ 
$\begin{array}{c} \boxed{4} \begin{cases} \boxed{2} \\ \boxed{} \end{cases} \end{array}$ 	$\begin{array}{c} \boxed{5} \begin{cases} \boxed{3} \\ \boxed{} \end{cases} \end{array}$ 


2. 看图填一填。

		
$\begin{array}{c} \boxed{4} \\ \swarrow \searrow \\ \boxed{} \quad \boxed{3} \end{array}$	$\begin{array}{c} \boxed{} \\ \swarrow \searrow \\ \boxed{2} \quad \boxed{} \end{array}$	$\begin{array}{c} \boxed{} \\ \swarrow \searrow \\ \boxed{} \quad \boxed{} \end{array}$

3. 照样子接着画。



4. 把 5 根萝卜分给两只小兔,可以怎样分? 填一填。



第一只小兔				
第二只小兔				

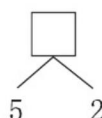
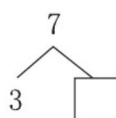
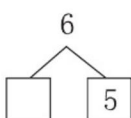
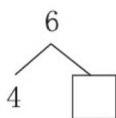


11 分与合应用题(2)



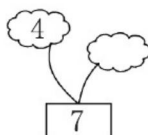

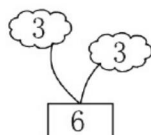
1. 把合起来是 7 的两张卡片涂上相同的颜色。



2. 分一分。



3. 找规律填一填。



4. 要使每个花瓶都插 7 朵花, 每个花瓶还要再插几朵?



还要插()朵



还要插()朵



还要插()朵

5. 看图填一填。



(1) 左数第()盘和第()盘合起来有 5 个苹果。

(2) 左数第()盘和第()盘合起来有 6 个苹果。

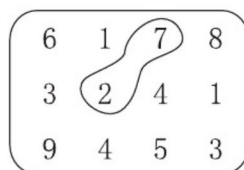
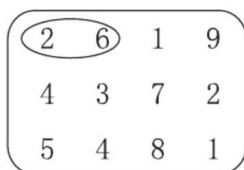
(3) 左数第()盘和第()盘合起来有 7 个苹果。



12 分与合应用题(3)



2. (1) 圈出能组成 8 的两个数。 (2) 圈出能组成 9 的两个数。



3. 填一填。

8	2		7		6
		4		5	

9		3		1		4
	5		7		6	

4. 哪两盆合起来有 9 朵花？连一连。



5. 把 8 个 分成 3 份，每份的个数各不相同，可以怎样分？

圈一圈。



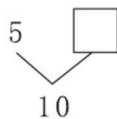
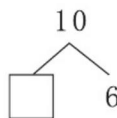
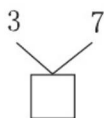
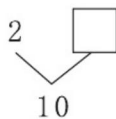
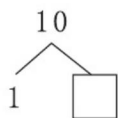


13 分与合应用题(4)

1. 连一连。(凑成 10)




2. 填一填。



3. 面包店有 5 种不同包装的同种面包, 小红想买 8 个面包, 应该买哪两袋呢? 小明想买 10 个面包, 应该买哪两袋呢?



①



②




③




④



⑤

4. 把 10 个  放在 3 个盘子里, 每盘个数各不相同, 试着画一画。

(用 \triangle 表示 )





必刷应用题

14 10 以内的加法和减法应用题(1)

1. 看图列式计算。



$$1 + 3 = \square$$



$$2 + \square = \square$$



$$\square + \square = \square$$

2. 画一画,算一算。



$$3 + 1 = \square$$

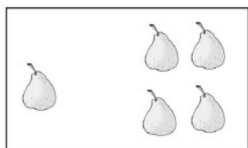


$$2 + 1 = \square$$

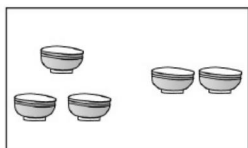


$$2 + 3 = \square$$

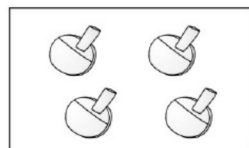
3. 数一数,算一算。



$$\square + \square = \square$$

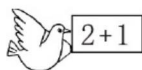




$$\square + \square = \square$$



$$\square + \square = \square$$

4. 连一连。





15 10 以内的加法和减法应用题(2)

1. 先画线,再填得数。



$$5 - 2 = \square$$

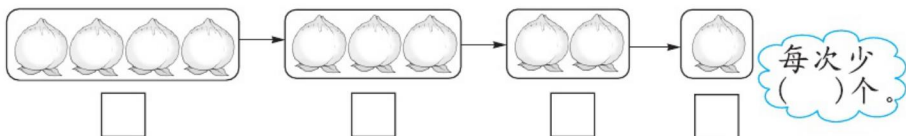


$$4 - 1 = \square$$



$$5 - 5 = \square$$

2. 数一数,填一填。



3. 看图列式计算。



$$4 - 2 = \square$$





$$5 - \square = \square$$



$$\square - \square = \square$$

4. 一只猴子吃一个桃子,还差几个桃子?



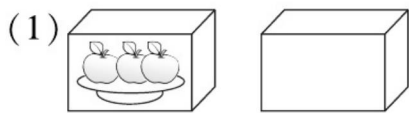
猴子有()只,桃子有()个,还差()个桃子。

$$\square \bigcirc \square = \square$$

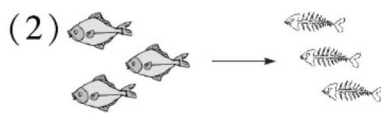


16 10 以内的加法和减法应用题(3)

1. 看图列式计算。



$$3 + \square = \square$$



$$\square - \square = \square$$

2. 还有几个苹果?

树上有 <input type="text"/> 个	$5 - \square = \square$	$4 - \square = \square$	$2 - \square = \square$

3. 在得数是 0 的算式下面画“○”。

$0 + 0$

☐

$3 - 2$

☐

$1 - 1$

☐

$5 - 5$

☐

$0 + 4$

☐

4. 读问题,列算式选一选。



(1) 每人 1 双,还差几双?

$$\square - \square = \square$$

(2) 每人一个 ,够吗?(在正确答案后画“√”)


$$\square - \square = \square$$

够 ☐ 不够 ☐




17 10 以内的加法和减法应用题(4)

1. 看图列式计算。



$$\square + \square = \square$$


$$\square + \square = \square$$




$$\square + \square = \square$$

$$\square + \square = \square$$

2. 看一看,填一填。

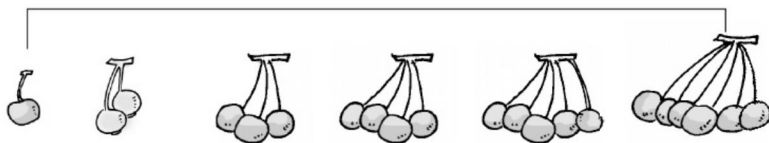


$$2 + 4 = \square$$



$$\square + \square = \square$$

3. 先连线,再填空。



$$1 + 6 = 7$$

$$2 + \square = 7$$


$$\square + \square = 7$$

$$6 + 1 = \square$$

$$5 + \square = 7$$

$$\square + \square = 7$$

4. 操场上一共有几个小朋友?



$$\square \bigcirc \square = \square$$



18 10 以内的加法和减法应用题(5)

1. 看图填算式。



$$7 - 4 = \square$$

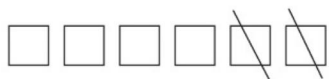
$$7 - \square = \square$$




$$6 - \square = \square$$

$$\square - \square = \square$$

2. 看一看, 填一填。



$$\square - \square = \square$$



$$\square - \square = \square$$

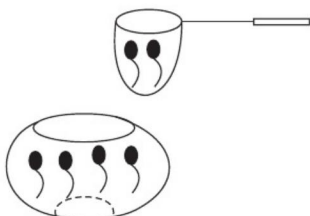
3. 不计算, 在得数大的算式后面画“√”。

$$\begin{cases} 7 - 5 & \square \\ 7 - 6 & \square \end{cases}$$

$$\begin{cases} 7 - 3 & \square \\ 6 - 3 & \square \end{cases}$$

$$\begin{cases} 5 - 1 & \square \\ 7 - 1 & \square \end{cases}$$

4. 鱼缸里原来有 \square 只, 捞走 \square 只, 还剩下 \square 只。



$$\square \bigcirc \square = \square$$

5. 一共有 7 个苹果, 盖住了几个?



$$7 - \square = \square$$



19 10 以内的加法和减法应用题(6)

1. 看图填算式。







$$\square + \square = \square$$

$$\square - \square = \square$$

$$\square + \square = \square$$

$$\square - \square = \square$$

2. 哪两朵花儿上的数相加等于 8? (连一连)



3. 算一算, 填一填。

7
2
8
5

 $+$

1
6
0
3

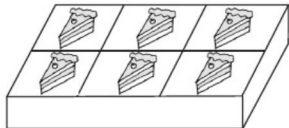
 $=$

$8 -$

0
4
7
5

 $=$

4.



原来有 2 块 , 又买来了 () 块, 现在一共有 () 块。

$$\square \bigcirc \square = \square$$



20 10 以内的加法和减法应用题(7)

1.



草丛里有()只,又跑来()只,一共有()只。

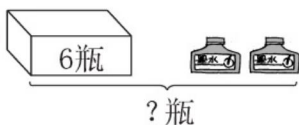
$$\square + \square = \square$$



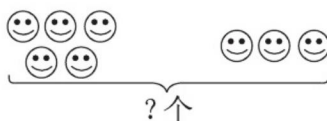
一共有 8 根胡萝卜,篮子里有()根,篮子外有()根。

$$8 - \square = \square$$

2.

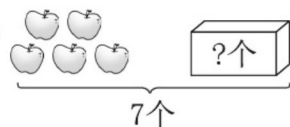


$$\square \bigcirc \square = \square$$

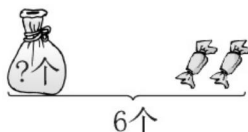


$$\square \bigcirc \square = \square$$

3.



$$\square \bigcirc \square = \square$$



$$\square \bigcirc \square = \square$$

4.



比 多()个, 比 少()个。



21 10 以内的加法和减法应用题(8)

1. 先把9个  分成两堆,再填一填。



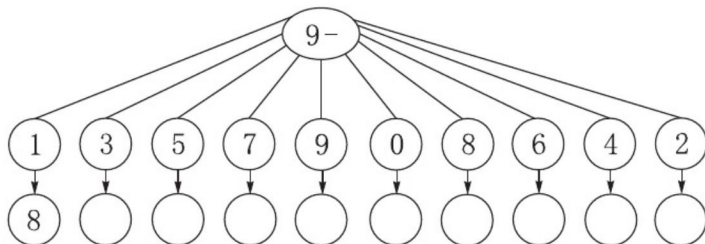
$$\square + \square = \square$$

$$\square - \square = \square$$

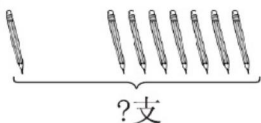
$$\square + \square = \square$$

$$\square - \square = \square$$

2. 算一算。



3.



$$\square \bigcirc \square = \square$$



$$\square \bigcirc \square = \square$$


4. (1)



一共有9个球,踢进去
()个,还剩()个。

$$\square \bigcirc \square = \square$$

(2)




树上有6个桃,树下有()
个桃,一共有()个桃。

$$\square \bigcirc \square = \square$$



22 10 以内的加法和减法应用题(9)

1. 看图列式。



$$\square + \square = \square$$

$$\square - \square = \square$$

$$\square + \square = \square$$

$$\square - \square = \square$$

2. 填表。



10-

3	8	7	6	1	4	5	2	9

3. 看算式, 画画填填。

$\triangle \triangle \triangle \triangle \triangle \triangle \triangle$ _____

$$7 + (\quad) = 10$$

$\bigcirc \bigcirc \bigcirc \bigcirc \bigcirc \bigcirc$ _____

$$6 + (\quad) = 9$$

$\square \square$ _____

$$2 + (\quad) = 8$$

4. 在()里填上合适的数。

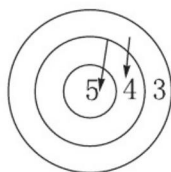
$$(\quad) + 9 = 5 + 5 \quad 3 + (\quad) = 2 + 4 \quad (\quad) + 5 = 10 - 3$$

$$4 + (\quad) = 10 - 4 \quad (\quad) + 7 = 8 + 2 \quad 2 + (\quad) = 7 - 5$$

5. 飞镖游戏规定: 投中最里圈得 5 分, 投中中间圈得 4 分, 投中最外圈得 3 分。

(1) 右图是小刚投中两次的成绩, 他一共得了多少分?

$$\square \bigcirc \square = \square$$



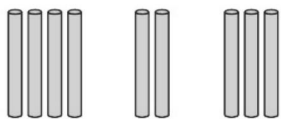
(2) 如果小明也投中两次, 他最多可以得多少分?

$$\square \bigcirc \square = \square$$

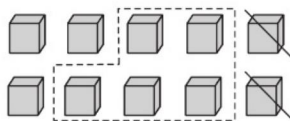


23 10 以内的加法和减法应用题(10)


1. 填一填。



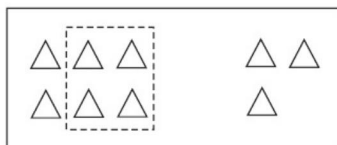
$$4 + \square + \square = \square$$



$$10 - 2 - \square = \square$$



$$6 - \square + \square = \square$$




$$\square \bigcirc \square \bigcirc \square = \square$$

2. 一共有几个足球？



$$\square \bigcirc \square \bigcirc \square = \square$$

3. 一共有 9 个橘子。箱子里有几个？



$$\square \bigcirc \square \bigcirc \square = \square$$

4. 还剩下几朵？



我做了 5 朵，
你做了 4 朵。



我们送 6 朵给小
班的小朋友吧。



$$\square \bigcirc \square \bigcirc \square = \square$$

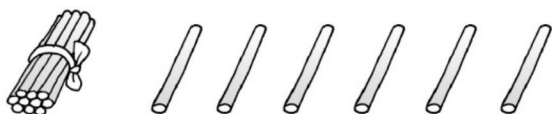


24 认识 11~20 各数应用题

1. 它们是谁？猜一猜。



2. 看图写算式。



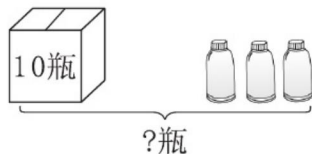
$$\square \bigcirc \square = \square$$

$$\square \bigcirc \square = \square$$

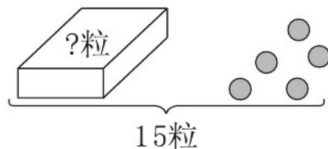
$$\square \bigcirc \square = \square$$

$$\square \bigcirc \square = \square$$

3. 看图列式计算。



$$\square \bigcirc \square = \square$$



$$\square \bigcirc \square = \square$$

4. 它们一共钓了多少条？



$$\square \bigcirc \square = \square$$



25 20 以内的进位加法应用题(1)



左边有()个足球,右边有()个,一共有多少个?

$$\square \bigcirc \square = \square (\text{个})$$



原来有()人在踢毽子,又来了()人,一共有多少人?

$$\square \bigcirc \square = \square (\text{人})$$

3. 它们一共吃了多少条鱼?



$$\square \bigcirc \square = \square (\text{条})$$

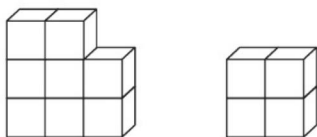
4. 一共有多少只小熊?





26 20 以内的进位加法应用题(2)

1. 一共有多少块积木?




$$\square \bigcirc \square = \square (\text{块})$$

2. 一共有多少把雨伞?



$$\square \bigcirc \square = \square (\text{把})$$

3. 一(5)班原来有 7 盆花。现在有多少盆花?




同学们又买来了 6 盆。



$$\square \bigcirc \square = \square (\text{盆})$$

4. 淘气两次得了 15 分,他可能投中了哪两个? 用算式表示。




$$\square \bigcirc \square = \square$$

$$\square \bigcirc \square = \square$$




27 20 以内的进位加法应用题(3)

1.



左边有()个蘑菇,右边有()个蘑菇,一共有多少个蘑菇?

$$\square \bigcirc \square = \square (\text{个})$$

2. 学校体育室里有 20 个 , 先借走了 3 个, 又借走了 8 个, 一共借走了多少个?

$$\square \bigcirc \square = \square (\text{个})$$

3. 它们一共拔了多少根胡萝卜?



我拔的和你同样多。



$$\square \bigcirc \square = \square (\text{根})$$

4.



6个



5个



9个

李老师拿走了其中的两种球, 他最多拿走了多少个? 最少呢?



部分参考答案

p1

2.



3. (1) () () () () ()
(2) () () () () ()

p2

1. ☐ ☐ ☒

2. (1) ☒ ☐

- (2) ☐ ☒ ☐

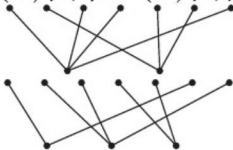
3. 在第2只蜗牛后面画“√”。

4. (1) ☐ ☒ (2) ☐ ☒

p3

1. (1) 圈书 (2) 圈花 (3) 圈羊

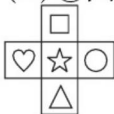
3.



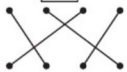
p4

1. (1) 依次圈上 下 前 后
(2) ①圈左 右 ②圈左 右

2.



3.



p5

4. (1) 5 4 (2) 3 (3) 4

p6

1. 3 5 2 0

2. (1) 2 5 (2) 1 3 4

3. 多 > 少 < 多 > 少 <

p7

2. > < > = 6 6 9 9
(部分答案不唯一)

3. (1) 9 (2) 8 9 (3) 6、7、8

4. 8 9 8 < 9 或 9 > 8 够

p8

1. (1) 3 6 8 9 10

- (2) 9 8 10

2. (1) 7 (2) 9 (3) 5 4

- (4) 5 2 9 4 8 6 3

- (5) 9 8 6 5 4 3 2

3. < > = > < <

p9

1. ①③ ② ⑤⑥ ④⑦

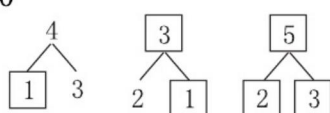
2. (1) 9 3 (2) 2 6

3. 5 7 6 8

4. 5 2 3 3

p10

2.



4.

第一只小兔	1	2	3	4
第二只小兔	4	3	2	1

p11

2. 2 1 4 7

3. 6 3 7 2

4. 5 4 6

5. (1) 1 2 或 4 5

- (2) 1 4 或 3 5

- (3) 1 3 或 2 4

p12

1. 5 8 7 9

5. 提示: 1 + 2 + 5 = 8 (答案不唯一)

p13



2. 9 8 10 4 5

3. 小红选②、④, 小明选①⑤。

4. 提示: 1 + 2 + 7 = 10 (答案不唯一)

p14

1. 1 + 3 = 4 2 + 3 = 5

- 3 + 2 = 5

2. 4 3 5

3. 1 + 4 = 5 3 + 2 = 5 2 + 2 = 4

p15

1. 3 3 0

2. 4 3 2 1 1

3. 4 - 2 = 2 5 - 1 = 4

- 4 - 1 = 3



4. $4 - 3 = 1$

p16

1. (1) $3 + \boxed{0} = \boxed{3}$

(2) $\boxed{3} - \boxed{3} = \boxed{0}$

2. $5 - \boxed{1} = \boxed{4}$ $4 - \boxed{2} = \boxed{2}$

$2 - \boxed{2} = \boxed{0}$

3. $\boxed{0}$ $\boxed{}$ $\boxed{0}$ $\boxed{0}$ $\boxed{}$

4. (1) $4 - 2 = 2$

(2) $4 - 4 = 0$ \checkmark $\boxed{}$

p17

1. $5 + 2 = 7$ $2 + 5 = 7$

$1 + 5 = 6$ $5 + 1 = 6$

2. $2 + 4 = \boxed{6}$ $\boxed{3} + \boxed{4} = \boxed{7}$

3. $2 + \boxed{5} = \boxed{7}$ $\boxed{3} + \boxed{4} = 7$

$6 + 1 = \boxed{7}$ $5 + \boxed{2} = 7$

$\boxed{4} + \boxed{3} = 7$

4. $4 + 2 = 6$

p18

1. (1) $7 - 4 = \boxed{3}$ $7 - \boxed{3} = \boxed{4}$

(2) $6 - \boxed{4} = \boxed{2}$

$\boxed{6} - \boxed{2} = \boxed{4}$

2. $6 - 2 = 4$ $7 - 4 = 3$

3. 依次在 $7 - 5$, $7 - 3$, $7 - 1$ 后画“ \checkmark ”。

4. $6 - 2 = 4$

5. $7 - 3 = 4$

p19

1. $5 + 3 = 8$ $3 + 5 = 8$ $8 - 5 = 3$

2. $8 - 5 = 3$

3. $8 - 8 = 0$ $8 - 8 = 0$ $8 - 4 = 4$ $1 - 1 = 0$ $3 - 3 = 0$

4. $6 - 8 = -2$ $2 + 6 = 8$

p20

1. (1) $4 + 4 = 8$

(2) $2 + 6 = 8$ $8 - \boxed{2} = \boxed{6}$

2. $6 + 2 = 8$ $5 + 3 = 8$

3. $7 - 5 = 2$ $6 - 2 = 4$

4. $3 - 3 = 0$

p21

1. $4 + 5 = 9$ $5 + 4 = 9$ $9 - 4 = 5$

$9 - 5 = 4$ (答案不唯一)

2. $6 - 4 = 2$ $0 + 9 = 9$ $1 + 3 = 4$ $5 - 7 = -2$

3. $1 + 7 = 8$ $9 - 3 = 6$

4. (1) $3 + 6 = 9$ $9 - 3 = 6$

(2) $2 + 8 = 10$ $6 + 2 = 8$

p22

1. $8 + 2 = 10$ $2 + 8 = 10$ $10 - 8 = 2$

$10 - 2 = 8$

2. $7 - 2 = 5$ $3 + 4 = 7$ $9 - 6 = 3$ $5 - 8 = -3$ $1 - 1 = 0$

3. $3 + 3 = 6$

4. $1 + 3 = 4$ $2 + 2 = 4$ $3 + 0 = 3$

5. (1) $5 + 4 = 9$ (1) $5 + 5 = 10$

p23

1. $4 + \boxed{2} + \boxed{3} = \boxed{9}$

$10 - 2 - \boxed{5} = \boxed{3}$

$6 - \boxed{1} + \boxed{2} = \boxed{7}$ $6 - 4 + 3 = 5$

2. $4 + 3 + 2 = 9$

3. $9 - 4 - 3 = 2$

4. $5 + 4 - 6 = 3$

p24

1. $15 - 20 = -5$ $19 - 16 = 3$

2. $10 + 6 = 16$ $6 + 10 = 16$

$16 - 10 = 6$ $16 - 6 = 10$

3. $10 + 3 = 13$ $15 - 5 = 10$

4. $10 + 5 = 15$

p25

1. $9 - 6 = 3$ $9 + 6 = 15$

2. $9 - 5 = 4$ $9 + 5 = 14$

3. $9 + 9 = 18$

4. $9 + 1 + 3 = 13$

p26

1. $8 + 4 = 12$

2. $7 + 5 = 12$

3. $7 + 6 = 13$

4. $9 + 6 = 15$ $7 + 8 = 15$

p27

1. $6 + 8 = 14$

2. $3 + 8 = 11$

3. $6 + 6 = 12$

4. $6 + 9 = 15$ (个) $6 + 5 = 11$ (个)

✓ 提升运算能力 ✓ 强化口算速度
✓ 培养口算习惯 ✓ 提高数学成绩

图书在版编目(CIP)数据

口算·应用题整合集训. 一年级. 上册 / 王运才主编.
—海口: 南海出版公司, 2015.6 (2019.7重印)
ISBN 978-7-5442-7788-4

I. ①口… II. ①王… III. ①速算—小学—习题集 ②
应用题—小学—习题集 IV. ①G624.505

中国版本图书馆CIP数据核字(2015)第100918号

KOUSUAN·YINGYONGTI ZHENGHE JIXUN·YI NIANJI SHANGCE
口算·应用题整合集训·一年级上册

主 编 王运才
责任编辑 张 媛 曹冬育
装帧设计 杨西福
出版发行 南海出版公司
电话: (0898) 66568511(出版)
(0898) 65350227(发行)
社 址 海南省海口市海秀中路51号星华大厦五楼
邮编: 570206
电子信箱 nhpublishing@163.com
经 销 新华书店
印 刷 北京中振源印务有限公司
开 本 787毫米×1092毫米 1/16
印 张 4.5
字 数 113千
书 号 ISBN 978-7-5442-7788-4
定 价 26.80元

南海版图书 版权所有 盗版必究

责任编辑: 张 媛 向文雯
封面设计: 杨西福

定价: 26.80元

ISBN 978-7-5442-7788-4

