



快 ★ 乐 ★ 之 ★ 星

教辅资料站

电子教辅 试卷练习
知识总结 备课资源



—— 扫码关注获取更多学习资料 ——



口算心算速算与应用题



◎ 主编：彭永东

1 年级
(上)



WUHAN UNIVERSITY PRESS

武汉大学出版社

目 录

1 准备课

第 1 课时	数一数	1
第 2 课时	比多少	2
第 3 课时	单元口算综合测试	3

2 位 置

第 1 课时	上、下、前、后	4
第 2 课时	左 右	5
第 3 课时	单元口算综合测试	6

3 1~5 的认识和加减法

第 1 课时	1~5 的认识	7
第 2 课时	比多少	8
第 3 课时	第 几	9
第 4 课时	分与合	10
第 5 课时	加法(一)	11
第 6 课时	加法(二)	12
第 7 课时	减法(一)	13
第 8 课时	减法(二)	14

第 9 课时	0	15
第 10 课时	整理和复习(一)	16
第 11 课时	整理和复习(二)	17
第 12 课时	单元口算综合测试	18

4 认识图形(一)

第 1 课时	认识立体图形	19
第 2 课时	图形的拼搭	20
第 3 课时	单元口算综合测试	21

5 6~10 的认识和加减法

第 1 课时	6 和 7	22
第 2 课时	6 和 7 的加减法(一)	23
第 3 课时	6 和 7 的加减法(二)	24
第 4 课时	解决问题(一)	25
第 5 课时	解决问题(二)	26
第 6 课时	8 和 9	27
第 7 课时	8 和 9 的加减法(一)	28
第 8 课时	8 和 9 的加减法(二)	29
第 9 课时	解决问题(一)	30

第 10 课时	解决问题(二)	31
第 11 课时	10 的认识	32
第 12 课时	10 的加减法(一)	33
第 13 课时	10 的加减法(二)	34
第 14 课时	连加 连减(一)	35
第 15 课时	连加 连减(二)	36
第 16 课时	加减混合(一)	37
第 17 课时	加减混合(二)	38
第 18 课时	整理和复习	39
第 19 课时	单元口算综合测试	40

6 11~20 各数的认识

第 1 课时	11~20 各数的认识	41
第 2 课时	数位的认识(一)	42
第 3 课时	数位的认识(二)	43
第 4 课时	10 加几及相应的减法(一)	44
第 5 课时	10 加几及相应的减法(二)	45
第 6 课时	解决问题(一)	46
第 7 课时	解决问题(二)	47
第 8 课时	单元口算综合测试	48

7 认识钟表

第 1 课时	认识钟表	49
第 2 课时	单元口算综合测试	50

8 20 以内的进位加法

第 1 课时	9 加几	51
第 2 课时	8、7、6 加几(一)	52
第 3 课时	8、7、6 加几(二)	53
第 4 课时	5、4、3、2 加几(一)	54
第 5 课时	5、4、3、2 加几(二)	55
第 6 课时	解决问题(一)	56
第 7 课时	解决问题(二)	57
第 8 课时	整理和复习	58
第 9 课时	单元口算综合测试	59

9 总复习

总复习	60
奥数题	61
参考答案	65



1 准备课



第①课时 数一数

(完成时间: _____ 分 _____ 秒)

1. 口算。

$1-1=$

$4+1=$

$6-3=$

$1+2=$

$2+3=$

$3-2=$

$3+3=$

$8-2=$

$7+2=$

$4-0=$

$0+2=$

$2-2=$

$1+1=$

$2+1=$

$4-2=$

$2+2=$

$2-0=$

$0+5=$

$5-3=$

$0+3=$

$4-1=$

$3-3=$

$2+0=$

$5-5=$

$7-5=$

$2+7=$

$3-0=$

$4+5=$

$6-1=$

$5-4=$

$6+2=$

$7+1=$

$8-0=$

$9-8=$

$7+3=$

$6-5=$

$4+4=$

$10-10=$

错题订正

2. 应用题。

请你把它们画完。

我吹了8个泡泡。



微信公众号

教辅资料站



评价

棒极了 ☐有进步 ☐加油哦 ☐

家长签字: _____

1



第2课时 比多少

(完成时间: _____ 分 _____ 秒)

_____	月
_____	日
星期	<input type="checkbox"/>

$1+4=$

$9-2=$

$3+3=$

$5-0=$

$6-3=$

错题订正

1. 口算。

$2+3=$

$2+2=$

$3+0=$

$2+5=$

$0+6=$

$6-6=$

$7-4=$

$6-1=$

$6+1=$

$2+1=$

$4-3=$

$4-2=$

$1+6=$

$5+1=$

$3+1=$

$6+0=$

$4+2=$

$6-2=$

$6-0=$

$1+3=$

$4-0=$

$7+0=$

$2+4=$

$5-3=$

$5-2=$

$6-4=$

$3+4=$

$1+5=$

$7-3=$

$5-1=$

$4+3=$

$5-5=$

$7-1=$

2. 应用题。

妈妈从商店买回来几个梨子? 请画一画。



我买的梨子和苹果同样多。





第3课时 单元口算综合测试

(完成时间: _____ 分 _____ 秒)



1. 口算。

$1+2=$

$3+1=$

$2+3=$

$10-3=$

$9-2=$

$1+9=$

$2+6=$

$3+7=$

$5+4=$

$0+4=$

$7-3=$

$0+0=$

$0+9=$

$6-0=$

$3+4=$

$5-4=$

$2+7=$

$2+4=$

$4-2=$

$1-1=$

$5+0=$

$4-4=$

$2+1=$

$5+5=$

$8+2=$

$9-5=$

$6-2=$

$7+1=$

$5-3=$

$6+2=$

$7-4=$

$4+6=$

$2+2=$

在 里填上

合适的数。

- 3 = 6

2 + = 7

- 0 = 7

4 + = 8

- 2 = 6

2. 应用题。

算一算, 小红和小明一共有几个苹果?



我有2个苹果。



我有5个苹果。

小明

小红

错题订正



评价

棒极了 ☐有进步 ☐加油哦 ☐

家长签字: _____

3



2 位置



第①课时 上、下、前、后

(完成时间: _____ 分 _____ 秒)

$5-1=$

$3+2=$

$8-5=$

$6+1=$

$10-5=$

错题订正

1. 口算。

$7-4=$

$4+3=$

$10-7=$

$9+1=$

$8-2=$

$3+3=$

$7-0=$

$5+2=$

$2+3=$

$9-5=$

$6-6=$

$3+5=$

$2+4=$

$5-2=$

$3-2=$

$9-3=$

$1+4=$

$5+5=$

$6-4=$

$4+4=$

$8+1=$

$8-4=$

$7+2=$

$2+6=$

$6+3=$

$8-3=$

$5+4=$

$7-5=$

$10-0=$

$10-1=$

$2+8=$

$3+7=$

$10-9=$

2. 应用题。

仔细观察,将正确的答案圈起来。



(1) 在 的(前 后)面, 在 的(前 后)面。

(2) 的前面是()。





第2课时 左右

(完成时间: _____ 分 _____ 秒)



1. 口算。

$4+3=$

$4-1=$

$5+2=$

$3+5=$

$1+9=$

$10-9=$

$3+6=$

$10-4=$

$9-7=$

$0+7=$

$8-3=$

$9-3=$

$6+2=$

$4+4=$

$1+8=$

$7-3=$

$4+2=$

$1+2=$

$1+5=$

$10-5=$

$6-2=$

$4+5=$

$8-1=$

$7+3=$

$6+3=$

$9-9=$

$10+0=$

$3+1=$

$4+5=$

$2+2=$

$10-2=$

$3+3=$

$3+2=$

$9-6=$

$6-4=$

$9-4=$

$6-1=$

$7-2=$

错题订正

2. 应用题。

辨一辨,圈出东西在哪只手上。

我(左、右)手拿苹果,
(左、右)手提鱼。

评价

棒极了 ☐有进步 ☐加油哦 ☐

家长签字: _____

5



第3课时 单元口算综合测试

(完成时间: _____ 分 _____ 秒)

___	月
___	日
星期	□

$5-2=$

$7-5=$

$5-1=$

$9-8=$

$6+3=$

错题订正

1. 口算。

$1+5=$

$2+8=$

$4+4=$

$3+2=$

$4+1=$

$7+1=$

$5+3=$

$6-4=$

$7-6=$

$0+6=$

$1+9=$

$10-9=$

$2+1=$

$9-7=$

$4+5=$

$8-3=$

$6+2=$

$10-5=$

$4+2=$

$7-1=$

$3+7=$

$10-6=$

$3+5=$

$5+5=$

$4-2=$

$10-0=$

$0+8=$

$9-5=$

$7+2=$

$8-6=$

$10-3=$

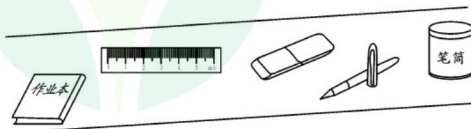
$9-1=$

$3+1=$

2. 应用题。

试着填一填。

下图中,  的左面有()、()、(),  的右面有()、()。  在  的()面。





3 1~5 的认识和加减法



第①课时 1~5 的认识

(完成时间: _____ 分 _____ 秒)

1. 口算。

$5-3=$

$4-0=$

$1+2=$

$2+0=$

$5-1=$

$2+3=$

$2+1=$

$4+1=$

$4-3=$

$5-4=$

$2+2=$

$3+1=$

$1+1=$

$3-0=$

$5-2=$

$5+0=$

$1+4=$

$1+3=$

$3-2=$

$4+0=$

$0+3=$

$1+0=$

$4-2=$

$5-0=$

$4-1=$

$3+2=$

$2-1=$

$3-1=$

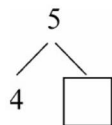
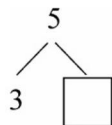
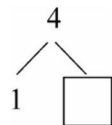
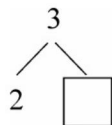
$5-5=$

$3-3=$

$4-4=$

$2-0=$

$2-2=$

在 里填上合适的数。

错题订正

2. 应用题。

照样子看数涂色。

 3 ★★☆☆☆ 2 ☆☆☆☆☆ 1 ☆☆☆☆☆ 4 ☆☆☆☆☆

评价

棒极了 ☐有进步 ☐加油哦 ☐

家长签字: _____

7



第2课时 比多少

(完成时间: _____ 分 _____ 秒)

_____	月
_____	日
星期	□

在○里填入

“>”“<”或
“=”。

2○3

4○2

5○4

2○2

3○2

4○4

1○3

错题订正

1. 口算。

1+4=

4-1=

1+2=

2+3=

5-1=

3+2=

2+1=

4+1=

1-0=

3-1=

3+0=

5-3=

1+1=

3+1=

5-4=

2+2=

1-1=

5-0=

4-4=

2+0=

4-3=

0+4=

4-2=

1+3=

3-2=

5-2=

5+0=

5-5=

0+3=

2-2=

1+0=

4-0=

3-3=

2. 应用题。



你知道妈妈每种水果各买了多少个吗? 比一比。



()



()

□○□

微信公众号

教辅资料站



评价

棒极了□

有进步□

加油哦□

家长签字: _____



第3课时 第几

(完成时间: _____ 分 _____ 秒)



1. 口算。

$3+2=$

$5-1=$

$1+1=$

$1+2=$

$1+3=$

$5-0=$

$0+4=$

$4-1=$

$3-3=$

$2+2=$

$0+3=$

$4+1=$

$5-2=$

$2+3=$

$4-0=$

$3-2=$

$4-2=$

$1-1=$

$2-0=$

$3+1=$

$5-5=$

$5-3=$

$2+1=$

$0+5=$

$3-1=$

$0+1=$

$2-1=$

$0+0=$

$2-2=$

$5-4=$

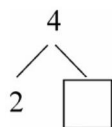
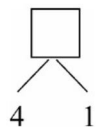
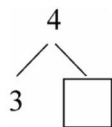
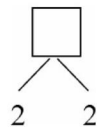
$4-3=$

$1-0=$

$1+4=$

在 里填上

合适的数。



错题订正

2. 应用题。

谁是小红？谁是小芳？连一连。



评价

棒极了 ☐有进步 ☐加油哦 ☐

家长签字: _____



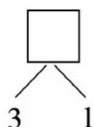
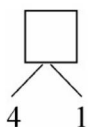
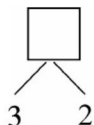
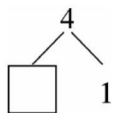
第4课时 分与合

(完成时间: _____ 分 _____ 秒)



在 里填上

合适的数。



错题订正

1. 口算。

$4-0=$

$2-2=$

$1+1=$

$2+3=$

$5-4=$

$1+2=$

$5-1=$

$3+2=$

$5-2=$

$0+5=$

$2+1=$

$1-1=$

$3-3=$

$3+0=$

$4+1=$

$5-3=$

$3+1=$

$1+4=$

$4+0=$

$3-0=$

$4-2=$

$2-1=$

$3-2=$

$2+2=$

$0+3=$

$1-0=$

$5-5=$

$4-4=$

$5-0=$

$4-1=$

$3-1=$

$2+0=$

$4-3=$

2. 应用题。

篮子里有苹果和桃共 5 个,苹果和桃可能分别有多少个?

微信公众号

教辅资料站



评价

棒极了 ☐

有进步 ☐

加油哦 ☐

家长签字: _____



第5课时 加法(一)

(完成时间: _____ 分 _____ 秒)



1. 口算。

$3+2=$

$1+3=$

$3+1=$

$1+1=$

$2+3=$

$2+2=$

$1+2=$

$1+4=$

$2+1=$

$\square+2=4$

$3+\square=5$

$\square+1=3$

$4+\square=5$

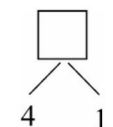
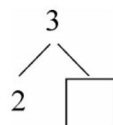
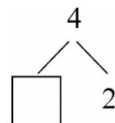
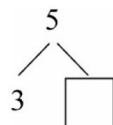
$\square+1=4$

$\square+2=3$

$\square+1=2$

$2+\square=5$

$1+\square=5$

在 \square 里填上合适的数。

错题订正

2. 应用题。

填一填。



我把苹果分在3个盘子里, 每盘比前一盘多()个。



评价

棒极了 ☐有进步 ☐加油哦 ☐

家长签字: _____



第6课时 加法(二)

(完成时间: _____ 分 _____ 秒)

___	月
___	日
星期	<input type="checkbox"/>

在○里填上

“>”“<”或

“=”。

5○3

1○4

2○2

4○2

3○4

1. 口算。

3+1=

1+2=

3+2=

4+1=

1+3=

2+3=

2+1=

1+4=

1+1=

+1=5

1+=3

3+=4

1+=2

2+=4

4+=5

2+=3

+2=5

+3=4

错题订正

2. 应用题。

小红可以怎样买? 请你用算式的形式表示出来。



从超市的袋装橙中买4个橙子。



微信公众号

教辅资料站



评价

棒极了 ☐

有进步 ☐

加油哦 ☐

家长签字: _____



第7课时 减法(一)

(完成时间: _____ 分 _____ 秒)



1. 口算。

$4-2=$

$5-4=$

$5-1=$

$2-1=$

$5-2=$

$4-3=$

$5-3=$

$4-1=$

$3-2=$

$5-$ $=1$

$\text{cloud shape}-2=2$

$3-\text{cloud shape}=2$

$\text{cloud shape}-3=2$

$5-\text{cloud shape}=3$

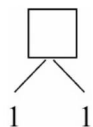
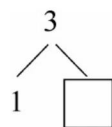
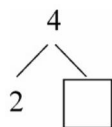
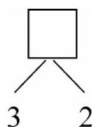
$\text{cloud shape}-3=1$

$\text{cloud shape}-4=1$

$\text{cloud shape}-1=2$

$4-\text{cloud shape}=2$

在 里填上合适的数。



错题订正

2. 应用题。

小明手里有4个气球,一不小心飞走了2个,这时
小明手里还剩几个气球?



$\text{cloud shape}-\text{cloud shape}=\text{cloud shape}(\text{个})$



评价

棒极了 ☐有进步 ☐加油哦 ☐

家长签字: _____

13



第8课时 减法(二)

(完成时间: _____ 分 _____ 秒)

___	月
___	日
星期	□

在○里填入

“+”或“-”。

4○2=2

5○5=0

1○2=3

3○2=5

3○1=2

1. 口算。

4-3=

3-2=

5-4=

5-1=

2-1=

4-2=

5-3=

3-1=

5-2=

4- =3

4- =2

-1=3

-4=1

3- =1

2- =1

-2=3

-3=2

-1=4

错题订正

2. 应用题。

兰兰同学周末帮外婆搬冬瓜。外婆有5个冬瓜,兰兰搬走了2个,还有几个没有搬?



□-□=□(个)





第9课时 0

(完成时间: _____ 分 _____ 秒)



1. 口算。

$2+0=$

$0+4=$

$5-5=$

$3-0=$

$0+1=$

$0-0=$

$1-1=$

$5+0=$

$3+0=$

$2-2=$

$0+2=$

$4-4=$

$3-3=$

$4-0=$

$1+2=$

$5-0=$

$0+0=$

$2-0=$

在()里填

上合适的数。

$0+()=2$

$3+()=3$

$5-()=0$

$3-()=0$

$2-()=2$

2. 应用题。

请帮小红算一算。

有 个气球。

$5-\square=\square(\text{个})$

$4-\square=\square(\text{个})$

$2-\square=\square(\text{个})$

错题订正



评价

棒极了 ☐有进步 ☐加油哦 ☐

家长签字: _____

15



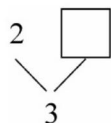
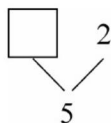
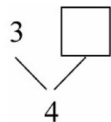
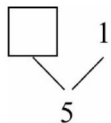
第10课时 整理和复习(一)

(完成时间: _____ 分 _____ 秒)



在 里填上

合适的数。



错题订正

1. 口算。

$2+1=$

$1+2=$

$3-1=$

$3+2=$

$5-2=$

$4-2=$

$5-1=$

$5+0=$

$4+1=$

$1+3=$

$3-3=$

$2-2=$

$4-1=$

$3-2=$

$5-4=$

$1+1=$

$2+2=$

$3-0=$

$5-3=$

$4-3=$

$1+4=$

$0+1=$

$0-0=$

$5-5=$

$1-1=$

$0+4=$


$2-1=$

2. 应用题。

还有几盆?



我把阳台上的花送了一盆给外婆。



$\square - \square = \square (\text{盆})$





第11课时 整理和复习(二)

(完成时间: _____ 分 _____ 秒)



1. 口算。

$2-2=$

$0+4=$

$2+1=$

$3-2=$

$5-5=$

$1+1=$

$1+3=$

$4-4=$

$3+2=$

$3+1=$

$5-4=$

$4-0=$

$1-1=$

$5-3=$

$2+3=$

$1+2=$

$1+4=$

$0-0=$

$5+0=$

$3-0=$

$4-1=$

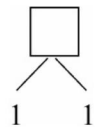
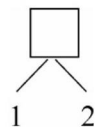
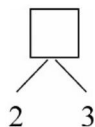
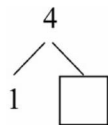
$2+2=$

$4+1=$

$5-1=$

在 里填上

合适的数。



错题订正

2. 应用题。

小动物们站成一列,从前往后数小羊是第3个,从后往前数

小羊也是第3个,这列小动物共有多少只?

$\square + \square = \square$ (只)



评价

棒极了 ☐有进步 ☐加油哦 ☐

家长签字: _____

17



第12课时 单元口算综合测试

(完成时间: _____ 分 _____ 秒)

____ 月
____ 日
星期 ☐

在○里填上

“>”“<”或

“=”。

$4 \bigcirc 2+3$

$3 \bigcirc 3+1$

$4-3 \bigcirc 5$

$4-1 \bigcirc 3$

$3+1 \bigcirc 2$

错题订正

1. 口算。

$2+3=$

$2+1=$

$1+3=$

$4+1=$

$2-2=$

$2+2=$

$2+3=$

$3-3=$

$5-4=$

$3-0=$

$3+1=$

$5-2=$

$5+0=$

$5-3=$

$3+1=$

$1+1=$

$1+0=$

$4-1=$

$5-4=$

$1+4=$

$4-4=$

$3-2=$

$0+2=$

$5-1=$

$4-3=$

$3+0=$

$1-1=$

$5-5=$

$3-1=$

$0+0=$

2. 应用题。

算一算他们的年龄。



(1) 今年几岁?

$\square + \square = \square$ (岁)

(2) 几年后 5岁?

$\square - \square = \square$ (年)





4 认识图形(一)



第1课时 认识立体图形

(完成时间: _____ 分 _____ 秒)

1. 口算。

$5-3=$

$1+4=$

$2+3=$

$0+4=$

$3-1=$

$2+1=$

$1+2=$

$3+1=$

$4+1=$

$2+0=$

$4+1=$

$0+0=$

$2-2=$

$0+3=$

$1+1=$

$5-2=$

$2+2=$

$5-0=$

$2-0=$

$4+0=$

$3-2=$

$3+2=$

$3-3=$

$0+5=$

在()里填

上合适的数。

$()+3=5$

$1+()=4$

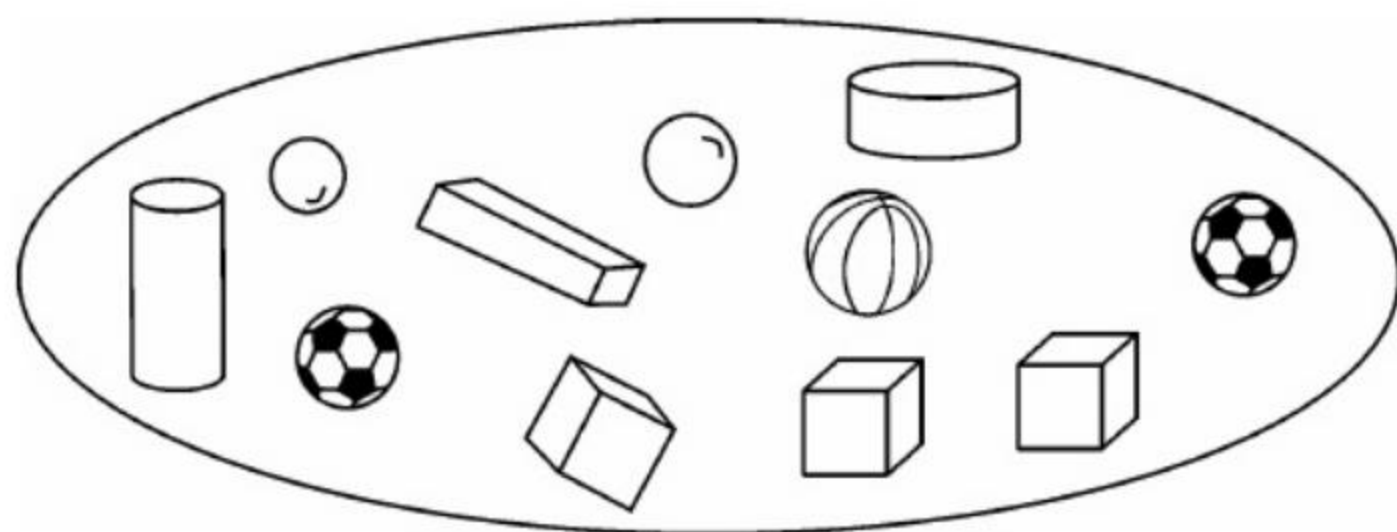
$3-()=0$

$2+()=4$

$5-()=1$

2. 应用题。

数一数。



(1) 长方体()个。

(2) 正方体()个。

(3) 圆柱()个。

(4) 球()个。

错题订正



评价

棒极了 ☐有进步 ☐加油哦 ☐

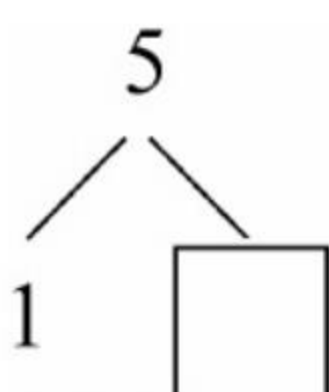
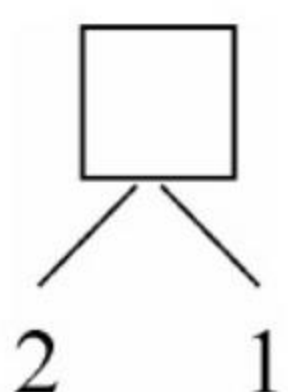
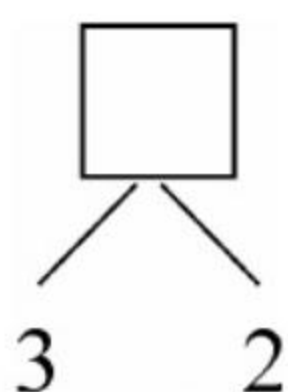
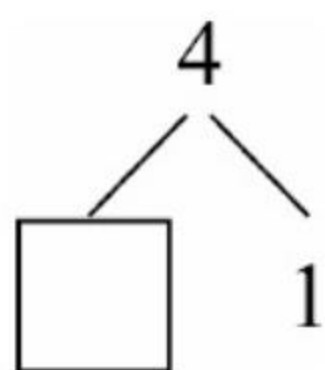
家长签字: _____



第2课时 图形的拼搭

(完成时间: _____ 分 _____ 秒)

在 里填上
合适的数。



错题订正

1. 口算。

$0+5=$

$4-0=$

$1+0=$

$4+1=$

$4-2=$

$1+3=$

$5-4=$

$1+1=$

$2+3=$

$0+3=$

$4-4=$

$5-3=$

$5-2=$

$3+2=$

$2+2=$

$2+0=$

$5-0=$

$0+4=$

$5-1=$

$4-3=$

$1+2=$

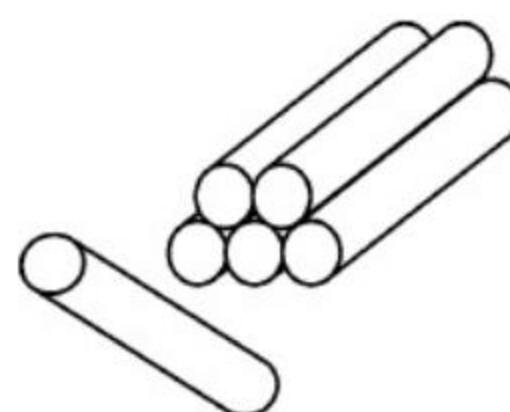
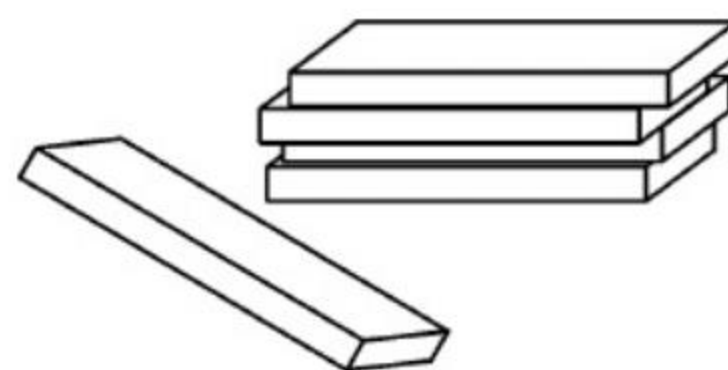
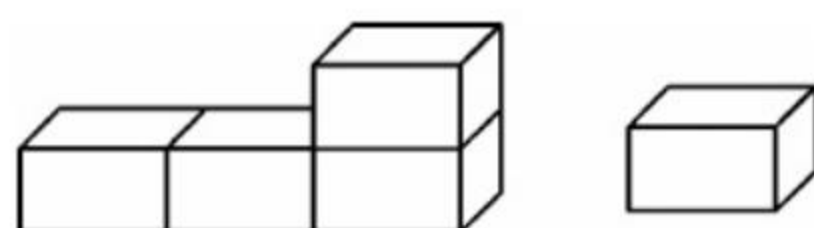
$3-2=$

$3-1=$

$2-2=$

2. 应用题。

圈出最难堆的一组。





第3课时 单元口算综合测试

(完成时间: _____ 分 _____ 秒)



1. 口算。

$1+4=$

$2-2=$

$3+2=$

$1+2=$

$4-3=$

$5-1=$

$2+2=$

$3-2=$

$1+3=$

$0+2=$

$3+1=$

$0-0=$

$5-2=$

$4+1=$

$2-0=$

$0+1=$

$5-4=$

$2+3=$

$2+1=$

$0+3=$

$1+1=$

$4-2=$

$4-4=$

$5-0=$

$0+5=$

$5-3=$

$1-1=$

$0+4=$

$3-3=$

$3-0=$

在○里填上

“>”“<”或

“=”。

$2 \bigcirc 1+1$

$3-1 \bigcirc 5$


$3+2 \bigcirc 5-3$

$1 \bigcirc 2+2$

错题订正

2. 应用题。

数一数。



(1) 有()个。

(2) 有()个。

(3) 有()个。

(4) 有()个。



评价

棒极了 ☐有进步 ☐加油哦 ☐

家长签字: _____



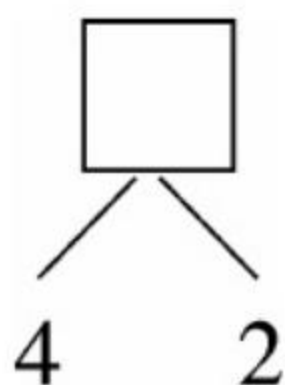
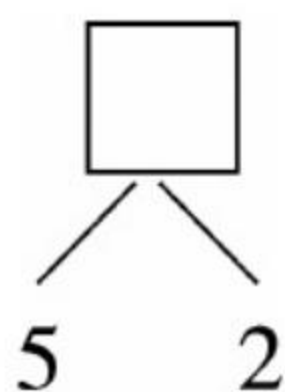
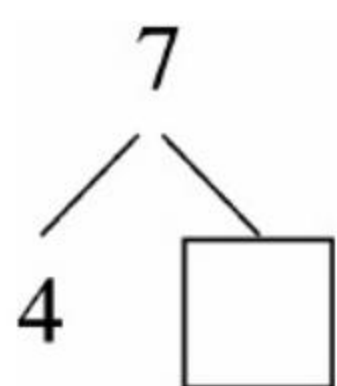
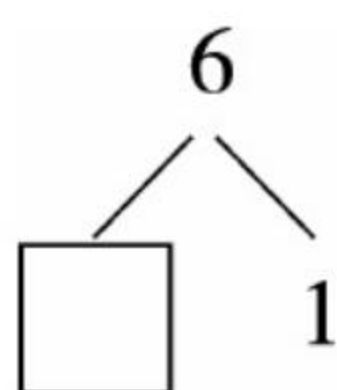
5 6~10 的认识和加减法



第1课时 6 和 7

(完成时间: _____ 分 _____ 秒)

在 里填上合适的数。



错题订正

1. 口算。

$2+3=$

$1+3=$

$4-1=$

$4-2=$

$7-3=$

$3-2=$

$5-3=$

$3+2=$

$1+1=$

$4+1=$

$4-3=$

$3+1=$

$2+2=$

$1+4=$

$5-1=$

$5-4=$

$0+4=$

$3-1=$

$4-4=$

$0+2=$

$3-3=$

$2-0=$

$6-1=$

$2-1=$

$1+5=$

$4+3=$

$5+2=$

$7-1=$

$6-2=$

$7-4=$

2. 应用题。

小羊分给小白兔和小乌龟同样多的巧克力。谁剩下的巧克力多? 在方框里画“√”。





第2课时 6 和 7 的加减法(一)

(完成时间: 分 秒)



1. 口算。

$3+4=$

$7-3=$

$4+2=$

$6-2=$

$6-4=$

$5+1=$

$7-4=$

$5+2=$

$6-3=$

$3+3=$

$7-1=$

$2+5=$

$2+4=$

$6-5=$

$7-2=$

$7-0=$

$6-1=$

$6+1=$

$6+0=$

$7-6=$

$7+0=$

$1+5=$

$7-7=$

$5+2=$

$0+4=$

$1+6=$

$7-5=$

$6-6=$

$6-0=$

$0+7=$

在得数大的算

式后面的

() 里画

“√”。

$\left\{ \begin{array}{l} 3+3 () \\ 3+4 () \end{array} \right.$

$\left\{ \begin{array}{l} 5-3 () \\ 5+2 () \end{array} \right.$

$\left\{ \begin{array}{l} 6-3 () \\ 1+6 () \end{array} \right.$

$\left\{ \begin{array}{l} 6-3 () \\ 1+6 () \end{array} \right.$

$\left\{ \begin{array}{l} 6-3 () \\ 1+6 () \end{array} \right.$

$\left\{ \begin{array}{l} 6-3 () \\ 1+6 () \end{array} \right.$

2. 应用题。

小青比小兰多几个气球?



小青



小兰

$\square - \square = \square (\text{个})$

错题订正



评价

棒极了 ☐有进步 ☐加油哦 ☐

家长签字: _____

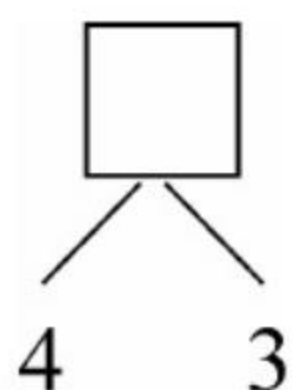
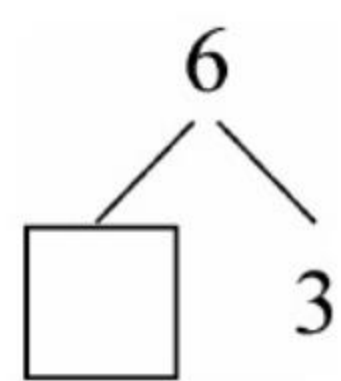
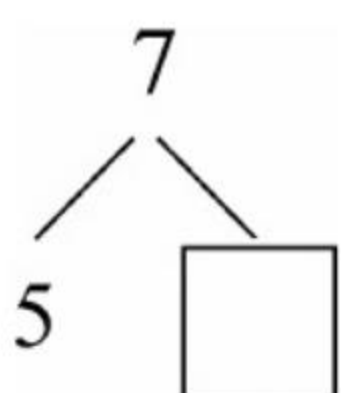
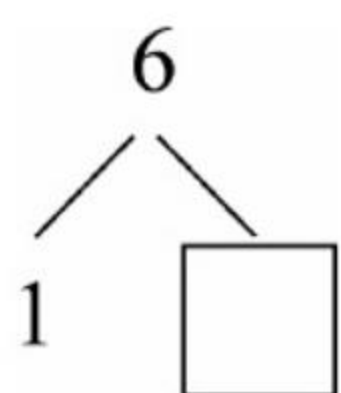


第3课时 6和7的加减法(二)

(完成时间: _____ 分 _____ 秒)

____ 月
____ 日
星期 ☐

在 里填上
合适的数。



错题订正

1. 口算。

$7-4=$

$7-0=$

$7-1=$

$4+2=$

$2-2=$

$5+1=$

$3+3=$

$7-2=$

$1+6=$

$5-2=$

$5+2=$

$6-6=$

$6-5=$

$2+4=$

$6-4=$

$2+5=$

$7-3=$

$6-0=$

$3+4=$

$2+3=$

$3-3=$

$6+1=$

$1+5=$

$5-1=$

$6-2=$

$0+7=$

$4+3=$

$6+0=$

$7-7=$

$5-3=$

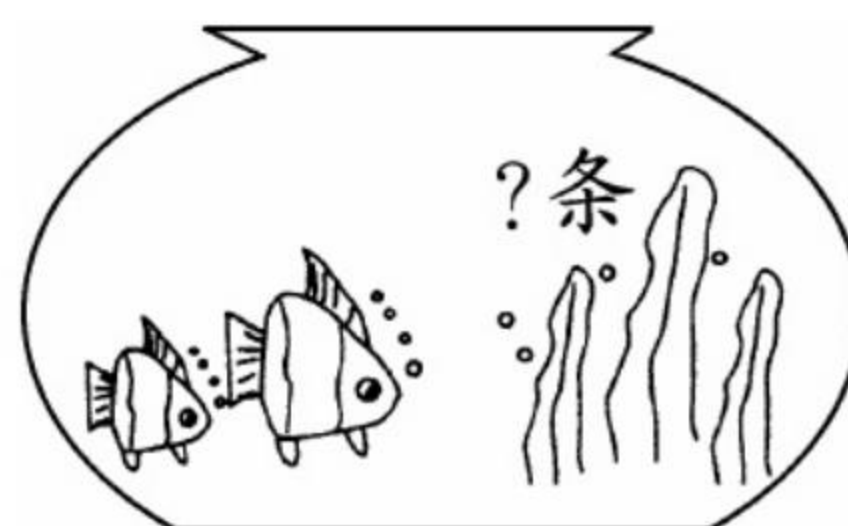
$7-5=$

$7-6=$

$4-2=$

2. 应用题。

鱼缸里一共有 7 条鱼,左边有 2 条,右边有几条?



$\square - \square = \square \text{ (条)}$





第4课时 解决问题(一)

(完成时间: _____ 分 _____ 秒)



1. 口算。

$6-3=$

$5-4=$

$4+2=$

$5-2=$

$2+1=$

$1+5=$

$5+0=$

$3+4=$

$1+4=$

$7-6=$

$6-2=$

$7-5=$

$1+6=$

$7-1=$

$2+5=$

在○里填入

“>”“<”或

“=”。

$7 \bigcirc 1$

$2 \bigcirc 6$

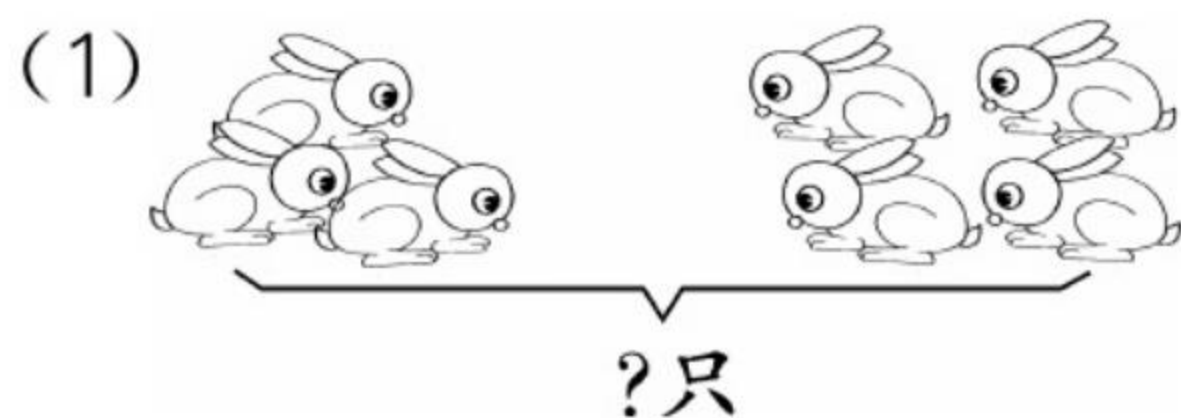
$3 \bigcirc 7$

$6 \bigcirc 6$

$5 \bigcirc 6$

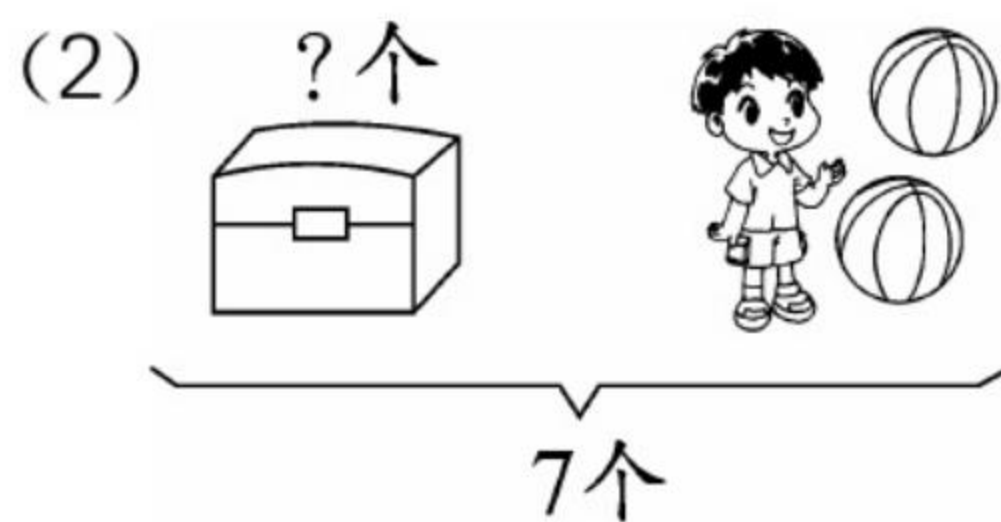
2. 应用题。

看图列式计算。



左边有□只,右边有□只。一共有几只?

$\square \bigcirc \square = \square$ (只)



一共有□个,拿走□个。还剩几个?

$\square \bigcirc \square = \square$ (个)

错题订正



评价

棒极了□

有进步□

加油哦□

家长签字: _____



第5课时 解决问题(二)

(完成时间: _____ 分 _____ 秒)



在()里填

上合适的数。

$$6 - () = 3$$

$$3 - () = 0$$

$$() + 4 = 6$$

$$7 - () = 1$$

$$5 - () = 2$$

错题订正

1. 口算。

$$6 - 3 =$$

$$5 - 2 =$$

$$0 + 4 =$$

$$7 - 2 =$$

$$7 - 5 =$$

$$7 - 6 =$$

$$0 + 7 =$$

$$6 - 2 =$$

$$7 - 7 =$$

$$1 + 6 =$$

$$4 - 1 =$$

$$2 + 4 =$$

$$7 - 1 =$$

$$3 + 3 =$$

$$5 + 2 =$$

$$4 + 3 =$$

$$6 + 1 =$$

$$2 + 5 =$$

$$3 + 4 =$$

$$3 + 1 =$$

$$6 - 0 =$$

$$1 + 4 =$$

$$7 - 4 =$$

$$1 + 5 =$$

$$3 + 2 =$$

$$0 + 6 =$$

$$7 - 3 =$$

$$4 - 4 =$$

$$6 - 5 =$$

$$7 - 0 =$$

$$6 - 4 =$$

$$6 - 1 =$$

$$0 + 5 =$$

2. 应用题。

公交车上有4人,站台上还有3人等着上车,靠站上车后车上一共有几人?



$$\square \bigcirc \square = \square (\text{人})$$





第6课时 8 和 9

(完成时间: _____ 分 _____ 秒)



1. 口算。

$1+7=$

$2+6=$

$4+5=$

$9-4=$

$5+3=$

$8-8=$

$4+3=$

$3+3=$

$8-6=$

$2+7=$

$1+6=$

$5-1=$

$9-8=$

$6+3=$

$8-1=$

$9-0=$

$1+8=$

$5+2=$

$5-4=$

$1+5=$

$7+1=$

$3+5=$

$9-1=$

$8+1=$

$4+4=$

$2+2=$

$8-7=$

$8-1=$

$9-2=$

$1+1=$

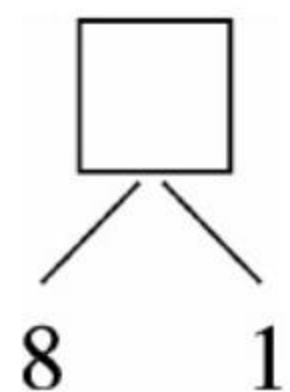
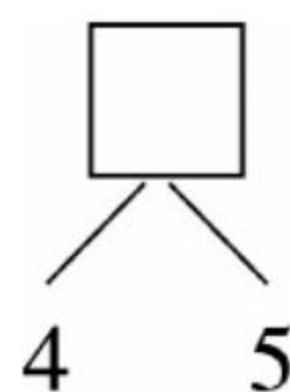
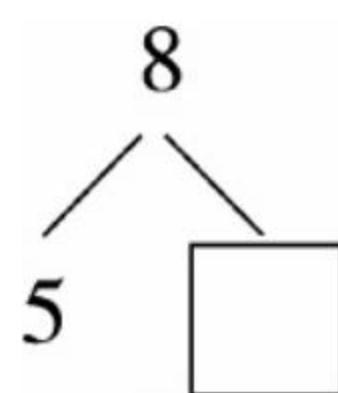
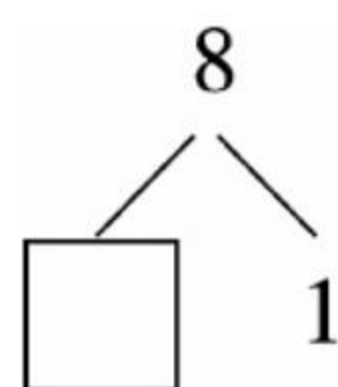
$4-4=$

$0+9=$

$8-5=$

在 里填上

合适的数。



2. 应用题。

小兰书包里有 9 本课本, 做家庭作业时拿出来 2 本, 小兰书包里还有几本课本?



$$\square \bigcirc \square = \square (\text{本})$$

错题订正



评价

棒极了 ☐有进步 ☐加油哦 ☐

家长签字: _____

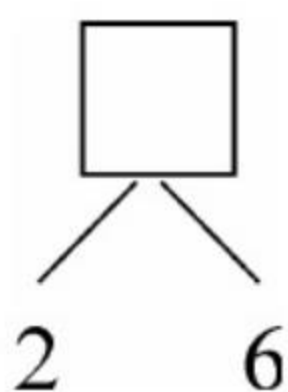
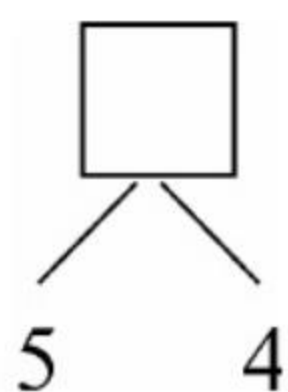
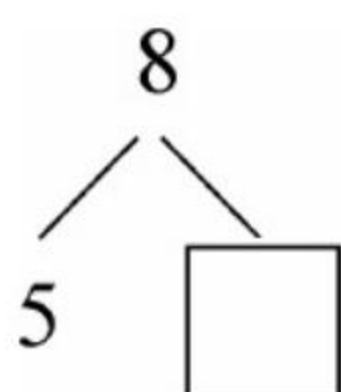
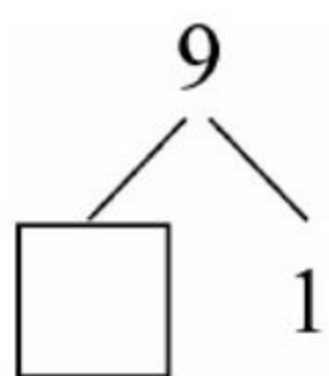


第7课时 8和9的加减法(一)

(完成时间: _____ 分 _____ 秒)

____ 月
____ 日
星期 ☐

在 里填上
合适的数。



错题订正

1. 口算。

$2+5=$

$3+4=$

$5+2=$

$3+6=$

$4+5=$

$6+2=$

$4+3=$

$5+0=$

$7-0=$

$9+0=$

$3+5=$

$0+9=$

$7+2=$

$2+4=$

$4+4=$

$1+7=$

$2+7=$

$9-4=$

$8-4=$

$9-2=$

$3+3=$

$5+1=$

$9-5=$

$5-1=$

$9-8=$

$1+8=$

$8-8=$

$8-1=$

$7+0=$

$7-6=$


$9-3=$

$6+1=$

$8+0=$

2. 应用题。

河里有5条小鱼,从右边又游过来3条,现在有几条小鱼?



$$\square \bigcirc \square = \square (\text{条})$$





第8课时 8和9的加减法(二)

(完成时间: _____ 分 _____ 秒)



1. 口算。

$8-3=$

$5+4=$

$9-6=$

$6+2=$

$9-0=$

$4+2=$

$8-8=$

$9-2=$

$6+3=$

$7+1=$

$8+1=$

$9-7=$

$8-4=$

$4+4=$

$8-7=$

$9-8=$

$9-1=$

$9-3=$

$9-9=$

$5+3=$

$1+6=$

$1+8=$

$8-0=$

$9-4=$

$7+2=$

$4+5=$

$6-1=$

$8-2=$

$8-1=$

$3+3=$

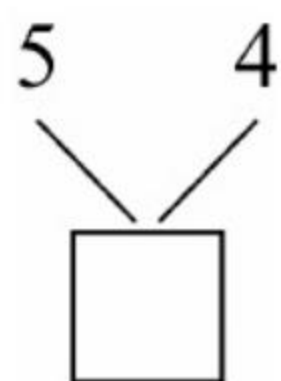
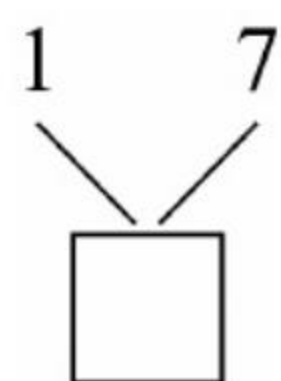
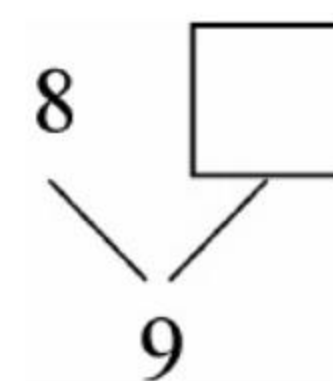
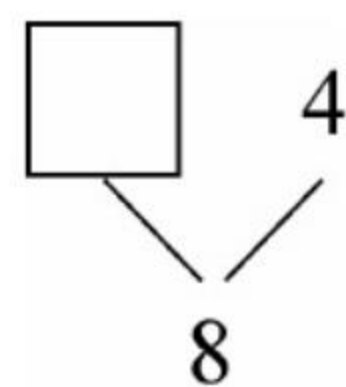
$9-5=$

$9+0=$

$8-5=$

在 里填上

合适的数。



2. 应用题。

9 个同学排成一队,有 2 个同学背上了书包,还有几个同学没有背书包?



$\square \bigcirc \square = \square (\text{个})$

错题订正



评价

棒极了 ☐有进步 ☐加油哦 ☐

家长签字: _____



第9课时 解决问题(一)

(完成时间: _____ 分 _____ 秒)



在○里填上

“+”或“-”。

$$4 \bigcirc 3 = 7$$

$$5 \bigcirc 2 = 3$$

$$9 \bigcirc 6 = 3$$

$$6 \bigcirc 3 = 3$$

$$1 \bigcirc 4 = 5$$

1. 口算。

$$9 - 4 =$$

$$6 - 3 =$$

$$9 - 5 =$$

$$9 - 3 =$$

$$3 + 5 =$$

$$5 - 4 =$$

$$6 - 0 =$$

$$3 + 6 =$$

$$5 + 4 =$$

$$4 + 5 =$$

$$6 - 1 =$$

$$5 - 3 =$$

$$4 + 4 =$$

$$2 + 3 =$$

$$2 + 4 =$$

$$7 + 1 =$$

$$8 - 2 =$$

$$9 - 7 =$$

$$7 - 2 =$$

$$3 + 4 =$$

$$3 + 3 =$$

$$1 + 8 =$$

$$2 + 7 =$$

$$9 - 9 =$$

$$2 + 5 =$$

$$0 + 7 =$$

$$8 - 3 =$$

$$2 + 6 =$$

$$1 + 4 =$$

$$9 - 6 =$$

$$9 + 0 =$$


$$9 - 1 =$$

$$8 - 7 =$$

错题订正

2. 应用题。

屋子里有 6 只小羊,又跑来了 2 只,现在屋子里一共有多少只小羊?



$$\square \bigcirc \square = \square (\text{只})$$





第10课时 解决问题(二)

(完成时间: _____ 分 _____ 秒)



1. 口算。

$8-2=$

$7-3=$

$5+2=$

$6-4=$

$3+5=$

$7+2=$

$9-3=$

$0+6=$

$4+5=$

$6+2=$

$8-3=$

$5-4=$

$3+4=$

$9-9=$

$9-5=$

$1+4=$

$9-2=$

$4+4=$

$3+6=$

$6-2=$

$1+7=$

$9-1=$

$8-0=$

$5-1=$

$7-5=$

$3+3=$

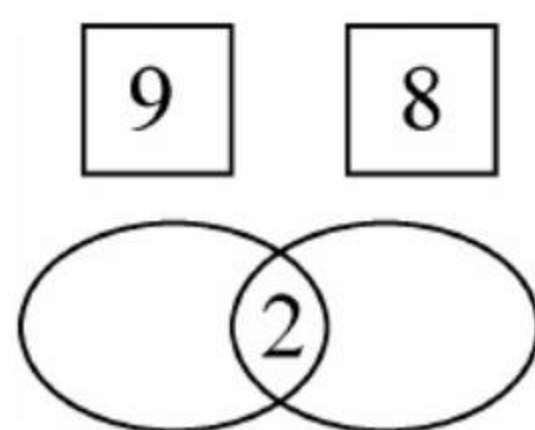
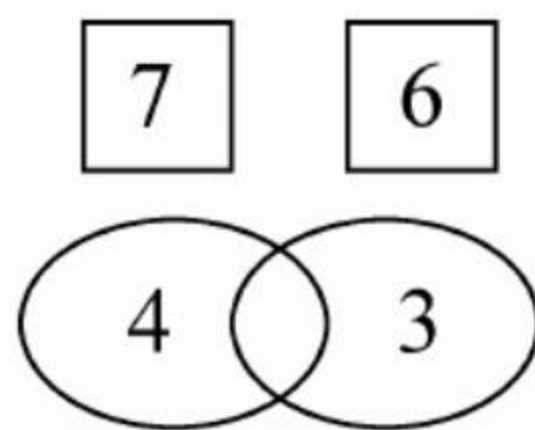
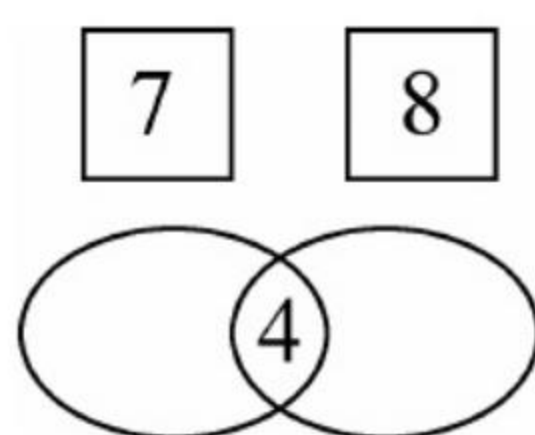
$1+6=$

$8+0=$

$3-1=$

$9+0=$

找规律。



错题订正

2. 应用题。

有8只翠鸟在河里抓鱼吃,飞走了2只,还剩多少只?



$\square \bigcirc \square = \square \text{ (只)}$



评价

棒极了 ☐有进步 ☐加油哦 ☐

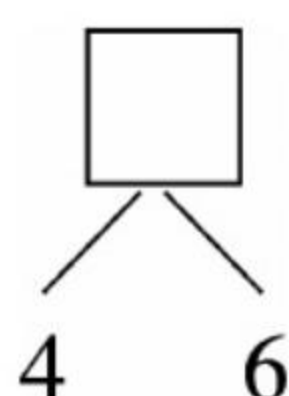
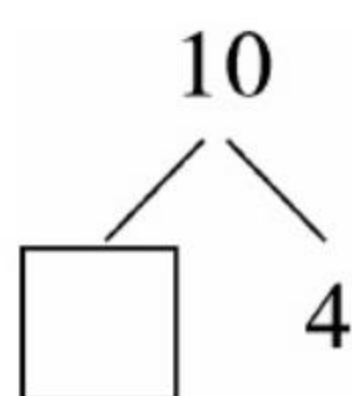
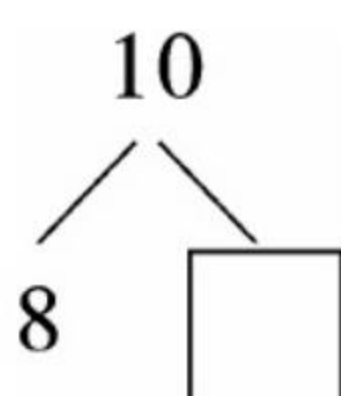
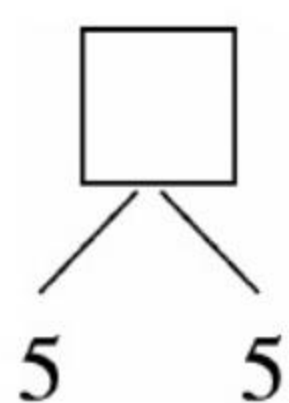
家长签字: _____



第11课时 10的认识

(完成时间: _____ 分 _____ 秒)

在 里填上合适的数。



错题订正

1. 口算。

$1+9=$

$8-1=$

$2+7=$

$3+6=$

$8-2=$

$9-1=$

$4+5=$

$5+5=$

$9-8=$

$4+6=$

$6-5=$

$3+7=$

$7-4=$

$4+4=$

$1+5=$

$9-2=$

$2+8=$

$8-6=$

$7-1=$

$8-7=$

$1+7=$

$5+2=$

$9-6=$

$3+4=$

$3+3=$

$0+8=$

$10+0=$

$2+6=$

$9-5=$

$4-1=$

$9-0=$

$1+4=$

$5-5=$

2. 应用题。

小兔帮妈妈拔萝卜,已经拔了9个,再拔1个就完了,小兔一共要拔几个萝卜?



$\square \bigcirc \square = \square (\text{个})$





第12课时 10 的加减法(一)

(完成时间: _____ 分 _____ 秒)



1. 口算。

$10 - 3 =$

$4 + 6 =$

$7 - 3 =$

$3 + 7 =$

$10 - 5 =$

$5 - 5 =$

$8 - 3 =$

$7 + 2 =$

$0 + 9 =$

$3 + 5 =$

$4 + 4 =$

$9 - 9 =$

$5 + 5 =$

$10 - 8 =$

$7 - 4 =$

$10 - 2 =$

$5 + 4 =$

$8 - 6 =$

$4 + 2 =$

$2 + 6 =$

$9 - 2 =$

$1 + 9 =$

$0 + 10 =$

$3 + 3 =$

$9 - 8 =$

$10 - 9 =$

$5 + 1 =$

$2 + 8 =$

$8 - 7 =$

$8 - 8 =$

在○里填入

“>” “<” 或

“=”。

$10 \bigcirc 9$

$7 \bigcirc 10$


$10 \bigcirc 10$

$10 \bigcirc 5$

$8 \bigcirc 10$

2. 应用题。

小猫看到桌上有 10 条小鱼,偷偷吃了 3 条就跑了,现在桌上还有几条小鱼?



$\square \bigcirc \square = \square \text{ (条)}$

错题订正



评价

棒极了 ☐有进步 ☐加油哦 ☐

家长签字: _____

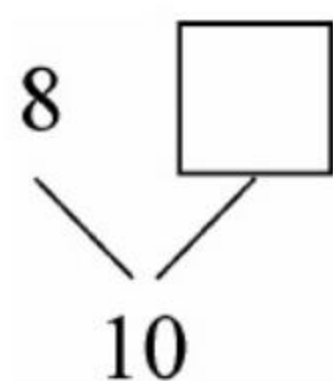
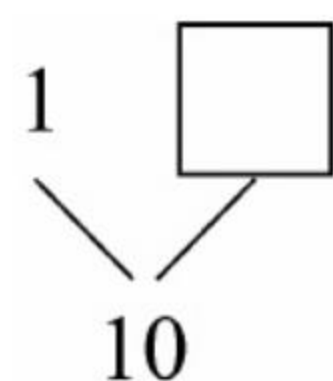
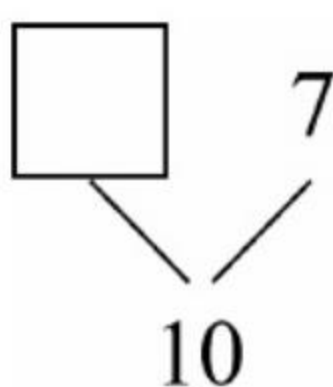
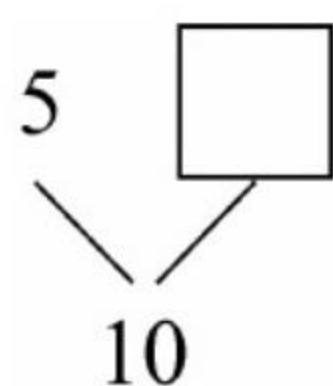


第13课时 10的加减法(二)

(完成时间: 分 秒)



在□里填上合适的数。



错题订正

1. 口算。

$3+7=$

$10-1=$

$2+8=$

$6+4=$

$4+5=$

$10-5=$

$5+3=$

$4+2=$

$9-3=$

$4+4=$

$7-1=$

$3+6=$

$10-4=$

$5+5=$

$10-3=$

$10-2=$

$3+3=$

$1+9=$

$5+2=$

$8-4=$

$10-6=$

$8-3=$

$1+8=$

$10+0=$

$10-10=$

$1+4=$

$2+2=$

$10-9=$

$9-0=$

$9-7=$

$2+3=$

$5+1=$

$9-8=$

2. 应用题。

教室里有7人在听课,又来了3人,现在一共有多少人?



$$\square \bigcirc \square = \square (\text{人})$$





第14课时 连加 连减(一)

(完成时间: _____ 分 _____ 秒)



1. 口算。

$3+2+2=$

$5-2-1=$

$5+1+2=$

$3+1+4=$

$2+1+3=$

$5-1-4=$

$4-3-0=$

$1+4+5=$

$10-2-5=$

$10-0-3=$

$10-4-3=$

$6-4-2=$

$3+5+2=$

$7-5-2=$

$2+1+7=$

$2+4+3=$

$8-6-1=$

$6+2+1=$

$2+4+2=$

$4+2+4=$

$8-3-1=$

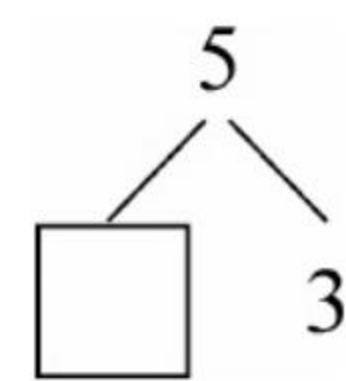
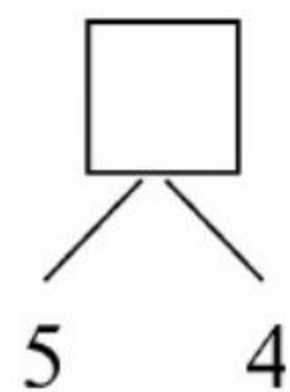
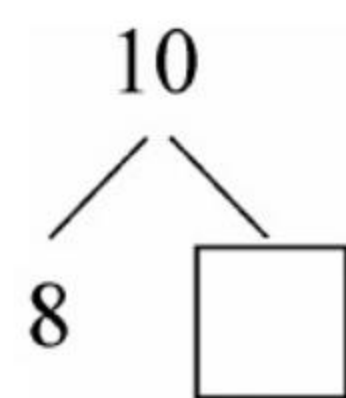
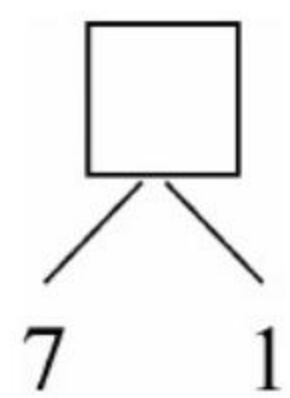
$6-3-2=$

$9-4-3=$

$8+2+0=$

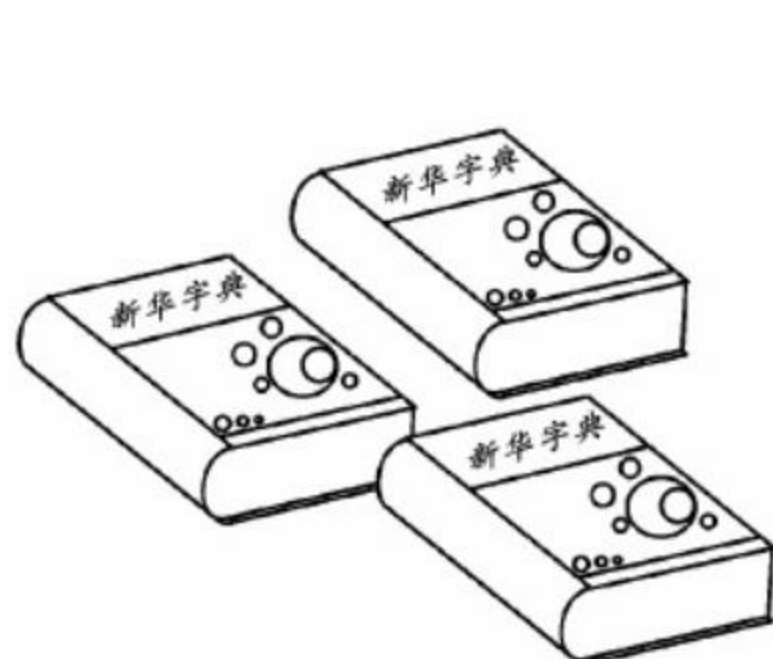
在 里填上

合适的数。



2. 应用题。

三种书一共有多少本?



$\square + \square + \square = \square$ (本)

错题订正



评价

棒极了 ☐有进步 ☐加油哦 ☐

家长签字: _____



第15课时 连加 连减(二)

(完成时间: _____ 分 _____ 秒)



$4+6=$

$5+5=$

$10-7=$

$10-9=$

$2+8=$

错题订正

1. 口算。

$3+5+1=$

$7+1+1=$

$3+2+1=$

$6-3-1=$

$2+6+2=$

$4+2+3=$

$4-2-2=$

$9-3-4=$

$3+3+3=$

$10-3-7=$

$7-4-1=$

$8-3-4=$

$9-6-3=$

$5+1+2=$

$10-2-5=$

$3+1+4=$

$10-5-3=$

$1+2+7=$

$1+1+6=$

$5-2-1=$

$7-3-4=$

$9-2-4=$

$10-7-1=$

$4+1+5=$

$2+2+2=$

$10-3-2=$

$0+1+7=$

$8-3-0=$

$9-2-5=$

$2+0+7=$

$10-1-2=$

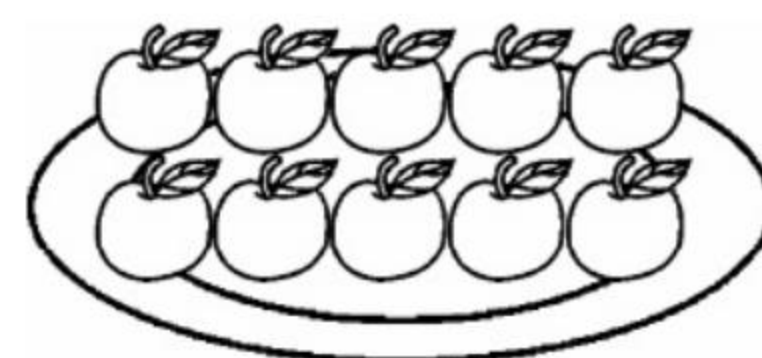
$7-1-3=$

$8-2-4=$

2. 应用题。

妈妈买了 10 个水蜜桃, 小红吃了 3 个, 给了小兰 4 个, 还剩几个?

$\square - \square - \square = \square (\text{个})$





第16课时 加减混合(一)

(完成时间: _____ 分 _____ 秒)



1. 口算。

$8-3-3=$

$4+3-5=$

$9-3+4=$

$10-8+0=$

$4+5-6=$

$5-1+3=$

$2+5-3=$

$6+4-4=$

$6+4-9=$

$10-7+5=$

$9-7+4=$

$2+3+1=$

$9-6+7=$

$3+7-5=$

$6+3-7=$

$4+1-3=$

$7+2-5=$

$5+1+3=$

$5-3+6=$

$9-6+2=$

$10-4+1=$

$3+1-2=$

$4-2+5=$

$7-6+4=$

在○里填入

“>”“<”或

“=”。

$9-4-5 \bigcirc 6$

$3+1+4 \bigcirc 7$

$3+3+3 \bigcirc 8$

$7-2-1 \bigcirc 3$

$3+2+5 \bigcirc 10$

2. 应用题。

小兰和明明一共跳了几下?



明明

我跳了5下。

我比明明少跳2下。



小兰

$\square \bigcirc \square \bigcirc \square = \square \text{ (下)}$

错题订正



评价

棒极了 ☐有进步 ☐加油哦 ☐

家长签字: _____

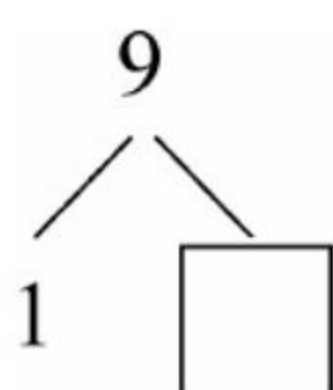
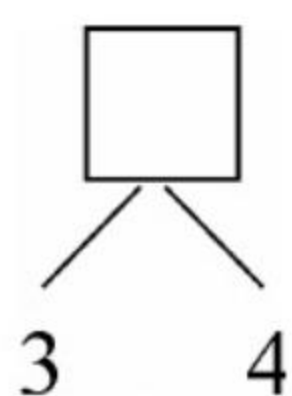
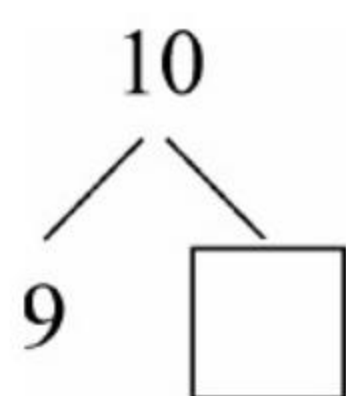
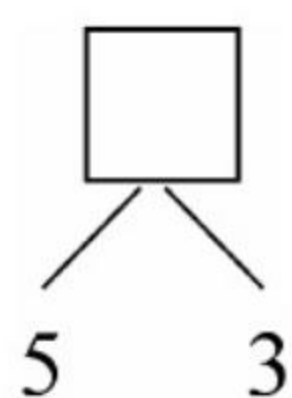


第17课时 加减混合(二)

(完成时间: _____ 分 _____ 秒)



在 里填上
合适的数。



错题订正

1. 口算。

$7-2-3=$

$1+9-8=$

$0+5+5=$

$2+5+1=$

$3+5-4=$

$10-4-2=$

$3-0+4=$

$9-4+2=$

$7+1-5=$

$3+6-4=$

$10-3+1=$

$3+7-6=$

$10-5+3=$

$9-3+4=$

$6-2+5=$

$9-2+0=$

$6-4+3=$

$10-7+6=$

$4+3-2=$

$6+3-5=$

$8-3+2=$

$9-5+4=$

$3+5-6=$

$7-2+3=$

$10-7+2=$

$8+1-9=$

$6+3-4=$

2. 应用题。

小明两天一共看了几页书?

$\square \bigcirc \square \bigcirc \square = \square \text{ (页)}$



昨天看了3页, 今天比昨天多看了3页。





第18课时 整理和复习

(完成时间: _____ 分 _____ 秒)



1. 口算。

$9-3-5=$

$3+6-0=$

$10-8+1=$

$4+2+4=$

$10-5+4=$

$9+1-0=$

$2+7-3=$

$6+3-5=$

$7+3-4=$

$10-7+1=$

$3+3-2=$

$5+3-4=$

$8-2-3=$

$8+1-4=$

$9-5+3=$

$10-7+2=$

$10+0-9=$

$10-2+2=$

$7+2-9=$

$8+1-6=$

$9-7+5=$

$10-9+5=$

$1+4-2=$

$8+0-4=$

在()里填

上合适的数。

$2+()=10$

$()+2=7$

$4+()=9$

$()+8=9$

$()+1=7$

错题订正

2. 应用题。

吃饭时,妈妈在桌上倒了 10 杯橙汁,小青一人就喝了 6 杯,

桌上还有几杯橙汁?

$\square \bigcirc \square = \square (\text{杯})$



评价

棒极了 ☐有进步 ☐加油哦 ☐

家长签字: _____



6 11~20 各数的认识



第1课时 11~20 各数的认识

(完成时间: _____ 分 _____ 秒)

1. 口算。

$5+3=$

$2+8=$

$6-6=$

$2+7=$

$4+4=$

$5+5=$

$10-9=$

$3+7=$

$2+6=$

$9-8=$

$4+3=$

$9-7=$

$3+6=$

$9-1=$

$10-8=$

$8-3=$

$3+3=$

$9+1=$

$9-3=$

$10-6=$

$10-1=$

$5-4=$

$10-5=$

$7+1=$

$2+5=$

$7-2=$

$10-0=$

$9-2=$

$10+0=$

$10-3=$

$5+4=$

$1+8=$

$6-4=$

在○里填入

“>”“<”或

“=”。

$13 \bigcirc 15$

$10 \bigcirc 11$

$18 \bigcirc 20$

$16 \bigcirc 13$

$12 \bigcirc 10$

错题订正

2. 应用题。

熊猫多多有 10 根竹子,已经吃了 6 根,多多还有几根竹子?

$\square \bigcirc \square = \square$ (根)



评价

棒极了 ☐有进步 ☐加油哦 ☐

家长签字: _____



第2课时 数位的认识(一)

(完成时间: _____ 分 _____ 秒)

____ 月
____ 日
星期 ☐

在()里填

上合适的数。

() - 1 = 9

3 + () = 7

() + 2 = 7

6 - () = 5

() + 1 = 9

1. 口算。

9 - 8 =

4 + 3 =

2 + 5 =

9 - 7 =

10 - 6 =

10 - 3 =

4 + 4 =

7 - 6 =

5 - 5 =

10 - 9 =

5 - 4 =

4 + 5 =

8 - 3 =

2 + 3 =

3 + 6 =

7 - 2 =

7 + 3 =

2 + 2 =

5 + 1 =

6 - 1 =

8 - 5 =

6 - 3 =

7 + 2 =

5 - 3 =

9 - 4 =

10 + 0 =

8 + 2 =

5 + 5 =

10 - 8 =

4 + 6 =

7 - 4 =


10 - 1 =

7 - 7 =

错题订正

2. 应用题。

小兰在动物园看见 8 只长颈鹿,过了一会儿有 3 只长颈鹿走进房间里休息去了,小兰还可以看见几只长颈鹿?



○ = (只)





第3课时 数位的认识(二)

(完成时间: 分 秒)



1. 口算。

$10 - 5 + 1 =$

$10 - 9 + 1 =$

$5 + 3 - 2 =$

$7 + 1 - 5 =$

$7 + 2 - 5 =$

$10 - 8 + 5 =$

$8 - 2 + 3 =$

$8 - 6 + 3 =$

$7 - 1 + 4 =$

$10 - 7 + 5 =$

$7 + 3 - 5 =$

$8 - 8 + 2 =$

$7 + 3 - 9 =$

$10 - 3 + 2 =$

$9 - 5 + 4 =$

$9 - 5 + 2 =$

$7 + 1 - 8 =$

$7 + 1 - 6 =$

$10 - 6 + 5 =$

$10 - 5 + 0 =$

$5 + 3 - 1 =$

$7 - 3 + 1 =$

$9 - 8 + 2 =$

$10 - 7 + 2 =$

$3 + 6 - 9 =$

$4 + 4 - 7 =$

$1 + 6 - 3 =$

$8 - 6 + 2 =$

$7 + 2 - 3 =$

$6 - 2 + 2 =$

填空。

(1) 一个数从

右边起第

一位是

()位,

第二位是

()位。

(2) 1个十和9

个一合起来

是()。

错题订正

2. 应用题。

妈妈在水果店买回9根香蕉,小芳吃了4根,还剩下几根?

$\square \bigcirc \square = \square \text{ (根)}$



评价

棒极了 ☐有进步 ☐加油哦 ☐

家长签字: _____



第4课时 10 加几及相应的减法(一)

(完成时间: _____ 分 _____ 秒)



在 ○ 里 填

“+”或“-”。

$$10 \bigcirc 7 = 17$$

$$16 \bigcirc 10 = 6$$

$$15 \bigcirc 5 = 10$$

$$19 \bigcirc 5 = 14$$

$$13 \bigcirc 2 = 15$$

1. 口算。

$$11 + 5 =$$

$$19 - 7 =$$

$$11 + 4 =$$

$$14 - 3 =$$

$$16 + 4 =$$

$$15 - 2 =$$

$$5 + 12 =$$

$$18 - 5 =$$

$$18 + 2 =$$

$$17 - 5 =$$

$$12 + 6 =$$

$$15 - 5 =$$

$$16 - 4 =$$

$$13 + 4 =$$

$$11 + 9 =$$

$$7 + 10 =$$

$$17 - 7 =$$

$$18 - 2 =$$

$$10 + 9 =$$

$$16 - 10 =$$

$$17 + 2 =$$

$$19 - 5 =$$

$$16 - 3 =$$

$$8 + 11 =$$

$$12 + 7 =$$

$$15 - 3 =$$

$$10 + 5 =$$

错题订正

2. 应用题。

小猫抓了 4 条 , 猫妈妈抓了 10 条 。猫妈妈和小

猫一共抓了多少条 ?

$$\square \bigcirc \square = \square (\text{条})$$





第5课时 10 加几及相应的减法(二)

(完成时间: _____ 分 _____ 秒)



1. 口算。

$18 - 4 =$

$15 + 2 =$

$17 - 1 =$

$10 + 8 =$

$15 - 5 =$

$13 + 4 =$

$19 - 2 =$

$19 - 10 =$

$13 + 3 =$

$18 - 8 =$

$17 + 2 =$

$18 - 2 =$

$10 + 7 =$

$15 - 9 =$

$20 - 10 =$

$8 + 11 =$

$19 - 8 =$

$15 + 3 =$

$19 - 6 =$

$13 + 5 =$

$13 - 1 =$

$12 + 2 =$

$10 + 5 =$

$11 - 1 =$

$17 - 10 =$

$4 + 10 =$

$14 - 2 =$

$15 + 4 =$

$13 - 6 =$

$9 + 9 =$

$11 + 7 =$

$2 + 12 =$

$18 - 7 =$

在 里填上

合适的数。

$14 + \square = 16$

$14 + \square = 19$

$16 - \square = 13$

$18 - \square = 12$

$\square + 2 = 15$

错题订正

2. 应用题。

公共汽车上有 15 位乘客,又上来 4 位,现在有几位乘客?

$\square \bigcirc \square = \square$ (位)



评价

棒极了 ☐有进步 ☐加油哦 ☐

家长签字: _____



第6课时 解决问题(一)

(完成时间: _____ 分 _____ 秒)

____ 月
____ 日
星期 ☐

在○里填上

“>”“<”或

“=”。

$19 - 7$ ○ 10

$15 - 3$ ○ 10

$17 - 3$ ○ 16

13 ○ $15 - 2$

16 ○ $11 + 2$

1. 口算。

$10 + 6 =$

$14 - 10 =$

$6 + 12 =$

$15 - 5 =$

$12 + 5 =$

$19 - 2 =$

$11 - 9 =$

$10 + 3 =$

$18 - 6 =$

$11 + 5 =$

$19 - 8 =$

$11 + 7 =$

$7 + 10 =$

$17 + 2 =$

$19 - 5 =$

$10 + 8 =$

$20 - 1 =$

$18 - 8 =$

$13 + 4 =$

$18 - 9 =$

$11 - 7 =$

$18 - 5 =$

$19 - 10 =$

$13 - 3 =$

$10 + 9 =$

$6 + 11 =$

$16 - 5 =$

$17 - 7 =$

$15 - 3 =$

$15 + 4 =$

$11 - 8 =$

$17 - 6 =$

$10 + 5 =$

2. 应用题。

小兰星期几还书?

我今天借一本故事书,从明天开始看,看3天后再来还书。

5
星期三



错题订正





第7课时 解决问题(二)

(完成时间: _____ 分 _____ 秒)



1. 口算。

$10 - 5 =$

$11 - 8 =$

$17 - 7 =$

$19 - 9 =$

$15 - 10 =$

$3 + 12 =$

$7 + 10 =$

$17 - 8 =$

$18 - 2 =$

$20 - 10 =$

$13 - 3 =$

$19 - 10 =$

$16 - 8 =$

$8 + 11 =$

$16 - 3 =$

$18 - 8 =$

$15 - 7 =$

$13 + 5 =$

$11 + 3 =$

$19 - 2 =$

$17 - 6 =$

$16 + 2 =$

$15 + 4 =$

$13 - 2 =$

$12 + 7 =$

$16 - 6 =$

$11 + 5 =$

$19 - 6 =$

$13 + 4 =$

$14 - 2 =$

$13 - 0 =$

$15 + 2 =$

$19 - 4 =$

在()里填上

合适的数。

$12 + () = 13$

$() - 3 = 15$

$11 + () = 18$

$() - 7 = 9$

$12 + () = 17$

错题订正

2. 应用题。

他今天做了几道题?

今天我从第3题做到第9题，
老师说明天再从第10题做起。

评价

棒极了 ☐有进步 ☐加油哦 ☐

家长签字: _____



第8课时 单元口算综合测试

(完成时间: _____ 分 _____ 秒)

____ 月
____ 日
星期 ☐

填空。

(1) 一个数从
右边起,
第 ()
位是个
位, 第
() 位
是十位。

(2) 1 个十和 7
个一合起来
是 ()。

错题订正

1. 口算。

$15 - 4 =$

$13 - 9 =$

$17 - 7 =$

$10 + 3 =$

$14 + 6 =$

$19 - 10 =$

$11 + 7 =$

$14 - 4 =$

$19 - 7 =$

$12 + 8 =$

$19 - 8 =$

$10 + 6 =$

$11 + 6 =$

$15 + 5 =$

$5 + 15 =$

$11 - 1 + 5 =$

$19 - 4 - 5 =$

$12 + 2 - 1 =$

$3 + 3 + 3 =$

$17 - 7 - 3 =$

$10 - 5 + 4 =$

$17 - 10 - 4 =$

$14 - 4 + 5 =$


$11 + 5 - 6 =$

2. 应用题。

明明有 18 颗糖, 送给小兰 7 颗后, 明明还有多少颗糖?



小兰



明明

$\square \bigcirc \square = \square \text{ (颗)}$





7 认识钟表



第①课时 认识钟表

(完成时间: _____ 分 _____ 秒)

1. 口算。

$3 + 12 =$

$3 + 5 =$

$15 - 3 =$

$13 + 5 =$

$19 - 4 =$

$17 - 7 =$

$10 + 3 =$

$19 - 7 =$

$10 + 7 =$

$14 + 3 =$

$19 - 5 =$

$14 - 2 =$

$10 + 8 =$

$15 + 4 =$

$19 - 9 =$

$13 - 1 =$

$18 - 6 =$

$10 + 9 =$

$11 - 1 + 6 =$

$12 + 2 - 7 =$

$17 - 10 + 4 =$

$11 + 5 - 6 =$

$3 + 7 - 2 =$

$7 - 4 + 9 =$

$19 - 9 + 2 =$

$18 - 8 + 5 =$

$12 - 1 + 3 =$

$10 - 9 + 3 =$

$15 + 4 - 10 =$

$17 - 7 + 5 =$

$13 + 1 - 8 =$

$16 - 5 + 3 =$

$14 + 3 - 8 =$

认时间,并用
两种方法写出
钟面上的时
刻。





错题订正

2. 应用题。

买水果。



每千克4元



每千克6元



每千克9元

(1) 三种水果各买 1 千克,要多少元?

$\square \bigcirc \square \bigcirc \square = \square \text{ (元)}$

(2) 买 1 千克  比买 1 千克  多多少钱?

$\square \bigcirc \square = \square \text{ (元)}$



评价

棒极了 ☐有进步 ☐加油哦 ☐

家长签字: _____



第2课时 单元口算综合测试

(完成时间: _____ 分 _____ 秒)

____ 月
____ 日
星期 ☐

1 小时前各是

什么时间?



_____ : _____



_____ : _____

错题订正

1. 口算。

$10 - 4 =$

$8 + 6 =$

$13 + 3 =$

$19 - 3 =$

$13 - 3 =$

$12 + 3 =$

$10 + 4 =$

$16 - 2 =$

$17 - 11 =$

$2 + 4 =$

$19 - 10 =$

$3 + 6 =$

$6 + 3 =$

$18 - 7 =$

$10 + 8 =$

$5 + 10 =$

$10 - 8 =$

$15 + 4 =$

$8 + 2 =$

$16 - 4 =$

$20 - 10 =$

$2 + 8 + 5 =$

$17 - 3 + 4 =$

$7 + 3 - 8 =$

$16 - 6 + 5 =$

$17 - 7 - 3 =$

$11 - 5 + 6 =$

$15 - 4 - 1 =$

$14 - 4 - 3 =$

$16 - 0 + 3 =$

$19 - 8 + 1 =$

$20 - 10 + 5 =$

$18 - 10 + 3 =$

2. 应用题。

兔妈妈带着小兔排队玩,从前面数,兔妈妈在第四名,从后面数,兔妈妈在第三名。

$\square \bigcirc \square \bigcirc \square = \square \text{ (只)}$

你知道一共有几只兔子吗?





8 20 以内的进位加法



第1课时 9 加几

(完成时间: _____ 分 _____ 秒)

1. 口算。

$9+2=$

$9+0=$

$9+3=$

$9+4=$

$9+1=$

$9+8=$

$9+5=$

$9+7=$

$9+6=$

$9+9=$

$9+10=$

$3+5=$

$2+6=$

$4+5=$

$2+7=$

$3+6=$

$1+8=$

$5+4=$

$3+7=$

$5+5=$

$4+6=$

$2+8=$

$4+4=$

$6+3=$

$2+2=$

$5+1=$

$3+4=$

$5+2=$

$0+4=$

$1+5=$

$2+4=$

$7+1=$

$3+3=$

在()里填上

合适的数。

$9+()=11$

$9+()=19$

$()+9=10$

$()+9=15$

$()+9=14$

错题订正

2. 应用题。

小白兔拔了9个胡萝卜,小灰兔拔了6个胡萝卜,它们一共拔了几个胡萝卜?

$\square \bigcirc \square = \square (\text{个})$



评价

棒极了 ☐有进步 ☐加油哦 ☐

家长签字: _____



第2课时 8、7、6 加几(一)

(完成时间: _____ 分 _____ 秒)



在 ○ 里 填

“+”或“-”。

$$9 \bigcirc 2 = 11$$

$$9 \bigcirc 2 = 7$$

$$9 \bigcirc 1 = 10$$

$$9 \bigcirc 3 = 6$$

$$9 \bigcirc 4 = 5$$

错题订正

1. 口算。

$$6 + 1 =$$

$$6 + 0 =$$

$$8 + 0 =$$

$$6 + 7 =$$

$$3 + 6 =$$

$$7 + 3 =$$

$$6 + 6 =$$

$$1 + 8 =$$

$$1 + 7 =$$

$$4 + 8 =$$

$$8 + 9 =$$

$$8 + 4 =$$

$$6 + 2 =$$

$$8 + 5 =$$

$$7 + 7 =$$

$$8 + 3 =$$

$$7 + 5 =$$

$$6 + 4 =$$

$$8 + 2 =$$

$$7 + 4 =$$

$$7 + 2 =$$

$$6 + 5 =$$

$$8 + 8 =$$



$$7 + 9 =$$

2. 应用题。

小叶家羊圈里有 8 只羊, 爷爷又买回 6 只羊, 现在小叶家羊圈里有几只羊?

$$\square \bigcirc \square = \square (\text{只})$$

又买回6只。





第3课时 8、7、6 加几(二)

(完成时间: _____ 分 _____ 秒)



1. 口算。

$6+7=$

$6+9=$

$7+9=$

$9+3=$

$7+3=$

$7+1=$

$6+4=$

$8+4=$

$6+8=$

$7+2=$

$8+0=$

$6+6=$

$7+5=$

$8+2=$

$7+7=$

$7+8=$

$8+8=$

$8+9=$

$8+1=$

$8+3=$

$7+4=$

$7+0=$

$6+5=$

$6+0=$

$13+5=$

$10+7=$

$12+1=$

$12+6=$

$11+8=$

$10+8=$

$11+7=$

$12+7=$

$6+10=$

$13+6=$

$16+1=$

$17+2=$

在○里填上

“>”“<”或

“=”。

$7+6 \bigcirc 15$

$8+6 \bigcirc 16$

$6+9 \bigcirc 11$

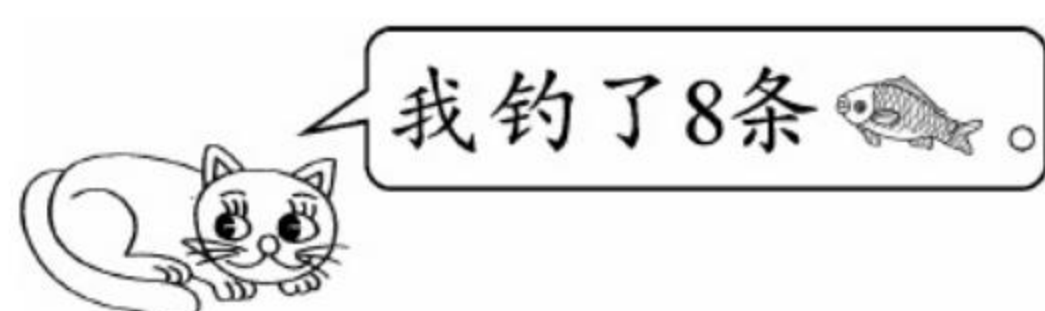
$8+8 \bigcirc 16$

$7+7 \bigcirc 12$

错题订正

2. 应用题。

两只小猫一共钓了几条鱼?



$\square \bigcirc \square = \square (\text{条})$



评价

棒极了 ☐有进步 ☐加油哦 ☐

家长签字: _____

53



第4课时 5、4、3、2 加几(一)

(完成时间: 分 秒)

在()里填上

合适的数。

$$(\quad) + 9 = 14$$

$$5 + (\quad) = 13$$

$$3 + (\quad) = 11$$

$$4 + (\quad) = 13$$

$$(\quad) + 7 = 12$$

1. 口算。

$$4 + 8 =$$

$$2 + 13 =$$

$$4 + 15 =$$

$$2 + 16 =$$

$$3 + 2 =$$

$$8 + 5 =$$

$$3 + 6 =$$

$$3 + 9 =$$

$$5 + 1 =$$

$$5 + 13 =$$

$$12 + 5 =$$

$$3 + 8 =$$

$$5 + 10 =$$

$$11 + 5 =$$

$$15 + 3 =$$

$$5 + 7 =$$

$$6 + 5 =$$

$$9 + 2 =$$

$$7 + 3 =$$

$$2 + 4 =$$

$$4 + 6 =$$

$$2 + 8 =$$

$$12 + 4 =$$

$$6 + 6 =$$

$$8 + 6 =$$


$$9 + 5 =$$

$$9 + 9 =$$

错题订正

2. 应用题。

星期天,小芳帮妈妈洗衣服,已经洗好了6件,洗衣机中还有9件在洗,小芳一共要洗多少件衣服?



洗衣机中
还有9件。



$$\square \bigcirc \square = \square (\text{件})$$





第5课时 5、4、3、2 加几(二)

(完成时间: _____ 分 _____ 秒)



1. 口算。

$5+6=$

$10+3=$

$4+7=$

$12-2=$

$8+3=$

$4+9=$

$2+8=$

$6+6=$

$5+7=$

$12-3=$

$4+8=$

$3+7=$

$8+5=$

$4+10=$

$6+7=$

$6+9=$

$5+10=$

$9+3=$

$2+9=$

$2+7=$

$2+10=$

$5+9-3=$

$4+7-5=$

$3+2-1=$

$5+8-4=$

$5+4-2=$

$3+2-2=$

$5+7-4=$

$2+10-3=$

$4+5-9=$

$12+2-5=$

$15+3-8=$

$14-4+7=$

$10+1=$

$0+13=$



$4+8=$

$5+0=$

$4+1=$

错题订正

2. 应用题。

停车场开走了 4 辆 , 还剩 10 辆, 停车场原来有多少辆 ?

$\square \bigcirc \square = \square \text{ (辆)}$



评价

棒极了 ☐有进步 ☐加油哦 ☐

家长签字: _____



第6课时 解决问题(一)

(完成时间: _____ 分 _____ 秒)

在()里填上

合适的数。

$$() + 5 = 12$$

$$() - 8 = 10$$

$$7 + () = 17$$

$$9 + () = 16$$

$$7 + () = 15$$

1. 口算。

$$5 + 10 =$$

$$9 + 4 =$$

$$7 + 6 =$$

$$10 + 7 =$$

$$11 + 8 =$$

$$8 + 7 =$$

$$7 + 4 =$$

$$7 + 5 =$$

$$6 + 6 =$$

$$15 + 2 =$$

$$5 + 14 =$$

$$9 + 0 =$$

$$13 + 4 =$$

$$7 + 7 =$$

$$12 + 7 =$$

$$4 + 8 =$$

$$8 + 3 =$$

$$10 + 8 =$$

$$8 + 9 =$$

$$17 + 2 =$$

$$4 + 5 =$$

$$7 + 9 =$$

$$9 + 1 =$$

$$4 + 2 =$$

$$6 + 5 =$$

$$10 + 3 =$$

$$14 + 3 =$$

$$9 + 9 =$$

$$6 + 8 =$$

$$13 + 5 =$$

错题订正

2. 应用题。

男生和女生一共有多少人?

女生有8人。

男生的人数和女生同样多。



$$\square \bigcirc \square = \square (\text{人})$$





第7课时 解决问题(二)

(完成时间: _____ 分 _____ 秒)



1. 口算。

$3+9=$

$5+9=$

$8+8=$

$2+10=$

$7+10=$

$4+8=$

$8+9=$

$7+4=$

$13+5=$

$6+3=$

$5+8=$

$7+9=$

$8+10=$

$6+5=$

$9+6=$

$8+7=$

$15-4=$

$5+7=$

$8+2=$

$2+15=$

$6+7=$

$8+6=$

$8+3=$

$9+4=$

$10-5+7=$

$7+5+2=$

$7+3+5=$

$9+7-8=$

$2+5-7=$

$4+2+10=$

$3+3+9=$

$15-7+2=$

$13+4-8=$

在○里填入

“>”“<”或

“=”。

$4+7 \bigcirc 11$

$7+6 \bigcirc 13$

$6+4 \bigcirc 9$



$8+5 \bigcirc 14$

$10-2 \bigcirc 12$

2. 应用题。

看图列式计算。

(1)





○有()个,香蕉有()个。一共有几个水果?

$\square \bigcirc \square = \square$ (个)

(2)

母鸡有3只。

公鸡有5只。



一共有多少只鸡?

$\square \bigcirc \square = \square$ (只)

错题订正



评价

棒极了 ☐有进步 ☐加油哦 ☐

家长签字: _____



第8课时 整理和复习

(完成时间: _____ 分 _____ 秒)

在 里填上

合适的数。

$$8 + \square = 17$$

$$\square + 7 = 15$$

$$5 + \square = 19$$

$$\square + 5 = 10$$

$$2 + \square = 11$$

错题订正

1. 口算。

$$4 + 8 =$$

$$5 + 5 =$$

$$15 + 2 =$$

$$5 + 6 =$$

$$3 + 12 =$$

$$11 + 6 =$$

$$8 + 6 =$$

$$9 + 9 =$$

$$13 + 3 =$$

$$7 + 5 =$$

$$8 + 7 =$$

$$16 + 2 =$$

$$8 + 9 =$$

$$9 + 3 =$$

$$7 + 4 =$$

$$7 + 7 =$$

$$5 + 2 =$$

$$12 + 5 =$$

$$8 + 3 =$$

$$7 + 10 =$$

$$8 + 5 =$$

$$5 + 4 =$$

$$13 + 5 =$$

$$9 + 2 =$$

$$9 + 7 =$$

$$6 + 6 =$$

$$8 + 1 =$$

$$5 + 9 =$$

$$11 + 7 =$$

$$12 + 0 =$$

$$10 + 8 =$$

$$6 + 9 =$$

$$14 + 5 =$$

2. 应用题。

奶奶给小芳买了 15 支 $\text{\text{铅笔}}$, 小芳先拿出 2 支出来用, 还剩几支 $\text{\text{铅笔}}$?

$$\square \bigcirc \square = \square (\text{支})$$





第9课时 单元口算综合测试

(完成时间: _____ 分 _____ 秒)



1. 口算。

$10+2=$

$9+1=$

$3+5=$

$8+8=$

$7+7=$

$9+9=$

$2+3=$

$4+10=$

$6+7=$

$2+4=$

$8+9=$

$8+11=$

$9+7-5=$

$8+5-3=$

$9+8-2=$

$8+5-5=$

$10+9-3=$

$9+10-8=$

$5+6-4=$

$8+8-4=$

$13+2-5=$

$15+2-8=$

$12+6-9=$

$11+7-8=$

$3+9-7=$

$14+2-10=$

$7+7-5=$

$6+7-5=$

$9+8-7=$

$16+3-7=$

在()里填上

合适的数。

$7-()=0$

$2+()=9$

$()+6=11$

$8-()=3$

$8-()=6$

错题订正

2. 应用题。

小猴拉走了9朵, 还剩3朵, 小猴一共摘了多少朵.

$\square \bigcirc \square = \square$ (朵)



评价

棒极了 ☐有进步 ☐加油哦 ☐

家长签字: _____



9 总复习



总复习

(完成时间: _____ 分 _____ 秒)

在 里填上

合适的数。

$$4 + \square = 12$$

$$\square + 9 = 18$$

$$12 - \square = 9$$

$$\square + 9 = 16$$

$$12 - \square = 10$$

错题订正

1. 口算。

$$6 + 8 =$$

$$12 - 3 =$$

$$8 + 10 =$$

$$3 + 9 =$$

$$13 - 2 =$$

$$17 - 9 =$$

$$7 + 5 =$$

$$9 + 9 =$$

$$18 - 10 =$$

$$13 + 2 =$$

$$15 + 4 =$$

$$9 + 7 =$$

$$15 - 7 =$$

$$17 - 7 =$$

$$10 + 5 =$$

$$1 + 18 - 9 =$$

$$8 + 9 - 5 =$$

$$8 + 8 - 9 =$$

$$3 + 15 - 4 =$$

$$9 - 6 + 8 =$$

$$15 + 3 - 7 =$$

$$2 + 3 + 9 =$$

$$11 - 1 + 3 =$$

$$14 + 1 - 8 =$$

$$10 - 5 + 8 =$$

$$2 + 8 + 5 =$$

$$13 - 2 + 5 =$$

$$19 - 9 + 3 =$$

$$14 + 4 - 8 =$$

$$9 - 7 + 7 =$$

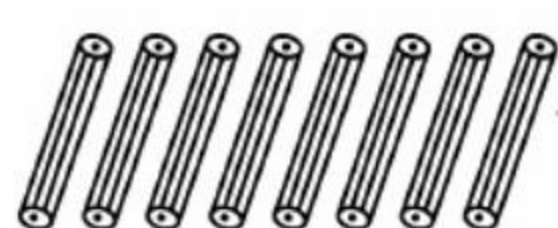
$$13 - 7 + 5 =$$

$$8 - 7 + 9 =$$

$$8 + 5 - 0 =$$

2. 应用题。

原来一共有多少支铅笔?



还剩8支。

我已经用了5支。



$$\square \bigcirc \square = \square (\text{支})$$





奥数题

1. 芳芳做了 14 朵花,晶晶做了 8 朵花,芳芳给晶晶几朵花,两人的花就同样多?
2. 明明从布袋里拿出 5 个白皮球和 5 个花皮球后,白皮球剩下 10 个,花皮球剩下 5 个。布袋里原来有多少个白皮球,多少个花皮球?
3. 同学们到体育馆借球,一班借了 9 个,二班借了 6 个。体育馆的球共减少了几几个?
4. 猫妈妈给小白 5 条鱼,给小花 4 条鱼,小白和小花共吃了 6 条,它们还有几条?



评价

棒极了 ☐有进步 ☐加油哦 ☐

家长签字: _____



5. 大华和小刚每人有 10 张画片, 大华给小刚 2 张后, 小刚比大华多几张?
6. 第二中队有 8 名男同学, 女同学的人数跟男同学同样多, 第二中队共有多少名同学?
7. 哥哥送给弟弟 5 支铅笔后, 还剩 6 支, 哥哥原来有几支铅笔?
8. 小林吃了 8 块饼干后, 还有 4 块饼干, 小林原来有多少块饼干?
9. 一队小学生, 李平前面有 8 个学生比他高, 后面有 7 个学生比他矮, 这队小学生至少有多少人?
10. 刚刚有 9 本书, 爸爸又给他买了 5 本, 小明借去 2 本, 刚刚还有几本书?





11. 新星小学美术兴趣小组有学生 9 人,书法兴趣小组的人数和美术兴趣小组的人数同样多,这两个兴趣小组共有多少名学生?
12. 小红有 2 个玩具,小英有 3 个玩具,小明的玩具比小红多 2 个,小明有几个玩具?
13. 第一个盘子里有 5 个梨,第二个盘子里有 4 个梨,把第一个盘里拿 1 个放到第二个盘里,现在一共有多少个梨?
14. 小华和爸爸、妈妈为植树节义务植树,小华植了 1 棵,爸爸植了 5 棵,妈妈比爸爸少植 2 棵,妈妈植了多少棵? 他们一共植了多少棵?
15. 春天来了,小明、小冬和小强到郊外捉蝴蝶,小明捉了 3 只,小冬捉了 5 只,他们一共捉了 12 只,小强捉了几只?



评价

棒极了 ☐有进步 ☐加油哦 ☐

家长签字: _____



16. 马戏团有 1 只老虎, 3 只猴子, 黑熊和老虎同样多, 问马戏团一共有几只动物?

17. 小平家距学校 2 千米, 一次他上学走了 1 千米, 想起忘带铅笔盒, 又回家去取。这次他到学校一共走了多少千米?

18. 冬冬有 5 支铅笔, 南南有 9 支铅笔, 冬冬再买几支就和南南的一样多?

19. 草地上有 10 只羊, 跑走了 3 只白山羊, 又来了 7 只黑山羊, 现在一共有几只羊?

20. 妈妈买回一些鸭蛋和 12 个鸡蛋, 吃了 8 个鸡蛋后, 剩下的鸡蛋和鸭蛋同样多, 问妈妈一共买回几个蛋?





参考答案

1 准备课

第1课时 数一数

1. 0 5 3 3 5 1 6 6 9 4 2 0 2 3 2 4
2 5 2 3 3 0 2 0 2 9 3 9 5 1 8 8
8

2. 略

1 10 1 8 0

第2课时 比多少

1. 5 2 6 4 7 2 3 6 3 7 4 2 6 6 7 0
6 6 3 4 4 5 6 4 7 4 7 3 4 0 1 7
6

2. 略

5 7 6 5 3

第3课时 单元口算综合测试

1. 3 4 5 7 7 10 8 10 9 4 4 0 9 6 7 1
9 6 2 0 5 0 3 10 10 4 4 8 2 8 3
10 4

2. $2+5=7$ (个)

9 5 7 4 8

2 位置

第1课时 上、下、前、后

1. 3 7 3 10 6 6 7 7 5 4 0 8 6 3 1 6
5 10 2 8 9 4 9 8 9 5 9 2 10 9 10
10 1

2. (1)后 前 (2)兔子

4 5 3 7 5

第2课时 左 右

1. 7 3 7 8 10 1 9 6 2 7 5 6 8 8 9 4
6 3 6 5 4 9 7 10 9 0 10 4 9 4 8
6 5

2. 右 左

3 2 5 5 5

第3课时 单元口算综合测试

1. 6 10 8 5 5 8 8 2 1 6 10 1 3 2 9 5
8 5 6 6 10 4 8 10 2 10 8 4 9 2 7
8 4

2. 作业本 尺子 橡皮 笔 笔筒 右

3 2 4 1 9

3 1~5的认识和加减法

第1课时 1~5的认识

1. 2 4 3 2 4 5 3 5 1 1 4 4 2 3 3 5
5 4 1 4 3 1 2 5 3 5 1 2 0 0 0 2
0

2. 略

1 3 2 1

第2课时 比多少

1. 5 3 3 5 4 5 3 5 1 2 3 2 2 4 1 4
0 5 0 2 1 4 2 4 1 3 5 0 3 0 1 4
0

2. 5 3 $5>3$

$< > > = > = <$

第3课时 第 几

1. 5 4 2 3 4 5 4 3 0 4 3 5 3 5 4 1
2 0 2 4 0 2 3 5 2 1 1 0 0 1 1 1
5

2. 略

4 1 5 2

第4课时 分与合

1. 4 0 2 5 1 3 4 5 3 5 3 0 0 3 5 2
4 5 4 3 2 1 1 4 3 1 0 0 5 3 2 2
1

2. 1 4 2 3 3 2 4 1

3 5 5 4

第5课时 加法(一)

1. 5 4 4 2 5 4 3 5 3 2 2 2 1 3 1 1
3 4

2. 2

2 2 1 5

第6课时 加法(二)

1. 4 3 5 5 4 5 3 5 2 4 2 1 1 2 1 1
3 1

2. $1+3=4$ (个)

$> < = > <$

第7课时 减法(一)

1. 2 1 4 1 3 1 2 3 1 4 4 1 5 2 4 5
3 2

2. $4-2=2$

5 2 2 2



第8课时 减法(二)

1. 1 1 1 4 1 2 2 2 3 1 2 4 5 2 1 5
5 5
2. $5-2=3$
- - + + -

第9课时 0

1. 2 4 0 3 1 0 0 5 3 0 2 0 0 4 3 5
0 2
2. 5 1 4 2 2 2 0
2 0 5 3 0

第10课时 整理和复习(一)

1. 3 3 2 5 3 2 4 5 5 4 0 0 3 1 1 2
4 3 2 1 5 1 0 0 0 4 1
2. $4-1=3$
4 1 3 1

第11课时 整理和复习(二)

1. 0 4 3 1 0 2 4 0 5 4 1 4 0 2 5 3
5 0 5 3 3 4 5 4
2. $3+2=5$
3 5 3 2

第12课时 单元口算综合测试

1. 5 3 4 5 0 4 5 0 1 3 4 3 5 2 4 2
1 3 1 5 0 1 2 4 1 3 0 0 2 0
2. (1) $2+1=3$ (2) $5-2=3$
< < < = >

4 认识图形(一)

第1课时 认识立体图形

1. 2 5 5 4 2 3 3 4 5 2 5 0 0 3 2 3
4 5 2 4 1 5 0 5
2. (1) 1 (2) 3 (3) 2 (4) 5
2 3 3 2 4

第2课时 图形的拼搭

1. 5 4 1 5 2 4 1 2 5 3 0 2 3 5 4 2
5 4 4 1 3 1 2 0
2. 球最难堆
3 5 3 4

第3课时 单元口算综合测试

1. 5 0 5 3 1 4 4 1 4 2 4 0 3 5 2 1
1 5 3 3 2 2 0 5 5 2 0 4 0 3
2. (1) 2 (2) 5 (3) 3 (4) 6
= < > <

5 6~10的认识和加减法

第1课时 6和7

1. 5 4 3 2 4 1 2 5 2 5 1 4 4 5 4 1
4 2 0 2 0 2 5 1 6 7 7 6 4 3
2. 小白兔剩下的巧克力多。

5 3 7 6

第2课时 6和7的加减法(一)

1. 7 4 6 4 2 6 3 7 3 6 6 7 6 1 5 7
5 7 6 1 7 6 0 7 4 7 2 0 6 7
2. $7-4=3$
3+4 5+2 1+6

第3课时 6和7的加减法(二)

1. 3 7 6 6 0 6 6 5 7 3 7 0 1 6 2 7
4 6 7 5 0 7 6 4 4 7 7 6 0 2 2 1
2
2. $7-2=5$
5 2 3 7

第4课时 解决问题(一)

1. 3 1 6 3 3 6 5 7 5 1 4 2 7 6 7
2. (1) 3 4 $3+4=7$ (2) 7 2 $7-2=5$
> < < = <

第5课时 解决问题(二)

1. 3 6 3 3 6 6 4 6 5 5 7 6 2 7 4 1
7 0 7 7 1 4 7 7 0 4 2 7 6 5 3 5
5
2. $4+3=7$
3 3 2 6 3

第6课时 8和9

1. 8 9 5 8 0 7 6 2 9 7 4 1 9 7 9
9 7 1 6 8 8 8 9 8 4 1 7 7 2 0 9
3
2. $9-2=7$
7 3 9 9

第7课时 8和9的加减法(一)

1. 7 7 9 9 8 7 5 7 9 8 9 9 6 8 8
9 5 4 7 6 6 4 4 1 9 0 7 7 1 6 7
8
2. $5+3=8$
8 3 9 8

第8课时 8和9的加减法(二)

1. 5 9 3 8 9 6 0 7 9 8 9 2 4 8 1 1
8 6 0 8 7 9 8 5 9 9 5 6 7 6 4 9
3
2. $9-2=7$
4 1 8 9

第9课时 解决问题(一)

1. 5 2 9 3 8 0 4 5 7 6 6 7 8 8 5 1
6 8 6 2 5 9 5 3 9 7 9 9 6 8 5 9
1
2. $6+2=8$
+ - - - +

第10课时 解决问题(二)

1. 6 4 7 2 8 9 6 6 9 8 5 1 7 0 4 5
7 8 9 4 8 8 8 4 2 6 7 8 2 9



$2.8-2=6$

3 4 3 7 6

第11课时 10的认识

1. 10 7 9 9 6 8 9 10 1 10 1 10 3 8 6
7 10 2 6 1 8 7 3 7 6 8 10 8 4 3
9 5 0

$2.9+1=10$

10 2 6 10

第12课时 10的加减法(一)

1. 7 10 4 10 5 0 5 9 9 8 8 0 10 2 3
8 9 2 6 8 7 10 10 6 1 1 6 10 1 0

$2.10-3=7$

> < = > <

第13课时 10的加减法(二)

1. 10 9 10 10 9 5 8 6 6 8 6 9 6 10 7
8 6 10 7 4 4 5 9 10 0 5 4 1 9 2
5 6 1

$2.7+3=10$

5 3 9 2

第14课时 连加 连减(一)

1. 7 2 8 8 6 0 1 10 3 7 3 0 10 0 10
9 1 9 8 10 4 1 2 10

$2.3+4+2=9$

8 2 9 2

第15课时 连加 连减(二)

1. 9 9 6 2 10 9 0 2 9 0 2 1 0 8 3 8
2 10 8 2 0 3 2 10 6 5 8 5 2 9 7
3 2

$2.10-3-4=3$

10 10 3 1 10

第16课时 加减混合(一)

1. 2 2 10 2 3 7 4 6 1 8 6 6 10 5 2 2
4 9 8 5 7 2 7 5

$2.5-2+5=8$

< > > > =

第17课时 加减混合(二)

1. 2 2 10 8 4 4 7 7 3 5 8 4 8 10 9 7
5 9 5 4 7 8 2 8 5 0 5

$2.3+3+3=9$

8 1 7 8

第18课时 整理和复习

1. 1 9 3 10 9 10 6 4 6 4 4 4 3 5 7 5
1 10 0 3 7 6 3 4

$2.10-6=4$

8 5 5 1 6

第19课时 单元口算综合测试

1. 8 10 4 3 10 5 9 9 3 2 10 1 7 2 8
5 9 4 1 3 6 4 3 6 2 2 3 6 2 5 6
4 8

$2.9-3-4=2$

(1)4 3 8 (2)5

6 11~20各数的认识

第1课时 11~20各数的认识

1. 8 10 0 9 8 10 1 10 8 1 7 2 9 8 2
5 6 10 6 4 9 1 5 8 7 5 10 7 10 7
9 9 2

$2.10-6=4$

< < < > >

第2课时 数位的认识(一)

1. 1 9 9 7 5 2 7 5 5 2 9 10 4 5 10 7
10 10 8 4 2 1 6 10 0 5 3 1 3 9 1
3 0

$2.8-3=5$

10 4 5 1 8

第3课时 数位的认识(二)

1. 6 2 6 3 4 7 9 5 10 8 5 2 1 9 8 6
0 2 9 5 7 5 3 5 0 1 4 4 6 6

$2.9-4=5$

(1)个 十 (2)19

第4课时 10加几及相应的减法(一)

1. 16 12 15 11 20 13 17 13 20 12 18 10
12 17 20 17 10 16 19 6 19 14 13 19
19 12 15

$2.10+4=14$

+ - - - +

第5课时 10加几及相应的减法(二)

1. 14 17 16 18 10 17 17 9 16 10 19 16
17 6 10 19 11 18 13 18 12 14 15 10 7
14 12 19 7 18 18 14 11

$2.15+4=19$

2 5 3 6 13

第6课时 解决问题(一)

1. 16 4 18 10 17 17 2 13 12 16 11 18 17
19 14 18 19 10 17 9 4 13 9 10 19
17 11 10 12 19 3 11 15

$2.星期日$

> > < = >

第7课时 解决问题(二)

1. 5 3 10 10 5 15 17 9 16 10 10 9 8 19
13 10 8 18 14 17 11 18 19 11 19 10
16 13 17 12 13 17 15

$2.9-3+1=7(\text{道})$

1 18 7 16 5

第8课时 单元口算综合测试

1. 11 4 10 13 20 9 18 10 12 20 11 16 17
20 20 15 10 13 9 7 9 3 15 10

$2.18-7=11$

(1)一 二 (2)17



7 认识钟表

第1课时 认识钟表

1. 15 8 12 18 15 10 13 12 17 17 14 12
18 19 10 12 12 19 16 7 11 10 8 12 12
15 14 4 9 15 6 14 9
2. (1) $4+6+9=19$ (2) $9-4=5$
9时 9:00 4时 4:00

第2课时 单元口算综合测试

1. 6 14 16 16 10 15 14 14 6 6 9 9 9 11
18 15 2 19 10 12 10 15 18 2 15 7
12 10 7 19 12 15 11
2. $4+3-1=6$
7:00 1:00

8 20以内的进位加法

第1课时 9加几

1. 11 9 12 13 10 17 14 16 15 18 19 8 8
9 9 9 9 9 10 10 10 10 8 9 4 6 7
7 4 6 6 8 6
2. $9+6=15$
2 10 1 6 5

第2课时 8、7、6加几(一)

1. 7 6 8 13 9 10 12 9 8 12 17 12 8 13
14 11 12 10 10 11 9 11 16 16
2. $8+6=14$
+ - + - -

第3课时 8、7、6加几(二)

1. 13 15 16 12 10 8 10 12 14 9 8 12 12
10 14 15 16 17 9 11 11 7 11 6 18
17 13 18 19 18 18 19 16 19 17 19
2. $8+9=17$
< < > = >

第4课时 5、4、3、2加几(一)

1. 12 18 10 15 17 6 19 11 10 18 15 10 5
16 16 13 18 12 9 12 14 12 11 14 6 11
18
2. $6+9=15$
5 8 8 9 5

第5课时 5、4、3、2加几(二)

1. 11 13 11 10 11 13 10 12 12 9 12 10
13 14 13 15 15 12 11 9 12 11 6 4 9
7 3 8 9 0 9 10 17
2. $4+10=14$
11 13 12 5 5

第6课时 解决问题(一)

1. 15 19 9 13 9 16 13 17 10 17 14 6 19
19 11 15 12 13 11 11 17 12 18 18 12
17 14 17 19 18

$$2. 8+8=16$$

$$7 \quad 18 \quad 10 \quad 7 \quad 8$$

第7课时 解决问题(二)

1. 12 14 16 12 17 12 17 11 18 9 13 16
18 11 15 15 11 12 10 17 13 14 11 13
12 14 15 8 0 16 15 10 9
2. (1) $8 \quad 6 \quad 8+6=14$ (2) $3+5=8$
= = > < <

第8课时 整理和复习

1. 12 10 17 11 15 17 14 18 16 12 15 18
17 12 11 14 7 17 11 17 13 9 18 11 16
12 9 14 18 12 18 15 19
2. $15-2=13$
9 8 14 5 9

第9课时 单元口算综合测试

1. 12 10 8 16 14 18 5 14 13 6 17 19 11
10 15 8 16 11 7 12 10 9 9 10 5 6
9 8 10 12
2. $9+3=12$
7 7 5 5 2

9 总复习

总复习

1. 14 9 18 12 11 8 12 18 8 15 19 16 8
10 15 10 12 7 14 11 11 14 13 7 13 15
16 13 10 9 11 10 13
2. $8+5=13$
8 9 3 7 2

奥数题

1. 芳芳给晶晶3朵花,两人的花就同样多。
2. 白皮球: $5+10=15$ (个) 花皮球: $5+5=10$ (个)
3. $9+6=15$ (个)
4. $5+4-6=3$ (条)
5. $2+2=4$ (张)
6. $8+8=16$ (名)
7. $5+6=11$ (支)
8. $8+4=12$ (块)
9. $8+7+1=16$ (个)
10. $9+5-2=12$ (本)
11. $9+9=18$ (人)
12. $2+2=4$ (个)
13. $5+4=9$ (个)
14. $5-2=3$ (棵) $1+5+3=9$ (棵)
15. $12-3-5=4$ (只)
16. $1+1+3=5$ (只)
17. $1+1+2=4$ (千米)
18. $9-5=4$ (支)
19. $10-3+7=14$ (只)
20. $12-8+12=16$ (个)

责任编辑：程 佩

封面设计：

快 ☆ 乐 ☆ 之 ☆ 星



口算心算速算与应用题



定价：30.00元

关注微信公众号“小考教辅站”获取更多小学教辅资料