



快 ★ 乐 ★ 之 ★ 星

教辅资料站

电子教辅 试卷练习
知识总结 备课资源



—— 扫码关注获取更多学习资料 ——



口算心算速算与应用题



◎主编：彭永东

1 年级
(上)



WUHAN UNIVERSITY PRESS

武汉大学出版社

目 录

上学了

第1课时 数一数	1
第2课时 比一比	2
第3课时 单元口算综合测试	3

一 10以内数的认识和加法(一)

第1课时 1~5的认识(一)	4
第2课时 1~5的认识(二)	5
第3课时 0的认识	6
第4课时 比较(一)	7
第5课时 比较(二)	8
第6课时 5以内的加法	9
第7课时 5以内的减法	10
第8课时 整理与复习	11
第9课时 单元口算综合测试	12

二 10以内数的认识和加法(二)

第1课时 6~10的认识	13
--------------------	----

第2课时 第 几	14
第3课时 6,7的加减法(一)	15
第4课时 6,7的加减法(二)	16
第5课时 6,7的加减法(三)	17
第6课时 8,9的加减法(一)	18
第7课时 8,9的加减法(二)	19
第8课时 10的加减法(一)	20
第9课时 10的加减法(二)	21
第10课时 连 加	22
第11课时 连 减	23
第12课时 加减混合运算(一)	24
第13课时 加减混合运算(二)	25
第14课时 我们身边的数	26
第15课时 整理与复习(一)	27
第16课时 整理与复习(二)	28
第17课时 单元口算综合测试	29

三 分一分 认识图形

第1课时 分一分	30
----------------	----

第2课时	认识图形	31
第3课时	整理与复习	32
第4课时	单元口算综合测试	33

四 11~20 各数的认识

第1课时	认识11~20各数(一)	34
第2课时	认识11~20各数(二)	35
第3课时	不进位加法	36
第4课时	不退位减法	37
第5课时	加减混合运算(一)	38
第6课时	加减混合运算(二)	39
第7课时	整理与复习(一)	40
第8课时	整理与复习(二)	41
第9课时	单元口算综合测试	42

五 20 以内的进位加法

第1课时	9加几(一)	43
第2课时	9加几(二)	44
第3课时	8加几(一)	45
第4课时	8加几(二)	46
第5课时	7,6加几(一)	47

第6课时	7,6加几(二)	48
第7课时	整理与复习	49
第8课时	单元口算综合测试	50

六 20 以内的退位减法

第1课时	11减几	51
第2课时	12,13减几(一)	52
第3课时	12,13减几(二)	53
第4课时	14,15减几(一)	54
第5课时	14,15减几(二)	55
第6课时	16,17,18减几(一)	56
第7课时	16,17,18减几(二)	57
第8课时	整理与复习	58
第9课时	单元口算综合测试	59

七 总复习

总复习	60
奥数题	61
参考答案	65



上学了

快乐之星

上学了



第1课时 数一数

(完成时间: _____ 分 _____ 秒)

1. 口算。

$3+4=$

$2+7=$

$0+4=$

$2+2=$

$3+5=$

$5+1=$

$1+2=$

$5+4=$

$6+2=$

$2+3=$

$0+2=$

$4+4=$

$4+2=$

$1+1=$

$5+0=$

$1+3=$

$4+1=$

$3+6=$

$5-4=$

$9-5=$

$9-1=$

$4-1=$

$7-2=$

$3-0=$

$3-3=$

$8-5=$

$9-8=$

$5-0=$

$3-2=$

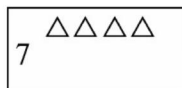
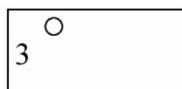
$6-5=$

$1-1=$

$4-3=$

$7-6=$

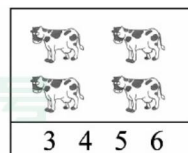

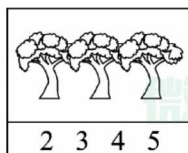
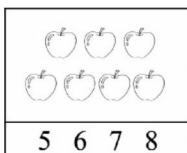
看数字画图。



错题订正

2. 应用题。

数一数,再圈出相对应的数字。



棒极了 ☐

有进步 ☐

加油哦 ☐

家长签字: _____

1



第2课时 比一比

(完成时间: _____ 分 _____ 秒)

看一看, 选一选。

(1) 在尾巴短的下画“√”。

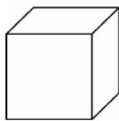


()



()

(2) 把大的圈起来。



错题订正

1. 口算。

$1+9=$

$8+1=$

$8-2=$

$9-6=$

$3-3=$

$3+1=$

$7-0=$

$7+1=$

$2+2=$

$8-4=$

$9-7=$

$4-3=$

$7+2=$

$9+0=$

$5+4=$

$9-3=$

$7-3=$

$6-4=$

$5+2=$

$9-8=$

$1+4=$

$6-3=$

$6+3=$

$5+0=$

$5+1=$

$7-6=$

$3+3=$

$7-7=$

$1+1=$

$7-1=$

$9-2=$

$8-6=$

$4+4=$

2. 应用题。

在高的下面画“√”。

(1)



(2)



评价

棒极了 ☐

有进步 ☐

加油哦 ☐

家长签字: _____



上学了

快乐之星



第3课时 单元口算综合测试

(完成时间: _____ 分 _____ 秒)

1. 口算。

$3+2=$

$4+1=$

$2-0=$

$1-1=$

$0+5=$

$0-0=$

$4+0=$

$2-2=$

$4-4=$

$3+3=$

$3-2=$

$4-3=$

$5+2=$

$6+1=$

$1+1=$

$9-8=$

$8-5=$

$3+6=$

$3-1=$

$8+1=$

$6-5=$

$3+5=$

$9-9=$

$8-4=$

$6+2=$

$1+5=$

$9-7=$

$7-5=$

$4+3=$

$5-4=$

$4-1=$

$8-8=$

$7+1=$

想一想，填一填。

$3 < \square$

$4 < \square$

$7 > \square$


$9 > \square$

$0 < \square$

$2 > \square$

2. 应用题。

一只小猫吃一条鱼，请你圈出小猫吃了几条鱼。



微信公众号
教辅资料站



棒极了 ☐

有进步 ☐

加油哦 ☐

家长签字: _____

3




10 以内数的认识和加减法(一)



第①课时 1~5 的认识(一)

(完成时间: _____ 分 _____ 秒)

看图写数。



错题订正

1. 口算。

$1+2=$

$2-1=$

$1-1=$

$0+1=$

$4+1=$

$5-1=$

$3-0=$

$4-1=$

$3-3=$

$3-2=$

$1+1=$

$3+1=$

$2+3=$

$5-3=$

$2+2=$

$3-1=$

$0+3=$

$5+0=$

$4-2=$

$4-3=$

$5-2=$

$4-4=$

$5-5=$

$2-2=$

$(\quad)+1=3$

$(\quad)-4=1$

$(\quad)+3=5$

$1+(\quad)=5$

$2+(\quad)=3$

$3+(\quad)=4$

$3-(\quad)=1$

$4-(\quad)=2$

$2-(\quad)=0$

2. 应用题。

照样子看数涂色。

3



4



2



5



评价

棒极了 ☐

有进步 ☐

加油哦 ☐

家长签字: _____



第②课时 1~5 的认识(二)

(完成时间:_____分_____秒)



1. 口算。

$0+1=$

$1+1=$

$1+2=$

$1+3=$

$4-1=$

$0+4=$

$5-2=$

$5-4=$

$5-0=$

$3-2=$

$3+2=$

$1-1=$

$1+4=$

$3-3=$

$3+0=$

$2+2=$

$4-3=$

$4-2=$

$2+(\quad)=5$

$1-(\quad)=0$

$5-(\quad)=5$

$3-(\quad)=3$

$(\quad)-3=1$

$2-(\quad)=0$

$3+(\quad)=5$

$4-(\quad)=2$

$3+(\quad)=4$

$5-(\quad)=1$

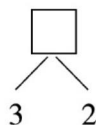
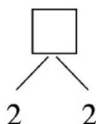
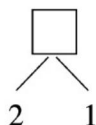
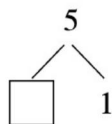
$2+(\quad)=3$

$1+(\quad)=4$

$(\quad)+2=4$

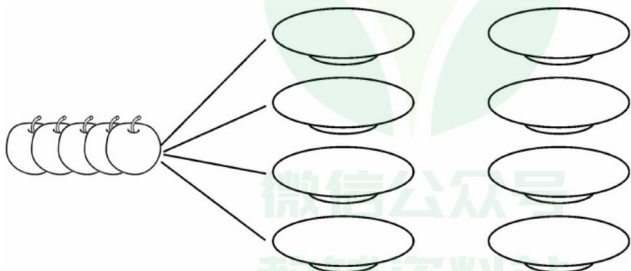
$(\quad)-1=4$

$4-(\quad)=0$

在 里填上合适的数。

2. 应用题。

把 5 个苹果装在任意 2 个盘子里,可以怎样装? 用“△”代表苹果画一画。



错题订正



评价


棒极了 ☐有进步 ☐加油哦 ☐

家长签字:_____

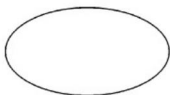


第3课时 0的认识

(完成时间: _____分 _____秒)



看图写数。



错题订正

1. 口算。

$0+1=$

$2-0=$

$1+2=$

$5-0=$

$0-0=$

$3-1=$

$1-1=$

$3-2=$

$4-3=$

$0+2=$

$5+0=$

$0+3=$

$0+4=$

$3-3=$

$4-0=$

$0+0=$

$2-1=$

$2-2=$

$4-4=$

$5-4=$

$5-5=$

$1+1=$

$2+2=$

$2+3=$

$5-1=$

$4+1=$

$1-0=$

$4-2=$

$4-1=$

$5-2=$



$3-0=$

$5-3=$

$3+2=$

2. 应用题。

请按图片下面的数字涂一涂。





一 10 以内数的认识和加减法(一)

快乐之星



第4课时 比较(一)

(完成时间: _____ 分 _____ 秒)

1. 口算。

$3-1=$

$3-3=$

$1+4=$

$3-0=$

$4-3=$

$2+2=$

$1+2=$

$1-1=$

$3+2=$

$3+0=$

$0-0=$

$2+0=$

$2-1=$

$2-0=$

$5-3=$

$5-4=$

$3-2=$

$0+0=$

$2+3=$

$4-2=$

$5-5=$

$5-1=$

$4+0=$

$4-4=$

$3+1=$

$0+1=$

$4-0=$

$4-1=$

$5-2=$

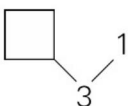
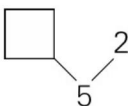
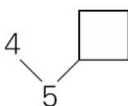
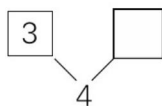
$3+2=$

$0+5=$

$1-0=$

$5-0=$

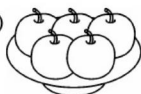
在 里填上合适的数。



2. 应用题。

小明为春游准备了各种水果,数一数各买了多少,再比一比。

(1)



()




()

(2)



()



()

错题订正



评价


棒极了 ☐

有进步 ☐

加油哦 ☐

家长签字: _____

7



第5课时 比较(二)

(完成时间: _____分 _____秒)

从数字 1~5
中,选一个填
上去。

$3 < \square$

$3 = \square$

$\square < 3$

$5 > \square$

$\square < 4$

1. 口算。

$3 - 0 =$

$0 + 2 =$

$3 - 2 =$

$0 + 1 =$

$5 - 0 =$

$1 - 1 =$

$1 + 4 =$

$5 - 5 =$

$2 + 0 =$

$1 + 3 =$

$0 + 5 =$

$4 - 1 =$

$2 - 0 =$

$3 + 2 =$

$4 - 3 =$

$4 - 0 =$

$0 + 4 =$

$4 + 1 =$

$4 + 0 =$

$1 + 1 =$

$0 + 3 =$

$2 - 1 =$

$4 - 4 =$

$2 + 2 =$

$3 + 1 =$

$5 - 1 =$

$1 + 0 =$

$4 - 2 =$

$3 + 0 =$

$3 - 3 =$

$1 + 2 =$

$5 - 3 =$

$5 - 2 =$

错题订正

2. 应用题。

猜猜我是谁。



我比1大, 比4小,
但绝对不是3。

微信公众号
教辅资料站





第6课时 5 以内的加法

(完成时间: _____ 分 _____ 秒)

1. 口算。

$1+2=$

$4+1=$

$3+2=$

$1+1=$

$2+2=$

$1+3=$

$2+3=$

$1+4=$

$2+1=$

$3+1=$

$0+1=$

$4+0=$

$(\quad) + 1 = 4$

$2 + (\quad) = 5$

$3 + (\quad) = 5$

$1 + (\quad) = 2$

$(\quad) + 4 = 5$

$2 + (\quad) = 3$

$(\quad) + 3 = 4$

$(\quad) + 0 = 2$

$4 + (\quad) = 5$

2. 应用题。

看图列算式。

(1)



$\square + \square = \square$

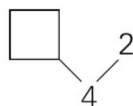
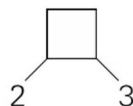
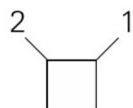
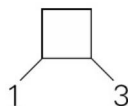
$\square + \square = \square$

(2)



$\square + \square = \square$

$\square + \square = \square$

在 \square 里填上合适的数。

错题订正

棒极了 \square 有进步 \square 加油哦 \square

家长签字: _____



第7课时 5以内的减法

(完成时间: _____分 _____秒)

在○里填上

“+”或“-”。

$$2 \bigcirc 2 = 4$$

$$5 \bigcirc 3 = 2$$

$$3 \bigcirc 2 = 1$$

$$3 \bigcirc 2 = 5$$

$$1 \bigcirc 1 = 2$$

1. 口算。

$$5 - 4 =$$

$$3 - 2 =$$

$$4 - 2 =$$

$$4 - 4 =$$

$$1 - 1 =$$

$$2 - 0 =$$

$$5 - 5 =$$

$$2 + 2 =$$

$$1 + 2 =$$

$$2 + 3 =$$

$$4 + 0 =$$

$$3 - 1 =$$

$$5 - 3 =$$

$$2 - 1 =$$

$$4 - 3 =$$

$$1 - 0 =$$

$$3 - 3 =$$

$$0 - 0 =$$

$$3 + 1 =$$

$$1 + 0 =$$

$$3 + 0 =$$

$$4 + 1 =$$

$$4 - 1 =$$

$$5 - 1 =$$

$$5 - 2 =$$

$$2 - 2 =$$

$$4 - 0 =$$

$$5 - 0 =$$

$$1 + 1 =$$

$$5 + 0 =$$

$$1 + 4 =$$

$$3 + 2 =$$

$$2 + 1 =$$

错题订正

2. 应用题。

小华手里有4个棒棒糖,一不小心掉了2个,这时小华手里还剩几个棒棒糖?

$$\square - \square = \square (\text{个})$$





第8课时 整理与复习

(完成时间: _____ 分 _____ 秒)

1. 口算。

$2-2=$

$3+1=$

$4-3=$

$1+1=$

$0-0=$

$0+2=$

$3-2=$

$4-0=$

$0+3=$

$2-0=$

$1+4=$

$2+2=$

$5-3=$

$0+0=$

$1-1=$

$3+2=$

$0+5=$

$5-1=$

$1+2=$

$1+3=$

$3-3=$

$3+0=$

$2+1=$

$2+3=$

$5-5=$

$1-0=$

$3-1=$

$4+1=$

$5-0=$

$5-2=$

$5-3=$

$4-4=$

$0+1=$

想一想,

里可以填几?

$\square + 0 = \square$

$\square - 0 = \square$

$\square + 0 = \square$

$\square - 0 = \square$

$\square - \square = 0$

2. 应用题。

小红家里的鱼缸里一共有5条鱼,左边有3条,右边有几条?

$\square - \square = \square$ (条)



错题订正

棒极了 ☐有进步 ☐加油哦 ☐

家长签字: _____



第9课时 单元口算综合测试

(完成时间: _____ 分 _____ 秒)



在○里填上

“>”“<”或

“=”。

$4 \bigcirc 2+3$

$3 \bigcirc 3-2$

$4-3 \bigcirc 2$

$4+0 \bigcirc 4$

$3+1 \bigcirc 3$

1. 口算。

$1+0=$

$0+2=$

$1+1=$

$2+1=$

$3+0=$

$1-0=$

$2-2=$

$3-3=$

$4-2=$

$5-1=$

$1+3=$

$2+3=$

$5+0=$

$4+1=$

$3+2=$

$2-1=$

$5-3=$

$4-1=$

$2-0=$

$3-2=$

$2+2=$

$4-3=$

$1+4=$

$1+2=$

$0+4=$

$3-1=$

$3-0=$

$4-4=$

$5-2=$

$0-0=$

2. 应用题。



我是小明，
我今年2岁。



我是小红，
我比你大3岁。

(1) 今年几岁？

$\square + \square = \square \text{ (岁)}$

(2) 几年后 5 岁？

$\square - \square = \square \text{ (年)}$

错题订正



评价

棒极了 ☐

有进步 ☐

加油哦 ☐

家长签字: _____



二 10 以内数的认识和加减法(二)



第 1 课时 6~10 的认识

(完成时间: _____ 分 _____ 秒)

1. 口算。

$1+2=$

$8-5=$

$3+3=$

$1+9=$

$6+4=$

$7-5=$

$9-6=$

$7-6=$

$3-2=$

$7-0=$

$6-3=$

$1+5=$

$8-4=$

$4+2=$

$9-9=$

$7+2=$

$5+5=$

$8-3=$

$1+1=$

$8-2=$

$7-3=$

$5+2=$

$9-1=$

$2+2=$

$3+4=$

$10-5=$

$8+1=$

$4+5=$

$6+1=$

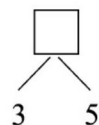
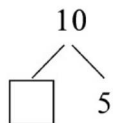
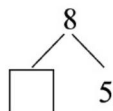
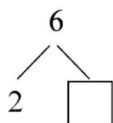
$5+0=$

$9-8=$

$2+6=$

$6-5=$

看一看, 填一填。



错题订正

2. 应用题。



一盆花上有3只蝴蝶, 8只蜜蜂。

这盆花上的蜜蜂比蝴蝶多多少只?



$\square - \square = \square$ (只)



评价


棒极了 ☐有进步 ☐加油哦 ☐

家长签字: _____



第2课时 第 几

(完成时间: _____ 分 _____ 秒)



在○里填上

“>”“<”或

“=”。

7○6

3○8

10○9

4○5

7○7

1. 口算。

$1+4=$

$0+0=$

$5+4=$

$2+0=$

$4-0=$

$4-1=$

$3-1=$

$0+5=$

$2+2=$

$4-3=$

$5-4=$

$2+3=$

$5-2=$

$1-1=$

$5-1=$

$9-4=$

$8-7=$

$9-9=$

$4+4=$

$7+2=$

$2+1=$

$3-2=$

$3+6=$

$8-3=$

$1+1=$

$6-3=$

$6+2=$

$8-5=$

$3-3=$

$7-6=$

$7+1=$

$8-1=$

$5-3=$

2. 应用题。

小红是从左往右数的第2个,小明是从右往左数的第4个。谁是小红,谁是小明? 连一连。

小红

小明



错题订正



评价

棒极了 ☐

有进步 ☐

加油哦 ☐

家长签字: _____



二 10 以内数的认识和加减法(二)

快乐之星



第3课时 6,7 的加减法(一)

(完成时间: _____ 分 _____ 秒)

1. 口算。

$7-1=$

$2-1=$

$6-4=$

$4+2=$

$4+1=$

$2+5=$

$5-2=$

$3-1=$

$7-6=$

$1+5=$

$1+6=$

$0+7=$

$3-3=$

$4-3=$

$6-5=$

$5+2=$

$2+4=$

$4+3=$

$4-2=$

$6-1=$

$4-4=$

$3+1=$

$3+3=$

$3+2=$

$1-1=$

$7-5=$

$7-4=$

$2+2=$

$0+6=$

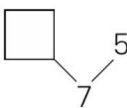
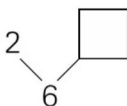
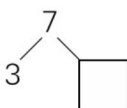
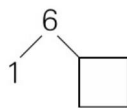
$0+5=$

$6-3=$

$5-3=$

$5-1=$

在 里填上合适的数。




2. 应用题。

看图列算式。



$\square + \square = \square$

$\square + \square = \square$



$\square + \square = \square$

$\square + \square = \square$

错题订正



评价

棒极了 ☐

有进步 ☐

加油哦 ☐

家长签字: _____

15



第4课时 6,7的加减法(二)

(完成时间:_____分_____秒)



在()里填上

合适的数。

$7 - () = 1$

$2 + () = 6$

$5 - () = 0$

$() - 4 = 3$

$1 + () = 5$

1. 口算。

$2 + 0 =$

$5 - 1 =$

$6 + 1 =$

$4 + 3 =$

$5 + 2 =$

$4 + 2 =$

$7 - 5 =$

$0 + 6 =$

$3 - 3 =$

$0 + 0 =$

$1 + 5 =$

$3 + 3 =$

$2 - 1 =$

$5 - 2 =$

$1 + 6 =$

$4 - 1 =$

$5 - 4 =$

$1 + 4 =$

$4 + 0 =$

$4 - 2 =$

$6 - 5 =$

$2 + 2 =$

$2 + 5 =$

$7 - 3 =$

$2 + 3 =$

$1 + 3 =$

$6 - 2 =$

$1 - 1 =$

$3 - 2 =$

$6 - 4 =$

$3 + 0 =$

$5 - 3 =$

$1 + 0 =$

错题订正

2. 应用题。



我有7个胡萝卜，
我比你多3个。

我有几个
胡萝卜？



$$\square \bigcirc \square = \square (\text{个})$$



评价

棒极了 ☐

有进步 ☐

加油哦 ☐

家长签字:_____



二 10 以内数的认识和加减法(二)

快乐之星



第5课时 6,7 的加减法(三)

(完成时间: _____ 分 _____ 秒)

1. 口算。

$4-3=$

$5-4=$

$7-7=$

$7-6=$

$6-5=$

$2+1=$

$3+2=$

$1+4=$

$6-0=$

$1-1=$

$3-3=$

$7-3=$

$6-2=$

$5+1=$

$3-0=$

$3-1=$

$6-4=$

$7+0=$

$2+2=$

$5+0=$

$3-2=$

$6-3=$

$5-1=$

$4+3=$

$5-5=$

$2+5=$

$1+6=$

$4+0=$

$3+3=$

$2+4=$

$6-1=$

$7-4=$

$7-1=$

在○里填上
“>”“<”或
“=”。

$6-1 \bigcirc 4$

$7-4 \bigcirc 4$

$3+3 \bigcirc 7$

$7+1 \bigcirc 7$

$5+2 \bigcirc 7$

2. 应用题。

7 个同学排成一队回家,小花前面有 3 人,她后面有多少人?



$\square \bigcirc \square = \square (\text{个})$

错题订正



棒极了 ☐

有进步 ☐

加油哦 ☐

家长签字: _____



第6课时 8,9 的加减法(一)

(完成时间: _____ 分 _____ 秒)

在 里填上
合适的数。

$$\square + 1 = 8$$

$$3 + \square = 8$$

$$2 + \square = 9$$

$$\square + 4 = 8$$

$$0 + \square = 9$$

错题订正

1. 口算。

$$1 + 8 =$$

$$0 + 8 =$$

$$4 + 4 =$$

$$6 + 1 =$$

$$8 - 4 =$$

$$3 + 4 =$$

$$8 - 2 =$$

$$2 + 6 =$$

$$5 - 3 =$$

$$9 - 2 =$$

$$6 - 2 =$$

$$9 - 6 =$$

$$9 + 0 =$$

$$4 + 5 =$$

$$8 - 3 =$$

$$3 + 5 =$$

$$9 - 1 =$$

$$3 + 3 =$$

$$6 + 3 =$$

$$6 - 3 =$$

$$5 - 4 =$$

$$8 - 7 =$$

$$9 - 3 =$$

$$6 + 0 =$$

$$2 + 2 =$$

$$1 + 2 =$$

$$9 - 7 =$$

$$6 - 5 =$$

$$7 - 0 =$$

$$3 - 2 =$$

2. 应用题。

教室还剩多少把椅子?

教室有9把椅子, 李老师搬走了4把椅子。



$$\square \bigcirc \square = \square (\text{把})$$





第7课时 8,9 的加减法(二)

(完成时间: _____ 分 _____ 秒)

1. 口算。

$4+4=$

$9-1=$

$9-2=$

$8-6=$

$1+1=$

$8-7=$

$5-4=$

$8-5=$

$1+8=$

$6+1=$

$6-2=$

$6-5=$

$5+4=$

$1+7=$

$3+1=$

$2+5=$

$8-8=$

$7-6=$

$3+3=$

$2+6=$

$2-2=$

$9-7=$

$9-6=$

$2+4=$

$6+3=$

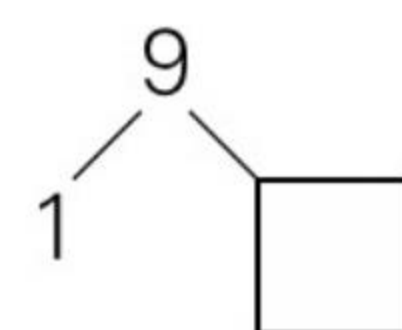
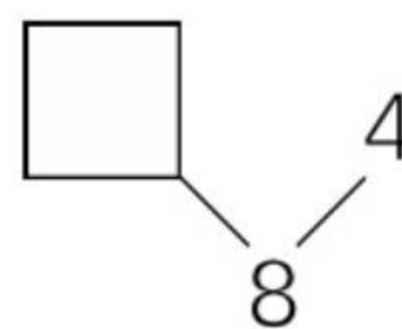
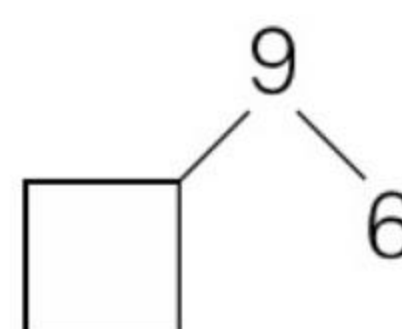
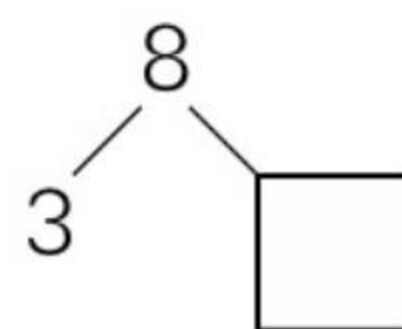
$4-4=$

$5+0=$

$8-4=$


$5-1=$

$4-1=$

在 里填上合适的数。

2. 应用题。

小明和小红一共剪了多少个月亮?



$$\square \bigcirc \square = \square (\text{个})$$

错题订正



评价

棒极了 ☐有进步 ☐加油哦 ☐

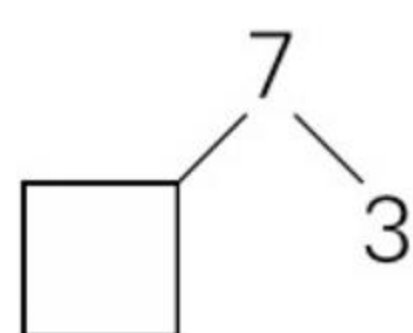
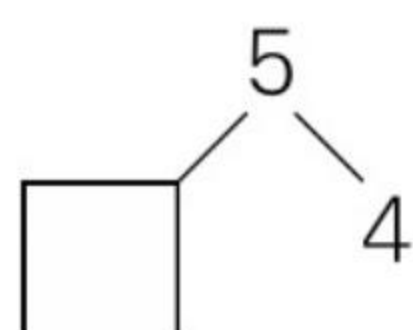
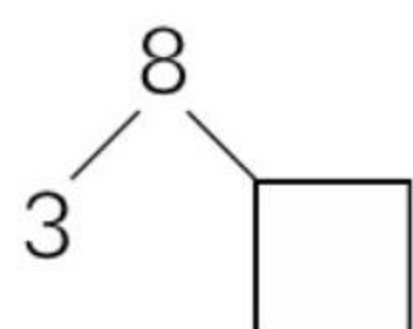
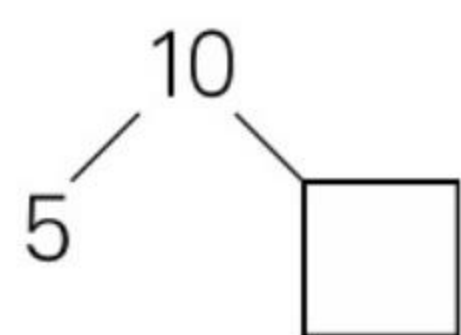
家长签字: _____



第8课时 10的加减法(一)

(完成时间: _____ 分 _____ 秒)

在 里填上合适的数。



错题订正

1. 口算。

$5+5=$

$4+6=$

$7+3=$

$1+9=$

$10-4=$

$2+8=$

$10-7=$

$10-8=$

$10-1=$

$0+10=$

$10-5=$

$10-9=$

$9-1=$

$4+4=$

$3-3=$

$1+7=$

$9-2=$

$9-3=$

$5-4=$

$3+1=$

$10-2=$

$9-5=$

$6+2=$

$3+3=$

$8-2=$

$7-3=$

$10-0=$

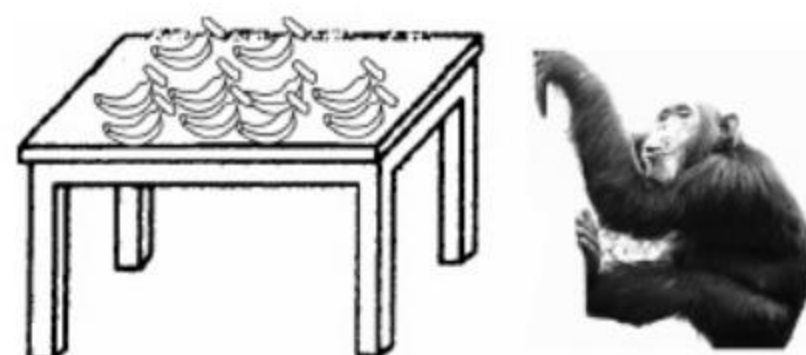
$3+5=$

$6+1=$

$8+1=$

2. 应用题。

大猩猩看到桌上有 10 根香蕉,偷偷吃了 6 根就走了,现在桌上还有几根香蕉?



$\square \bigcirc \square = \square (\text{根})$





第9课时 10 的加减法(二)

(完成时间: _____ 分 _____ 秒)

1. 口算。

$5+5=$

$10-0=$

$2+5=$

$2+8=$

$10-7=$

$9-2=$

$10-3=$

$1+9=$

$10-1=$

$9-8=$

$6+3=$

$4+6=$

$10-8=$

$10-6=$

$10-9=$

$10-5=$

$3+7=$

$10+0=$

$1+7=$

$2+1=$

$3+1=$

$8-2=$

$8-4=$

$4+4=$

$9-6=$

$7+2=$

$9-7=$

$3+4=$

$3-2=$

$8+1=$

在○里填上
“+”或“-”。

$6 \bigcirc 3 = 9$

$3 \bigcirc 7 = 10$

$7 \bigcirc 2 = 9$

$9 \bigcirc 4 = 5$

$4 \bigcirc 6 = 10$

2. 应用题。

操场上有 7 人在跳绳,又来了 3 人,现在一共有多少人?



$\square \bigcirc \square = \square (\text{人})$

错题订正



评价

棒极了 ☐有进步 ☐加油哦 ☐

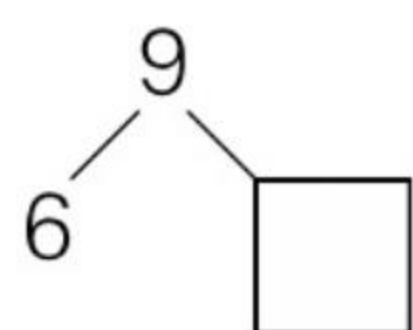
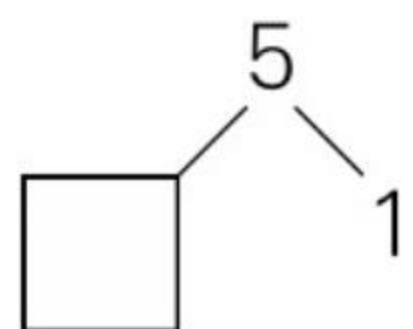
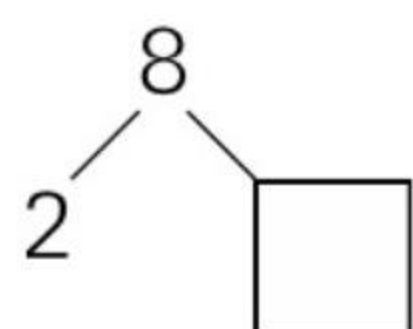
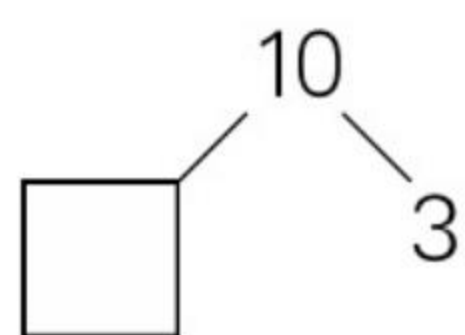
家长签字: _____



第10课时 连 加

(完成时间: _____ 分 _____ 秒)

在 里填上
合适的数。



错题订正

1. 口算。

$1+2+6=$

$4+2+3=$

$1+6+3=$

$4+4+2=$

$7+3+0=$

$7+1+2=$

$9+1+0=$

$3+2+2=$

$1+3+5=$

$1+4+3=$

$3+3+3=$

$3+2+1=$

$3+1+6=$

$2+4+4=$

$1+3+2=$

$1+4+1=$

$3+2+5=$

$4+1+3=$

$2+2+4=$

$2+1+1=$

$5+1+1=$

$7+2+1=$

$5+0+3=$

$6+1+0=$

$4+3+2=$

$3+3+1=$

$2+4+1=$

$4+5+0=$

$2+6+1=$

$1+4+4=$

2. 应用题。

三种书一共有多少本?



《新华字典》4本

《十万个为什么》4本

《英语字典》2本

$$\square + \square + \square = \square \text{ (本)}$$



评价

棒极了 ☐

有进步 ☐

加油哦 ☐

家长签字: _____



第11课时 连 减

(完成时间: _____ 分 _____ 秒)

1. 口算。

$9-1-3=$

$10-2-4=$

$10-6-2=$

$9-1-5=$

$10-8-1=$

$8-2-1=$

$5-1-2=$

$3-1-0=$

$9-2-2=$

$9-3-2=$

$10-6-3=$

$10-8-2=$

$9-5-1=$

$5-2-2=$

$5-1-3=$

$10-3-5=$

$6-1-4=$

$9-8-0=$

$7-2-0=$

$7-4-2=$

$10-1-7=$

$5-4-1=$

$10-5-0=$

$8-2-2=$

$3-0-2=$

$8-1-1=$

$7-3-1=$

$8-4-3=$

$2-0-1=$

$8-3-4=$

$9-2-1=$

$6-1-3=$

$6-5-0=$

$2+7=$

$10-1=$

$8+2=$

$7-5=$

$6+3=$

$8-6=$

2. 应用题。

停车场还剩几辆车?



停车场原有9辆车,开走了3辆灰色的和4辆黑色的。

还剩几辆车?



$\square - \square - \square = \square$ (辆)

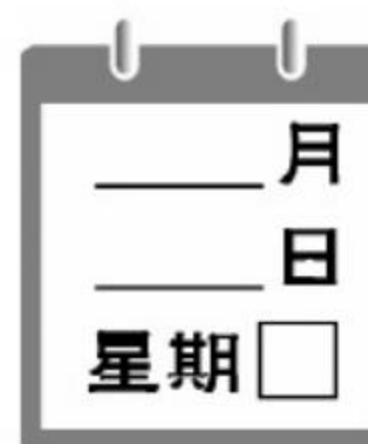
错题订正



评价

棒极了 ☐有进步 ☐加油哦 ☐

家长签字: _____



第12课时 加减混合运算(一)

(完成时间: _____ 分 _____ 秒)

在 里填上
合适的数。

$$3 + \square + 1 = 8$$

$$3 + \square + 2 = 9$$

$$10 - \square - 4 = 1$$

$$8 - \square - 2 = 4$$

$$9 - 3 - \square = 2$$

错题订正

1. 口算。

$$10 - 2 - 3 =$$

$$4 + 3 - 2 =$$

$$9 - 4 + 2 =$$

$$7 - 4 + 3 =$$

$$5 + 5 - 4 =$$

$$5 - 2 + 4 =$$

$$2 + 7 - 5 =$$

$$1 + 7 - 4 =$$

$$6 + 4 - 9 =$$

$$10 - 7 + 2 =$$

$$9 - 7 + 6 =$$

$$2 + 3 + 4 =$$

$$5 + 2 + 3 =$$

$$3 + 1 + 3 =$$

$$1 + 5 + 4 =$$

$$7 + 1 + 1 =$$

$$8 + 1 + 0 =$$

$$4 + 0 + 5 =$$

$$2 + 3 + 2 =$$

$$3 + 6 + 1 =$$

$$1 + 8 + 1 =$$

$$9 + 0 + 1 =$$

$$3 + 3 + 3 =$$

$$3 + 1 + 1 =$$

$$8 - 0 - 7 =$$

$$8 - 3 - 2 =$$

$$6 - 4 - 2 =$$

$$10 - 2 - 6 =$$

$$7 - 3 - 1 =$$

$$8 - 8 - 0 =$$

2. 应用题。

两个小朋友跳绳,小丽跳了6下,小华比小丽少跳了3下。小丽和小华一共跳了几下?



我跳了6下。

小丽



我比小丽少跳3下。

小华

$$\square \bigcirc \square \bigcirc \square = \square (\text{下})$$



评价

棒极了 ☐

有进步 ☐

加油哦 ☐

家长签字: _____



第13课时 加减混合运算(二)

(完成时间: _____ 分 _____ 秒)

1. 口算。

$9-3-3=$

$0+3-2=$

$4+2+4=$

$7+0-2=$

$2+7-4=$

$10-4-1=$

$5-1+4=$

$9-4+3=$

$8+2-7=$

$3+6-5=$

$10-5+4=$

$3+7-4=$

$7+3-5=$

$9+1-9=$

$7-4+1=$

$7-5+8=$

$5-4+9=$

$3+4-3=$

$5+5-7=$

$2+7-3=$

$4+6-4=$

$3+2-4=$

$8-8+8=$

$7-6+4=$

$8-3+2=$

$2-0+5=$

$3-3+9=$

$9-2+1=$

$3-1+4=$

$2+8-7=$

$8-5+3=$

$5-2+3=$

$4+4-5=$

在○里填上
“+”或“-”，
使算式成立。

$3 \bigcirc 2 \bigcirc 1 = 6$

$4 \bigcirc 2 \bigcirc 2 = 0$

$5 \bigcirc 1 \bigcirc 2 = 8$

$6 \bigcirc 1 \bigcirc 2 = 9$

$7 \bigcirc 3 \bigcirc 3 = 1$

2. 应用题。

小明昨天买了2支铅笔,今天比昨天多买了4支,小明两天一共买了几支铅笔?

$\square \bigcirc \square \bigcirc \square = \square \text{ (支)}$




错题订正



评价

棒极了 ☐有进步 ☐加油哦 ☐

家长签字: _____



第14课时 我们身边的数

(完成时间: _____ 分 _____ 秒)

在○里填上
“>”“<”或
“=”。

$$4+3-5 \bigcirc 1$$

$$10-9+4 \bigcirc 8$$

$$4+6-5 \bigcirc 5$$

$$6-3+2 \bigcirc 6$$

$$10-6+3 \bigcirc 3$$

1. 口算。

$$5+5-8=$$

$$8+2-7=$$

$$9-6+5=$$

$$2+5-3=$$

$$2+5-1=$$

$$8-8+3=$$

$$1+6-2=$$

$$3-2+8=$$

$$1+3-1=$$

$$8-6+3=$$

$$6+3-9=$$

$$4+6-6=$$

$$3+5-5=$$

$$8-1+3=$$

$$6-3+2=$$

$$4+4-5=$$

$$9+1-9=$$

$$7-1+2=$$

$$6-1+4=$$

$$2+2-1=$$

$$2-1+5=$$

$$2+5-2=$$

$$10-7+3=$$

$$6+2-4=$$

$$7+2-8=$$

$$5-4+3=$$

$$10-9+2=$$

$$1+4-1=$$

$$2-2+6=$$

$$1+8-7=$$

$$7-5+6=$$

$$6-3+5=$$

$$8-1+1=$$

错题订正

2. 应用题。

老师带同学们过马路,从前面数,老师在第4名,从后面数,老师在第5名。

$$\square \bigcirc \square \bigcirc \square = \square (\text{人})$$

你知道一共有多少人过马路吗?





第15课时 整理与复习(一)

(完成时间: _____ 分 _____ 秒)

1. 口算。

$9-1=$

$10-2=$

$5+5=$

$3+7=$

$9-7=$

$9-9=$

$10-5=$

$3+4=$

$10-3=$

$5+4=$

$10-7=$

$7+2=$

$8-5=$

$10-9=$

$8+0=$

$1+8=$

$8+0=$

$2+3=$

$2+2=$

$1+7=$

$8-4=$

$7-5=$

$8-6=$

$3+5=$

$3+3=$

$3-2=$

$6-5=$

$10-1=$

$1+1=$

$5-0=$

$2+5=$

$6+2=$

$4+4=$

在()里填上合适的数。

$()+5=8$

$3+()=5$

$2+()=9$

$9-()=7$

$5-()=1$

2. 应用题。

晚饭时,妈妈做了 10 个包子,小红吃了 3 个,还剩几个包子?

$\square \bigcirc \square = \square (\text{个})$



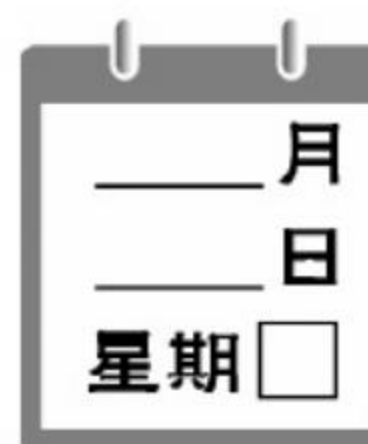
错题订正



评价

棒极了 ☐有进步 ☐加油哦 ☐

家长签字: _____



第16课时 整理与复习(二)

(完成时间: _____ 分 _____ 秒)

在○里填上
“+”或“-”。

$$10 \bigcirc 6 = 4$$

$$7 \bigcirc 3 = 10$$

$$2 \bigcirc 3 = 5$$

$$8 \bigcirc 4 = 4$$

$$9 \bigcirc 9 = 0$$

1. 口算。

$$10 - 3 - 6 =$$

$$1 + 5 + 4 =$$

$$6 - 1 - 4 =$$

$$10 - 4 + 1 =$$

$$5 + 4 - 2 =$$

$$2 + 6 - 5 =$$

$$7 + 1 - 5 =$$

$$9 - 2 + 3 =$$

$$10 - 3 + 2 =$$

$$2 + 7 - 4 =$$

$$6 + 3 - 5 =$$

$$2 + 4 - 3 =$$

$$8 - 2 + 2 =$$

$$2 + 4 + 0 =$$

$$5 + 5 - 4 =$$

$$10 - 5 + 4 =$$

$$7 + 3 - 5 =$$

$$2 - 2 + 8 =$$

$$2 + 3 - 5 =$$

$$4 + 2 - 1 =$$

$$10 - 6 + 5 =$$

$$10 - 9 + 7 =$$

$$8 + 1 - 6 =$$

$$2 + 2 + 4 =$$

$$7 + 3 - 7 =$$

$$10 - 2 - 8 =$$

$$4 + 4 - 3 =$$

$$9 - 2 + 1 =$$

$$8 - 1 + 1 =$$

$$4 + 4 - 6 =$$

$$10 - 7 + 2 =$$

$$5 + 5 - 8 =$$

$$10 - 8 + 5 =$$

错题订正

2. 应用题。

请帮小明算一算,他还有几只气球?



$$9 - \square - \square = \square \text{ (只)}$$





第17课时 单元口算综合测试

(完成时间: _____ 分 _____ 秒)

1. 口算。

$3+5=$

$7-2=$

$8-8+9=$

$4+4=$

$10-3=$

$9-7+1=$

$2+8=$

$2+7=$

$4+5-3=$

$9-2=$

$10-9=$

$10-1-8=$

$5+2=$

$4-4=$

$9-4+4=$

$6+3=$

$5+0=$

$4+6-7=$

$10-5=$

$10-8=$

$2+3-5=$

$8-1=$

$7-1=$

$7-3+2=$

$4+1=$

$3+2=$

$9-7+3=$

$5-4=$

$5+1=$

$10+0-7=$

$3-3=$

$9-4=$

$3+4-5=$

在○里填上
“+”或“-”。

$1+4 \bigcirc 5=10$

$3+4 \bigcirc 5=2$

$5+5 \bigcirc 3=7$

$4+5 \bigcirc 2=7$

$10-7 \bigcirc 3=6$

2. 应用题。

小明有 10 根冰棒。

给了小刚
4根。给了小红
2根。

小明

现在还有几根冰棒?

$\square \bigcirc \square \bigcirc \square = \square$ (根)

错题订正




评价

棒极了 ☐有进步 ☐加油哦 ☐

家长签字: _____



三 分一分 认识图形



第①课时 分一分

(完成时间: _____ 分 _____ 秒)

在()里填上
合适的数。

$1 + () = 8$

$2 + () = 4$

$4 + () = 9$

$() + 2 = 5$

$() + 1 = 9$

1. 口算。

$8 - 7 =$

$10 - 2 =$

$2 + 5 =$

$3 + 3 =$

$10 + 0 =$

$9 - 8 =$

$10 - 1 =$

$9 - 2 =$

$3 - 1 =$

$1 + 9 =$

$8 - 6 =$

$2 + 3 =$

$2 + 7 =$

$10 - 8 =$

$4 - 3 =$

$8 - 4 =$

$1 + 7 =$

$1 + 5 =$

$6 - 5 =$

$6 + 3 =$

$5 + 4 =$

$10 - 3 =$

$5 - 5 =$

$6 + 4 =$

$9 - 6 =$

$7 + 2 =$

$7 - 5 =$

$5 + 5 =$

$2 + 8 =$

$6 + 1 =$

$4 - 2 =$

$5 + 0 =$

$6 - 1 =$

错题订正

2. 应用题。

数一数,采了多少个草莓?



小红

我采了4个

我比你多采了1个



小刚

小刚采了几个 ?

$\square + \square = \square (\text{个})$

小刚和小红共采了多少个 ?

$\square + \square = \square (\text{个})$





第2课时 认识图形

(完成时间: _____ 分 _____ 秒)

1. 口算。

$4+5-7=$

$4-2+1=$

$5+4-6=$

$7+3-9=$

$7+1-8=$

$1+7-2=$

$4-3+1=$

$7-5+3=$

$10-10+1=$

$7-4+6=$

$4-4+6=$

$9+1-2=$

$9-1+2=$

$5+5-2=$

$6+1-4=$

$1+3-1=$

$1+9-8=$

$10-4+1=$

$1-1+7=$

$2+7-5=$

$7-7+5=$

$10-9+3=$

$7-6+3=$

$3-1+6=$

$1+9-4=$

$10-9+7=$

$3+5-2=$

$7-1+2=$

$2+2-1=$

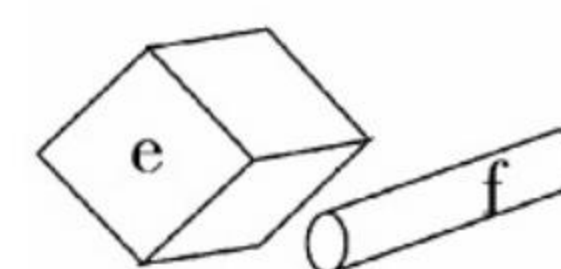
$10-4+3=$

$10-3+1=$

$3+3-5=$

$6+2-8=$

数一数,把图形的序号填入括号里。



(1) () 是长方体。

(2) () 是正方体。

(3) () 是圆柱体。

(4) () 是球。

错题订正

2. 应用题。

小丽家有6个苹果,她吃了2个,姥姥又给了她4个,小丽家现在有多少个苹果?

$$\square \bigcirc \square \bigcirc \square = \square (\text{个})$$



评价

棒极了 ☐有进步 ☐加油哦 ☐

家长签字: _____



第3课时 整理与复习

(完成时间: _____ 分 _____ 秒)

在○里填上
“>”“<”或
“=”。

$7+3 \bigcirc 9$

$6-2 \bigcirc 3$

$5+4 \bigcirc 8$

$10-2 \bigcirc 9$

$7+3 \bigcirc 8$

1. 口算。

$1+7=$

$5+3=$

$6+2=$

$8-1=$

$7-4=$

$8-5=$

$6+1=$

$2+2=$

$5+4=$

$9-1=$

$10-8=$

$7-6=$

$4+2=$

$3+3=$

$1+9=$

$10-1=$

$8-8=$

$5-4=$

$7+3=$

$9+0=$

$4+0=$

$3+1=$

$2-2=$

$4-3=$

$1+1=$

$4+4=$

$5+5=$

$7-3=$

$8-7=$

$9-8=$

$10+0=$

$1+8=$

$3+6=$

错题订正

2. 应用题。

动物园有 2 只 , 4 只 , 和  一样多。动物园一共有几只动物?

多。动物园一共有几只动物?

$\square + \square + \square = \square \text{ (只)}$





第4课时 单元口算综合测试

(完成时间: _____ 分 _____ 秒)

1. 口算。

$3+2-2=$

$5-4+3=$

$8-6+2=$

$9-8+4=$

$7-6+3=$

$6-5+1=$

$7-7+5=$

$8+2-9=$

$7-4+2=$

$4+2-3=$

$2+4-3=$

$4+3-5=$

$5+5-7=$

$5-4+1=$

$6+2-7=$

$9-3+2=$

$3+6-8=$

$5-4+3=$

$10-8+6=$

$10-7+2=$

$2+8-4=$

$7+1-8=$

$9+1-10=$

$10-7+1=$

$2+2-3=$

$5+2-3=$

$9-5+4=$

$8-7+2=$

$4+4-7=$

$3+1-0=$

$3+6-7=$

$3+0-2=$

$10-9+1=$

○里最大能填几。

$3+\bigcirc<9$

$4+\bigcirc<10$

$6+\bigcirc<9$

$4+\bigcirc<7$

$4+\bigcirc<8$

2. 应用题。

有4个同学在唱歌,又来了5个同学,现在一共有多少个同学在唱歌?

$\square \bigcirc \square = \square (\text{个})$



错题订正



评价

棒极了 ☐有进步 ☐加油哦 ☐

家长签字: _____



四 11~20 各数的认识



第①课时 认识 11~20 各数(一)

(完成时间: _____ 分 _____ 秒)

在()里填上
合适的数。

$$6-5+()=8$$

$$8-7+()=5$$

$$2+7-()=3$$

$$10-4-()=0$$

$$()+4+1=10$$

1. 口算。

$$9-6=$$

$$1+4=$$

$$4+2-5=$$

$$8-4=$$

$$2-1=$$

$$7+3-7=$$

$$3+5=$$

$$2+5=$$

$$8+2-6=$$

$$6-5=$$

$$7+3=$$

$$4-3+5=$$

$$3+3=$$

$$8-6=$$

$$5-2+6=$$

$$2+7=$$

$$9+1=$$

$$6+1-7=$$

$$9-1=$$

$$10-9=$$

$$3-2+6=$$

$$8+2=$$

$$2+2=$$

$$9+1-8=$$

$$10-5=$$

$$8-7=$$

$$4+3-6=$$

$$6+2=$$

$$4+4=$$

$$8+2-4=$$

$$10-7=$$


$$5-1=$$

$$7-5+3=$$

错题订正

2. 应用题。

丽丽在动物园看见 9 只孔雀,过了一会有 3 只走进房间里休息去了,丽丽还可以看见几只孔雀?



$$\square \bigcirc \square = \square (\text{只})$$





第2课时 认识 11~20 各数(二)

(完成时间: _____ 分 _____ 秒)

1. 口算。

$2+5=$

$5+1=$

$5-3+2=$

$3+2=$

$5-4=$

$8-7+4=$

$5-3=$

$8+1=$

$4+2-3=$

$8-7=$

$9-3=$

$10-8+5=$

$5+5=$

$7+2=$

$9+1-7=$

$10-6=$

$3+3=$

$6+2-4=$

$9-4=$

$6-6=$

$5-1+6=$

$2+8=$

$3-1=$

$3+2-1=$

$10-7=$

$2+1=$

$1+1+7=$

$4+4=$

$10-1=$

$5-1-3=$

$6-3=$

$0+7=$

$10+0-8=$

填一填。

(1) 一个数从右边起第一位是()位, 第二位是()位。

(2) 一个两位数的个位是0, 十位是2, 这个数是()。

错题订正

2. 应用题。



我有10个棒棒糖, 又买了6个。

她现在有多少个棒棒糖?



$$\square \bigcirc \square = \square (\text{个})$$




评价

棒极了 ☐有进步 ☐加油哦 ☐

家长签字: _____

35



第 3 课时 不进位加法

(完成时间: _____ 分 _____ 秒)

填空。

- (1) 1 个十和 1 个一合起来是()。
- (2) 个位上是 8, 十位上是 1 的数是()。
- (3) 12 个位上的 2 表示(), 十位上的 1 表示()。

错题订正

1. 口算。

$10+6=$	$12+6=$	$11+8=$
$15+2=$	$12+3=$	$11+9=$
$14+2=$	$14+1=$	$15+3=$
$10+8=$	$3+16=$	$4+15=$
$11+4=$	$10+2=$	$10+7=$
$6+11=$	$11+5=$	$17+2=$
$10+4=$	$13+1=$	$14+5=$
$12+5=$	$18+1=$	$12+4=$
$11+1=$	$13+3=$	$16+2=$
$13+4=$	$16+0=$	$10+9=$
$10+1=$	$10+5=$	$15+1=$

2. 应用题。

张老师买了 13 本练习本, 王老师买了 6 本练习本, 她们一共买了多少本练习本?

$$\square \bigcirc \square = \square (\text{本})$$





第4课时 不退位减法

(完成时间: _____ 分 _____ 秒)

1. 口算。

$18 - 4 =$

$12 - 2 =$

$17 - 2 =$

$18 - 8 =$

$20 - 6 =$

$17 - 5 =$

$18 - 2 =$

$19 - 5 =$

$13 - 1 =$

$18 - 10 =$

$20 - 8 =$

$19 - 2 =$

$11 - 1 =$

$15 - 2 =$

$13 - 2 =$

$14 - 4 =$

$18 - 7 =$

$15 - 5 =$

$19 - 8 =$

$19 - 3 =$

$16 - 1 =$

$16 - 10 =$

$14 - 3 =$

$17 - 7 =$

$15 - 4 =$

$17 - 3 =$

$18 - 6 =$

$16 - 5 =$

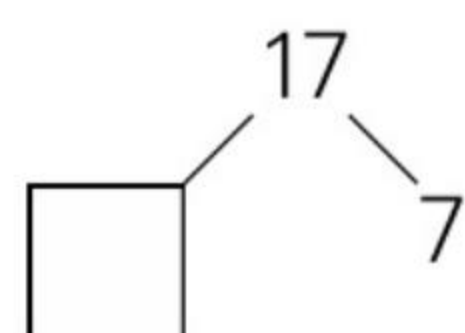
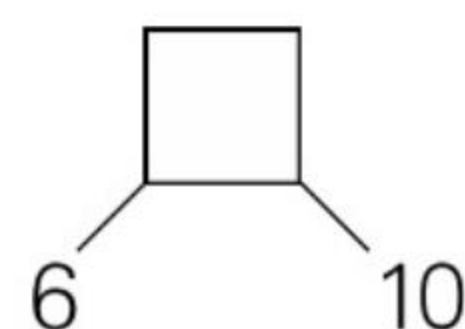
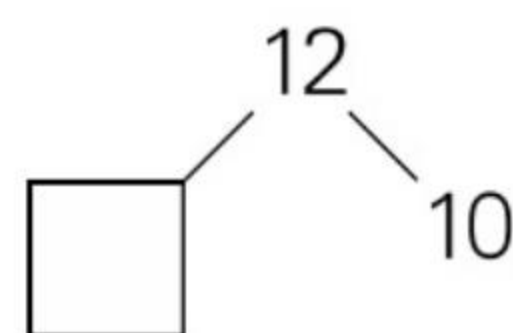
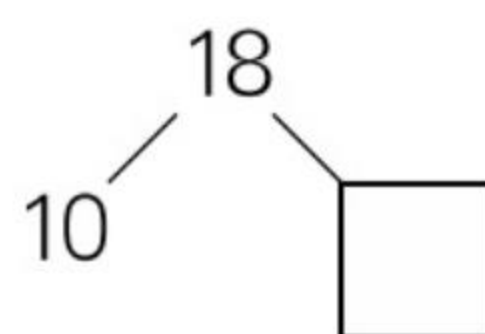
$19 - 9 =$

$14 - 1 =$

$13 - 10 =$

$15 - 1 =$

$19 - 10 =$

在 里填上合适的数。

2. 应用题。

一件背心比一条裤子便宜多少钱?

买一件背心
8元钱。买一条裤子
20元钱。

$\square \bigcirc \square = \square (\text{元})$

错题订正



评价

棒极了 ☐有进步 ☐加油哦 ☐

家长签字: _____



第5课时 加减混合运算(一)

(完成时间: _____ 分 _____ 秒)

在○里填上
“>”“<”或
“=”。

$$14 + 1 \bigcirc 15$$

$$5 + 14 \bigcirc 17$$

$$10 + 7 \bigcirc 19$$

$$17 - 10 \bigcirc 8$$

$$12 - 2 \bigcirc 10$$

1. 口算。

$$16 - 8 + 6 =$$

$$16 - 6 + 4 =$$

$$9 + 1 + 6 =$$

$$3 + 4 + 12 =$$

$$20 - 8 + 7 =$$

$$19 - 7 + 3 =$$

$$10 + 4 - 3 =$$

$$15 - 10 - 4 =$$

$$19 - 9 - 8 =$$

$$15 - 5 + 6 =$$

$$13 + 6 - 8 =$$

$$14 - 4 - 7 =$$

$$14 + 3 - 5 =$$

$$11 + 5 - 6 =$$

$$12 + 2 - 3 =$$

$$19 - 8 + 7 =$$

$$16 - 3 + 2 =$$

$$12 + 5 - 7 =$$

$$0 + 10 - 8 =$$

$$9 - 8 + 5 =$$

$$14 - 4 + 3 =$$

$$16 + 3 - 8 =$$

$$17 + 2 - 9 =$$

$$5 + 4 - 2 =$$

$$18 - 7 + 5 =$$

$$13 - 2 + 3 =$$

$$9 + 10 - 7 =$$

$$17 - 5 + 3 =$$

$$4 + 4 - 5 =$$

$$6 + 3 - 2 =$$

$$7 + 12 - 8 =$$

$$16 - 4 + 1 =$$

$$11 - 1 + 5 =$$

错题订正

2. 应用题。

公交车上有 14 人,到某站下去了 3 人,又上来 2 人,车上现在有多少人?

$$\square \bigcirc \square \bigcirc \square = \square (\text{人})$$





第6课时 加减混合运算(二)

(完成时间: _____ 分 _____ 秒)

1. 口算。

$16 - 5 + 2 =$

$18 - 3 + 2 =$

$19 + 0 - 8 =$

$12 + 3 - 4 =$

$11 + 7 - 5 =$

$12 + 5 - 4 =$

$17 - 6 + 3 =$

$12 + 2 - 3 =$

$11 + 8 - 7 =$

$10 + 1 - 1 =$

$14 - 4 + 6 =$

$17 - 6 + 1 =$

$13 - 2 + 6 =$

$19 - 9 + 4 =$

$15 - 5 + 4 =$

$11 + 5 - 4 =$

$14 - 3 + 2 =$

$10 + 8 - 3 =$

$15 - 4 + 3 =$

$17 - 7 + 5 =$

$11 + 6 - 7 =$

$16 - 5 + 7 =$

$12 + 0 - 1 =$

$10 + 7 - 5 =$

$12 + 6 - 8 =$

$3 + 7 - 2 =$

$13 + 2 - 4 =$

$19 - 9 + 2 =$

$5 + 5 - 8 =$

$3 + 6 - 8 =$

$15 + 4 - 7 =$

$16 + 2 - 3 =$

$4 + 4 - 2 =$

在○里填上
“>”“<”“=”。

$19 - 7 \bigcirc 12$

$15 - 2 \bigcirc 11$

$17 - 3 \bigcirc 17$

$13 \bigcirc 15 - 4$

$16 \bigcirc 11 + 2$

2. 应用题。

王奶奶现在共有多少只鸡?

王奶奶养了18只鸡,
昨天卖了6只鸡,今
天又买了4只鸡。

$\square \bigcirc \square \bigcirc \square = \square \text{ (只)}$

错题订正



评价

棒极了 ☐有进步 ☐加油哦 ☐

家长签字: _____



第7课时 整理与复习(一)

(完成时间: _____ 分 _____ 秒)

填一填。




- (1) 17是由()个十和()个一组成的。
- (2) 1个十和4个一组成的两位数是()。
- (3) 比12多比15少的数是()、()。

错题订正

1. 口算。

$10+6=$	$11+7=$	$3+7-5=$
$12+4=$	$15-4=$	$18-8+4=$
$15+4=$	$14-3=$	$17+2-9=$
$10+7=$	$11+6=$	$2+2-3=$
$18-8=$	$18-4=$	$11+3-3=$
$10+5=$	$12+3=$	$13+5-6=$
$17-6=$	$17-1=$	$12+1-3=$
$14+4=$	$15-0=$	$15-2+1=$
$19-4=$	$13+3=$	$17-7+6=$
$12+5=$	$19-8=$	$14+2-5=$
$18-7=$	$17-7=$	$13+6-4=$

2. 应用题。

树上有18只 , 飞走了 , 树上还剩几只 ?

$$\square \bigcirc \square = \square (\text{只})$$





第8课时 整理与复习(二)

(完成时间: _____ 分 _____ 秒)

1. 口算。

$6 + 11 =$

$17 - 4 =$

$11 + 5 - 6 =$

$17 - 6 =$

$19 - 4 =$

$6 + 12 - 7 =$

$12 + 7 =$

$11 + 6 =$

$17 - 6 + 4 =$

$19 - 6 =$

$14 + 5 =$

$16 - 6 + 8 =$

$11 + 3 =$

$3 + 10 =$

$12 + 4 - 5 =$

$16 - 3 =$

$12 + 6 =$

$11 + 5 + 3 =$

$15 + 4 =$

$19 - 8 =$

$10 + 2 + 4 =$

$6 + 12 =$

$10 + 7 =$

$11 + 7 - 8 =$

$17 - 7 =$

$14 - 3 =$

$12 + 4 - 5 =$

$18 - 5 =$

$16 - 5 =$

$17 - 5 + 2 =$

$12 + 4 =$

$13 + 3 =$

$19 - 8 + 4 =$

在○里填上
“>”“<”或
“=”。

$15 - 3 \bigcirc 14 - 2$

$17 - 6 \bigcirc 18 - 6$

$16 - 5 \bigcirc 19 - 8$

$12 + 5 \bigcirc 13 + 6$

$13 - 3 \bigcirc 10 - 1$

2. 应用题。

姐姐比小丽大几岁?



$\square \bigcirc \square = \square \text{ (岁)}$


错题订正



评价

棒极了 ☐有进步 ☐加油哦 ☐

家长签字: _____



第9课时 单元口算综合测试

(完成时间: _____ 分 _____ 秒)

在()里填上适当的数。

$$10 + () = 19$$

$$17 - () = 10$$

$$15 - () = 5$$

$$() + 1 = 12$$

$$4 + () = 16$$

1. 口算。

$$3 + 5 + 2 =$$

$$1 + 8 - 7 =$$

$$11 + 7 - 8 =$$

$$10 + 6 - 5 =$$

$$13 + 5 - 6 =$$

$$3 + 3 - 2 =$$

$$12 - 2 + 5 =$$

$$9 - 9 + 8 =$$

$$10 + 1 + 3 =$$

$$11 + 7 - 8 =$$

$$15 - 4 + 3 =$$

$$14 - 3 + 2 =$$

$$10 + 8 - 6 =$$

$$10 + 5 - 3 =$$

$$16 - 3 - 3 =$$

$$9 - 5 + 4 =$$

$$11 + 4 - 4 =$$

$$12 + 5 - 6 =$$

$$14 - 2 + 3 =$$

$$19 - 3 + 1 =$$

$$17 - 7 + 2 =$$

$$7 + 3 - 5 =$$

$$18 - 5 - 2 =$$

$$11 + 8 - 5 =$$

$$15 - 5 + 6 =$$

$$17 + 2 - 8 =$$

$$10 + 2 + 1 =$$

$$10 + 0 + 5 =$$

$$14 + 4 - 7 =$$

$$16 - 5 + 3 =$$

$$17 - 7 + 3 =$$

$$12 + 6 - 5 =$$

$$10 + 8 - 8 =$$

错题订正

2. 应用题。



小明买了10支铅笔，
小华买了5支铅笔。

他们一共买了
多少支铅笔？



$$\square \bigcirc \square = \square (\text{支})$$





五 20 以内的进位加法



第 1 课时 9 加几(一)

(完成时间: _____ 分 _____ 秒)

1. 口算。

$9 + 11 =$

$8 + 9 =$

$9 + 0 =$

$1 + 9 =$

$4 + 9 =$

$2 + 9 =$

$10 + 2 =$

$9 + 5 =$

$9 + 3 =$

$9 + 10 =$

$6 + 9 =$

$10 + 8 =$

$2 + 5 =$

$11 + 2 =$

$10 + 0 =$

$3 + 4 =$

$10 + 3 =$

$9 + 9 =$

$8 + 1 =$

$12 + 2 =$

$15 + 4 =$

$4 + 5 =$

$7 + 3 =$

$13 + 4 =$

$2 + 2 =$

$3 + 6 =$

$11 + 6 =$

$10 + 1 =$

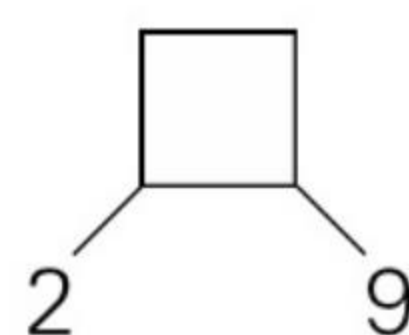
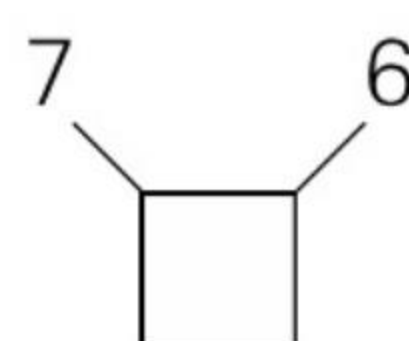
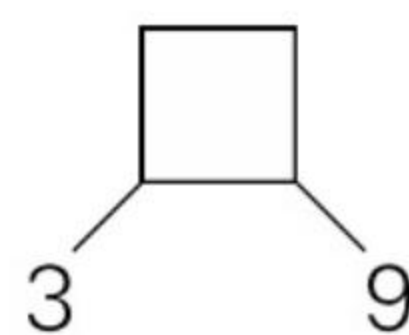
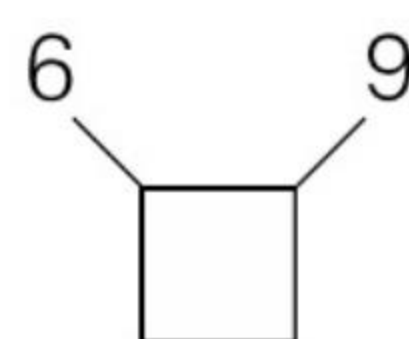
$5 + 5 =$

$12 + 7 =$

$3 + 8 =$

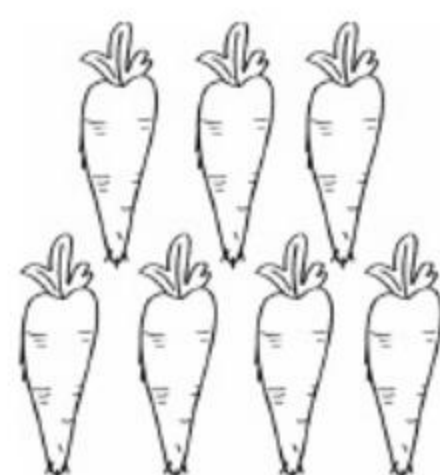
$4 + 7 =$

$19 + 1 =$

在 里填上合适的数。

2. 应用题。

小白兔上午吃了 4 根胡萝卜,下午吃了 7 根胡萝卜,它一共吃了几根胡萝卜?



\bigcirc = (根)

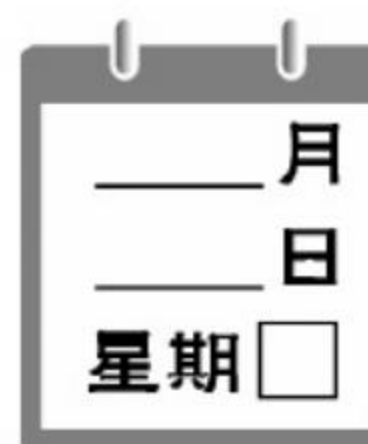
错题订正



评价

棒极了 ☐有进步 ☐加油哦 ☐

家长签字: _____



第2课时 9 加几(二)

(完成时间: _____ 分 _____ 秒)

在 里填上
合适的数。

$9 + \square = 11$

$9 + \square = 12$

$\square + 9 = 16$

$\square + 8 = 17$

$9 + \square = 15$

错题订正

1. 口算。

$3 + 9 =$

$7 + 9 =$

$10 - 3 =$

$9 + 2 =$

$9 + 9 =$

$9 + 4 =$

$10 - 4 =$

$8 - 4 =$

$9 - 8 =$

$4 + 4 =$

$9 + 5 =$

$8 + 9 =$

$16 - 4 =$

$9 + 1 =$

$5 + 9 =$

$17 - 5 =$

$6 - 5 =$

$9 - 5 =$

$12 + 6 =$

$13 + 3 =$

$6 + 4 =$

$5 + 5 =$

$8 - 7 =$

$7 - 4 =$

$5 + 5 =$

$19 - 8 =$

$9 + 6 =$


$7 - 1 =$

$11 + 8 =$

$15 - 3 =$


2. 应用题。

看图列算式。



(1) 小白兔有()只, 小灰兔有()只, 一共有()只。

$\square + \square = \square \text{ (只)}$



(2) 灰狗有()只, 白狗有()只, 一共有多少只狗?

$\square \bigcirc \square = \square \text{ (只)}$





第3课时 8 加几(一)

(完成时间: _____ 分 _____ 秒)

1. 口算。

$6+8=$

$8+8=$

$10+8=$

$12+8=$

$4+4=$

$8-2=$

$8+7=$

$8+4=$

$5+8=$

$11+8=$

$3+8=$

$8+1=$

$8+0=$

$2+5=$

$3+3=$

$4+9=$

$8-5=$

$7-5=$

$9+8=$

$10+5=$

$14-3=$

$10-8=$

$13-2=$

$12+5=$

$3+5=$

$1+7=$

$16-6=$

$8-8=$

$9+6=$

$17-5=$

$9-8=$

$15-2=$

$12+1=$

在○里填上
“>”“<”或
“=”。

$8+6 \bigcirc 15$

$4+8 \bigcirc 11$

$9+8 \bigcirc 18$

$7+8 \bigcirc 16$

$8+10 \bigcirc 18$

2. 应用题。

小明家冰箱里有 5 个冰淇淋,妈妈又买回 9 个,现在小明家冰箱里有几个冰淇淋?



$\square \bigcirc \square = \square (\text{个})$

错题订正



评价

棒极了 ☐有进步 ☐加油哦 ☐

家长签字: _____



第4课时 8 加几(二)

(完成时间: _____ 分 _____ 秒)

在()里填上
合适的数。

$$() + 5 = 13$$

$$8 + () = 14$$

$$() + 8 = 16$$

$$() + 9 = 17$$

$$6 + () = 15$$

1. 口算。

$$8 + 4 =$$

$$3 + 8 =$$

$$6 + 8 =$$

$$8 + 9 =$$

$$7 + 8 =$$

$$8 + 8 =$$

$$5 + 2 =$$

$$3 + 3 =$$

$$2 + 1 =$$

$$1 + 1 =$$

$$5 + 5 =$$

$$2 + 8 =$$

$$7 + 9 =$$

$$9 + 9 =$$

$$5 + 8 =$$

$$6 + 9 =$$

$$9 + 2 =$$

$$9 + 10 =$$

$$8 + 0 =$$

$$5 + 6 =$$

$$7 + 7 =$$

$$1 + 9 =$$

$$8 + 5 - 3 =$$

$$4 + 4 + 5 =$$

$$10 - 2 + 7 =$$

$$8 + 7 - 5 =$$

$$10 - 4 + 8 =$$

$$9 - 3 + 8 =$$

$$5 + 3 - 2 =$$

$$8 + 7 - 4 =$$

$$5 + 6 - 8 =$$

$$3 + 2 - 1 =$$

$$4 + 5 - 8 =$$

错题订正

2. 应用题。

小刚跳了几下?



比赛跳绳, 小丽跳了8下。



小刚比小丽多跳了4下。

$$\square \bigcirc \square = \square (\text{下})$$





第5课时 7,6 加几(一)

(完成时间: _____ 分 _____ 秒)

1. 口算。

$6+6=$

$7+5=$

$6+2=$

$7+7=$

$7+11=$

$12+7=$

$6+4=$

$6+9=$

$7+6=$

$8+7=$

$12+6=$

$7+10=$

$6+1=$

$10-6=$

$4+7=$

$7+3=$

$6+8=$

$7-6=$

$6+5=$

$3+5=$

$12+4=$

$9-6=$

$8+10=$

$6-6=$

$7+0=$

$10-7=$

$7-5=$

$8-6=$

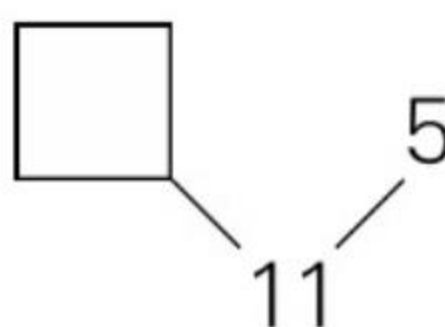
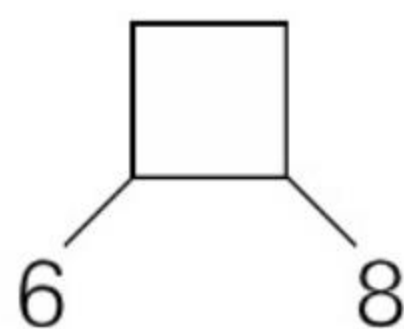
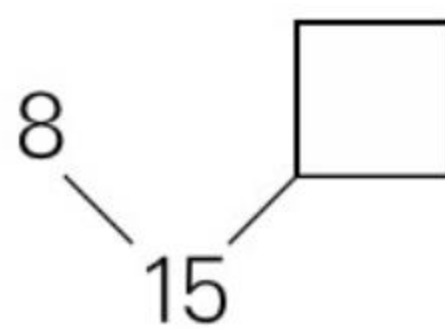
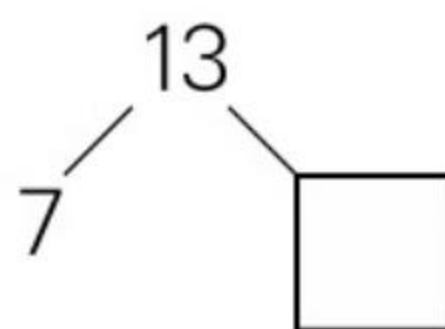
$5+1=$

$2+5=$

$10+6=$


$3+4=$

$3+3=$

在 里填上合适的数。

2. 应用题。

现在有几只小鸟?



6只



又飞来了8只。

$\square \bigcirc \square = \square \text{ (只)}$

错题订正



评价

棒极了 ☐有进步 ☐加油哦 ☐

家长签字: _____

47



第 6 课时 7, 6 加几(二)

(完成时间: _____ 分 _____ 秒)

在○里填上
“>”“<”或
“=”。

$7+3 \bigcirc 9$

$3+4 \bigcirc 6$

$6+3 \bigcirc 10$

$7+7 \bigcirc 14$

$8+3 \bigcirc 12$

1. 口算。

$8+1=$

$3+4=$

$6+0=$

$7-3=$

$6+5=$

$7+6=$

$6+2=$

$10-7=$

$7-7=$

$4+7=$

$6+1=$

$1+7=$

$3+6=$

$7-6=$

$9-2=$

$9-7=$

$6+6=$

$15+2=$

$6+4=$

$10+6=$

$7-4=$

$10-6=$

$17-7=$

$3+3=$

$8+3=$

$7+3=$

$11+5=$

$7+5=$

$12-6=$

$19-2=$

$7+7=$

$10+7=$

$12+4=$

错题订正

2. 应用题。

小红今年 9 岁,小丽与她一样大,两人一共多少岁?

$\square \bigcirc \square = \square (\text{岁})$





第 7 课时 整理与复习

(完成时间: _____ 分 _____ 秒)

1. 口算。

$7+5=$

$4+7=$

$4+8+5=$

$6+8=$

$5+8=$

$10+1-2=$

$3+9=$

$5+5=$

$9-5+6=$

$5+6=$

$4+4=$

$19-9-6=$

$8+9=$

$12+6=$

$4+2+7=$

$11+7=$

$15+3=$

$9-6+9=$

$2+9=$

$9+9=$

$6+8-2=$

$7+8=$

$8+1=$

$7+7-4=$

$6+6=$

$6+7=$

$8-5+7=$

$7+2=$

$10+9=$

$6+9-5=$

$7+7=$

$8+8=$

$5+6-9=$

在○里填上
“+”或“-”。

$7 \bigcirc 9 = 16$

$10 \bigcirc 5 = 5$

$8 \bigcirc 3 = 11$

$7 \bigcirc 3 = 4$

$6 \bigcirc 4 = 10$

2. 应用题。

小华家养了 6 只 , 每只  喂 1 条 , 还剩下
8 条 。原来有多少条 ?

$\square \bigcirc \square = \square$ (条)

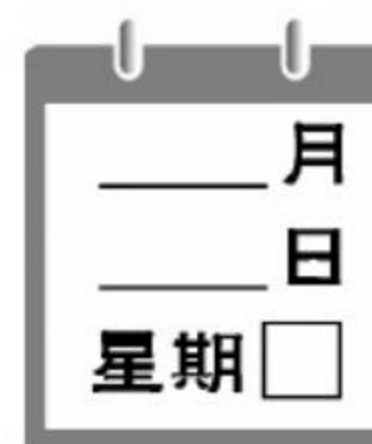
错题订正



评价

棒极了 ☐有进步 ☐加油哦 ☐

家长签字: _____



第8课时 单元口算综合测试

(完成时间: _____ 分 _____ 秒)

在 里填上
合适的数。

$$19 + \square = 19$$

$$\square + 9 = 13$$

$$8 + \square = 16$$

$$8 + \square = 17$$

$$2 + \square = 12$$

1. 口算。

$$10 + 2 =$$

$$8 + 9 =$$

$$4 + 6 =$$

$$7 + 9 =$$

$$7 + 3 =$$

$$10 + 9 =$$

$$10 + 6 =$$

$$6 + 9 =$$

$$6 + 7 =$$

$$4 + 9 =$$

$$10 + 8 =$$

$$8 + 7 =$$

$$9 + 4 =$$

$$1 + 7 =$$

$$3 + 8 =$$

$$4 + 7 =$$

$$11 + 6 =$$

$$4 + 4 =$$

$$5 + 9 =$$

$$13 + 3 =$$

$$6 + 1 =$$

$$6 + 6 =$$

$$5 + 6 =$$

$$11 + 8 =$$

$$2 + 8 =$$

$$12 + 6 =$$

$$9 + 3 =$$

$$8 + 8 =$$

$$9 + 1 =$$

$$12 + 5 =$$

2. 应用题。

错题订正



已经搬走了 7 根



, 还剩 9 根



,



一共要搬多少根



?

$$\square \bigcirc \square = \square \text{ (根)}$$



评价

棒极了 ☐

有进步 ☐

加油哦 ☐

家长签字: _____



六 20 以内的退位减法



第1课时 11 减几

(完成时间: _____ 分 _____ 秒)

1. 口算。

$11 - 9 =$

$11 - 2 =$

$11 - 4 =$

$11 - 5 =$

$11 - 6 =$

$11 - 7 =$

$11 - 8 =$

$11 - 3 =$

$11 - 10 =$

$11 - 0 =$

$11 - 1 =$

$8 + 3 =$

$5 + 9 =$

$15 + 4 =$

$15 - 4 =$

$6 + 5 =$

$17 - 5 =$

$12 + 4 =$

$6 + 6 =$

$12 - 1 =$

$18 - 8 =$

$7 + 8 =$

$16 - 3 =$

$15 - 4 =$

$12 - 2 =$

$11 + 7 =$

$13 - 1 =$

$16 - 5 =$

$12 + 2 =$

$13 + 2 =$

$18 + 1 =$

$5 + 5 =$

$10 + 7 =$

想一想, 填一填。

$$\begin{array}{r} 11 \\ \begin{array}{l} \swarrow \searrow \\ \square \quad \square \end{array} \end{array} - 9 = \square$$

$\begin{array}{c} \square \\ \downarrow \end{array}$

$$\begin{array}{r} 11 \\ \begin{array}{l} \swarrow \searrow \\ \square \quad \square \end{array} \end{array} - 5 = \square$$


$\begin{array}{c} \square \\ \downarrow \end{array}$

2. 应用题。



我们班有16人。

每人分1个西红柿, 还差多少个?



$\square \bigcirc \square = \square (\text{个})$

错题订正



评价

棒极了 ☐有进步 ☐加油哦 ☐

家长签字: _____



第2课时 12, 13 减几(一)

(完成时间: _____ 分 _____ 秒)

在()里填上
合适的数。

$11 - () = 2$

$15 - () = 4$

$11 - () = 1$

$() - 3 = 8$

$() - 5 = 11$

1. 口算。

$13 - 4 =$

$12 - 7 =$

$13 - 11 =$

$12 - 8 =$

$13 - 1 =$

$12 - 2 =$

$6 + 6 =$

$7 + 5 =$

$13 - 9 =$

$12 + 1 =$

$13 - 7 =$

$13 - 5 =$

$13 - 8 =$

$13 - 6 =$

$12 - 5 =$

$13 - 10 =$

$7 + 6 =$

$13 - 0 =$

$12 - 3 =$

$10 + 2 =$

$12 - 9 =$

$2 + 10 =$

$13 - 3 =$

$12 - 6 =$

$13 - 2 =$

$12 - 1 =$

$13 + 0 =$

$7 + 1 =$

$11 - 4 =$

$9 + 2 =$

$11 - 3 =$

$7 + 7 =$

$10 + 6 =$

错题订正

2. 应用题。

铅笔和钢笔共 15 支。



如果铅笔有5支，那么钢笔有多少支？

$\square \bigcirc \square = \square (\text{支})$





第3课时 12, 13 减几(二)

(完成时间: _____ 分 _____ 秒)

1. 口算。

$10 - 7 =$

$7 + 8 =$

$3 + 9 =$

$8 + 2 =$

$8 + 4 =$

$9 + 9 =$

$6 + 9 =$

$6 - 5 =$

$7 + 4 =$

$12 - 9 =$

$13 - 8 =$

$8 + 5 =$

$11 - 5 =$

$11 - 7 =$

$19 - 6 =$

$13 - 4 =$

$13 - 6 =$

$12 - 0 =$

$12 - 7 =$

$12 - 4 =$

$13 + 4 =$

$11 + 2 =$

$11 + 5 =$

$14 - 2 =$

$7 + 6 =$

$12 - 2 =$

$10 + 1 =$

$10 + 3 =$

$13 - 3 =$

$15 - 2 =$

$13 - 1 =$

$8 + 8 =$

$16 - 3 =$

在○里填上
“+”或“-”。

$13 \bigcirc 4 = 9$

$12 \bigcirc 10 = 2$

$6 \bigcirc 7 = 13$

$13 \bigcirc 0 = 13$

$13 \bigcirc 8 = 5$

2. 应用题。

小蓝寒假在奶奶家已经住了多少天?

寒假我准备在
奶奶家玩12天。再有6天就该
回家了。

小蓝

$\square \bigcirc \square = \square (\text{天})$

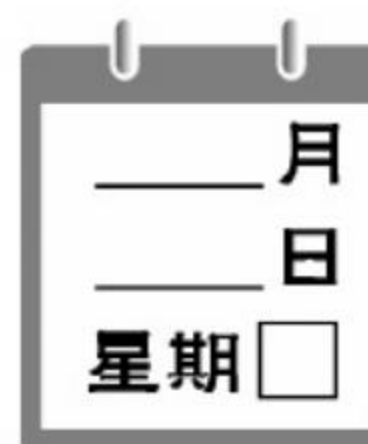
错题订正



评价

棒极了 ☐有进步 ☐加油哦 ☐

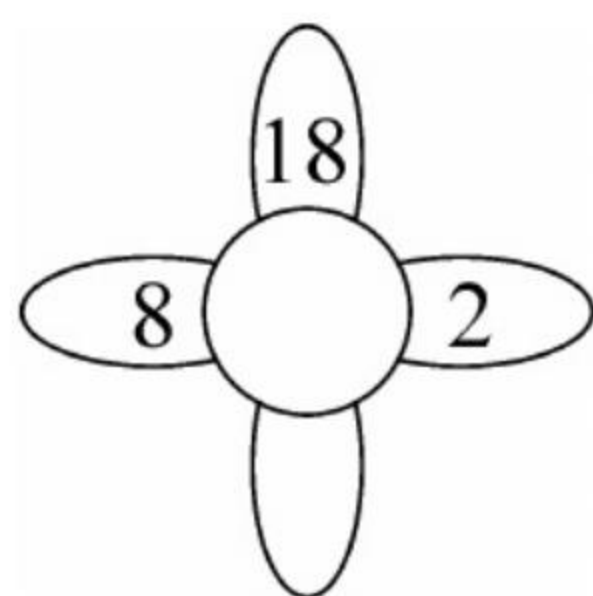
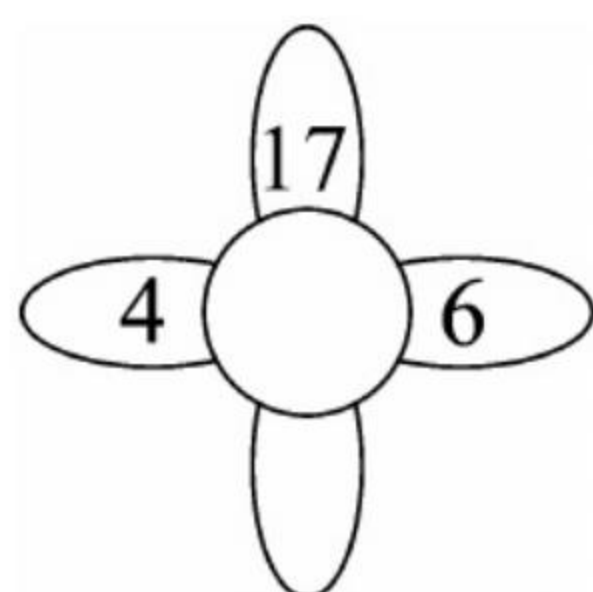
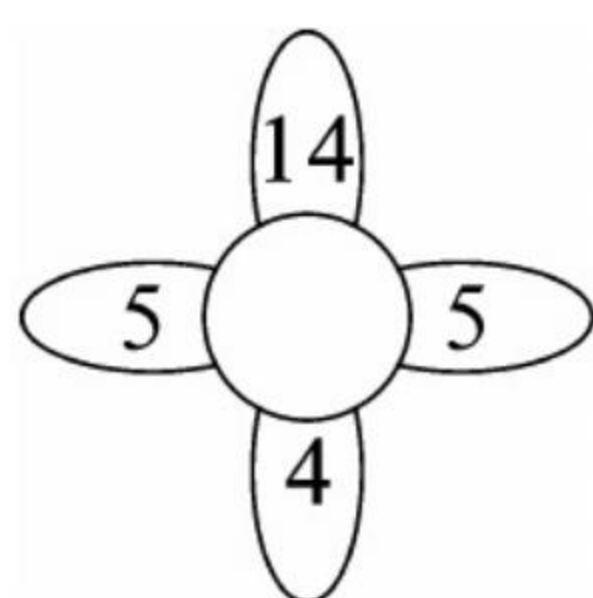
家长签字: _____



第4课时 14, 15 减几(一)

(完成时间: _____ 分 _____ 秒)

找规律。



错题订正

1. 口算。

$14 - 1 =$

$14 - 8 =$

$15 - 0 =$

$14 - 5 =$

$14 - 2 =$

$15 - 6 =$

$15 - 10 =$

$15 - 8 =$

$15 - 3 =$

$13 - 4 =$

$14 - 4 =$

$12 - 5 =$

$14 - 7 =$

$13 - 7 =$

$14 - 3 =$

$9 - 5 =$

$8 - 6 =$

$11 - 4 =$

$11 - 7 =$

$6 + 6 =$

$19 - 2 =$

$12 - 3 =$

$12 + 4 =$

$13 - 9 =$

$19 - 10 =$

$13 - 2 =$

$11 + 6 =$

$2 + 9 =$

$13 + 5 =$

$3 + 9 =$

$7 + 7 =$

$13 - 9 =$

$18 - 2 =$

2. 应用题。

小刚和小华一起做暑假作业, 小刚做了 13 页, 小华做了 8 页, 小华比小刚少做了多少页?

$$\square \bigcirc \square = \square (\text{页})$$



我做了 13 页。

小刚



评价

棒极了 ☐

有进步 ☐

加油哦 ☐

家长签字: _____



第5课时 14, 15 减几(二)

(完成时间: _____ 分 _____ 秒)

1. 口算。

$14 - 8 + 5 =$

$15 - 10 + 4 =$

$14 - 7 - 2 =$

$15 - 9 - 2 =$

$14 - 9 + 8 =$

$15 - 2 + 1 =$

$15 - 8 + 7 =$

$14 - 6 + 3 =$

$14 - 5 - 6 =$

$14 - 10 + 6 =$

$15 - 6 + 2 =$

$14 - 5 + 1 =$

$5 + 9 - 7 =$

$6 + 9 - 7 =$

$10 + 4 - 6 =$

$6 + 8 - 9 =$

$12 - 7 + 3 =$

$13 - 4 + 5 =$

$14 - 6 + 5 =$

$11 - 8 + 5 =$

$14 - 8 + 2 =$

$14 + 2 - 6 =$

$5 + 7 - 2 =$

$13 - 9 + 6 =$

$9 + 7 - 2 =$

$6 + 6 - 5 =$

$14 - 7 + 5 =$

$4 - 3 + 11 =$

$15 - 7 + 2 =$

$15 - 7 + 8 =$

在()里填上合适的数。

$() - 5 = 9$

$() - 7 = 8$

$15 - () = 6$

$6 + () = 14$

$9 + () = 13$

2. 应用题。

小明还剩多少钱?

我带了18元钱去买文具。买铅笔用了5元, 买橡皮用了7元。



小明

$\square \bigcirc \square \bigcirc \square = \square (\text{元})$

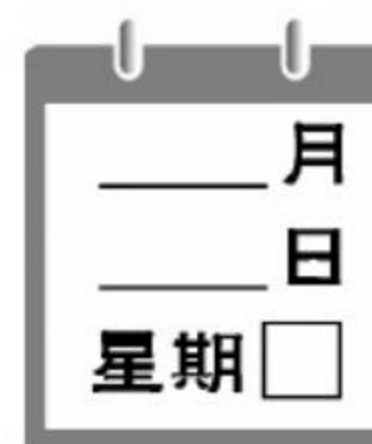
错题订正



评价

棒极了 ☐有进步 ☐加油哦 ☐

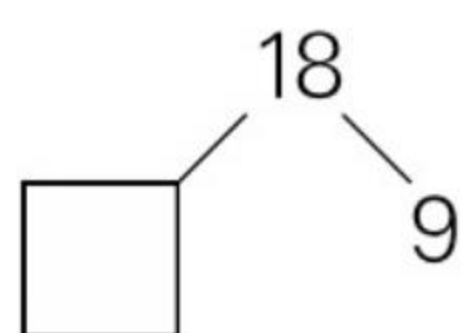
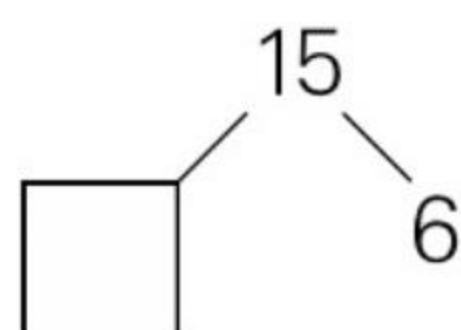
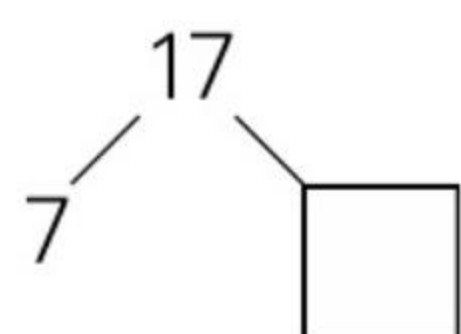
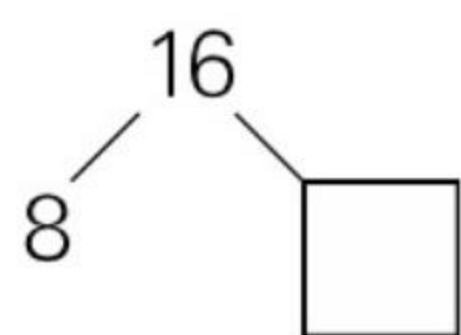
家长签字: _____



第6课时 16, 17, 18 减几(一)

(完成时间: _____ 分 _____ 秒)

在 里填上
合适的数。



错题订正

1. 口算。

$18 - 9 =$

$16 - 3 =$

$17 - 9 =$

$16 - 9 =$

$18 - 10 =$

$17 - 8 =$

$16 - 2 =$

$18 - 8 =$

$14 - 7 =$

$19 - 10 =$

$17 - 7 =$

$17 - 5 =$

$18 - 13 =$

$18 - 12 =$

$17 - 11 =$

$16 - 7 =$

$16 + 2 =$

$16 - 8 =$

$18 - 7 =$

$17 - 1 =$

$16 - 0 =$

$18 - 15 =$

$18 + 1 =$

$10 + 6 =$

$15 - 6 =$

$12 - 3 =$

$12 + 5 =$

$14 - 3 =$

$11 + 7 =$

$13 + 3 =$

$11 + 5 =$

$18 - 3 =$

$17 - 6 =$

2. 应用题。



一个

18 元, 1 个



5 元, 羽毛球拍比羽毛

球贵多少元?

$$\square \bigcirc \square = \square (\text{元})$$



评价

棒极了 ☐

有进步 ☐

加油哦 ☐

家长签字: _____



第7课时 16, 17, 18 减几(二)

(完成时间: _____ 分 _____ 秒)

1. 口算。

$16 - 3 =$

$16 - 7 =$

$17 - 8 + 8 =$

$6 + 9 =$

$11 + 5 =$

$16 - 9 + 7 =$

$15 - 6 =$

$14 - 5 =$

$13 + 5 - 8 =$

$17 - 8 =$

$16 - 9 =$

$12 + 6 - 7 =$

$18 - 9 =$

$13 + 3 =$

$7 + 9 - 5 =$

$5 + 9 =$

$18 - 1 =$

$18 - 9 + 6 =$

$16 - 8 =$

$12 + 3 =$

$11 + 6 - 6 =$

$7 + 3 =$

$18 - 3 =$

$11 + 3 - 5 =$

$17 - 9 =$

$17 - 6 =$

$16 - 8 + 2 =$

$8 + 5 =$

$8 + 8 =$

$17 - 3 + 5 =$

$18 - 7 =$

$16 - 6 =$

$14 - 5 + 1 =$

在○里填上
“>”“<”或
“=”。

$17 - 9 \bigcirc 8$

$18 - 5 \bigcirc 17$

$16 - 8 \bigcirc 6$

$14 - 5 \bigcirc 4$

$14 - 8 \bigcirc 7$

2. 应用题。

学生有多少人?



老师有5人。

学生比老师多13人。



$\square \bigcirc \square = \square (\text{人})$

错题订正



评价

棒极了 ☐有进步 ☐加油哦 ☐

家长签字: _____



第8课时 整理与复习

(完成时间: _____ 分 _____ 秒)

在○里填上
“+”或“-”。

$$13 \bigcirc 5 = 8$$

$$16 \bigcirc 6 = 10$$

$$7 \bigcirc 7 = 14$$

$$15 \bigcirc 5 = 10$$

$$12 \bigcirc 4 = 16$$

1. 口算。

$$16 - 5 =$$

$$14 + 4 =$$

$$18 - 7 =$$

$$8 + 12 =$$

$$15 - 8 =$$

$$17 - 7 + 6 =$$

$$12 + 6 - 7 =$$

$$13 - 10 + 8 =$$

$$6 + 9 - 8 =$$

$$14 - 8 + 4 =$$

$$18 - 9 + 3 =$$

$$18 - 10 + 4 =$$

$$10 - 8 + 3 =$$

$$11 - 5 + 3 =$$

$$12 - 6 + 4 =$$

$$12 - 7 + 5 =$$

$$12 + 1 - 4 =$$

$$15 - 9 + 2 =$$

$$15 - 8 + 3 =$$

$$17 - 8 + 2 =$$

$$9 + 2 - 3 =$$

$$18 - 9 + 1 =$$

$$10 + 7 - 5 =$$

$$7 + 6 - 4 =$$

$$7 + 8 - 6 =$$

$$11 + 4 - 6 =$$

$$12 + 5 - 9 =$$

$$14 - 6 + 2 =$$

$$14 - 7 + 2 =$$

$$11 + 7 - 8 =$$

$$12 - 5 + 4 =$$

$$18 - 2 + 1 =$$

$$14 - 6 + 3 =$$

错题订正

2. 应用题。

小红种了多少棵小树苗?



小红

空地原来有5棵小树苗, 种完之后有18棵小树苗。

$$\square \bigcirc \square = \square (\text{棵})$$





第 9 课时 单元口算综合测试

(完成时间: _____ 分 _____ 秒)

1. 口算。

$11 - 3 =$

$17 - 10 =$

$16 - 9 =$

$17 - 8 =$

$13 - 7 =$

$12 - 7 =$

$18 - 2 =$

$11 - 6 =$

$15 - 6 =$

$14 - 3 =$

$13 - 4 =$

$18 - 7 =$

$18 - 9 =$

$16 - 8 =$

$19 - 10 =$

$15 - 8 =$

$15 - 9 =$

$11 - 9 =$

$14 - 9 =$

$11 - 5 =$

$12 - 5 =$

$8 + 6 - 5 =$

$9 + 6 - 2 =$

$9 + 9 - 8 =$

$17 + 2 - 9 =$

$18 - 9 + 7 =$

$6 + 9 - 6 =$

$19 - 9 - 10 =$

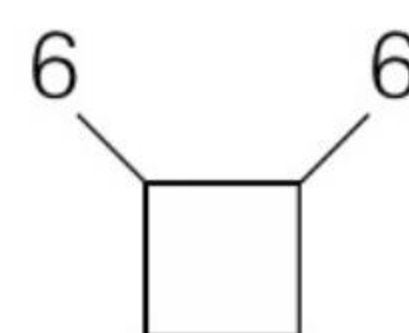
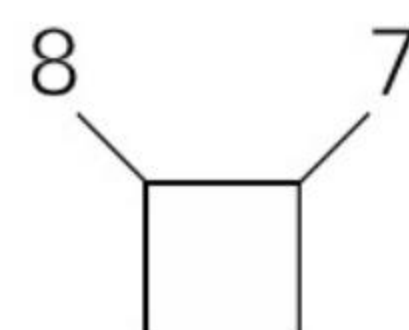
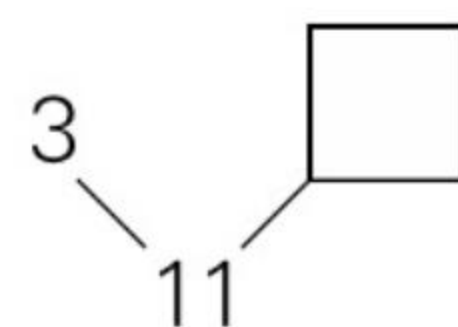
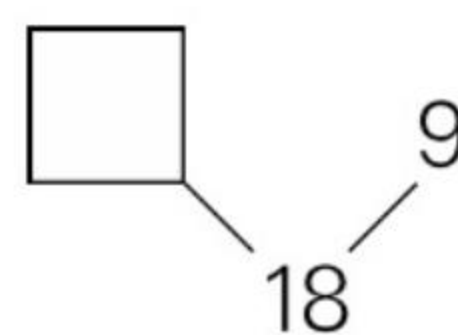
$9 + 2 + 4 =$

$8 + 5 - 7 =$

$15 - 8 + 2 =$

$12 - 7 + 8 =$

$14 - 8 - 2 =$

在 里填上合适的数。

2. 应用题。

小明买了 12 块橡皮, 8 本练习本, 要想使练习本和橡皮一样多, 小明要再买多少本练习本?

$$\square \bigcirc \square = \square (\text{本})$$

错题订正




评价

棒极了 ☐有进步 ☐加油哦 ☐

家长签字: _____



七 总复习



总复习

(完成时间: _____ 分 _____ 秒)

在()里填上
合适的数。

() + 6 = 10

4 + () = 8

() + 2 = 10

() - 8 = 5

() + 3 = 14

1. 口算。

1 + 1 =

8 + 2 =

9 - 2 =

10 - 3 =

4 + 0 =

6 - 3 =

5 - 4 =

2 - 2 =

12 + 5 =

13 - 1 =

15 - 8 =

4 + 4 =

3 + 7 =

10 - 8 =

11 + 5 =

18 - 3 =

12 + 6 =

17 - 8 =

10 + 4 =

11 - 8 =

17 - 9 =

12 - 3 =

3 + 8 - 2 =

5 + 9 - 6 =

15 - 7 + 6 =

7 + 8 - 9 =

14 - 9 + 7 =

2 + 9 - 5 =

9 + 3 - 8 =

7 + 7 - 9 =





15 - 8 + 2 =

11 + 4 - 6 =

17 - 9 + 4 =

错题订正

2. 应用题。

小梅买了条  19 元, 又买了件  8 元,  比  贵多少钱?

贵多少钱?

= (元)





奥数题

1. 芳芳做了 14 朵花,晶晶做了 8 朵花,芳芳给晶晶几朵花,两人的花就同样多?
2. 明明从布袋里拿出 5 个白皮球和 5 个花皮球后,白皮球剩下 10 个,花皮球剩下 5 个。布袋里原来有多少个白皮球,多少个花皮球?
3. 同学们到体育馆借球,一班借了 9 个,二班借了 6 个。体育馆的球共减少了几几个?
4. 猫妈妈给小白 5 条鱼,给小花 4 条鱼,小白和小花共吃了 6 条,它们还有几条?



评价

棒极了 ☐有进步 ☐加油哦 ☐

家长签字: _____



5. 大华和小刚每人有 10 张画片,大华给小刚 2 张后,小刚比大华多几张?
6. 第二中队有 8 名男同学,女同学的人数跟男同学同样多,第二中队共有多少名同学?
7. 哥哥送给弟弟 5 支铅笔后,还剩 6 支,哥哥原来有几支铅笔?
8. 小林吃了 8 块饼干后,还有 4 块饼干,小林原来有多少块饼干?
9. 一队小学生,李平前面有 8 个学生比他高,后面有 7 个学生比他矮,这队小学生至少有多少人?
10. 刚刚有 9 本书,爸爸又给他买了 5 本,小明借去 2 本,刚刚还有几本书?





11. 新星小学美术兴趣小组有学生 9 人, 书法兴趣小组的人数和美术兴趣小组的人数同样多, 这两个兴趣小组共有多少名学生?
12. 小红有 2 个玩具, 小英有 3 个玩具, 小明的玩具比小红多 2 个, 小明有几个玩具?
13. 第一个盘子里有 5 个梨, 第二个盘子里有 4 个梨, 把第一个盘里拿 1 个放到第二个盘里, 现在一共有多少个梨?
14. 小华和爸爸、妈妈为植树节义务植树, 小华植了 1 棵, 爸爸植了 5 棵, 妈妈比爸爸少植 2 棵, 妈妈植了多少棵? 他们一共植了多少棵?
15. 春天来了, 小明、小冬和小强到郊外捉蝴蝶, 小明捉了 3 只, 小冬捉了 5 只, 他们一共捉了 12 只, 小强捉了几只?



评价

棒极了 ☐有进步 ☐加油哦 ☐

家长签字: _____



16. 马戏团有 1 只老虎, 3 只猴子, 黑熊和老虎同样多, 问马戏团一共有几只动物?

17. 小平家距学校 2 千米, 一次他上学走了 1 千米, 想起忘带铅笔盒, 又回家去取。这次他到学校一共走了多少千米?

18. 冬冬有 5 支铅笔, 南南有 9 支铅笔, 冬冬再买几支就和南南的一样多?

19. 草地上有 10 只羊, 跑走了 3 只白山羊, 又来了 7 只黑山羊, 现在一共有几只羊?

20. 妈妈买回一些鸭蛋和 12 个鸡蛋, 吃了 8 个鸡蛋后, 剩下的鸡蛋和鸭蛋同样多, 问妈妈一共买回几个蛋?





参考答案

上学了

第1课时 数一数

1. 7 9 4 4 8 6 3 9 8 5 2 8 6 2 5 4
5 9 1 4 8 3 5 3 0 3 1 5 1 1 0 1
1

2. 7 3 8 4

○○ △△△ ☆☆☆☆ ♡♡

第2课时 比一比

1. 10 9 6 3 0 4 7 8 4 4 2 1 9 9 9 6
4 2 7 1 5 3 9 5 6 1 6 0 2 6 7 2
8

2. 略

略

第3课时 单元口算综合测试

1. 5 5 2 0 5 0 4 0 0 6 1 1 7 7 2 1
3 9 2 9 1 8 0 4 8 6 2 2 7 1 3 0
8

2. 略

4 5 6 8 1 1(答案不唯一)

一 10以内数的认识和加减法(一)

第1课时 1~5的认识(一)

1. 3 1 0 1 5 4 3 3 0 1 2 4 5 2 4 2
3 5 2 1 3 0 0 0 2 5 2 4 1 1 2 2
2

2. 略

2 3 4

第2课时 1~5的认识(二)

1. 1 2 3 4 3 4 3 1 5 1 5 0 5 0 3 4
1 2 3 1 0 0 4 2 2 2 1 4 1 3 2 5
4

2. 略

4 3 4 5

第3课时 0的认识

1. 1 2 3 5 0 2 0 1 1 2 5 3 4 0 4 0
1 0 0 1 0 2 4 5 4 5 1 2 3 3 3 2
5

2. 略

1 2 0

第4课时 比较(一)

1. 2 0 5 3 1 4 3 0 5 3 0 2 1 2 2 1
1 0 5 2 0 4 4 0 4 1 4 3 3 5 5 1

5

2. (1) 5 2 5 > 2 (2) 1 4 1 < 4

1 1 3 2

第5课时 比较(二)

1. 3 2 1 1 5 0 5 0 2 4 5 3 2 5 1 4
4 5 4 2 3 1 0 4 4 4 1 2 3 0 3 2
3

2. 2

4或5 3 1或2 1或2或3或4 1或2或3

第6课时 5以内的加法

1. 3 5 5 2 4 4 5 5 3 4 1 4 3 3 2 1
1 1 1 2 1

2. (1) 4+1=5 1+4=5 (2) 3+1=4 1+3=4

4 3 5 2

第7课时 5以内的减法

1. 1 2 3 1 2 4 2 1 3 0 1 0 0 1 4 2
0 5 0 0 2 4 4 5 3 1 5 5 3 5 4 5
3

2. 4-2=2

+ - - + +

第8课时 整理与复习

1. 0 4 1 2 0 2 1 4 3 2 5 4 2 0 0 5
5 4 3 4 0 3 3 5 0 1 2 5 5 3 2 0
1

2. 5-3=2

略

第9课时 单元口算综合测试

1. 1 4 4 2 5 1 2 5 5 3 5 3 3 5 4 1
1 2 0 2 3 0 3 0 2 2 3 4 1 0

2. (1) 3+2=5 (2) 5-2=3

< > < = >

二 10以内数的认识和加减法(二)

第1课时 6~10的认识

1. 3 3 6 10 10 2 3 1 1 7 3 6 4 6 0 9
10 5 2 6 4 7 8 4 7 5 9 9 7 5 1 8
1

2. 8-3=5

4 3 5 8

第2课时 第几

1. 5 0 9 2 4 3 2 5 4 1 1 5 3 0 4 5
1 0 8 9 3 1 9 5 2 3 8 3 0 1 8 7
2

2. 略



> < > < =

第3课时 6,7的加减法(一)

1. 6 1 2 6 5 7 3 2 1 6 7 7 0 1 1 7
6 7 2 5 0 4 6 5 0 2 3 4 6 5 3 2
4

2. (1) $4+2=6$ $2+4=6$ (2) $3+4=7$ $4+3=7$
5 4 4 2

第4课时 6,7的加减法(二)

1. 2 6 7 4 1 4 7 3 5 7 7 4 7 3 4 6
1 0 2 5 1 6 4 2 0 2 3 0 1 2 6 4
1

2. $7-3=4$
6 4 5 7 4

第5课时 6,7的加减法(三)

1. 1 1 0 1 1 3 5 5 6 0 0 4 4 6 3 2
2 7 4 5 1 3 4 7 0 7 7 4 6 6 5 3
6

2. $7-4=3$
> < < > =

第6课时 8,9的加减法(一)

1. 9 8 8 7 4 7 6 8 2 7 4 3 9 9 5 8
8 6 9 3 1 1 6 6 4 3 2 1 7 1
2. $9-4=5$
7 5 7 4 9

第7课时 8,9的加减法(二)

1. 8 8 7 2 2 1 1 3 9 7 4 1 9 8 4 7
0 1 6 8 0 2 3 6 9 0 5 4 4 3
2. $4+5=9$
5 3 4 8

第8课时 10的加减法(一)

1. 10 10 10 10 6 10 3 2 9 10 5 1 8 8
0 8 7 6 1 4 8 4 8 6 6 4 10 8 7 9
2. $10-6=4$
5 5 1 4

第9课时 10的加减法(二)

1. 10 10 7 10 3 7 7 10 9 1 9 10 2 4 1
5 10 10 8 3 4 6 4 8 3 9 2 7 1 9
2. $3+7=10$
+ + + - +

第10课时 连加

1. 9 9 10 10 10 10 10 7 9 8 9 6 10 10
6 6 10 8 8 4 7 10 8 7 9 7 7 9 9 9
2. $4+4+2=10$
7 6 4 3

第11课时 连减

1. 5 4 2 3 1 5 2 2 5 4 1 0 3 1 1 2
1 1 5 1 2 0 5 4 1 6 3 1 1 1 6 2
1
2. $9-3-4=2$
9 9 10 2 9 2

第12课时 加减混合运算(一)

1. 5 5 7 6 6 7 4 4 1 5 8 9 10 7 10 9
9 9 7 10 10 10 9 5 1 3 0 2 3 0
2. $6-3+6=9$
4 4 5 2 4

第13课时 加减混合运算(二)

1. 3 1 10 5 5 5 8 8 3 4 9 6 5 1 4 10
10 4 3 6 6 1 8 5 7 7 9 8 6 3 6 6
3
2. $2+2+4=8$
+ + - - + + + + - -

第14课时 我们身边的数

1. 2 3 8 4 6 3 5 9 3 5 0 4 3 10 5 3
1 8 9 3 6 5 6 4 1 4 3 4 6 2 8 8
8
2. $4+5-1=8$
> < = < >

第15课时 整理与复习(一)

1. 8 8 10 10 2 0 5 7 7 9 3 9 3 1 8 9
8 5 4 8 4 2 2 8 6 1 1 9 2 5 7 8
8
2. $10-3=7$
3 2 7 2 4

第16课时 整理与复习(二)

1. 1 3 3 10 8 8 1 6 3 7 6 0 7 9 5 3
5 8 3 8 8 10 0 2 9 5 5 5 9 2 4 8
7
2. $9-1-2=6$
- + + - -

第17课时 单元口算综合测试

1. 8 5 9 8 7 3 10 9 6 7 1 1 7 0 9 9
5 3 5 2 0 7 6 6 5 5 5 1 6 3 0 5
2
2. $10-4-2=4$
+ - - - +

三分一分 认识图形

第1课时 分一分

1. 1 5 0 8 9 10 7 2 3 6 1 9 10 4 2 1
8 10 9 6 10 7 1 7 2 9 2 10 9 5 2
7 5
2. $4+1=5$ $4+5=9$
7 2 5 3 8

第2课时 认识图形

1. 2 3 3 1 0 6 2 5 1 9 6 8 10 8 3 3
2 7 7 4 5 4 4 8 6 8 6 8 3 9 8 1
0
2. $6-2+4=8$
(1)a b (2)c e (3)f (4)d

第3课时 整理与复习

1. 8 8 8 7 3 3 7 4 9 8 2 1 6 6 10 9



0 1 10 9 4 4 0 1 2 8 10 4 1 1 10
9 9

2. $2+4+4=10$

> > > < >

第4课时 单元口算综合测试

1. 3 4 4 5 4 2 5 1 5 3 3 2 3 2 1 8
1 4 8 5 6 0 0 4 1 4 8 3 1 4 2 1
2

2. $4+5=9$

5 5 2 2 3

四 11~20 各数的认识

第1课时 认识 11~20 各数(一)

1. 3 5 1 4 1 3 8 7 4 1 10 6 6 2 9 9
10 0 8 1 7 10 4 2 5 1 1 8 8 6 3 4
5

3. $9-3=6$

7 4 6 6 5

第2课时 认识 11~20 各数(二)

1. 7 6 4 5 1 5 2 9 3 1 6 7 10 9 3 4
6 4 5 0 10 10 2 4 3 3 9 8 9 1 3 7
2

2. $10+6=16$

(1)个 十 (2)20

第3课时 不进位加法

1. 16 18 19 17 15 20 16 15 18 18 19 19
15 12 17 17 16 19 14 14 19 17 19 16
12 16 18 17 16 19 11 15 16

2. $13+6=19$

(1)11 (2)18 (3)2个一 1个十

第4课时 不退位减法

1. 14 10 15 10 14 12 16 14 12 8 12 17
10 13 11 10 11 10 11 16 15 6 11 10
11 14 12 11 10 13 3 14 9

2. $20-8=12$

8 2 16 10

第5课时 加减混合运算(一)

1. 14 14 16 19 19 15 11 1 2 16 11 3 12
10 11 18 15 10 2 6 13 11 10 7 16 14
12 15 3 7 11 13 15

2. $14-3+2=13$

= > < < =

第6课时 加减混合运算(二)

1. 13 17 11 11 13 13 14 11 12 10 16 12
17 14 14 12 13 15 14 15 10 18 11 12
10 8 11 12 2 1 12 15 6

2. $18-6+4=16$

= > < > >

第7课时 整理与复习(一)

1. 16 18 5 16 11 14 19 11 10 17 17 1 10

14 11 15 15 12 11 16 10 18 15 14 15
16 16 17 11 11 11 10 15

2. $18-5=13$

(1)1 7 (2)14 (3)13 14

第8课时 整理与复习(二)

1. 17 13 10 11 15 11 19 17 15 13 19 18
14 13 11 13 18 19 19 11 16 18 17 10
10 11 11 13 11 14 16 16 15

2. $18-6=12$

= < = < >

第9课时 单元口算综合测试

1. 10 2 10 11 12 4 15 8 14 10 14 13 12
12 10 8 11 11 15 17 12 5 11 14 16 11
13 15 11 14 13 13 10

2. $10+5=15$

9 7 10 11 12

五 20 以内的进位加法

第1课时 9 加几(一)

1. 20 17 9 10 13 11 12 14 12 19 15 18 7
13 10 7 13 18 9 14 19 9 10 17 4 9
17 11 10 19 11 11 20

2. $4+7=11$

15 12 13 11

第2课时 9 加几(二)

1. 12 14 10 16 17 10 7 12 1 11 10 3 18
14 10 13 12 11 6 1 15 4 4 6 1 18 19
8 16 12

2. (1)8 6 14 $8+6=14$ (2)6 10 $10+6=16$

2 3 7 9 6

第3课时 8 加几(一)

1. 14 16 18 20 8 6 15 12 13 19 11 9 8
7 6 13 3 2 17 15 11 2 11 17 8 8 10
0 15 12 1 13 13

2. $5+9=14$

< > < < =

第4课时 8 加几(二)

1. 12 10 10 11 16 13 14 18 15 17 13 10
15 15 14 16 11 14 7 19 6 6 8 11 3
11 3 2 14 4 10 10 1

3. $8+4=12$

8 6 8 8 9

第5课时 7,6 加几(一)

1. 12 12 8 14 18 19 10 15 13 15 18 17 7
4 11 10 14 1 11 8 16 3 18 0 7 3 2
2 6 7 16 7 6

2. $6+8=14$

6 7 14 6

第6课时 7,6 加几(二)

1. 9 7 6 4 11 13 8 3 0 11 7 8 9 1 7



2 12 17 10 16 3 4 10 6 11 10 16 12
6 17 14 17 16

2. $9+9=18$

> > < = <

第7课时 整理与复习

1. 12 11 17 14 13 9 12 10 10 11 8 4 17
18 13 18 18 12 11 18 12 15 9 10 12
13 10 9 19 10 14 16 2

2. $6+8=14$

+ - + - +

第8课时 单元口算综合测试

1. 12 17 10 16 10 19 16 15 13 13 18 15
13 8 11 11 17 8 14 16 7 12 11 19 10
18 12 16 10 17

2. $7+9=16$

0 4 8 9 10

六 20 以内的退位减法

第1课时 11 减几

1. 2 9 7 6 5 4 3 8 1 11 10 11 14 19
11 11 12 16 12 11 10 15 13 11 10 18
12 11 14 15 19 10 17

2. $16-9=7$

(1) 2 1 10 1 (2) 6 1 10 5

第2课时 12,13 减几(一)

1. 9 8 10 5 5 6 2 7 11 4 7 11 12 3 13
10 13 8 12 13 7 12 9 11 4 12 8 13 3
14 6 12 16

2. $15-5=10$

9 11 10 11 16

第3课时 12,13 减几(二)

1. 3 15 12 10 12 18 15 1 11 3 5 13 6 4
13 9 7 12 5 8 17 13 16 12 13 10 11
13 10 13 12 16 13

2. $12-6=6$

- - + - 或 + -

第4课时 14,15 减几(一)

1. 13 6 15 9 12 9 5 7 12 9 10 7 7 6
11 4 2 7 4 12 7 9 16 4 9 11 17 11
18 12 14 4 16

3. $13-8=5$

10 10 7 10 8

第5课时 14,15 减几(二)

1. 11 9 5 4 13 14 14 11 3 10 11 10 7 8
8 5 8 14 13 8 8 10 10 10 14 7 12 12
10 16

2. $18-5-7=6$

14 15 9 8 4

第6课时 16,17,18 减几(一)

1. 9 13 8 7 8 9 14 10 7 9 10 12 5 6 6

9 18 8 11 16 16 3 19 16 9 9 17 11
18 16 16 15 11

2. $18-5=13$

8 10 9 9

第7课时 16,17,18 减几(二)

1. 13 9 17 15 16 14 9 9 10 9 7 11 9 16
11 14 17 15 8 15 11 10 15 9 8 11 10
13 16 19 11 10 10

2. $13+5=18$

= < > > <

第8课时 整理与复习

1. 11 18 11 20 7 16 11 11 7 10 12 12 5
9 10 10 9 8 10 11 8 10 12 9 9 9 8
10 9 10 11 17 11

2. $18-5=13$

- - + - +

第9课时 单元口算综合测试

1. 8 7 7 9 6 5 16 5 9 11 9 11 9 8 9
7 6 2 5 6 7 9 13 10 10 16 9 0 15 6
9 13 4

2. $12-8=4$

9 8 15 12

七 总复习

总复习

1. 2 8 9 10 10 8 7 2 14 7 16 6 4 15
12 3 18 6 1 9 4 0 14 5 17 3 9 12 8
9 7 9 12

2. $19-8=11$

4 4 8 13 11

奥数题

1. 芳芳给晶晶3朵花,两人的花就同样多。
2. 白皮球: $5+10=15$ (个) 花皮球: $5+5=10$ (个)
3. $9+6=15$ (个)
4. $5+4-6=3$ (条)
5. $2+2=4$ (张)
6. $8+8=16$ (名)
7. $5+6=11$ (支)
8. $8+4=12$ (块)
9. $8+7+1=16$ (个)
10. $9+5-2=12$ (本)
11. $9+9=18$ (人)
12. $2+2=4$ (个)
13. $5+4=9$ (个)
14. $5-2=3$ (棵) $1+5+3=9$ (棵)
15. $12-3-5=4$ (只)
16. $1+1+3=5$ (只)
17. $1+1+2=4$ (千米)
18. $9-5=4$ (支)
19. $10-3+7=14$ (只)
20. $12-8+12=16$ (个)

责任编辑：程 佩

封面设计：

快 ☆ 乐 ☆ 之 ☆ 星



口算心算速算与应用题



定价：30.00元

关注微信公众号“小考教辅站”获取更多小学教辅资料