

教辅资料站

电子教辅 试卷练习
知识总结 备课资源



中国品牌创新发展工程 推荐品牌

—— 扫码关注获取更多学习资料 ——



荣德基 主编



星级口算 天天练

一年级 数学 上 (BS版)



时代出版传媒股份有限公司
安徽教育出版社



扫码判对错

常规好题 题题好 变式妙题 道道妙




荣德基 主编

星级口算 天天练

一年级 数学上 (BS 版)

本册主编: 李晓江



学 校:

班 级:

姓 名:

喜欢的格言:

ARTIME
时代出版

时代出版传媒股份有限公司
安徽教育出版社

目 录

第一单元 生活中的数

练习1 快乐的家园	1
练习2 玩具	2
练习3 小猫钓鱼	3
练习4 文具	4
练习5 快乐的午餐	5
练习6 动物乐园	6
第一单元口算能力测试	7



第二单元 比较

练习1 过生日	8
练习2 下课啦	9
练习3 跷跷板	10
第二单元口算能力测试	11



第三单元 加与减（一）

练习1 一共有多少	12
练习2 习题课	13
练习3 还剩下多少	14
练习4 可爱的小猫	15
练习5 习题课	16
练习6 猜数游戏	17
练习7 背土豆	18
练习8 习题课	19
练习9 跳绳	20
练习10 可爱的企鹅	21
练习11 习题课	22





练习 12	小鸡吃食	23
练习 13	乘车（一）	24
练习 14	乘车（二）	25
练习 15	习题课	26
练习 16	做个加法表	27
练习 17	做个减法表	28
练习 18	整理与复习（一）	29
练习 19	整理与复习（二）	30
第三单元口算能力测试	31

第四单元 分类




练习 1	整理房间	32
练习 2	一起来分类	33
第四单元口算能力测试	34

第五单元 位置与顺序

练习 1	前后	35
练习 2	上下	36
练习 3	左右	37
练习 4	教室	38
第五单元口算能力测试	39

第六单元 认识图形

练习 1	认识图形	40
练习 2	我说你做	41
第六单元口算能力测试	42





第七单元 加与减(二)

练习1 古人计数	43
练习2 习题课	44
练习3 搭积木	45
练习4 习题课	46
练习5 有几瓶牛奶	47
练习6 习题课	48
练习7 有几棵树	49
练习8 习题课	50
练习9 有几只小鸟	51
练习10 习题课	52
练习11 做个加法表	53
第七单元口算能力测试	54



第八单元 认识钟表

练习1 小明的一天	55
第八单元口算能力测试	56

$$3+2=$$



总复习

练习1 生活中的数	57
练习2 比较	58
练习3 加与减(一)	59
练习4 分类	60
练习5 位置与顺序	61
练习6 认识图形	62
练习7 加与减(二)	63
练习8 认识钟表	64

口算能力期末综合测评(一)	65
口算能力期末综合测评(二)	66
参考答案	67

微信公众号
教辅资料站



第一单元 生活中的数

难易等级：



练习1 快乐的家园


用时：___分___秒 错误：___个

A组 常规口算题

◆ 看数字，圈图形。

9	3
7	8
4	5
6	2

◆ 连一连。



9




3



4



2



8



1



6

5

B组 变式口算题

看图圈数。

1 2 3 4 5	4 5 6 7 8	6 7 8 9 10	6 7 8 9 10	5 6 7 8 9

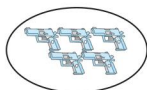


练习2 玩具

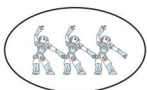
用时: ____ 分 ____ 秒 错误: ____ 个

A组 常规口算题

◆ 数一数,画一画,写一写。



()



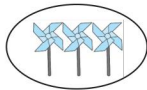
()



()



()



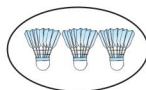
()



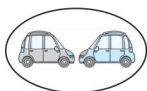
()



()



()



()



()



()

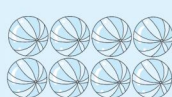


()



B组 变式口算题

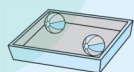
1. 数一数,填一填,并在下列相应个数的○里涂色。
2. 写数。(数出盒子里皮球的个数,并将数出的结果写在括号里)



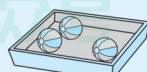
()



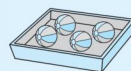
()



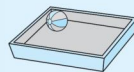
()



()



()



()




练习3 小猫钓鱼

用时：___分___秒 错误：___个

A组 常规口算题

◆ 数一数，连一连。



◆ 数一数，涂一涂。

4 个涂色

2 个涂色

0 个涂色

1 个涂色

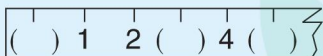
5 个涂色

3 个涂色

2 个不涂色

B组 变式口算题

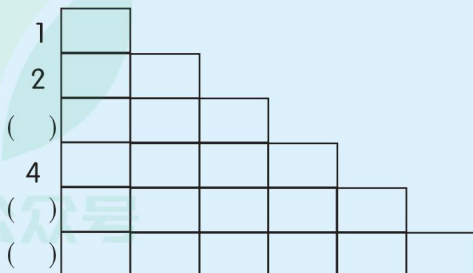
1. 填一填。



2. 连一连。(按 0-5 的顺序连)

4
1 2
0 3
5

3. 数格子填数。



练习4 文具

用时: ___ 分 ___ 秒 错误: ___ 个

A组 常规口算题

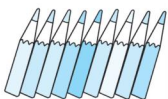
◆ 数一数,将正确的答案圈起来。



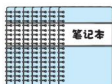
(4 5 6)



(3 4 5)



(8 9 10)




(6 7 8)



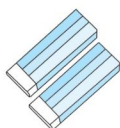
(8 9 10)



(7 8 9)



(4 5 6)



(2 3 4)

◆ 数一数,画“○”。



B组 变式口算题

认真数一数,接着往下画。

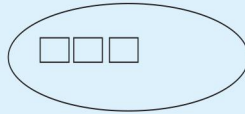
5



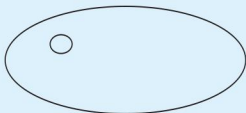
10



9



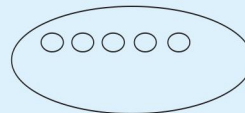
7



6



8





练习5 快乐的午餐

用时：__分__秒 错误：__个

A组 常规口算题

- ◆ 在多的后面画“√”。


☐

☐

☐

☐

- ◆ 在少的后面画“√”。


☐

☐

☐

☐

- ◆ 画一画。

画□, □和  一样多。



画○, ○比  少。



画△, △比  多。

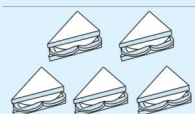


画□, □比  少。




B组 变式口算题

1. 在多的后面画“√”, 在少的后面画“○”。


☐

☐

2. 5个人吃饭, 能坐下吗? 能画“√”, 不能画“×”。



()

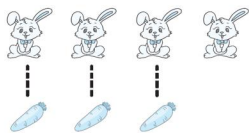


练习6 动物乐园


用时: ___ 分 ___ 秒 错误: ___ 个

A组 常规口算题

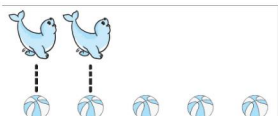
◆ 填上“>”“<”或“=”。




$$4 \bigcirc 3$$



$$5 \bigcirc 4$$



$$2 \bigcirc 5$$



$$4 \bigcirc 4$$

◆ 填上“>”“<”或“=”。

$$1 \bigcirc 3$$

$$2 \bigcirc 1$$

$$4 \bigcirc 6$$

$$1 \bigcirc 1$$

$$2 \bigcirc 2$$

$$4 \bigcirc 1$$

$$5 \bigcirc 2$$

$$1 \bigcirc 5$$

◆ 填一填。

$$\begin{array}{cc} 2 & 3 \\ \square & < \square \end{array}$$

$$\begin{array}{cc} \square & > \square \end{array}$$

$$\begin{array}{cc} 3 & 5 \\ \square & < \square \end{array}$$

$$\begin{array}{cc} \square & > \square \end{array}$$

$$\begin{array}{cc} 4 & 1 \\ \square & < \square \end{array}$$


$$\begin{array}{cc} \square & > \square \end{array}$$

$$\begin{array}{cc} 3 & 4 \\ \square & < \square \end{array}$$

$$\begin{array}{cc} \square & > \square \end{array}$$

B组 变式口算题

1. 填一填。



$$\square > \square$$



$$\square < \square$$

2. 填一填。

$$4 \quad 5$$

$$4 < \square$$

$$5 > \square$$

$$4 \quad 2$$

$$4 > \square$$

$$2 < \square$$



























第一单元口算能力测试

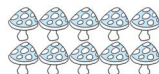
用时: ____ 分 ____ 秒 错误: ____ 个

A组 常规口算题

◆ 看数补画。


9	    
5	  
7	    
4	 
3	
2	
8	   
6	  

◆ 数一数,填一填。



B组 变式口算题

1. 你能把同样多的物体图和点子图用线连起来吗? 相信你能行!




2. 画○,○比△多3个。

△△△△

3. 画△,△比□少4个。

□□□□□□□□





口算脑算用心算

巧算速算不难算

荣德基官方网站:

<http://www.rudder.com.cn>

荣德基天猫旗舰店:

<http://rongdeji.tmall.com>

客服热线: 182 1039 5892



荣德基小学频道
获取最新教育资讯

ISBN 978-7-5336-8906-3



9 787533 689063 0 1 >

定价: 22.90元

关注微信公众号“教辅资料站”获取更多学习资料