

教辅资料站

电子教辅 试卷练习
知识总结 备课资源



中国品牌创新发展工程 推荐品牌

—— 扫码关注获取更多学习资料 ——



荣德基 主编



星级口算 天天练

一年级数学 上(JJ版)



时代出版传媒股份有限公司
安徽教育出版社



扫码判对错

常规好题 题题好 变式妙题 道道妙




荣德基 主编

星级口算 天天练

一年级 数学 上 (JJ版)

本册主编: 张 琳



学 校:

班 级:

姓 名:

喜欢的格言:

ARTIME
时代出版

时代出版传媒股份有限公司
安徽教育出版社

图书在版编目 (CIP) 数据

星级口算天天练. 一年级数学. 上 : JJ 版 / 荣德基
主编. — 合肥 : 安徽教育出版社, 2020. 5
ISBN 978-7-5336-9088-5

I. ①星… II. ①荣… III. ①速算—小学—习题集
IV. ①G624. 565

中国版本图书馆 CIP 数据核字 (2020) 第 044792 号

星级口算天天练·一年级数学上 (JJ 版)

XINGJI KOUSUAN TIAN TIAN LIAN · YI NIANJI SHUXUE SHANG (JJ BAN)

出 版 人: 费世平
质量总监: 武常春
责任编辑: 陈善军
责任校对: 牛 帅
装帧设计: 典点瑞泰
责任印制: 荣德印务

出版发行: 时代出版传媒股份有限公司 安徽教育出版社
地 址: 合肥市经开区繁华大道西路 398 号 邮编: 230601
网 址: <http://www.ahep.com.cn>
营销电话: (0551) 63683016, 63683015
排 版: 北京华艺优创文化发展有限公司
印 刷: 天津嘉杰印务有限公司

开 本: 787×1092 1/16
印 张: 5.5
字 数: 120 千字
版 次: 2020 年 5 月第 1 版 2020 年 5 月第 1 次印刷
定 价: 22.90 元

(如发现印装质量问题, 影响阅读, 请与本社营销部联系调换)

目 录



第一单元 比一比

练习1 比一比（高矮、长短）	1
练习2 比一比（大小、轻重）	2
第一单元口算能力测试	3



第二单元 10 以内数的认识

练习1 1~5 的认识	4
练习2 6~9 的认识	5
练习3 比多少	6
练习4 $> = <$ 的认识	7
练习5 0 的认识	8
练习6 10 的认识	9
练习7 几和第几	10
练习8 10 以内数的排列顺序	11
第二单元口算能力测试	12

第三单元 认识图形（一）

练习1 分一分	13
练习2 搭积木	14
第三单元口算能力测试	15

第四单元 合与分

练习1 6 以内数的合	16
练习2 7、8、9 的合与分	17
练习3 10 的合与分	18
第四单元口算能力测试	19

第五单元 10 以内的加法和减法

练习1 5 以内的加法（一）	20
练习2 5 以内的加法（二）	21



练习3	5 以内的减法	22
练习4	6、7 的加减法	23
练习5	习题课	24
练习6	8、9 的加减法	25
练习7	习题课	26
练习8	10 的加减法	27
练习9	0 的加减法	28
练习10	整理与复习(一)	29
练习11	整理与复习(二)	30
第五单元口算能力测试		31



第⑥单元 分 类

练习1	分类(一)	32
练习2	分类(二)	33
第六单元口算能力测试		34

第⑦单元 11~20 各数的认识

练习1	11~20 各数的认识	35
练习2	11~20 各数的组成	36
练习3	比较20 以内数的大小	37
第七单元口算能力测试		38

第⑧单元 20 以内的加法

练习1	10 加几和十几加几(不进位加)	39
练习2	9 加几	40
练习3	8 加几	41
练习4	7 加几和6 加几	42
练习5	习题课	43
练习6	连 加	44
练习7	整理与复习	45
第八单元口算能力测试		46

第九单元 20 以内的减法

练习 1	十几减几（不退位减）	47
练习 2	11 减几	48
练习 3	12 减几	49
练习 4	习题课	50
练习 5	13、14 减几	51
练习 6	习题课	52
练习 7	15、16、17、18 减几	53
练习 8	习题课	54
练习 9	连 减	55
练习 10	习题课	56

练习 11	加、减混合运算	57
练习 12	整理与复习	58
第九单元口算能力测试		59

第十单元 探索乐园

练习 1	找规律（一）	60
练习 2	找规律（二）	61
第十单元口算能力测试		62

整理与评价

练习 1	比一比	63
练习 2	10 以内数的认识	64
练习 3	认识图形（一）	65
练习 4	合与分	66
练习 5	10 以内的加法和减法	67
练习 6	分 类	68
练习 7	11~20 各数的认识	69
练习 8	20 以内的加法	70
练习 9	20 以内的减法	71
练习 10	探索乐园	72
口算能力期末综合测评（一）		73
口算能力期末综合测评（二）		74
参考答案		75

第一单元 比一比

难易等级：

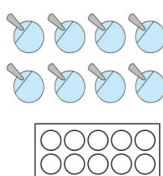

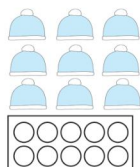

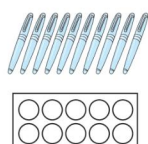


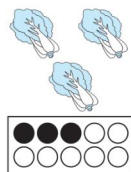


练习1 比一比（高矮、长短）

用时：___分___秒 错误：___个

A组 常规口算题

1. 数一数，照样子涂一涂。



2. 连一连。



6



9



3



4




2



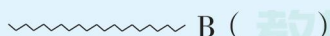
8

3. 数一数，把有正确答案的 圈起来。

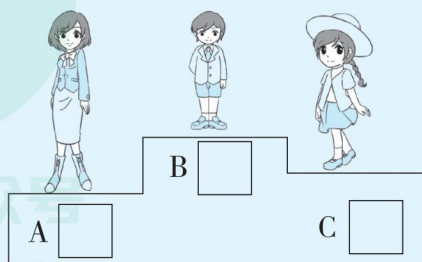


B组 变式口算题

1. 长的后面的()里画“√”，
短的后面的()里画“×”。



2. 长的最高的下面的“”里画“△”。



练习2 比一比 (大小、轻重)

用时: ____ 分 ____ 秒 错误: ____ 个

A组 常规口算题

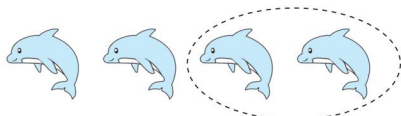
◆ 算一算,圈出有正确答案的心形。




$$2 + 2 = \begin{matrix} \heartsuit 3 \\ \heartsuit 4 \end{matrix}$$




$$3 + 2 = \begin{matrix} \heartsuit 5 \\ \heartsuit 6 \end{matrix}$$




$$4 - 2 = \begin{matrix} \heartsuit 4 \\ \heartsuit 2 \end{matrix}$$



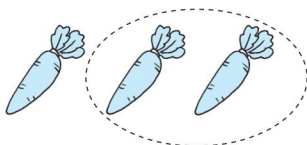
$$5 - 3 = \begin{matrix} \heartsuit 3 \\ \heartsuit 2 \end{matrix}$$




$$2 + 1 = \begin{matrix} \heartsuit 3 \\ \heartsuit 4 \end{matrix}$$



$$1 + 3 = \begin{matrix} \heartsuit 3 \\ \heartsuit 4 \end{matrix}$$



$$3 - 2 = \begin{matrix} \heartsuit 2 \\ \heartsuit 1 \end{matrix}$$



$$4 - 1 = \begin{matrix} \heartsuit 5 \\ \heartsuit 3 \end{matrix}$$

B组 变式口算题

1. 在小的下面的()里画“☆”。

(1)



()



()

(2)



()



()

2. 最重的下面的“□”里画“√”，

最轻的下面的“□”里画“○”。



□



□



□




第一单元口算能力测试

用时: ____ 分 ____ 秒 错误: ____ 个

A组 常规口算题

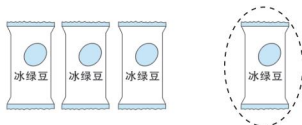
◆ 算一算,圈出有正确答案的心形。



$4 + 1 =$ ☐ 5 ☐ 6




$2 + 3 =$ ☐ 6 ☐ 5




$4 - 1 =$ ☐ 3 ☐ 4



$5 - 1 =$ ☐ 4 ☐ 3



$3 + 2 =$ ☐ 5 ☐ 4



$2 + 2 =$ ☐ 4 ☐ 3



$5 - 4 =$ ☐ 2 ☐ 1



$5 - 3 =$ ☐ 2 ☐ 3

B组 变式口算题

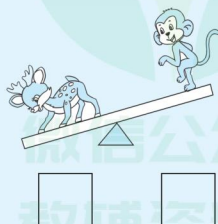
根据问题在 ☐ 里画“√”。

1. 谁高些?




☐ ☐

2. 谁重些?



☐ ☐

3. (易错题) 哪团线长些?



☐ ☐

第二单元 10以内数的认识

难易等级：


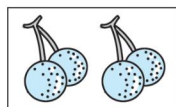
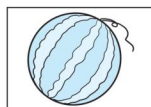
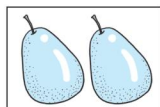


练习1 1~5 的认识

用时：___分___秒 错误：___个

A组 常规口算题

1. 看图写数。


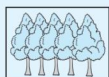


2. 看数圈一圈。

5	
3	
2	
4	

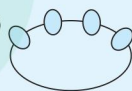
B组 变式口算题

1. 连一连。

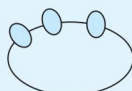


2. 每串有 5 个珠子，请你画出缺少的珠子。

(1)



(2)



(3)



(4)



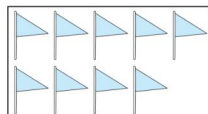
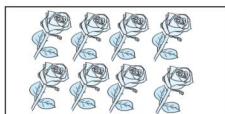
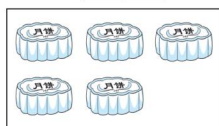
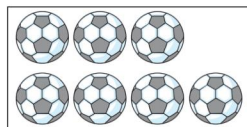

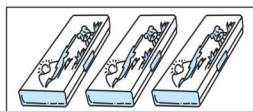


练习2 6~9的认识

用时: ___分___秒 错误: ___个

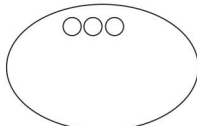
A组 常规口算题

1. 看图写数。

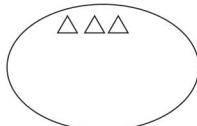


2. 看数继续画。

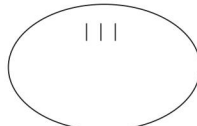
9



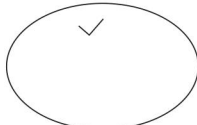
7



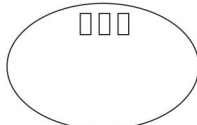
5



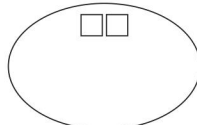
4



8



6



B组 变式口算题

1. 连一连。



2. 看数圈一圈。

6

8

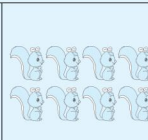
5

9

9




6



7



8




练习3 比多少

用时: ___ 分 ___ 秒

错误: ___ 个

A组 常规口算题


1. 在多的后面的“☐”里画“√”。



2. 在少的后面的“☐”里画“√”。



3. 圈一圈。



 比  (多, 少)

 比  (多, 少)

 比  (多, 少)

4. 按要求画一画。

(1) 画△, 要比□少3个。



(2) 画○, 要比□多1个。

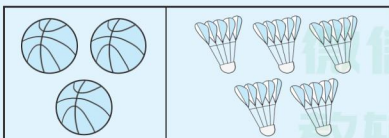
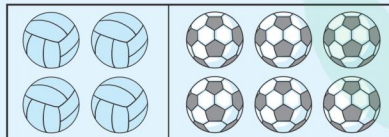


(3) 画♥, 要和☆同样多。



B组 变式口算题

1. 在下面两组图中, 把与左边同样多的部分圈起来。



2. 每个小朋友分一个苹果, 够吗? 想一想, 怎么办呢?





练习4 > = < 的认识

用时: ____ 分 ____ 秒 错误: ____ 个

A组 常规口算题



$$4 \bigcirc 3$$



$$5 \bigcirc 4$$



$$2 \bigcirc 5$$



$$4 \bigcirc 4$$

◆ 填上“>”“<”或“=”。

$$4 \bigcirc 2$$

$$1 \bigcirc 3$$

$$4 \bigcirc 4$$

$$3 \bigcirc 5$$

$$2 \bigcirc 1$$

$$4 \bigcirc 5$$

$$1 \bigcirc 1$$

$$3 \bigcirc 4$$

$$2 \bigcirc 2$$

$$4 \bigcirc 1$$

$$3 \bigcirc 2$$

$$5 \bigcirc 2$$

$$1 \bigcirc 5$$

◆ 填一填。

$$2 \quad 3$$

$$\square < \square$$

$$\square > \square$$

$$3 \quad 5$$

$$\square < \square$$

$$\square > \square$$

$$4 \quad 1$$

$$\square < \square$$

$$\square > \square$$

$$3 \quad 4$$

$$\square < \square$$

$$\square > \square$$

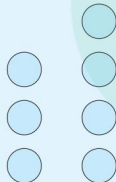
B组 变式口算题

1. 比大小。



$$\square > \square$$

2. 填一填。



$$\square < \square$$



$$4 < \square$$

$$5 > \square$$



$$4 > \square$$

$$2 < \square$$




练习5 0 的认识

用时: ___ 分 ___ 秒

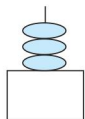
错误: ___ 个

A组 常规口算题

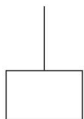
1. 看图写数。



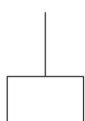
2. 看数画珠子。



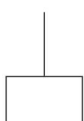
3



5



0



7

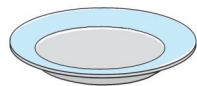
3. 数一数,连一连。



4




7



8




6



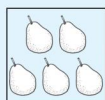
0

B组 变式口算题

1. 看数涂一涂。




3



0



5



2

2. 你能根据点子卡的顺序,用数字写出红红的电话号码吗?



红红的电话号码是 _____。

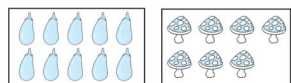
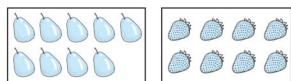


练习6 10的认识


用时: ___分___秒 错误: ___个

A组 常规口算题

1. 看图写数。



2. 把下面的物品数出 10 个用笔圈起来。



◆ 比一比。

$$8 \bigcirc 7$$

$$4 \bigcirc 6$$

$$5 \bigcirc 3$$

$$7 \bigcirc 5$$

$$9 \bigcirc 4$$

$$6 \bigcirc 7$$

$$5 \bigcirc 9$$

$$6 \bigcirc 8$$

$$3 \bigcirc 7$$

$$8 \bigcirc 2$$

$$6 \bigcirc 4$$

$$7 \bigcirc 6$$

$$1 \bigcirc 8$$

◆ 在 里填一个合适数。

$$8 > \square$$

$$7 < \square$$

$$6 > \square$$

$$4 < \square$$

$$5 > \square$$

$$\square > 6$$

$$\square < 4$$

$$\square > 3$$

$$\square < 9$$

$$\square > 7$$

$$\square < 3$$

$$\square < 8$$

$$\square = 5$$

B组 变式口算题

1. 数一数,连一连。

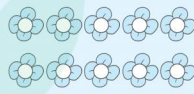


7

9

10

2. 看图圈数。




5 8 10



8 7 9



7 9 8



10 6 9

微信公众号
教辅资料站

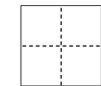


练习7 几和第几

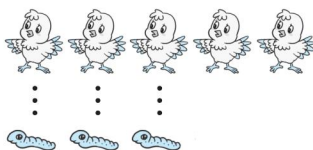
用时: ___ 分 ___ 秒 错误: ___ 个

A组 常规口算题


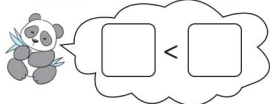
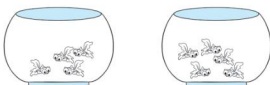

◆ 看图写数。



◆ 比大小。



5 ○ 3



◆ 填上“>”“<”或“=”。

10 ○ 8

6 ○ 10

9 ○ 5

8 ○ 3

2 ○ 3

7 ○ 9

8 ○ 4

5 ○ 6

10 ○ 10

5 ○ 1

7 ○ 8

2 ○ 0

B组 变式口算题

1. 照样子,涂一涂。

第2个	
第4个	
第5个	
第3个	

2. 填一填。



(1) 一共有()只动物。

(2) 从左数 排第()个,

排第()个。

(3) 从左数排第()个,
从右数排第()个。



练习8 10以内数的排列顺序

用时：___分___秒

错误：___个

个

A组 常规口算题

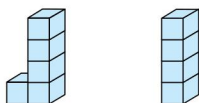
◆ 比一比，填一填。



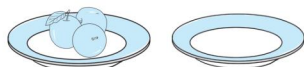
○



○



○



○

◆ 填上“>”“<”或“=”。

3 ○ 3

4 ○ 1

2 ○ 3

5 ○ 8

9 ○ 0

6 ○ 5

1 ○ 0

0 ○ 5

7 ○ 6

5 ○ 2

10 ○ 4

1 ○ 2

◆ 在 里填一个合适数。

2 >

9 <

10 >

8 <

7 >

2 <

> 6

< 6

> 9

> 2

< 1

> 5

B组 变式口算题

1. 想一想，填一填。


2 7 4 10 9

(1) 一共有()张数字卡片。最大的数是()，最小的数是()。

(2) 你能比较它们的大小吗？动手排一排吧！

> > > >

2. 按数字顺序一笔画。



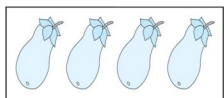
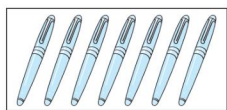
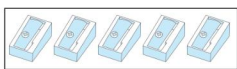
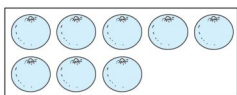
第二单元口算能力测试

用时: ___ 分 ___ 秒

错误: ___ 个

A组 常规口算题

◆ 看图写数。



◆ 比较大小。

$6 \bigcirc 2$

$3 \bigcirc 3$

$3 \bigcirc 6$

$0 \bigcirc 5$

$7 \bigcirc 3$

$4 \bigcirc 8$

$5 \bigcirc 4$

$8 \bigcirc 10$

$4 \bigcirc 3$

$9 \bigcirc 10$

$2 \bigcirc 4$

$7 \bigcirc 7$

◆ 在 里填一个合适的数。

$\square > 6$

$\square < 8$

$8 > \square$

$3 > \square$

$2 > \square$

$\square > 9$

$5 < \square$

$9 > \square$

$7 < \square$

$\square < 5$

$0 < \square$

$4 > \square$

B组 变式口算题

1. 根据左边的数字,看看还缺几个,把它们画完整。

$7 \triangle \underline{\hspace{2cm}}$

$5 \bigcirc \bigcirc \underline{\hspace{2cm}}$

$4 \triangle \triangle \triangle \underline{\hspace{2cm}}$

$8 \square \underline{\hspace{2cm}}$

2. 填一填。



() 号是第一名, () 号是第三名, 5 号是第 () 名, 4 号是第 () 名。

第三单元 认识图形（一）

难易等级：




练习1 分一分


用时：___分___秒 错误：___个

A组 常规口算题

◆ 看图算数。



$$3 + 2 = (\quad)$$



$$4 + 1 = (\quad)$$



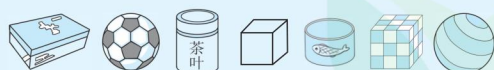
$$2 + 2 = (\quad)$$



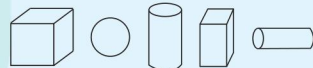
$$1 + 2 = (\quad)$$

B组 变式口算题

1. 好朋友，手拉手。



2. 动脑筋，填一填。



从左边起，第()个是○，

从右边起，是第()

个，有()个，有()

个.



练习2 搭积木

用时: ___ 分 ___ 秒

错误: ___ 个

A组 常规口算题


◆ 看图填数。




$$3 + 2 = \square$$



$$4 + 3 = \square$$



$$4 - 2 = \square$$



$$5 - 3 = \square$$



$$6 + \square = 8$$



$$5 - 2 = \square$$

◆ 比较大小。

$$8 \bigcirc 7$$

$$7 \bigcirc 9$$

$$10 \bigcirc 2$$

$$8 \bigcirc 3$$

$$0 \bigcirc 5$$

$$7 \bigcirc 7$$

$$6 \bigcirc 8$$

$$9 \bigcirc 4$$

$$3 \bigcirc 1$$

$$5 \bigcirc 9$$

$$10 \bigcirc 9$$

$$8 \bigcirc 8$$

◆ 在 \square 里填上一个合适的数。

$$7 > \square$$

$$\square < 10$$

$$\square > 4$$

$$9 < \square$$

$$\square < 5$$

$$8 < \square$$

$$4 > \square$$

$$5 < \square$$

$$\square < 9$$

$$\square < 1$$


$$0 < \square$$

B组 变式口算题

1. 哪个能站稳? 能站稳的画“√”, 不能站稳的画“×”。



()



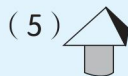
()



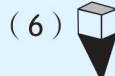
()



()



()



()

2. 动脑筋, 填一填。

容易滚动的是()和()。

不易滚动, 只能推动的是()

和()。



①

②

③

④



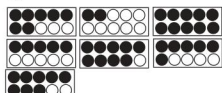
参考答案

第一单元

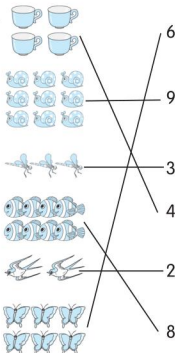
练习1(第1页)

A组

1.



2.



3. 4 5

B组

1. (1) A(√)
B(×)

(2) A(×)
B(√)

2. A ☐ B ☐ C ☐

练习2(第2页)

A组

4 3
5 4
2 1
2 3

B组

1. (1) () (☆)
(2) () (☆)

2. ☐ ☒ ☐

第一单元口算能力测试

(第3页)

A组

5 5
5 4
3 1
4 2

B组

1. ☐ ☒
2. ☒ ☐
3. ☒ ☐

第二单元

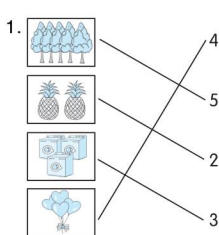
练习1(第4页)

A组

1. ☐ ☐ ☐ ☐ ☐

2. 略。

B组



2. (1) 画1个

(2) 画2个

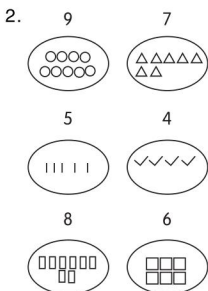
(3) 画3个

(4) 画4个


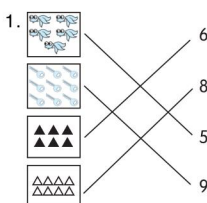
练习2(第5页)

A组

1. ☐ ☐ ☐ ☐ ☐ ☐



B组



练习3(第6页)

A组

1. (1) 选香蕉
(2) 选猴子
2. (1) 选梨 多
(2) 选樱桃
3. 少 多 多
4. (1) $\triangle \triangle \triangle$
(2) $\bigcirc \bigcirc \bigcirc \bigcirc \bigcirc$
(3) $\heartsuit \heartsuit \heartsuit \heartsuit \heartsuit$

B组

1. 略。
2. 不够, 可以再加2个苹果。

练习4(第7页)

A组

$>$ $>$ $2 < 3$
 $>$ $<$ $3 > 2$
 $<$ $=$ $3 < 5$
 $=$ $<$ $5 > 3$
 $>$ $1 < 4$
 $<$ $4 > 1$
 $=$ $3 < 4$
 $<$ $4 > 3$
 $=$
 $>$
 $>$
 $>$
 $<$

B组

1. $5 > 3$ $3 < 4$
2. 5 2 4 4

练习5(第8页)

A组

1. ☐ ☐ ☐ ☐



3. 略。

B组

1. 略。
2. 3502809

练习6(第9页)

A组

1. ☐ ☐ ☐ ☐

2. 略。

$>$ 7
 $<$ 8
 $>$ 5
 $>$ 6
 $>$ 4
 $<$ 9
 $<$ 3
 $<$ 4
 $<$ 6
 $>$ 9
 $>$ 1
 $>$ 7
 $<$ 5

此列答案不唯一

B组

1. 略。 2. 10 8
7 9

练习7(第10页)

A组

☐ $5 > 3$ $>$
☐ $4 > 3$ $<$
☐ $4 < 5$ $>$
☐ $2 = 2$ $>$
☐
 $<$
 $<$
 $<$
 $=$
 $>$
 $<$
 $<$



B 组

1. 略。

2. (1)5 (2)1 4 (3)2 4

练习 8 (第 11 页)


A 组

3 < 4 = 1
0 < 4 > 10
5 > 4 < 8
3 > 0 < 9
> 6
> 4
> 7
< 1
> 10
> 8
> 0
< 7

此列答案不唯一

B 组

1. (1)5 10 2
(2)10 > 9 > 7 > 4 > 2



第二单元口算能力测试 (第 12 页)

A 组

8 > 9
5 = 3
7 < 7
4 < 1
> 1
< 10
> 6
< 5
> 8
< 4
< 6
= 3

此列答案不唯一

B 组

1. 略。

2. 2 3 二 五

第三单元

练习 1 (第 13 页)

A 组

3 5

5 5
4 4
5 3
2
4

B 组

1. 略。 2. 2 5 2 1

练习 2 (第 14 页)

A 组

5 > 5
7 < 2
2 > 5
2 > 10
2 < 2
3 = 10
< 3
> 7
> 8
< 0
> 2
= 此列答案不唯一

B 组

1. (1)(×) (2)(√)
(3)(×) (4)(√)
(5)(√) (6)(×)
2. ② ④ ① ③

第三单元口算能力测试 (第 15 页)

A 组

4 5
3 5
2 2
3 4
1 4

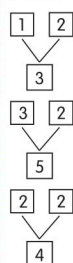
B 组

1. 6 4 4 3
2. 3 4 5 5

第四单元

练习 1 (第 16 页)

A 组



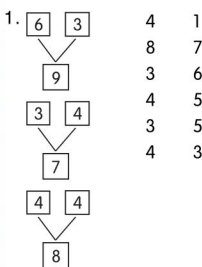
3 3
1 6
2 5
6 1 2 (答案不唯一)
2 1 4 (答案不唯一)
2 3

B 组

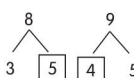
1. 5 1 4 3
2. 5 4 1 2 3 1
3. 2 4
4 3
1 2
3 1

练习 2 (第 17 页)

A 组

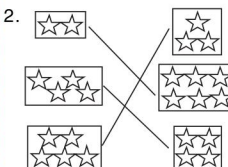


2. 画略。



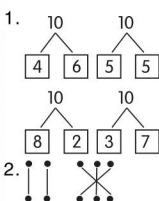
B 组

1. 略。



练习 3 (第 18 页)

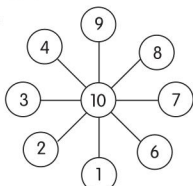
A 组



3. 8 3
5 2 4 2 (答案不唯一)
1 6 4 (答案不唯一)
5 7
2 3 4

B 组

1.



2. 5 8 4 6 7

第四单元口算能力测试 (第 19 页)

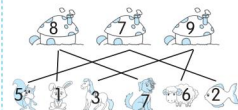
A 组

7 2 5 9
3 6 8 3
6 9 3 2
10 7 4 2
5 7 3 6
7 1 3 7

B 组

1.	3	5	4	6	7	1	2
8	5	3	4	2	1	7	6
9	7	3	4	2	1	8	5
	2	6	5	7	8	1	4

2.



第五单元

练习 1 (第 20 页)

A 组

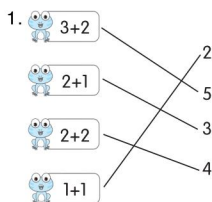
4 2 2
5 5 2
2 3 3 1
2 4 4 3
5 1
5 1
3 2
4 1
4 3
5 1
> 2
> 2
> 4
< 1
3

请沿此虚线裁剪下使用





B 组



2. $3+1=4$ $2+1=3$
 $1+3=4$ $4+1=5$

练习2(第21页)

A 组

5	<	1
5	<	3
3	>	2
3	3	2
4	5	3
5	4	4
5	3	3
5	5	1
5	5	1
2	1	
4	2	
4	2	
5	1	
	2	
	4	

B 组

$3+2=5$ $2+3=5$
 $1+3=4$ $3+1=4$

练习3(第22页)

A 组

1	5	5
1	2	2
5-2=3	1	2
5-3=2	5	1
3-2=1	1	5
	3	1
	1	1
	3	4
	1	5
	4	2
	2	5
	4	3
	2	4
	3	4
	4	3

B 组

1. $3+2=5$ $4-1=3$
 2.

4	1
1	4
2	3
3	2

5	-	4	=	1
2		3		
3		2		

练习4(第23页)

A 组

5	6	>	7
5	3	<	6
7	2	<	3
5	3	>	2
5	7	=	5
6	7	<	4
3	6	=	5
3	1	<	4
7	7	=	2
3	4	=	3
3	1	>	3
1	2	<	3
6	6	=	6
1	4	=	3
5	2	=	6
1	2	=	2

B 组

1. $4+3=7$ $3+4=7$
 $7-3=4$ $7-4=3$
 2.

1	2	3	4	5
6	1	5	2	4

练习5(第24页)

A 组

2	1	<	+
7	4	>	-
5	4	>	+
5	1	<	-
4	1	>	-
6	4	<	-
4	1	>	+
1	3	>	-
3	3	=	+
5	2	>	+
2	2	>	-
1	3	>	-
7	6		
7	7		
5	6		
7	6		

B 组

1.

2	5
4	3
1	6
5	2
3	4

 $7-1=6$

2.

1+5	7	7-2	4
5-3	4	4+3	6
2+5	6	5-2	5
6-3	2	3+3	3
6-2	3	1+3	7

练习6(第25页)

A 组

8	7	<	6
8	8	>	8
6	9	<	9
5	1	=	4
1	9	<	4
6	9	>	8
8	4	<	8
4	6	=	9
7	3	>	2
9	5	>	9
9	3	<	1
5	2	=	5
2	9	=	2
7	2	=	2
1	8	=	7

B 组

$5+4=9$ $5+3=8$
 $4+5=9$ $3+5=8$
 $9-4=5$ $8-3=5$
 $9-5=4$ $8-5=3$

练习7(第26页)

A 组

8	5	<	6
2	2	>	2
5	3	>	9
7	1	=	5
8	9	>	8
8	7	<	7
8	5	<	5
6	9	=	4
5	9	<	8
1	4	>	6
6	6	<	5
9	2	<	9
4	3	=	2
7	2	=	2
9	9	=	8

B 组

$8-2=6$
 $8-4=4$
 $9-3=6$

练习8(第27页)

A 组

9	9	<	1
8	8	>	5
6	4	>	10
5	10	>	8
1	4	=	3
10	8	>	7
10	2	<	4
6	7	>	3
9	1	<	7

10	10	<	8
8	7	<	7
7	6	<	6
10	3	=	3
2	10	=	6

B 组

略。

练习9(第28页)

A 组

5+0=5	7	0
3+0=3	5	4
3-3=0	3	5
5-5=0	2	10
	10	0
	4	0
	4	0
	3	1
	7	6
	3	0
	10	4
	7	3
	0	0
	8	0
	1	2

B 组

1. $9+0=9$ $4-4=0$

2.

1
2
3
4
5

 + 0 =

1
2
3
4
5

练习10(第29页)

A 组

6	10	>	6
0	7	>	6
9	2	<	8
8	6	=	8
4	2	<	7
10	6	=	6
8	3	=	0
8	2	=	8
6	8	>	2
5	3	<	0
9	10	>	7
6	10	<	5
10	8	=	5
4	4	=	9
7	5	=	5

B 组

1. $2+5$ ☒ $2.6+3=9$
 $10-3$ ☒
 $9-3$ ☒
 $1+6$ ☒



练习 11 (第 30 页)

A 组

3	4	6	6
0	7	2	2
6	10	6	5
4	8	3	1
3	5	2	3
5	2	8	1
6	7	3	3
5	1	6	10
7	10	1	3
8	7	8	7
8	5	4	0
6	9	10	4
5	1	4	6
1	10	6	7
6	9	0	1

B 组

1. 略。
2. $7-3=4$

第五单元口算能力测试
(第 31 页)

A 组

4	10	>	2
2	2	>	3
7	3	=	2
5	6	=	8
10	6	>	6
8	8	=	3
4	8	>	1
7	4	=	6
1	10	<	5
9	6	=	8
10	5	<	6
7	9	<	6
5	2	<	3
6	9		10
10	3		8
9	6		5

B 组

1	2	4	8
6	4	8	
2	9	10	
	7		
	9		

第六单元

练习 1 (第 32 页)

A 组

9	10	<	7
8	7	<	3
8	5	>	5
6	9	>	4

5	1	<	4
1	10	<	4
6	9	<	10
2	4	=	0
4	6	>	7
7	2	=	2
10	6	>	0
8	3	>	6
5	2		4
2	8		5
7	3		2
1	6		5

B 组

文具:①④⑤
玩具:②⑥
衣服鞋帽:③⑦⑧

练习 2 (第 33 页)

A 组

4	1	8	<
9	7	8	>
9	9	3	<
9	8	7	<
6	2	5	=
9	5	3	=
4	7	10	>
8	9	2	>
10	1	2	=
1	8	0	>
10	8	3	<
4	6	4	>
4	5	1	
5	1	4	
10	6	3	
8	8	0	

B 组

4	5	1
4-1=3		
3	4	3
4-3=1		

第六单元口算能力测试
(第 34 页)

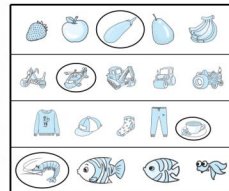
A 组

4	8	3	2
6	2	1	9
0	6	5	4
6	0	6	7
5	7	5	3
2	5	10	9
9	9	4	0
3	8	10	6
6	8	7	8
4	3	8	2
6	1	4	0
5	8	6	7
9	4	9	2

10	8	7	2
9	7	7	4
			5

B 组

1.



2.

分法一: ①⑤⑦ ②③⑥ ④⑧⑨
分法二: ①②⑨ ③⑤⑧ ④⑥⑦

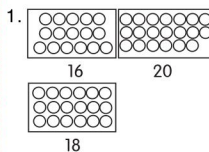
第七单元

练习 1 (第 35 页)

A 组

5	2	>	3
2	8	<	5
7	3	=	5
1	6	>	4
10	1	<	9
7	8	>	0
5	4	=	0
9	10	<	5
1	4	<	8
10	6	<	4
9	0	>	7
4	6	=	7
6	5		4
2	2		4
6	7		1
3	3		3

B 组



18

2. 略。

练习 2 (第 36 页)

A 组

1	7	4	<
9	2	6	=
8	10	0	>
2	5	6	<
5	7	6	>
6	7	2	>
7	10	9	>
8	4	3	<
8	6	5	<
6	8	8	=

10	6	8	>
5	1	10	<
4	8	1	
7	9	10	

B 组

1. (1)	13	1	3	13
(2)	17	1	7	17
2. 15	20	16		
3. 8	10	11	13	14
	19	18	16	15

练习 3 (第 37 页)

A 组

4	9	7	<
4	3	6	>
6	5	2	<
6	10	4	>
7	1	7	<
10	1	1	<
6	3	5	=
5	10	5	<
9	8	7	>
10	10	2	>
10	9	3	<
5	2	1	<
2	4	3	
7	1	0	
7	9	6	

B 组

1. (1) $14 > 12$ (2) $12 < 13$
2. 小于 13 的数: 12 9 11 10
大于 15 的数: 18 16 17 20

第七单元口算能力测试
(第 38 页)

A 组

1	8	<	0
8	8	<	2
4	7	<	5
4	1	>	5
6	6	>	8
0	8	<	4
6	10	>	9
9	7	<	6
3	9	<	4
6	3	<	5
9	5	>	9
3	2	<	9
5	7		8
7	0		2
7	9		8

B 组

1. 20	18	17	15	14	13
	11	6			
2. 12	13	15	16	19	20

3. 略。

请沿此虚线裁剪下使用





第八单元

练习1(第39页)

A组

9	10	0	10
8	14	12	9
19	4	10	18
8	17	18	17
6	9	18	5
19	13	9	19
5	15	17	19
18	9	2	7
2	11	4	5
18	5	16	19
0	12	19	16
0	15	10	12
19	0	16	17
2	9	0	1
15	16	19	15

B组

- $10 + 3 = 13$
- $11 + 3 = 14$
- $11 + 4 = 15$

练习2(第40页)

A组

16	16	15	>
18	10	18	<
12	14	13	=
3	11	10	<
14	15	17	<
14	14	10	<
8	19	18	>
12	19	0	>
5	14	19	>
5	15	9	=
19	15	17	>
15	3	17	=
13	3	17	=
9	7	17	
1	18	19	
18	18	17	

B组

- $9 + 4 = 13$
- $9 + 6 = 15$
- $9 + 5 = 14$
 $5 + 9 = 14$

练习3(第41页)

A组

18	14	2	>
14	16	16	<
16	15	15	<
16	12	13	<
16	16	1	>

10	18	12	=
6	19	14	<
13	11	15	=
11	15	18	=
12	11	9	>
15	18	10	
18	18	15	
13	12	11	
18	9	11	

B组

- $8 + 4 = 12$
- $8 + 5 = 13$
- $8 + 6 = 14$
- $8 + 7 = 15$

- $8 + 3 = 11$
 $8 + 3 = 11$

练习4(第42页)

A组

14	12	11	6
16	13	11	6
12	14	17	8
6	12	12	8
19	10	18	7
19	15	19	5
15	14	16	9
19	11	15	16
17	10	15	6
11	12	18	6
19	10	14	7
15	16	14	9
18	17	10	8
13	16	11	3
15	18	13	7

B组

- $11 + 10 = 21$
 $16 + 14 = 30$
 $12 + 15 = 27$
- $7 + 9 = 16$
 $8 + 5 = 13$

练习5(第43页)

A组

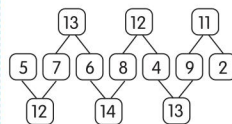
11	19	0	6
13	14	19	7
12	19	16	1
17	2	16	5
19	8	17	9
14	18	15	6
12	12	11	11
15	13	12	7
16	17	2	2
10	16	17	14
12	10	17	8

11	19	18	8
3	15	16	8
14	14	3	7
13	19	14	7

B组

- $7 + 9 = 16$
 $9 + 7 = 16$
 $6 + 7 = 13$
 $7 + 6 = 13$
 (答案不唯一)

2.



练习6(第44页)

A组

14	2	16	12
11	10	16	15
6	14	19	18
12	18	13	15
16	15	16	17
15	14	12	17
11	10	13	19
12	18	14	18
1	9	2	10
6	12	11	15
2	14	18	14
12	11	12	16
6	7	16	18
17	13	19	9
14	9	4	18
1	15	13	14

B组

- $9 + 2 + 2 = 13$
 $7 + 3 + 4 = 14$
 $2 + 6 + 1 = 9$
 $2 + 4 + 5 = 11$

- $4 + 3 + 2 = 9$

练习7(第45页)

A组

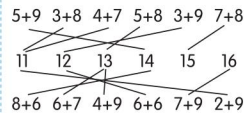
7	12	4	17
19	12	15	13
5	14	11	11
19	16	17	18
3	14	19	16
19	3	15	16
4	13	13	15
2	12	9	18
6	19	11	12
2	11	3	14
8	11	16	15
18	0	11	19
12	15	18	16
15	11	9	16

17	17	3	16
4	14	11	18

B组

- $15 + 17 = 32$
 $19 + 16 = 35$
 第四 第二 第一 第三

2.



第八单元口算能力测试(第46页)

A组

16	17	6	13
0	15	1	12
16	14	19	15
17	5	16	15
13	5	17	16
14	11	16	15
10	18	11	14
19	8	15	6
15	19	13	16
12	16	14	18
16	10	18	15
12	2	14	9
11	8	19	11
2	5	0	9
4	19	16	10
			14

B组

- $3 + 10 = 13$
 $6 + 9 = 15$
 $8 + 6 = 14$
 $8 + 8 = 16$
 $5 + 7 = 12$
 $9 + 5 = 14$
 $2 + 10 = 12$
 $7 + 4 = 11$
- $5 + 8 = 13$

第九单元

练习1(第47页)

A组

19	18	13	19
10	19	13	10
16	7	12	12
13	16	12	17
3	14	17	11
10	11	11	18
9	19	15	11
16	11	16	16
18	20	1	15
14	16	16	12
13	14	12	14
14	18	13	8
18	13	10	13
17	11	11	19
17	15	13	12
15	15	17	12



B 组

$16 - 4 = 12$
 $18 - 5 = 13$

练习 2 (第 48 页)

A 组

1	16	8	6
11	16	10	9
15	5	12	3
10	6	19	9
17	15	13	3
14	17	3	13
5	11	11	11
12	18	15	8
13	12	11	6
14	4	3	3
17	11	11	11
7	14	13	11
11	17	17	5
15	9	13	0
2	8	14	9
13	13	19	4

B 组

$11 - 3 = 8$
 $11 - 5 = 6$

练习 3 (第 49 页)

A 组

12	3	11	=
12	4	16	<
8	2	10	>
12	14	17	>
13	15	5	<
11	3	2	<
13	3	15	=
9	16	14	<
13	1	12	<
9	7	14	<
14	8	13	<
6	11	17	=
18	11	15	
17	13	18	
5	18	5	
12	13	4	

B 组

1. $8 + 4 = 12$
 $4 + 8 = 12$
 $12 - 8 = 4$
 $12 - 4 = 8$

2. $7 \times 5 = 35$
 $11 - 6 = 5$
 $12 - 5 = 7$
 $12 - 7 = 5$
 $12 - 8 = 4$
 $12 - 3 = 9$

练习 4 (第 50 页)

A 组

9	11	12	7
13	13	5	3
7	12	13	14
12	2	12	16
6	14	11	4
11	5	6	7
9	11	12	7
14	11	16	12

18	8	14	2
3	12	15	8
13	4	4	8
10	16	17	9
14	13	1	3
7	19	3	12
18	10	19	18
8	12	13	9
			11

B 组

1. $11 - 3 = 8$
2. $12 - 9 = 3$

练习 5 (第 51 页)

A 组

10	8	7	<
11	11	12	=
11	12	7	=
12	9	11	<
3	5	13	=
14	13	7	>
8	9	14	<
12	13	12	=
15	5	11	<
8	14	7	>
6	6	17	=
18	15	5	>
5	6	19	
16	11	4	
6	19	18	
15	4	9	

B 组

1. $13 - 5 = 8$
2. $14 - 9 = 5$

练习 6 (第 52 页)

A 组

6	8	13	6
15	13	4	5
3	5	13	9
12	11	9	14
6	4	13	5
18	12	8	10
7	9	16	14
17	12	2	4
0	3	11	7
12	11	5	16
4	19	14	4
14	6	10	18
8	17	14	19
12	2	12	15
9	7	8	5

B 组

1. $8 + 6 = 14$
 $14 - 6 = 8$
 $14 - 8 = 6$

2. (1) 5 (2) 9
(3) 9 (4) 9

练习 7 (第 53 页)

A 组

18	17	7	=
15	9	16	=
9	3	4	<
11	14	8	>
5	6	16	<
11	9	14	=
11	6	12	<
6	14	12	>
7	3	14	>
9	10	8	=
13	13	5	<
7	18	11	=
9	15	7	
7	9	13	
12	12	8	
19	5	2	

B 组

1. $7 \times 8 = 56$
 $8 \times 9 = 72$
 $9 \times 10 = 90$
 $10 \times 11 = 110$
 $11 \times 12 = 132$
2. $15 - 6 = 9$

练习 8 (第 54 页)

A 组

9	9	8	12
18	17	9	16
15	8	16	10
9	11	6	7
13	7	12	12
8	14	6	2
11	14	10	5
7	8	6	9
8	5	9	13
15	12	14	13
11	12	7	7
6	5	3	4
11	8	4	5
9	7	18	3
6	15	12	12
16	13	13	9

B 组

1. $15 - 7 = 8$
2. $8 \times 18 = 144$

练习 9 (第 55 页)

A 组

9	2	5	3
18	10	13	19
11	8	5	0
12	17	7	2
8	7	11	4
16	13	7	0
14	12	6	5

7	11	11	16
17	13	8	8
9	9	5	6
16	16	6	0
9	7	16	18
10	13	11	0
3	5	9	8

B 组

1. (1) $14 - 5 - 3 = 6$
(2) $15 - 5 - 4 = 6$

2. $>$
 $>$
 $<$
 $<$
 $=$

练习 10 (第 56 页)

A 组

11	3	11	10
6	13	7	4
13	5	9	2
3	18	7	10
15	14	9	13
7	8	9	18
17	12	2	1
12	5	11	5
2	14	14	7
14	8	15	17
9	6	17	6
8	6	11	2
12	9	18	9
6	7	16	2
15	11	1	3
8	7	18	2

B 组

1. (1) 圈 2 (2) 圈 8
(3) 圈 4 (4) 圈 7

练习 11 (第 57 页)

A 组

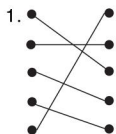
8	8	>	6
16	15	<	2
15	16	<	3
8	8	=	13
9	3	>	10
13	5	<	10
6	16	<	12
13	17	<	16
19	4	<	10
9	16	>	15
7	2	<	14
17	16	<	11
12	8	>	15
8	11		8
13	6		
5	12		

请沿此虚线裁剪下使用





B 组



2. $7 - 4 + 2 = 5$

练习 12 (第 58 页)

A 组

15	3	8	12
8	9	7	8
12	7	9	3
8	11	9	6
9	7	3	16
8	3	6	8
8	8	13	19
17	7	3	8
6	15	7	5
14	16	17	7
12	15	7	6
9	18	14	10
14	5	8	15
14	12	4	15
12	11	9	3
13	13	5	9

B 组

8	12	3	11
12	6	11	4
13	8	4	10

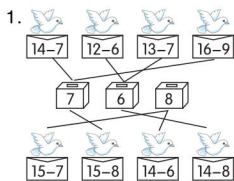
第九单元口算能力测试

(第 59 页)

A 组

17	17	<	5
7	9	=	18
17	8	>	11
6	8	>	14
3	17	<	2
17	7	>	16
7	11	<	14
4	6	=	5
16	14	<	7
5	9	<	13
16	18	<	14
7	8	<	9
15	8	<	3
7	11	<	7
12	6	<	18

B 组



2. (1) $12 - 8 = 4$

(2) $15 - 8 = 7$

第十单元

练习 1 (第 60 页)

A 组

2	14	3	12
7	13	8	15
12	11	16	5
5	12	14	4
8	14	9	7
13	6	15	3
11	9	7	11
5	19	8	4
6	3	6	13
17	10	13	13
9	8	14	15
18	11	7	14
7	17	15	9
5	6	12	8
9	19	4	13
9	15	10	8

B 组

1. (1) ▲ ▲ ▲ ▲ ▲ ▲ ▲ ▲
(△) (▲)
(2) ▲ □ ▲ □ ▲ □ ▲ □
(□) (▲)

2.

(1) ○ ○ ○ ○ ○ ○ ○ ○
(2) ○ ○ ○ ○ ○ ○ ○ ○
(3) ○ ○ ○ ○ ○ ○ ○ ○

练习 2 (第 61 页)

A 组

12	3	8	15
17	10	4	6
16	8	9	6
5	12	10	4
16	16	7	6
19	9	7	15
9	15	11	1
14	14	9	7
14	11	10	9
5	7	4	4
15	11	17	4
9	9	18	9
10	16	5	2

5	9	8	7
9	13	2	5
8	6	12	2

B 组

1. (1) 8	12			
(2) 9	8	12		
2. 6	7	9	10	7

2. 6 7 9 10 7

第十单元口算能力测试

(第 62 页)

A 组

11	12	9	9
9	11	3	13
18	7	8	5
8	16	9	16
17	16	2	5
13	8	4	7
5	12	9	16
4	8	13	4
18	19	7	15
9	3	7	5
13	5	19	10
8	15	9	18
9	6	6	6
13	15	16	5
18	2	4	4
14	12	14	4

B 组

1. (1) B
(2) B
2. (1) A
(2) B

整理与评价

练习 1 (第 63 页)

A 组

8	5	9	>
2	2	1	>
5	7	4	>
7	1	10	=
9	10	8	=
8	7	3	<
8	5	10	<
6	9	2	>
5	1	5	>
1	10	6	>
6	9	6	>
8	4	0	>
4	6	7	>
7	2	8	>
10	6	10	>
8	3	6	>

B 组

1. 2	3	1
4	8	6
$1 < 2 < 3 < 4 < 6 < 8$		
2. 略。		

练习 2 (第 64 页)

A 组

6	2	>	7
8	9	=	8
3	8	>	4
6	2	>	7
1	1	<	6
8	10	=	2
4	7	>	10
10	5	>	4
4	7	>	0
6	10	>	6
0	1	=	8
6	10	=	
5	9		
2	4		
9	6		
3	2		

(最后一列除倒数第三行外, 其余答案不唯一)

B 组

1. (1) $7 > 5$	(2) $8 > 6$
(3) $2 < 3$	(4) $6 = 6$

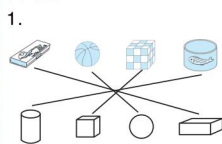
2. 5 三 五

练习 3 (第 65 页)

A 组

6	8	7	>
3	8	9	<
2	5	4	=
7	6	0	=
2	6	6	>
9	8	10	>
5	4	7	>
3	4	6	<
9	7	5	=
9	1	9	>
8	10	3	>
9	5	5	
6	5	7	
7	2	6	
1	2	0	

B 组



2. 3 4 3 4

练习 4 (第 66 页)

A 组

2	9	1	4
2	2	1	1
0	8	2	5



6 4 1 1
10 0 3 1
9 8 2 10
3 2 9 2
4 4
4 8
9 5
12 2
1 1
4 3
1 3
7 6
5 5

B 组

1.

	1	2	3	4
	4	3	2	1

2. 略。

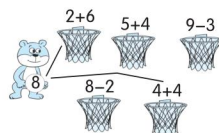
练习 5 (第 67 页)

A 组

5 4 > 3
9 9 > 1
1 5 < 3
9 9 = 5
9 1 > 4
4 9 > 6
6 7 > 6
2 1 = 7
5 5 > 2
3 8 < 6
2 0 = 4
8 9 > 3
2 10 6
6 1 7
1 5 0
8 4 1

B 组

1.



2. $9-3=6$

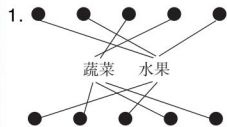
练习 6 (第 68 页)

A 组

5 2 0 1
7 9 5 1
8 8 4 3
4 6 2 2
9 3 9 6
2 1 1 8
10 6 7 10
4 10 4
4 4 7

1 4 9
8 7 3
10 8 10
8 5 2
2 7 0
5 1 10
7 10 5

B 组



2. (1) ② ③ ⑤ ⑦
① ④ ⑥ ⑧
(2) ① ⑦ ② ④ ⑤
③ ⑥ ⑧

练习 7 (第 69 页)

A 组

8 7 < 8
7 6 > 10
5 6 < 2
1 3 < 9
10 6 > 6
10 5 > 6
0 5 > 4
10 4 > 6
6 7 < 5
6 7 < 8
7 6 < 3
2 2 < 7
0 5 4
9 10 4
0 3 2
9 10 2

B 组

1. 略

2. (1) \checkmark (2) \times (3) \checkmark
(4) \times

练习 8 (第 70 页)

A 组

12 15 13 18
16 18 14 12
11 13 5 13
13 12 18 18
11 12 5 9
14 0 12 12
15 10 17 9
19 12 17 19
13 15 5 17
18 17 16 11
19 19 9 13
15 1 17 18
16 0 18 19
10 17 15 17

19 14 13 19
12 19 14 17

B 组

1. 18 15 16
2. 13

练习 9 (第 71 页)

A 组

11 3 11 10
6 13 7 5
13 5 9 7
3 16 7 10
15 14 9 5
7 8 9 4
17 12 2 4
12 5 11 5
2 14 14 6
14 8 15 9
9 6 17 18
8 6 11 8
12 9 9 9
6 7 16 9
15 13 11 7
8 7 9 6

B 组

1. $13-4=9$
2. $14-5=9$

练习 10 (第 72 页)

A 组

9 9 7 8
17 18 14 6
8 8 5 7
15 7 8 13
5 6 14 7
5 16 8 15
16 9 12 3
6 13 7 11
13 2 14 6
8 8 9 11
11 19 12 9
3 11 4 13
14 17 4 1
9 9 12 12
7 6 5 4
11 13 9 2

B 组

1. 14 14 9 5
2. (1) \bigcirc (\triangle)
(2) \square (\bigcirc)
(3) \bigcirc (\square)

口算能力期末综合

测评 (一)

(第 73 页)

0 10 > 9

16 17 < 6
13 16 > 19
19 19 < 16
0 14 > 11
10 13 < 3
5 16 < 7
10 14 > 10
17 11 < 12
8 2 > 10
10 19 < 8
12 2 < 12
3 17 = 0
10 17 > 10
15 13 = 13
17 7 > 13
8 9 = 2
3 12 > 14
18 13 > 8
10 10 < 13
18 10 2
9 11 12
14 12 10
11 18 8
15 18 12
12 15 4

口算能力期末综合

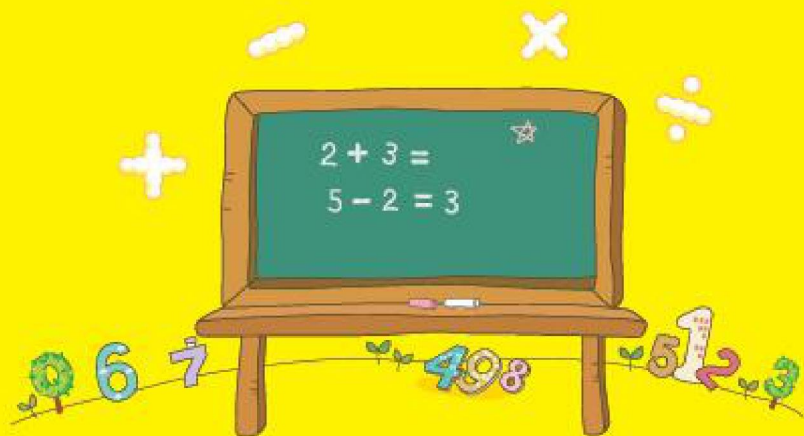
测评 (二)

(第 74 页)

2 9 9 13
16 4 18 14
7 17 15 5
8 14 7 9
16 9 9 14
12 4 3 12
8 14 15 9
14 13 11 15
19 8 9 15
3 9 6 13
5 12 13 10
9 5 8 17
5 3 14 9
13 12 6 12
7 12 6 4
11 8 11 10
15 7 19 16
6 5 7 18
11 7 17 9
6 10 5 5
14 8 5 13
6 4 9 1
8 15 13 17
14 18 17 4
18 3 13 3
11 15 11 13

请沿此虚线裁剪下使用





口算脑算用心算

巧算速算不难算

荣德基官方网站:

<http://www.rudder.com.cn>

荣德基天猫旗舰店:

<http://rongdeji.tmall.com>

客服热线: 182 1039 5892



荣德基小学频道
获取最新教育资讯

ISBN 978-7-5336-9088-5



9 787533 690885 >

定价: 22.90元