

教辅资料站

电子教辅 试卷练习
知识总结 备课资源



中国品牌创新发展工程 推荐品牌



荣德基 主编

—— 扫码关注获取更多学习资料 ——



星级口算 天天练

一年级 数学 上 (SJ版)



时代出版传媒股份有限公司
安徽教育出版社



常规好题 题题好 —— 变式妙题 道道妙




荣德基 主编

星级口算 天天练

一年级 数学上 (SJ版)

本册主编：杜丽娟



学 校：_____

班 级：_____

姓 名：_____

喜欢的格言：_____

ARTIME
时代出版

时代出版传媒股份有限公司
安徽教育出版社

目 录

第一单元 数一数

练习 数一数 1

第二单元 比一比

练习 比一比 2

第三单元 分一分

练习 分一分 3

第四单元 认位置

练习 认位置 4

第五单元 认识 10 以内的数

练习 1 1~5 的认识 5

练习 2 第 几 6

练习 3 0 的认识 7

练习 4 1~5 的大小比较 8

练习 5 习题课 9

练习 6 6~9 的认识 10

练习 7 10 的认识 11

练习 8 复习课 12

第五单元口算能力测试 13

第六单元 认识图形（一）

练习 1 认识图形 14

练习 2 有趣的拼搭 15

第六单元口算能力测试 16



第七单元 分与合

练习1	2~5的分与合	17
练习2	6、7的分与合	18
练习3	习题课	19
练习4	8、9的分与合	20
练习5	10的分与合	21
练习6	复习课	22
第七单元口算能力测试		23



第八单元 10以内的加法和减法

练习1	5以内的加法	24
练习2	5以内的减法	25
练习3	与0有关的加减法	26
练习4	习题课	27
练习5	和是6、7的加法	28
练习6	6、7减几	29
练习7	习题课	30
练习8	和是8的加法、8减几	31
练习9	解决问题	32
练习10	和是9的加法、9减几	33

练习11	习题课	34
练习12	和是10的加法、10减几	35
练习13	求未知加数	36
练习14	习题课	37
练习15	连加、连减	38
练习16	习题课	39
练习17	加减混合	40
练习18	习题课	41
练习19	复习课	42
第八单元口算能力测试		43





第九单元 认识 11~20 各数

练习1 数数	44
练习2 数的组成、写数	45
练习3 十加几及相应的减法	46
练习4 复习课	47
第九单元口算能力测试	48




第十单元 20 以内的进位加法

练习1 9加几	49
练习2 习题课	50
练习3 8、7加几	51
练习4 习题课	52
练习5 6、5、4、3、2加几	53
练习6 习题课	54
练习7 复习课	55
第十单元口算能力测试	56

第十一单元 期末复习

练习1 数一数	57
练习2 比一比	58
练习3 分一分	59
练习4 认位置	60
练习5 认识 10 以内的数	61
练习6 认识图形(一)	62
练习7 分与合	63
练习8 10 以内的加法和减法	64
练习9 认识 11~20 各数	65
练习10 20 以内的进位加法	66
口算能力期末综合测评(一)	67
口算能力期末综合测评(二)	68
参考答案	69



第一单元 数一数

难易等级：

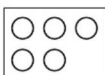
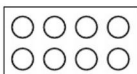
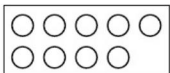


练习 数一数

用时：__分__秒 错误：__个

A组 常规口算题

◆连一连，将数量相等的连起来。



B组 变式口算题

数一数，并在下列相应个数的○上涂色。



教辅资料站



第二单元 比一比

难易等级：


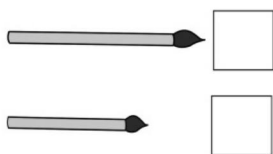


练习 比一比

用时：___分___秒 错误：___个

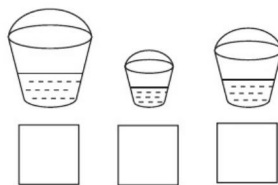

A组 常规口算题

- ◆在长的□里画“√”，在短的□里画“○”。
◆在高的□里画“√”，在矮的□里画“○”。




- ◆在重的□里画“√”，在轻的□里画“○”。

- ◆桶里水最多的画“√”，最少的画“○”。



B组 变式口算题

比轻重。在最重的下面画“√”，在最轻的下面画“○”。






练习 分一分

用时：___分___秒 错误：___个

A组 常规口算题

1. 把同类的连起来。



2. 把每组中不是同类的圈出来。



3. 会飞的有哪些？不会飞的有哪些？（填序号）



①



②



③



④



⑤



⑥



⑦



⑧



⑨



会飞的



不会飞的

B组 变式口算题

分一分，填一填。



①



②



③



④




⑤



⑥



⑦



⑧



⑨

1. 按杯子有无把手分。

有把手的



没有把手的



2. 按有没有盛水分。

有水的



没有水的





第四单元 认位置

难易等级：



练习 认位置

用时：___分___秒 错误：___个

A组 常规口算题

◆把正确的答案圈起来。



1. 在 的(上、下)面。


在 的(上、下)面。

2.

在 的(前、后)面。

在 的(前、后)面。

3. 东 东 玲 玲 兵 兵



玲玲的左边是(东东、兵兵),

右边是(东东、兵兵)。

玲玲在兵兵的(左、右)边,

在东东的(左、右)边。

4. 把☆左边的△圈出来。用“\”把

☆右边的△划掉。



B组 变式口算题

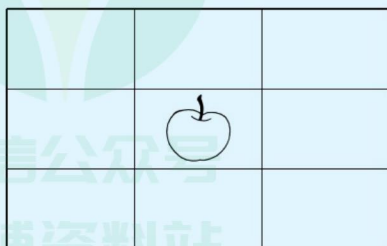
按要求画一画。

1. 在苹果的上面画“○”。

2. 在苹果的左面画“△”。

3. 在苹果的右面画“□”。

4. 在苹果的下面画“□”。



第五单元 认识10以内的数

难易等级：


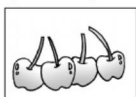
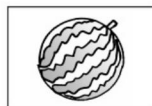
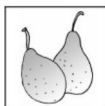


练习1 1~5 的认识

用时：___分___秒 错误：___个

A组 常规口算题

1. 看图写数。

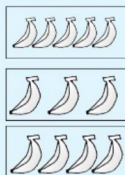


2. 看数涂色。

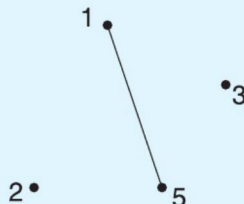
5	
3	
2	
4	

B组 变式口算题

1. 数一数，把左右数目相同的连一连。



2. 从1顺次连到5。

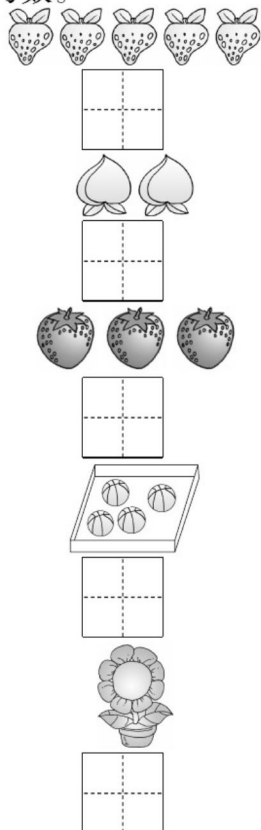


练习2 第 几

用时: ___ 分 ___ 秒 错误: ___ 个

A组 常规口算题

1. 看图写数。



2. 按要求涂一涂。

涂第2个	
涂4个	
涂第5个	
涂3个	

3. 填一填。



(1) 一共有()只动物。

(2) 从右数, 排第()个, 排第()个。

(3) 从左数排第()个, 它前面有()个动物, 后面有()个动物。

B组 变式口算题

数一数, 填一填。

△ ○ ☆ □ ♥

1. 一共有()个图形。

2. 从左往右数, 第2个是(); 第4个是()。

3. 从右往左数, 第3个是(); 第5个是()。

4. 从左往右数, ☆排在第(), ♥排在第()。



练习3 0的认识

用时: ___分___秒 错误: ___个

A组 常规口算题

◆数一数,连一连。



4



5



2



1



0

◆数一数,涂一涂。

4个涂色



2个涂色



0个涂色



1个涂色



5个涂色



3个涂色

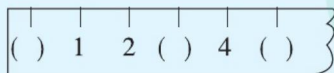


0个不涂色

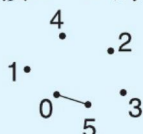


B组 变式口算题

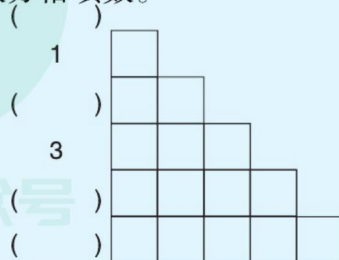
1. 填一填。



2. 连一连。(按0—5的顺序连)



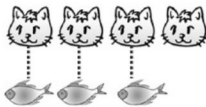
3. 数方格填数。




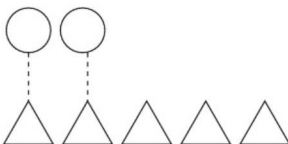
练习4 1~5的大小比较


用时: 分 秒 错误: 个

A组 常规口算题


 $4 \bigcirc 3$


 $5 \bigcirc 4$


 $2 \bigcirc 5$


 $4 \bigcirc 4$

◆填上“>”“<”或“=”。

$4 \bigcirc 2$

$1 \bigcirc 3$

$4 \bigcirc 4$

$3 \bigcirc 5$

$2 \bigcirc 1$

$4 \bigcirc 5$

$1 \bigcirc 1$

$3 \bigcirc 4$

$2 \bigcirc 2$

$4 \bigcirc 1$

$3 \bigcirc 2$

◆填一填。

$2 \quad 3$
 $\square < \square$

$\square > \square$

$3 \quad 5$
 $\square < \square$

$\square > \square$

$4 \quad 1$
 $\square < \square$

$\square > \square$

$3 \quad 4$
 $\square < \square$

$\square > \square$


B组 变式口算题

摆一摆,比一比。



比 () (填“多”或“少”)

$\square \bigcirc \square$



比 () (填“多”或“少”)

$\square \bigcirc \square$



练习5 习题课


用时: ___分___秒 错误: ___个

A组 常规口算题


◆数一数,填一填。



()



()



()




()



()

◆比大小。



5 ○ 3



□ > □



□ < □



□ = □

◆填上“>”“<”或“=”。

1 ○ 4

3 ○ 3

5 ○ 4

5 ○ 3

1 ○ 2

5 ○ 1

3 ○ 1

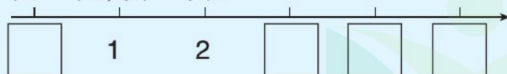
5 ○ 5

4 ○ 3

2 ○ 4

B组 变式口算题

1. 填一填,读一读。



2.



(1) 一共有()只小动物;

(2) 从左边数,青蛙排第(),小猫排第()。

3. 按要求画△。



△比○多



△和○同样多



练习6 6~9的认识

用时: ___分___秒 错误: ___个

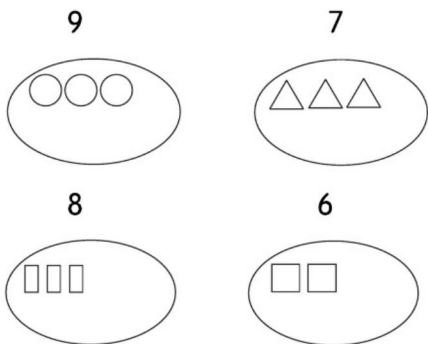
A组 常规口算题

1. 数一数,连一连。

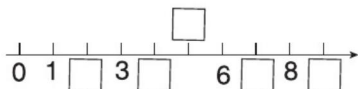


6 8 7 9

2. 看数接着画。



3. 填一填。



◆比一比。

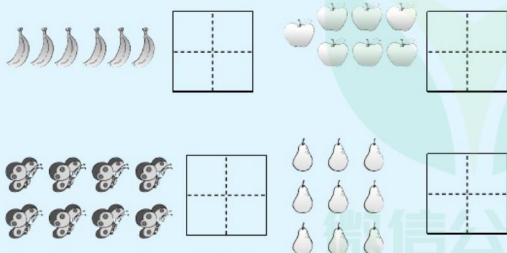
8 ○ 7
9 ○ 6
5 ○ 9
7 ○ 5
4 ○ 8
6 ○ 7
5 ○ 2
9 ○ 8
3 ○ 7
8 ○ 2
6 ○ 4

◆在□里填一个合适的数。

8 > □
7 < □
6 > □
4 < □
9 > □
□ > 0
□ < 4
□ > 3
□ < 8
□ > 7
□ < 9

B组 变式口算题

1. 看图写数。



2.

- (1) 一共有()只小兔;
- (2) 把左边的 6 只小兔圈起来;
- (3) 给右边数第 7 只小兔涂上颜色。




练习7 10的认识

用时：___分___秒 错误：___个

A组 常规口算题

1. 看图写数。



2. 看数接着画。

9



10



3. 分一分。

1

2

3

4

5

6

7

8

9

10

大于6的



小于6的



◆比一比。

10 ○ 8

6 ○ 10

9 ○ 5

8 ○ 10

9 ○ 10

7 ○ 9

8 ○ 4

9 ○ 3

10 ○ 10

5 ○ 9

7 ○ 8

10 ○ 0

1 ○ 10

◆在□里填一个合适的数。

2 > □

9 < □

10 > □

8 < □

7 > □

2 < □

□ > 5

□ < 6

□ > 9

□ < 10

□ > 8

B组 变式口算题

1. △△△△△△

○○○○○○○○○○

(1) △有()个, ○有()个。

(2) ○比△多()个, △比○少

()个。

2. 我排第1。

我排第()。



丁丁



笑笑



当当

丁丁和当当,()更接近笑笑。



练习8 复习课

用时: ___ 分 ___ 秒 错误: ___ 个

A组 常规口算题

◆连一连。



◆看图写数。



()



()



()



()



()



()

◆比一比。

3 ○ 4

7 ○ 6

5 ○ 9

10 ○ 0

7 ○ 8

6 ○ 5

3 ○ 6

7 ○ 4

0 ○ 1

2 ○ 4

9 ○ 3

B组 变式口算题

1. 填一填,读一读。



2. 0 7 3 5 10

(1)一共有()张卡片。

(2)左起第4张是(),右起第4张是()。

(3)按从小到大的顺序排一排。

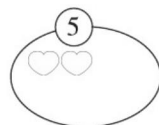
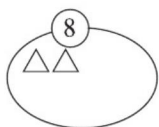
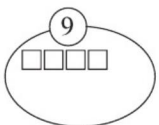
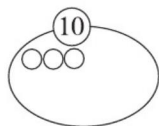


第五单元口算能力测试





用时: ___ 分 ___ 秒 错误: ___ 个

A组 常规口算题

◆看数接着画。



◆数一数,比一比。



◆比一比。

7 ○ 8

0 ○ 2

3 ○ 1

4 ○ 3

5 ○ 9

10 ○ 1

6 ○ 7

9 ○ 8

0 ○ 10

4 ○ 7

8 ○ 2

4 ○ 9

B组 变式口算题



比多()个,比少()个。



一共()双,有()只。

一共()盒,有()块。

3. 接着涂一涂,填一填。



2 格



4 格



6 格



() 格



() 格

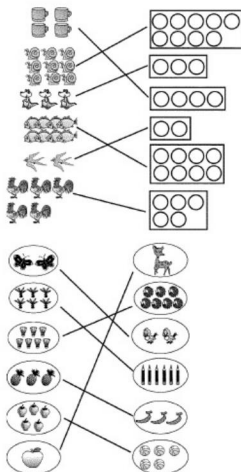




参考答案

第一单元 练习(第1页)

A组




B组

略。

第二单元 练习(第2页)

A组




B组



第三单元 练习(第3页)

A组

1.



2. (1)



(2)



(3)



3. ①⑤⑦⑨ ②③④⑥⑧

B组

1. ①⑥⑨ ②③④⑤⑦⑧

2. ①②⑤⑦⑧⑨

③④⑥

第四单元 练习(第4页)

A组

1. (上、下)

(左、右)

2. (前、后)

(前、后)

3. (东东、兵兵)

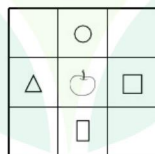
(东东、兵兵)

(左、右)

(左、右)

4. △△△△ ☆△△

B组



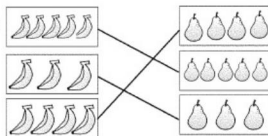
第五单元 练习1(第5页)

A组

1. 2 3 1 4 5 2. 略。

B组

1.



2. 略。

练习2(第6页)

A组

1. 5 2 3 4 1

2. 略

3. (1) 5

(2) 5 2

(3) 2 1 3

B组

1. 5

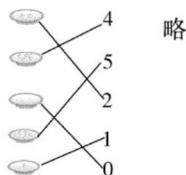
2. ○ □

3. ☆ △

4. 3 5

练习3(第7页)

A组



B组

1. 0 3 5

2. 略

3. 0 2 4 5

练习4(第8页)

A组

> > 2 < 3

> < 3 > 2

< = 3 < 5

= < 5 > 3

> 1 < 4

< 4 > 1

= 3 < 4



< 4 > 3

=

>

>

B 组

多 4 > 1

少 4 < 5

练习 5 (第 9 页)

A 组

3 > <

1 4 > 3 =

5 4 < 5 >

0 2 = 2 >

4 <

>

>

=

>

<

B 组

1. 0 3 4 5

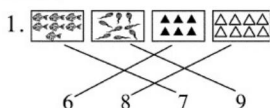
2. (1) 5

(2) 3 4

3. 略

练习 6 (第 10 页)

A 组



2. 略

3. 2 4 5 7 9

>

>

<

>

<

<

>

>

<

>

>

略 (答案不唯一, 符合题意即可)

B 组

1. 6 7 8 9

2. (1) 7

(2) 略

(3) 略

练习 7 (第 11 页)

A 组

1. 8 10

7 9

2. 略

3. 大于 6 的

7 8 9 10

小于 6 的

1 2 3 4 5

>

<

>

<

<

<

<

>

>

=

<

<

>

<

<

略 (答案不唯一, 符合题意即可)

B 组

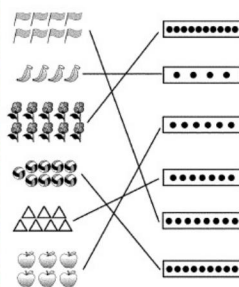
1. (1) 6 10

(2) 4 4

2. 10 当当

练习 8 (第 12 页)

A 组



4 <

8 >

1 <

6 >

5 <

10 >

<

>

<

<

>

B 组

1. 0 3 4 5 7 8 10

2. (1) 5 (2) 5 7

(3) 0 3 5 7 10

第五单元口算能力测试

(第 13 页)

A 组

略 3 > 2 (或 2 < 3) <

4 < 5 (或 5 > 4) <

8 > 5 (或 5 < 8) >

>

<

>

<

>

<

<

>

B 组

1. 6 6

2. 3 6

2 6

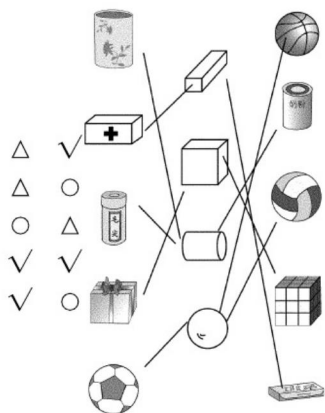
请沿此虚线裁剪下使用





第六单元 练习1(第14页)

A 组



B 组

4 2 5 4
长方体 球

练习2(第15页)

A 组

1. 3 2. 略
4 3. 6
4 4
7 2
5 2

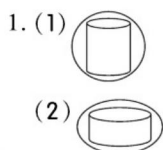
B 组

(√)

第六单元口算能力测试

(第16页)

A 组



3. (1) (2) (3)
(×) (√) (×)
(4) (5) (6)
(√) (√) (×)

4. 6 4 4 3

B 组

1. 1 2 2 2
2. 茶 圆柱 2
3. 5 字典
4. 7 球

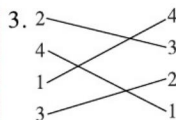
第七单元 练习1(第17页)

A 组

1 1 4 3
2 2 4
2 5 3 2 5
2 4 1 3 1 2
 4 1
(答案不唯一)
1

B 组

1. 5 1 4 3
2.

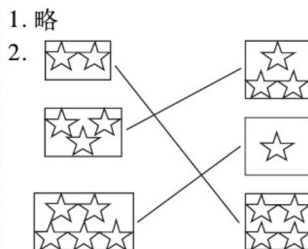


练习2(第18页)

A 组

4 7 5
3 6 1
3 3 6 4 2 2
2 5 7 3 4 4
 7
 6

B 组



练习3(第19页)

A 组

2 1 1 2
2 2 1 1
3 2 3 3
4 2 1 6
2 5 3 6
 7 5

B 组

1.

1	2	3	4	5	6
6	5	4	3	2	1

2.



练习4 (第20页)

A组

2	6	6	2	图略	1
3	5	5	3	5	6
3	6	6	3	图略	3
9	9			4	8
4	5	5	4	图略	8
7	2			5	9
9					

B组

1.	8	5	6	7	4
	2	4	5	6	7
2.	2	4	8	6	
	3	1	7	5	

练习5 (第21页)

A组

7		8	9
7		5	8
8	2	7	7
10		10	6
4	6	5	5
		5	

B组

1.	6	8	9	5	4
	2	4	1	6	5
2.	3	7	5	5	
	8	2	4	6	

画图略。

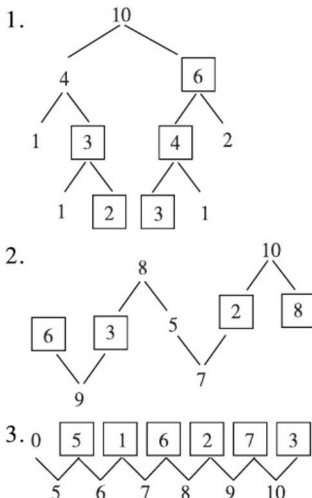
练习6 (第22页)

A组

画图略。

		3		2
3	2	3	4	5
5		3	6	8
4	5	5	4	9
5	5	5	4	10
		10		

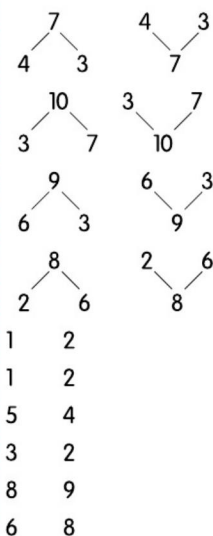
B组



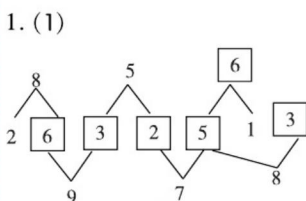
第七单元口算能力测试

(第23页)

A组



B组



(2) 略 (答案不唯一)

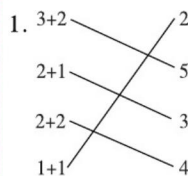
2. 0 5 1 4 2 3 3

第八单元 练习1 (第24页)

A组

5	3	4
5	2	5
4	2	3
3	1	5

B组



2. $3+1=4$	$2+1=3$
$1+3=4$	$4+1=5$

练习2 (第25页)

A组

1	1	5
4	1	2
2	$5-2=3$	1
3	$5-3=2$	5
1	$3-2=1$	1
		3
		1
		3
		1
		4
		2
		4
		2
		3
		4

B组

- (1) $4-1=3$
(2) $4-3=1$

请沿此虚线裁剪下使用






练习3 (第26页)

A组

4		0	5	1
0	3	0	4	5
5	0	3	0	4
0		0		2

4
4
4
1
5
2
3
4
5
0
4
1

B组



2. $4 + 0 = 4$

$4 - 4 = 0$

3. 1 2 3 4 5

练习4 (第27页)

A组

5		3	2
1		4	3
$4 - 2 = 2$	1		5
$3 - 3 = 0$	4		4
	2		3
	0		2
	5		5

B组

1. $3 + 2 = 5$

$4 - 1 = 3$

2. 5

4

3

2

A组

7		3	4
3	7	1	0
7		6	6
5	7	4	7
3		2	3
2	3	7	6
6	7	3	4
$6 + 1 = 7$		7	5
		3	2
		6	6
		1	1
		7	4
		3	5
		6	7
		5	5
		7	7

练习5 (第28页)

B组

1. 7

6

5

4

2. 6 7 7

3. $3 + 2 = 5$

$4 + 2 = 6$

$2 + 4 = 6$

$4 + 3 = 7$

$2 + 5 = 7$

练习6 (第29页)

A组

4		4	5
4	3	3	7
4		6	3
4	2	6	6
5		7	7
5	2	4	2
5		7	2
$6 - 5 = 1$	6		5
	2		7
	4		3
	6		6
	1		2
	3		7
	7		1
	1		6
	0		1

B组

1. $3 + 4 = 7$

$4 + 3 = 7$



$7-4=3$

$7-3=4$

$2.1 \quad 2 \quad 3 \quad 4$

$6 \quad 1 \quad 5 \quad 2 \quad 4$

练习7 (第30页)

A组

$4 \quad 7 \quad 6 \quad >$

$4 \quad 5 \quad 1 \quad <$

$3 \quad 7 \quad 1 \quad >$

$5 \quad 1 \quad 7 \quad >$

$6 \quad 3 \quad 6 \quad =$

$7 \quad 6 \quad 7 \quad <$

$3 \quad 5 \quad =$

$5 \quad 1 \quad <$

$5 \quad 6 \quad >$

$4 \quad 4 \quad =$

$7 \quad 7 \quad >$

$3 \quad 3 \quad <$

$4 \quad 6$

$2 \quad 2$

$6 \quad 6$

$1 \quad 0$

B组

$1. (1) 4 \quad 4$

$(2) 3 \quad 3$

$2. 4+2$

$5-3$

$2+5$

$3-3$

$6-2$

练习8 (第31页)

A组

$8 \quad 1 \quad 1$

$3 \quad 8 \quad 8 \quad 8$

$5 \quad 7 \quad 5$

$5 \quad 3 \quad 7 \quad 1$

$8 \quad 4 \quad 5$

$6 \quad 8 \quad 7 \quad 8$

$2 \quad 1 \quad 7$

$2 \quad 6 \quad 8 \quad 6$

$4 \quad 8 \quad 6 \quad 6$

$8-4=4 \quad 5 \quad 8$

$3 \quad 2$

$8 \quad 6$

$4 \quad 8$

$8 \quad 2$

$3 \quad 4$

$6 \quad 4$

B组

$1. 1+7=8$

$7+1=8$

$8-1=7$

$8-7=1$

$2. 6 \quad 4$

$4 \quad 3$

$3 \quad 2$

$2 \quad 1$

$1 \quad 0$

练习9 (第32页)

A组

$6 \quad 5 \quad 7 \quad >$

$8 \quad 4 \quad 4 \quad =$

$7 \quad 5 \quad 8 \quad <$

$4 \quad 5 \quad 6 \quad >$

$8 \quad 7 \quad 3 \quad >$

$3 \quad 7 \quad 1 \quad <$

$8 \quad 6 \quad 8 \quad >$

$7 \quad 8 \quad 0 \quad >$

$5 \quad 5 \quad 6 \quad =$

$5 \quad 8 \quad 6 \quad >$

$6 \quad 7 \quad 8 \quad <$

$8 \quad 2 \quad 0 \quad =$

$4 \quad 2 \quad 0 \quad <$

$1 \quad 3 \quad 1 \quad <$

$4 \quad 3 \quad 1$

$2 \quad 2 \quad 0$

$3+3=6$

$4+4=8$

$8-2=6$

A组

$1 \quad 4 \quad 8 \quad 6$

$3 \quad 7 \quad 7 \quad 3$

$4 \quad 5 \quad 3 \quad 7$

$2 \quad 5 \quad 8 \quad 6$

$9 \quad 1 \quad 1 \quad 6$

$7 \quad 9 \quad 4 \quad 7$

$9 \quad 7 \quad 3 \quad 9$

$6 \quad 9 \quad 1 \quad 6$

$9 \quad 5 \quad 5 \quad 9$

$8 \quad 9 \quad 9 \quad 8$

$9 \quad 6 \quad 8 \quad 4$

$6 \quad 0 \quad 7 \quad 5$

$9 \quad 7 \quad 2 \quad 7$

$6 \quad 1 \quad 5 \quad 8$

$3 \quad 0 \quad 2 \quad 8$

$1 \quad 8 \quad 0 \quad 2$





B 组

1. $4 + 5 = 9$

$5 + 4 = 9$

$9 - 4 = 5$

$9 - 5 = 4$

2. $6 + 3 = 9$

$9 - 4 = 5$

练习 11 (第 34 页)

A 组

$7 < 4 < 7 =$

$8 > 8 > 4 >$

$1 < 7 < 2 <$

$3 = 6 = 6 =$

$9 > 8 > 1 >$

$2 < 2 < 2 <$

$7 > 2 > 4 >$

$5 = 9 = 9 =$

$1 > 5 > 8 >$

$8 = 3 = 7 =$

$9 > 5 > 9 >$

$6 < 0 < 5 <$

$9 = 9 = 3 =$

$2 < 8 < 4 <$

$4 < 6 < 3 <$

$1 < 9 < 6 <$

$4 < 6 < 9 <$

B 组

1. $3 < 5 < 8$

$3 + 5 = 8$

2. 5

$9 - 4 = 5$

练习 12 (第 35 页)

A 组

$5 < 4 < 1 < 3$

$10 < 7 < 9 < 9$

$7 < 10 < 7 < 4$

$9 < 3 < 2 < 8$

$7 < 9 < 6 < 9$

$3 < 7 < 3 < 10$

$0 < 5 < 10 < 5$

$10 < 6 < 9 < 2$

$2 < 4 < 2 < 7$

$8 < 10 < 3 < 10$

$8 < 4 < 5 < 9$

$6 < 7 < 4 < 0$

$4 < 6 < 10 < 1$

$7 < 10 < 4 < 9$

$6 < 1 < 0 < 8$

B 组

1. $6 + 4 = 10$

$4 + 6 = 10$

$10 - 4 = 6$

$10 - 6 = 4$

2.

$9-3$ $10-5$ $4+6$
 $5+5$ $8-2$ $6-1$
 $10-1$
 $8+1$

练习 13 (第 36 页)

A 组

$8 < 4 < 2 < 3$

$8 < 8 < 4 < 3$

$7 < 8 < 8 < 0$

$8 < 4 < 5 < 3$

$1 < 4 < 4 < 3$

$10 < 5 < 7 < 6$

$7 < 6 < 5 < 2$

$6 < 7 < 5 < 6$

$9 < 1 < 5 < 6$

$10 < 10 < 1 < 4$

$10 < 7 < 2 < 4$

$0 < 5 < 1 < 8$

$10 < 9 < 0 < 6$

$9 < 10 < 9 < 1$

B 组

1. 画图略。

$3 < 4 < 6$

2. $8 < 4 < 2 < 1$

练习 14 (第 37 页)

A 组

$6 < 10 < < < 2$

$7 < 7 < < < 6$

$9 < 2 < > > 4$

$8 < 6 < = < 4$

$4 < 5 < < < 7$

$10 < 6 < = < 7$

$8 < 10 < = < 0$

$8 < 2 < = < 8$

$6 < 8 < > < 2$

$5 < 3 < < < 4$

$9 < 10 < > < 7$

$6 < 10 < < < 5$

$10 < 8 < < < 5$

$10 < 4 < < < 6$

$7 < 5 < < < 5$

B 组

1. $7 < 4 < 1$

$5 < 5 < 1$

2. $7 + 2 = 9$

$8 - 4 = 4$

练习 15 (第 38 页)

A 组

$4 < 10 < > < 3$

$2 < 2 < > < 10$

$7 < 3 < = < 6$

$5 < 6 < = < 8$



10	6	>	2
8	8	=	0
4	8	>	9
7	4	=	2
1	10	<	9
9	6	=	0
10	5	<	3
7	9		0
5	2		5
6	9		10
10	3		10

B 组

1. $4 + 2 + 1 = 7$
2. 4 6 3

练习 16 (第 39 页)

A 组

1	8	0	7
8	8	4	5
4	5	5	1
6	1	5	6
6	8	2	0
0	8	5	9
6	4	1	1
10	10	6	9
9	9	4	1
6	3	5	10
9	5	5	4
2	2	6	10
10	7	0	4
7	1	5	9
7	9	8	3

B 组

1. $9 - 2 - 2$ ——— 6
 $9 - 3 - 0$ ——— 5
 $10 - 1 - 1$ ——— 8
 $2 + 4 + 4$ ——— 10

2. $9 - 2 - 4 = 3$

$3 + 4 + 2 = 9$

练习 17 (第 40 页)

A 组

9	10	6	7
8	7	2	9
8	5	5	6
6	9	1	10
5	1	4	10
1	10	1	2
6	9	5	8
2	4	0	3
4	6	3	8
7	2	7	2
10	6	2	9
8	3	4	2
5	2	6	3
2	8	6	4
7	3	1	1
1	6	7	5

B 组

(1) 6 3 8 2
(2) 4 1 6 1
(3) - 5 + 4

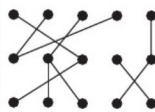
练习 18 (第 41 页)

A 组

3	4	6	7
0	7	2	4
6	10	6	10
4	8	3	2
3	5	2	1
5	2	8	2
6	7	3	2
5	1	6	2

7	10	1	8
8	7	8	3
8	5	4	8
6	9	10	2
5	1	4	9
1	10	6	2
6	9	0	3

B 组

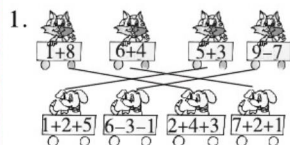


练习 19 (第 42 页)

A 组

4	1	<	10
9	7	>	3
9	9	>	6
9	8	=	2
6	2	>	9
9	5	<	9
4	7	>	2
8	9	>	3
10	1	=	3
1	8	=	9
10	8	>	4
4	6	=	8
4	5	>	4
5	1		4
10	6		5

B 组



2. 3 $10 - 7 = 3$

请沿此虚线裁剪下使用





第八单元口算能力测试

(第43页)

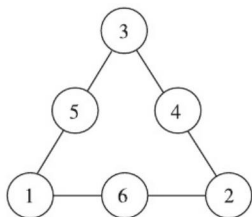
A组

4	8	5	2
6	2	3	4
0	6	0	2
6	5	2	9
5	7	3	9
2	5	7	5
9	9	1	5
3	8	4	4
6	8	6	0
4	3	2	10
6	1	6	8
5	8	5	4
9	4	1	4
10	8	1	2
9	7	3	8

B组

1. (1) $10 - 4 = 6$
(2) $2 + 2 + 3 = 7$

2.



第九单元 练习1(第44页)

A组

5	2	<	2
2	8	<	1
7	3	<	9
1	6	>	0
10	1	>	7
7	8	<	6

5	4	>	4
9	10	<	6
1	4	<	4
10	6	<	10
9	0	>	7
4	6	<	6
6	5		10
2	2		0
6	7		6
3	3		2

B组

1. 8 10 11 13 14
19 18 16 15 14

2. (1) 16(答图略)

(2) 17(答图略)

练习2(第45页)

A组

1	7	4	<
9	2	6	>
8	10	0	>
2	5	6	>
5	7	6	>
6	7	2	<
7	10	9	>
8	4	3	<
8	6	5	<
6	8	8	<
10	6	8	>
5	1	10	>
4	8	1	
7	9	10	

B组

1. 15 20 16

1 5 2 1 6

2. (1) 1 7

(2) 14

练习3(第46页)

A组

8	9	8	15
11	10	10	15
6	4	17	9
13	8	1	9
10	15	10	13
6	10	5	3
4	1	18	5
5	2	10	9
14	5	1	14
9	16	10	6
4	8	9	13
4	7	3	9
19	6	6	17
3	4	10	5
8	9	2	4
10	10	2	16

B组

1. $10 + 3 = 13$
2. $14 - 4 = 10$

练习4(第47页)

A组

4	9	7	=
4	3	8	<
6	3	2	<
14	10	10	<
3	1	7	<
10	1	10	<
6	10	5	=
5	15	5	>



请沿此虚线裁剪下使用



$$\begin{array}{rclcl} 9 & 10 & 7 & = \\ 8 & 10 & 10 & < \\ 10 & 9 & 5 & < \\ 10 & 2 & 1 & < \\ 2 & 18 & 3 & \\ 7 & 1 & 10 & \\ 7 & 9 & 6 & \end{array}$$

B 组

1. 略
2. 12 13 15 16 19 20
3. 略

第九单元口算能力测试

(第48页)

A 组

$$\begin{array}{rclcl} 8 & 10 & 10 & 15 \\ 9 & 8 & 10 & 18 \\ 11 & 6 & 3 & 3 \\ 3 & 10 & 17 & 5 \\ 5 & 9 & 3 & 7 \\ 6 & 12 & 10 & 12 \\ 6 & 4 & 8 & 6 \\ 13 & 10 & 9 & 4 \\ 6 & 2 & 14 & 9 \\ 10 & 15 & 8 & 7 \\ 4 & 7 & 9 & 17 \\ 16 & 4 & 7 & 5 \\ 10 & 18 & 2 & 15 \\ 2 & 2 & 7 & 13 \\ 8 & 4 & 10 & 5 \end{array}$$

B 组

1. $10 + 4 = 14$ $4 + 10 = 14$
 $14 - 4 = 10$ $14 - 10 = 4$
2. (1) $2 + 10 = 12$ (或 $10 + 2 = 12$)
(2) $15 - 5 = 10$

第十单元 练习1 (第49页)

A 组

$$\begin{array}{rclcl} 9 & 6 & 8 & > \\ 8 & 9 & 10 & < \\ 10 & 10 & 4 & = \\ 4 & 10 & 17 & > \\ 14 & 11 & 9 & > \\ 7 & 3 & 5 & < \\ 13 & 15 & 14 & > \\ 5 & 10 & 8 & > \\ 9 & 12 & 12 & > \\ 9 & 10 & 4 & = \\ 8 & 2 & 15 & < \\ 10 & 16 & 10 & = \\ 17 & 4 & 5 & > \\ 6 & 10 & 4 & \\ 16 & 7 & 6 & \\ 10 & 3 & 18 & \end{array}$$

B 组

$$\begin{array}{l} 1. \begin{array}{l} 9 + 4 = 13 \\ \begin{array}{|c|c|} \hline 1 & 3 \\ \hline \end{array} \\ 10 \end{array} \quad \begin{array}{l} 9 + 6 = 15 \\ \begin{array}{|c|c|} \hline 1 & 5 \\ \hline \end{array} \\ 10 \end{array} \end{array}$$

$$2. 9 + 5 = 14$$

$$\text{或 } 5 + 9 = 14$$

练习2 (第50页)

A 组

$$\begin{array}{rclcl} 9 & 6 & 8 & 17 \\ 10 & 10 & 10 & 10 \\ 7 & 4 & 7 & 14 \\ 13 & 12 & 17 & 15 \\ 9 & 8 & 7 & 3 \\ 15 & 10 & 7 & 13 \\ 3 & 9 & 10 & 5 \end{array}$$

$$\begin{array}{rclcl} 10 & 14 & 9 & 2 \\ 11 & 6 & 4 & 4 \\ 5 & 14 & 10 & 12 \\ 15 & 3 & 16 & 6 \\ 8 & 10 & 2 & 4 \\ 13 & 7 & 4 & 12 \\ 3 & 7 & 8 & 7 \\ 1 & 5 & 4 & 10 \end{array}$$

B 组

1. $9 + 6 = 15$ (辆)
2. $9 + 5 = 14$ (只)

练习3 (第51页)

A 组

$$\begin{array}{rclcl} 9 & 12 & 2 & 13 \\ 9 & 3 & 10 & 7 \\ 11 & 11 & 17 & 10 \\ 9 & 8 & 4 & 15 \\ 12 & 12 & 17 & 6 \\ 9 & 4 & 9 & 14 \\ 6 & 0 & 10 & 10 \\ 13 & 13 & 3 & 14 \\ 13 & 10 & 16 & 2 \\ 8 & 11 & 14 & 8 \\ 10 & 7 & 5 & 16 \\ 6 & 18 & 10 & 15 \\ 16 & 7 & 9 & 4 \\ 5 & 10 & 8 & 15 \\ 14 & 4 & 4 & 8 \\ 12 & 15 & 16 & 1 \end{array}$$

B 组

$$\begin{array}{l} 1. \begin{array}{l} 8 + 6 = 14 \\ \begin{array}{|c|c|} \hline 2 & 4 \\ \hline \end{array} \\ 10 \end{array} \quad \begin{array}{l} 7 + 7 = 14 \\ \begin{array}{|c|c|} \hline 3 & 4 \\ \hline \end{array} \\ 10 \end{array} \end{array}$$

$$2. 8 + 5 = 13$$

请沿此虚线裁剪下使用





练习4(第52页)

A组

7	12	5	<
9	16	9	<
10	10	11	>
15	10	5	<
8	8	15	=
3	9	5	<
10	4	16	=
16	14	11	<
4	3	9	>
10	13	11	=
0	12	15	>
12	5	17	>
10	10	13	<
14	8	7	
18	17	15	
13	16	14	

B组

14
16
15

练习5(第53页)

A组

2	6	9	2
11	12	15	5
6	10	6	7
4	6	11	3
12	8	11	6
11	10	10	2
10	13	14	7
12	9	14	6
8	13	15	0
4	7	7	9
15	14	14	5
8	10	11	6

13	16	4	6
9	4	14	10
17	12	10	10

B组

1. $4 + 8 = 12$ $5 + 7 = 12$
 $8 + 4 = 12$ $7 + 5 = 12$
 2. $9 + 5 = 14$ (下)

练习6(第54页)

A组

10	16	10	>
18	10	12	<
12	14	13	<
11	11	10	<
3	15	17	<
14	10	10	<
14	10	13	<
12	13	0	>
11	2	19	>
5	15	9	=
6	14	17	>
12	12	14	
11	12	10	
9	7	10	
15	18	10	
9	16	11	

B组

1. $2 + 9 = 11$ $7 + 5 = 12$ $4 + 8 = 12$ $8 + 3 = 11$ $7 + 7 = 14$
 $6 + 9 = 15$ $4 + 7 = 11$ $6 + 6 = 12$ $8 + 7 = 15$ $9 + 5 = 14$
 2. $6 + 6 = 12$ (朵)

练习7(第55页)

A组

10	12	5	16
----	----	---	----

6	8	5	4
17	16	12	15
11	11	9	12
4	13	12	10
17	11	10	4
14	12	13	11
4	15	9	11
14	17	10	11
11	13	13	19
11	15	9	14
12	11	19	12
18	15	14	11
12	11	3	8
18	14	16	11

B组

1. $4 + 8 = 12$ $3 + 10 = 13$
 $3 + 9 = 12$ $5 + 8 = 13$
 $2 + 10 = 12$ $6 + 7 = 13$
 (或 $6 + 6 = 12$)
 2. $8 + 5 = 13$ (棵)

第十单元口算能力测试

(第56页)

A组

8	9	15	7
12	14	9	3
11	9	13	8
11	10	10	7
11	11	15	5
10	10	12	3
10	14	11	7
9	11	13	5
13	18	12	8
16	12	11	7
13	12	15	3
12	13	16	6



14 14 17 2
17 15 12 6
14 13 11 6
16 16 15 5

B 组

1. $6 + 9 = 15$ (元)

2. $6 + 8 = 14$ (元)

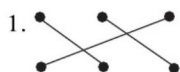
3. $9 - 6 = 3$ (元)

第十一单元 练习1 (第57页)

A 组

8 5 1 >
2 2 1 >
5 7 4 >
7 1 0 =
9 10 2 =
8 7 3 <
8 5 2 <
6 9 2 >
5 1 2 <
1 10 1 =
6 9 6 >
8 4 0 <
4 6 3
7 2 2
10 6 1
8 3 5

B 组



2. 略

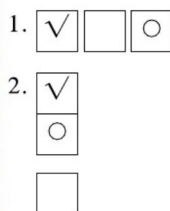
练习2 (第58页)

A 组

6 4 0 8
8 5 9 6

2 10 8 3
5 8 1 7
8 8 9 8
8 6 3 0
5 9 4 6
6 10 3 3
10 2 7 0
9 2 5 5
4 8 10 6
10 10 9 5
5 9 4 4
10 4 1 6
2 6 4 5
10 6 10 7

B 组



练习3 (第59页)

A 组

8 6 7 3
9 1 4 2
4 3 10 1
10 10 7 8
3 9 7 5
5 8 6 7
8 10 10
5 3 9
8 9 6
10 0 4
0 5 8

1 10 9
5 8 7
10 5 4
1 9 2
3 3 2

B 组

②⑨⑫ ①⑥⑩ ③⑤⑦
④⑧⑪

练习4 (第60页)

A 组

2 6 2 <
7 8 5 >
3 5 0 >
6 8 2 <
1 2 6 >
8 6 1 <
4 10 7 <
9 7 4 =
4 8 3 >
6 5 2 <
0 9 2 =
6 1 2 <
5 6 3
2 8 0
9 4 7
3 7 0

B 组

左 上 上 右 上 左

练习5 (第61页)

A 组

6 2 6 >
8 9 1 =





3 8 1 >
6 2 1 >
1 1 6 <
8 10 7 =
4 7 9 >
10 5 <
4 7 >
6 10 >
0 1 =
6 10 =
5 9
2 4
9 6
3 2

B 组

1. 9 10 0
2. 3 9
3. 0
4. ⑩

练习6(第62页)

A 组

6 8 7 >
3 8 5 <
2 5 1 =
7 6 0 =
2 6 6 >
9 8 8 >
5 4 7 >
3 4 6 <
8 7 0 =
9 1 1 >
8 10 3 >

9 5 5
6 5 3
7 2 6
1 2 0
9 7 10

B 组

1. 3 4 3 4

2.

练习7(第63页)

A 组

5 2 1 7
7 9 1 7
8 8 3 3
4 6 2 6
9 5 6 1
2 1 8 2
10 6 10 8
4 8 7
4 4 1
1 4 2
8 7 4
10 8 5
8 5 5
2 7 5
5 1 0
7 10 5

B 组

7 8
9-2 8-1
1+6 5+3 9-1
10-2
9 10
4+5 10-1
9+0 7+3 4+6
5+5

练习8(第64页)

A 组

8 7 0 6
8 7 2 3
6 10 2 3
7 1 6 8
1 10 0 3
6 9 1 1
6 5 3 8
10 6 5 9
7 2 2 9
9 5 5 4
4 10 0 8
8 2 5 10
2 8 1 0
7 2 2 8

B 组

1. $5+4=9$ $2.5+3=8$
 $4+5=9$ $3+5=8$
 $9-4=5$ $8-3=5$
 $9-5=4$ $8-5=3$

练习9(第65页)

A 组

4 7 6 <

请沿此虚线裁剪下使用



4	7	9	>
15	6	6	<
6	5	17	>
10	9	10	>
10	14	5	>
5	3	10	<
9	10	1	=
13	4	10	>
13	8	10	>
10	16	7	<
10	2	3	<
9	8	2	
0	3	3	
1	2	19	
10	2	9	

B 组

1. (1) 1 8
- (2) 14
- (3) 20

2. $15 - 5 = 10$ (只)

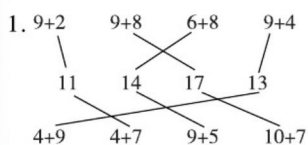
练习 10 (第 66 页)

A 组

10	9	6	12
8	10	11	5
12	4	7	13
14	13	15	3
12	4	4	15
4	11	14	8
10	12	9	18
9	8	13	15
9	13	6	5

10	10	10	12
4	14	16	17
11	17	4	5
7	7	12	10
18	11	10	11
4	4	16	7
13	15	1	10

B 组



2. $8 + 7 = 15$ (本)

口算能力期末综合测评(一)

(第 67 页)

5	>	2
8	<	0
4	>	2
11	<	2
11	>	3
14	<	3
14	<	4
12	>	4
8	<	3
6	>	0
10	>	5
13	>	5
9	<	0
15	>	6
11	<	4
2	>	6
0	<	7

13	=	6
1	>	7
17	<	8
5		7
6		1
18		9
10		8

口算能力期末综合测评(二)

(第 68 页)

6	0	7
10	11	10
14	9	6
12	11	6
12	13	13
6	15	4
14	10	10
11	10	9
11	15	17
4	5	3
12	12	10
7	1	11
16	18	3
7	10	1
13	14	10
4	9	15
17	10	0
0	11	5
6	8	2
13	2	9
3	14	5
7	13	5
15	8	18
3	10	10

请沿此虚线裁剪下使用



图书在版编目(CIP)数据

星级口算天天练. 数学一年级. 上: SJ版/荣德基

主编. — 合肥: 安徽教育出版社, 2019 (2020.5重印)

ISBN 978-7-5336-8912-4

I. ①星… II. ①荣… III. ①速算—小学—习题集

IV. ①G624.565

中国版本图书馆CIP数据核字(2019)第056186号

星级口算天天练·一年级数学上(SJ版)

XINGJI KOUSUAN TIANTIANLIAN · YINIANJI SHUXUE SHANG (SJ BAN)

出版人: 费世平

质量总监: 武常春

责任编辑: 张利

责任校对: 牛帅

装帧设计: 典点瑞泰

责任印制: 荣德印务

出版发行: 时代出版传媒股份有限公司 安徽教育出版社

地址: 合肥市经开区繁华大道西路398号 邮编: 230601

网址: <http://www.ahep.com.cn>

营销电话: (0551) 63683016, 63683015

排版: 北京华艺优创文化发展有限公司

印刷: 天津嘉杰印务有限公司

开本: 787×1092 1/16

印张: 5.5

字数: 120千字

版次: 2019年4月第1版 2020年5月第2次印刷

定价: 22.90元

(如发现印装质量问题, 影响阅读, 请与本社营销部联系调换)



口算脑算用心算

巧算速算不难算

🌐 荣德基官方网站:

<http://www.rudder.com.cn>

🏠 荣德基天猫旗舰店:

<http://rongdeji.tmall.com>

☎ 客服热线: 182 1039 5892



荣德基小学频道
链接最新教育资讯

ISBN 978-7-5336-6912-4



9 787533 669124

定价: 22.90元