

教辅资料站

电子教辅 试卷练习
知识总结 备课资源



中国品牌创新发展工程 推荐品牌



荣德基 主编

—— 扫码关注获取更多学习资料 ——



星级口算 天天练

一年级数学 上(XS版)



时代出版传媒股份有限公司
安徽教育出版社



常规好题 题题好 变式妙题 道道妙




荣德基 主编

星级口算 天天练

一年级 数学上 (XS 版)

本册主编：杜小慧



学 校：_____

班 级：_____

姓 名：_____

喜欢的格言：_____

ARTIME
时代出版

时代出版传媒股份有限公司
安徽教育出版社

图书在版编目 (CIP) 数据

星级口算天天练. 一年级数学. 上 : XS 版 / 荣德基
主编. — 合肥 : 安徽教育出版社, 2020. 5
ISBN 978-7-5336-9089-2

I. ①星… II. ①荣… III. ①速算—小学—习题集
IV. ①G624.565

中国版本图书馆 CIP 数据核字 (2020) 第 044791 号

星级口算天天练·一年级数学上 (XS 版)

XINGJI KOUSUAN TIAN TIAN LIAN · YI NIANJI SHUXUE SHANG (XS BAN)

出 版 人: 费世平
质量总监: 武常春
责任编辑: 付岩岩
责任校对: 牛 帅
装帧设计: 典点瑞泰
责任印制: 荣德印务

出版发行: 时代出版传媒股份有限公司 安徽教育出版社
地 址: 合肥市经开区繁华大道西路 398 号 邮编: 230601
网 址: <http://www.ahep.com.cn>
营销电话: (0551) 63683016, 63683015
排 版: 北京华艺优创文化发展有限公司
印 刷: 天津嘉杰印务有限公司

开 本: 787×1092 1/16
印 张: 5
字 数: 120 千字
版 次: 2020 年 5 月第 1 版 2020 年 5 月第 1 次印刷
定 价: 22.90 元

(如发现印装质量问题, 影响阅读, 请与本社营销部联系调换)

目 录

上学了

练习1 数一数	1
练习2 比一比	2

第一单元 10 以内数的认识

和加减法（一）

练习1 1~5 的认识（一）	3
练习2 1~5 的认识（二）	4
练习3 0 的认识	5
练习4 比 较	6
练习5 习题课	7
练习6 5 以内数的加法	8
练习7 5 以内数的减法	9
练习8 习题课	10
练习9 整理与复习	11
第一单元口算能力测试	12



第二单元 10 以内数的认识

和加减法（二）

练习1 6~10 的认识	13
练习2 第 几	14
练习3 习题课	15
练习4 6, 7 的加法	16
练习5 6, 7 的减法	17
练习6 习题课	18
练习7 8, 9 的加减法	19
练习8 10 的加减法	20
练习9 习题课	21



练习 10 连加、连减	22
练习 11 加减混合	23
练习 12 习题课	24
练习 13 整理与复习	25
第二单元口算能力测试	26



第三单元 分一分 认识图形

练习 1 分一分	27
练习 2 认识图形	28
第三单元口算能力测试	29

第四单元 11~20 各数的认识

练习 1 认识 11~20 各数 (一)	30
练习 2 认识 11~20 各数 (二)	31
练习 3 习题课	32
练习 4 不进位加法和不退位减法 (一)	33
练习 5 不进位加法和不退位减法 (二)	34
练习 6 习题课	35
练习 7 整理与复习	36
第四单元口算能力测试	37



第五单元 20 以内的进位加法

练习 1 9 加几 (一)	38
练习 2 9 加几 (二)	39
练习 3 习题课	40
练习 4 8 加几 (一)	41
练习 5 8 加几 (二)	42
练习 6 习题课	43

练习7 7, 6 加几(一)	44
练习8 7, 6 加几(二)	45
练习9 习题课	46
练习10 整理与复习	47
第五单元口算能力测试	48



第六单元 20 以内的退位减法



练习1 11 减几	49
练习2 习题课	50
练习3 12, 13 减几	51
练习4 习题课	52
练习5 14, 15 减几	53
练习6 习题课	54
练习7 16, 17, 18 减几	55
练习8 习题课	56
练习9 整理与复习	57
第六单元口算能力测试	58

第七单元 总复习

练习1 10 以内数的认识和加减法(一)	59
练习2 10 以内数的认识和加减法(二)	60
练习3 分一分 认识图形	61
练习4 11~20 各数的认识	62
练习5 20 以内的进位加法	63
练习6 20 以内的退位减法	64
口算能力期末综合测评(一)	65
口算能力期末综合测评(二)	66
参考答案	67

微信公众
教辅资料站





练习1 数一数

用时: ___分___秒

错误: ___个

A组 常规口算题

◆ 数一数,填数。



()



()



()



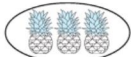
()



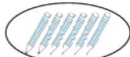
()



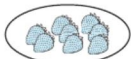
()



()



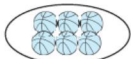
()



()



()



()



()

◆ 连一连。



9



3



4



2



8

◆ 数一数,算一算。


+ = ()

+ = ()


B组 变式口算题

1. 数一数,填一填,并在下面相应

个数的○上涂色。



()

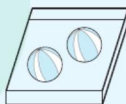


()

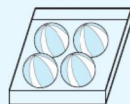


2. 写数。

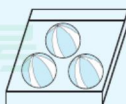
数出盒子里皮球的个数,并将数出的结果写在相应的括号里。



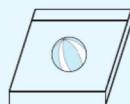
()



()



()



()

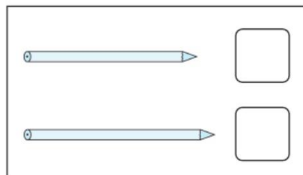
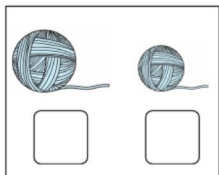
练习2 比一比

用时: ___ 分 ___ 秒



错误: ___ 个

A组 常规口算题



- ◆ 在长的 ☐ 里画“√”, 在短的 ☐ 里画“○”。



- ◆ 在大的 ☐ 里画“√”, 在小的 ☐ 里画“○”。




- ◆ 在多的 ☐ 里画“√”, 在少的 ☐ 里画“○”。




B组 变式口算题

1. 在高的 ☐ 里画“√”。



2. 在重的 ☐ 里画“√”。



第一单元 10以内数的认识和加减法（一）

难易等级：




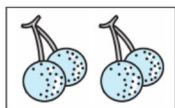
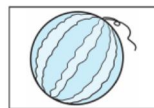
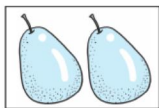
练习1 1~5的认识（一）

用时：__分__秒

错误：__个

A组 常规口算题

1. 看图写数。



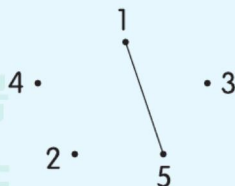

2. 看数涂色。

5	
3	
2	
4	

B组 变式口算题

1. 数一数，把数目相同的连一连。

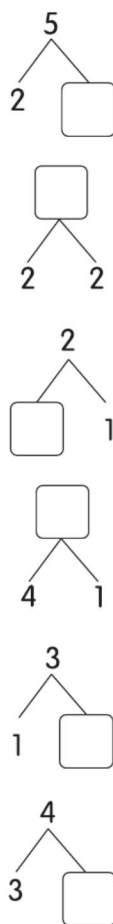
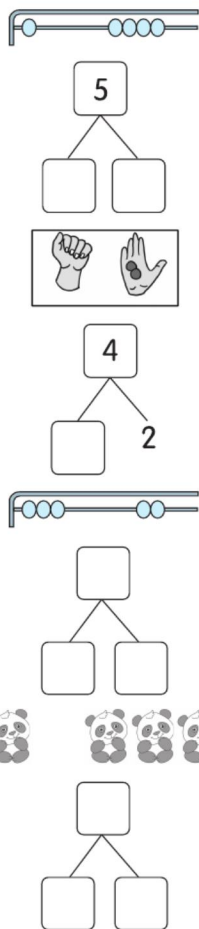
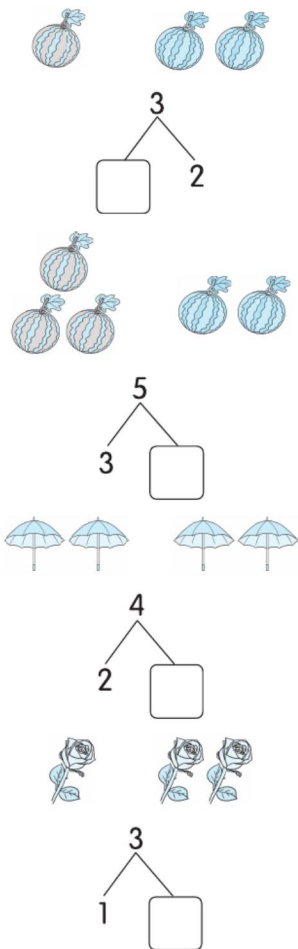
2. 从1顺次连到5。



练习2 1~5 的认识 (二)

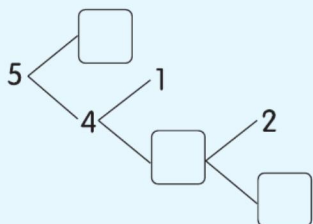
用时: ___ 分 ___ 秒 错误: ___ 个

A组 常规口算题



B组 变式口算题

1. 填一填。



2. 把相加得 5 的连起来。

2	4
4	3
1	2
3	1



练习3 0的认识

用时: ___分___秒 错误: ___个

A组 常规口算题

◆ 数一数,连一连。



4



5



2



6



0

◆ 数一数,涂一涂。

4个涂色 ○ ○ ○ ○ ○

2个涂色 ♥ ♥ ♥ ♥ ♥

0个涂色 △ △ △ △ △

1个涂色 □ □ □ □ □

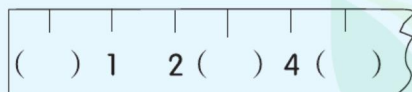
5个涂色 ☆ ☆ ☆ ☆ ☆
☆ ☆

3个涂色 ○ ○ ○ ○ ○ ○ ○

2个不涂色 ♥ ♥ ♥ ♥ ♥ ♥ ♥

B组 变式口算题

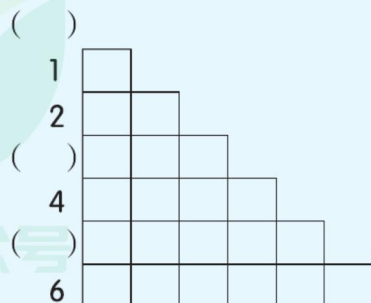
1. 填一填。



3. 数方格填数。

2. 连一连。(按0~5的顺序连)

4
2
1
0
5
3



练习4 比较

用时: ___ 分 ___ 秒 错误: ___ 个

A组 常规口算题



4 ○ 3



5 ○ 4



2 ○ 5



4 ○ 4

◆ 填上“>”“<”或“=”。

4 ○ 2

1 ○ 3

4 ○ 4

3 ○ 5

2 ○ 1

4 ○ 5

1 ○ 1

3 ○ 4

2 ○ 2

4 ○ 1

3 ○ 2

5 ○ 2

1 ○ 5

◆ 填一填。

2 3

□ < □

□ > □

3 5

□ < □

□ > □

4 1

□ < □

□ > □

3 4

□ < □

□ > □

B组 变式口算题

1. 比大小。



□ > □



□ < □

2. 填一填。



4 < □

5 > □



4 > □

2 < □

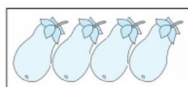

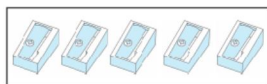
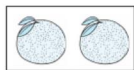


练习5 习题课

用时: ____分 ____秒 错误: ____个

A组 常规口算题

◆ 看图写数。



◆ 比较大小。

$1 \bigcirc 2$

$3 \bigcirc 3$

$3 \bigcirc 1$

$5 \bigcirc 5$

$2 \bigcirc 1$

$4 \bigcirc 0$

$5 \bigcirc 4$

$1 \bigcirc 5$

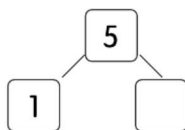
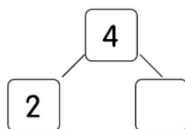
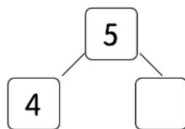
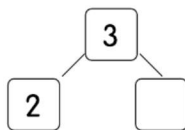
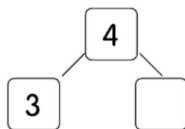
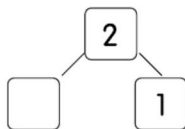
$4 \bigcirc 3$

$0 \bigcirc 5$

$2 \bigcirc 4$


$4 \bigcirc 4$

◆ 填一填。




B组 变式口算题

1. 根据数字看看还缺几个, 把它们画完整。



2. 5个人吃饭, 能坐下吗? 能坐下画“√”, 不能坐下画“×”。



()



练习6 5以内数的加法

用时: ___分___秒 错误: ___个

A组 常规口算题

◆ 看图算数。



$$1 + 4 = \square$$



$$2 + 2 = \square$$



$$2 + 1 = \square$$



$$\square + \square = \square$$



$$\square + \square = \square$$

$$2 + 1 =$$

$$1 + 4 =$$

$$1 + 3 =$$

$$1 + 2 =$$

$$2 + 3 =$$

$$4 + 1 =$$

$$1 + 1 =$$

$$3 + 1 =$$

$$2 + 2 =$$

$$3 + 2 =$$

$$1 \bigcirc 4$$

$$2 \bigcirc 3$$

$$5 \bigcirc 4$$

$$3 + (\quad) = 4$$

$$(\quad) + 2 = 5$$

$$2 + (\quad) = 4$$

$$3 + (\quad) = 5$$

$$1 + (\quad) = 4$$

$$1 + (\quad) = 5$$

$$(\quad) + 1 = 4$$

$$(\quad) + 3 = 4$$

$$(\quad) + 4 = 5$$

$$(\quad) + 2 = 3$$

$$1 + (\quad) = 3$$

$$(\quad) + 2 = 4$$

$$1 + (\quad) = 2$$

$$(\quad) + 3 = 5$$

$$(\quad) + 1 = 5$$

B组 变式口算题

1. 填一填。

1	+ 2 =	
2		
3		

2. 按规律填数。



3. 连线。

3 + 2	4
1 + 2	
2 + 2	5
4 + 1	
1 + 3	3



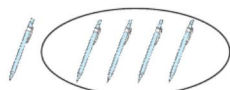
练习7 5以内数的减法

用时: ___分___秒 错误: ___个

A组 常规口算题



$$4 - 3 = \square$$



$$5 - 4 = \square$$



$$\square - \square = \square$$



$$\square - \square = \square$$



$$\square - \square = \square$$

$$4 + 1 = \quad (\quad) - 4 = 1$$

$$5 - 3 = \quad 4 - (\quad) = 2$$

$$4 - 3 = \quad 3 - (\quad) = 1$$

$$2 + 3 = \quad 5 - (\quad) = 5$$

$$2 - 0 = \quad (\quad) - 3 = 2$$

$$5 - 2 = \quad 3 - (\quad) = 2$$

$$5 - 4 = \quad 4 - (\quad) = 3$$

$$4 - 1 = \quad 5 - (\quad) = 1$$

$$3 - 2 = \quad (\quad) - 2 = 3$$

$$3 + 0 = \quad 5 - (\quad) = 3$$

$$4 - 2 = \quad (\quad) - 0 = 4$$

$$5 - 1 = \quad 4 - (\quad) = 1$$


$$3 - 1 = \quad (\quad) - 1 = 3$$

$$1 + 2 = \quad (\quad) - 2 = 2$$

$$2 + 2 = \quad 5 - (\quad) = 2$$

B组 变式口算题

1. 看图列式。



$$\square \bigcirc \square = \square$$

2. 填一填。

(1) 妈妈买来 5 个苹果, 小明吃了 2 个, 还剩()个。

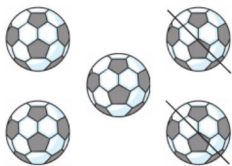
(2) 树上有 4 只鸟, 飞走了 3 只, 还剩()只。




练习8 习题课

用时: ___分___秒 错误: ___个


A组 常规口算题



$$\square \bigcirc \square = \square$$



$$\square \bigcirc \square = \square$$



$$\square \bigcirc \square = \square$$



$$\square \bigcirc \square = \square$$

$$4 - 2 =$$

$$0 + 4 =$$

$$5 - 3 =$$

$$5 - 2 =$$

$$3 + 2 =$$

$$4 - 1 =$$

$$2 + 1 =$$

$$3 - 0 =$$

$$2 - 1 =$$

$$0 + 3 =$$

$$4 - 3 =$$

$$3 - 2 =$$

$$1 + 1 =$$

$$5 - 1 =$$

$$5 - 4 =$$

$$5 - (\quad) = 4$$

$$3 - (\quad) = 1$$

$$(\quad) - 1 = 2$$

$$4 - (\quad) = 3$$

$$(\quad) - 1 = 1$$

$$5 - (\quad) = 5$$

$$(\quad) - 4 = 1$$

$$4 - (\quad) = 1$$

$$3 - (\quad) = 2$$

$$(\quad) - 3 = 1$$

$$4 - (\quad) = 2$$

$$5 - (\quad) = 1$$

$$2 - (\quad) = 0$$

$$5 - (\quad) = 2$$

$$(\quad) - 1 = 3$$

$$(\quad) - 2 = 1$$

B组 变式口算题

1. 看图列式计算。



$$3 + \square = \square$$



$$\square \bigcirc \square = \square$$

2. 填一填。

$$5 - \begin{array}{|c|} \hline 4 \\ \hline 1 \\ \hline 2 \\ \hline 3 \\ \hline \end{array} = \begin{array}{|c|} \hline \\ \hline \\ \hline \\ \hline \\ \hline \end{array}$$

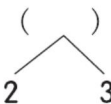


练习9 整理与复习

用时: ___分___秒 错误: ___个

A组 常规口算题

$3+2=$	$2-2=$
$0+5=$	$3-1=$
$5-1=$	$4-3=$
$2+3=$	$1+2=$
$2-0=$	$3+1=$
$1+4=$	$5-3=$
$2+2=$	$0+1=$
$3+0=$	$1-1=$
$1+1=$	$0+4=$
$0-0=$	$4-1=$
$0+2=$	$5-5=$
$1+3=$	$1-0=$
$3-2=$	$3-0=$
$4-0=$	$2-1=$
$0+3=$	$2+1=$
$3-3=$	$5-2=$



◆ 比较大小。

$3 \bigcirc 5$

$4 \bigcirc 3$

$3 \bigcirc 1+2$

$3 \bigcirc 4-1$

$1 \bigcirc 1+2$

$2 \bigcirc 5-2$

$4 \bigcirc 3-2$

$2+3 \bigcirc 4$

$4 \bigcirc 2+1$

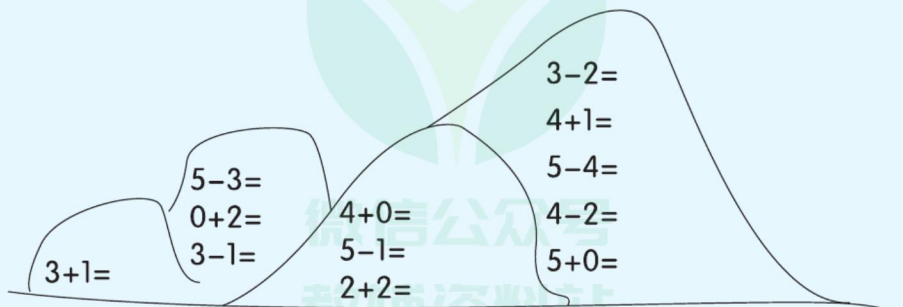
$3+2 \bigcirc 3-2$

$4+1 \bigcirc 5-2$

$4-1 \bigcirc 2+1$

B组 变式口算题

登山。



第一单元口算能力测试

用时: ___分___秒 错误: ___个

A组 常规口算题

$1+1=$

$3-2=$

(\quad)

$0+4=$

$4-4=$

$1 \quad 4$

$4-1=$

$2-1=$

(\quad)

$0+2=$

$3-1=$

$2 \quad 3$

$3+2=$

$3+1=$

$2 \quad 3$

$5-1=$

$4+1=$

(\quad)

$0+5=$

$1+2=$

$1 \quad 1$

$5-2=$

$1-0=$

(\quad)

$4-2=$

$5-5=$

(\quad)

$1+3=$

$5-3=$

$1 \quad 2$

$2-2=$

$2+2=$

(\quad)

$2+1=$

$5+0=$

4

$3-3=$

$1+4=$

$(\quad) \quad 2$

$4+0=$

$2+3=$

(\quad)

$5-4=$

$1+0=$

5

$0+3=$

$4-3=$

$4 \quad (\quad)$

◆ 比较大小。

$2 \bigcirc 1$

$0 \bigcirc 5$

$4 \bigcirc 4$

$2 \bigcirc 3$

$1 \bigcirc 5$

$5 \bigcirc 2+2$

$3 \bigcirc 4+1$

$0 \bigcirc 2+2$

$1-1 \bigcirc 0$

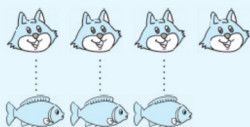
$5-5 \bigcirc 2-2$

$3+0 \bigcirc 3-0$


$5-5 \bigcirc 2+2$

B组 变式口算题

1. 填一填。



比 多(),
比 少()。



比 多(),
比 少()。

2. 把得数相等的算式连起来。

$5-4$

$2+3$

$3+1$

$4+0$

$2+0$

$3-2$

$3+2$

$1+1$

第二单元 10以内数的认识和加减法（二）

难易等级：



练习1 6~10 的认识

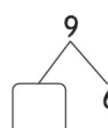
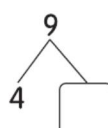
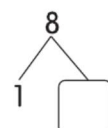
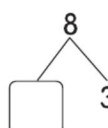
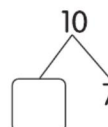
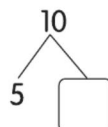
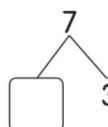
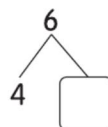
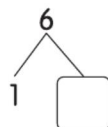
用时：___分___秒 错误：___个

A组 常规口算题

◆ 数一数，写一写。



◆ 分一分，填一填。



B组 变式口算题

想一想，填一填。



微信公众号
教辅资料站



练习2 第 几

用时: ___ 分 ___ 秒 错误: ___ 个

A组 常规口算题

$3 - 2 =$

$4 - 1 =$

$1 + 4 =$

$5 - 3 =$

$2 + 3 =$

$5 - 2 =$

$5 - 5 =$

$4 + 0 =$

$5 - 4 =$

$3 + 1 =$

$4 - 3 =$

$2 + 2 =$

$3 - 0 =$

$3 - 1 =$

$0 + 5 =$

◆ 比较大小。

$5 \bigcirc 6$

$7 \bigcirc 3$

$4 \bigcirc 5$

$5 \bigcirc 5$

$8 \bigcirc 7$

$9 \bigcirc 5$

$0 \bigcirc 6$

$4 \bigcirc 7$

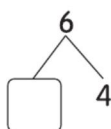
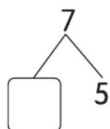
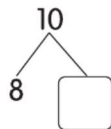
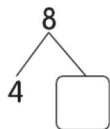
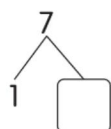
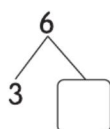
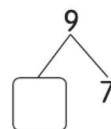
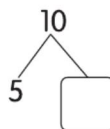
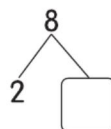
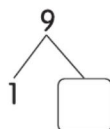
$10 \bigcirc 5$

$9 \bigcirc 10$

$0 \bigcirc 3$

$4 \bigcirc 8$

◆ 分一分,填一填。



B组 变式口算题

1.



(1)一共有()只动物。

(2)从前面数, 排第()

个, 排第()个。

(3) 从前面数排第()

个,从后面数排第()个。

2.



(1)一共有()只小兔。

(2)把前面的6只小兔圈起来。

(3)给从后面数第7只小兔涂上颜色。



练习3 习题课

用时: ___分___秒 错误: ___个

A组 常规口算题

$3 + 2 =$

$4 - 1 =$

◆ 比较大小。

$0 + 5 =$

$5 - 2 =$

$2 \bigcirc 0$

$2 - 0 =$

$4 - 4 =$

$7 \bigcirc 6$

$1 + 4 =$

$2 + 1 =$

$5 \bigcirc 7$

$3 + 0 =$

$0 + 3 =$

$5 \bigcirc 9$

$2 + 3 =$

$0 + 4 =$

$8 \bigcirc 10$

$1 + 1 =$

$1 + 0 =$

$7 \bigcirc 4$

$0 - 0 =$

$1 - 0 =$

$3 + 1 \bigcirc 6$

$1 + 2 =$

$2 - 2 =$

$5 - 0 \bigcirc 10$

$1 + 3 =$

$3 - 3 =$

$2 + 2 \bigcirc 8$

$2 + 2 =$

$5 - 4 =$

$3 - 2 \bigcirc 9$

$3 - 2 =$

$3 + 1 =$

$7 \bigcirc 2 + 3$

$5 + 0 =$

$5 - 3 =$

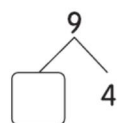
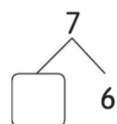
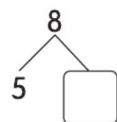
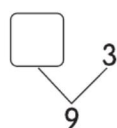
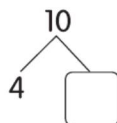
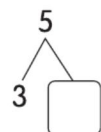
$0 \bigcirc 2 - 2$

$4 - 3 =$

$2 + 0 =$

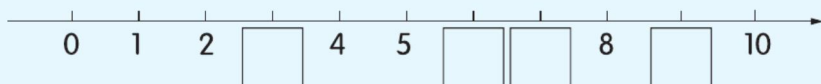
$5 - 1 =$

$1 - 1 =$



B组 变式口算题

1. 按顺序填数。



2.



第1

小亮

小亮排在第(), 小亮前面有()人, 后面有()人。



练习4 6, 7 的加法

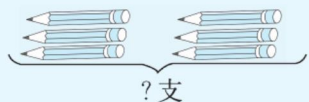
用时: ___ 分 ___ 秒 错误: ___ 个

A组 常规口算题

$5 - 3 =$	$1 + 4 =$	◆ 比较大小。	$2 + () = 4$
$3 + 4 =$	$4 - 2 =$	$4 \bigcirc 6$	$4 - () = 2$
$6 + 0 =$	$5 - 4 =$	$5 \bigcirc 7$	$2 + () = 7$
$5 - 2 =$	$5 + 2 =$	$5 \bigcirc 4$	$5 + () = 6$
$4 - 1 =$	$7 + 0 =$	$3 \bigcirc 6$	$3 + () = 6$
$4 + 3 =$	$2 + 2 =$	$3 \bigcirc 4$	$5 - () = 2$
$1 + 6 =$	$5 - 1 =$	$3 + 1 \bigcirc 5$	$() + 1 = 5$
$4 + 2 =$	$0 + 5 =$	$5 - 0 \bigcirc 6$	$() + 3 = 7$
$2 + 5 =$	$1 + 1 =$	$2 + 2 \bigcirc 5$	$2 + () = 6$
$3 + 3 =$	$3 - 0 =$	$3 - 2 \bigcirc 4$	$() + 4 = 7$
$5 - 4 =$	$3 + 1 =$	$6 + 1 \bigcirc 7$	$() + 2 = 6$
$2 + 3 =$	$4 + 0 =$	$7 \bigcirc 2 + 2$	$() + 2 = 5$
$5 + 1 =$	$5 - 3 =$	$0 \bigcirc 3 - 3$	$3 - () = 3$
$6 + 1 =$	$4 + 1 =$		$5 - () = 1$
$2 + 4 =$	$3 - 2 =$		$4 + () = 6$
$1 + 5 =$	$4 - 3 =$		$() + 3 = 5$

B组 变式口算题

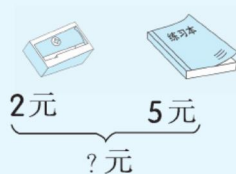
看图列式计算。



$$\square \bigcirc \square = \square \text{ (支)}$$



$$\square \bigcirc \square = \square \text{ (朵)}$$



$$\square \bigcirc \square = \square \text{ (元)}$$



练习5 6, 7的减法

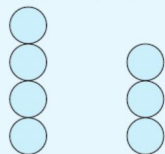
用时: ____分 ____秒 错误: ____个

A组 常规口算题

$3+2=$	$5-3=$	◆ 比较小。	$(\quad)-2=0$
$1+4=$	$1+2=$	$6\bigcirc4$	$(\quad)-3=0$
$0+5=$	$7-5=$	$4\bigcirc7$	$1+(\quad)=4$
$2+3=$	$4-1=$	$5\bigcirc7$	$4+(\quad)=6$
$7-2=$	$5+2=$	$4+3\bigcirc5$	$(\quad)+2=7$
$5+1=$	$4+3=$	$7-3\bigcirc4$	$2+(\quad)=5$
$6-3=$	$1+5=$	$3-2\bigcirc6$	$1+(\quad)=6$
$7-7=$	$2-1=$	$5\bigcirc7-2$	$3+(\quad)=3$
$1+6=$	$3+4=$	$2\bigcirc5-2$	$7-(\quad)=5$
$2+0=$	$6-2=$	$3\bigcirc2+0$	$(\quad)+3=6$
$2-2=$	$6-5=$	$7-2\bigcirc2+3$	$4+(\quad)=7$
$3-2=$	$3-1=$	$0+6\bigcirc2-2$	$(\quad)+2=5$
$3+3=$	$2+4=$	$6-1\bigcirc4+2$	$0+(\quad)=7$
$7-6=$	$1+3=$		$7-(\quad)=4$
$5-5=$	$4-2=$		$(\quad)-4=2$
$4-3=$	$4-4=$		$3+(\quad)=5$

B组 变式口算题

1. 看图列式。



$$\bigcirc + \bigcirc = \square$$

$$\bigcirc - \bigcirc = \square$$

$$\bigcirc + \bigcirc = \square$$

$$\bigcirc - \bigcirc = \square$$

2. 填一填。

6	5	4	3	2
0				

1	6	2	5	3



练习6 习题课

用时: ___分___秒 错误: ___个

A组 常规口算题

$5-3=$

$3-2=$

◆ 比较大小。

◆ 填“+”或“-”。

$2+5=$

$6-2=$

$3 \bigcirc 5$

$2 \bigcirc 5 = 7$

$2+3=$

$2+2=$

$7 \bigcirc 4$

$6 \bigcirc 4 = 2$

$1+4=$

$4-3=$

$6 \bigcirc 4$

$3 \bigcirc 2 = 5$

$7-3=$

$5-4=$

$1 \bigcirc 3$

$6 \bigcirc 2 = 4$

$2+4=$

$3+1=$

$6 \bigcirc 5$

$7 \bigcirc 5 = 2$

$5-1=$

$2-1=$

$6 \bigcirc 7$

$6 \bigcirc 1 = 5$

$7-7=$

$6-3=$

$5 \bigcirc 2$

$4 \bigcirc 4 = 0$

$5-2=$

$7-4=$

$4+2 \bigcirc 5$

$3 \bigcirc 0 = 3$

$3+2=$

$3-1=$

$5-3 \bigcirc 2$

$2 \bigcirc 2 = 0$

$6-4=$

$0+4=$

$3+2 \bigcirc 4$

$6 \bigcirc 3 = 3$

$6-5=$

$6-0=$

$5 \bigcirc 6-2$

$7 \bigcirc 1 = 6$

$3+4=$

$5+2=$

$1+6=$

$3+3=$

$7-2=$

$7-1=$

B组 变式口算题

1. 填一填。

7 -	2	=	
	4		
	1		
	5		
	3		

2. 连线。

4+2	7	7-2	4
5-3	4	4+3	6
2+5	6	5-2	5
3-3	2	3+3	3
6-2	0	1+3	7



练习7 8, 9的加减法

用时: ____分 ____秒 错误: ____个

A组 常规口算题

$3+5=$

$5+2=$

◆ 比较大小。

$(\quad)+3=3$

$7+1=$

$0+7=$

$8 \bigcirc 7$

$(\quad)-6=2$

$9-3=$

$8+1=$

$9 \bigcirc 6$

$(\quad)-7=2$

$8-3=$

$2-1=$

$7 \bigcirc 9$

$0+(\quad)=6$

$5-4=$

$4+5=$

$6 \bigcirc 6$

$(\quad)+5=5$

$8-2=$

$2+7=$

$5 \bigcirc 8$

$9-(\quad)=1$

$0+6=$

$9-5=$

$9 \bigcirc 8$

$(\quad)-3=0$

$3+1=$

$3+3=$

$4 \bigcirc 7$

$(\quad)-2=7$

$6+1=$

$4-2=$

$3+(\quad)=5$

$7+2=$

$9-4=$

$8 \bigcirc 8$

$(\quad)-5=1$

$0+4=$

$1+2=$

$6 \bigcirc 4$

$9-(\quad)=8$

$7-2=$

$5-3=$

$3 \bigcirc 1$

$(\quad)+4=9$

$6-4=$

$0+8=$

$0 \bigcirc 8$

$9-(\quad)=7$

$9-2=$

$9-7=$

$(\quad)+4=6$

$9-9=$

$2+4=$

$(\quad)-0=8$

B组 变式口算题

看图列式。

1.



$\square + \square = \square$

$\square + \square = \square$

$\square - \square = \square$

$\square - \square = \square$



2.



$\square + \square = \square$

$\square + \square = \square$

$\square - \square = \square$

$\square - \square = \square$



练习8 10的加减法

用时: ___分___秒 错误: ___个

A组 常规口算题

$0+8=$

$3+1=$

◆ 比较大小。

$4+()=5$

$9-1=$

$1+7=$

$6 \bigcirc 7$

$()+5=6$

$9-3=$

$10-2=$

$8 \bigcirc 5$

$()-4=2$

$6+2=$

$7-3=$

$10 \bigcirc 7$

$8-()=2$

$10-4=$

$9-5=$

$9 \bigcirc 8$

$()+6=6$

$7+3=$

$7-2=$

$6 \bigcirc 6$

$()-4=3$

$6+1=$

$6-4=$

$10 \bigcirc 9$

$6+()=7$

$10-8=$

$9-2=$

$4 \bigcirc 8$

$6-()=3$

$8+1=$

$10-9=$

$10 \bigcirc 8$

$()+3=9$

$2+8=$

$5+5=$

$6 \bigcirc 8$

$1+()=8$

$4+4=$

$5+2=$

$5 \bigcirc 10$

$()+2=9$

$10-3=$

$10-5=$

$()-2=4$

$1+9=$

$2+7=$

$7-()=7$

$7+2=$

$4+6=$

$2+()=10$

B组 变式口算题

猫捉老鼠。(连一连)



$5+4$



$7-5$



$10-7$



$9-3$



1



3



9



8



6



2



10



7



$6+2$



$6-5$



$4+3$



$5+5$



练习9 习题课

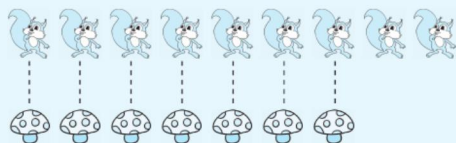
用时: ___分___秒 错误: ___个

A组 常规口算题

$2 + 4 =$	$0 + 10 =$	◆ 比较大小。	$10 - () = 4$
$3 - 3 =$	$2 + 5 =$	$1 + 1 \bigcirc 1 - 1$	$() + 2 = 8$
$0 + 9 =$	$6 - 4 =$	$1 + 2 \bigcirc 3 - 2$	$0 + () = 4$
$4 + 4 =$	$3 + 3 =$	$7 - 2 \bigcirc 1 + 8$	$() - 2 = 6$
$5 - 1 =$	$4 - 2 =$	$1 + 7 \bigcirc 4 + 4$	$() + 2 = 9$
$1 + 9 =$	$10 - 4 =$	$9 - 8 \bigcirc 1 + 9$	$() - 2 = 4$
$3 + 5 =$	$1 + 2 =$	$1 + 9 \bigcirc 9 + 1$	$7 - () = 7$
$7 + 1 =$	$5 - 3 =$	$7 + 1 \bigcirc 9 - 1$	$2 + () = 10$
$9 - 3 =$	$2 + 6 =$	$9 - 3 \bigcirc 3 + 3$	$3 + () = 5$
$8 - 3 =$	$10 - 7 =$	$10 - 4 \bigcirc 1 + 2$	$0 - () = 0$
$5 + 4 =$	$6 + 4 =$	$10 - 7 \bigcirc 2 + 4$	$10 - () = 3$
$8 - 2 =$	$7 + 3 =$	$6 - 5 \bigcirc 4 - 4$	$() + 2 = 7$
$2 + 8 =$	$10 - 2 =$	$5 - 3 \bigcirc 0 + 8$	$0 + () = 5$
$3 + 1 =$	$9 - 5 =$		$() - 2 = 7$
$6 + 1 =$	$7 - 2 =$		$() + 5 = 10$

B组 变式口算题

1. 填一填。



比 多 ()。

比 少 ()。

2. 用下面的数写出几组算式。

3 5 4 6 9 8 1 2

$$\square + \square = \square$$

$$\square - \square = \square$$

$$\square + \square = \square$$

$$\square - \square = \square$$



练习10 连加、连减

用时: ___分___秒 错误: ___个

A组 常规口算题

$3+1=$	$4+6=$	◆ 比较大小。	$7-2-2=$
$6-4=$	$4-2=$	$1+8 \bigcirc 4+4$	$8+2+0=$
$6+1=$	$10-7=$	$10-6 \bigcirc 1+2$	$2+0+4=$
$7-2=$	$2+4=$	$1+2 \bigcirc 3-0$	$3+1+4=$
$7+3=$	$3+3=$	$7+2 \bigcirc 1+8$	$7-4-1=$
$10-2=$	$0+8=$	$1+1 \bigcirc 1-1$	$3-0-3=$
$9-5=$	$4+4=$	$1+9 \bigcirc 9+1$	$4+2+3=$
$9-2=$	$5-1=$	$8+2 \bigcirc 9-3$	$4-2-0=$
$10-9=$	$1+9=$	$7-1 \bigcirc 9-3$	$7+1+1=$
$7+2=$	$1+5=$	$6+1 \bigcirc 10-2$	$10-7-3=$
$5+5=$	$10-5=$	$9-3 \bigcirc 3+3$	$7-5-1=$
$5+2=$	$3+6=$	$9-5 \bigcirc 1+4$	$10-5-5=$
$9-4=$	$1+1=$	$10-7 \bigcirc 2+4$	$3+1+1=$
$10-4=$	$8+1=$		$4+2+4=$
$2+8=$	$4-1=$		$1+4+5=$
$2+7=$	$9-3=$		$1+3+1=$

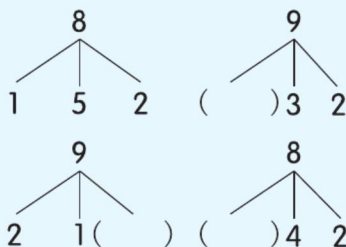
B组 变式口算题

1. 看图列式计算。



$$\square + \square + \square = \square (\text{朵})$$

2. 动脑筋, 填一填。





练习11 加减混合

用时: ____分 ____秒 错误: ____个

A组 常规口算题

$3+6=$	$5+5=$	$(\quad)-0=6$	$1+5+1=$
$3+5=$	$5+2=$	$10-(\quad)=8$	$1+6+2=$
$7+1=$	$9-4=$	$4+(\quad)=9$	$1+7-2=$
$9-3=$	$8+1=$	$7-(\quad)=6$	$2+1+7=$
$8-3=$	$2-1=$	$(\quad)-3=0$	$2+3+5=$
$5-4=$	$4+6=$	$(\quad)+7=8$	$2-1+1=$
$8-2=$	$2+7=$	$5-(\quad)=2$	$6+1+1=$
$10-8=$	$9-5=$	$(\quad)-5=5$	$4+2-3=$
$3+1=$	$3+3=$	$(\quad)+6=9$	$9-6+5=$
$6+1=$	$4-2=$	$1+(\quad)=8$	$9-5-2=$
$7+3=$	$10-4=$	$7-(\quad)=7$	$3+5+1=$
$10-2=$	$1+2=$	$6+(\quad)=10$	$9-3-4=$
$7-2=$	$5-3=$	$(\quad)+2=8$	$2+2-1=$
$6-4=$	$0+8=$	$(\quad)-3=4$	$1+1+2=$
$9-2=$	$10-7=$	$3+(\quad)=4$	$1+1+1=$
$10-9=$	$2+4=$	$9-(\quad)=0$	$3+3+3=$

B组 变式口算题

1. 连线。

$3+2+4$	5
$9-7+3$	9
$5-3+4$	8
$10-4+2$	6

2. 我会填。

(1) $\boxed{4} \xrightarrow{+2} \boxed{\quad} \xrightarrow{-3} \boxed{\quad} \xrightarrow{+5} \boxed{\quad} \xrightarrow{-6} \boxed{\quad}$

(2) $\boxed{10} \xrightarrow{-6} \boxed{\quad} \xrightarrow{-3} \boxed{\quad} \xrightarrow{+5} \boxed{\quad} \xrightarrow{-5} \boxed{\quad}$

(3) $\boxed{10} \xrightarrow{\bigcirc \boxed{\quad}} \boxed{5} \xrightarrow{\bigcirc \boxed{\quad}} \boxed{9}$



练习12 习题课

用时: ___分___秒 错误: ___个

A组 常规口算题

$6-3=$	$3+1=$	$3+3=$	$2+2+3=$
$4-4=$	$6+1=$	$4-2=$	$7+2+1=$
$5+1=$	$7+3=$	$10-4=$	$6+3+1=$
$10-6=$	$10-2=$	$1+2=$	$10-3-5=$
$7-4=$	$7-2=$	$5-3=$	$9-5-3=$
$2+3=$	$6-4=$	$0+8=$	$2+2+2=$
$1+5=$	$9-2=$	$10-7=$	$3-2+1=$
$10-5=$	$10-9=$	$2+4=$	$2-1+1=$
$3+4=$	$5+5=$	$6-5=$	$6+1+1=$
$3+5=$	$5+2=$	$4+4=$	$4+2-3=$
$7+1=$	$9-4=$	$5-1=$	$9-6+5=$
$9-3=$	$8+1=$	$1+9=$	$9-5-2=$
$8-3=$	$2-1=$	$8-4=$	$3+5+1=$
$5-4=$	$4+6=$	$6+0=$	$9-3-4=$
$8-2=$	$2+7=$	$3-3=$	$2+2-1=$

B组 变式口算题

1. 连线。

$5+4-3$ $3+3+2$ $2+3+4$ $8-2-3$

8

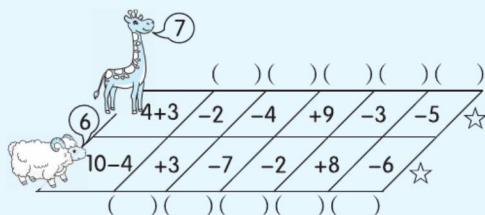
9

6

3

$1+2+5$ $7-4+5$ $10-2-5$ $9-1-2$

2. 看谁先得到☆。





练习13 整理与复习

用时: ___分___秒 错误: ___个

A组 常规口算题

$6-2=$

$8-7=$

$3+6=$

$1+6=$

$8+1=$

$1+8=$

$9+0=$

$2+6=$

$4+2=$

$9-7=$

$2+7=$

$3+2=$

$9-5=$

$3+4=$

$1+7=$

$5+4=$

$6+4=$

$7-6=$

$10-9=$

$3+5=$

$7+3=$

$7+1=$

$8-4=$

$9-3=$

$7-3=$

$8-3=$

$2+3=$

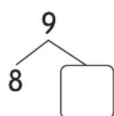
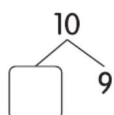
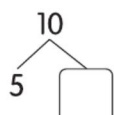
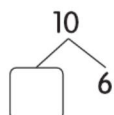
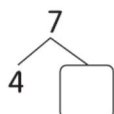
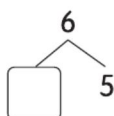
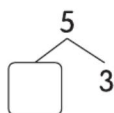
$5-4=$

$0+10=$

$8-2=$

$10-2=$

$0+8=$



$4+4+2=$

$3+3-3=$

$1+2+3=$

$2+2+6=$

$7-7+9=$

$3+5+1=$

$9-3-4=$

$2+2-1=$

$9-2-4=$

$6-4-1=$

$10-4-2=$

$9-2-1=$

$7-2-1=$

$9-7-2=$

$1+2+2=$

$8-5-3=$

B组 变式口算题

1. 连线。



2. (1) 商店里有苹果 5 箱, 卖出 3 箱, 又运进 4 箱, 现在有 () 箱。

(2) 小明有 9 元, 买玩具花去 2 元, 又买铅笔盒花去 4 元, 还剩下 () 元。



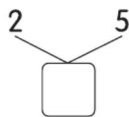
第二单元口算能力测试

用时: ___分___秒 错误: ___个

A组 常规口算题

$8-4=$

$2+6=$



$8-5-1=$

$6+0=$

$9-7=$

$4-2-2=$

$3-3=$

$8-2=$

$7-3-2=$

$1+5=$

$3+2=$

$5+1+3=$

$10-5=$

$3+4=$

$4+1+4=$

$1+1=$

$8-3=$

$2+4+1=$

$8+1=$

$5+4=$

$7-1-1=$

$4-1=$

$3+5=$

$5-3-2=$

$9-3=$

$7+1=$

$10-3-7=$

$7-3=$

$6-3=$

$4+4+2=$

$4+2=$

$5-4=$

$9-5-4=$

$7-2=$

$0+8=$

$10-4-2=$

$4+5=$

$3+1=$

$10-1-5=$

$4+6=$

$10-2=$

$1+4+3=$

$3+6=$

$6+1=$

$2+1+5=$

B组 变式口算题

1. 看谁采的蜜多。(比较大小)



$\square < \square < \square < \square$

2. 开动脑筋,使等号两边的结果同样大。

$8-(\quad)=3+(\quad)$

$4+(\quad)=9-(\quad)$



口算能力期末综合测评(一)

用时: ___分___秒 错误: ___个

$10 - 10 =$

$16 - 6 =$

◆ 比较大小。

$9 + 8 - 8 =$

$12 + 4 =$

$14 + 3 =$

$17 \bigcirc 15$

$1 + 9 - 4 =$

$3 + 10 =$

$5 + 11 =$

$3 \bigcirc 4$

$6 + 6 + 7 =$

$10 + 9 =$

$6 + 13 =$

$12 \bigcirc 11$

$1 + 10 + 5 =$

$8 - 8 =$

$10 + 4 =$

$8 \bigcirc 10$

$3 - 2 + 10 =$

$11 - 1 =$

$5 + 8 =$

$10 \bigcirc 9$

$6 + 7 - 10 =$

$10 - 5 =$

$9 + 7 =$

$9 \bigcirc 12$

$10 + 7 - 10 =$

$10 + 0 =$

$18 - 4 =$

$7 \bigcirc 8$

$10 + 5 - 5 =$

$1 + 16 =$

$13 - 2 =$

$15 \bigcirc 14$

$5 + 10 - 3 =$

$10 - 2 =$

$12 - 10 =$

$10 \bigcirc 12$

$8 - 4 + 6 =$

$18 - 8 =$

$9 + 10 =$

$9 \bigcirc 7$

$8 - 5 + 5 =$

$7 + 5 =$

$8 - 6 =$

$19 \bigcirc 20$

$9 - 7 + 10 =$

$13 - 10 =$

$19 - 2 =$

$9 \bigcirc 15$

$1 + 9 - 10 =$

$2 + 8 =$

$15 + 2 =$

$14 \bigcirc 7$

$8 + 10 - 8 =$

$19 - 4 =$

$18 - 5 =$

$9 - 2 \bigcirc 7 - 1$

$6 + 10 - 3 =$

$10 + 7 =$

$3 + 4 =$

$7 + 3 \bigcirc 3 + 7$

$5 + 10 - 2 =$

$18 - 10 =$

$19 - 10 =$

$3 + 8 \bigcirc 16 - 6$

$4 + 6 - 8 =$

$6 - 3 =$

$13 - 1 =$

$3 + 4 \bigcirc 9 - 2$

$8 + 7 - 1 =$

$11 + 7 =$

$7 + 6 =$

$15 - 3 \bigcirc 17 - 7$

$8 + 2 - 2 =$

$17 - 7 =$

$19 - 9 =$

$6 + 6 \bigcirc 10 + 1$

$8 - 1 + 6 =$

$5 + 13 =$

$9 + 1 =$

$8 - 3 \bigcirc 4 + 5$

$6 + 6 - 10 =$

$10 - 1 =$

$14 - 3 =$

$10 + 9 - 7 =$

$9 + 5 =$

$6 + 6 =$

$9 + 7 - 6 =$

$18 - 7 =$

$9 + 9 =$

$9 + 1 - 2 =$

$13 + 2 =$

$6 + 12 =$

$10 + 7 - 5 =$

$16 - 4 =$

$9 + 6 =$

$3 + 7 - 6 =$





口算能力期末综合测评 (二)

用时: ____ 分 ____ 秒 错误: ____ 个

$11 - 9 =$

$15 - 6 =$

$14 - 5 =$

$8 + 2 + 3 =$

$8 + 8 =$

$13 - 9 =$

$9 + 9 =$

$9 + 4 + 1 =$

$14 - 7 =$

$8 + 9 =$

$7 + 8 =$

$7 + 3 - 5 =$

$13 - 5 =$

$8 + 6 =$

$15 - 8 =$

$7 - 4 + 6 =$

$9 + 7 =$

$16 - 7 =$

$13 - 4 =$

$9 + 2 + 3 =$

$5 + 7 =$

$11 - 7 =$

$11 - 8 =$

$7 + 8 - 3 =$

$15 - 7 =$

$9 + 5 =$

$6 + 9 =$

$6 + 7 - 4 =$

$18 - 4 =$

$6 + 7 =$

$7 + 4 =$

$8 + 2 + 5 =$

$10 + 9 =$

$16 - 8 =$

$17 - 8 =$

$5 + 4 + 6 =$

$10 - 7 =$

$12 - 3 =$

$11 - 5 =$

$17 - 7 + 3 =$

$11 - 6 =$

$4 + 8 =$

$5 + 8 =$

$19 - 10 + 1 =$

$18 - 9 =$

$15 - 10 =$

$12 - 4 =$

$3 + 4 + 10 =$

$13 - 8 =$

$12 - 9 =$

$7 + 7 =$

$15 - 7 + 1 =$

$9 + 4 =$

$3 + 9 =$

$15 - 9 =$

$13 + 3 - 4 =$

$12 - 5 =$

$6 + 6 =$

$13 - 7 =$

$18 - 4 - 10 =$

$8 + 3 =$

$17 - 9 =$

$2 + 9 =$

$16 + 3 - 9 =$

$19 - 4 =$

$13 - 6 =$

$17 + 2 =$

$19 - 10 + 7 =$

$14 - 8 =$

$10 - 5 =$

$16 - 9 =$

$17 - 9 + 10 =$

$5 + 6 =$

$11 - 4 =$

$14 + 3 =$

$14 - 10 + 5 =$

$16 - 10 =$

$9 + 1 =$

$14 - 9 =$

$11 - 1 - 5 =$

$17 - 3 =$

$14 - 6 =$

$12 - 7 =$

$3 + 1 + 9 =$

$12 - 6 =$

$12 - 8 =$

$11 - 2 =$

$16 - 5 - 10 =$

$11 - 3 =$

$17 - 2 =$

$16 - 3 =$

$18 - 8 + 7 =$

$10 + 4 =$

$14 + 4 =$

$13 + 4 =$

$13 - 4 - 5 =$

$8 + 10 =$

$13 - 10 =$

$20 - 10 =$

$13 - 3 - 7 =$

$15 - 4 =$

$5 + 10 =$

$19 - 8 =$

$5 + 1 + 7 =$

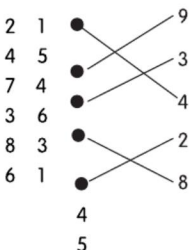


参考答案

上学了

练习1(第1页)

A组



B组

1. 8 9 涂色略
2. 2 4 3 1

练习2(第2页)

A组



B组

1. ☒ ☐

2. ☐ ☒

第一单元

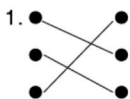
练习1(第3页)

A组

1. 2 3 1 4 5

2. 略。

B组



2. 略。

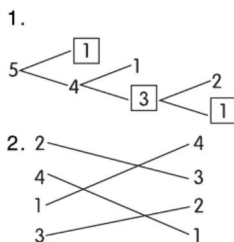
练习2(第4页)

A组

1 1 4 3

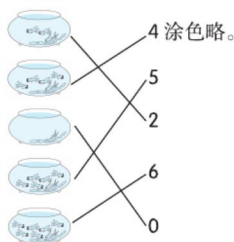
2 2 4
2 5 3 2 1
2 4 1 3 5
2
1

B组



练习3(第5页)

A组



B组

1. 0 3 5 2. 略。
3. 0 3 5

练习4(第6页)

A组

> > 2 < 3
> < 3 > 2
< = 3 < 5
= < 5 > 3
> 1 < 4
< 4 > 1
= 3 < 4
< 4 > 3
=>
>
>
>
>
<

B组

1. 5 > 3 3 < 4
2. 5 2 4 4

练习5(第7页)

A组

2 < 1
5 = 1
3 > 1
4 = 1
> 2
> 4
>
<
>
<
<
=

B组

1. 略。 2. ☒

练习6(第8页)

A组

5 3 1
4 5 3
3 4 2
3 + 2 = 5 3 2
1 + 3 = 4 5 3
5 4
2 3
4 1
4 1
5 1
< 2
< 2
> 1
2
4

B组

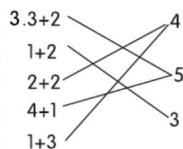
1.

1
2
3

 + 2 =

3
4
5

2. 3 5 4



练习7(第9页)

A组

1 5 5
1 2 2
5 - 2 = 3 1 2
5 - 3 = 2 5 0
3 - 2 = 1 2 5
3 1
1 1
3 4
1 5
3 2
2 4
4 3
2 4
3 4
4 3

B组

1. 3 + 1 = 4
2. (1) 3 (2) 1

练习8(第10页)

A组

5 - 2 = 3 2 1
5 - 4 = 1 4 2
4 - 2 = 2 2 3
3 - 1 = 2 3 1
5 2
3 0
3 5
3 3
1 1
3 4
1 2
1 4
2 2
4 3
1 4
3

请沿此虚线裁剪下使用



B组

1. $3+2=5$ $4-1=3$
2. 1 4 3 2

练习9(第11页)

A组

5 0 3 <
5 2 4 >
4 1 2 =
5 3 4 =
2 4 5 <
5 2 2 <
4 1 >
3 0 >
2 4 >
0 3 >
2 0 >
4 1 =
1 3
4 1
3 3
0 3

B组

$3+1=4$ $5-3=2$
 $0+2=2$ $3-1=2$
 $4+0=4$ $5-1=4$
 $2+2=4$ $3-2=1$
 $4+1=5$ $5-4=1$
 $4-2=2$ $5+0=5$

第一单元口算能力测试

(第12页)

A组

2 1 5 >
4 0 5 <
3 1 2 =
2 2 3 <
5 4 2 <
4 5 1 >
5 3 <
3 1 <
2 0 =
4 2 =
0 4 =

3 5 <

0 5
4 5
1 1
3 1

B组

1. 1 1 1

2.

5-4	2+3
3+1	4+0
2+0	3-2
3+2	1+1

第二单元

练习1(第13页)

A组

7 5 2
9 4 2
6 5 3
8 5 7
10 5 3

B组

$10 < \overset{1}{9} < \overset{2}{7} < \overset{3}{4} < \overset{1}{2} < \overset{1}{3} < \overset{1}{2} < \overset{1}{1}$

练习2(第14页)

A组

1 < 8 6
3 > 5 2
5 < 3 6
2 = 4 2
5 > 2 2
3 >
0 <
4 <
1 >
4 <
1 <
4 <

3
2
5

B组

1. (1)5 (2)1 4
(3)2 4
2. (1)7 (2)略 (3)略

练习3(第15页)

A组

5 3 > 2
5 3 > 6
2 0 < 6
5 3 < 3
3 3 < 1
5 4 > 5
2 1 <
0 1 <
3 0 <
4 0 <
4 1 >
1 4 =

B组

1.3 6 7 9
2.7 6 3

练习4(第16页)

A组

2 5 < 2
7 2 < 2
6 1 > 5
3 7 < 1
3 7 < 3
7 4 < 3
7 4 < 4
6 5 < 4
7 2 < 4
6 3 = 3
1 4 > 4
5 4 = 3
6 2 0
7 5 4
6 1 2
6 1 2

B组

$3+3=6$
 $4+3=7$
 $2+5=7$

练习5(第17页)

A组

5 2 > 2
5 3 < 3
5 2 < 3
5 3 > 2
5 7 = 5
6 7 < 3
3 6 = 5
0 1 < 0
7 7 > 2
2 4 = 3
0 1 > 3
1 2 < 3
6 6 7
1 4 3
0 2 6
1 0 2

B组

$1.4+3=7$ $3+4=7$
 $7-3=4$ $7-4=3$
2.1 2 3 4
6 1 5 2 4

练习6(第18页)

A组

2 1 < +
7 4 > -
5 4 > +
5 1 < -
4 1 > -
6 4 < -
4 1 > -
0 3 > +或-
3 3 = -
5 2 > -
2 2 > -
1 4 > -
7 6
7 7
5 6
7 6

B组

1.

2	5
4	3
1	6
5	2
3	4

 $7-1=6$

请沿此虚线裁剪下载使用





2. $4+2=7$ $7-2=4$
 $5-3=2$ $4+3=7$
 $2+5=7$ $5-2=3$
 $3-3=0$ $3+3=6$
 $6-2=4$ $1+3=4$

练习7(第19页)

A组

$8 > 0$
 $8 > 8$
 $6 < 9$
 $5 = 6$
 $1 < 0$
 $6 > 8$
 $6 < 3$
 $4 = 9$
 $7 > 2$
 $9 > 6$
 $4 < 1$
 $5 = 5$
 $2 = 2$
 $7 = 2$
 $0 = 6$

B组

$1.5+4=9$ $2.5+3=8$
 $4+5=9$ $3+5=8$
 $9-4=5$ $8-3=5$
 $9-5=4$ $8-5=3$

练习8(第20页)

A组

$8 < 1$
 $8 > 1$
 $6 > 6$
 $8 > 6$
 $6 = 0$
 $10 > 7$
 $7 < 1$
 $2 > 3$
 $9 < 6$
 $10 < 7$
 $8 = 7$
 $7 = 6$
 $10 = 0$
 $9 = 8$

B组

略。

练习9(第21页)

A组

$6 > 6$
 $0 > 6$
 $9 < 4$
 $8 = 8$
 $4 < 7$
 $10 = 6$
 $8 = 0$
 $8 = 8$
 $6 > 2$
 $5 < 0$
 $9 > 7$
 $6 < 5$
 $10 = 5$
 $4 = 9$
 $7 = 5$

B组

$1.2 = 2$
 $2.3 = 5 = 8$
 $9 = 5 = 4$
 $8 = 1 = 9$
 $6 = 2 = 4$

(答案不唯一)

练习10(第22页)

A组

$4 > 3$
 $2 > 10$
 $7 = 6$
 $5 = 8$
 $10 > 2$
 $8 = 0$
 $4 > 9$
 $7 = 2$
 $1 < 9$
 $9 = 0$
 $10 < 1$
 $7 < 0$
 $5 = 5$
 $6 = 10$
 $10 = 10$
 $9 = 5$

B组

$1.4+2+1=7$
 $2.4 = 6 = 2$

练习11(第23页)

A组

$9 = 6 = 7$
 $8 = 7 = 9$
 $8 = 5 = 6$
 $6 = 9 = 10$
 $5 = 1 = 3 = 10$
 $1 = 10 = 1 = 2$
 $6 = 9 = 3 = 8$
 $2 = 4 = 10 = 3$
 $4 = 6 = 3 = 8$
 $7 = 2 = 7 = 2$
 $10 = 6 = 0 = 9$
 $8 = 3 = 4 = 2$
 $5 = 2 = 6 = 3$
 $2 = 8 = 7 = 4$
 $7 = 3 = 1 = 3$
 $1 = 6 = 9 = 9$

B组

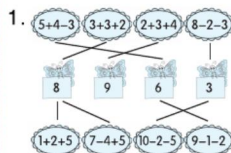
$1.3+2+4=5$
 $9-7+3=9$
 $5-3+4=8$
 $10-4+2=6$
 $2.(1)6 = 3 = 8 = 2$
 $(2)4 = 1 = 6 = 1$
 $(3) - 5 = + 4$

练习12(第24页)

A组

$3 = 4 = 6 = 7$
 $0 = 7 = 2 = 10$
 $6 = 10 = 6 = 10$
 $4 = 8 = 3 = 2$
 $3 = 5 = 2 = 1$
 $5 = 2 = 8 = 6$
 $6 = 7 = 3 = 2$
 $5 = 1 = 6 = 2$
 $7 = 10 = 1 = 8$
 $8 = 7 = 8 = 3$
 $8 = 5 = 4 = 8$
 $6 = 9 = 10 = 2$
 $5 = 1 = 4 = 9$
 $1 = 10 = 6 = 2$
 $6 = 9 = 0 = 3$

B组



$2.5 = 1 = 10 = 7 = 2$
 $9 = 2 = 0 = 8 = 2$

练习13(第25页)

A组

$4 = 1 = 2 = 10$
 $9 = 7 = 1 = 3$
 $9 = 9 = 3 = 6$
 $9 = 8 = 4 = 10$
 $6 = 2 = 5 = 9$
 $9 = 5 = 1 = 9$
 $4 = 7 = 1 = 2$
 $8 = 9 = 3 = 3$
 $10 = 1 = 3 = 3$
 $1 = 8 = 1 = 1$
 $10 = 8 = 4 = 4$
 $4 = 6 = 6 = 6$
 $4 = 5 = 4 = 4$
 $5 = 1 = 0 = 0$
 $10 = 6 = 5 = 5$
 $8 = 8 = 0 = 0$

B组

$1. \text{Diagram showing a sequence of boxes connected by arrows. The boxes contain the following expressions: } 5+4-3, 3+3+2, 2+3+4, 8-2-3, 8, 9, 6, 3, 1+2+5, 7-4+5, 10-2-5, 9-1-2.$
 $2.(1)6 = (2)3$

第二单元口算能力测试

(第26页)

A组

$4 = 8 = 7 = 2$
 $6 = 2 = 2 = 0$
 $0 = 6 = 8 = 2$
 $6 = 5 = 4 = 9$
 $5 = 7 = 9 = 9$
 $2 = 5 = 2 = 7$
 $9 = 9 = 7 = 5$
 $3 = 8 = 0 = 0$
 $6 = 8 = 0 = 0$
 $4 = 3 = 10 = 10$
 $6 = 1 = 0 = 0$
 $5 = 8 = 4 = 4$



9 4 4
10 8 8
9 7 8

B 组

1. $5 < 7 < 8 < 9$
2. $8 - (3) = 3 + (2)$
 $4 + (4) = 9 - (1)$
(答案不唯一)

第三单元

练习1(第27页)

A 组

9 3 5 >
1 1 7 <
10 9 3 <
3 2 3 >
3 1 2 >
9 10 1 <
6 2 =
9 9 =
10 7 <
7 8 <
8 10 =
9 1 >
5 10 <
2 0
4 8
5 8

B 组

④⑥⑧
①③⑤
②
⑦⑨

练习2(第28页)

A 组

5 7 5 2
8 10 9 2
1 4 4 6
10 6 7 4
9 7 3 1
9 8 9 3
10 6 6
4 8 4
7 8 0
9 9 4
3 5 4
7 0 6

9 1 2
7 10 1
3 6 2
7 8 1

B 组

1. 略。 2. 2 5 2 1

第三单元口算能力测试

(第29页)

A 组

8 5 < 4
8 7 > 6
4 8 < 1
3 1 > 1
5 7 > 0
8 7 = 5
7 6 = 5
0 9 > 2
4 6 > 7
1 3 = 3
9 3 < 3
4 9 5
9 1 1
2 4 0
10 1 1

B 组

1. 6 4 4 3
2. 3 4 5 5

第四单元

练习1(第30页)

A 组

1 7 4 <
9 2 6 =
8 10 0 >
2 5 6 <
5 7 6 >
6 7 2 >
7 10 9 >
8 4 3 <
8 6 5 <
6 8 8 >
10 6 8 >
5 1 10 <
4 8 1
7 9 10

B 组

1. 15 20 16
十五 二十 十六

2. (1) 17 (2) 18

练习2(第31页)

A 组

11 2 < 0
2 8 < 1
7 3 < 9
1 12 > 8
10 1 > 7
13 8 < 0
5 17 > 4
9 10 < 8
16 4 < 4
10 6 < 10
9 0 > 7
4 6 2
18 5 10
2 14 0
6 7 0

B 组

1. 8 10 11 13 14 19
18 16 15 14
2. (1) 12 15 18
(2) 13 11 9 7 5
(3) 8 4 0

练习3(第32页)

A 组

17 13 < 7
4 3 < 6
6 19 < 2
10 10 < 4
7 1 > 7
10 14 < 1
6 3 < 5
5 10 > 5
9 11 < 7
8 10 > 2
18 9 < 3
15 2 < 1
5 16 3
7 1 0
7 12 6

B 组

1. 12 13 15 16 19
20
2. 略。

练习4(第33页)

A 组

10 10 0 10
8 14 10 8
16 4 10 0
8 8 10 7
6 10 12 5
10 13 9 3
5 15 1 9
18 12 2 4
2 11 4 9
18 5 14 1
0 12 16 7
0 15 10 2
5 0 10 4
2 9 0 1
15 11 19 0
18 14 13 12

B 组

18 - 5 = 13
2 + 11 = 13
17 - 6 = 11

练习5(第34页)

A 组

13 19 13 16
15 4 8 18
15 7 3 9
16 12 12 11
1 16 19 11
15 9 11 10
12 0 6 11
1 4 10 11
14 6 5 6
12 18 14 13
18 10 1 10
12 2 14 12
11 18 10 7
13 13 2 10
12 10 11 10
15 17 15 13

B 组

1. $10 + 6 = 16$
2. $18 - 5 = 13$
3. $14 - 3 + 2 = 13$





练习6(第35页)

A组

0	3	18	10
9	19	12	10
15	8	12	1
0	18	1	4
17	1	16	15
5	12	17	6
16	12	15	3
1	16	14	2
15	18	18	4
14	12	16	13
11	7	8	11
10	15	14	14
2	16	4	18
11	16	17	6
12	17	13	17
11	15	16	14

B组

- $6 + 4 + 8 = 18$
- $18 - 3 - 4 = 11$

练习7(第36页)

A组

12	17	18	15
7	11	10	18
0	14	16	14
16	4	15	2
13	0	10	10
15	12	3	10
13	2	1	18
4	4	18	13
14	1	19	5
13	12	19	7
14	12	4	8
1	15	12	10
4	3	18	15
11	13	1	10

B组

- (1) 17 (2) $+$ $-$
(3) 14 16
- $= > = > <$
 $<$

第四单元口算能力测试

(第37页)

A组

18	19	6	9
----	----	---	---

6	19	12	7
6	18	9	10
10	14	10	10
1	17	9	10
1	15	14	15
16	9	10	1
5	13	8	10
3	18	13	14
12	11	19	4
3	9	13	16
2	11	10	1
13	11	15	7
13	17	14	8
14	14	6	16

B组

- $< = > <$
- $6 < 9 < 10 < 12 < 13 < 15 < 20$
- (1) $4 + 11 = 15$
(2) $4 + 11 + 2 = 17$

第五单元

练习1(第38页)

A组

14	14	15	9
3	18	16	10
15	19	10	10
15	0	11	19
10	9	6	1
18	5	13	13
12	3	18	9
16	14	15	17
2	16	9	6
12	1	11	11
7	10	3	10
8	6	18	10
17	15	2	10
10	0	16	5
8	18	17	13
8	12	18	10

B组

$9 + 2 = 11$	$7 + 9 = 16$
$9 + 4 = 13$	$9 + 8 = 17$

$9 + 6 = 15$	$9 + 9 = 18$
--------------	--------------

练习2(第39页)

A组

10	16	15	$>$
18	10	18	$<$
12	14	13	$=$
3	11	10	$<$
12	6	17	$<$
14	14	10	$<$
8	11	18	$<$
12	15	0	$>$
5	2	19	$<$
5	15	9	$=$
6	15	17	$>$
11	3	15	$<$
3	3	17	
9	7	17	
1	18	10	
14	12	12	

B组

- $9 + 4 = 13$ $4 + 9 = 13$
- $9 + 5 = 14$ $5 + 9 = 14$

练习3(第40页)

A组

12	12	16	16
6	19	12	4
11	14	15	11
17	3	9	15
19	13	16	14
17	11	10	14
10	0	13	17
4	12	9	10
2	18	17	11
6	4	16	19
2	15	9	10
8	14	19	12
16	15	13	5
12	17	11	8
17	18	18	15

B组

- $9 + 7 = 16$ $4 + 5 = 9$
 $9 + 9 = 18$ $10 - 9 = 1$
 $16 - 6 = 10$ $6 + 3 = 9$
- $9 + 3 = 12$

$3. 9 + 8 = 17$

练习4(第41页)

A组

18	14	2	$>$
14	16	11	$>$
16	10	11	$<$
8	17	13	$>$
16	10	10	$<$
9	14	13	$<$
12	19	14	$=$
13	11	15	$>$
11	13	10	$=$
12	11	9	$>$
16	12	10	$<$
10	18	15	
13	1	11	
15	19	11	
15	10	12	

B组

$8 + 4 = 12$	$8 + 5 = 13$
$7 + 8 = 15$	$8 + 6 = 14$
$3 + 8 = 11$	$8 + 8 = 16$

练习5(第42页)

A组

14	12	16	2
10	11	12	6
14	2	15	3
12	13	17	10
15	12	18	9
11	15	1	8
15	14	16	1
13	10	10	3
14	10	11	8
11	12	18	5
15	16	14	5
17	11	14	7
18	17	10	9
13	10	15	8

B组

- (1) $9 + 4 = 13$ $9 + 5 = 14$

请沿此虚线裁剪下使用



$9+3=12$ $9+7=16$
 $9+9=18$ $9+2=11$
 $9+8=17$ $9+6=15$
 $(2)8+2=10$ $8+5=13$
 $8+6=14$ $8+3=11$
 $8+4=12$ $8+1=9$
 $8+7=15$
 $2.8+8=16$ $8+5=13$

练习6(第43页)

A组

11	10	11	1
13	14	19	13
12	19	16	1
17	12	16	5
19	18	17	9
14	18	15	8
12	12	11	13
15	11	10	2
16	17	10	2
10	10	17	14
12	10	17	8
13	19	18	3
3	15	16	3
2	12	3	17
13	5	14	10

B组

$1.8+9=17$ $5+8=13$
 $8+4=12$ $4+5=9$
 (答案不唯一)
 2.8 6
 $8+6=14$

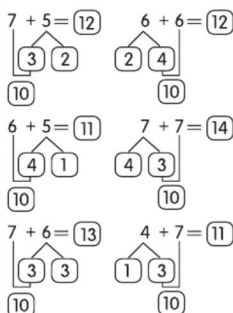
练习7(第44页)

A组

10	4	13	10
12	16	5	10
12	14	10	7
17	15	6	0
13	3	13	0
5	10	12	5
11	15	10	9
11	8	16	4
15	14	13	9
18	18	13	1
15	0	18	17
4	16	11	11
11	13	11	10
19	19	12	5

6 0 14 11
 12 10 16 10

B组

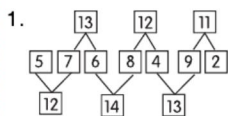


练习8(第45页)

A组

14	11	10	12
11	10	16	10
16	14	15	10
12	10	13	15
16	5	16	15
15	14	12	11
11	10	11	13
12	2	4	11
11	9	12	10
16	12	11	11
10	14	18	16
12	11	12	10
6	7	16	18
10	13	19	9
14	9	16	18
10	15	13	11

B组



$2.6+5=11$
 $6+7=13$

练习9(第46页)

A组

19	15	12	15
14	15	11	10
2	11	10	11
16	15	12	10
14	13	18	11
14	13	7	14
15	11	12	11
11	16	14	10

9 8 13 10
 10 13 15 14
 18 10 15 11
 13 19 9 11
 11 2 16 12
 12 5 14 2
 19 13 11 10
 7 18 12 11

B组

$7+6=13$
 $8+6=14$
 $7+4=11$

练习10(第47页)

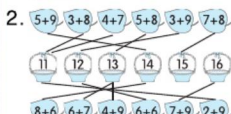
A组

7	12	4	7
19	12	15	8
5	14	11	16
19	10	10	16
3	14	19	2
19	3	15	14
4	13	13	9
2	12	13	12
6	12	11	8
2	11	3	2
8	11	16	9
18	0	11	3
12	15	18	6
15	11	9	3
17	17	10	19
4	14	10	7

B组

1.15 17 19 16
 第四 第二 第一

第三



第五单元口算能力测试

(第48页)

A组

10	11	14	13
10	13	7	7
14	8	12	15
9	11	12	8
12	12	10	15

16 11 15 4
 16 13 15 13
 12 16 15 10
 13 17 14 10
 12 11 17 10
 11 13 13 6
 19 14 11 12
 16 10 19 11
 15 17 18 13
 13 13 18 1
 11 18 19 11

B组

1.15 13 11
 $2.8+6=14$

第六单元

练习1(第49页)

A组

11	7	>	10
9	17	<	11
18	14	<	2
10	11	>	3
13	11	<	4
15	2	<	5
8	19	=	13
8	16	>	7
11	19	<	5
13	3	=	11
17	11	=	3
11	9	>	19
6	11		0
11	16		4
13	5		4
4	15		8

B组

9	2
6	9
5	4
3	7
10	6

练习2(第50页)

A组

1	16	8	6
11	16	10	9
15	5	10	3
10	6	19	9
17	15	13	3
14	17	10	13

请沿此虚线裁剪下使用





5	11	11	11
12	18	15	8
13	12	11	3
14	4	3	3
17	11	11	11
7	14	13	11
10	17	17	5
15	9	13	0
2	8	14	9
13	13	19	14
11	3	11	6

B 组

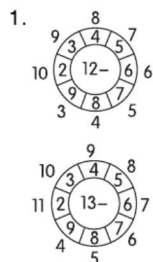
- $11 - 3 = 8$
- $11 - 5 = 6$

练习3(第51页)

A 组

12	3	11	=
12	4	16	<
8	4	7	>
12	13	17	>
13	15	5	=
12	3	2	<
13	10	15	=
9	16	14	<
13	1	6	<
9	7	14	=
14	5	13	<
6	11	9	=
18	11	15	
17	13	18	
5	18	5	
8	13	10	

B 组



2.



练习4(第52页)

A 组

9	5	9	7
---	---	---	---

13	13	5	3
7	12	13	4
12	2	12	16
6	14	11	4
11	5	6	7
9	11	11	9
14	11	16	12
18	8	6	3
3	12	15	8
13	4	4	18
7	16	17	9
14	8	1	6
7	19	3	12
18	4	19	18
8	20	13	3

B 组

- $12 - 9 = 3$
- $13 - 5 = 8$

练习5(第53页)

A 组

10	8	7	<
11	11	12	<
11	12	7	=
12	9	11	=
3	5	13	=
14	13	7	>
8	9	14	<
12	13	8	=
15	5	11	<
7	14	7	>
6	6	17	=
18	15	5	>
5	6	19	
16	6	4	
6	19	18	
15	4	9	

B 组

- $6 + 9 = 15$
- $2.8 + 6 = 14$
- $9 + 6 = 15$
- $6 + 8 = 14$
- $15 - 6 = 9$
- $14 - 6 = 8$
- $15 - 9 = 6$
- $14 - 8 = 6$

练习6(第54页)

A 组

6	8	13	6
15	13	4	5
3	5	13	9
12	11	9	14
6	4	13	5
18	12	8	10

7	9	16	14
17	12	2	4
7	3	11	7
12	11	5	16
4	19	14	4
14	6	10	9
6	17	8	19
12	2	12	15
9	7	8	5
8	18	7	14

B 组

- $8 + 6 = 14$
- $14 - 6 = 8$
- $14 - 8 = 6$

- 2.4
- 8
- 5

练习7(第55页)

A 组

18	17	7	=
15	9	16	=
9	3	4	>
11	14	8	=
5	6	16	<
11	9	14	=
11	6	12	<
6	14	12	>
7	3	14	>
9	10	8	>
13	13	5	>
7	18	11	=
9	15	7	
7	9	13	
12	12	8	
19	5	2	

B 组

7	8	9
8	9	10
9	10	8
10	11	13

练习8(第56页)

A 组

9	9	8	12
18	17	9	16
15	8	16	10
9	11	6	7
13	7	12	12
8	14	6	2
11	14	10	5
7	8	6	9
8	5	9	13

15	12	14	13
11	12	7	7
6	5	3	4
11	8	4	5
9	7	18	3
6	15	12	12
16	13	13	9

B 组

- $1.16 - 7 = 9$
- 2.8
- 8
- 18

练习9(第57页)

A 组

9	9	7	8
17	18	14	6
8	8	5	7
15	7	8	13
5	6	14	7
5	16	8	15
16	9	12	3
6	13	7	11
13	2	14	6
8	8	9	11
11	19	12	9
3	11	4	13
14	17	4	1
9	9	12	12
7	6	5	4
11	13	9	2

B 组

8	12	3	11
12	6	11	4
13	8	12	18

第六单元口算能力测试

(第58页)

A 组

13	9	9	15
9	5	13	7
9	12	18	8
11	8	9	13
9	12	7	6
11	4	15	14
8	12	7	7
15	3	11	7
8	8	18	11
14	18	13	1
7	16	8	6
16	11	11	2
4	12	18	8
6	15	12	15



12 8 14 2

B 组

1. $15 - 8 = 7$
2. $14 - 5 = 9$

第七单元

练习1(第59页)

A 组

- 6 2 1 >
8 9 1 =
3 8 1 >
6 2 1 >
1 1 3 <
8 10 2 =
4 7 2 >
10 5 >
4 7 >
6 10 >
0 1 =
6 10 =
5 9
2 4
9 6
3 2

B 组

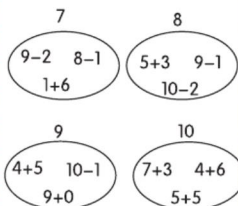
1. 2 3 4
3 2 1
2. $4 + 1 = 5$ $4 - 4 = 0$

练习2(第60页)

A 组

- 5 2 1 7
7 9 1 7
8 8 3 3
4 6 2 6
9 5 6 1
2 1 8 2
10 6 10 8
4 8 7
4 4 1
1 4 2
8 7 4
10 8 5
8 5 5
2 7 5
5 1 0
7 10 5

B 组



练习3(第61页)

A 组

- 6 8 7 >
3 8 9 <
2 5 4 =
7 6 0 =
2 6 6 >
9 8 10 >
5 4 7 >
3 4 6 <
8 7 5 =
9 1 9 >
8 10 3 >
9 5 5
6 5 7
7 2 6
1 2 0

B 组

1. 略。
2. 3 4 3 4

练习4(第62页)

A 组

- 10 2 6 13
10 18 2 10
11 2 12 9
18 6 10 10
10 1 9 1
17 18 9 9
5 4 0 4
9 10 19 15
11 4 15 6
10 16 8 3
19 0 3 17
4 16 19 19
16 5 19 2
2 16 12 4
6 10 18 2

B 组

1. 略。

2. (1) \times (2) \times
(3) \checkmark (4) \times

练习5(第63页)

A 组

- 10 15 6 6
10 16 7 12
11 13 14 11
13 12 18 11
11 12 11 15
14 10 12 16
15 10 17 3
3 12 11 19
11 15 14 5
18 17 17 17
15 19 9 5
15 1 17 14
16 0 18 19
10 17 12 17
19 10 13 3
12 13 14 17

B 组

1. 18 15 16 2. 13

练习6(第64页)

A 组

- 11 3 11 10
6 13 7 5
13 5 9 7
3 17 7 10
15 14 9 5
7 8 9 4
17 12 2 4
12 5 11 5
2 14 14 6
14 8 15 9
9 6 17 18
8 6 11 8
12 9 9 9
6 7 16 9
15 11 11 7
8 7 9 6

B 组

1. $11 - 4 = 7$
2. $14 - 5 = 9$

**口算能力期末
综合测评(一)**

(第65页)

- 0 10 > 9
16 17 < 6
13 16 > 19

- 19 19 < 16
0 14 > 11
10 13 < 3
5 16 < 7
10 14 > 10
17 11 < 12
8 2 > 10
10 19 < 8
12 2 < 12
3 17 > 0
10 17 > 10
15 13 = 13
17 7 > 13
8 9 = 2
3 12 > 14
18 13 > 8
10 10 < 13
18 10 2
9 11 12
14 12 10
11 18 8
15 18 12
12 15 4


**口算能力期末
综合测评(二)**

(第66页)

- 2 9 9 13
16 4 18 14
7 17 15 5
8 14 7 9
16 9 9 14
12 4 3 12
8 14 15 9
14 13 11 15
19 8 9 15
3 9 6 13
5 12 13 10
9 5 8 17
5 3 14 9
13 12 6 12
7 12 6 4
11 8 11 10
15 7 19 16
6 5 7 18
11 7 17 9
6 10 5 5
14 8 5 13
6 4 9 1
8 15 13 17
14 18 17 4
18 3 10 3
11 15 11 13

请沿此虚线裁剪下使用





口算脑算用心算

巧算速算不难算

荣德基官方网站:

<http://www.rudder.com.cn>

荣德基天猫旗舰店:

<http://rongdeji.tmall.com>

客服热线: 182 1039 5892



荣德基小学频道
获取最新教育资讯

ISBN 978-7-5336-9089-2



9 787533 690892 >

定价: 22.90元