



根据新课程标准编写 与最新实验教材同步

主编：吕子英

教辅资料站



电子教辅 试卷练习
知识总结 备课资源

扫码关注获取更多学习资料

爱上数学

口算心算速算应用题



一年级 | R
上册



北方妇女儿童出版社



根据新课程标准编写 与最新实验教材同步

主编：吕子英

爱上数学

口算心算速算应用题



名师微课堂

学校：_____

班级：_____

姓名：_____



北方妇女儿童出版社



C 目录 Contents

从这里爱上数学



第一单元 准备课	
第一节 数一数	1
第二节 比多少	2
第三节 单元练习	3
第二单元 位置	
第一节 上、下、前、后	4
第二节 左右	5
第三节 单元练习	6
第三单元 1~5 的认识和加减法	
第一节 1~5 的认识	7
第二节 比大小	8
第三节 练习一	9
第四节 第几	10
第五节 分与合	11
第六节 练习二	12
第七节 加法	13
第八节 练习三	14
第九节 减法	15
第十节 练习四	16
第十一节 0	17
第十二节 练习五	18
第十三节 单元练习	19
第四单元 认识图形(一)	
第一节 认识图形	20
第二节 单元练习	21
第五单元 6~10 的认识和加减法	
第一节 6 和 7	22
第二节 6、7 的分与合	23
第三节 6、7 的加减法	24
第四节 练习六	25
第五节 解决问题	26
第六节 练习七	27
第七节 8 和 9	28
第八节 8、9 的分与合	29
第九节 8、9 的加减法	30
第十节 练习八	31
第十一节 解决问题	32
第十二节 练习九	33
第十三节 10 的认识	34
第十四节 10 的分与合	35
第十五节 10 的加减法	36
第十六节 练习十	37
第十七节 连加 连减	38
第十八节 练习十一	39
第十九节 加减混合	40
第二十节 练习十二	41
第二十一节 单元练习	42
期中测试	43
第六单元 11~20 各数的认识	
第一节 11~20 各数的认识 ..	44
第二节 练习十三	45
第三节 11~20 的加减法 ..	46
第四节 单元练习	47
数学乐园	48
第七单元 认识钟表	
第一节 认识钟面、整时 ..	49
第二节 单元练习	50
第八单元 20 以内的进位加法	
第一节 9 加几	51
第二节 练习十四	52
第三节 8、7、6 加几	53
第四节 练习十五	54
第五节 5、4、3、2 加几	55
第六节 练习十六	56
第七节 解决问题	57
第八节 单元练习	58
第九单元 总复习	
第一节 1~5 的认识和加减法	59
第二节 6~10 的认识和加减法	60
第三节 11~20 各数的认识	61
第四节 20 以内的进位加法	62
第五节 综合练习	63
第六节 期末测试	64
参考答案	65

第一单元 准备课

第一节 数一数

一、数一数,说一说。



二、数一数,把相同数量的物品连起来。




三、连一连。

4

1

2







8







微信公众号
教辅资料站





第二节 比多少

一、在多的后面画“○”。

①		<input type="checkbox"/>	②		<input type="checkbox"/>
		<input type="checkbox"/>			<input type="checkbox"/>
		<input type="checkbox"/>			<input type="checkbox"/>

二、不用数,比一比,说一说。

① 

 比  ()。


② 

 和  ()。

三、把同样多的连起来。




第三节 单元练习

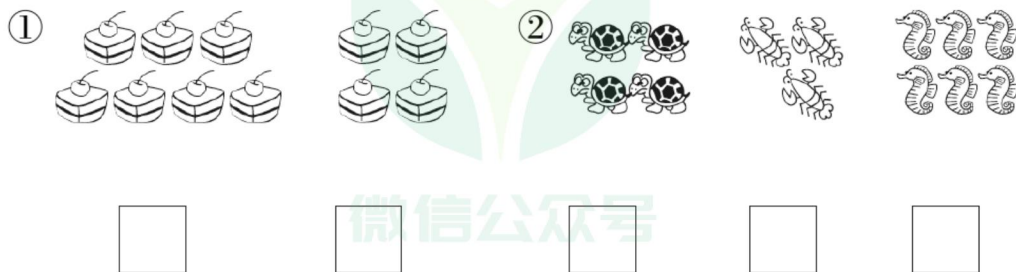
一、根据数字涂颜色。



二、把数量相等的连起来。



三、在少的下面画“√”。



第二单元 位置

第一节 上、下、前、后

一、看一看,填一填。



① 在 的_____面。

② 在 的_____面。

③ 在 的_____面。

④ 在 的_____面。

二、观察情景图填空。



① ()在最前面,()在最后面。

② 小刚在爸爸的()面,在妈妈的()面。


③ 妈妈的后面有()人,小刚的前面有()人。

④ 爸爸在小刚的()面,小刚的后面有()人。




第二节 左、右

一、看图填空。



①  的右边有()种水果,左边有()种水果。

②  的左边是(),右边是()。

③  在  的()边,在  的()边。

二、整理桌子。(圈出正确的答案)



①  在小军的(左 右)边;  在小军的(左 右)边。

②  在小军的(前 后)面;  在小军的(前 后)面。

③  在桌子的(上 下)面;  在小军的(左 右)边。

第三节 单元练习

一、看图填空。



①淘淘在小敏的_____面,叮当在淘淘的_____面。

②婷婷在乐乐的_____面,乐乐在小敏的_____面。

二、把正确的答案圈起来。



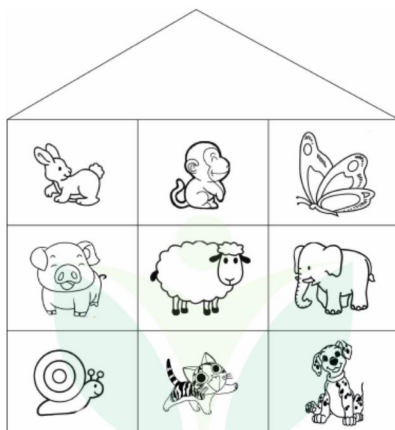
①△在□的(左 右)边。

②▲在○的(左 右)边。

③△在★的(左 右)边。

④▲在★的(左 右)边。

三、看一看,填一填。

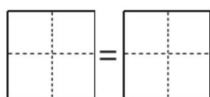


①在的_____边,在的_____面。

②在的_____边,在的_____面。

第二节 比大小

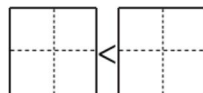
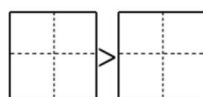
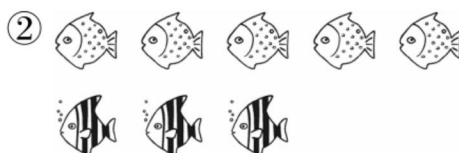
一、比一比,写一写。





相等最简单,

大嘴吃大数,

小嘴吃小数。



二、数一数,比大小。

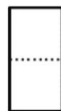
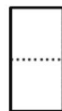


三、从小到大排一排。



第三节 练习一

一、数一数,写一写。



二、涂一涂,比一比。



①▲比☆多



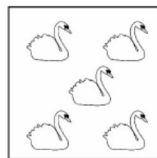



②◆比☆少



③●和☆同样多



三、数一数,连一连。



2











3

4

5



第四节 第几

一、排好队，数一数。

				
小红	妈妈	爸爸	奶奶	爷爷
第 	第 	第 	第 	第 

二、看一看，填一填。



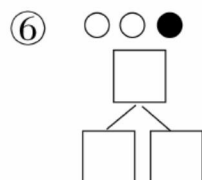
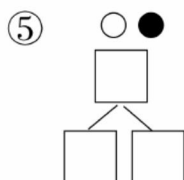
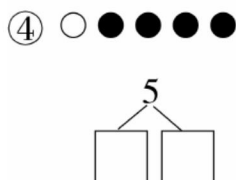
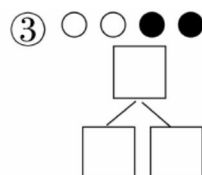
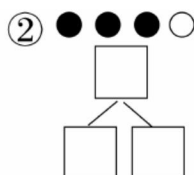
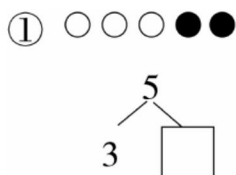
- ① 一共()件物品。
- ②  排在第(), 它后面有()件物品。
- ③  排在第(), 从后面数它排第()。

三、写一写，小兔排在第几个。

- ①      第();
- ②     第();
- ③     第()。

第五节 分与合

一、看一看,填一填。



二、把左边 5 个圈起来,把右边起第 2 个涂黄色。

① ○ ○ ○ ○ ○ ○ ○

② ☆ ☆ ☆ ☆ ☆ ☆ ☆

③ △ △ △ △ △ △ △

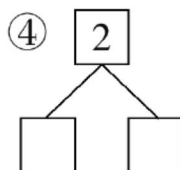
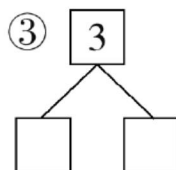
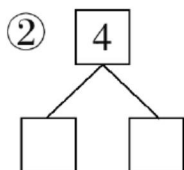
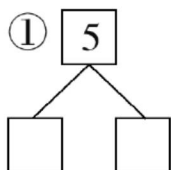
三、把 5 支铅笔分给小明和小红,有几种分法,填一填。

小明(支)	1		2	4
小红(支)		2		

微信公众账号 教辅资料站


第六节 练习二



一、想一想可以怎样分，写一写。



二、根据图形填一填。

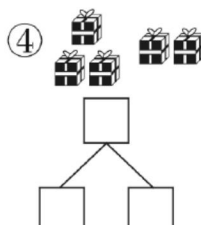
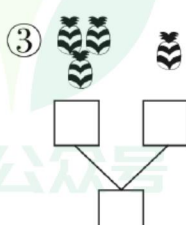
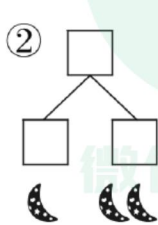
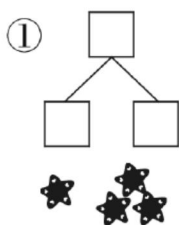


①  有()只,一共有()种动物。

②  排在第(),  排在第()。

③从右边数,  分别排在第()()()。

三、根据图形写一写。



第七节 加法

一、算一算。

① $2+1=$

② $3+1=$

③ $1+1=$

④ $1+4=$

⑤ $2+2=$

⑥ $1+3=$

⑦ $3+2=$

⑧ $1+2=$

⑨ $4+1=$

二、看图形，写算式。

①



$$\begin{array}{|c|c|} \hline \square & \square \\ \hline \hline \end{array} + \begin{array}{|c|c|} \hline \square & \square \\ \hline \hline \end{array} = \begin{array}{|c|c|} \hline \square & \square \\ \hline \hline \end{array}$$

②



$$\begin{array}{|c|c|} \hline \square & \square \\ \hline \hline \end{array} + \begin{array}{|c|c|} \hline \square & \square \\ \hline \hline \end{array} = \begin{array}{|c|c|} \hline \square & \square \\ \hline \hline \end{array}$$

③



$$\begin{array}{|c|c|} \hline \square & \square \\ \hline \hline \end{array} + \begin{array}{|c|c|} \hline \square & \square \\ \hline \hline \end{array} = \begin{array}{|c|c|} \hline \square & \square \\ \hline \hline \end{array}$$

三、连一连。



$2+3$

$2+2$

$1+2$

$1+1$

第八节 练习三

一、算一算。

① $1+2=$

② $1+3=$

③ $4+1=$

④ $2+3=$

⑤ $1+1=$

⑥ $2+2=$

⑦ $1+4=$

⑧ $3+1=$

⑨ $3+2=$

二、看数字,画一画。

○ ○
5

□
4

△
3

三、看图形,写算式。



+ =

+ =



+ =

+ =

第九节 减法

一、摆一摆,算一算。

① $5-2=$

② $3-2=$

③ $4-2=$

④ $4-1=$

⑤ $2-1=$

⑥ $5-4=$

⑦ $5-1=$

⑧ $3-1=$

⑨ $4-3=$

二、看图形,写算式。


①  $\square - \square = \square$

②  $\square - \square = \square$

③  $\square - \square = \square$

④  $\square - \square = \square$

三、连一连。



第十节 练习四

一、算一算。

① $2-1=$

② $4-3=$

③ $5-2=$

④ $3-2=$

⑤ $5-1=$

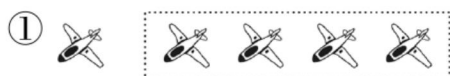
⑥ $5-3=$

⑦ $5-4=$

⑧ $4-2=$

⑨ $3-1=$


二、看图形,写算式。



$\square - \square = \square$



$\square - \square = \square$






$\square - \square = \square$



$\square - \square = \square$

三、连一连。



第十一节 0

一、算一算。

① $5-0=$

② $1+0=$

③ $3-0=$

④ $0+3=$

⑤ $3-3=$

⑥ $0+0=$

⑦ $4+0=$

⑧ $2-2=$

⑨ $0-0=$

二、在括号里填上合适的数。

① $\square+5=5$

② $2-\square=2$

③ $1+\square=1$

④ $\square-4=0$

⑤ $0+\square=3$

⑥ $2+\square=2$

⑦ $3-\square=3$

⑧ $5-\square=5$

⑨ $4-\square=0$

三、连一连。



第十二节 练习五

一、算一算。

① $5-0=$

② $0+5=$

③ $3-0=$

④ $0+4=$

⑤ $2-2=$

⑥ $1+0=$

⑦ $5-5=$

⑧ $3+0=$

⑨ $4-4=$

⑩ $0+3=$

⑪ $1-1=$

⑫ $0+0=$

二、在○里填上“+”或“-”。

① $5 \bigcirc 3 = 2$

② $3 \bigcirc 3 = 0$

③ $0 \bigcirc 4 = 4$

④ $3 \bigcirc 1 = 2$

⑤ $1 \bigcirc 2 = 3$

⑥ $2 \bigcirc 2 = 4$

⑦ $2 \bigcirc 3 = 5$

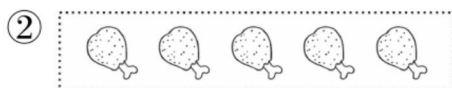
⑧ $5 \bigcirc 1 = 4$

⑨ $3 \bigcirc 2 = 1$

三、看图形,写算式。



$\square \bigcirc \square = \square$



$\square \bigcirc \square = \square$

第十三节 单元练习

一、口算。

① $2+3=$

② $5-2=$

③ $5-0=$

④ $1+4=$

⑤ $5-1=$

⑥ $5-5=$

⑦ $4+1=$

⑧ $5-4=$

⑨ $0+5=$

⑩ $3+2=$


⑪ $5-3=$

⑫ $5+0=$

二、看图形,写算式。

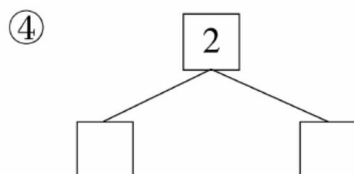
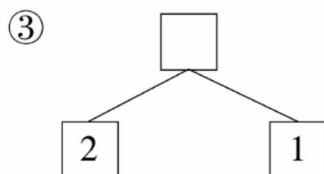
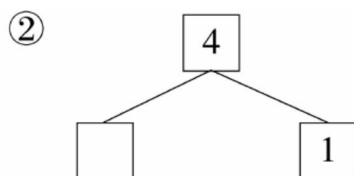
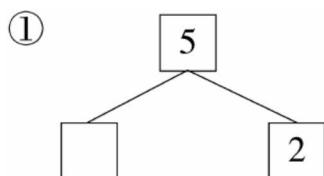


$\square \bigcirc \square = \square$



$\square \bigcirc \square = \square$

三、填一填。



第四单元 认识图形(一)

第一节 认识图形

一、算一算。

① $3+2=$

② $5-1=$

③ $1+1=$

④ $0+0=$

⑤ $3+0=$

⑥ $4-4=$

⑦ $2-1=$

⑧ $0+5=$

⑨ $3-3=$

⑩ $3-2=$

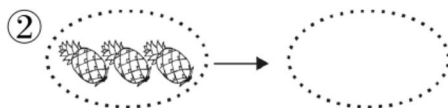
⑪ $1+3=$

⑫ $2+2=$

二、看图列式。

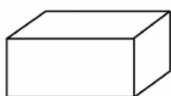
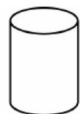


$$\square \bigcirc \square = \square$$



$$\square \bigcirc \square = \square$$

三、连一连。



第二节 单元练习

一、口算。

① $1+1=$

② $1+2=$

③ $2-1=$

④ $3+2=$

⑤ $2+3=$

⑥ $3-2=$

⑦ $3+1=$

⑧ $3-1=$

⑨ $1+3=$

⑩ $2+2=$

⑪ $2-2=$

⑫ $1-1=$

二、根据图形写算式。

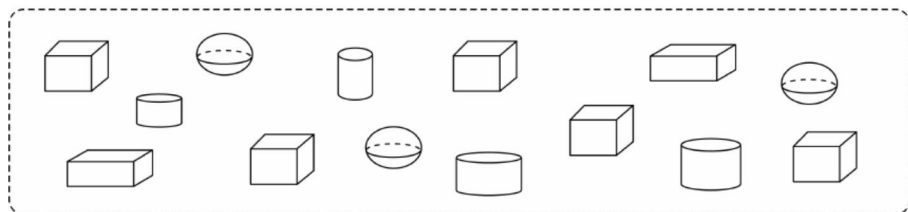


$$\square \bigcirc \square = \square$$



$$\square \bigcirc \square = \square$$

三、数一数,填一填。



() 个, () 个,

() 个, () 个。

第五单元 6~10 的认识和加减法

第一节 6 和 7

一、数一数,写一写。

6										
---	--	--	--	--	--	--	--	--	--	--

7										
---	--	--	--	--	--	--	--	--	--	--

二、口算。

① $1-1=$

② $1+1=$

③ $2+2=$

④ $3+1=$

⑤ $2-1=$

⑥ $3-2=$

⑦ $3-1=$

⑧ $5-3=$

⑨ $5-4=$

⑩ $2+3=$

⑪ $4+0=$

⑫ $0+1=$

⑬ $3-0=$

⑭ $0+3=$

⑮ $5-2=$

三、比一比。

① $5 \bigcirc 6$

② $6 \bigcirc 7$

③ $7 \bigcirc 6$

④ $7 \bigcirc 7$

⑤ $3 \bigcirc 6$

⑥ $7 \bigcirc 5$

⑦ $4 \bigcirc 5$

⑧ $5 \bigcirc 7$

⑨ $3 \bigcirc 6$

第二节 6、7 的分与合

一、算一算。

① $2-2=$

② $5-5=$

③ $2-1=$

④ $4-2=$

⑤ $4-1=$

⑥ $1+1=$

⑦ $1+4=$

⑧ $2+3=$

⑨ $3+2=$

⑩ $4-3=$

⑪ $1+3=$

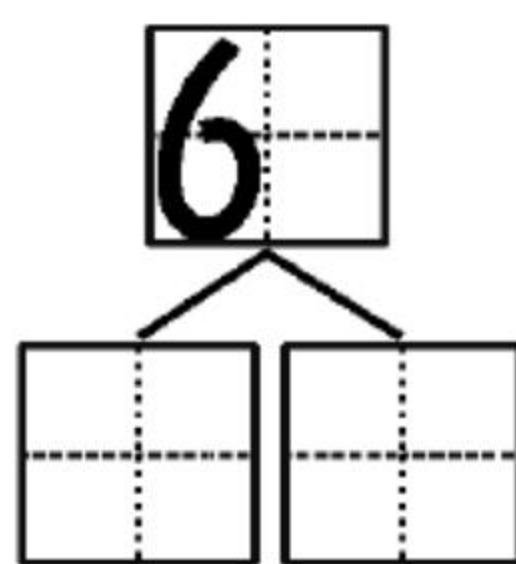
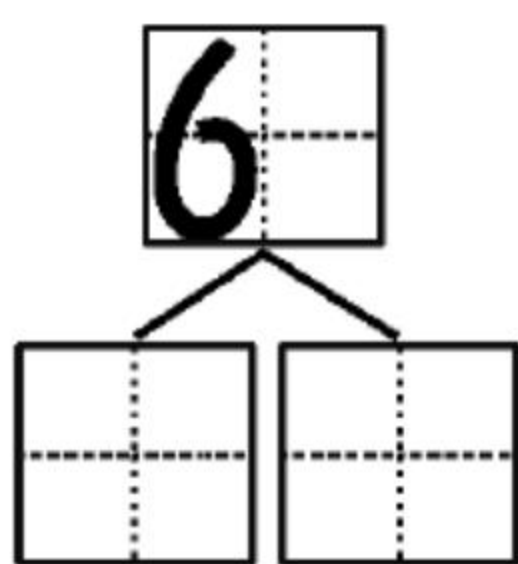
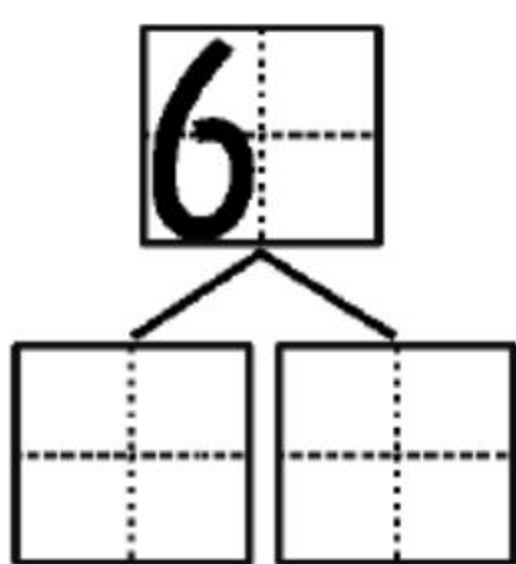
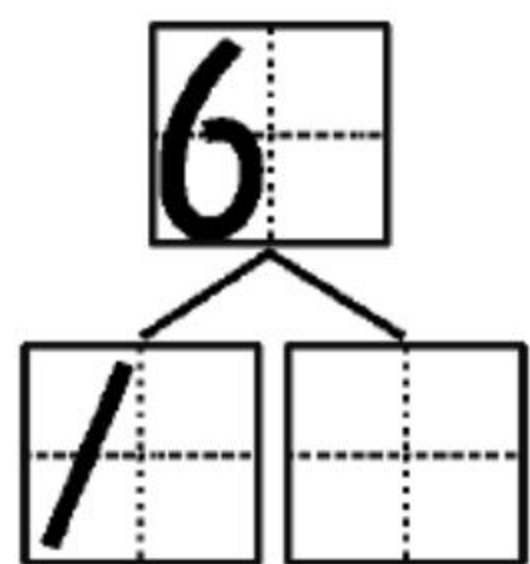
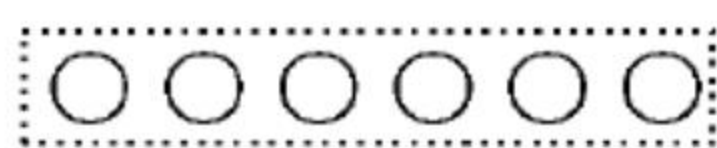
⑫ $3+1=$

⑬ $4+1=$

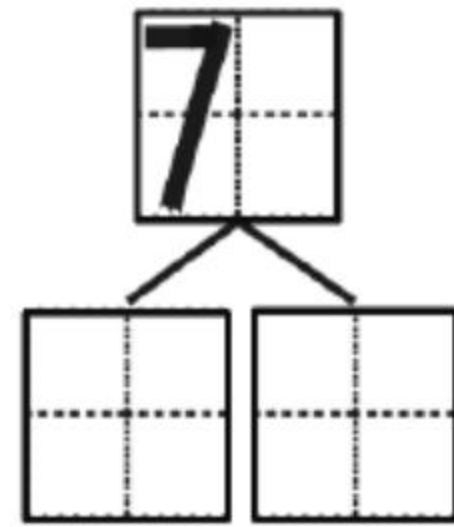
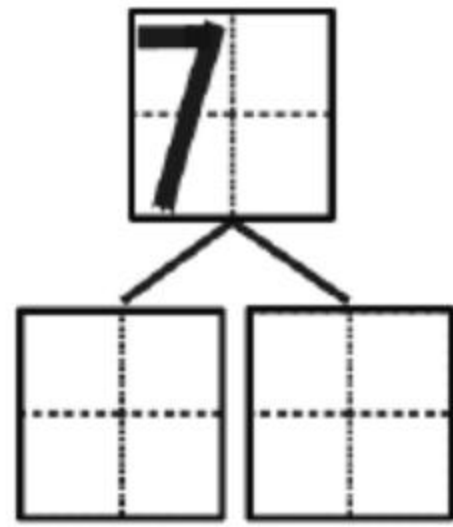
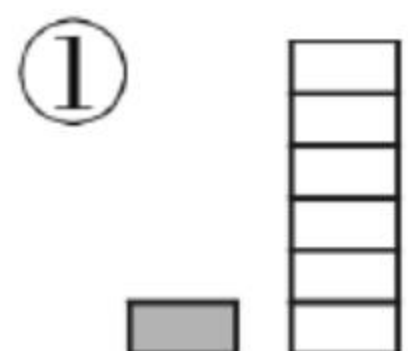
⑭ $5-1=$

⑮ $5-2=$

二、涂一涂,分一分。



三、看图填一填。



第三节 6、7 的加减法

一、算一算。

① $2+1=$

② $3+1=$

③ $4-0=$

④ $5-1=$

⑤ $4-3=$

⑥ $6+0=$

⑦ $4-2=$

⑧ $3+2=$


⑨ $5-5=$

⑩ $2+3=$

⑪ $4-4=$

⑫ $2+2=$

二、看图形,写算式。



○ =

○ =

三、连一连。

$7-3$

6

$4+3$

$5+2$

4

$7-4$

$6-3$

7

$1+5$

$2+4$

3

$6-2$

第四节 练习六

一、算一算。

① $3+1=$

② $6+1=$

③ $6-1=$

④ $4+3=$

⑤ $3+3=$

⑥ $2+0=$

⑦ $2+4=$

⑧ $3-3=$

⑨ $7-6=$

⑩ $7-5=$

⑪ $7-3=$

⑫ $7-1=$

⑬ $6-6=$

⑭ $6-3=$

⑮ $2+5=$

二、看图形,写算式。




$\square \bigcirc \square = \square$



$\square \bigcirc \square = \square$

三、看图列式计算。



$\square \bigcirc \square = \square$ (只)



$\square \bigcirc \square = \square$ (只)

第五节 解决问题

一、算一算。

① $6-2=$

② $5-1=$

③ $6+1=$

④ $2+4=$

⑤ $6-4=$

⑥ $5+2=$

⑦ $7-1=$

⑧ $3+4=$

⑨ $7+0=$

⑩ $7-5=$

⑪ $1+4=$

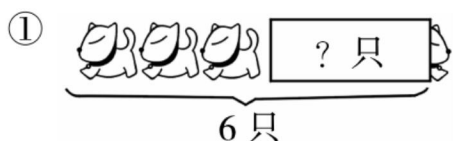
⑫ $3-2=$

⑬ $5+1=$

⑭ $4+2=$

⑮ $6-6=$

二、看图列式计算。



○ = (只)

○ = (个)

三、把 5、6、7 填在合适的方框里,每个数只用一次。

3 + 4 = 2 + = 1 + = 0 +

第六节 练习七

一、算一算。

① $3+1=$

② $6+1=$

③ $6-1=$

④ $5+1=$

⑤ $2+2=$

⑥ $3+3=$

⑦ $6-6=$

⑧ $6-3=$

⑨ $1+3=$

⑩ $2+4=$

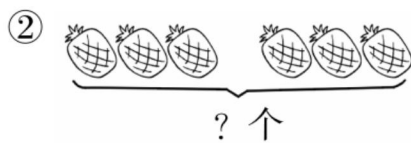
⑪ $3-3=$

⑫ $7-6=$

二、看图列式计算。



$\square \bigcirc \square = \square$ (只)



$\square \bigcirc \square = \square$ (个)

三、根据图形写算式。



$\square + \square = \square$

$\square - \square = \square$

$\square - \square = \square$



$\square + \square = \square$

$\square - \square = \square$

$\square - \square = \square$

第七节 8 和 9

一、算一算。

① $5+2=$

② $7-3=$

③ $3+3=$

④ $3+4=$

⑤ $6-5=$

⑥ $7-5=$

⑦ $6-2=$

⑧ $4+2=$

⑨ $7-1=$

⑩ $6+1=$

⑪ $7-6=$

⑫ $7+0=$

⑬ $4+3=$

⑭ $2+5=$

⑮ $2+3=$

二、写一写。

8										
9										

三、在 ○ 里填上“>”“<”或“=”。

① $7 \bigcirc 8$

② $8 \bigcirc 9$

③ $7 \bigcirc 9$

④ $6 \bigcirc 8$

⑤ $6 \bigcirc 9$

⑥ $5 \bigcirc 8$

⑦ $9 \bigcirc 5$

⑧ $4 \bigcirc 8$

⑨ $8 \bigcirc 6$

第八节 8、9 的分与合

一、算一算。

① $4+2=$

② $0+5=$

③ $7-4=$

④ $7-3=$

⑤ $3+2=$

⑥ $5-5=$

⑦ $3+3=$

⑧ $1+4=$

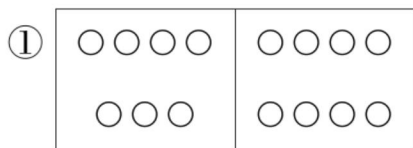
⑨ $4-4=$

⑩ $2+5=$

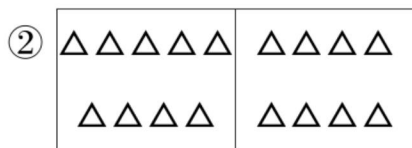
⑪ $5-1=$

⑫ $4+3=$

二、看图写数,并比较大小。

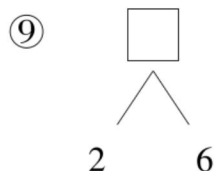
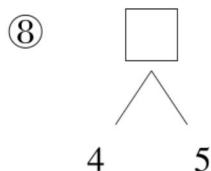
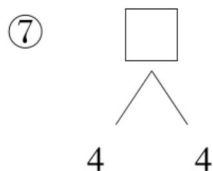
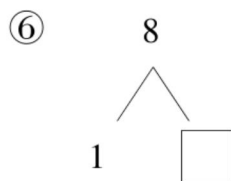
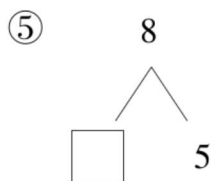
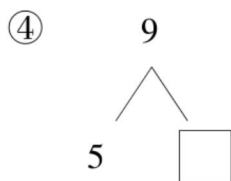
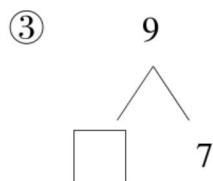
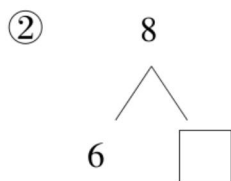
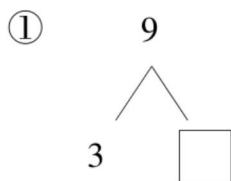


○



○

三、填一填。



第九节 8、9 的加减法

一、算一算。

① $6+1=$

② $5-1=$

③ $5+2=$

④ $6-4=$

⑤ $6-5=$

⑥ $6-3=$

⑦ $7-1=$

⑧ $7-6=$

⑨ $4-2=$

⑩ $5-4=$

⑪ $2+5=$

⑫ $5-0=$

⑬ $3-2=$

⑭ $2+2=$

⑮ $3+4=$

⑯ $7-7=$

⑰ $3+3=$

⑱ $6-6=$

二、看图形,写算式。



$$\boxed{7} + \boxed{2} = \boxed{}$$

$$\boxed{2} + \boxed{} = \boxed{}$$

$$\boxed{9} - \boxed{} = \boxed{}$$

$$\boxed{9} - \boxed{2} = \boxed{}$$



$$\boxed{3} + \boxed{5} = \boxed{}$$

$$\boxed{5} + \boxed{} = \boxed{}$$

$$\boxed{8} - \boxed{3} = \boxed{}$$

$$\boxed{8} - \boxed{} = \boxed{}$$

第十节 练习八

一、算一算。

① $9-1=$

② $8-8=$

③ $9-2=$

④ $8-6=$

⑤ $9-3=$

⑥ $8-5=$

⑦ $2+7=$

⑧ $8-2=$

⑨ $4+5=$

⑩ $8-1=$

⑪ $2+6=$


⑫ $1+7=$

⑬ $5+3=$



⑭ $2+3=$

⑮ $9-6=$

二、数一数，填一填。



 比  少 () 个。

 比  多 () 块。

三、看图列式计算。



$\square + \square = \square$

$\square + \square = \square$

$\square - \square = \square$

$\square - \square = \square$

$\square - \square = \square$

$\square - \square = \square$

第十一节 解决问题

一、算一算。

① $7+1=$

② $8-1=$

③ $6+2=$

④ $4+4=$

⑤ $3+5=$

⑥ $7+2=$

⑦ $9-8=$

⑧ $8-7=$

⑨ $7-5=$

⑩ $3+6=$

⑪ $5+3=$

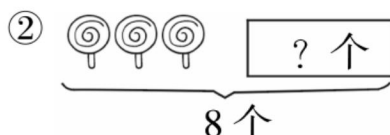
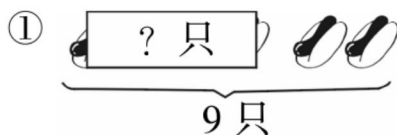
⑫ $4+2=$

⑬ $1+8=$

⑭ $4+5=$

⑮ $9-1=$

二、看图形,写算式。



○ = (只)

○ = (个)

三、开学时,小林买了8本练习本,用了3本,还剩几本?

第十二节 练习九

一、算一算。

① $9-1=$

② $8+1=$

③ $7+1=$

④ $9-4=$

⑤ $5+4=$

⑥ $8-7=$

⑦ $9-5=$

⑧ $4+5=$

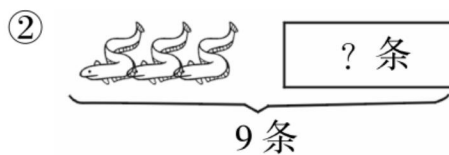
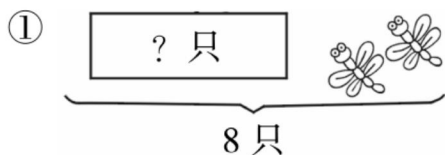
⑨ $8-8=$

⑩ $9-3=$

⑪ $6+3=$

⑫ $8-1=$

二、看图形,写算式。




\bigcirc $=$ (只)

\bigcirc $=$ (条)

三、看图提问题并解决问题。

① 提一个用加法解决的问题。

② 提一个用减法解决的问题。



第十三节 10 的认识

一、写一写。

10	10									
10	10									

二、算一算。

- | | | |
|----------|----------|----------|
| ① $9-6=$ | ② $9-4=$ | ③ $2+6=$ |
| ④ $9-0=$ | ⑤ $9-7=$ | ⑥ $9+0=$ |
| ⑦ $8-7=$ | ⑧ $6+3=$ | ⑨ $7-5=$ |
| ⑩ $3+4=$ | ⑪ $4+5=$ | ⑫ $6+1=$ |

三、比一比。

- | | | |
|--------------------|-------------------|-------------------|
| ① $10 \bigcirc 8$ | ② $10 \bigcirc 9$ | ③ $7 \bigcirc 10$ |
| ④ $6 \bigcirc 10$ | ⑤ $6 \bigcirc 8$ | ⑥ $5 \bigcirc 10$ |
| ⑦ $10 \bigcirc 10$ | ⑧ $0 \bigcirc 10$ | ⑨ $10 \bigcirc 1$ |
| ⑩ $5 \bigcirc 10$ | ⑪ $7 \bigcirc 9$ | ⑫ $3 \bigcirc 10$ |

第十四节 10 的分与合

一、算一算。

① $4+5=$

② $8-3=$

③ $2+6=$

④ $9-6=$

⑤ $7+2=$

⑥ $9-4=$

⑦ $8-5=$

⑧ $0+8=$

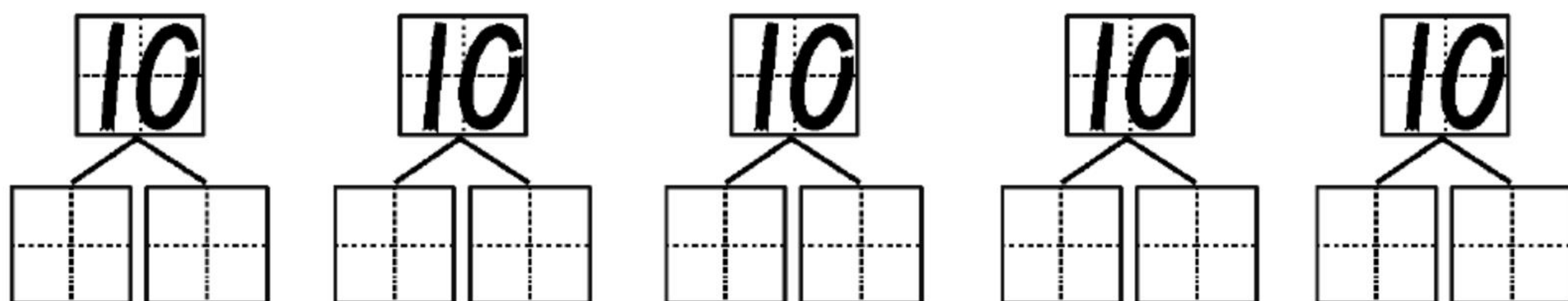
⑨ $9-9=$

⑩ $3+5=$

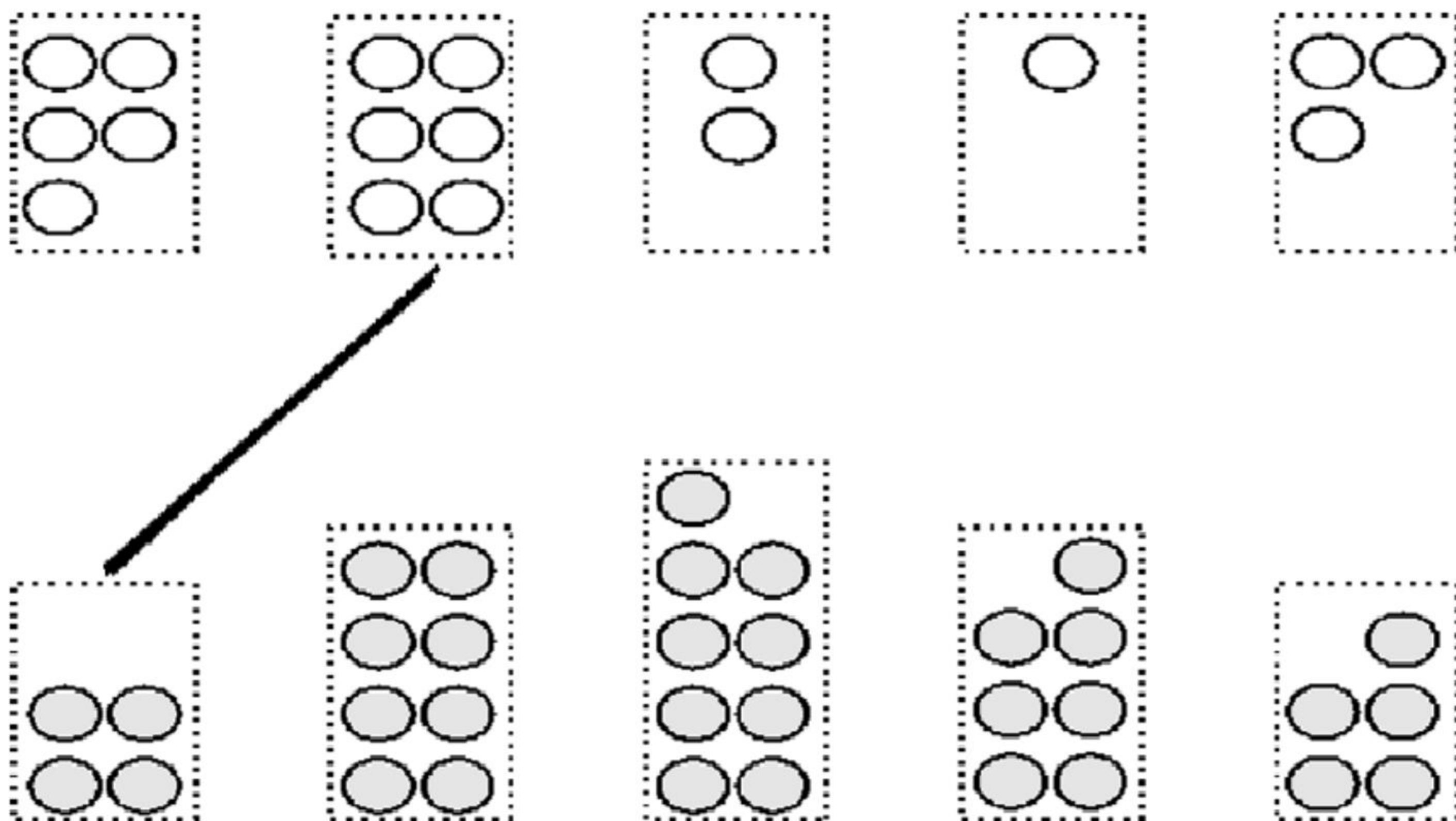
⑪ $9-8=$

⑫ $4+4=$

二、想一想,按顺序分一分。



三、哪两个数合起来是 10? (连一连)



第十五节 10 的加减法

一、算一算。

① $9-7=$

② $5+4=$

③ $1+7=$

④ $6-5=$

⑤ $9-6=$

⑥ $8-6=$

⑦ $5-3=$

⑧ $1+8=$

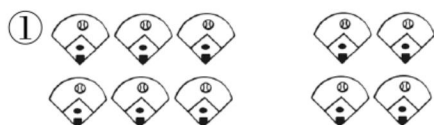
⑨ $2+7=$

⑩ $3+5=$


⑪ $8-7=$

⑫ $9+0=$

二、看图形，写算式。



$\square \bigcirc \square = \square$



$\square \bigcirc \square = \square$

三、数一数，比一比。



∴ ∴ ∴ ∴ ∴ ∴ ∴ ∴ ∴



苹果 比 梨 _____

梨 比 苹果 _____

$9 \bigcirc 10$

$10 \bigcirc 9$

第十六节 练习十

一、算一算。

① $10-7=$

② $6+4=$

③ $1+9=$

④ $10-3=$

⑤ $10-0=$

⑥ $8+2=$

⑦ $10-2=$

⑧ $3+7=$

⑨ $5+5=$

⑩ $0+10=$

⑪ $5+4=$

⑫ $9-9=$

⑬ $2+8=$

⑭ $8-8=$

⑮ $1+8=$

二、填一填。

① $8+\square=10$

② $3+\square=10$

③ $\square+4=10$

④ $5+\square=10$

⑤ $2+\square=10$

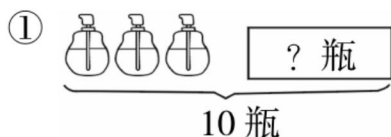
⑥ $\square+7=10$

⑦ $9+\square=10$

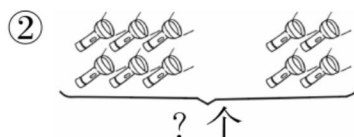
⑧ $6+\square=10$

⑨ $\square+1=10$

三、看图形,写算式。



$\square \bigcirc \square = \square$



$\square \bigcirc \square = \square$

第十七节 连加 连减

一、口算。

① $10-8=$

② $5+3=$

③ $(\quad)+6=10$

④ $2+6=$

⑤ $10-7=$

⑥ $(\quad)+8=10$

⑦ $1+9=$

⑧ $5-5=$

⑨ $5+(\quad)=10$

⑩ $6+0=$

⑪ $8-6=$

⑫ $4+(\quad)=10$

⑬ $2+8=$

⑭ $7-6=$

⑮ $3+(\quad)=10$

二、算一算。

① $1+2+3=$

② $9-8-1=$

③ $10-2-5=$

④ $10-1-6=$

⑤ $8-5-3=$

⑥ $6+1+3=$

⑦ $3+5+1=$

⑧ $4+4+1=$

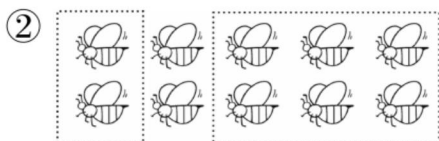
⑨ $9-0-5=$

⑩ $8-4-1=$

⑪ $10-3-6=$

⑫ $3+1+4=$

三、看图形，写算式。



$\square \bigcirc \square \bigcirc \square = \square$

$\square \bigcirc \square \bigcirc \square = \square$

第十八节 练习十一

一、算一算。

① $4+1+4=$

② $2+3+4=$

③ $3-2-1=$

④ $5+0+3=$

⑤ $0+4+2=$

⑥ $6-5-0=$

⑦ $2+3+1=$

⑧ $4+1+5=$

⑨ $9-2-6=$


⑩ $5+2+3=$

⑪ $1+4+2=$

⑫ $8-5-0=$

二、接力赛。

①  $5 \xrightarrow{+3} \square \xrightarrow{-6} \square \xrightarrow{+3} \square \xrightarrow{-4} \square \xrightarrow{+9} \square$

②  $9 \xrightarrow{-7} \square \xrightarrow{+5} \square \xrightarrow{-4} \square \xrightarrow{+6} \square \xrightarrow{-8} \square$

③  $10 \xrightarrow{-4} \square \xrightarrow{+3} \square \xrightarrow{-7} \square \xrightarrow{+6} \square \xrightarrow{-5} \square$

三、看图形,写算式。



$\square \bigcirc \square \bigcirc \square = \square$

$\square \bigcirc \square \bigcirc \square = \square$

第十九节 加减混合

一、算一算。

① $10-3-4=$

② $4+2+2=$

③ $9-6-3=$

④ $3+5+2=$

⑤ $9-5-1=$

⑥ $10-2-4=$

⑦ $0+5+4=$

⑧ $2+7+1=$

⑨ $7-1-5=$

⑩ $9-4-2=$

⑪ $7+0+1=$

⑫ $8-3-0=$

二、在○里填上“>”“<”或“=”。

① $5-4+8 \bigcirc 8$

② $2+6-7 \bigcirc 2$


③ $3+4-5 \bigcirc 2$

④ $10-9+8 \bigcirc 8$

⑤ $6-3+4 \bigcirc 6$

⑥ $4+4-6 \bigcirc 2$

三、看图形,写算式。



$\square \bigcirc \square \bigcirc \square = \square$



$\square \bigcirc \square \bigcirc \square = \square$

第二十节 练习十二

一、算一算。

① $4+1-2=$

② $7+2-5=$

③ $9-4+3=$

④ $5+1-3=$

⑤ $5-2+3=$

⑥ $8+1-4=$

⑦ $6+2-1=$

⑧ $4+2-3=$

⑨ $3+5-4=$

⑩ $4+4-3=$

⑪ $7-1+4=$

⑫ $4+6-3=$

⑬ $6+4-2=$

⑭ $6+4-5=$

⑮ $7+2-3=$

二、看图形写加减混合算式。



$\square \bigcirc \square \bigcirc \square = \square$

$\square \bigcirc \square \bigcirc \square = \square$

三、公交车上原来有9个人。

现在下了5人，又上了2人，此时有多少人？



第二十一节 单元练习

一、计算。

① $10-6=$

② $7-3=$

③ $5+5=$

④ $8-3=$

⑤ $5+4=$

⑥ $9-7=$

⑦ $4+6=$

⑧ $2+6=$

⑨ $6-5=$

⑩ $2+3+4=$

⑪ $4+5-6=$

⑫ $5-5+8=$

⑬ $5+0+3=$

⑭ $10-5-4=$

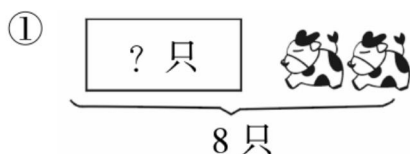
⑮ $9-2-4=$

⑯ $10-5-3=$


⑰ $1+8+1=$

⑱ $6+2-5=$

二、看图列式计算。



○ = (只)



○ = (个)

三、树上一共有 10 只鸟,飞走了 5 只,又飞来了 2 只,这时树上有多少只?

○ ○ = (只)

期中测试

一、计算。

① $3+1=$

② $4-2=$

③ $9-2=$

④ $7+3=$

⑤ $4+5=$

⑥ $10-2=$

⑦ $1+4+5=$

⑧ $10-7+3=$

⑨ $6+3-2=$

⑩ $6+3+0=$

⑪ $10-2-3=$

⑫ $7-4+6=$

⑬ $9-8-1=$

⑭ $3-2+7=$

⑮ $7-3+5=$


二、看图填一填。



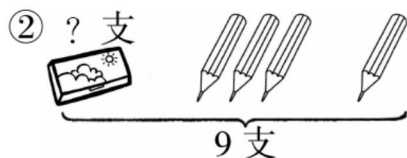
① ★ 左边有()个图形,右边有()个图形。

② 若○排在最前面,那么☆后面有()个图形。

三、看图列式计算。



○ = (个)

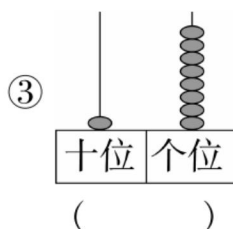
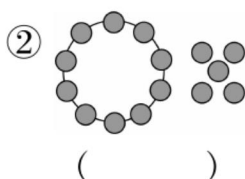
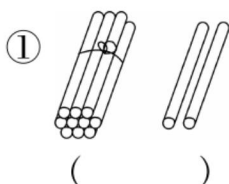


○ ○ = (支)

第六单元 11 ~ 20 各数的认识

第一节 11 ~ 20 各数的认识

一、看图写数。



二、读出下面各数。

① 11 读作：_____

② 14 读作：_____

③ 16 读作：_____

④ 17 读作：_____

⑤ 19 读作：_____

⑥ 20 读作：_____

⑦ 13 读作：_____

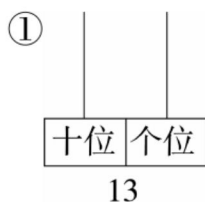
⑧ 18 读作：_____

三、猜猜我是谁？

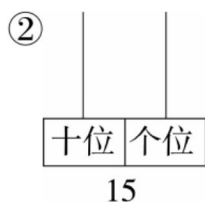


第二节 练习十三

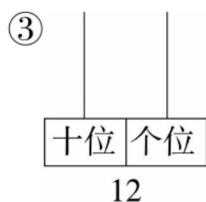
一、先画一画,再读出各数。



读作:_____



读作:_____



读作:_____

二、在○里填上“>”“<”或“=”。

① $11 \bigcirc 10$

② $12 \bigcirc 20$

③ $15 \bigcirc 15$

④ $17 \bigcirc 19$

⑤ $16 \bigcirc 13$

⑥ $15 \bigcirc 18$

⑦ $19 \bigcirc 11$

⑧ $13 \bigcirc 15$

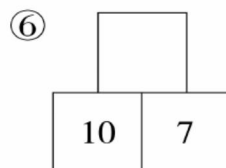
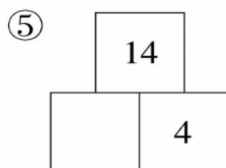
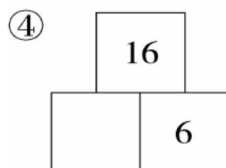
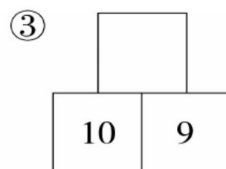
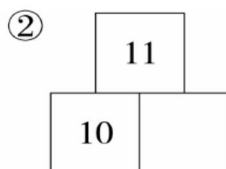
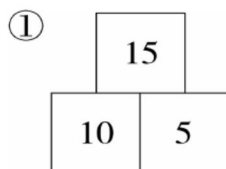
⑨ $14 \bigcirc 15$

⑩ $19 \bigcirc 12$

⑪ $20 \bigcirc 10$

⑫ $18 \bigcirc 19$

三、照样子填数。



第三节 11~20 的加减法

一、算一算。

① $10+3=$

② $10+2=$

③ $10-8=$

④ $13+3=$

⑤ $14+2=$

⑥ $18-8=$

⑦ $11+5=$

⑧ $16+4=$

⑨ $16+2=$

⑩ $13+1=$

⑪ $15+2=$

⑫ $18-5=$

⑬ $10+4=$

⑭ $17+2=$

⑮ $14+4=$

二、连一连。

① $18-2$

⑫

② 17

$19-9$

$10+2$

⑬

⑩

$14+2$



$17-4$

⑭



⑮


$11+6$


三、每种水果各代表几？

 +  = 20

 +  = 16

 +  = 12

 = ()

 = ()

 = ()

第四节 单元练习

一、算一算。

① $19-6=$

② $14+3=$

③ $16-6=$

④ $10+8=$

⑤ $16-4=$

⑥ $18-10=$

⑦ $13+5-7=$

⑧ $7+3+7=$

⑨ $12+5-4=$

⑩ $18-3+2=$

⑪ $20-8+3=$

⑫ $3+7+10=$

二、在○里填上“>”“<”或“=”。

① $15+4 \bigcirc 17$

② $19-3 \bigcirc 17$

③ $18-4 \bigcirc 16$

④ $4+12 \bigcirc 17$

⑤ $13+4 \bigcirc 18-1$

⑥ $18+2 \bigcirc 19$

⑦ $10+1 \bigcirc 11+0$

⑧ $11+8 \bigcirc 12+7$

⑨ $20-5 \bigcirc 18$

⑩ $2+8 \bigcirc 12-1$

⑪ $7+10 \bigcirc 11+1$

⑫ $19-9 \bigcirc 18-8$

三、一群小朋友排队回家,从前往后数,星星排第 10,童童排第 18。

星星和童童之间
有几人?



数学乐园

一、算一算。

① $10+8=$

② $18-10=$

③ $18-8=$

④ $12+4=$

⑤ $16-4=$

⑥ $17+2=$

⑦ $10+5+2=$

⑧ $7+3+7=$

⑨ $10+8-2=$

⑩ $14-4+6=$

⑪ $12+7-8=$

⑫ $13-3-9=$

⑬ $11+8-9=$

⑭ $1+9+9=$

⑮ $15+3-1=$

⑯ $14-3+5=$

⑰ $12+3-5=$

⑱ $4+6+3=$

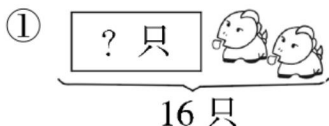
二、填一填。

① 12、13、()、()、16、()、()。

② 19、()、()、13、()、9。

③ 和 11 相邻的两个数的差是()。

三、根据图形写算式。



○ = (只)



○ = (根)

第七单元 认识钟表

第一节 认识钟面、整时

一、口算。

① $11+7=$

② $6+10=$

③ $10+3=$

④ $15+5=$

⑤ $13-2=$

⑥ $18-5=$

⑦ $14+4=$

⑧ $12+6=$



⑨ $19-9=$

二、连一连。





6:00

11:00





12:00

3:00




8:00

5:00


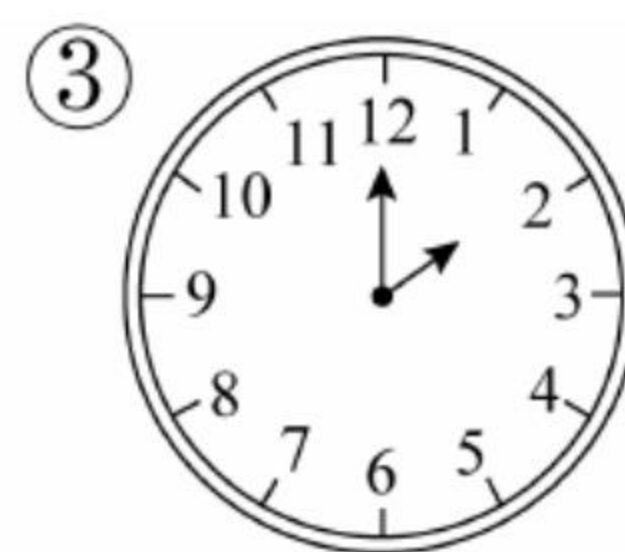




9:00

7:00



三、用两种方法表示下面钟面上的时间。



:

:

:

:

第二节 单元练习

一、口算。

① $4+11=$

② $13+7=$

③ $12+7=$

④ $1+10=$

⑤ $11+5=$




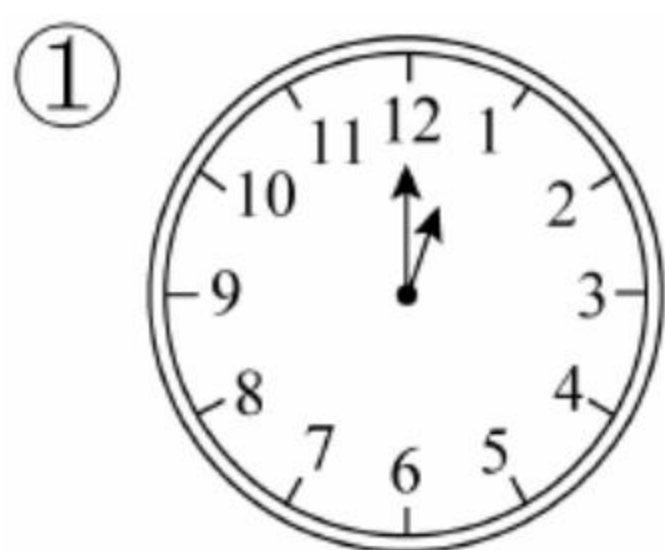
⑥ $20-10=$

⑦ $15+2=$

⑧ $12+6=$

⑨ $19-8=$

二、用两种方法写出过 1 小时后是几时。







:

:

:

:

三、画出下面钟面上的时针。







2:00

7:00

4:00

9:00



5:00

11:00

8:00

3:00

第八单元 20 以内的进位加法

第一节 9 加几

一、填一填。

① $9 + 6 = \square$
 $\begin{array}{c} 9 \\ | \\ 10 \end{array} \begin{array}{c} 6 \\ \swarrow \searrow \\ 1 \square \end{array}$

② $9 + 7 = \square$
 $\begin{array}{c} 9 \\ | \\ 10 \end{array} \begin{array}{c} 7 \\ \swarrow \searrow \\ 1 \square \end{array}$

③ $9 + 8 = \square$
 $\begin{array}{c} 9 \\ | \\ 10 \end{array} \begin{array}{c} 8 \\ \swarrow \searrow \\ 1 \square \end{array}$

④ $9 + 9 = \square$
 $\begin{array}{c} 9 \\ | \\ 10 \end{array} \begin{array}{c} 9 \\ \swarrow \searrow \\ 1 \square \end{array}$

二、算一算。

① $9 + 2 =$

② $9 + 3 =$

③ $9 + 4 =$

④ $9 + 8 =$

⑤ $9 + 9 =$

⑥ $9 + 10 =$

⑦ $4 + 9 =$

⑧ $1 + 9 =$

⑨ $3 + 9 =$

⑩ $9 + 5 =$

⑪ $9 + 6 =$

⑫ $9 + 7 =$

三、在 ○ 里填上“>”“<”或“=”。

① $9 + 5 \bigcirc 13$

② $9 + 9 \bigcirc 19$

③ $9 + 8 \bigcirc 18$

④ $9 + 9 \bigcirc 18$

⑤ $9 + 6 \bigcirc 15$

⑥ $9 + 7 \bigcirc 15$

⑦ $9 + 4 \bigcirc 14$

⑧ $9 + 2 \bigcirc 10$

⑨ $9 + 9 \bigcirc 20$

第二节 练习十四

一、算一算。

① $9+5=$

② $5+5=$

③ $9+6=$

④ $3+5=$

⑤ $7+3=$

⑥ $2+8=$

⑦ $9+8=$

⑧ $9+4=$

⑨ $6+4=$

⑩ $9+7=$

⑪ $1+9=$

⑫ $10+6=$

二、连一连。

① $9+4$

17

② 12

$9+6$

$9+2$

13

18

$9+5$

$9+8$

16

15

$9+3$

$9+7$

11

14

$9+9$

三、圈一圈,列算式。

① $\star\star\star\star\star$ $\star\star\star$
 $\star\star\star\star$ $\star\star\star\star$

② $\star\star\star\star\star$ $\star\star\star$
 $\star\star\star\star$ $\star\star\star$

$\square \bigcirc \square = \square$

$\square \bigcirc \square = \square$

第三节 8、7、6 加几

一、比一比,填一填。

① $7 + 6 = \square$

② $6 + 7 = \square$

③ $9 + 7 = \square$

④ $7 + 8 = \square$

⑤ $8 + 7 = \square$

⑥ $7 + 9 = \square$

二、算一算。

① $8 + 8 =$

② $7 + 6 =$

③ $6 + 5 =$

④ $9 + 8 =$

⑤ $9 + 3 =$

⑥ $9 + 5 =$

⑦ $5 + 8 =$

⑧ $7 + 5 =$

⑨ $6 + 6 =$

⑩ $3 + 8 =$

⑪ $7 + 7 =$

⑫ $8 + 7 =$

⑬ $6 + 8 =$

⑭ $9 + 2 =$

⑮ $9 + 9 =$

三、列式计算。

①

$\square + \square = \square$

②

$\square + \square = \square$

第四节 练习十五

一、口算。

① $8+9=$

② $7+7=$

③ $8+2+3=$

④ $9+5=$

⑤ $8+3=$

⑥ $7+3+6=$

⑦ $6+7=$

⑧ $6+5=$

⑨ $8+2+1=$

⑩ $9+8=$

⑪ $6+9=$

⑫ $9+1+5=$

⑬ $6+7=$

⑭ $7+6=$

⑮ $6+4+2=$

二、计算。

① $8 + \begin{array}{|c|} \hline 2 \\ \hline 4 \\ \hline 6 \\ \hline 8 \\ \hline \end{array} = \begin{array}{|c|} \hline \\ \hline \\ \hline \\ \hline \\ \hline \end{array}$

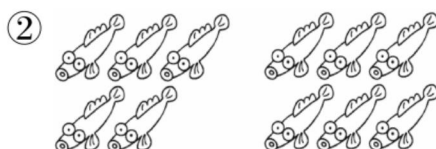
② $7 + \begin{array}{|c|} \hline 4 \\ \hline 5 \\ \hline 6 \\ \hline 7 \\ \hline \end{array} = \begin{array}{|c|} \hline \\ \hline \\ \hline \\ \hline \\ \hline \end{array}$

③ $6 + \begin{array}{|c|} \hline 3 \\ \hline 4 \\ \hline 5 \\ \hline 6 \\ \hline \end{array} = \begin{array}{|c|} \hline \\ \hline \\ \hline \\ \hline \\ \hline \end{array}$

三、列式计算。



$\square \bigcirc \square = \square$



$\square \bigcirc \square = \square$

第五节 5、4、3、2 加几

一、算一算。

① $5+6=$

② $5+7=$

③ $4+7=$

④ $3+9=$

⑤ $3+7=$

⑥ $5+9=$

⑦ $4+8=$

⑧ $2+9=$

⑨ $5+8=$

⑩ $10+2=$

⑪ $7-6=$

⑫ $7+4=$

二、在方框里填上合适的数。

① $\square + 5 = 13$

② $4 + \square = 12$

③ $\square + 5 = 11$

④ $\square + 4 = 13$

⑤ $2 + \square = 11$

⑥ $\square + 4 = 11$

⑦ $\square + 3 = 12$

⑧ $5 + \square = 10$

⑨ $\square + 5 = 12$

三、在○里填上“>”“<”或“=”。

① $6+5 \bigcirc 16-6$

② $4+8 \bigcirc 12+1$

③ $18-8 \bigcirc 2+9$

④ $5+9 \bigcirc 4+10$

⑤ $8+6 \bigcirc 13+2$

⑥ $3+8 \bigcirc 15-2$

⑦ $5+10 \bigcirc 6+7$

⑧ $9+7 \bigcirc 12+4$

⑨ $5+8 \bigcirc 12+4$

⑩ $4+8 \bigcirc 17-5$

⑪ $2+12 \bigcirc 7+7$

⑫ $16-6 \bigcirc 19-5$

第六节 练习十六

一、口算。

① $2+9=$

② $8+4=$

③ $9+5=$

④ $5+6=$

⑤ $5+7=$

⑥ $8+6=$

⑦ $6+6=$

⑧ $9+3=$

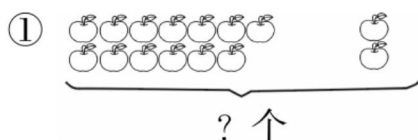
⑨ $12+6=$

⑩ $7+3=$

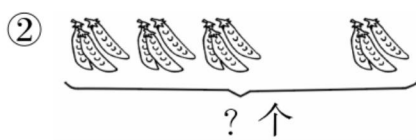
⑪ $3+8=$

⑫ $5+3=$

二、根据图形写算式。



○ = (个)



○ = (个)

三、在○里填上“>”“<”或“=”。

① $17-7$ ○ $3+8$

② $3+16$ ○ $19-2$

③ $4+10$ ○ $9+7$

④ $9+2$ ○ $2+9$

⑤ $6+8$ ○ $3+11$

⑥ $2+12$ ○ $16-2$

⑦ $5+9$ ○ $18-4$

⑧ $4+8$ ○ $17-5$

⑨ $3+13$ ○ $7+8$

⑩ $13+5$ ○ $18-5$

⑪ $15-0$ ○ $7+8$

⑫ $3+8$ ○ $15-5$

第七节 解决问题

一、计算。

① $4+8=$

② $17-4=$

③ $7+6-1=$

④ $13-3=$

⑤ $19-6=$


⑥ $19-7+1=$

⑦ $15+3=$

⑧ $15-3=$

⑨ $15-2+3=$

二、一共有多少只兔子？



① 左边有 只兔, 右边有 只兔, 一共有 只兔。

$$\square \bigcirc \square = \square \text{ (只)}$$

② 灰兔有 只, 白兔有 只, 一共有 只兔。

$$\square \bigcirc \square = \square \text{ (只)}$$

三、浩浩原来有多少张卡通画片？

送给了南南 3 张卡通画片后, 我还剩 9 张。



浩浩

$$\square \bigcirc \square = \square \text{ (张)}$$

第八节 单元练习

一、计算。

① $5+4=$

② $7+11=$

③ $3+7+4=$

④ $8+10=$

⑤ $17-7=$

⑥ $8-5+9=$

⑦ $4+8=$

⑧ $7+4=$

⑨ $8-1+8=$

⑩ $8-1=$

⑪ $9-8=$

⑫ $2+6+7=$

⑬ $3+3=$

⑭ $15-4=$

⑮ $4+3+9=$

二、在○里填上“>”“<”或“=”。

① $6+7 \bigcirc 14$

② $3+9 \bigcirc 13$

③ $5+9 \bigcirc 12$

④ $7+8 \bigcirc 14$

⑤ $9+9 \bigcirc 18$

⑥ $8+6 \bigcirc 16$

⑦ $4+9 \bigcirc 13$

⑧ $10+2 \bigcirc 0$

⑨ $2+9 \bigcirc 13$

⑩ $9-7 \bigcirc 3$

⑪ $7+4 \bigcirc 11$

⑫ $6+7 \bigcirc 12$

三、刘阿姨做了一些纸花,奖励给小朋友们5朵,还剩7朵。刘阿姨一共做了多少朵纸花?

第九单元 总复习

第一节 1~5 的认识和加减法

一、口算。

① $2+1=$

② $3-0=$

③ $2+1=$

④ $1-1=$

⑤ $5-4=$

⑥ $3+1=$

⑦ $0+5=$

⑧ $3-2=$

⑨ $4+0=$

⑩ $3+2=$

⑪ $4-1=$

⑫ $2+2=$

⑬ $1+4=$

⑭ $5-3=$

⑮ $4-4=$

二、在()里填上合适的数。

① () $+2=4$

② $5-()=5$

③ () $-1=4$

④ $3+()=4$

⑤ () $-2=3$

⑥ $4-()=1$

⑦ () $-4=1$

⑧ $3-()=1$

⑨ () $-0=3$

三、在○里填上“>”“<”或“=”。

① ☆ ☆

∴ ∴

△ △ △

$2 \bigcirc 3$

② ☆ ☆ ☆ ☆ ☆

∴ ∴ ∴ ∴

△ △ △ △

$5 \bigcirc 4$

③ ☆ ☆ ☆ ☆

∴ ∴ ∴ ∴

△ △ △ △

$4 \bigcirc 4$

第二节 6~10 的认识和加减法

一、口算。

① $5+1=$

② $8-1=$

③ $10-7-3=$

④ $4+5=$

⑤ $1+9=$

⑥ $3+6-2=$

⑦ $10-6=$

⑧ $9-5=$

⑨ $2+6+1=$

⑩ $0+9=$

⑪ $2+8=$

⑫ $10-5-2=$

⑬ $7-5=$

⑭ $6-5=$

⑮ $8-4+6=$

二、在 ○ 里填上“>”“<”或“=”。

① $3+7 \bigcirc 10$

② $5+5 \bigcirc 8$

③ $10-7 \bigcirc 8$

④ $9-6 \bigcirc 5$

⑤ $10-9 \bigcirc 2$

⑥ $8+2 \bigcirc 9$

⑦ $4+5 \bigcirc 9$

⑧ $10-1 \bigcirc 7$

⑨ $9-8 \bigcirc 2$

⑩ $6+3 \bigcirc 6$

⑪ $2+4 \bigcirc 4$

⑫ $5-3 \bigcirc 3$

三、艳艳一共有几本笔记本？



爸爸给我买了 5 本笔记本。

我又给她买了 5 本。



第三节 11~20 各数的认识

一、口算。

① $10+8=$

② $15-4=$

③ $13-10+6=$

④ $12-2=$

⑤ $14+3=$

⑥ $9+1-7=$

⑦ $13+6=$

⑧ $16-3=$

⑨ $15-10-4=$

⑩ $17-10=$

⑪ $11+5=$

⑫ $4+6+6=$

二、在○里填上“>”“<”或“=”。

① $11+4 \bigcirc 14$

② $16-2 \bigcirc 4$

③ $18-8 \bigcirc 10$

④ $19-3 \bigcirc 15$

⑤ $17+1 \bigcirc 19$

⑥ $13+6 \bigcirc 20$

⑦ $14-2 \bigcirc 12$

⑧ $15+4 \bigcirc 11$

⑨ $13-1 \bigcirc 14$

⑩ $17+1 \bigcirc 19$

⑪ $19-3 \bigcirc 16$

⑫ $12+5 \bigcirc 16$

三、一群小朋友排队买票,从前往后数,欣欣排第 10,莹莹是欣欣后面第 6 个小朋友。

从前往后数,
莹莹排第几?



第四节 20 以内的进位加法

一、口算。

① $9+5=$

② $9+2=$

③ $3+3+6=$

④ $9+8=$

⑤ $8+4=$

⑥ $7+9-2=$

⑦ $8+3=$

⑧ $7+8=$

⑨ $10-1+5=$

⑩ $8+4=$

⑪ $5+6=$

⑫ $19-10+7=$

⑬ $6+9=$

⑭ $13+6=$

⑮ $7+4-4=$

二、在 ○ 里填上“>”“<”或“=”。

① $9-7 \bigcirc 3$

② $10+2 \bigcirc 10$

③ $5+8 \bigcirc 12$

④ $3+9 \bigcirc 10$

⑤ $7+4 \bigcirc 11$

⑥ $2+9 \bigcirc 13$

⑦ $5+7 \bigcirc 14$

⑧ $6+5 \bigcirc 12$

⑨ $4+8 \bigcirc 11$

⑩ $9+9 \bigcirc 20$

⑪ $9+7 \bigcirc 18$

⑫ $8+8 \bigcirc 16$

三、贝贝和妮妮一共折了多少颗星星？



贝贝

我折了 6 颗星星。



妮妮

我折了 8 颗星星。

第五节 综合练习

一、口算。

① $4+1=$

② $3+9=$

③ $12-10+2=$

④ $3-2=$

⑤ $18-4=$

⑥ $9-6+9=$

⑦ $0+9=$

⑧ $5+3=$

⑨ $7+2+8=$

⑩ $15-3=$

⑪ $5+7=$

⑫ $8-3-3=$

⑬ $16+2=$

⑭ $14-10=$

⑮ $6-4+9=$

二、在○里填上“>”“<”或“=”。

① $5-2 \bigcirc 7$

② $11+6 \bigcirc 17$

③ $19-2 \bigcirc 18$

④ $2+2 \bigcirc 4$

⑤ $4+3 \bigcirc 8$

⑥ $6+9 \bigcirc 17$

⑦ $17-5 \bigcirc 15$

⑧ $13+6 \bigcirc 20$

⑨ $18-10 \bigcirc 8$

⑩ $4+9 \bigcirc 14$

⑪ $6+7 \bigcirc 12$

⑫ $9+8 \bigcirc 18$

三、鱼缸里一共有多少条金鱼?

鱼缸里有 6 条红金
鱼, 9 条黑金鱼。



第六节 期末测试

一、口算。

① $2+3=$

② $10+4=$

③ $6+1-4=$

④ $8-2=$

⑤ $8-7=$

⑥ $1+3+3=$

⑦ $10+8=$

⑧ $7-3=$

⑨ $0+2+5=$

⑩ $12-2=$

⑪ $8+8=$

⑫ $7+2-3=$

⑬ $15-2=$

⑭ $5+7=$

⑮ $11+5-6=$

二、连一连。

$6+9$



$9+8$

$7+7$



$7+8$

$8+9$



$6+8$

$3+9$



$5+7$

$5+9$


$4+8$


三、某花店卖掉 3 束百合后,店里还剩 13 束百合,该花店原来有多少束百合?

参考答案


第1页

一、3 4 1 2 7


二、

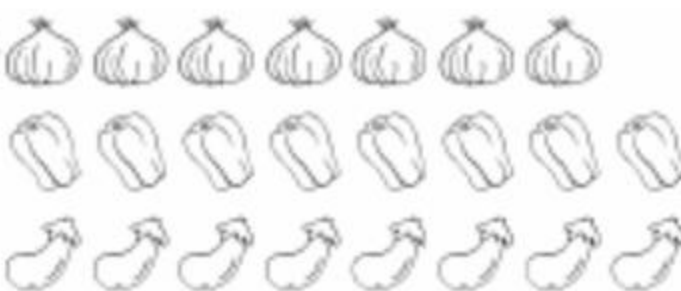
三、

④ ① ② ⑧





第2页

一、① 

② 


二、① 多 ② 一样多


三、




第3页

一、略

二、



三、① 

第4页

一、① 下 ② 上 ③ 下 ④ 上

二、① 阿姨 爷爷 ② 前 后 ③ 3 2

④ 后 2

第5页

一、① 3 2 ② 菠萝 西瓜 ③ 左 右

二、① 左 右 ② 前 前 ③ 下 右

第6页

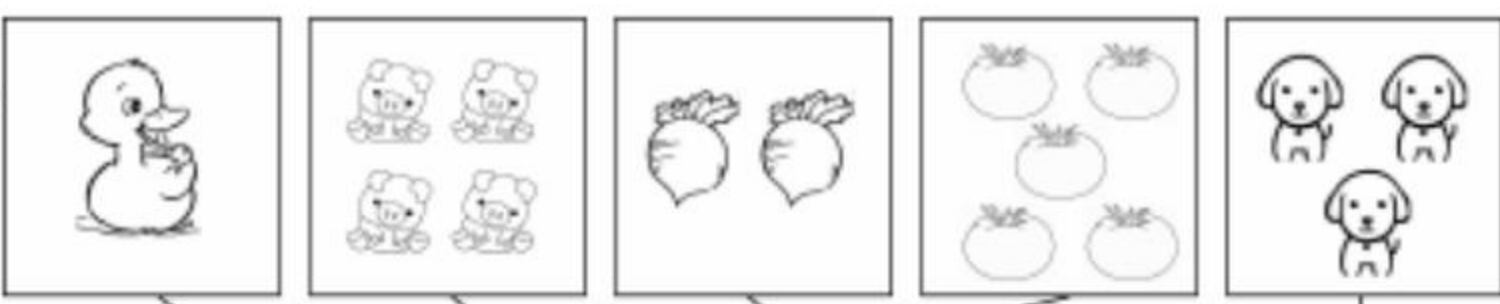
一、① 后 后 ② 前 后

二、① 左 ② 右 ③ 右 ④ 左

三、① 右 下 ② 左 上

第7页

一、略

二、

⑤ ① ④ ② ③

三、1 4 2 3 5

第8页

一、① 5 5 ② 5 3 3 5

二、① $3 > 2$ ② $2 < 4$ ③ $2 = 2$


三、1 2 3 4 5

第9页

一、

③ ① ④ ⑤ ②

二、略

三、

② ③ ④ ⑤

第10页

一、1 2 3 4 5

二、① 5 ② 3 2 ③ 4 2

三、① 3 ② 4 ③ 2

第11页

一、① 2 ② 4 3 1 ③ 4 2 2

④ 5 1 4 ⑤ 2 1 1 ⑥ 3 2 1

二、略

三、3 4 3 1

第12页

一、略

二、① 3 5 ② 2 3 ③ 1 2 4

三、① 4 1 3 ② 3 1 2 ③ 3 1 4

④ 5 3 2

第13页

一、① 3 ② 4 ③ 2 ④ 5 ⑤ 4 ⑥ 4

⑦ 5 ⑧ 3 ⑨ 5

二、① 1 2 3 ② 2 3 5 ③ 2 2 4

三、



第14页

一、① 3 ② 4 ③ 5 ④ 5 ⑤ 2 ⑥ 4

⑦ 5 ⑧ 4 ⑨ 5

二、略

三、① 1 3 4 ② 1 2 3 ③ 1 1 2

④ 3 1 4

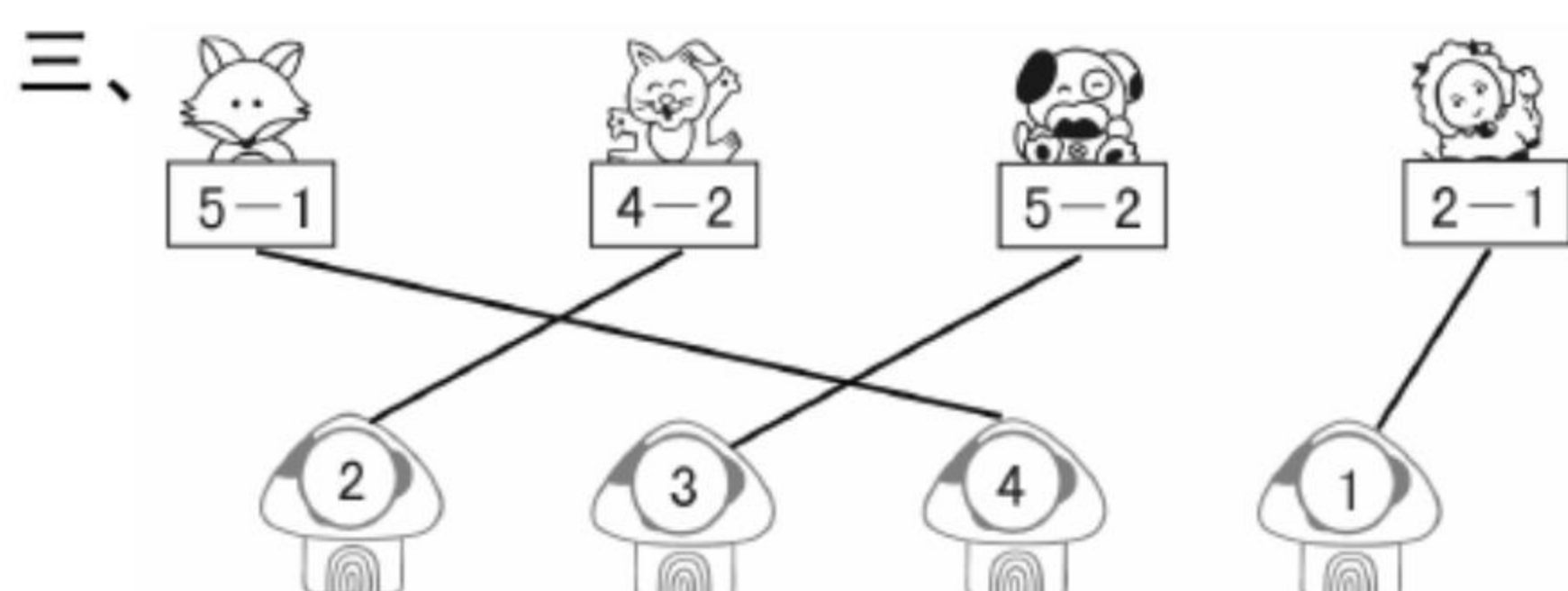
第15页

一、① 3 ② 1 ③ 2 ④ 3 ⑤ 1 ⑥ 1

⑦ 4 ⑧ 2 ⑨ 1

二、① 5 3 2 ② 4 2 2

③ 5 2 3 ④ 4 3 1

三、

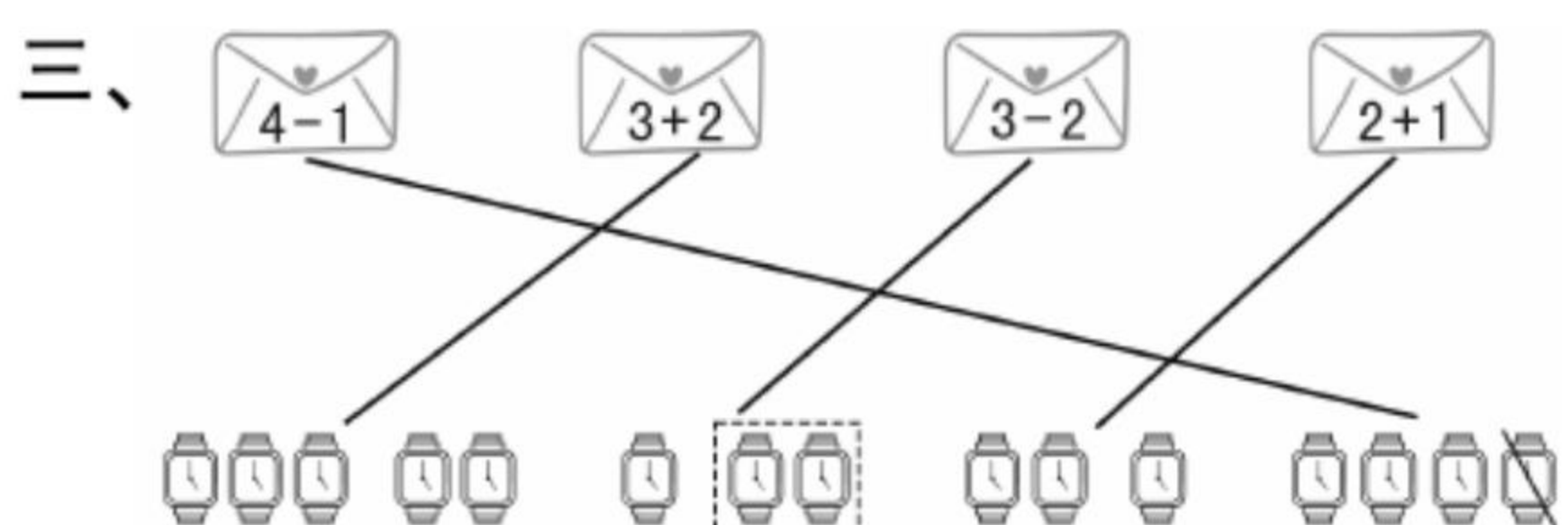
第16页

一、① 1 ② 1 ③ 3 ④ 1 ⑤ 4 ⑥ 2

⑦ 1 ⑧ 2 ⑨ 2

二、① 5 4 1 ② 4 2 2 ③ 5 3 2

④ 4 1 3

三、

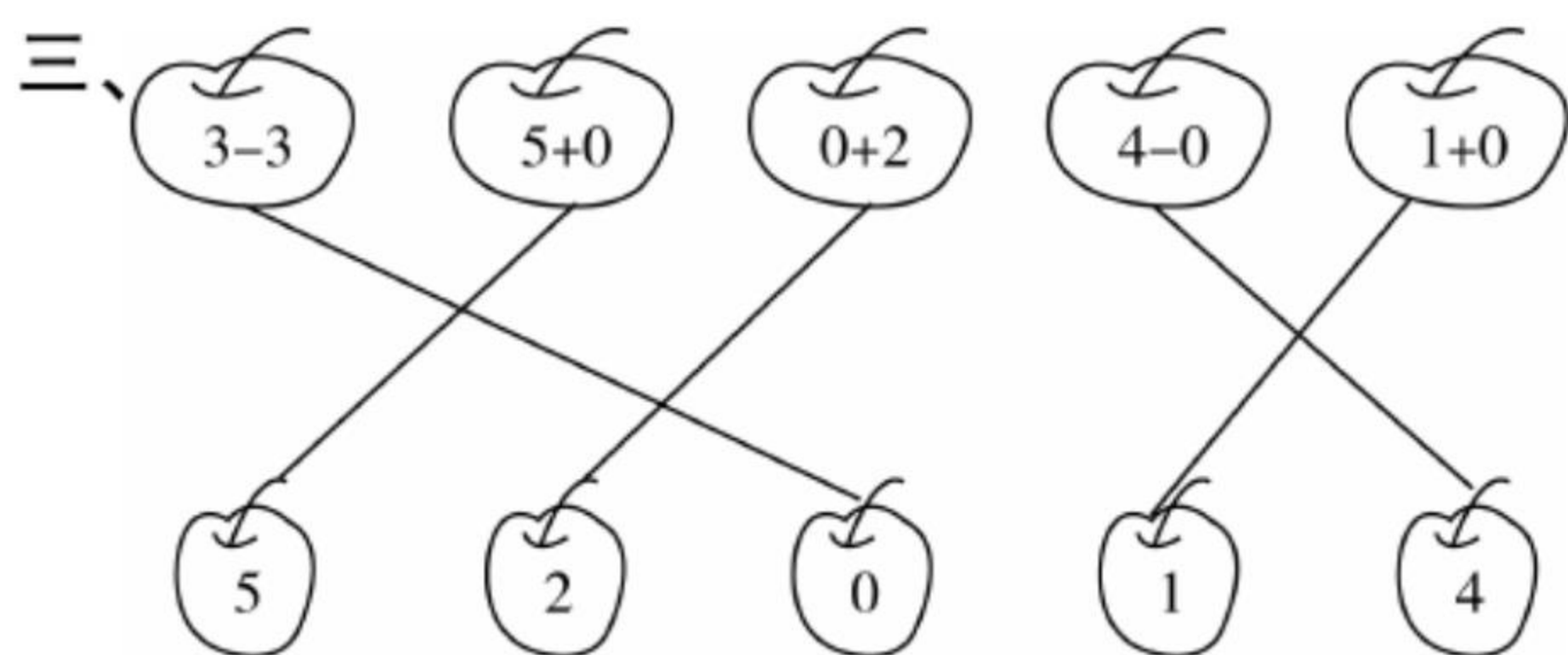
第17页

一、① 5 ② 1 ③ 3 ④ 3 ⑤ 0 ⑥ 0

⑦ 4 ⑧ 0 ⑨ 0

二、① 0 ② 0 ③ 0 ④ 4 ⑤ 3 ⑥ 0

⑦ 0 ⑧ 0 ⑨ 4

三、

第18页

一、① 5 ② 5 ③ 3 ④ 4 ⑤ 0 ⑥ 1

⑦ 0 ⑧ 3 ⑨ 0 ⑩ 3 ⑪ 0 ⑫ 0

二、① - ② - ③ + ④ - ⑤ + ⑥ + ⑦ +

⑧ - ⑨ -

三、① $0+2=2$ ② $5-5=0$

第19页

一、① 5 ② 3 ③ 5 ④ 5 ⑤ 4 ⑥ 0

⑦ 5 ⑧ 1 ⑨ 5 ⑩ 5 ⑪ 2 ⑫ 5

二、① $3+2=5$ ② $4-3=1$

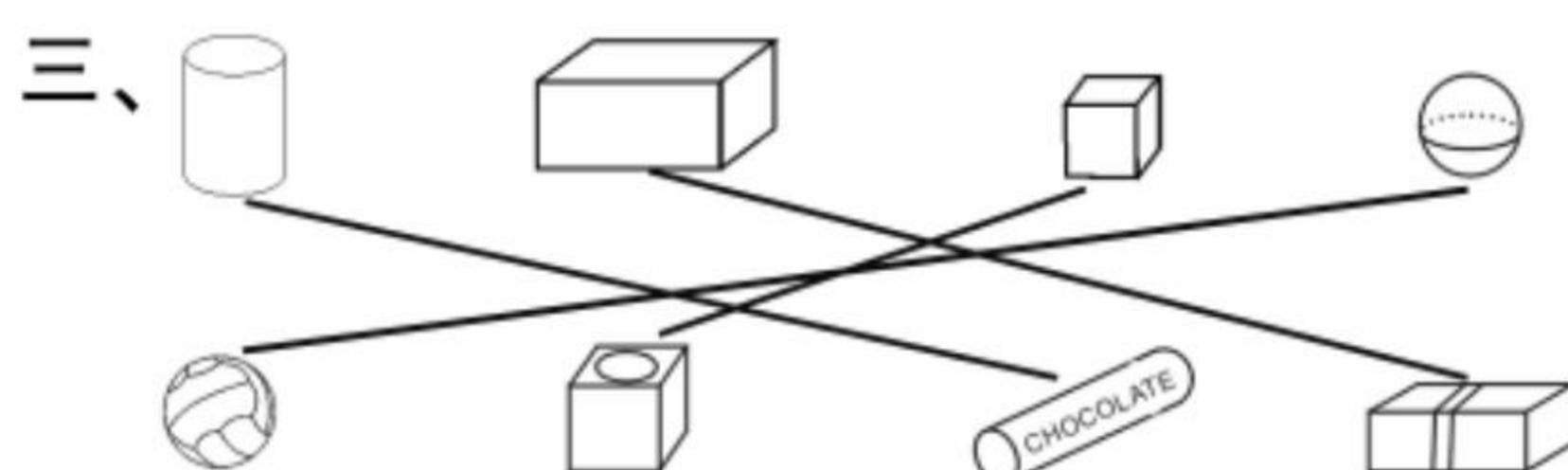
三、① 3 ② 3 ③ 3 ④ 1 1

第20页

一、① 5 ② 4 ③ 2 ④ 0 ⑤ 3 ⑥ 0

⑦ 1 ⑧ 5 ⑨ 0 ⑩ 1 ⑪ 4 ⑫ 4

二、① $2+1=3$ ② $3-3=0$

三、

第21页

一、① 2 ② 3 ③ 1 ④ 5 ⑤ 5 ⑥ 1

⑦ 4 ⑧ 2 ⑨ 4 ⑩ 4 ⑪ 0 ⑫ 0

二、① $3+1=4$ ② $5-3=2$

三、5 2 3 4

第22页

一、略

二、① 0 ② 2 ③ 4 ④ 4 ⑤ 1 ⑥ 1

⑦ 2 ⑧ 2 ⑨ 1 ⑩ 5 ⑪ 4 ⑫ 1

⑬ 3 ⑭ 3 ⑮ 3

三、① < ② < ③ > ④ = ⑤ < ⑥ > ⑦ <

⑧ < ⑨ <

第23页

一、① 0 ② 0 ③ 1 ④ 2 ⑤ 3 ⑥ 2

⑦ 5 ⑧ 5 ⑨ 5 ⑩ 1 ⑪ 4 ⑫ 4

⑬ 5 ⑭ 4 ⑮ 3

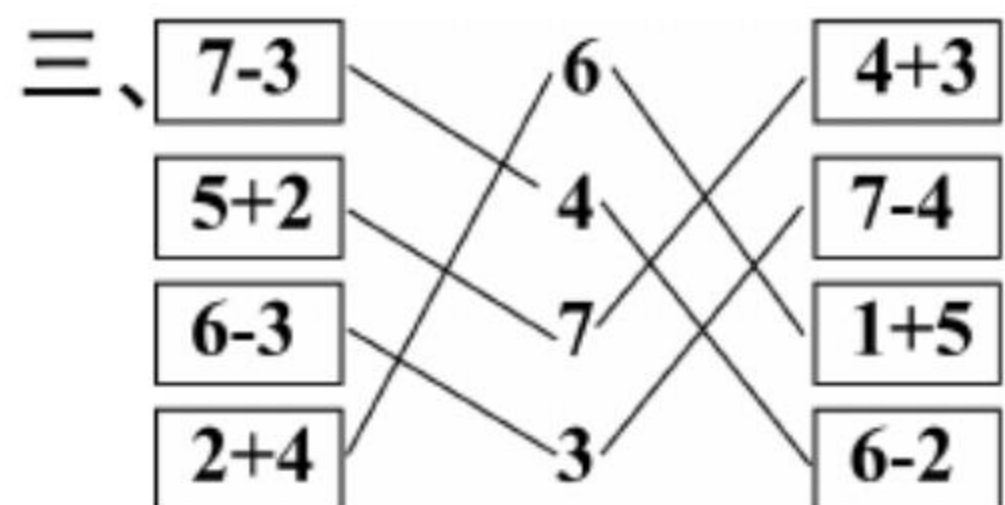
二、略

三、① 6 ② 2 5 ③ 3 4 ④ 4 3

第24页

一、① 3 ② 4 ③ 4 ④ 4 ⑤ 1 ⑥ 6
⑦ 2 ⑧ 5 ⑨ 0 ⑩ 5 ⑪ 0 ⑫ 4

二、① $6+1=7$ ② $6-2=4$



第25页

一、① 4 ② 7 ③ 5 ④ 7 ⑤ 6 ⑥ 2
⑦ 6 ⑧ 0 ⑨ 1 ⑩ 2 ⑪ 4 ⑫ 6
⑬ 0 ⑭ 3 ⑮ 7

二、① $4+3=7$ ② $6-4=2$

三、① $3+2=5$ ② $7-3=4$

第26页

一、① 4 ② 4 ③ 7 ④ 6 ⑤ 2 ⑥ 7
⑦ 6 ⑧ 7 ⑨ 7 ⑩ 2 ⑪ 5 ⑫ 1
⑬ 6 ⑭ 6 ⑮ 0

二、① $6-3=3$ ② $4+2=6$

三、5 6 7

第27页

一、① 4 ② 7 ③ 5 ④ 6 ⑤ 4 ⑥ 6
⑦ 0 ⑧ 3 ⑨ 4 ⑩ 6 ⑪ 0 ⑫ 1

二、① $7-2=5$ ② $3+3=6$

三、① $4+2=6$ $6-4=2$ $6-2=4$

② $4+3=7$ $7-4=3$ $7-3=4$

第28页

一、① 7 ② 4 ③ 6 ④ 7 ⑤ 1 ⑥ 2
⑦ 4 ⑧ 6 ⑨ 6 ⑩ 7 ⑪ 1 ⑫ 7
⑬ 7 ⑭ 7 ⑮ 5

二、略

三、① < ② < ③ < ④ < ⑤ < ⑥ <

⑦ > ⑧ < ⑨ >

第29页

一、① 6 ② 5 ③ 3 ④ 4 ⑤ 5 ⑥ 0
⑦ 6 ⑧ 5 ⑨ 0 ⑩ 7 ⑪ 4 ⑫ 7

二、① $7<8$ ② $9>8$

三、① 6 ② 2 ③ 2 ④ 4 ⑤ 3 ⑥ 7

⑦ 8 ⑧ 9 ⑨ 8

第30页

一、① 7 ② 4 ③ 7 ④ 2 ⑤ 1 ⑥ 3

⑦ 6 ⑧ 1 ⑨ 2 ⑩ 1 ⑪ 7 ⑫ 5

⑬ 1 ⑭ 4 ⑮ 7 ⑯ 0 ⑰ 6 ⑱ 0

二、① 9 7 9 7 2 7

② 8 3 8 5 5 3

第31页

一、① 8 ② 0 ③ 7 ④ 2 ⑤ 6 ⑥ 3

⑦ 9 ⑧ 6 ⑨ 9 ⑩ 7 ⑪ 8 ⑫ 8

⑬ 8 ⑭ 5 ⑮ 3

二、① 2 ② 3

三、① $3+6=9$ $9-3=6$ $9-6=3$

② $6+2=8$ $8-6=2$ $8-2=6$

第32页

一、① 8 ② 7 ③ 8 ④ 8 ⑤ 8 ⑥ 9

⑦ 1 ⑧ 1 ⑨ 2 ⑩ 9 ⑪ 8 ⑫ 6

⑬ 9 ⑭ 9 ⑮ 8

二、① $9-2=7$ ② $8-3=5$

三、 $8-3=5$ (本)

第33页

一、① 8 ② 9 ③ 8 ④ 5 ⑤ 9 ⑥ 1

⑦ 4 ⑧ 9 ⑨ 0 ⑩ 6 ⑪ 9 ⑫ 7

二、① $8-2=6$ ② $9-3=6$

三、略

第34页

一、略

二、① 3 ② 5 ③ 8 ④ 9 ⑤ 2 ⑥ 9

⑦ 1 ⑧ 9 ⑨ 2 ⑩ 7 ⑪ 9 ⑫ 7

三、① > ② > ③ < ④ < ⑤ < ⑥ <

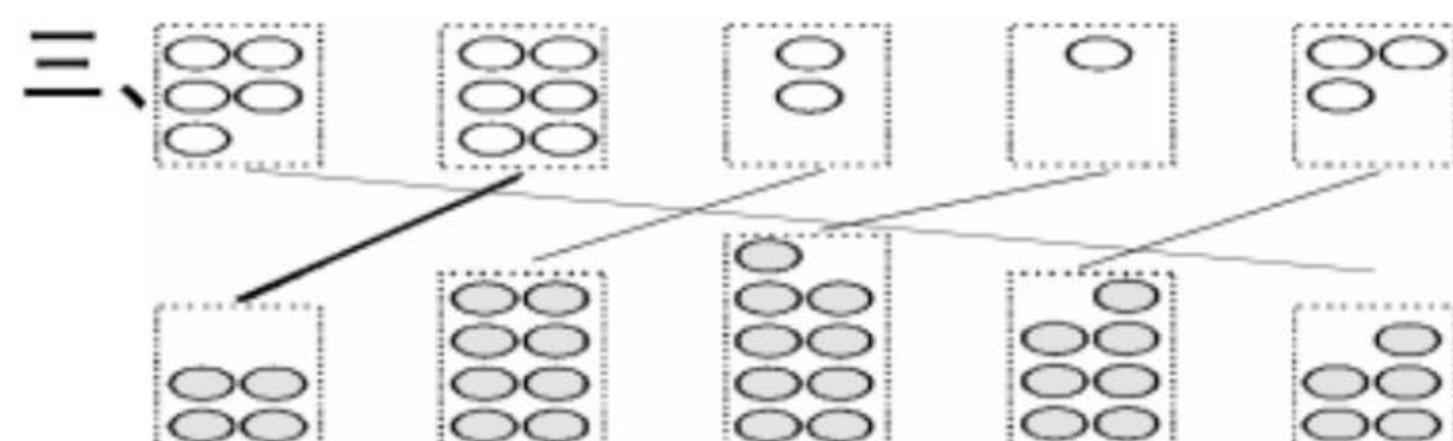
⑦ = ⑧ < ⑨ > ⑩ < ⑪ < ⑫ <

第35页

一、① 9 ② 5 ③ 8 ④ 3 ⑤ 9 ⑥ 5

⑦ 3 ⑧ 8 ⑨ 0 ⑩ 8 ⑪ 1 ⑫ 8

二、略



第36页

一、① 2 ② 9 ③ 8 ④ 1 ⑤ 3 ⑥ 2

⑦ 2 ⑧ 9 ⑨ 9 ⑩ 8 ⑪ 1 ⑫ 9

二、① $6+4=10$ ② $10-5=5$

三、少 < 多 >

第37页

- 一、① 3 ② 10 ③ 10 ④ 7 ⑤ 10
 ⑥ 10 ⑦ 8 ⑧ 10 ⑨ 10 ⑩ 10
 ⑪ 9 ⑫ 0 ⑬ 10 ⑭ 0 ⑮ 9
- 二、① 2 ② 7 ③ 6 ④ 5 ⑤ 8 ⑥ 3
 ⑦ 1 ⑧ 4 ⑨ 9

三、① $10-3=7$ ② $6+4=10$

第38页

- 一、① 2 ② 8 ③ 4 ④ 8 ⑤ 3
 ⑥ 2 ⑦ 10 ⑧ 0 ⑨ 5 ⑩ 6
 ⑪ 2 ⑫ 6 ⑬ 10 ⑭ 1 ⑮ 7
- 二、① 6 ② 0 ③ 3 ④ 3 ⑤ 0 ⑥ 10
 ⑦ 9 ⑧ 9 ⑨ 4 ⑩ 3 ⑪ 1 ⑫ 8

三、① $1+4+3=8$ ② $10-2-6=2$

第39页

- 一、① 9 ② 9 ③ 0 ④ 8 ⑤ 6
 ⑥ 1 ⑦ 6 ⑧ 10 ⑨ 1 ⑩ 10
 ⑪ 7 ⑫ 3
- 二、① 8 2 5 1 10 ② 2 7 3 9 1
 ③ 6 9 2 8 3

三、① $3+2+5=10$ ② $10-1-3=6$

第40页

- 一、① 3 ② 8 ③ 0 ④ 10 ⑤ 3
 ⑥ 4 ⑦ 9 ⑧ 10 ⑨ 1 ⑩ 3
 ⑪ 8 ⑫ 5

二、① $>$ ② $<$ ③ $=$ ④ $>$ ⑤ $>$ ⑥ $=$

三、① $1+2+2=5$ ② $3+2+2=7$

第41页

- 一、① 3 ② 4 ③ 8 ④ 3 ⑤ 6
 ⑥ 5 ⑦ 7 ⑧ 3 ⑨ 4 ⑩ 5
 ⑪ 10 ⑫ 7 ⑬ 8 ⑭ 5 ⑮ 6

二、① $7-3+2=6$ ② $4+6-3=7$

三、 $9-5+2=6$ (人)

第42页

- 一、① 4 ② 4 ③ 10 ④ 5 ⑤ 9
 ⑥ 2 ⑦ 10 ⑧ 8 ⑨ 1 ⑩ 9
 ⑪ 3 ⑫ 8 ⑬ 8 ⑭ 1 ⑮ 3
 ⑯ 2 ⑰ 10 ⑱ 3

二、① $8-2=6$ ② $5+4=9$

三、 $10-5+2=7$

第43页

- 一、① 4 ② 2 ③ 7 ④ 10 ⑤ 9

- ⑥ 8 ⑦ 10 ⑧ 6 ⑨ 7 ⑩ 9
 ⑪ 5 ⑫ 9 ⑬ 0 ⑭ 8 ⑮ 9

二、① 5 4 ② 6

三、① $2+6=8$ ② $9-3-1=5$

第44页

一、① 12 ② 15 ③ 18

二、① 十一 ② 十四 ③ 十六 ④ 十七
 ⑤ 十九 ⑥ 二十 ⑦ 十三 ⑧ 十八

三、① 16 ② 14 ③ 12

第45页

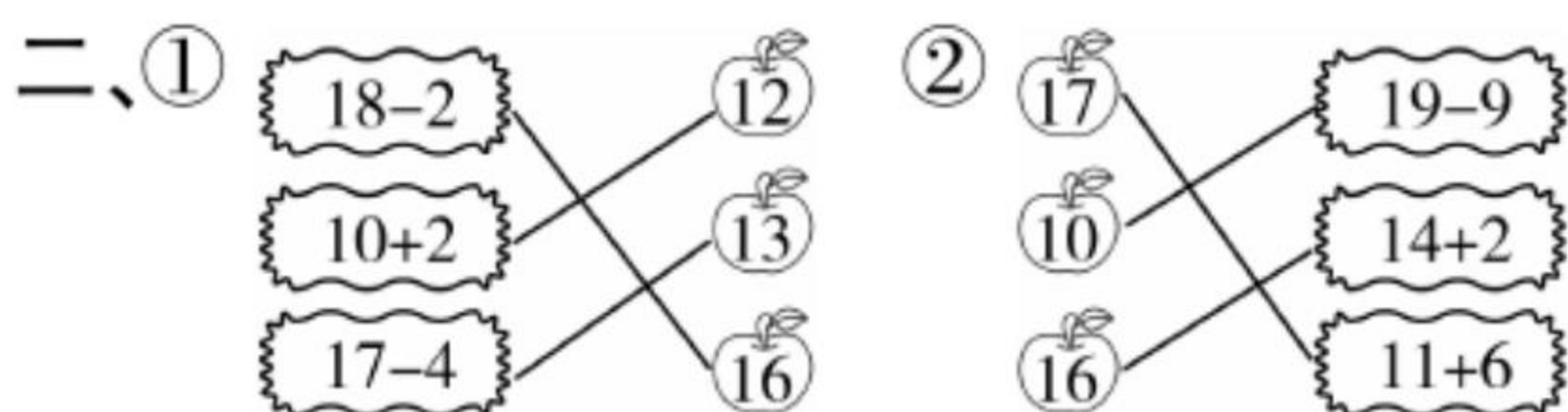
一、① 十三 ② 十五 ③ 十二

二、① $>$ ② $<$ ③ $=$ ④ $<$ ⑤ $>$ ⑥ $<$
 ⑦ $>$ ⑧ $<$ ⑨ $<$ ⑩ $>$ ⑪ $>$ ⑫ $<$

三、② 1 ③ 19 ④ 10 ⑤ 10 ⑥ 17

第46页

- 一、① 13 ② 12 ③ 2 ④ 16 ⑤ 16
 ⑥ 10 ⑦ 16 ⑧ 20 ⑨ 18 ⑩ 14
 ⑪ 17 ⑫ 13 ⑬ 14 ⑭ 19 ⑮ 18



三、10 6 2

第47页

一、① 13 ② 17 ③ 10 ④ 18 ⑤ 12
 ⑥ 8 ⑦ 11 ⑧ 17 ⑨ 13 ⑩ 17
 ⑪ 15 ⑫ 20

二、① $>$ ② $<$ ③ $<$ ④ $<$ ⑤ $=$ ⑥ $>$
 ⑦ $=$ ⑧ $=$ ⑨ $<$ ⑩ $<$ ⑪ $>$ ⑫ $=$

三、 $18-10-1=7$ (人)

第48页

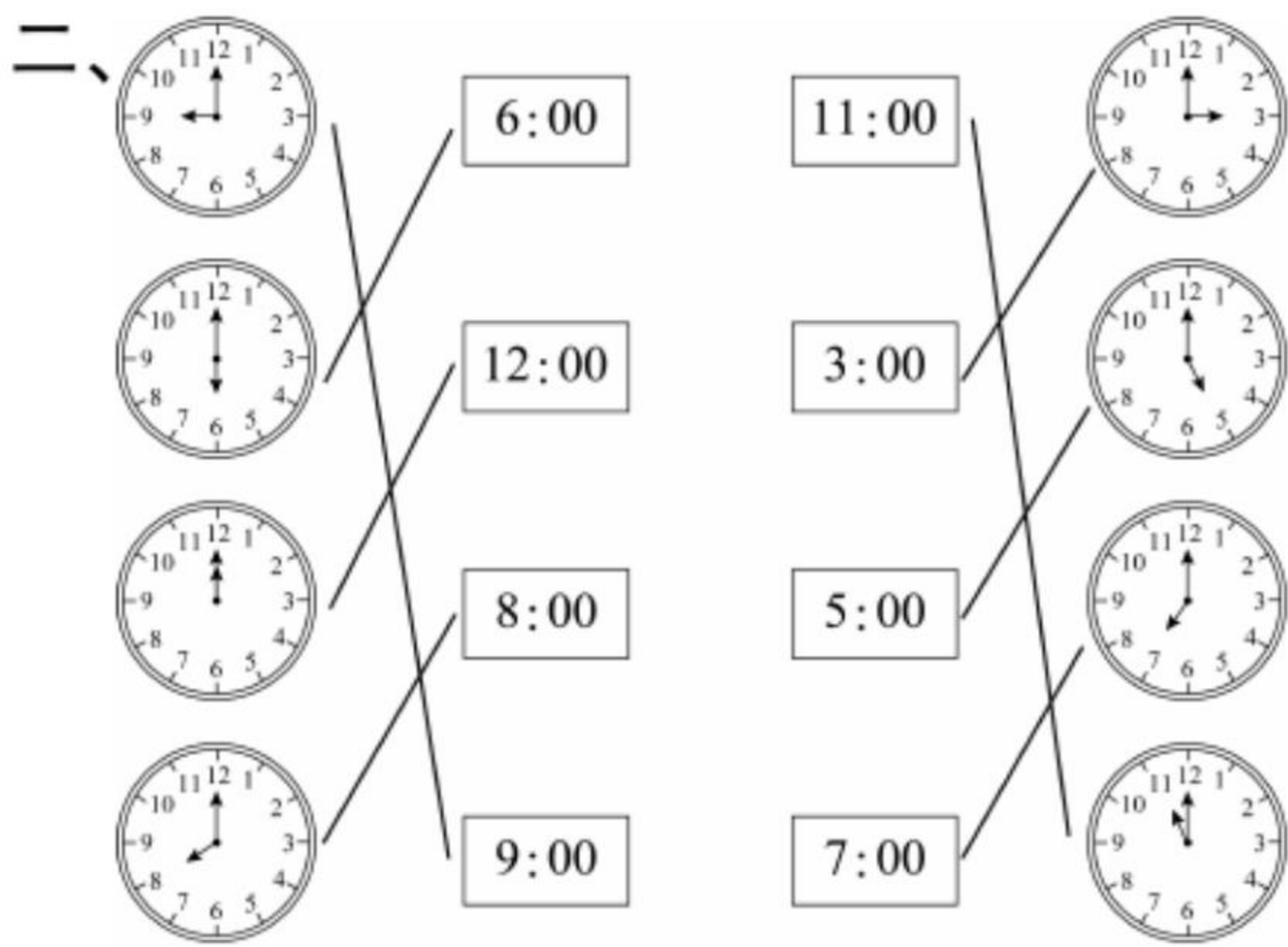
- 一、① 18 ② 8 ③ 10 ④ 16 ⑤ 12
 ⑥ 19 ⑦ 17 ⑧ 17 ⑨ 16 ⑩ 16
 ⑪ 11 ⑫ 1 ⑬ 10 ⑭ 19 ⑮ 17
 ⑯ 16 ⑰ 10 ⑱ 13

二、① 14 15 17 18 ② 17 15 11 ③ 2

三、① $16-2=14$ ② $10+5=15$

第49页

一、① 18 ② 16 ③ 13 ④ 20 ⑤ 11
 ⑥ 13 ⑦ 18 ⑧ 18 ⑨ 10



三、① 4 时 4:00 ② 1 时 1:00
③ 2 时 2:00 ④ 10 时 10:00

第50页

一、① 15 ② 20 ③ 19 ④ 11 ⑤ 16
⑥ 10 ⑦ 17 ⑧ 18 ⑨ 11

二、① 2 时 2:00 ② 1 时 1:00
③ 7 时 7:00 ④ 11 时 11:00

三、略

第51页

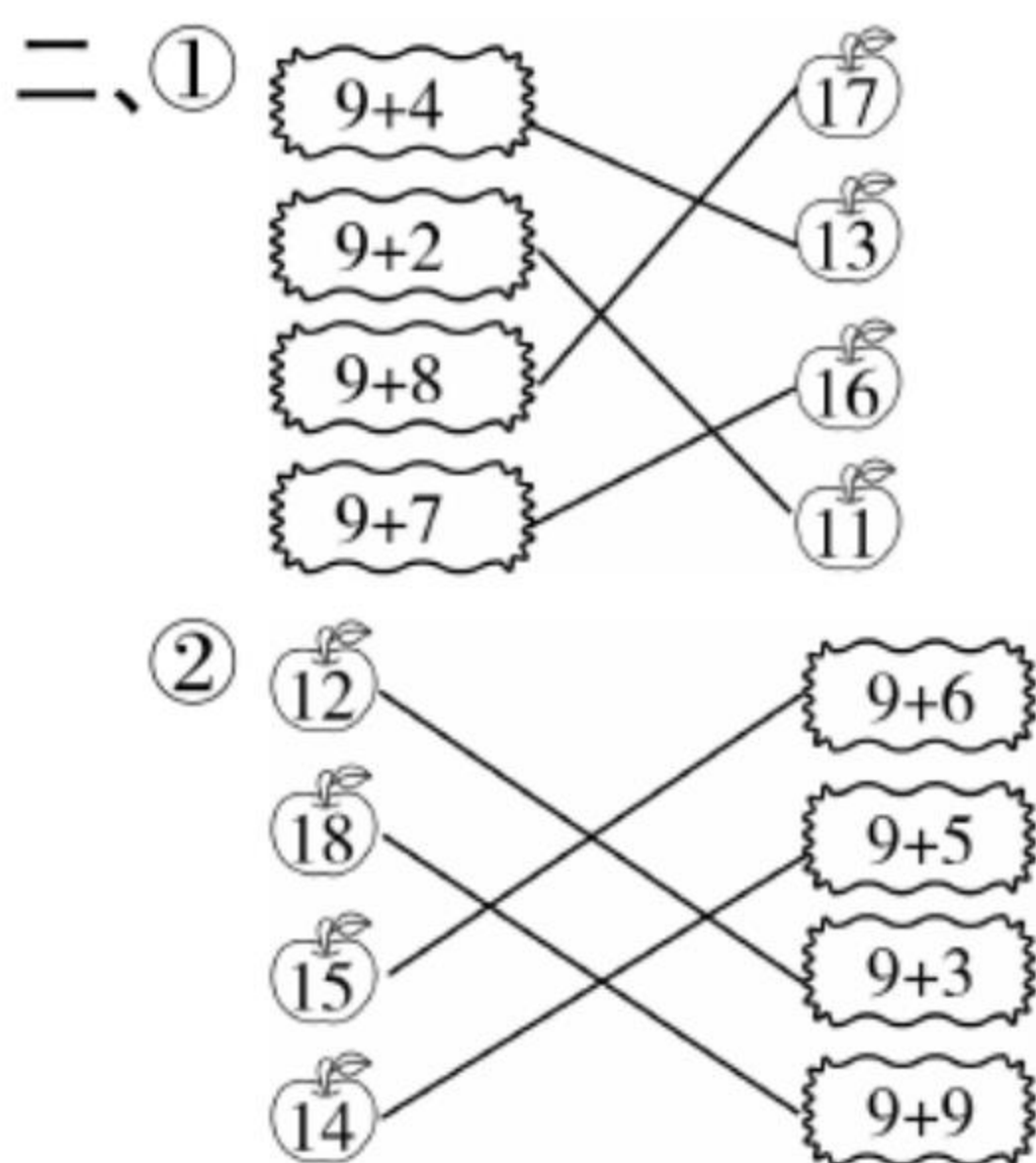
一、① 5 15 ② 6 16 ③ 7 17
④ 8 18

二、① 11 ② 12 ③ 13 ④ 17 ⑤ 18
⑥ 19 ⑦ 13 ⑧ 10 ⑨ 12 ⑩ 14
⑪ 15 ⑫ 16

三、① > ② < ③ < ④ = ⑤ = ⑥ >
⑦ < ⑧ > ⑨ <

第52页

一、① 14 ② 10 ③ 15 ④ 8 ⑤ 10
⑥ 10 ⑦ 17 ⑧ 13 ⑨ 10 ⑩ 16
⑪ 10 ⑫ 16



三、① $9+7=16$ ② $9+6=15$

第53页

一、① 3 4 13 ② 3 3 13 ③ 6 3 16
④ 5 2 15 ⑤ 5 3 15 ⑥ 6 1 16

二、① 16 ② 13 ③ 11 ④ 17 ⑤ 12
⑥ 14 ⑦ 13 ⑧ 12 ⑨ 12 ⑩ 11
⑪ 14 ⑫ 15 ⑬ 14 ⑭ 11 ⑮ 18

三、① $7+6=13$ ② $6+6=12$

第54页

一、① 17 ② 14 ③ 13 ④ 14 ⑤ 11
⑥ 16 ⑦ 13 ⑧ 11 ⑨ 11 ⑩ 17
⑪ 15 ⑫ 15 ⑬ 13 ⑭ 13 ⑮ 12

二、① 10 12 14 16 ② 11 12 13 14
③ 9 10 11 12

三、① $9+4=13$ ② $5+6=11$

第55页

一、① 11 ② 12 ③ 11 ④ 12 ⑤ 10
⑥ 14 ⑦ 12 ⑧ 11 ⑨ 13 ⑩ 12
⑪ 1 ⑫ 11

二、① 8 ② 8 ③ 6 ④ 9 ⑤ 9 ⑥ 7
⑦ 9 ⑧ 5 ⑨ 7

三、① > ② < ③ < ④ = ⑤ < ⑥ <
⑦ > ⑧ = ⑨ < ⑩ = ⑪ = ⑫ <

第56页

一、① 11 ② 12 ③ 14 ④ 11 ⑤ 12
⑥ 14 ⑦ 12 ⑧ 12 ⑨ 18 ⑩ 10
⑪ 11 ⑫ 8

二、① $13+2=15$ ② $9+3=12$

三、① < ② > ③ < ④ = ⑤ = ⑥ =
⑦ = ⑧ = ⑨ > ⑩ > ⑪ = ⑫ >

第57页

一、① 12 ② 13 ③ 12 ④ 10 ⑤ 13
⑥ 13 ⑦ 18 ⑧ 12 ⑨ 16

二、① 7 6 13 $7+6=13$
② 6 7 13 $6+7=13$

三、 $3+9=12$

第58页

一、① 9 ② 18 ③ 14 ④ 18 ⑤ 10
⑥ 12 ⑦ 12 ⑧ 11 ⑨ 15 ⑩ 7
⑪ 1 ⑫ 15 ⑬ 6 ⑭ 11 ⑮ 16

二、① < ② < ③ > ④ > ⑤ = ⑥ <
⑦ = ⑧ > ⑨ < ⑩ < ⑪ = ⑫ >

三、 $5+7=12$ (朵)

第59页

一、① 3 ② 3 ③ 3 ④ 0 ⑤ 1 ⑥ 4
⑦ 5 ⑧ 1 ⑨ 4 ⑩ 5 ⑪ 3 ⑫ 4

⑬ 5 ⑭ 2 ⑮ 0

二、① 2 ② 0 ③ 5 ④ 1 ⑤ 5 ⑥ 3

⑦ 5 ⑧ 2 ⑨ 3

三、① < ② > ③ =

第 60 页

一、① 6 ② 7 ③ 0 ④ 9 ⑤ 10 ⑥ 7

⑦ 4 ⑧ 4 ⑨ 9 ⑩ 9 ⑪ 10 ⑫ 3

⑬ 2 ⑭ 1 ⑮ 10

二、① = ② > ③ < ④ < ⑤ < ⑥ >

⑦ = ⑧ > ⑨ < ⑩ > ⑪ > ⑫ <

三、 $5+5=10$ (本)

第 61 页

一、① 18 ② 11 ③ 9 ④ 10 ⑤ 17

⑥ 3 ⑦ 19 ⑧ 13 ⑨ 1 ⑩ 7

⑪ 16 ⑫ 16

二、① > ② > ③ = ④ > ⑤ < ⑥ <

⑦ = ⑧ > ⑨ < ⑩ < ⑪ = ⑫ >

三、 $10+6=16$

第 62 页

一、① 14 ② 11 ③ 12 ④ 17 ⑤ 12

⑥ 14 ⑦ 11 ⑧ 15 ⑨ 14 ⑩ 12

⑪ 11 ⑫ 16 ⑬ 15 ⑭ 19 ⑮ 7

二、① < ② > ③ > ④ > ⑤ = ⑥ <

⑦ < ⑧ < ⑨ > ⑩ < ⑪ < ⑫ =

三、 $6+8=14$ (颗)

第 63 页

一、① 5 ② 12 ③ 4 ④ 1 ⑤ 14

⑥ 12 ⑦ 9 ⑧ 8 ⑨ 17 ⑩ 12

⑪ 12 ⑫ 2 ⑬ 18 ⑭ 4 ⑮ 11

二、① < ② = ③ < ④ = ⑤ < ⑥ <

⑦ < ⑧ < ⑨ = ⑩ < ⑪ > ⑫ <

三、 $6+9=15$ (条)

第 64 页

一、

① 5

② 14

③ 3

④ 6

⑤ 1

⑥ 7

⑦ 18

⑧ 4

⑨ 7

⑩ 10

⑪ 16

⑫ 6

⑬ 13

⑭ 12

⑮ 10

二、

6+9

7+9

8+9

3+9

5+9

12

17

14

15

9+8

7+8

6+8

5+7

4+8

三、 $3+13=16$ (束)