

根据新课程标准编写 与最新实验教材同步

扫码关注获取更多学习资料

每天十分钟 提升运算能力很轻松



主编：吕子英

爱上数学

口算题卡

aishangshuxue · kousuantika

教师赠阅

★ 常规口算

★ 变式口算

★ 速算巧算

课堂练 · 课后练 · 单元检测 · 期中检测 · 期末检测

一年级 · 上册

R



北方妇女儿童出版社



根据新课程标准编写 与最新实验教材同步

每天十分钟 提升运算能力很轻松

升级啦



主编：吕子英

爱上数学

口算题卡

aishangshuxue · kousuantika

教师赠阅

★ 常规口算

★ 变式口算

★ 速算巧算

课堂练 · 课后练 · 单元检测 · 期中检测 · 期末检测

学校：_____

班级：_____

姓名：_____



北方妇女儿童出版社

关注微信公众号“小考教辅站”获取更多小学教辅资料



C 目录 Contents

从这里爱上数学



第1单元 准备课

知识点1:数一数 1

知识点2:比多少 2

第1单元 单元测试 3

第2单元 位置

知识点1:上、下、前、后 5

知识点2:左、右 6

第2单元 单元测试 7

第3单元 1~5的认识和加减法

知识点1:1~5的认识 9

知识点2:比大小 10

知识点3:第几 12

知识点4:分与合 13

知识点5:加法 15

知识点6:减法 17

知识点7:0的认识和加减法.....

..... 19

第3单元 单元测试 20

第4单元 认识图形(一)

知识点:认识图形 22

第4单元 单元测试 23

第5单元 6~10的认识和加减法

知识点1:6和7的认识 25

知识点2:分与合 27

知识点3:6和7的加减法 ... 28

知识点4:解决问题 30

知识点5:8和9的认识和比大小

..... 32

知识点6:8和9的分与合 ... 34

知识点7:8和9的加减法 ... 36

知识点8:解决问题 38

知识点9:10的认识、比大小.....

..... 39

知识点10:10的分与合 40

知识点11:10的加减法 41

知识点12:连加、连减 43

知识点13:加减混合 45

第5单元 单元测试 47

期中测试 49

第6单元 11~20各数的认识

知识点1:11~20各数的认识

..... 53

知识点2:20以内加减法 55

知识点3:解决问题 57

第6单元 单元测试 58

第7单元 认识钟表

知识点:认识钟表 60

第7单元 单元测试 61

第8单元 20以内的进位加法

知识点1:9加几 63

知识点2:8、7、6加几 64

知识点3:5、4、3、2加几 66

第8单元 单元测试 67

期末测试 69

参考答案 73

微信公众号
教辅资料站



知识点1:数一数

课堂练

1. 数一数,填数。



(5)



(6)



(2)



(7)




(1)



(4)



(7)



(3)



(8)

2. 照样子,看图圈数。

 4 (5) 6	 6 7 8	 8 9 10	 7 8 9
---------------	-----------	------------	-----------

___月___日

星期___

用时___



知识点2: 比多少

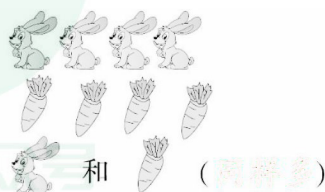



课堂练

1. 在少的后面画“√”。

在多的后面画“√”。



2. 填“多”或“少”或“同样多”。

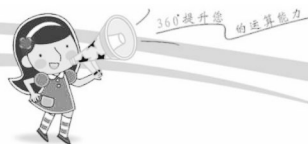


2

我用了_____分钟
 做对了_____题

加油 ★ 赞 ★★★ 超赞★★★★★



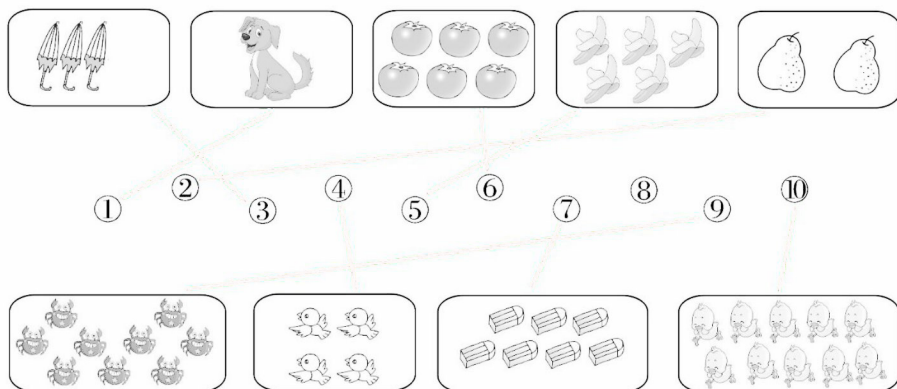


第1单元 准备课

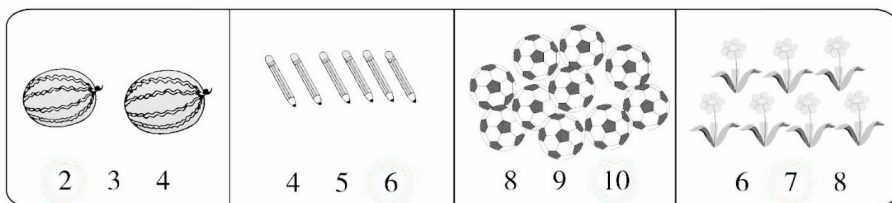
爱上数学!

第1单元 单元测试

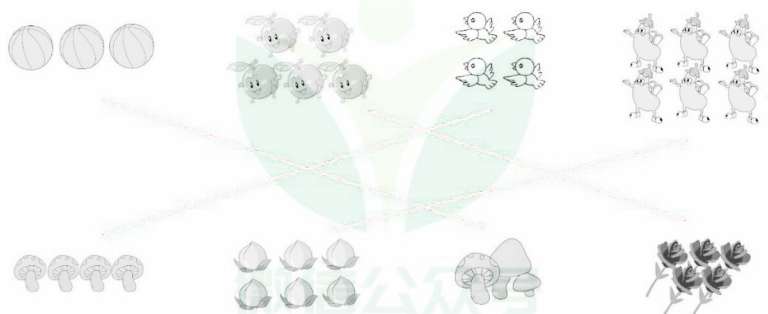
1. 数一数,连一连。



2. 数一数,圈出合适的数。



3. 把同样多的用线连一连。



___月___日

星期___

用时___



4. 数一数,填一填。

★★★★


★有()个。

△△△△△△△

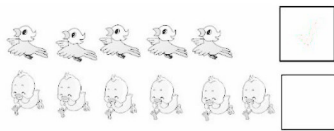
△有()个。

5. 比一比,画一画。

(1) 在多的后面画“√”。



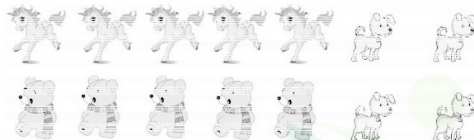
(2) 在少的后面画“√”。



6. 数一数,比一比,圈一圈。

(1)  小猪比小兔子(多 少)。

(2)  小猴子比骨头(多 少)。

(3) 

小狗比小马(多 少 同样多)。

小马和小熊(多 少 同样多)。

小熊比小狗(多 少 同样多)。



第2单元 位置

爱上数学!

知识点1: 上、下、前、后

课堂练

1. 看图,圈出正确的答案。



(1) 太阳在鸟的(上 下)面,



在鸟的(上 下)面。

(2) 鸟在太阳的(上 下)面,



在乌龟的(上 下)面。

(3) (太阳 鸟 乌龟)在最上面,



(太阳 鸟 乌龟)在最下面,

2. 填一填。

(1)



在桌子的(上 下)面。



在狗的(上 下)面。



在桌子的(上 下)面。



在桌子的(上 下)面。



在杯子的(上 下)面。

(2)



猫在兔的_____面,在狗的_____面。

兔在狗的_____面,在猫的_____面。

____月____日

星期____

用时____


知识点2: 左、右






1. 你能分辨出左手右手吗?



2. 看一看,填一填。



- (1) 苹果在桃子的()面。
- (2) 葡萄在西瓜的()面。
- (3) 梨在菠萝的()面。
- (4) 请你在苹果的左面画一个“△”。

3. 对的画“√”,错的画“×”。



米奇将右手中的两只气球 蓝猫的右手中有
送给了米妮。() 一个篮球。()



我用了_____分钟
做对了_____题

加油 ★ 赞 ★★★ 超赞★★★★★





第2单元 位置

爱上数学!

第2单元 单元测试

1. 我的习惯告诉你。


(1)吃饭时,我用()手拿馒头,()手拿筷子。

(2)过马路要靠()行。

(3)我用()手与客人握手。

(4)回答老师的问题,通常举()手。

2. 在()里填“上、下”“前、后”。



在 的()面。

在 的()面。



小象在大象的()面。

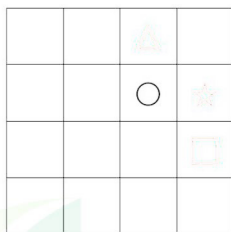
大象在小象的()面。

3. 画一画。

在○的右边画☆。

在☆的下面画□。

画△,○在△的下面。



4. 圈一圈。

☆

○

□

△

□

□

○在☆的(左 右)面。

□在□的(上 下)面。

□的(左 右)面是△。

___月___日

星期___

用时___



5. 仔细观察,将正确的答案圈起来。




(1) 在 的(前 后)面, 在 的(前 后)面。

(2) 的前面有()。

(3) 跑在最前面的是(), 跑在最后面的是()。

6. 看图填一填。



(1) ★的上面是(), 下面是()。

(2) ★的左边是(), 右边是()。

(3) ○的上面有()和(), 左边有()和()。

(4) △在()的左边, 在()的右边。

(5) □在()的上面, 在()的下面。



知识点 1: 1~5 的认识



课堂练

1. 按顺序,写一写。

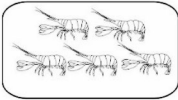
①

1	2	3	4	5
---	---	---	---	---

②


5	4	3	2	1
---	---	---	---	---

2. 数一数,写一写,连一连。



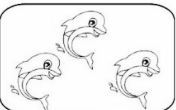
②

2



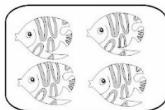
⑤

5




④

4



①


1




③

3


3. 看图写数。




4




2



1



3



5

4. 照样子,涂一涂。

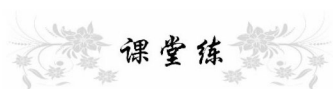
1		2	
4		5	

___月___日

星期___

用时___

知识点2: 比大小



课堂练

1. 比一比, 填一填。

$$\begin{array}{cc} 2 & 3 \\ \boxed{2} < \boxed{3} \end{array}$$

$$\boxed{3} > \boxed{2}$$

$$\begin{array}{cc} 1 & 3 \\ \boxed{1} < \boxed{3} \end{array}$$

$$\boxed{3} > \boxed{1}$$

$$\begin{array}{cc} 3 & 5 \\ \boxed{3} < \boxed{5} \end{array}$$

$$\boxed{5} > \boxed{3}$$

$$\begin{array}{cc} 5 & 2 \\ \boxed{5} < \boxed{2} \end{array}$$

$$\boxed{2} > \boxed{5}$$


$$\begin{array}{cc} 4 & 1 \\ \boxed{4} < \boxed{1} \end{array}$$

$$\boxed{1} > \boxed{4}$$


$$\begin{array}{cc} 4 & 3 \\ \boxed{4} < \boxed{3} \end{array}$$

$$\boxed{3} > \boxed{4}$$

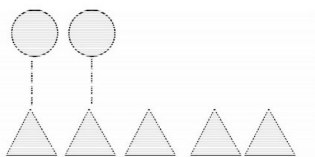
2. 比大小。




$$4 \bigcirc 3$$



$$5 \bigcirc 4$$



$$2 \bigcirc 5$$



$$4 \bigcirc 4$$



我用了_____分钟
做对了_____题

加油 ★ 赞 ★★★ 超赞★★★★★

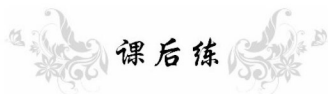




360°提升运算能力

一年级·上 R

爱上数学!



在○里填上“>”“<”或“=”。

① $4 \bigcirc 2$

⑭ $1 \bigcirc 4$

② $1 \bigcirc 3$

⑮ $3 \bigcirc 3$

③ $4 \bigcirc 4$

⑯ $5 \bigcirc 4$

④ $3 \bigcirc 5$

⑰ $5 \bigcirc 3$

⑤ $2 \bigcirc 1$

⑱ $1 \bigcirc 2$

⑥ $4 \bigcirc 5$

⑲ $5 \bigcirc 1$

⑦ $1 \bigcirc 1$

⑳ $3 \bigcirc 1$

⑧ $3 \bigcirc 4$

㉑ $5 \bigcirc 5$

⑨ $2 \bigcirc 2$

㉒ $4 \bigcirc 3$

⑩ $4 \bigcirc 1$

㉓ $2 \bigcirc 4$

⑪ $3 \bigcirc 2$

㉔ $2 \bigcirc 3$

⑫ $5 \bigcirc 2$

㉕ $2 \bigcirc 5$

⑬ $1 \bigcirc 5$

㉖ $3 \bigcirc 3$

____月____日

星期____

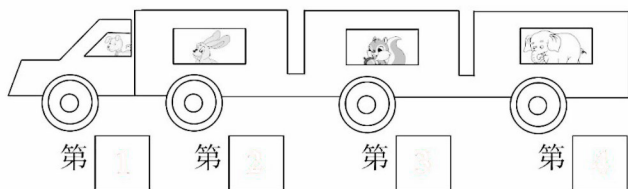
用时____



知识点3:第几

课堂练

1. 填一填。



2. 数一数,涂一涂。



3. 数一数,填一填。



(1) 排在第五个, 排在第()个。

(2) 从左边数起是第()个,从右边数起是第()个。

(3) 从左往右数, 排在第()个。


从右往左数, 排在第()个。

(4) 在中间,她左边有()个,右边有()个。

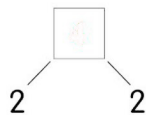
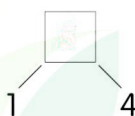
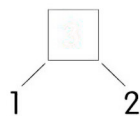
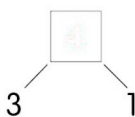
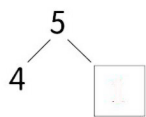
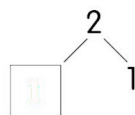
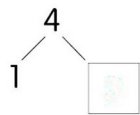
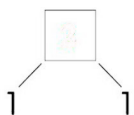
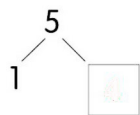
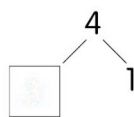
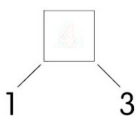
(5) 一共有()只动物。



知识点4:分与合



填一填。



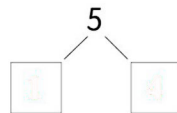
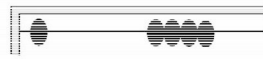
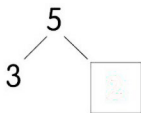
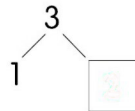
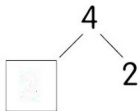
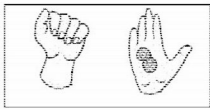
____月____日

星期____

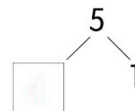
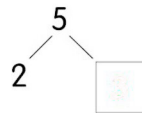
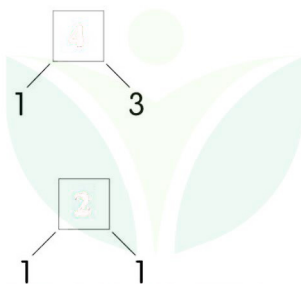
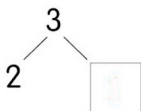
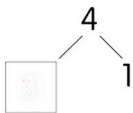
用时____

课后练

1. 看一看,数一数,填一填。



2. 填一填。






360°提升 的运算能力

第3单元 1~5的认识和加减法

爱上数学!

知识点 5: 加法



课堂练

1. 看图列式计算。



$$1 + (\text{1}) = (\text{4})$$

$$3 + (\text{1}) = (\text{4})$$



$$(\text{2}) + 3 = (\text{5})$$

$$(\text{2}) + 2 = (\text{4})$$

2. 先画一画,再填得数。

$$1 + 2 = \boxed{\text{3}}$$

$$3 + 2 = \boxed{\text{5}}$$

○ ○ ○

○○○ ○○○

$$4 + 1 = \boxed{\text{5}}$$

$$1 + 1 = \boxed{\text{2}}$$

○○○○ ○

○○○○ ○○○

___月___日

星期___

用时___




15

课后练


1. 看图算数。




$$1 + (3) = (4)$$



$$1 + (2) = (3)$$



$$(2) + 2 = (4)$$



$$(2) + 3 = (5)$$

2. 填上合适的数。

① $1 + \boxed{2} = 3$

⑥ $3 + \boxed{1} = 4$

② $3 + \boxed{2} = 5$

⑦ $1 + \boxed{1} = 2$

③ $2 + \boxed{2} = 4$

⑧ $2 + \boxed{3} = 5$

④ $2 + \boxed{1} = 3$

⑨ $4 + \boxed{1} = 5$

⑤ $2 + \boxed{3} = 5$

⑩ $\boxed{1} + 1 = 2$

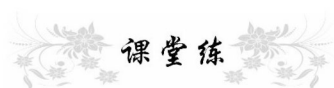


360°提升
的运算能力

第3单元 1~5的认识和加减法

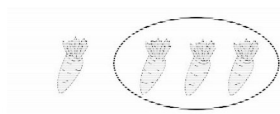
爱上数学!

知识点6:减法

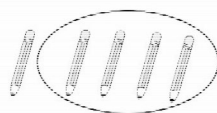


课堂练

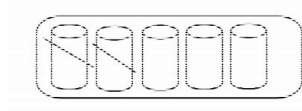
1. 看图列式计算。



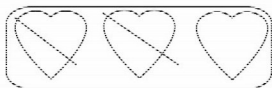
$$4 - 3 = (\quad 1 \quad)$$



$$5 - 4 = (\quad 1 \quad)$$

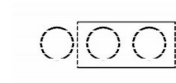


$$5 - 2 = (\quad 3 \quad)$$



$$3 - 2 = (\quad 1 \quad)$$

2. 摆一摆,算一算。



$$3 - 2 = 1$$



$$5 - 3 = 2$$



$$4 - 2 = 2$$



$$5 - 4 = 1$$

___月___日

星期___

用时___



17

课后练

1. 数一数,填一填。



$$5 - \boxed{3} = \boxed{2}$$



$$4 - \boxed{3} = \boxed{1}$$



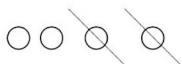
$$5 - \boxed{4} = \boxed{1}$$



$$4 - \boxed{2} = \boxed{2}$$

2. 先画线,再填得数。

$$4 - 2 = \boxed{2}$$



$$5 - 3 = \boxed{2}$$



$$3 - 2 = \boxed{1}$$



$$2 - 1 = \boxed{1}$$



3. 算一算。

① $5 - (\boxed{1}) = 4$

④ $5 - (\boxed{2}) = 3$

② $3 - (\boxed{2}) = 1$

⑤ $(\boxed{5}) - 4 = 1$

③ $(\boxed{2}) - 1 = 2$

⑥ $4 - (\boxed{3}) = 1$




知识点 7:0 的认识和加减法




课堂练

1. 看图列式计算。




$$3 - 1 = 2$$



$$3 - 3 = 0$$



$$5 + 0 = 5$$



$$4 - 4 = 0$$

2. 算一算。

① $0 + 4 = 4$

⑤ $4 - 0 = 4$

② $0 + 5 = 5$

⑥ $2 - 0 = 2$

③ $5 - 5 = 0$

⑦ $0 + 0 = 0$

④ $0 + 1 = 1$

⑧ $0 + 3 = 3$

3. 在○里填上“>”“<”或“=”。

① $4 - 4 \bigcirc 2 - 2$

④ $2 - 2 \bigcirc 1 - 1$

② $5 - 0 \bigcirc 5$

⑤ $0 + 1 \bigcirc 2$

③ $4 - 4 \bigcirc 0$

⑥ $3 + 2 \bigcirc 0 + 3$

___月___日

星期___

用时___



第3单元 单元测试

1. 照样子,填一填。

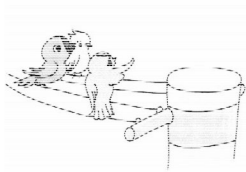
$$\begin{array}{c} 5 \\ \swarrow \quad \searrow \\ 3 \quad 2 \end{array}$$

$$\begin{array}{c} \square \\ \swarrow \quad \searrow \\ 2 \quad 1 \end{array}$$

$$\begin{array}{c} 4 \\ \swarrow \quad \searrow \\ 3 \quad \square \end{array}$$

$$\begin{array}{c} 5 \\ \swarrow \quad \searrow \\ 1 \quad \square \end{array}$$

2. 数一数,填一填。



$$\square \bigcirc \square = \square$$

$$\square \bigcirc \square = \square$$

3. 看一看,填一填。



(1) 从左边起第4个图形是(),

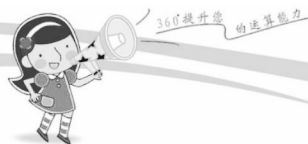
从右边起第5个图形是()。

(2) 从右边起,给第3个图形涂上颜色。

(3) 把左边的4个图形圈起来。

(4) 数一数,□有()个,△有()个,○有()个。

(5) 一共有()个图形。



4. 算一算。

① $5 - 4 =$

⑧ $2 + 2 =$

② $5 - 5 =$

⑨ $3 - 1 =$

③ $4 + 0 =$

⑩ $1 + 3 =$

④ $3 - 0 =$

⑪ $1 + 4 =$

⑤ $4 - 0 =$

⑫ $4 - 2 =$

⑥ $0 + 3 =$

⑬ $5 - 0 =$

⑦ $1 + 0 =$

⑭ $3 + 2 =$

5. 比较大小。

① $5 - 5 \bigcirc 1$

⑦ $5 - 4 \bigcirc 0$

② $4 - 0 \bigcirc 2$

⑧ $0 + 1 \bigcirc 2$

③ $5 - 2 \bigcirc 3$

⑨ $3 + 2 \bigcirc 4$

④ $2 + 0 \bigcirc 5$

⑩ $4 - 2 \bigcirc 3$

⑤ $3 + 1 \bigcirc 4$

⑪ $5 - 4 \bigcirc 3 - 3$

⑥ $0 + 0 \bigcirc 1$

⑫ $4 + 1 \bigcirc 4 - 1$

___月___日

星期___

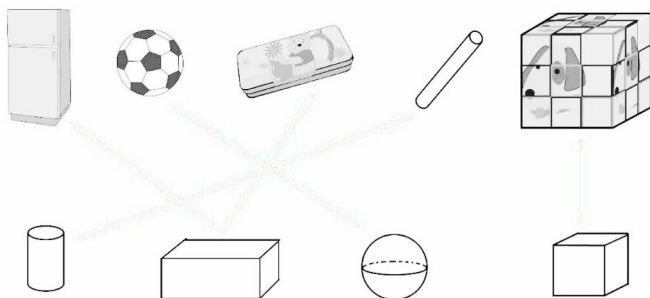
用时___



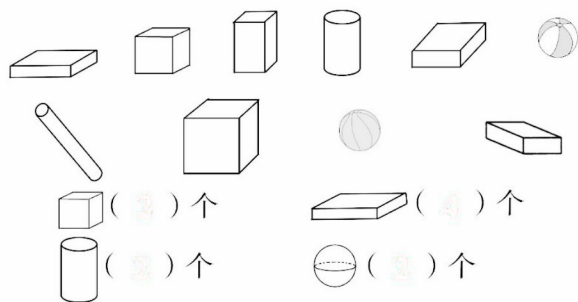
知识点:认识图形

课堂练

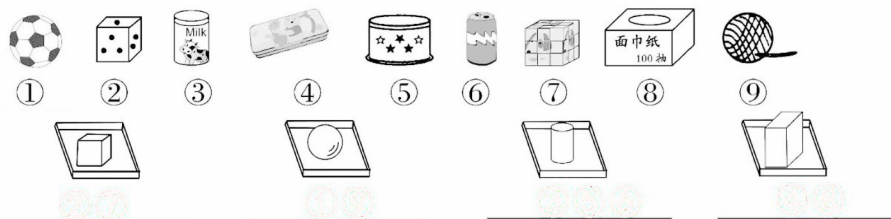
1. 连一连。

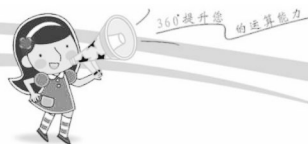


2. 数一数,填一填。



3. 请把各物体的编号填在相应的横线上。



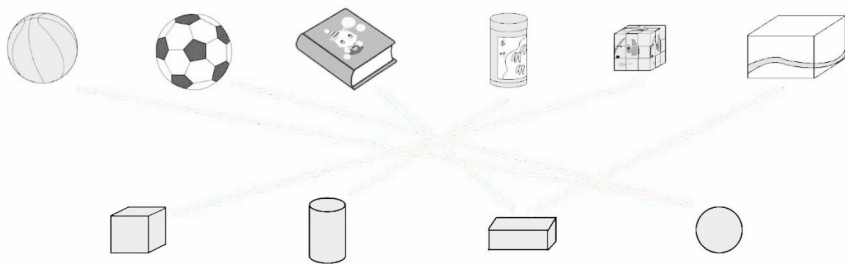


第4单元 认识图形（一）


爱上数学!

第4单元 单元测试

1. 认一认,连一连。



2. 数一数,填一填。



(1) 从左起,第(3)个是球,第(1)个和第(5)个是正方体。



(2) 从右起,第(2)个和第(3)个是正方体。

(3) 把左边的 4 个图形圈出来。从右边数,在第 5 个图形上面画“√”。

3. 填空。



(1) 正方体有(1)个,圆柱有(2)个,长方体有(3)个,球有(3)个。

(2) 从左边起,第(4)个是 , 第(1)个和第(4)个是 .

(3) 球比正方体多(2)个,长方体和圆柱一共有(5)个。

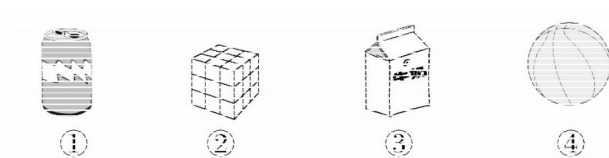
___月___日

星期___

用时___



4. 玩一玩,填一填。

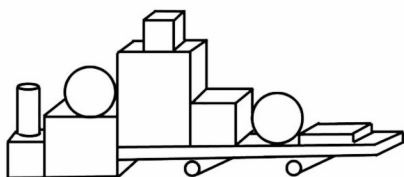


(1) 上面的物体中, (④) 滚动得最快。

(2) (②) 和 (③) 堆在一起最牢固, (①) 和 (④) 很难堆在一起。

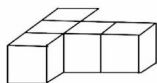
5. 数一数。

(1)

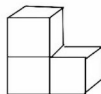


	(④) 个
	(③) 个
	(②) 个
	(②) 个

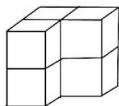
(2)



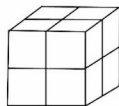
(⑤) 个



(④) 个



(⑥) 个



(⑧) 个



知识点1:6和7的认识



课堂练

1. 填一填。



- (1) 右数第(5)个瓶子里有4只小蝌蚪。
- (2) 左数第3瓶有(4)只,有3只小蝌蚪的是第(6)瓶。
- (3) 左数第(4)个瓶子里小蝌蚪最多,第(2)个瓶子里小蝌蚪最少。
- (4) 一共有(7)瓶,从右数有6只小蝌蚪的是第(1)瓶,有3只小蝌蚪的是第(7)瓶。

2. 在○里填上“>”“<”或“=”。

① $7 \bigcirc 6$

⑤ $5 \bigcirc 5$

② $7 \bigcirc 5$

⑥ $4 \bigcirc 7$

③ $6 \bigcirc 4$

⑦ $1 \bigcirc 6$

④ $5 \bigcirc 6$

⑧ $3 \bigcirc 7$

___月___日

星期___

用时___

课后练

1. 看图列式计算。



$$4 + \boxed{2} = \boxed{6}$$

$$\boxed{2} + \boxed{4} = \boxed{6}$$



$$6 - \boxed{2} = \boxed{4}$$

$$\boxed{6} - \boxed{2} = \boxed{4}$$



$$5 - \boxed{2} = \boxed{3}$$

$$\boxed{5} - \boxed{2} = \boxed{3}$$



$$7 - \boxed{2} = \boxed{5}$$

$$\boxed{7} - \boxed{2} = \boxed{5}$$

2. 比较大小。

① $3 - 2 \bigcirc 4$

⑤ $3 + 1 \bigcirc 6$

② $7 \bigcirc 2 + 2$

⑥ $5 - 0 \bigcirc 7$

③ $0 \bigcirc 2 - 2$


⑦ $2 + 2 \bigcirc 5$

④ $6 \bigcirc 4 - 3$

⑧ $3 - 2 \bigcirc 2$

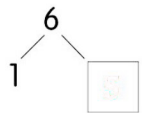
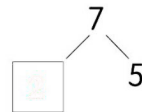
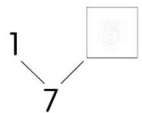
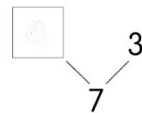
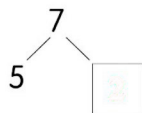
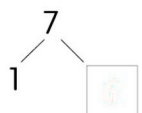
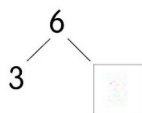
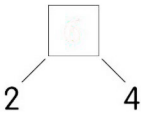
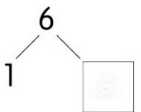
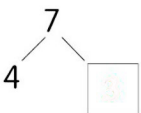
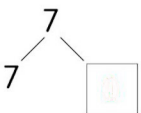
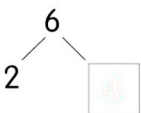
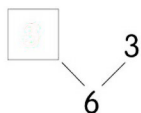
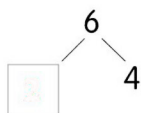


知识点2:分与合



课堂练

1. 想一想,填一填。




___月___日

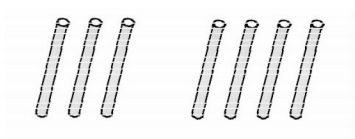
星期___

用时___

知识点3:6和7的加减法



1. 想一想,填一填。



$$3 + 4 = 7$$

$$4 + 3 = 7$$

$$7 - 3 = 4$$

$$7 - 4 = 3$$



$$5 + 1 = 6$$

$$1 + 5 = 6$$

$$6 - 5 = 1$$

$$6 - 1 = 5$$

2. 算一算。

① $2 + 5 = 7$

⑤ $7 - 3 = 4$

② $7 - 4 = 3$

⑥ $6 - 0 = 6$

③ $6 - 6 = 0$

⑦ $6 + 1 = 7$

④ $7 - 1 = 6$

⑧ $4 + 2 = 6$

3. 在○里填上“>”“<”或“=”。

① $6 - 4 \bigcirc 1$

③ $6 - 3 \bigcirc 3$

② $2 + 4 \bigcirc 7$

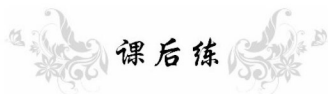
④ $1 + 5 \bigcirc 6$



360°提升运算能力

一年级·上 R

爱上数学!



课后练

算一算

① $6 - 5 = 1$

⑭ $7 - 1 = 6$

② $3 + 3 = 6$

⑮ $6 - 2 = 4$

③ $7 + 0 = 7$

⑯ $1 + 6 = 7$

④ $2 + 4 = 6$

⑰ $5 - 0 = 5$

⑤ $1 + 4 = 5$

⑱ $2 + 3 = 5$

⑥ $4 + 3 = 7$

⑲ $4 - 2 = 2$

⑦ $6 - 3 = 3$

⑳ $2 + 5 = 7$

⑧ $4 - 2 = 2$

㉑ $6 - (1) = 5$

⑨ $5 - 5 = 0$

㉒ $7 - (4) = 3$

⑩ $6 + 0 = 6$

㉓ $4 + (3) = 7$

⑪ $6 - 6 = 0$

㉔ $6 + (1) = 7$

⑫ $1 + 5 = 6$

㉕ $1 + (4) = 5$

⑬ $6 - 1 = 5$

㉖ $4 + (2) = 6$

___月___日

星期___

用时___



29

知识点4:解决问题



1. 看图列式计算。



$$\boxed{3} \bigcirc \boxed{3} = \boxed{6} \text{ (支)}$$

$$\boxed{3} \bigcirc \boxed{3} = \boxed{6} \text{ (朵)}$$

2. 算一算,填一填。

$$7 - \begin{array}{|c|} \hline 2 \\ \hline 4 \\ \hline 5 \\ \hline 1 \\ \hline \end{array} = \begin{array}{|c|} \hline \boxed{5} \\ \hline \boxed{3} \\ \hline \boxed{2} \\ \hline \boxed{6} \\ \hline \end{array}$$

$$3 + \begin{array}{|c|} \hline 4 \\ \hline 2 \\ \hline 0 \\ \hline 3 \\ \hline \end{array} = \begin{array}{|c|} \hline \boxed{7} \\ \hline \boxed{5} \\ \hline \boxed{3} \\ \hline \boxed{6} \\ \hline \end{array}$$

3. 算一算。

① $7 - 4 = \boxed{3}$

⑥ $6 + 0 = \boxed{6}$

② $5 + 2 = \boxed{7}$

⑦ $1 + 5 = \boxed{6}$

③ $5 - 3 = \boxed{2}$

⑧ $5 - 5 = \boxed{0}$

④ $0 + 6 = \boxed{6}$

⑨ $1 + 6 = \boxed{7}$

⑤ $7 - 3 = \boxed{4}$

⑩ $7 - 1 = \boxed{6}$



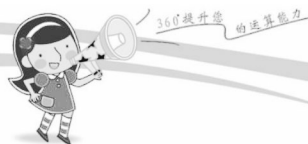
我用了_____分钟
做对了_____题

加油 ★

赞 ★★★

超赞★★★★★





课后练

1. 算一算。

① $3 + 4 = 7$

⑨ $7 - 1 = 6$

② $7 - 5 = 2$

⑩ $3 + 3 = 6$

③ $6 - 3 = 3$

⑪ $7 - 0 = 7$

④ $4 + 2 = 6$

⑫ $2 + 5 = 7$

⑤ $7 - 7 = 0$

⑬ $4 - 2 = 2$

⑥ $1 + 5 = 6$

⑭ $4 + 3 = 7$


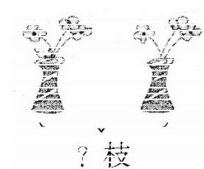
⑦ $7 - 4 = 3$

⑮ $7 - 6 = 1$

⑧ $1 + 6 = 7$

⑯ $6 - 0 = 6$

2. 看图列式计算。



左瓶里有(4)枝花,

船上一共有(6)人,

右瓶里有(3)枝花,

外面站了(2)人,

一共有几枝花?

船舱里藏了几人?

$4 + 3 = 7$ (枝)


$6 - 4 = 2$ (人)

___月___日

星期___

用时___

知识点 5: 8 和 9 的认识和比大小



1. 近期天气情况。(数一数,比一比)

天气			
天数	(8) 天	(5) 天	(3) 天

○

○

○

2. 看谁数得又快又准。



(1) 把左边的 8 个萝卜圈起来。

(2) 从右数第 9 个是哪一个? 在上面画“○”。

(3) 从左数第 9 个是哪一个? 在下面画“Δ”。



360°提升运算能力

一年级·上 R

爱上数学!

课后练

1. 在○里填上“>”“<”或“=”。

① $8 \bigcirc 7$

⑨ $8 \bigcirc 9$

② $7 \bigcirc 6$

⑩ $9 \bigcirc 8$

③ $7 \bigcirc 8$

⑪ $9 \bigcirc 6$

④ $9 \bigcirc 9$

⑫ $6 \bigcirc 7$

⑤ $7 \bigcirc 9$

⑬ $8 \bigcirc 1$

⑥ $6 \bigcirc 5$

⑭ $4 \bigcirc 5$


⑦ $8 \bigcirc 6$

⑮ $8 \bigcirc 8$

⑧ $5 \bigcirc 8$

⑯ $2 \bigcirc 8$

2. 圈一圈,填一填。



(1) 把右边的8只小动物圈起来,给从右边数的第8只小动物画上“√”。

(2) 小狗排第1,()排第9,小马排第()。

(3) 一共有()只动物。

___月___日

星期___

用时___

知识点 6: 8 和 9 的分与合

课堂练

想一想,填一填。

$$\begin{array}{c} 8 \\ \swarrow \searrow \\ 1 \quad \square \end{array}$$

$$\begin{array}{c} 9 \\ \swarrow \searrow \\ \square \quad 9 \end{array}$$

$$\begin{array}{c} 8 \\ \swarrow \searrow \\ 3 \quad \square \end{array}$$

$$\begin{array}{c} 9 \\ \swarrow \searrow \\ 3 \quad \square \end{array}$$

$$\begin{array}{c} 8 \\ \swarrow \searrow \\ 5 \quad \square \end{array}$$

$$\begin{array}{c} 9 \\ \swarrow \searrow \\ 2 \quad \square \end{array}$$

$$\begin{array}{c} 9 \\ \swarrow \searrow \\ 2 \quad \square \end{array}$$

$$\begin{array}{c} 8 \\ \swarrow \searrow \\ \square \quad 6 \end{array}$$

$$\begin{array}{c} \square \quad 3 \\ \swarrow \searrow \\ \quad 9 \end{array}$$

$$\begin{array}{c} 8 \\ \swarrow \searrow \\ \square \quad 7 \end{array}$$

$$\begin{array}{c} 8 \\ \swarrow \searrow \\ 8 \quad \square \end{array}$$

$$\begin{array}{c} \square \\ \swarrow \searrow \\ 1 \quad 8 \end{array}$$

$$\begin{array}{c} 8 \\ \swarrow \searrow \\ \square \quad 1 \end{array}$$

$$\begin{array}{c} 9 \\ \swarrow \searrow \\ 4 \quad \square \end{array}$$



360°提升运算能力

一年级·上 R

爱上数学!

课后练

1. 算一算。

$$\begin{array}{c} 8 \\ \swarrow \searrow \\ 5 \quad \boxed{3} \end{array}$$

$$\begin{array}{c} 8 \\ \swarrow \searrow \\ \boxed{4} \quad 4 \end{array}$$

$$\begin{array}{c} 9 \\ \swarrow \searrow \\ 2 \quad \boxed{7} \end{array}$$

$$\begin{array}{c} 8 \\ \swarrow \searrow \\ 5 \quad \boxed{3} \end{array}$$

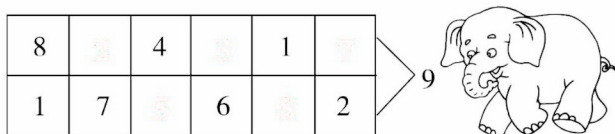
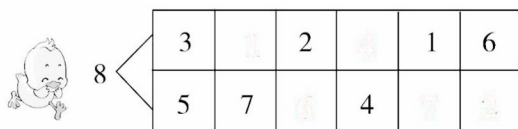
$$\begin{array}{c} \boxed{8} \\ \swarrow \searrow \\ 2 \quad 6 \end{array}$$

$$\begin{array}{c} 9 \\ \swarrow \searrow \\ \boxed{5} \quad 4 \end{array}$$

$$\begin{array}{c} \boxed{9} \\ \swarrow \searrow \\ 2 \quad 7 \end{array}$$

$$\begin{array}{c} 8 \\ \swarrow \searrow \\ 7 \quad \boxed{1} \end{array}$$

2. 分一分。




___月___日

星期___

用时___

知识点 7: 8 和 9 的加减法



1. 看图列式计算。



$$\boxed{3} + \boxed{2} = \boxed{5}$$

$$\boxed{5} + \boxed{3} = \boxed{8}$$



$$\boxed{5} - \boxed{3} = \boxed{2}$$

$$\boxed{8} - \boxed{3} = \boxed{5}$$



$$\boxed{7} + \boxed{2} = \boxed{9}$$

$$\boxed{9} + \boxed{7} = \boxed{16}$$



$$\boxed{9} - \boxed{2} = \boxed{7}$$

$$\boxed{9} - \boxed{7} = \boxed{2}$$

2. 算一算。

① $8 - 3 = 5$

⑩ $3 + 6 = 9$

② $6 + 2 = 8$

⑪ $8 - 4 = 4$

③ $8 - 6 = 2$

⑫ $9 - 5 = 4$

④ $8 - 5 = 3$

⑬ $9 - 3 = 6$

⑤ $4 + 5 = 9$

⑭ $8 - 2 = 6$

⑥ $9 - 7 = 2$

⑮ $9 - 4 = 5$

⑦ $4 + 4 = 8$

⑯ $9 - 6 = 3$

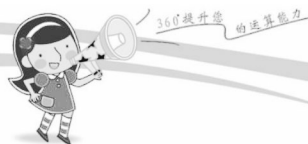
⑧ $9 - 8 = 1$

⑰ $9 - 5 = 4$

⑨ $8 - 6 = 2$

⑱ $2 + 6 = 8$





课后练

1. 算一算,填一填。

① $3 + 5 =$

② $7 + 1 =$

③ $9 - 3 =$

④ $8 - 3 =$

⑤ $5 - 4 =$

⑥ $8 - 2 =$

⑦ $0 + 6 =$

⑧ $3 + 1 =$

⑨ $6 + 1 =$

⑩ $7 + 2 =$

⑪ $0 + 4 =$

⑫ $7 - 2 =$

⑬ $6 - 4 =$

2. 在○里填上“+”或“-”。

① $9 \bigcirc 5 = 4$

② $2 \bigcirc 7 = 9$

③ $8 \bigcirc 5 = 3$

④ $4 \bigcirc 4 = 8$

⑤ $8 \bigcirc 6 = 2$

⑥ $2 \bigcirc 6 = 8$

⑦ $9 \bigcirc 0 = 9$

⑧ $2 \bigcirc 7 = 9$

⑨ $5 \bigcirc 4 = 9$

⑩ $9 \bigcirc 3 = 6$

⑪ $8 \bigcirc 7 = 1$

⑫ $9 \bigcirc 2 = 7$

⑬ $8 \bigcirc 1 = 9$

____月 ____日

星期 ____

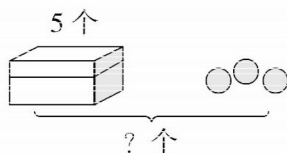
用时 ____

知识点8:解决问题

课堂练

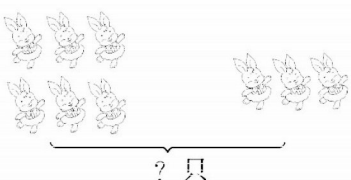
1. 看图列式计算。

(1)



$$\boxed{5} \bigcirc \boxed{3} = \boxed{\quad} (\text{个})$$

(3)



$$\boxed{3} \bigcirc \boxed{3} = \boxed{\quad} (\text{只})$$

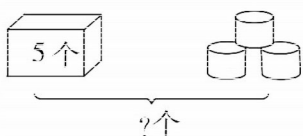
(5)



房子里还有几只小兔?

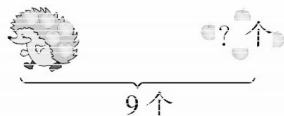
$$\boxed{6} \bigcirc \boxed{2} = \boxed{\quad} (\text{个})$$

(7)



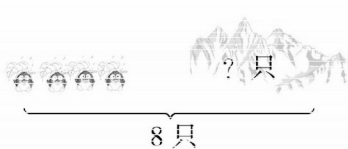
$$\boxed{5} \bigcirc \boxed{4} = \boxed{\quad} (\text{个})$$

(2)



$$\boxed{\quad} \bigcirc \boxed{4} = \boxed{9} (\text{个})$$

(4)



$$\boxed{8} \bigcirc \boxed{2} = \boxed{\quad} (\text{只})$$

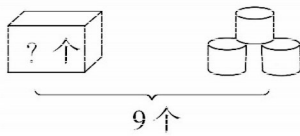
(6)



一共有多少个蘑菇?

$$\boxed{4} \bigcirc \boxed{5} = \boxed{\quad} (\text{只})$$

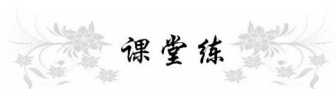
(8)



$$\boxed{\quad} \bigcirc \boxed{4} = \boxed{9} (\text{个})$$




知识点9:10的认识、比大小



课堂练

1. 填一填。



(1) 从左数, 第(1)盆和第(7)盆的花合起来是 10 朵。

(2) 还有第(4)盆和第(6)盆的花合起来也是 10 朵。

2. 在○里填上“>”“<”或“=”。

① $10 \bigcirc 9$

⑦ $10 \bigcirc 10$

② $7 \bigcirc 9$

⑧ $9 \bigcirc 8$

③ $8 \bigcirc 10$

⑨ $6 \bigcirc 6$

④ $6 \bigcirc 7$

⑩ $8 \bigcirc 7$

⑤ $10 \bigcirc 6$

⑪ $8 \bigcirc 10$

⑥ $9 \bigcirc 10$

⑫ $10 \bigcirc 9$

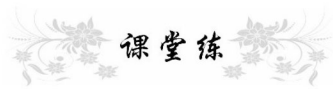
___月___日

星期___

用时___



知识点 10:10 的分与合



课堂练

$$\begin{array}{c} 10 \\ \swarrow \quad \searrow \\ 7 \quad \square \end{array}$$

$$\begin{array}{c} 10 \\ \swarrow \quad \searrow \\ \square \quad 8 \end{array}$$

$$\begin{array}{c} 10 \\ \swarrow \quad \searrow \\ \square \quad 3 \end{array}$$

$$\begin{array}{c} 10 \\ \swarrow \quad \searrow \\ \square \quad 1 \end{array}$$

$$\begin{array}{c} 10 \\ \swarrow \quad \searrow \\ 1 \quad \square \end{array}$$

$$\begin{array}{c} 10 \\ \swarrow \quad \searrow \\ \square \quad 3 \end{array}$$

$$\begin{array}{c} 10 \\ \swarrow \quad \searrow \\ 3 \quad \square \end{array}$$

$$\begin{array}{c} 10 \\ \swarrow \quad \searrow \\ 6 \quad \square \end{array}$$

$$\begin{array}{c} 10 \\ \swarrow \quad \searrow \\ \square \quad 5 \end{array}$$

$$\begin{array}{c} 10 \\ \swarrow \quad \searrow \\ \square \quad 8 \end{array}$$

$$\begin{array}{c} 10 \\ \swarrow \quad \searrow \\ 8 \quad \square \end{array}$$

$$\begin{array}{c} 10 \\ \swarrow \quad \searrow \\ 5 \quad \square \end{array}$$

$$\begin{array}{c} 10 \\ \swarrow \quad \searrow \\ 2 \quad \square \end{array}$$

$$\begin{array}{c} 10 \\ \swarrow \quad \searrow \\ \square \quad 5 \end{array}$$

40

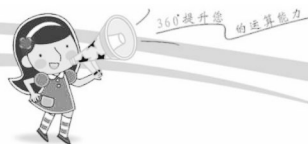
我用了_____分钟
做对了_____题

加油 ★

赞 ★★★

超赞★★★★★





知识点 11: 10 的加减法



课堂练

算一算。

① $0 + 8 = 8$

⑭ $7 + 2 = 9$

② $9 - 1 = 8$

⑮ $3 + 1 = 4$

③ $9 - 3 = 6$

⑯ $1 + 7 = 8$

④ $6 + 2 = 8$

⑰ $10 - 2 = 8$

⑤ $5 - 4 = 1$

⑱ $7 - 3 = 4$

⑥ $7 + 3 = 10$

⑲ $9 - 5 = 4$

⑦ $6 + 1 = 7$

⑳ $7 - 2 = 5$

⑧ $8 - 2 = 6$

㉑ $6 - 4 = 2$

⑨ $8 + 1 = 9$

㉒ $9 - 2 = 7$

⑩ $2 + 8 = 10$

㉓ $10 - 9 = 1$

⑪ $4 + 4 = 8$

㉔ $5 + 5 = 10$

⑫ $3 - 3 = 0$

㉕ $5 + 2 = 7$

⑬ $1 + 9 = 10$

㉖ $9 - 4 = 5$

____月 ____日

星期 ____

用时 ____



课后练

1. 在○里填上“>”“<”或“=”。

① $10 - 4 \bigcirc 7$

⑧ $9 + 1 \bigcirc 10$

② $10 - 7 \bigcirc 3$

⑨ $4 + 5 \bigcirc 9 - 0$

③ $10 - 3 \bigcirc 8$

⑩ $1 + 9 \bigcirc 9 + 1$

④ $10 - 2 \bigcirc 7$

⑪ $9 - 0 \bigcirc 0$

⑤ $4 \bigcirc 10 - 5$

⑫ $2 + 8 \bigcirc 10$

⑥ $10 - 4 \bigcirc 2 + 6$

⑬ $4 + 6 \bigcirc 7$

⑦ $5 + 5 \bigcirc 10 - 10$

⑭ $7 + 3 \bigcirc 7$

2. 填一填。

① $6 + (\quad) = 7$

⑦ $(\quad) + 10 = 10$

② $6 - (\quad) = 3$

⑧ $1 + (\quad) = 10$

③ $(\quad) + 3 = 9$

⑨ $(\quad) + 8 = 10$

④ $1 + (\quad) = 8$

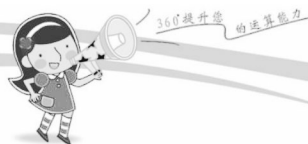
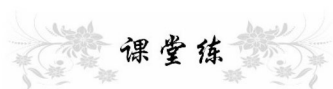
⑩ $3 + (\quad) = 10$

⑤ $(\quad) + 2 = 9$

⑪ $(\quad) + 6 = 10$

⑥ $(\quad) - 2 = 4$

⑫ $5 + (\quad) = 10$

知识点 12: 连加、连减

课堂练

算一算

① $2 + 2 + 6 = 10$

⑭ $3 + 2 + 4 = 9$

② $4 + 1 + 1 = 6$

⑮ $7 - 2 - 0 = 5$

③ $2 + 1 + 7 = 10$

⑯ $10 - 6 - 3 = 1$

④ $4 + 3 + 2 = 9$

⑰ $4 + 4 + 1 = 9$

⑤ $9 - 2 - 3 = 4$

⑱ $9 - 2 - 4 = 3$

⑥ $9 - 3 - 5 = 1$

⑲ $8 - 0 - 3 = 5$

⑦ $8 - 0 - 4 = 4$

⑳ $4 + 3 + 3 = 10$

⑧ $6 - 2 - 1 = 3$

㉑ $3 + 1 + 5 = 9$

⑨ $2 + 0 + 8 = 10$

㉒ $2 + 5 + 1 = 8$

⑩ $1 + 3 + 5 = 9$

㉓ $9 - 7 - 2 = 0$

⑪ $9 - 4 - 5 = 0$

㉔ $3 + 2 + 5 = 10$

⑫ $10 - 2 - 5 = 3$

㉕ $7 - 2 - 3 = 2$

⑬ $5 + 2 + 3 = 10$

㉖ $9 - 2 - 5 = 2$

___月___日

星期___

用时___

课后练

算一算。

① $8 - 4 - 2 = 2$

⑭ $7 + 1 + 1 = 9$

② $10 - 3 - 1 = 6$

⑮ $4 + 0 + 6 = 10$

③ $9 - 2 - 2 = 5$

⑯ $9 - 2 - 1 = 6$

④ $3 + 2 + 3 = 8$

⑰ $9 + 1 + 0 = 10$

⑤ $1 + 8 + 0 = 9$

⑱ $2 + 5 + 3 = 10$

⑥ $10 - 4 - 6 = 0$

⑲ $4 + 2 + 3 = 9$

⑦ $9 - 3 - 4 = 2$

⑳ $10 - 7 - 3 = 0$

⑧ $6 + 2 + 0 = 8$

㉑ $3 + 2 + 3 = 8$

⑨ $10 - 1 - 6 = 3$

㉒ $5 - 2 - 1 = 2$

⑩ $3 + 7 + 0 = 10$

㉓ $9 - 3 - 2 = 4$

⑪ $5 + 2 + 1 = 8$

㉔ $2 + 6 + 1 = 9$

⑫ $10 - 6 - 4 = 0$

㉕ $3 + 4 + 3 = 10$

⑬ $9 - 4 - 4 = 1$

㉖ $3 + 6 + 1 = 10$



我用了____分钟
做对了____题

加油★

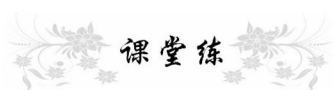
赞★★★

超赞★★★★★





知识点 13: 加减混合



课堂练

算一算。

① $3 + 6 - 4 = 5$

⑭ $0 + 9 - 6 = 3$

② $3 + 5 - 4 = 4$

⑮ $7 + 3 - 5 = 5$

③ $4 + 3 - 2 = 5$

⑯ $7 - 5 + 8 = 10$

④ $2 + 6 - 3 = 5$

⑰ $7 + 0 - 3 = 4$

⑤ $8 - 6 + 5 = 7$

⑱ $5 + 5 - 7 = 3$

⑥ $2 + 6 - 5 = 3$

⑲ $4 + 3 - 5 = 2$

⑦ $2 + 7 - 6 = 3$

⑳ $4 + 5 - 3 = 6$

⑧ $6 + 4 - 5 = 5$

㉑ $8 - 5 + 3 = 6$

⑨ $6 + 2 - 7 = 1$

㉒ $9 - 2 + 1 = 8$

⑩ $9 - 3 + 4 = 10$

㉓ $9 + 1 - 10 = 0$

⑪ $8 + 2 - 4 = 6$

㉔ $10 + 0 - 7 = 3$

⑫ $0 + 6 - 2 = 4$

㉕ $7 + 3 - 6 = 4$

⑬ $4 + 5 - 3 = 6$

㉖ $9 - 2 - 1 = 6$

___月___日

星期___

用时___

课后练

算一算。

① $5 - 1 + 6 = 10$

⑭ $7 - 6 + 5 = 6$

② $4 + 4 - 5 = 3$

⑮ $4 + 4 - 2 = 6$

③ $2 + 8 - 6 = 4$

⑯ $10 - 5 + 3 = 8$

④ $7 - 7 + 7 = 7$

⑰ $9 + 1 - 9 = 1$

⑤ $3 - 3 + 8 = 8$

⑱ $5 - 3 + 8 = 10$

⑥ $7 - 4 + 6 = 9$

⑲ $5 - 4 + 9 = 10$

⑦ $4 + 6 - 4 = 6$

⑳ $5 + 5 - 4 = 6$

⑧ $3 + 4 - 3 = 4$

㉑ $2 + 7 - 3 = 6$

⑨ $7 - 4 + 1 = 4$

㉒ $8 - 8 + 8 = 8$

⑩ $5 - 3 + 5 = 7$

㉓ $2 - 0 + 2 = 4$

⑪ $8 - 3 + 3 = 8$

㉔ $3 - 3 + 7 = 7$

⑫ $4 - 3 + 7 = 8$

㉕ $2 + 8 - 7 = 3$

⑬ $5 - 4 + 5 = 6$

㉖ $8 + 1 - 5 = 4$

46

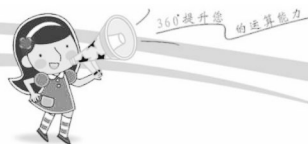
我用了_____分钟
做对了_____题

加油 ★

赞 ★★★

超赞★★★★★





第5单元 单元测试

1. 算一算。

① $10 - 1 = 9$

⑭ $2 + 2 + 5 = 9$

② $1 + 9 = 10$

⑮ $5 + 1 + 2 = 8$

③ $6 - 4 = 2$

⑯ $2 + 6 + 0 = 8$

④ $9 - 0 = 9$

⑰ $4 + 4 + 1 = 9$

⑤ $3 + 6 = 9$

⑱ $3 + 7 + 0 = 10$

⑥ $6 - 1 = 5$

⑲ $10 - 3 - 2 = 5$

⑦ $4 + 2 = 6$

⑳ $7 - 4 - 2 = 1$

⑧ $2 + 2 = 4$

㉑ $7 - 2 - 3 = 2$

⑨ $7 - 6 = 1$

㉒ $7 - 1 - 2 = 4$

⑩ $10 - 8 = 2$

㉓ $8 - 1 - 1 = 6$

⑪ $7 - 5 = 2$

㉔ $9 - 0 - 1 = 8$

⑫ $5 + 3 + 1 = 9$

㉕ $6 - 3 - 1 = 2$

⑬ $4 + 2 + 3 = 9$

㉖ $10 - 5 + 3 = 8$

____月 ____日

星期 ____

用时 ____



2. 在○内填入“>”“<”或“=”。

① $6 \bigcirc 7$

⑭ $2 + 3 \bigcirc 7$

② $8 \bigcirc 5$

⑮ $10 + 0 \bigcirc 0$

③ $10 \bigcirc 7$

⑯ $1 + 8 \bigcirc 4$

④ $9 \bigcirc 8$

⑰ $10 - 7 \bigcirc 2$

⑤ $6 \bigcirc 6$

⑱ $9 - 1 \bigcirc 10$

⑥ $7 + 2 \bigcirc 10$

⑲ $7 + 3 \bigcirc 5$

⑦ $10 - 4 \bigcirc 6$

⑳ $2 - 2 \bigcirc 10$

⑧ $7 - 1 \bigcirc 8$

㉑ $10 - 10 \bigcirc 1$

⑨ $6 + 4 \bigcirc 5$

㉒ $4 + 2 \bigcirc 5$

⑩ $7 + 1 \bigcirc 10$

㉓ $5 - 4 \bigcirc 9$

⑪ $10 - 5 \bigcirc 2$

㉔ $7 \bigcirc 3 + 5$

⑫ $5 - 5 \bigcirc 8$

㉕ $10 - 8 \bigcirc 3$

⑬ $9 \bigcirc 10 - 1$

㉖ $7 + 1 \bigcirc 6$



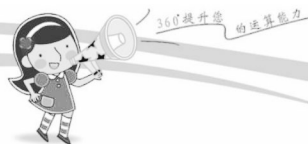
我用了_____分钟
做对了_____题

加油★

赞★★★

超赞★★★★★





期中测试

爱上数学!

期中测试

一、看一看,填一填。

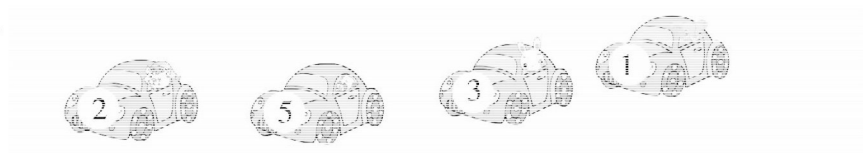
1. 数一数,比一比。



(3) ○ (4)

(4) ○ (1)

2.



(2) 号车走在最前面, (1) 号车走在最后面。

3 在 1 的 (左) 面, 1 在 3 的 (右) 面。

1 在 5 的 (左) 面, 2 在 1 的 (右) 面。

3.



(1) 上图中一共有 (5) 只小动物。

(2) 从右往左数小狗排第 (3), 小鱼排第 (5)。

(3) 从左往右数小羊排第 (2), 小猫排第 (4)。

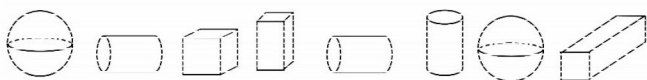
(4) 请把左边的 3 只小动物圈出来。

___ 月 ___ 日

星期 ___

用时 ___

4. 填空。



(1) 上面一共有(8)个物体。

(2) 正方体有(1)个,圆柱有(3)个,球有(2)个。

(3) 从左面起,第 6 个是(球),它的右面是(圆柱)。

从右面起,正方体排在第(6)个。

二、算一算。

① $4 + 6 = 10$

⑩ $5 + 4 = 9$

② $3 + 4 = 7$

⑪ $10 - 5 = 5$

③ $9 - 2 = 7$

⑫ $2 + 7 = 9$

④ $10 - 3 = 7$

⑬ $2 + 6 = 8$

⑤ $8 - 6 = 2$

⑭ $9 - 5 = 4$

⑥ $7 + 3 = 10$

⑮ $10 - 1 = 9$

⑦ $6 + 3 = 9$

⑯ $3 + 6 = 9$

⑧ $10 - 6 = 4$

⑰ $2 + 6 = 8$

⑨ $4 + 6 = 10$

⑱ $10 - 2 = 8$



360度提升运算能力

期中测试

爱上数学!

①9 $6 - 6 = 0$

②0 $2 - 0 = 2$

③1 $3 + 4 = 7$

④2 $3 + 7 = 10$

⑤3 $10 - 8 = 2$

⑥4 $10 - 5 = 5$

⑦5 $5 + 4 = 9$

⑧6 $2 + 5 = 7$

⑨7 $10 - 6 + 4 = 8$

⑩8 $7 + 2 - 6 = 3$

⑪9 $9 - 3 + 2 = 8$

⑫0 $10 - 4 + 3 = 9$

⑬1 $7 + 2 - 8 = 1$

⑭2 $9 - 5 + 3 = 7$

⑮3 $10 - 8 + 1 = 3$

⑯4 $3 + 4 + 3 = 10$

⑰5 $2 + 4 + 2 = 8$

⑱6 $10 - 5 + 3 = 8$

⑲7 $10 - 8 + 6 = 8$

⑳8 $9 - 3 - 5 = 1$

㉑9 $10 - 6 + 3 = 7$

㉒0 $6 + 2 + 2 = 10$

㉓1 $9 - 2 + 3 = 10$

㉔2 $9 - 5 + 2 = 6$

㉕3 $6 + 2 - 4 = 4$

㉖4 $2 + 7 - 5 = 4$

㉗5 $6 + 2 + 0 = 8$

㉘6 $1 + 2 + 7 = 10$

㉙7 $3 + 2 + 4 = 9$

㉚8 $10 - 5 - 5 = 0$

____月 ____日

星期 ____

用时 ____



三、在○里填上“>”“<”或“=”。

① $3 + 5 \bigcirc 9$

⑦ $7 - 5 \bigcirc 8 - 6$

② $4 + 2 \bigcirc 7$

⑧ $8 + 0 \bigcirc 10 - 4$

③ $3 + 7 \bigcirc 10$

⑨ $7 - 0 \bigcirc 0 + 7$

④ $9 - 6 \bigcirc 4$

⑩ $10 - 6 \bigcirc 7$

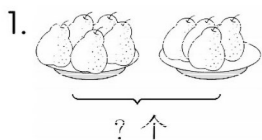
⑤ $5 + 2 \bigcirc 6$

⑪ $10 - 0 \bigcirc 0$

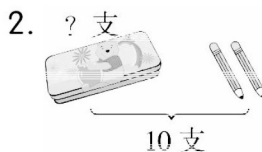
⑥ $6 + 1 \bigcirc 4 + 4$

⑫ $4 + 4 - 7 \bigcirc 5$

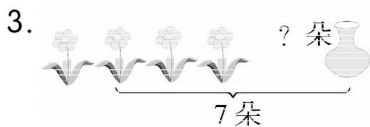
四、看图列式计算。



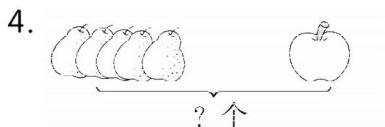
$\boxed{5} \bigcirc \boxed{4} = \boxed{9}$ (个)



$\boxed{10} \bigcirc \boxed{2} = \boxed{8}$ (支)



$\boxed{7} \bigcirc \boxed{4} = \boxed{3}$ (朵)



$\boxed{5} \bigcirc \boxed{1} = \boxed{6}$ (个)




$\boxed{4} \bigcirc \boxed{3} \bigcirc \boxed{2} = \boxed{9}$



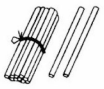
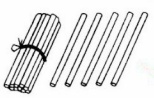
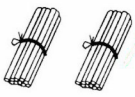
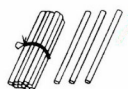
$\boxed{5} \bigcirc \boxed{4} \bigcirc \boxed{3} = \boxed{12}$



知识点1: 11~20 各数的认识



1. 连一连。

	20	1个10, 5个1
	13	2个10
	15	1个10, 2个1
	12	1个10, 3个1

2. 先找规律再填数。

7	8	9	10	11	12	13	14
---	---	---	----	----	----	----	----

15	16	17	18	19	20	13	12
----	----	----	----	----	----	----	----

3. 想一想,再往下接着写。

(1) 3, 6, 9, (12), (15), (18)。

(2) 19, 17, 15, (13), (11), (9), (7), (5)。

(3) 20, 16, 12, (8), (4), (0)。

(4) 11, 12, 13, (14), (15), 16, (17), (18), 19, (20)。

(5) 0, 5, 10, (15), 20。


___月___日

星期___

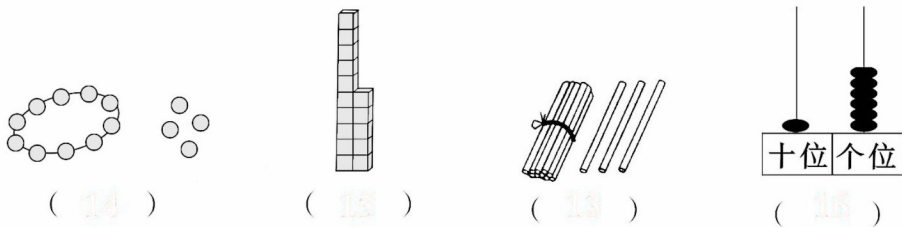
用时___

课后练

1. 连一连。



2. 看图写数。



3. 填空。

- (1) 1个十和8个一是(18), 2个十是(20)。
- (2) 16 里面有(1)个十和(6)个一。
- (3) 13 和 18 这两个数,(13)接近 10,(18)接近 20。
- (4) 在 10、4、9、15、20、12、6、18 这些数中,最大的数是(20),最小的数是(4),从左起第 3 个数是(9),从右起第 3 个数是(15)。把这些数从大到小排列是($20 > 18 > 15 > 12 > 10 > 9 > 6 > 4$)。



知识点 2:20 以内加减法



课堂练

□算。

① $10 + 5 = 15$

⑭ $18 - 8 = 10$

② $6 + 10 = 16$

⑮ $3 + 13 = 16$

③ $16 - 4 = 12$

⑯ $17 - 3 = 14$

④ $16 + 3 = 19$

⑰ $4 + 14 = 18$

⑤ $11 + 5 = 16$

⑱ $3 + 14 = 17$

⑥ $17 - 2 = 15$

⑲ $14 - 4 = 10$

⑦ $15 - 10 = 5$

⑳ $13 - 3 = 10$

⑧ $9 + 10 = 19$

㉑ $12 + 5 = 17$

⑨ $15 - 2 = 13$

㉒ $6 + 13 = 19$

⑩ $19 - 4 = 15$

㉓ $5 + 13 = 18$

⑪ $18 - 6 = 12$

㉔ $16 - 2 = 14$

⑫ $19 - 5 = 14$

㉕ $18 - 8 = 10$

⑬ $12 - 2 = 10$

㉖ $6 + 2 = 8$

____月 ____日

星期 ____

用时 ____



课后练

1. 在()里填上合适的数。

① $10 + (5) = 15$

⑧ $(8) + 7 = 15$

② $16 - (6) = 10$

⑨ $16 - (3) = 13$

③ $19 - (4) = 15$

⑩ $(10) + 8 = 18$

④ $(19) - 10 = 9$

⑪ $10 + (6) = 16$

⑤ $4 + (13) = 17$

⑫ $17 - (10) = 7$

⑥ $19 - (9) = 10$

⑬ $(7) + 8 = 15$

⑦ $(12) + 3 = 15$

⑭ $3 + (10) = 13$

2. 算一算。

① $0 + 16 = 16$

⑦ $2 + 6 + 2 = 10$

② $16 + 1 = 17$

⑧ $8 - 7 + 16 = 17$

③ $12 + 3 = 15$

⑨ $6 + 10 - 5 = 11$

④ $17 - 2 = 15$

⑩ $19 - 4 - 5 = 10$

⑤ $1 + 17 = 18$

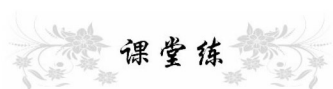
⑪ $18 - 3 - 5 = 10$

⑥ $11 + 5 = 16$

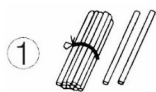
⑫ $11 - 1 + 5 = 15$



知识点3:解决问题



1. 看图写算式。

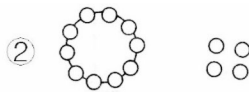


$$10 + 2 = 12$$

$$2 + 10 = 12$$

$$12 - 2 = 10$$

$$12 - 10 = 2$$



$$10 + 2 = 12$$

$$2 + 10 = 12$$

$$12 - 2 = 10$$

$$12 - 10 = 2$$

2. 读一读,看一看,写算式。

(1) 河里有 10 只鸭子,又放进河里 6 只,现在河里有几只鸭子?

$$10 \bigcirc 6 = 16 \text{ (只)}$$

(2) 妈妈买来 18 个鸡蛋,吃了 5 个后,还剩多少个鸡蛋?

$$18 \bigcirc 5 = 13 \text{ (个)}$$

(3) 公交车上有 14 人,到某站下去了 3 人,又上来 2 人,车上现在有多少人?

$$14 \bigcirc 3 \bigcirc 2 = 13 \text{ (人)}$$

(4) 学校有兰花和菊花共 16 盆,兰花 6 盆,菊花有几盆?

$$16 \bigcirc 6 = 10 \text{ (盆)}$$

___月___日

星期___

用时___

第6单元 单元测试

1. 在○里填上“>”“<”或“=”。

① $12 \bigcirc 2$

⑩ $15 - 3 \bigcirc 8$

② $9 \bigcirc 13$

⑪ $12 + 5 \bigcirc 18$

③ $11 \bigcirc 18$

⑫ $11 + 2 \bigcirc 13$

④ $19 \bigcirc 17$

⑬ $16 \bigcirc 14$

⑤ $18 \bigcirc 12$

⑭ $10 \bigcirc 20$

⑥ $20 \bigcirc 10$

⑮ $17 \bigcirc 7$

⑦ $5 + 4 \bigcirc 9$

⑯ $19 \bigcirc 18$

⑧ $2 + 5 \bigcirc 15$

⑰ $4 + 10 \bigcirc 15 - 10$

⑨ $1 + 9 \bigcirc 19$

⑱ $17 - 7 \bigcirc 5 + 5$

⑩ 2个10 $\bigcirc 20$

⑲ $19 - 9 \bigcirc 16 - 6$

⑪ $5 + 5 \bigcirc 12$

⑳ $8 - 5 \bigcirc 10 + 3$

⑫ $8 + 2 \bigcirc 11$

㉑ $20 \bigcirc 10 + 7$

⑬ $13 - 10 \bigcirc 10$

㉒ $10 + 1 \bigcirc 10 + 5$

⑭ $2 + 10 \bigcirc 12$

㉓ $10 + 3 \bigcirc 10 - 3$

⑮ $20 \bigcirc 8 + 10$

㉔ $10 + 2 \bigcirc 12$



360°提升运算能力

一年级·上 R

爱上数学!

2. 口算。

① $14 - 3 = 11$

⑩ $15 + 2 = 17$

② $17 - 4 = 13$

⑪ $18 - 4 = 14$

③ $13 + 5 = 18$

⑫ $13 + 3 = 16$

④ $18 - 7 = 11$

⑬ $17 + 2 = 19$

⑤ $19 - 9 = 10$

⑭ $16 - 6 = 10$

⑥ $12 + 7 = 19$

⑮ $15 - 3 = 12$

⑦ $10 + 8 = 18$

⑯ $11 + 4 = 15$

⑧ $19 - 3 = 16$

⑰ $7 + 11 = 18$

⑨ $15 - 2 = 13$

⑱ $2 + 14 = 16$

⑩ $12 + 5 = 17$

⑲ $17 - 10 - 7 = 0$

⑪ $16 + 2 = 18$

⑳ $14 - 2 + 5 = 17$

⑫ $18 - 2 = 16$

㉑ $2 + 8 + 5 = 15$

⑬ $14 + 5 = 19$

㉒ $5 + 5 + 6 = 16$

⑭ $17 - 3 = 14$

㉓ $13 - 3 - 4 = 6$

⑮ $11 - 10 = 1$

㉔ $18 - 10 - 4 = 4$

___月___日

星期___





用时___



知识点:认识钟表

课堂练

1. 连一连。




6:00

5时

12:00


3时

2. 我是小小报时员。




9 时

9 : 00



7 时


7 : 00




2 时

2 : 00


3. 写出1小时后的时刻。



2:00



8:00







4:00



12:00

4. 找规律,画出最后一个钟面上的时针和分针。



60

我用了_____分钟
做对了_____题

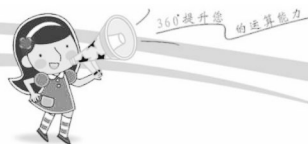
加油 ★

赞 ★★★

超赞★★★★★



打赏一下



第7单元 认识钟表

爱上数学!


第7单元 单元测试

1. 填空。


(1) 钟面上有(12)个数字,长针是(分)针,短针是(时)针。

(2) (6)时整,时针和分针在一条直线上;(12)时整,时针和分针重合。


2. 认一认,连一连。



6:00



9:00




11:00




3:00

3. 想一想,写一写。




4:00

:




8:00

:



10:00


:



2:00


:

4. 小动物读得对吗? 把读错的改过来。



4:00

()



12:00

()


___月___日

星期___


用时___




5. 按照顺序,连一连。




6. 根据时间画出时针。



7. 根据时间画出分针。




8. 画出最右边钟面上的时针和分针。






知识点1:9 加几



课堂练

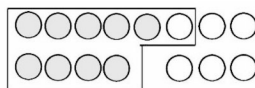
1. 摆一摆,算一算。

①



$$9 + 7 = \boxed{16}$$

②

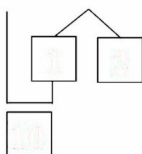


$$\boxed{10} + \boxed{6} = \boxed{16}$$

2. 想一想,填一填。

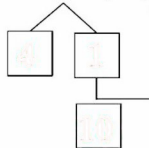
①

$$9 + 3 = \boxed{12}$$



②

$$5 + 9 = \boxed{14}$$



3. 算一算。

① $9 + 1 = 10$

② $9 + 8 = 17$

③ $9 + 4 = 13$

④ $9 + 3 = 12$

⑤ $9 + 6 = 15$

⑥ $9 + 2 = 11$

⑦ $9 + 9 = 18$

⑧ $10 - 4 = 6$

⑨ $9 + 5 = 14$

⑩ $4 + 6 = 10$

⑪ $10 + 7 = 17$

⑫ $4 + 5 = 9$


___月___日

星期___

用时___



知识点 2: 8、7、6 加几



1. 看图填一填, 算一算。



$$8 + 4 = \boxed{12}$$

4

4

10



$$6 + 5 = \boxed{11}$$

4

1

10



$$7 + 5 = \boxed{12}$$

4

2

10



$$6 + 6 = \boxed{12}$$

4

2

10

2. 算一算。

① $8 + 4 = 12$

② $6 + 8 = 14$

③ $8 + 9 = 17$

④ $7 + 8 = 15$

⑤ $8 + 8 = 16$

⑥ $7 + 6 = 13$

⑦ $8 + 5 = 13$

⑧ $6 + 7 = 13$

⑨ $6 + 6 = 12$

⑩ $8 + 6 = 14$

⑪ $6 + 9 = 15$

⑫ $7 + 7 = 14$

⑬ $7 + 9 = 16$

⑭ $7 + 5 = 12$





课后练

1. 填一填。

① $6 + 7 = \square$

Diagram: A number line starting at 6, jumping 7 units to 13. The result 13 is in a box. The jump is labeled 7.

② $7 + 4 = \square$

Diagram: A number line starting at 7, jumping 4 units to 11. The result 11 is in a box. The jump is labeled 4.

③ $8 + 7 = \square$

Diagram: A number line starting at 8, jumping 7 units to 15. The result 15 is in a box. The jump is labeled 7.

④ $6 + 9 = \square$

Diagram: A number line starting at 6, jumping 9 units to 15. The result 15 is in a box. The jump is labeled 9.

2. 在()里填上合适的数。

① $8 + (\quad) = 16$

⑦ $(\quad) + 5 = 13$

② $7 + (\quad) = 12$

⑧ $(\quad) + 9 = 13$

③ $5 + (\quad) = 14$

⑨ $(\quad) + 9 = 15$

④ $7 + (\quad) = 16$

⑩ $7 + (\quad) = 14$

⑤ $9 + (\quad) = 11$

⑪ $7 + (\quad) = 13$

⑥ $9 + (\quad) = 16$

⑫ $7 + (\quad) = 12$

___月___日


星期___

用时___


知识点 3: 5、4、3、2 加几



1. 圈一圈,再计算。


① 

$$\begin{array}{r} 3 + 8 = \square \\ \begin{array}{|c|c|} \hline \square & \square \\ \hline \end{array} \\ \hline \square \end{array}$$


② 

$$\begin{array}{r} 5 + 7 = \square \\ \begin{array}{|c|c|} \hline \square & \square \\ \hline \end{array} \\ \hline \square \end{array}$$

2. 看图列式。



$$\begin{array}{|c|} \hline \square \\ \hline \end{array} \bigcirc \begin{array}{|c|} \hline \square \\ \hline \end{array} = \begin{array}{|c|} \hline \square \\ \hline \end{array}$$

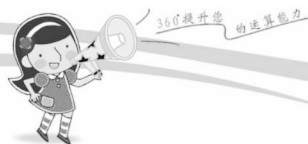


$$\begin{array}{|c|} \hline \square \\ \hline \end{array} \bigcirc \begin{array}{|c|} \hline \square \\ \hline \end{array} = \begin{array}{|c|} \hline \square \\ \hline \end{array}$$

3. 算一算。

- | | |
|----------------|----------------|
| ① $8 + 5 = 13$ | ⑦ $4 + 8 = 12$ |
| ② $9 + 2 = 11$ | ⑧ $4 + 7 = 11$ |
| ③ $9 + 3 = 12$ | ⑨ $5 + 7 = 12$ |
| ④ $9 + 4 = 13$ | ⑩ $5 + 8 = 13$ |
| ⑤ $9 + 5 = 14$ | ⑪ $2 + 9 = 11$ |
| ⑥ $5 + 6 = 11$ | ⑫ $7 + 5 = 12$ |





第8单元 单元测试

1. 算一算。

① $9 + 3 = 12$

⑭ $9 + 6 = 15$

② $7 + 7 = 14$

⑮ $4 + 6 = 10$

③ $8 + 7 = 15$

⑯ $2 + 9 = 11$

④ $9 + 7 = 16$

⑰ $7 + 9 = 16$

⑤ $7 + 5 = 12$

⑱ $8 + 9 = 17$

⑥ $10 + 8 = 18$

⑲ $8 + 5 = 13$

⑦ $4 + 5 = 9$

⑳ $5 + 7 = 12$

⑧ $6 + 10 = 16$

㉑ $4 + 7 = 11$

⑨ $8 + 8 = 16$

㉒ $7 + 8 = 15$

⑩ $6 + 8 = 14$

㉓ $9 + 4 = 13$

⑪ $13 + 5 = 18$

㉔ $4 + 9 = 13$

⑫ $9 + 5 = 14$

㉕ $3 + 8 = 11$

⑬ $7 + 10 = 17$

㉖ $6 + 9 = 15$

____月 ____日

星期 ____

用时 ____



2. 在○里填上“>”“<”或“=”。

① $6 + 7$ ○ 12

⑭ $7 + 8$ ○ 15

② $8 + 7$ ○ 13

⑮ $9 + 2$ ○ 10

③ $5 + 7$ ○ 13

⑯ $4 + 9$ ○ 14

④ $8 + 5$ ○ 12

⑰ $8 + 6$ ○ 15

⑤ $9 + 7$ ○ 17

⑱ $7 + 7$ ○ 13

⑥ $8 + 6$ ○ 15

⑲ $3 + 8$ ○ 10

⑦ $8 + 3$ ○ 12

⑳ $6 + 7$ ○ 13

⑧ $8 + 8$ ○ 17

㉑ $8 + 5$ ○ 14

⑨ $9 + 5$ ○ 13

㉒ $2 + 9$ ○ 10

⑩ $7 + 6$ ○ 12

㉓ $6 + 5$ ○ 12

⑪ $7 + 9$ ○ 16

㉔ $6 + 6$ ○ 12

⑫ $8 + 9$ ○ 18

㉕ 16 ○ $6 + 7$

⑬ $9 + 9$ ○ 18

㉖ $6 + 9$ ○ 15



我用了_____分钟
做对了_____题

加油★

赞★★★

超赞★★★★★





360°提升 运算能力

期末测试

爱上数学!



扫一扫 获取更多资料

期末测试

1. 算一算。

① $5 + 8 = 13$

⑭ $3 + 9 = 12$

② $4 + 9 = 13$

⑮ $4 + 9 = 13$

③ $3 + 9 = 12$

⑯ $7 + 5 = 12$

④ $6 + 8 = 14$

⑰ $6 + 6 = 12$

⑤ $9 + 4 = 13$

⑱ $3 + 10 = 13$

⑥ $10 + 5 = 15$

⑲ $0 + 7 = 7$

⑦ $7 + 6 = 13$

⑳ $2 + 8 = 10$

⑧ $8 + 5 = 13$

㉑ $1 + 9 = 10$

⑨ $0 + 8 = 8$

㉒ $9 + 0 = 9$

⑩ $2 + 8 = 10$

㉓ $10 + 7 = 17$

⑪ $12 + 3 = 15$

㉔ $10 + 8 = 18$

⑫ $6 + 7 = 13$

㉕ $7 - 0 = 7$

⑬ $4 + 11 = 15$

㉖ $13 - 2 = 11$

____月 ____日

星期 ____

用时 ____



②7 $5 + 8 = 13$

③2 $6 + 4 = 10$

②8 $17 - 3 = 14$

③3 $5 + 9 = 14$

②9 $6 + 8 = 14$

③4 $12 - 10 = 2$

③0 $4 + 3 = 7$

③5 $8 - 1 = 7$

③1 $5 + 2 = 7$

③6 $13 + 6 = 19$

2. 在○里填上“>”“<”或“=”。

① $15 \bigcirc 7 + 7$

⑨ $4 + 7 \bigcirc 12$

② $6 + 9 \bigcirc 15$

⑩ $9 + 5 \bigcirc 13$

③ $8 + 4 \bigcirc 5 + 7$

⑪ $6 + 7 \bigcirc 6 + 8$

④ $6 + 5 \bigcirc 5 + 6$

⑫ $10 - 5 \bigcirc 9 - 4$

⑤ $8 + 6 \bigcirc 4 + 9$

⑬ $5 + 8 \bigcirc 13$

⑥ $5 + 7 \bigcirc 4 + 6$

⑭ $6 + 9 \bigcirc 15$

⑦ $12 + 7 \bigcirc 9 + 9$

⑮ $7 + 9 \bigcirc 9 + 4$

⑧ $6 + 9 \bigcirc 5 + 7$

⑯ $15 + 0 \bigcirc 15 - 0$



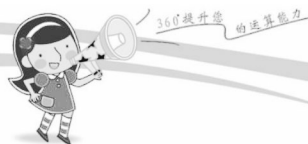
我用了_____分钟
做对了_____题

加油★

赞★★★

超赞★★★★★





3. 连加、连减,混合运算

① $5 + 7 - 2 = 10$

⑭ $10 - 4 - 6 = 0$

② $9 + 9 - 7 = 11$

⑮ $6 + 8 - 4 = 10$

③ $4 + 9 + 2 = 15$

⑯ $5 + 9 - 2 = 12$

④ $4 + 1 + 5 = 10$

⑰ $7 + 9 - 6 = 10$

⑤ $10 - 7 - 3 = 0$

⑱ $8 - 6 + 4 = 6$

⑥ $1 + 4 + 3 = 8$

⑲ $2 + 7 + 1 = 10$

⑦ $9 - 7 + 4 = 6$

⑳ $6 - 5 + 7 = 8$

⑧ $8 + 9 - 5 = 12$

㉑ $9 - 7 + 5 = 7$

⑨ $7 + 7 - 3 = 11$

㉒ $7 + 6 - 3 = 10$

⑩ $8 + 8 - 5 = 11$

㉓ $6 + 6 + 4 = 16$

⑪ $7 - 2 - 3 = 2$

㉔ $8 + 7 + 4 = 19$

⑫ $4 + 2 + 1 = 7$

㉕ $10 - 8 + 5 = 7$

⑬ $7 - 2 - 2 = 3$

㉖ $3 + 5 - 6 = 2$

____月____日

星期____

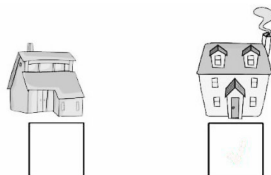
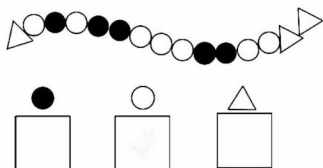
用时____




4. 按要求画一画。

(1) 在最多的下面画“√”。

(2) 右边那栋是小明家,在下面画“√”。



5. 看一看,填一填。




(1) 一共有(8)个小动物。


(2) 把从左数第 3 个小动物涂上颜色,把左边的 3 个小动物圈起来。

(3) 小猴从右数是第(5)个,从左数是第(4)个。


6. 看钟面,写时刻。



6:00



7:00



11:00