



根据新课程标准编写 与最新实验教材同步

扫码关注获取更多学习资料

升级啦



主编：吕子英

爱上数学

口算题卡

aishangshuxue · kousuantika

教师赠阅

★ 常规口算

★ 变式口算

★ 速算巧算

课堂练 · 课后练 · 单元检测 · 期中检测 · 期末检测

一年级 · 上册

S



名师
系列丛书



北方妇女儿童出版社



根据新课程标准编写 与最新实验教材同步

每天十分钟 提升运算能力很轻松

升级啦



主编：吕子英

爱上数学

口算题卡

aishangshuxue · kousuantika

教师
赠阅

★ 常规口算

★ 变式口算

★ 速算巧算

课堂练 · 课后练 · 单元检测 · 期中检测 · 期末检测

学校：_____

班级：_____

姓名：_____



北方妇女儿童出版社

关注微信公众号“小考教辅站”获取更多小学教辅资料



C 目录 Contents

从这里爱上数学



第一单元 数一数

知识点:数数 1~10 1

第一单元 单元检测 3

第二单元 比一比

知识点:长短、高矮、轻重的比较
..... 5

第二单元 单元检测 7

第三单元 分一分

知识点:分类的含义及方法 9

第三单元 单元检测 11

第四单元 认位置

知识点:两个物体的位置关系
..... 13

第四单元 单元检测 15

第五单元 认识 10 以内的数

知识点 1:认识并书写 1~5 的数
字 17

知识点 2:认识“几”、“第几”
和 0 19

知识点 3:认识“>”、“<”和“=”
..... 21

知识点 4:认识 6~10 的数及各
数的顺序 23

第五单元 单元检测 25

第六单元 认识图形

第六单元 单元检测 27

第七单元 分与合

知识点 1:2~5 的分与合 29

知识点 2:6~9 的分与合 31

知识点 3:10 的分与合 33

第七单元 单元检测 35

期中检测 37

第八单元 10 以内的加法和减法

知识点 1:5 以内的加减法 41

知识点 2:6、7、0 的加减法 43

知识点 3:8 的加减法 45

知识点 4:解决问题 47

知识点 5:9、10 的加减法 49

知识点 6:求未知加数的方法
..... 51

知识点 7:连加连减的计算方法
..... 53

知识点 8:10 以内的加减混合
..... 55

第八单元 单元检测 57

第九单元 认识 11~20 各数

知识点 1:认识数位及 11~20 的
各数 59

知识点 2:10 加几及相应的减法
..... 61

第九单元 单元检测 63

第十单元 20 以内的进位加法

知识点:20 以内的进位加法 65


第十单元 单元检测 67

期末检测 69

参考答案 73






知识点:数数 1~10

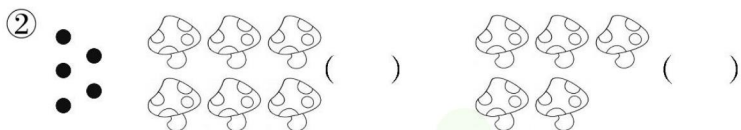


课堂练

一、数一数,连一连。



二、根据圆点的数量,在()里打“√”。



三、看图圈出正确的数。



3 4 5

7 8 9

5 6 7

___月___日




星期___

用时___

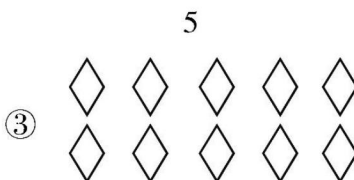

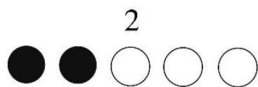


课后练

一、照样子画一画。



二、照样子看数涂色。



三、再添几个○就与左边的数同样多了？画一画。



我用了____分钟
做对了____题

微信公众号
教辅资料站

加油★ 赞★★★★ 超赞★★★★★





第一单元 单元检测

(时间:45 分钟 满分:100 分)

一、请把好朋友用线连在一起。(30 分)



①



②



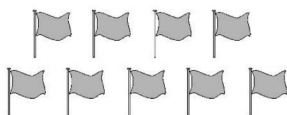
③



④



⑤



⑥



⑦

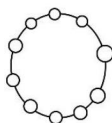


⑧



⑨

⑩



二、拿出小画笔涂一涂。(15 分)

① 涂3个 △ △△△△△

② 涂2个 ☆ ☆☆☆☆☆

③ 涂5个 ○ ○○○○○○○○○○○

三、数一数,画一画。(10 分)









____月____日

星期____

用时____




四、根据圆点的个数补图。(20 分)

- ①   _____
- ②   _____
- ③   _____
- ④   _____

五、把比给出的数多出的图形用“\”划掉。(15 分)

- ① $\begin{matrix} & & 4 \\ \triangle & \triangle & \triangle & \triangle \\ \triangle & \triangle & \triangle & \triangle \end{matrix}$
- ② $\begin{matrix} & & 7 \\ \bigcirc & \bigcirc & \bigcirc & \bigcirc & \bigcirc \\ \bigcirc & \bigcirc & \bigcirc & \bigcirc & \bigcirc \end{matrix}$
- ③ $\begin{matrix} & & 6 \\ \star & \star & \star & \star \\ \star & \star & \star & \star \end{matrix}$
- ④ $\begin{matrix} & & 5 \\ \square & \square & \square & \square & \square \\ \square & \square & \square & \square & \square \end{matrix}$

六、把出现次数最多的图形画在方框里。(10 分)



我用了_____分钟
做对了_____题

加油 ★ 赞 ★★★ 超赞★★★★★





知识点:长短、高矮、轻重的比较

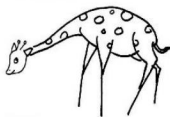



课堂练

一、最长的画“√”,最短的画“○”。

☐☐☐

二、最高的画“△”,最矮的画“○”。

☐☐☐

三、最重的画“√”,最轻的画“○”。

☐☐☐

四、最大的画“√”,最小的画“○”。

☐☐☐

____月____日

星期____

用时____

课后练

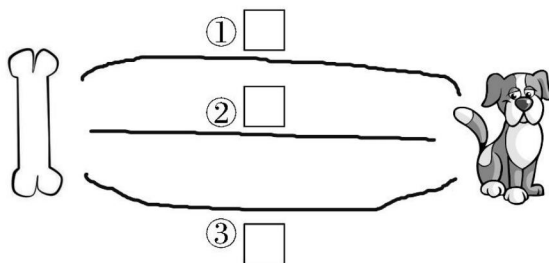
一、最长的画“√”，最短的画“○”。


☐


☐

☐

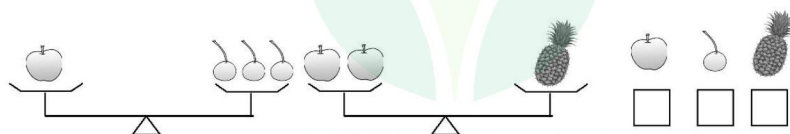
二、小狗要吃骨头，走哪条路最近？画“√”。



三、最高的画“√”，最矮的画“○”。



四、最重的画“√”，最轻的画“○”。



我用了____分钟
做对了____题

微信公众号
教辅资料站

加油 ★ 赞 ★ ★ ★ 超赞 ★ ★ ★ ★ ★



打赏一下



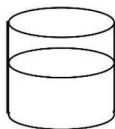
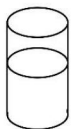
第二单元 单元检测

(时间:45 分钟 满分:100 分)

一、最长的画“√”,最短的画“○”。(15 分)

① _____ ☐② _____ ☐③ _____ ☐

二、杯里水最多的画“√”,最少的画“○”。(10 分)



三、重的画“√”,轻的画“○”。(10 分)



四、比大小。(15 分)

最大的是()

最小的是()



①



②



③

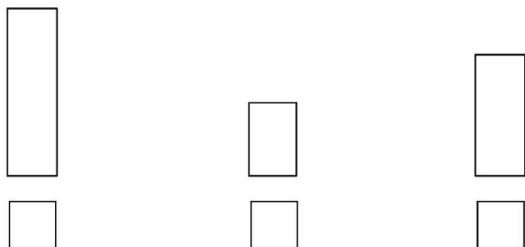
____月____日

星期____

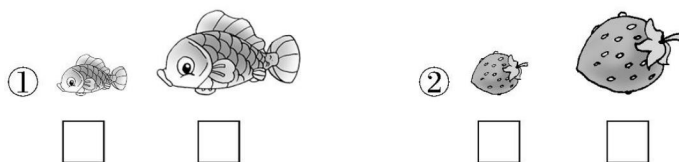
用时____



五、最高的下面画“√”，最矮的下面画“△”。(10分)




六、在大的下面画“√”，在小的下面画“○”。(10分)



七、在最重的○里涂上红色，最轻的涂蓝色。(10分)



八、我会按从重到轻的顺序给它们编号。(20分)



我用了____分钟
做对了____题

微信公众号
教辅资料站

加油★ 赞★★★★ 超赞★★★★★






知识点:分类的含义及方法



课堂练

一、把每组中不同类的圈出来。

①



②



③



④




⑤



⑥



⑦



⑧



____月____日


星期____

用时____

微信公众号
教辅资料站

课后练

一、分一分,连一连。





动物

水果



二、把序号填在相应的框里。



交通工具

动物

蔬菜



我用了____分钟
做对了____题

加油★ 赞★★★★ 超赞★★★★★

微信公众号
教辅资料站





360°提升 的运算能力

第三单元 分一分

爱上数学!

第三单元 单元检测

(时间:45 分钟 满分:100 分)

一、把每组中不同类的圈出来。(30 分)

①



②



③



④



⑤



二、按不同标准分一分。(20 分)



第一种分法:

第二种分法:

___月___日

星期___

用时___

微信公众号
教辅资料站

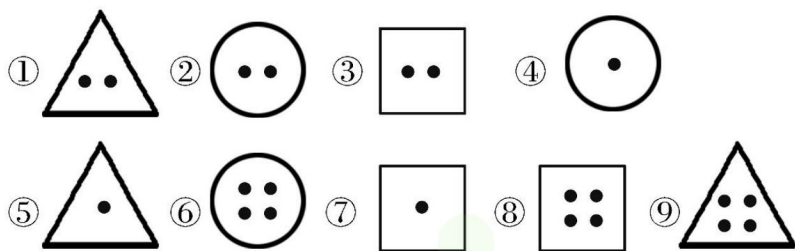


三、下面哪一行的数字与其他三行不同？画“√”。(20 分)

①	3	4	5	6	
	2	3	4	5	
	1	3	5	7	
	1	2	3	4	

②	2	4	6	8	
	4	6	8	10	
	6	8	10	12	
	8	12	16	20	

四、分一分。(30 分)



(1) () 为一类 (2) () 为一类
 () 为一类 () 为一类
 () 为一类 () 为一类



我用了____分钟
 做对了____题

加油★ 赞★★★★ 超赞★★★★★

微信公众号
 教辅资料站





知识点:两个物体的位置关系



一、



① 花在女孩的()面,女孩在花的()面,

女孩在飞机的()面。

② 最上面的是(花 女孩 飞机)。

③ 最下面的是(花 女孩 飞机)。

二、



① 企鹅的前面是(),后面是()。

② 天鹅的前面是(),后面是()。

③ 鸭在企鹅的()面,企鹅在鸭的()面。


④ 最前面的是(),最后面的是()。

三、

① 梨的右面是(),梨的左面是()。

② 菊花在☆的()面,菊花在足球的()面。

③ 苹果上面是(),下面是(),左面是(),右面是()。



___月___日

星期___

用时___

课后练

一、填一填。



- ① 电话在 木柴 的()面, 背包在 坦克 的()面。
- ② 坦克在 篮球 的()面, 汽车在 电话 的()面。
- ③ 火车的()面是 伞, 篮球的()面的是 伞。

二、看图回答问题。



李叔叔



小南



小婷



刘阿姨



小刚

- ① 图中一共有()人。
- ② 小南在()的后面。
- ③ 刘阿姨的后面是()。
- ④ 小婷在刘阿姨的()面, 在小南的()面。
- ⑤ 小南的后面有()个人。



我用了____分钟
做对了____题

加油 ★ 赞 ★★★ 超赞★★★★★

微信公众号
教辅资料站





第四单元 单元检测

(时间:45 分钟 满分:100 分)

一、圈一圈,填一填。(10 分)




① 把正确答案圈起来。

在 的(前 后)面; 在 的(前 后)面;

在 的(前 后)面。

② 鸭的前面有()只动物,后面有()只动物,一共有()只动物。

二、我能分得清。(20 分)



① 山羊在()

它的上面是(),下面是(),

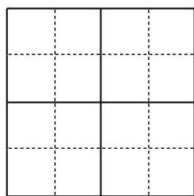
左面是(),右面是()。

② 大象的左面是()和()。

③ 小鸡的下面有()和()。

④ 兔子的右面有()和()。

三、把“心灵手巧”四个字按要求写在下面的田字格。(20 分)



把“心”写在上面一行左面的格里

把“灵”写在上面一行右面的格里

把“手”写在下面一行右面的格里

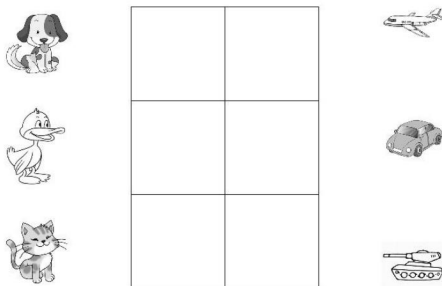
把“巧”写在下面一行左面的格里

____月____日

星期____

用时____

四、按要求摆一摆。(30 分)



- (1) 把坦克放在从上往下第二层左面的格里,
- (2) 把鸭子放在坦克的上面,
- (3) 把汽车放在坦克的右面,
- (4) 把小猫放在汽车的下面,
- (5) 把小狗放在小猫的左面,
- (6) 把飞机放在汽车的上面。

五、按要求给它们排排队。(20 分)



- (1) ☆站在中间,
- (2) ☆的左面是▲,右面是△,
- (3) □在▲的左面,
- (4) ○在△的右面。



我用了____分钟
做对了____题


加油 ★ 赞 ★★★ 超赞★★★★★

微信公众号
教辅资料站





知识点 1: 认识并书写 1~5 的数字



课堂练

一、数一数,写一写。



二、看数涂上自己喜欢的颜色。

①

4



②

5



③

3



④

2



三、找规律写出红旗上的数。



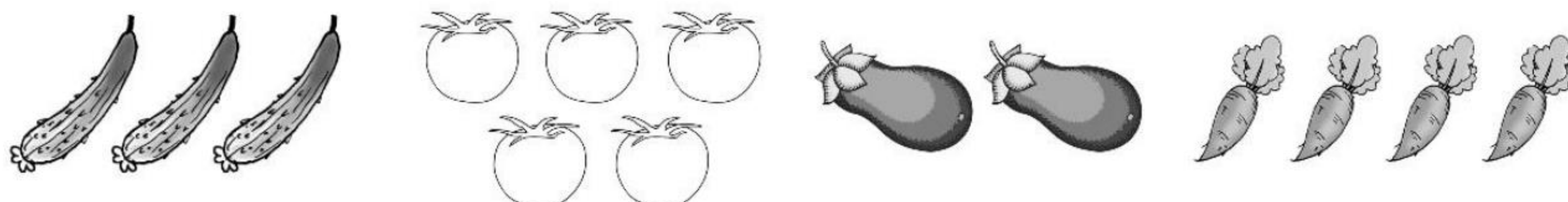
____月____日

星期____

用时____

课后练

一、连一连。



2

3

4

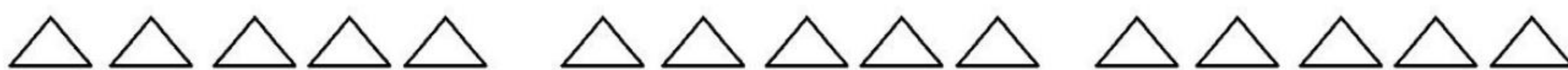
5

二、看数涂色。

2

3

4



三、把下列各数从小到大按顺序排一排。

4

5


1

3

2

--	--	--	--	--	--	--	--

四、看图数一数,填一填。



○	□	△	□	☆
---	---	---	---	---



我用了____分钟
做对了____题

加油★

赞★★★★

超赞★★★★★





360°提升您的运算能力

第五单元 认识10以内的数

爱上数学!

知识点2:认识“几”“第几”和0



课堂练

一、从左边起涂色。

① 涂4个 △ △ △ △ △

② 涂第4个 △ △ △ △ △

③ 涂5个 ○ ○ ○ ○ ○

④ 涂第5个 ○ ○ ○ ○ ○

二、数一数,填一填。



- ① 图中一共有()个水果。
- ② 从右边数,苹果是第()个。
- ③ 从左边数,第3个水果是()。
- ④ 从右边数,菠萝是第()个。
- ⑤ 把从左边数的前三个水果圈起来。

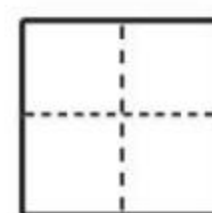
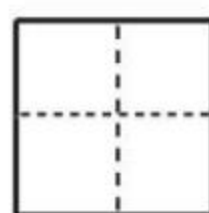
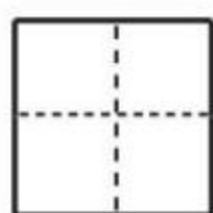
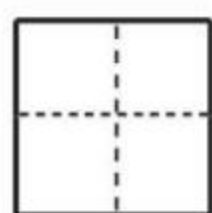
三、数一数,写一写。

① △ △ △ △

② ○ ○ ○ ○

③ ☆ ☆

④



____月____日

星期____

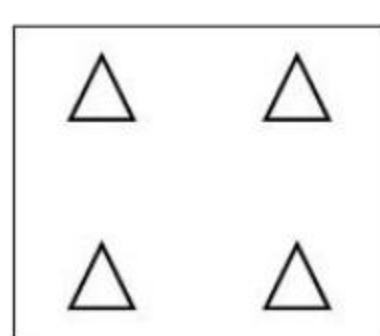
用时____



19

课后练

一、照样子，画一画。



4



1



0




5

二、按顺序填数。



三、按要求填一填，画一画。

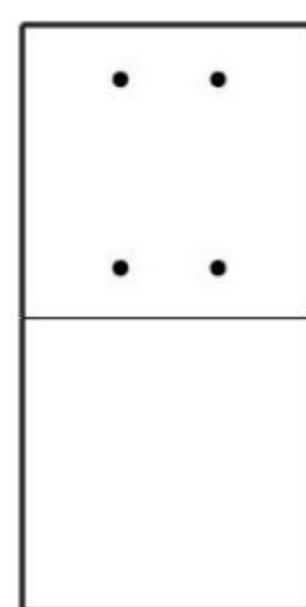




① 从左往右数，●排在第4，●左面应画()个○。



② 从右往左数，▲排第3，▲右面应画()个△。



四、按点子卡的顺序，用数字写出小平家的电话号码。



我用了____分钟
做对了____题

加油★

赞★★★★

超赞★★★★★





360°提升您的运算能力

第五单元 认识 10 以内的数

爱上数学!

知识点 3: 认识“>”“<”和“=”




课堂练

一、看图填一填。

① $\triangle \triangle \triangle \triangle$

$\bigcirc \bigcirc$


() 比 () 多



② $\square \square \square \square$

$\bigcirc \bigcirc \bigcirc \bigcirc \bigcirc$


() 比 () 少



③ $\star \star \star \star$

$\bigcirc \bigcirc \bigcirc \bigcirc$

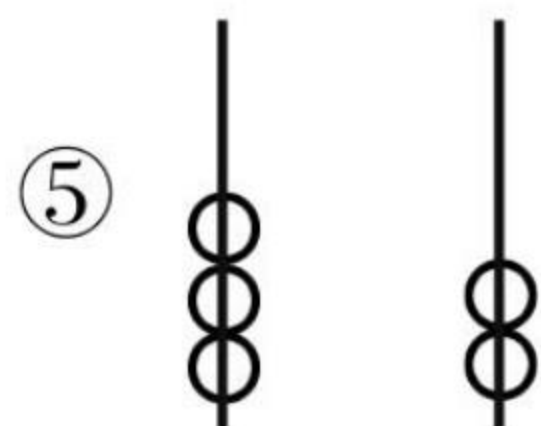

() 和 () 一样多



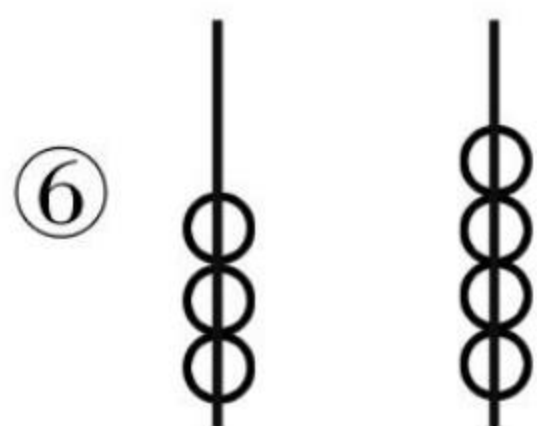
④ $\triangle \triangle \triangle \triangle \triangle$

$\square \square \square \square$

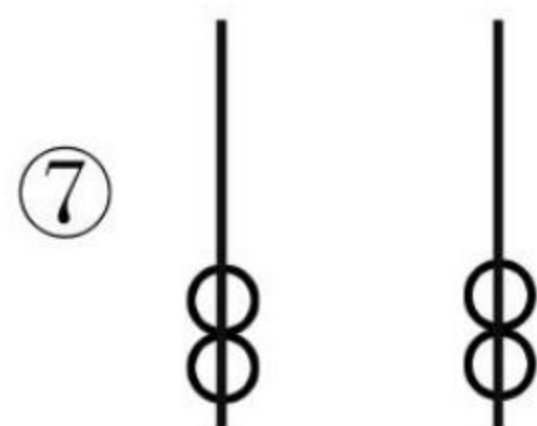
() 比 () 多



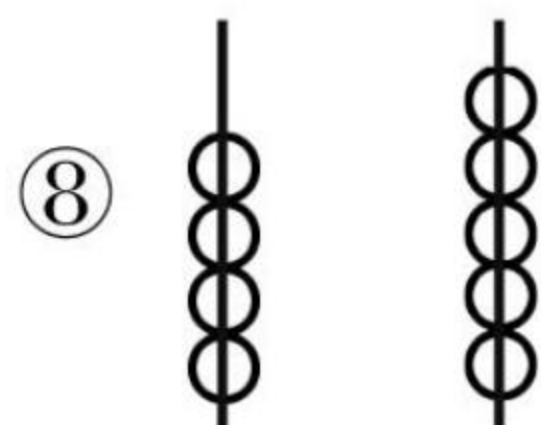
$3 \bigcirc 2$



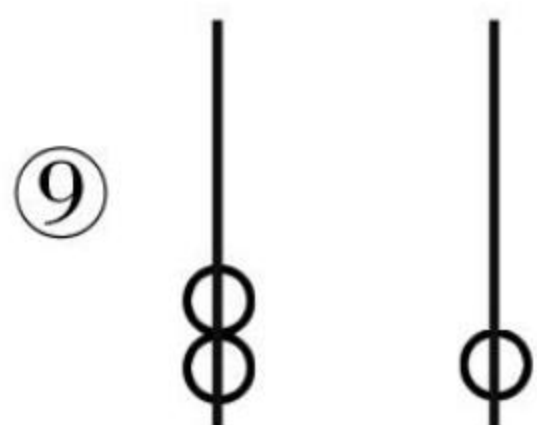
$3 \bigcirc 4$



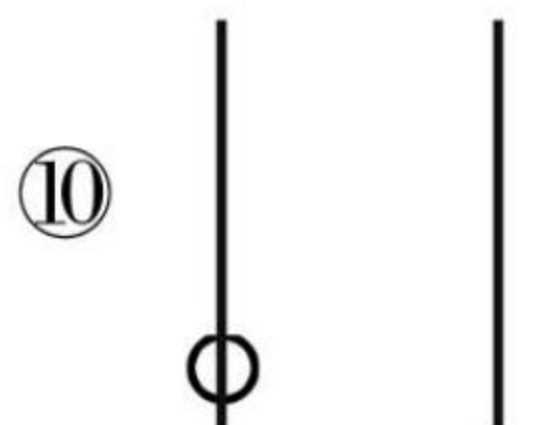
$2 \bigcirc 2$



$4 \bigcirc 5$



$2 \bigcirc 1$



$1 \bigcirc 0$

____月____日

星期____

用时____



21

课后练

一、在○里填上“>”“<”或“=”。

① $5 \bigcirc 2$

⑤ $1 \bigcirc 2$

② $3 \bigcirc 3$

⑥ $5 \bigcirc 4$

③ $2 \bigcirc 3$

⑦ $3 \bigcirc 1$

④ $4 \bigcirc 3$

⑧ $3 \bigcirc 5$

二、在□里填上合适的数。

① $4 > \square$

⑥ $3 < \square$

② $4 < \square$

⑦ $5 > \square$

③ $2 < \square$

⑧ $1 > \square$

④ $2 > \square$

⑨ $2 = \square$

⑤ $3 > \square$

⑩ $1 < \square$

三、把下列各数按照从大到小的顺序排列。

① 2 3 0 5 1 4
 $\underline{\hspace{1cm}} > \underline{\hspace{1cm}} > \underline{\hspace{1cm}} > \underline{\hspace{1cm}} > \underline{\hspace{1cm}} > \underline{\hspace{1cm}}$

② 3 5 1 0
 $\underline{\hspace{1cm}} > \underline{\hspace{1cm}} > \underline{\hspace{1cm}} > \underline{\hspace{1cm}}$



我用了_____分钟
 做对了_____题

加油★

赞★★★★

超赞★★★★★





360°提升您的运算能力

第五单元 认识 10 以内的数

爱上数学!

知识点 4: 认识 6 ~ 10 的数及各数的顺序



课堂练

一、看数接着画。

6 ○ ○

10 △ △ △

7 ☆ ☆

9 ☆ ☆ ☆

8 ○ ○ ○

二、填一填。

① 0 1 4 7

② 8 6 3 1

三、根据要求填数。

4 2 9 8 5 1 6

比 7 小的数

比 4 大的数

____月____日

星期____

用时____



课后练

一、在 ○ 里填上“>”“<”或“=”。

① $7 \bigcirc 10$

⑥ $2 \bigcirc 10$

② $8 \bigcirc 9$

⑦ $9 \bigcirc 9$

③ $10 \bigcirc 6$

⑧ $10 \bigcirc 10$

④ $0 \bigcirc 10$

⑨ $6 \bigcirc 7$

⑤ $10 \bigcirc 9$

⑩ $8 \bigcirc 7$

二、在 ○ 里填上合适的数。

① $7 > \bigcirc > 5$

④ $6 > \bigcirc > 4$

② $8 < \bigcirc < 10$

⑤ $9 > \bigcirc > 7$

③ $3 < \bigcirc < 5$

⑥ $0 < \bigcirc < 2$

三、选一选，填一填。

1 2 3 4 5 6 7 8 9 10

大于5的数

小于5的数



我用了_____分钟
做对了_____题

加油★

赞★★★★

超赞★★★★★





360°提升您的运算能力

第五单元 认识10以内的数

爱上数学!

第五单元 单元检测

(时间:45分钟 满分:100分)

一、按顺序写一写。(15分)


①

	1	2			5			8		
--	---	---	--	--	---	--	--	---	--	--

②

10	9		7		5			2		
----	---	--	---	--	---	--	--	---	--	--

二、看图填一填。(20分)



① 的左面是(),右面是()。

② 的左面有()个物体,从左面数它排第()。

③ 在 的()面, 在 的()面。

④ ()在()的上面,()在()的下面。

三、看数接着画珠子。(15分)

①

8

②

10

③

5

④

7

____月____日

星期____

用时____

四、选一选。(15 分)

① 在比 8 小且比 4 大的数下面画“√”。

0 9 7 10
() () () ()

② 在比 6 大且比 9 小的数下面画“○”。

0 9 7 10
() () () ()

③ 在比 8 大且比 10 小的数下面画“△”。

0 9 7 10
() () () ()

五、在 ○ 里填上“>”“<”或“=”。(15 分)

① $5 \bigcirc 3$

④ $6 \bigcirc 10$

② $0 \bigcirc 1$

⑤ $7 \bigcirc 2$

③ $5 \bigcirc 9$

⑥ $2 \bigcirc 2$

六、数一数,涂一涂,圈一圈,填一填。(20 分)

△ △ △ △ △ △ △ △ △ △

① 图中一共有()个△。

② 把从左数第三个△涂上颜色,从右数第 4 个圈起来。

③ 涂颜色的△的左面有()个△。

④ 涂颜色的△的右面比左面多()个△。



26

我用了_____分钟
做对了_____题

加油★

赞★★★★

超赞★★★★★



打赏一下



360°提升您的运算能力

第六单元 认识图形

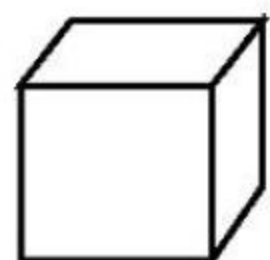
爱上数学!

第六单元 单元检测

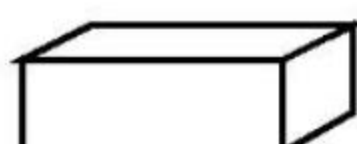
(时间:45 分钟 满分:100 分)

一、判一判。(22 分)

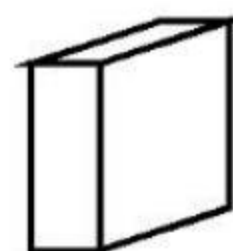
① 在长方体的下面画“√”。



()

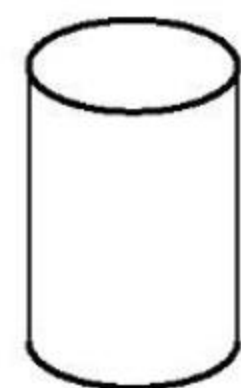


()

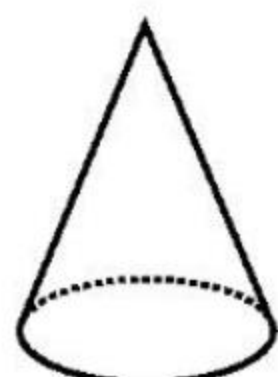


()

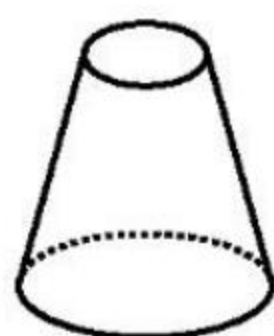
② 在圆柱下面画“√”。




()



()




()

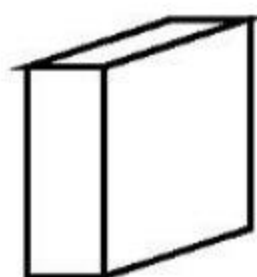


()

③ 在正方体下面画“√”。



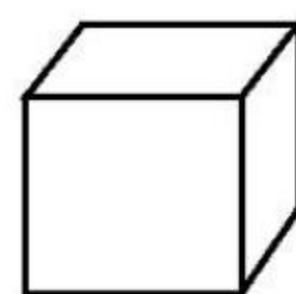
()



()

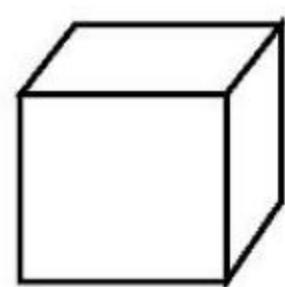


()




()


二、连一连。(24 分)



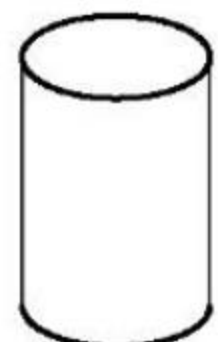
球



正方体



圆柱



长方体

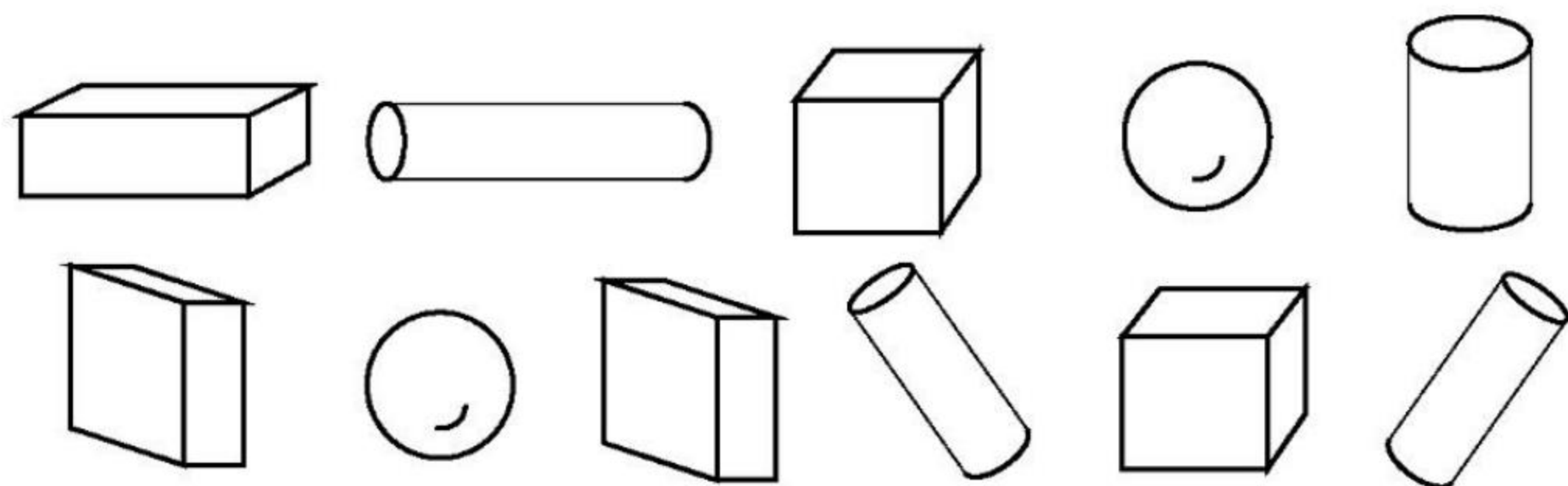


____月____日

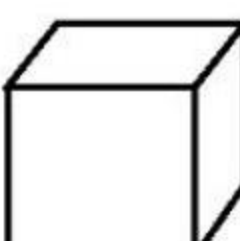
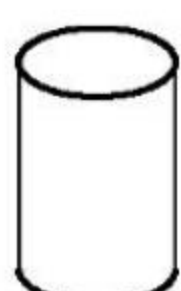
星期____



用时____

三、数一数,填一填。(24 分)

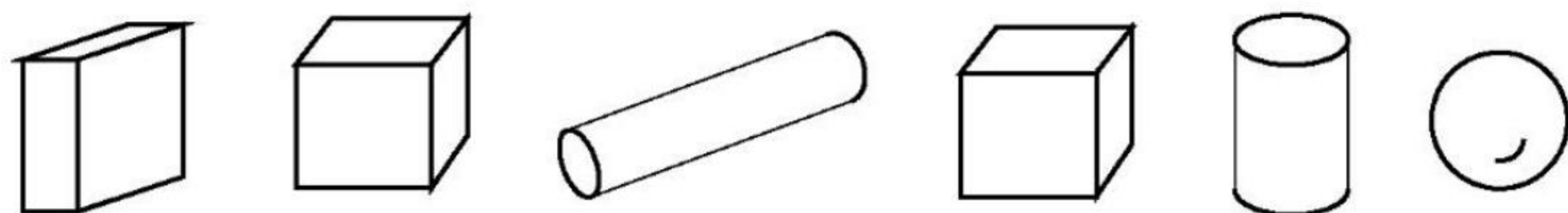


①  有()个,  有()个,  有()个,  有()个。

②  比  少()个。

③  和  一共有()个。

四、想一想,填一填,圈一圈,涂一涂。(30 分)



① 一共有()个物体。

② 右边起第 1 个是 , 第()个和第()个是 , 第()个是 .

③ 把从右数的第 4 个物体圈起来,把  右面的第一个物体涂上喜欢的颜色。



360°提升您的运算能力

第七单元 分与合

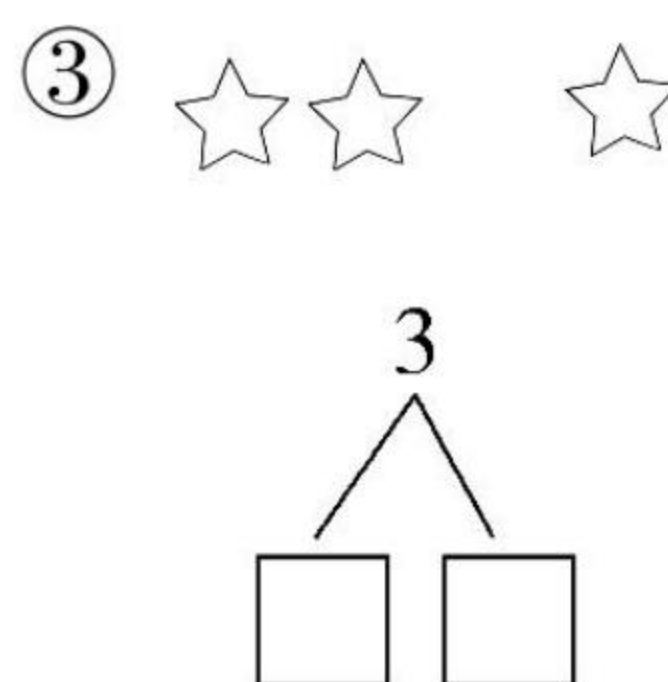
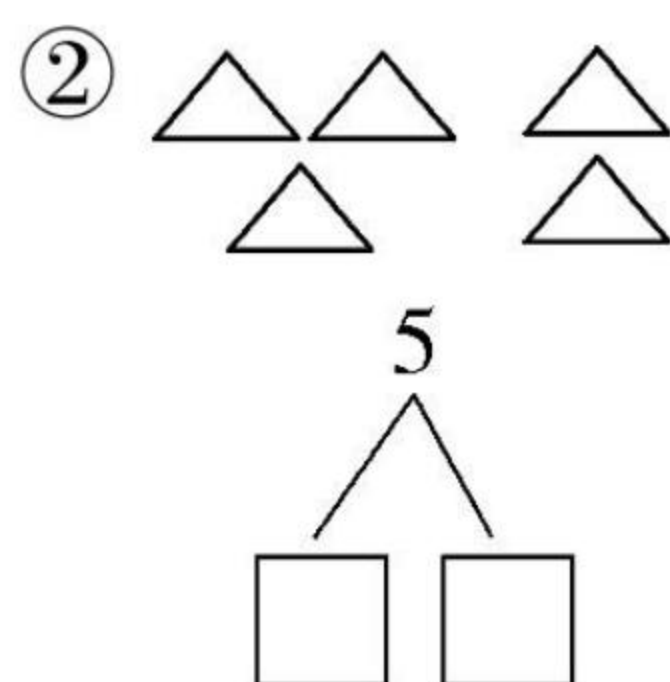
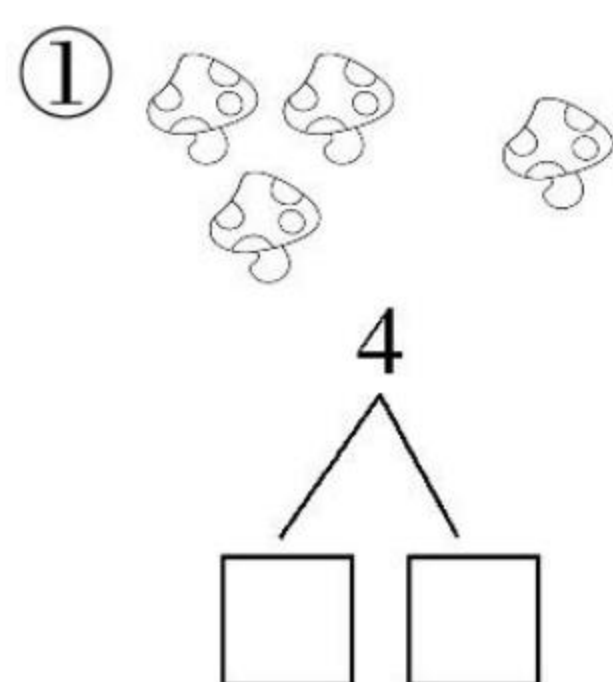
爱上数学!

知识点 1: 2~5 的分与合

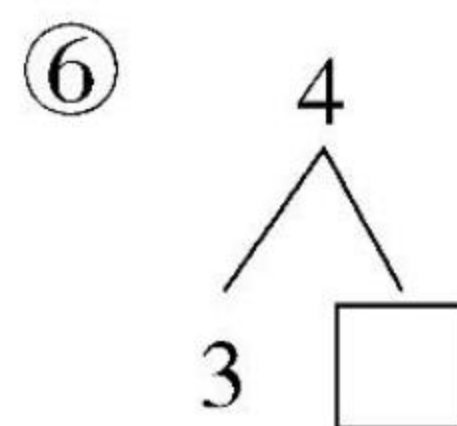
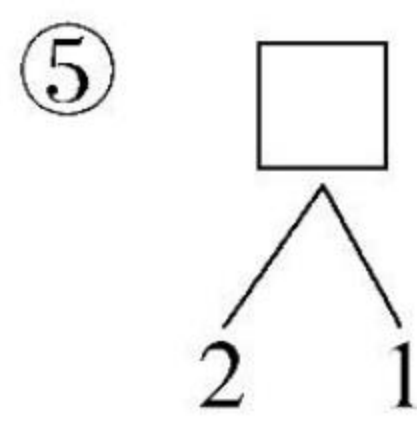
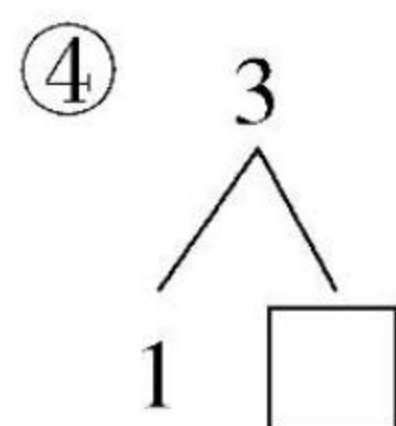
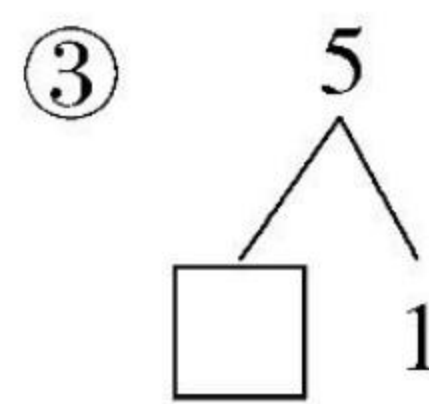
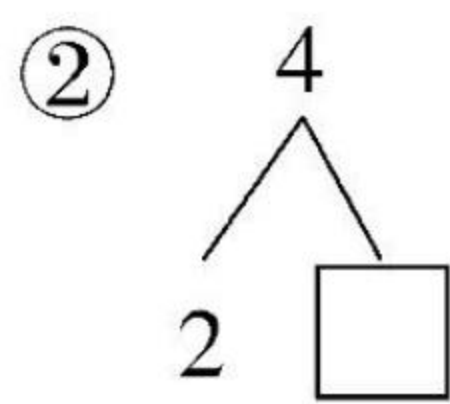
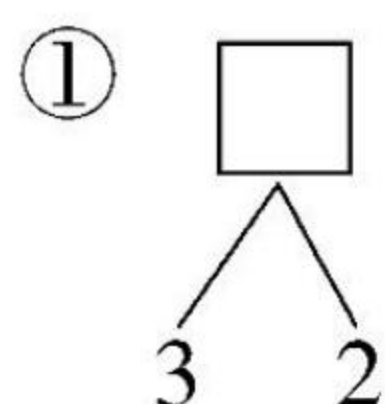


课堂练

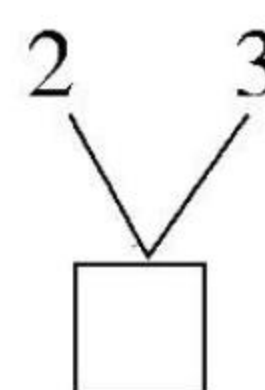
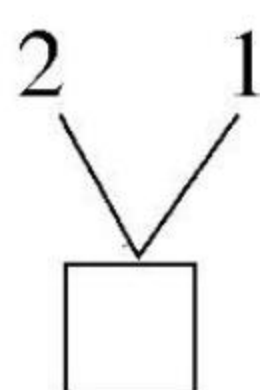
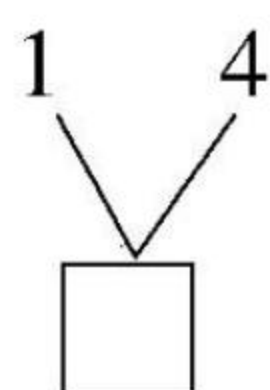
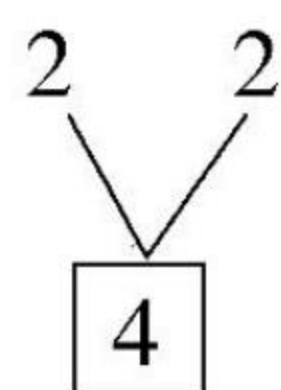
一、看图填数。



二、想一想, 填一填。



三、画一画, 填一填。



____月____日

星期____

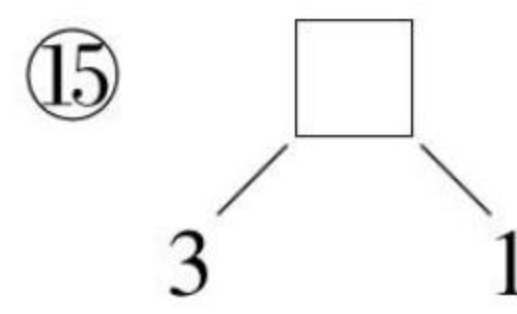
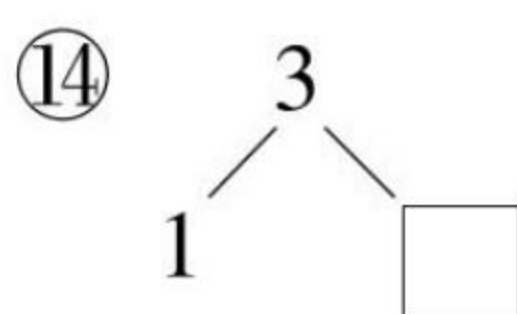
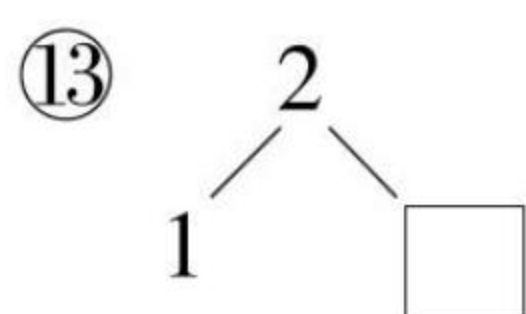
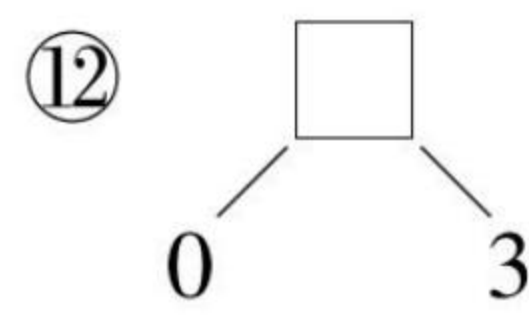
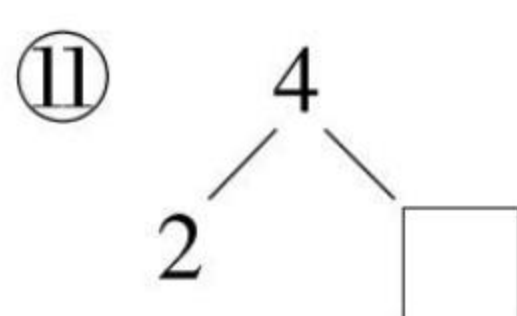
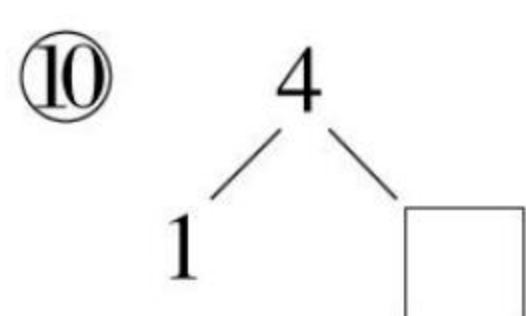
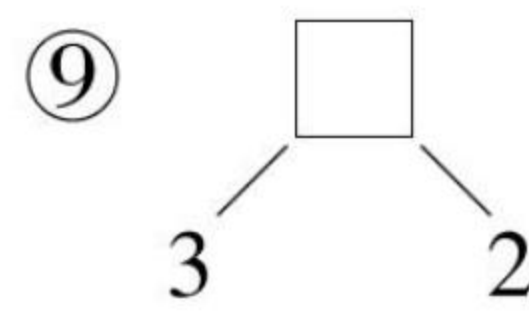
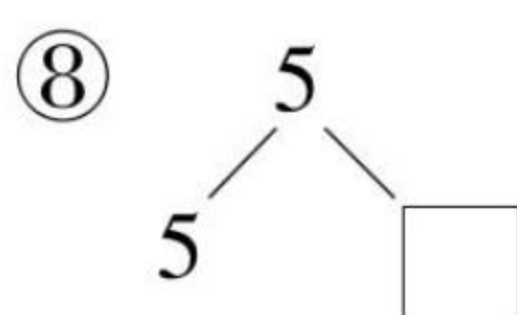
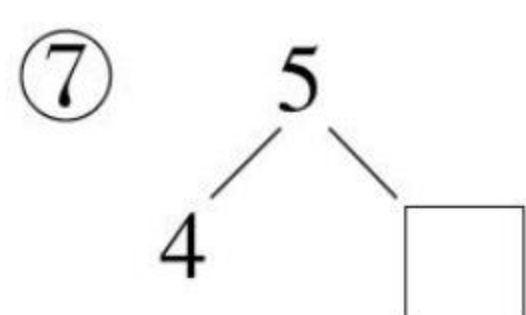
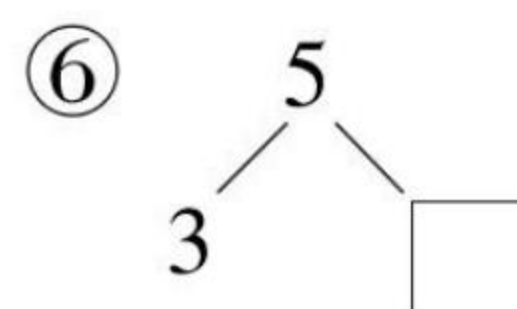
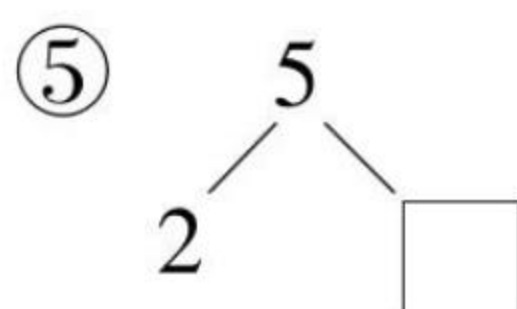
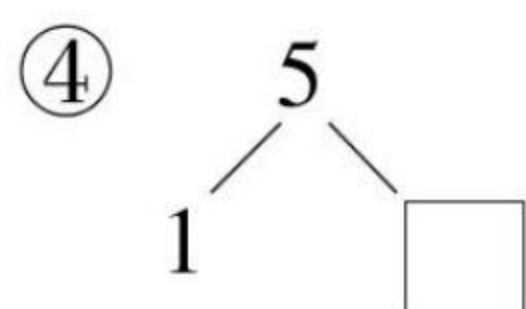
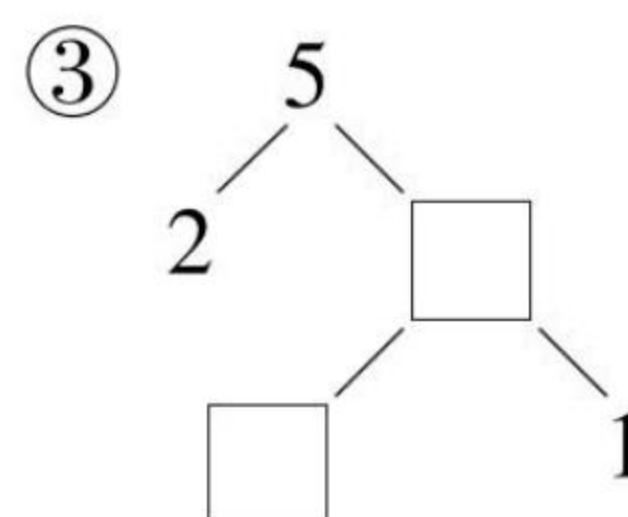
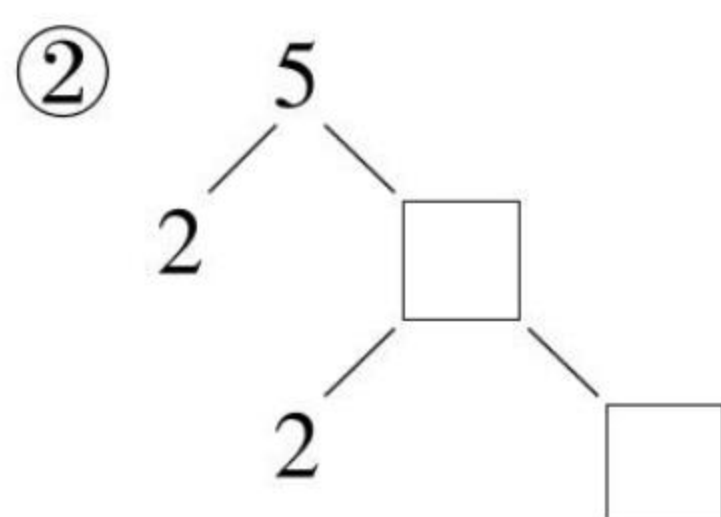
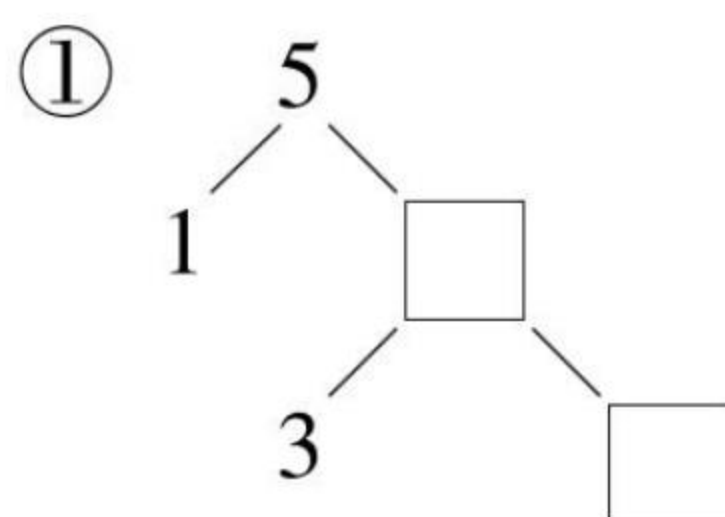
用时____



29

课后练

一、在 \square 里填上合适的数。



二、在 \bigcirc 里填上“>”“<”或“=”。

① $4 \bigcirc 3$

⑥ $8 \bigcirc 7$

② $2 \bigcirc 1$

⑦ $5 \bigcirc 5$

③ $7 \bigcirc 6$

⑧ $4 \bigcirc 5$

④ $3 \bigcirc 3$

⑨ $7 \bigcirc 4$

⑤ $9 \bigcirc 10$

⑩ $10 \bigcirc 10$



我用了_____分钟
做对了_____题

加油★

赞★★★★

超赞★★★★★





360°提升您的运算能力

第七单元 分与合

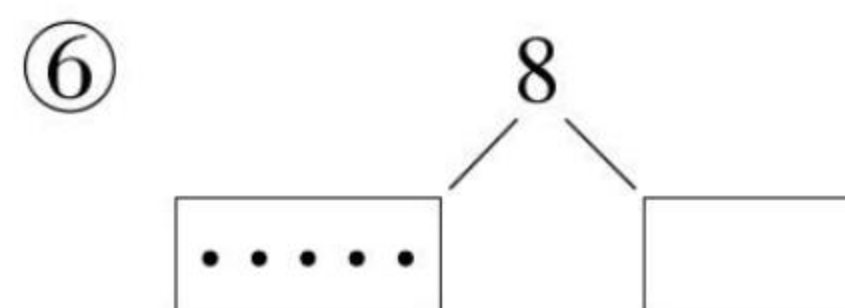
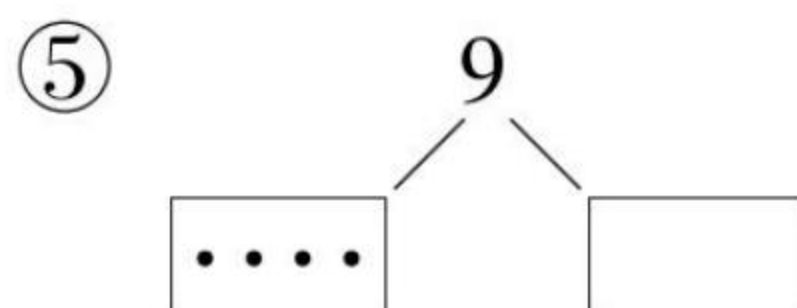
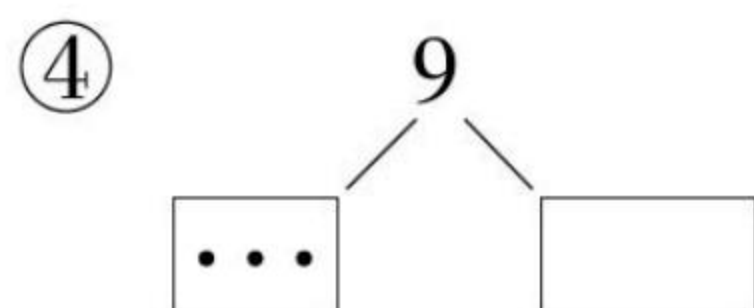
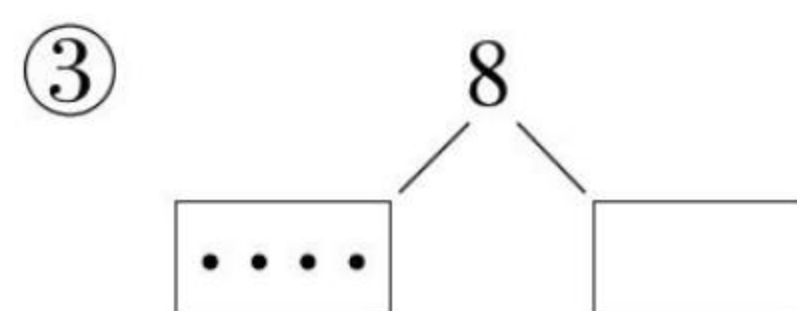
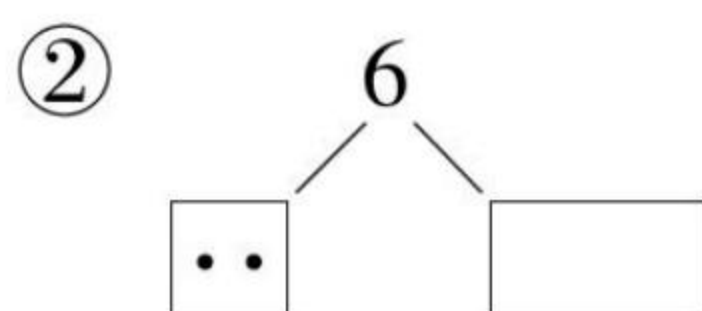
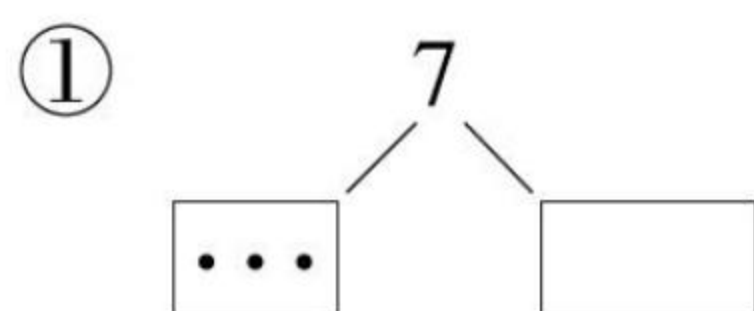
爱上数学!

知识点 2: 6 ~ 9 的分与合

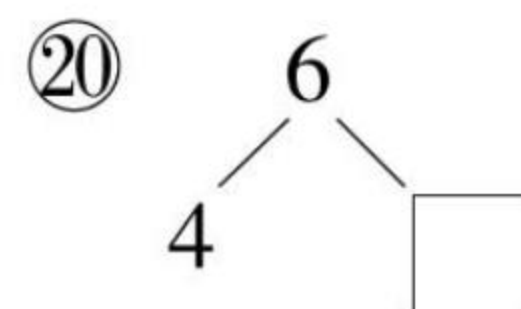
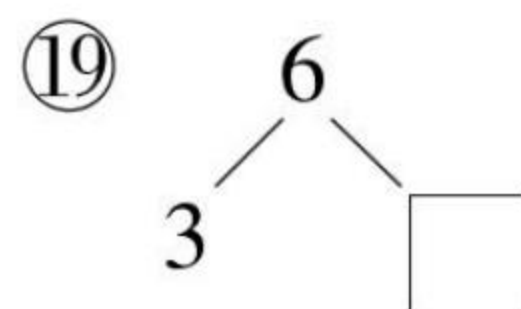
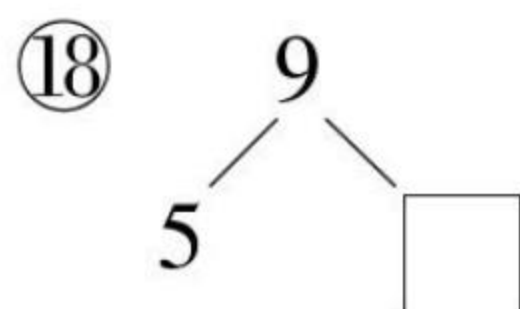
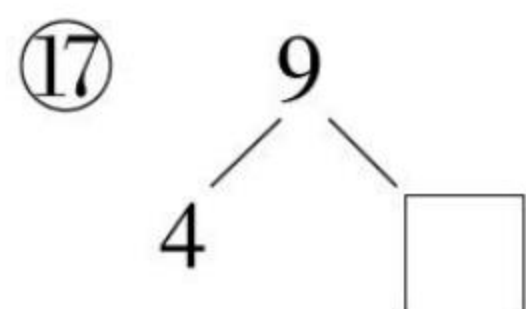
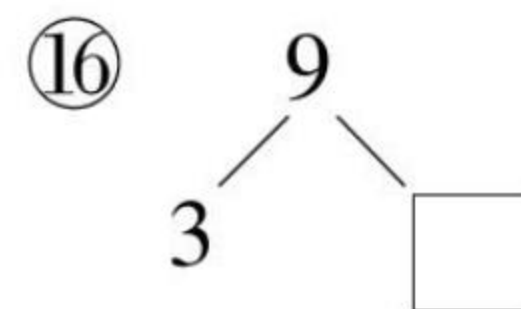
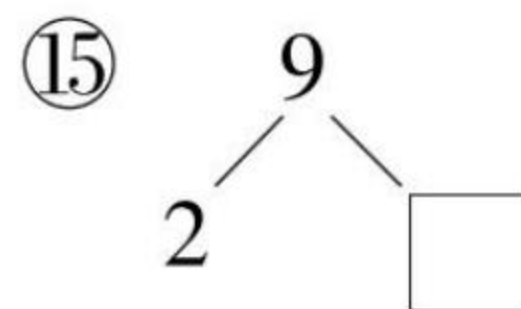
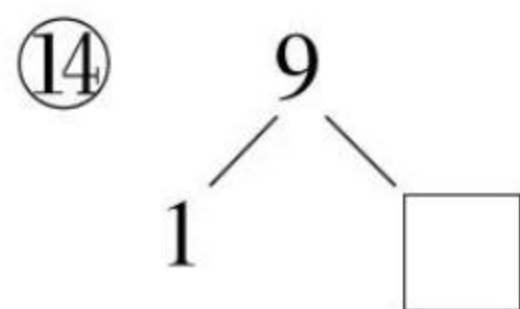
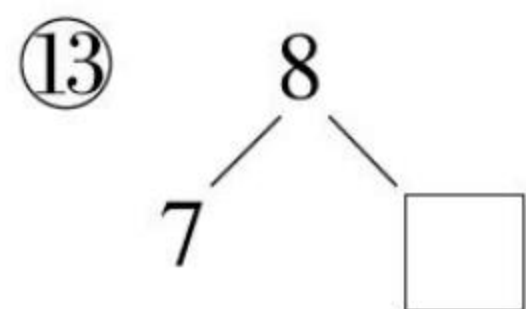
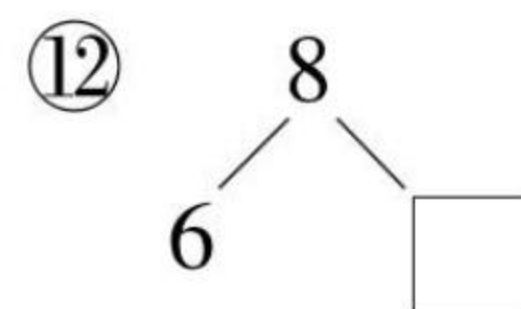
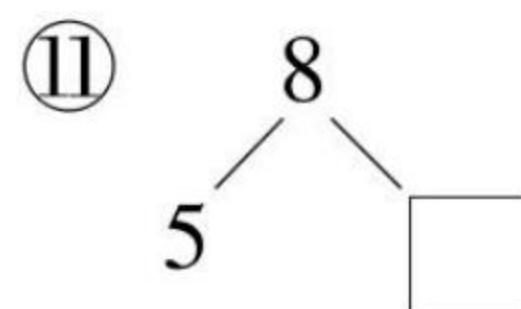
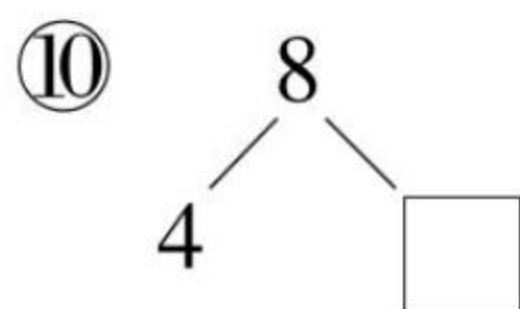
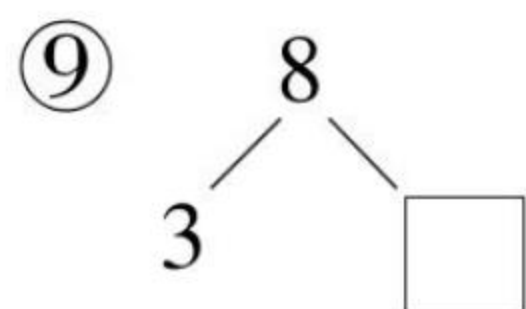
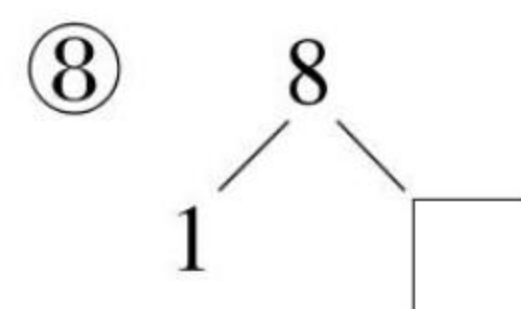
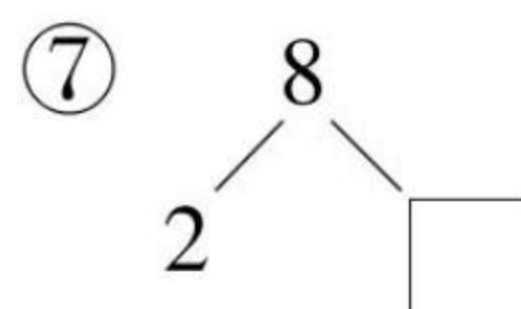
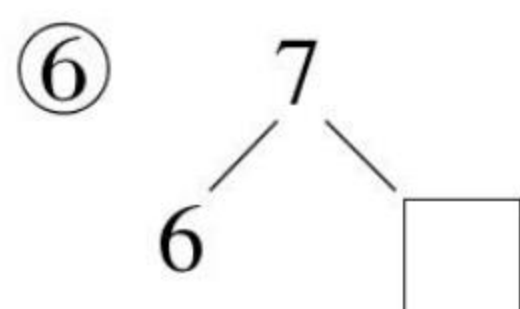
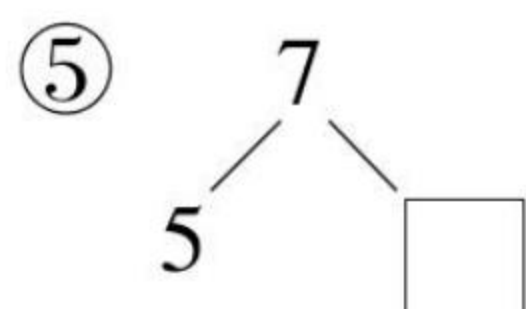
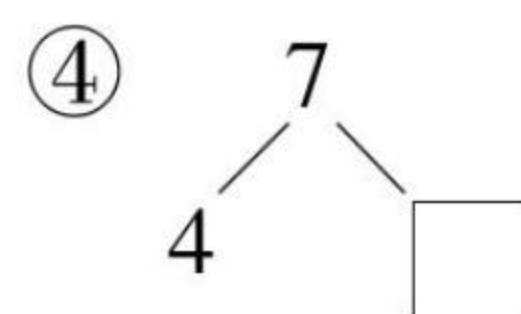
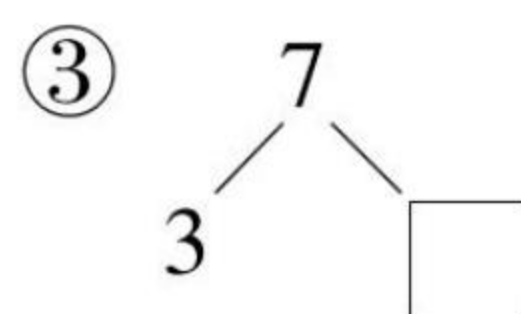
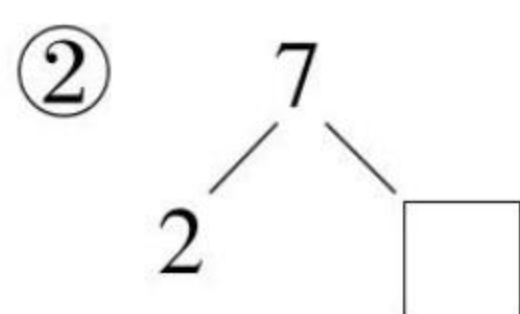
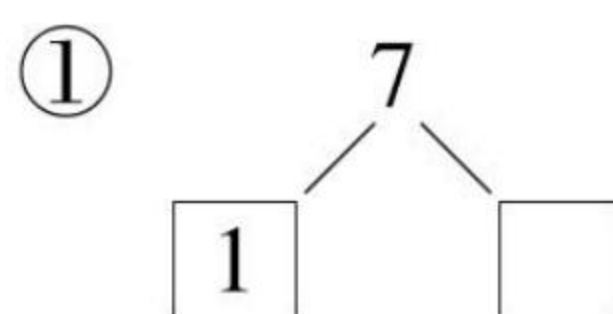


课堂练

一、画一画。



二、填一填。



____月____日

星期____

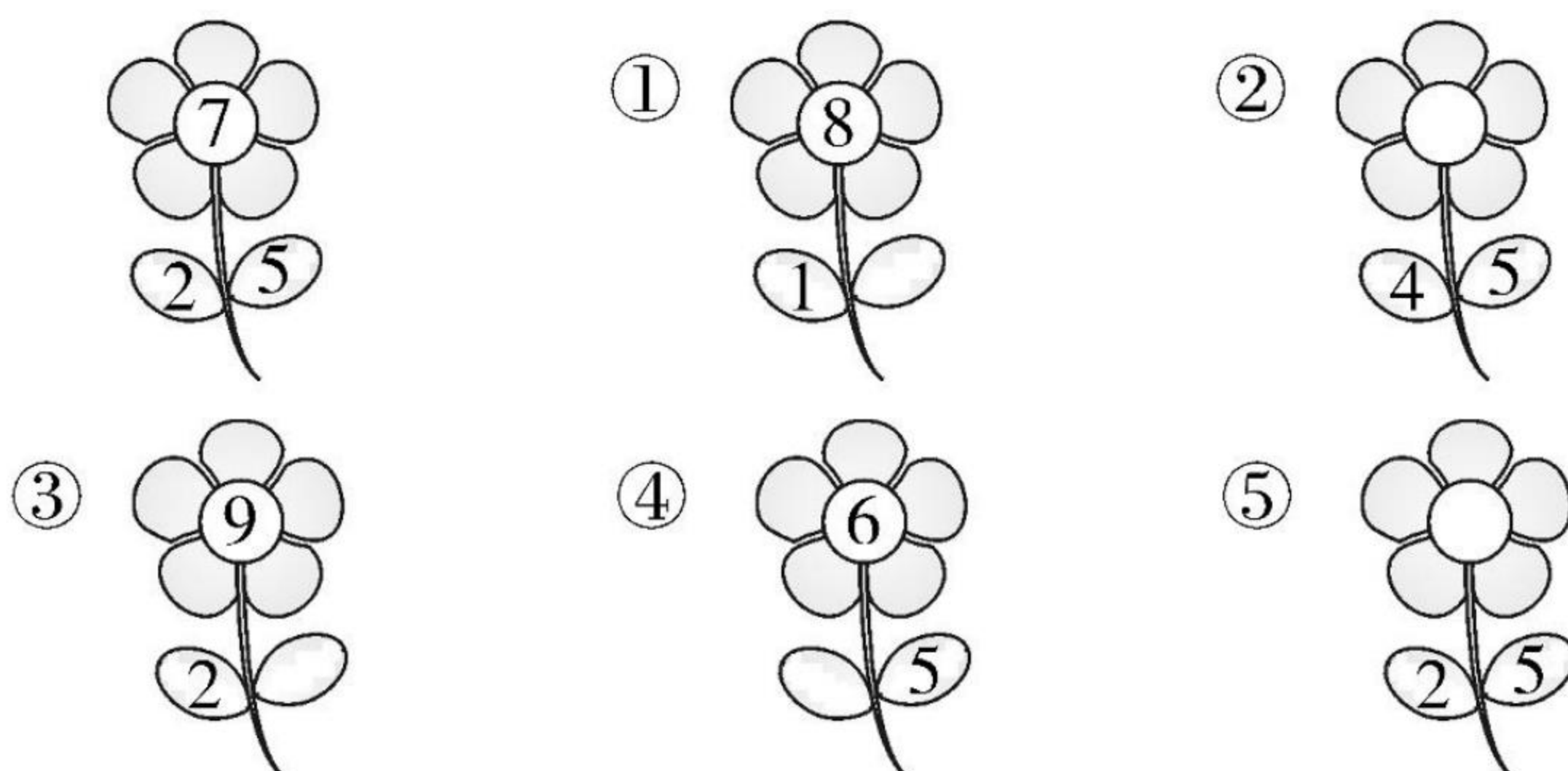
用时____



31

课后练

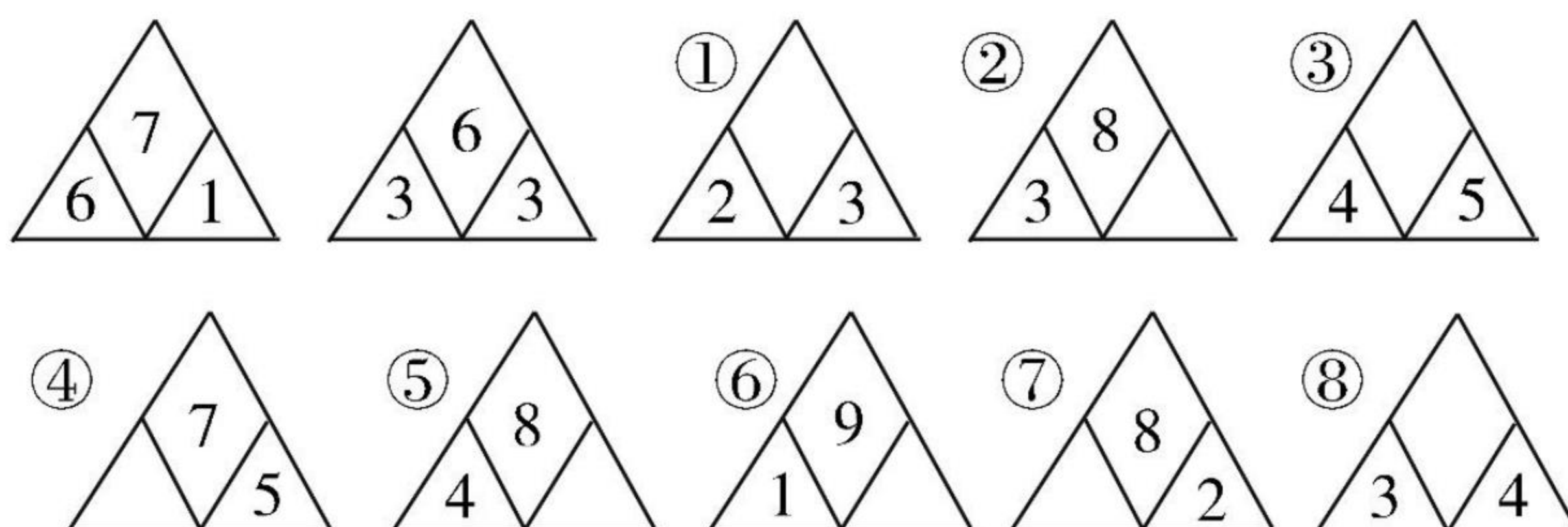
一、照样子,填一填。



二、从左边起涂色。

①	涂6个	○ ○ ○ ○ ○ ○
	涂第6个	○ ○ ○ ○ ○ ○
②	涂7个	○ ○ ○ ○ ○ ○ ○
	涂第7个	○ ○ ○ ○ ○ ○ ○

三、先找规律,再填数。



我用了____分钟
做对了____题

加油★

赞★★★★

超赞★★★★★





360°提升您的运算能力

第七单元 分与合


爱上数学!

知识点 3: 10 的分与合








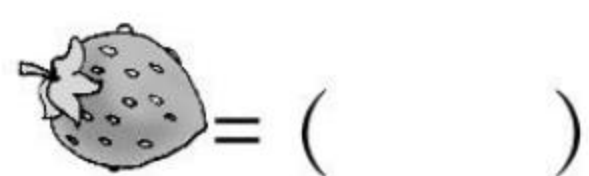
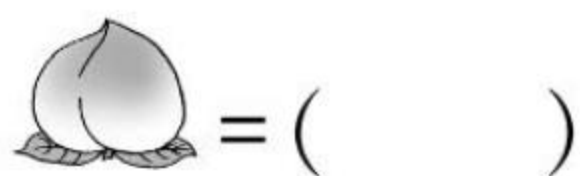
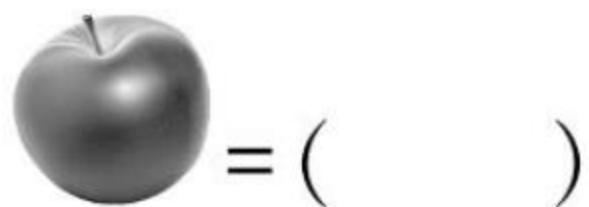
课堂练

一、连一连, 哪两个数合起来是 10?

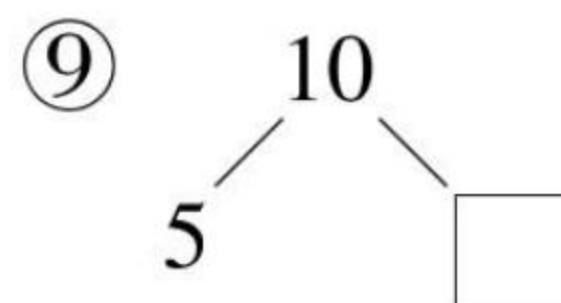
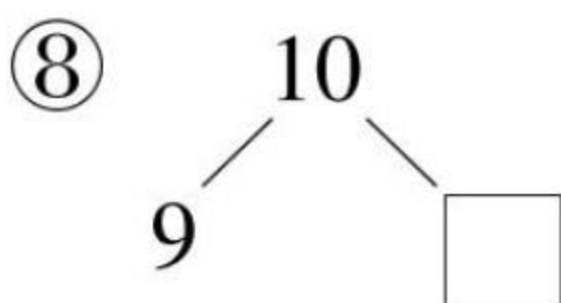
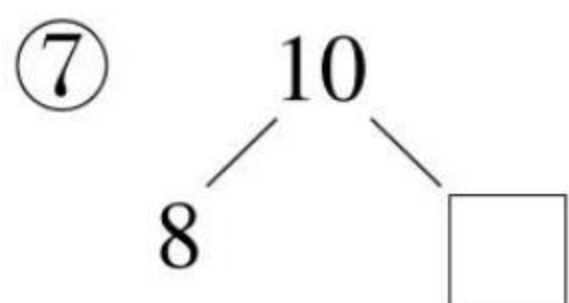
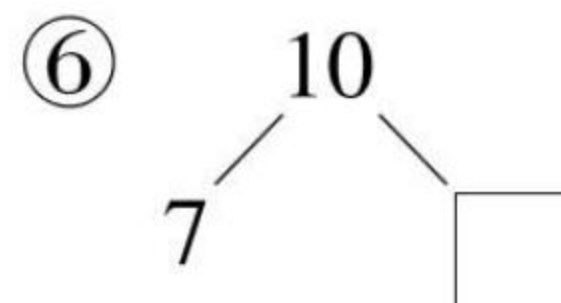
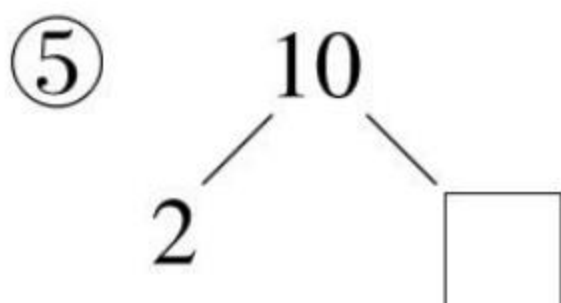
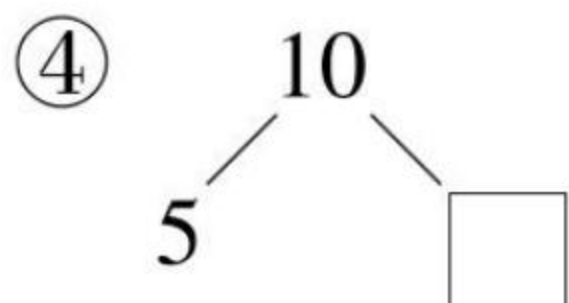
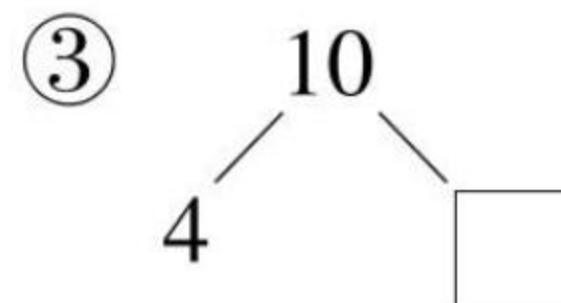
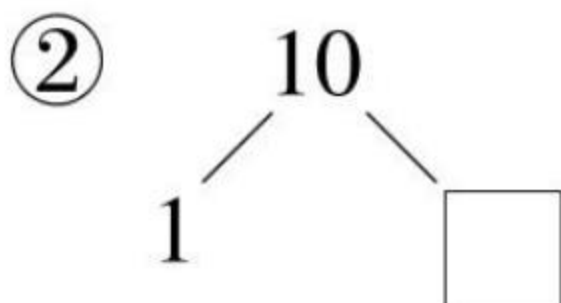
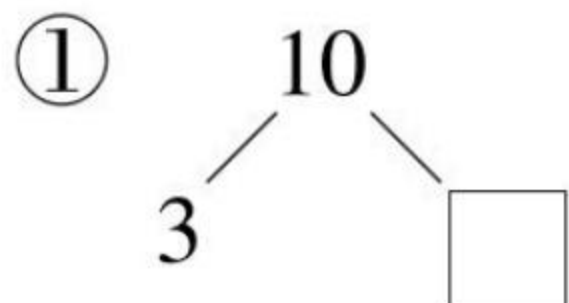


二、想一想, 填一填。

10	3		2	
		4		5



三、填一填。



____月____日

星期____

用时____



33

课后练

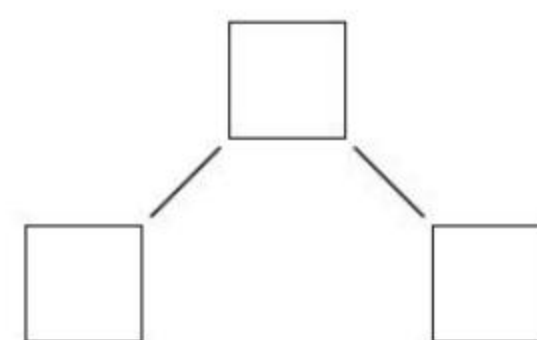
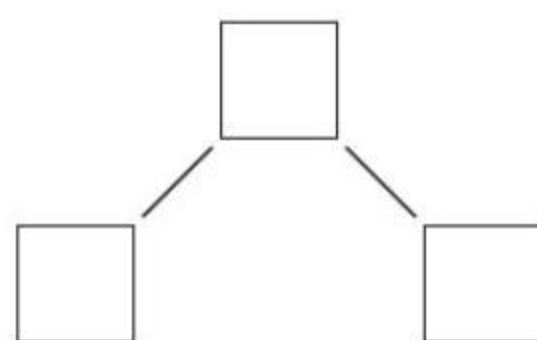
一、填一填。

10	2		5		7		8	
		6		4		6		9

二、选一选。

3 10 7 5

4 5 9 6



三、想一想,填一填,△○□☆各代表什么?

10	
5	△
○	3
□	2
6	☆

△ = ()

○ = ()

□ = ()

☆ = ()

四、最大能填几?

① $5 > \square$

④ $9 > \square$

② $\square < 7$

⑤ $4 > \square$

③ $\square < 8$

⑥ $2 > \square$



我用了_____分钟
做对了_____题

加油★

赞★★★★

超赞★★★★★





360°提升您的运算能力

第七单元 分与合

爱上数学!

第七单元 单元检测

(时间:45 分钟 满分:100 分)

一、在□里填上合适的数。(20 分)

① $\begin{array}{c} 5 \\ \swarrow \searrow \\ 3 \quad \square \end{array}$

② $\begin{array}{c} 4 \\ \swarrow \searrow \\ \square \quad 3 \end{array}$

③ $\begin{array}{c} \square \\ \swarrow \searrow \\ 5 \quad 2 \end{array}$

④ $\begin{array}{c} \square \\ \swarrow \searrow \\ 2 \quad 6 \end{array}$

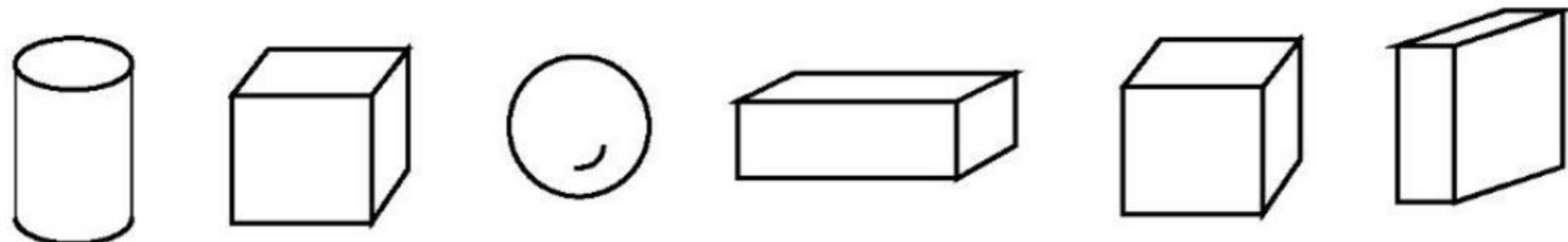
⑤ $\begin{array}{c} 9 \\ \swarrow \searrow \\ 5 \quad \square \end{array}$


⑥ $\begin{array}{c} 8 \\ \swarrow \searrow \\ \square \quad 4 \end{array}$

二、有次序地分一分,填一填。(10 分)

○○○○○	9								
○○○○○	1								

三、数一数,填一填。(10 分)



① 从左数起,第()个是 .

② 从右数起,第()个和第()个是长方体。

③ 长方体有()个,正方体有()个,圆柱体有()个。

四、连一连。(10 分)

7 8 9 6

1 和 5 2 和 7 4 和 3 2 和 6

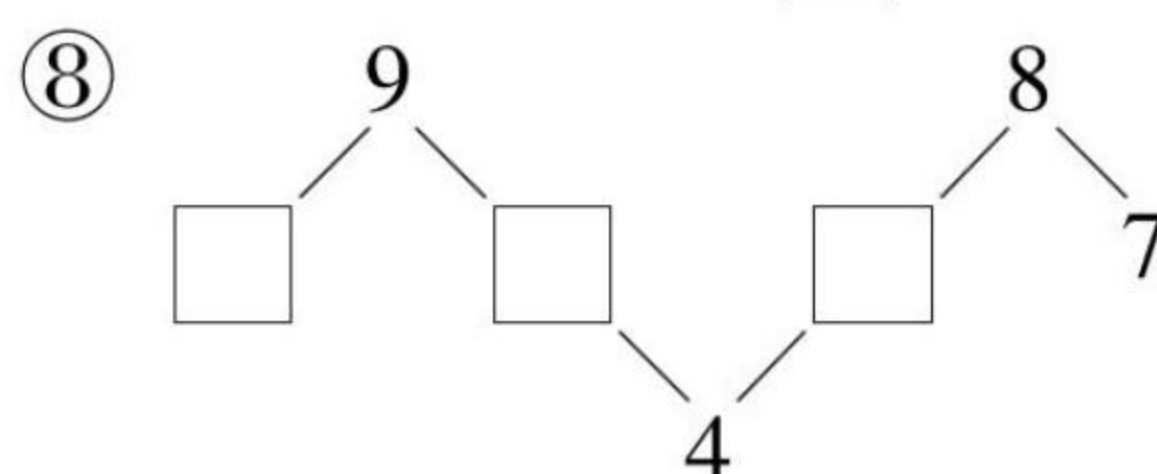
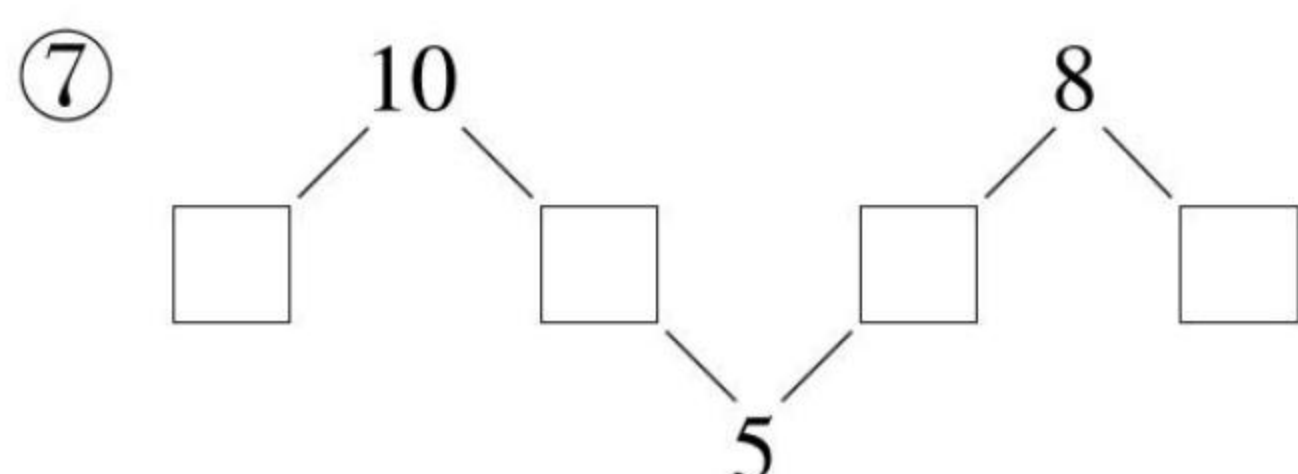
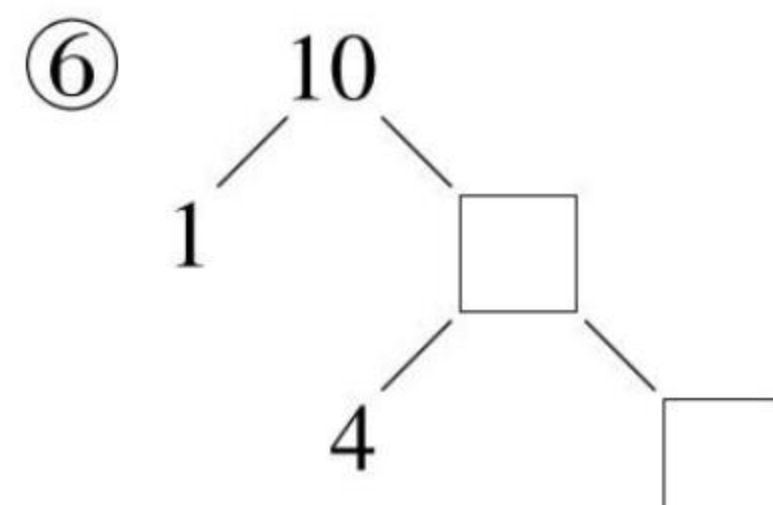
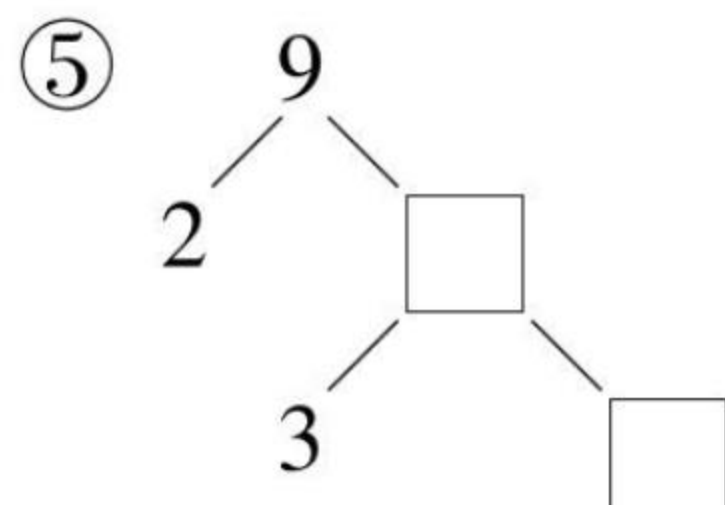
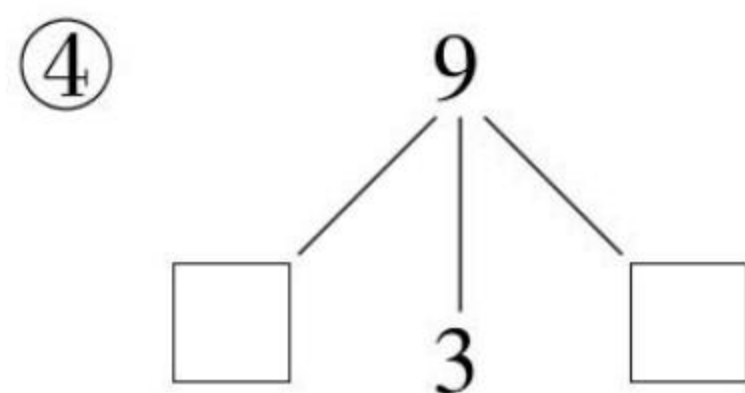
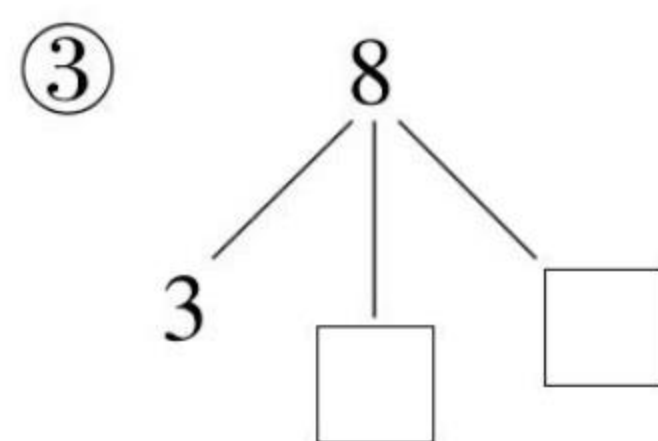
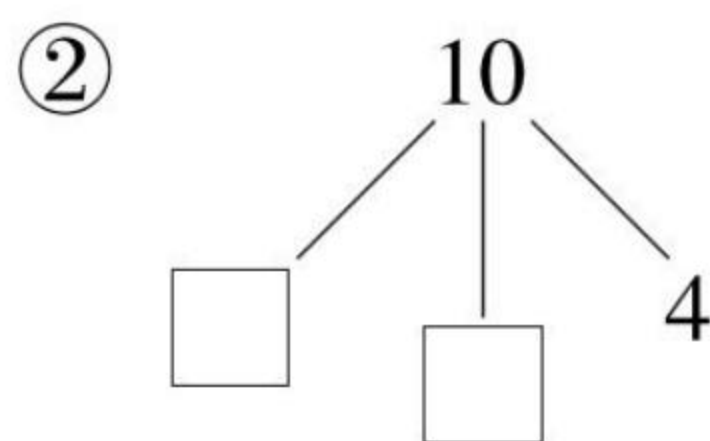
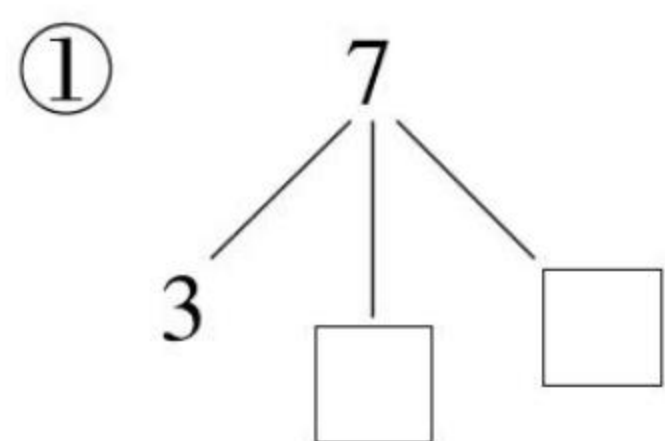
____月____日

星期____

用时____



五、想一想,在 里填数。(20 分)



六、猜数,在正确的 里画“√”。(18 分)

① 我和 4 能合成 9,我是几?

5 ☐

6 ☐

3 ☐

② 10 能分成 3 和我,我是几?

6 ☐

7 ☐

8 ☐

③ 我可以由两个相同的数合起来。我是几?

4 ☐

5 ☐

3 ☐

④ 两个相邻的数合起来是 7,我是较小的那个数,我是几?

3 ☐

5 ☐

4 ☐

七、在 里填上“>”“<”或“=”。(12 分)

① 9 10

④ 10 10

② 3 4

⑤ 0 10

③ 5 4

⑥ 7 8



我用了_____分钟
做对了_____题

加油★

赞★★★★

超赞★★★★★





360°提升您的运算能力

期中检测

爱上数学!

期中检测

(时间:90 分钟 满分:100 分)

一、直接写得数。(24 分)

① $8-4=$

⑨ $5-4=$

⑰ $3+5=$

② $4+2=$

⑩ $0+7=$

⑱ $6-3=$

③ $4-2=$

⑪ $3-2=$

⑲ $7-4=$

④ $6-6=$

⑫ $4-3=$

⑳ $10-6=$

⑤ $2+3=$

⑬ $4-0=$

㉑ $2-2=$

⑥ $7-3=$

⑭ $7+1=$

㉒ $3+2=$

⑦ $2+6=$

⑮ $5+5=$

㉓ $5+2=$


⑧ $2+7=$

⑯ $9-2=$

㉔ $4+2=$

二、填一填。(25 分)

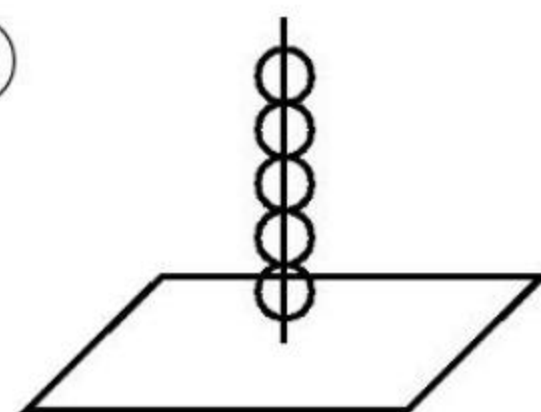
①



②



③



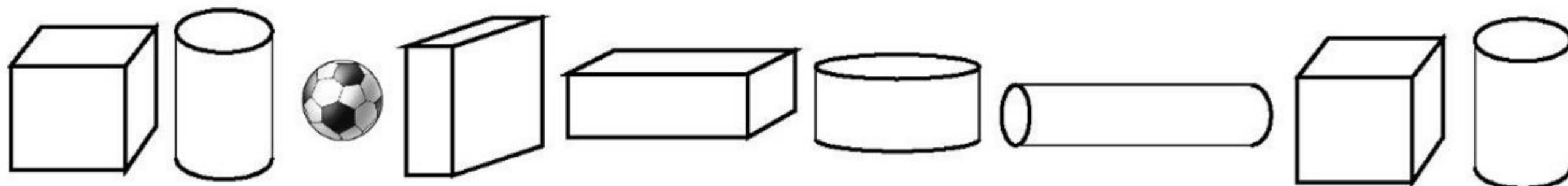
涂色的▲有()个,

有()根小棒

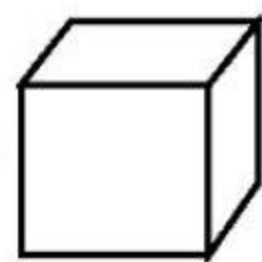
()颗珠子

没有涂色的△有()个

④



A. 一共有()个图形,其中有()



____月____日

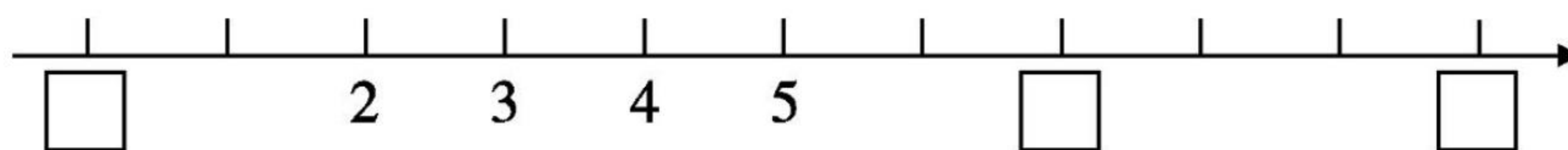
星期____

用时____

B.  的左边有()个图形,右边有()个图形。

C. 从右边数第()个和第()个是长方体。

⑤ 在 里填上合适的数。



A. 上面的数中最大的是(), 与 4 相邻的的数是()
和()。

B. 比 7 大比 10 小的数有()个。

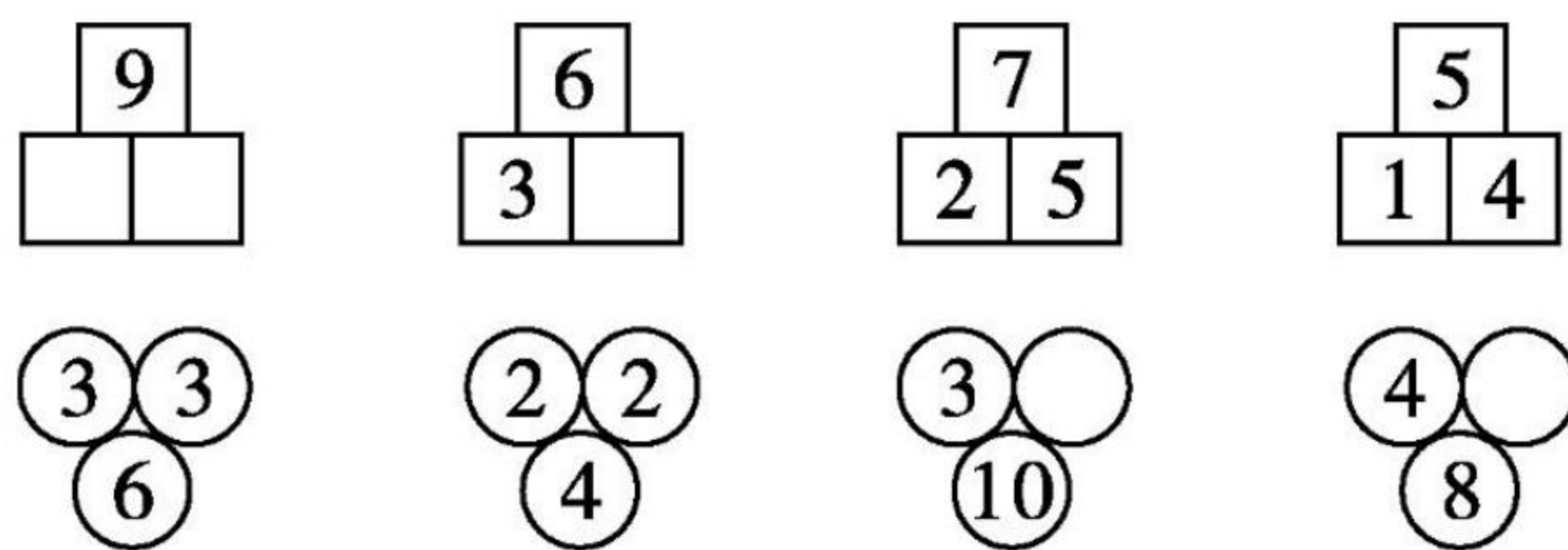
⑥ 在()里填上合适的数。

$$2 + () = 5 \quad 8 - () = 0 \quad () + 0 = 4$$

⑦ 在 \bigcirc 里填上“>”“<”或“=”。

$$9 \bigcirc 6 \quad 6 - 6 \bigcirc 5 \quad 5 + 3 \bigcirc 3 + 5$$

⑧ 找规律填数。





三、看图填一填。(12分)

(1) ☆ ☆ ☆ ☆ ☆ ☆ ☆

○ ○ ○ ○

△ △ △ △ △ △

① ☆比△多()个。

② ○比△少()个。

③ ○再添上()个就和☆一样多。

④ △再拿走()个就和○一样多。

(2)   

如果一次只能端两盘,那么一次最多能端走()个梨,最少能端走()个梨。

四、选一选。(12分)

① 下面的桃子每人分2个,4个人分够不够?

 够 ☐ 不够 ☐

② 下面哪个数最接近8?


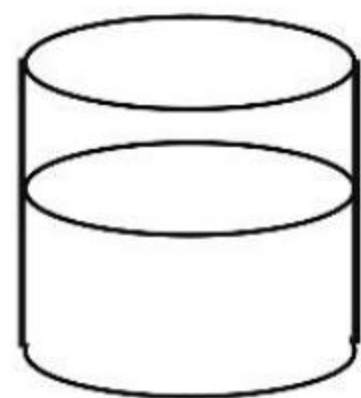

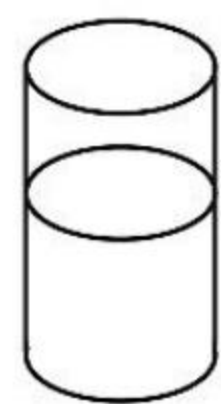
4 ☐ 6 ☐ 9 ☐

____月____日


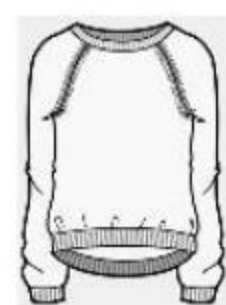
星期____

用时____

③ 下面哪个杯子中的水最多?



五、分一分。(7 分)



六、画一画。(10 分)

① 画○比△多2个。

△ △ △ △

② 画☆比□少3个。

□ □ □ □ □ □ □ □

七、连一连,哪两个数合起来是10?(10 分)

4 7 8 5 1

3 2 6 9 5



我用了_____分钟
做对了_____题

加油★

赞★★★★

超赞★★★★★





知识点 1: 5 以内的加减法



课堂练

一、照样子填一填,画一画。

$2+2=4$

○○ ○○

① $3+2=(\quad)$

② $4+1=(\quad)$

③ $1+3=(\quad)$

$5-3=2$

○○○○○

④ $4-3=(\quad)$

⑤ $5-4=(\quad)$

⑥ $5-2=(\quad)$

二、连一连。

$2+1$

3

$3+2$

$1+2$

4

$1+4$

$3+1$

5

$2+3$

$2+2$

$1+3$

三、算一算。

① $2+3=$

④ $4-3=$

⑦ $5-2=$

② $4+1=$

⑤ $2-1=$

⑧ $5-1=$

③ $5-3=$

⑥ $4-2=$

⑨ $2+1=$

____月 ____日

星期 ____

用时 ____



课后练

一、连一连。

$1+2$

$4-2$

$5-1$

$1+4$

$3+2$

$1+3$

1

2

3

4

5

$2+3$

$5-4$

$5-2$

$2+2$

$3-2$

$3-1$

二、在 ○ 里填上“>”“<”或“=”。

① $3+2$ ○ 4

⑤ 4 ○ $1+4$

② 5 ○ $3+2$

⑥ 3 ○ $1+1$

③ $2+1$ ○ 3

⑦ 5 ○ $1+3$

④ $2+2$ ○ 4

⑧ 2 ○ $4-2$

三、计算。

① $5-4=$

⑧ $3-2=$

② $5-3=$

⑨ $3-1=$

③ $5-2=$

⑩ $3+2=$

④ $5-1=$

⑪ $2+3=$

⑤ $4-3=$

⑫ $4+1=$

⑥ $4-2=$

⑬ $2+2=$

⑦ $4-1=$

⑭ $2+1=$



我用了_____分钟
做对了_____题

加油 ★

赞 ★★★

超赞★★★★★





知识点 2: 6、7、0 的加减法



课堂练

一、看图写算式。

① ○○○○~~○~~

$5 - \square = \square$

② ○○○~~○~~~~○~~

$\square - \square = \square$

③ ○○~~○~~~~○~~~~○~~

$\square - \square = \square$

④ ○~~○~~~~○~~~~○~~~~○~~

$\square - \square = \square$

⑤ ~~○~~~~○~~~~○~~~~○~~~~○~~

$\square - \square = \square$

二、在 \square 里填上适当的数。

① $3 + \square = 7$

⑥ $7 - \square = 5$

② $\square + 3 = 6$

⑦ $6 - \square = 3$

③ $\square + 2 = 7$

⑧ $\square - 4 = 2$

④ $\square + 1 = 6$

⑨ $\square - 7 = 0$

⑤ $\square + 6 = 6$

⑩ $5 - \square = 5$

三、计算。

① $2 + 5 =$

⑥ $2 + 4 =$

② $3 + 6 =$

⑦ $6 + 0 =$

③ $4 + 3 =$

⑧ $7 - 7 =$

④ $7 - 2 =$

⑨ $5 - 0 =$

⑤ $6 - 4 =$

⑩ $5 - 4 =$

____月____日

星期____

用时____



课后练

一、在 ○ 里填上“+”或“-”。

① $1 \bigcirc 5 = 6$

⑥ $5 \bigcirc 2 = 7$

② $5 \bigcirc 5 = 0$

⑦ $4 \bigcirc 2 = 6$

③ $5 \bigcirc 0 = 5$

⑧ $6 \bigcirc 3 = 3$

④ $6 \bigcirc 2 = 4$

⑨ $7 \bigcirc 1 = 6$

⑤ $3 \bigcirc 4 = 7$

⑩ $6 \bigcirc 0 = 6$

二、连一连。

6+0

6

2+4

2+5

3+4

6+1

7

5+1

3+3

1+6

三、在 ○ 里填上“>”“<”或“=”。

① $6-5 \bigcirc 3+1$

⑦ $3+1 \bigcirc 2+2$

② $6+1 \bigcirc 7+0$

⑧ $6-4 \bigcirc 5-1$

③ $4+2 \bigcirc 1+5$

⑨ $7-6 \bigcirc 2-0$

④ $3+3 \bigcirc 7-2$

⑩ $5+0 \bigcirc 7-1$

⑤ $4-4 \bigcirc 6-6$

⑪ $6-4 \bigcirc 4+0$

⑥ $6-4 \bigcirc 7-4$

⑫ $2+5 \bigcirc 5+2$



我用了____分钟
做对了____题

加油★

赞★★★

超赞★★★★★





知识点 3:8 的加减法



课堂练

一、看图列算式。

① $\triangle \triangle \triangle \triangle \triangle$

$\triangle \triangle \triangle$

$\square + \square = \square$

$\square - \square = \square$

$\square + \square = \square$

$\square - \square = \square$

② $\bigcirc \bigcirc \bigcirc \bigcirc \bigcirc \bigcirc$

$\bigcirc \bigcirc$

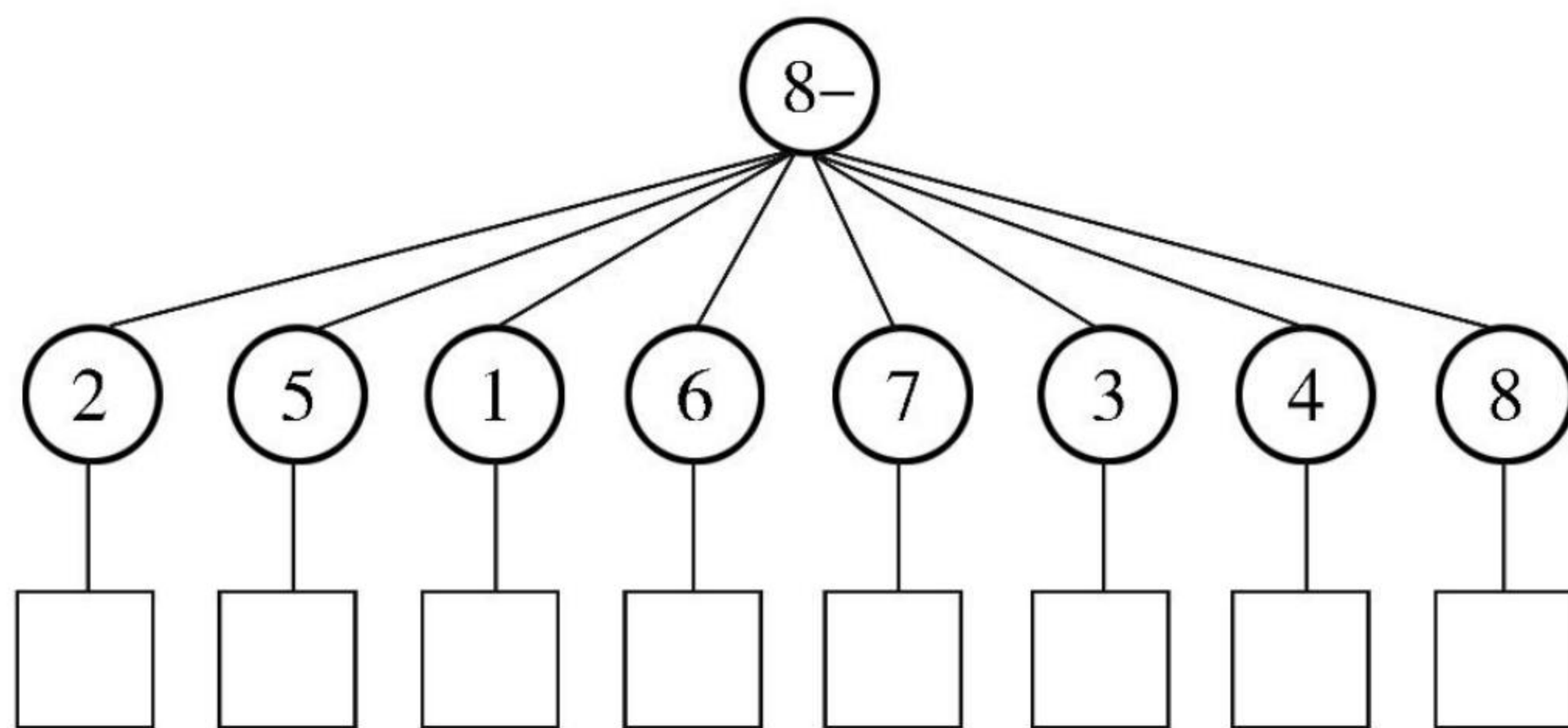
$\square + \square = \square$

$\square - \square = \square$

$\square + \square = \square$

$\square - \square = \square$

二、直接写得数。



三、计算。

① $1+7=$

⑦ $8-1=$

② $8-6=$

⑧ $8-4=$

③ $3+5=$

⑨ $4+4=$

④ $2+6=$

⑩ $8-2=$

⑤ $8-7=$

⑪ $5+3=$

⑥ $7+1=$

⑫ $8-5=$

____月____日

星期____

用时____

课后练

一、在○里填上“>”“<”或“=”。

① $3+4$ ○ 8

② $8-6$ ○ 5

③ $8-8$ ○ $4-4$

④ $8-1$ ○ $3+3$

⑤ $3+5$ ○ $6+2$

⑥ $7+1$ ○ $6+2$

⑦ $8-3$ ○ $3+4$

⑧ $8+0$ ○ $7-1$

⑨ $4+4$ ○ $7+1$

⑩ $3+2$ ○ $8-2$

二、在□里填上“+”或“-”。

① 3 □ $3=6$

② 8 □ $2=6$

③ 6 □ $4=2$

④ 3 □ $4=7$

⑤ 5 □ $2=7$

⑥ 2 □ $5=7$

三、在□里填上合适的数。

① □ $+5=8$

② □ $+3=8$

③ $8-$ □ $=5$

④ $8-$ □ $=3$

⑤ □ $+6=8$

⑥ □ $+2=8$

⑦ $8-$ □ $=6$

⑧ $8-$ □ $=2$

⑨ $7+$ □ $=8$

⑩ □ $+1=8$

⑪ $8-$ □ $=7$

⑫ $8-$ □ $=1$

⑬ $8+$ □ $=8$

⑭ $8-$ □ $=8$



我用了_____分钟
做对了_____题

加油★

赞★★★★

超赞★★★★★




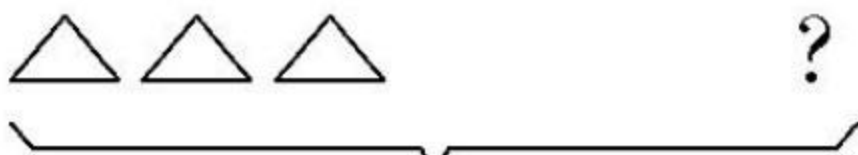



知识点4:解决问题


课堂练


一、看图列算式。


① 
 $\square \bigcirc \square = \square (\text{个})$

② 
 $\square \bigcirc \square = \square (\text{个})$


③ 
 $\square \bigcirc \square = \square (\text{个})$

④ 
 $\square \bigcirc \square = \square (\text{个})$



⑤ 
 $\square \bigcirc \square = \square (\text{个})$

⑥ 
 $\square \bigcirc \square = \square (\text{个})$

二、数一数。



 比  多()只,  比  少()只,

 再飞来()只就和  一样多。

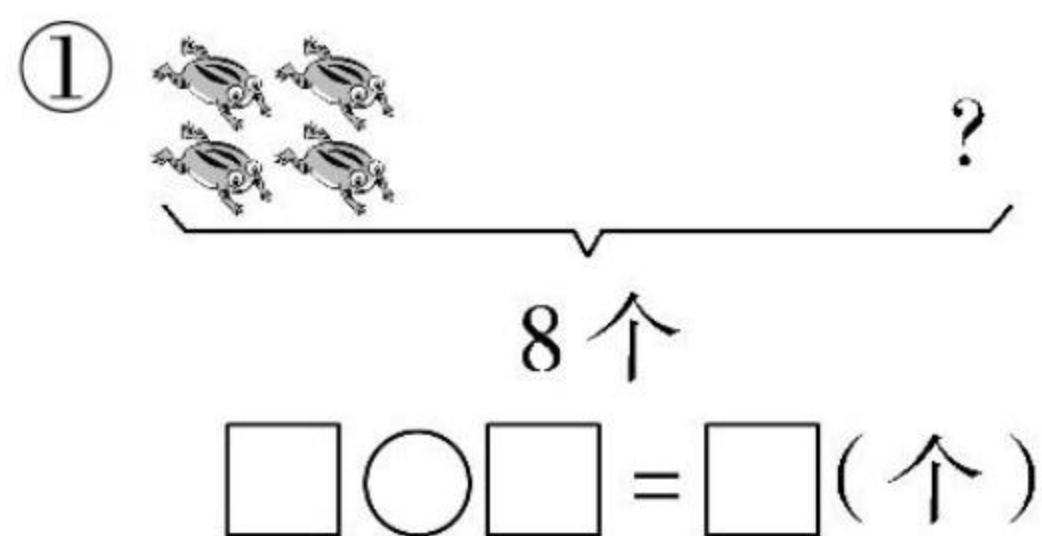
___月___日

星期___

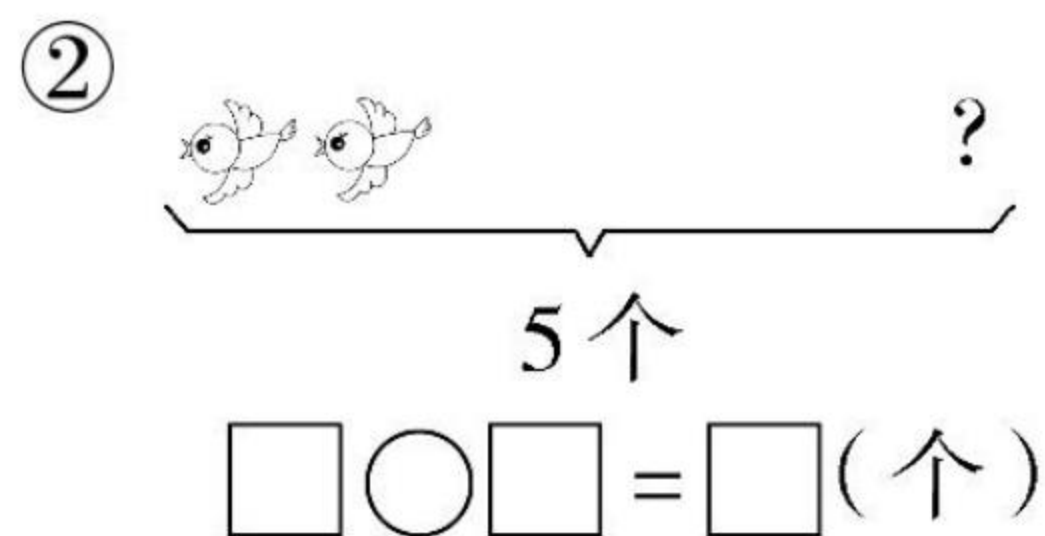
用时___

课后练

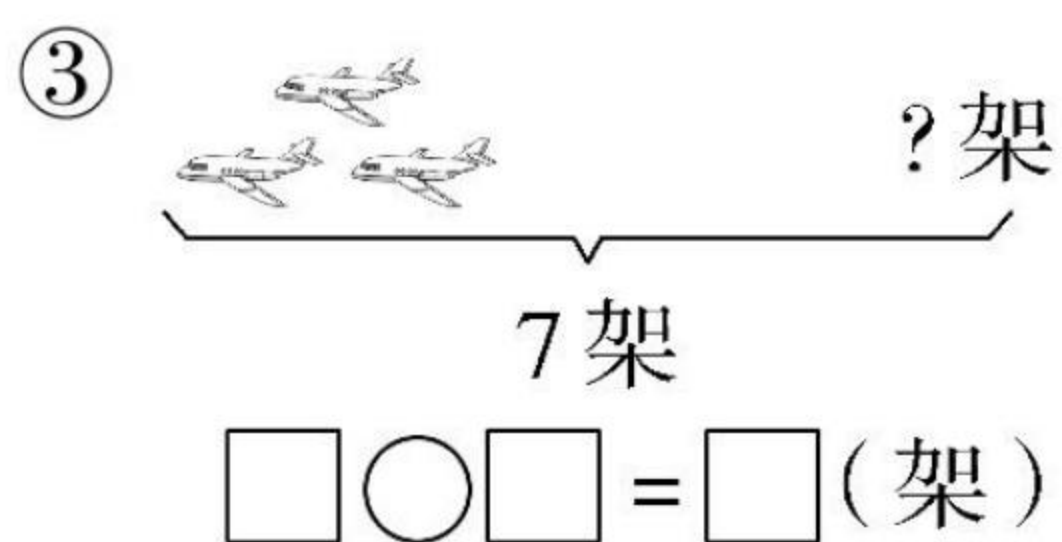
一、看图列算式。

① 

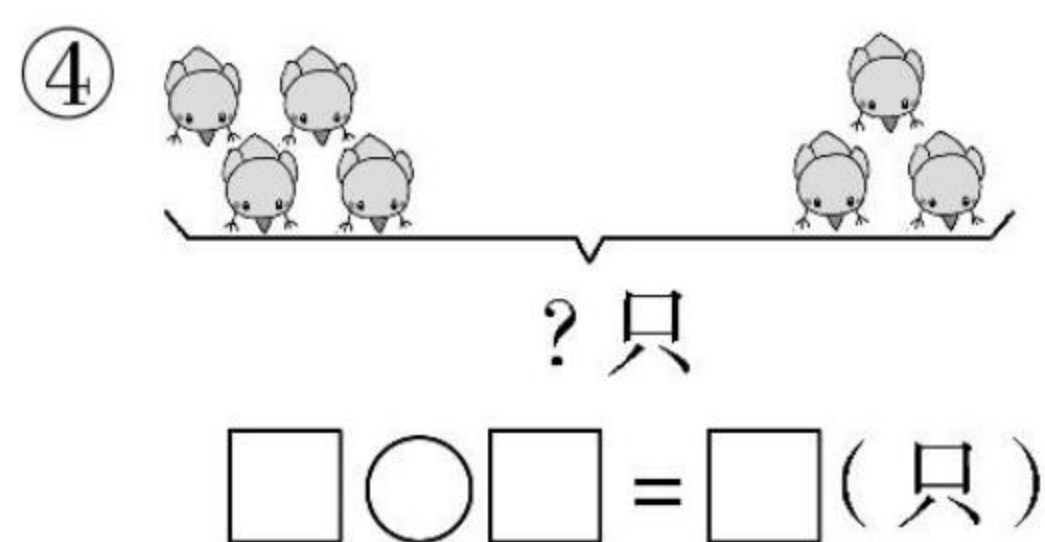
$$\square \bigcirc \square = \square (\text{个})$$

② 

$$\square \bigcirc \square = \square (\text{个})$$

③ 

$$\square \bigcirc \square = \square (\text{架})$$

④ 

$$\square \bigcirc \square = \square (\text{只})$$

二、计算。

① $3+0=$

⑩ $6+2=$

② $3-0=$

⑪ $8-1=$

③ $3+6=$

⑫ $7-7=$

④ $4-4=$

⑬ $8+0=$

⑤ $3-3=$

⑭ $5+3=$

⑥ $4+3=$

⑮ $2+1=$

⑦ $2+5=$

⑯ $1+1=$

⑧ $7-4=$

⑰ $1+0=$

⑨ $8-5=$

⑱ $4+4=$



我用了_____分钟
做对了_____题

加油★

赞★★★★

超赞★★★★★





360°提升您的运算能力

第八单元 10 以内的加法和减法

爱上数学!

知识点 5: 9、10 的加减法



课堂练

一、计算。

① $3+6=$

② $6+3=$

③ $9-6=$

④ $9-3=$

⑤ $4+5=$

⑥ $5+4=$

⑦ $9-5=$

⑧ $9-4=$

⑨ $2+7=$

⑩ $7+2=$

⑪ $9-7=$

⑫ $9-2=$

⑬ $1+8=$

⑭ $8+1=$

⑮ $9-1=$

⑯ $9-8=$

二、比一比, 算一算。

① $6+\begin{cases} 4=\square \\ 3=\square \\ 2=\square \\ 1=\square \end{cases}$

$10-\begin{cases} 3=\square \\ 5=\square \\ 6=\square \\ 9=\square \end{cases}$

$5+\begin{cases} 2=\square \\ 3=\square \end{cases}$

$9-\begin{cases} 4=\square \\ 1=\square \end{cases}$

$2=\square$

$4=\square$

$1=\square$

$3=\square$

$5=\square$

$9=\square$

$4=\square$

$1=\square$

② $9-\begin{cases} 2=\square \\ 4=\square \\ 1=\square \\ 3=\square \end{cases}$

$5+\begin{cases} 5=\square \\ 4=\square \\ 2=\square \\ 3=\square \end{cases}$

$9-\begin{cases} 5=\square \\ 4=\square \\ 1=\square \\ 3=\square \end{cases}$

$2=\square$

$4=\square$

$1=\square$

$3=\square$

$5=\square$

$9=\square$

$4=\square$

$1=\square$

$3=\square$

____月____日

星期____

用时____



49

课后练

一、在○里填上“>”“<”或“=”。

① $10-6$ ○ $9+1$

⑥ $9-4$ ○ 6

② $8-3$ ○ $5+2$

⑦ $9-5$ ○ 7

③ $6+4$ ○ $4+6$

⑧ $7+2$ ○ 8

④ $5+5$ ○ $9-4$

⑨ $9-3$ ○ 5

⑤ $9-2$ ○ $7+1$

⑩ $8-0$ ○ 9

二、连一连。

$8-2$

$9-8$

$9-2$

$8-5$

$10-3$

$10-5$

1

2

3

4

5

6

7

$9-4$

$8-4$

$9-6$

$9-7$

$10-7$

$10-4$

三、计算。

① $3+6=$

⑦ $9-2=$

② $10-3=$

⑧ $4+6=$

③ $4+5=$

⑨ $7+2=$

④ $10-4=$

⑩ $10-9=$

⑤ $3+7=$

⑪ $10-10=$

⑥ $10-5=$

⑫ $9-0=$



我用了_____分钟
做对了_____题

加油★

赞★★★★

超赞★★★★★





360°提升您的运算能力

第八单元 10 以内的加法和减法

爱上数学!

知识点 6: 求未知加数的方法



课堂练

一、想一想,填一填。

① $4 + () = 10$

② $() + 5 = 10$

③ $7 + () = 10$

④ $9 + () = 10$

⑤ $2 + () = 10$

⑥ $() + 3 = 7$

⑦ $() + 9 = 10$

⑧ $4 + () = 9$

⑨ $7 + () = 9$

⑩ $() + 6 = 10$

二、填上合适的数。

①

1
3
5
7
9

+

=10

②

2
4
6
8
0

+

=9

③

10
9
7
8
6

-

=5

④

6
7
10
4
8

-

=4

____月____日

星期____

用时____



课后练

一、连一连。

5

7

1

4

$5 + () = 6$

$3 + () = 8$

$() + 3 = 10$

$() + 4 = 8$

二、想一想,填一填。

① $4 + () = 10$

⑥ $7 + () = 10$

② $6 + () = 9$

⑦ $8 + () = 8$

③ $() + 5 = 8$

⑧ $8 + () = 9$

④ $() + 3 = 8$

⑨ $() + 3 = 10$

⑤ $4 + () = 9$

⑩ $() + 1 = 10$

三、在○里填上“>”“<”或“=”。

① $9 \bigcirc 7$

⑦ $3 + 6 \bigcirc 2 + 8$

② $4 + 5 \bigcirc 7$

⑧ $9 - 7 \bigcirc 8 - 1$

③ $5 \bigcirc 6$

⑨ $10 - 5 \bigcirc 3 + 4$

④ $9 - 4 \bigcirc 6$

⑩ $6 + 3 \bigcirc 10 - 1$

⑤ $3 + 7 \bigcirc 10$

⑪ $10 + 0 \bigcirc 10 - 0$

⑥ $9 - 3 \bigcirc 5$

⑫ $3 + 3 \bigcirc 5 + 1$



我用了_____分钟
做对了_____题

加油★

赞★★★★

超赞★★★★★





知识点 7: 连加连减的计算方法

课堂练

一、填一填。

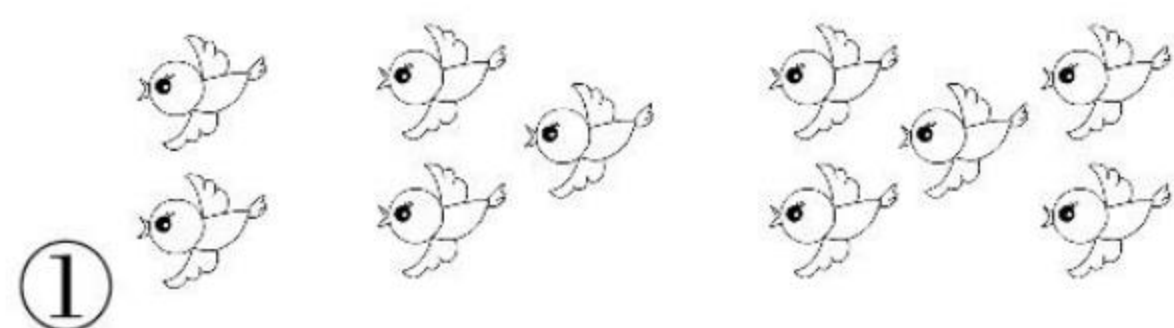
$$\textcircled{1} \quad \begin{array}{c} 2 + 1 + 7 = \square \\ \hline \square \end{array}$$

$$\textcircled{2} \quad \begin{array}{c} 10 - 4 - 3 = \square \\ \hline \square \end{array}$$

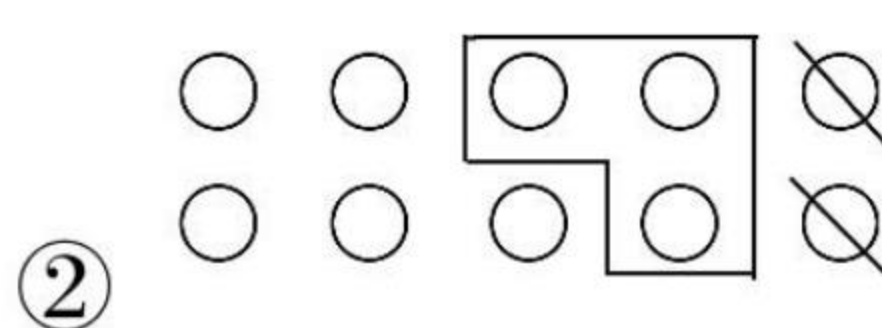
$$\textcircled{3} \quad \begin{array}{c} 4 + 3 + 2 = \square \\ \hline \square \end{array}$$

$$\textcircled{4} \quad \begin{array}{c} 9 - 3 - 2 = \square \\ \hline \square \end{array}$$

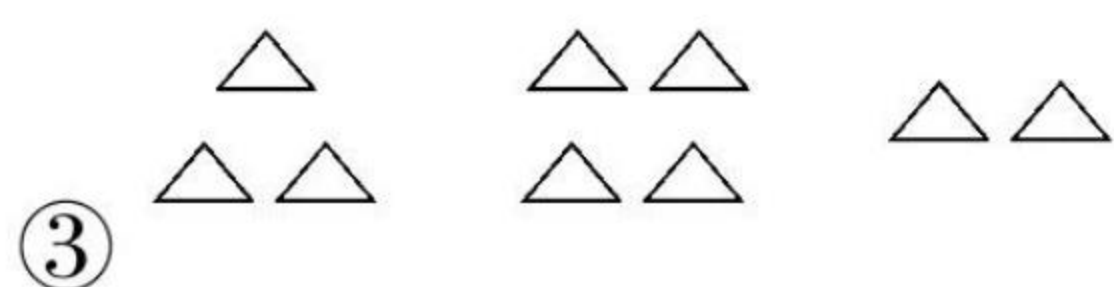
二、看图列式计算。




$$2 + \square + \square = \square$$



$$10 - \square - \square = \square$$



$$\square + \square + \square = \square$$



$$9 - \square - \square = \square$$

三、计算。

$$\textcircled{1} \quad 9 - 3 - 4 =$$

$$\textcircled{4} \quad 9 + 0 + 1 =$$

$$\textcircled{2} \quad 4 + 2 + 3 =$$

$$\textcircled{5} \quad 1 + 2 + 6 =$$

$$\textcircled{3} \quad 10 - 4 - 2 =$$

$$\textcircled{6} \quad 10 - 3 - 7 =$$

____月____日

星期____

用时____

课后练

一、算一算。

① $5+1+2=$

② $6-3-3=$

③ $2+4+2=$

④ $10-5-3=$

⑤ $3+5+2=$

⑥ $8-2-3=$

⑦ $3+4+2=$

⑧ $2+3+4=$

⑨ $10-2-5=$

⑩ $9-4-2=$

⑪ $8-3-1=$

⑫ $4+2+1=$

⑬ $3+3+2=$

⑭ $7-4-3=$

⑮ $6-1-5=$

⑯ $5+2+3=$

⑰ $1+1+1=$

⑱ $5+4+0=$

⑲ $3+7-10=$

⑳ $7-7-0=$

二、在 ○ 里填上“>”“<”或“=”。

① $3+4+2$ ○ $10-1$

② $10-5-3$ ○ $2+1$

③ $6-3-2$ ○ $5-4$

④ $10-5-0$ ○ $2+3$

⑤ $10-3-2$ ○ $10-5$

⑥ $7-3-4$ ○ 1

⑦ $10-5-0$ ○ 6

⑧ $2+7+1$ ○ $5+5$

⑨ $3+4+2$ ○ $6+3$

⑩ $8-4-4$ ○ 3



我用了_____分钟
做对了_____题

加油 ★

赞 ★★★

超赞★★★★★





360°提升您的运算能力

第八单元 10 以内的加法和减法

爱上数学!

知识点 8: 10 以内的加减混合



课堂练

一、在方框里填上合适的数。

① $8 - 3 + 2 = \square$

② $2 + 5 - 3 = \square$

③ $10 - 7 + 2 = \square$

④ $5 + 4 - 3 = \square$

⑤ $8 - 0 + 2 = \square$

⑥ $6 + 4 - 10 = \square$

二、算一算。

① $8 - 3 + 2 =$

⑨ $2 + 6 + 2 =$

② $1 + 7 - 5 =$

⑩ $7 - 2 + 4 =$

③ $6 + 3 - 8 =$

⑪ $10 - 1 - 4 =$

④ $5 - 2 + 6 =$

⑫ $8 + 2 - 6 =$

⑤ $7 - 3 + 3 =$

⑬ $2 + 3 + 4 =$

⑥ $10 - 4 + 1 =$

⑭ $5 + 4 - 2 =$

⑦ $8 + 1 - 7 =$

⑮ $10 - 5 - 4 =$

⑧ $4 + 5 - 6 =$

⑯ $10 - 0 - 8 =$

____月____日

星期____

用时____



课后练

一、连一连。

$3+2+4$

$4-1+5$

$3+3-3$

3

9

8

$5+2+2$

$9-6-0$

$10-5+3$

二、在 \square 里填上正确的数。

$① 7 \xrightarrow{-6} \square \xrightarrow{+4} \square$

$④ 6 \xrightarrow{+4} \square \xrightarrow{-3} \square$

$② 8 \xrightarrow{-6} \square \xrightarrow{+4} \square$

$⑤ 3 \xrightarrow{+4} \square \xrightarrow{-3} \square$

$③ 9 \xrightarrow{-6} \square \xrightarrow{+4} \square$

$⑥ 4 \xrightarrow{+4} \square \xrightarrow{-3} \square$

三、把横行、竖行的数分别相加。

$① \begin{array}{|c|c|c|} \hline & 2 & \\ \hline 1 & 3 & 5 \\ \hline & 4 & \\ \hline \end{array} \begin{array}{l} () \\ () \end{array}$

$② \begin{array}{|c|c|c|} \hline 3 & 2 & 4 \\ \hline 5 & 2 & 1 \\ \hline 2 & 4 & 3 \\ \hline \end{array} \begin{array}{l} () \\ () \\ () \\ () \end{array}$

四、算一算。

$① 10-3-5=$

$③ 3+7-7=$

$② 9+1-6=$

$④ 5+5-10=$



我用了_____分钟
做对了_____题

加油★ 赞★★★★ 超赞★★★★★





360°提升您的运算能力

第八单元 10 以内的加法和减法

爱上数学!


第八单元 单元检测

(时间:45 分钟 满分:100 分)


一、看图列式计算。(20 分)




$$\square - \square = \square$$



$$\square + \square = \square$$



$$\square - \square - \square = \square$$



$$\square + \square + \square = \square$$

二、算一算。(24 分)

① $1+2=$

⑫ $3+4+3=$

② $4-1=$

⑬ $10-5-4=$

③ $3+1=$

⑭ $8+2-7=$

④ $5-5=$

⑮ $6+4-6=$

⑤ $5+0=$

⑯ $3+3-3=$

⑥ $5-0=$

⑰ $6-6+6=$

⑦ $6+3=$

⑱ $2+7+1=$

⑧ $10-7=$

⑲ $5-5+6=$

⑨ $10-5=$

⑳ $2+5+2=$

⑩ $8-7=$

㉑ $10-6+3=$

⑪ $7-4=$

㉒ $9-3-2=$

____月____日

星期____

用时____



三、在 ○ 里填上“>”“<”或“=”。(12 分)

① $7-2$ ○ $3-2$

④ $3+1$ ○ $6-3$

② $5+0$ ○ $4+1$

⑤ $4-4$ ○ $2+1$

③ $2+2$ ○ $4+0$

⑥ $8-3$ ○ $7+2$

四、在 □ 里填上合适的数。(20 分)

① $6 + \square = 10$

⑥ $\square + 8 = 9$

② $\square + 2 = 10$

⑦ $\square + 7 = 7$

③ $\square + 5 = 10$

⑧ $8 + \square = 8$

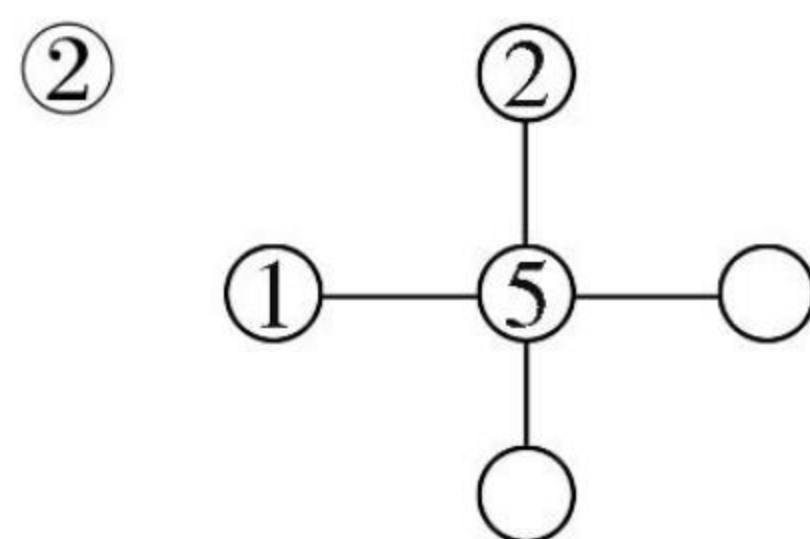
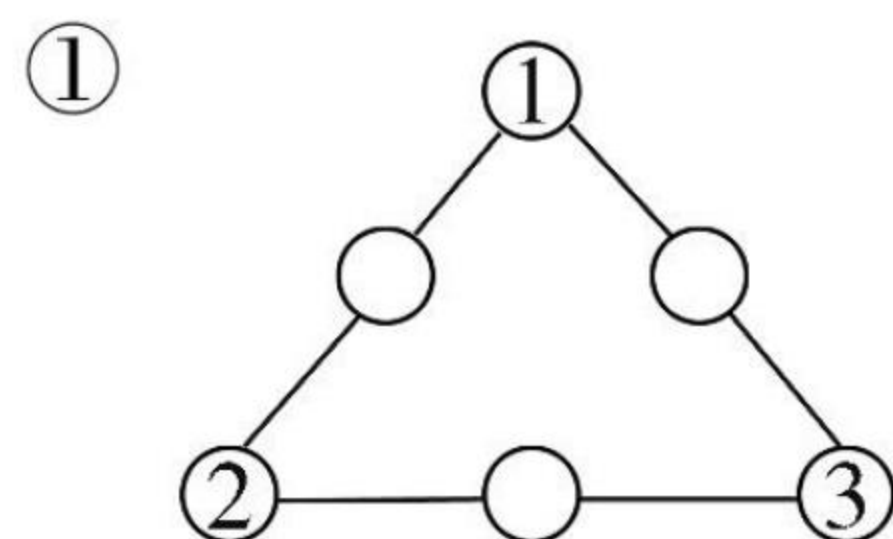
④ $3 + \square = 6$

⑨ $6 + \square = 8$

⑤ $7 + \square = 10$

⑩ $3 + \square = 7$

五、在 ○ 里填数,使每条线上三个数连加都等于 10。(10 分)



六、连一连。(14 分)

$3+7$

$2+3$

$1+3$

$1+2$

3

10

5

4

$10-6$

$10-7$

$5+5$

$6-1$



我用了____分钟
做对了____题

加油 ★

赞 ★★★

超赞★★★★★





知识点 1: 认识数位及 11~20 的各数



课堂练

一、按顺序填一填。

①	20			17			14			11
---	----	--	--	----	--	--	----	--	--	----

②	10			13		15			18
---	----	--	--	----	--	----	--	--	----

二、按规律填一填。

① 1、3、5、()、()、()、()、()、()

② 2、4、6、()、()、()、()、()、()

③ 20、19、18、()、()、()、14

④ 1、12、2、13、3、14、()、()

三、填空。

① 12 里面有()个十和()个一。

② 5 个一和 1 个十合起来是()。

③ 10 里面有()个十。

④ 一个两位数最高位是()位。

⑤ 个位是 8, 十位上是 1 的数是()。

⑥ 35 的个位上是(), 表示()个(), 十位上是(), 表示()个()。

⑦ 从右边起, 第一位是()位, 第二位是()位。

⑧ 由 6 个一和 1 个十组成的数是()。

___月___日

星期___

用时___

课后练

一、读一读。

① 17 读作：_____

⑤ 16 读作：_____

② 20 读作：_____

⑥ 19 读作：_____

③ 14 读作：_____

⑦ 11 读作：_____

④ 13 读作：_____

⑧ 12 读作：_____

二、写一写。

① 十九 写作：_____

④ 十六 写作：_____

② 十一 写作：_____

⑤ 十五 写作：_____

③ 十 写作：_____

⑥ 二十 写作：_____

三、看图写数,看数画算珠。

①	②	③	④
()	()	1 2	2 0
⑤	⑥	⑦	⑧
()	()	1 9	1 5



我用了_____分钟
做对了_____题

加油★

赞★★★★

超赞★★★★★





360°提升您的运算能力

第九单元 认识 11~20 各数

爱上数学!

知识点 2: 10 加几及相应的减法



课堂练

一、看图写算式。

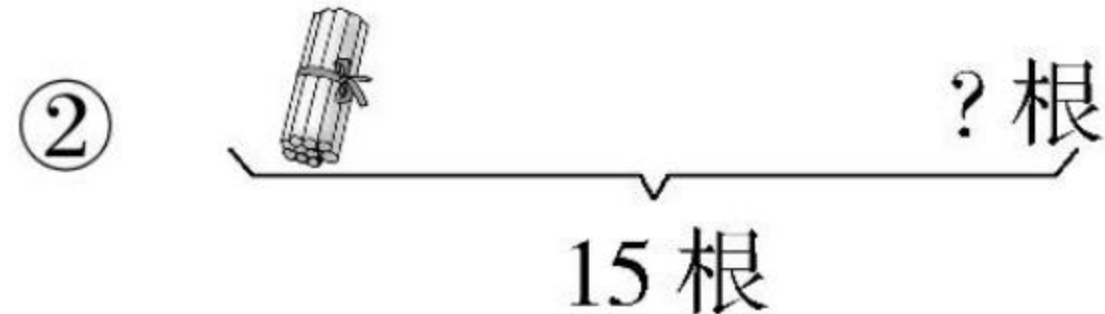


$$\square \bigcirc \square = \square \text{ (根)}$$

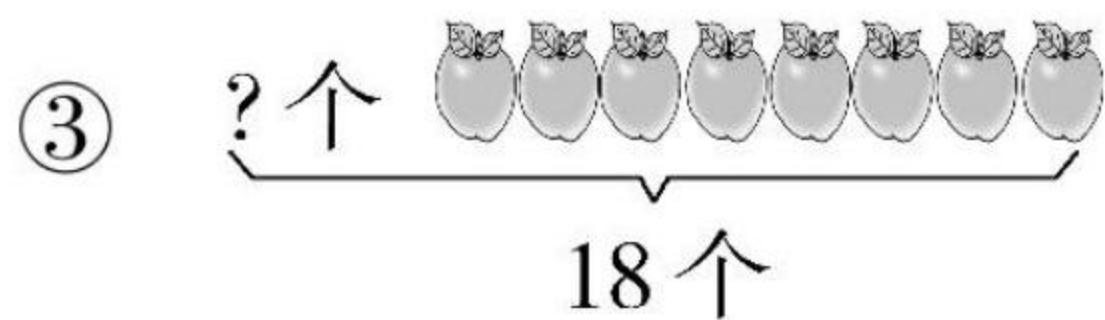
$$\square \bigcirc \square = \square \text{ (根)}$$

$$\square \bigcirc \square = \square \text{ (根)}$$

$$\square \bigcirc \square = \square \text{ (根)}$$



$$\square \bigcirc \square = \square \text{ (根)}$$



$$\square \bigcirc \square = \square \text{ (个)}$$

二、看谁算得又对又快。

① $13 - 10 =$

② $14 - 10 =$

③ $15 - 10 =$

④ $13 - 3 =$

⑤ $14 - 4 =$

⑥ $15 - 5 =$

⑦ $15 - 15 =$

⑧ $6 + 9 =$

⑨ $10 + 5 =$

⑩ $10 + 8 =$

⑪ $10 + 9 =$

⑫ $18 - 8 =$

⑬ $17 - 7 =$

⑭ $18 - 10 =$

⑮ $10 + 3 =$

⑯ $16 - 10 =$

⑰ $16 - 6 =$

⑱ $10 + 1 =$

⑲ $10 + 4 =$

⑳ $14 - 4 =$

____月____日

星期____

用时____



课后练

一、在 ○ 里填上“>”“<”或“=”。

① $9 \bigcirc 10+1$

⑥ $5+10 \bigcirc 10+5$

② $10+6 \bigcirc 15$

⑦ $13 \bigcirc 10+8$

③ $10+5 \bigcirc 15$

⑧ $13-3 \bigcirc 12$

④ $17-7 \bigcirc 9$

⑨ $18-8 \bigcirc 8+3$

⑤ $20 \bigcirc 10+6$

⑩ $17-7 \bigcirc 8+4$

二、看谁算得又对又快。

① $10+4=$

⑪ $17-10=$

② $10+7=$

⑫ $17-7=$

③ $10+9=$

⑬ $19-9=$

④ $10+5=$

⑭ $19-10=$

⑤ $10+1=$

⑮ $16-10=$

⑥ $10+2=$

⑯ $16-6=$

⑦ $10+8=$

⑰ $14-4=$

⑧ $7+10=$

⑱ $14-10=$

⑨ $6+10=$

⑲ $18-10=$

⑩ $9+10=$

⑳ $18-8=$



我用了_____分钟
做对了_____题

加油 ★ 赞 ★★★ 超赞★★★★★





360°提升您的运算能力

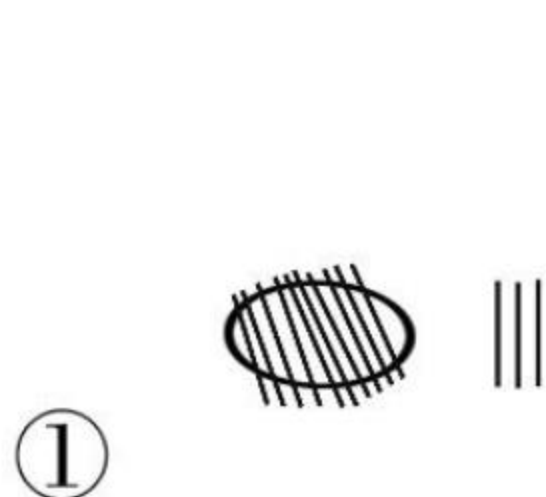
第九单元 认识 11~20 各数

爱上数学!

第九单元 单元检测

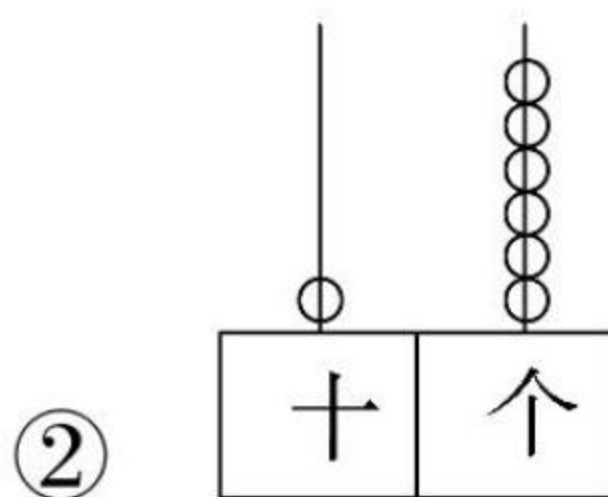
(时间:45 分钟 满分:100 分)

一、看图写数、读数。(10 分)



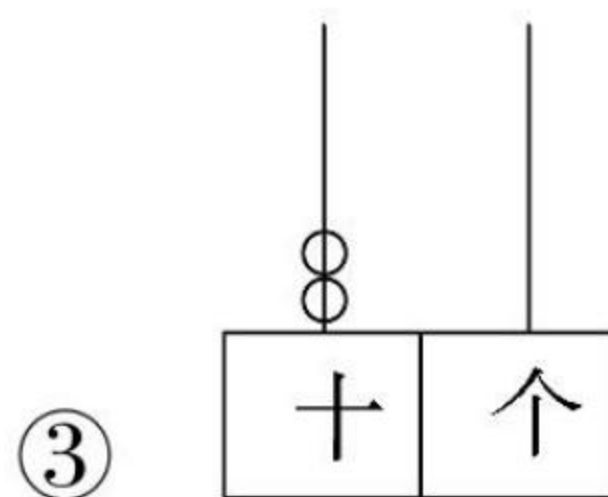
写作:_____

读作:_____



写作:_____

读作:_____



写作:_____

读作:_____

二、填一填。(40 分)

① 1 个十和 8 个一合起来是()。

② 个位上是 5,十位是 1,这个数是()。

③ ()个十和()个一合起来是 17。

④ 和 19 相邻的两个数是()和()。

⑤ 19 里面有()十和()个一。

⑥ 写出下面各数。

十六	二十	十八	十一
()	()	()	()

⑦ 按顺序填数。

	19		17	16	
--	----	--	----	----	--

	12	13		15	
--	----	----	--	----	--

____月____日

星期____

用时____



三、在 ○ 里填上“>”“<”或“=”。(12 分)

① $17-7$ ○ $11+4$

④ $17-5$ ○ $19-5$

② $12+3$ ○ $11-1$

⑤ $10+6$ ○ $8+8$

③ $18-8$ ○ $19-9$

⑥ $9+10$ ○ $19-9$

四、计算。(28 分)

① $8+2+3=$

⑧ $3+7+7=$

② $10-7+6=$

⑨ $18-10+2=$

③ $11-1-5=$

⑩ $15-10+4=$

④ $7+3-8=$

⑪ $12-2+6=$

⑤ $10+7-7=$

⑫ $10+5-5=$

⑥ $7+2+1=$

⑬ $1+9+6=$

⑦ $6+4+5=$

⑭ $2+8+4=$

五、解决问题。(10 分)

1. 丽丽要洗 14 个碗,已经洗好了 10 个,还有几个碗没有洗?

2. 妈妈买了 16 个苹果,还剩 6 个没有吃,已经吃了几个?



我用了_____分钟
做对了_____题

加油 ★

赞 ★★★

超赞★★★★★





知识点:20 以内的进位加法



课堂练

一、填一填。

$$\textcircled{1} \quad \begin{array}{c} 9 \\ | \\ \square \end{array} + \begin{array}{c} 5 \\ / \quad \backslash \\ \square \quad \square \end{array} = \square$$

$$\textcircled{2} \quad \begin{array}{c} 8 \\ | \\ \square \end{array} + \begin{array}{c} 7 \\ / \quad \backslash \\ \square \quad \square \end{array} = \square$$

$$\textcircled{3} \quad \begin{array}{c} 7 \\ | \\ \square \end{array} + \begin{array}{c} 6 \\ / \quad \backslash \\ \square \quad \square \end{array} = \square$$

$$\textcircled{4} \quad \begin{array}{c} 5 \\ | \\ \square \end{array} + \begin{array}{c} 9 \\ / \quad \backslash \\ \square \quad \square \end{array} = \square$$

$$\textcircled{5} \quad \begin{array}{c} 4 \\ | \\ \square \end{array} + \begin{array}{c} 8 \\ / \quad \backslash \\ \square \quad \square \end{array} = \square$$

$$\textcircled{6} \quad \begin{array}{c} 3 \\ / \quad \backslash \\ \square \quad \square \end{array} + \begin{array}{c} 9 \\ | \\ \square \end{array} = \square$$

二、计算。

① $7+8=$

⑨ $17-10=$

② $6+7=$

⑩ $16-6=$

③ $9+5=$

⑪ $8+6=$

④ $4+9=$

⑫ $9+3=$

⑤ $9+6=$

⑬ $8+4=$

⑥ $8+9=$

⑭ $2+9=$

⑦ $2+8=$

⑮ $9+9=$

⑧ $10+7=$

⑯ $8+8=$

____月____日

星期____

用时____

课后练

一、计算。

① $9 + \begin{cases} 2 = \square \\ 4 = \square \\ 6 = \square \\ 8 = \square \end{cases}$

② $8 + \begin{cases} 6 = \square \\ 7 = \square \\ 8 = \square \\ 9 = \square \end{cases}$

二、在 ○ 里填上“>”“<”或“=”。

① $6 + 4 \bigcirc 11$

⑥ $8 + 9 \bigcirc 16$

② $7 + 7 \bigcirc 13$

⑦ $6 + 7 \bigcirc 7 + 6$

③ $7 + 6 \bigcirc 14$

⑧ $2 + 9 \bigcirc 8 + 3$

④ $8 + 3 \bigcirc 13$

⑨ $15 - 5 \bigcirc 7 + 3$

⑤ $8 + 7 \bigcirc 15$

⑩ $19 - 10 \bigcirc 2 + 8$

三、计算。

① $8 + 4 =$

⑥ $8 + 8 =$

② $7 + 6 =$

⑦ $7 + 7 =$

③ $8 + 9 =$

⑧ $7 + 8 =$

④ $7 + 4 =$

⑨ $8 + 3 =$

⑤ $8 + 6 =$

⑩ $7 + 9 =$



我用了_____分钟
做对了_____题

加油★

赞★★★★

超赞★★★★★





360°提升您的运算能力

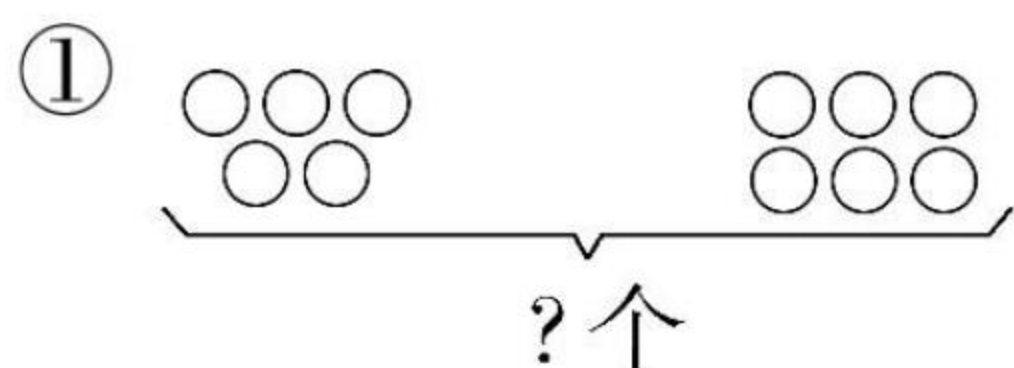
第十单元 20 以内的进位加法

爱上数学!

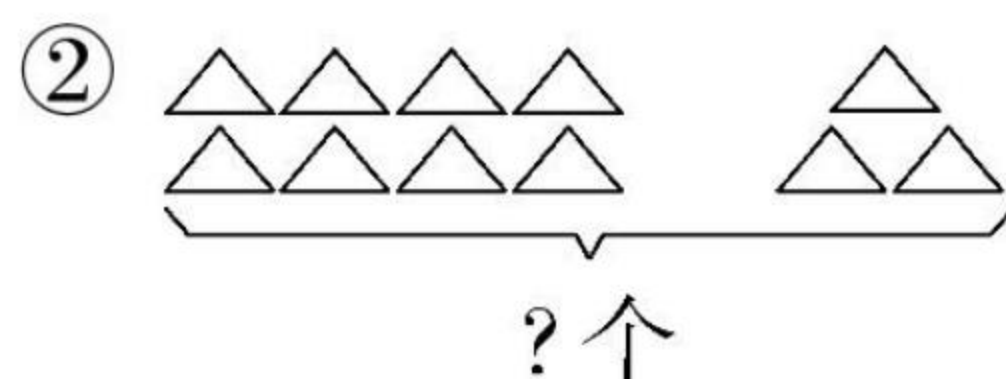
第十单元 单元检测

(时间:45 分钟 满分:100 分)

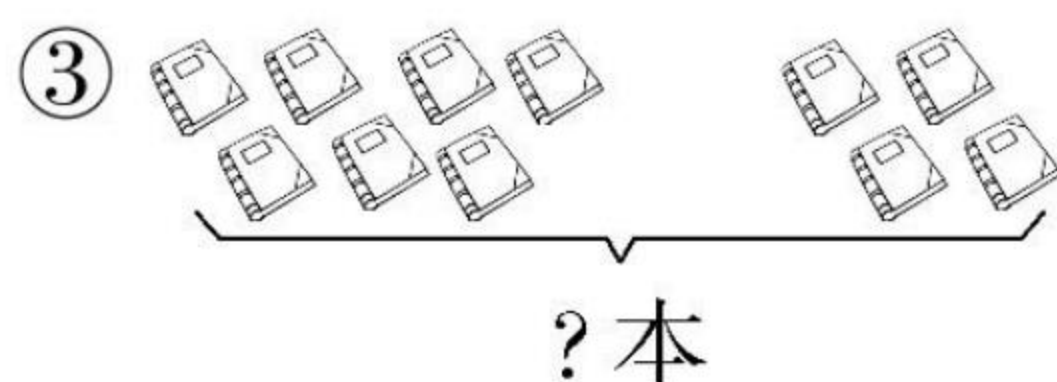
一、看图列式。(20 分)



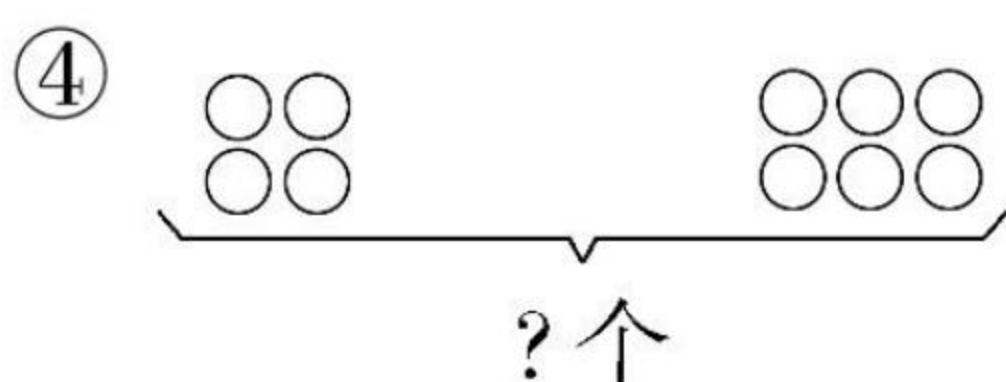
$$\square \bigcirc \square = \square (\text{个})$$



$$\square \bigcirc \square = \square (\text{个})$$



$$\square \bigcirc \square = \square (\text{本})$$



$$\square \bigcirc \square = \square (\text{个})$$

二、连一连。(12 分)

$$9+5$$

$$9+3$$

$$7+6$$

$$12$$

$$13$$

$$14$$

$$5+8$$

$$7+7$$

$$4+8$$

三、在 \bigcirc 里填上“>”“<”或“=”。(12 分)

① $3+9 \bigcirc 6+7$

④ $6+8 \bigcirc 7+8$

② $2+9 \bigcirc 2+8$

⑤ $8+3 \bigcirc 5+6$

③ $17-10 \bigcirc 2+9$

⑥ $19-9 \bigcirc 5+6$

____月____日

星期____

用时____



67

四、算一算。(40 分)

① $9+5=$

② $4+9=$

③ $8+4=$

④ $6+5=$

⑤ $3+7=$

⑥ $5+7=$

⑦ $8+7=$

⑧ $6+9=$

⑨ $7+7=$

⑩ $9+3=$

⑪ $6+3+2=$

⑫ $4+7+3=$

⑬ $10-3+6=$

⑭ $14+3-7=$

⑮ $10-8+9=$

⑯ $11+2-3=$

⑰ $8+9-10=$

⑱ $10+5-10=$

⑲ $5+7-2=$

⑳ $4+8-10=$

五、解决问题。(16 分)



① 母鸡和公鸡一共多少只?

② 母鸡和小鸭一共多少只?



我用了____分钟
做对了____题

加油★

赞★★★★

超赞★★★★★





期末检测

(时间:90 分钟 满分:100 分)

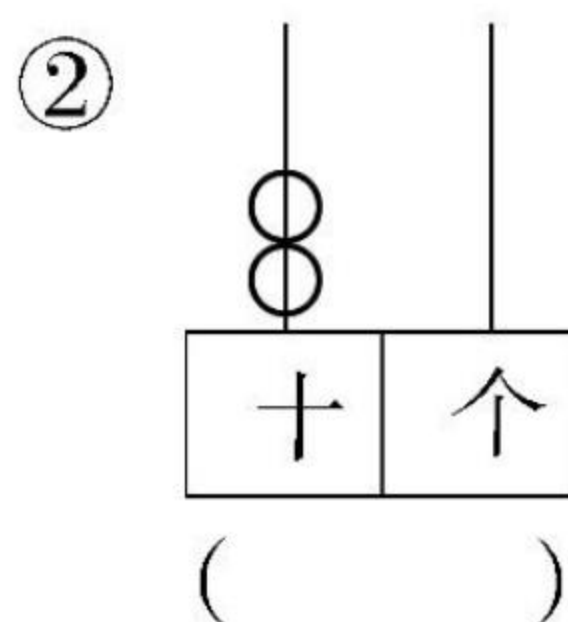
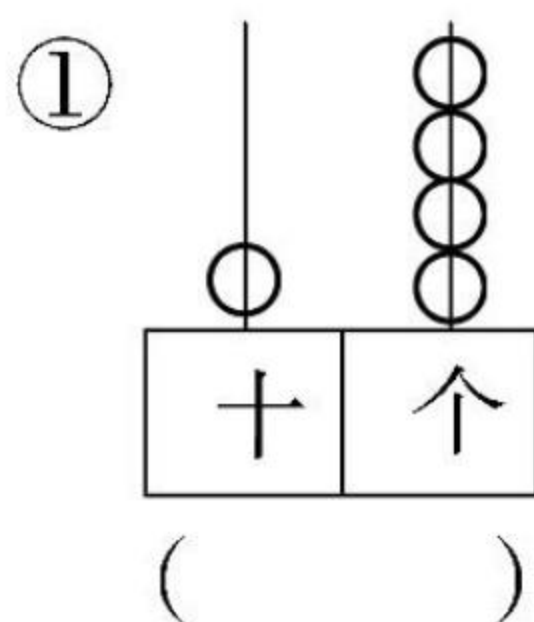
一、填空。(20 分)

(1)按顺序填一填。

①			18		16				12	11	
---	--	--	----	--	----	--	--	--	----	----	--

②	0	2				10	12			18	
---	---	---	--	--	--	----	----	--	--	----	--

(2)看图写数。



(3)在○里填上“>”“<”或“=”。

① $7+6 \bigcirc 14$

④ $4+5 \bigcirc 10$

② $9+7 \bigcirc 7+9$

⑤ $8 \bigcirc 6+3$

③ $16-10 \bigcirc 5$

⑥ $6+8 \bigcirc 14-4$

(4)① $5+8=$ {

$\square + \square$
$\square + \square$
$\square + \square$

② $13-10=$ {

$\square - \square$
$\square - \square$
$\square - \square$

(5)和 17 相邻的两个数是()和()。

(6)一个两位数,十位上的数字是 1,个位上和十位上的数字相同,这个数是()。

____月____日

星期____

用时____




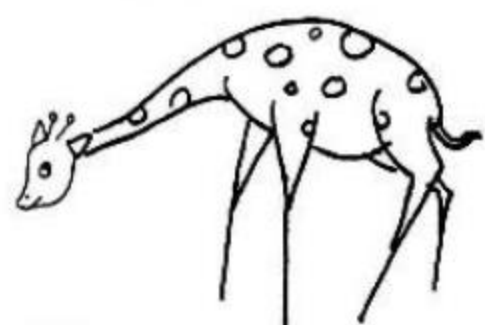
二、看图填空。(8分)






- ① 一共有()种水果和蔬菜,其中水果()种,蔬菜()种。
- ② 从左边数,茄子排第()。
- ③ 从右边数,桃子排第()。
- ④ 把从左数的第5个圈起来。

三、比一比。(9分)

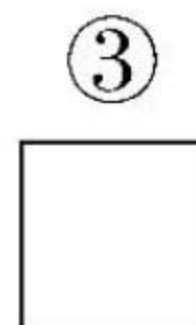
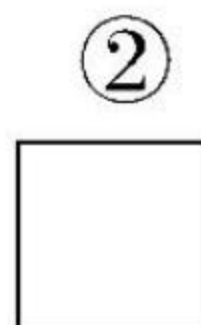
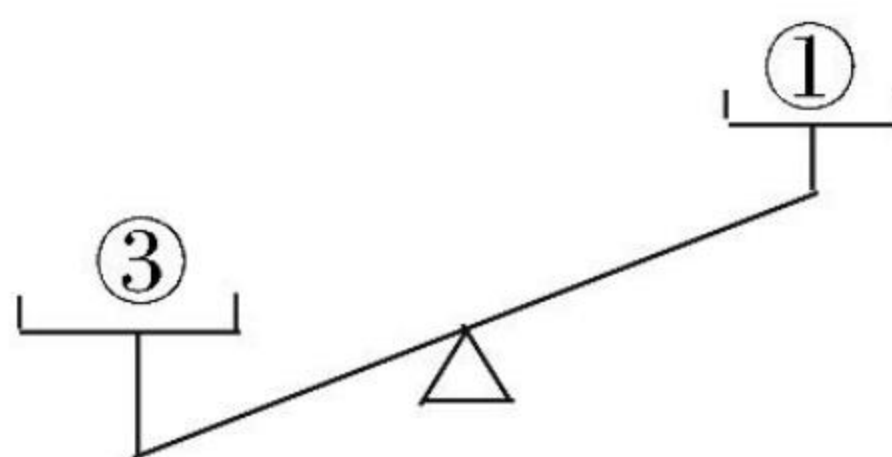
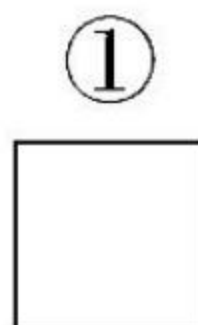
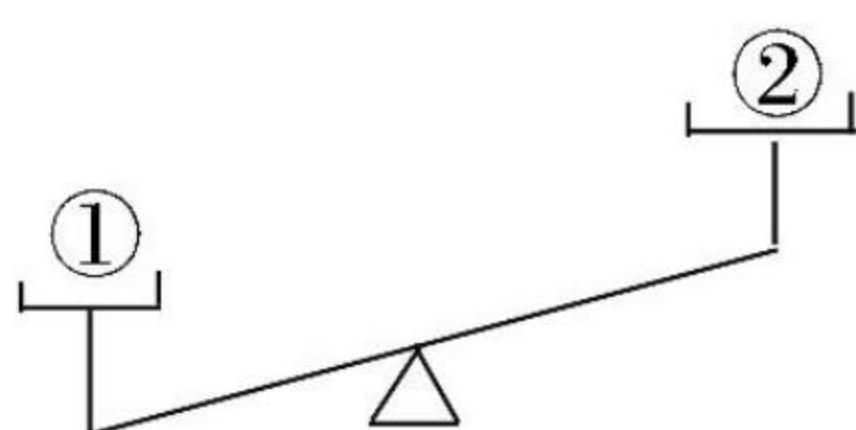
- ① 在最高的下面画“√”,在最矮的下面画“×”。



- ② 在最长的下面画“√”,在最短的下面画“○”。



- ③ 在最重的下面画“√”,在最轻的下面画“△”。



我用了____分钟
做对了____题

加油★

赞★★★★

超赞★★★★★





360°提升您的运算能力

期末检测

爱上数学!

四、选一选。(9分)

① 下面不是同类的是()。



② 最小的两位数是()。

A 10

B 11

C 20

D 9

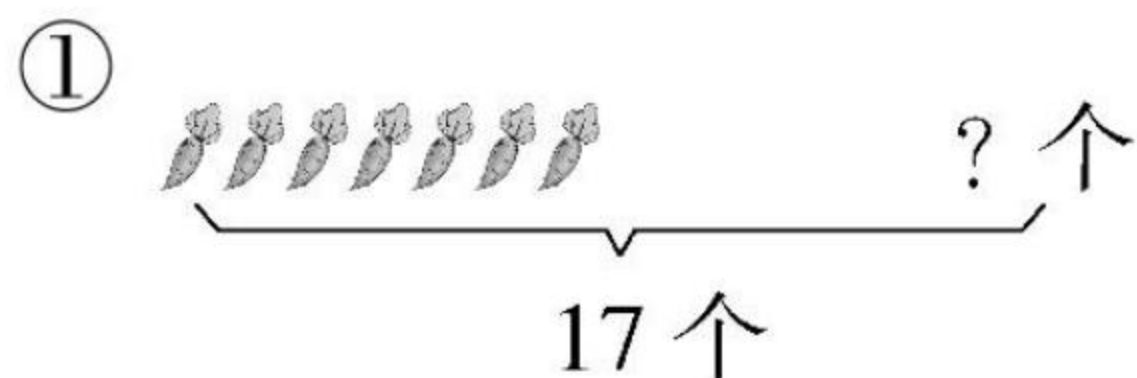
③ 由六个一和一个十组成的数是()。

A 16

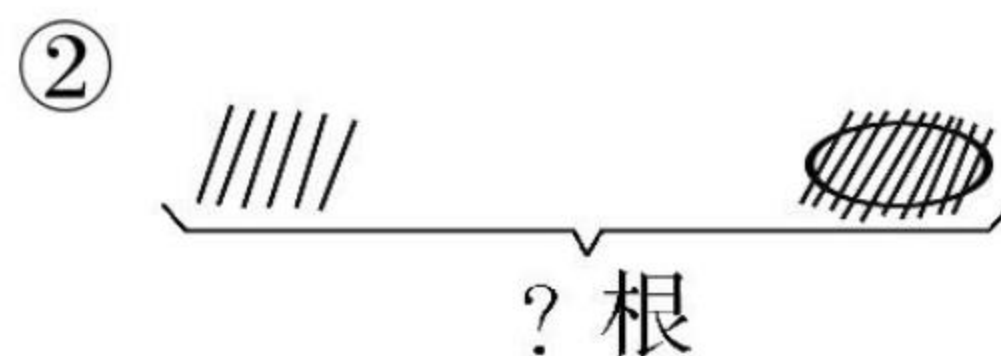
B 61

C 7

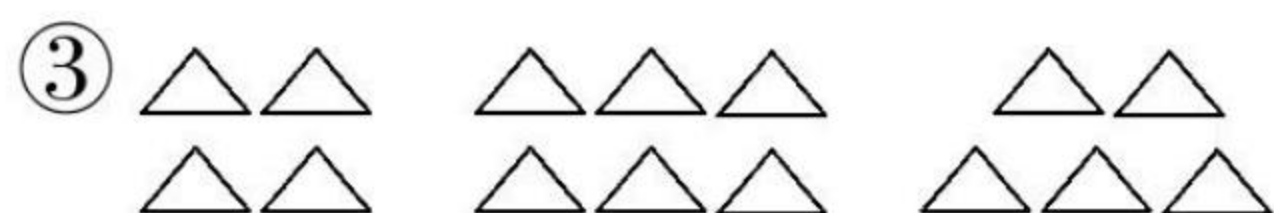
五、看图列式。(12分)




$$\square \bigcirc \square = \square (\text{个})$$



$$\square \bigcirc \square = \square (\text{根})$$



$$\square \bigcirc \square \bigcirc \square = \square$$



$$\square \bigcirc \square \bigcirc \square = \square$$

六、在()填上合适的数。(12分)

① () + 5 = 11

④ 6 + () = 10

② 10 + () = 10

⑤ 2 + () = 12

③ () + 8 = 16

⑥ 6 + 7 = 9 + ()

____月____日

星期____

用时____



71

七、算一算。(20 分)

① $7+3=$

⑪ $10+7=$

② $9+7=$

⑫ $16-10=$

③ $15-5=$

⑬ $16-6=$

④ $10+10=$

⑭ $3+4+6=$

⑤ $0+0=$

⑮ $9-7-2=$

⑥ $8-8=$

⑯ $10-6+9=$

⑦ $5-5=$

⑰ $8+9-10=$

⑧ $9-0=$

⑱ $19-9-4=$

⑨ $10+0=$

⑲ $15-5-6=$

⑩ $8+7=$

⑳ $18-8+0=$

八、解决问题。(10 分)

1. 岸上原来有 16 只鹅,第一次游走 6 只鹅,第二次游走 4 只鹅,两次一共游走几只鹅?

$$\square \bigcirc \square = \square (\text{只})$$

2. 一年级二班买来一些新书,第一组借走一半,还剩 7 本,一共买来多少本新书?

$$\square \bigcirc \square = \square (\text{本})$$



我用了_____分钟
做对了_____题

加油★

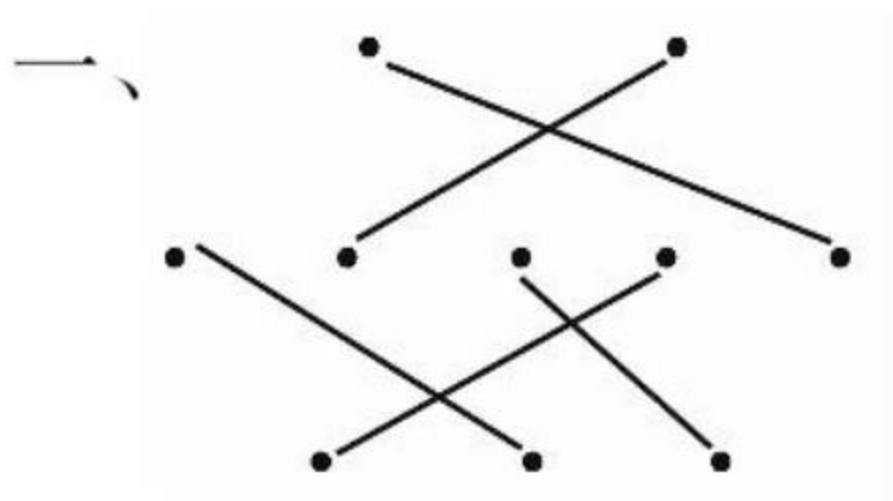
赞★★★★

超赞★★★★★



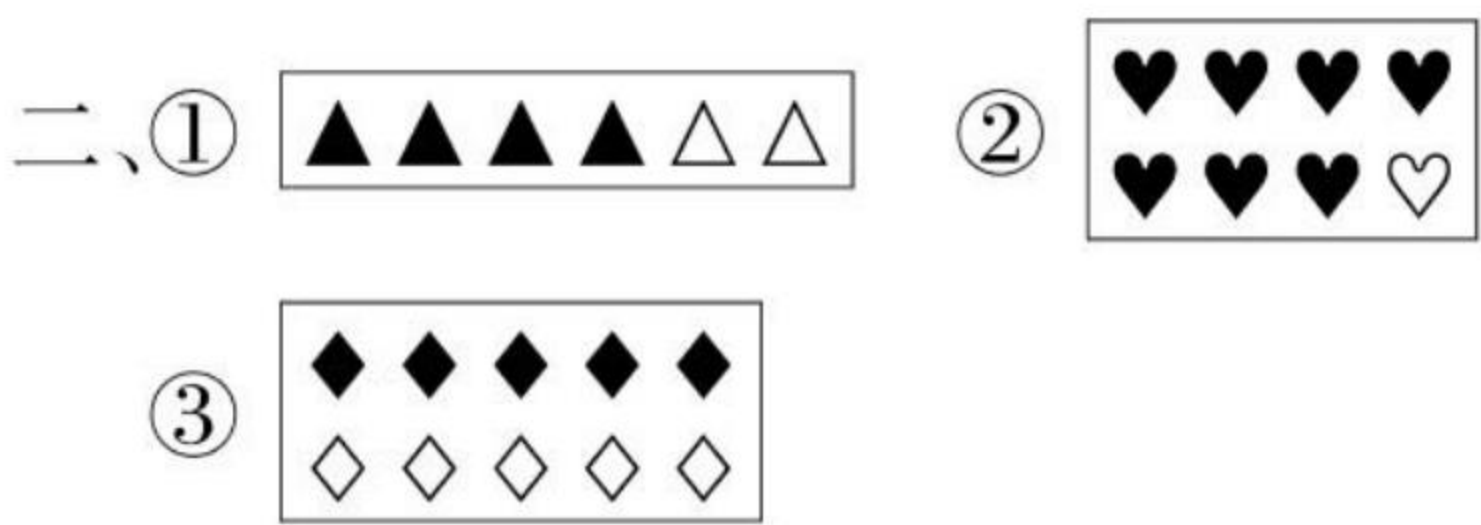
参考答案

第 1 页



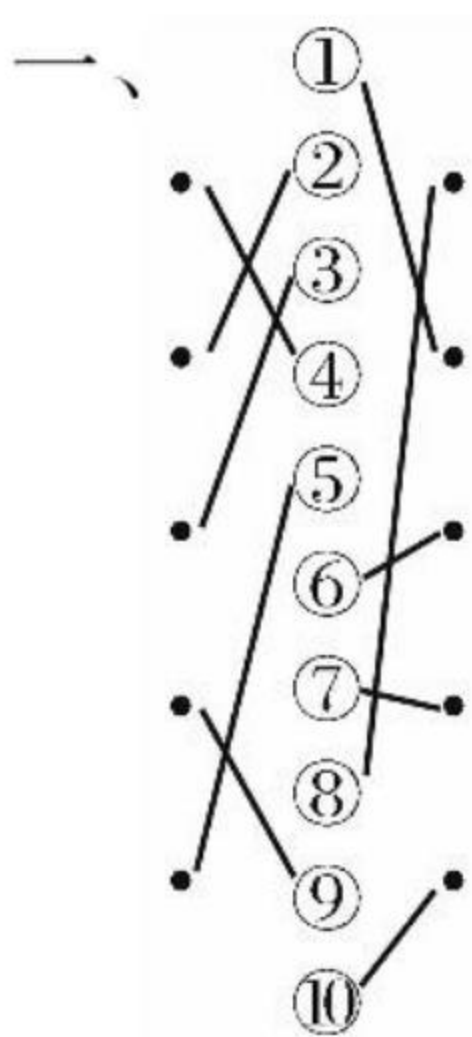
- 二、① (√) ()
② () (√)
三、③ ⑧ ⑥

第 2 页




- 三、① ○○○○ ② ○○○○ ③ ○○○○○○
④ ○○○○○○ ⑤ ○○○○

第 3-4 页



- 二、① ▲▲▲ ② ★★ ③ ●●●●●●



- 四、①
-
- ② ○○
- ③ □□□ ④ △△△

- 五、①
-
- ②
-
- ③
-
- ④
-

- 六、○

第 5 页

- 一、
- ☒ ○

- 二、
- △ ○

- 三、○ ☒ □

- 四、□ ☒ ○

第 6 页

- 一、
- ☒ ○

- 二、② ☒

- 三、☒ □ ○

- 四、□ ○ ☒

第 7-8 页

- 一、① ○ ③ ☒

- 二、□ ☒ ○

- 三、○ ☒

- 四、① ③

- 五、☒ △ □

- 六、① ○ ☒ ② ○ ☒

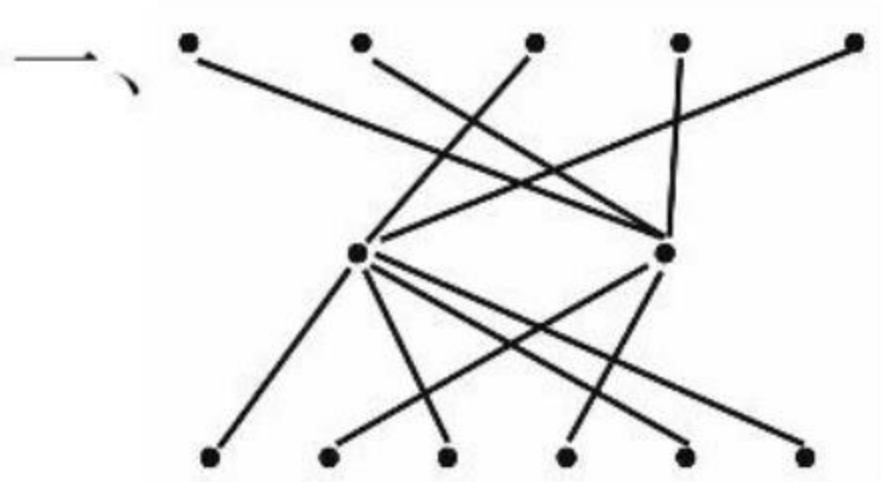
七、略

- 八、③ ① ② ④

第 9 页

- 一、① 藕 ② 玫瑰花 ③ 皮球 ④ 自行车
⑤ 小鸟 ⑥ 书包 ⑦ 电视 ⑧ 奶奶

第 10 页



- 二、交通工具：①③⑤⑥

- 动物：②⑦⑧⑫⑭⑮

- 蔬菜：④⑨⑩⑪⑬

第 11-12 页

- 一、① 鱼 ② 白菜 ③ 女孩打电话
④ 自行车 ⑤ 一杯咖啡

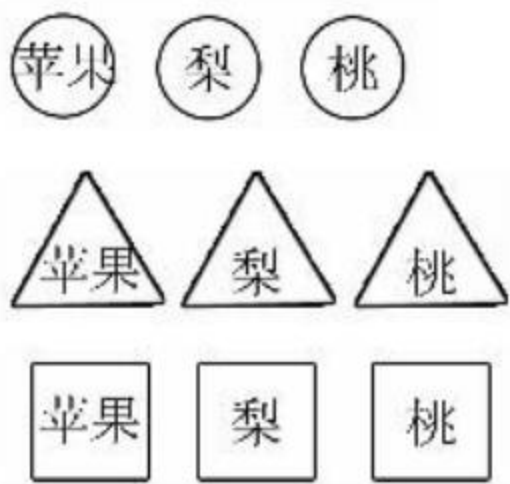
二、第一种分法：

- 桃 桃 桃

- 梨 梨 梨

- 苹果 苹果 苹果

第二种分法:



三、① 1、3、5、7 ✓
② 8、12、16、20 ✓

四、(1) ①⑤⑨为一类 ②④⑥为一类
③⑦⑧为一类
(2) ①②③为一类 ④⑤⑦为一类
⑥⑧⑨为一类

第 13 页

一、① 上 下 上 ② 花 ✓ ③ 飞机 ✓
二、① 小鸭子 鹅 ② 企鹅 小老鼠
③ 前 后 ④ 小鸭子 小老鼠
三、① 五角星 香蕉 ② 上 下
③ 桃 梨 樱桃 菊花

第 14 页

一、① 右 上 ② 左 下 ③ 左 下
二、① 5 ② 李叔叔 ③ 小刚 ④ 前 后
⑤ 3

第 15-16 页

一、① 后 后 前 ② 2 4 7
二、① 中间 小鸡 梅花鹿 小兔 大象
② 山羊 小兔 ③ 山羊 梅花鹿
④ 山羊 大象

三、

心	灵
巧	手

四、

鸭子	飞机
坦克	汽车
小狗	小猫

五、□▲☆△○

第 17 页

一、① 5 ② 1 ③ 4 ④ 3 ⑤ 2 ⑥ 4
二、略
三、① 2 ② 5 ③ 4

第 18 页

一、

二、略
三、1、2、3、4、5

四、○ 1 □ 4 △ 2 □ 5 ☆ 3

第 19 页

一、① ▲▲▲▲△ ② △△△▲△
③ ●●●●● ④ ○○○○●
二、① 5 ② 4 ③ 梨 ④ 5 ⑤

三、① 4 ② 3 ③ 2 ④ 0

第 20 页

一、略
二、① 0 3 5 ② 4 1 0
三、① 3 ○○○ ② 2 △△
四、3 1 0 5 2 4 0

第 21 页

一、① $\triangle > 2$ ② $\square < 5$ ③ $\star = 4$ ④ $\triangle > 4$
⑤ $3 > 2$ ⑥ $3 < 4$ ⑦ $2 = 2$ ⑧ $4 < 5$ ⑨ $2 > 1$
⑩ $1 > 0$

第 22 页

一、① $>$ ② $=$ ③ $<$ ④ $>$ ⑤ $<$ ⑥ $>$
⑦ $>$ ⑧ $<$
二、① 3 ② 5 ③ 3 ④ 1 ⑤ 2 ⑥ 4
⑦ 4 ⑧ 0 ⑨ 2 ⑩ 2(本大题答案不唯一)
三、① $5 > 4 > 3 > 2 > 1 > 0$ ② $5 > 3 > 1 > 0$

第 23 页

一、略
二、① 2、3、5、6、8、9、10 ② 9、7、5、4、2、0
三、比 7 小的数:4、2、5、1、6 比 4 大的数:9、8、5、6

第 24 页

一、① $<$ ② $<$ ③ $>$ ④ $<$ ⑤ $>$ ⑥ $<$
⑦ $=$ ⑧ $=$ ⑨ $<$ ⑩ $>$
二、① 6 ② 9 ③ 4 ④ 5 ⑤ 8 ⑥ 1
三、大于 5 的数:6、7、8、9、10
小于 5 的数:1、2、3、4

第 25-26 页

一、① 0、3、4、6、7、9、10 ② 8、6、4、3、1、0
二、① 桃 花 ② 2、三 ③ 上 左
④ 桃 铅笔 尺子 练习本
(此题答案不唯一)

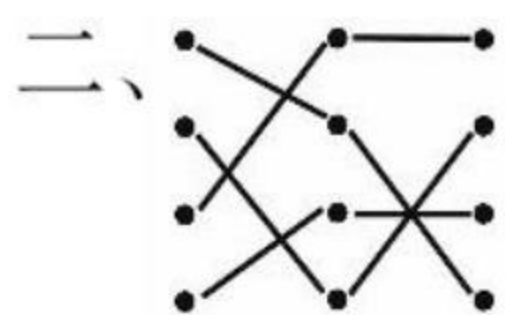
三、略

四、① $\frac{7}{\checkmark}$ ② $\frac{7}{\bigcirc}$ ③ $\frac{9}{\triangle}$

五、① $>$ ② $<$ ③ $<$ ④ $<$ ⑤ $>$ ⑥ $=$
六、① 10 ② 略 ③ 2 ④ 5

第27-28 页

一、① () (✓) (✓) ② (✓) () () (✓)
③ () () () (✓)



二、① 2 3 4 2 ② 2 ③ 5

四、① 6 ② 三、五、六 ③ 略

第29 页

一、① $\begin{array}{c} 4 \\ / \quad \backslash \\ 1 \quad 3 \end{array}$ ② $\begin{array}{c} 5 \\ / \quad \backslash \\ 2 \quad 3 \end{array}$ ③ $\begin{array}{c} 3 \\ / \quad \backslash \\ 1 \quad 2 \end{array}$

二、① 5 ② 2 ③ 4 ④ 2 ⑤ 3 ⑥ 1

三、① 5 ② 3 ③ 5 画(略)

第30 页

一、① 4 1 ② 3 1 ③ 3 2

④ 4 ⑤ 3 ⑥ 2

⑦ 1 ⑧ 0 ⑨ 5

⑩ 3 ⑪ 2 ⑫ 3

⑬ 1 ⑭ 2 ⑮ 4

二、① > ② > ③ > ④ = ⑤ < ⑥ >

⑦ = ⑧ < ⑨ > ⑩ =

第31 页

一、① ②
③ ④
⑤ ⑥

二、① 6 ② 5 ③ 4 ④ 3 ⑤ 2 ⑥ 1
⑦ 6 ⑧ 7 ⑨ 5 ⑩ 4 ⑪ 3 ⑫ 2
⑬ 1 ⑭ 8 ⑮ 7 ⑯ 6 ⑰ 5 ⑱ 4
⑲ 3 ⑳ 2

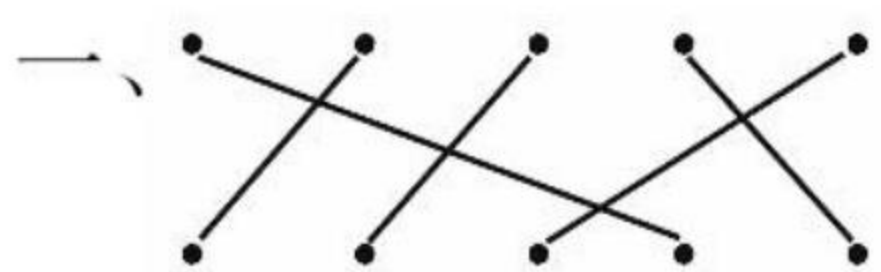
第32 页

一、① 7 ② 9 ③ 7 ④ 1 ⑤ 7

二、略

三、① 5 ② 5 ③ 9 ④ 2 ⑤ 4 ⑥ 8
⑦ 6 ⑧ 7

第33 页



二、 = 7 = 6

= 8 = 5

三、① 7 ② 9 ③ 6 ④ 5 ⑤ 8 ⑥ 3
⑦ 2 ⑧ 1 ⑨ 5

第34 页

一、8、4、5、6、3、4、2、1

二、 $\begin{array}{c} 10 \\ / \quad \backslash \\ 3 \quad 7 \end{array}$ $\begin{array}{c} 9 \\ / \quad \backslash \\ 4 \quad 5 \end{array}$

三、 $\triangle = 5$ $\bigcirc = 7$ $\square = 8$ $\star = 4$

四、① 4 ② 6 ③ 7 ④ 8 ⑤ 3 ⑥ 1

第35-36 页

一、① 2 ② 1 ③ 7 ④ 8 ⑤ 4

二、

8	7	6	5	4	3	2	1
2	3	4	5	6	7	8	9

三、① 三 ② 一、三 ③ 2 2 1



五、① 2、2 ② 3、3 ③ 2、3 ④ 3、3

⑤ 7、4 ⑥ 9、5 ⑦ 6、4、1、7

⑧ 6 3 1 (①②③④⑦题答案不唯一)

六、① 5 ② 7 ③ 4 ④ 3

七、① < ② < ③ > ④ = ⑤ < ⑥ <

第37-40 页

一、① 4 ② 6 ③ 2 ④ 0 ⑤ 5 ⑥ 4

⑦ 8 ⑧ 9 ⑨ 1 ⑩ 7 ⑪ 1 ⑫ 1

⑬ 4 ⑭ 8 ⑮ 10 ⑯ 7 ⑰ 8 ⑱ 3

⑲ 3 ⑳ 4 ㉑ 0 ㉒ 5 ㉓ 7 ㉔ 6

二、① 10、6 ② 7 ③ 5

④ A 9 2 B 2 6 C 五、六

⑤ 0、7、10 A 10 3 5 B 2

⑥ 3 8 4 ⑦ >、<、=

⑧ 4 5 (答案不唯一)

3 7 4

三、(1) ① 1 ② 2 ③ 3 ④ 2 (2) 9、7

四、① 不够 ② 9 ③ ☐ ☒ ☐



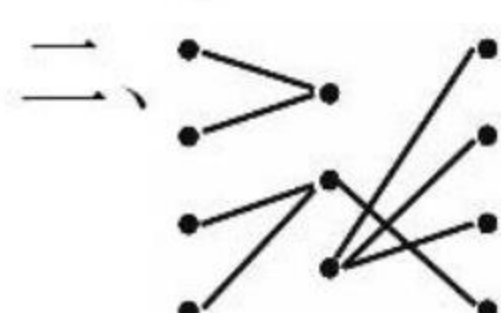
六、① $\bigcirc \bigcirc \bigcirc \bigcirc \bigcirc \bigcirc \bigcirc$ ② $\star \star \star \star \star$

七、 $\begin{array}{c} 4 \quad 7 \quad 8 \\ / \quad \backslash \quad / \quad \backslash \\ 3 \quad 2 \quad 6 \end{array}$ $\begin{array}{c} 5 \quad 1 \\ / \quad \backslash \\ 9 \quad 5 \end{array}$

第41 页

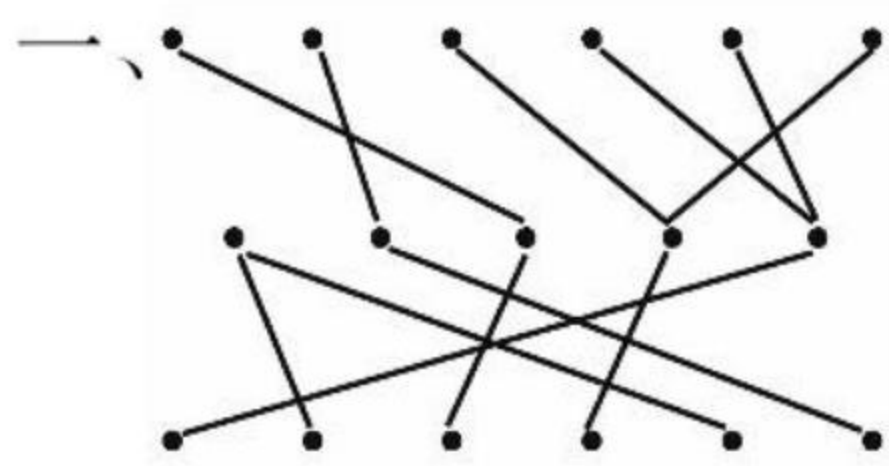
一、① 5 ② 5 ③ 4 ④ 1 ⑤ 1

⑥ 3 画一画略



三、① 5 ② 5 ③ 2 ④ 1 ⑤ 1 ⑥ 2
⑦ 3 ⑧ 4 ⑨ 3

第42页



二、① > ② = ③ = ④ = ⑤ < ⑥ >
⑦ > ⑧ =

三、① 1 ② 2 ③ 3 ④ 4 ⑤ 1 ⑥ 2
⑦ 3 ⑧ 1 ⑨ 2 ⑩ 5 ⑪ 5 ⑫ 5
⑬ 4 ⑭ 3

第43页

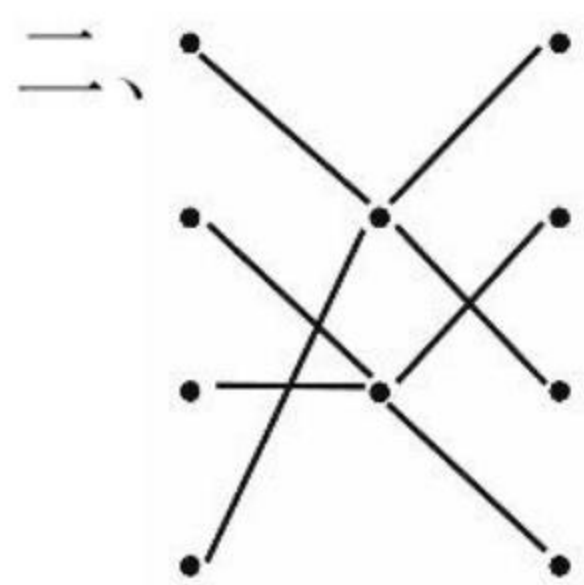
一、① $5-1=4$ ② $5-2=3$ ③ $5-3=2$
④ $5-4=1$ ⑤ $5-5=0$

二、① 4 ② 3 ③ 5 ④ 5 ⑤ 0 ⑥ 2
⑦ 3 ⑧ 6 ⑨ 7 ⑩ 0

三、① 7 ② 9 ③ 7 ④ 5 ⑤ 2 ⑥ 6
⑦ 6 ⑧ 0 ⑨ 5 ⑩ 1

第44页

一、① + ② - ③ +或- ④ - ⑤ + ⑥ +
⑦ + ⑧ - ⑨ - ⑩ +或-



三、① < ② = ③ = ④ > ⑤ = ⑥ <
⑦ = ⑧ < ⑨ < ⑩ < ⑪ < ⑫ =

第45页

一、① $5+3=8$ $3+5=8$ $8-3=5$ $8-5=3$
② $6+2=8$ $2+6=8$ $8-2=6$ $8-6=2$

二、6、3、7、2、1、5、4、0

三、① 8 ② 2 ③ 8 ④ 8 ⑤ 1 ⑥ 8
⑦ 7 ⑧ 4 ⑨ 8 ⑩ 6 ⑪ 8 ⑫ 3

第46页

一、① < ② < ③ = ④ > ⑤ = ⑥ =
⑦ < ⑧ > ⑨ = ⑩ <

二、① + ② - ③ - ④ + ⑤ + ⑥ +

三、① 3 ② 5 ③ 3 ④ 5 ⑤ 2 ⑥ 6
⑦ 2 ⑧ 6 ⑨ 1 ⑩ 7 ⑪ 1 ⑫ 7
⑬ 0 ⑭ 0

第47页

一、① $2+4=6$ ② $6-3=3$ ③ $4+3=7$

④ $7-4=3$ ⑤ $8-3=5$ ⑥ $5+1=6$

二、3 3 3

第48页

一、① $8-4=4$ ② $5-2=3$ ③ $7-3=4$
④ $4+3=7$

二、① 3 ② 3 ③ 9 ④ 0 ⑤ 0 ⑥ 7
⑦ 7 ⑧ 3 ⑨ 3 ⑩ 8 ⑪ 7 ⑫ 0
⑬ 8 ⑭ 8 ⑮ 3 ⑯ 2 ⑰ 1 ⑱ 8

第49页

一、① 9 ② 9 ③ 3 ④ 6 ⑤ 9 ⑥ 9
⑦ 4 ⑧ 5 ⑨ 9 ⑩ 9 ⑪ 2 ⑫ 7
⑬ 9 ⑭ 9 ⑮ 8 ⑯ 1

二、① 10、9、8、7 ② 7、5、8、6
③ 7、5、4、1 ④ 10、9、7、8

第50页

一、① < ② < ③ = ④ > ⑤ < ⑥ <
⑦ < ⑧ > ⑨ > ⑩ <

二、略

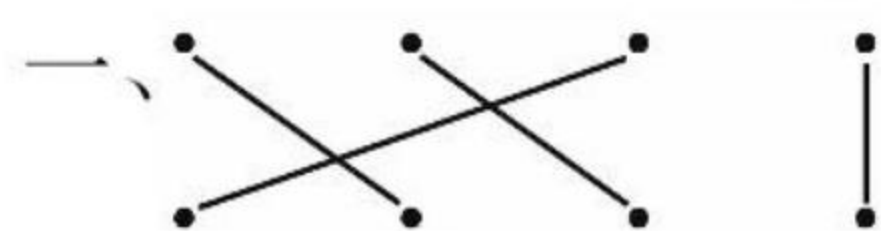
三、① 9 ② 7 ③ 9 ④ 6 ⑤ 10 ⑥ 5
⑦ 7 ⑧ 10 ⑨ 9 ⑩ 1 ⑪ 0 ⑫ 9

第51页

一、① 6 ② 5 ③ 3 ④ 1 ⑤ 8 ⑥ 4
⑦ 1 ⑧ 5 ⑨ 2 ⑩ 4

二、① 9、7、5、3、1 ② 7、5、3、1、9
③ 5、4、2、3、1 ④ 2、3、6、0、4

第52页



二、① 6 ② 3 ③ 3 ④ 5 ⑤ 5 ⑥ 3
⑦ 0 ⑧ 1 ⑨ 7 ⑩ 9

三、① > ② > ③ < ④ < ⑤ = ⑥ >
⑦ < ⑧ < ⑨ < ⑩ = ⑪ = ⑫ =

第53页

一、① 3、10 ② 6、3 ③ 7、9 ④ 6、4

二、① $2+3+5=10$ ② $10-3-2=5$
③ $3+4+2=9$ ④ $9-4-1=4$

三、① 2 ② 9 ③ 4 ④ 10 ⑤ 9 ⑥ 0

第54页

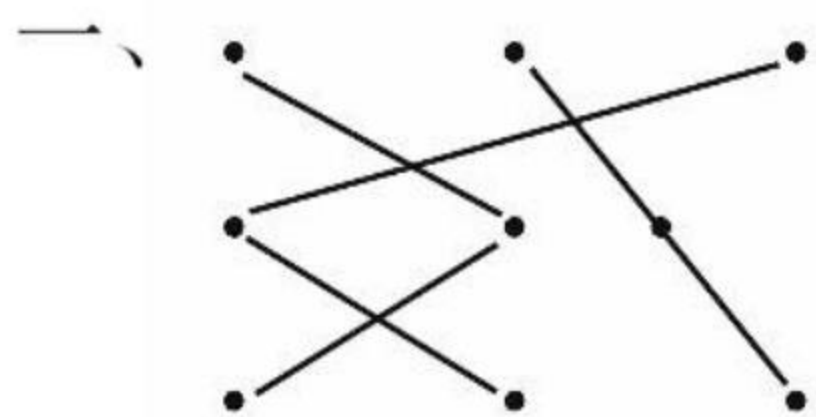
一、① 8 ② 0 ③ 8 ④ 2 ⑤ 10 ⑥ 3
⑦ 9 ⑧ 9 ⑨ 3 ⑩ 3 ⑪ 4 ⑫ 7
⑬ 8 ⑭ 0 ⑮ 0 ⑯ 10 ⑰ 3 ⑱ 9
⑲ 0 ⑳ 0

二、① = ② < ③ = ④ = ⑤ = ⑥ <
⑦ < ⑧ = ⑨ = ⑩ <

第55页

- 一、① 5、7 ② 7、4 ③ 3、5
④ 9、6 ⑤ 8、10 ⑥ 10、0
- 二、① 7 ② 3 ③ 1 ④ 9 ⑤ 7 ⑥ 7
⑦ 2 ⑧ 3 ⑨ 10 ⑩ 9 ⑪ 5 ⑫ 4
⑬ 9 ⑭ 7 ⑮ 1 ⑯ 2

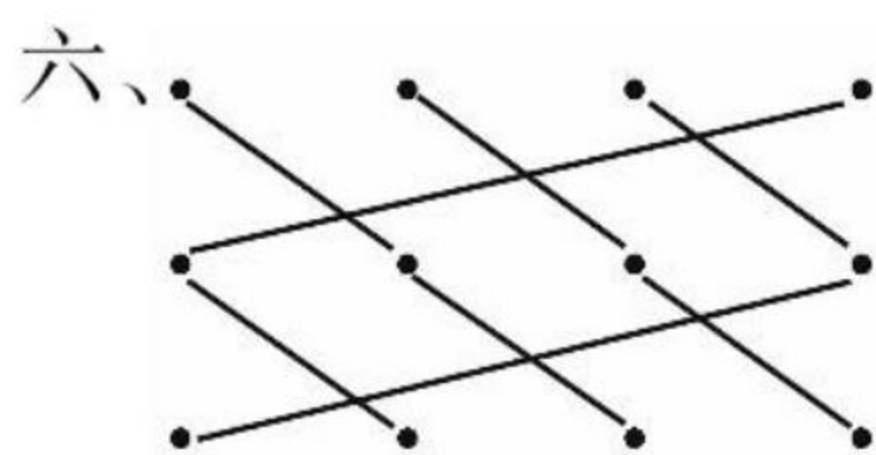
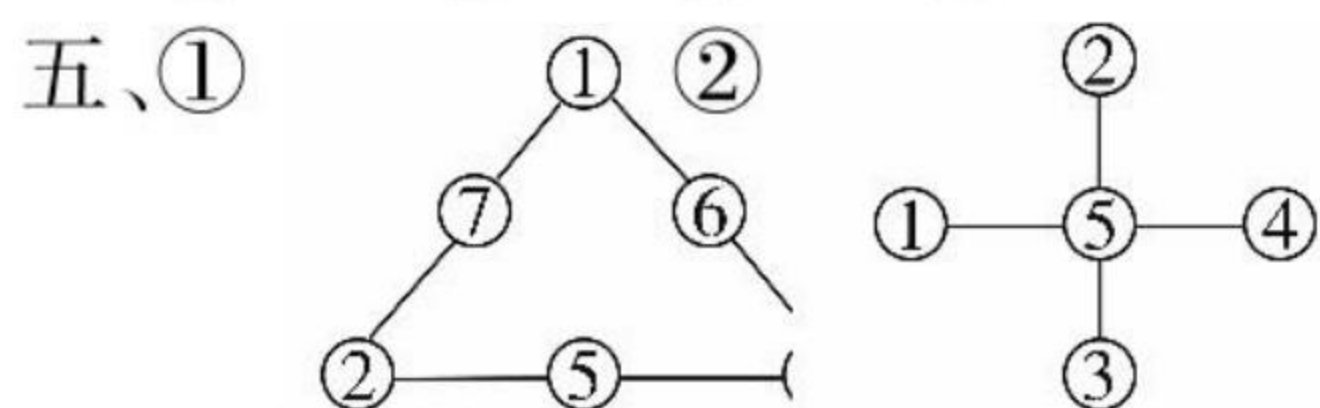
第56页



- 二、① 1、5 ② 2、6 ③ 3、7
④ 10、7 ⑤ 7、4 ⑥ 8、5
- 三、① 9、9 ② 竖 10、8、8 横 9、8、9
- 四、① 2 ② 4 ③ 3 ④ 0

第57-58页

- 一、① $7-2=5$ ② $5+3=8$
③ $10-3-2=5$ ④ $3+2+4=9$
- 二、① 3 ② 3 ③ 4 ④ 0 ⑤ 5 ⑥ 5
⑦ 9 ⑧ 3 ⑨ 5 ⑩ 1 ⑪ 3 ⑫ 10
⑬ 1 ⑭ 3 ⑮ 4 ⑯ 3 ⑰ 6 ⑱ 10
⑲ 6 ⑳ 9 ㉑ 7 ㉒ 4
- 三、① $>$ ② $=$ ③ $=$ ④ $>$ ⑤ $<$ ⑥ $<$
- 四、① 4 ② 8 ③ 5 ④ 3 ⑤ 3 ⑥ 1
⑦ 0 ⑧ 0 ⑨ 2 ⑩ 4



第59页

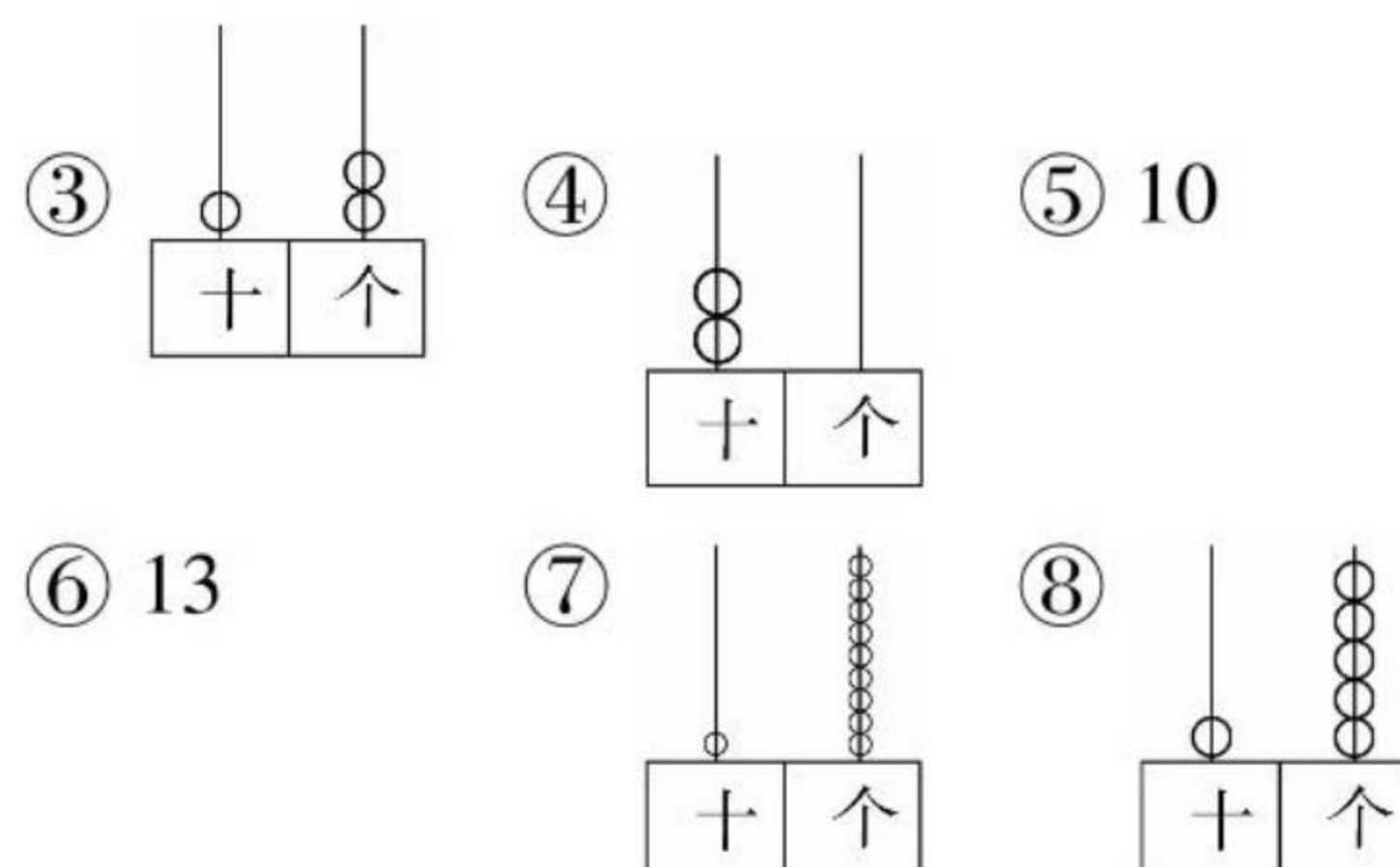
- 一、① 19、18、16、15、13、12
② 11、12、14、16、17
- 二、① 7、9、11、13、15、17
② 8、10、12、14、16、18
③ 17、16、15
④ 4、15
- 三、① 1、2 ② 15 ③ 一 ④ 十 ⑤ 18
⑥ 5、5、1、3、3、10 ⑦ 个、十 ⑧ 16

第60页

- 一、① 十七 ② 二十 ③ 十四 ④ 十三

⑤ 十六 ⑥ 十九 ⑦ 十一 ⑧ 十二

- 二、① 19 ② 11 ③ 10 ④ 16 ⑤ 15 ⑥ 20
- 三、① 11 ② 14



第61页

- 一、① $10+6=16$ $6+10=16$ $16-10=6$ $16-6=10$
② $15-10=5$ ③ $18-8=10$
- 二、① 3 ② 4 ③ 5 ④ 10 ⑤ 10 ⑥ 10
⑦ 0 ⑧ 15 ⑨ 15 ⑩ 18 ⑪ 19 ⑫ 10
⑬ 10 ⑭ 8 ⑮ 13 ⑯ 6 ⑰ 10 ⑱ 11
⑲ 14 ⑳ 10

第62页

- 一、① $<$ ② $>$ ③ $=$ ④ $>$ ⑤ $>$ ⑥ $=$
⑦ $<$ ⑧ $<$ ⑨ $<$ ⑩ $<$
- 二、① 14 ② 17 ③ 19 ④ 15 ⑤ 11 ⑥ 12
⑦ 18 ⑧ 17 ⑨ 16 ⑩ 19 ⑪ 7 ⑫ 10
⑬ 10 ⑭ 9 ⑮ 6 ⑯ 10 ⑰ 10 ⑱ 4
⑲ 8 ⑳ 10

第63-64页

- 一、① 13 十三 ② 16 十六
③ 20 二十
- 二、① 18 ② 15 ③ 一 七
④ 18 20 ⑤ 一 九
⑥ 16、20、18、11
⑦ 20 18 15 11 14 16
- 三、① $<$ ② $>$ ③ $=$ ④ $<$ ⑤ $=$ ⑥ $>$
- 四、① 13 ② 9 ③ 5 ④ 2 ⑤ 10 ⑥ 10
⑦ 15 ⑧ 17 ⑨ 10 ⑩ 9 ⑪ 16 ⑫ 10
⑬ 16 ⑭ 14

- 五、1. $14-10=4$ (个) 2. $16-6=10$ (个)

第65页

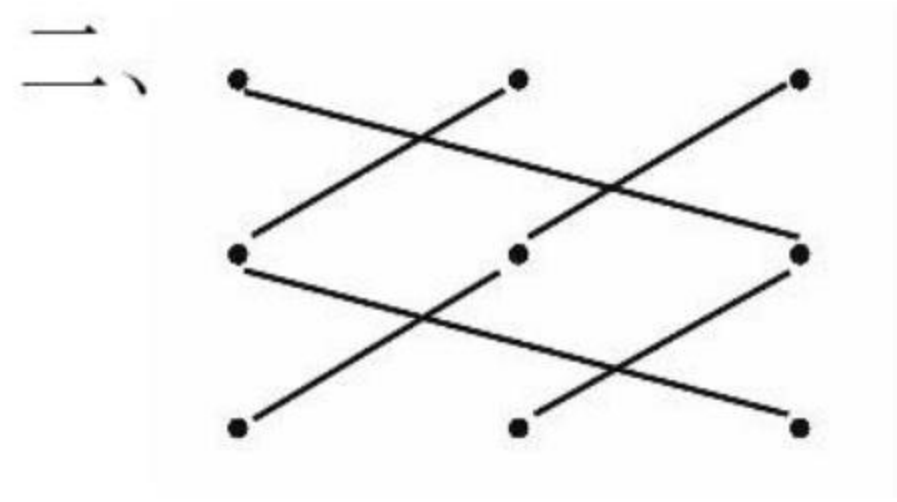
- 一、① 10、1、4、14 ② 10、2、5、15
③ 10、3、3、13 ④ 10、5、4、14
⑤ 10、6、2、12 ⑥ 10、2、1、12
- 二、① 15 ② 13 ③ 14 ④ 13 ⑤ 15 ⑥ 17
⑦ 10 ⑧ 17 ⑨ 7 ⑩ 10 ⑪ 14 ⑫ 12
⑬ 12 ⑭ 11 ⑮ 18 ⑯ 16

第66页

- 一、① 11、13、15、17 ② 14、15、16、17
 二、① < ② > ③ < ④ < ⑤ = ⑥ >
 ⑦ = ⑧ = ⑨ = ⑩ <
 三、① 12 ② 13 ③ 17 ④ 11 ⑤ 14 ⑥ 16
 ⑦ 14 ⑧ 15 ⑨ 11 ⑩ 16

第67-68页

- 一、① $5+6=11$ ② $8+3=11$
 ③ $7+4=11$ ④ $4+6=10$



- 三、① < ② > ③ < ④ < ⑤ = ⑥ <
 四、① 14 ② 13 ③ 12 ④ 11 ⑤ 10 ⑥ 12
 ⑦ 15 ⑧ 15 ⑨ 14 ⑩ 12 ⑪ 11 ⑫ 14
 ⑬ 13 ⑭ 10 ⑮ 11 ⑯ 10 ⑰ 7 ⑱ 5
 ⑲ 10 ⑳ 2
 五、① $7+4=11$ (只) ② $7+9=16$ (只)

第69-72页

- 一、(1) ① 20、19、17、15、14、13、10
 ② 4、6、8、14、16、20
 (2) ① 14 ② 20
 (3) ① < ② = ③ > ④ < ⑤ < ⑥ >
 (4) ① $6+7$ $4+9$ $10+3$ $7+6$
 ② $6-3$ $7-4$ $8-5$ $9-6$
 (5) 18、16 (8)11
 二、① 8 5 3 ② 四 ③ 三 ④

- 三、① ☒ ☐ ☒ ② ☐ ☒ ☐ ③ ☐ ☐ ☒

- 四、① C ② A ③ A

- 五、① $17-7=10$ ② $6+10=16$
 ③ $4+6+5=15$ ④ $14-4-3=7$

- 六、① 6 ② 0 ③ 8 ④ 4 ⑤ 10 ⑥ 4

- 七、① 10 ② 16 ③ 10 ④ 20 ⑤ 0 ⑥ 0
 ⑦ 0 ⑧ 9 ⑨ 10 ⑩ 15 ⑪ 17 ⑫ 6
 ⑬ 10 ⑭ 13 ⑮ 0 ⑯ 13 ⑰ 7 ⑱ 6
 ⑲ 4 ⑳ 10

- 八、1. $6+4=10$ (只) 2. $7+7=14$ (本)