



—— 扫码关注获取更多学习资料 ——

一年级
上册

RJ

主编：周学海

书山有路勤为径
学海无涯苦作舟

山东城市出版传媒集团·济南出版社

前言

为了提高小学生的口算、心算、速算的技巧和基本运算能力,我们组织了一批拥有丰富教学经验的一线小学数学教师编写了这套口算题卡。

本题卡紧扣教材,题型与课本内容相一致。将课本知识内容进行全面的、系统的优化设计、编排组合,能促进学生对所学知识的掌握和巩固,同时又注重对学生口算、心算、笔算、速算等计算能力的提高。

小学生按照要求进行一日一练,俗话说“一日练,一日功,一日不练十日空。”持之以恒,坚持使用口算题卡,运算速度和运算技巧一定会有明显提高。因此,本题卡既是小学数学课本的最佳伴侣,又是对小学数学课程的有益补充。

周学海

古今贤文·劝学篇

——（唐）韩愈

枯木逢春犹再发，人无两度再少年。不患老而无成，只怕幼而不学。长江后浪推前浪，世上今人胜古人。若使年华虚度过，到老空留后悔心。有志不在年高，无志空长百岁。少壮不努力，老大徒伤悲。好好学习，天天向上。坚持不懈，久炼成钢。三百六十行，行行出状元。冰生于水而寒于水，青出于蓝而胜于蓝。书到用时方恨少，事非经过不知难。

身怕不动，脑怕不用。手越用越巧，脑越用越灵。三天打鱼，两天晒网，三心二意，一事无成。一日练，一日功，一日不练十日空。拳不离手，曲不离口。刀不磨要生锈，人不学要落后。书山有路勤为径，学海无涯苦作舟。师傅领进门，修行在自身。熟能生巧，业精于勤。

微信公众号
教辅资料站



黄冈360°数学 _____年____月____日 星期____

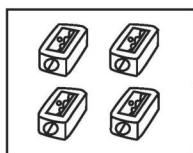
RJ

口算题卡


一年级 上册 时间:____分____秒 家长评价:_____

数一数(1)

1. 照样子,连一连。



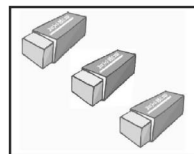
3



6



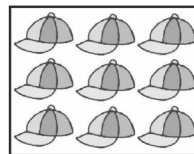
1



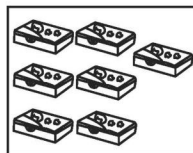
8



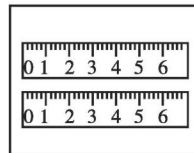
7




9




2



4



5



10

2. 按顺序填数。

(1) 10 9 8 () () () 4 () () 1

(2) 1 2 3 () 5 () () () 9 10



黄冈360°数学 _____年____月____日 星期____

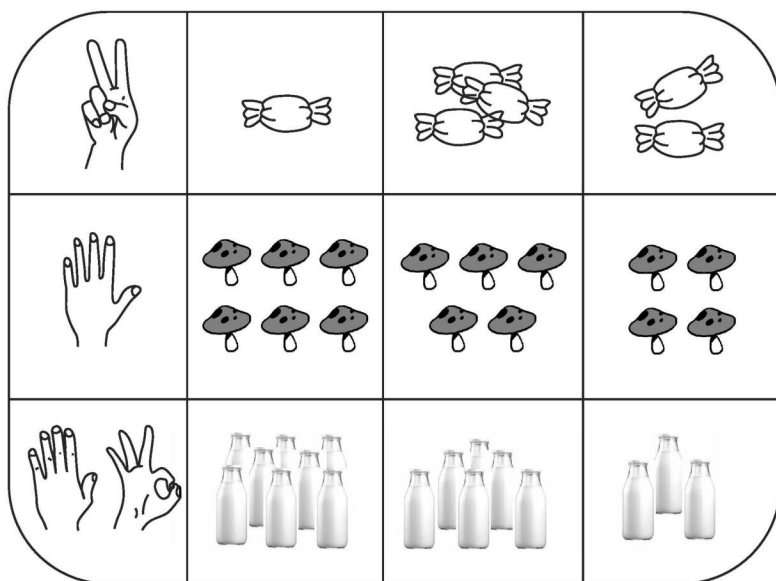
RJ

口算题卡

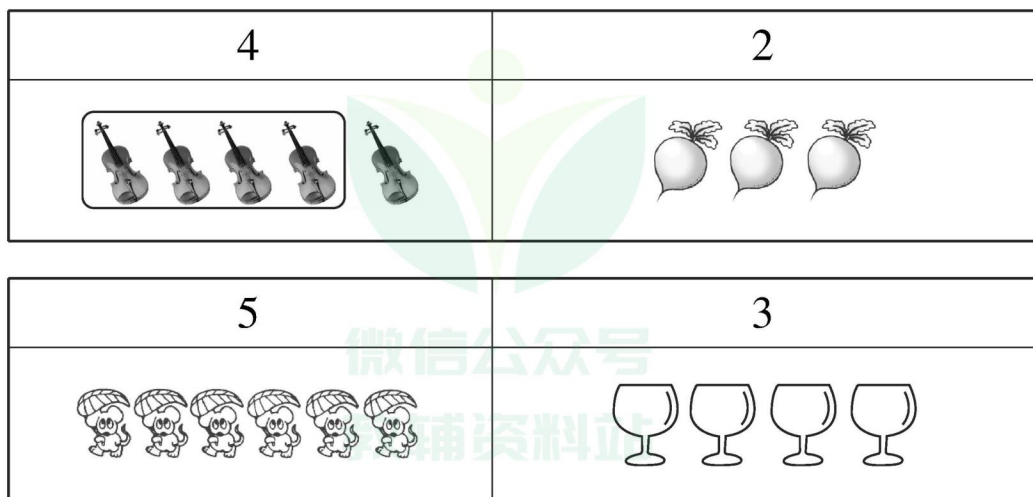
一年级 上册 时间:____分____秒 家长评价:_____

数一数(2)

1. 手指表示的是哪幅图,把它圈出来。



2. 照样子,看数圈图形。





黄冈360°数学 _____年____月____日 星期____

RJ

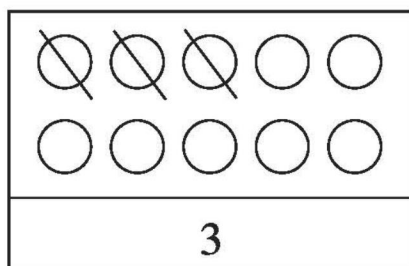
口算题卡

一年级 上册 时间:____分____秒 家长评价:_____

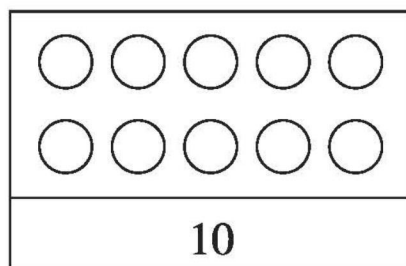
数一数(3)

照样子,划一划。

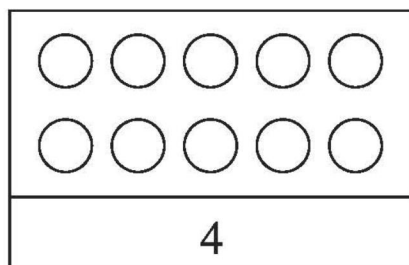
1.



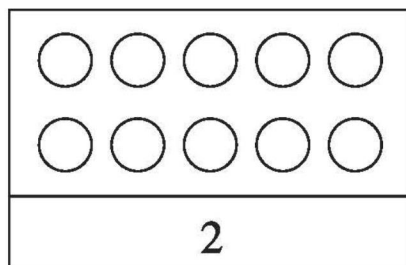
4.



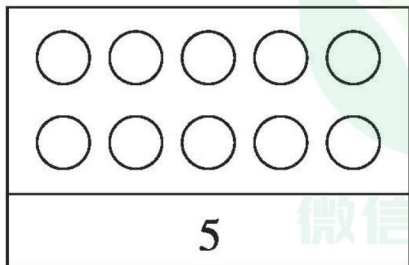
2.



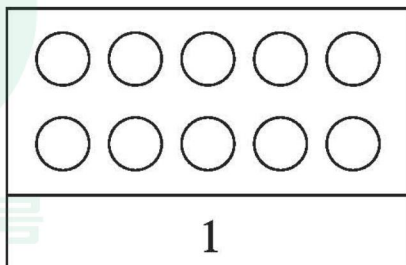
5.



3.



6.





黄冈360°数学 _____年____月____日 星期____



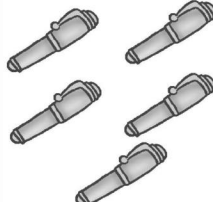

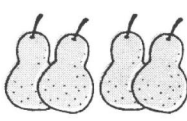

RJ

口算题卡

一年级 上册 时间：____分____秒 家长评价：_____

数一数(4)

1. 给正确的数打“√”。

 (3 4 5)	 (1 3 4)	 (3 4 5)
 (2 3 4)	 (5 4 3)	 (1 2 3)

2. 看数,照样子画线。

○○○○ ○	1
○○○○○	2
○○○○○	3
○○○○○	4
○○○○○	5



黄冈360°数学 _____年____月____日 星期____

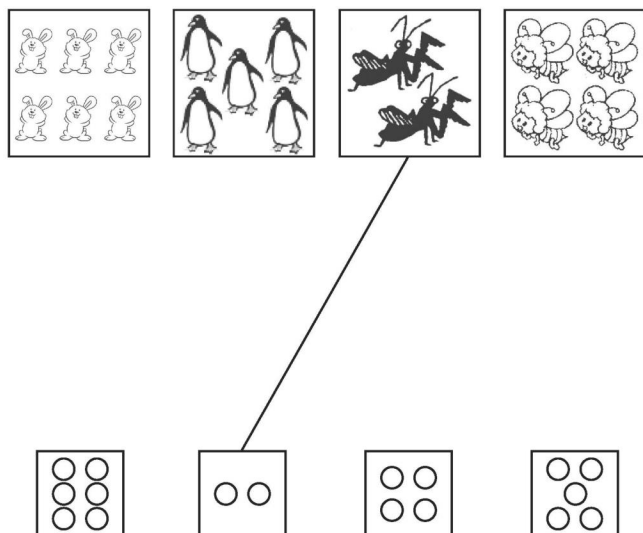
RJ

口算题卡


一年级 上册 时间：____分____秒 家长评价：_____

比多少(1)

1. 把同样多的连起来。



2. 在多的后面画“√”。



微信公众号
教辅资料站



黄冈360°数学 _____年____月____日 星期____



RJ

口算题卡

一年级 上册 时间:____分____秒 家长评价:_____

比多少(2)

在多的后面画“√”,在少的后面画“○”。





黄冈360°数学 ____年__月__日 星期__

RJ

口算题卡

一年级 上册 时间:____分____秒 家长评价:____


上下前后

1. 跑步比赛。

(1) () 跑在最前面,

() 跑在最后面。

(2) () 跑在小刚的前面, () 跑在小力的后面。



(3) 跑在小刚后面的有() 和()。

2. 请帮小动物们解决问题。



(1) 一共有() 只小动物在参加跑步比赛。

(2) 小猫的前面有() 只小动物, 小猫跑在第() 名。

(3) () 跑在最前面, 小松鼠跑在最() 面。

(4) 小老鼠在小松鼠的() 面, 在大象的() 面。

(5) 大象在第() 名, 小猫在它的() 面。



黄冈360°数学 _____年____月____日 星期____

RJ

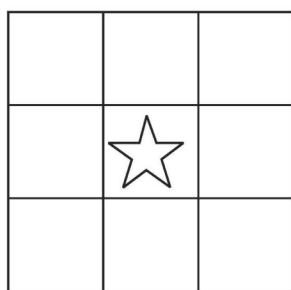
口算题卡

一年级 上册 时间:____分____秒 家长评价:_____

左 右

1. 画一画。

△在☆的上边,○在☆的下面,♡在☆的左边,☺在☆的右边,✧在♡的下边,☀在☺的上边,□在♡的上边,▭在☺的下边。



2. 牛牛、妞妞、柳柳是三胞胎,在牛牛的左边是妞妞,在柳柳的右边是妞妞,请将它们的名字填在括号里。





黄冈360°数学 _____年____月____日 星期____

RJ

口算题卡

一年级 上册 时间:____分____秒 家长评价:_____

位置(1)

1. 看一看,数一数,填一填。



(1)  的右面一个是(),左面一个是()。

(2)  的左面有()种水果,右面有()种水果。

(3)  的右面有()种水果,左面有()种水果。

(4) 一共有()种水果。

2. 画一画。

(1) 在☆的上面一格画△,下面一格画□。

(2) 在☆的左面一格画◇,右面一格画○。

(3) 在◇的左面一格画◇,上面一格画□。

(4) 在□的右面一格画△,下面一格画◇。






位置(2)

看图圈一圈。

1.




小明 小方 小红


小方在小明的(前、后)面。

小红在小方的(前、后)面。



2.




在



的(上、下)面。



在



的(左、右)面。

3.



爸爸的(左、右)手牵着小男孩的(左、右)手,

妈妈的(左、右)手牵着小男孩的(左、右)手。



黄冈360°数学 _____年____月____日 星期____


RJ

口算题卡



一年级 上册 时间:____分____秒 家长评价:_____





位置(3)

1. 看图填一填,圈一圈。



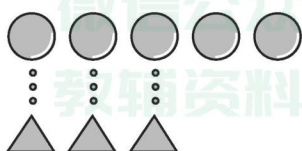
(1)  在  的()面。

(2)  在  的()面。

(3) 在书架的最上层左边是(、), 右边是(、)。

(4) 在书架的最下层左边是(、), 右边是(、)。

2. 在多的后面画“√”。





黄冈360°数学 _____年____月____日 星期____


RJ



口算题卡

一年级 上册 时间:____分____秒 家长评价:_____

位置(4)



1. 按要求画一画。






在  右边的方框中画☆,在  上面的方框中画○;在

 左边的方框中画□,在  下面的方框中画△。

2. 填一填。

(1)  先向(左、右)走,再向(上、下)走,就可以吃到 。(圈出正确答案)



(2)  先向(上、下)走,再向(左、右)走,就可以吃到 。(圈出正确答案)



黄冈360°数学 _____年____月____日 星期____





RJ

口算题卡










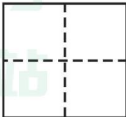
一年级 上册 时间:____分____秒 家长评价:_____

1 ~ 5 的认识(1)

1. 看数,圈一圈。

	
3	5
	
4	2

2. 看图写数。



黄冈360°数学 _____年____月____日 星期____

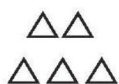
RJ

口算题卡

一年级 上册 时间:____分____秒 家长评价:_____

1~5 的认识(2)

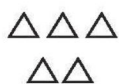
1. 看数涂上你喜欢的颜色。



3



4

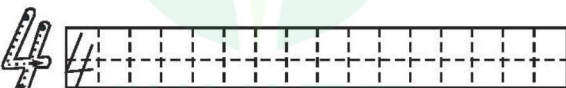
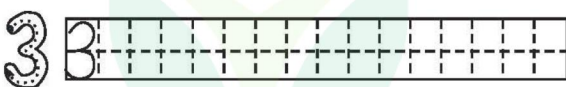
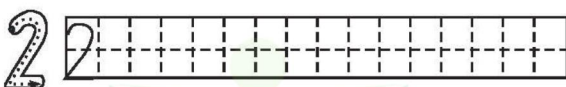
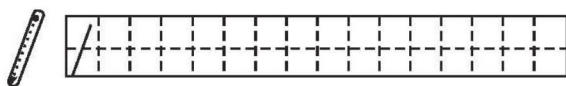


2



5

2. 写一写。





比大小·(1)

1. 在○里填上“>”“<”或“=”。

(1) $1 \bigcirc 1$

(9) $3 \bigcirc 4$

(2) $1 \bigcirc 5$

(10) $4 \bigcirc 5$

(3) $5 \bigcirc 1$

(11) $5 \bigcirc 3$

(4) $2 \bigcirc 4$

(12) $4 \bigcirc 2$

(5) $3 \bigcirc 1$

(13) $2 \bigcirc 2$

(6) $5 \bigcirc 2$

(14) $1 \bigcirc 4$

(7) $4 \bigcirc 4$

(15) $2 \bigcirc 5$

(8) $3 \bigcirc 5$

(16) $3 \bigcirc 2$

2. 在□里填上合适的数。

(1) $2 > \square$

(9) $4 > \square$

(2) $3 > \square$

(10) $3 = \square$

(3) $4 < \square$

(11) $5 > \square$

(4) $2 = \square$

(12) $1 = \square$

(5) $\square < 5$

(13) $\square < 4$

(6) $2 < \square$

(14) $4 = \square$

(7) $3 < \square$

(15) $\square = 5$

(8) $\square > 1$

(16) $\square < 3$

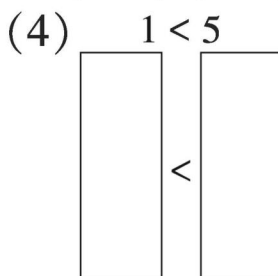
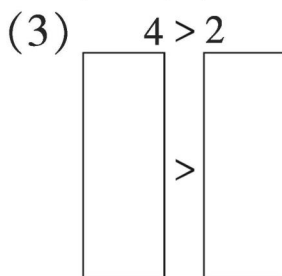
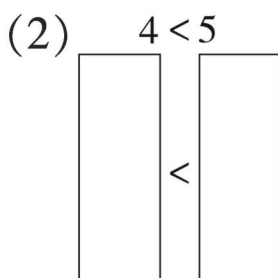
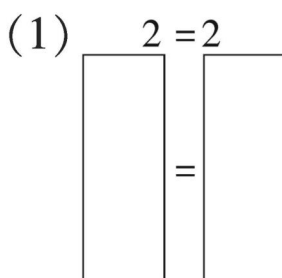
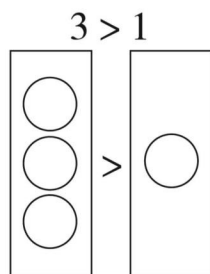


口算题卡




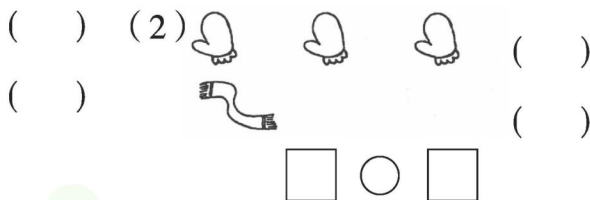
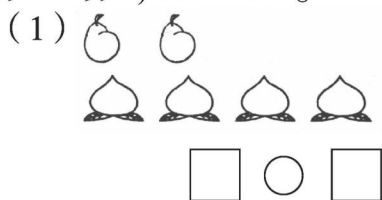
一年级 上册 时间:____分____秒 家长评价:_____

比大小·(2)

1. 照样子,画“○”表示上面的数。



2. 数一数,比一比。





黄冈360°数学 _____年____月____日 星期____

RJ

口算题卡

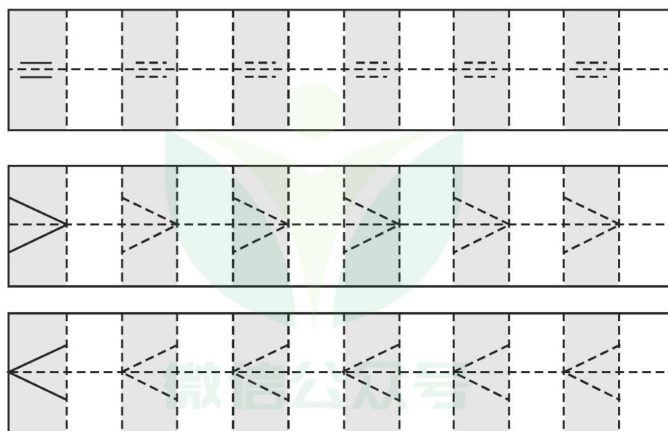
一年级 上册 时间：____分____秒 家长评价：_____

比大小·(3)

1. 比一比。

3 ○ 3	3 ○ 4	5 ○ 4

2. 描一描。





黄冈360°数学 _____年____月____日 星期____


RJ



口算题卡



一年级 上册 时间:____分____秒 家长评价:_____

比大小·(4)

1. 数一数,比一比。



	
()朵	()只

	
()棵	()只

□○□

□○□

2. 在○里填上“>”“<”或“=”。

$3 \bigcirc 4$

$1 \bigcirc 3$

$5 \bigcirc 2$

$2 \bigcirc 1$

$4 \bigcirc 5$

$5 \bigcirc 4$

$3 \bigcirc 2$

$4 \bigcirc 4$

$4 \bigcirc 2$

$2 \bigcirc 2$

$4 \bigcirc 1$

$4 \bigcirc 3$



黄冈360°数学 _____年____月____日 星期____

RJ

口算题卡


一年级 上册 时间:____分____秒 家长评价:_____


第几(1)

1. 数一数,填一填。




(1) 一共有()只动物。


(2) 从左数  排第(),  排第()。

(3)  从左数排第(), 从右数排第()。


(4) 把右边的两只动物圈起来。

2. 填一填。

(1)  是第()名, 最后一名是()号。

(2)  的后面是()号, 前面是()号和()号。

(3)  的前面有()名运动员, 一共有()名。





黄冈360°数学 _____年____月____日 星期____


RJ


口算题卡

一年级 上册 时间:____分____秒 家长评价:_____

第几(2)

1. 数一数,填一填。







的前面有()只小动物,后面有()只小动物。

从左数,在第()车厢。

2. 画一画,填一填。



(1) 在的左边画“□”,让从左往右数排在第3个;在的右边画“△”,让从右往左数排在第4个。

(2) 在的上面画2个○。

(3) □有()个,△有()个。

(4) □再添()个就和△同样多。



黄冈360°数学 _____年____月____日 星期____

RJ


口算题卡

一年级 上册 时间:____分____秒 家长评价:_____


第几(3)

圈一圈。

(1) 圈出从左边数第2顶帽子。



(2) 圈出右边的3部手机。



(3) 圈出从右边数第4辆小汽车。



(4) 圈出从左边数第1只小鸭。



(5) 圈出从左边数的第3个手表和从右边数的第1个手表。





第几(4)

涂一涂。


(1) 从左数, 给第4朵  涂上红色。



(2) 从右数, 给第5棵  涂上绿色。



(3) 从右数, 给第2个  涂上红色。



(4) 从左数, 给第3朵  涂上蓝色。



(5) 从右数, 给第4个  涂上红色。





黄冈360°数学 _____年____月____日 星期____


RJ

口算题卡

一年级 上册 时间:____分____秒 家长评价:_____

第几(5)

1. 小小裁判员。




有 名同学在赛跑。



排第 , 她前面有 人, 后面有 人。

2.



获得第 名,



获得第 名,



获得第 名。



黄冈360°数学 _____年____月____日 星期____


RJ

口算题卡

一年级 上册 时间:____分____秒 家长评价:_____

第几(6)

1. 游览动物园。



一共有 人,从左数,  排第 .



上面两个 里的数表示的意思一样吗? 请在正确答案的 里画“√”。

☐ 一样

☐ 不一样

2.



(1) 把左边的 4 条鱼圈起来。

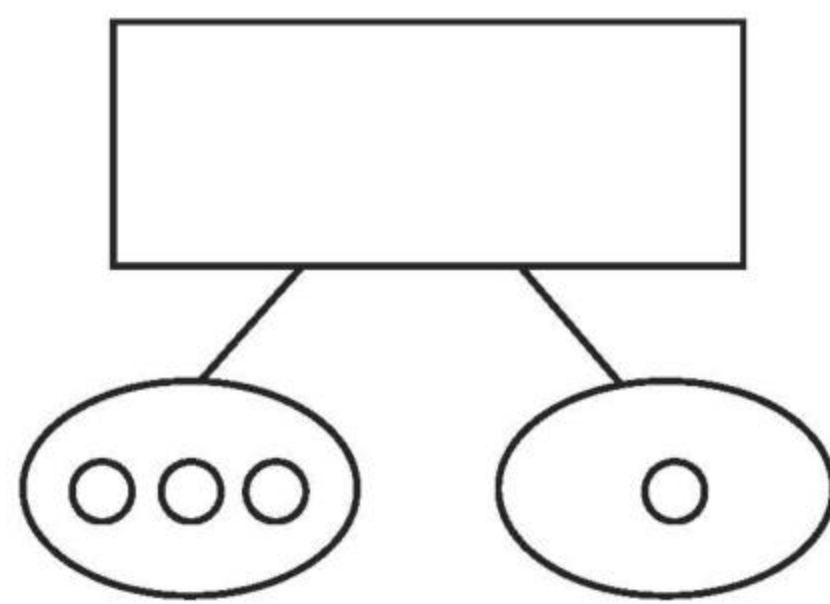
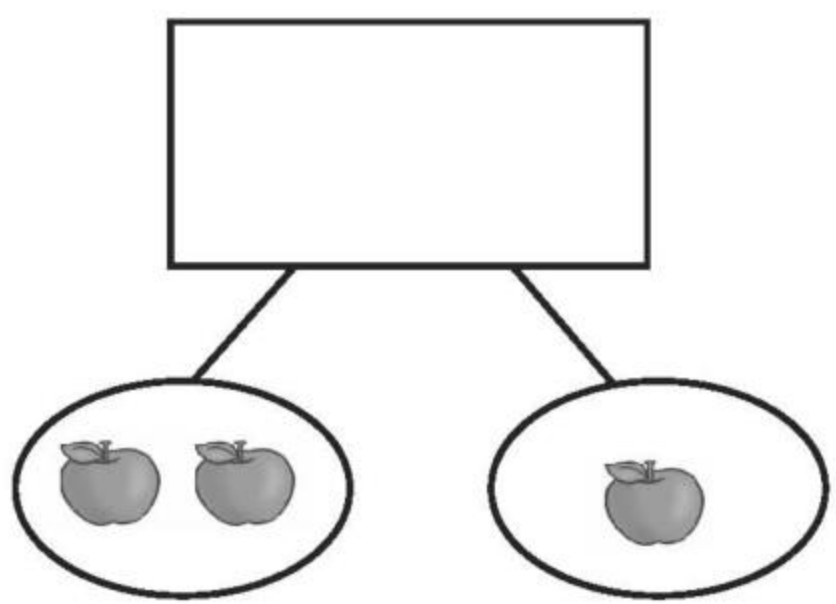
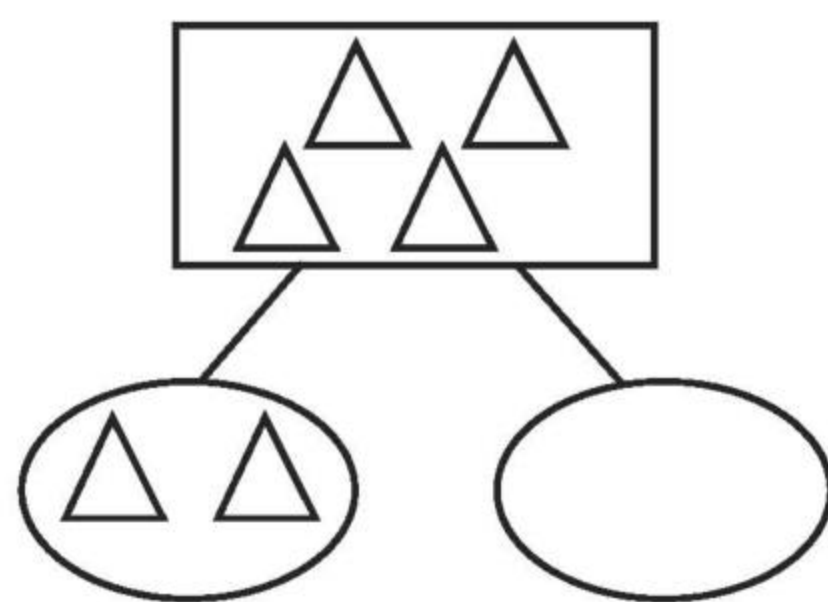
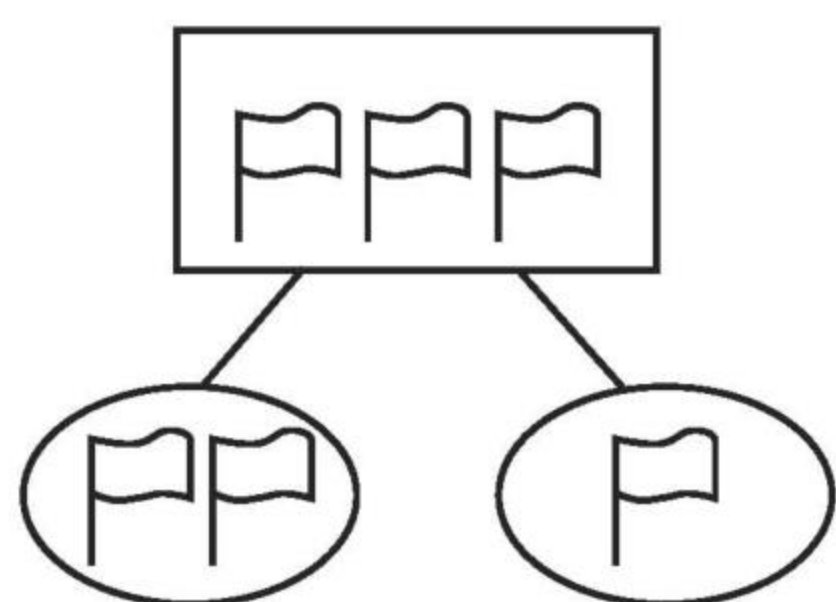
(2) 从左边数,给第 3 条鱼涂上你喜欢的颜色。

(3) 从右边数的第 1 条鱼游走了,还剩 条鱼。

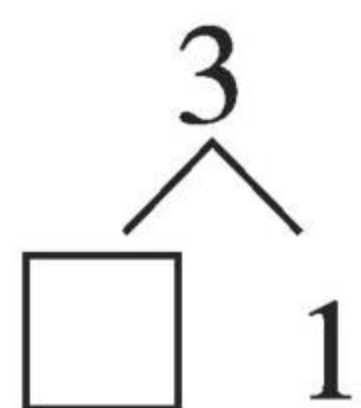
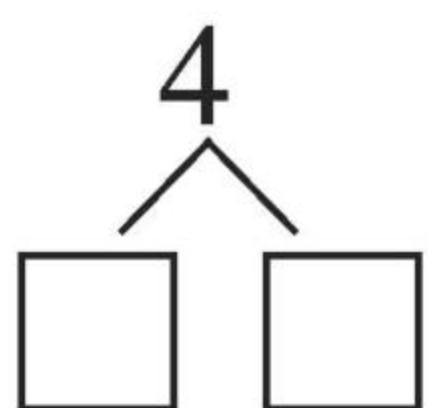
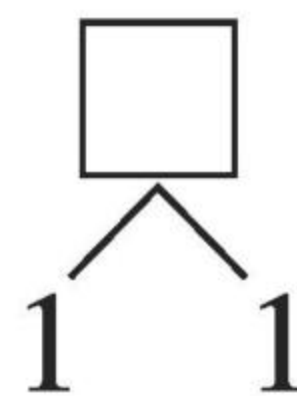
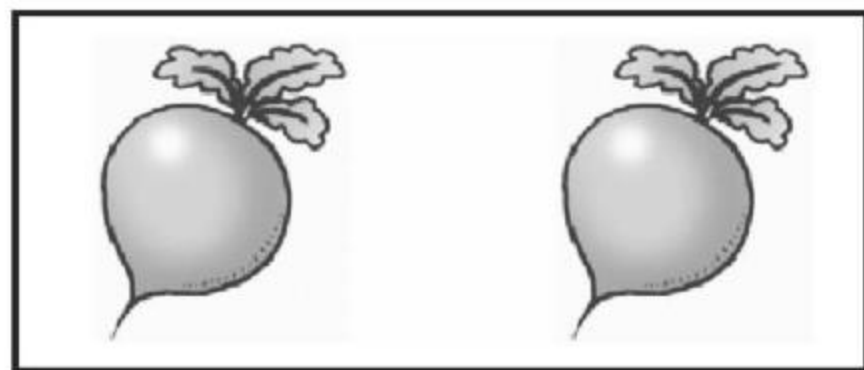
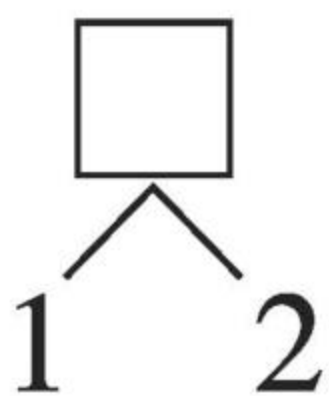
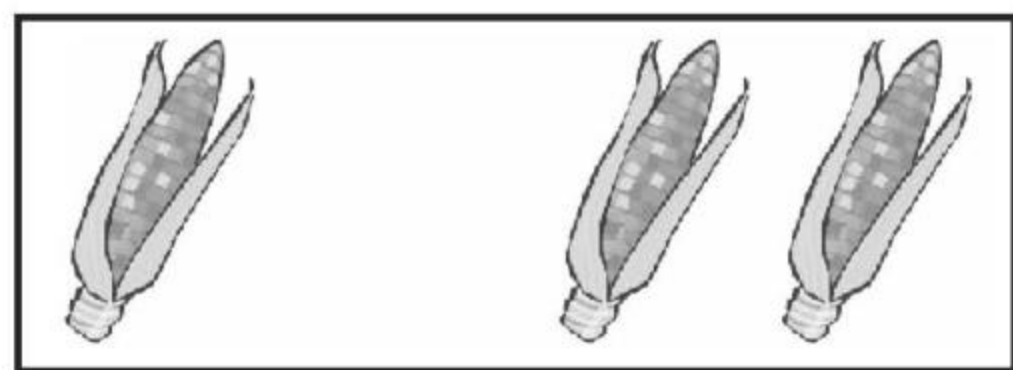


分与合(1)

1. 照样子,画一画。



2. 看图填数。

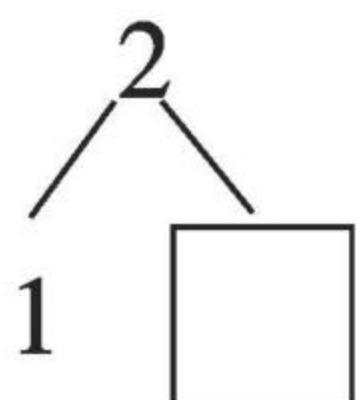




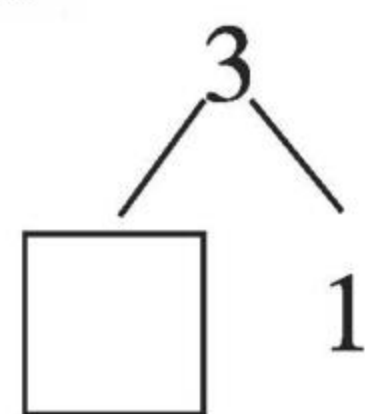

分与合(2)

1. 看图填数。

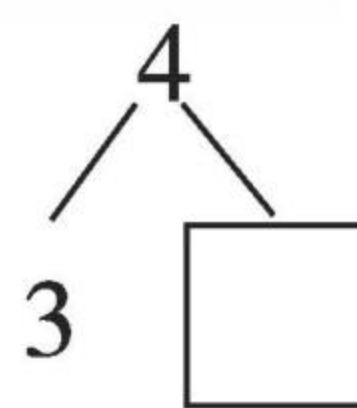
(1)



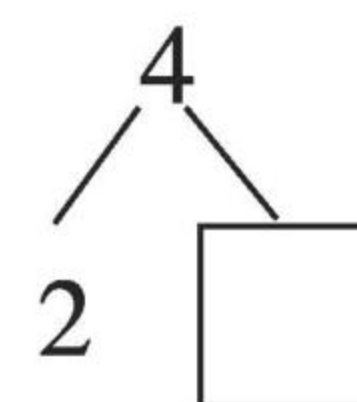
(2)



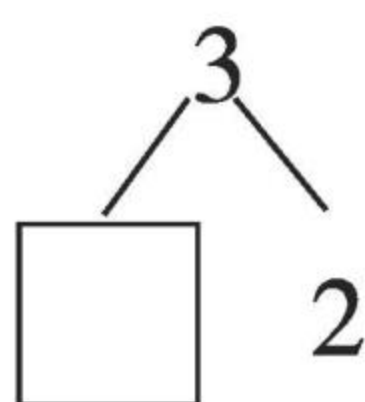
(3)



(4)

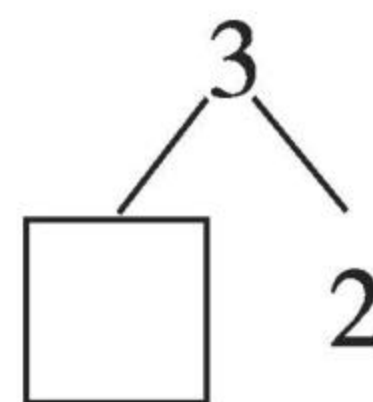


(5)

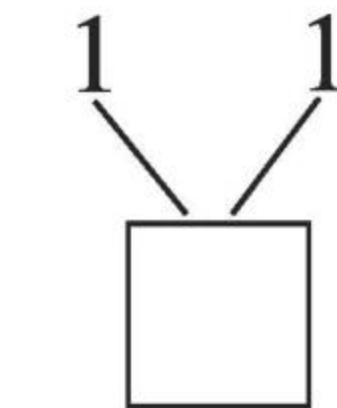


2. 填一填。

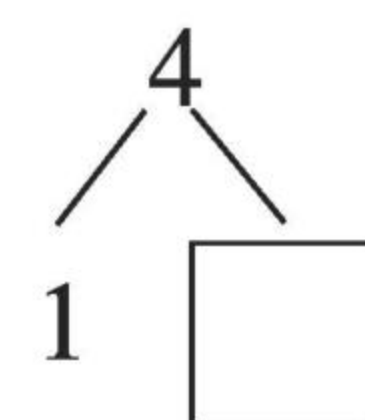
(1)



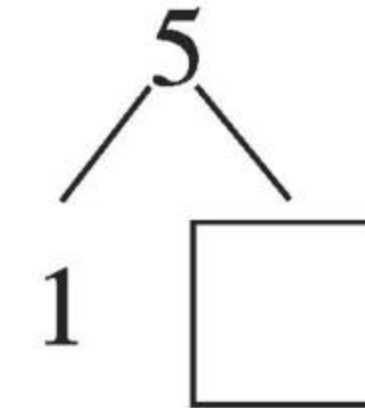
(2)



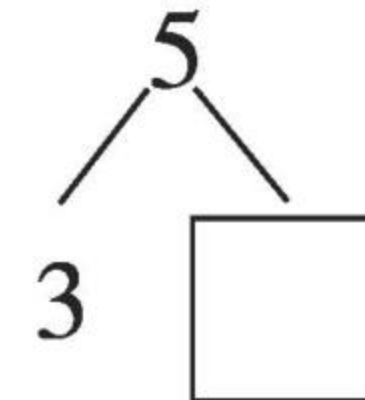
(3)



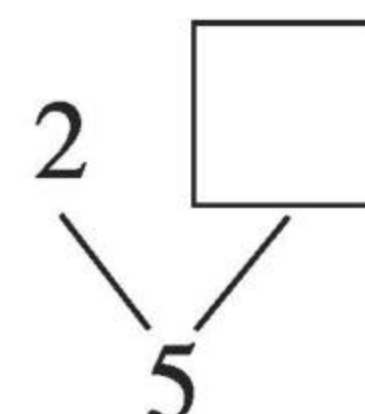
(4)



(5)



(6)





黄冈360°数学 _____年____月____日 星期____


RJ




口算题卡

一年级 上册 时间:____分____秒 家长评价:_____

加法(1)

1. 说一说,填一填。



小女孩右手有 3 支 , 左手有 2 支 , 把它们合并在一起, 一共有 支 , 可以用加法计算。

$$3 + 2 = \square$$

读作: 加 等于 。

2.



树上原来有 2 只鸟, 又飞来了 只, 把它们合并在一起, 一共有 只鸟, 可以用加法计算。

$$2 + \square = \square$$

读作: _____



黄冈360°数学 _____年____月____日 星期____





RJ

口算题卡

一年级 上册 时间:____分____秒 家长评价:_____

加法(2)

1. 看图填空。

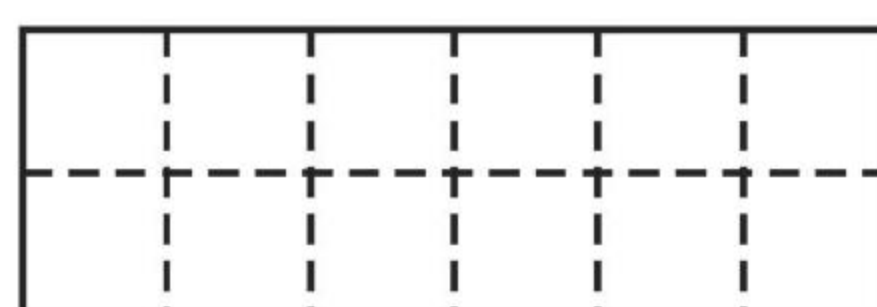

$$2 + 2 = \square$$

$$4 + 1 = \square$$

$$3 + 2 = \square$$

$$2 + 1 = \square$$

2. 读一读,写一写。

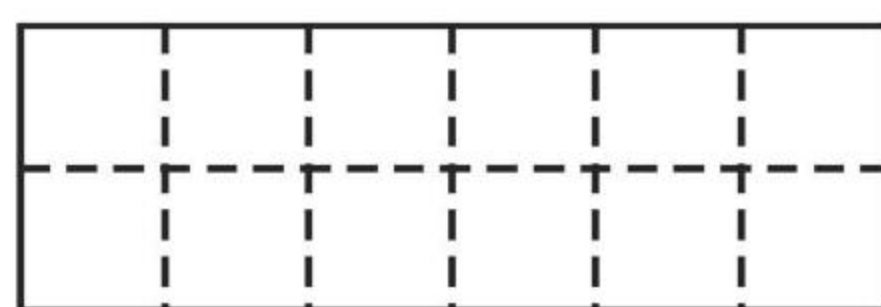
$$1+2=3$$



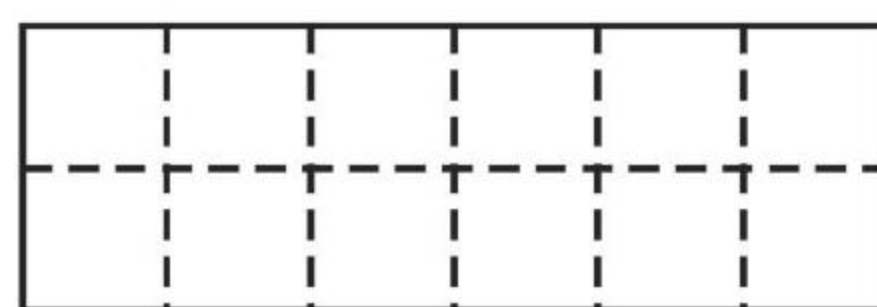
$$2+2=4$$



$$2+1=3$$



$$3+2=5$$





黄冈360°数学 _____年____月____日 星期____

RJ

口算题卡

一年级 上册 时间:____分____秒 家长评价:_____

加法(3)

1. 算一算。

$1 + 2 =$

$2 + 3 =$

$1 + 1 =$

$1 + 3 =$

$2 + 1 =$

$3 + 1 =$

$2 + 2 =$

$4 + 1 =$

$3 + 2 =$

$1 + 4 =$

2. 比一比。

$1 + 3 \bigcirc 3$

$1 + 1 \bigcirc 2$

$2 + 1 \bigcirc 4$

$2 + 2 \bigcirc 5$

$2 + 3 \bigcirc 5$

$1 + 4 \bigcirc 3$



$1 + 2 \bigcirc 4$

$4 + 1 \bigcirc 5$

$3 + 2 \bigcirc 1$

$3 + 1 \bigcirc 3$

3. 根据算式画一画,算一算。

$2 + 2 = 4$  	$1 + 3 =$
$2 + 3 =$	$2 + 1 =$



黄冈360°数学 _____年____月____日 星期____



RJ



口算题卡



一年级 上册 时间:____分____秒 家长评价:_____



加法(4)



我能填得对。



(1)  
() + () = ()

(2)  
() + () = ()

(3)  
() + () = ()

(4)  
() + () = ()

(5)  
() + () = ()

(6)  
() + () = ()



黄冈360°数学 _____年____月____日 星期____

RJ


口算题卡

一年级 上册 时间:____分____秒 家长评价:_____

加法(5)

看图填空。

1.



$$3+2=\square$$



$$2+3=\square$$



2.




$$3+1=\square$$



$$1+\square=\square$$

3.



$$\square+\square=\square$$

4.



$$\square+\square=\square$$

$$\square+\square=\square$$



加法(6)

请在正确的答案上涂上你喜欢的颜色。

(1) $2 + 1 =$  

(2) $1 + 3 =$  

(3) $1 + 1 =$  

(4) $2 + 2 =$  

(5) $3 + 2 =$  

(6) $1 + 2 =$  

(7) $1 + 4 =$  

(8) $4 + 1 =$  

(9) $2 + 3 =$  

(10) $3 + 1 =$  



黄冈360°数学 _____年____月____日 星期____

RJ

口算题卡

一年级 上册 时间:____分____秒 家长评价:_____

加法(7)

1. 口算。

$1 + 1 =$

$2 + 3 =$

$2 + 2 =$

$4 + 1 =$

$2 + 1 =$

$1 + 4 =$

$3 + 2 =$

$3 + 1 =$

$2 + 0 =$

$4 + (\quad) = 5$

2. 比大小。

$4 + 1 \bigcirc 4$

$1 + 2 \bigcirc 3$

$1 + 1 \bigcirc 2$

$1 + 4 \bigcirc 5$

$2 + 2 \bigcirc 3$

$2 + 3 \bigcirc 4$


$3 + 2 \bigcirc 5$

$1 + 3 \bigcirc 5$

$3 + 1 \bigcirc 3$

$4 + 1 \bigcirc 3$

3. 我会做。



一共有多少只小白兔?

$$\square + \square = \square \text{ (只)}$$



黄冈360°数学 _____年____月____日 星期____


RJ

口算题卡

一年级 上册 时间:____分____秒 家长评价:_____

减法(1)

1. 说一说,填一填。





荷叶上原来有 3 只 , 跳走了 1 只, 还剩下 只 , 可以用减法计算。

$$3 - 1 = \square$$

读作: 减 等于 。

2. 填一填。



原来有 4 个 , 小刺猬背走了 个, 还剩下 个 , 可以用减法计算。

$$4 - \square = \square$$

读作: 减 等于 。



黄冈360°数学 _____年____月____日 星期____

RJ


口算题卡

一年级 上册 时间:____分____秒 家长评价:_____

减法(2)

1. 先画线,再填得数。

$4-2=\square$



$3-1=\square$



$2-1=\square$



$5-2=\square$




$4-1=\square$




$5-4=\square$




2. 看图列式计算。




$3-2=\square$



$5-\square=\square$



$\square-\square=\square$



$\square-\square=\square$



减法(3)

照样子,填一填。



$$\boxed{5} - \boxed{4} = \boxed{1}$$



$$\boxed{} - \boxed{} = \boxed{}$$



$$\boxed{} - \boxed{} = \boxed{}$$



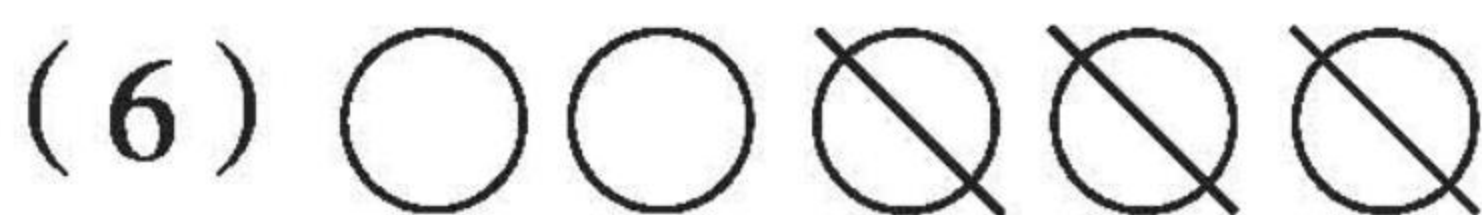
$$\boxed{} - \boxed{} = \boxed{}$$




$$\boxed{} - \boxed{} = \boxed{}$$



$$\boxed{} - \boxed{} = \boxed{}$$



$$\boxed{} - \boxed{} = \boxed{}$$



$$\boxed{} - \boxed{} = \boxed{}$$



$$\boxed{} - \boxed{} = \boxed{}$$



黄冈360°数学 _____年____月____日 星期____

RJ

口算题卡

一年级 上册 时间:____分____秒 家长评价:_____

减法(4)

1. 填一填。

$5 - () = 3$

$5 - () = 2$

$4 - () = 1$

$3 - () = 1$

$5 - () = 4$

$5 - () = 4$

$3 - () = 2$

$() - 2 = 3$

$2 - () = 1$

$() - 4 = 1$

2. 在○里填上“>”“<”或“=”。

$5 - 1 \bigcirc 4$

$4 - 3 \bigcirc 1$

$4 - 2 \bigcirc 3$

$4 - 1 \bigcirc 2$

$5 - 2 \bigcirc 4$

$1 + 2 \bigcirc 3$


$3 - 1 \bigcirc 2$

$2 + 2 \bigcirc 5$


$5 - 3 \bigcirc 2$

$5 - 4 \bigcirc 2$


3. 照样子,划一划,填一填。




$4 - 2 = \square$



$5 - 3 = \square$



$4 - 1 = \square$



$5 - \square = \square$



黄冈360°数学 _____年____月____日 星期____

RJ

口算题卡

一年级 上册 时间:____分____秒 家长评价:_____

0(1)

1. 连一连。



$4-1$



$2+0$



$3+2$



$5-5$



2



3



0



5




$5+0$



$5-3$



$5-0$



$3-3$

2. 还有几个😊?



$5-\square=\square$



$5-\square=\square$



$5-\square=\square$



$5-\square=\square$



黄冈360°数学 _____年____月____日 星期____

RJ

口算题卡

一年级 上册 时间:____分____秒 家长评价:_____

0(2)

1. 算一算。

(1) $3 - 1 =$

(6) $5 - 5 =$

(2) $1 + 0 =$

(7) $2 + 3 =$

(3) $0 + 3 =$

(8) $4 - 1 =$

(4) $4 - 3 =$

(9) $5 - 3 =$

(5) $4 + 0 =$

(10) $0 + 5 =$

2. 在()里填上合适的数。

(1) $0 + 2 = (\quad)$

(6) $3 + (\quad) = 3$

(2) $1 - (\quad) = 0$

(7) $3 - 0 = (\quad)$

(3) $5 - (\quad) = 5$

(8) $0 + (\quad) = 4$

(4) $(\quad) + 0 = 5$

(9) $4 - (\quad) = 0$

(5) $(\quad) - 1 = 2$

(10) $(\quad) - 5 = 0$

3. 看图写一写。



$5 - \square = \square$



$5 - \square = \square$



黄冈360°数学 _____年____月____日 星期____

RJ

口算题卡

一年级 上册 时间:____分____秒 家长评价:_____

0(3)

1. 口算。

$3 + 0 =$

$1 - 0 =$

$5 - 0 =$

$3 - 0 =$

$3 - 3 =$

$5 - 3 =$

$5 - 2 =$

$3 + 2 =$

$0 + 4 =$

$2 + 2 =$

$5 - 3 =$

$4 - 1 =$

$0 + 2 =$

$4 - 3 =$

$3 + 2 =$

$5 - 1 =$

$1 - 1 =$

$5 - 4 =$

$4 + 1 =$

$4 - 4 =$

2.



$\square + \square = \square (\text{朵})$



黄冈360°数学 _____年____月____日 星期____

RJ

口算题卡

一年级 上册 时间:____分____秒 家长评价:_____

0(4)

1. 连一连。

$4 + 0$

$5 - 0$

$3 - 3$

$1 + 2$

$5 - 4$

$2 + 2$

$4 - 4$

$1 + 4$

$0 + 2$

$3 - 0$

0

1

2

3

4

5

$3 + 2$

$4 - 1$

$3 + 1$

$5 - 3$

$5 - 5$

$1 + 0$


$2 - 0$

$4 - 3$

$5 - 1$

$2 - 2$

2. 看图填空。






$$\square \bigcirc \square = \square$$

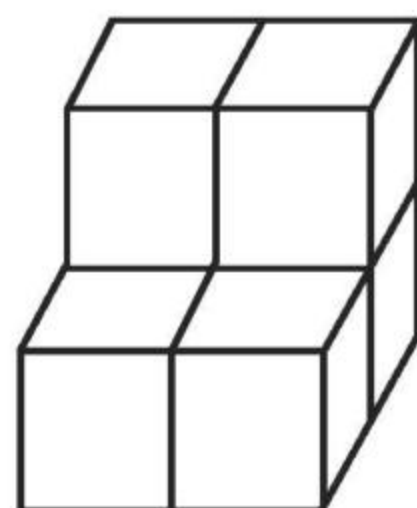


认识图形(1)

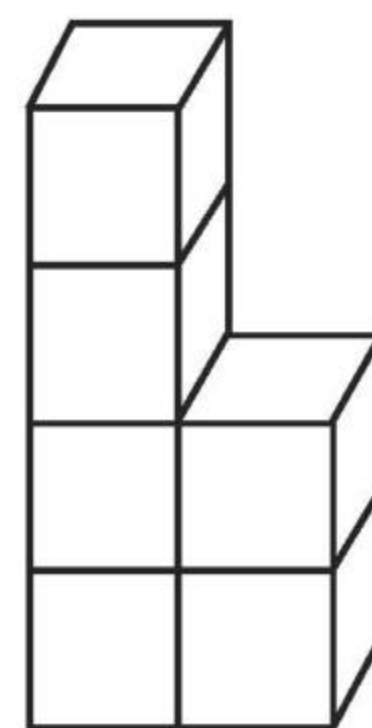
1. 连一连。



2. 数一数下面图中各有多少个正方体。



()个



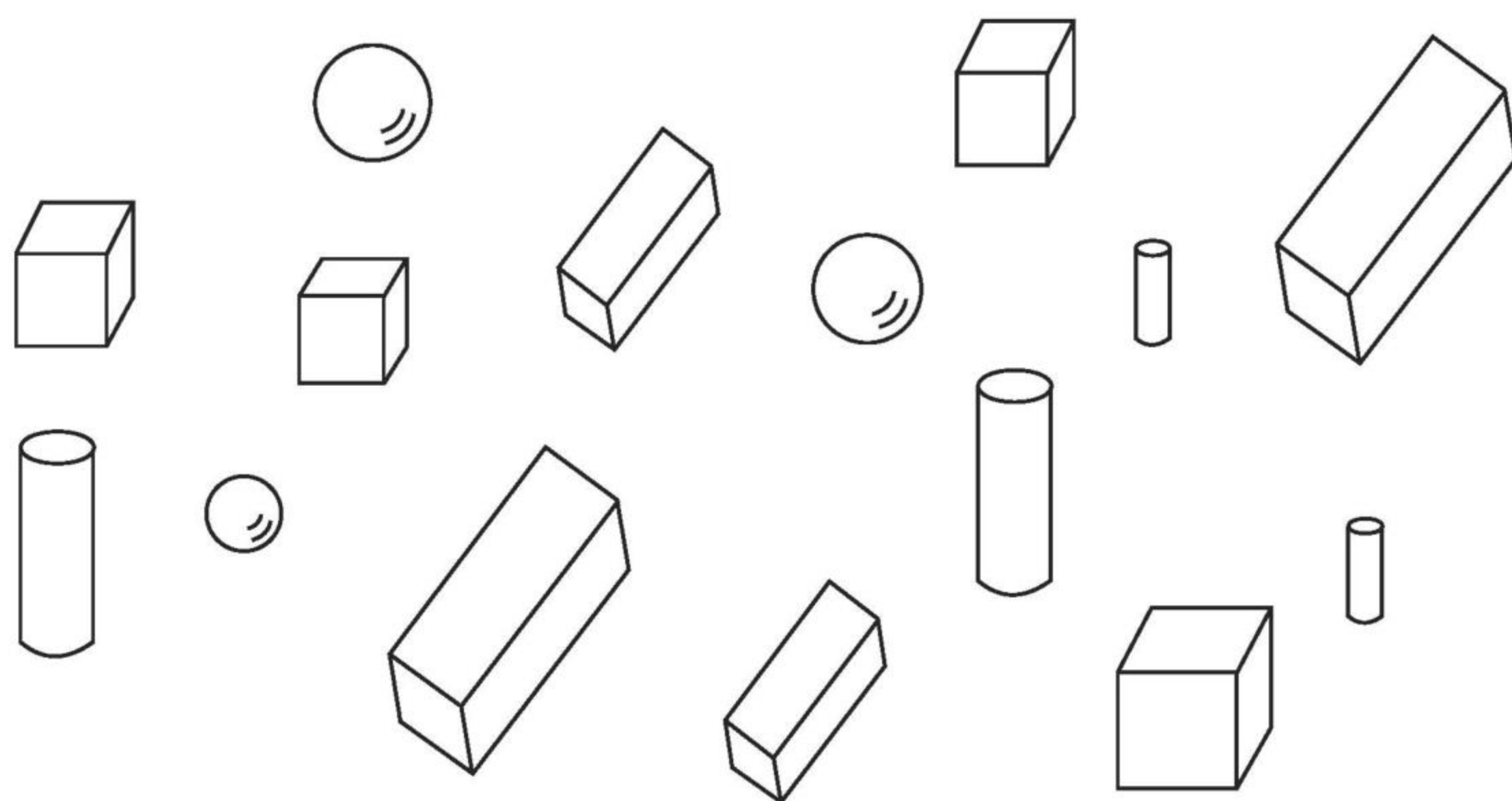
()个





认识图形(2)

1. 数一数,填一填。

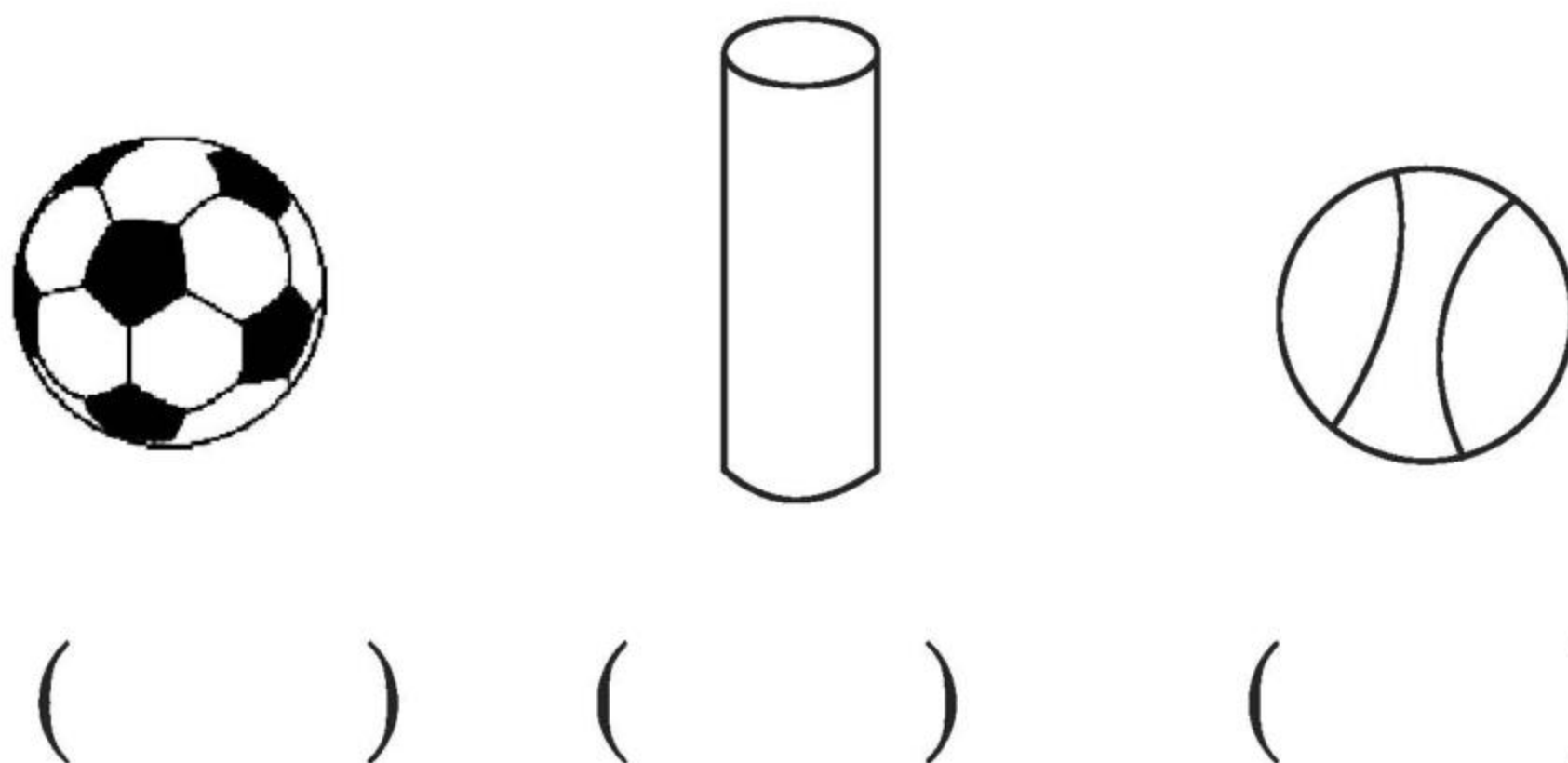


有()个,有()个,有()个,

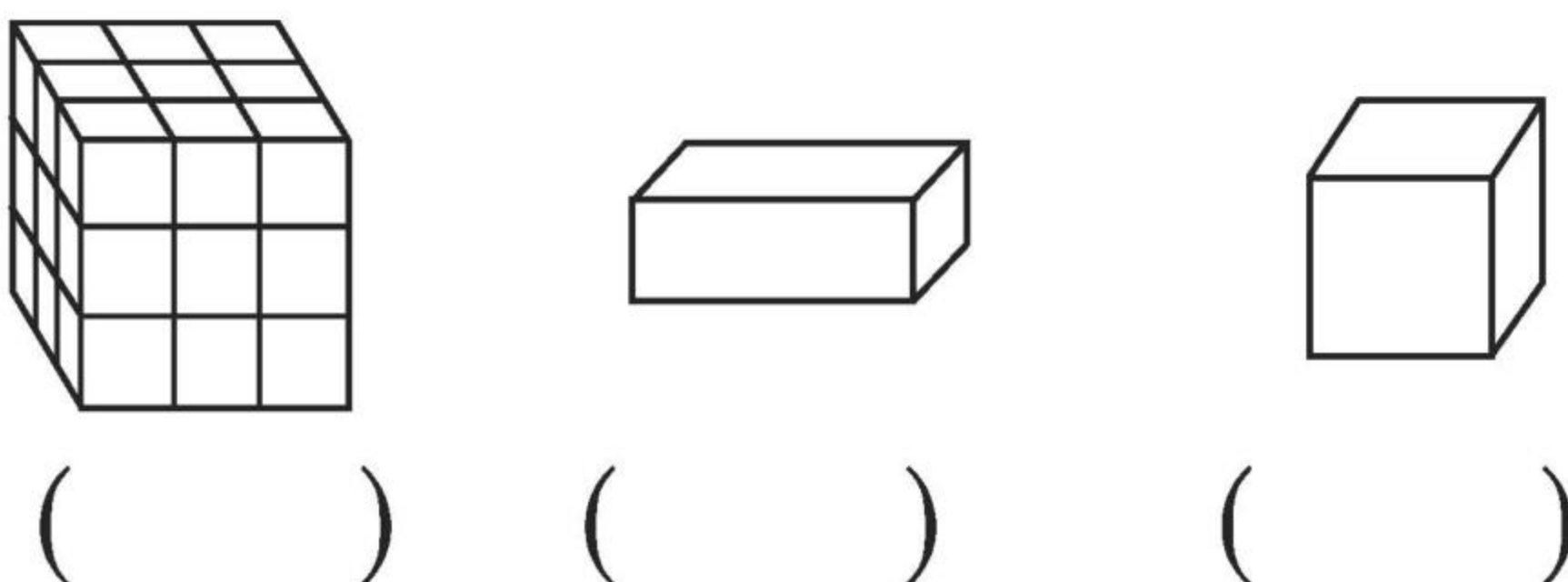
有()个。

2. 认一认,画一画。

(1) 在圆柱的下面画“√”,球的下面画“○”。



(2) 在长方体的下面画“√”,正方体的下面画“○”。





黄冈360°数学 _____年____月____日 星期____


RJ

口算题卡

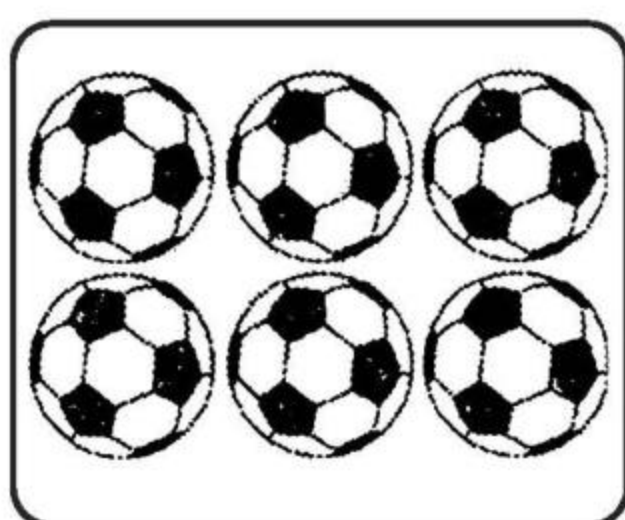
一年级 上册 时间:____分____秒 家长评价:_____

6 和 7 的认识(1)

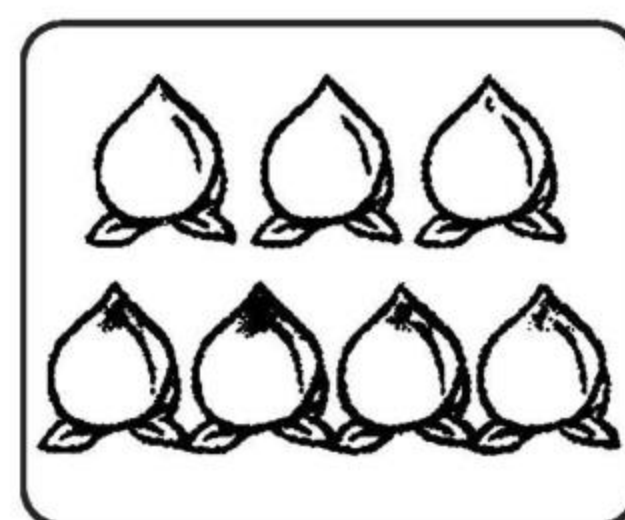
1. 看图写数。



()



()

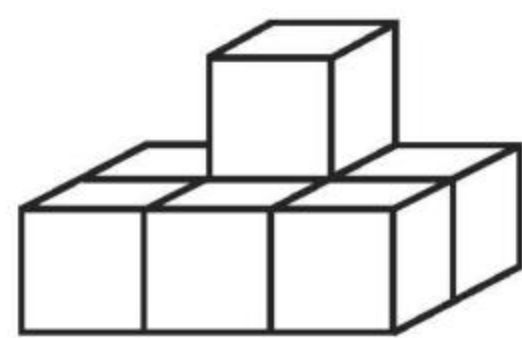


()

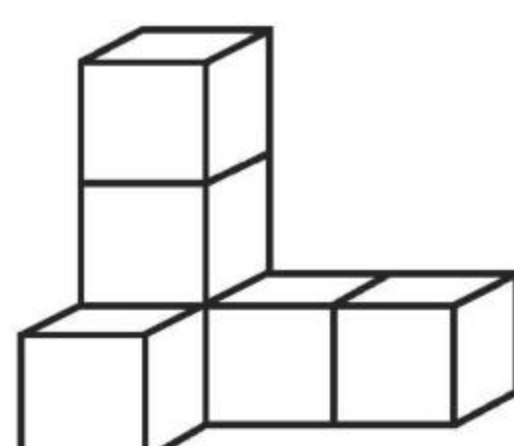
2. 按顺序填数。

0	1		3		5		
---	---	--	---	--	---	--	--

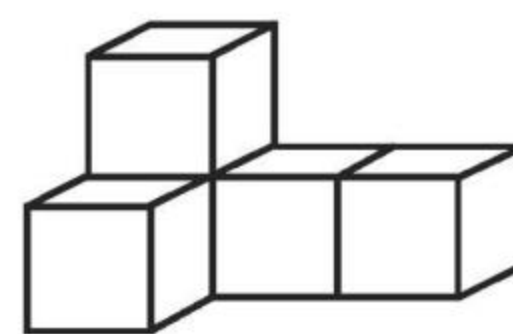
3. 数一数,填一填。



()个



()个



()个

4. 在○里填上“>”“<”或“=”。

$5 \bigcirc 6$

$6 \bigcirc 6$

$7 \bigcirc 6$

$6 \bigcirc 7$

$4 \bigcirc 6$

$7 \bigcirc 5$



黄冈360°数学 _____年____月____日 星期____

RJ

口算题卡


一年级 上册 时间:____分____秒 家长评价:_____

6 和 7 的认识(2)

1. 把下面的数字按从大到小的顺序排一排。



2.

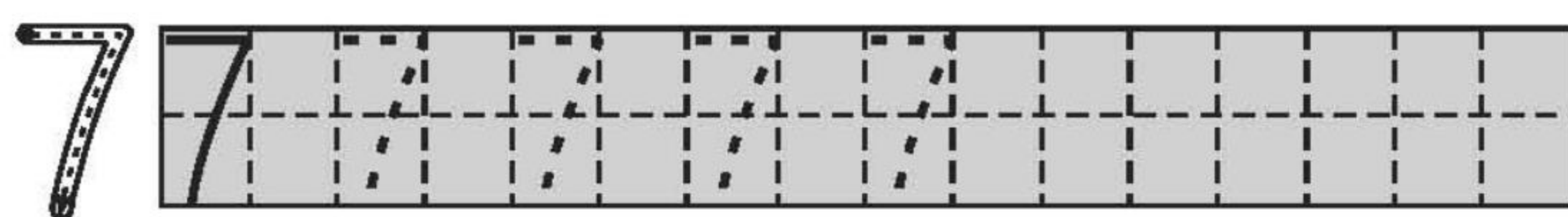
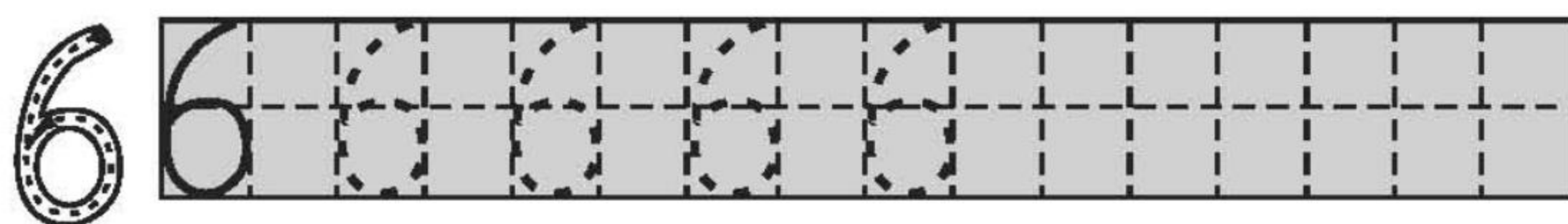


(1) 把从左数第 7 只小企鹅涂上你喜欢的颜色。

(2) 在从右数第 6 只小企鹅的头上画 1 个○。

(3) 把右边的 6 只小企鹅圈起来。

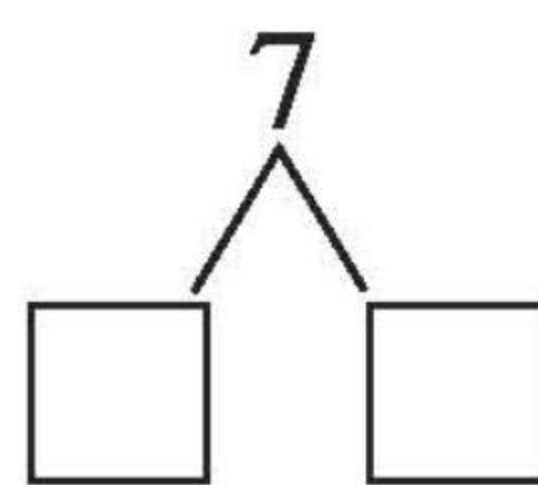
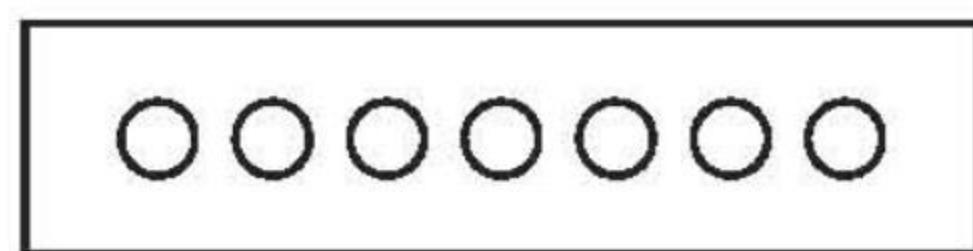
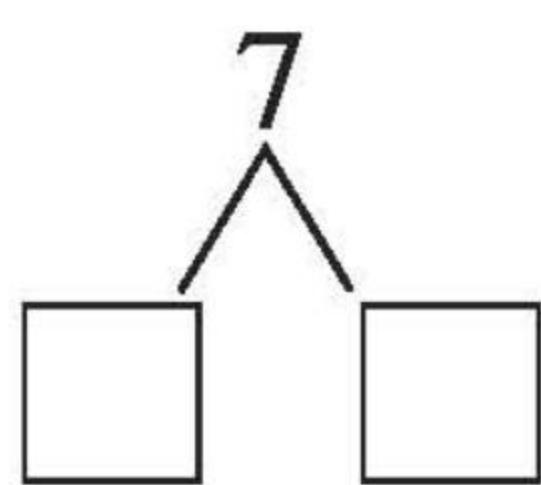
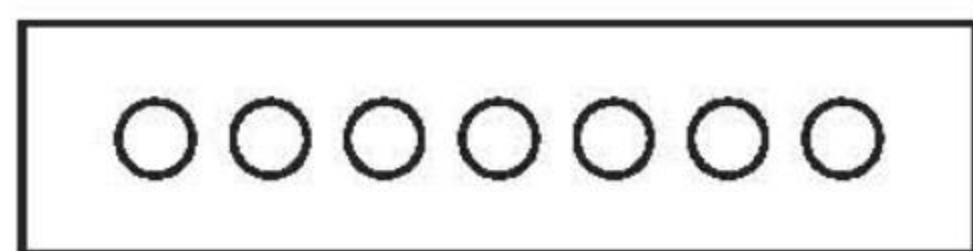
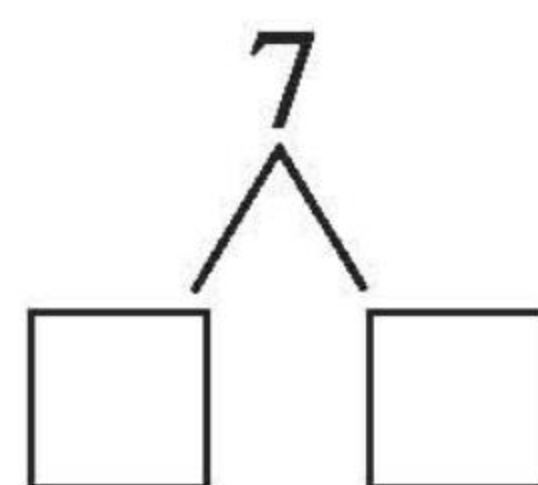
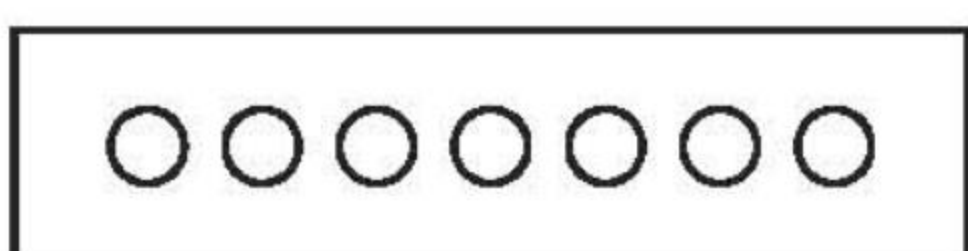
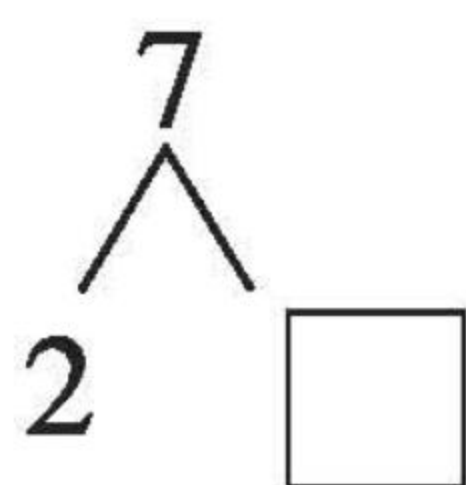
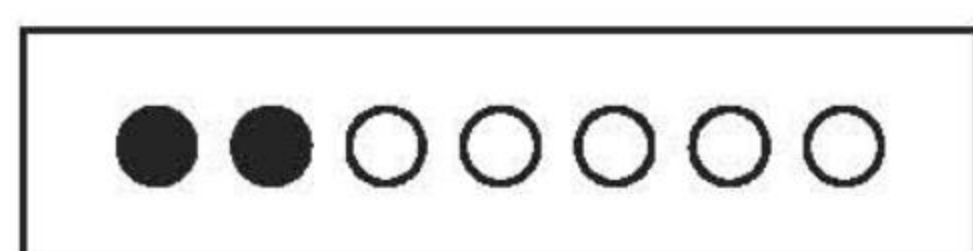
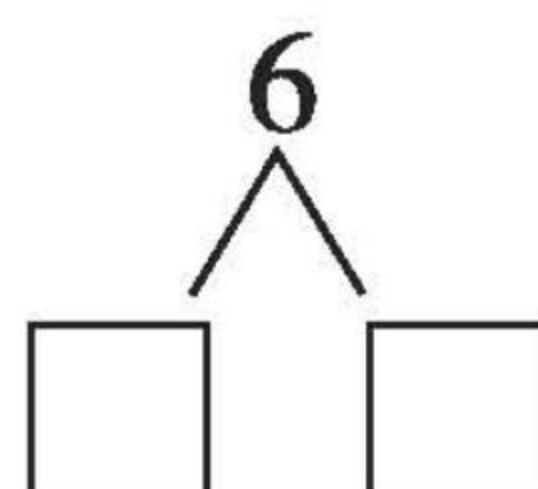
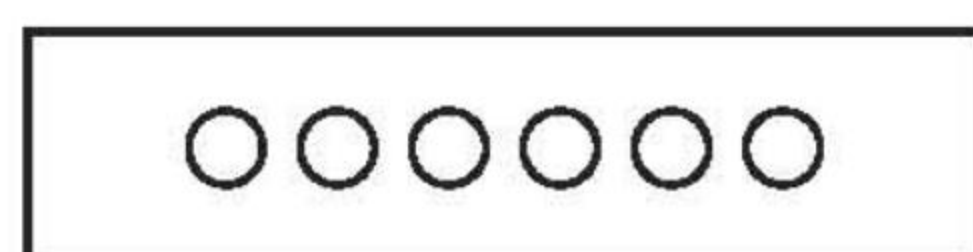
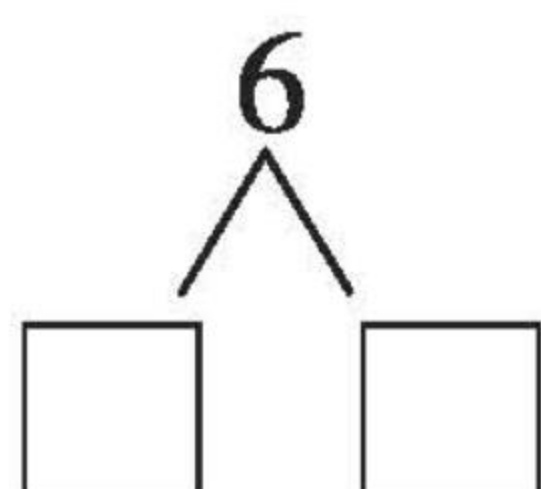

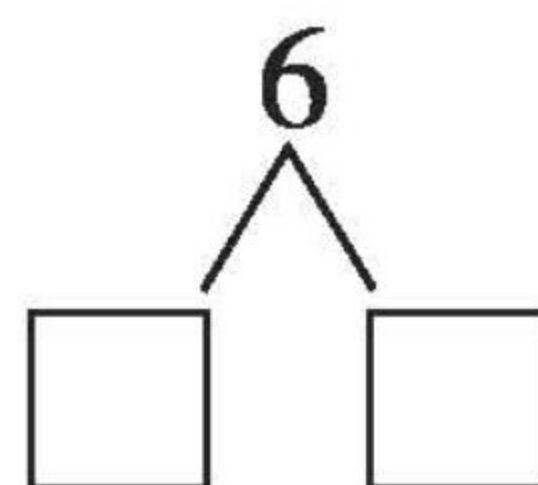
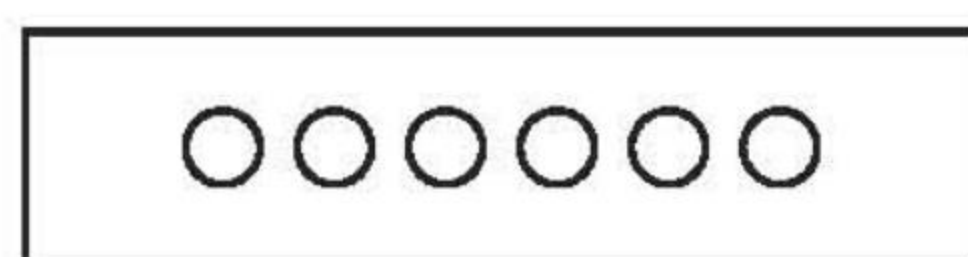
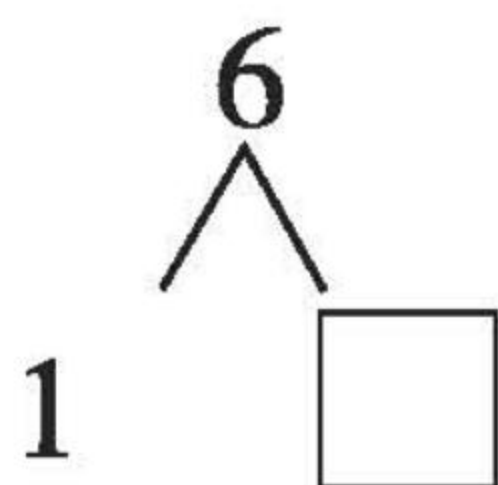
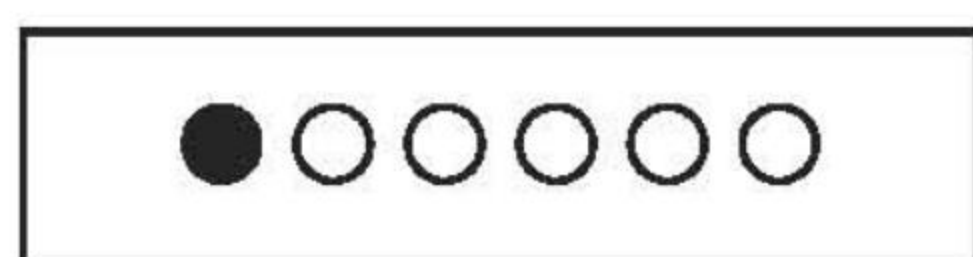
3. 描一描,写一写。





6 和 7 的组成(1)

分一分,涂一涂,填一填。





黄冈360°数学 _____年____月____日 星期____

RJ

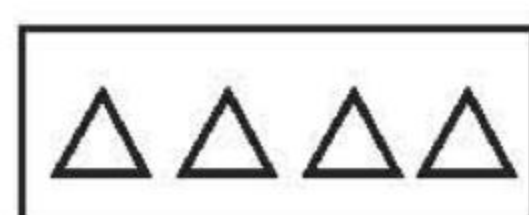
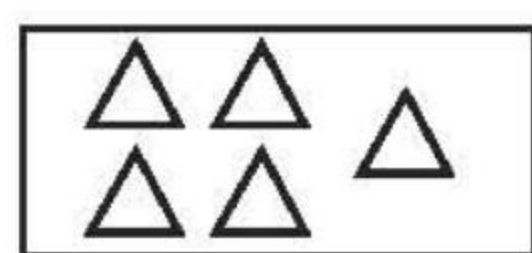
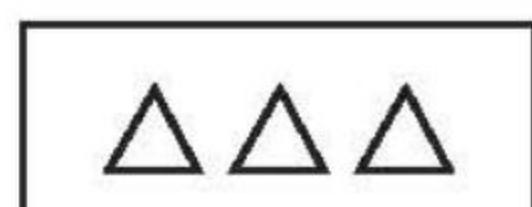
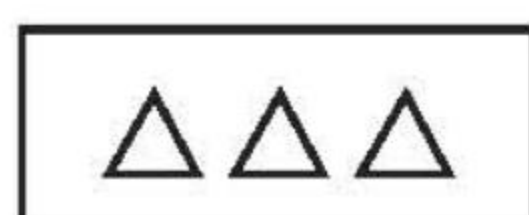
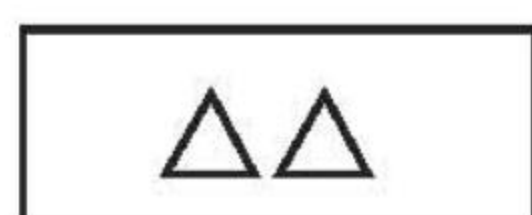
口算题卡

一年级 上册 时间:____分____秒 家长评价:_____


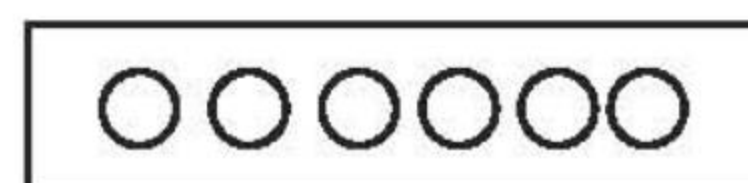
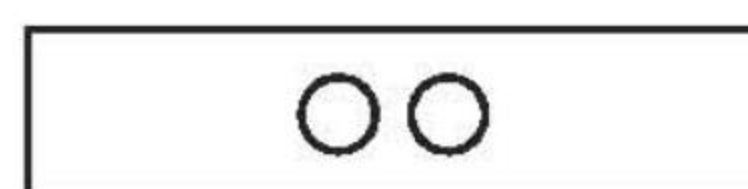
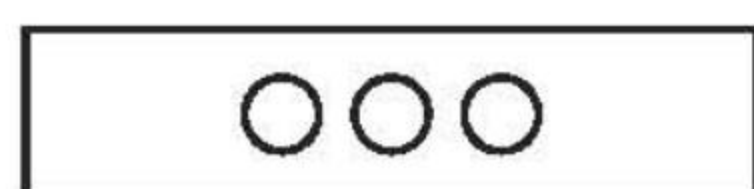
6 和 7 的组成(2)

1. 连一连。

(1) 合起来是 6。



(2) 合起来是 7。



2. 填一填。



2 ()



5 ()



3 ()



黄冈360°数学 _____年____月____日 星期____

RJ


口算题卡

一年级 上册 时间:____分____秒 家长评价:_____

6 和 7 的加减法(1)

1. 摆一摆,填一填。

(1)




$2+4=\square$

$6-4=\square$

$4+2=\square$

$6-2=\square$

(2)



$4+3=\square$

$7-3=\square$

$3+4=\square$

$7-4=\square$

2. 比大小。

$7 \bigcirc 2+3$

$6 \bigcirc 4+1$

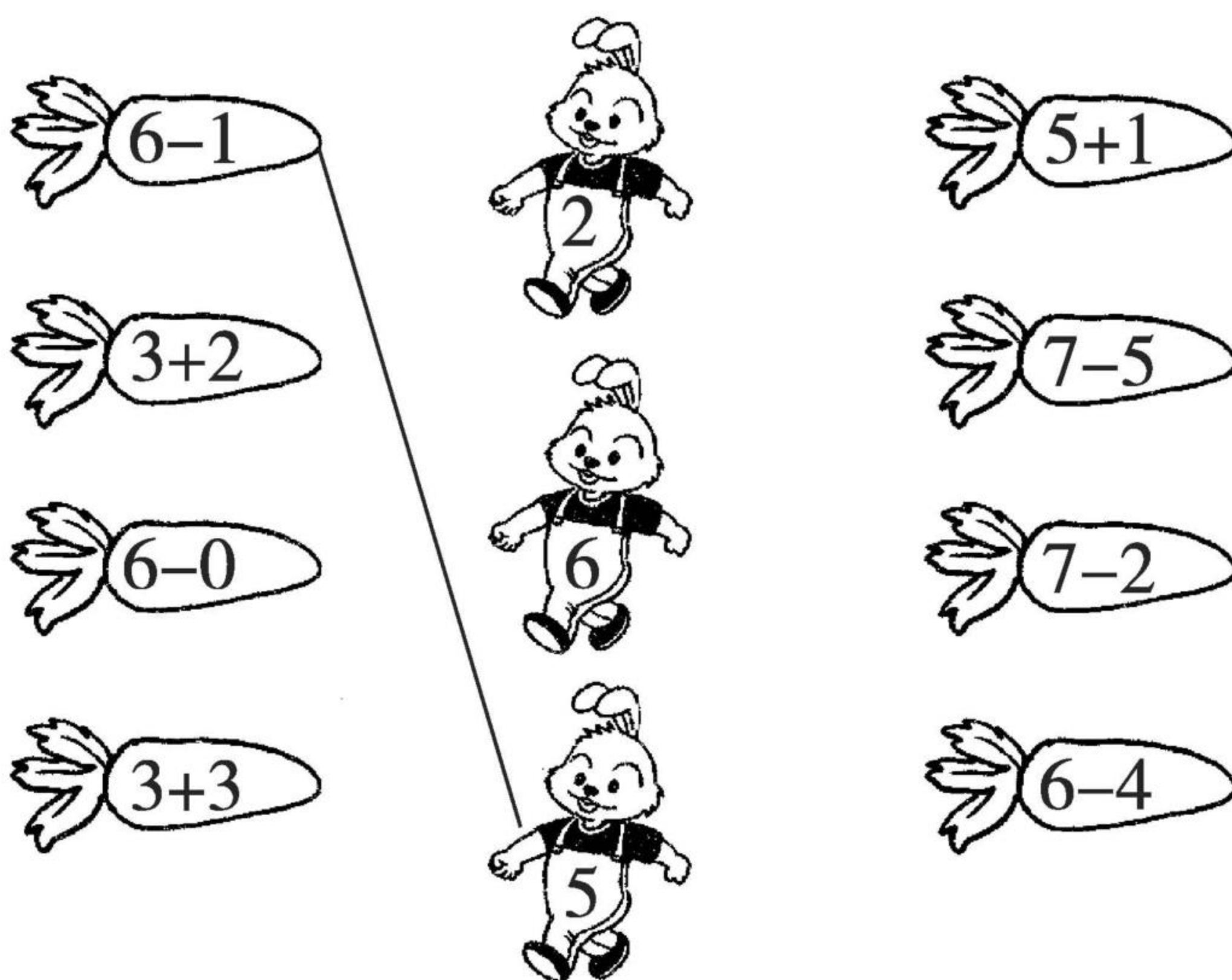
$7-2 \bigcirc 5$

$4+3 \bigcirc 7$



6 和 7 的加减法(2)

1. 拔萝卜。(连线)



2. 先计算再抄写算式。

$2 + 4 =$

$7 - 3 =$

$5 + 0 =$

3.

6-	6	5	4	3	2	1	0
	0						

7-	1	6	2	5	3	4	0	7



黄冈360°数学 _____年____月____日 星期____

RJ

口算题卡

一年级 上册 时间:____分____秒 家长评价:_____

6 和 7 的加减法(3)

1. 在○里填上“+”或“-”。

(1) $4 \bigcirc 3 = 7$

(11) $6 \bigcirc 2 = 4$

(2) $5 \bigcirc 2 = 7$

(12) $3 \bigcirc 3 = 6$

(3) $7 \bigcirc 5 = 2$

(13) $3 \bigcirc 2 = 5$

(4) $7 \bigcirc 6 = 1$

(14) $6 \bigcirc 1 = 5$

(5) $7 \bigcirc 1 = 6$

(15) $2 \bigcirc 4 = 6$

(6) $5 \bigcirc 2 = 7$

(16) $2 \bigcirc 2 = 4$

(7) $3 \bigcirc 0 = 3$

(17) $1 \bigcirc 5 = 6$

(8) $3 \bigcirc 2 = 5$

(18) $4 \bigcirc 1 = 5$

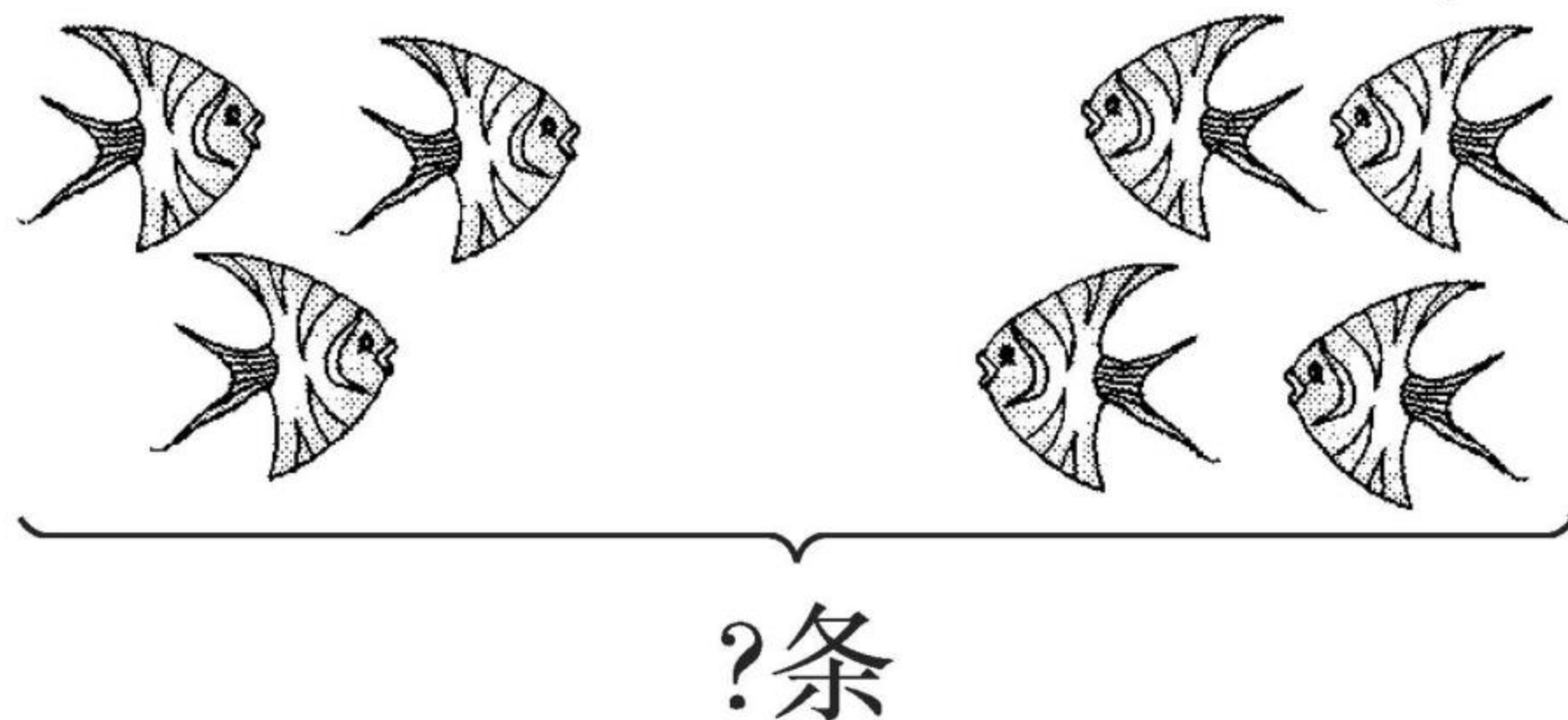
(9) $4 \bigcirc 2 = 6$

(19) $4 \bigcirc 2 = 2$

(10) $7 \bigcirc 2 = 5$

(20) $5 \bigcirc 0 = 5$

2. 看图写算式。



左边有 条小鱼, 右边有 条小鱼, 一共有几条小鱼?

\bigcirc = (条)



黄冈360°数学 _____年____月____日 星期____

RJ

口算题卡

一年级 上册 时间:____分____秒 家长评价:_____

6 和 7 的加减法(4)

1. 在()里填上合适的数。

(1) $7 - () = 4$

(11) $2 + () = 5$

(2) $6 - () = 4$

(12) $7 - () = 0$

(3) $5 + () = 6$

(13) $3 + () = 4$

(4) $3 + () = 6$

(14) $7 - () = 5$

(5) $7 - () = 2$

(15) $5 + () = 7$

(6) $1 + () = 6$

(16) $3 + () = 7$

(7) $7 - () = 1$

(17) $7 - () = 3$

(8) $6 + () = 7$

(18) $4 + () = 6$

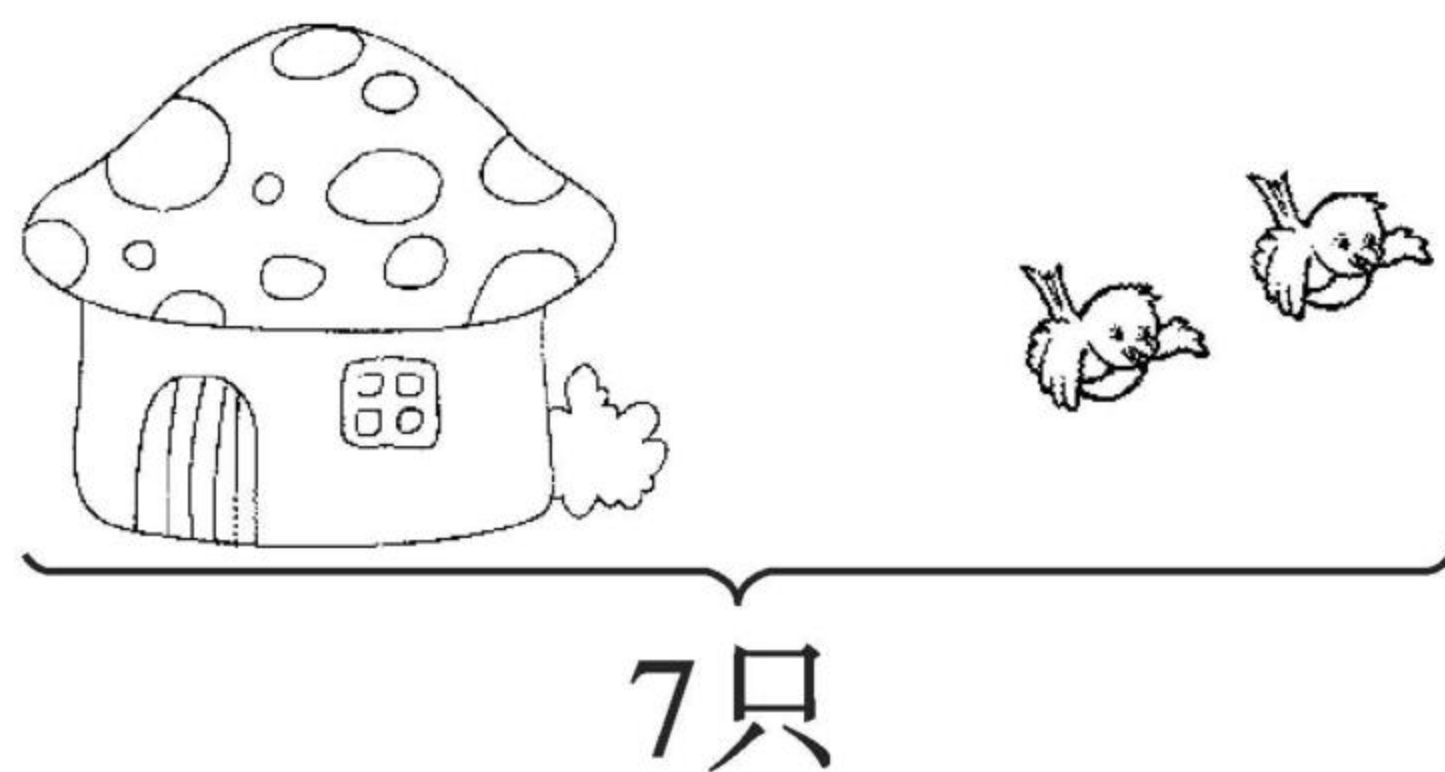
(9) $5 - () = 2$

(19) $6 - () = 3$

(10) $6 - () = 2$

(20) $1 + () = 7$

2. 解决问题。



一共有□只鸟,飞走了□只,房子里还有几只鸟?

□ ○ □ = □ (只)



黄冈360°数学 _____年____月____日 星期____

RJ

口算题卡

一年级 上册 时间:____分____秒 家长评价:_____

6 和 7 的加减法(5)

1. 口算。

$2 + 5 =$

$6 - 1 =$

$6 - 5 =$

$3 + 3 =$

$4 + 2 =$

$6 - 2 =$

$6 - 3 =$

$3 + 2 =$

$4 + 3 =$

$7 - 4 =$

$7 - 2 =$

$5 + 1 =$

$6 + 1 =$

$7 - 5 =$

$7 - 1 =$

$6 - 0 =$

$0 + 6 =$

$6 - 6 =$

$7 - 0 =$

$0 + 7 =$

2. 比大小。

$7 \bigcirc 5 + 1$

$8 - 6 \bigcirc 3$

$2 \bigcirc 6 - 4$

$2 + 3 \bigcirc 7$

$5 \bigcirc 3 + 3$

$7 - 2 \bigcirc 6$



黄冈360°数学 _____年____月____日 星期____

RJ

口算题卡

一年级 上册 时间:____分____秒 家长评价:_____

6 和 7 的加减法(6)

1. 口算。

$3 + 4 =$

$5 + 2 =$

$6 + 0 =$

$5 + 1 =$

$7 - 3 =$

$7 - 2 =$

$0 + 6 =$

$7 - 1 =$

$7 + 0 =$

$6 - 4 =$

$7 - 4 =$

$6 - 1 =$

$2 + 4 =$

$6 - 5 =$

$4 - 1 =$

$7 - 7 =$

$3 + 3 =$

$6 - 3 =$

$7 - 5 =$

$6 + 1 =$

2. 比大小。

$2 + 5 \bigcirc 3 + 2$

$3 + 4 \bigcirc 4 + 2$

$1 + 4 \bigcirc 5 + 2$

$7 - 4 \bigcirc 7 - 5$

$7 - 3 \bigcirc 4 + 1$

$4 + 1 \bigcirc 6 - 5$



黄冈360°数学 _____年____月____日 星期____

RJ

口算题卡

一年级 上册 时间:____分____秒 家长评价:_____

8 和 9 的认识

1. 按顺序填数。

(1)

()	1	()	3	()	5	6	7	()	()
-----	---	-----	---	-----	---	---	---	-----	-----

①8 前面一个数是(), 后面一个数是()。

②与 7 相邻的两个数是()和()。

(2) 

2. 数一数, 填一填。

我排第1。

我排第()。



(1) 一共有()只可爱的小猴子。

(2) 把左边的 6 只小猴子圈起来。

(3) 把从右边数第 9 只小猴子涂上黄色。



口算题卡

一年级 上册 时间:____分____秒 家长评价:_____

8 和 9 的组成

1.

$$\begin{array}{c} 8 \\ \swarrow \searrow \\ 2 \quad () \end{array}$$

$$\begin{array}{c} 9 \\ \swarrow \searrow \\ 4 \quad () \end{array}$$

$$\begin{array}{c} 3 \\ \swarrow \searrow \\ 2 \quad () \end{array}$$

$$\begin{array}{c} 8 \\ \swarrow \searrow \\ 1 \quad () \end{array}$$

$$\begin{array}{c} 8 \\ \swarrow \searrow \\ 4 \quad () \end{array}$$

$$\begin{array}{c} 8 \\ \swarrow \searrow \\ 5 \quad () \end{array}$$

$$\begin{array}{c} 9 \\ \swarrow \searrow \\ 5 \quad () \end{array}$$

$$\begin{array}{c} 9 \\ \swarrow \searrow \\ () \quad 3 \end{array}$$

$$\begin{array}{c} 9 \\ \swarrow \searrow \\ 7 \quad () \end{array}$$

2.

8 <	1	2		4	5		7
			3			6	

4

9 <	1	2			5		7	8
			6	5		3		



黄冈360°数学 _____年____月____日 星期____

RJ

口算题卡

一年级 上册 时间:____分____秒 家长评价:_____

8、9 加减法(1)

1. 口算。

$4 + 5 =$

$2 + 7 =$

$5 + 4 =$

$7 + 2 =$

$9 - 5 =$

$9 - 2 =$

$9 - 4 =$

$9 - 6 =$

$0 + 9 =$

$9 - 9 =$

$2 + 6 =$

$8 - 3 =$

$8 - 2 =$

$8 - 5 =$

$3 + 5 =$

$9 - 1 =$

$9 - 0 =$

$8 - 4 =$

$9 - 3 =$

$8 - 8 =$

2. 看图写两个加法算式和两个减法算式。

△ △ △

△ △ △ △ △



黄冈360°数学 _____年____月____日 星期____

RJ

口算题卡

一年级 上册 时间:____分____秒 家长评价:_____

8、9 加减法(2)

1. 口算。

$1 + 8 =$

$8 - 8 =$

$8 + 1 =$

$9 - 6 =$

$9 - 1 =$

$1 + 7 =$

$9 - 3 =$

$9 - 4 =$

$8 - 1 =$

$8 - 3 =$

$3 + 6 =$

$2 + 6 =$

$8 - 5 =$

$8 + 0 =$

$8 - 6 =$

$8 - 4 =$

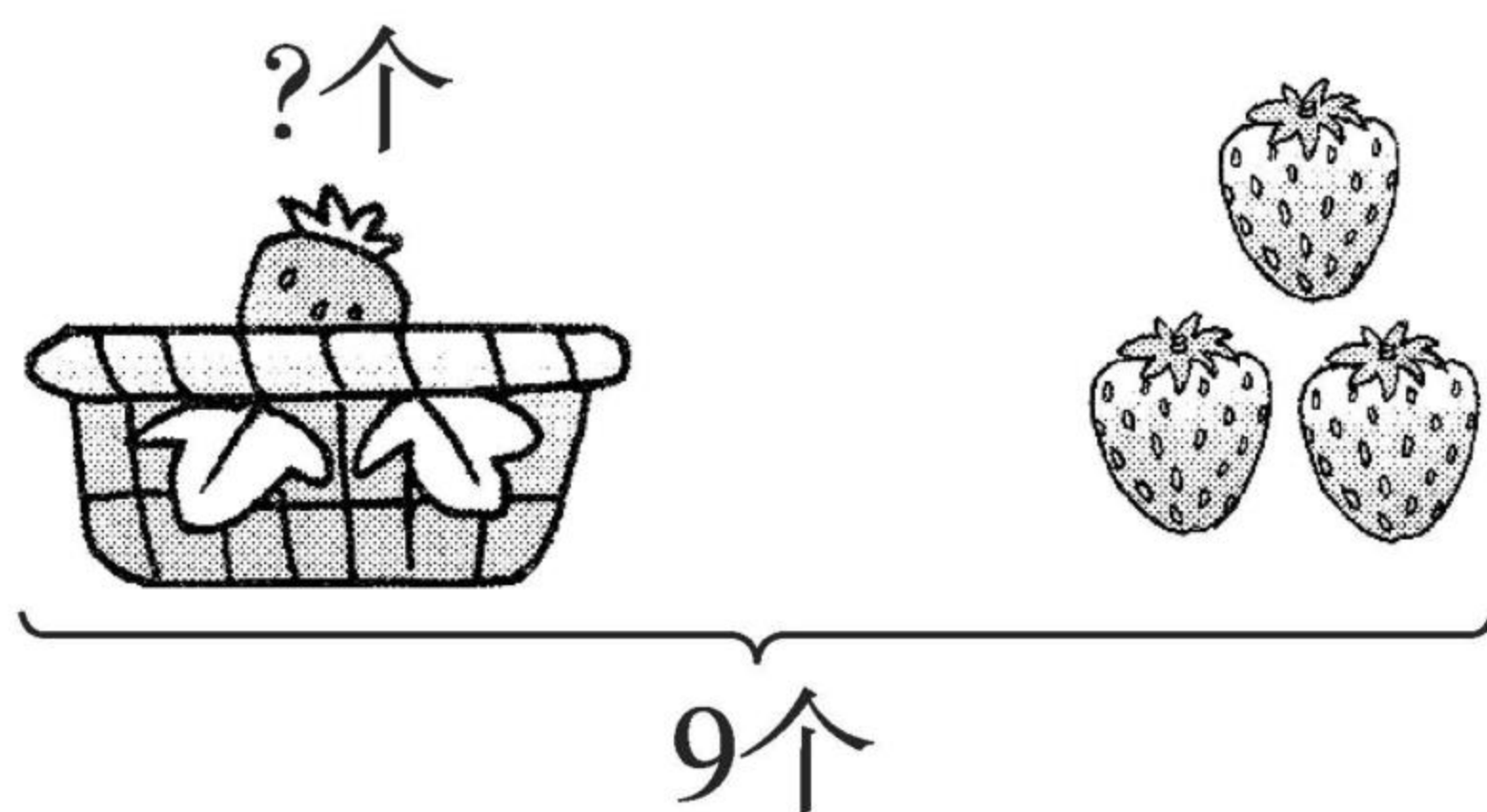
$5 + 3 =$

$9 - 9 =$

$9 + 0 =$

$9 - 5 =$

2.



一共有 个草莓, 右边有 个, 求篮子里有几个草莓, 就是要从 个里面去掉右边的 个, 用减法计算。

$$\square \bigcirc \square = \square (\text{个})$$



黄冈360°数学 _____年____月____日 星期____

RJ

口算题卡

一年级 上册 时间:____分____秒 家长评价:_____

8、9 加减法(3)

1. 口算。

$8 - 4 =$

$9 - 2 =$

$5 + 4 =$

$6 + 1 =$

$5 + 2 =$

$8 - 0 =$

$8 - 6 =$

$7 - 6 =$

$6 + 2 =$

$4 + 4 =$

$9 + 0 =$

$6 - 2 =$

$8 - 2 =$

$3 + 5 =$

$5 + 3 =$

$9 - 4 =$

$8 - 1 =$


$9 - 8 =$

$7 + 2 =$

$9 - 7 =$

$8 - 0 =$

2. 解决问题。



一共有几人?



游泳池里有□人, 没有下水的有□人, 要解决的问题是“一共有几人”, 用□法计算。

$$\square \bigcirc \square = \square (\text{人})$$



黄冈360°数学 _____年____月____日 星期____

RJ

口算题卡

一年级 上册 时间:____分____秒 家长评价:_____

8、9 加减法(4)

1. 口算。

$7 + 1 =$

$3 + 5 =$

$6 + 2 =$

$5 + 4 =$

$9 - 5 =$

$9 - 2 =$

$8 + 0 =$

$9 - 4 =$

$5 + 3 =$

$8 - 3 =$

$8 - 2 =$

$4 + 4 =$

$9 + 0 =$

$7 - 4 =$

$8 - 5 =$

$3 + 6 =$

$7 + 2 =$


$9 - 6 =$

$9 - 1 =$

$8 - 7 =$

2. 解决问题。

原来一共有 8 位小朋友。



现在还剩几位小朋友?

$$\square \bigcirc \square = \square (\text{位})$$



黄冈360°数学 _____年____月____日 星期____

RJ

口算题卡

一年级 上册 时间:____分____秒 家长评价:_____

8、9 加减法(5)

1. 口算。

$9 - 3 =$

$6 + 3 =$

$8 - 4 =$

$9 - 5 =$

$3 + 4 =$

$9 - 6 =$

$6 - 2 =$

$4 + 4 =$

$8 - 5 =$

$7 - 5 =$

$1 + 7 =$

$9 - 8 =$

$0 + 8 =$

$9 - 9 =$

$1 + 4 =$

$4 + 5 =$


$2 + 7 =$

$8 - 8 =$

$7 + 1 =$

$1 + 8 =$

2. 解决问题。



一共有几个  ?

$$\square \bigcirc \square = \square (\text{个})$$



黄冈360°数学 _____年____月____日 星期____

RJ

口算题卡

一年级 上册 时间:____分____秒 家长评价:_____

8、9 加减法(6)

1. 口算。

$9 + 0 =$

$8 - 7 =$

$8 - 8 =$

$8 - 1 =$

$8 + 1 =$

$9 - 6 =$

$7 + 2 =$

$9 - 2 =$

$7 + 1 =$

$8 - 3 =$

$8 - 6 =$

$5 + 3 =$

$2 + 6 =$

$6 + 3 =$

$0 + 8 =$

$4 + 4 =$

$9 - 4 =$


$8 - 4 =$

$9 - 5 =$

$8 - 5 =$

2. 解决问题。

一共有9只 .



冰山里还藏着几只 ?

$$\square \bigcirc \square = \square (\text{只})$$



黄冈360°数学 _____年____月____日 星期____

RJ

口算题卡

一年级 上册 时间:____分____秒 家长评价:_____

8、9 加减法(7)

1. 口算。

(1) $3 + 5 =$

(11) $7 + 2 =$

(2) $9 - 4 =$

(12) $9 - 2 =$

(3) $8 - 2 =$

(13) $9 - 5 =$

(4) $4 + 4 =$

(14) $6 + 3 =$

(5) $5 + 4 =$

(15) $9 - 6 =$

(6) $7 + 1 =$

(16) $8 + 1 =$

(7) $9 - 1 =$

(17) $5 - 4 =$

(8) $9 - 3 =$

(18) $9 - 8 =$

(9) $8 - 6 =$

(19) $2 + 6 =$

(10) $8 - 5 =$

(20) $8 - 1 =$

2. 把算式填完整。

(1) $(\quad) - 2 = 5$

(6) $9 - (\quad) = 1$

(2) $6 - (\quad) = 2$

(7) $(\quad) - 7 = 2$

(3) $(\quad) - 6 = 2$

(8) $(\quad) - 3 = 5$

(4) $(\quad) - 5 = 1$

(9) $6 - (\quad) = 2$

(5) $7 - (\quad) = 2$

(10) $7 - (\quad) = 4$



8、9 加减法(8)

1. 口算。

(1) $7 + 2 =$

(9) $9 - 3 =$

(2) $9 - 1 =$

(10) $5 + 4 =$

(3) $6 + 2 =$

(11) $8 - 5 =$

(4) $4 + 5 =$

(12) $3 + 5 =$

(5) $8 - 4 =$

(13) $9 - 2 =$

(6) $5 + 2 =$

(14) $8 - 3 =$

(7) $9 - 8 =$

(15) $8 + 1 =$

(8) $4 + 4 =$

(16) $5 + 3 =$

2. 连一连。

$7 + 2$

$4 + 4$

$9 - 5$

$5 + 4$

$4 + 3$

$8 - 4$

$9 - 1$

$6 + 1$

$4 - 4$

$7 - 7$



10 的认识及加减法(1)

1. 例: $1 + 9 = 10$

$$\boxed{9} + \boxed{1} = \boxed{10}$$

$$\boxed{10} - \boxed{1} = \boxed{9}$$

$$\boxed{10} - \boxed{9} = \boxed{1}$$

4. $8 + 2 = 10$

$$\boxed{} + \boxed{} = \boxed{}$$

$$\boxed{} - \boxed{} = \boxed{}$$

$$\boxed{} - \boxed{} = \boxed{}$$

2. $6 + 4 = 10$

$$\boxed{} + \boxed{} = \boxed{}$$

$$\boxed{} - \boxed{} = \boxed{}$$

$$\boxed{} - \boxed{} = \boxed{}$$

5. $4 + 6 = 10$

$$\boxed{} + \boxed{} = \boxed{}$$

$$\boxed{} - \boxed{} = \boxed{}$$

$$\boxed{} - \boxed{} = \boxed{}$$

3. $3 + 7 = 10$

$$\boxed{} + \boxed{} = \boxed{}$$


$$\boxed{} - \boxed{} = \boxed{}$$

$$\boxed{} - \boxed{} = \boxed{}$$


6. $5 + 5 = \boxed{}$

$$\boxed{} - \boxed{} = \boxed{}$$

7.



盒子里装有6支铅笔。



一共有多少支铅笔?

$$\boxed{} \bigcirc \boxed{} = \boxed{} (\text{支})$$



黄冈360°数学 _____年____月____日 星期____

RJ

口算题卡

一年级 上册 时间:____分____秒 家长评价:_____

10 的认识及加减法(2)

1. 口算。

$10 - 8 =$

$10 - 2 =$

$10 - 1 =$

$2 + 8 =$

$9 + 1 =$

$10 - 7 =$

$4 + 6 =$

$10 - 9 =$

$10 - 5 =$

$10 - 2 =$

$10 - 4 =$

$8 + 2 =$

$10 - 6 =$

$1 + 9 =$

$5 + 5 =$

$7 + 3 =$

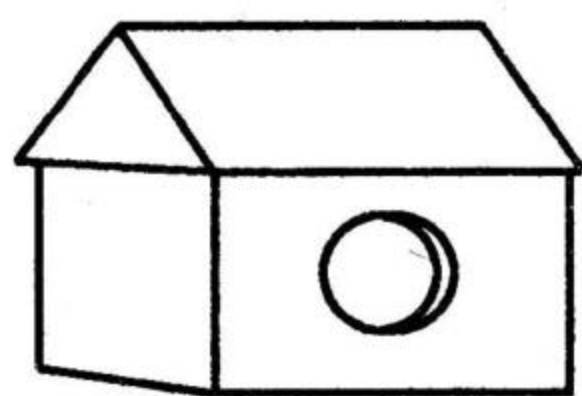
$3 + 7 =$

$10 - 3 =$

$6 + 4 =$

$10 - 10 =$

2. 一共有 10 只小鸟。



鸟笼里还剩几只小鸟?

$$\square \bigcirc \square = \square (\text{只})$$



黄冈360°数学 _____年____月____日 星期____

RJ

口算题卡

一年级 上册 时间:____分____秒 家长评价:_____

10 的认识及加减法(3)

1. 口算。

$7 + 3 =$

$10 - 4 =$

$2 + 5 =$

$10 - 0 =$

$7 - 4 =$

$5 + 5 =$

$10 - 6 =$

$10 - 8 =$

$6 + 3 =$

$8 + 1 =$

$3 + 7 =$

$9 - 4 =$

$8 + 2 =$

$9 - 6 =$

$10 - 9 =$

$3 + 4 =$

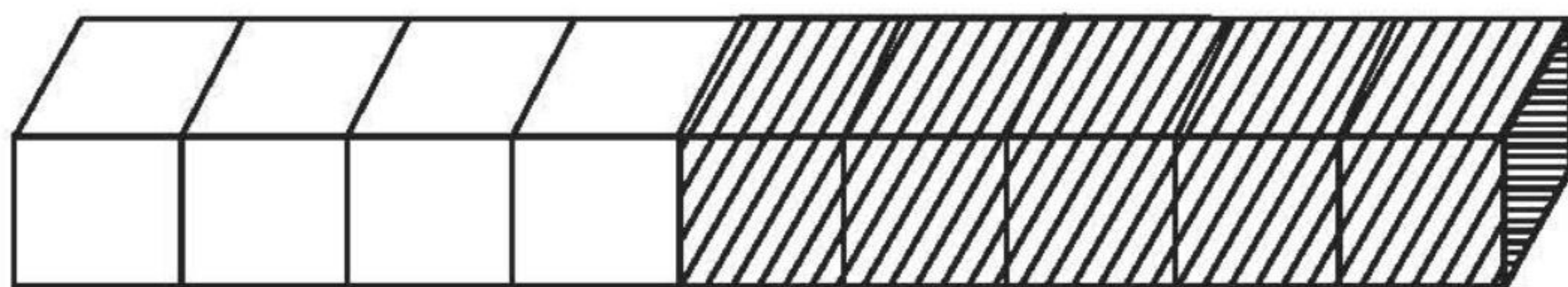
$10 - 5 =$

$7 - 5 =$

$4 + 5 =$

$8 - 4 =$

2. 看图写算式。



$\square - \square = \square$

$\square - \square = \square$



黄冈360°数学 _____年____月____日 星期____

RJ

口算题卡

一年级 上册 时间:____分____秒 家长评价:_____

10 的认识及加减法(4)

1. 口算。

$5 + 5 =$

$8 + 1 =$

$6 + 1 =$

$4 + 4 =$

$6 + 4 =$

$8 - 5 =$

$8 + 0 =$

$3 + 4 =$

$7 + 1 =$

$7 - 6 =$

$0 + 10 =$

$7 - 5 =$

$10 - 4 =$

$8 - 4 =$

$6 + 3 =$

$9 - 6 =$

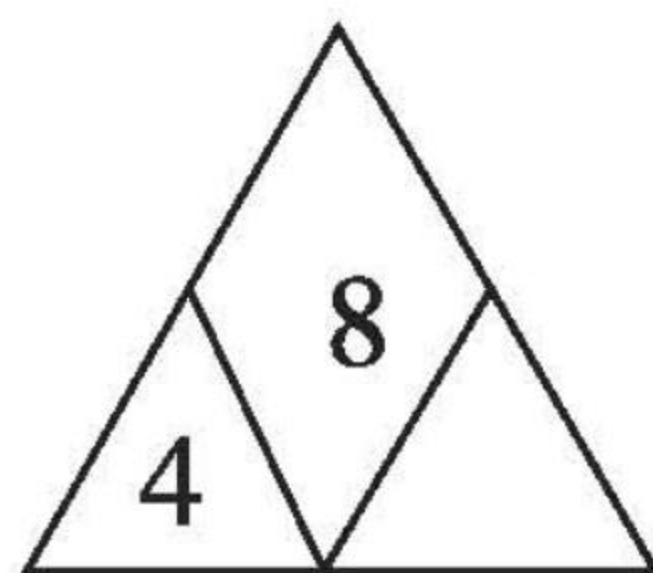
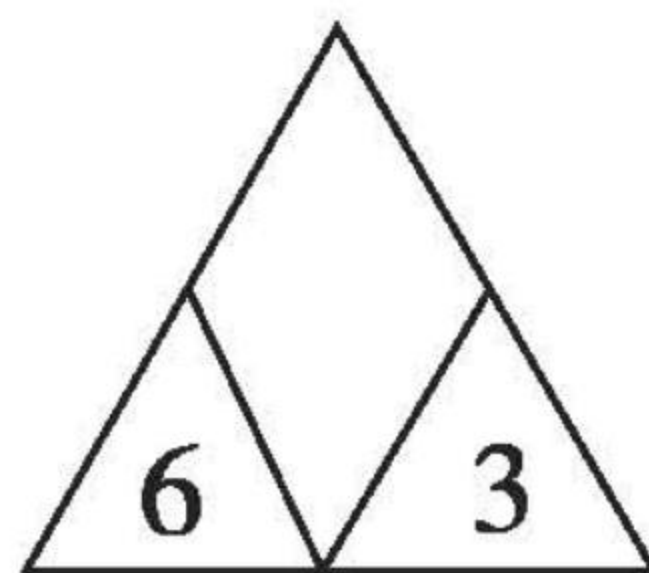
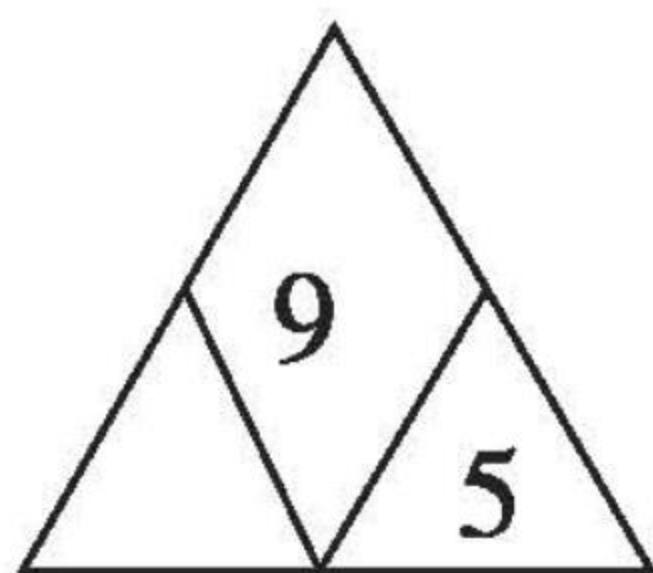
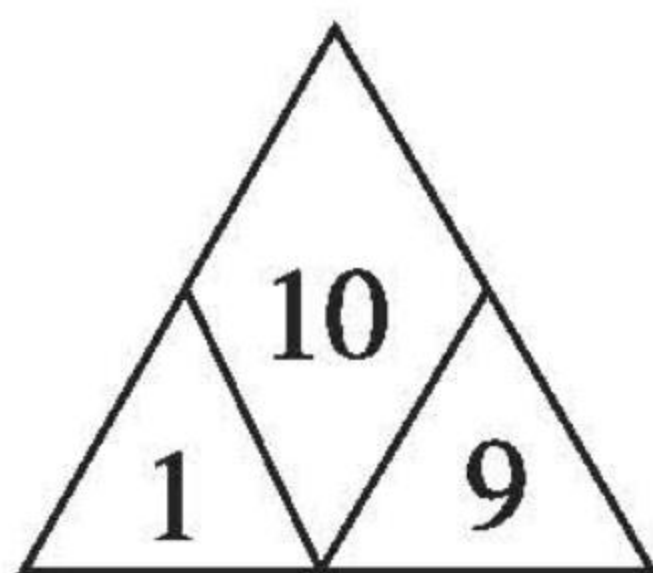
$5 + 2 =$

$10 - 5 =$

$3 + 7 =$

$10 - 7 =$

2. 找规律,填一填。





黄冈360°数学 _____年____月____日 星期____

RJ

口算题卡

一年级 上册 时间:____分____秒 家长评价:_____

10 的认识及加减法(5)

1. 在括号里填上合适的数。

$3 + () = 10$

$() + 4 = 9$

$() + 6 = 10$

$() + 5 = 7$

$0 + () = 7$

$4 - () = 1$

$7 - () = 0$

$5 - () = 3$

$() + 4 = 8$

$3 + () = 9$

$() + 7 = 10$

$10 - () = 5$

$() - 6 = 4$

$3 + () = 9$

$8 - () = 3$

$8 - () = 4$


$9 - () = 5$

$8 - () = 5$

$6 + () = 8$

$4 + () = 7$

2. 看图列式。



$\square \bigcirc \square = \square (\text{只})$



黄冈360°数学 _____年____月____日 星期____

RJ

口算题卡

一年级 上册 时间:____分____秒 家长评价:_____

10 的认识及加减法(6)

1. 算一算。

(1) $1 + 9 =$

(11) $3 + 6 =$

(2) $6 + 3 =$

(12) $10 - 9 =$

(3) $2 + 8 =$

(13) $7 + 3 =$

(4) $10 - 1 =$

(14) $10 - 3 =$

(5) $7 + 2 =$

(15) $5 + 4 =$

(6) $9 - 8 =$

(16) $9 + 1 =$

(7) $3 + 7 =$

(17) $10 - 8 =$

(8) $8 - 4 =$

(18) $10 - 7 =$

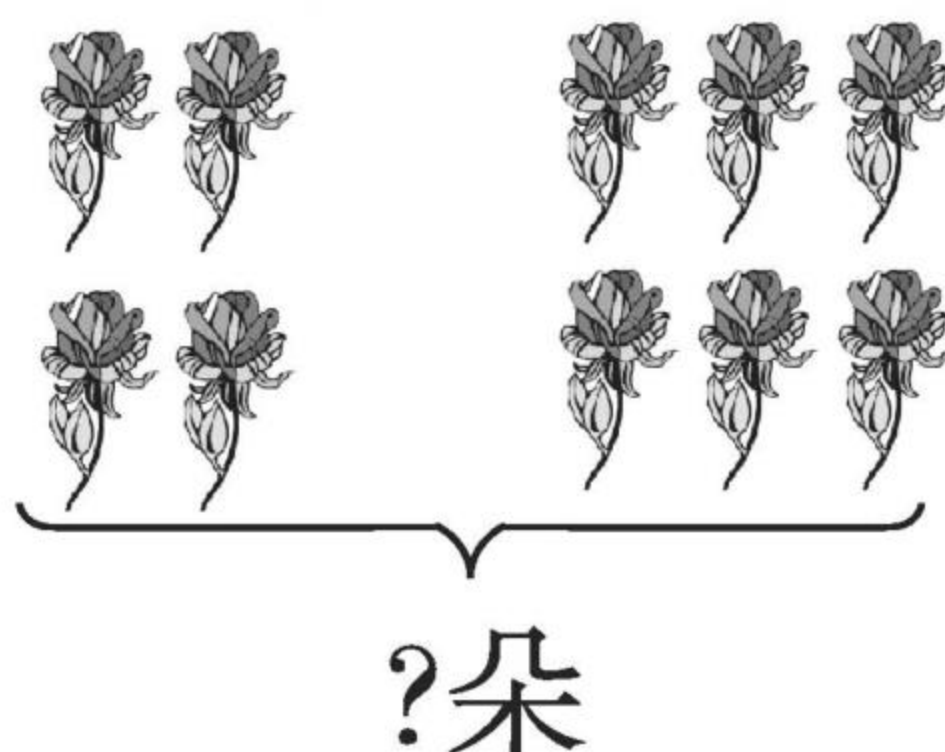
(9) $10 - 10 =$

(19) $10 - 4 =$

(10) $6 + 4 =$

(20) $5 + 5 =$

2. 看图列式。

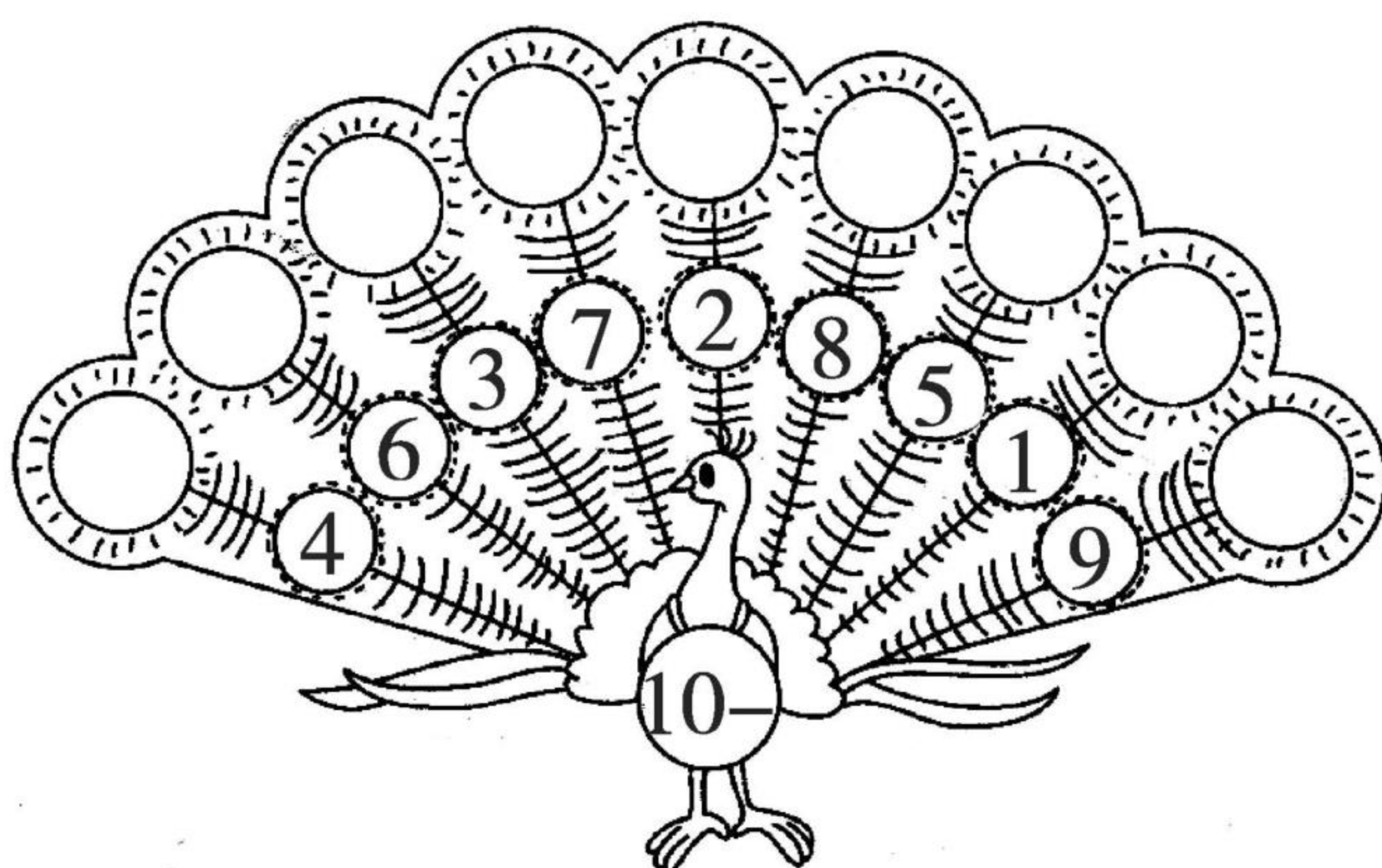


$\square \bigcirc \square = \square$ (朵)



10 的认识及加减法(7)

1. 孔雀开屏。



2.

1	+ 9 =		2		
1			1	+ 7 =	
2	+ 8 =		3		
3			4		
1			6	+ 4 =	
2	+ 6 =		5		
4			3		

3. $3 + 4 =$	$9 - 5 =$	$4 + 5 =$	$7 - 3 =$
$8 + 2 =$	$10 - 2 =$	$9 - 4 =$	$7 - 0 =$
$0 + 10 =$	$8 - 8 =$	$3 + 5 =$	$5 + 5 =$



黄冈360°数学 _____年____月____日 星期____

RJ

口算题卡

一年级 上册 时间:____分____秒 家长评价:_____

10 的认识及加减法(8)

1. 口算。

$9 - 5 =$

$10 - 7 =$

$10 - 6 =$

$2 + 7 =$

$4 + 5 =$

$4 + 1 =$

$9 - 6 =$

$9 - 3 =$

$9 - 9 =$

$7 - 7 =$

$10 - 5 =$

$4 + 4 =$

$7 - 4 =$

$10 - 9 =$

$10 - 2 =$

$9 - 0 =$

$8 + 2 =$

$7 + 3 =$

$9 - 7 =$

$4 + 6 =$

2. 在○里填上“>”“<”或“=”。

$(1) 1 + 2 \bigcirc 5$

$(6) 2 + 5 \bigcirc 9$

$(2) 2 + 3 \bigcirc 6$

$(7) 3 + 4 \bigcirc 5$

$(3) 5 + 1 \bigcirc 4$

$(8) 3 + 6 \bigcirc 10$

$(4) 4 + 2 \bigcirc 6$

$(9) 5 + 3 \bigcirc 8$

$(5) 3 + 7 \bigcirc 10$

$(10) 6 + 2 \bigcirc 5$



黄冈360°数学 _____年____月____日 星期____

RJ

口算题卡

一年级 上册 时间:____分____秒 家长评价:_____

10 的认识及加减法(9)

1. 在□里填上合适的数。

$$9 + \square = 10$$

$$10 - \square = 1$$

$$10 - \square = 8$$

$$4 + \square = 9$$

$$4 + \square = 10$$

$$10 - \square = 2$$

$$10 - \square = 6$$

$$\square + 5 = 10$$

$$\square + 3 = 9$$

$$10 - \square = 7$$

$$10 - \square = 5$$

$$7 + \square = 10$$

$$10 + \square = 10$$

$$10 - \square = 10$$

$$10 - \square = 0$$

$$6 + \square = 10$$

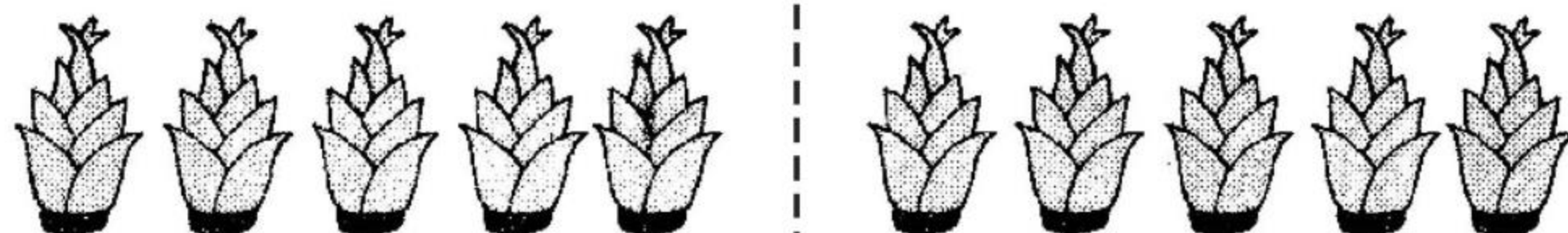
$$\square + 2 = 10$$

$$\square - 9 = 1$$

$$\square - 4 = 4$$

$$\square + 9 = 9$$

2.



$$\square + \square = \square$$

$$\square - \square = \square$$



黄冈360°数学 _____年____月____日 星期____


RJ

口算题卡


一年级 上册 时间:____分____秒 家长评价:_____

10 的认识及加减法(10)

1. 想一想,填一填。



$$7 + \square = 10$$



$$9 + \square = 10$$

2. 画一画,填一填。

(1) $\triangle \triangle \triangle$ _____

$$3 + \square = 10$$

(2) $\bigcirc \bigcirc$ _____

$$2 + \square = 10$$

(3) 😊😊😊😊 _____

$$4 + \square = 10$$

(4) _____ $\bigcirc \bigcirc \bigcirc \bigcirc \bigcirc$

$$\square + 5 = 10$$

3. 用 2、8、10、7 中的三个数写 4 个算式。



黄冈360°数学 _____年____月____日 星期____

RJ

口算题卡

一年级 上册 时间:____分____秒 家长评价:_____

10 的认识及加减法(11)

1. 算一算。

$10 - 3 =$

$6 + 4 =$

$6 - 4 =$

$0 + 10 =$

$8 + 2 =$

$10 - 1 =$

$9 - 6 =$

$10 - 9 =$

$4 + 3 =$

$5 + 5 =$

$10 - 4 =$

$7 + 3 =$

$10 - 10 =$

$9 + 1 =$

$10 - 7 =$

$8 - 7 =$

$10 - 0 =$

$7 - 5 =$

2. 连一连。

$5+4$

4

$2+6$

$10-2$

9

$9-5$

$2+8$

8

$10-1$

$10-3$

7

$10-0$

$10-6$

10

$9-2$



黄冈360°数学 _____年____月____日 星期____

RJ

口算题卡

一年级 上册 时间:____分____秒 家长评价:_____

10 的认识及加减法(12)

1. 口算。

$4 + 3 =$

$5 + 5 =$

$5 + 2 =$

$10 - 4 =$

$7 - 3 =$

$10 - 8 =$

$7 - 5 =$

$9 + 1 =$

$4 + 4 =$

$10 - 7 =$

$9 - 6 =$

$7 + 3 =$

$9 - 7 =$

$6 + 4 =$

$8 - 4 =$

$9 - 2 =$

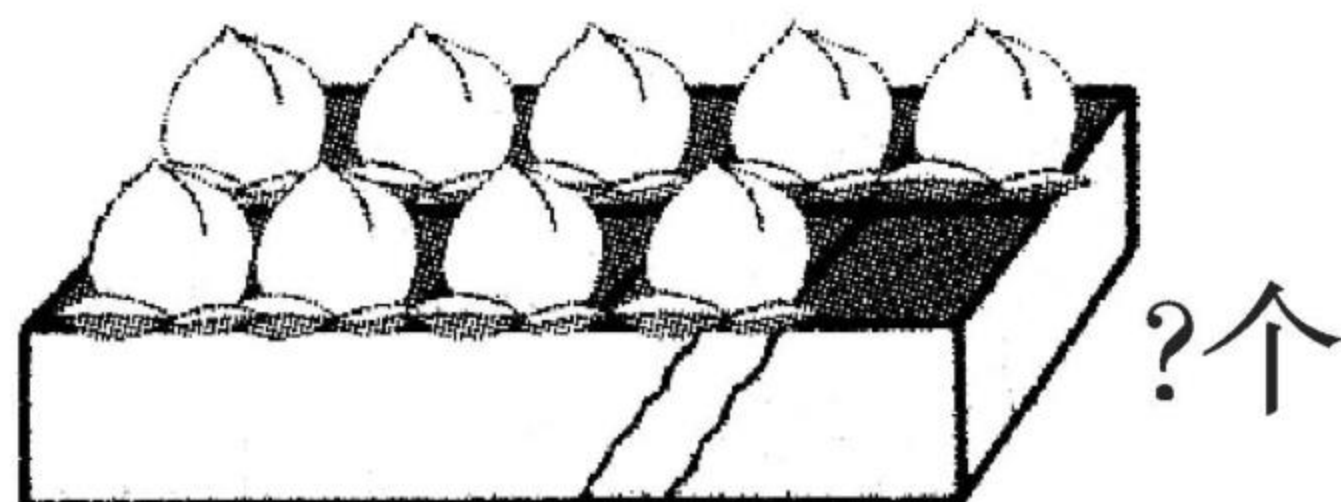
$8 - 5 =$

$8 - 2 =$

$10 - 6 =$

$7 - 1 =$

2. 看图列式计算。



?个



10个

$$\square \bigcirc \square = \square (\text{个})$$



连加(1)

1. 算一算,在□里填数。

$$\begin{array}{r} 1 + 2 + 5 = \square \\ \square \\ \square \end{array}$$

$$\begin{array}{r} 4 + 2 + 4 = \square \\ \square \\ \square \end{array}$$

$$\begin{array}{r} 6 + 2 + 1 = \square \\ \square \\ \square \end{array}$$

$$\begin{array}{r} 4 + 0 + 5 = \square \\ \square \\ \square \end{array}$$

2.

$1 + 4 = \square$

$5 + 5 = \square$

$1 + 4 + 5 = \square$

$3 + 6 = \square$

$9 + 1 = \square$

$3 + 6 + 1 = \square$

$5 + 2 = \square$

$7 + 2 = \square$

$5 + 2 + 2 = \square$

$2 + 6 = \square$

$8 + 0 = \square$

$2 + 6 + 0 = \square$

$3 + 4 = \square$

$7 + 3 = \square$

$3 + 4 + 3 = \square$

$2 + 3 = \square$

$5 + 4 = \square$

$2 + 3 + 4 = \square$



黄冈360°数学 _____年____月____日 星期____


RJ

口算题卡

一年级 上册 时间:____分____秒 家长评价:_____

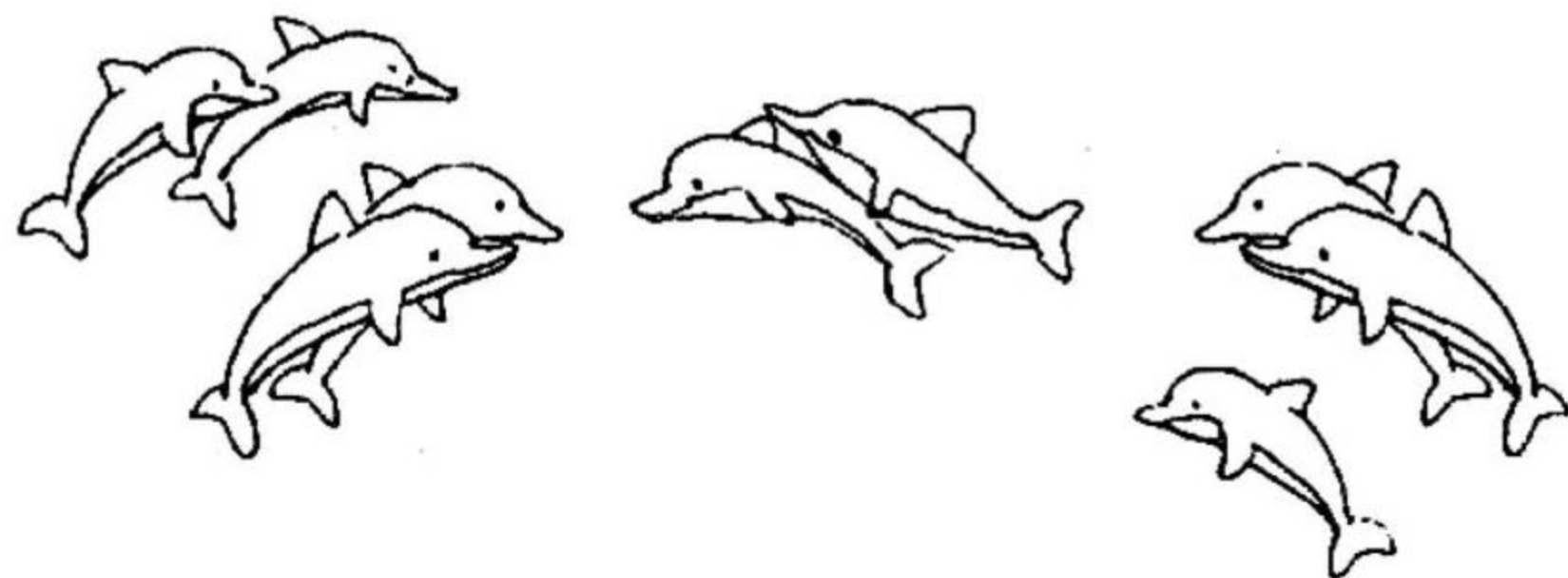
连加(2)

1. (1)



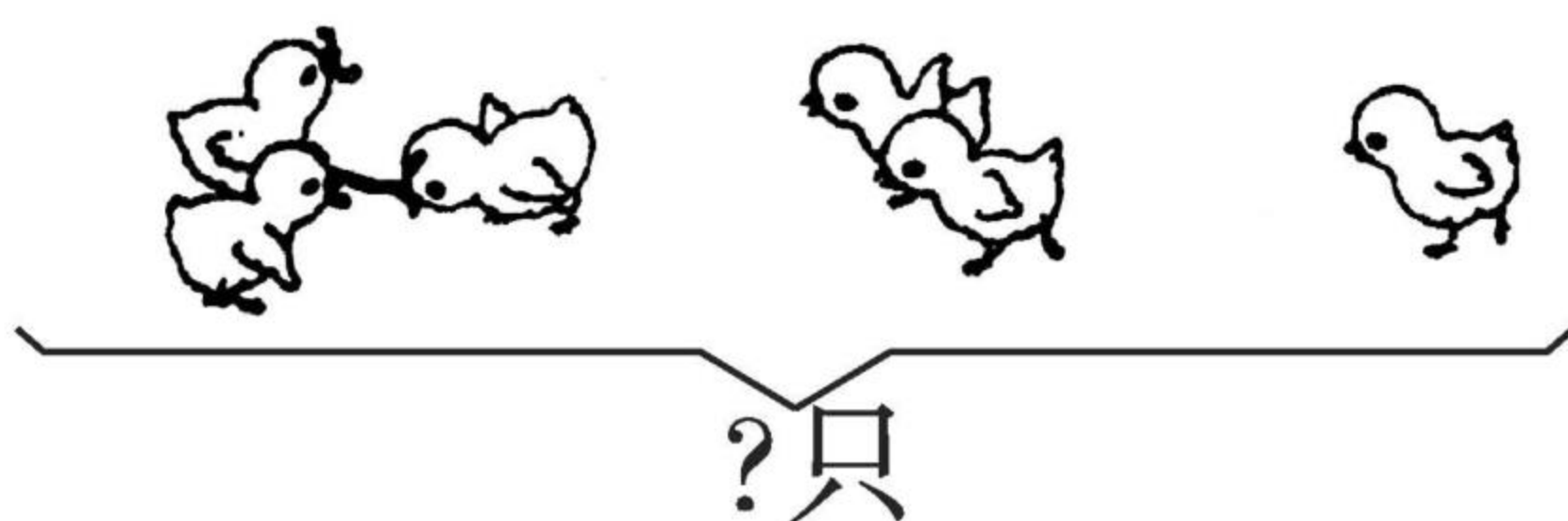
$$2 + \square + \square = \square$$

(2)



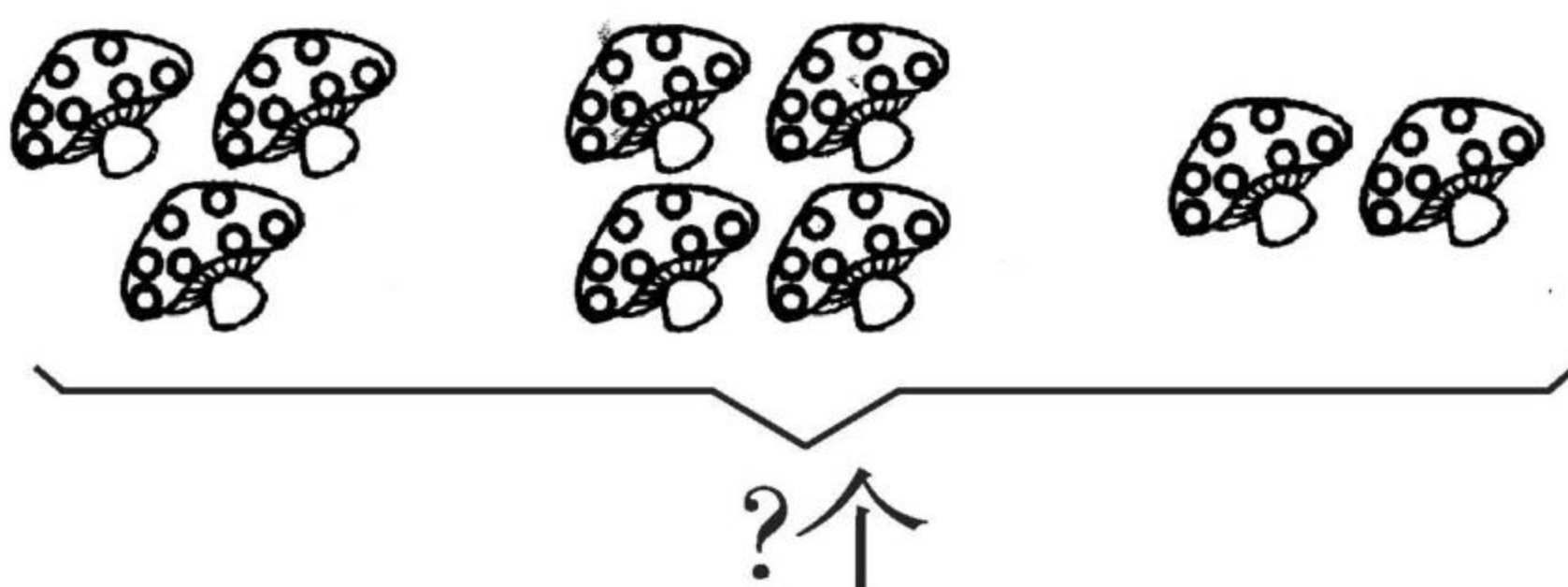
$$4 + \square + \square = \square$$

2. (1)



$$3 + \square + \square = \square \text{ (只)}$$

(2)



$$\square + \square + \square = \square \text{ (个)}$$



连减(1)

1. 填一填。

$$\begin{array}{r} 9 - 4 - 1 = \square \\ \square \\ \square \end{array}$$

$$\begin{array}{r} 10 - 6 - 4 = \square \\ \square \\ \square \end{array}$$

$$\begin{array}{r} 10 - 8 - 2 = \square \\ \square \\ \square \end{array}$$

$$\begin{array}{r} 8 - 2 - 4 = \square \\ \square \\ \square \end{array}$$

$$\begin{array}{r} 10 - 3 - 2 = \square \\ \square \\ \square \end{array}$$

$$\begin{array}{r} 9 - 2 - 7 = \square \\ \square \\ \square \end{array}$$

2. 把正确答案圈起来。

(1) $7 - 3 - 2 =$ ☐ 2 ☐ 3 ☐ 1

(2) $8 - 3 - 4 =$ ☐ 10 ☐ 1 ☐ 2

(3) $10 - 2 - 5 =$ ☐ 2 ☐ 3 ☐ 10

(4) $9 - 6 - 3 =$ ☐ 0 ☐ 6 ☐ 8



黄冈360°数学 _____年____月____日 星期____

RJ

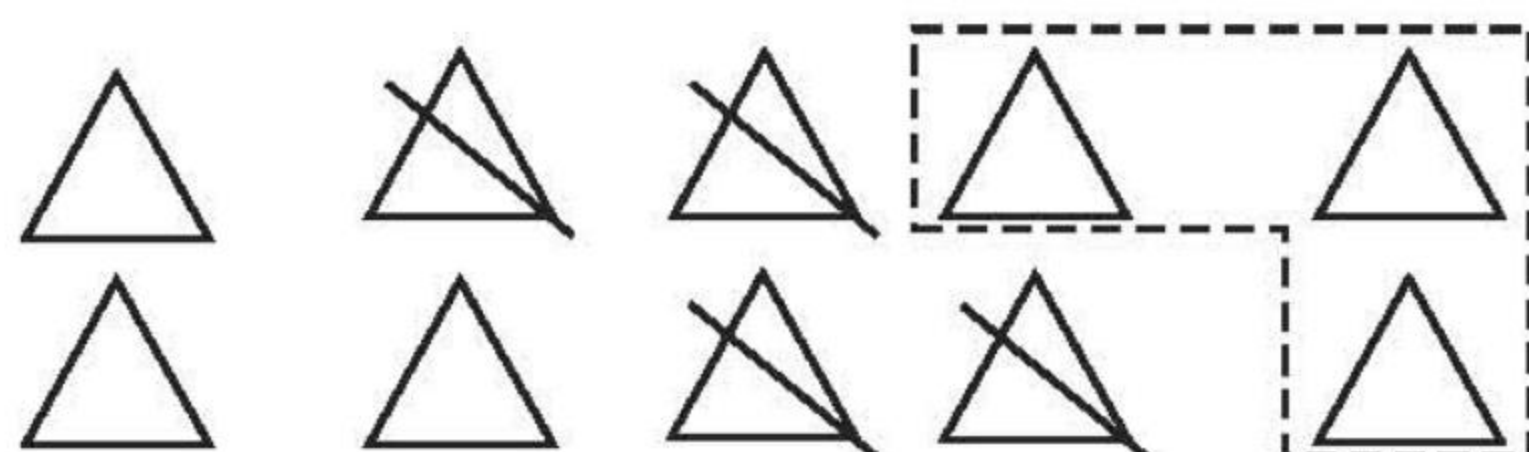
口算题卡

一年级 上册 时间:____分____秒 家长评价:_____

连减(2)

看图列式计算。

1.



$$10 - 4 - \square = \square$$


2.



7个

$$7 - 1 - \square = \square \text{ (个)}$$

3.



8根

$$8 - 3 - \square = \square \text{ (根)}$$



加减混合(1)

1. 算一算,在□里填上合适的数。

$$\begin{array}{c} 7 + 2 - 5 = \square \\ \square \quad \uparrow \end{array}$$

$$\square$$

$$\begin{array}{c} 8 - 3 + 5 = \square \\ \square \quad \uparrow \end{array}$$

$$\square$$

$$\begin{array}{c} 9 - 3 + 4 = \square \\ \square \quad \uparrow \end{array}$$

$$\square$$

$$\begin{array}{c} 6 + 2 - 5 = \square \\ \square \quad \uparrow \end{array}$$

$$\square$$

$$\begin{array}{c} 4 + 2 - 4 = \square \\ \square \quad \uparrow \end{array}$$

$$\square$$

$$\begin{array}{c} 10 - 4 + 2 = \square \\ \square \quad \uparrow \end{array}$$

$$\square$$


$$\begin{array}{c} 5 + 4 - 3 = \square \\ \square \quad \uparrow \end{array}$$

$$\square$$

$$\begin{array}{c} 10 - 8 + 6 = \square \\ \square \quad \uparrow \end{array}$$

$$\square$$

2. 看图列式。



?头

$$\square + \square + \square = \square (\text{头})$$



黄冈360°数学 _____年____月____日 星期____

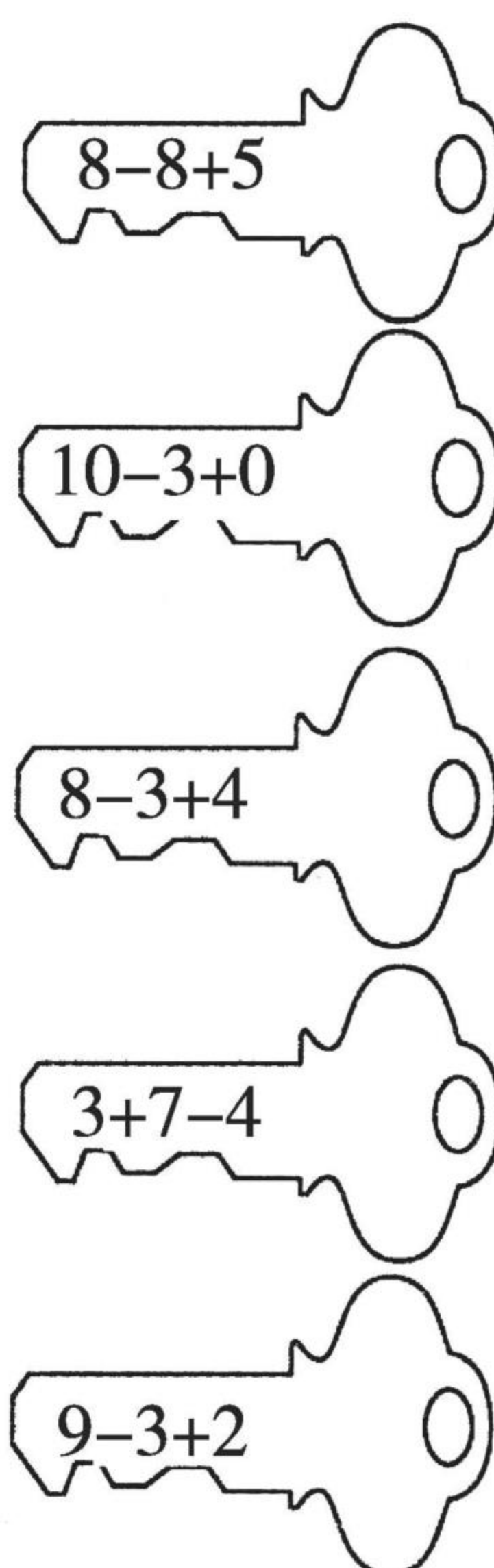

RJ


口算题卡

一年级 上册 时间:____分____秒 家长评价:_____

加减混合(2)


1. 连一连。




2. 在  里填上“>”“<”或“=”。

$10 - 4 + 3$  8

$9 - 5 + 1$  $8 + 2 - 5$

$4 + 3 - 1$  7

$9 + 0 - 5$  $5 + 3 + 2$

$10 - 8 + 1$  9

$5 - 2 + 4$  $8 - 4 + 3$



加减混合(3)

1. 口算。

(1) $4 - 1 + 2 =$

(11) $1 - 1 + 3 =$

(2) $1 + 6 - 4 =$

(12) $3 + 5 - 5 =$

(3) $10 - 3 + 1 =$

(13) $4 - 4 + 2 =$

(4) $10 - 4 + 2 =$

(14) $4 + 4 - 1 =$

(5) $4 + 5 - 3 =$

(15) $5 + 1 - 2 =$

(6) $5 + 3 + 1 =$

(16) $2 + 6 - 5 =$

(7) $4 + 3 - 5 =$

(17) $8 - 2 + 1 =$

(8) $10 - 6 + 3 =$

(18) $8 - 3 + 1 =$

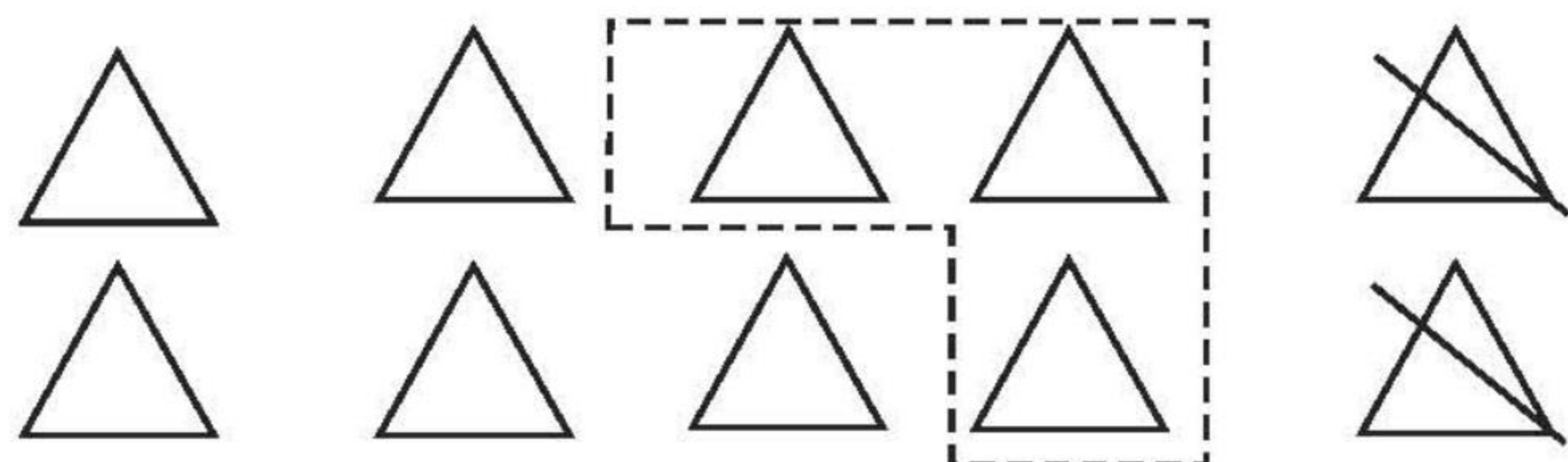
(9) $6 - 5 + 4 =$

(19) $5 + 3 - 5 =$

(10) $7 + 2 - 4 =$

(20) $6 + 4 - 2 =$

2. 看图列式。



$$\square \bigcirc \square \bigcirc \square = \square \text{ (个)}$$



黄冈360°数学 _____年____月____日 星期____

RJ

口算题卡

一年级 上册 时间:____分____秒 家长评价:_____

加减混合(4)

1. 口算。

(1) $2 + 6 + 1 =$

(11) $8 - 3 - 4 =$

(2) $1 + 7 + 1 =$

(12) $9 - 3 - 1 =$

(3) $9 + 1 - 4 =$

(13) $10 - 7 + 1 =$

(4) $5 + 4 + 1 =$

(14) $8 - 2 - 1 =$

(5) $6 + 3 - 4 =$

(15) $10 - 3 + 2 =$

(6) $7 + 1 + 2 =$

(16) $6 + 2 + 2 =$

(7) $2 + 4 - 1 =$

(17) $9 - 2 - 5 =$

(8) $3 + 6 - 5 =$

(18) $7 - 1 - 4 =$

(9) $10 - 5 + 4 =$

(19) $10 - 6 + 3 =$

(10) $2 + 4 + 2 =$

(20) $8 - 5 - 3 =$

2. 我会做。

树上有 10 只 , 飞走了 5 只, 又飞来了 3

只, 树上现在有多少只  ?

$\square \bigcirc \square \bigcirc \square = \square$ (只)



黄冈360°数学 _____年____月____日 星期____

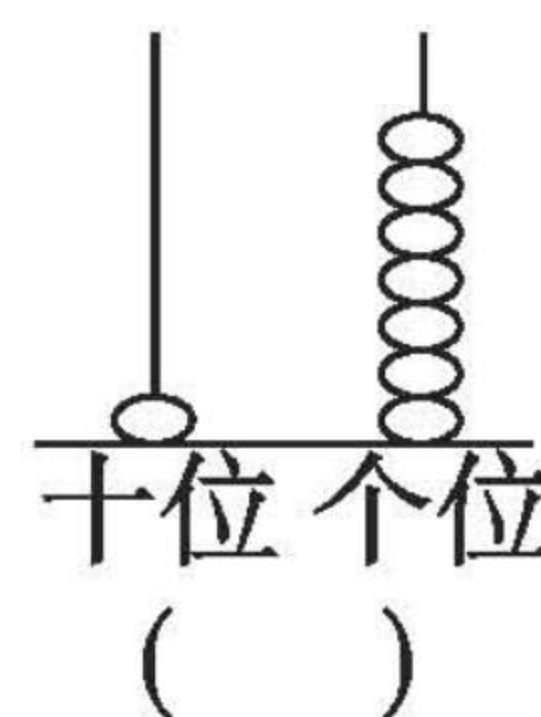
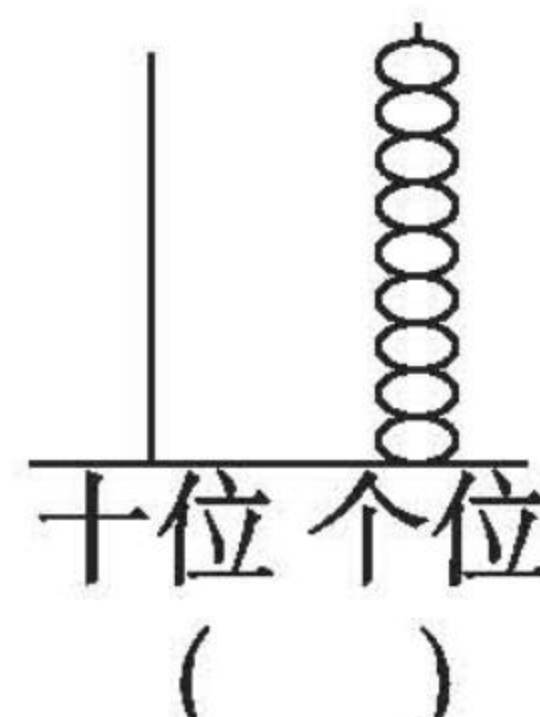
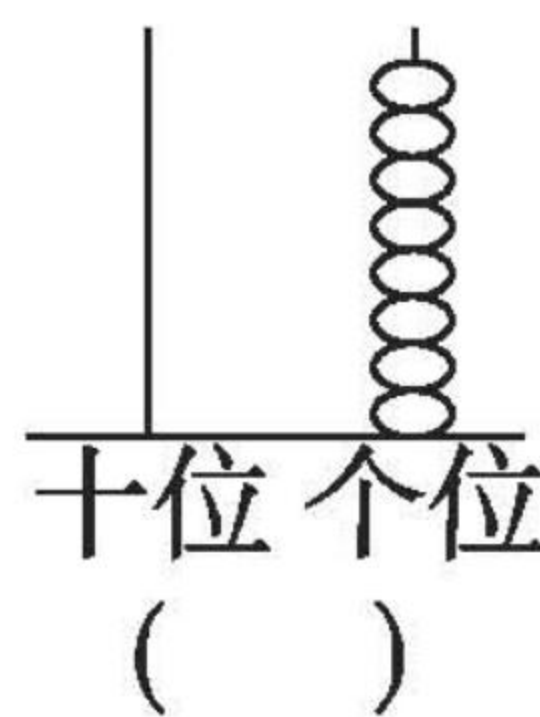
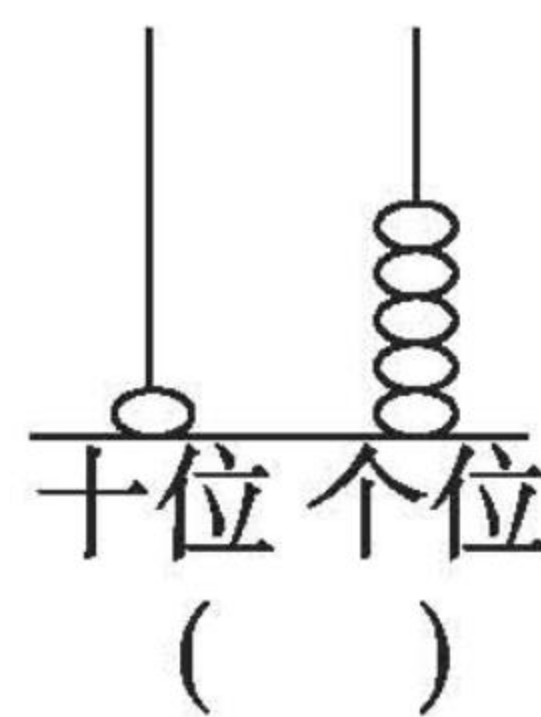
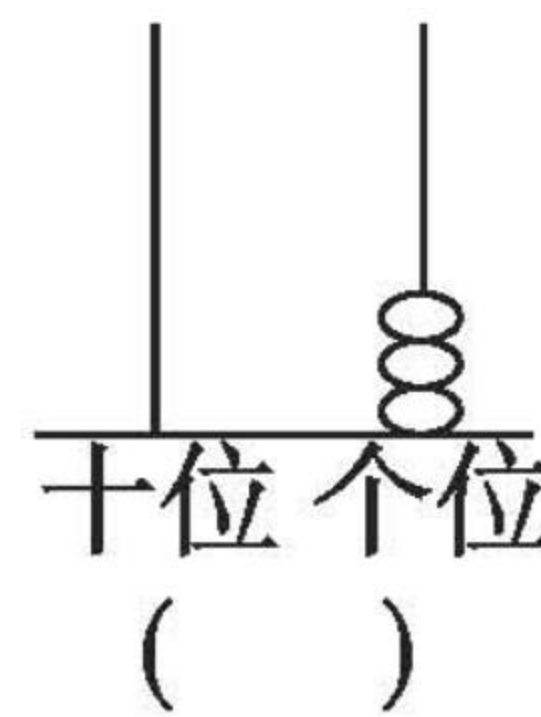
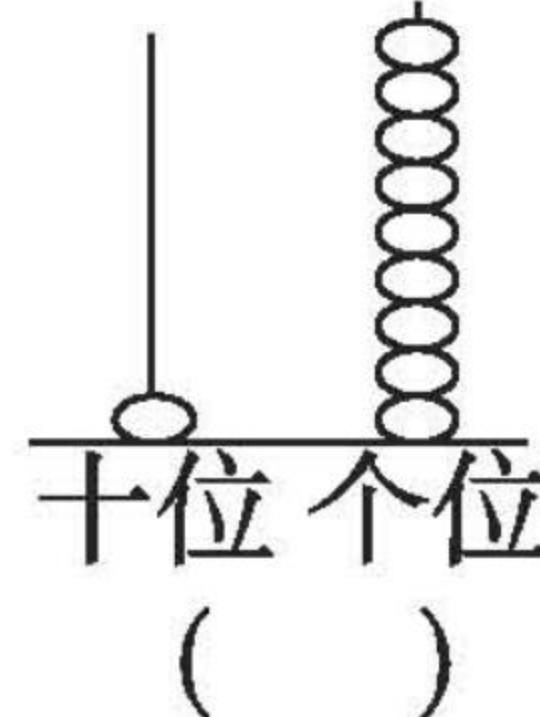
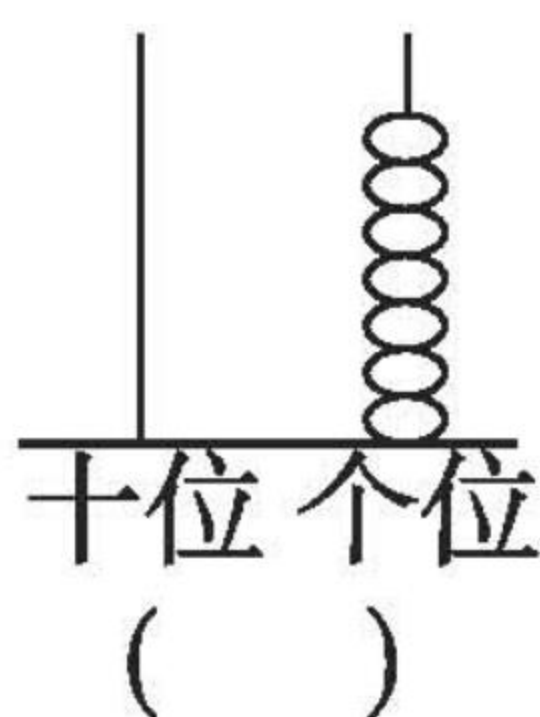
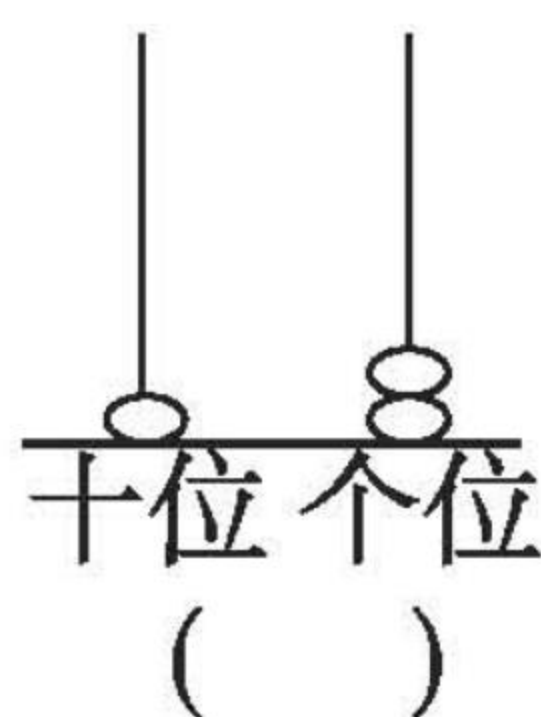
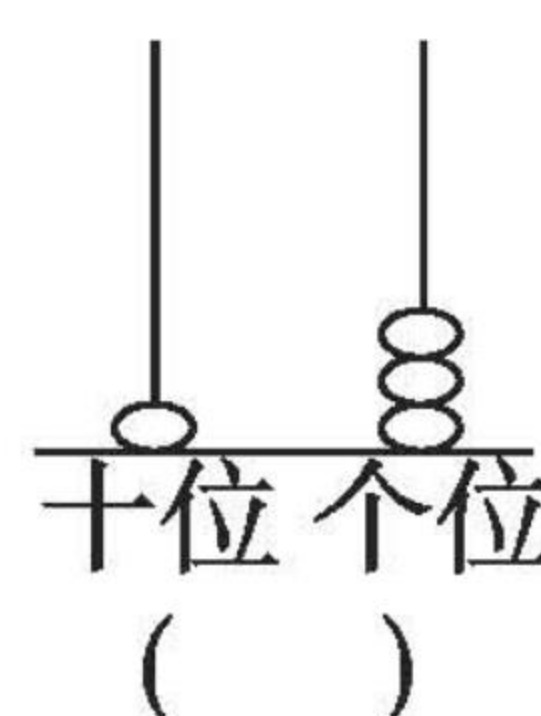
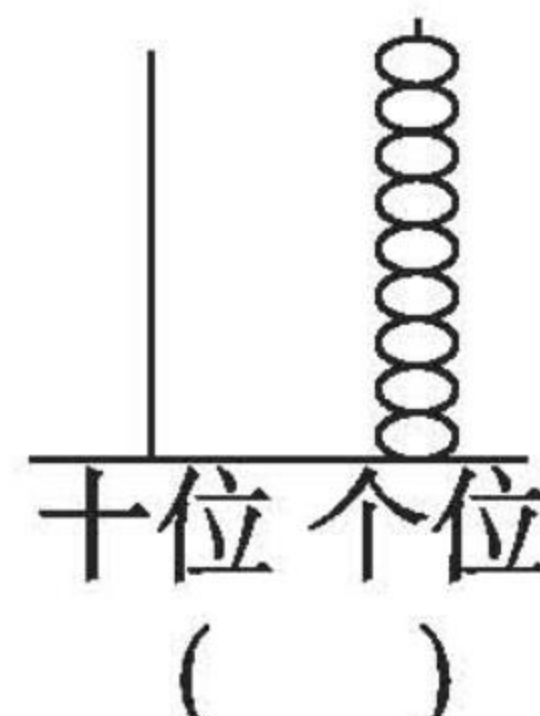
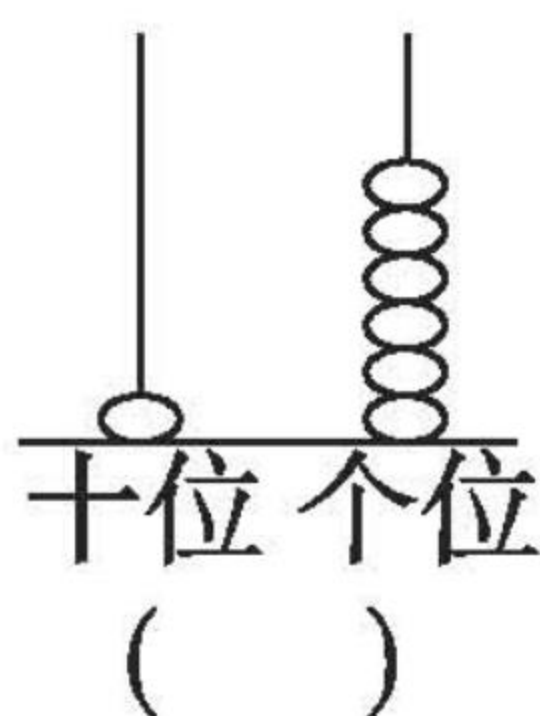
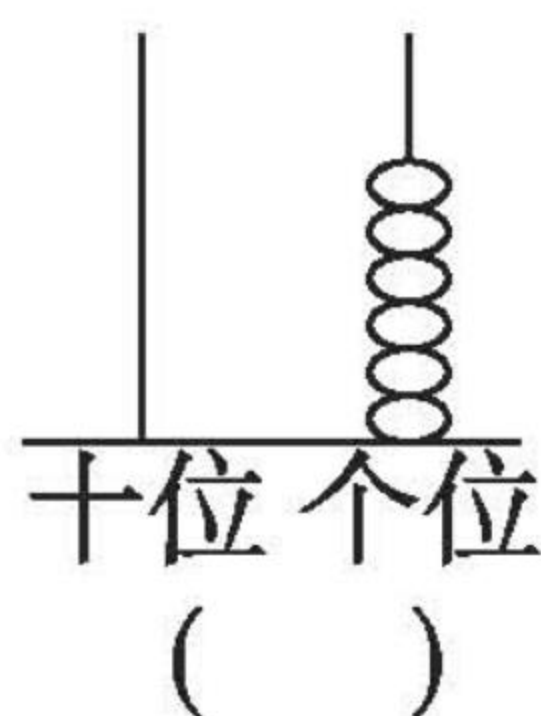
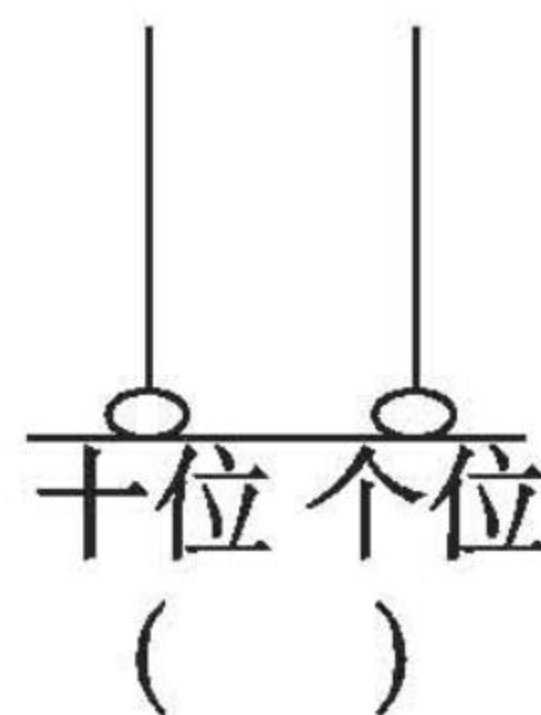
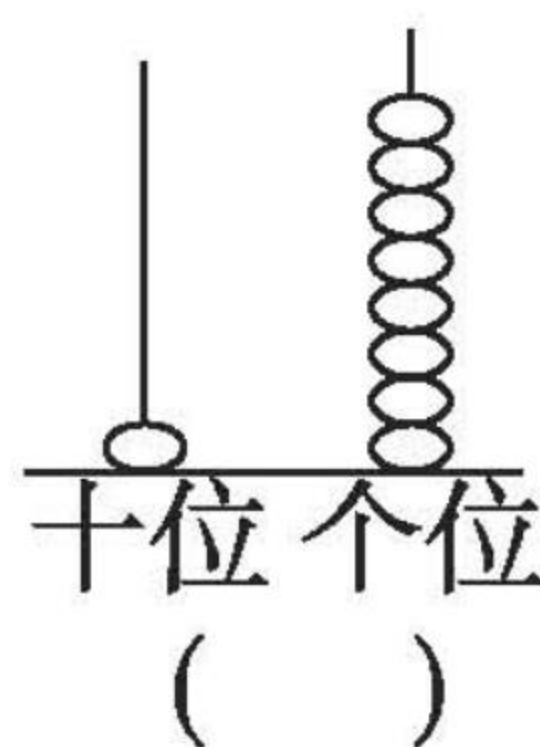
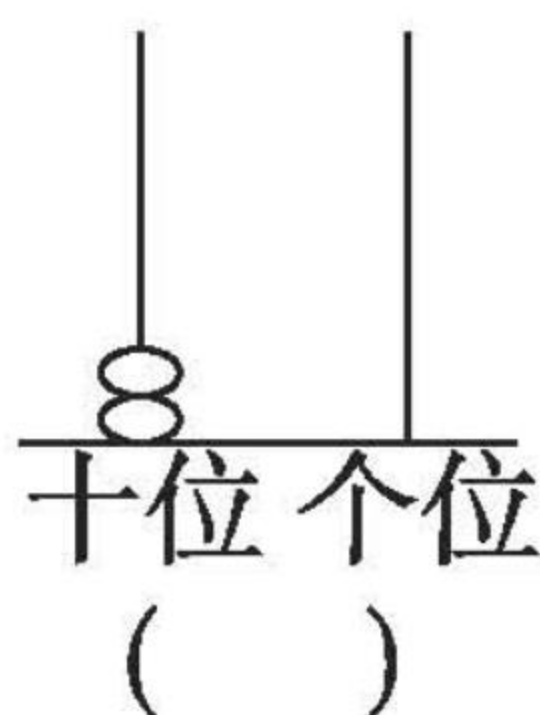
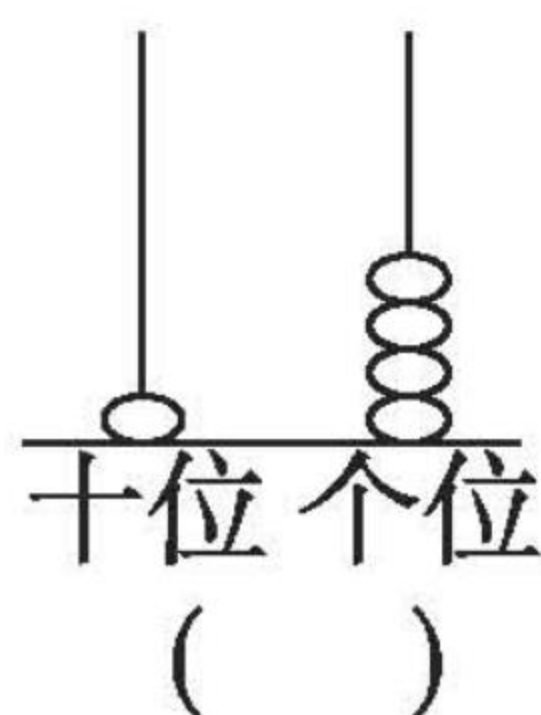
RJ

口算题卡

一年级 上册 时间:____分____秒 家长评价:_____

11 ~ 20 各数的认识(1)

读一读,写一写。





黄冈360°数学 _____年____月____日 星期____

RJ

口算题卡

一年级 上册 时间:____分____秒 家长评价:_____

11 ~ 20 各数的认识(2)

1. 在○里填上“>”“<”或“=”。

(1) $12 \bigcirc 13$

(5) $15 \bigcirc 16$

(9) $14 \bigcirc 11$

(2) $18 \bigcirc 19$

(6) $20 \bigcirc 13$

(10) $17 \bigcirc 9$

(3) $15 \bigcirc 15$

(7) $18 \bigcirc 17$

(11) $18 \bigcirc 20$

(4) $20 \bigcirc 19$

(8) $12 \bigcirc 16$

2. 在□里填上合适的数。

(1) $\square > 18$

(5) $14 > \square$

(9) $20 > \square$

(2) $12 < \square$

(6) $\square < 16$

(10) $\square < 11$

(3) $13 < \square$

(7) $12 > \square$

(11) $\square < 14$

(4) $17 < \square$

(8) $19 < \square$

(12) $15 = \square$

3. 松鼠采松果。

我采了15
个松果。



小松鼠

我采了17
个松果。



松鼠妈妈

谁采得多?



黄冈360°数学 _____年____月____日 星期____

RJ

口算题卡

一年级 上册 时间:____分____秒 家长评价:_____

11 ~ 20 各数的认识(3)

1. 口算。

$15 + 3 =$

$18 + 1 =$

$17 - 4 =$

$19 - 3 =$

$16 - 2 =$

$18 - 5 =$

$17 + 2 =$

$16 - 5 =$

$11 + 5 =$

$11 + 4 =$

$19 - 5 =$

$15 + 3 =$

$17 - 2 =$

$12 + 5 =$

$16 - 4 =$

$15 - 3 =$

$10 + 8 =$

$14 - 4 =$

$19 - 6 =$

$18 - 3 =$

$2. 18 \xrightarrow{+1} () \xrightarrow{-6} () \xrightarrow{-3} () \xrightarrow{-3} () \xrightarrow{-3} ()$

$15 \xrightarrow{-3} () \xrightarrow{+6} () \xrightarrow{+1} () \xrightarrow{-5} () \xrightarrow{-3} ()$

$16 \xrightarrow{+2} () \xrightarrow{-5} () \xrightarrow{-6} () \xrightarrow{+4} () \xrightarrow{+6} ()$

$17 \xrightarrow{-5} () \xrightarrow{-2} () \xrightarrow{+6} () \xrightarrow{-3} () \xrightarrow{-3} ()$



黄冈360°数学 _____年____月____日 星期____

RJ

口算题卡

一年级 上册 时间:____分____秒 家长评价:_____

11 ~ 20 各数的认识(4)

1. 口算。

$15 + 2 =$

$18 - 3 =$

$13 - 2 =$

$14 - 4 =$

$17 - 3 =$

$14 + 2 =$

$16 - 6 =$

$15 - 3 =$

$14 - 2 =$

$18 - 7 =$

$18 - 5 =$

$16 - 2 =$

$14 + 3 =$

$15 - 5 =$

$18 - 6 =$

$17 + 2 =$

$16 - 4 =$

$12 + 5 =$

$15 - 4 =$

$19 - 7 =$

$17 - 2 =$

$15 - 5 =$

2.



我钓了
5条鱼。



我钓了
13条鱼。

它们一共钓了多少条鱼?

$$\square \bigcirc \square = \square (\text{条})$$



黄冈360°数学 _____年____月____日 星期____

RJ

口算题卡

一年级 上册 时间:____分____秒 家长评价:_____

11 ~ 20 各数的认识(5)

1. 算一算。

(1) $15 - 1 =$

(11) $18 - 5 =$

(2) $13 + 2 =$

(12) $15 + 3 =$

(3) $17 - 1 =$

(13) $19 - 1 =$

(4) $16 - 6 =$

(14) $16 - 5 =$

(5) $14 + 4 =$

(15) $16 - 4 =$

(6) $18 - 5 =$

(16) $15 + 4 =$

(7) $19 - 8 =$

(17) $18 - 7 =$

(8) $14 + 3 =$

(18) $14 + 5 =$


(9) $18 - 6 =$

(19) $18 - 8 =$

(10) $16 - 6 =$

(20) $16 + 2 =$

2. 看图写算式。



$\square \bigcirc \square = \square$ (件)



黄冈360°数学 _____年____月____日 星期____

RJ

口算题卡

一年级 上册 时间:____分____秒 家长评价:_____

11 ~ 20 各数的认识(6)

1. 算一算。

(1) $17 + 2 =$

(11) $18 - 10 =$

(2) $19 - 3 =$

(12) $19 - 9 =$

(3) $15 + 5 =$

(13) $18 - 6 =$

(4) $18 - 1 =$

(14) $19 - 10 =$

(5) $15 + 2 =$

(15) $18 - 2 =$

(6) $17 + 0 =$

(16) $19 - 8 =$

(7) $13 + 2 =$

(17) $13 + 4 =$

(8) $16 - 0 =$

(18) $13 - 10 =$

(9) $18 - 7 =$

(19) $18 - 8 =$

(10) $19 - 6 =$

(20) $13 + 3 =$

2. 看图写算式。

?本



16本

$\square \bigcirc \square = \square$ (本)



黄冈360°数学 _____年____月____日 星期____

RJ

口算题卡

一年级 上册 时间:____分____秒 家长评价:_____

11 ~ 20 各数的认识(7)

1. 口算。

$12 + 3 =$

$17 + 1 =$

$17 - 2 =$

$18 - 6 =$

$18 - 4 =$

$18 - 5 =$

$19 - 6 =$

$17 - 3 =$

$12 + 7 =$

$17 - 4 =$

$16 - 3 =$

$17 + 1 =$

$10 + 7 =$

$19 - 9 =$

$17 - 6 =$

$15 + 2 =$

$12 + 5 =$

$13 + 7 =$

$19 - 4 =$

$15 - 10 =$

2. 小朋友排成一队做操。小丽从前面数排第 9, 小方从前面数排第 14, 小丽和小方之间有几?



黄冈360°数学 _____年____月____日 星期____

RJ

口算题卡

一年级 上册 时间:____分____秒 家长评价:_____

11 ~ 20 各数的认识(8)

1. 口算。

$15 + 2 =$

$14 + 2 =$

$14 + 4 =$

$10 + 7 =$

$16 - 2 =$

$17 - 4 =$

$17 - 5 =$

$19 - 8 =$

$18 - 4 =$

$18 + 1 =$

$16 - 6 =$

$16 - 4 =$

$7 + 3 =$

$19 - 9 =$

$16 - 3 =$

$11 + 8 =$


$19 - 7 =$

$12 - 2 =$

$19 - 5 =$

$13 + 4 =$

2.



小英前面有 10 个人,后面还有 2 个人,一共有()人。



黄冈360°数学 _____年____月____日 星期____

RJ

口算题卡

一年级 上册 时间：____分____秒 家长评价：_____

认识钟表(1)

写出钟面上所表示的时间。

①



:

⑤



:

②



:

⑥




:

③



:

⑦



:

④



:

⑧



:



黄冈360°数学 _____年____月____日 星期____


RJ

口算题卡


一年级 上册 时间:____分____秒 家长评价:_____

认识钟表(2)


在下面钟表上面画上时针和分针。




5时




1时




7时




10时




2时




6时




12时



8时



9时



11时



9 加几(1)

1. 算一算, 填一填。

$$9 + 3 = \square$$

$$9 + 6 = \square$$

$$9 + 8 = \square$$

$$9 + 7 = \square$$

2. 算一算, 比一比。

$$9 + 1 + 4 =$$

$$9 + 5 =$$

$$9 + 1 + 8 =$$

$$9 + 9 =$$

$$9 + 1 + 5 =$$

$$9 + 6 =$$

$$9 + 1 + 1 =$$

$$9 + 2 =$$

$$9 + 1 + 6 =$$

$$9 + 7 =$$

$$9 + 1 + 2 =$$

$$9 + 3 =$$



黄冈360°数学 _____年____月____日 星期____

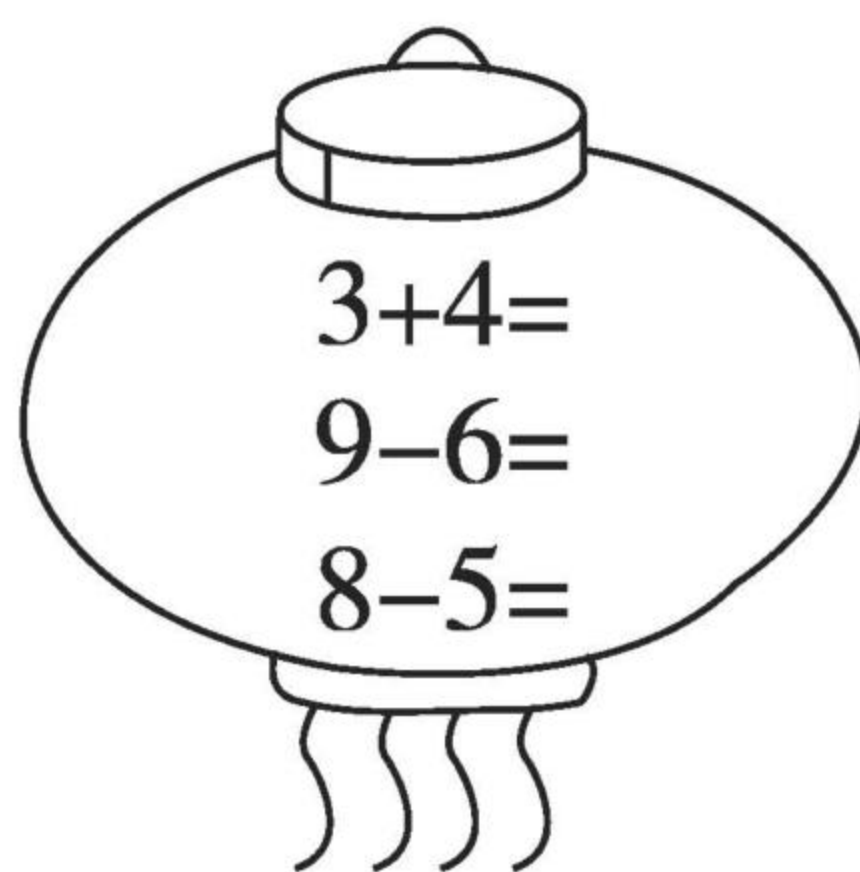
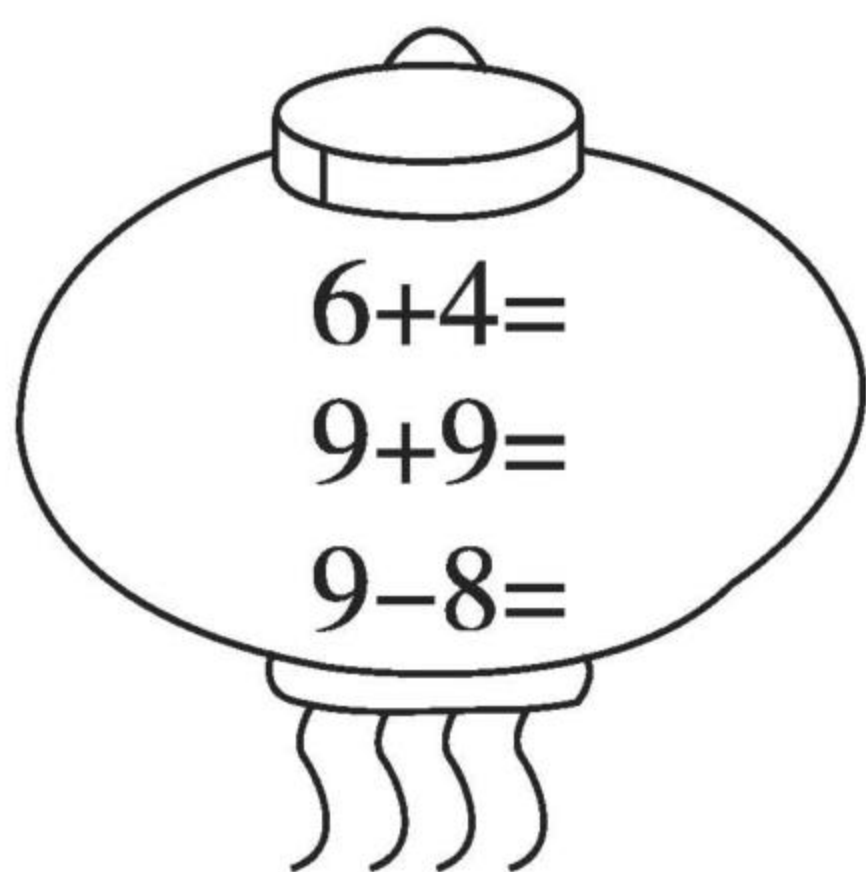
RJ

口算题卡

一年级 上册 时间:____分____秒 家长评价:_____

9 加几(2)

1. 口算。



2. 小猴该摘哪个桃,圈一圈。



$9+8=$



$9+3=$



$9+6=$



3. 在○里填上“>”“<”或“=”。

$9+4 \bigcirc 14$

$9+7 \bigcirc 13$

$9+5 \bigcirc 15$

$9+6 \bigcirc 17$

$9+9 \bigcirc 20$

$9+3 \bigcirc 12$

$9+8 \bigcirc 17$

$9+2 \bigcirc 11$



黄冈360°数学 _____年____月____日 星期____

RJ

口算题卡

一年级 上册 时间:____分____秒 家长评价:_____

9 加几(3)

1. 口算。

$9 + 3 =$

$11 + 5 =$

$9 + 6 =$

$16 - 2 =$

$9 + 8 =$

$10 + 7 =$

$9 + 5 =$

$15 - 3 =$

$9 + 7 =$

$19 - 4 =$

$9 + 1 =$

$16 + 2 =$

$14 - 2 =$

$17 - 4 =$

$15 - 3 =$

$15 + 1 =$

$18 + 1 =$

$9 + 4 =$

$17 - 3 =$

$17 - 5 =$

2.



一共有几只兔子?


$$\square \bigcirc \square = \square (\text{只})$$



8、7、6 加几(1)

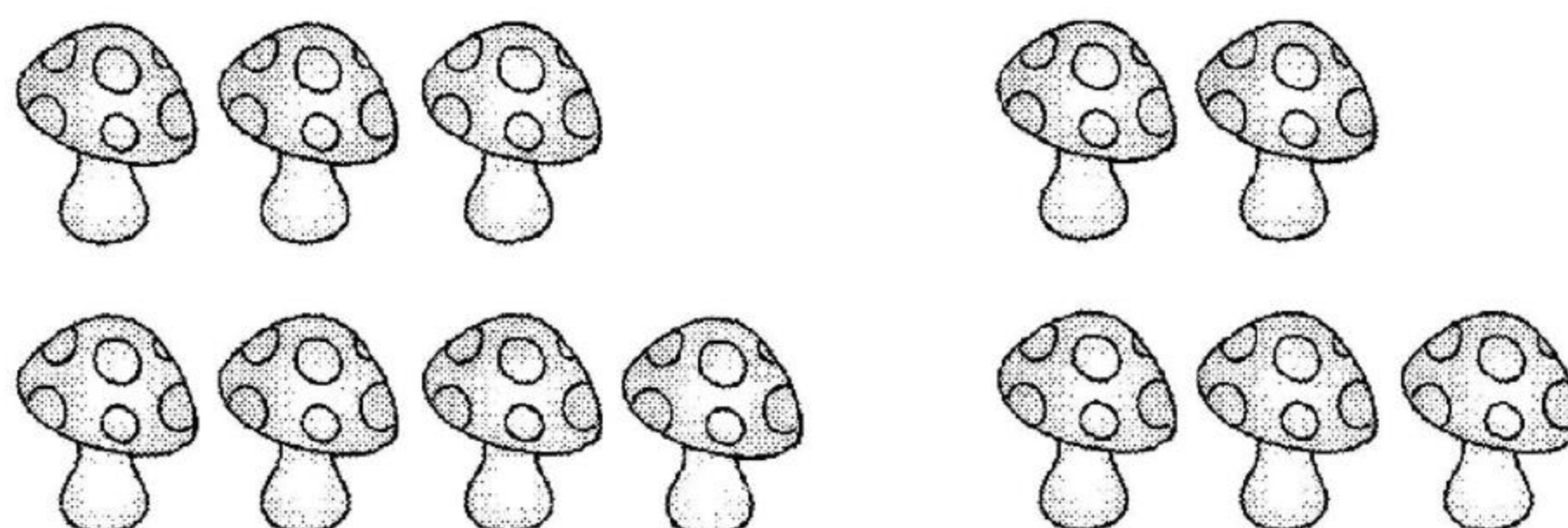
先圈一圈,再算一算。

1.



$$\begin{array}{r} 8 + 4 = \square \\ \begin{array}{c} | \quad \diagup \quad \diagdown \\ \square \quad \square \\ | \quad | \\ 10 \end{array} \end{array}$$

2.



$$\begin{array}{r} 7 + 5 = \square \\ \begin{array}{c} | \quad \diagup \quad \diagdown \\ \square \quad \square \\ | \quad | \\ 10 \end{array} \end{array}$$

3.



$$\begin{array}{r} 6 + 6 = \square \\ \begin{array}{c} | \quad \diagup \quad \diagdown \\ \square \quad \square \\ | \quad | \\ 10 \end{array} \end{array}$$



黄冈360°数学 _____年____月____日 星期____

RJ

口算题卡

一年级 上册 时间:____分____秒 家长评价:_____

8、7、6 加几(2)

1. 口算。

$9 + 7 =$

$6 + 8 =$

$8 + 8 =$

$7 + 8 =$

$7 + 5 =$

$7 + 4 =$

$8 + 5 =$

$2 + 8 =$

$8 + 4 =$

$8 + 3 =$

$9 + 6 =$

$9 + 8 =$

$9 + 5 =$

$14 + 4 =$

$7 + 7 =$

$5 + 6 =$



$7 + 3 =$

$6 + 4 =$

$7 + 6 =$

$6 + 6 =$

2.



原来有 辆车,又开来 辆。一共有多少辆车?

$$\square \bigcirc \square = \square (\text{辆})$$



5、4、3、2 加几(1)

1. 填一填。

$$\begin{array}{c} 5 + 9 = \square \\ \swarrow \quad \searrow \\ \square \quad \square \\ \quad \quad \downarrow \\ \quad \quad \square \end{array}$$

$$\begin{array}{c} 3 + 9 = \square \\ \swarrow \quad \searrow \\ \square \quad \square \\ \quad \quad \downarrow \\ \quad \quad \square \end{array}$$

$$\begin{array}{c} 4 + 8 = \square \\ \swarrow \quad \searrow \\ \square \quad \square \\ \quad \quad \downarrow \\ \quad \quad \square \end{array}$$

$$\begin{array}{c} 4 + 7 = \square \\ \swarrow \quad \searrow \\ \square \quad \square \\ \quad \quad \downarrow \\ \quad \quad \square \end{array}$$

$$\begin{array}{c} 2 + 9 = \square \\ \swarrow \quad \searrow \\ \square \quad \square \\ \quad \quad \downarrow \\ \quad \quad \square \end{array}$$

$$\begin{array}{c} 5 + 7 = \square \\ \swarrow \quad \searrow \\ \square \quad \square \\ \quad \quad \downarrow \\ \quad \quad \square \end{array}$$

2. 比大小。

$$3 + 9 \bigcirc 14 \quad 3 + 8 \bigcirc 12 \quad 17 - 2 \bigcirc 15 \quad 4 + 9 \bigcirc 12$$

$$6 + 7 \bigcirc 12 \quad 3 + 9 \bigcirc 12 \quad 7 + 7 \bigcirc 15 \quad 6 + 6 \bigcirc 14$$



黄冈360°数学 _____年____月____日 星期____

RJ

口算题卡

一年级 上册 时间:____分____秒 家长评价:_____

5、4、3、2 加几(2)

1. 口算。

$4 + 8 =$

$8 + 2 =$

$5 + 6 =$

$6 + 4 =$

$8 + 5 =$

$2 + 9 =$

$4 + 7 =$

$4 + 2 =$

$10 + 2 =$

$9 + 5 =$

$1 + 8 =$

$8 + 3 =$

$9 + 4 =$

$7 + 4 =$

$6 + 3 =$

$7 + 5 =$

$6 + 2 =$

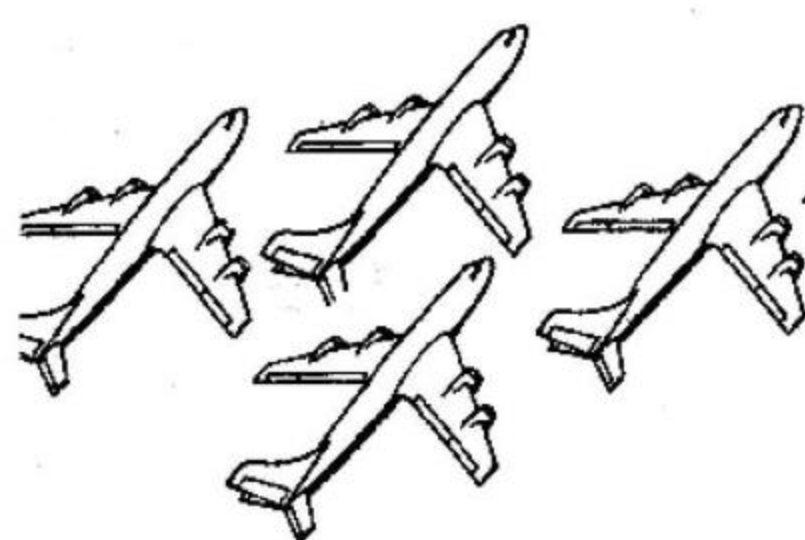
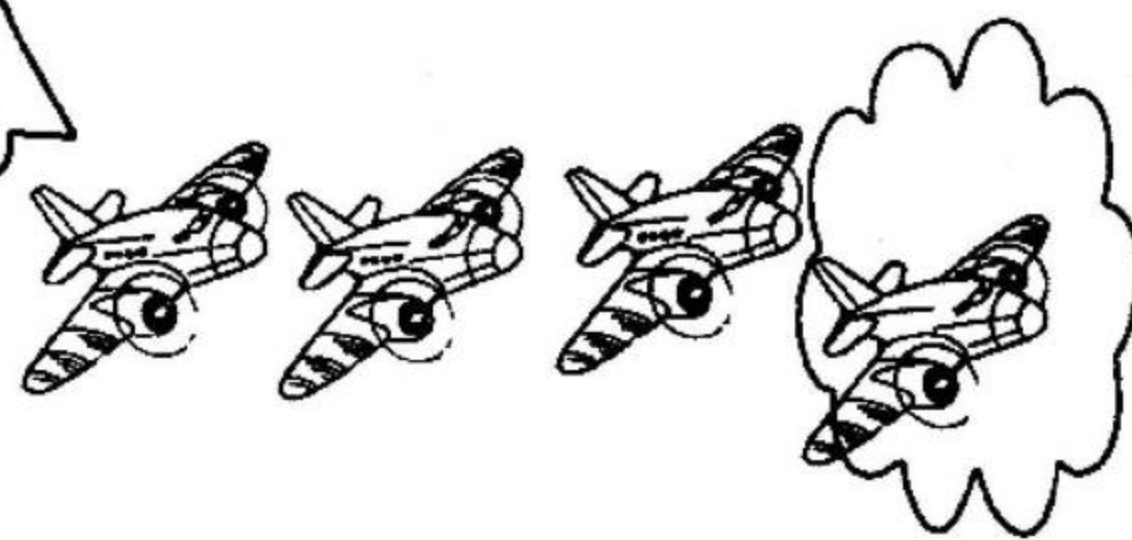
$9 + 3 =$

$3 + 7 =$

$7 + 2 =$

2.

天空中有8架飞机。



又飞来4架。

一共有多少架飞机?

$$\square \bigcirc \square = \square (\text{架})$$



黄冈360°数学 _____年____月____日 星期____

RJ

口算题卡

一年级 上册 时间:____分____秒 家长评价:_____

5、4、3、2 加几(3)

1. 算一算。

(1) $4 + 8 =$

(5) $4 + 7 =$

(8) $9 + 4 =$

(2) $5 + 5 =$

(6) $10 + 3 =$

(9) $2 + 9 =$

(3) $5 + 8 =$

(7) $2 + 8 =$

(10) $6 + 3 =$

(4) $5 + 9 =$

2. 在○里填上“>”“<”或“=”。

(1) $9 + 7 \bigcirc 8 + 7$

(6) $4 + 8 \bigcirc 7 + 7$

(2) $5 + 6 \bigcirc 6 + 5$

(7) $8 + 6 \bigcirc 9 + 6$

(3) $3 + 8 \bigcirc 3 + 9$

(8) $9 + 5 \bigcirc 5 + 10$


(4) $5 + 10 \bigcirc 7 + 4$

(9) $7 + 4 \bigcirc 7 + 5$

(5) $10 - 5 \bigcirc 5 + 0$

(10) $7 + 7 \bigcirc 3 + 10$

3.



他后面这只
手里还有8支
铅笔。

一共有几支铅笔?

$\square \bigcirc \square = \square$ (支)



黄冈360°数学 _____年____月____日 星期____

RJ

口算题卡

一年级 上册 时间:____分____秒 家长评价:_____

5、4、3、2 加几(4)

1. 算一算。

$3 + 9 =$

$2 + 9 =$

$5 + 7 =$

$4 + 7 =$

$7 + 4 =$

$8 + 4 =$

$9 + 5 =$

$7 + 5 =$

$4 + 9 =$

$9 + 9 =$

2. 比大小。

$5 + 7 \bigcirc 7 + 5$

$4 + 9 \bigcirc 7 + 6$

$9 - 5 \bigcirc 8 + 4$

$5 + 8 \bigcirc 4 + 3$

$4 + 7 \bigcirc 5 + 6$

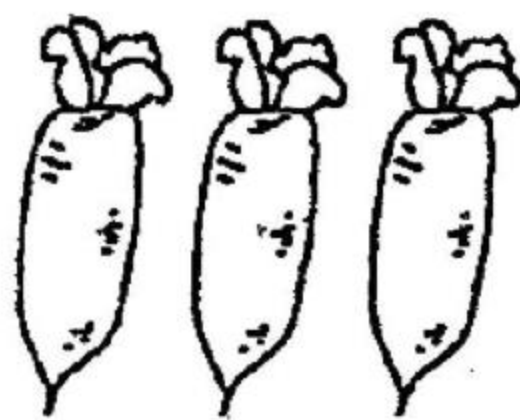
$2 + 9 \bigcirc 9 + 2$

$3 + 8 \bigcirc 8 + 3$

$9 + 0 \bigcirc 2 + 9$

3.

我吃了9个, 还剩……



原来一共有多少个?

$$\square \bigcirc \square = \square (\text{个})$$



黄冈360°数学 _____年____月____日 星期____

RJ

口算题卡

一年级 上册 时间:____分____秒 家长评价:_____

期末练习(1)

1. 口算。

(1) $8 + 11 =$

(11) $14 + 2 =$

(2) $1 + 17 =$

(12) $17 + 2 =$

(3) $7 + 12 =$

(13) $15 + 3 =$

(4) $4 + 13 =$

(14) $13 + 6 =$

(5) $6 + 13 =$

(15) $16 + 3 =$

(6) $2 + 16 =$

(16) $12 + 5 =$

(7) $5 + 14 =$

(17) $13 + 1 =$

(8) $8 + 10 =$

(18) $10 + 7 =$

(9) $9 + 10 =$

(19) $18 + 1 =$

(10) $5 + 10 =$

(20) $15 + 4 =$

2. 在○里填上“>”“<”或“=”。

(1) $3 + 6 \bigcirc 10$

(6) $15 \bigcirc 13 + 4$

(2) $10 + 7 \bigcirc 7$

(7) $13 \bigcirc 6 + 4$

(3) $3 + 5 \bigcirc 10$

(8) $19 \bigcirc 16 + 2$

(4) $6 + 12 \bigcirc 18$

(9) $17 \bigcirc 13 + 3$

(5) $5 + 11 \bigcirc 16$

(10) $16 \bigcirc 13 + 2$



黄冈360°数学 _____年____月____日 星期____

RJ

口算题卡

一年级 上册 时间:____分____秒 家长评价:_____

期末练习(2)

1. 口算。

(1) $18 - 4 =$

(11) $17 - 2 =$

(2) $16 - 3 =$

(12) $19 - 6 =$

(3) $13 - 1 =$

(13) $18 - 7 =$

(4) $15 - 1 =$

(14) $18 - 3 =$

(5) $16 - 4 =$

(15) $19 - 2 =$

(6) $18 - 1 =$

(16) $15 - 0 =$

(7) $12 - 0 =$

(17) $19 - 3 =$

(8) $19 - 0 =$

(18) $13 - 3 =$

(9) $19 + 0 =$

(19) $18 - 8 =$

(10) $18 - 2 =$

(20) $18 - 6 =$

2.

我采了8个松果。

我采的松果和你同样多。



它们一共采了多少个松果?

$\square \bigcirc \square = \square$ (个)



黄冈360°数学 _____年____月____日 星期____

RJ

口算题卡

一年级 上册 时间:____分____秒 家长评价:_____

期末练习(3)

1. 在○里填上“>”“<”或“=”。

(1) $5 + 3 - 4 \bigcirc 4$

(11) $6 + 2 - 5 \bigcirc 10$

(2) $3 + 3 - 2 \bigcirc 6$

(12) $5 - 0 + 5 \bigcirc 5$

(3) $6 - 4 + 8 \bigcirc 9$

(13) $10 - 6 + 2 \bigcirc 3$

(4) $10 - 7 + 1 \bigcirc 5$

(14) $5 - 2 - 3 \bigcirc 0$

(5) $2 + 5 - 6 \bigcirc 0$

(15) $3 + 1 - 3 \bigcirc 2$

(6) $8 + 2 - 5 \bigcirc 2$

(16) $7 + 1 - 6 \bigcirc 0$

(7) $3 + 0 + 4 \bigcirc 6$

(17) $6 + 1 + 2 \bigcirc 9$

(8) $10 - 5 - 4 \bigcirc 3$

(18) $4 + 1 + 4 \bigcirc 8$

(9) $9 - 8 + 6 \bigcirc 7$

(19) $10 - 6 - 2 \bigcirc 3$

(10) $10 - 4 + 1 \bigcirc 6$

(20) $7 - 6 + 5 \bigcirc 5$

2.



一共有□个☆,把左边6个☆圈起来。从右边数,把第8个☆涂成红色。



黄冈360°数学 _____年____月____日 星期____

RJ

口算题卡

一年级 上册 时间:____分____秒 家长评价:_____

期末练习(4)

1. 算一算。

(1) $10 - 7 - 2 =$

(11) $4 + 1 + 2 =$

(2) $9 + 1 + 0 =$

(12) $7 + 3 + 1 =$

(3) $4 + 2 + 6 =$

(13) $8 + 9 - 2 =$

(4) $7 - 1 + 8 =$

(14) $2 + 3 + 1 =$

(5) $8 + 1 + 4 =$

(15) $3 + 2 + 4 =$

(6) $2 + 1 + 3 =$

(16) $7 + 2 + 9 =$

(7) $3 + 4 + 2 =$

(17) $6 + 3 + 2 =$

(8) $7 + 1 + 2 =$

(18) $5 + 6 - 1 =$

(9) $6 - 2 + 9 =$

(19) $10 - 3 - 0 =$

(10) $5 + 1 + 6 =$

(20) $10 - 8 - 2 =$

2. 看图写算式。



$\square + \square + \square = \square$



黄冈360°数学 _____年____月____日 星期____

RJ

口算题卡

一年级 上册 时间:____分____秒 家长评价:_____

期末练习(5)

1. 算一算。

(1) $5 - 3 + 7 =$

(11) $2 + 7 - 6 =$

(2) $10 - 4 - 3 =$

(12) $3 + 4 - 7 =$

(3) $4 + 2 - 3 =$

(13) $4 + 3 - 0 =$

(4) $6 - 5 + 8 =$

(14) $6 - 4 - 2 =$

(5) $1 + 7 - 8 =$

(15) $9 + 1 - 9 =$

(6) $1 + 7 - 2 =$

(16) $8 + 2 - 5 =$

(7) $3 + 5 - 8 =$

(17) $4 + 5 - 6 =$

(8) $7 - 5 + 8 =$

(18) $0 + 6 + 2 =$

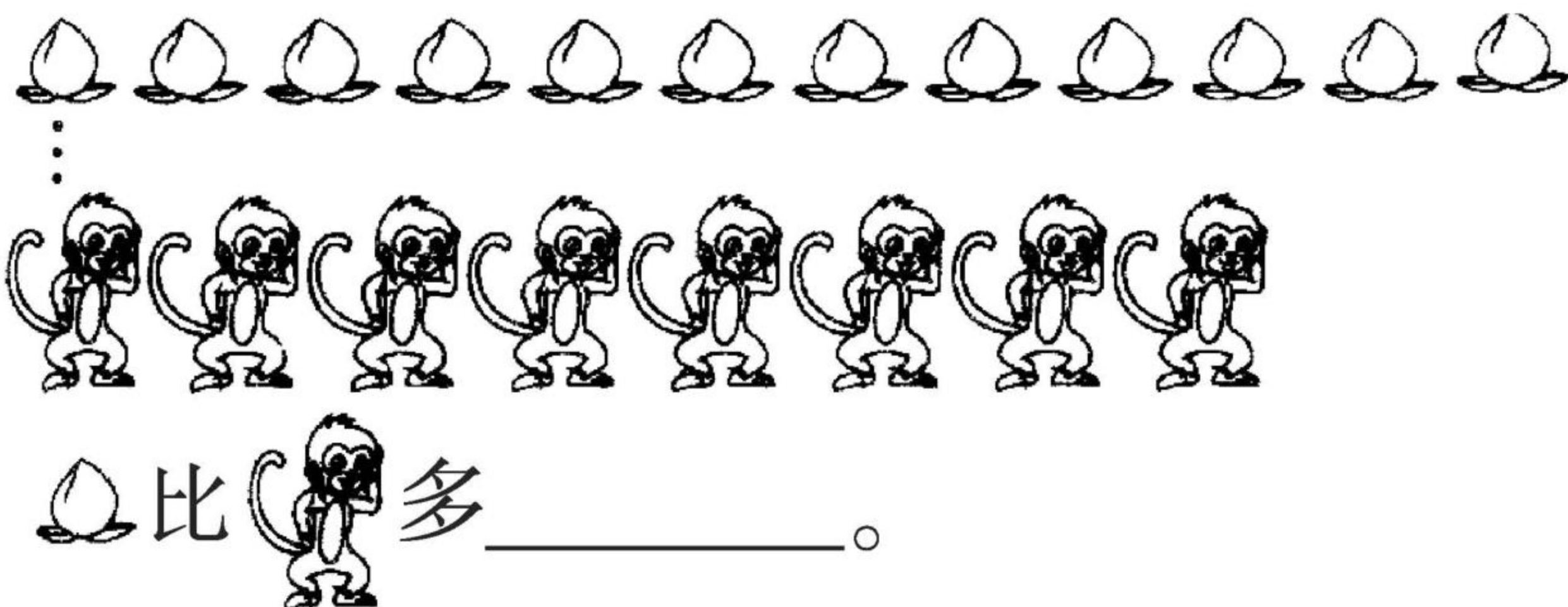
(9) $4 + 4 - 6 =$

(19) $5 + 4 - 1 =$

(10) $6 + 1 - 3 =$

(20) $2 + 7 + 1 =$

2. 连一连, 比一比。





黄冈360°数学 _____年____月____日 星期____

RJ

口算题卡

一年级 上册 时间:____分____秒 家长评价:_____

期末练习(6)

1. 算一算。

(1) $2 + 5 - 6 =$

(11) $3 + 7 - 6 =$

(2) $7 - 6 + 8 =$

(12) $8 - 6 + 7 =$

(3) $2 + 1 + 8 =$

(13) $8 + 2 - 5 =$

(4) $6 - 2 + 8 =$

(14) $7 + 3 - 2 =$

(5) $7 + 3 + 4 =$

(15) $7 + 7 - 4 =$

(6) $2 + 4 + 6 =$

(16) $4 + 4 + 9 =$

(7) $6 - 4 + 2 =$

(17) $4 + 5 + 4 =$

(8) $4 + 6 - 7 =$

(18) $7 + 3 + 1 =$


(9) $6 + 4 + 3 =$

(19) $2 + 4 + 5 =$

(10) $7 + 2 + 1 =$

(20) $7 + 2 + 1 =$

2.



小明和小丽之间有几儿人?



期末练习(7)

1. 口算。

(1) $7 + 8 =$

(11) $7 + 7 =$

(2) $6 + 6 =$

(12) $8 + 8 =$

(3) $9 + 4 =$

(13) $7 + 5 =$

(4) $3 + 8 =$

(14) $4 + 8 =$

(5) $14 - 3 =$

(15) $16 - 4 =$

(6) $6 + 7 =$

(16) $15 + 4 =$

(7) $7 + 9 =$

(17) $19 - 6 =$

(8) $8 + 6 =$

(18) $19 - 8 =$

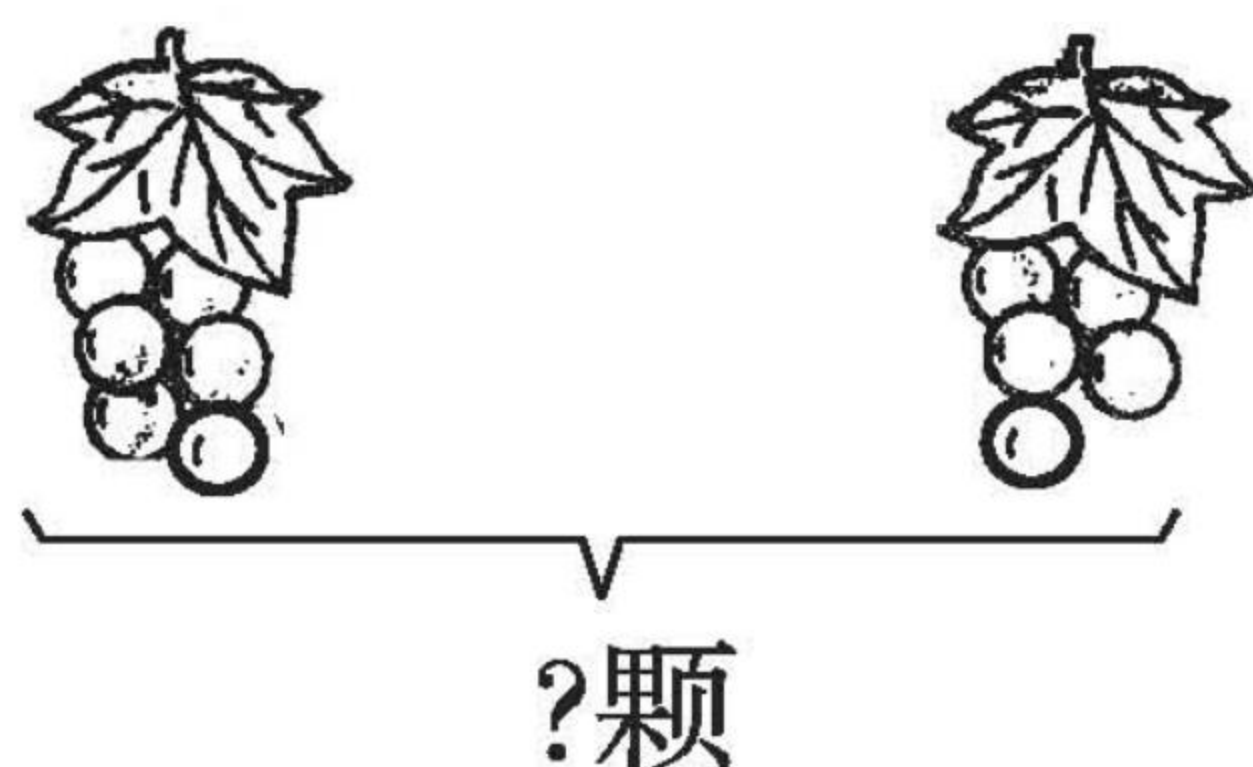
(9) $15 + 3 =$

(19) $7 + 4 =$

(10) $14 + 2 =$

(20) $6 + 9 =$

2. 说说图中的意思,再解答。

左边有 颗葡萄,右边有 颗葡萄。

一共有几颗葡萄?

\bigcirc = (颗)



黄冈360°数学 _____年____月____日 星期____

RJ

口算题卡

一年级 上册 时间:____分____秒 家长评价:_____

期末练习(8)

1. 口算。

(1) $8 + 7 - 6 =$

(11) $2 + 3 + 8 =$

(2) $7 + 7 - 2 =$

(12) $3 + 5 + 9 =$

(3) $9 - 3 + 8 =$

(13) $4 + 3 + 7 =$

(4) $7 - 4 + 9 =$

(14) $6 + 8 - 2 =$

(5) $6 + 6 - 2 =$

(15) $14 - 2 - 2 =$

(6) $14 - 2 + 3 =$

(16) $19 - 9 + 6 =$

(7) $15 - 5 + 6 =$

(17) $7 + 8 - 4 =$

(8) $4 + 9 - 3 =$

(18) $15 - 4 + 6 =$

(9) $7 + 7 - 3 =$

(19) $3 + 5 + 8 =$

(10) $6 + 8 - 2 =$

(20) $6 + 2 + 9 =$

2.



地里还剩几根萝卜?

$\square \bigcirc \square = \square$ (根)



黄冈360°数学 _____年____月____日 星期____

RJ

口算题卡

一年级 上册 时间:____分____秒 家长评价:_____

期末练习(9)

1. 口算。

(1) $8 + 3 =$

(11) $6 + () = 13$

(2) $8 + 8 =$

(12) $9 + () = 14$

(3) $9 + 6 =$

(13) $8 + () = 17$

(4) $9 + 9 =$

(14) $7 + () = 15$

(5) $8 + 5 =$

(15) $7 + () = 12$

(6) $7 + 7 =$

(16) $6 + () = 15$

(7) $6 + 8 =$

(17) $8 + () = 12$

(8) $9 + 3 =$

(18) $8 + () = 16$

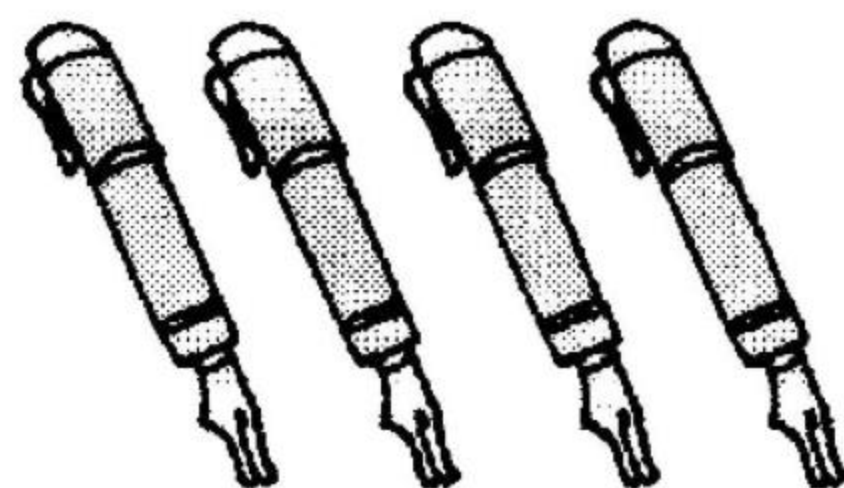

(9) $7 + 5 =$

(19) $7 + () = 16$

(10) $7 + 4 =$

(20) $() + 9 = 15$

2.



17支

$\square \bigcirc \square = \square$ (支)



黄冈360°数学 _____年____月____日 星期____

RJ

口算题卡

一年级 上册 时间:____分____秒 家长评价:_____

期末练习(10)

1. 口算。

(1) $17 - 3 =$

(2) $16 + 4 =$

(3) $3 + 12 =$

(4) $12 + 5 =$

(5) $2 + 11 =$

(6) $15 - 5 =$

(7) $7 + 7 =$

(8) $8 + 6 =$

(9) $9 + 4 =$

(10) $18 - 8 =$

(11) $6 + 6 - 2 =$

(12) $7 + 8 - 3 =$

(13) $4 + 3 + 9 =$

(14) $6 + 2 + 8 =$

(15) $7 + 2 + 7 =$

(16) $6 + 3 + 6 =$

(17) $14 - 2 + 5 =$

(18) $18 - 4 - 4 =$

(19) $7 + 2 + 9 =$

(20) $6 + 3 + 4 =$

2. 解决问题。



小红和小兰之间有()人。



黄冈360°数学 _____年____月____日 星期____

RJ

口算题卡

一年级 上册 时间:____分____秒 家长评价:_____

期末练习(11)

1. 口算。

(1) $14 + 2 =$

(2) $15 - 3 =$

(3) $19 - 6 =$

(4) $10 + 0 =$

(5) $6 + 8 =$

(6) $9 + 4 =$

(7) $7 + 7 =$

(8) $19 - 4 =$

(9) $15 + 2 =$

(10) $9 + 6 =$

(11) $13 + 5 =$

(12) $18 - 4 =$

(13) $17 - 3 =$

(14) $9 + 9 =$

(15) $9 + 8 =$

(16) $7 + 6 =$



(17) $6 + 7 =$

(18) $8 + 7 =$

(19) $19 - 5 =$

(20) $14 + 1 =$

2. 算一算,填一填。

		
小红	6 支	9 个
小明	8 支	3 个
一共	() 支	() 个



黄冈360°数学 _____年____月____日 星期____

RJ

口算题卡

一年级 上册 时间:____分____秒 家长评价:_____

期末练习(12)

1. 口算。

(1) $10 + 7 =$

(2) $4 + 3 =$

(3) $12 - 2 =$

(4) $11 + 3 =$

(5) $10 - 7 =$

(6) $3 + 8 =$

(7) $9 + 6 =$

(8) $13 + 3 =$

(9) $9 + 8 =$

(10) $7 + 4 =$

(11) $5 + 8 =$

(12) $17 - 5 =$

(13) $8 + 8 =$

(14) $6 + 6 =$

(15) $6 + 7 =$

(16) $7 + 8 =$


(17) $9 + 9 =$

(18) $9 + 4 =$

(19) $8 - 5 =$

(20) $17 - 2 =$

2.



有5只鸭子
上岸了。



河里还有
7只鸭子。

原来河里一共有几只鸭子?

\bigcirc = (只)



黄冈360°数学 _____年____月____日 星期____

RJ

口算题卡

一年级 上册 时间:____分____秒 家长评价:_____

期末练习(13)

1. 在○里填上“>”“<”或“=”。

(1) $18 - 10 \bigcirc 18$

(11) $14 - 3 \bigcirc 11$

(2) $13 - 3 \bigcirc 8$

(12) $12 - 2 \bigcirc 5$

(3) $10 - 4 \bigcirc 6$

(13) $8 - 6 \bigcirc 2$

(4) $19 - 10 \bigcirc 9$

(14) $18 - 8 \bigcirc 9$

(5) $14 - 4 \bigcirc 8$

(15) $10 - 5 \bigcirc 6$

(6) $15 - 10 \bigcirc 9$

(16) $17 - 10 \bigcirc 9$

(7) $18 + 1 \bigcirc 18$

(17) $19 - 8 \bigcirc 7$

(8) $15 - 10 \bigcirc 5$

(18) $13 - 10 \bigcirc 5$


(9) $11 - 3 \bigcirc 8$

(19) $11 - 10 \bigcirc 3$

(10) $19 - 10 \bigcirc 9$

(20) $7 + 8 \bigcirc 9$

2.



原来车上一共有多少人? $\square \bigcirc \square = \square$ (人)



期末练习(14)

1. 口算。

(1) $14 - 0 =$

(11) $19 - 4 =$

(2) $17 - 3 =$

(12) $17 + 2 =$

(3) $15 - 1 =$

(13) $17 - 5 =$

(4) $9 + 8 =$

(14) $18 - 6 =$

(5) $14 - 4 =$

(15) $19 - 5 =$

(6) $13 - 2 =$

(16) $18 - 3 =$

(7) $17 - 8 =$

(17) $16 - 0 =$

(8) $15 - 2 =$

(18) $16 - 3 =$


(9) $11 - 0 =$

(19) $16 + 2 =$

(10) $13 - 1 =$

(20) $15 + 2 =$

2.



一共有多少个球?

方法 1: $\square \bigcirc \square = \square$ (个)

方法 2: $\square \bigcirc \square = \square$ (个)



黄冈360°数学 _____年____月____日 星期____

RJ

口算题卡

一年级 上册 时间:____分____秒 家长评价:_____

期末练习(15)

1. 口算。

(1) $9 + 2 =$

(2) $3 + 9 =$

(3) $2 + 8 =$

(4) $3 + 8 =$

(5) $1 + 9 =$

(6) $6 + 5 =$

(7) $6 + 9 =$

(8) $6 + 7 =$

(9) $9 + 7 =$

(10) $6 + 6 =$

(11) $5 + 5 =$

(12) $4 + 8 =$

(13) $8 + 5 =$

(14) $5 + 7 =$

(15) $9 + 9 =$

(16) $9 + 4 =$

(17) $8 + 7 =$

(18) $6 + 8 =$

(19) $6 + 4 =$

(20) $8 + 9 =$

2.

送给了王奶奶5个。



还剩下9个。



原来一共有多少个?

$\square \bigcirc \square = \square (\text{个})$



黄冈360°数学 _____年____月____日 星期____

RJ

口算题卡

一年级 上册 时间:____分____秒 家长评价:_____

期末练习(16)

1. 口算。

(1) $2 + 9 =$

(11) $7 + 7 =$

(2) $3 + 8 =$

(12) $7 + 6 =$

(3) $17 - 6 =$

(13) $7 + 5 =$

(4) $16 - 4 =$

(14) $4 + 7 =$

(5) $15 - 3 =$

(15) $4 + 8 =$

(6) $8 + 7 =$

(16) $15 - 5 =$

(7) $8 + 8 =$

(17) $16 - 6 =$

(8) $9 + 4 =$

(18) $10 + 5 =$


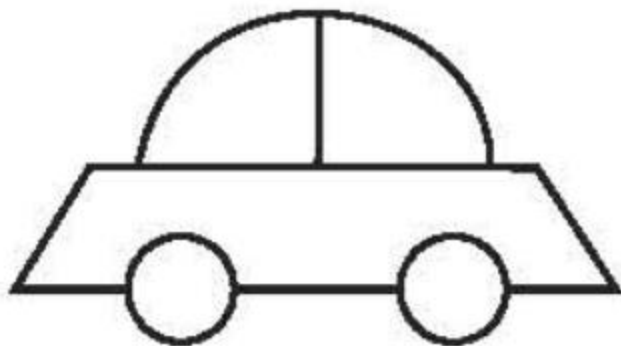

(9) $9 + 6 =$

(19) $9 + 0 =$

(10) $14 - 2 =$

(20) $9 + 3 =$

2. 填一填。

			
原有	9 辆	10 辆	5 辆
又开来	6 辆	4 辆	7 辆
一共	() 辆	() 辆	() 辆



黄冈360°数学 _____年____月____日 星期____

RJ

口算题卡

一年级 上册 时间:____分____秒 家长评价:_____

期末练习(17)

1. 算一算。

(1) $6 + 3 + 2 =$

(2) $4 + 7 + 3 =$

(3) $9 + 3 - 5 =$

(4) $2 + 3 + 8 =$

(5) $7 + 4 + 5 =$

(6) $13 - 3 - 4 =$

(7) $15 + 2 - 6 =$

(8) $4 + 8 - 10 =$

(9) $15 - 5 - 5 =$

(10) $3 + 3 + 0 =$

(11) $7 + 8 + 2 =$

(12) $3 + 9 + 7 =$

(13) $2 + 8 + 6 =$

(14) $14 + 2 + 2 =$

(15) $12 + 2 + 3 =$

(16) $3 + 7 + 4 =$


(17) $13 + 1 + 5 =$

(18) $8 + 7 + 3 =$

(19) $6 + 6 + 6 =$

(20) $7 + 3 + 9 =$

2.



已经进去了8人。



原来一共有多少人?

\bigcirc = (人)



黄冈360°数学 _____年____月____日 星期____

RJ

口算题卡

一年级 上册 时间:____分____秒 家长评价:_____

期末练习(18)

1. 计算。

(1) $7 + 3 =$

(2) $13 + 5 =$

(3) $12 - 9 =$

(4) $9 + 4 =$

(5) $0 + 8 =$

(6) $6 + 8 =$

(7) $14 - 2 =$

(8) $10 - 8 =$

(9) $18 - 0 =$

(10) $4 + 8 =$

(11) $9 + 5 =$

(12) $6 + 5 =$

(13) $7 + 9 =$

(14) $3 + 7 =$

(15) $8 + 4 =$

(16) $6 + 6 =$

(17) $14 + 4 =$

(18) $8 + 3 =$


(19) $9 + 9 =$

(20) $8 + 5 =$

2.

我俩共折了
9只小鸟。

要折19只才够送给
学前班的小朋友。



他俩还需折多少只小鸟才能完成任务?

\bigcirc $=$ (只)



期末练习(19)

1. 口算。

(1) $9 + 1 + 2 =$

(2) $9 + 3 =$

(3) $9 + 1 + 5 =$

(4) $9 + 6 =$

(5) $9 + 1 + 8 =$

(6) $9 + 9 =$

(7) $10 - 1 + 2 =$

(8) $10 - 1 + 5 =$

(9) $10 - 1 + 8 =$

(10) $10 - 1 + 0 =$

(11) $9 + 1 + 3 =$

(12) $9 + 4 =$

(13) $9 + 1 + 6 =$

(14) $9 + 7 =$

(15) $9 + 1 + 9 =$

(16) $9 + 10 =$

(17) $10 - 1 + 3 =$

(18) $10 - 1 + 6 =$

(19) $10 - 1 + 9 =$

(20) $10 + 1 - 1 =$

2.



7个



8个



9个

我从左面的
鸡蛋中买了
2篮。



妈妈可能买了多少个鸡蛋?

$$\square \bigcirc \square = \square (\text{个})$$



黄冈360°数学 _____年____月____日 星期____

RJ

口算题卡

一年级 上册 时间:____分____秒 家长评价:_____

期末练习(20)

1. 口算。

(1) $4 + 6 =$

(2) $1 + 2 =$

(3) $4 + 9 =$

(4) $2 + 9 =$

(5) $5 + 3 =$

(6) $8 + 9 =$

(7) $1 + 9 =$

(8) $6 + 2 =$

(9) $9 + 7 =$

(10) $9 + 9 =$

(11) $4 + 5 + 5 =$

(12) $3 + 6 + 9 =$

(13) $1 + 8 + 2 =$

(14) $7 + 2 + 4 =$

(15) $9 + 4 - 9 =$

(16) $9 + 0 + 9 =$

(17) $9 + 6 - 5 =$

(18) $8 + 1 + 3 =$

(19) $9 + 5 - 4 =$

(20) $9 + 7 - 6 =$

2.



原来一共有多少个蘑菇?

\bigcirc $=$ (个)



黄冈360°数学 _____年____月____日 星期____

RJ

口算题卡

一年级 上册 时间:____分____秒 家长评价:_____

期末练习(21)

1. 口算。

(1) $11 - 1 + 2 =$

(11) $3 + 7 - 4 =$

(2) $6 + 3 + 8 =$

(12) $12 - 10 - 2 =$

(3) $12 - 2 + 2 =$

(13) $1 + 9 + 9 =$

(4) $9 + 1 - 9 =$

(14) $13 - 3 - 3 =$

(5) $14 - 6 + 4 =$

(15) $5 + 5 + 3 =$

(6) $6 + 2 + 4 =$

(16) $15 - 10 + 3 =$

(7) $15 - 10 - 3 =$

(17) $7 + 3 + 6 =$

(8) $7 + 2 + 8 =$

(18) $16 - 10 + 8 =$

(9) $18 - 8 + 6 =$

(19) $3 + 6 + 7 =$

(10) $2 + 9 + 3 =$

(20) $19 - 10 + 0 =$

2. 解决问题。



原来一共有多少个苹果?

\bigcirc $=$ (个)



黄冈360°数学 _____年____月____日 星期____

RJ

口算题卡

一年级 上册 时间:____分____秒 家长评价:_____

期末练习(22)

1. 口算。

(1) $7 + 3 + 2 =$

(2) $14 - 3 + 7 =$

(3) $6 + 8 + 6 =$

(4) $17 - 7 - 6 =$

(5) $5 + 5 + 5 =$

(6) $18 - 10 - 4 =$

(7) $6 + 4 + 1 =$

(8) $16 - 6 + 7 =$

(9) $5 + 4 + 4 =$

(10) $18 - 8 + 2 =$

(11) $7 + 3 + 5 =$

(12) $11 - 1 + 5 =$

(13) $2 + 7 + 3 =$

(14) $17 - 7 + 6 =$

(15) $5 + 4 + 6 =$

(16) $12 - 2 - 9 =$

(17) $3 + 3 + 6 =$

(18) $16 - 10 + 3 =$

(19) $1 + 8 + 5 =$

(20) $19 - 10 - 9 =$

2.



王老师已经晾好了 6 条,还要晾几条?

\bigcirc $=$ (条)