



—— 扫码关注获取更多学习资料 ——

一年级
上册

JJ

主编：周学海

书山有路勤为径
学海无涯苦作舟

山东城市出版传媒集团·济南出版社




口算题卡

一年级 上册 时间:____分____秒 家长评价:_____

比一比(1)

1. 比轻重。重的画“√”,轻的画“○”。

(1)

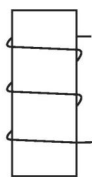
☐☐

(2)

☐☐

2. 比长短。长的画“√”,短的画“○”。

(1)

☐☐

(2)

☐☐

3. 比高矮。高的画“√”,矮的画“○”。

☐☐



口算题卡

一年级 上册 时间:____分____秒 家长评价:____

比一比(2)

1. 比大小。大的画“√”,小的画“○”。

(1)



(2)



2. 比多少。多的画“√”,少的画“○”。

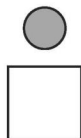
(1)



(2)



3. 最重的画“√”,最轻的画“○”。









口算题卡




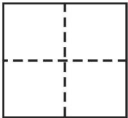
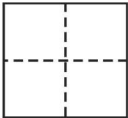
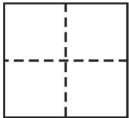



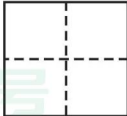
一年级 上册 时间:____分____秒 家长评价:____

1~5 的认识(1)

1. 看数,圈一圈。

	
3	5
	
4	2

2. 看图写数。

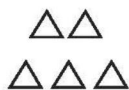


口算题卡

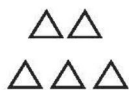
一年级 上册 时间:____分____秒 家长评价:____

1~5 的认识(2)

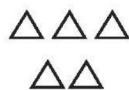
1. 看数涂上你喜欢的颜色。




3



4



2



5

2. 写一写。

/	/																		
2	2																		
3	3																		
4	4																		
5	5																		

微信公众号
教辅资料站



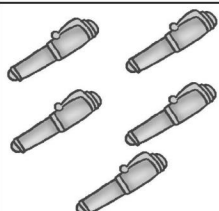

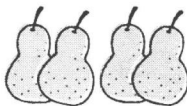



口算题卡

一年级 上册 时间:____分____秒 家长评价:_____

1~5 的认识(3)

1. 给正确的数画“√”。

 (3 4 5)	 (1 3 4)	 (3 4 5)
 (2 3 4)	 (5 4 3)	 (1 2 3)

2. 看数,照样子画线。

○○○○ ○	1
○○○○○	2
○○○○○	3
○○○○○	4
○○○○○	5


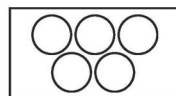
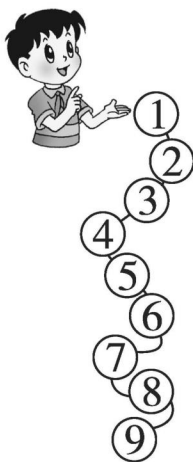




口算题卡

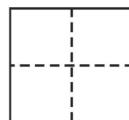
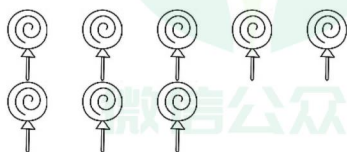
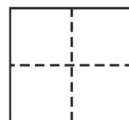
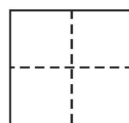

一年级 上册 时间:____分____秒 家长评价:_____

6~9 的认识(1)

1. 数一数,连一连。



2. 数一数,写一写。



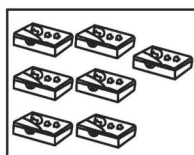
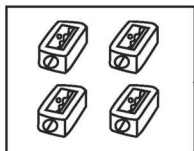


口算题卡

一年级 上册 时间:____分____秒 家长评价:_____

6~9 的认识(2)

1. 照样子,连一连。



3

6

1

8


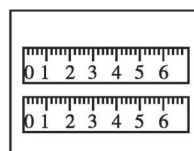
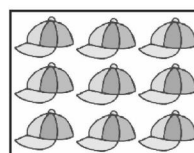
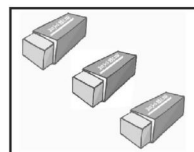

7

9

2

4

5



2. 填数。

(1) 9 8 () () () 4 () () 1

(2) 1 2 3 () 5 () () () 9

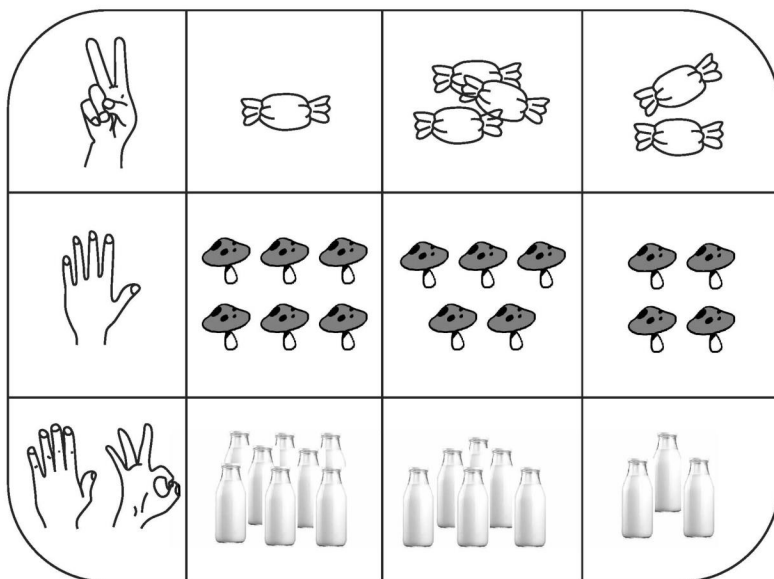


口算题卡

一年级 上册 时间:____分____秒 家长评价:_____

6~9 的认识(3)

1. 手指个数表示的是哪幅图? 把它圈出来。



2. 照样子,看数圈图形。





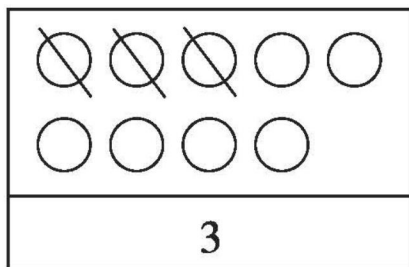
口算题卡

一年级 上册 时间:____分____秒 家长评价:____

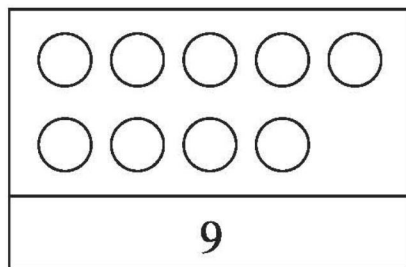
6~9 的认识(4)

照样子,划一划。

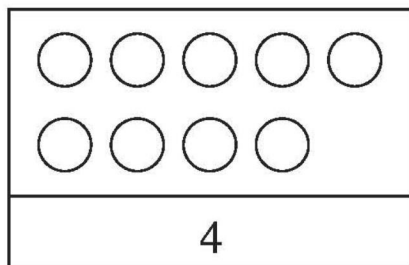
1.



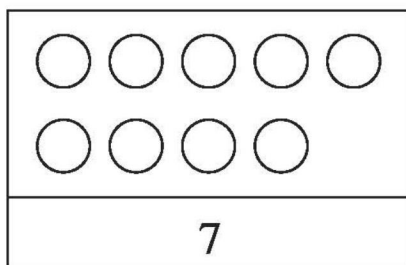
4.



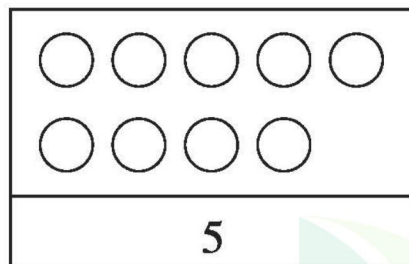
2.



5.



3.



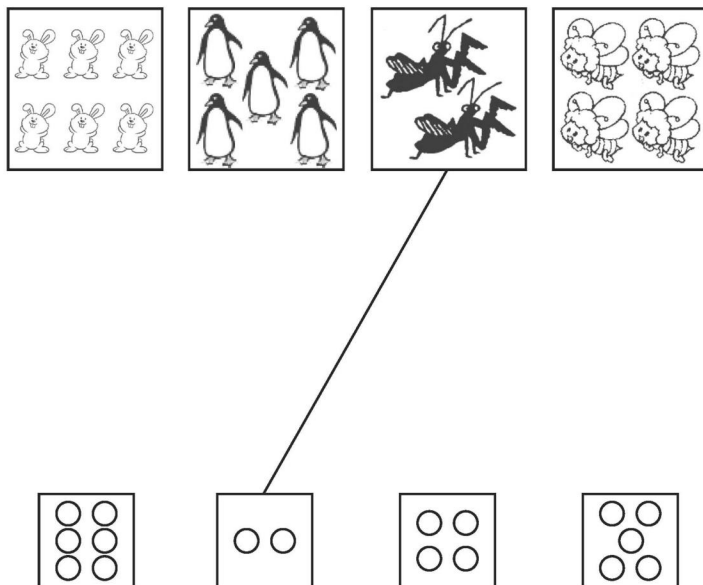


口算题卡


一年级 上册 时间:____分____秒 家长评价:_____

比多少(1)

1. 把同样多的连起来。



2. 在多的后面画“√”。



微信公众号
教辅资料站

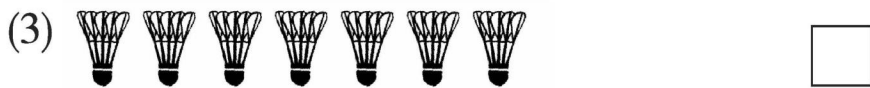


口算题卡

一年级 上册 时间:____分____秒 家长评价:_____

比多少(2)

在多的后面画“√”,在少的后面画“○”。



微信公众号
教辅资料站













口算题卡

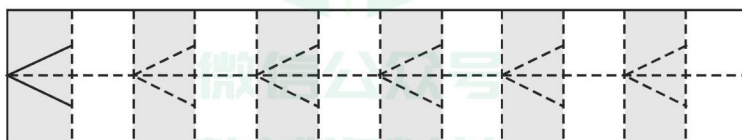
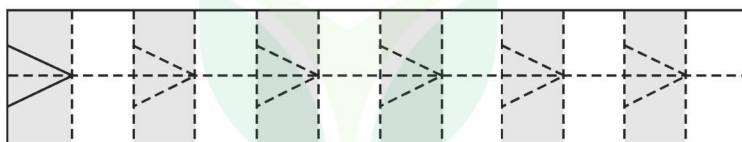
一年级 上册 时间:____分____秒 家长评价:_____

比大小·(1)

1. 比一比。

  	  	   
3 ○ 3	3 ○ 4	5 ○ 4

2. 描一描。



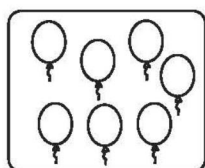


口算题卡


一年级 上册 时间:____分____秒 家长评价:_____

比大小·(2)

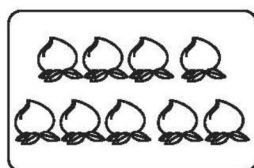
1. 看图写数。



()



()



()

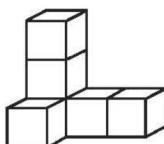
2. 按顺序填数。


1		3		5			8	
---	--	---	--	---	--	--	---	--

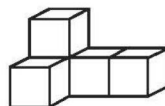
3. 数一数, 比一比。




()个 



()个 



()个 

○

○

4. 在○里填上“>”“<”或“=”。

$5 \bigcirc 6$


$6 \bigcirc 6$

$7 \bigcirc 6$

$6 \bigcirc 7$

$4 \bigcirc 6$

$9 \bigcirc 5$



口算题卡

一年级 上册 时间:____分____秒 家长评价:_____

比大小·(3)

1. 在○里填上“>”“<”或“=”。

(1) $1 \bigcirc 9$

(9) $3 \bigcirc 7$

(2) $2 \bigcirc 5$

(10) $4 \bigcirc 8$

(3) $5 \bigcirc 1$

(11) $6 \bigcirc 3$

(4) $8 \bigcirc 4$

(12) $4 \bigcirc 7$

(5) $8 \bigcirc 1$

(13) $2 \bigcirc 2$

(6) $5 \bigcirc 6$

(14) $5 \bigcirc 4$

(7) $4 \bigcirc 9$

(15) $2 \bigcirc 8$

(8) $3 \bigcirc 5$

(16) $7 \bigcirc 5$

2. 在□里填上合适的数。

(1) $2 > \square$

(9) $9 > \square$

(2) $3 > \square$

(10) $6 = \square$

(3) $4 < \square$

(11) $7 > \square$

(4) $8 = \square$

(12) $1 = \square$

(5) $\square < 8$

(13) $\square < 9$

(6) $2 < \square$

(14) $4 = \square$

(7) $3 < \square$

(15) $\square = 5$

(8) $\square > 6$

(16) $\square < 7$

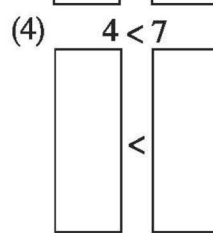
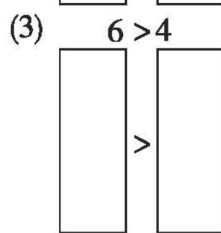
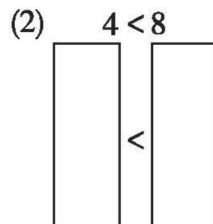
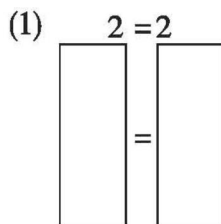
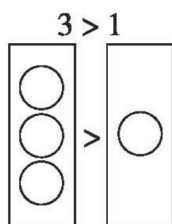


口算题卡




一年级 上册 时间:____分____秒 家长评价:_____

比大小·(4)

1. 照样子,画“○”表示上面的数。



2. 数一数,比一比。








口算题卡



一年级 上册 时间:____分____秒 家长评价:____

比大小·(5)

1. 数一数, 比一比。



	
() 朵	() 只

	
() 棵	() 只

□ ○ □

□ ○ □

2. 在○里填上“>”“<”或“=”。

3 ○ 4

4 ○ 3

5 ○ 7

2 ○ 4

9 ○ 5

6 ○ 4

3 ○ 7

4 ○ 8

4 ○ 9

8 ○ 8

4 ○ 7

4 ○ 5

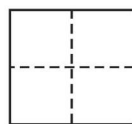
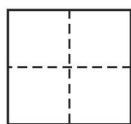
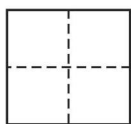


口算题卡

一年级 上册 时间:____分____秒 家长评价:_____

0 ~ 10 的认识

1. 数一数,每只小松鼠有几个松子?



2. 照样子,圈一圈。

微信公众号
教辅资料站



口算题卡

一年级 上册 时间:____分____秒 家长评价:_____


几和第几(1)

1. 数一数,填一填。




(1) 一共有()只动物。

(2) 从左数  排第(),  排第()。


(3) 从左数  排第(), 从右数排第()。


(4) 把右边的两只动物圈起来。

2. 填一填。

(1)  是第()名, 最后一名是()号。

(2)  的后面是()号, 前面是()号和()号。

(3)  的前面有()名运动员, 一共有()名运动员。





口算题卡

一年级 上册 时间:____分____秒 家长评价:____

几和第几(2)

1. 把下面的数字按从大到小的顺序排一排。



>



>




>



>



2.



(1) 把从左数第 7 只小企鹅涂上你喜欢的颜色。

(2) 从右数, 在第 6 只小企鹅的头上画 1 个○。

(3) 把右边的 6 只小企鹅圈起来。

3. 描一描, 写一写。







口算题卡

一年级 上册 时间:____分____秒 家长评价:_____

几和第几(3)

1. 数一数,填一填。







 的前面有()只小动物,后面有()只小动物。

从左数, 在第()车厢。

2. 画一画,填一填。



(1) 在  的左边画“□”,让  从左往右数排在第3个;在  的右边画“△”,让  从右往左数排在第4个。

(2) 在  的上面画2个○。

(3) □有()个,△有()个。

(4) □再添()个就和△同样多。




口算题卡

一年级 上册 时间:____分____秒 家长评价:_____

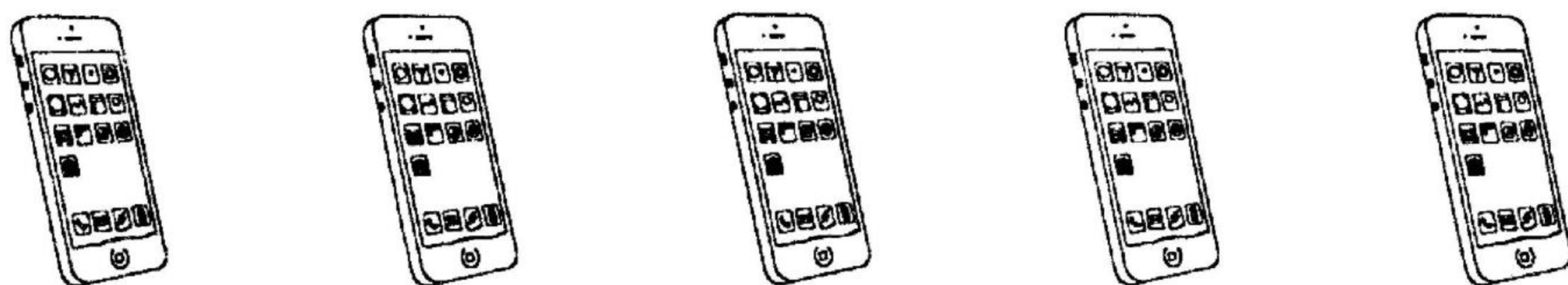
几和第几(4)

圈一圈。


(1) 圈出从左边数第 2 顶帽子。



(2) 圈出右边的 3 部手机。



(3) 圈出从右边数第 4 辆汽车。



(4) 圈出从左边数第 1 只小鸡。



(5) 圈出从左边数的第 3 个和从右边数的第 1 个手表。





几和第几(5)

涂一涂。

(1) 从左数, 给第4朵  涂上红色。



(2) 从右数, 给第5棵  涂上绿色。



(3) 从右数, 给第2个  涂上红色。



(4) 从左数, 给第3个  涂上蓝色。



(5) 从右数, 给第4个  涂上红色。





口算题卡

一年级 上册 时间:____分____秒 家长评价:_____

几和第几(6)

1. 小小裁判员。




第□ 第2 第□ 第4 第□

有□名同学在赛跑。



排第□,她前面有□人,后面有□人。

2.



获得第□名,



获得第□名,



获得第□名。




口算题卡

一年级 上册 时间:____分____秒 家长评价:_____

几和第几(7)

1. 游览动物园。



一共有 人, 从左数,  排第 .



上面两个 里的数表示的意思一样吗? 请在正确答案的 里画“√”。


☐

一样

☐

不一样

2.



(1) 把左边的 4 条鱼圈起来。

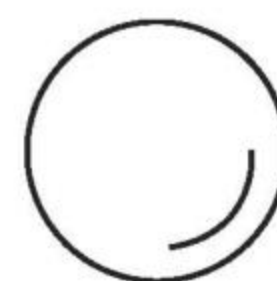



(2) 从左边数, 给第 3 条鱼涂上颜色。

(3) 从右边数的第 1 条鱼游走了, 还剩 条鱼。

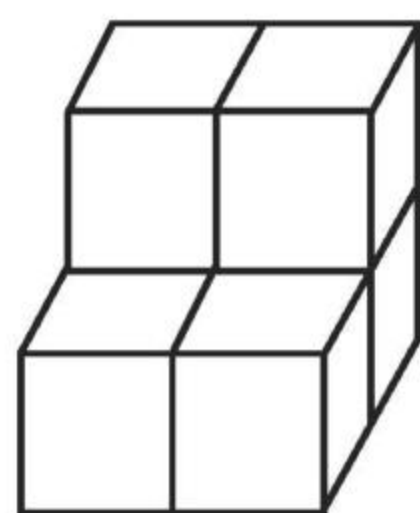


认识图形(1)

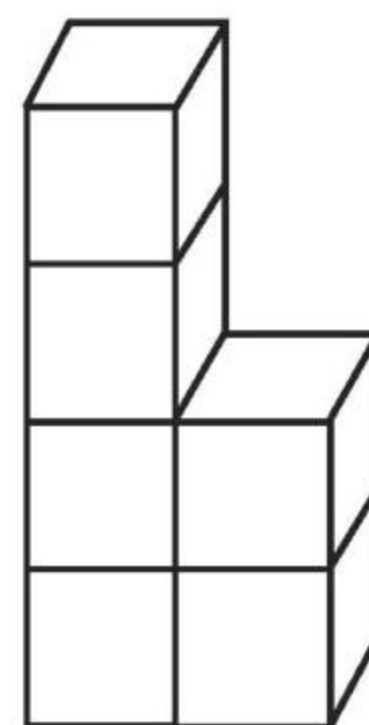
1. 连一连。



2. 数一数,下图中有多少个正方体?



()个



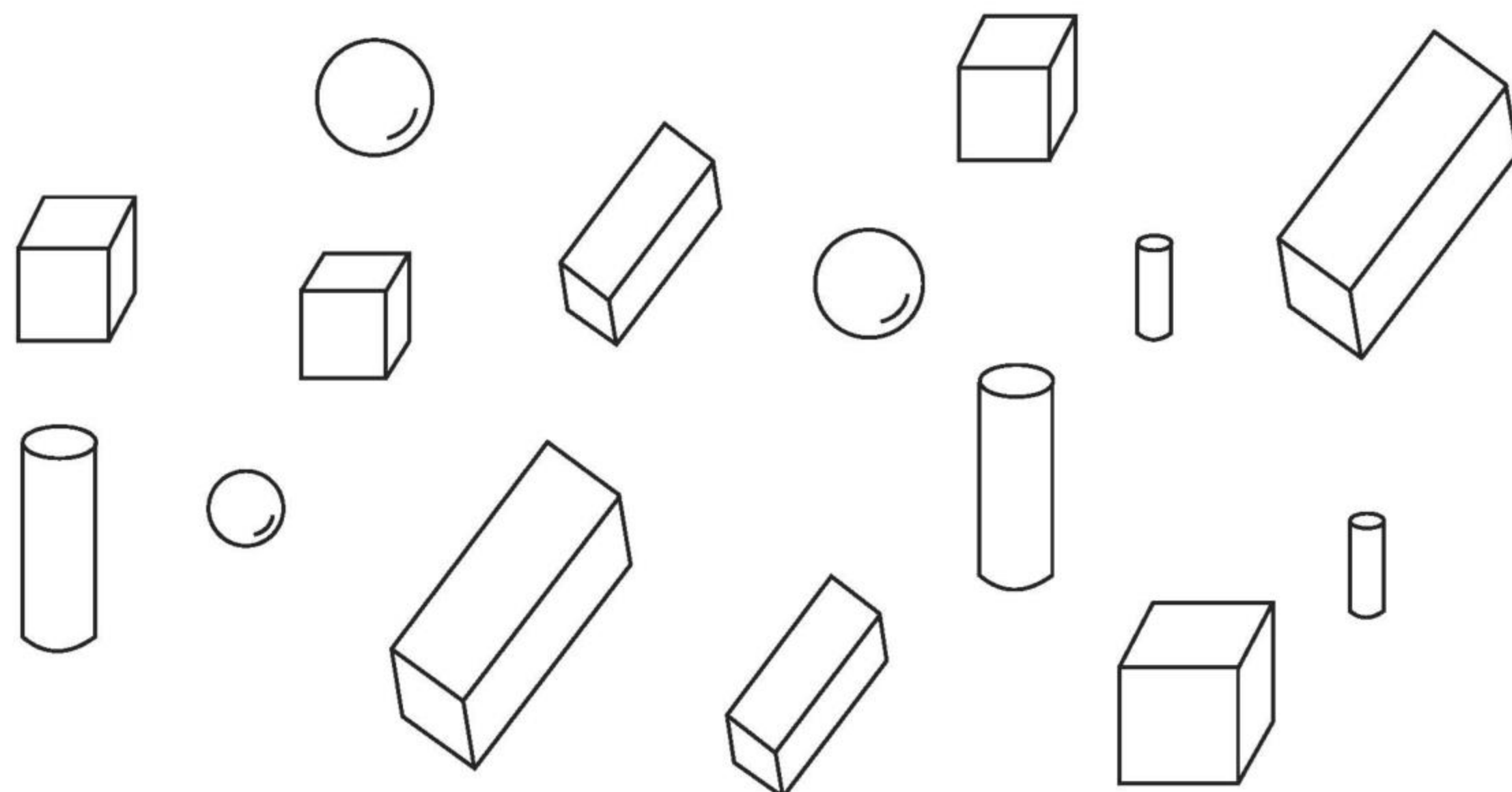
()个





认识图形(2)

1. 数一数,填一填。

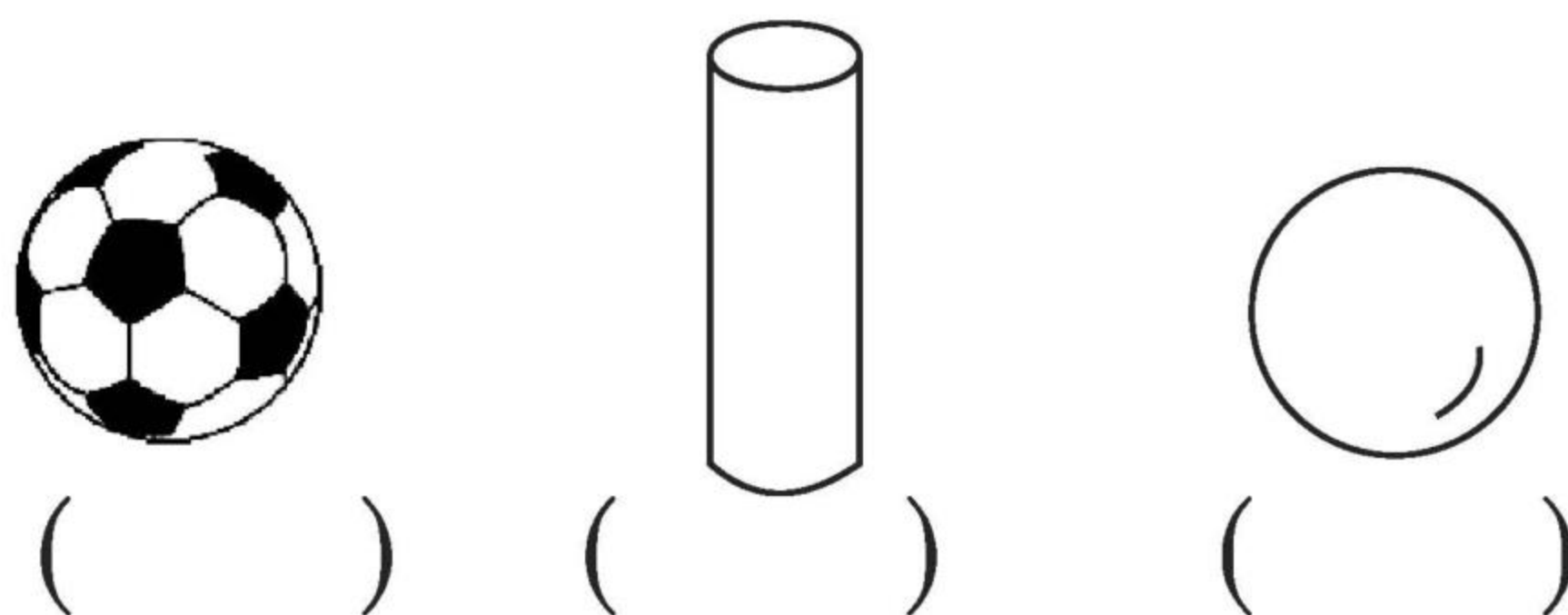


有()个,有()个,有()个,

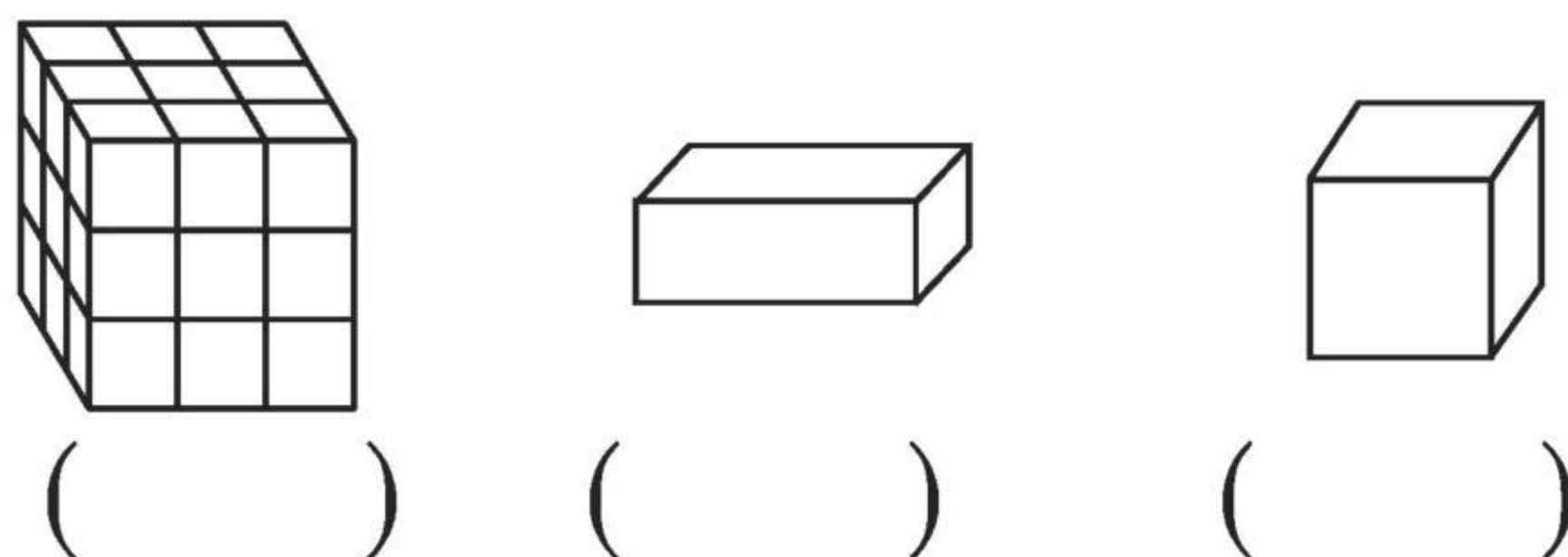
有()个。

2. 认一认,画一画。

(1) 在圆柱的下面画“√”,球的下面画“○”。



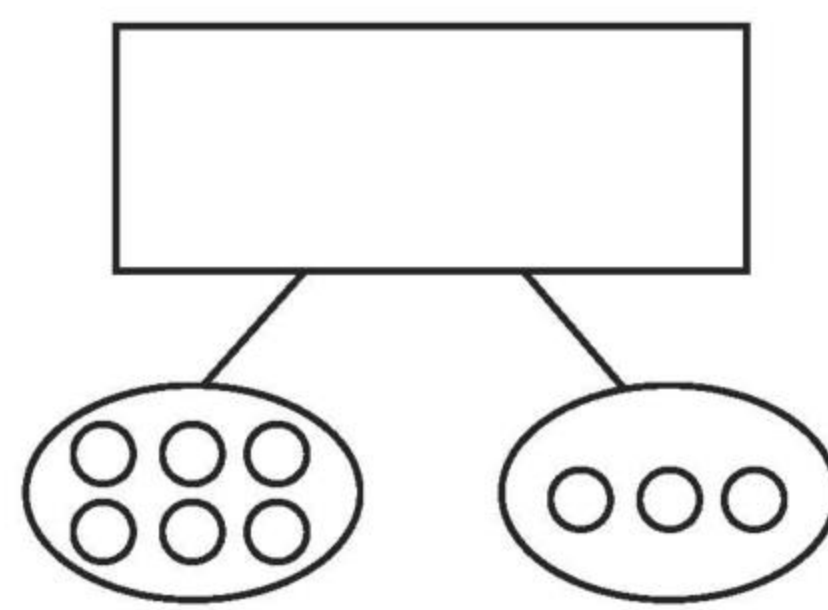
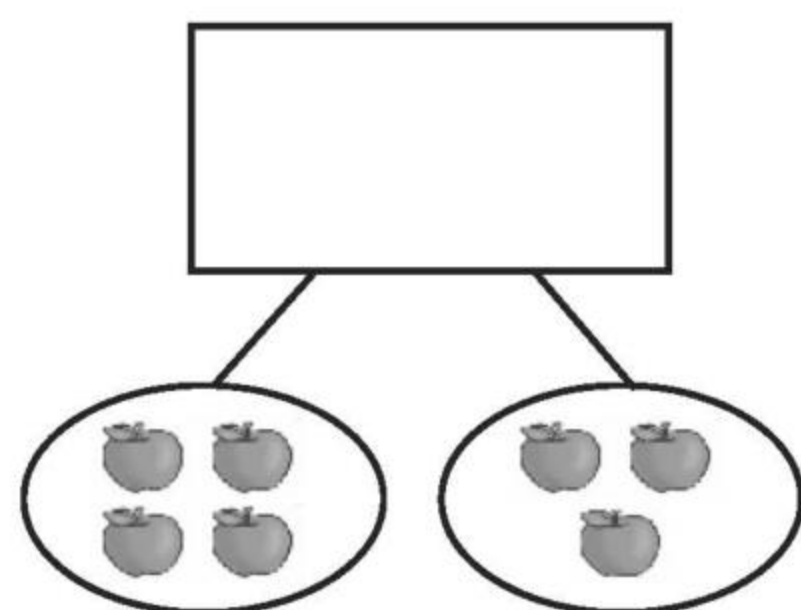
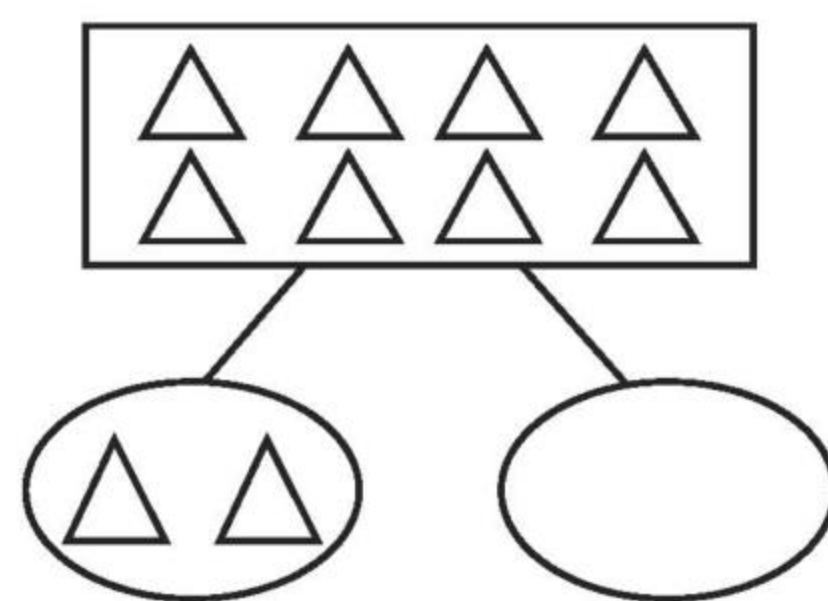
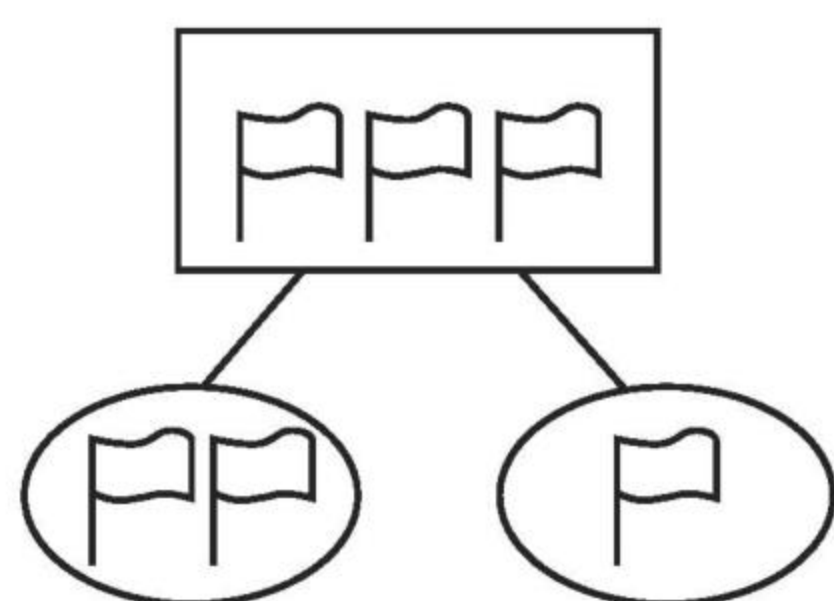
(2) 在长方体的下面画“√”,正方体的下面画“○”。



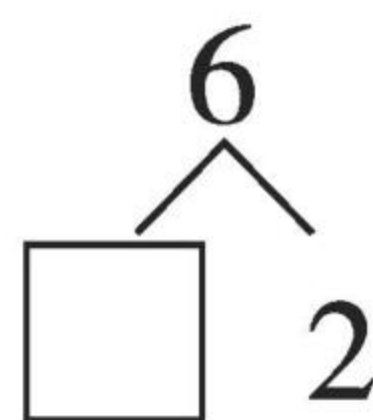
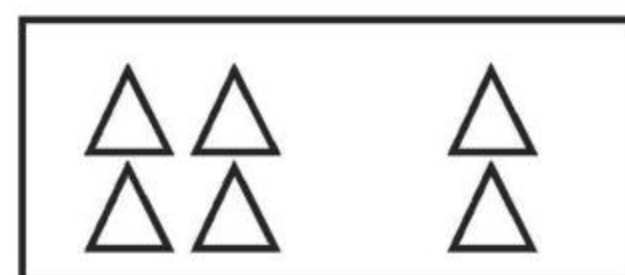
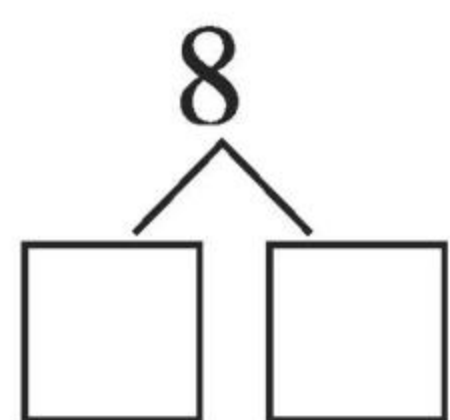
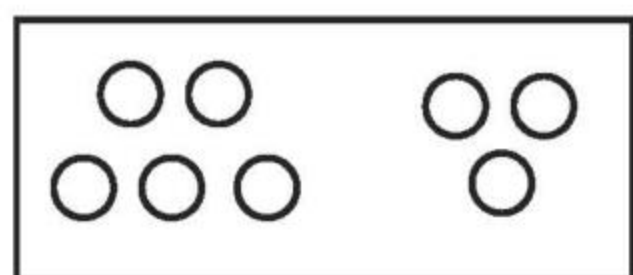
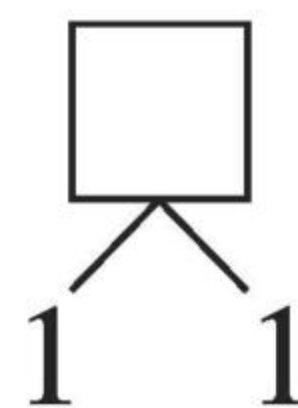
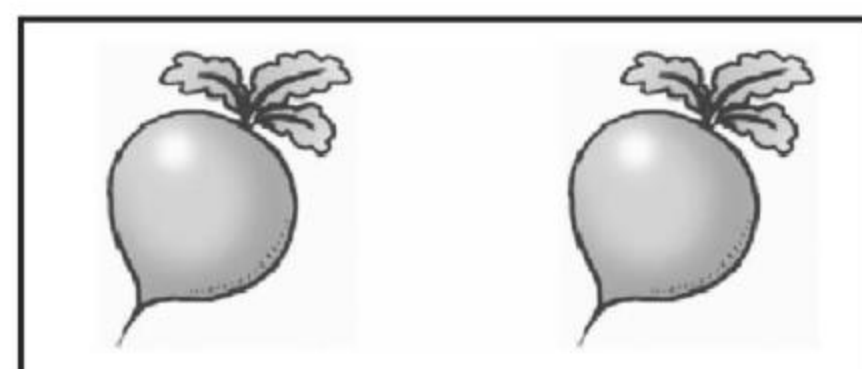

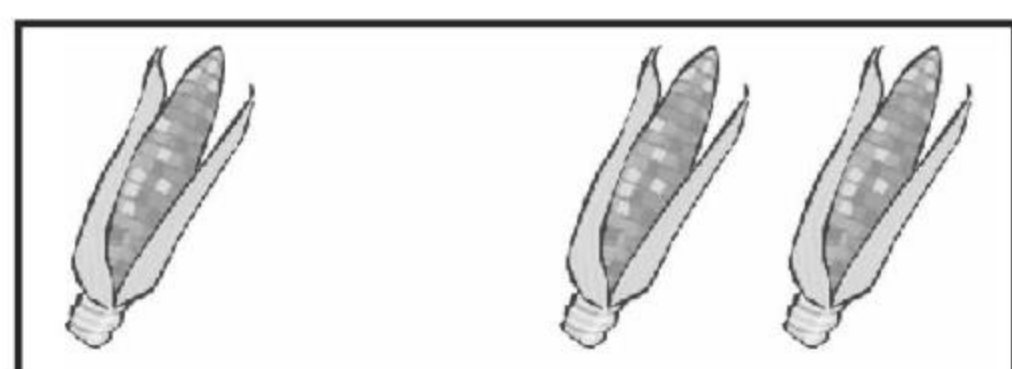


分与合(1)

1. 照样子,画一画。



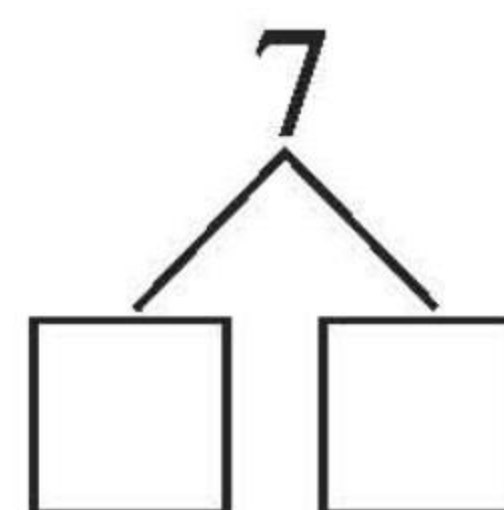
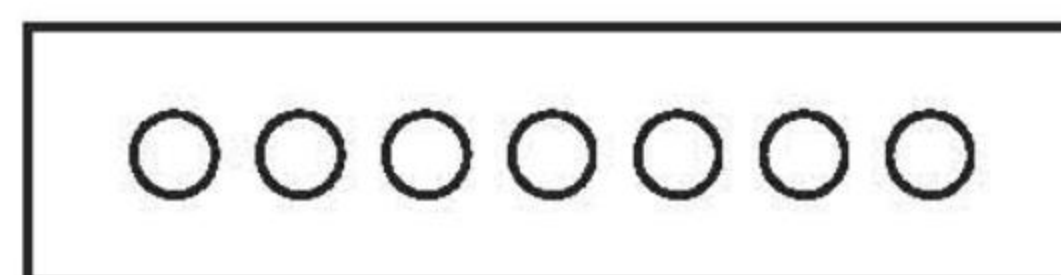
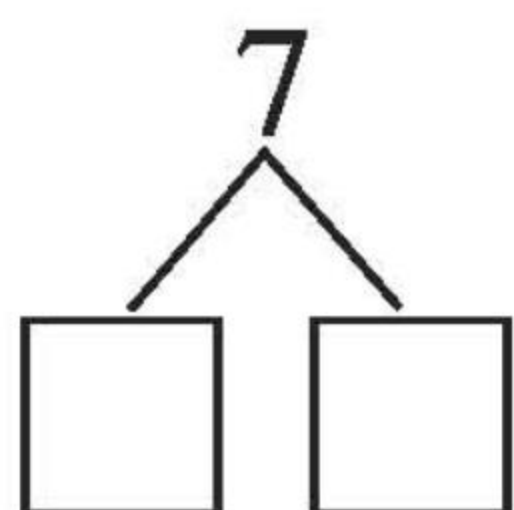
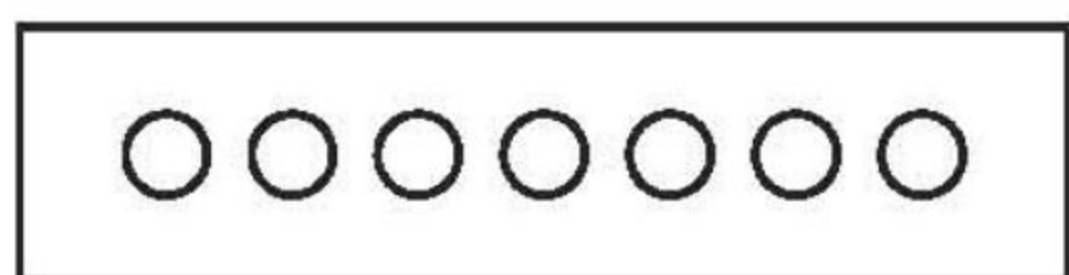
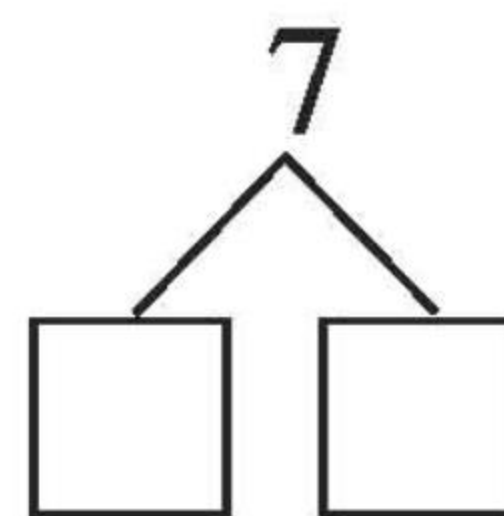
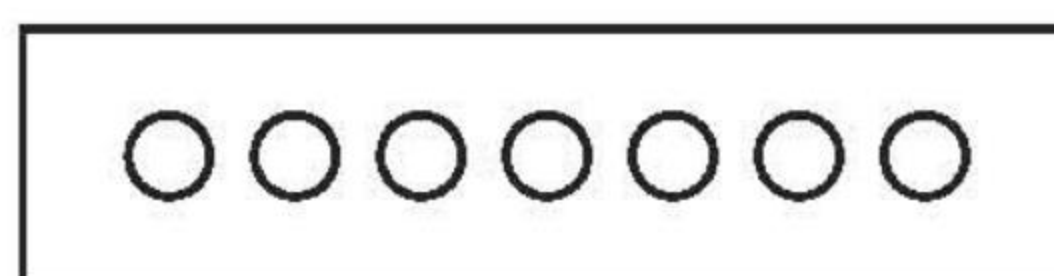
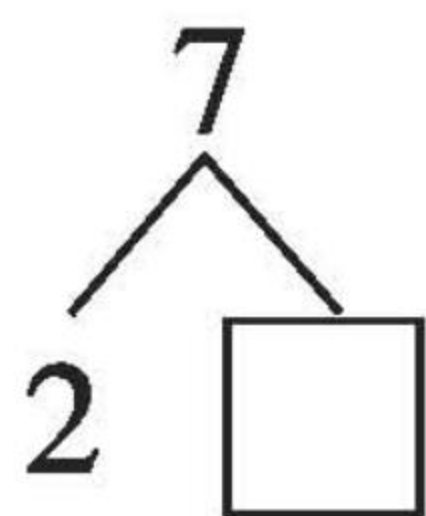
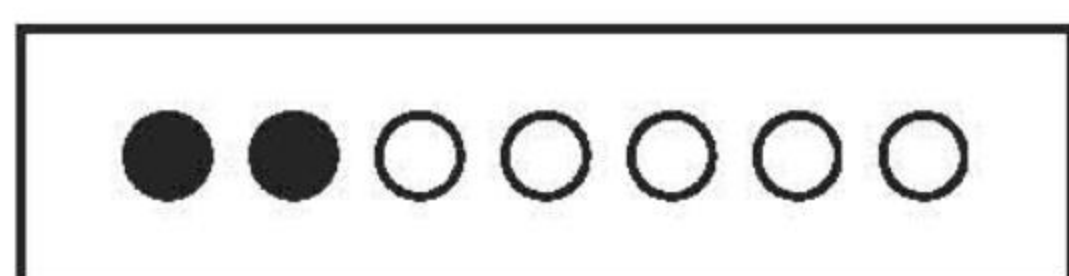
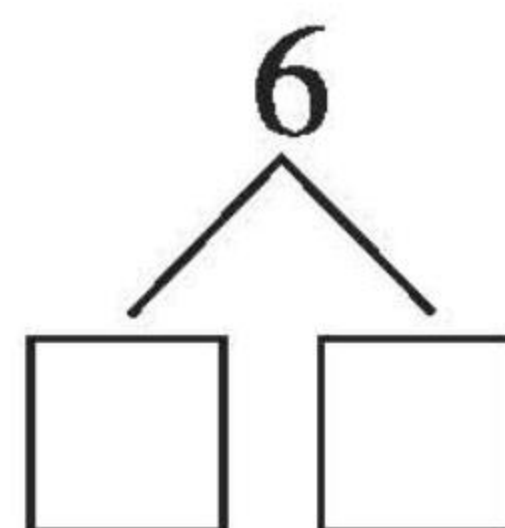
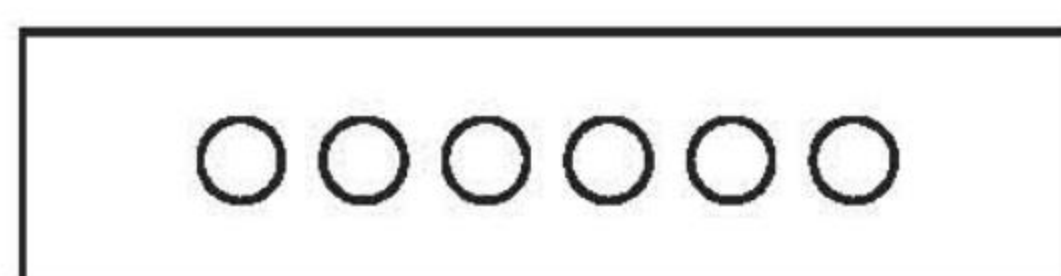
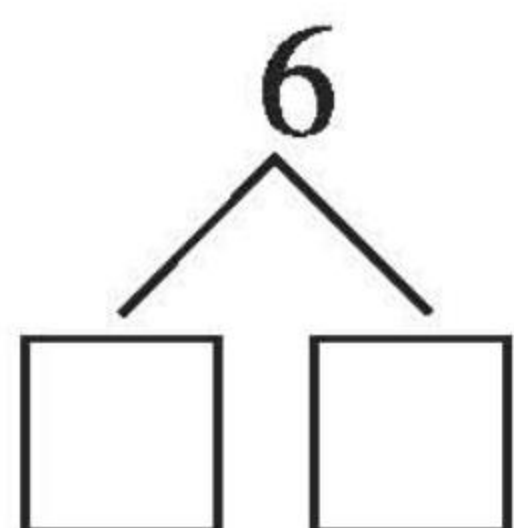
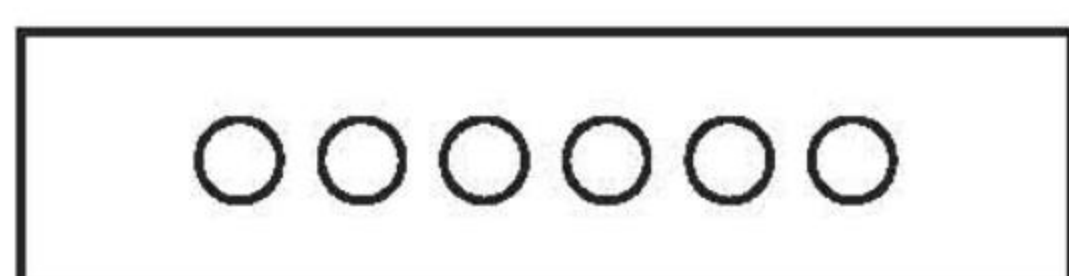
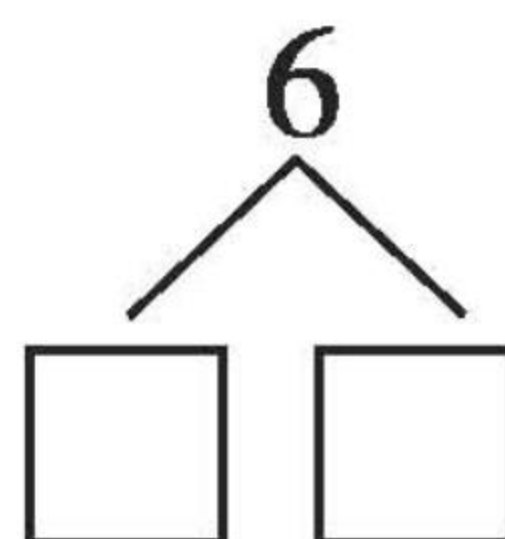
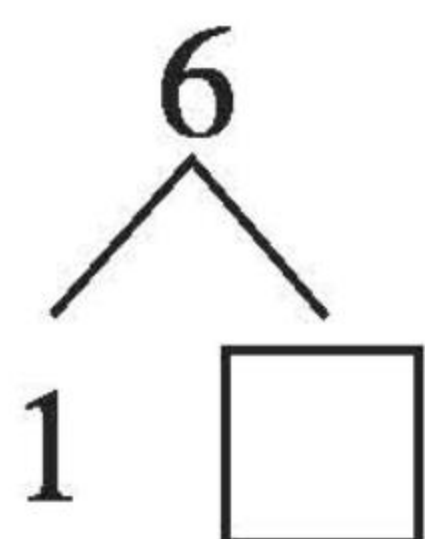

2. 看图填数。





分与合(2)

分一分,涂一涂,填一填。





分与合(3)

1.

$$\begin{array}{c} 8 \\ \swarrow \quad \searrow \\ 2 \quad () \end{array}$$

$$\begin{array}{c} 9 \\ \swarrow \quad \searrow \\ 4 \quad () \end{array}$$

$$\begin{array}{c} 3 \\ \swarrow \quad \searrow \\ 2 \quad () \end{array}$$

$$\begin{array}{c} 8 \\ \swarrow \quad \searrow \\ 1 \quad () \end{array}$$

$$\begin{array}{c} 8 \\ \swarrow \quad \searrow \\ 4 \quad () \end{array}$$

$$\begin{array}{c} 8 \\ \swarrow \quad \searrow \\ 5 \quad () \end{array}$$

$$\begin{array}{c} 9 \\ \swarrow \quad \searrow \\ 5 \quad () \end{array}$$

$$\begin{array}{c} 9 \\ \swarrow \quad \searrow \\ () \quad 3 \end{array}$$

$$\begin{array}{c} 9 \\ \swarrow \quad \searrow \\ 7 \quad () \end{array}$$

2.

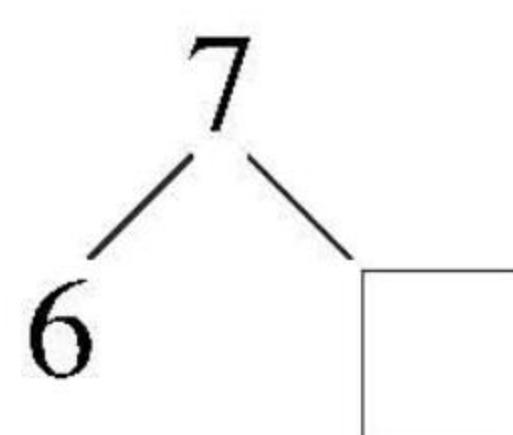
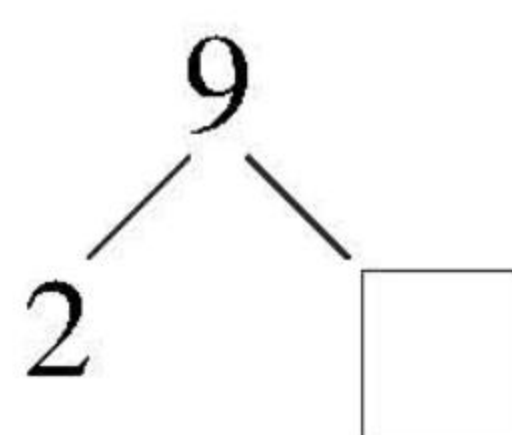
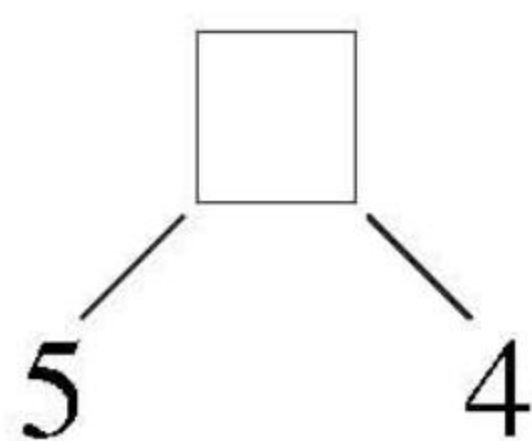
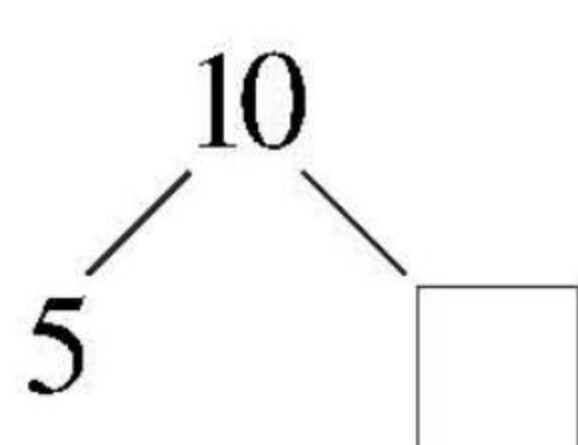
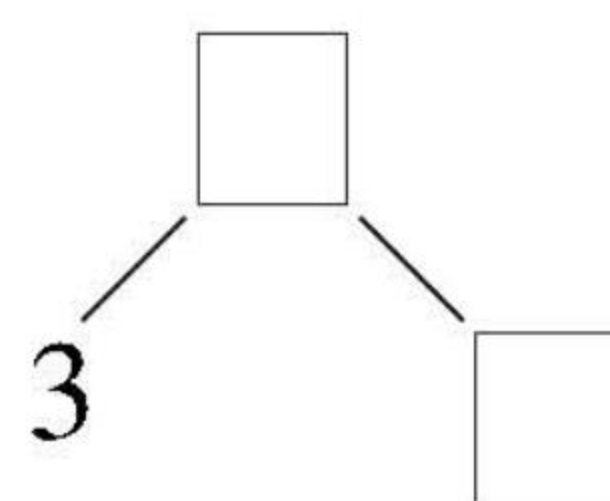
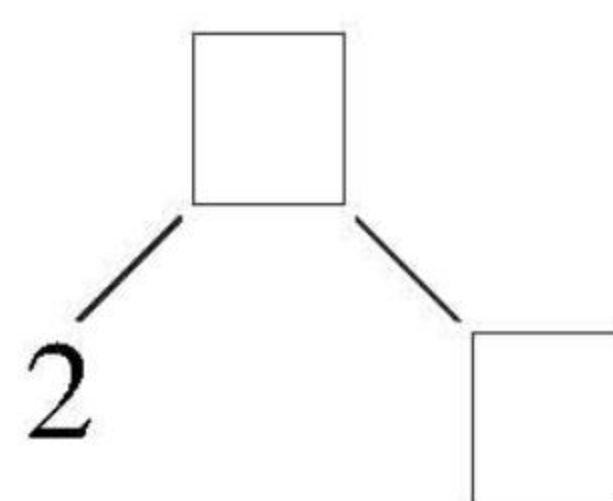
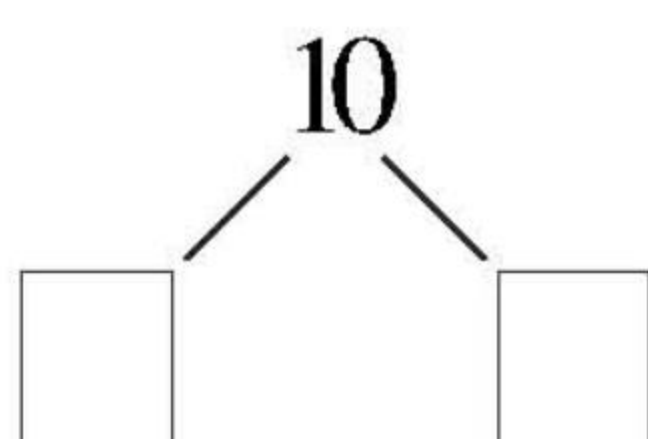
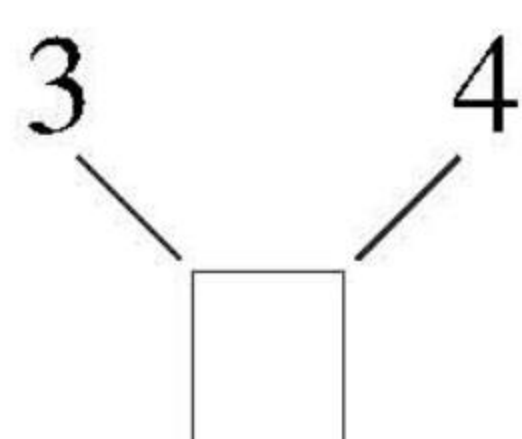
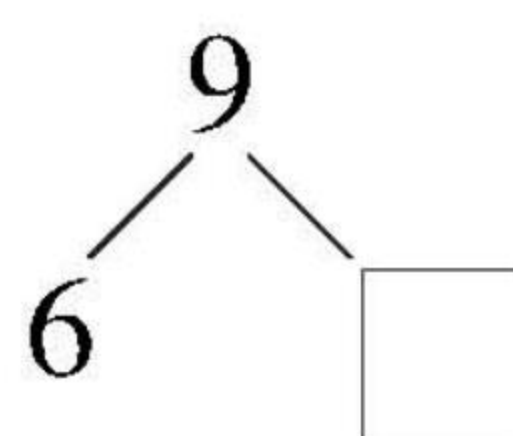
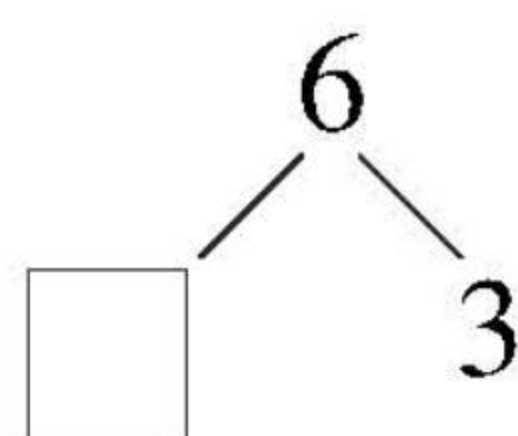
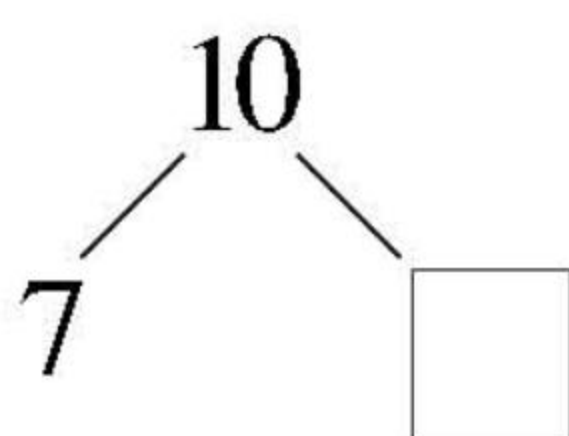
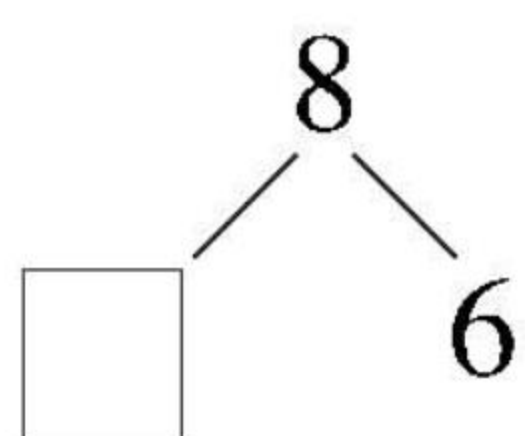
$$8 < \begin{array}{|c|c|c|c|c|c|c|} \hline 1 & 2 & & 4 & 5 & & 7 \\ \hline & & 3 & & & 6 & \\ \hline \end{array}$$

$$9 < \begin{array}{|c|c|c|c|c|c|c|c|} \hline 1 & 2 & & & 5 & & 7 & 8 \\ \hline & & 6 & 5 & & 3 & & \\ \hline \end{array}$$

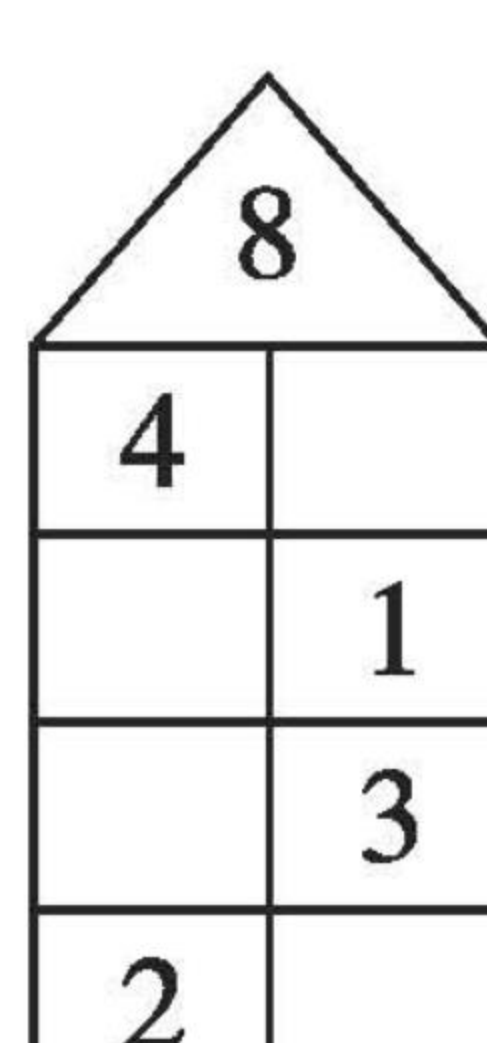
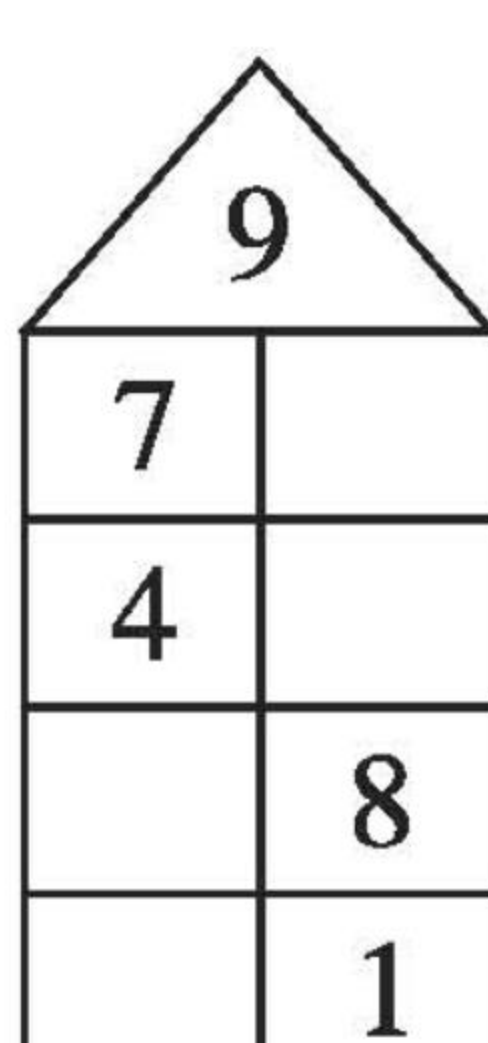
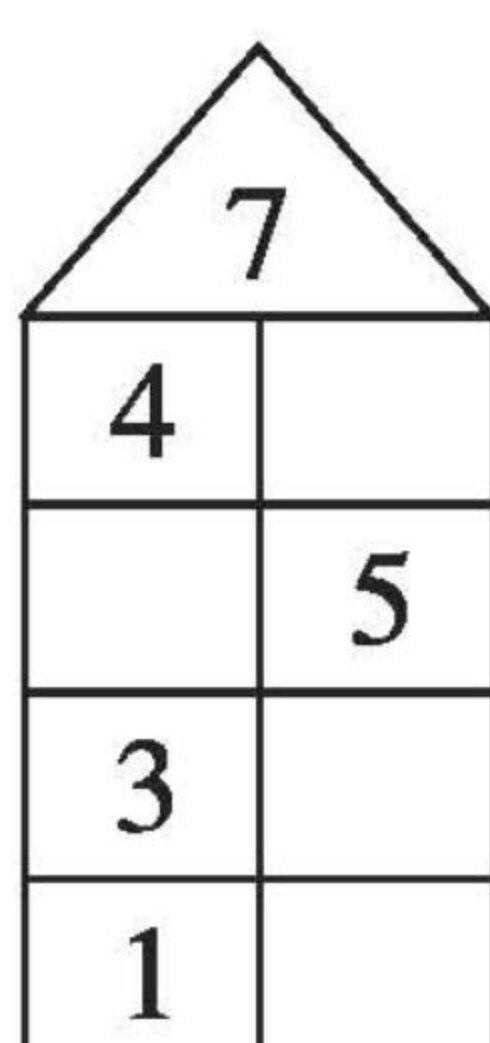
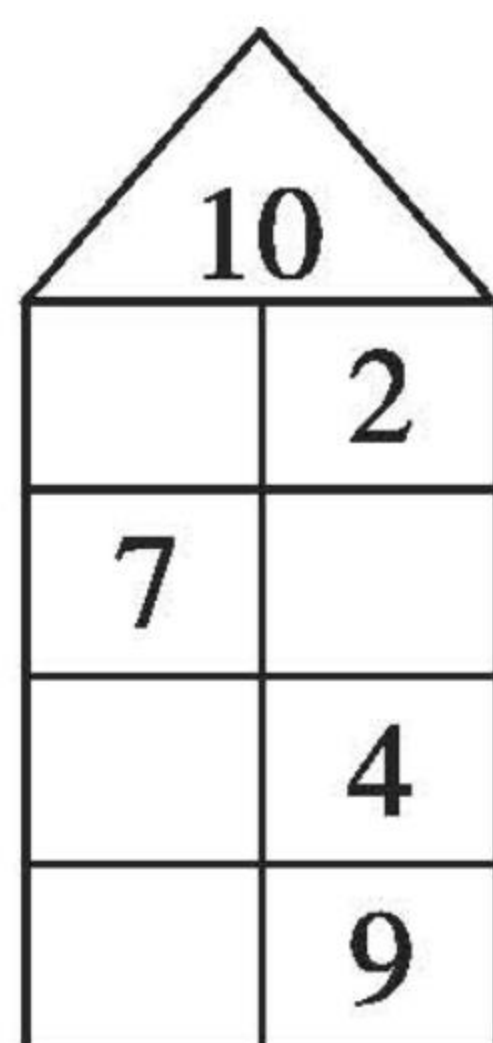


分与合(4)

1. 分一分,填一填。




2.





加法(1)

1. 说一说,填一填。



小女孩右手有 3 支 , 左手有 2 支 , 把它们合并在一起, 一共有 支 , 可以用加法计算。

$$3 + 2 = \square$$

读作: 加 等于 。

2.



树枝上原来有 2 只鸟, 又飞来了 只, 把它们合并在一起, 一共有 只鸟, 可以用加法计算。

$$2 + \square = \square$$

读作: 加 等于 。







口算题卡

一年级 上册 时间:____分____秒 家长评价:_____

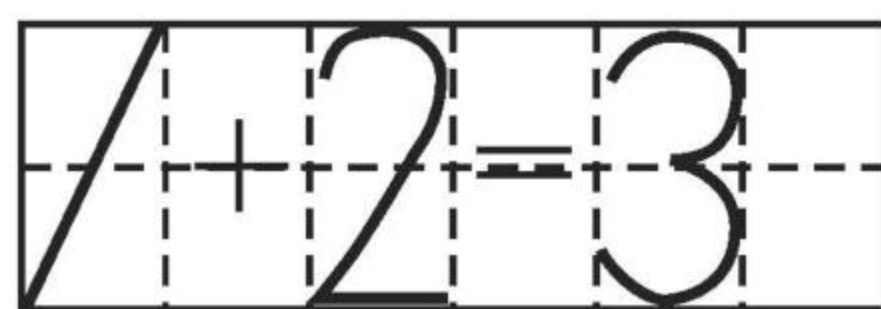
加法(2)

1. 看图填空。

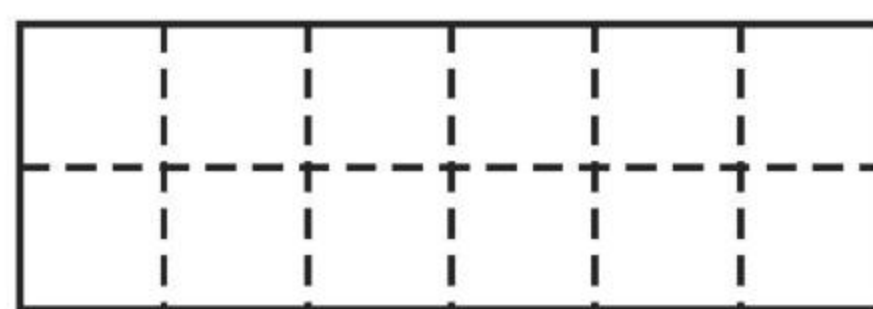

$$2 + 2 = \square$$

$$4 + 1 = \square$$

$$3 + 2 = \square$$

$$2 + 1 = \square$$

2. 读一读,写一写。

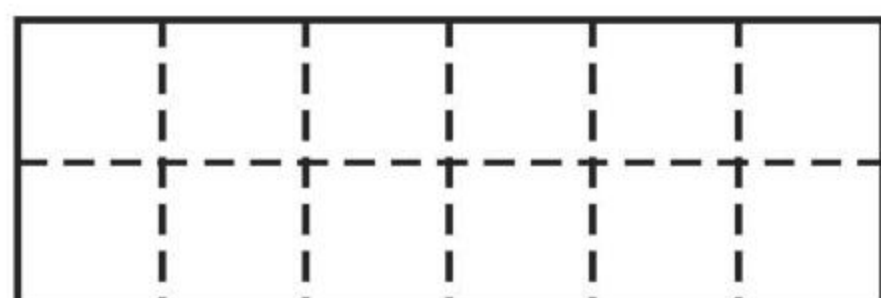
$$1+2=3$$



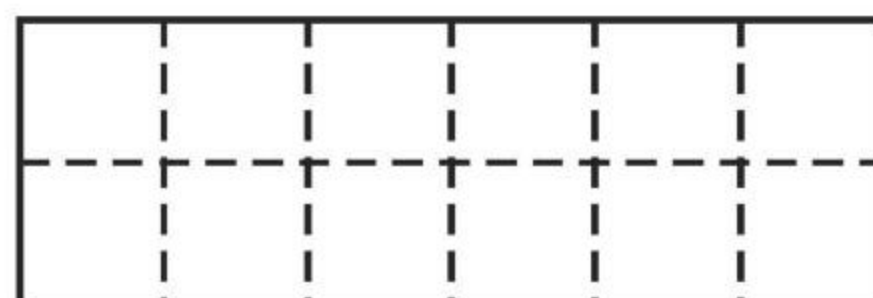
$$2+2=4$$



$$2+1=3$$



$$3+2=5$$





加法(3)

看图填空。

1.



$$3+2=\square$$



$$2+3=\square$$



2.



$$3+1=\square$$



$$1+\square=\square$$

3.



$$\square+\square=\square$$

4.





$$\square+\square=\square$$


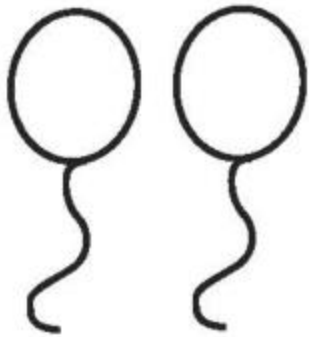
$$\square+\square=\square$$







加法(4)



我能填得对。



(1)  
() + () = ()

(2)  
() + () = ()

(3)  
() + () = ()

(4)  
() + () = ()

(5)  
() + () = ()

(6)  
() + () = ()



加法(5)

1. 算一算。

$1 + 2 =$

$2 + 3 =$

$1 + 1 =$

$1 + 3 =$

$2 + 1 =$

$3 + 1 =$

$2 + 2 =$

$4 + 1 =$

$3 + 2 =$

$1 + 4 =$

2. 比一比。

$1 + 3 \bigcirc 3$

$1 + 1 \bigcirc 2$

$2 + 1 \bigcirc 4$

$2 + 2 \bigcirc 5$

$2 + 3 \bigcirc 5$

$1 + 4 \bigcirc 3$



$1 + 2 \bigcirc 4$

$4 + 1 \bigcirc 5$

$3 + 2 \bigcirc 1$

$3 + 1 \bigcirc 4$

3. 根据算式画一画,算一算。

$2 + 2 = 4$  	$1 + 3 =$
$2 + 3 =$	$2 + 1 =$



口算题卡

一年级 上册 时间:____分____秒 家长评价:_____

加法(6)

请在正确的答案上涂上你喜欢的颜色。

(1) $2 + 1 =$  

(2) $1 + 3 =$  

(3) $1 + 1 =$  

(4) $2 + 2 =$  

(5) $3 + 2 =$  

(6) $1 + 2 =$  

(7) $1 + 4 =$  

(8) $4 + 1 =$  

(9) $2 + 3 =$  

(10) $3 + 1 =$  



口算题卡

一年级 上册 时间:____分____秒 家长评价:_____

加法(7)

1. 口算。

$1 + 1 =$

$2 + 3 =$

$2 + 2 =$

$4 + 1 =$

$2 + 1 =$

$1 + 4 =$

$3 + 2 =$

$3 + 1 =$

$1 + 2 =$

$1 + 3 =$

2. 比大小。

$4 + 1 \bigcirc 4$

$1 + 2 \bigcirc 3$

$1 + 1 \bigcirc 2$

$1 + 4 \bigcirc 5$

$2 + 2 \bigcirc 3$

$2 + 3 \bigcirc 4$

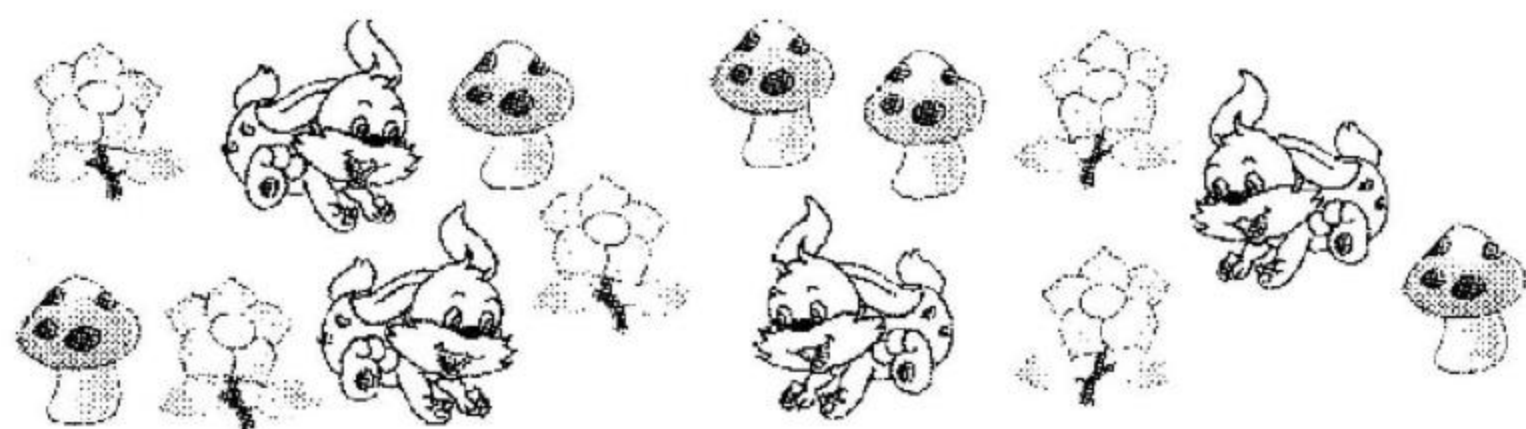
$3 + 2 \bigcirc 5$

$1 + 3 \bigcirc 5$

$3 + 1 \bigcirc 3$

$3 + 1 \bigcirc 4$

3. 我会做。



一共有多少只小白兔?


$\square \bigcirc \square = \square (\text{只})$



减法(1)

说一说,填一填。

1.




荷叶上原来有 3 只 , 跳走了 1 只, 还剩下 只



, 可以用减法计算。

$$3 - 1 = \square$$

读作: 减 等于 。

2.



原来有 4 个 , 小刺猬背走了 个, 还剩下 个 , 可以用减法计算。

$$4 - \square = \square$$

读作: 减 等于 。

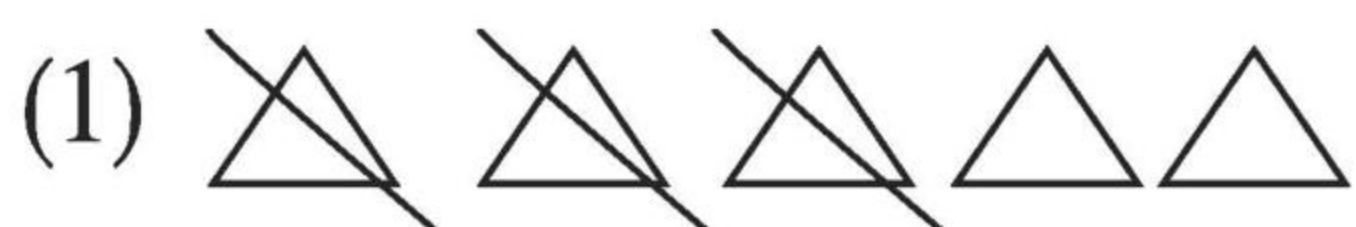


口算题卡

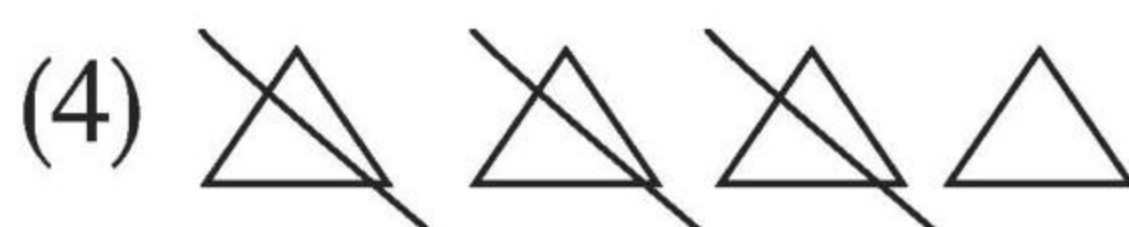
一年级 上册 时间:____分____秒 家长评价:_____

减法(2)


1. 照样子,摆一摆,算一算。



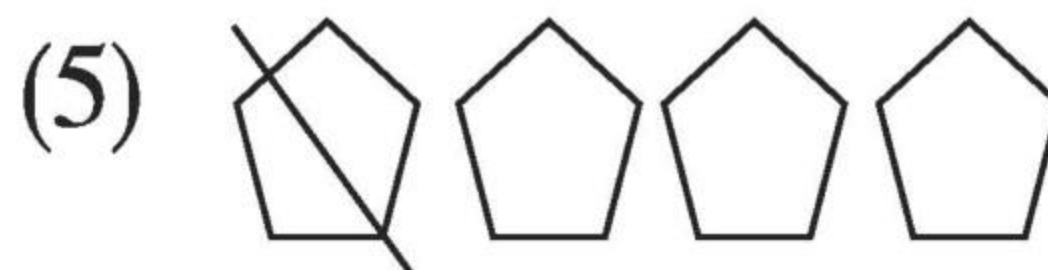
$$5-3=\square$$




$$4-3=\square$$



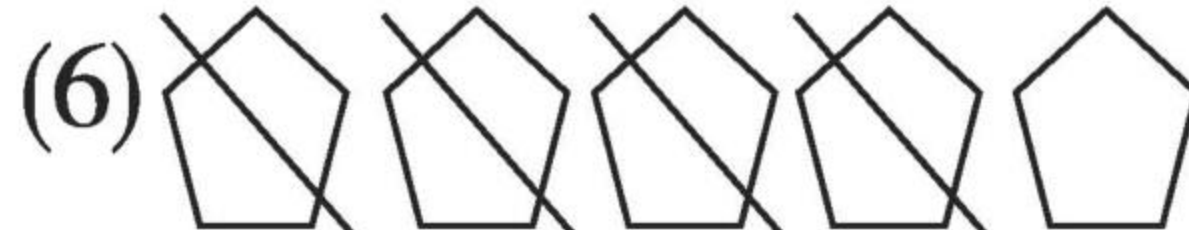
$$5-2=\square$$



$$4-1=\square$$



$$3-3=\square$$



$$5-4=\square$$

2. 连一连。



$$3-1$$



$$4-2$$



$$5-4$$



$$5-3$$




口算题卡

一年级 上册 时间:____分____秒 家长评价:_____

减法(3)

1. 先画线,再填得数。

$4-2=\square$



$3-1=\square$



$2-1=\square$



$5-2=\square$



$4-1=\square$




$5-4=\square$




2. 看图列式计算。




$3-2=\square$



$5-\square=\square$



$\square-\square=\square$




$\square-\square=\square$



减法(4)


1. 填一填。



$$4 - 2 = \square$$



$$3 - \square = 1$$



$$5 - 3 = \square$$



$$4 - \square = 3$$



$$4 - 4 = \square$$

2. 算一算。

$$5 + 0 =$$

$$4 - 2 =$$

$$4 - 1 =$$

$$2 - 1 =$$

$$2 - 2 =$$

$$3 + 2 =$$

$$5 - 5 =$$

$$5 - 2 =$$

$$3 - 3 =$$

$$5 - 0 =$$

$$4 - 3 =$$

$$5 - 3 =$$



口算题卡

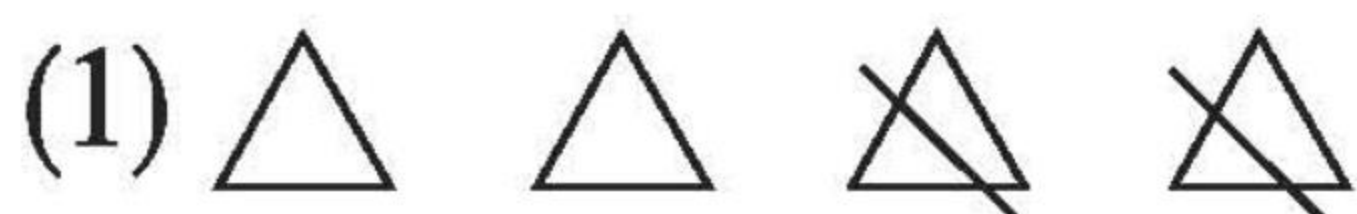
一年级 上册 时间:____分____秒 家长评价:_____

减法(5)

照样子,填一填。



$$\boxed{5} - \boxed{4} = \boxed{1}$$



$$\boxed{\quad} - \boxed{\quad} = \boxed{\quad}$$



$$\boxed{\quad} - \boxed{\quad} = \boxed{\quad}$$



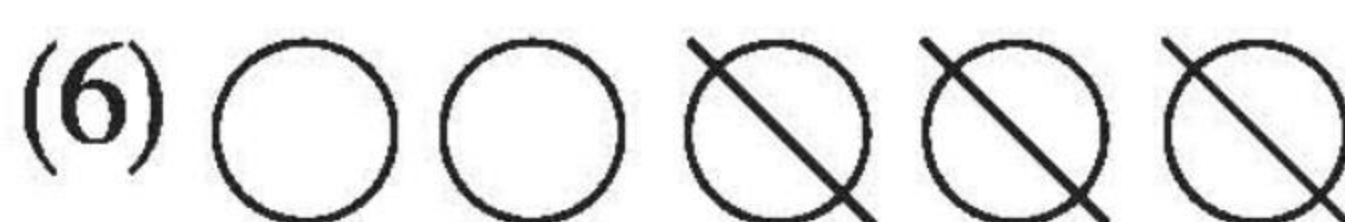
$$\boxed{\quad} - \boxed{\quad} = \boxed{\quad}$$



$$\boxed{\quad} - \boxed{\quad} = \boxed{\quad}$$



$$\boxed{\quad} - \boxed{\quad} = \boxed{\quad}$$



$$\boxed{\quad} - \boxed{\quad} = \boxed{\quad}$$



$$\boxed{\quad} - \boxed{\quad} = \boxed{\quad}$$



$$\boxed{\quad} - \boxed{\quad} = \boxed{\quad}$$



减法(6)

1. 填一填。

$5 - () = 3$

$5 - () = 2$

$4 - () = 1$

$3 - () = 1$

$5 - () = 4$

$5 - () = 4$

$3 - () = 2$

$() - 2 = 3$

$2 - () = 1$

$() - 4 = 1$

2. 在○里填上“>”“<”或“=”。

$5 - 1 \bigcirc 4$

$4 - 3 \bigcirc 1$

$4 - 2 \bigcirc 3$

$4 - 1 \bigcirc 2$

$5 - 2 \bigcirc 4$

$1 + 2 \bigcirc 3$


$3 - 1 \bigcirc 2$

$2 + 2 \bigcirc 5$


$5 - 3 \bigcirc 2$

$5 - 4 \bigcirc 2$


3. 照样子,划一划,填一填。




$4 - 2 = \square$



$5 - 3 = \square$



$4 - 1 = \square$




$5 - \square = \square$



6 和 7 的加减法(1)

1. 摆一摆, 填一填。

(1)




$$2 + 4 = \square$$

$$6 - 4 = \square$$

$$4 + 2 = \square$$

$$6 - 2 = \square$$

(2)



$$4 + 3 = \square$$

$$7 - 3 = \square$$

$$3 + 4 = \square$$

$$7 - 4 = \square$$

2. 比大小。

$$7 \bigcirc 2 + 3$$

$$6 \bigcirc 4 + 1$$

$$7 - 2 \bigcirc 5$$

$$4 + 3 \bigcirc 8$$

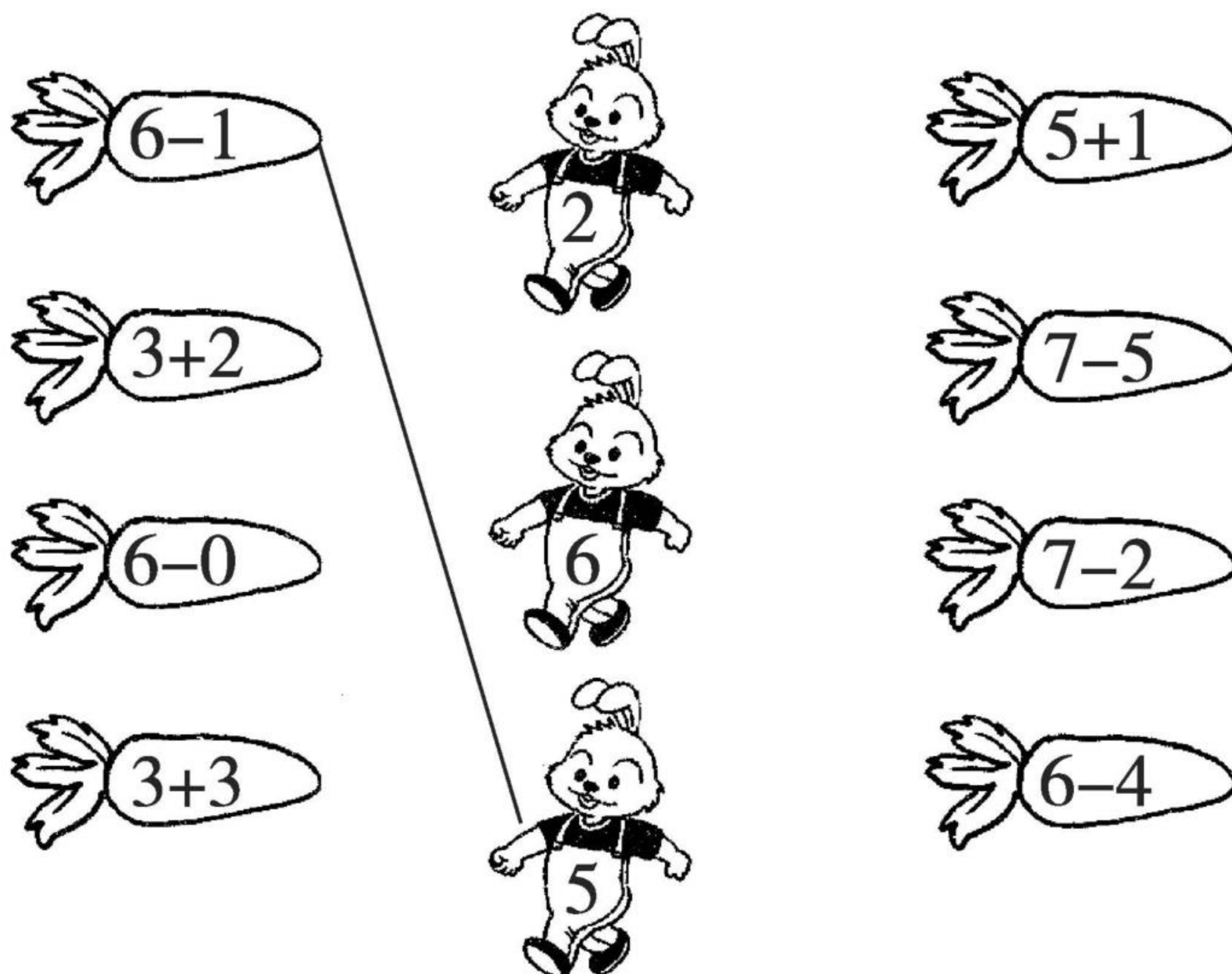


口算题卡

一年级 上册 时间:____分____秒 家长评价:_____

6 和 7 的加减法(2)

1. 拔萝卜。(连线)



2. 抄写算式并计算。

$2 + 4 =$

$7 - 3 =$

$5 + 0 =$

3.

6-	6	5	4	3	2	1	0
	0						

7-	1	6	2	5	3	4	0	7



6 和 7 的加减法(3)

1. 在○里填上“+”或“-”。

(1) $4 \bigcirc 3 = 7$

(11) $6 \bigcirc 2 = 4$

(2) $5 \bigcirc 2 = 7$

(12) $3 \bigcirc 3 = 6$

(3) $7 \bigcirc 5 = 2$

(13) $2 \bigcirc 3 = 5$

(4) $7 \bigcirc 6 = 1$

(14) $6 \bigcirc 1 = 5$

(5) $7 \bigcirc 1 = 6$

(15) $2 \bigcirc 4 = 6$

(6) $2 \bigcirc 5 = 7$

(16) $2 \bigcirc 2 = 4$

(7) $3 \bigcirc 1 = 2$

(17) $1 \bigcirc 5 = 6$

(8) $3 \bigcirc 2 = 5$

(18) $4 \bigcirc 1 = 5$

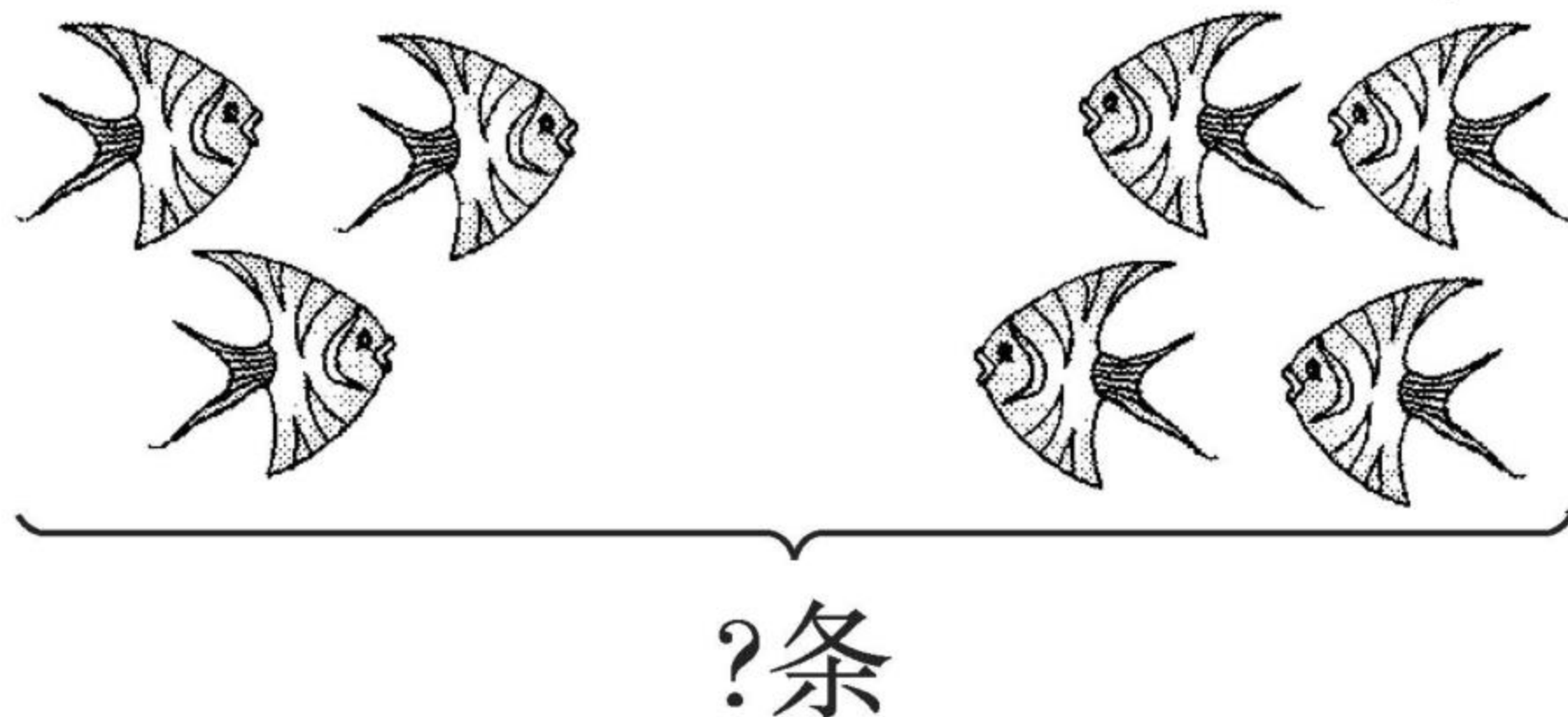
(9) $4 \bigcirc 2 = 6$

(19) $4 \bigcirc 2 = 2$

(10) $7 \bigcirc 2 = 5$

(20) $3 \bigcirc 4 = 7$

2. 看图写算式。



左边有□条,右边有□条。一共有几条?

□○□=□(条)



6 和 7 的加减法(4)

1. 在()里填上合适的数。

(1) $7 - () = 4$

(11) $2 + () = 5$

(2) $6 - () = 4$

(12) $7 - () = 2$

(3) $5 + () = 6$

(13) $3 + () = 4$

(4) $3 + () = 6$

(14) $7 - () = 5$

(5) $7 - () = 2$

(15) $5 + () = 7$

(6) $1 + () = 6$

(16) $3 + () = 7$

(7) $7 - () = 1$

(17) $7 - () = 3$

(8) $6 + () = 7$

(18) $4 + () = 6$

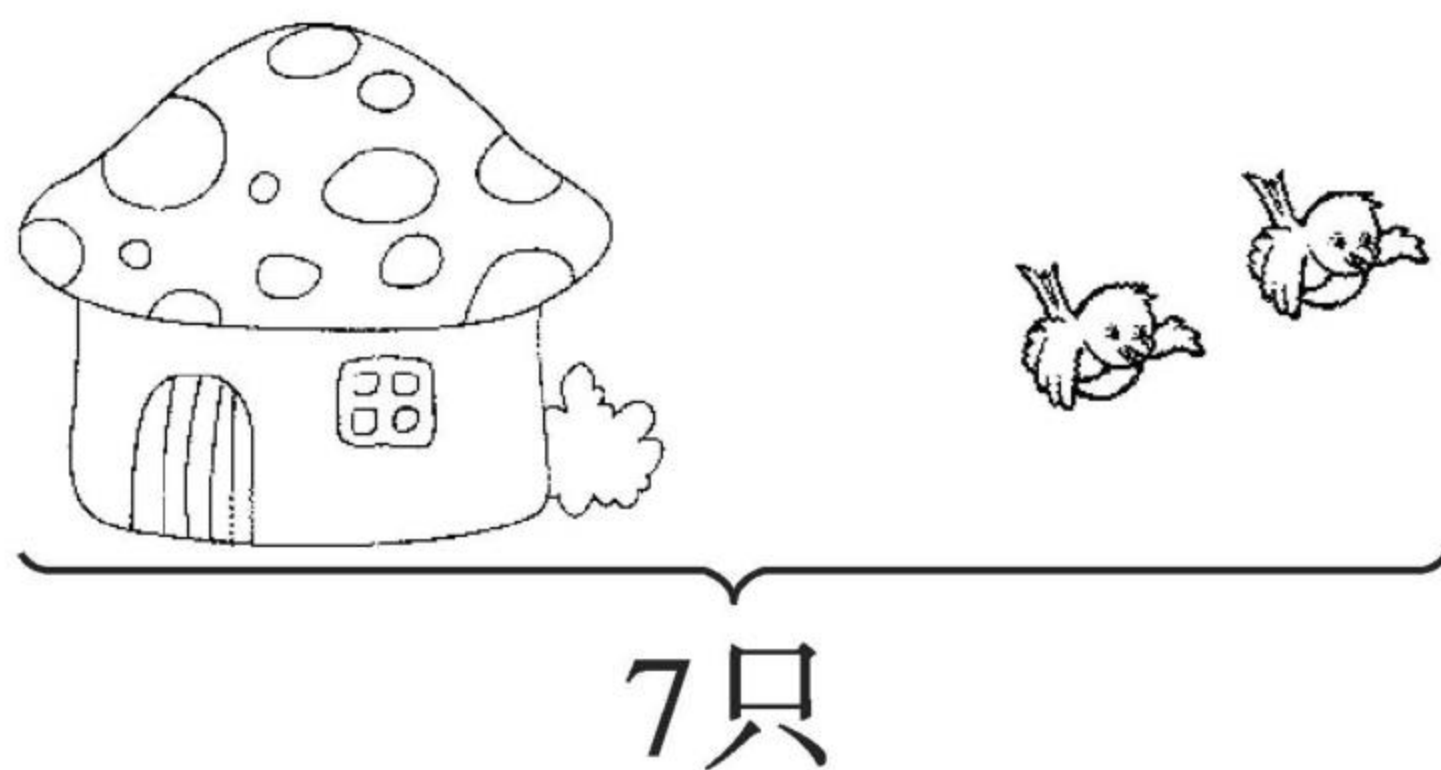
(9) $5 - () = 2$

(19) $6 - () = 4$

(10) $6 - () = 3$

(20) $1 + () = 7$

2. 解决问题。

一共有 只鸟, 飞走了 只, 房子里还有几只鸟?

\bigcirc = (只)



6 和 7 的加减法(5)

1. 口算。

$2 + 5 =$

$6 - 1 =$

$6 - 5 =$

$3 + 3 =$

$4 + 2 =$

$6 - 2 =$

$6 - 3 =$

$3 + 4 =$

$4 + 3 =$

$7 - 4 =$

$7 - 2 =$

$5 + 1 =$

$6 + 1 =$

$7 - 5 =$

$7 - 1 =$

$6 + 0 =$

$3 + 2 =$

$6 - 4 =$

$7 - 3 =$

$2 + 4 =$

2. 比大小。

$7 \bigcirc 5 + 1$

$8 - 6 \bigcirc 3$

$2 \bigcirc 6 - 4$

$2 + 3 \bigcirc 8$

$5 \bigcirc 3 + 3$

$7 - 2 \bigcirc 6$

$7 \bigcirc 4 + 3$

$6 - 3 \bigcirc 3$

$8 - 4 \bigcirc 3$



6 和 7 的加减法(6)

1. 口算。

$3 + 4 =$

$5 + 2 =$

$6 + 1 =$

$5 + 1 =$

$7 - 3 =$

$7 - 2 =$

$1 + 6 =$

$7 - 1 =$

$4 + 2 =$

$6 - 4 =$

$7 - 4 =$

$2 + 3 =$

$2 + 4 =$

$6 - 5 =$

$4 - 1 =$

$7 - 7 =$

$3 + 3 =$

$6 - 3 =$

$7 - 5 =$

$6 + 1 =$

2. 比大小。

$2 + 5 \bigcirc 3 + 2$

$3 + 4 \bigcirc 4 + 2$

$1 + 4 \bigcirc 5 + 2$

$7 - 4 \bigcirc 7 - 5$

$7 - 3 \bigcirc 4 + 1$

$4 + 1 \bigcirc 6 - 5$

$4 + 2 \bigcirc 5 - 2$

$6 - 4 \bigcirc 3 + 3$

$6 + 1 \bigcirc 8 - 4$



8 和 9 的加减法(1)

1. 按顺序填数。

(1)

()	1	()	3	()	5	6	7	()	()
-----	---	-----	---	-----	---	---	---	-----	-----

①8 前面一个数是(), 后面一个数是()。

②与 7 相邻的两个数是() 和()。



2. 数一数, 填一填。

我排第1。

我排第()。



(1) 一共有() 只可爱的小猴子。

(2) 把左边的 6 只小猴子圈起来。

(3) 把从右数第 9 只小猴子涂上黄色。



8 和 9 的加减法(2)

1. 口算。

$4 + 5 =$

$2 + 7 =$

$5 + 4 =$

$7 + 2 =$

$9 - 5 =$

$9 - 2 =$

$9 - 4 =$

$9 - 6 =$

$4 + 4 =$

$9 - 9 =$

$2 + 6 =$

$8 - 3 =$

$6 - 2 =$

$8 - 5 =$

$3 + 5 =$

$7 - 1 =$

$8 - 6 =$

$8 - 4 =$

$9 - 3 =$

$7 - 4 =$

2. 看图写两个加法算式、两个减法算式。

△ △ △

△ △ △ △ △



8 和 9 的加减法(3)

1. (1) 例: $1 + 9 = 10$

$$\boxed{9} + \boxed{1} = \boxed{10}$$

$$\boxed{10} - \boxed{1} = \boxed{9}$$

$$\boxed{10} - \boxed{9} = \boxed{1}$$

(4) $8 + 2 = 10$

$$\boxed{} + \boxed{} = \boxed{}$$

$$\boxed{} - \boxed{} = \boxed{}$$

$$\boxed{} - \boxed{} = \boxed{}$$

(2) $6 + 4 = 10$

$$\boxed{} + \boxed{} = \boxed{}$$

$$\boxed{} - \boxed{} = \boxed{}$$

$$\boxed{} - \boxed{} = \boxed{}$$

(5) $4 + 6 = 10$

$$\boxed{} + \boxed{} = \boxed{}$$

$$\boxed{} - \boxed{} = \boxed{}$$

$$\boxed{} - \boxed{} = \boxed{}$$

(3) $3 + 7 = 10$

$$\boxed{} + \boxed{} = \boxed{}$$


$$\boxed{} - \boxed{} = \boxed{}$$

$$\boxed{} - \boxed{} = \boxed{}$$

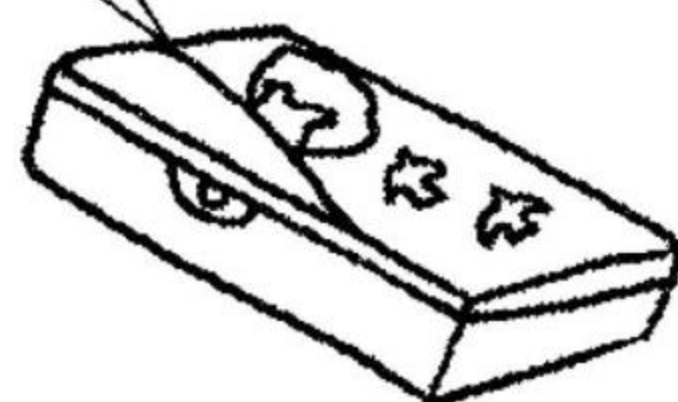
(6) $5 + 5 = \boxed{}$

$$\boxed{} - \boxed{} = \boxed{}$$

2.



盒子里装有6支铅笔。



一共有多少支铅笔?

$$\boxed{} \bigcirc \boxed{} = \boxed{} (\text{支})$$



8 和 9 的加减法(4)

1. 口算。

$10 - 8 =$

$10 - 2 =$

$8 - 1 =$

$3 + 6 =$

$9 + 1 =$

$10 - 7 =$

$8 - 6 =$

$10 - 9 =$

$1 + 5 =$

$5 + 3 =$

$10 - 4 =$

$8 - 4 =$

$10 - 6 =$

$9 - 6 =$

$5 + 5 =$

$7 - 3 =$

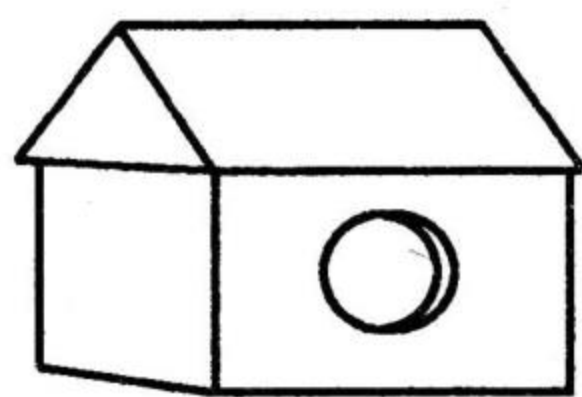
$3 + 4 =$

$5 + 4 =$

$6 + 3 =$

$6 + 2 =$

2. 一共有 10 只鸟。



鸟笼里还剩几只小鸟?

$$\square \bigcirc \square = \square (\text{只})$$










口算题卡

一年级 上册 时间:____分____秒 家长评价:_____

0 的加减法(1)

1. 连一连。



2. 还有几个😊?



$$5 - \square = \square$$



$$5 - \square = \square$$



$$5 - \square = \square$$



$$5 - \square = \square$$



0 的加减法(2)

1. 算一算。

(1) $8 - 1 =$

(6) $5 + 5 =$

(2) $10 + 0 =$

(7) $2 + 8 =$

(3) $0 + 8 =$

(8) $5 - 4 =$

(4) $4 + 3 =$

(9) $8 - 3 =$

(5) $4 + 6 =$

(10) $0 + 6 =$

2. 在()里填上合适的数。

(1) $0 + 7 = ()$

(6) $3 + () = 7$

(2) $4 - () = 0$

(7) $8 - 0 = ()$

(3) $6 - () = 6$

(8) $0 + () = 6$

(4) $() + 0 = 9$

(9) $6 - () = 0$

(5) $() - 1 = 9$

(10) $() - 8 = 0$

3.



还有几盆没有浇?

$\square \bigcirc \square = \square$ (盆)



口算题卡

一年级 上册 时间:____分____秒 家长评价:_____

0 的加减法(3)

1. 口算。

$7 - 1 =$

$3 + 2 =$

$6 + 2 =$

$5 + 4 =$

$9 - 5 =$

$9 - 3 =$

$8 + 0 =$

$9 - 4 =$

$3 + 5 =$

$8 - 3 =$

$8 + 2 =$

$5 - 4 =$

$9 + 0 =$

$7 - 4 =$

$10 - 4 =$

$3 + 6 =$

$7 + 2 =$


$9 - 6 =$

$9 + 1 =$

$10 - 3 =$

2. 解决问题。

一共有 8 位小朋友。



还剩几位小朋友?

$$\square \bigcirc \square = \square (\text{位})$$



口算题卡

一年级 上册 时间:____分____秒 家长评价:_____

0 的加减法(4)

1. 口算。

$1 + 8 =$

$8 - 8 =$

$8 + 1 =$

$9 - 6 =$

$9 + 1 =$

$3 + 7 =$

$10 - 6 =$

$10 - 4 =$

$8 - 1 =$

$8 - 3 =$

$3 + 6 =$

$2 + 6 =$

$8 + 2 =$

$4 + 6 =$

$8 - 6 =$

$6 - 4 =$

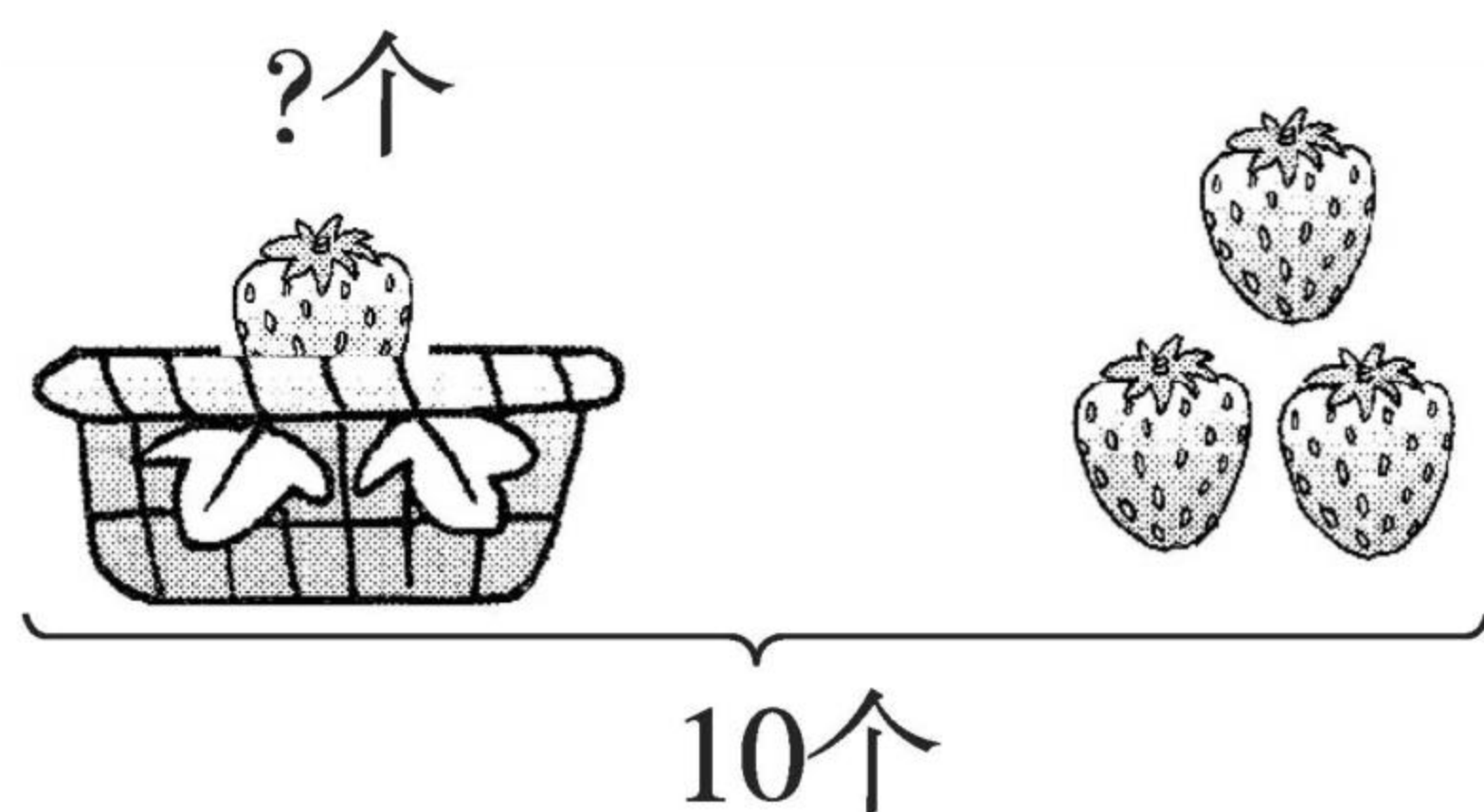
$5 + 5 =$

$10 - 9 =$

$5 + 2 =$

$9 - 5 =$

2.



一共有□个,右边有□个,求篮子里有几个,就是要从□个里面去掉右边的□个,用减法计算。

$$\square \bigcirc \square = \square (\text{个})$$



口算题卡

一年级 上册 时间:____分____秒 家长评价:_____

0 的加减法(5)

1. 口算。

$8 - 4 =$

$5 - 5 =$

$5 + 4 =$

$6 + 1 =$

$5 + 2 =$

$5 - 4 =$

$8 - 6 =$

$7 - 6 =$

$6 + 2 =$

$4 + 4 =$

$9 + 0 =$

$6 - 6 =$

$8 - 2 =$

$3 + 5 =$

$5 + 2 =$

$9 - 4 =$


$8 + 0 =$

$9 - 8 =$

$7 + 2 =$

$9 - 7 =$

2. 解决问题。



一共有几人?



游泳池里有□人, 没有下水的有□人, 要解决的问题是“一共有几人”, 用□法计算。

$$\square \bigcirc \square = \square (\text{人})$$



口算题卡

一年级 上册 时间:____分____秒 家长评价:_____

0 的加减法(6)

1. 口算。

$7 - 3 =$

$6 - 3 =$

$8 - 4 =$

$9 - 5 =$

$3 + 4 =$

$9 - 6 =$

$6 - 2 =$

$4 + 3 =$

$8 - 5 =$

$7 - 5 =$

$3 + 7 =$

$9 - 8 =$

$10 - 8 =$

$9 - 9 =$

$1 + 8 =$

$4 + 5 =$

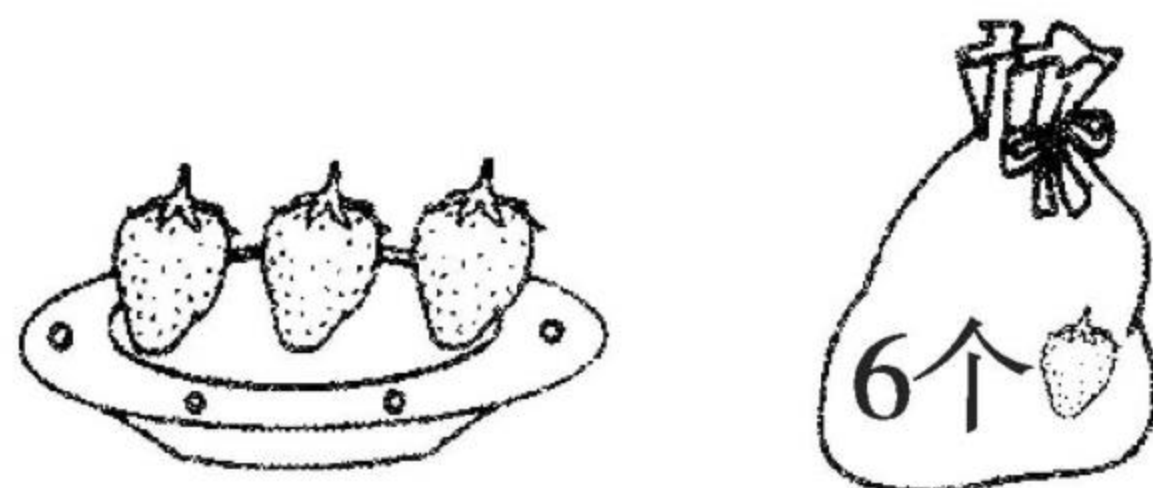
$2 + 7 =$

$7 - 7 =$

$7 + 3 =$

$1 + 8 =$

2. 解决问题。



一共有几个🍓?

$\square \bigcirc \square = \square (\text{个})$



口算题卡

一年级 上册 时间:____分____秒 家长评价:_____

0 的加减法(7)

1. 口算。

$3 - 2 =$

$7 - 7 =$

$8 - 8 =$

$8 - 1 =$

$8 + 1 =$

$9 - 6 =$

$7 + 2 =$

$7 - 2 =$

$7 + 1 =$

$8 - 3 =$

$7 - 6 =$

$5 + 2 =$

$2 + 6 =$

$6 + 2 =$

$0 + 8 =$

$4 + 4 =$

$9 - 4 =$



$8 - 4 =$

$9 - 5 =$

$8 - 5 =$

2. 解决问题。

一共有 9 只



冰山后还藏着几只



$$\square \bigcirc \square = \square (\text{只})$$



口算题卡

一年级 上册 时间:____分____秒 家长评价:_____

0 的加减法(8)

1. 口算。

(1) $3 - 1 =$

(11) $7 - 2 =$

(2) $7 - 4 =$

(12) $9 - 4 =$

(3) $8 - 2 =$

(13) $10 - 5 =$

(4) $4 - 2 =$

(14) $6 - 3 =$

(5) $5 - 4 =$

(15) $9 - 6 =$

(6) $7 + 3 =$

(16) $6 - 4 =$

(7) $10 - 1 =$

(17) $5 - 5 =$

(8) $3 - 3 =$

(18) $10 - 8 =$

(9) $8 - 6 =$

(19) $7 - 6 =$

(10) $6 - 5 =$

(20) $9 - 1 =$

2. 把算式填完整。

(1) $(\quad) - 2 = 5$

(6) $10 - (\quad) = 1$

(2) $10 - (\quad) = 2$

(7) $(\quad) - 7 = 2$

(3) $(\quad) - 6 = 4$

(8) $(\quad) - 3 = 5$

(4) $(\quad) - 4 = 2$

(9) $6 - (\quad) = 2$

(5) $7 - (\quad) = 2$

(10) $10 - (\quad) = 4$



口算题卡

一年级 上册 时间:____分____秒 家长评价:_____

0 的加减法(9)

1. 口算。

(1) $7 - 3 =$

(9) $9 - 3 =$

(2) $5 - 1 =$

(10) $5 + 4 =$

(3) $6 - 2 =$

(11) $8 - 5 =$

(4) $4 - 3 =$

(12) $3 + 5 =$

(5) $4 + 4 =$

(13) $9 - 2 =$

(6) $5 - 3 =$

(14) $10 - 3 =$

(7) $7 - 2 =$

(15) $8 + 2 =$

(8) $4 + 1 =$

(16) $5 - 2 =$

2. 连一连。

$7 + 3$

$4 + 4$

$9 - 5$

$5 + 5$

$4 + 3$

$8 - 4$

$9 - 1$

$10 - 3$

$4 - 4$

$7 - 7$



口算题卡

一年级 上册 时间:____分____秒 家长评价:_____

0 的加减法(10)

1. 口算。

$7 + 3 =$

$10 - 4 =$

$2 + 5 =$

$10 - 3 =$

$7 - 4 =$

$5 + 5 =$

$10 - 6 =$

$10 - 8 =$

$6 + 3 =$

$8 + 1 =$

$3 + 7 =$

$9 - 4 =$

$8 + 2 =$

$9 - 6 =$

$10 - 9 =$

$3 + 4 =$

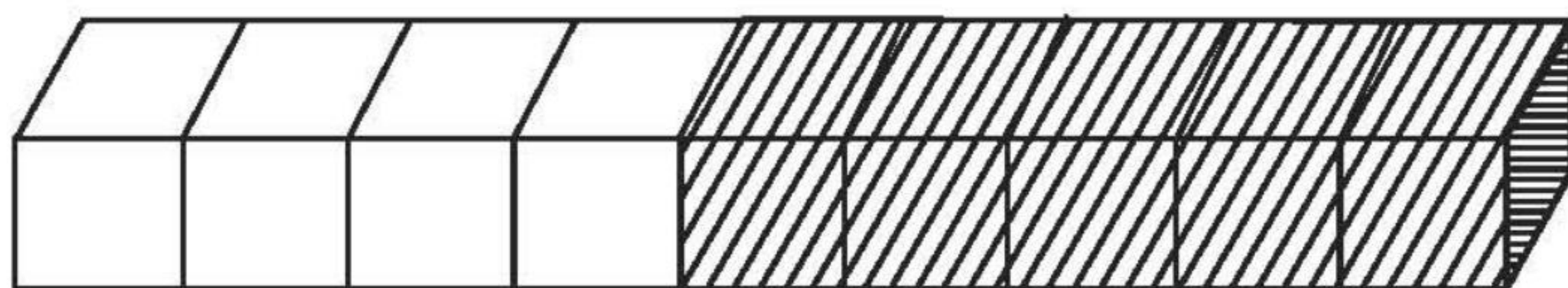
$10 - 5 =$

$7 - 5 =$

$4 + 5 =$

$8 - 4 =$

2. 看图写算式。



$\square - \square = \square$

$\square - \square = \square$



0 的加减法(11)

1. 口算。

$5 + 5 =$

$8 + 1 =$

$6 + 1 =$

$4 + 4 =$

$6 + 4 =$

$8 - 5 =$

$8 + 0 =$

$3 + 4 =$

$7 + 1 =$

$7 - 6 =$

$0 + 10 =$

$7 - 5 =$

$10 - 4 =$

$8 - 4 =$

$6 + 3 =$

$9 - 6 =$

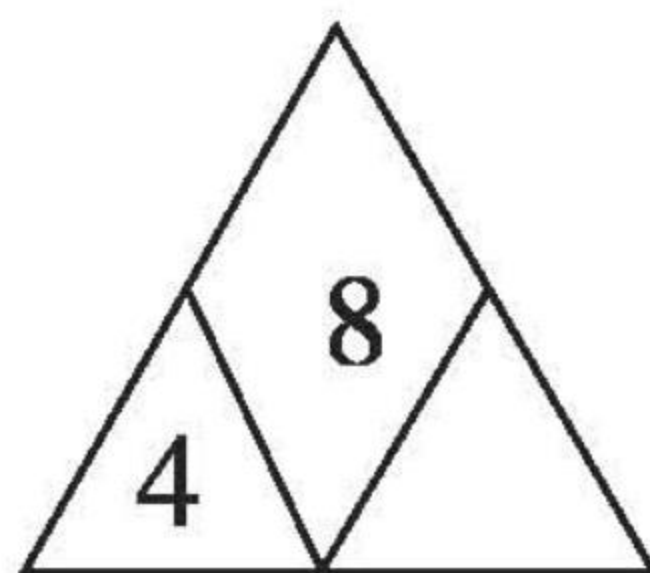
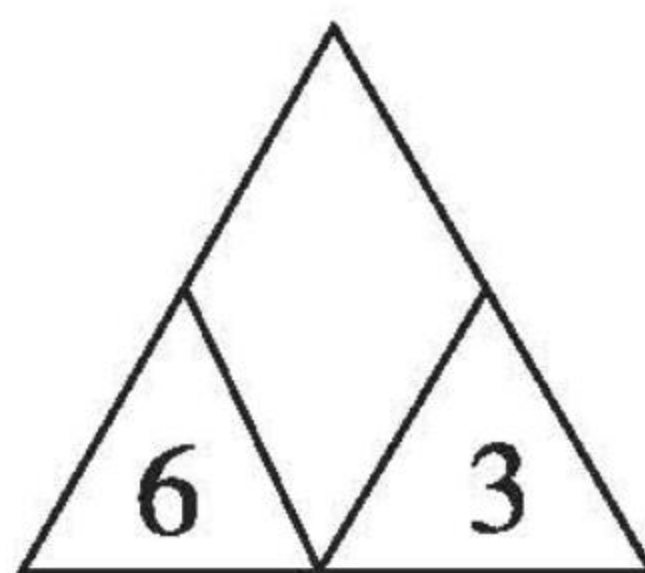
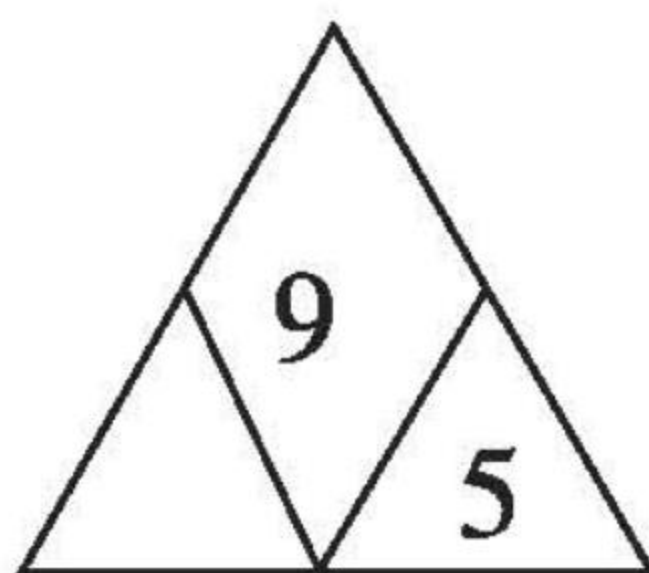
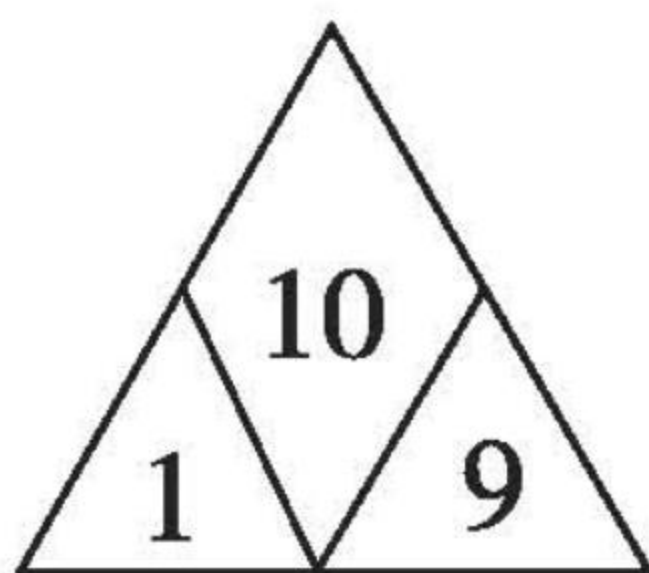
$5 + 2 =$

$10 - 5 =$

$3 + 7 =$

$10 - 7 =$

2. 找规律,填一填。





0 的加减法(12)

1. 在括号里填上合适的数。

$3 + () = 10$

$() + 4 = 9$

$() + 6 = 10$

$() + 5 = 7$

$0 + () = 7$

$4 - () = 1$

$7 - () = 0$

$5 - () = 3$

$() + 4 = 8$

$3 + () = 9$

$() + 7 = 10$

$10 - () = 5$

$() - 6 = 4$

$3 + () = 9$

$8 - () = 3$

$8 - () = 4$


$9 - () = 5$

$8 - () = 5$

$6 + () = 8$

$4 + () = 7$

2. 看图列式。



$\square \bigcirc \square = \square (\text{只})$



0 的加减法(13)

1. 算一算。

(1) $1 + 9 =$

(11) $3 + 6 =$

(2) $6 + 3 =$

(12) $10 - 9 =$

(3) $2 + 8 =$

(13) $7 + 3 =$

(4) $10 - 1 =$

(14) $10 - 3 =$

(5) $7 + 2 =$

(15) $5 + 4 =$

(6) $9 - 8 =$

(16) $9 + 1 =$

(7) $3 + 7 =$

(17) $10 - 8 =$

(8) $8 - 4 =$

(18) $10 - 7 =$

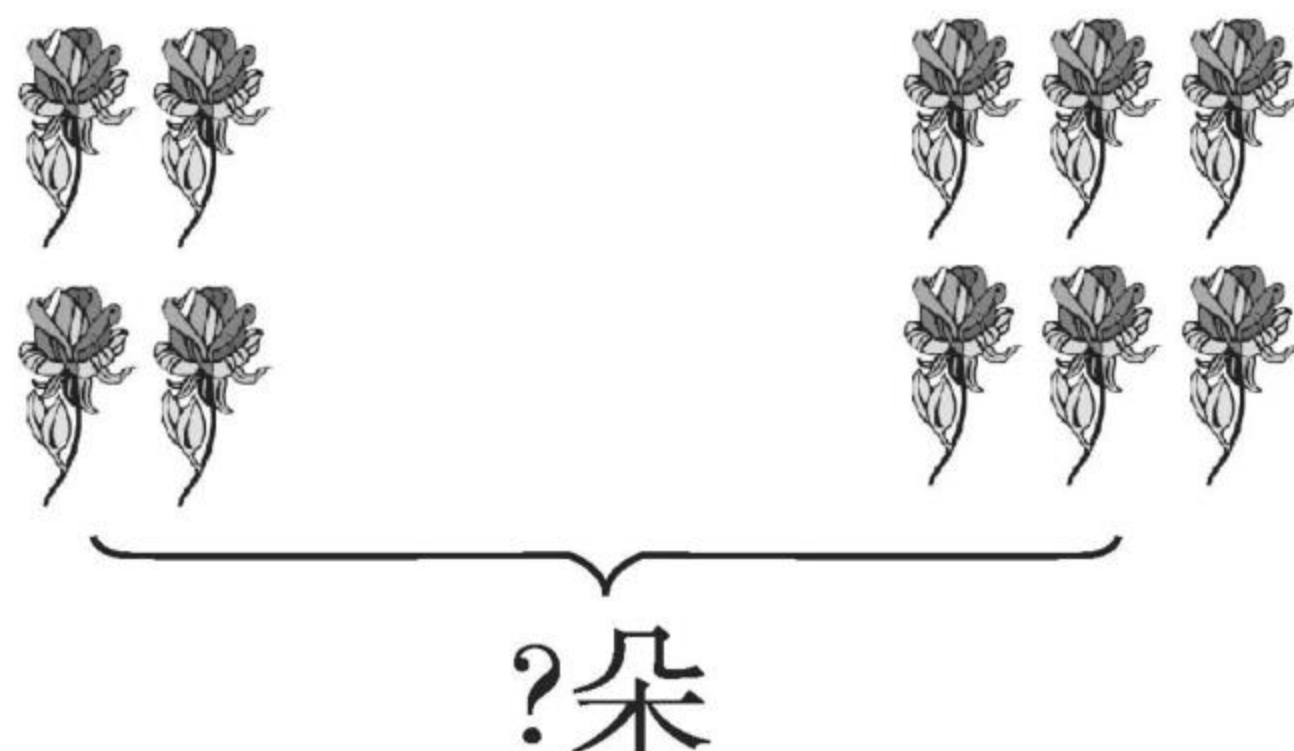
(9) $10 - 10 =$

(19) $10 - 4 =$

(10) $6 + 4 =$

(20) $5 + 5 =$

2. 看图列式。



$\square \bigcirc \square = \square$ (朵)

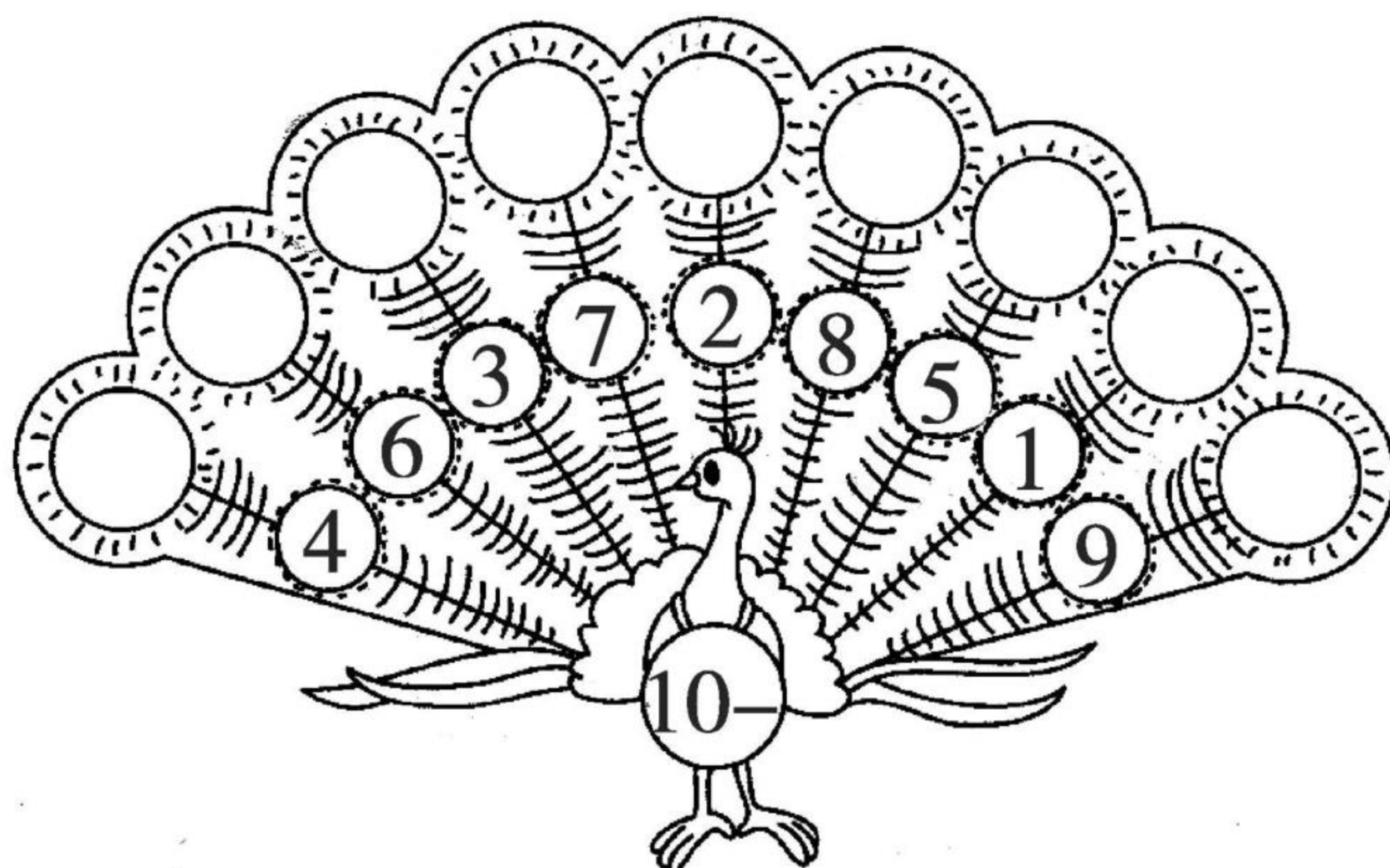


口算题卡

一年级 上册 时间:____分____秒 家长评价:_____

0 的加减法(14)

1. 孔雀开屏。



2. $\begin{array}{|c|} \hline 1 \\ \hline \end{array} + 9 = \begin{array}{|c|} \hline \\ \hline \end{array}$

$\begin{array}{|c|} \hline 1 \\ \hline \end{array} + 8 = \begin{array}{|c|} \hline \\ \hline \end{array}$

$\begin{array}{|c|} \hline 3 \\ \hline \end{array} + 6 = \begin{array}{|c|} \hline \\ \hline \end{array}$

$\begin{array}{|c|} \hline 2 \\ \hline \end{array} + 7 = \begin{array}{|c|} \hline \\ \hline \end{array}$

$\begin{array}{|c|} \hline 4 \\ \hline \end{array} + 4 = \begin{array}{|c|} \hline \\ \hline \end{array}$

3. $3 + 4 =$

$9 - 5 =$

$4 + 5 =$

$7 - 3 =$

$8 + 2 =$

$10 - 2 =$

$9 - 4 =$

$7 - 0 =$

$0 + 10 =$

$8 - 8 =$

$3 + 5 =$

$5 + 5 =$



0 的加减法(15)

1. 口算。

$9 - 5 =$

$10 - 7 =$

$10 - 6 =$

$2 + 7 =$

$4 + 5 =$

$4 + 1 =$

$9 - 6 =$

$9 - 3 =$

$9 - 9 =$

$7 - 7 =$

$10 - 5 =$

$4 + 4 =$

$7 - 4 =$

$10 - 5 =$

$10 - 2 =$

$9 - 0 =$

$8 + 2 =$

$7 + 3 =$

$9 - 7 =$

$4 + 6 =$

2. 在○里填上“>”“<”或“=”。

$(1) 1 + 2 \bigcirc 5$

$(6) 2 + 5 \bigcirc 9$

$(2) 2 + 3 \bigcirc 6$

$(7) 3 + 4 \bigcirc 5$

$(3) 5 + 1 \bigcirc 4$

$(8) 3 + 6 \bigcirc 10$

$(4) 4 + 2 \bigcirc 6$

$(9) 5 + 3 \bigcirc 8$

$(5) 3 + 7 \bigcirc 10$

$(10) 6 + 2 \bigcirc 5$



0 的加减法(16)

1. 在□里填上合适的数。

$$9 + \square = 10$$

$$10 - \square = 1$$

$$10 - \square = 8$$

$$4 + \square = 9$$

$$4 + \square = 10$$

$$10 - \square = 2$$

$$10 - \square = 6$$

$$\square + 5 = 10$$

$$\square + 3 = 9$$

$$10 - \square = 7$$

$$10 - \square = 5$$

$$7 + \square = 10$$

$$10 + \square = 10$$

$$10 - \square = 10$$

$$10 - \square = 0$$

$$6 + \square = 10$$

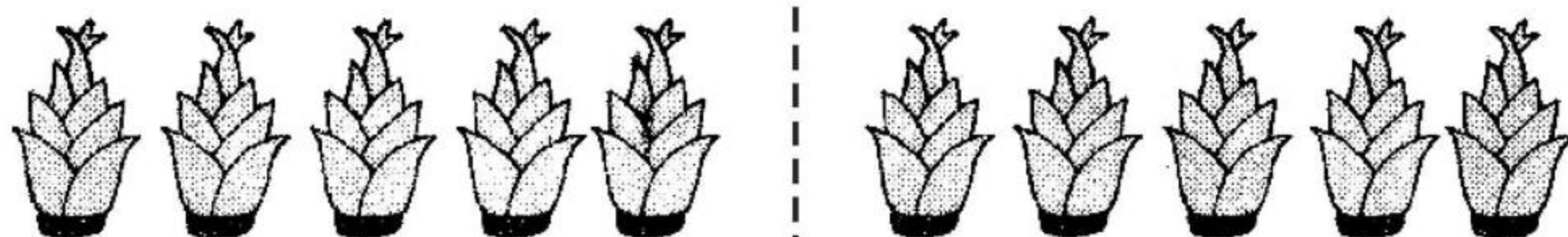
$$\square + 2 = 10$$

$$\square - 9 = 1$$

$$\square - 4 = 4$$

$$\square + 9 = 9$$

2.



$$\square + \square = \square$$

$$\square - \square = \square$$




口算题卡

一年级 上册 时间:____分____秒 家长评价:_____

0 的加减法(17)

1. 想一想,填一填。



$$7 + \square = 10$$

$$9 + \square = 10$$

2. 画一画,填一填。

(1) $\triangle \triangle \triangle$ _____

$$3 + \square = 10$$

(2) $\bigcirc \bigcirc$ _____

$$2 + \square = 10$$

(3) 😊😊😊😊 _____

$$4 + \square = 10$$

(4) _____ $\bigcirc \bigcirc \bigcirc \bigcirc \bigcirc$

$$\square + 5 = 10$$

3. 用 2、8、10、7 中的三个数写 4 个算式。



0 的加减法(18)

1. 算一算。

$10 - 3 =$

$6 + 4 =$

$6 - 4 =$

$0 + 10 =$

$8 + 2 =$

$10 - 1 =$

$9 - 6 =$

$10 - 9 =$

$4 + 3 =$

$5 + 5 =$

$10 - 4 =$

$7 + 3 =$

$10 - 10 =$

$9 + 1 =$






$10 - 7 =$

$8 - 7 =$

$10 - 0 =$

$7 - 5 =$

2. 连一连。





口算题卡

一年级 上册 时间:____分____秒 家长评价:_____

0 的加减法(19)

1. 口算。

$4 + 3 =$

$5 + 5 =$

$5 + 2 =$

$10 - 4 =$

$7 - 3 =$

$10 - 8 =$

$7 - 5 =$

$9 + 1 =$

$4 + 4 =$

$10 - 7 =$

$9 - 6 =$

$7 + 3 =$

$9 - 7 =$

$6 + 4 =$

$8 - 4 =$

$9 - 2 =$

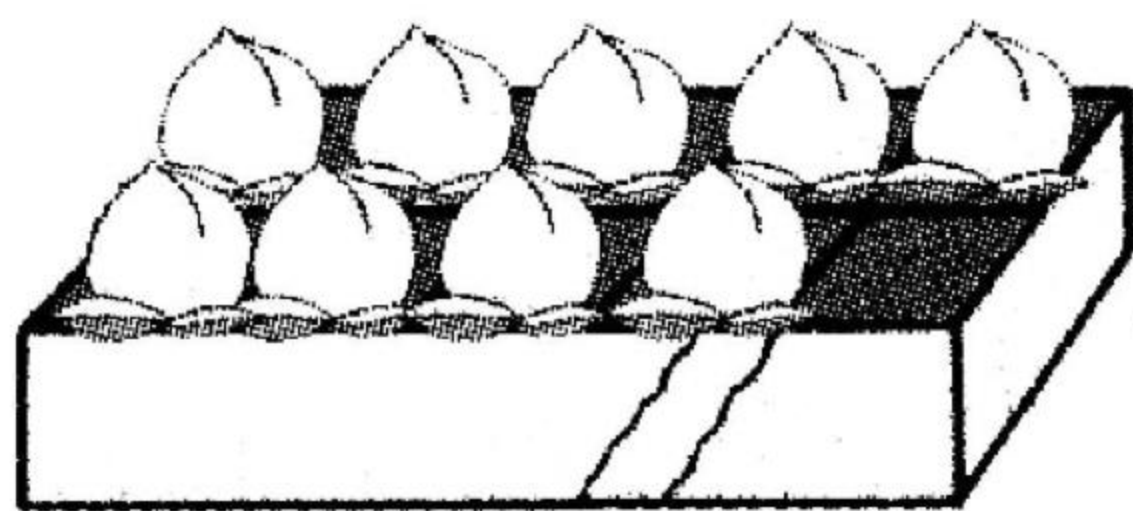
$8 - 5 =$

$8 - 2 =$

$10 - 6 =$

$7 - 1 =$

2.



?个



10个

$$\square \bigcirc \square = \square (\text{个})$$



口算题卡

一年级 上册 时间:____分____秒 家长评价:_____

0 的加减法(20)

1. 口算。

$3 + 6 =$

$9 - 0 =$

$6 - 0 =$

$3 + 3 =$

$10 - 3 =$

$5 + 3 =$

$5 + 2 =$

$3 + 2 =$

$10 - 4 =$

$4 + 2 =$

$5 + 3 =$

$4 + 1 =$

$6 + 2 =$

$8 - 3 =$

$8 + 2 =$

$5 - 1 =$

$10 - 1 =$

$5 - 4 =$

$4 + 3 =$

$4 + 4 =$

2.



$\square \bigcirc \square = \square \text{ (朵)}$



0 的加减法(21)

1. 连一连。

$4 + 6$

$3 + 2$

$5 - 0$

10

$5 - 1$

$8 - 8$

0

$3 + 1$

$1 + 8$

9

$5 + 3$

$5 + 4$

8

$5 - 5$

$2 + 2$

4

$1 + 9$

$4 + 4$

5

$5 + 0$

$1 + 4$

$6 + 2$

$3 + 2$

$2 + 7$

$3 + 6$

$9 - 9$

2. 小兔采蘑菇。




$$\square \bigcirc \square = \square (\text{个})$$




分类

1. 填一填。(填序号)



①



②



③



④



⑤



⑥



⑦



⑧



⑨



⑩

天上飞的:()

水里游的:()

2. 你会按不同的标准分类吗?(填序号)



① ② ③ ④ ⑤ ⑥ ⑦ ⑧ ⑨

(1) 按形状分:()为一类;()为一类;

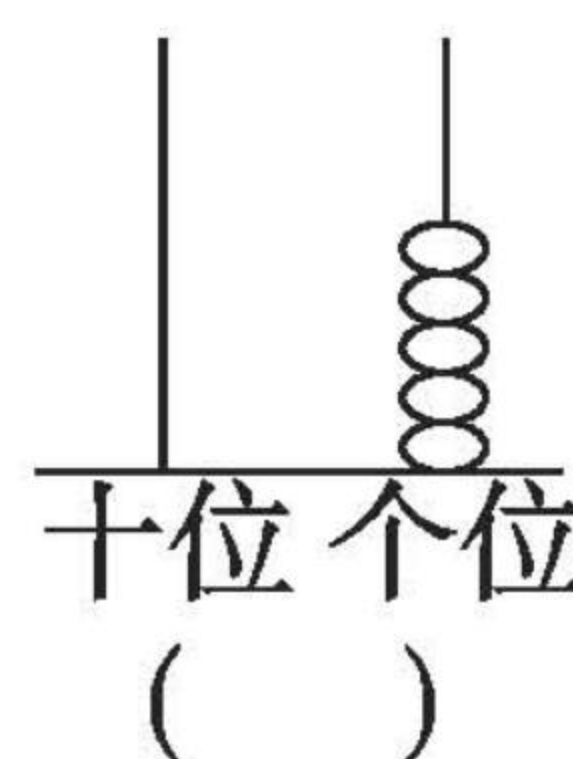
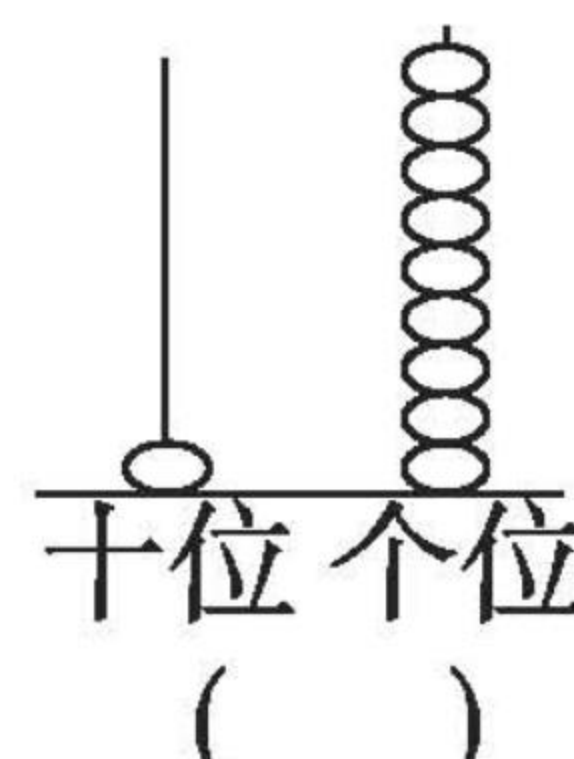
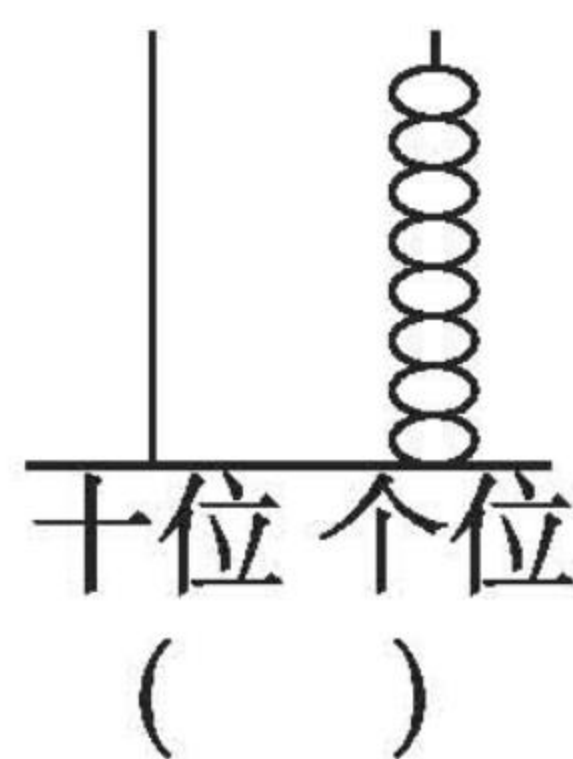
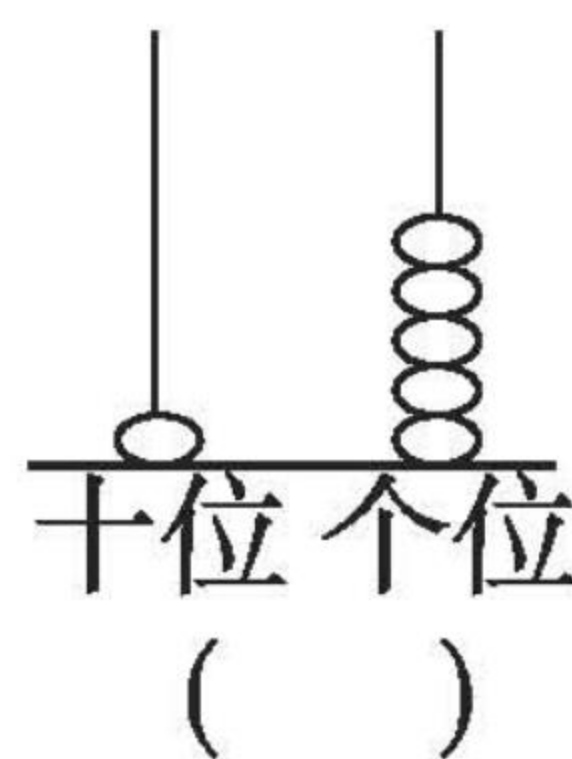
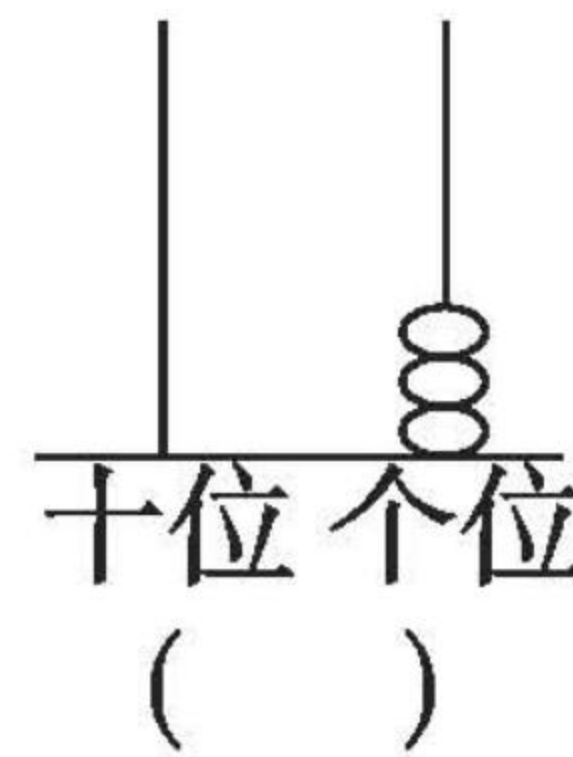
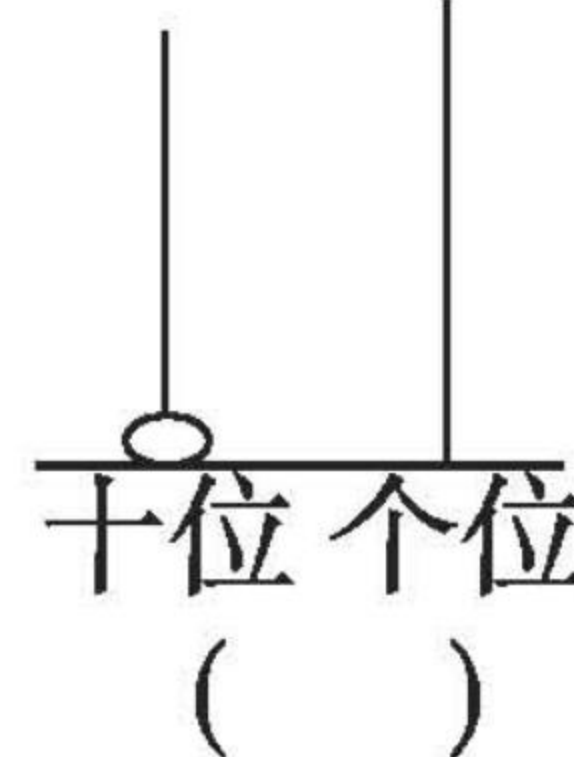
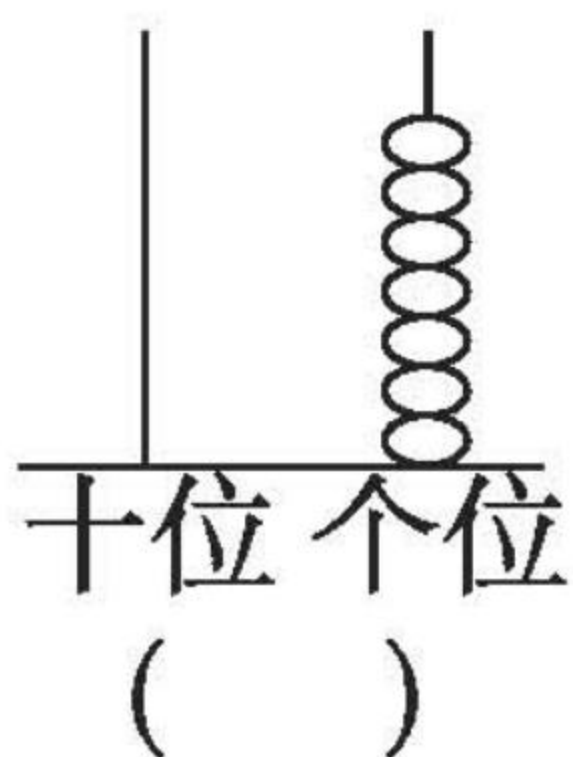
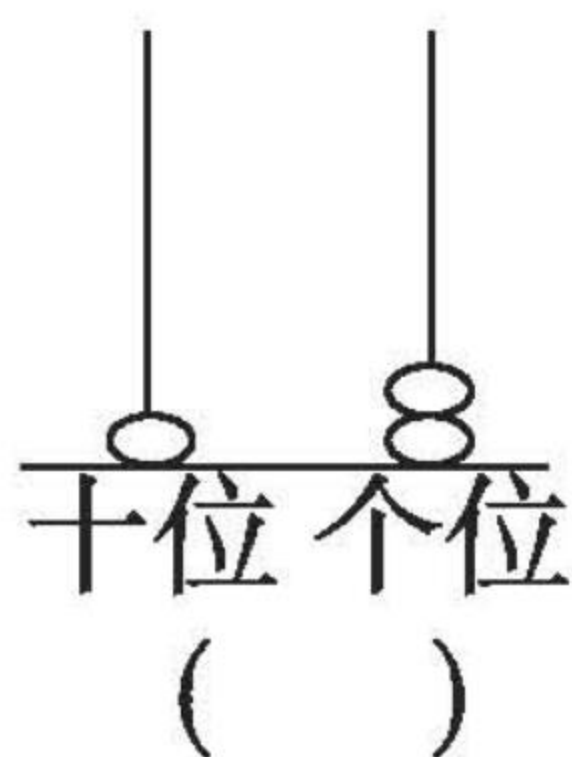
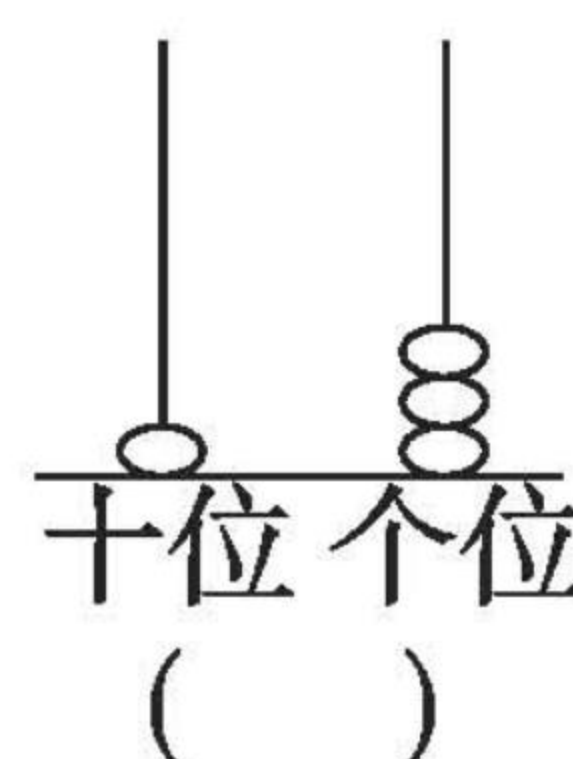
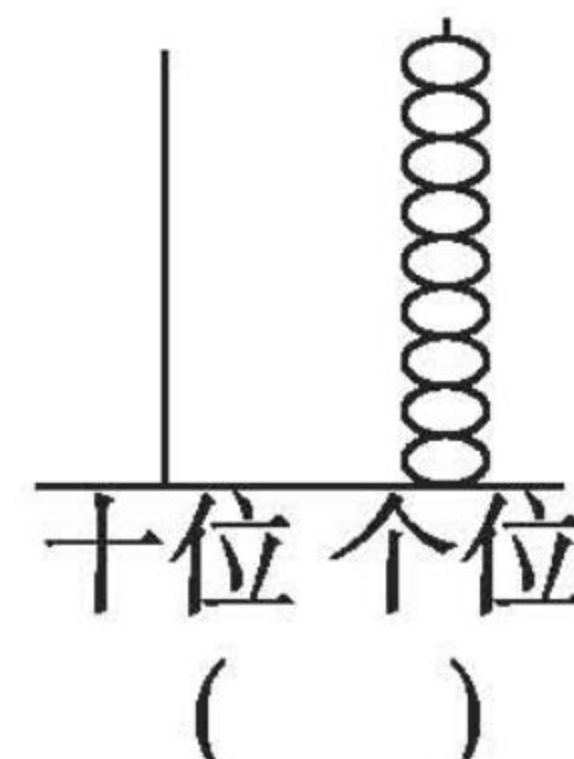
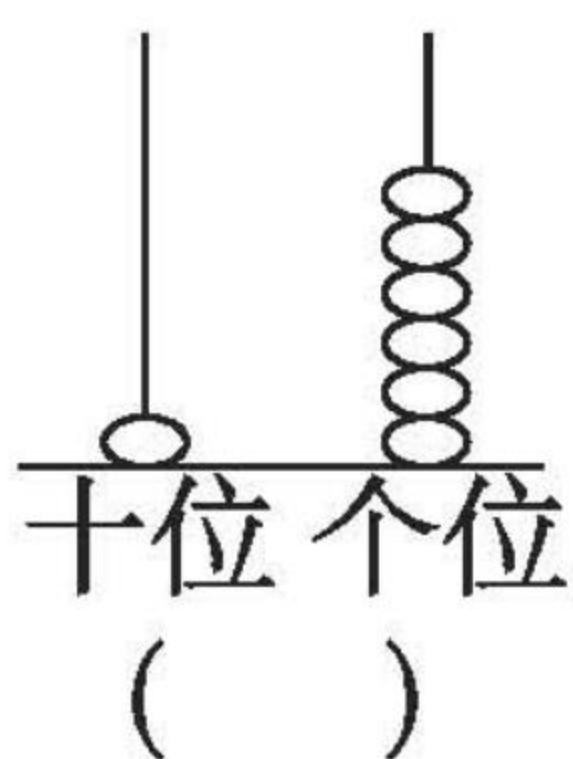
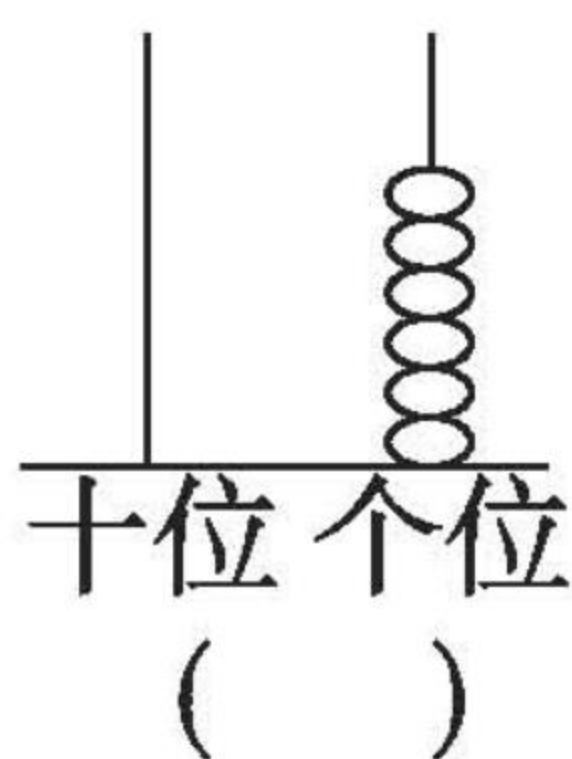
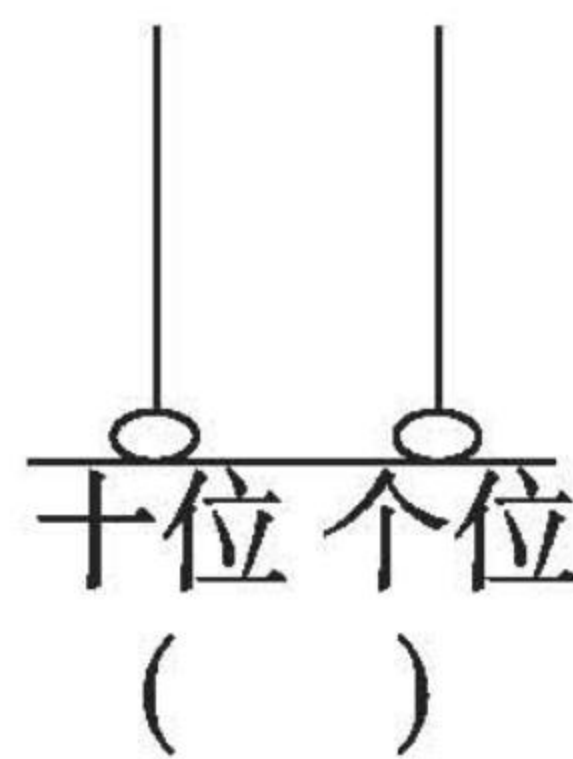
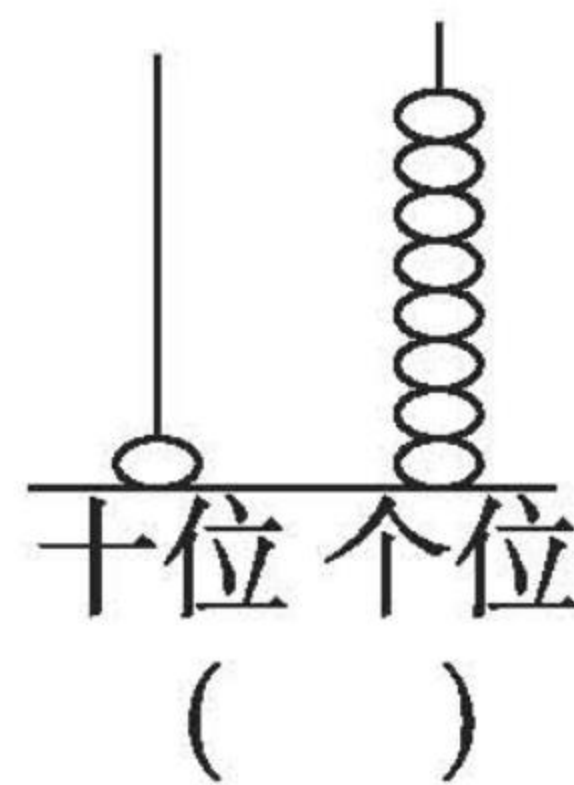
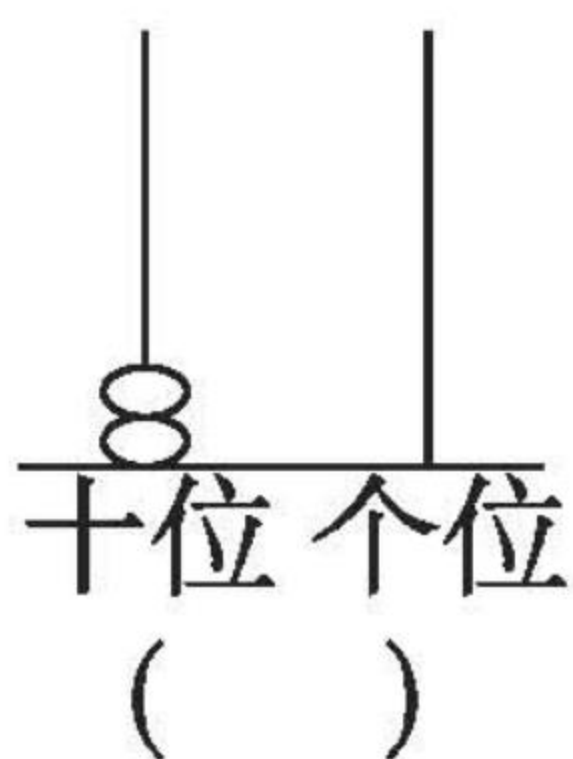
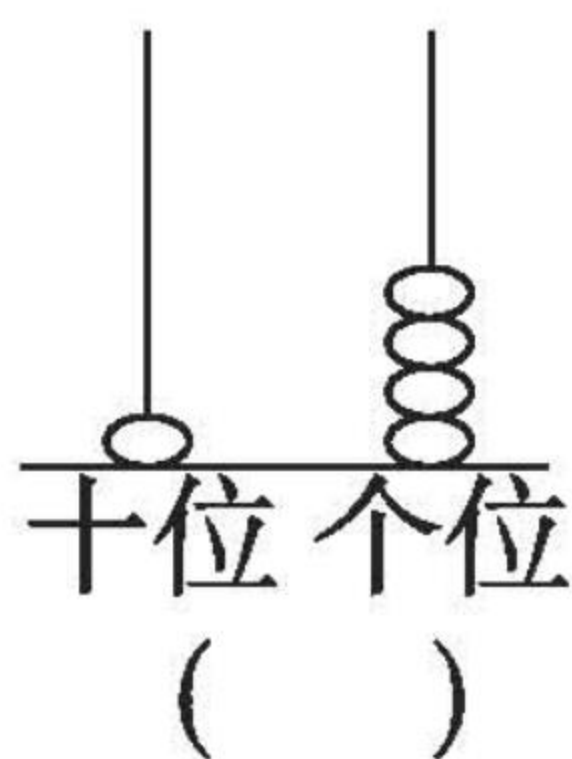
()为一类。

(2) 按颜色分:()为一类;()为一类。



11 ~ 20 各数的认识(1)

读一读,写一写。





11 ~ 20 各数的认识(2)

1. 在○里填上“>”“<”或“=”。

(1) $12 \bigcirc 13$

(5) $15 \bigcirc 16$

(9) $14 \bigcirc 11$

(2) $18 \bigcirc 19$

(6) $20 \bigcirc 13$

(10) $17 \bigcirc 9$

(3) $15 \bigcirc 15$

(7) $18 \bigcirc 17$

(11) $18 \bigcirc 20$

(4) $20 \bigcirc 19$

(8) $12 \bigcirc 16$

2. 在□里填上合适的数。

(1) $\square > 18$

(5) $14 > \square$

(9) $20 > \square$

(2) $12 < \square$

(6) $\square < 16$

(10) $\square < 11$

(3) $13 < \square$

(7) $12 > \square$

(11) $\square < 14$

(4) $17 < \square$

(8) $19 < \square$

3. 松鼠采松果。

我采了15
个松果。



小松鼠

我采了17
个松果。



松鼠妈妈

谁采的多?



口算题卡

一年级 上册 时间:____分____秒 家长评价:_____

十几加几

1. 口算。

$15 + 3 =$

$18 + 1 =$

$17 + 2 =$

$12 + 3 =$

$16 + 2 =$

$14 + 2 =$

$15 + 2 =$

$16 + 3 =$

$11 + 5 =$

$11 + 4 =$

$14 + 5 =$

$15 + 4 =$

$17 + 2 =$

$12 + 5 =$

$16 + 4 =$

$15 + 3 =$

$10 + 8 =$

$14 + 4 =$

$4 + 6 =$

$18 + 1 =$

2. 在○里填上“>”“<”或“=”。

$10 \bigcirc 9$

$12 \bigcirc 20$

$10 \bigcirc 11$

$15 \bigcirc 15$

$16 \bigcirc 14$

$16 \bigcirc 17$

$15 + 4 \bigcirc 16$

$14 + 3 \bigcirc 18$

$15 \bigcirc 5 + 5$

$7 + 3 \bigcirc 10$

$16 + 3 \bigcirc 12$

$8 + 2 \bigcirc 12$



口算题卡

一年级 上册 时间:____分____秒 家长评价:_____

9 加几(1)

1. 算一算, 填一填。

$$\begin{array}{c} 9 + 3 = \square \\ \begin{array}{c} \diagup \quad \diagdown \\ \square \quad \square \\ \diagdown \quad \diagup \\ \square \end{array} \end{array}$$

$$\begin{array}{c} 9 + 6 = \square \\ \begin{array}{c} \diagup \quad \diagdown \\ \square \quad \square \\ \diagdown \quad \diagup \\ \square \end{array} \end{array}$$

$$\begin{array}{c} 9 + 8 = \square \\ \begin{array}{c} \diagup \quad \diagdown \\ \square \quad \square \\ \diagdown \quad \diagup \\ \square \end{array} \end{array}$$

$$\begin{array}{c} 9 + 7 = \square \\ \begin{array}{c} \diagup \quad \diagdown \\ \square \quad \square \\ \diagdown \quad \diagup \\ \square \end{array} \end{array}$$

2. 算一算, 比一比。

$$\begin{array}{l} 9 + 1 + 4 = \\ 9 + 5 = \end{array}$$

$$\begin{array}{l} 9 + 1 + 1 = \\ 9 + 2 = \end{array}$$

$$\begin{array}{l} 9 + 1 + 8 = \\ 9 + 9 = \end{array}$$

$$\begin{array}{l} 9 + 1 + 6 = \\ 9 + 7 = \end{array}$$

$$\begin{array}{l} 9 + 1 + 5 = \\ 9 + 6 = \end{array}$$

$$\begin{array}{l} 9 + 1 + 2 = \\ 9 + 3 = \end{array}$$

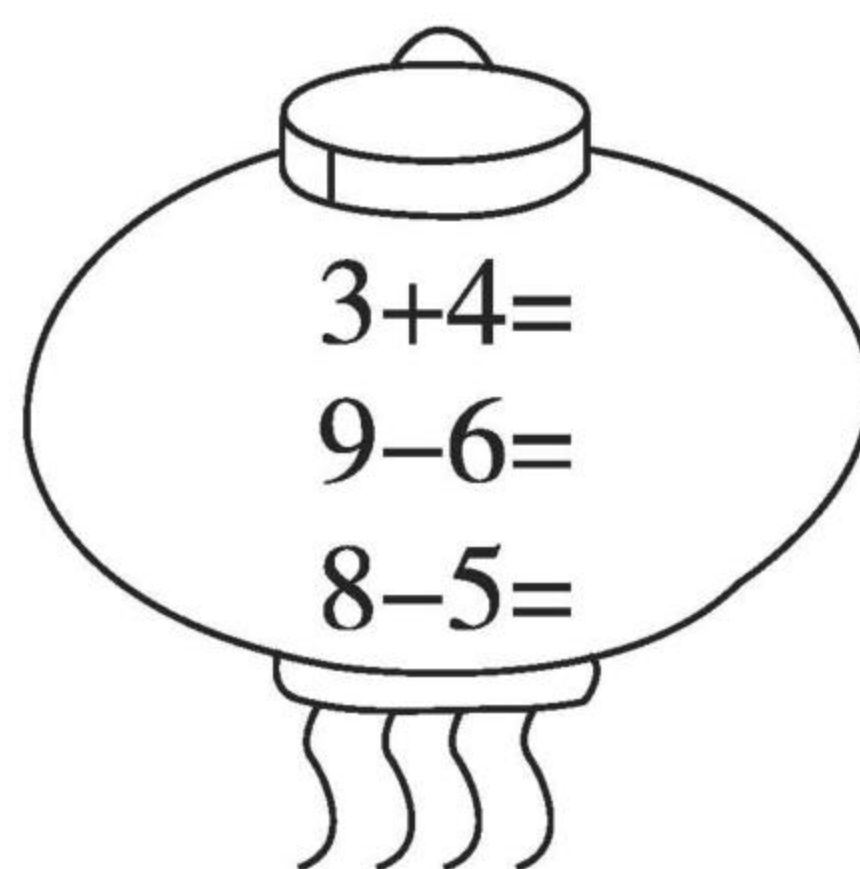
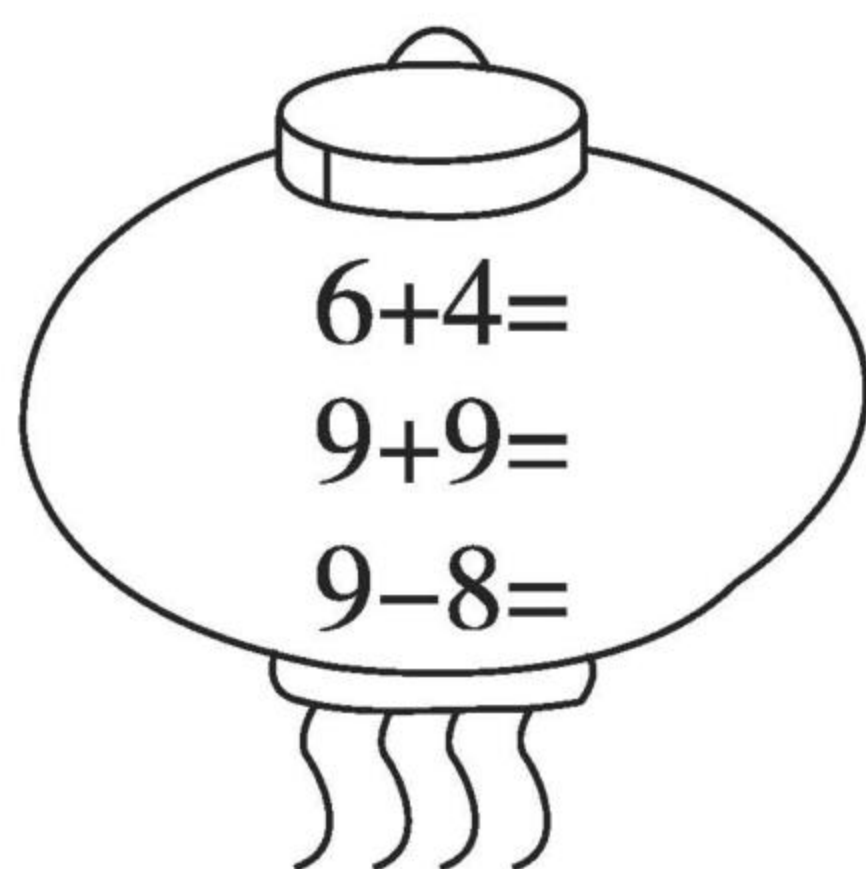


口算题卡

一年级 上册 时间:____分____秒 家长评价:_____

9 加几(2)

1. 口算。



2. 小猴该摘哪个桃? 圈一圈。



$9+8=$



$9+3=$



$9+6=$



3. 在○里填上“>”“<”或“=”。

$9+4 \bigcirc 14$

$9+7 \bigcirc 13$

$9+5 \bigcirc 15$

$9+6 \bigcirc 17$

$9+9 \bigcirc 20$

$9+3 \bigcirc 12$

$9+8 \bigcirc 17$

$9+2 \bigcirc 11$



口算题卡

一年级 上册 时间:____分____秒 家长评价:_____

9 加几(3)

1. 口算。

$9 + 3 =$

$11 + 5 =$

$9 + 6 =$

$16 + 2 =$

$9 + 8 =$

$10 + 7 =$

$9 + 5 =$

$14 + 3 =$

$9 + 7 =$

$9 - 4 =$

$9 + 1 =$

$16 + 3 =$

$14 + 2 =$

$9 + 9 =$

$15 + 2 =$

$15 + 1 =$

$18 + 1 =$

$9 + 4 =$

$15 + 3 =$

$10 + 5 =$

2.



一共有几只兔子?

$\square \bigcirc \square = \square (\text{只})$



口算题卡

一年级 上册 时间:____分____秒 家长评价:_____

9 加几(4)

1. 口算。

$9 + 5 =$

$14 + 3 =$

$9 + 8 =$

$12 + 5 =$

$9 + 7 =$

$11 + 4 =$

$9 + 9 =$

$13 + 6 =$

$9 + 10 =$

$9 + 2 =$

2. 填括号。

$9 + (\quad) = 11$

$10 + (\quad) = 17$

$2 + (\quad) = 11$

$16 + (\quad) = 18$

$9 + (\quad) = 16$

$15 + (\quad) = 17$

$9 + (\quad) = 17$

$18 + (\quad) = 19$

$9 + (\quad) = 18$

$9 + (\quad) = 12$

3. 一共采了多少个松果?



$\square \bigcirc \square = \square (\text{个})$



口算题卡

一年级 上册 时间:____分____秒 家长评价:_____

8、7、6 加几(1)

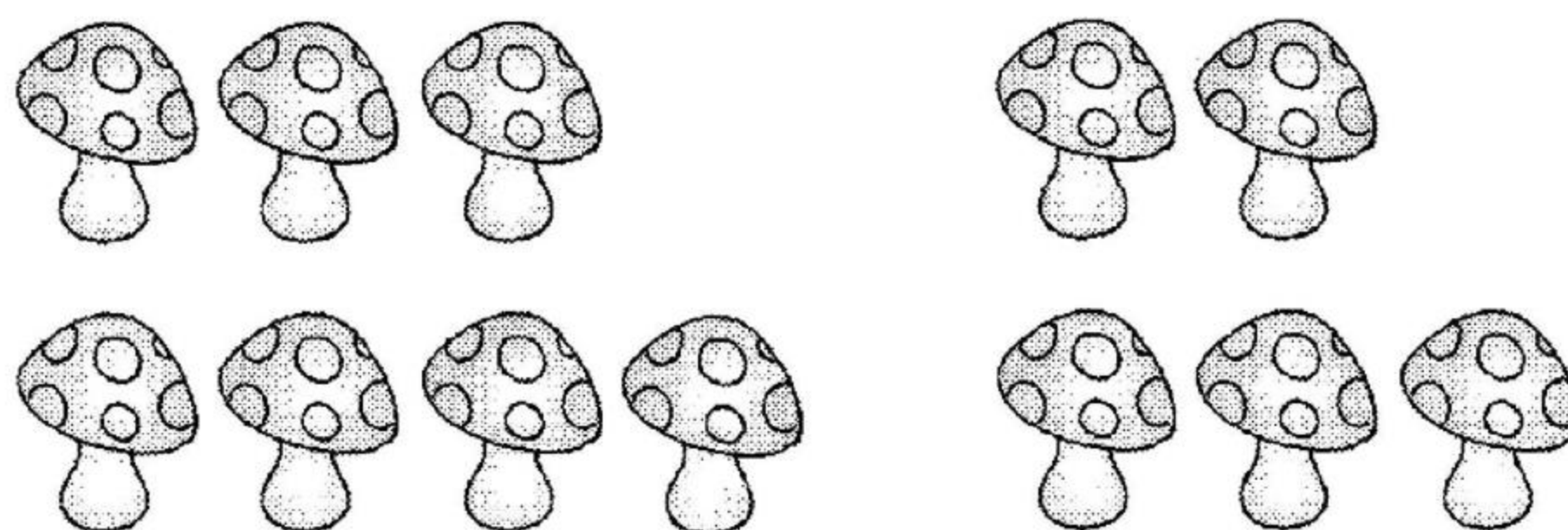
先圈一圈,再算一算。

1.



$$\begin{array}{r} 8 + 4 = \square \\ \begin{array}{c} \downarrow \quad \downarrow \\ \square \quad \square \\ \downarrow \quad \downarrow \\ 10 \end{array} \end{array}$$

2.



$$\begin{array}{r} 7 + 5 = \square \\ \begin{array}{c} \downarrow \quad \downarrow \\ \square \quad \square \\ \downarrow \quad \downarrow \\ 10 \end{array} \end{array}$$

3.



$$\begin{array}{r} 6 + 6 = \square \\ \begin{array}{c} \downarrow \quad \downarrow \\ \square \quad \square \\ \downarrow \quad \downarrow \\ 10 \end{array} \end{array}$$



口算题卡

一年级 上册 时间:____分____秒 家长评价:_____

8、7、6 加几(2)

1. 口算。

$9 + 7 =$

$6 + 8 =$

$8 + 8 =$

$7 + 8 =$

$7 + 5 =$

$7 + 4 =$

$8 + 5 =$

$9 + 8 =$

$8 + 4 =$

$8 + 2 =$

$9 + 6 =$

$9 + 9 =$

$9 + 5 =$

$14 + 4 =$

$7 + 7 =$

$6 + 8 =$



$14 + 2 =$

$8 + 3 =$

$7 + 6 =$

$14 + 4 =$

2.



原来有 辆车, 又开来 辆。一共有多少辆车?

$$\square \bigcirc \square = \square (\text{辆})$$



口算题卡

一年级 上册 时间:____分____秒 家长评价:_____

5、4、3、2 加几(1)

1. 填一填。

$$\begin{array}{c} 5 + 9 = \square \\ \swarrow \quad \searrow \\ \square \quad \square \\ \quad \quad \downarrow \\ \quad \quad \square \end{array}$$

$$\begin{array}{c} 3 + 9 = \square \\ \swarrow \quad \searrow \\ \square \quad \square \\ \quad \quad \downarrow \\ \quad \quad \square \end{array}$$

$$\begin{array}{c} 4 + 8 = \square \\ \swarrow \quad \searrow \\ \square \quad \square \\ \quad \quad \downarrow \\ \quad \quad \square \end{array}$$

$$\begin{array}{c} 4 + 7 = \square \\ \swarrow \quad \searrow \\ \square \quad \square \\ \quad \quad \downarrow \\ \quad \quad \square \end{array}$$

$$\begin{array}{c} 2 + 9 = \square \\ \swarrow \quad \searrow \\ \square \quad \square \\ \quad \quad \downarrow \\ \quad \quad \square \end{array}$$

$$\begin{array}{c} 5 + 7 = \square \\ \swarrow \quad \searrow \\ \square \quad \square \\ \quad \quad \downarrow \\ \quad \quad \square \end{array}$$

2. 比大小。

$$3 + 9 \bigcirc 14 \quad 3 + 8 \bigcirc 12 \quad 17 + 2 \bigcirc 15 \quad 4 + 9 \bigcirc 12$$

$$6 + 7 \bigcirc 12 \quad 3 + 9 \bigcirc 12 \quad 7 + 7 \bigcirc 15 \quad 6 + 6 \bigcirc 14$$



口算题卡

一年级 上册 时间:____分____秒 家长评价:_____

5、4、3、2 加几(2)

1. 口算。

$4 + 8 =$

$8 + 6 =$

$5 + 6 =$

$6 + 7 =$

$8 + 5 =$

$2 + 9 =$

$4 + 7 =$

$4 + 9 =$

$10 + 2 =$

$9 + 5 =$

$1 + 8 =$

$8 + 4 =$

$9 + 4 =$

$7 + 4 =$

$6 + 6 =$

$7 + 5 =$

$6 + 8 =$

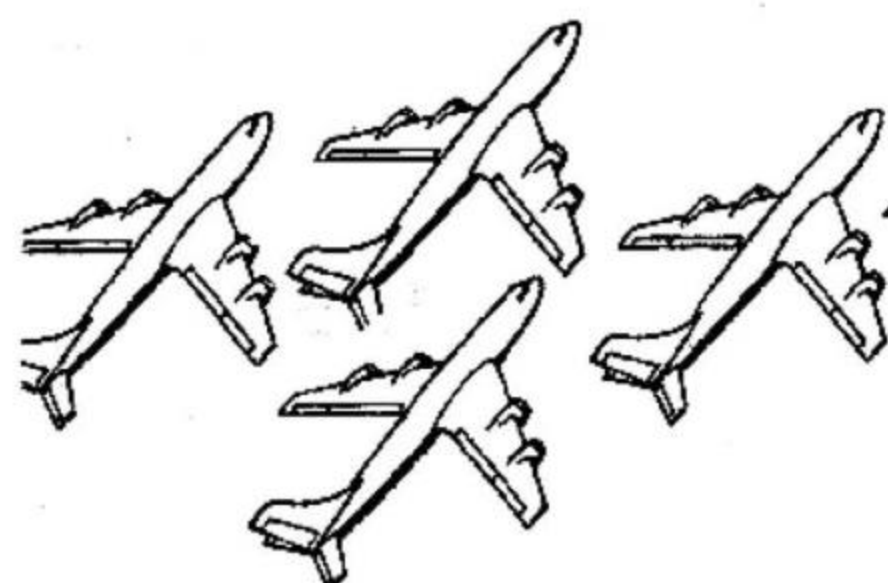
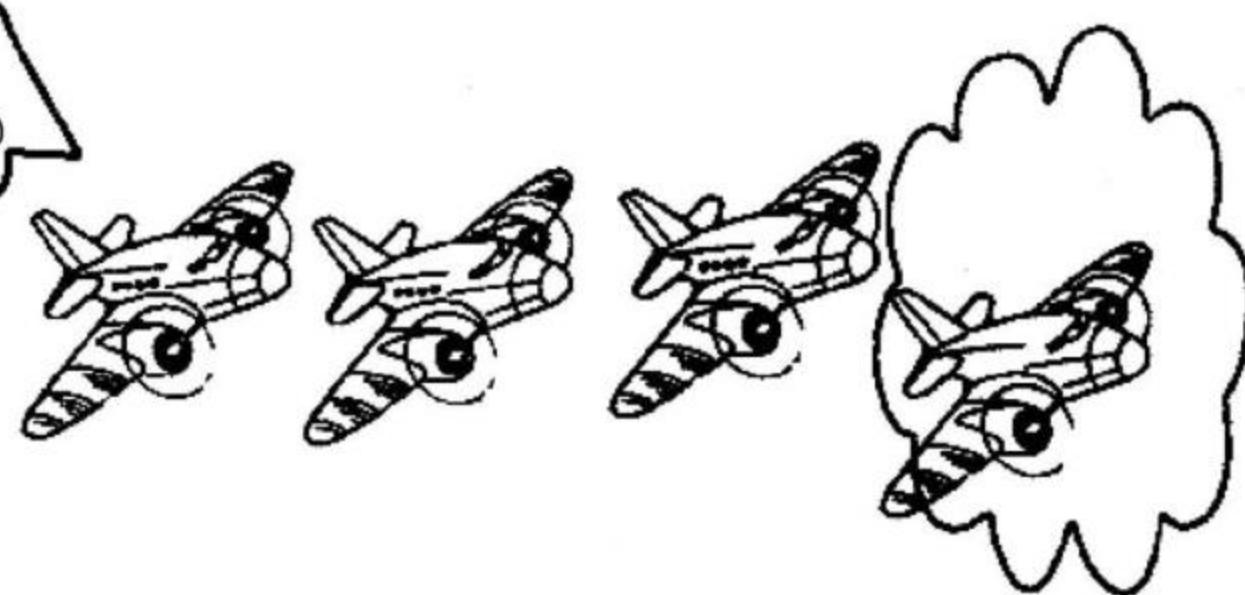
$14 + 2 =$

$7 + 7 =$

$15 + 3 =$

2.

天空中有8架飞机。



又飞来4架。

一共有多少架飞机?

$$\square \bigcirc \square = \square (\text{架})$$



5、4、3、2 加几(3)

1. 算一算。

(1) $4 + 8 =$

(6) $10 + 3 =$

(2) $5 + 5 =$

(7) $2 + 8 =$

(3) $5 + 8 =$

(8) $9 + 4 =$

(4) $5 + 9 =$

(9) $2 + 9 =$

(5) $4 + 7 =$

(10) $6 + 6 =$

2. 在○里填上“>”“<”或“=”。

(1) $9 + 7 \bigcirc 8 + 7$

(6) $4 + 8 \bigcirc 7 + 7$

(2) $5 + 6 \bigcirc 6 + 5$

(7) $8 + 6 \bigcirc 9 + 6$

(3) $3 + 8 \bigcirc 3 + 9$

(8) $9 + 5 \bigcirc 5 + 10$


(4) $5 + 10 \bigcirc 7 + 4$

(9) $10 + 4 \bigcirc 7 + 8$

(5) $14 + 4 \bigcirc 9 + 0$

(10) $7 + 7 \bigcirc 3 + 10$

3.



他后面这只
手里还有8支
铅笔。

一共有几支铅笔?

\bigcirc $=$ (支)



口算题卡

一年级 上册 时间:____分____秒 家长评价:_____

5、4、3、2 加几(4)

1. 算一算。

$6 + 9 =$

$4 + 9 =$

$8 + 6 =$

$7 + 7 =$

$2 + 9 =$

$7 + 5 =$

$7 + 4 =$

$6 + 7 =$

$9 + 9 =$

$9 + 5 =$

2. 比大小。

$5 + 7 \bigcirc 7 + 5$

$5 + 8 \bigcirc 4 + 3$

$9 - 5 \bigcirc 8 + 4$

$2 + 9 \bigcirc 9 + 2$

$4 + 7 \bigcirc 5 + 6$

$9 + 0 \bigcirc 0 + 9$

$3 + 8 \bigcirc 8 + 3$


$7 + 5 \bigcirc 14 + 2$

$4 + 9 \bigcirc 7 + 6$

$8 + 8 \bigcirc 16 + 1$

3.

我吃了9个 , 还剩……



原来一共有多少个 ?

$\square \bigcirc \square = \square (\text{个})$



连加(1)

1. 算一算,在□里填数。

$$\begin{array}{r} 7 + 2 + 5 = \square \\ \square \quad \square \\ \square \end{array}$$

$$\begin{array}{r} 4 + 2 + 5 = \square \\ \square \quad \square \\ \square \end{array}$$

$$\begin{array}{r} 6 + 2 + 9 = \square \\ \square \quad \square \\ \square \end{array}$$

$$\begin{array}{r} 4 + 3 + 5 = \square \\ \square \quad \square \\ \square \end{array}$$

2.

$$1 + 4 = \square$$

$$5 + 5 = \square$$

$$1 + 4 + 5 = \square$$

$$3 + 6 = \square$$

$$9 + 7 = \square$$

$$3 + 6 + 7 = \square$$

$$5 + 2 = \square$$

$$7 + 8 = \square$$

$$5 + 2 + 8 = \square$$

$$2 + 6 = \square$$

$$8 + 8 = \square$$

$$2 + 6 + 8 = \square$$

$$3 + 6 = \square$$

$$9 + 9 = \square$$

$$3 + 6 + 9 = \square$$

$$2 + 3 = \square$$

$$5 + 7 = \square$$

$$2 + 3 + 7 = \square$$




口算题卡

一年级 上册 时间:____分____秒 家长评价:_____

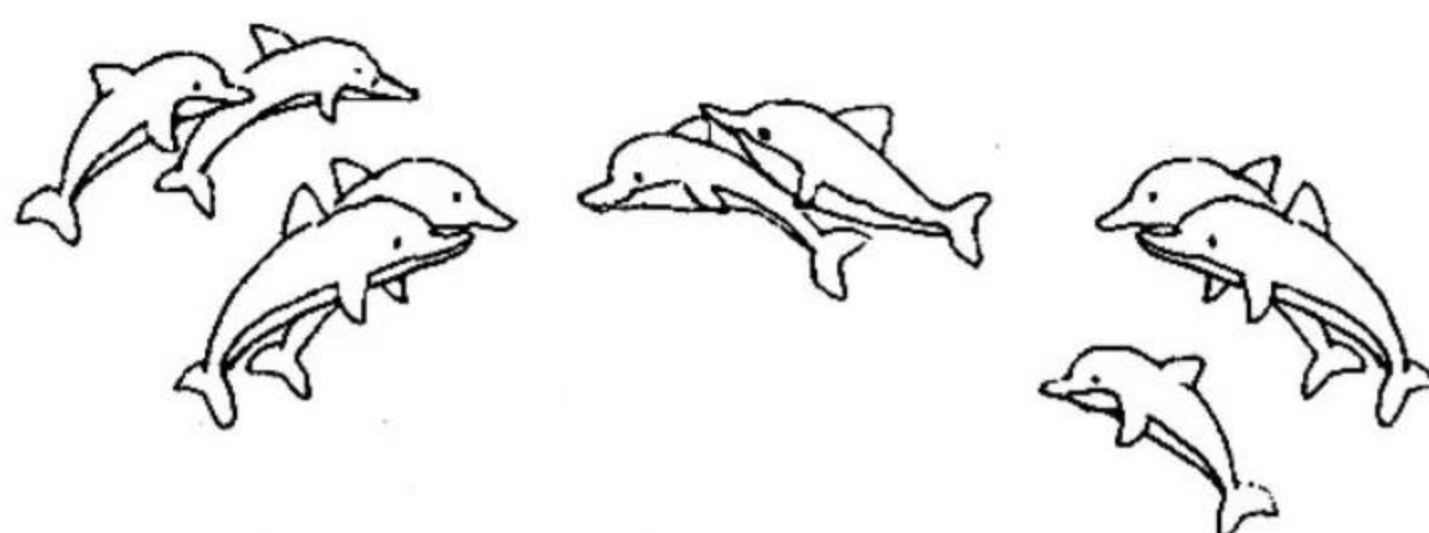
连加(2)

1. (1)



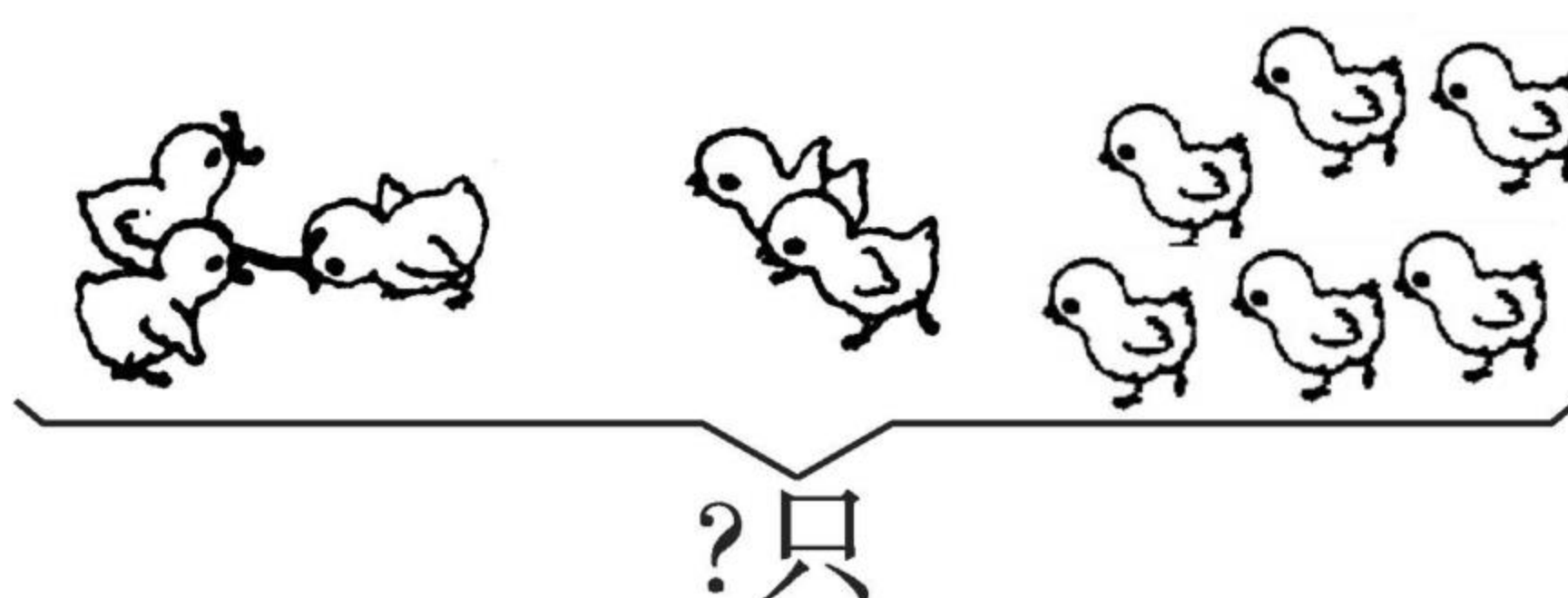
$$2 + \square + \square = \square$$

(2)



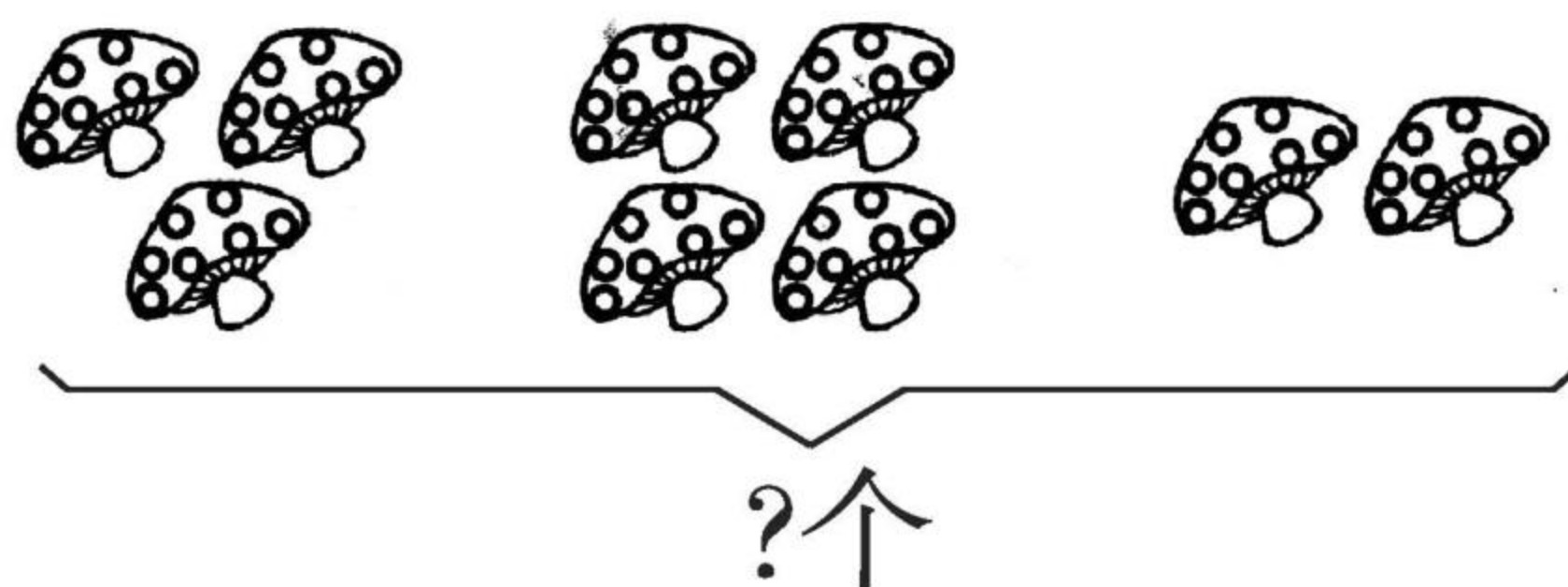
$$4 + \square + \square = \square$$

2. (1)



$$3 + \square + \square = \square \text{ (只)}$$

(2)



$$\square + \square + \square = \square \text{ (个)}$$



连加(3)

1. 口算。

(1) $8 + 11 =$

(2) $1 + 17 =$

(3) $7 + 12 =$

(4) $4 + 13 =$

(5) $6 + 13 =$

(6) $2 + 16 =$

(7) $5 + 14 =$

(8) $4 + 15 =$

(9) $9 + 10 =$

(10) $5 + 10 =$

(11) $14 + 2 =$

(12) $17 + 2 =$

(13) $15 + 3 =$

(14) $13 + 6 =$

(15) $16 + 3 =$

(16) $12 + 5 =$

(17) $13 + 1 =$

(18) $10 + 7 =$

(19) $18 + 1 =$

(20) $5 + 15 =$

2. 在○里填上“>”“<”或“=”。

(1) $3 + 6 \bigcirc 10$

(2) $10 + 7 \bigcirc 7$

(3) $3 + 5 \bigcirc 10$

(4) $6 + 10 \bigcirc 18$

(5) $5 + 11 \bigcirc 16$

(6) $15 \bigcirc 13 + 4$

(7) $13 \bigcirc 6 + 4$

(8) $19 \bigcirc 16 + 2$

(9) $17 \bigcirc 13 + 3$

(10) $16 \bigcirc 13 + 2$



口算题卡

一年级 上册 时间:____分____秒 家长评价:_____

连加(4)

1. 口算。

$8 + 4 =$

$16 + 3 =$

$3 + 9 =$

$15 + 2 =$

$7 + 6 =$

$8 + 9 =$

$12 + 0 =$

$7 + 7 =$

$19 + 0 =$

$18 + 1 =$

$17 + 2 =$

$7 + 8 =$

$8 + 5 =$

$9 + 8 =$

$6 + 9 =$

$8 + 3 =$

$7 + 5 =$

$4 + 7 =$

$9 + 9 =$

$3 + 8 =$

2.

我采了8个松果。

我采的松果和你同样多。



它们一共采了多少个松果?

$$\square \bigcirc \square = \square (\text{个})$$



连加(5)

1. 口算。

$7 + 8 =$

$7 + 7 =$

$6 + 6 =$

$6 + 8 =$

$9 + 4 =$

$7 + 5 =$

$3 + 8 =$

$4 + 8 =$

$14 + 3 =$

$16 + 3 =$

$6 + 7 =$

$15 + 4 =$

$7 + 2 =$

$7 + 9 =$

$8 + 6 =$

$6 + 4 =$

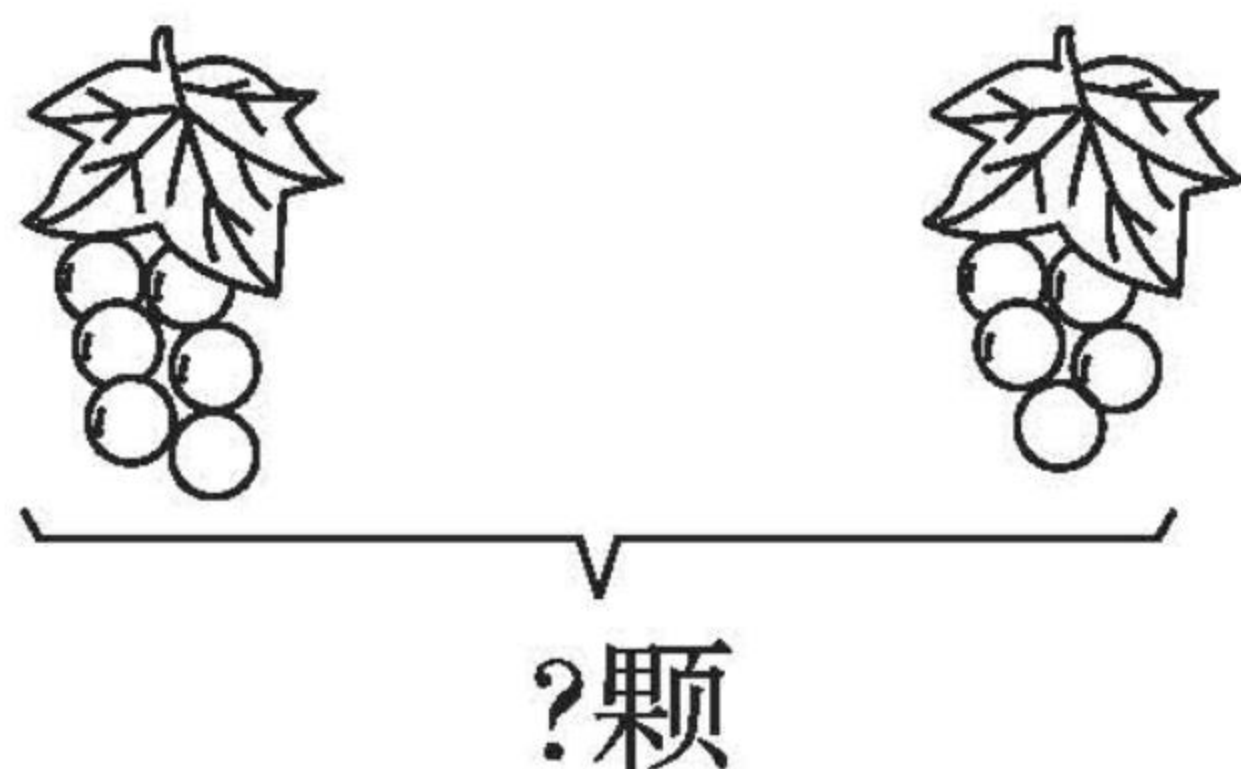
$15 + 3 =$

$7 + 4 =$

$14 + 2 =$

$3 + 9 =$

2. 说说图中的意思,再解答。



左边有 颗葡萄,右边有 颗葡萄。

一共有几颗葡萄?

$$\square \bigcirc \square = \square (\text{颗})$$



口算题卡

一年级 上册 时间:____分____秒 家长评价:_____

连加(6)

1. 口算。

$8 + 3 =$

$6 + () = 13$

$8 + 8 =$

$9 + () = 14$

$9 + 6 =$

$8 + () = 17$

$9 + 9 =$

$7 + () = 15$

$8 + 5 =$

$7 + () = 12$

$7 + 7 =$

$6 + () = 15$

$6 + 8 =$

$8 + () = 12$

$9 + 3 =$

$8 + () = 16$

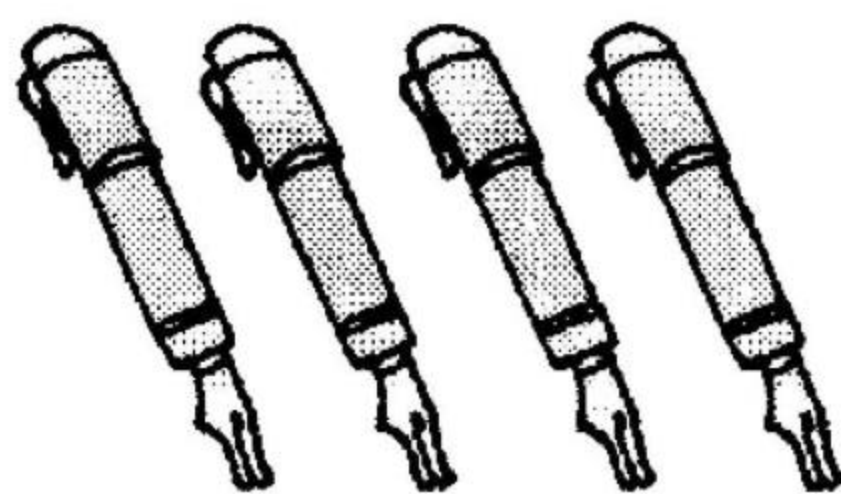

$7 + 5 =$

$7 + () = 16$

$7 + 4 =$

$() + 9 = 15$

2.



10支

$\square \bigcirc \square = \square \text{ (支)}$



口算题卡

一年级 上册 时间:____分____秒 家长评价:_____

连加(7)

1. 口算。

$17 + 2 =$

$6 + 6 =$

$16 + 4 =$

$7 + 8 =$

$3 + 12 =$

$4 + 3 =$

$12 + 5 =$

$6 + 8 =$

$2 + 11 =$

$7 + 9 =$

$15 + 5 =$

$6 + 9 =$

$7 + 7 =$

$14 + 2 =$

$8 + 6 =$

$10 + 4 =$

$9 + 4 =$

$7 + 8 =$

$10 - 8 =$

$6 + 7 =$

2. 解决问题。

一(1)班美术小组有多少名同学?



$$\square \bigcirc \square = \square (\text{名})$$



连加(8)

1. 算一算。

(1) $6 + 3 + 2 =$

(2) $4 + 7 + 3 =$

(3) $9 + 3 + 5 =$

(4) $2 + 3 + 8 =$

(5) $2 + 4 + 5 =$

(6) $13 + 3 + 2 =$

(7) $15 + 2 + 1 =$

(8) $1 + 8 + 7 =$

(9) $10 + 5 + 4 =$

(10) $3 + 3 + 9 =$

(11) $7 + 8 + 2 =$

(12) $3 + 5 + 7 =$

(13) $2 + 8 + 3 =$

(14) $14 + 2 + 2 =$

(15) $12 + 2 + 3 =$

(16) $3 + 4 + 4 =$


(17) $13 + 1 + 5 =$

(18) $8 + 7 + 3 =$

(19) $6 + 6 + 6 =$

(20) $7 + 3 + 9 =$

2.



已经进去了8人。



原来一共有多少人?

$\square \bigcirc \square = \square (\text{人})$



连加(9)

1. 算一算。

(1) $5 + 3 + 7 =$

(11) $2 + 7 + 6 =$

(2) $10 + 4 + 3 =$

(12) $3 + 4 + 7 =$

(3) $4 + 2 + 3 =$

(13) $4 + 3 + 0 =$

(4) $4 + 5 + 8 =$

(14) $6 + 4 + 2 =$

(5) $1 + 7 + 8 =$

(15) $9 + 1 + 9 =$

(6) $1 + 7 + 2 =$

(16) $8 + 2 + 5 =$

(7) $3 + 5 + 8 =$

(17) $4 + 5 + 7 =$

(8) $7 + 5 + 8 =$

(18) $0 + 6 + 2 =$

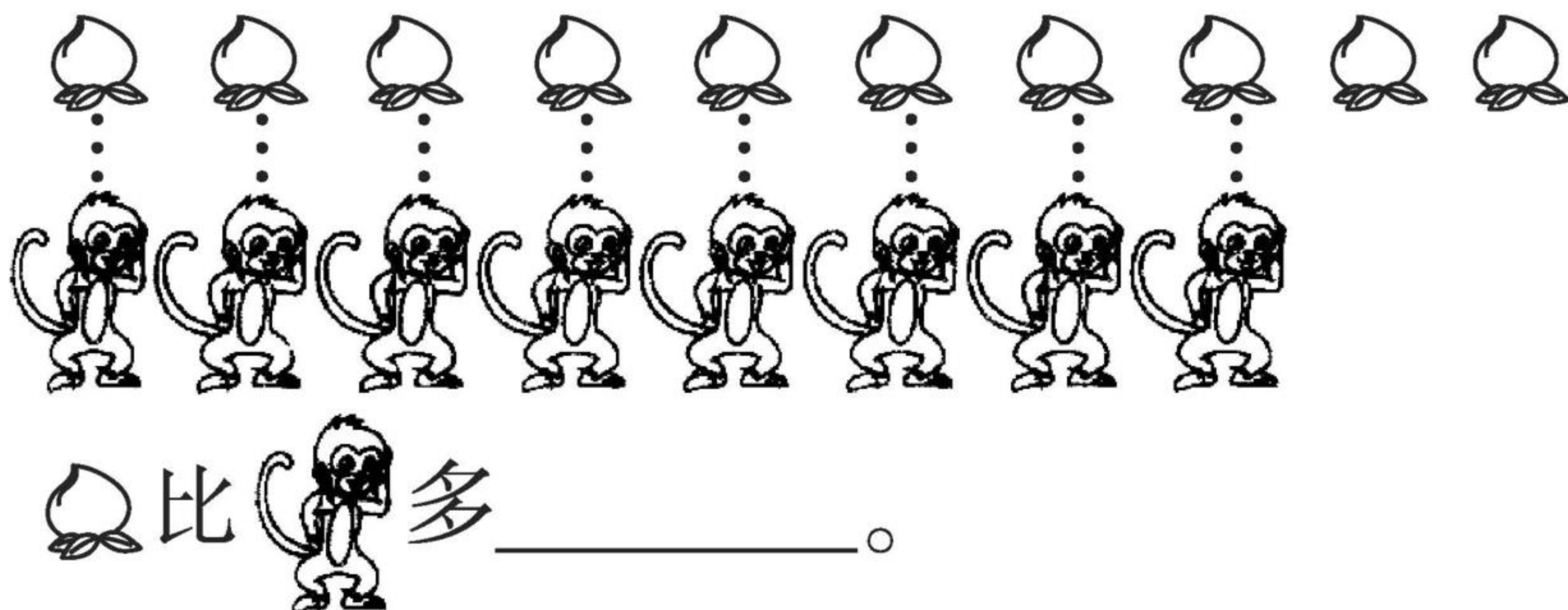
(9) $4 + 3 + 6 =$

(19) $5 + 4 + 1 =$

(10) $6 + 1 + 3 =$

(20) $2 + 7 + 1 =$

2. 连一连, 比一比。





口算题卡

一年级 上册 时间:____分____秒 家长评价:_____

连加(10)

1. 口算。

$8 + 7 =$

$2 + 3 + 8 =$

$7 + 7 =$

$3 + 5 + 9 =$

$9 + 8 =$

$4 + 3 + 7 =$

$7 + 9 =$

$6 + 8 + 2 =$

$6 + 6 =$

$14 + 2 + 2 =$

$14 - 2 =$

$2 + 7 + 5 =$

$15 - 5 =$

$7 + 8 + 4 =$

$4 + 9 =$

$3 + 4 + 8 =$


$7 + 7 =$

$3 + 5 + 8 =$

$6 + 8 =$

$6 + 2 + 9 =$

2.



地里还剩几根萝卜?

$$\square \bigcirc \square = \square (\text{根})$$



口算题卡

一年级 上册 时间:____分____秒 家长评价:____

连加(11)

1. 算一算。

(1) $2 + 5 + 6 =$

(11) $3 + 7 + 6 =$

(2) $4 + 6 + 8 =$

(12) $8 + 6 + 3 =$

(3) $2 + 1 + 8 =$

(13) $8 + 2 + 5 =$

(4) $6 + 2 + 8 =$

(14) $7 + 3 + 2 =$

(5) $7 + 3 + 4 =$

(15) $7 + 7 + 4 =$

(6) $2 + 4 + 6 =$

(16) $4 + 4 + 9 =$

(7) $6 + 4 + 2 =$

(17) $4 + 5 + 4 =$

(8) $4 + 6 + 7 =$

(18) $7 + 3 + 3 =$

(9) $6 + 5 + 3 =$

(19) $2 + 4 + 5 =$

(10) $7 + 2 + 7 =$

(20) $7 + 2 + 1 =$

2.



原来种了9棵,
又种了8棵。



一共种了多少棵树?

$$\square \bigcirc \square = \square (\text{棵})$$



口算题卡

一年级 上册 时间:____分____秒 家长评价:_____

连加(12)

1. 在○里填上“>”“<”或“=”。

(1) $5 + 8 \bigcirc 9$

(11) $6 + 5 \bigcirc 10$

(2) $3 + 9 \bigcirc 12$

(12) $5 + 5 \bigcirc 5$

(3) $6 + 8 \bigcirc 10$

(13) $10 + 6 \bigcirc 13$

(4) $10 + 7 \bigcirc 16$

(14) $5 + 8 \bigcirc 13$

(5) $5 + 6 \bigcirc 9$

(15) $3 + 8 \bigcirc 12$

(6) $8 + 5 \bigcirc 12$

(16) $7 + 6 \bigcirc 20$

(7) $3 + 4 \bigcirc 6$

(17) $6 + 7 \bigcirc 9$

(8) $10 - 5 \bigcirc 3$

(18) $4 + 4 \bigcirc 8$

(9) $9 + 8 \bigcirc 17$

(19) $10 - 6 \bigcirc 3$

(10) $10 + 4 \bigcirc 16$

(20) $7 + 6 \bigcirc 15$

2.



一共有□个☆,把左边6个☆圈起来。从右边数,把第8个☆涂成红色。



口算题卡

一年级 上册 时间:____分____秒 家长评价:_____

十几减几(1)

1. 口算。

$13 + 2 =$

$18 - 4 =$

$17 - 4 =$

$17 - 6 =$

$15 - 2 =$

$19 - 8 =$

$19 - 3 =$

$19 - 4 =$

$16 + 4 =$

$7 + 8 =$

$17 - 2 =$

$6 + 9 =$

$14 + 5 =$

$10 - 8 =$

$16 - 3 =$

$11 - 1 =$

$17 - 5 =$

$12 + 4 =$

$10 + 6 =$

$16 - 4 =$

2.

我们一共摘了18个桃。



大猴

我摘了6个。



小猴

大猴摘了多少个桃? $\square \bigcirc \square = \square$ (个)



口算题卡

一年级 上册 时间:____分____秒 家长评价:_____

十几减几(2)

1. 在○里填上“>”“<”或“=”。

(1) $18 - 10$ ○ 18

(11) $14 - 3$ ○ 11

(2) $18 - 3$ ○ 8

(12) $12 - 2$ ○ 5

(3) $10 - 4$ ○ 6

(13) $8 - 6$ ○ 2

(4) $19 - 10$ ○ 9

(14) $18 - 8$ ○ 9

(5) $14 - 4$ ○ 8

(15) $10 - 5$ ○ 6

(6) $15 - 10$ ○ 9

(16) $17 - 7$ ○ 9

(7) $18 + 2$ ○ 18

(17) $19 - 8$ ○ 7

(8) $15 - 10$ ○ 5

(18) $13 - 10$ ○ 5


(9) $11 - 3$ ○ 8

(19) $11 - 10$ ○ 3

(10) $19 - 12$ ○ 8

(20) $7 + 8$ ○ 9

2.



一共有多少人? $\square \bigcirc \square = \square$ (人)



口算题卡

一年级 上册 时间:____分____秒 家长评价:_____

十几减几(3)

1. 口算。

$11 + 2 =$

$3 + 9 =$

$6 + 8 =$

$12 - 7 =$

$12 - 10 =$

$16 - 9 =$

$9 + 9 =$

$18 - 2 =$

$14 - 10 =$

$5 + 8 =$

$8 + 6 =$

$15 + 4 =$

$15 - 10 =$

$7 + 6 =$

$7 + 8 =$

$16 - 10 =$


$18 - 6 =$

$6 + 7 =$

$2 + 9 =$

$19 - 10 =$

2. 解决问题。



原来一共有多少个苹果?

$$\square \bigcirc \square = \square (\text{个})$$



口算题卡

一年级 上册 时间:____分____秒 家长评价:_____

十几减几(4)

1. 口算。

$15 + 2 =$

$18 - 3 =$

$13 - 2 =$

$14 - 2 =$

$17 - 3 =$

$14 + 2 =$

$16 - 6 =$

$15 - 3 =$

$14 - 5 =$

$18 - 7 =$

$18 - 5 =$

$16 - 2 =$

$14 + 3 =$

$15 - 10 =$

$18 - 6 =$

$17 + 2 =$

$16 - 4 =$

$12 + 5 =$

$15 - 4 =$

$19 - 7 =$

$17 + 3 =$

$11 - 3 =$

2.



我钓了
5条鱼。

②

我钓了
16条鱼。



①

①号猫比②号猫多钓了多少条鱼?

$$\square \bigcirc \square = \square (\text{条})$$



十几减几(5)

1. 算一算。

(1) $15 - 1 =$

(11) $18 - 3 =$

(2) $13 + 2 =$

(12) $15 + 3 =$

(3) $17 - 1 =$

(13) $19 - 1 =$

(4) $16 - 6 =$

(14) $16 - 7 =$

(5) $14 + 4 =$

(15) $16 - 4 =$

(6) $18 - 5 =$

(16) $15 + 4 =$

(7) $19 - 8 =$

(17) $18 - 7 =$

(8) $14 + 3 =$

(18) $14 + 5 =$

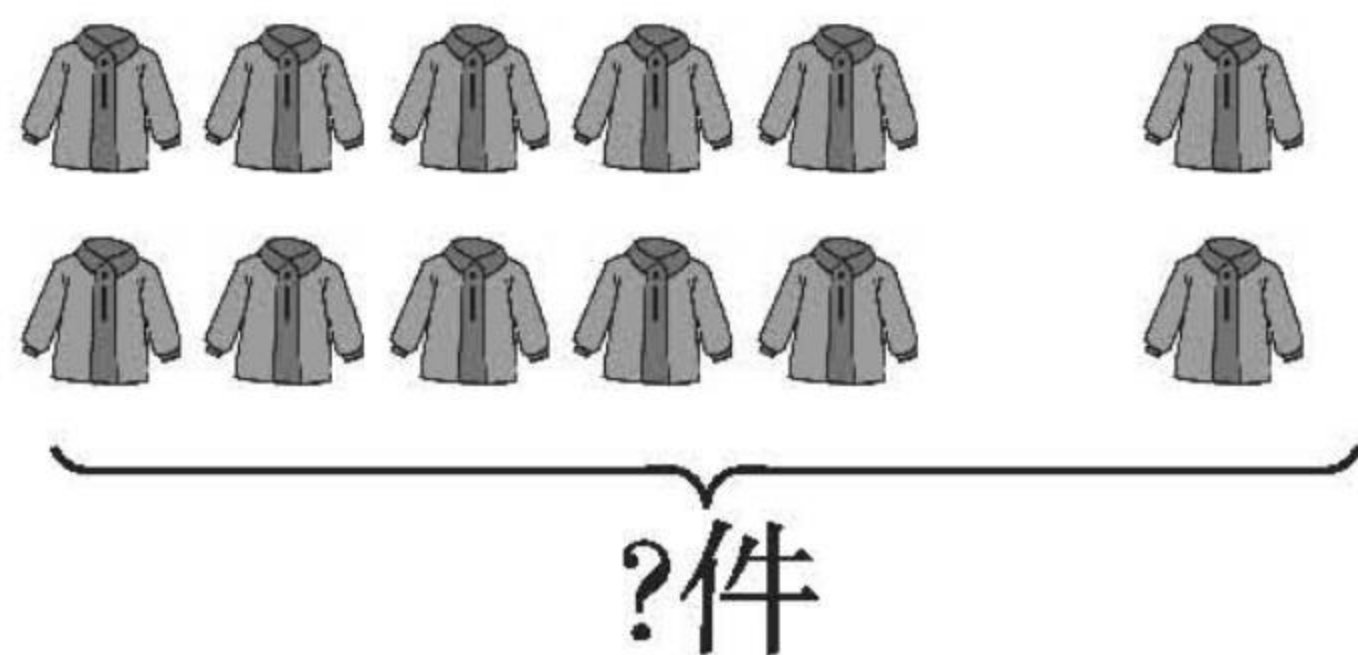
(9) $18 - 6 =$

(19) $18 - 8 =$

(10) $16 - 10 =$

(20) $16 + 2 =$

2. 看图写算式。



$\square \bigcirc \square = \square$ (件)



十几减几(6)

1. 算一算。

(1) $17 + 2 =$

(11) $18 - 10 =$

(2) $19 - 3 =$

(12) $19 - 9 =$

(3) $15 + 5 =$

(13) $18 - 6 =$

(4) $18 - 1 =$

(14) $19 - 10 =$

(5) $15 + 2 =$

(15) $18 - 7 =$

(6) $17 + 0 =$

(16) $19 - 8 =$

(7) $13 + 2 =$

(17) $13 + 4 =$

(8) $16 - 0 =$

(18) $13 - 10 =$

(9) $18 - 5 =$


(19) $18 - 8 =$

(10) $19 - 6 =$

(20) $13 + 3 =$

2. 看图写算式。

?本



16本

$\square \bigcirc \square = \square$ (本)



口算题卡

一年级 上册 时间:____分____秒 家长评价:_____

十几减几(7)

1. 口算。

$12 + 3 =$

$17 + 1 =$

$17 - 2 =$

$18 - 6 =$

$18 - 4 =$

$18 - 5 =$

$19 - 6 =$

$17 - 3 =$

$12 + 7 =$

$17 - 4 =$

$16 - 3 =$

$17 + 1 =$

$10 + 7 =$

$19 - 8 =$

$17 - 6 =$

$15 + 2 =$

$12 + 5 =$

$13 + 7 =$

$19 - 4 =$

$15 - 10 =$

2.



它们一共捉了多少只害虫?

$\square \bigcirc \square = \square (\text{只})$



口算题卡

一年级 上册 时间:____分____秒 家长评价:_____

十几减几(8)

1. 口算。

$15 + 2 =$

$14 + 2 =$

$14 + 4 =$

$10 + 7 =$

$16 - 2 =$

$17 - 4 =$

$17 - 5 =$

$19 - 8 =$

$18 - 4 =$

$18 + 1 =$

$16 - 6 =$

$16 - 4 =$

$7 + 3 =$

$19 - 9 =$

$16 - 3 =$

$11 + 8 =$

$19 - 7 =$

$12 - 2 =$

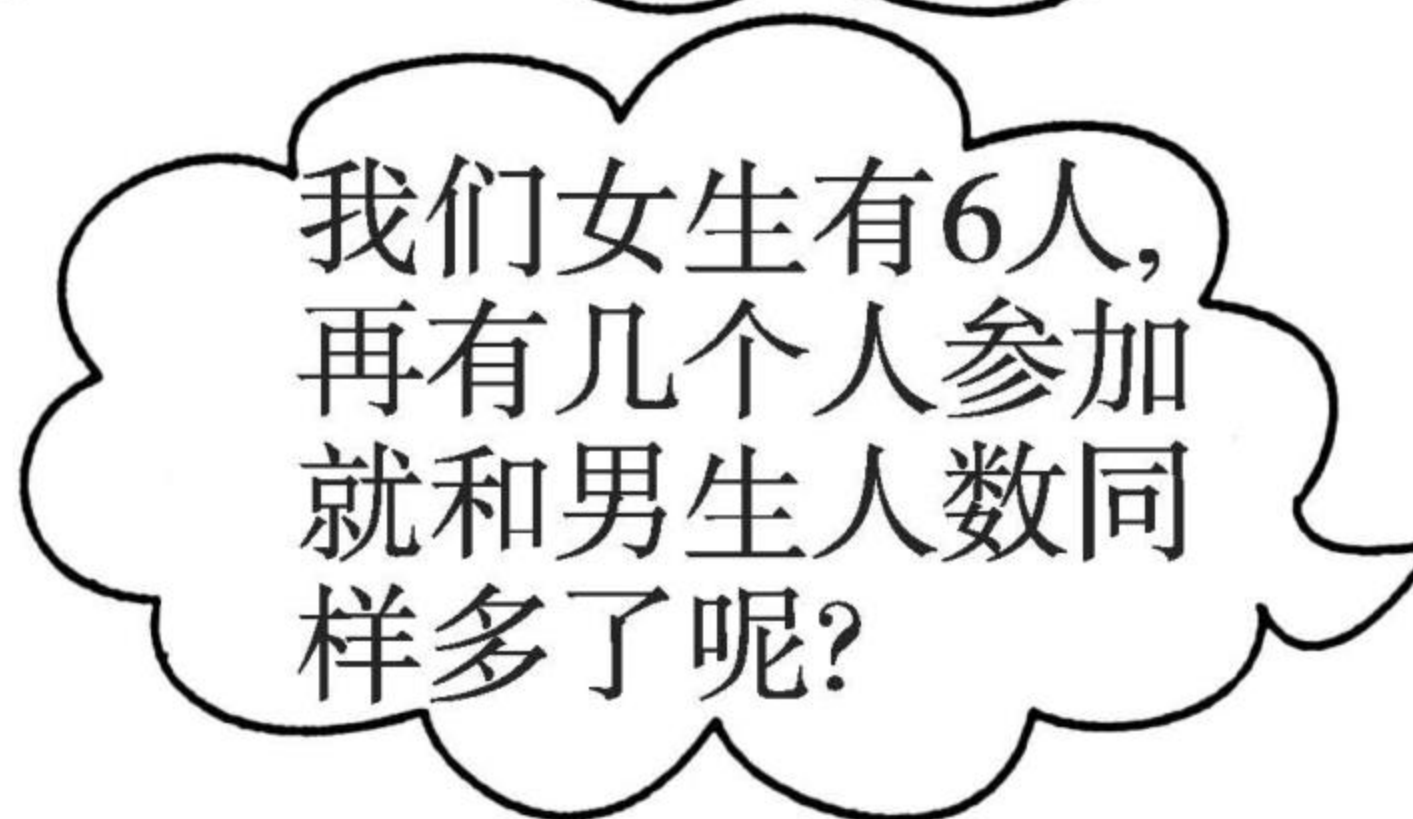
$19 - 5 =$

$13 + 4 =$

2.



我们男生参加兴趣小组的有16人。



我们女生有6人,再有几个人参加就和男生人数同样多了呢?

$$\square \bigcirc \square = \square (\text{人})$$



11 减几

1. 口算。

$11 - 3 =$

$11 - 4 =$

$11 - 5 =$

$11 - 7 =$

$11 - 9 =$

$11 - 8 =$

$10 - 7 =$

$8 + 7 =$

$6 + 6 =$

$6 + 9 =$

$11 - 1 =$

$10 + 6 =$

$11 - 2 =$

$11 - 0 =$

$11 - 11 =$

$7 + 7 =$

$6 + 5 =$

$5 + 4 =$

$10 - 9 =$

$11 - 6 =$

2.

$$\begin{array}{r} 11 - 6 = \square \\ \begin{array}{cc} \swarrow & \searrow \\ \square & \square \end{array} \\ \square \end{array}$$

$$\begin{array}{r} 11 - 9 = \square \\ \begin{array}{cc} \swarrow & \searrow \\ \square & \square \end{array} \\ \square \end{array}$$

$3 + (\quad) = 11$

$9 + (\quad) = 11$



口算题卡

一年级 上册 时间:____分____秒 家长评价:_____

12 减几

1. 口算。

$12 - 4 =$

$11 - 4 =$

$12 - 8 =$

$12 - 7 =$

$12 - 6 =$

$4 + 8 =$

$7 + 5 =$

$12 - 5 =$

$8 + 8 =$

$12 - 1 =$

$3 + 9 =$

$9 + 4 =$

$12 - 3 =$

$12 - 10 =$

$12 - 9 =$

$7 + 7 =$

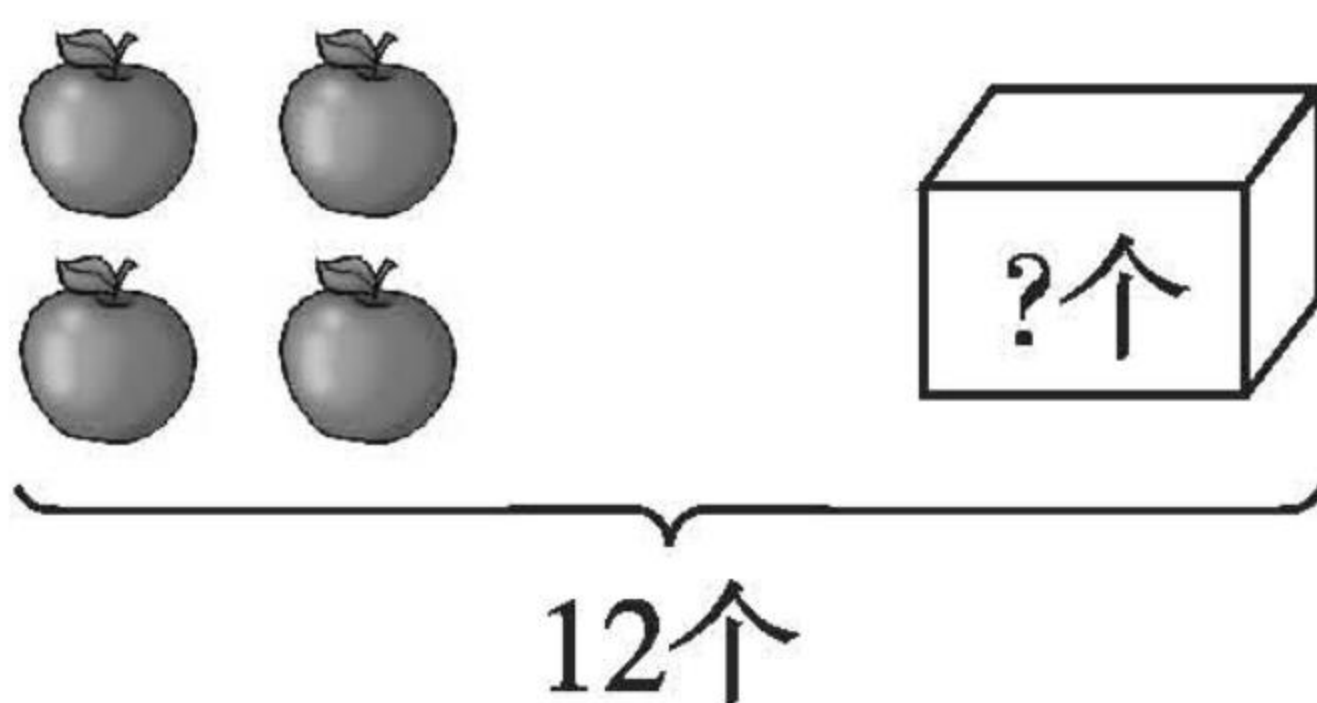
$14 + 2 =$

$15 - 3 =$

$14 + 3 =$

$7 + 8 =$

2.



$\square \bigcirc \square = \square (\text{个})$



口算题卡

一年级 上册 时间:____分____秒 家长评价:_____

13、14 减几

1. 口算。

$13 - 5 =$

$14 - 8 =$

$12 - 4 =$

$14 - 9 =$

$13 - 7 =$

$6 + 8 =$

$9 + 4 =$

$14 - 3 =$

$13 - 6 =$

$14 - 5 =$

$14 - 7 =$

$16 - 9 =$

$14 - 6 =$

$13 - 9 =$

$12 + 4 =$

$10 + 6 =$

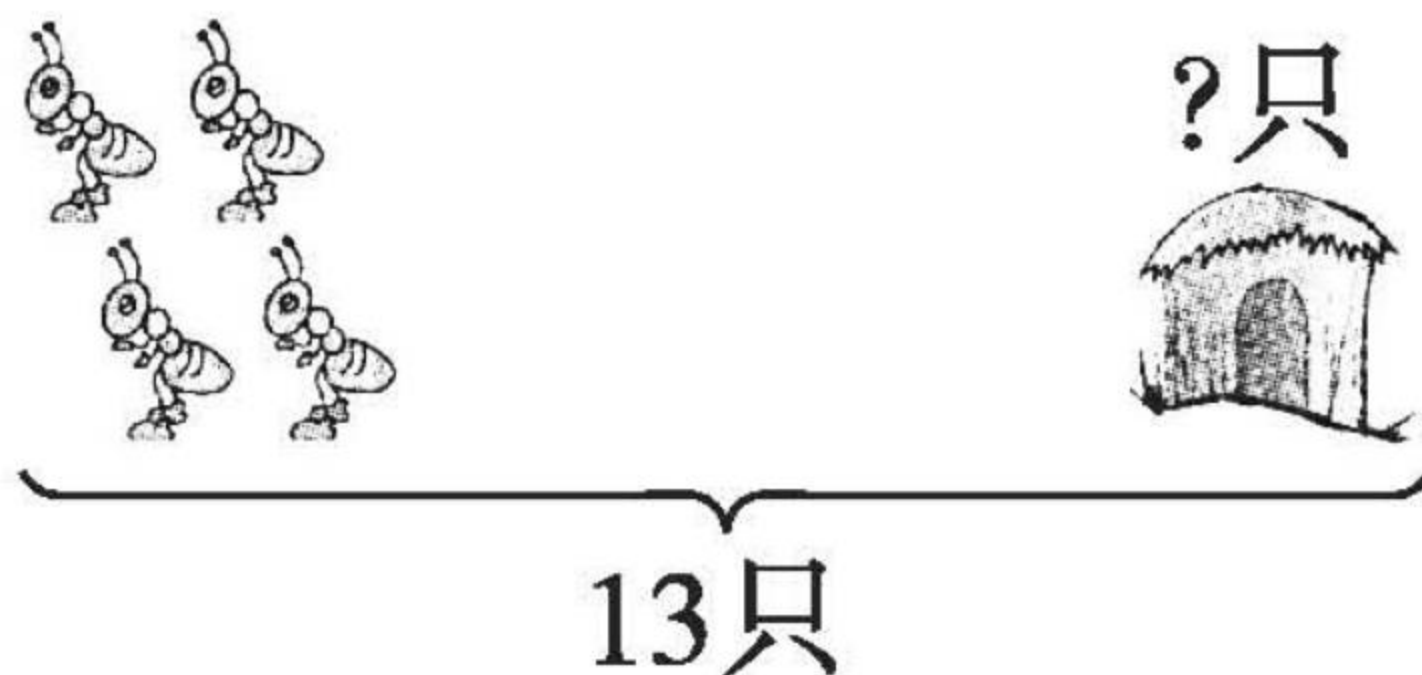
$17 - 3 =$

$19 - 6 =$

$5 + 7 =$

$8 + 8 =$

2.



$\square \bigcirc \square = \square (\text{只})$



退位减法(1)

1. 口算。

$16 - 7 =$

$15 - 8 =$

$18 - 9 =$

$13 - 4 =$

$16 - 8 =$

$16 - 9 =$

$15 - 7 =$

$15 - 9 =$

$14 - 7 =$

$14 - 8 =$

$15 - 4 =$

$11 - 8 =$

$12 - 4 =$

$13 - 5 =$

$7 + 7 =$

$6 + 9 =$

$8 + 8 =$

$4 + 7 =$

$11 - 7 =$

$12 - 9 =$

2. 填表。

被减数	16	15		14	18		
减数	8	8	10			8	9
差			6	7	9	9	9



退位减法(2)

1. 口算。

$6 + 9 =$

$7 + 9 =$

$15 - 6 =$

$13 - 7 =$

$15 - 9 =$

$13 - 6 =$

$8 + 7 =$

$7 + 9 =$

$15 - 8 =$

$16 - 7 =$

$15 - 7 =$

$16 - 9 =$

$7 + 6 =$

$8 + 8 =$

$13 - 2 =$

$16 - 8 =$

$4 + 8 =$

$9 + 2 =$

$12 - 4 =$

$11 - 2 =$

2. 两只兔子一共拔了 13 个萝卜。



$$\square \bigcirc \square = \square (\text{个})$$



口算题卡

一年级 上册 时间:____分____秒 家长评价:_____

退位减法(3)

1. 口算。

$14 - 7 =$

$15 - 8 =$

$17 - 9 =$

$15 - 6 =$

$16 - 8 =$

$13 - 6 =$

$13 - 7 =$

$16 - 7 =$

$14 - 8 =$

$11 - 6 =$

$15 - 7 =$

$13 - 9 =$

$11 - 7 =$

$14 - 6 =$

$12 - 8 =$

$12 - 9 =$

$11 - 4 =$

$11 - 9 =$

$12 - 6 =$

$12 - 4 =$

2.

我们一共要写16个毛笔字，
我已经写了8个。

那我还得写几个？



$\square \bigcirc \square = \square (\text{个})$



口算题卡

一年级 上册 时间:____分____秒 家长评价:_____

连减

1. $14 - 6 - 3 = \square$

\square

\square

$15 - 7 - 4 = \square$

\square

\square

$12 - 3 - 5 =$

$15 - 7 - 4 =$

$18 - 6 - 8 =$

$17 - 6 - 9 =$

$14 - 7 - 7 =$

$16 - 8 - 4 =$

$17 - 4 - 7 =$

$15 - 8 - 6 =$

$19 - 5 - 6 =$

$19 - 8 - 2 =$

$18 - 4 - 6 =$

$18 - 2 - 8 =$

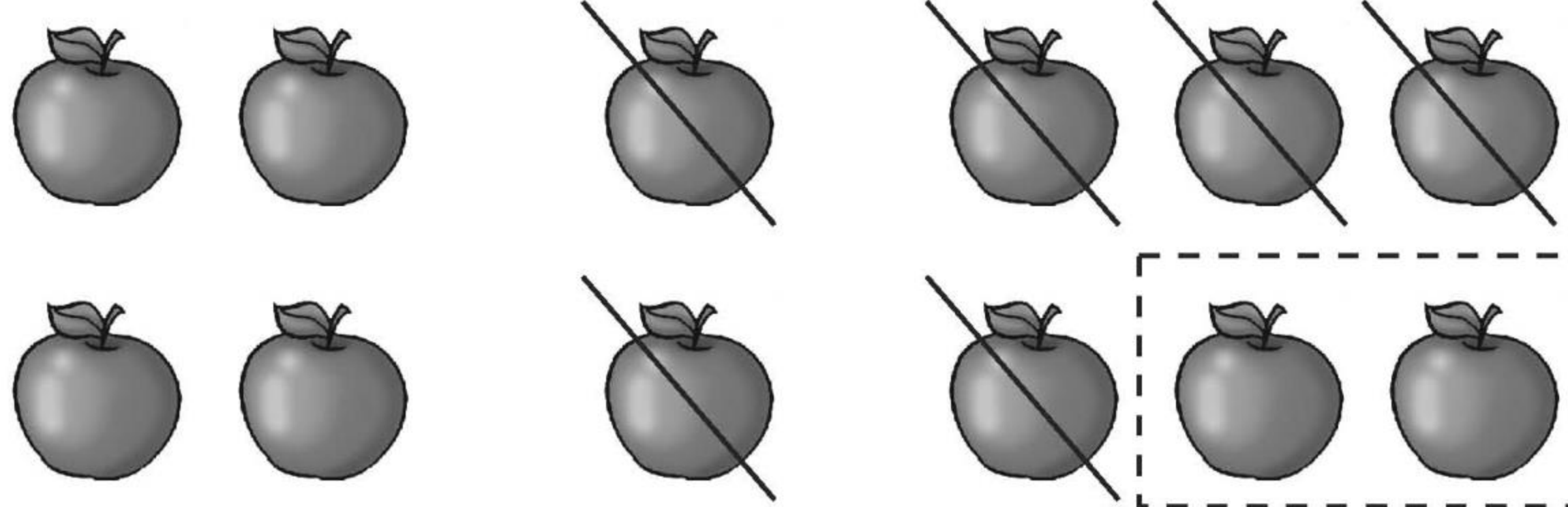
$11 - 2 - 4 =$

$13 - 2 - 9 =$

$15 - 3 - 4 =$

$19 - 9 - 8 =$

2.



$\square \bigcirc \square \bigcirc \square = \square (\text{个})$



口算题卡

一年级 上册 时间:____分____秒 家长评价:_____

加减混合(1)

1. 口算。

$6 + 4 - 3 =$

$3 + 3 + 9 =$

$8 - 3 + 7 =$

$14 - 7 + 6 =$

$15 - 9 + 8 =$

$14 - 3 - 2 =$

$9 + 2 + 3 =$

$17 - 5 - 8 =$

$14 - 7 + 6 =$

$16 - 8 + 7 =$

$13 + 2 - 8 =$

$15 - 7 + 6 =$

$9 + 7 - 4 =$

$14 - 7 + 6 =$

$11 - 3 + 9 =$

$6 + 6 - 7 =$


$7 + 4 - 9 =$

$6 + 7 - 4 =$

$15 - 6 - 3 =$

$6 + 6 - 8 =$

2.



$$\square \bigcirc \square \bigcirc \square = \square (\text{个})$$



口算题卡

一年级 上册 时间:____分____秒 家长评价:_____

加减混合(2)

1. 口算。

$7 + 3 - 2 =$

$14 - 3 + 7 =$

$6 + 8 - 6 =$

$7 + 2 + 6 =$

$5 + 5 + 5 =$

$7 + 2 + 4 =$

$6 + 6 - 3 =$

$5 + 6 - 7 =$

$5 + 4 + 4 =$

$6 + 2 + 8 =$

$7 - 3 + 8 =$

$11 + 1 + 5 =$

$2 + 7 + 3 =$

$5 + 4 + 7 =$

$3 + 4 + 6 =$

$12 - 2 + 3 =$

$3 + 8 - 6 =$

$4 + 3 + 6 =$

$1 + 8 + 5 =$

$4 + 4 - 8 =$

2.



一共有 条手帕, 王老师已经晾好了 6 条, 还要晾几条?

$$\square \bigcirc \square = \square (\text{条})$$



加减混合(3)

1. 算一算。

(1) $10 + 7 - 2 =$

(11) $14 - 7 + 2 =$

(2) $9 + 4 - 5 =$

(12) $7 + 3 + 1 =$

(3) $4 + 2 + 6 =$

(13) $8 + 9 - 2 =$

(4) $7 - 1 + 8 =$

(14) $12 - 3 + 1 =$

(5) $8 + 9 - 4 =$

(15) $13 - 8 + 4 =$

(6) $2 + 9 - 3 =$

(16) $7 + 2 + 9 =$

(7) $3 + 4 + 6 =$

(17) $6 + 3 + 2 =$

(8) $7 + 1 + 2 =$

(18) $15 - 6 - 1 =$

(9) $6 - 2 + 9 =$

(19) $10 - 3 - 0 =$

(10) $5 + 1 + 6 =$

(20) $10 - 8 - 2 =$

2. 看图写算式。



$\square + \square + \square = \square$ (只)



加减混合(4)

1. 口算。

(1) $2 + 6 + 7 =$

(11) $8 - 3 + 6 =$

(2) $11 - 7 + 9 =$

(12) $9 - 3 + 7 =$

(3) $9 + 4 - 4 =$

(13) $10 - 7 + 7 =$

(4) $5 + 4 + 6 =$

(14) $8 + 2 + 4 =$

(5) $6 + 8 - 4 =$

(15) $16 - 3 + 2 =$

(6) $17 - 9 + 2 =$

(16) $6 + 2 + 2 =$

(7) $12 - 4 - 1 =$

(17) $11 - 3 + 5 =$

(8) $3 + 6 - 5 =$

(18) $7 - 1 + 8 =$

(9) $16 - 5 + 4 =$

(19) $16 - 8 + 3 =$

(10) $12 - 4 + 8 =$

(20) $15 - 7 + 6 =$

2. 我会做。

树上有 14 只 , 飞走了 5 只, 又飞来了 3 只, 树

上现在有多少只  ?

$\square \bigcirc \square \bigcirc \square = \square$ (只)



探索乐园

1. 找规律画图。



2. 在□里填上合适的数。


$$8 + 7 = 7 + \square$$

$$9 + 8 = 8 + \square$$


$$6 + 7 = \square + 6$$

$$10 + 6 = \square + 10$$

3. 看图,按规律,填一填。



$$9 + \square = \square \quad 3 + \square = \square \quad 9 + \square = 3 + \square$$



$$\square + 6 = \square \quad \square + \square = \square \quad \square + \square = \square + \square$$



总复习(1)

1. 口算。

$14 + 2 =$

$13 + 5 =$

$15 - 3 =$

$18 - 4 =$

$19 - 6 =$

$17 - 3 =$

$10 + 0 =$

$9 + 9 =$

$16 - 8 =$

$9 + 8 =$

$9 + 4 =$

$7 + 6 =$

$7 + 7 =$

$16 - 7 =$

$19 - 4 =$

$8 + 7 =$



$15 + 2 =$

$19 - 5 =$

$9 + 6 =$

$14 - 9 =$

2. 算一算,填一填。

		
小红有	6 支	9 个
小明有	8 支	() 个
一共有	() 支	12 个



口算题卡

一年级 上册 时间:____分____秒 家长评价:_____

总复习(2)

1. 口算。

$10 + 7 =$

$4 + 3 =$

$13 - 5 =$

$11 + 3 =$

$14 - 7 =$

$13 - 8 =$

$9 + 6 =$

$13 + 3 =$

$8 + 8 =$

$7 + 4 =$

$15 - 8 =$

$17 - 5 =$

$8 + 9 =$

$16 - 8 =$

$6 + 7 =$

$7 + 8 =$


$9 + 9 =$

$9 + 4 =$

$8 - 5 =$

$17 - 2 =$

2.



有5只鸭子
上岸了。

河里还有
9只鸭子。



一共有几只鸭子?

$\square \bigcirc \square = \square (\text{只})$



总复习(3)

1. 口算。

(1) $14 - 6 =$

(11) $19 - 4 =$

(2) $17 - 3 =$

(12) $17 + 2 =$

(3) $15 - 9 =$

(13) $17 - 5 =$

(4) $9 + 8 =$

(14) $18 - 6 =$

(5) $14 - 8 =$

(15) $9 + 5 =$

(6) $13 - 8 =$

(16) $18 - 3 =$

(7) $14 - 9 =$

(17) $16 - 0 =$

(8) $15 - 8 =$

(18) $16 + 3 =$

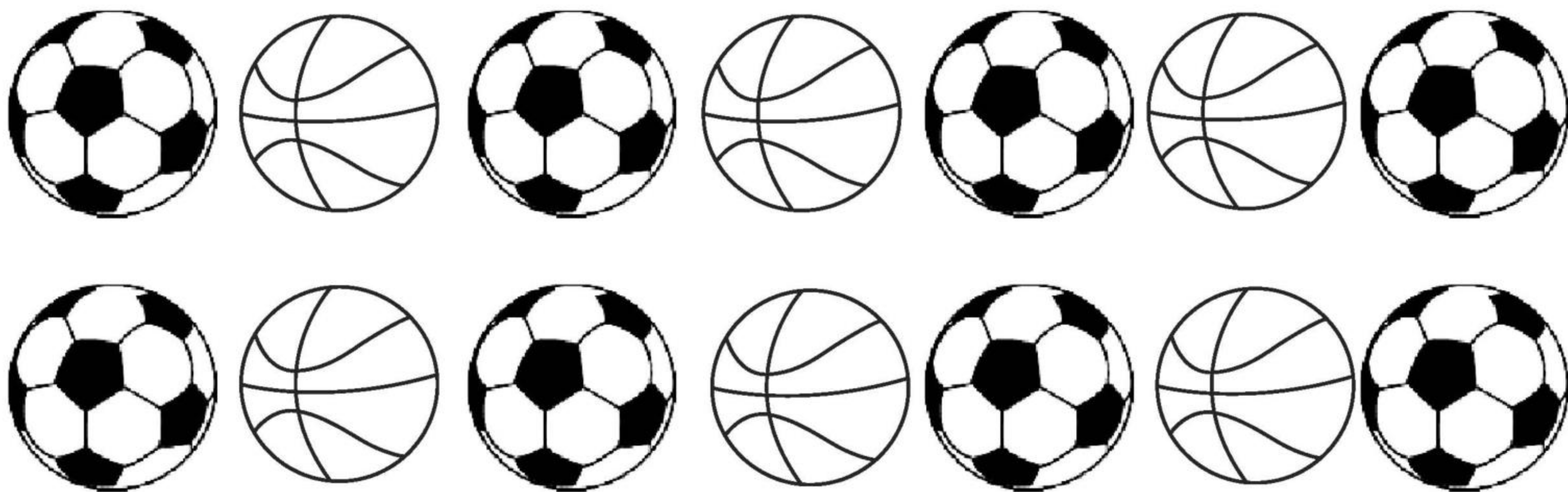
(9) $11 - 6 =$

(19) $16 + 2 =$

(10) $13 - 7 =$

(20) $15 + 2 =$

2.



一共有多少个球?

方法 1: $\square \bigcirc \square = \square$ (个)

方法 2: $\square \bigcirc \square = \square$ (个)



口算题卡

一年级 上册 时间:____分____秒 家长评价:_____

总复习(4)

1. 口算。

(1) $9 + 2 =$

(2) $3 + 9 =$

(3) $2 + 8 =$

(4) $13 - 8 =$

(5) $1 + 9 =$

(6) $6 + 5 =$

(7) $6 + 9 =$

(8) $6 + 7 =$

(9) $9 + 7 =$

(10) $6 + 6 =$

(11) $15 - 6 =$

(12) $4 + 8 =$

(13) $8 + 5 =$

(14) $5 + 7 =$

(15) $9 + 9 =$

(16) $9 + 3 =$

(17) $8 + 7 =$

(18) $6 + 8 =$

(19) $16 - 9 =$

(20) $18 - 9 =$

2.

送给了王奶奶8个。



还剩下9个。



原来一共有多少个?

$\square \bigcirc \square = \square (\text{个})$