



黄冈360° 口算题卡

教辅资料站



电子教辅 试卷练习
知识总结 备课资源

—— 扫码关注获取更多学习资料 ——

一年级
上册

BSD

周虹雨 编 周学海 主编

书山有路勤为径
学海无涯苦作舟



吉林教育出版社
JILIN EDUCATION PUBLISHING HOUSE



黄冈360°数学 _____年____月____日 星期____





BSD

口算题卡




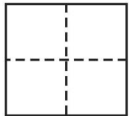
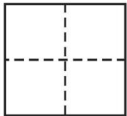
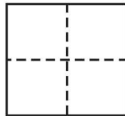


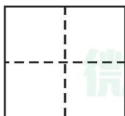
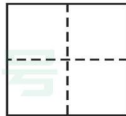
一年级 上册 时间:____分____秒 家长评价:_____

1~5 的认识(1)

1. 看数,圈一圈。

	
3	5
	
4	1

2. 看图写数。



黄冈360°数学 _____年____月____日 星期____

BSD

口算题卡

一年级 上册 时间：____分____秒 家长评价：_____

1~5 的认识(2)

1. 看数涂上你喜欢的颜色。



3



4

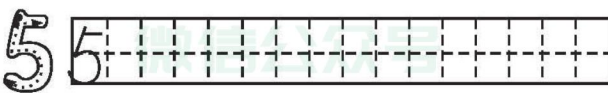
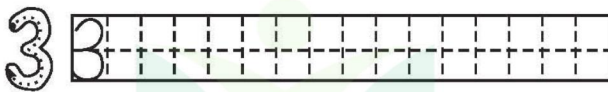
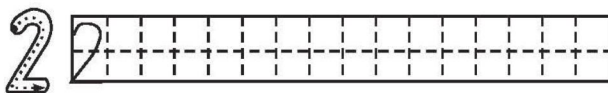
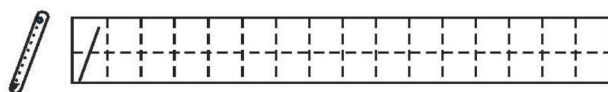


2



5

2. 写一写。



教辅资料站



黄冈360°数学 _____年____月____日 星期____

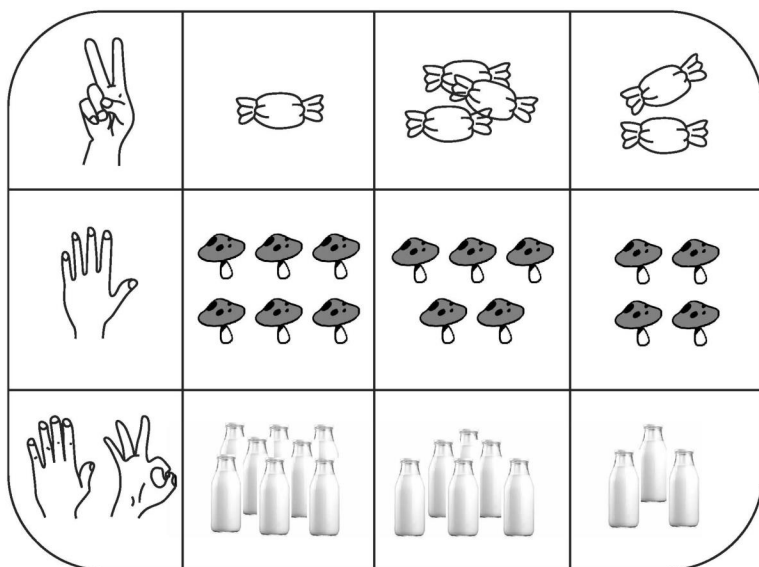
BSD

口算题卡

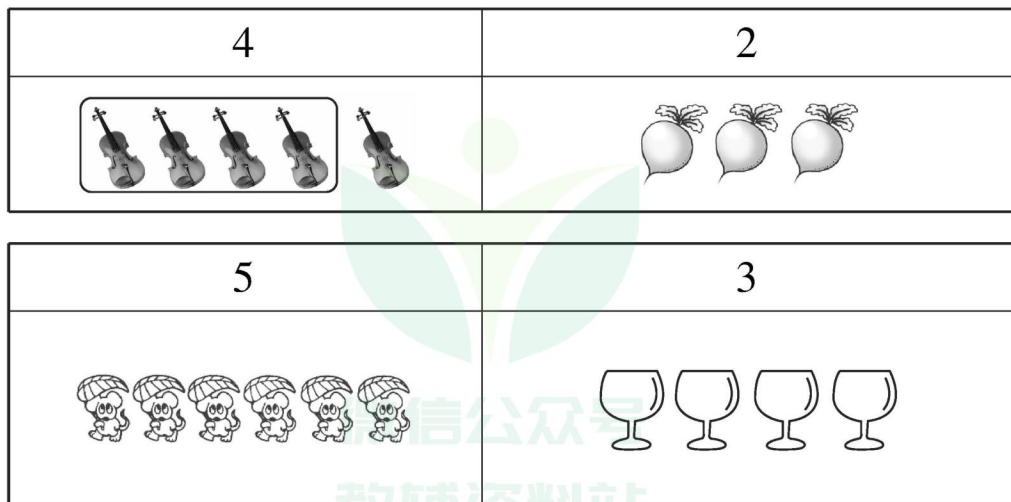
一年级 上册 时间：____分____秒 家长评价：_____

1~5 的认识(3)

1. 手指表示的是哪幅图, 把它圈出来。



2. 照样子看数、圈图形。





黄冈360°数学 _____年____月____日 星期____




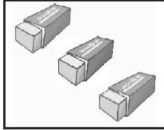



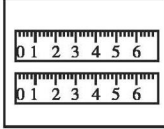


BSD

口算题卡

一年级 上册 时间:____分____秒 家长评价:_____

1~5 的认识(4)

1. 照样子连一连。

	3	
	6	
	1	
	8	
	7	
	9	
	2	
	4	
	5	
	10	

2. 滑滑梯。





口算题卡

一年级 上册 时间:____分____秒 家长评价:_____

0 ~ 10 的认识(1)

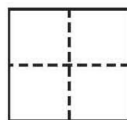
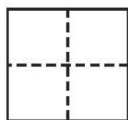
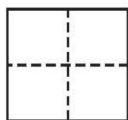
1. 找一找生活中的“0”。

0 可以表示 _____

0 可以表示 _____

0 可以表示 _____

2. 数一数有几朵花。



3. 画一画。

画 3 个○: _____

画 6 个△: _____

画 2 个□: _____





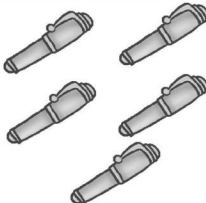





口算题卡

一年级 上册 时间：____分____秒 家长评价：_____

0 ~ 10 的认识(2)

1. 给正确的数打“√”。

 (3 4 5)	 (1 3 4)	 (3 4 5)
 (2 3 4)	 (5 4 3)	 (1 2 3)

2. 看数,照样子画线。

○○○○○ ○	1
○○○○○	2
○○○○○	3
○○○○○	4
○○○○○	5

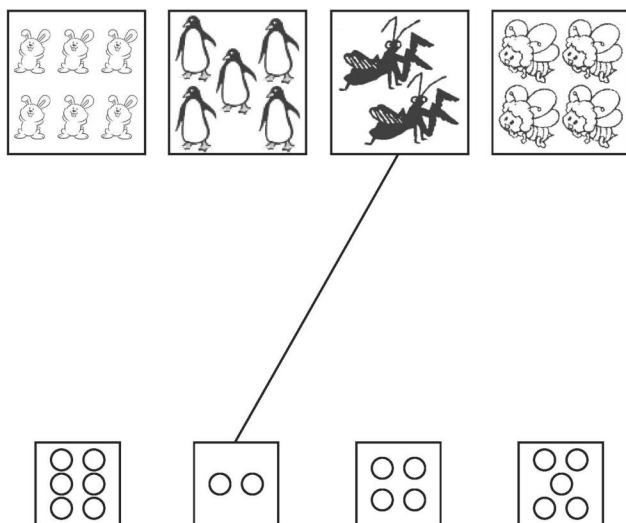


口算题卡


一年级 上册 时间：____分____秒 家长评价：_____

比多少(1)

1. 把同样多的连起来。



2. 在多的后面画“√”。








口算题卡

一年级 上册 时间:____分____秒 家长评价:_____

比多少(2)

在多的后面画“√”，在少的后面画“○”。



微信公众号
教辅资料站









口算题卡

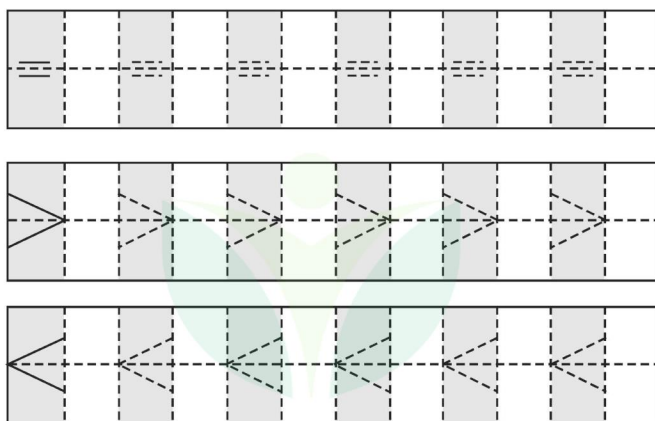
一年级 上册 时间：____分____秒 家长评价：_____

比大小·(1)

1. 比一比。

 	 	 
3 ○ 3	3 ○ 4	8 ○ 4

2. 描一描。



微信公众号
教辅资料站






口算题卡



一年级 上册 时间:____分____秒 家长评价:_____

比大小·(2)

1. 数一数,比一比。



	
()朵	()只

	
()棵	()只

□○□

□○□

2. 在○里填上“>”“<”或“=”。

3○4

9○3

8○2

2○9

10○5

6○4

6○2

4○8

7○2

2○2

4○9

4○1

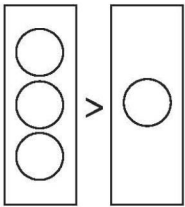
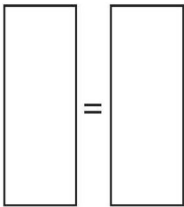
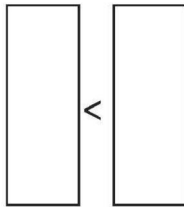
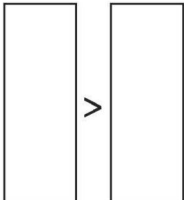
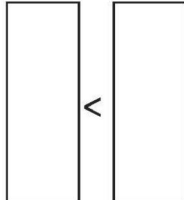


口算题卡

一年级 上册 时间：____分____秒 家长评价：_____

比大小·(3)

1. 照样子，画○表示上面的数。

$3 > 1$ 	$(1) 2 = 2$ 	$(2) 4 < 8$ 
$(3) 6 > 4$ 	$(4) 1 < 10$ 	

2. 数一数，比一比。

<p>(1)  ()</p> <p> ()</p> <p><input type="text"/> <input type="text"/> <input type="text"/></p>	<p>(2)  ()</p> <p> ()</p> <p><input type="text"/> <input type="text"/> <input type="text"/></p>
<p>(3)  ()</p> <p> ()</p> <p><input type="text"/> <input type="text"/> <input type="text"/></p>	<p>(4)  ()</p> <p> ()</p> <p><input type="text"/> <input type="text"/> <input type="text"/></p>
<p>(5)  ()</p> <p> ()</p> <p><input type="text"/> <input type="text"/> <input type="text"/></p>	




口算题卡

一年级 上册 时间:____分____秒 家长评价:_____

比较

1. 想一想,填一填。



比较三块西瓜,
()号西瓜最大,
()号西瓜最小。



有三杯同样多的饮料,明
明、笑笑、淘淘各喝一杯,但
都没喝完。()喝得最
多,()喝得最少。

2. 比一比。

(1) 在高的下面画“√”



(2) 在厚的下面画“√”



(3) 在重的下面画“√”



(4) 在轻的下面画“√”






口算题卡

一年级 上册 时间:____分____秒 家长评价:_____

加法(1)

说一说,填一填。

1.



小女孩右手有 3 支 , 左手有 2 支 , 把它们合并在一起, 一共有 支 , 可以用加法计算。

$$3 + 2 = \square$$

读作: 加 等于 。

2.



树枝上原来有 2 只鸟, 又飞来了 只, 把它们合并在一起, 一共有 只鸟, 可以用加法计算。

$$2 + \square = \square$$

读作: 加 等于 。

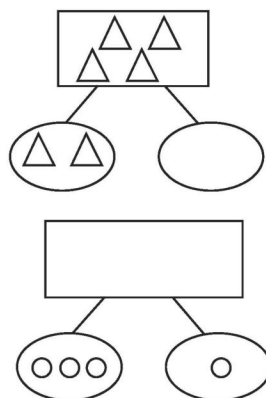
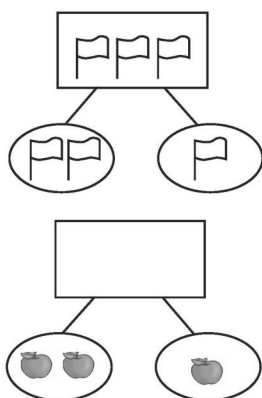


口算题卡

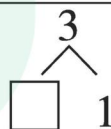
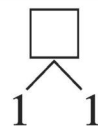

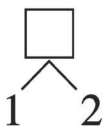
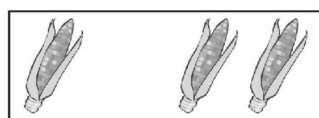
一年级 上册 时间：____分____秒 家长评价：_____

加法(2)

1. 照样子，画一画。



2. 看图填数。



微信公众号
教辅资料站




口算题卡


一年级 上册 时间：____分____秒 家长评价：_____

加法(3)


1. 看图填空。




$2 + 2 = \square$



$4 + 1 = \square$



$3 + 2 = \square$



$2 + 1 = \square$

2. 读一读,写一写。

$1+2=3$

$2+2=4$

$1+2=3$

$\square + \square = \square$

$2+1=3$

$3+2=5$

$\square + \square = \square$

$\square + \square = \square$

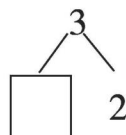
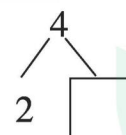
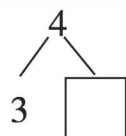
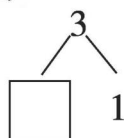
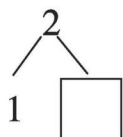


口算题卡

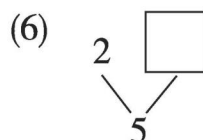
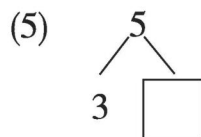
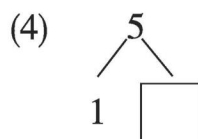
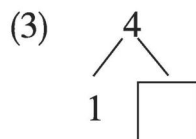
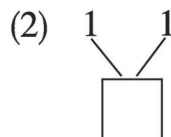
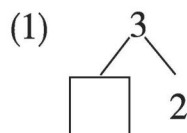
一年级 上册 时间:____分____秒 家长评价:_____

加法(4)

1. 看图填数。



2. 填一填。





口算题卡

一年级 上册 时间:____分____秒 家长评价:_____

加法(5)

1. 算一算。

$1 + 2 =$

$2 + 2 =$

$1 + 3 =$

$4 + 1 =$

$1 + 1 =$

$3 + 2 =$

$3 + 1 =$

$1 + 4 =$

$2 + 1 =$

$2 + 3 =$

2. 比一比。

$1 + 3 \bigcirc 3$

$3 + 2 \bigcirc 1$

$1 + 4 \bigcirc 3$

$2 + 1 \bigcirc 4$

$1 + 1 \bigcirc 2$

$4 + 1 \bigcirc 5$

$2 + 3 \bigcirc 5$

$2 + 2 \bigcirc 5$

$3 + 1 \bigcirc 3$

$1 + 2 \bigcirc 4$

3. 根据算式画一画,算一算。

$2 + 2 = 4$  	$1 + 3 =$
$2 + 3 =$	$2 + 1 =$



口算题卡

一年级 上册 时间:____分____秒 家长评价:_____

加法(6)

我能填得对。



$$(\quad) + (\quad) = (\quad)$$



$$(\quad) + (\quad) = (\quad)$$



$$(\quad) + (\quad) = (\quad)$$



$$(\quad) + (\quad) = (\quad)$$



$$(\quad) + (\quad) = (\quad)$$



$$(\quad) + (\quad) = (\quad)$$



黄冈360°数学 _____年____月____日 星期____

BSD

口算题卡

一年级 上册 时间：____分____秒 家长评价：_____

加法(7)

看图填空。

1.



$$3+2=\square$$

$$2+3=\square$$

2.



$$3+1=\square$$

$$1+\square=\square$$

3.



$$\square+\square=\square$$

4.



$$\square+\square=\square$$

$$\square+\square=\square$$



微信公众号
教辅资料站



加法(8)

请在正确的答案上涂上你喜欢的颜色。

(1) $2 + 1 =$  

(2) $1 + 3 =$  

(3) $1 + 1 =$  

(4) $2 + 2 =$  

(5) $3 + 2 =$  


(6) $1 + 2 =$  

(7) $1 + 4 =$  

(8) $4 + 1 =$  

(9) $2 + 3 =$  

(10) $3 + 1 =$  



加法(9)

1. 口算。

(1) $1 + 2 =$

(11) $1 + 0 =$

(2) $1 + 1 =$

(12) $3 + 0 =$

(3) $4 + 1 =$

(13) $0 + 1 =$

(4) $3 + 1 =$

(14) $0 + 2 =$

(5) $1 + 4 =$

(15) $3 + 2 =$

(6) $4 + 0 =$

(16) $3 + 3 =$

(7) $0 + 3 =$

(17) $2 + 2 =$

(8) $0 + 4 =$

(18) $2 + 3 =$

(9) $0 + 5 =$

(19) $2 + 1 =$

(10) $5 + 0 =$

(20) $2 + 0 =$

2. 在括号里填上合适的数。

(1) $3 + () = 5$

(6) $() + 0 = 5$

(2) $4 + () = 5$

(7) $() + 1 = 3$

(3) $2 + () = 4$

(8) $4 + () = 4$

(4) $() + 1 = 4$

(9) $1 + () = 4$

(5) $() + 2 = 5$

(10) $3 + () = 3$



口算题卡

一年级 上册 时间:____分____秒 家长评价:_____

加法(10)

1. 口算。

$1 + 1 =$

$2 + 3 =$

$2 + 2 =$

$4 + 1 =$

$2 + 1 =$

$1 + 4 =$

$3 + 2 =$

$3 + 1 =$

$0 + 5 =$

$4 + 0 =$

2. 比大小。

$4 + 1 \bigcirc 4$

$1 + 2 \bigcirc 3$

$1 + 1 \bigcirc 2$

$1 + 4 \bigcirc 5$

$2 + 2 \bigcirc 3$

$2 + 3 \bigcirc 4$

$3 + 2 \bigcirc 5$

$1 + 3 \bigcirc 5$


$3 + 1 \bigcirc 3$

$4 + 0 \bigcirc 4$

3. 我会做。



一共有多少只小白兔?




$\square + \square = \square$



减法(1)

说一说,填一填。

(1)





荷叶上原来有3只 ,跳走了1只,还剩下 只 ,可以用减法计算。

$$3 - 1 = \square$$

读作: 减 等于 。

(2)



原来有4个 ,小刺猬背走了 个,还剩下 个 ,可以用减法计算。

$$4 - \square = \square$$

读作: 减 等于 。



减法(2)

1. 先画线,再填得数。

$$4-2=\square$$



$$3-1=\square$$



$$2-1=\square$$



$$5-2=\square$$




$$4-1=\square$$




$$5-4=\square$$



2. 看图列式计算。




$$3-2=\square$$




$$5-\square=\square$$



$$\square-\square=\square$$



$$\square-\square=\square$$











口算题卡

一年级 上册 时间:____分____秒 家长评价:_____

减法(3)

1. 送信。

 $2+2$	$\overline{\quad}$ 1	$3+2$ 
 $0+4$	$\overline{\quad}$ 2	$0+5$ 
 $5-4$	$\overline{\quad}$ 3	$3-2$ 
 $4-2$	$\overline{\quad}$ 4	$1+2$ 

2. $4 + 0 = \square$

$5 + 2 = \square$

$4 - 0 = \square$

$3 - 2 = \square$

$2 + 1 = \square$

$2 + 2 = \square$

$2 - 1 = \square$

$2 - 2 = \square$

3. $4 = \square + \square$

$4 = \square + \square$

$4 = \square + \square$

$4 = \square + \square$



口算题卡

一年级 上册 时间:____分____秒 家长评价:_____

减法(4)

照样子,填一填。



$$\boxed{5} - \boxed{4} = \boxed{1}$$



$$\square - \square = \square$$



$$\square - \square = \square$$




$$\square - \square = \square$$



$$\square - \square = \square$$



$$\square - \square = \square$$



$$\square - \square = \square$$



$$\square - \square = \square$$



$$\square - \square = \square$$




减法(5)

1. 连一连。



$4-1$



$2+0$



$3+2$



$5-5$



2



3




0



5



$5+0$



$5-3$



$5-0$



$3-3$

2. 还有几个😊?



$5 - \square = \square$



$5 - \square = \square$



$5 - \square = \square$



$5 - \square = \square$



5 以内的加减法(1)

1. 算一算。

(1) $3 - 1 =$

(2) $1 + 0 =$

(3) $0 + 3 =$

(4) $4 - 3 =$

(5) $4 + 0 =$

(6) $5 - 5 =$

(7) $2 + 3 =$

(8) $4 - 1 =$

(9) $5 - 3 =$

(10) $0 + 5 =$

2. 在()里填上合适的数。

(1) $0 + 2 = ()$

(2) $1 - () = 0$

(3) $5 - () = 5$

(4) $() + 0 = 5$

(5) $() - 1 = 2$

(6) $3 + () = 3$

(7) $3 - 0 = ()$

(8) $0 + () = 4$

(9) $4 - () = 0$

(10) $() - 5 = 0$

3. 看图写一写。



$5 - \square = \square$



$5 - \square = \square$



5 以内的加减法(2)

1. 填一填。

(1) $5 - () = 3$

(2) $4 - () = 1$

(3) $5 - () = 4$

(4) $3 - () = 2$

(5) $2 - () = 1$

(6) $5 - () = 2$

(7) $3 - () = 1$

(8) $5 - () = 4$

(9) $() - 2 = 3$

(10) $() - 4 = 1$

2. 在○里填上“>”“<”

或“=”。

$5 - 1 \bigcirc 4$ $4 - 2 \bigcirc 3$

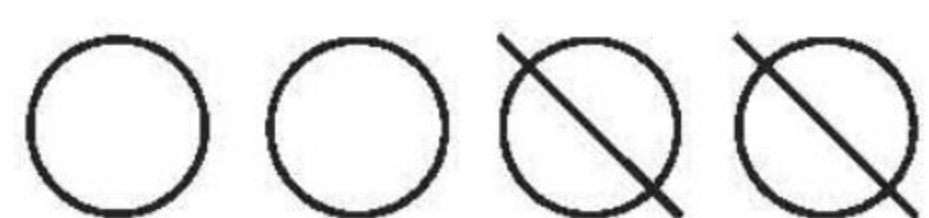
$5 - 2 \bigcirc 4$ $3 - 1 \bigcirc 2$

$5 - 3 \bigcirc 2$ $4 - 3 \bigcirc 1$

$4 - 1 \bigcirc 2$ $1 + 2 \bigcirc 3$

$2 + 2 \bigcirc 5$ $5 - 4 \bigcirc 2$


3. 照样子,划一划,填一填。



$4 - 2 = \square$



$5 - 3 = \square$



$4 - 1 = \square$



$5 - \square = \square$



口算题卡

一年级 上册 时间:____分____秒 家长评价:_____

5 以内的加减法(3)

1. 口算。

$3 + 0 =$

$3 + 2 =$

$2 + 2 =$

$5 - 0 =$

$1 - 1 =$

$4 - 1 =$

$3 - 3 =$

$4 + 1 =$

$4 - 3 =$

$5 - 2 =$

$1 - 0 =$

$5 - 1 =$

$0 + 4 =$

$3 - 0 =$

$5 - 4 =$

$5 - 3 =$

$5 - 3 =$

$4 + 1 =$

$0 + 2 =$

$3 + 2 =$



一共有多少
朵小花?



$\square \bigcirc \square = \square$



5 以内的加减法(4)

1. 连一连。

$4 + 0$

$5 - 0$

$3 - 3$

$1 + 2$

$5 - 4$

$2 + 2$

$4 - 4$

$1 + 4$

$0 + 2$

$3 - 0$

0

1

2

3

4

5

$3 + 2$

$4 - 1$

$3 + 1$

$5 - 3$

$5 - 5$

$1 + 0$


$2 - 0$

$4 - 3$

$5 - 1$

$2 - 2$

2. 看图填空。




$$\square \bigcirc \square = \square$$

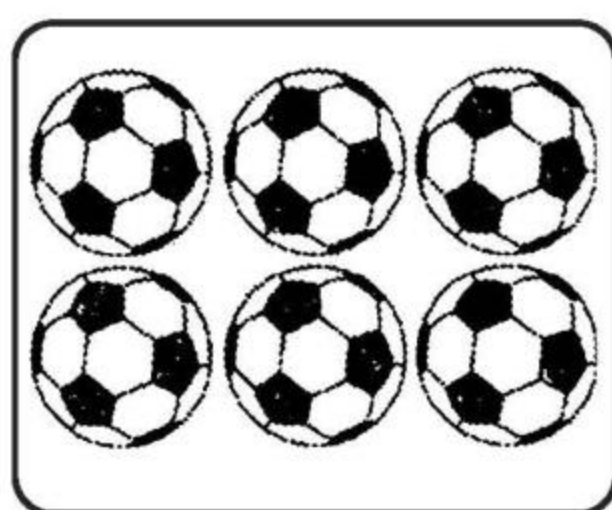


6 和 7 的认识(1)

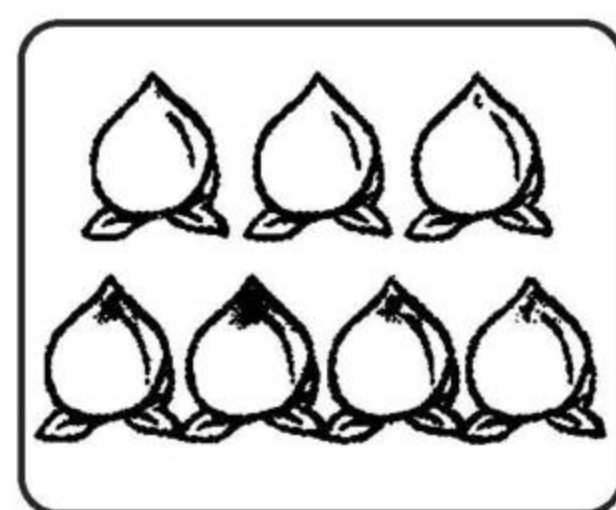
1. 看图写数。



()



()

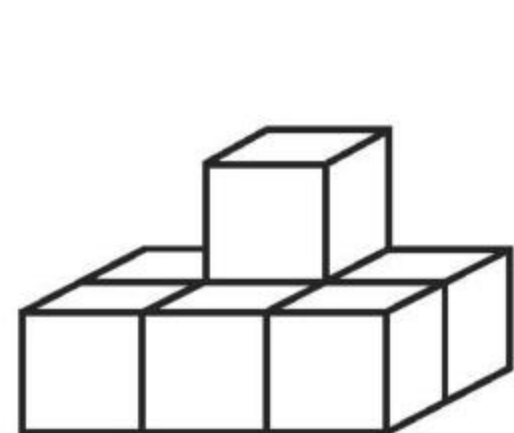


()

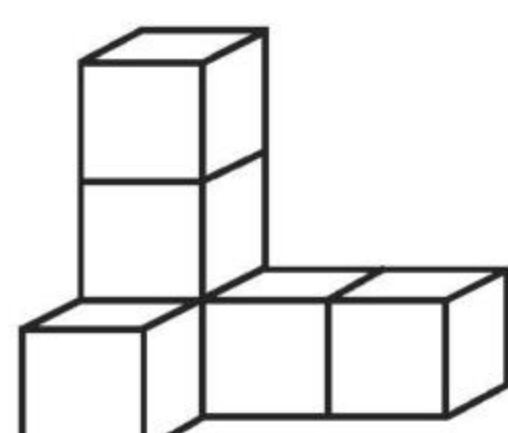
2. 按顺序填数。

0	1		3		5		
---	---	--	---	--	---	--	--

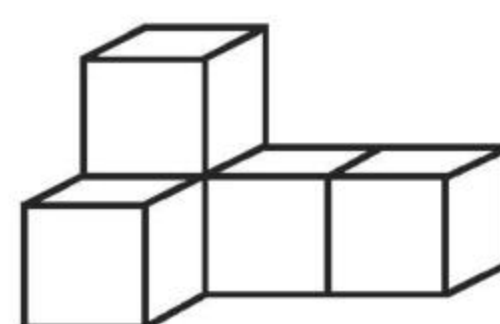
3. 数一数, 比一比。





() 个



() 个



() 个



4. 在○里填上“>”“<”或“=”。

$5 \bigcirc 6$

$6 \bigcirc 6$

$7 \bigcirc 6$

$6 \bigcirc 7$

$4 \bigcirc 6$

$7 \bigcirc 5$




6 和 7 的认识(2)

1. 把下面的数字按从大到小的顺序排一排。



2.

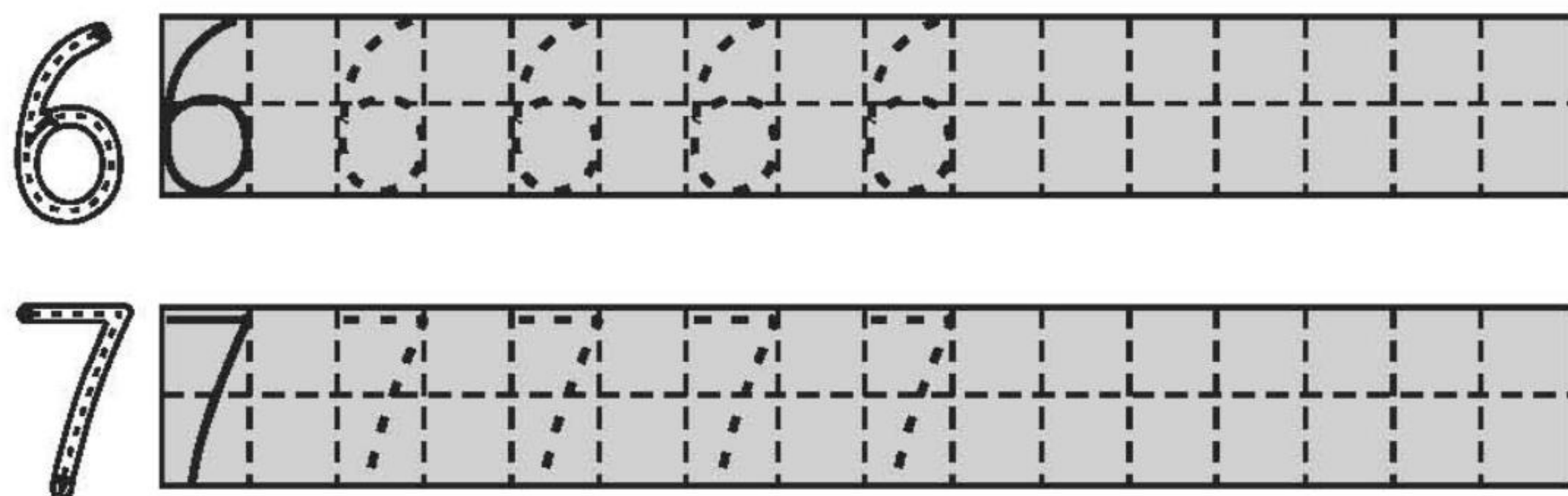


(1) 把从左数第 7 只小企鹅涂上你喜欢的颜色。

(2) 在从右数第 6 只小企鹅的头上画 1 个○。

(3) 把右边的 6 只小企鹅圈起来。

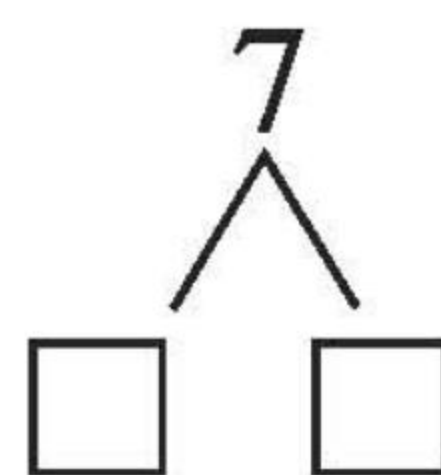
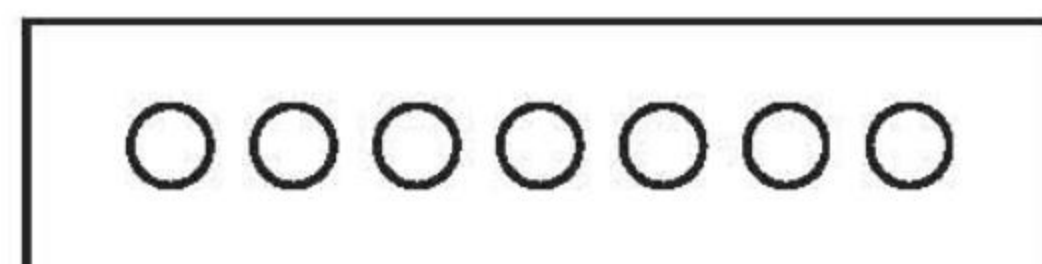
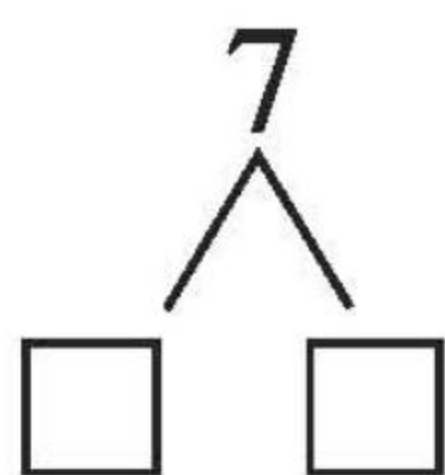
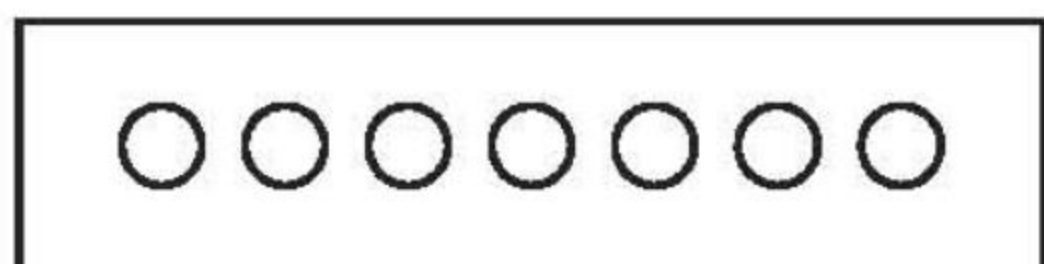
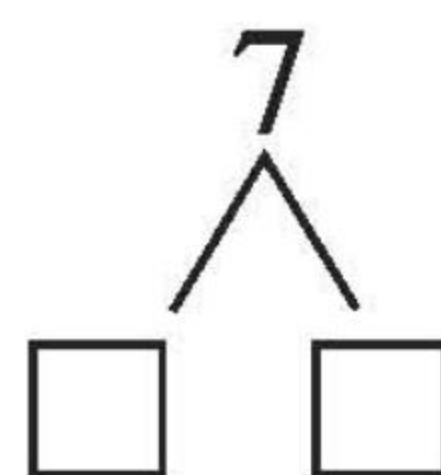
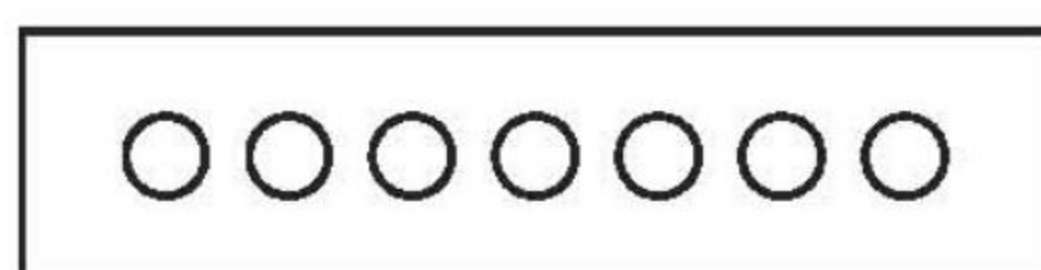

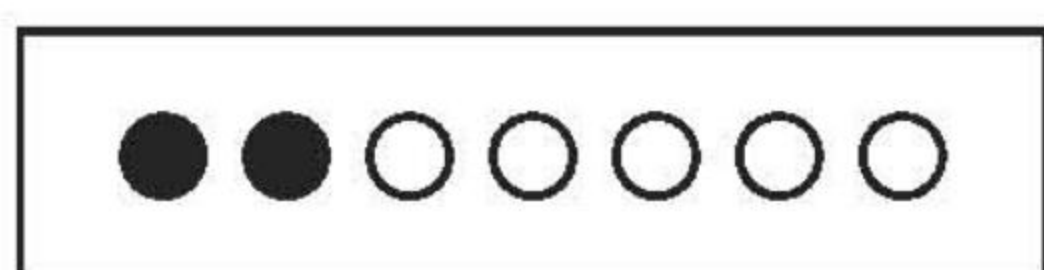
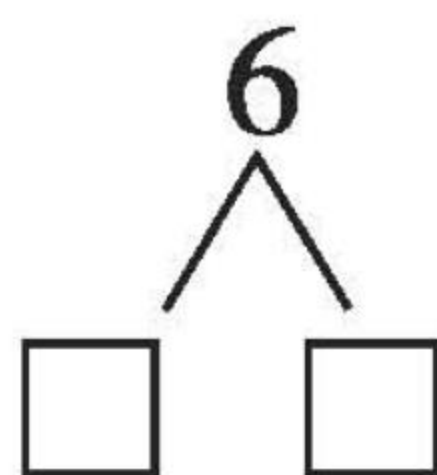
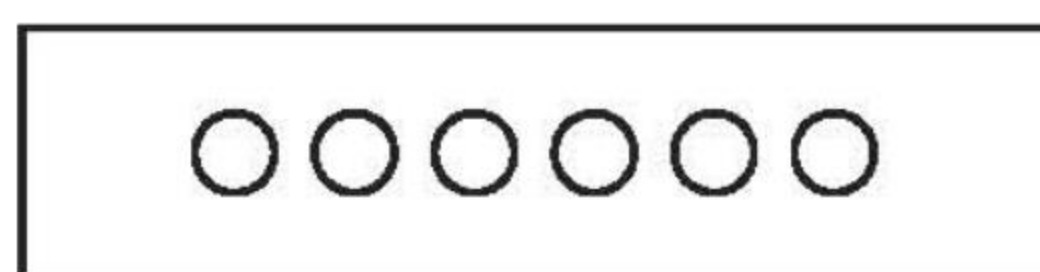
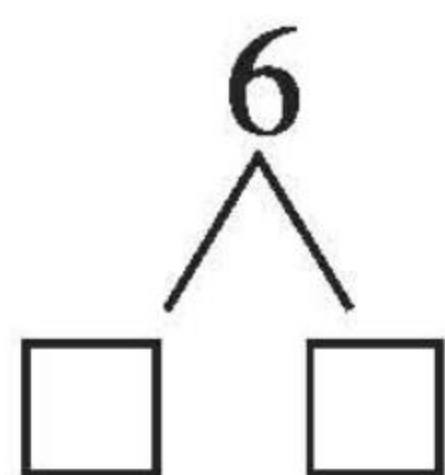
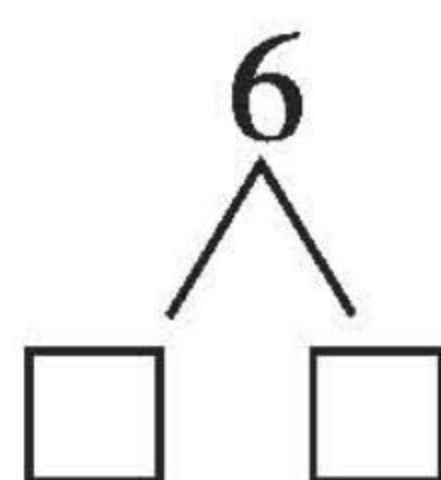

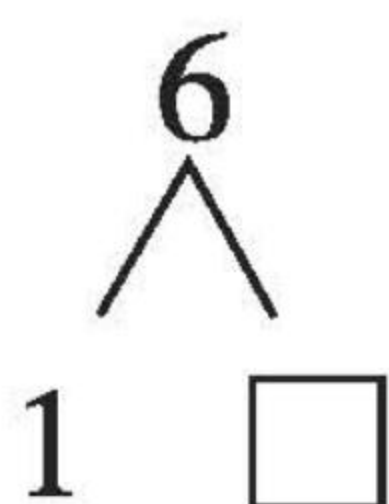

3. 描一描,写一写。





6 和 7 的组成(1)

分一分,涂一涂,填一填。

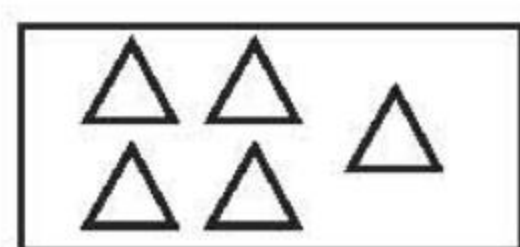
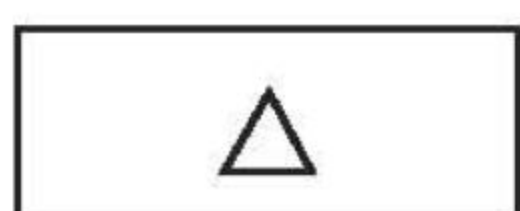
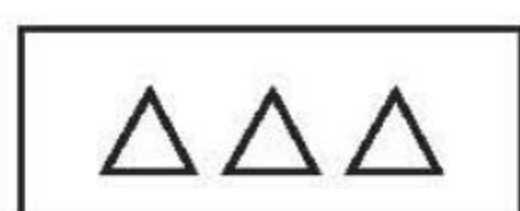
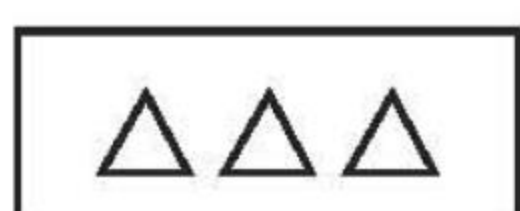
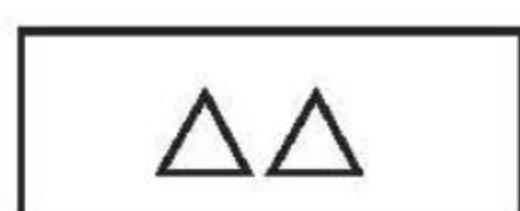




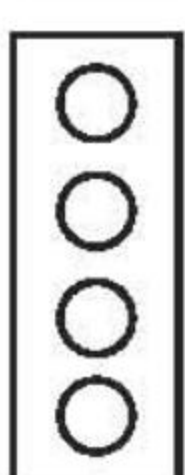




6 和 7 的组成(2)

1. 连一连。

(1) 合起来是 6。



(2) 合起来是 7。



2. 填一填。


$\begin{array}{c} 6 \\ \swarrow \searrow \end{array}$	$\begin{array}{c} 7 \\ \swarrow \searrow \end{array}$	$\begin{array}{c} 7 \\ \swarrow \searrow \end{array}$
2 ()	5 ()	3 ()



6 和 7 的加减法(1)

1. 摆一摆,填一填。

(1)




$2+4=\square$

$6-4=\square$

$4+2=\square$

$6-2=\square$

(2)



$4+3=\square$

$7-3=\square$

$3+4=\square$

$7-4=\square$

2. 比大小。

$7 \bigcirc 2+3$

$6 \bigcirc 4+1$

$7-2 \bigcirc 5$

$4+3 \bigcirc 8$



6 和 7 的加减法(2)

1. 拔萝卜。(连线)

6-1

3+2

6-0

3+3

2

6

5

5+1

7-5

7-2

6-4

2. 抄写算式并计算。

2 + 4 =

7 - 3 =

5 + 0 =

3.

6-

6	5	4	3	2	1	0
0						

7-

1	6	2	5	3	4	0	7



6 和 7 的加减法(3)

1. 在○里填上“+”或“-”。

(1) $4 \bigcirc 3 = 7$

(11) $6 \bigcirc 2 = 4$

(2) $5 \bigcirc 2 = 7$

(12) $3 \bigcirc 3 = 6$

(3) $7 \bigcirc 5 = 2$

(13) $3 \bigcirc 2 = 5$

(4) $7 \bigcirc 6 = 1$

(14) $6 \bigcirc 1 = 5$

(5) $7 \bigcirc 1 = 6$

(15) $2 \bigcirc 4 = 6$

(6) $5 \bigcirc 2 = 7$

(16) $2 \bigcirc 2 = 4$

(7) $3 \bigcirc 0 = 3$

(17) $1 \bigcirc 5 = 6$

(8) $3 \bigcirc 2 = 5$

(18) $4 \bigcirc 1 = 5$

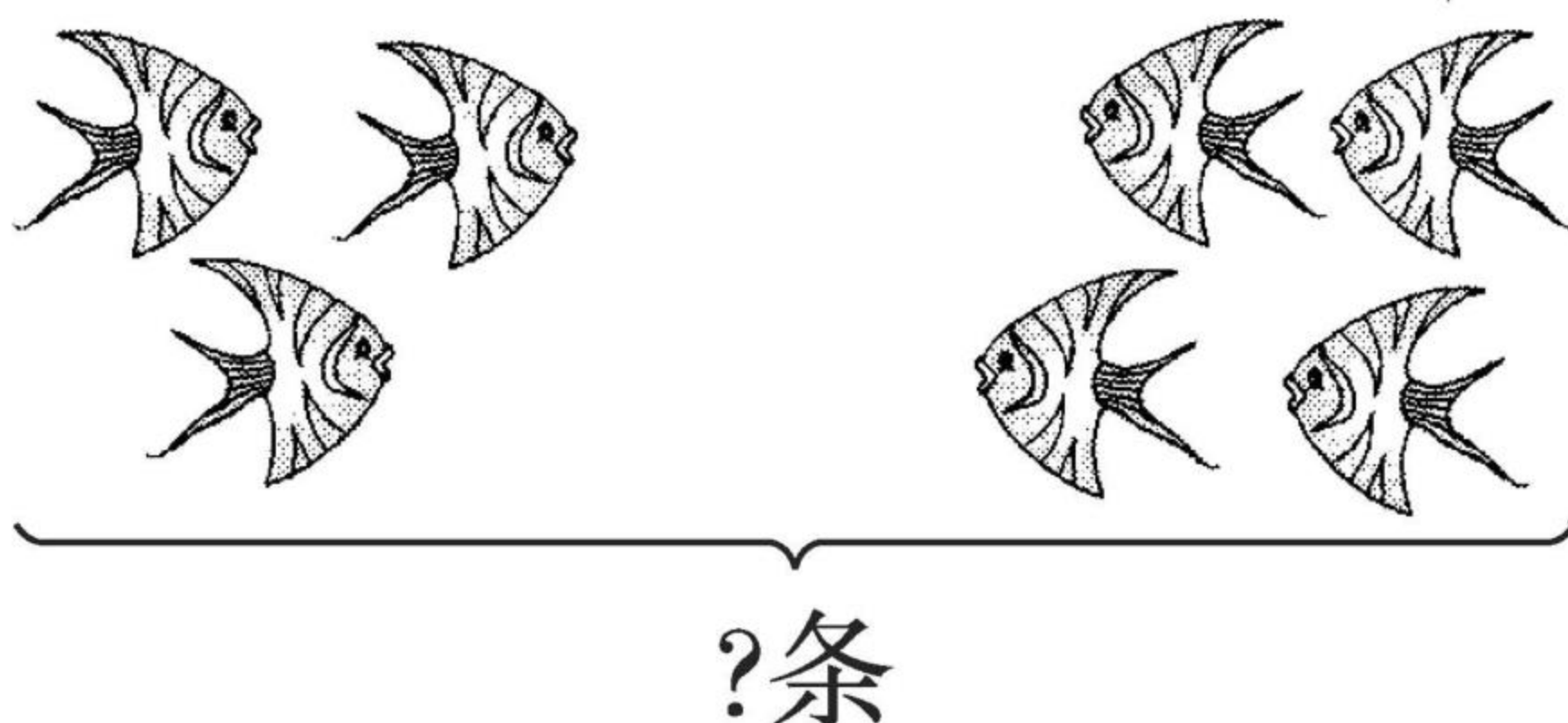
(9) $4 \bigcirc 2 = 6$

(19) $4 \bigcirc 2 = 2$

(10) $7 \bigcirc 2 = 5$

(20) $5 \bigcirc 0 = 5$

2. 看图写算式。



左边有□条,右边有□条。一共有几条?

□○□=□



6 和 7 的加减法(4)

1. 在()里填上合适的数。

(1) $7 - () = 4$

(11) $2 + () = 5$

(2) $6 - () = 4$

(12) $7 - () = 0$

(3) $5 + () = 6$

(13) $3 + () = 4$

(4) $3 + () = 6$

(14) $7 - () = 5$

(5) $7 - () = 2$

(15) $5 + () = 7$

(6) $1 + () = 6$

(16) $3 + () = 7$

(7) $7 - () = 1$

(17) $7 - () = 3$

(8) $6 + () = 7$

(18) $4 + () = 6$

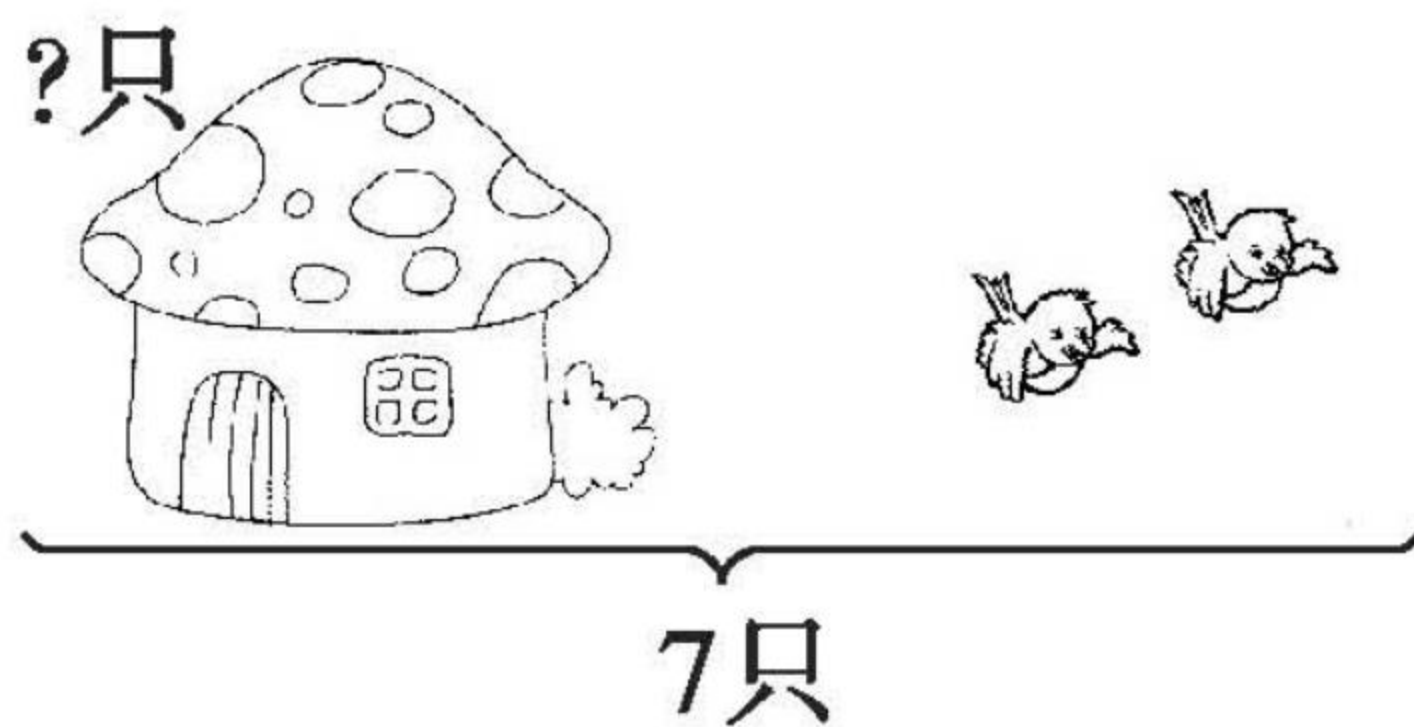
(9) $5 - () = 2$

(19) $6 - () = 3$

(10) $6 - () = 3$

(20) $1 + () = 7$

2. 解决问题。



一共有 只鸟, 飞走了 只, 房子里还有几只鸟?

\bigcirc $=$



黄冈360°数学 _____年____月____日 星期____

BSD

口算题卡

一年级 上册 时间:____分____秒 家长评价:_____

6 和 7 的加减法(5)

1. 口算。

$2 + 5 =$

$6 - 1 =$

$6 - 5 =$

$3 + 3 =$

$4 + 2 =$

$6 - 2 =$

$6 - 3 =$

$3 + 4 =$

$4 + 3 =$

$7 - 4 =$

$7 - 2 =$

$5 + 1 =$

$6 + 1 =$

$7 - 5 =$

$7 - 1 =$

$6 + 0 =$

$0 + 6 =$

$6 - 6 =$

$7 - 0 =$

$0 + 7 =$

2. 比大小。

$7 \bigcirc 5 + 1$

$7 - 6 \bigcirc 3$

$2 \bigcirc 6 - 4$

$2 + 3 \bigcirc 8$

$5 \bigcirc 3 + 3$

$7 - 2 \bigcirc 6$



黄冈360°数学 _____年____月____日 星期____

BSD

口算题卡

一年级 上册 时间:____分____秒 家长评价:_____

6 和 7 的加减法(6)

1. 口算。

$3 + 4 =$

$5 + 2 =$

$6 + 0 =$

$5 + 1 =$

$7 - 3 =$

$7 - 2 =$

$0 + 6 =$

$7 - 1 =$

$4 + 2 =$

$6 - 4 =$

$7 - 4 =$

$2 + 3 =$

$2 + 4 =$

$6 - 5 =$

$4 - 1 =$

$7 - 7 =$

$3 + 3 =$

$6 - 3 =$

$7 - 5 =$

$6 + 1 =$

2. 比大小。

$2 + 5 \bigcirc 3 + 2$

$3 + 4 \bigcirc 4 + 2$

$1 + 4 \bigcirc 5 + 2$

$7 - 4 \bigcirc 7 - 5$

$7 - 3 \bigcirc 4 + 1$

$4 + 1 \bigcirc 6 - 5$



8 和 9 的认识

1. 按顺序填数。

(1)

()	1	()	3	()	5	6	7	()	()
-----	---	-----	---	-----	---	---	---	-----	-----

①8 前面一个数是(),后面一个数是()。

②与 7 相邻的两个数是()和()。



2. 数一数,填一填。

我排第1。


我排第()。



(1)一共有()只可爱的小猴子。

(2)把左边的 6 只小猴子圈起来。

(3)把从右数第 9 只小猴子涂上黄色。



口算题卡

一年级 上册 时间:____分____秒 家长评价:_____

8 和 9 的组成

1.
$$\begin{array}{c} 8 \\ \swarrow \searrow \\ 2 \quad () \end{array}$$

$$\begin{array}{c} 9 \\ \swarrow \searrow \\ 4 \quad () \end{array}$$

$$\begin{array}{c} 8 \\ \swarrow \searrow \\ 4 \quad () \end{array}$$

$$\begin{array}{c} 8 \\ \swarrow \searrow \\ 1 \quad () \end{array}$$

$$\begin{array}{c} 8 \\ \swarrow \searrow \\ 3 \quad () \end{array}$$

$$\begin{array}{c} 8 \\ \swarrow \searrow \\ 5 \quad () \end{array}$$

$$\begin{array}{c} 9 \\ \swarrow \searrow \\ 5 \quad () \end{array}$$

$$\begin{array}{c} 9 \\ \swarrow \searrow \\ () \quad 3 \end{array}$$

$$\begin{array}{c} 9 \\ \swarrow \searrow \\ 7 \quad () \end{array}$$

2.

8 <	1	2		4	5		7
			3			6	

9 <	1	2			5		7	8
			6	5		3		



8、9 的加减法(1)

1. 口算。

$4 + 5 =$

$2 + 7 =$

$5 + 4 =$

$7 + 2 =$

$9 - 5 =$

$9 - 3 =$

$9 - 4 =$

$9 - 6 =$

$0 + 9 =$

$9 - 9 =$

$2 + 6 =$

$8 - 3 =$

$6 - 2 =$

$8 - 5 =$

$3 + 5 =$

$7 - 1 =$

$9 - 0 =$

$8 - 4 =$

$9 - 7 =$

$8 - 8 =$

2. 看图写两个加法算式、两个减法算式。

△ △ △

△ △ △ △ △



黄冈360°数学 _____年____月____日 星期____

BSD

口算题卡

一年级 上册 时间:____分____秒 家长评价:_____

8、9 的加减法(2)

1. 口算。

$1 + 8 =$

$8 - 8 =$

$8 + 1 =$

$9 - 6 =$

$9 - 1 =$

$1 + 7 =$

$9 - 3 =$

$9 - 4 =$

$8 - 1 =$

$8 - 3 =$

$3 + 6 =$

$2 + 6 =$

$8 - 5 =$

$3 + 5 =$

$8 - 6 =$

$6 - 4 =$

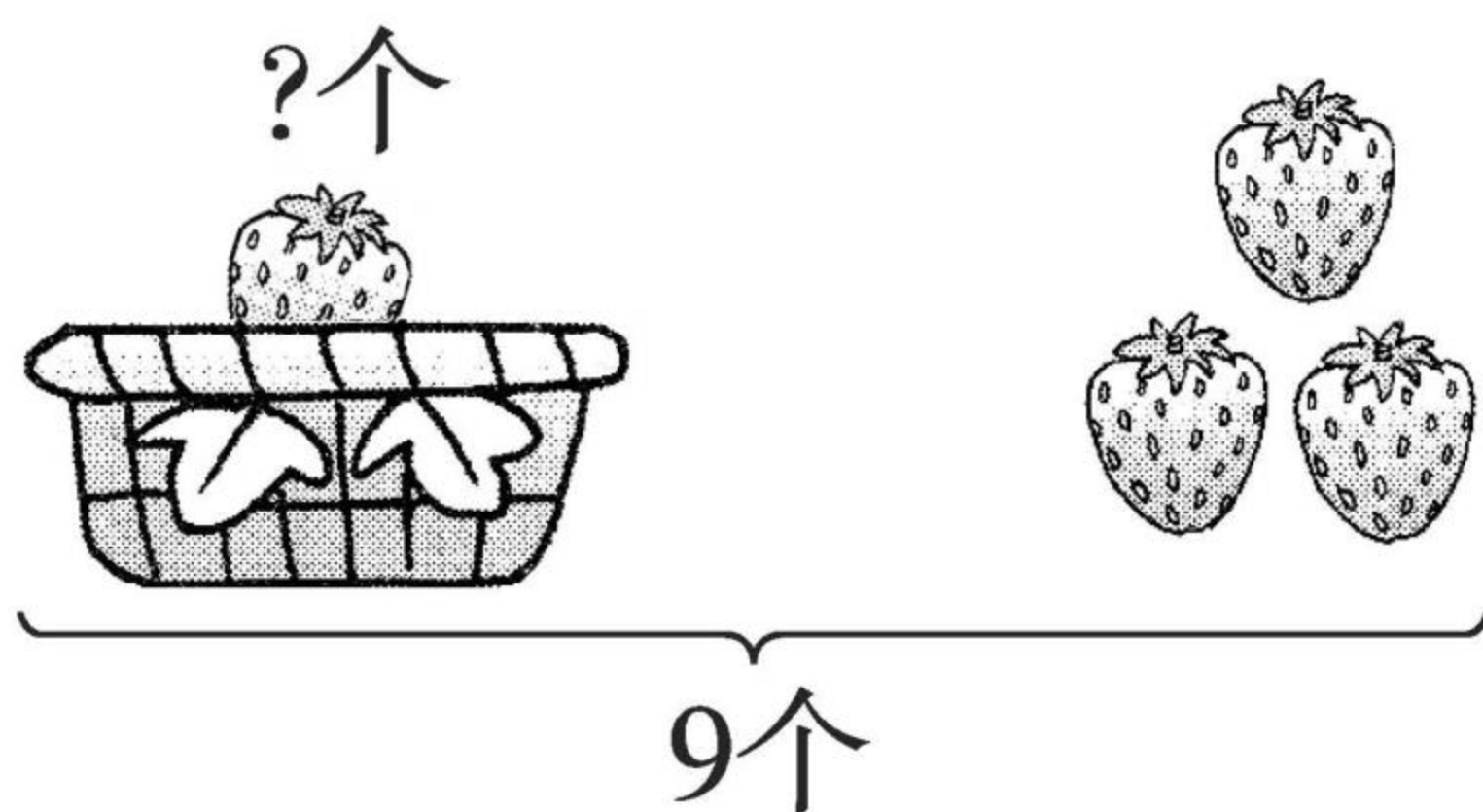
$5 + 3 =$

$9 - 9 =$

$9 + 0 =$

$9 - 5 =$

2.



一共有□个,右边有□个,求篮子里有几个,就是要从□个里面去掉右边的□个,用减法计算。

$$\square \bigcirc \square = \square$$



口算题卡

一年级 上册 时间:____分____秒 家长评价:_____

8、9 的加减法(3)

1. 口算。

$8 - 4 =$

$5 - 2 =$

$5 + 4 =$

$6 + 1 =$

$5 + 2 =$

$5 - 4 =$

$8 - 6 =$

$7 - 6 =$

$6 + 2 =$

$4 + 4 =$

$9 + 0 =$

$6 - 2 =$

$8 - 2 =$

$3 + 5 =$

$5 + 3 =$

$9 - 4 =$


$8 - 1 =$

$9 - 8 =$

$7 + 2 =$

$9 - 7 =$

2. 解决问题。



一共有几人?



游泳池里有□人, 没有下水的有□人, 要解决的问题是“一共有几人”, 用□法计算。

$$\square \bigcirc \square = \square$$



8、9 的加减法(4)

1. 口算。

$7 - 1 =$

$3 + 2 =$

$6 + 2 =$

$5 + 4 =$

$9 - 5 =$

$9 - 5 =$

$8 + 0 =$

$9 - 4 =$

$3 + 5 =$

$8 - 3 =$

$8 - 2 =$

$5 - 4 =$

$9 + 0 =$

$7 - 4 =$

$6 - 4 =$

$3 + 6 =$

$7 + 2 =$


$9 - 6 =$

$9 - 1 =$

$6 - 3 =$

2. 解决问题。

一共有 8 位小朋友。



还剩几位小朋友?

$$\square \bigcirc \square = \square$$



黄冈360°数学 _____年____月____日 星期____

BSD

口算题卡

一年级 上册 时间:____分____秒 家长评价:_____

8、9 的加减法(5)

1. 口算。

$7 - 3 =$

$6 - 3 =$

$8 - 4 =$

$9 - 5 =$

$3 + 4 =$

$9 - 6 =$

$6 - 2 =$

$4 + 3 =$

$8 - 5 =$

$7 - 5 =$

$1 + 7 =$

$9 - 8 =$

$0 + 8 =$

$9 - 9 =$

$1 + 8 =$

$4 + 5 =$

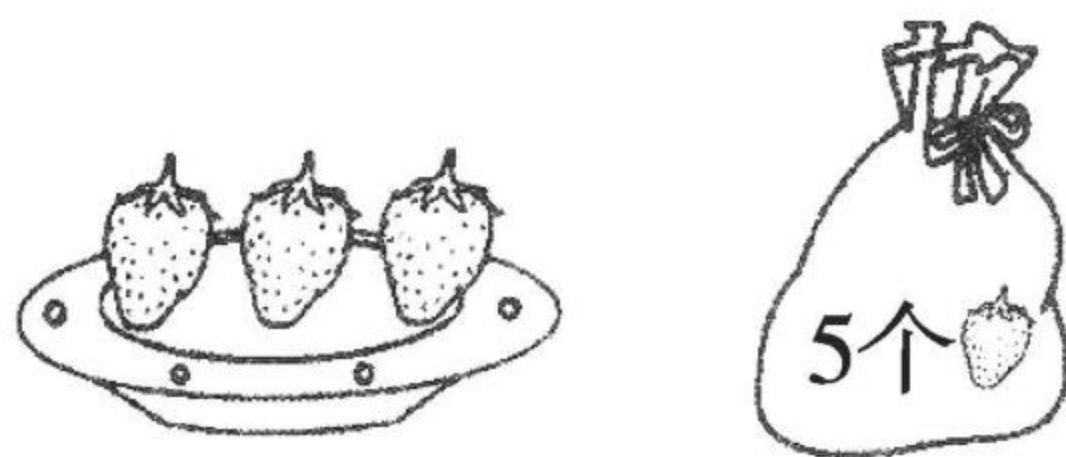
$2 + 7 =$

$7 - 7 =$

$7 + 1 =$

$2 + 8 =$

2. 解决问题。



一共有几个  ?

$\square \bigcirc \square = \square$



黄冈360°数学 _____年____月____日 星期____

BSD

口算题卡

一年级 上册 时间:____分____秒 家长评价:_____

8、9 的加减法(6)

1. 口算。

$3 - 2 =$

$7 - 7 =$

$8 - 8 =$

$8 - 1 =$

$8 + 1 =$

$9 - 6 =$

$7 + 2 =$

$7 - 2 =$

$7 + 1 =$

$8 - 5 =$

$7 - 6 =$

$5 + 2 =$

$2 + 6 =$

$6 + 2 =$

$0 + 8 =$

$4 + 4 =$

$9 - 4 =$


$8 - 4 =$

$9 - 5 =$

$8 - 3 =$

2. 解决问题。

一共有 9 只 .



冰山后还藏着几只 ?

$$\square \bigcirc \square = \square$$



8、9 的加减法(7)

1. 口算。

(1) $3 - 1 =$

(11) $7 - 2 =$

(2) $7 - 4 =$

(12) $9 - 4 =$

(3) $8 - 2 =$

(13) $10 - 5 =$

(4) $4 - 2 =$

(14) $6 - 3 =$

(5) $5 - 4 =$

(15) $9 - 6 =$

(6) $7 - 1 =$

(16) $6 - 4 =$

(7) $1 - 1 =$

(17) $5 - 5 =$

(8) $3 - 3 =$

(18) $9 - 8 =$

(9) $8 - 6 =$

(19) $7 - 6 =$

(10) $6 - 5 =$

(20) $9 - 1 =$

2. 把算式填完整。

(1) $(\quad) - 2 = 5$

(6) $9 - (\quad) = 1$

(2) $8 - (\quad) = 2$

(7) $(\quad) - 7 = 2$

(3) $(\quad) - 6 = 4$


(8) $(\quad) - 3 = 5$

(4) $(\quad) - 4 = 2$

(9) $6 - (\quad) = 2$

(5) $7 - (\quad) = 2$

(10) $7 - (\quad) = 4$



8、9 的加减法(8)

1. 口算。

(1) $7 - 3 =$

(9) $9 - 3 =$

(2) $5 - 1 =$

(10) $5 + 4 =$

(3) $6 - 2 =$

(11) $8 - 5 =$

(4) $4 - 3 =$

(12) $3 + 5 =$

(5) $4 + 4 =$

(13) $9 - 2 =$

(6) $5 - 3 =$

(14) $8 - 3 =$

(7) $7 - 2 =$

(15) $8 + 2 =$

(8) $4 + 1 =$

(16) $5 - 2 =$

2. 连一连。

$7 + 3$

$4 + 4$

$9 - 5$

$5 + 5$

$4 + 3$

$8 - 4$

$9 - 1$

$9 - 2$

$4 - 4$

$7 - 7$



10 的加减法(1)

1. 照样子,填一填。

例: $1 + 9 = 10$

$$\boxed{9} + \boxed{1} = \boxed{10}$$

$$\boxed{10} - \boxed{1} = \boxed{9}$$

$$\boxed{10} - \boxed{9} = \boxed{1}$$

(1) $6 + 4 = 10$

$$\boxed{} + \boxed{} = \boxed{}$$

$$\boxed{} - \boxed{} = \boxed{}$$

$$\boxed{} - \boxed{} = \boxed{}$$

(2) $3 + 7 = 10$

$$\boxed{} + \boxed{} = \boxed{}$$

$$\boxed{} - \boxed{} = \boxed{}$$

$$\boxed{} - \boxed{} = \boxed{}$$

(3) $8 + 2 = 10$

$$\boxed{} + \boxed{} = \boxed{}$$

$$\boxed{} - \boxed{} = \boxed{}$$

$$\boxed{} - \boxed{} = \boxed{}$$

(4) $4 + 6 = 10$

$$\boxed{} + \boxed{} = \boxed{}$$


$$\boxed{} - \boxed{} = \boxed{}$$

$$\boxed{} - \boxed{} = \boxed{}$$


(5) $5 + 5 = \boxed{}$

$$\boxed{} - \boxed{} = \boxed{}$$

2.



盒子里装有6支铅笔。



一共有多少支铅笔?

$$\boxed{} \bigcirc \boxed{} = \boxed{}$$



黄冈360°数学 _____年____月____日 星期____

BSD

口算题卡

一年级 上册 时间:____分____秒 家长评价:_____

10 的加减法(2)

1. 口算。

$10 - 8 =$

$10 - 2 =$

$8 - 1 =$

$3 + 6 =$

$9 + 1 =$

$10 - 7 =$

$8 - 6 =$

$10 - 9 =$

$1 + 5 =$

$5 + 3 =$

$10 - 4 =$

$8 - 4 =$

$10 - 6 =$

$9 - 6 =$

$5 + 5 =$

$7 - 3 =$

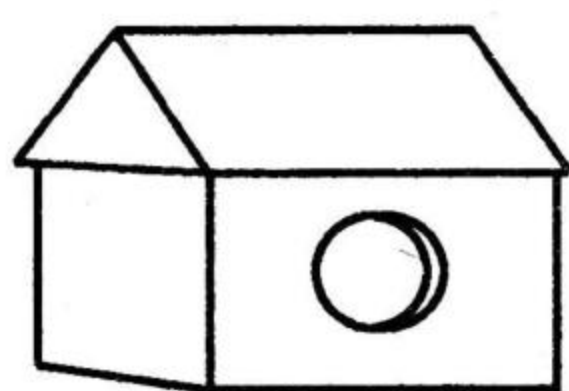
$3 + 4 =$

$5 + 4 =$

$6 + 3 =$

$6 + 2 =$

2. 一共有 10 只鸟。



房子里还剩几只小鸟?

$$\square \bigcirc \square = \square$$



10 的加减法(3)

1. 口算。

$7 + 3 =$

$10 - 4 =$

$2 + 5 =$

$10 - 6 =$

$7 - 4 =$

$5 + 5 =$

$10 - 6 =$

$10 - 8 =$

$6 + 3 =$

$8 + 1 =$

$3 + 7 =$

$9 - 4 =$

$8 + 2 =$

$9 - 6 =$

$10 - 9 =$

$3 + 4 =$

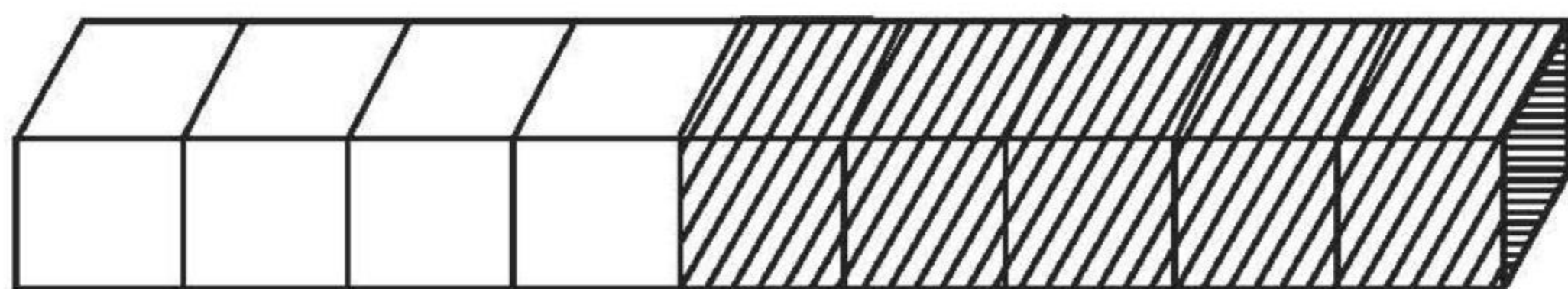
$10 - 5 =$

$7 - 5 =$

$4 + 5 =$


$8 - 4 =$

2. 看图写算式。



$\square - \square = \square$

$\square - \square = \square$



黄冈360°数学 _____年____月____日 星期____

BSD

口算题卡

一年级 上册 时间:____分____秒 家长评价:_____

10 的加减法(4)

1. 口算。

$5 + 5 =$

$8 + 1 =$

$6 + 1 =$

$4 + 4 =$

$6 + 4 =$

$8 - 5 =$

$8 + 0 =$

$3 + 4 =$

$7 + 1 =$

$7 - 6 =$

$0 + 10 =$

$7 - 5 =$

$10 - 4 =$

$8 - 4 =$

$6 + 3 =$

$9 - 6 =$

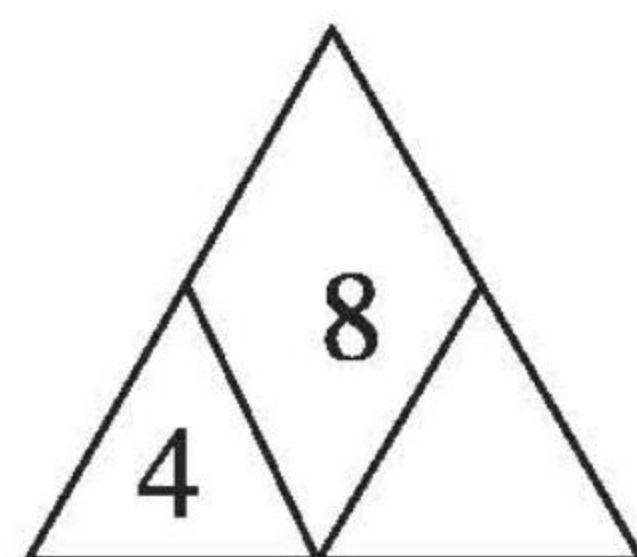
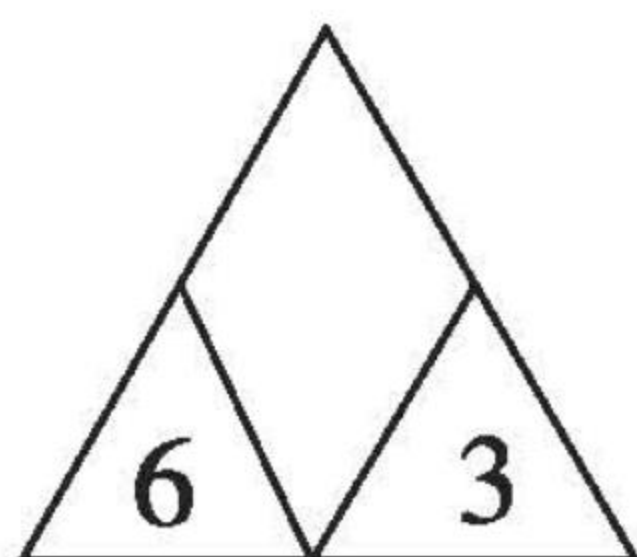
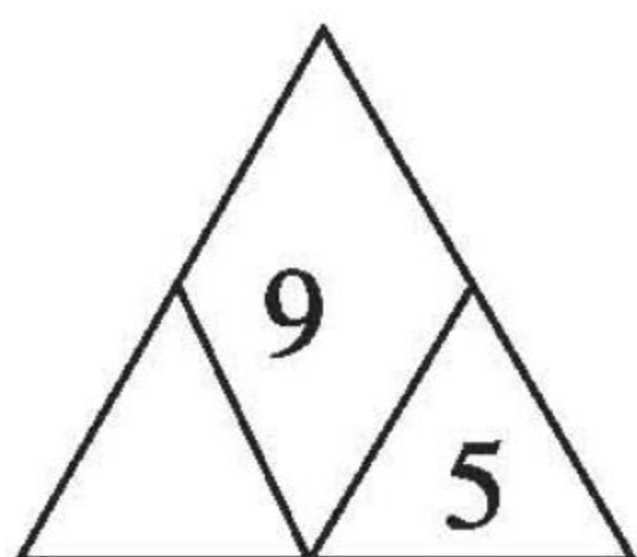
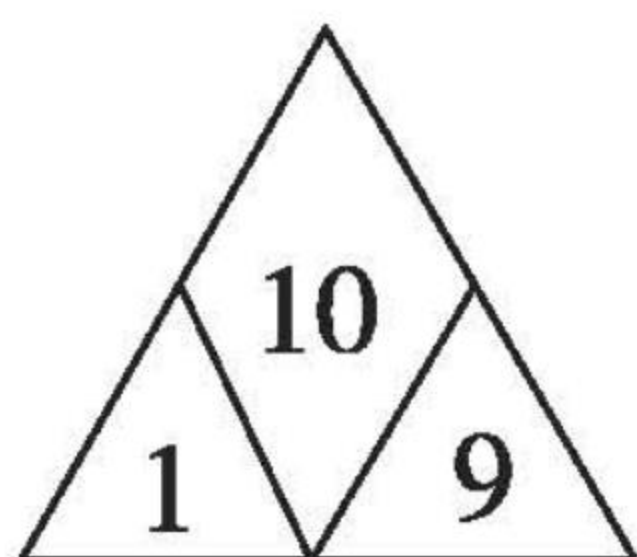
$5 + 2 =$

$10 - 5 =$

$3 + 7 =$

$10 - 7 =$

2. 找规律,填一填。





10 的加减法(5)

1. 在()里填上合适的数。

$3 + () = 10$

$() + 4 = 9$

$() + 6 = 10$

$() + 5 = 7$

$0 + () = 7$

$4 - () = 1$

$7 - () = 0$

$5 - () = 3$

$() + 4 = 8$

$3 + () = 9$

$() + 7 = 10$

$10 - () = 5$

$() - 6 = 4$

$3 + () = 9$

$8 - () = 3$

$8 - () = 4$


$9 - () = 5$

$8 - () = 5$

$6 + () = 8$

$4 + () = 7$

2. 看图列式。



$\square \bigcirc \square = \square$



黄冈360°数学 _____年____月____日 星期____

BSD

口算题卡

一年级 上册 时间:____分____秒 家长评价:_____

10 的加减法(6)

1. 算一算。

(1) $1 + 9 =$

(11) $3 + 6 =$

(2) $6 + 3 =$

(12) $10 - 9 =$

(3) $2 + 8 =$

(13) $7 + 3 =$

(4) $10 - 1 =$

(14) $10 - 3 =$

(5) $7 + 2 =$

(15) $5 + 4 =$

(6) $9 - 8 =$

(16) $9 + 1 =$

(7) $3 + 7 =$

(17) $10 - 8 =$

(8) $8 - 4 =$

(18) $10 - 7 =$


(9) $10 - 10 =$

(19) $10 - 4 =$

(10) $6 + 4 =$

(20) $5 + 5 =$

2. 看图列式。



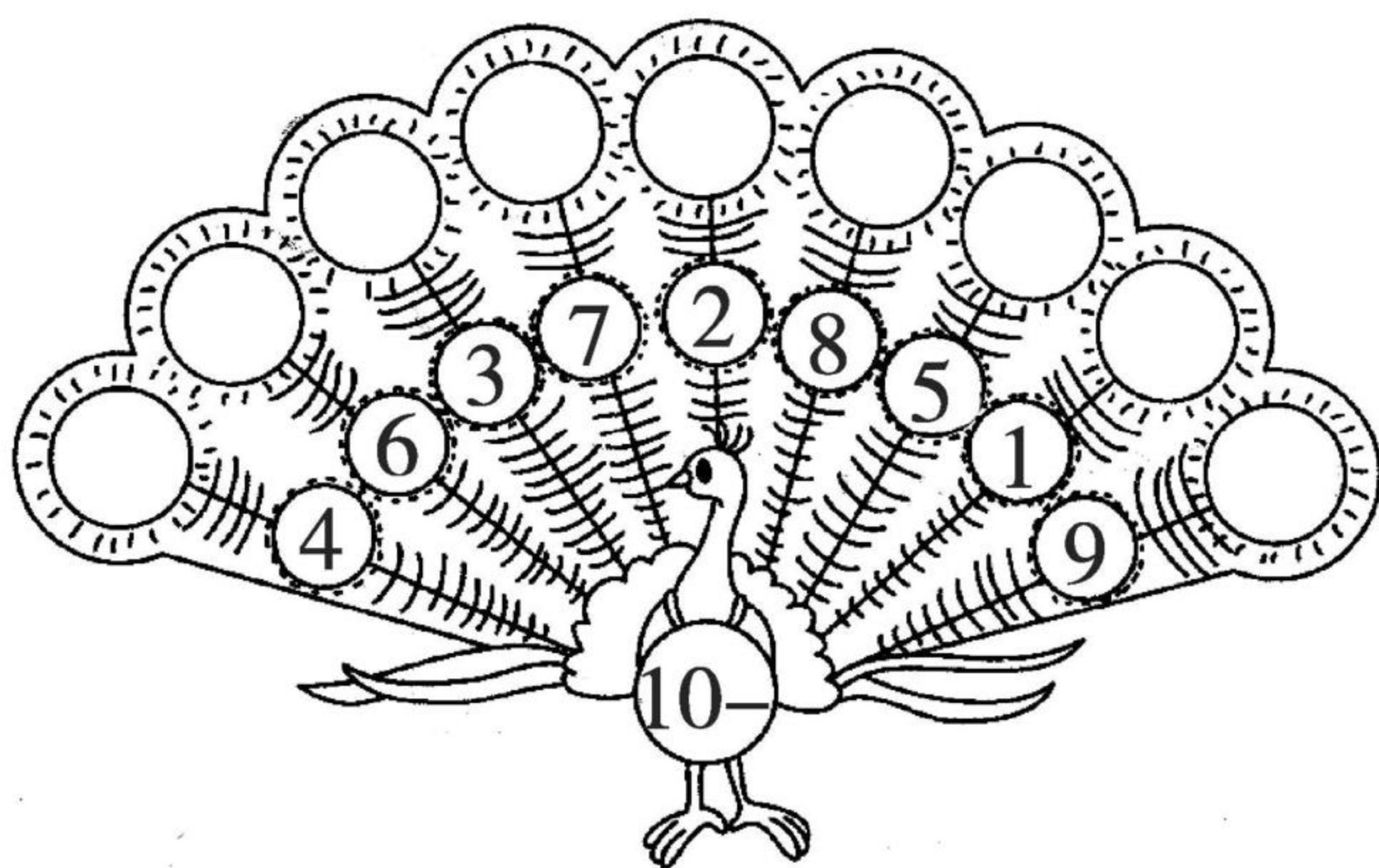
?朵

\bigcirc $=$



10 的加减法(7)

1. 孔雀开屏。



2.

1	+ 9 =	
1	+ 8 =	
2		

2	+ 7 =	
1		
3		

3	+ 6 =	
1		
2		
4		


4	+ 4 =	
6		
5		
3		

3. 口算。

$3 + 4 =$ $9 - 5 =$ $4 + 5 =$ $7 - 3 =$

$8 + 2 =$ $10 - 2 =$ $9 - 4 =$ $7 - 0 =$

$0 + 10 =$ $8 - 8 =$ $3 + 5 =$ $5 + 5 =$



黄冈360°数学 _____年____月____日 星期____

BSD

口算题卡

一年级 上册 时间:____分____秒 家长评价:_____

10 的加减法(8)

1. 口算。

$9 - 5 =$

$10 - 7 =$

$10 - 6 =$

$2 + 7 =$

$4 + 5 =$

$4 + 1 =$

$9 - 6 =$

$9 - 3 =$

$9 - 9 =$

$7 - 7 =$

$10 - 5 =$

$4 + 4 =$

$7 - 4 =$

$10 - 5 =$

$10 - 2 =$

$9 - 0 =$

$8 + 2 =$

$7 + 3 =$

$9 - 7 =$

$4 + 6 =$

2. 在○里填上“>”“<”或“=”。

(1) $1 + 2 \bigcirc 5$

(6) $2 + 5 \bigcirc 9$

(2) $2 + 3 \bigcirc 6$

(7) $3 + 4 \bigcirc 5$

(3) $5 + 1 \bigcirc 4$

(8) $3 + 6 \bigcirc 10$

(4) $4 + 2 \bigcirc 6$

(9) $5 + 3 \bigcirc 8$

(5) $3 + 7 \bigcirc 10$

(10) $6 + 2 \bigcirc 5$



10 的加减法(9)

1. 在□里填上合适的数。

$$9 + \square = 10$$

$$10 - \square = 1$$

$$10 - \square = 8$$

$$4 + \square = 9$$

$$4 + \square = 10$$

$$10 - \square = 2$$

$$10 - \square = 6$$

$$\square + 5 = 10$$

$$\square + 3 = 9$$

$$10 - \square = 7$$

$$10 - \square = 5$$

$$7 + \square = 10$$

$$10 + \square = 10$$

$$10 - \square = 10$$

$$10 - \square = 0$$

$$6 + \square = 10$$

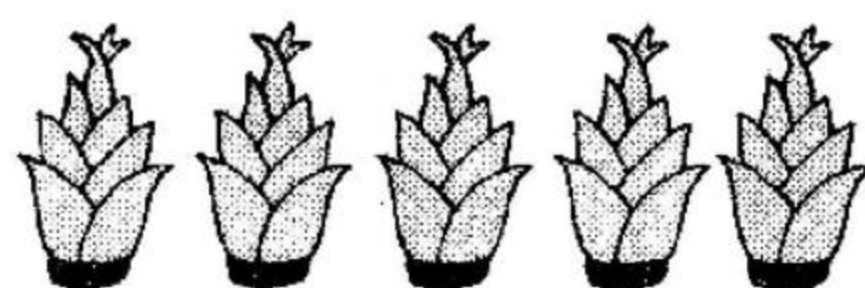
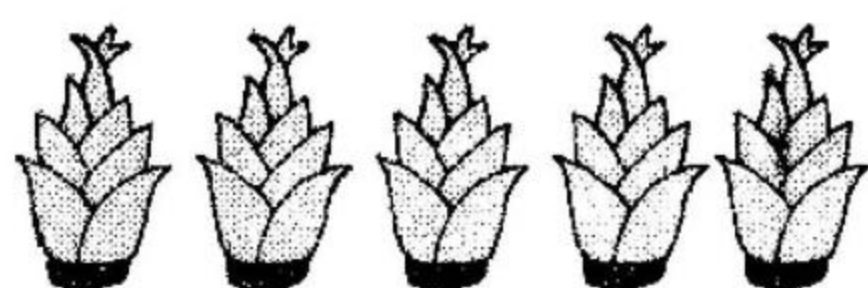
$$\square + 2 = 10$$

$$\square - 9 = 1$$

$$\square - 4 = 4$$

$$\square + 9 = 9$$

2.



$$\square + \square = \square$$

$$\square - \square = \square$$




口算题卡

一年级 上册 时间:____分____秒 家长评价:_____

10 的加减法(10)

1. 想一想,填一填。



$$7 + \square = 10$$

$$9 + \square = 10$$

2. 画一画,填一填。

(1) $\triangle\triangle\triangle$ _____

$$3 + \square = 10$$

(2) $\bigcirc\bigcirc$ _____

$$2 + \square = 10$$

(3) 😊😊😊😊 _____

$$4 + \square = 10$$

(4) _____ $\bigcirc\bigcirc\bigcirc\bigcirc\bigcirc$

$$\square + 5 = 10$$

3. 用 2、8、10、7 中的三个数写 4 个算式。



10 的加减法(11)

1. 算一算。

$10 - 3 =$

$6 + 4 =$

$6 - 4 =$

$0 + 10 =$

$8 + 2 =$

$10 - 1 =$

$9 - 6 =$

$10 - 9 =$

$4 + 3 =$

$5 + 5 =$

$10 - 4 =$

$7 + 3 =$

$10 - 10 =$

$9 + 1 =$




$10 - 7 =$

$8 - 7 =$

$10 - 0 =$

$7 - 5 =$

2. 连一连。





10 的加减法(12)

1. 口算。

$4 + 3 =$

$5 + 5 =$

$5 + 2 =$

$10 - 4 =$

$7 - 3 =$

$10 - 8 =$

$7 - 5 =$

$9 + 1 =$

$4 + 4 =$

$10 - 7 =$

$9 - 6 =$

$7 + 3 =$

$9 - 7 =$

$6 + 4 =$

$8 - 4 =$

$9 - 2 =$

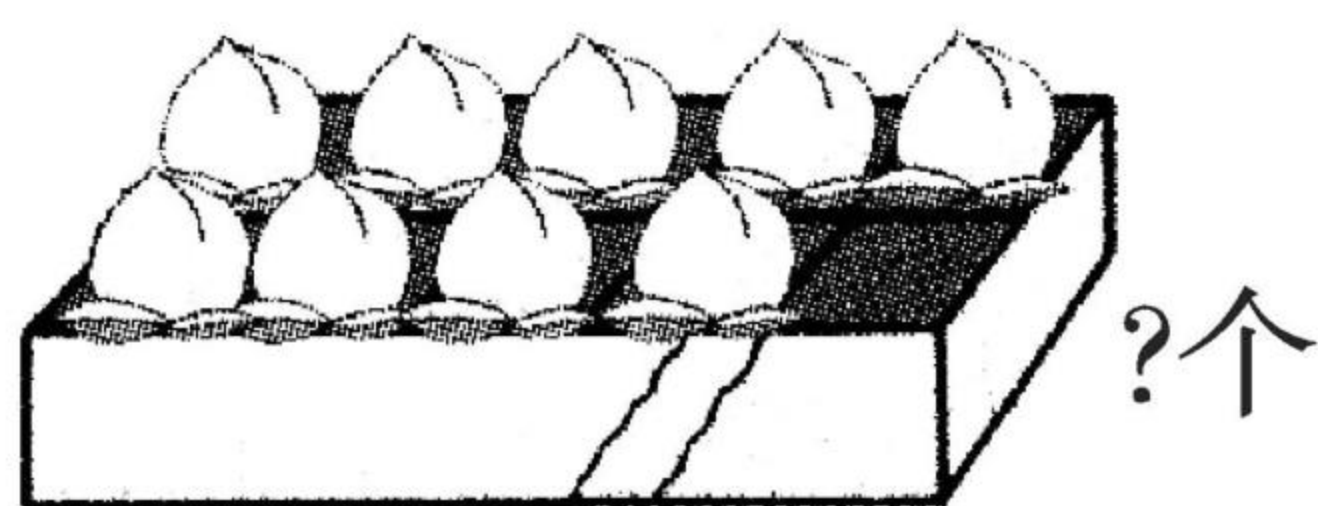
$8 - 5 =$

$8 - 2 =$

$10 - 6 =$

$7 - 1 =$

2.



?个



10个

$$\square \bigcirc \square = \square$$



口算题卡

一年级 上册 时间:____分____秒 家长评价:_____

连加(1)

1. 算一算,在□里填数。

$$\begin{array}{r} 1 + 2 + 5 = \square \\ \square \\ \square \end{array}$$

$$\begin{array}{r} 4 + 2 + 4 = \square \\ \square \\ \square \end{array}$$

$$\begin{array}{r} 6 + 2 + 1 = \square \\ \square \\ \square \end{array}$$

$$\begin{array}{r} 4 + 0 + 5 = \square \\ \square \\ \square \end{array}$$

2.

$1 + 4 = \square$

$5 + 5 = \square$

$1 + 4 + 5 = \square$

$4 + 5 = \square$

$5 + 1 = \square$

$4 + 5 + 1 = \square$

$5 + 2 = \square$

$7 + 2 = \square$

$5 + 2 + 2 = \square$

$2 + 6 = \square$

$8 + 0 = \square$

$2 + 6 + 0 = \square$

$3 + 6 = \square$

$9 + 1 = \square$

$3 + 6 + 1 = \square$

$2 + 3 = \square$

$5 + 4 = \square$

$2 + 3 + 4 = \square$




口算题卡

一年级 上册 时间:____分____秒 家长评价:_____

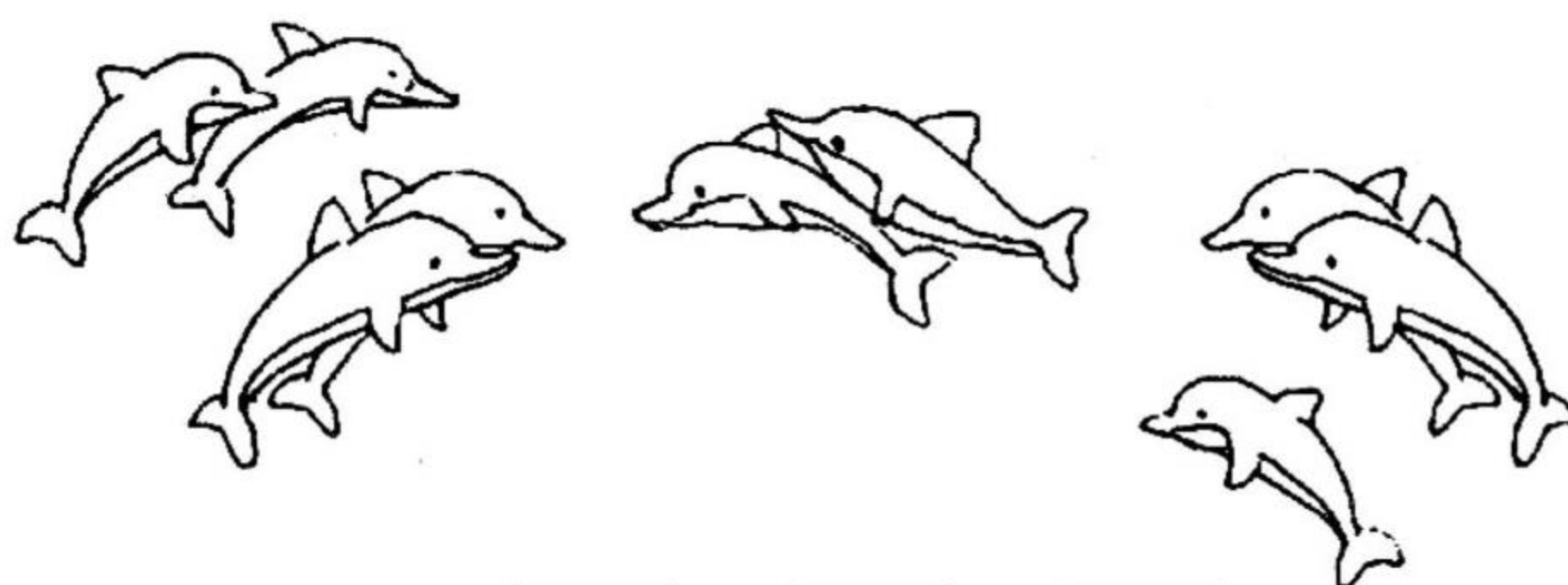
连加(2)

1. (1)



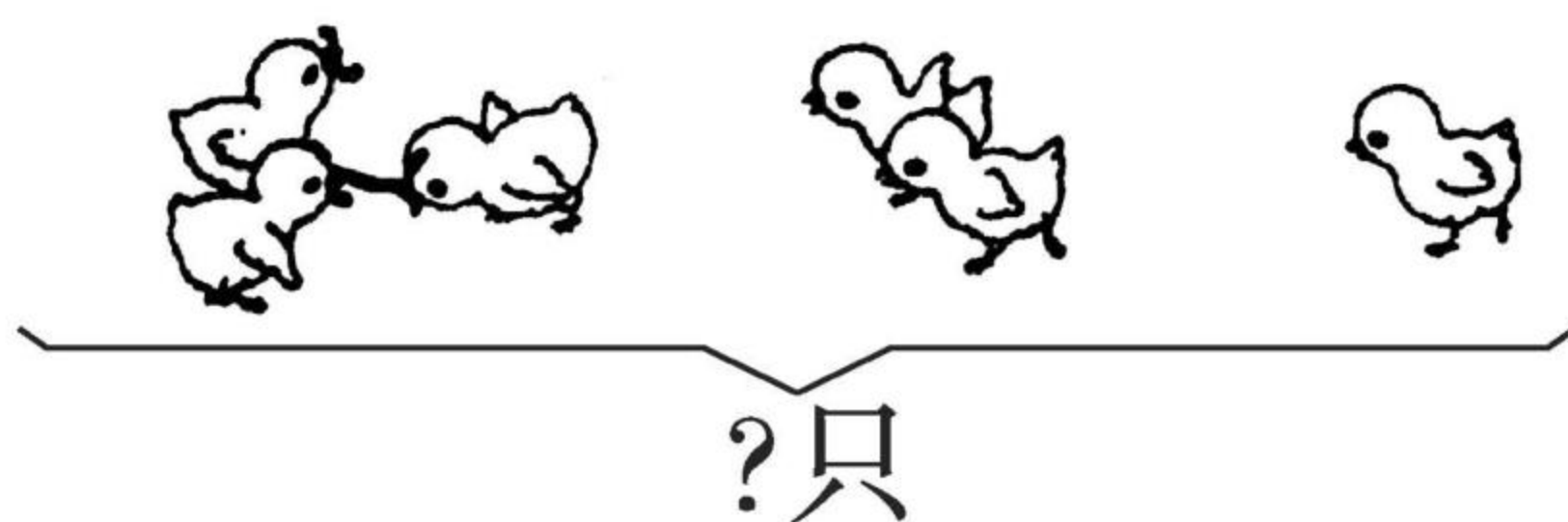
$$2 + \square + \square = \square$$

(2)



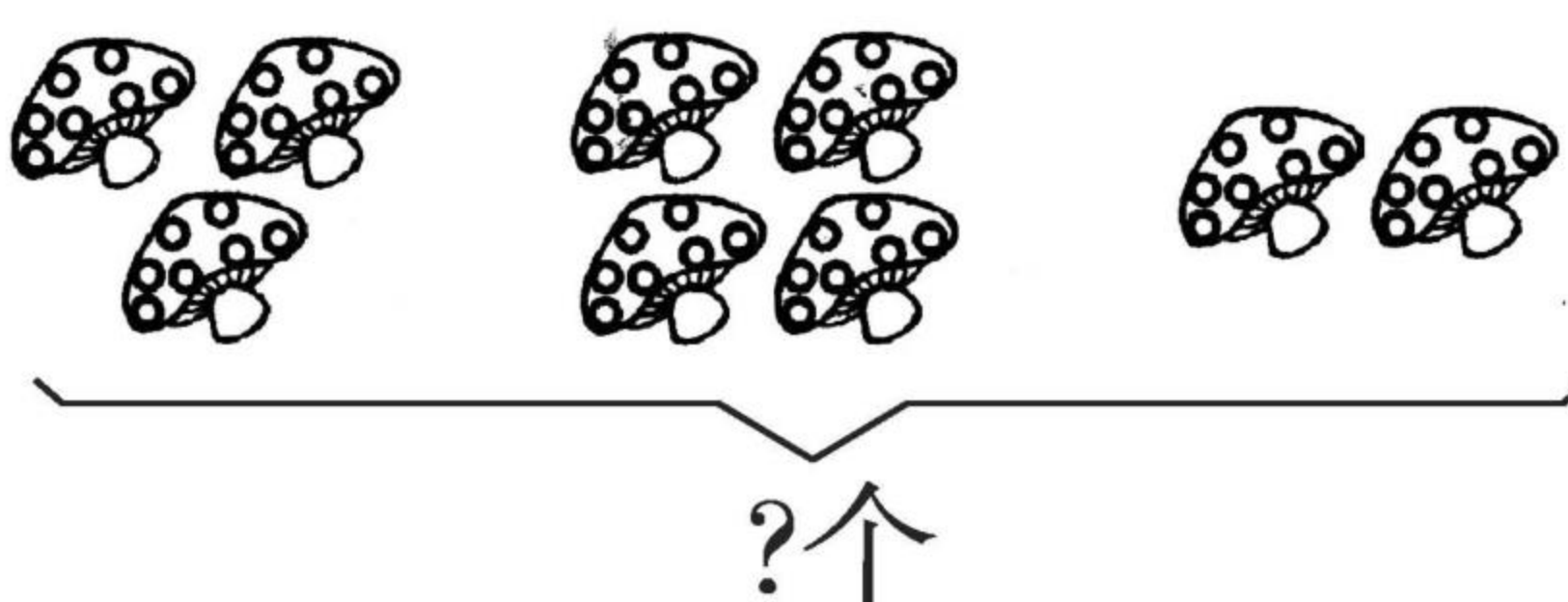
$$4 + \square + \square = \square$$

2. (1)



$$3 + \square + \square = \square$$

(2)



$$\square + \square + \square = \square$$



连减(1)

1. 填一填。

$$\begin{array}{r} 9 - 4 - 1 = \square \\ \square \\ \square \end{array}$$

$$\begin{array}{r} 10 - 6 - 4 = \square \\ \square \\ \square \end{array}$$

$$\begin{array}{r} 10 - 8 - 2 = \square \\ \square \\ \square \end{array}$$

$$\begin{array}{r} 8 - 2 - 4 = \square \\ \square \\ \square \end{array}$$

$$\begin{array}{r} 10 - 3 - 2 = \square \\ \square \\ \square \end{array}$$

$$\begin{array}{r} 9 - 2 - 7 = \square \\ \square \\ \square \end{array}$$


2. 把正确答案圈起来。

(1) $7 - 3 - 2 =$ ☐ 2 ☐ 3 ☐ 1

(2) $8 - 3 - 4 =$ ☐ 10 ☐ 1 ☐ 2

(3) $10 - 2 - 5 =$ ☐ 2 ☐ 3 ☐ 10

(4) $9 - 6 - 3 =$ ☐ 0 ☐ 6 ☐ 8



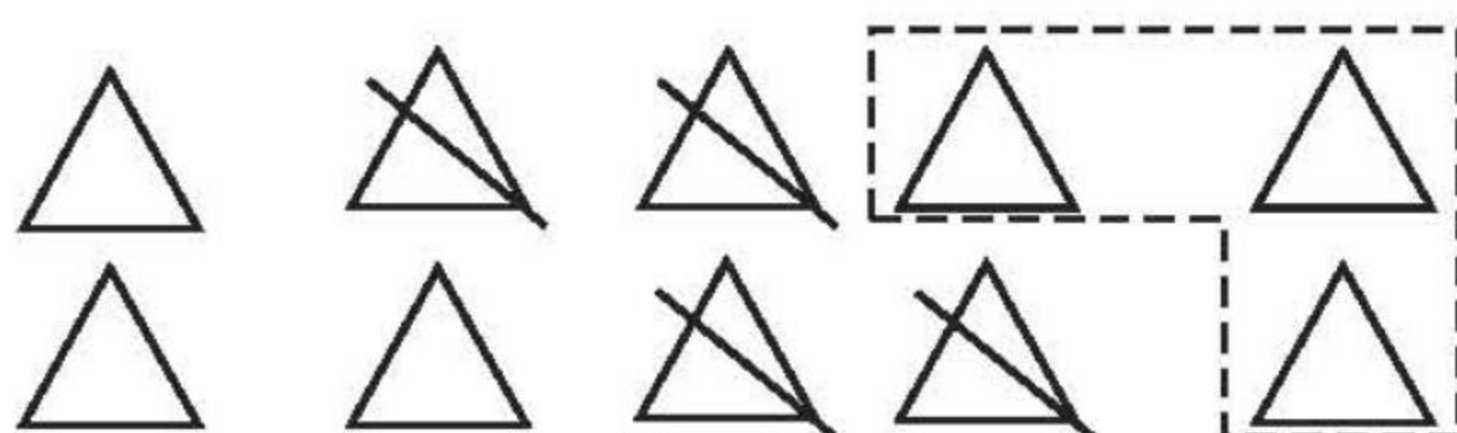
口算题卡

一年级 上册 时间:____分____秒 家长评价:_____

连减(2)

看图列式计算。

(1)



$$10 - 4 - \square = \square$$

(2)



$$7 - 1 - \square = \square$$

(3)



$$8 - 3 - \square = \square$$



加减混合(1)

1. 算一算,在□里填上合适的数。

$$\begin{array}{l} 7 + 2 - 5 = \square \\ \square \quad \square \end{array}$$

$$\begin{array}{l} 4 + 2 - 4 = \square \\ \square \quad \square \end{array}$$

$$\begin{array}{l} 8 - 3 + 5 = \square \\ \square \quad \square \end{array}$$

$$\begin{array}{l} 10 - 4 + 2 = \square \\ \square \quad \square \end{array}$$


$$\begin{array}{l} 9 - 3 + 4 = \square \\ \square \quad \square \end{array}$$

$$\begin{array}{l} 5 + 4 - 3 = \square \\ \square \quad \square \end{array}$$

$$\begin{array}{l} 6 + 2 - 5 = \square \\ \square \quad \square \end{array}$$

$$\begin{array}{l} 10 - 8 + 6 = \square \\ \square \quad \square \end{array}$$

2. 看图列式。



?头

$$\square + \square + \square = \square$$

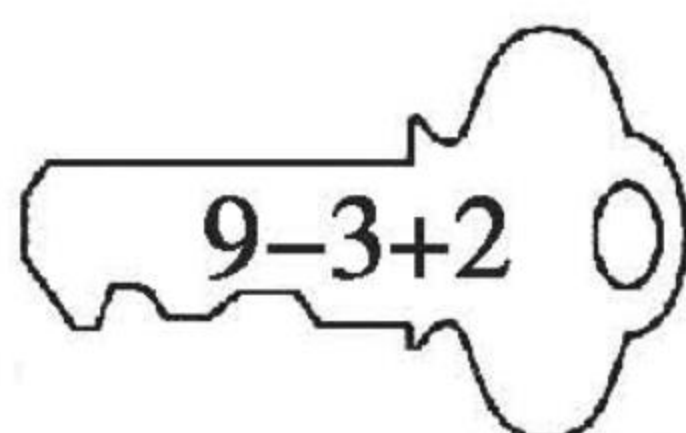
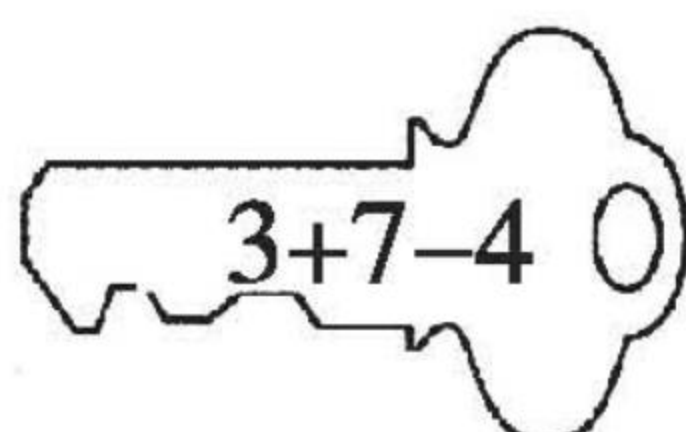
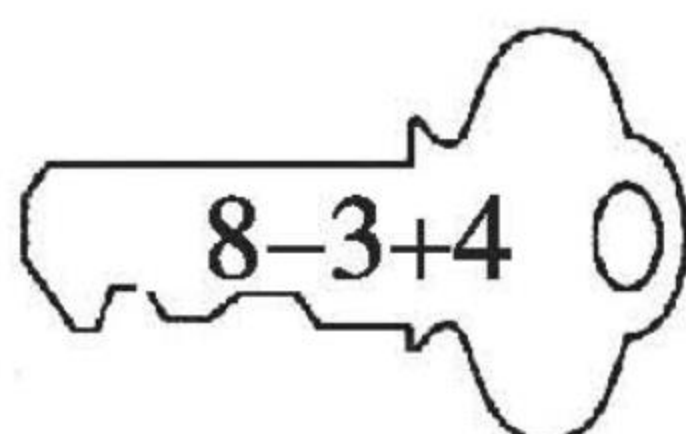
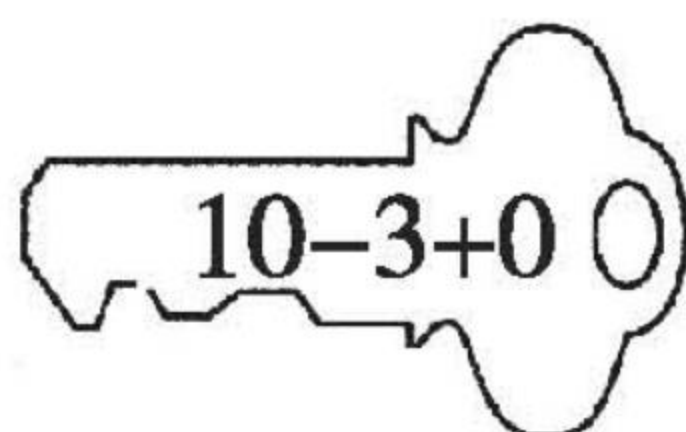
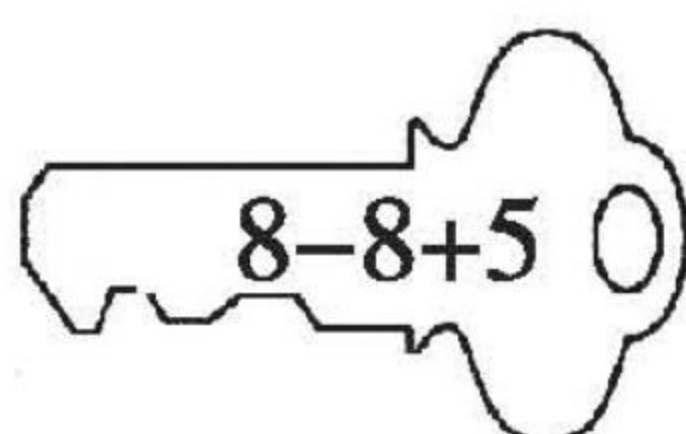



口算题卡


一年级 上册 时间:____分____秒 家长评价:_____

加减混合(2)


1. 连一连。




2. 在  里填上“>”“<”或“=”。

$10 - 4 + 3$  8

$9 - 5 + 1$  $8 + 2 - 5$

$4 + 3 - 1$  7

$9 + 0 - 5$  $5 + 3 + 2$

$10 - 8 + 1$  9

$5 - 2 + 4$  $8 - 4 + 3$



加减混合(3)

1. 口算。

(1) $4 - 1 + 2 =$

(11) $1 - 1 + 3 =$

(2) $1 + 6 - 4 =$

(12) $3 + 5 - 5 =$

(3) $10 - 3 + 1 =$

(13) $4 - 4 + 2 =$

(4) $10 - 4 + 2 =$

(14) $4 + 4 - 1 =$

(5) $4 + 5 - 3 =$

(15) $5 + 1 - 2 =$

(6) $5 + 3 + 1 =$

(16) $2 + 6 - 5 =$

(7) $4 + 3 - 5 =$

(17) $8 - 2 + 1 =$

(8) $10 - 6 + 3 =$

(18) $8 - 3 + 1 =$

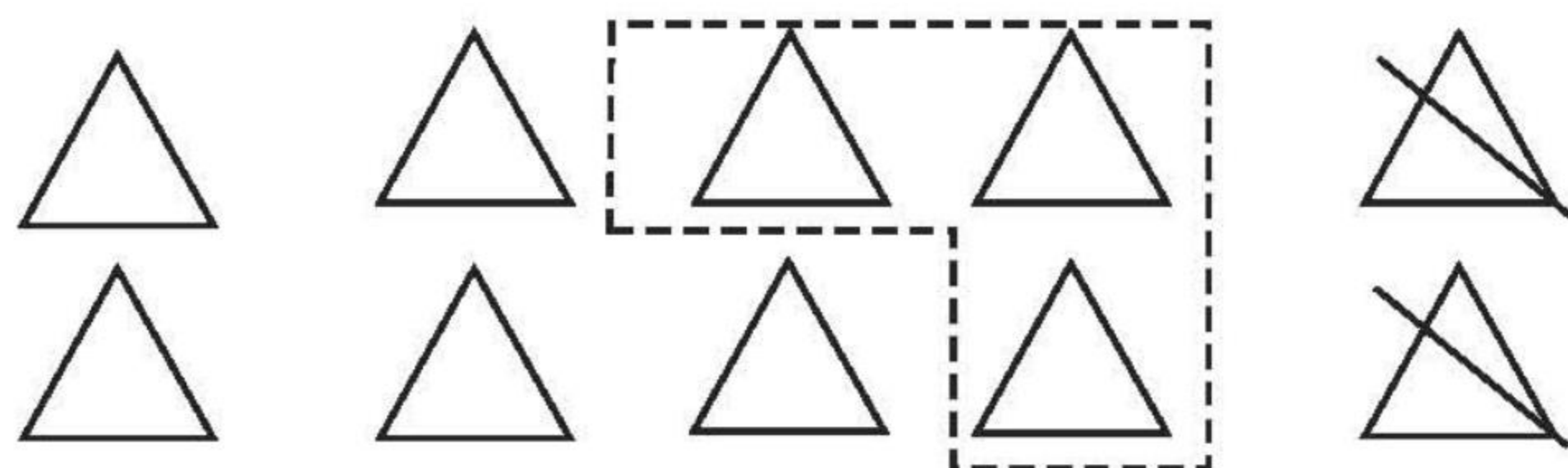
(9) $6 - 5 + 4 =$

(19) $5 + 3 - 5 =$

(10) $7 + 2 - 4 =$

(20) $6 + 4 - 2 =$

2.



$\square \bigcirc \square \bigcirc \square = \square$



加减混合(4)

1. 口算。

(1) $2 + 6 + 1 =$

(11) $8 - 3 - 4 =$

(2) $1 + 7 + 1 =$

(12) $9 - 3 - 1 =$

(3) $9 + 1 - 4 =$

(13) $10 - 7 + 1 =$

(4) $5 + 4 + 1 =$

(14) $8 - 2 - 1 =$

(5) $6 + 3 - 4 =$

(15) $10 - 3 + 2 =$

(6) $7 + 1 + 2 =$

(16) $6 + 2 + 2 =$

(7) $2 + 4 - 1 =$

(17) $9 - 2 - 5 =$

(8) $3 + 6 - 5 =$

(18) $7 - 1 - 4 =$

(9) $10 - 5 + 4 =$

(19) $10 - 6 + 3 =$

(10) $2 + 4 + 2 =$

(20) $8 - 5 - 3 =$

2. 我会做。

树上有 10 只 , 飞走了 5 只, 又飞来了 3 只, 树

上现在有多少只  ?

$\square \bigcirc \square \bigcirc \square = \square$




口算题卡

一年级 上册 时间:____分____秒 家长评价:_____

分类

1. 在水果下面画“√”,在蔬菜下面画“○”。



()



()



()




()



()

2. 在服装下面画“√”,在文具下面画“○”。



()



()



()



()

3. 算一算。

$5 + 1 =$

$3 + 6 =$

$9 - 2 =$

$0 + 6 =$

$8 - 8 =$

$5 + 3 =$

$8 - 6 =$

$6 - 6 =$

$6 + 2 =$

$8 + 1 =$

$1 + 8 =$

$4 + 6 =$

$8 - 0 =$

$5 + 5 =$

$10 - 2 =$

$9 - 5 =$

$4 + 6 =$

$10 - 7 =$




位置与顺序(1)

1. 跑步比赛。

(1) () 跑在最前面,

() 跑在最后面。

(2) () 跑在小刚前面,
() 跑在小力后面。



(3) 跑在小刚后面的有() 和()。

2. 帮小动物们解决问题。



(1) 一共有() 只小动物在参加跑步比赛。

(2) 小猫的前面有() 只小动物, 小猫跑在第
() 名。

(3) () 跑在最前面, 小松鼠跑在最() 面。

(4) 小老鼠在小松鼠的() 面, 在大象的() 面。


(5) 大象在第() 名, 小猫在它的() 面。



位置与顺序(2)

1. 画一画。

△在☆的上边,○在☆的下面,♡在☆的左边,☺在☆的右边,✧在♡的下边,☀在☺的上边,□在♡的上边,▭在☺的下边。



2. 牛牛、妞妞、柳柳是三胞胎,在牛牛图的左边是妞妞,在柳柳图的右边是妞妞,请将它们的名字填在()里。





位置与顺序(3)

1. 看一看,数一数,填一填。



(1)  的右面一个是(),左面一个是()。

(2)  的左面有()种水果,右面有()种水果。

(3)  的右面有()种水果,左面有()种水果。

(4) 一共有()种水果。

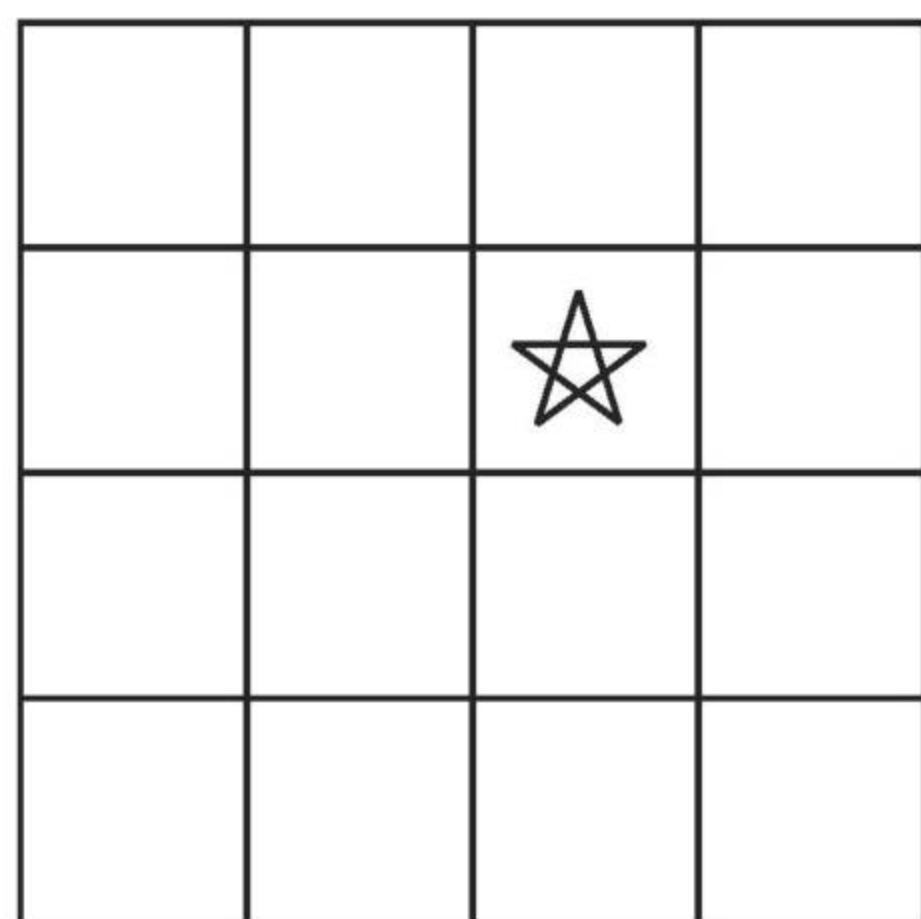
2. 画一画。

(1) 在☆的上面一格画△,下面一格画□。

(2) 在☆的左面一格画▱,右面一格画○。

(3) 在▱的左面一格画◇,上面一格画□。

(4) 在□的右面一格画△,下面一格画◇。






位置与顺序(4)

看图圈一圈。

(1)



小明 小方 小红


小方在小明的(前、后)面。

小红在小方的(前、后)面。


(2)




在




的(上、下)面。



在



的(左、右)面。



(3)



爸爸的(左、右)手牵着小男孩的(左、右)手,

妈妈的(左、右)手牵着小男孩的(左、右)手。





位置与顺序(5)

1. 数一数,填一填。




(1) 一共有()只动物。


(2) 从左数  排第(),  排第()。


(3)  从左数排第(), 从右数排第()。


(4) 把右边的两只动物圈起来。

2. 填一填。

(1)  是第()名, 最后一名是()号。

(2)  的后面是()号, 前面是()号和()号。


(3)  的前面有()名运动员, 一共有()名运动员。






位置与顺序(6)

1. 数一数,填一填。







 的前面有()只小动物,后面有()只小动物。

从左数, 在第()车厢。

2. 画一画,填一填。



(1) 在  的左边画“□”,让  从左往右数排在第3个;在  的右边画“△”,让  从右往左数排在第4个。

(2) 在  的上面画2个○。

(3) □有()个,△有()个。

(4) □再添()个就和△同样多。



黄冈360°数学 _____年____月____日 星期____


BSD

口算题卡

一年级 上册 时间:____分____秒 家长评价:_____

位置与顺序(7)

1. 小小裁判员。




有□名同学在赛跑。



排第□, 她前面有□人, 后面有□人。

2.



获得第□名,



获得第□名,




获得第□名。



位置与顺序(8)

1. 游览动物园。



一共有 人,从左数,  排第 .



上面两个 里的数表示的意思一样吗? 请在正确答案的 里画“√”。

☐

一样

☐

不一样

2.



(1) 把左边的 4 条鱼圈起来。


(2) 从左边数,给第 3 条鱼涂上颜色。

(3) 从右边数的第 1 条鱼游走了,还剩 条鱼。









位置与顺序(9)





1. 看图填一填,圈一圈。



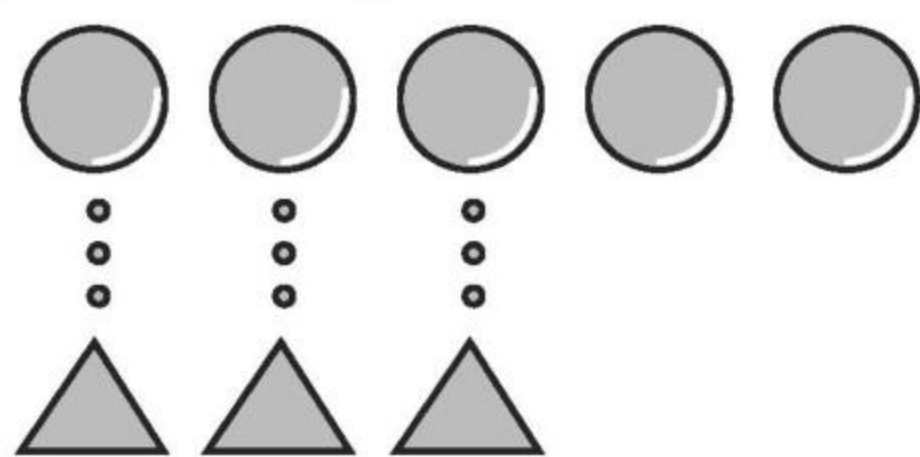
(1)  在  的()面。

(2)  在  的()面。

(3) 在书架的最上层左边是(、), 右边是(、)。

(4) 在书架的最下层左边是(、), 右边是(、)。


2. 在多的后面画“√”。





位置与顺序(10)



1. 按要求画一画。





在右边的方框中画☆,在上面的方框中画○;

在左边的方框中画□,在下面的方框中画△。


2. 圈一圈。


(1) 先向(左、右)走,再向(上、下)走,就可以吃到.

(圈出正确答案)

(2) 先向(上、下)走,再向(左、右)走,就可以吃到.

(圈出正确答案)





黄冈360°数学 _____年____月____日 星期____

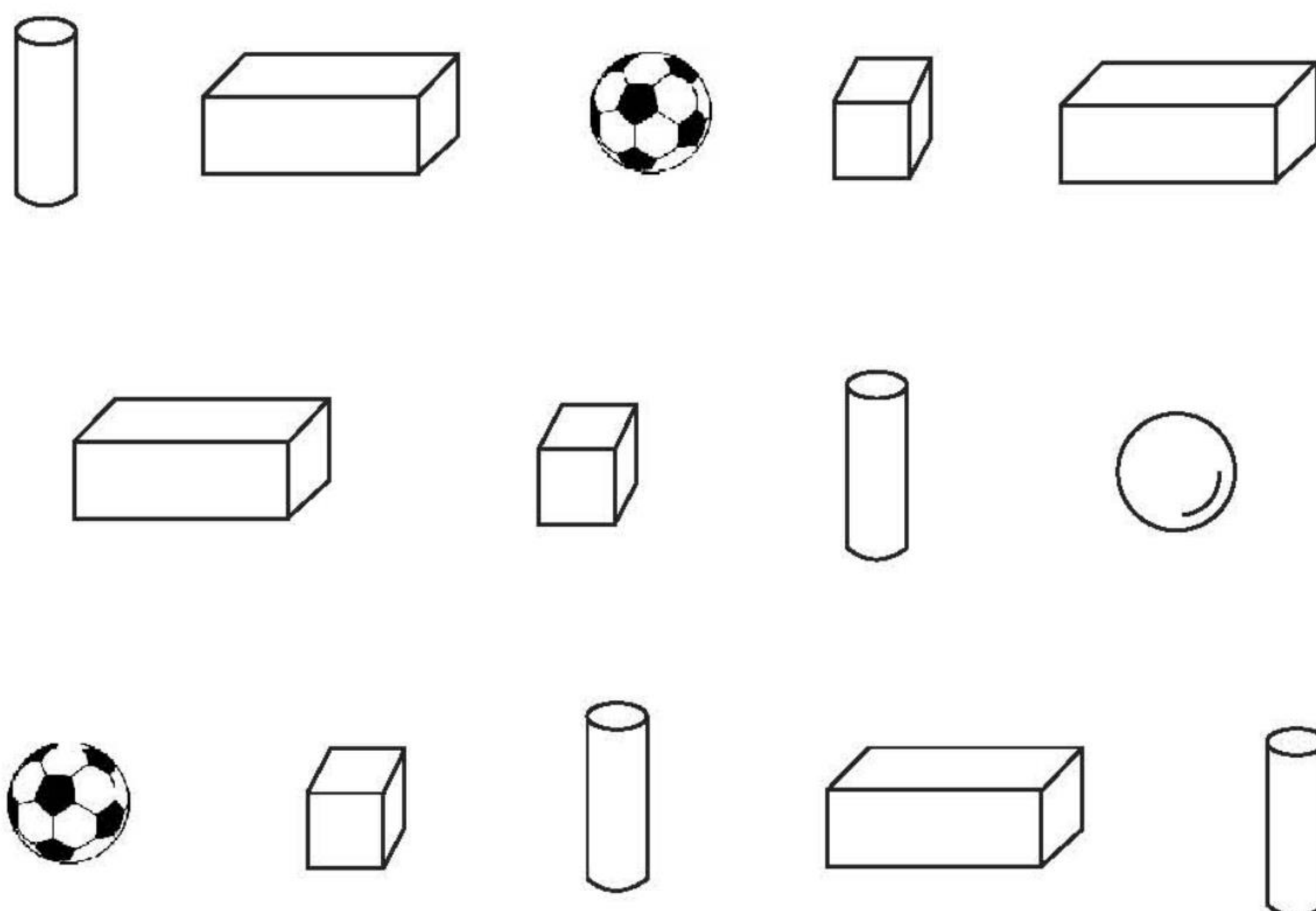
BSD

口算题卡

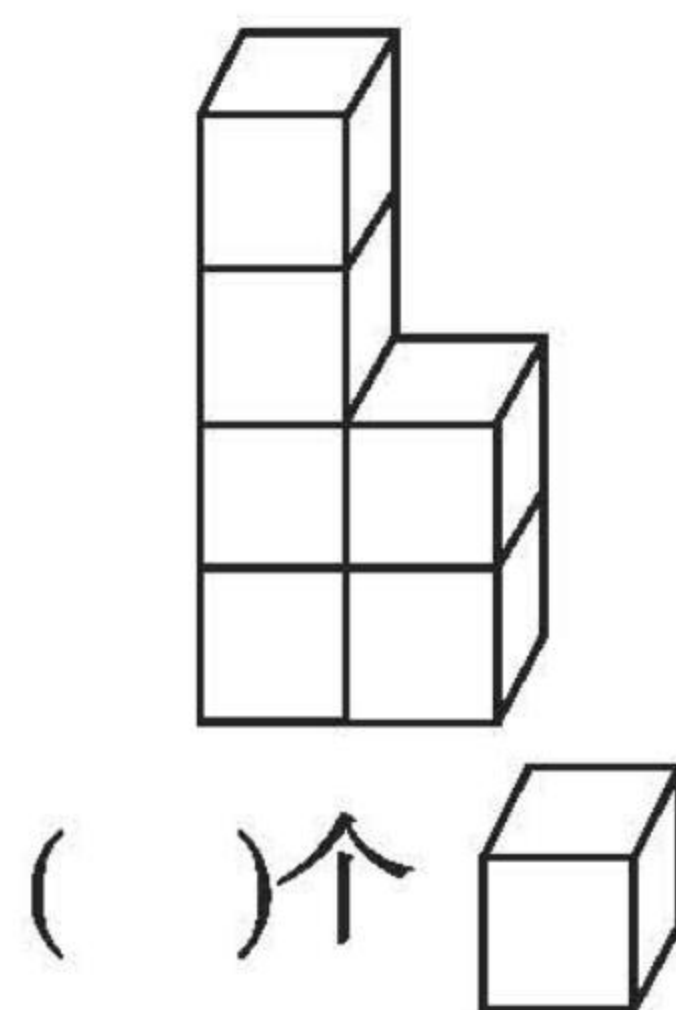
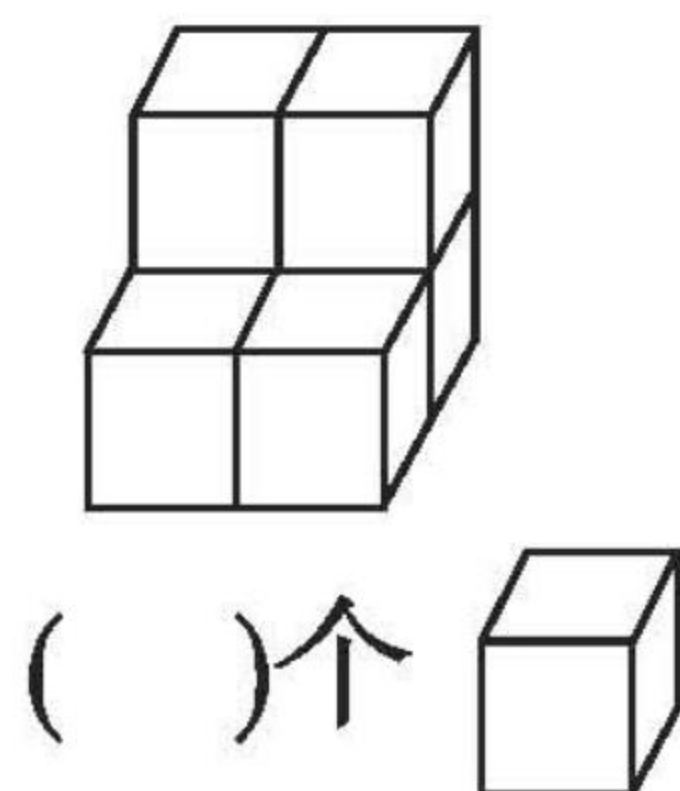
一年级 上册 时间:____分____秒 家长评价:_____

认识图形(1)

1. 连一连。



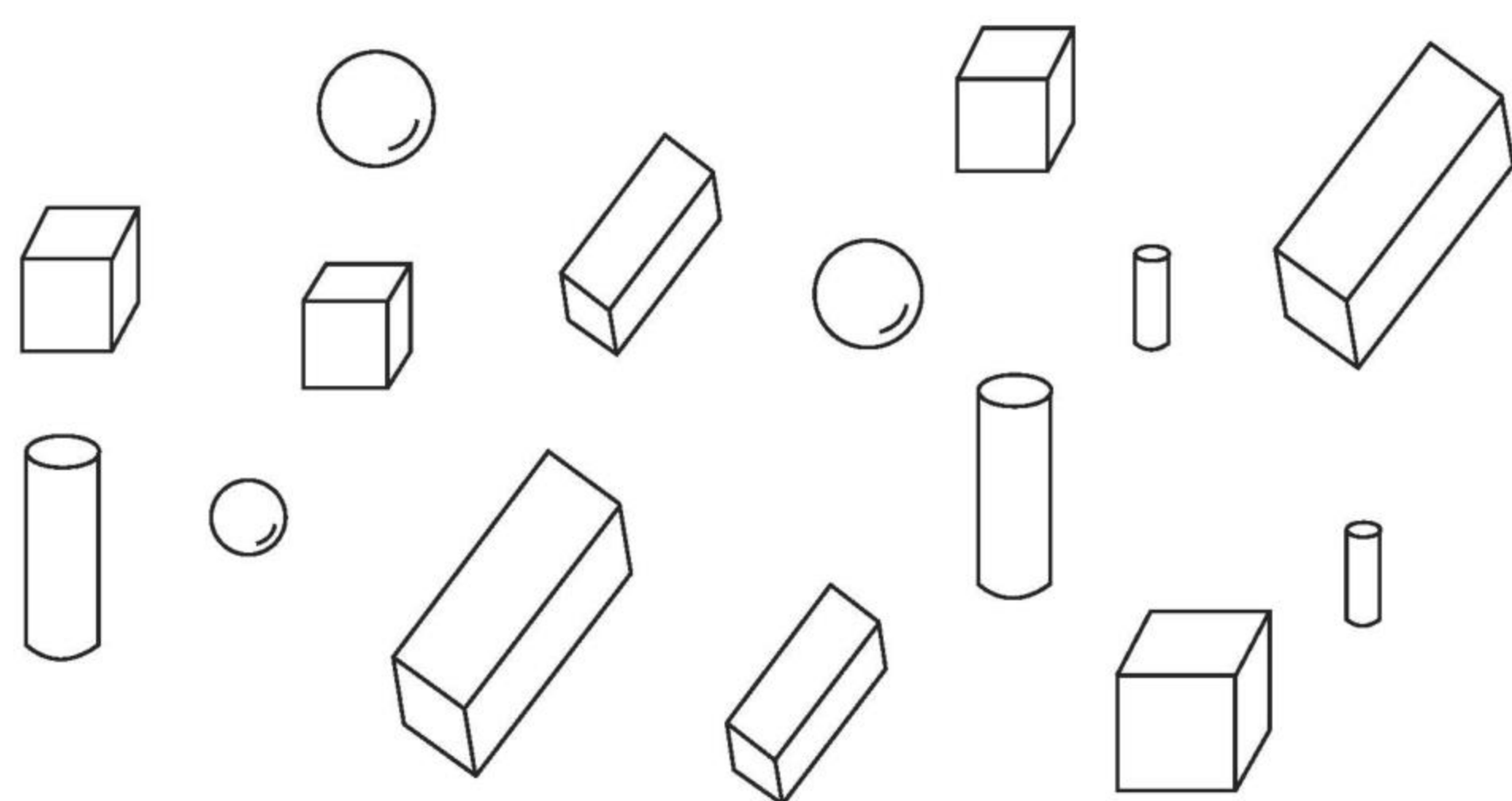
2. 数一数,下图中有多少个正方体。





认识图形(2)

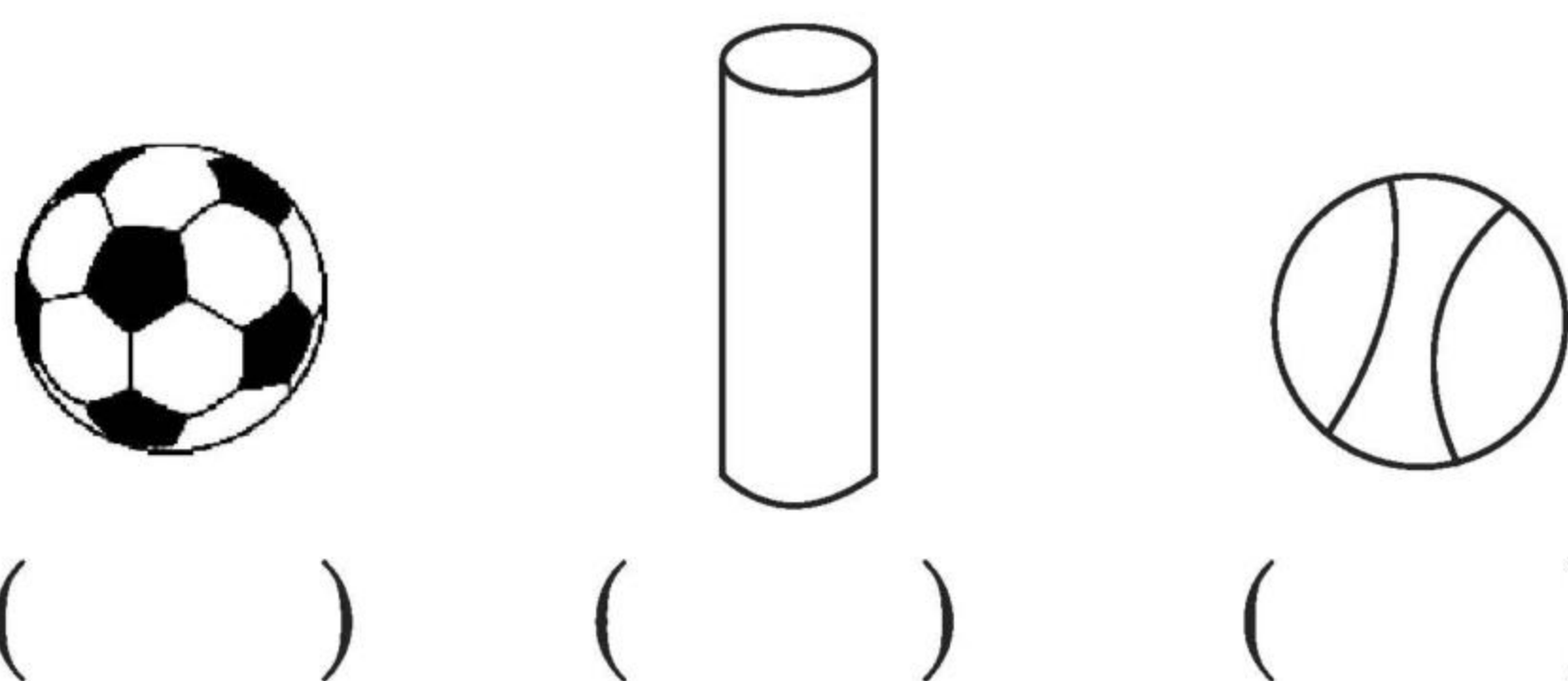
1. 数一数,填一填。



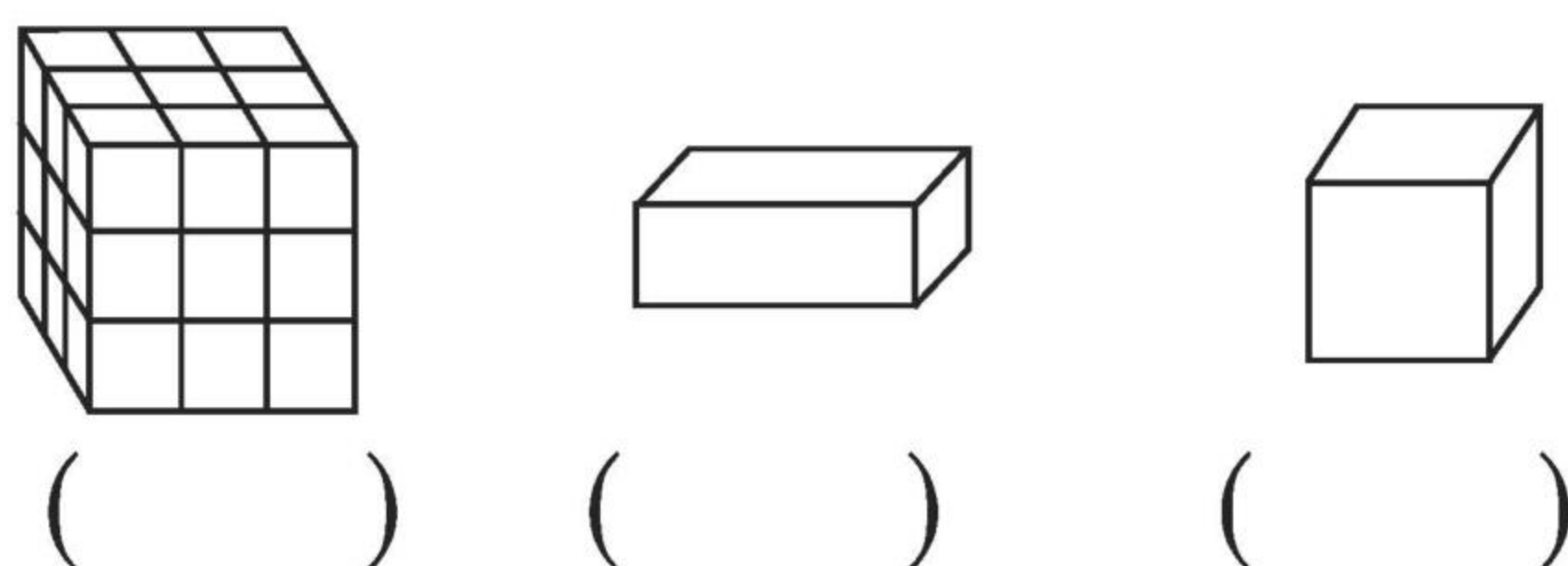
有()个,有()个,有()个,
○有()个。


2. 认一认,画一画。

(1) 在圆柱的下面画“√”,球的下面画“○”。



(2) 在长方体的下面画“√”,正方体的下面画“○”。



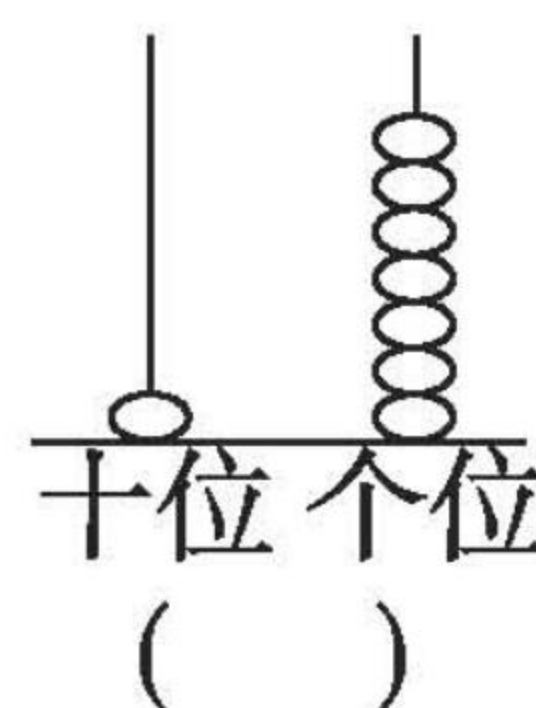
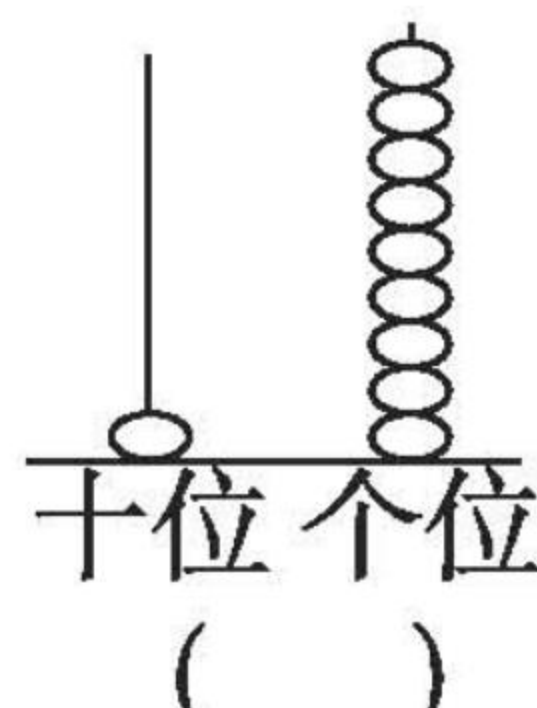
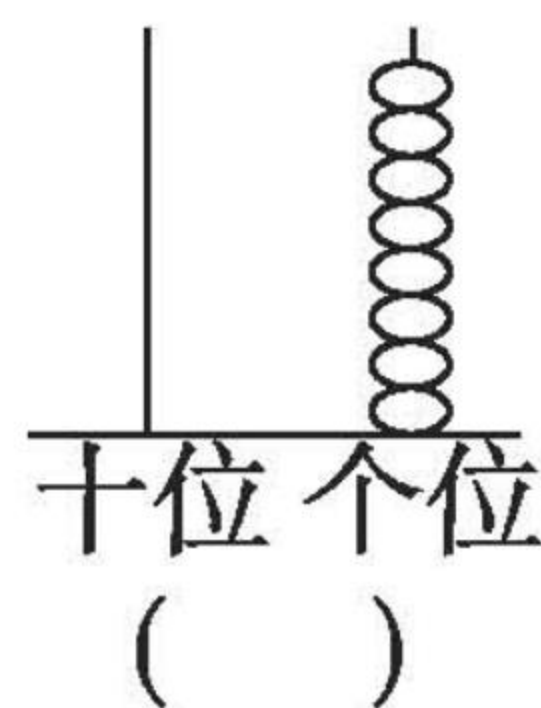
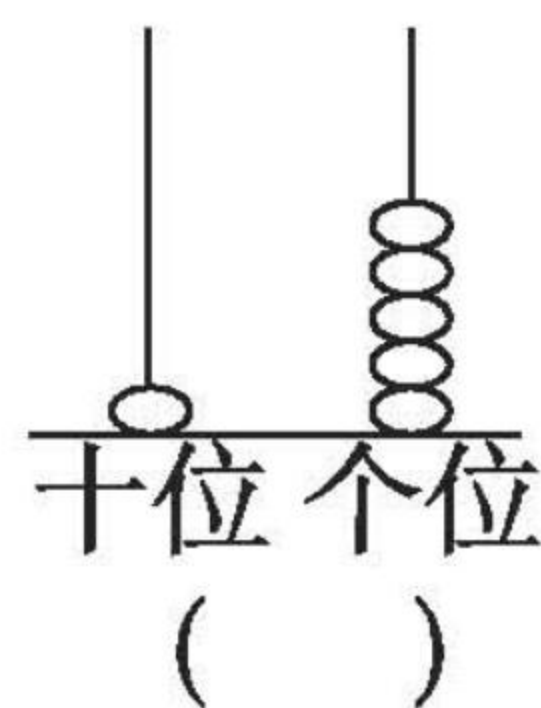
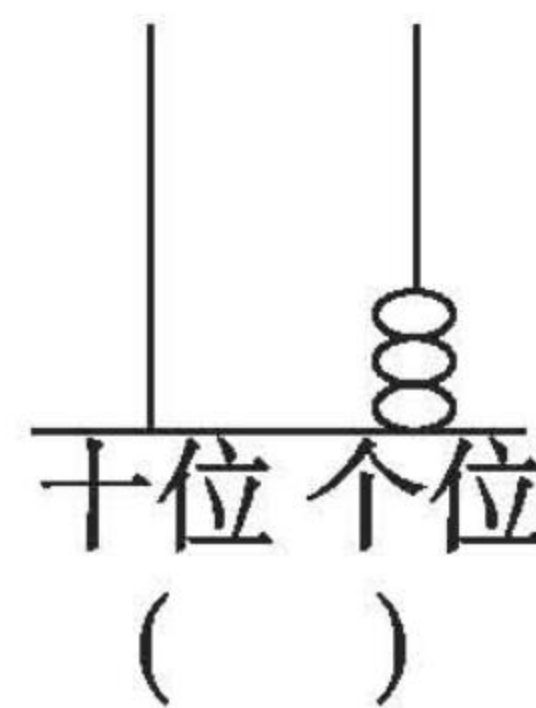
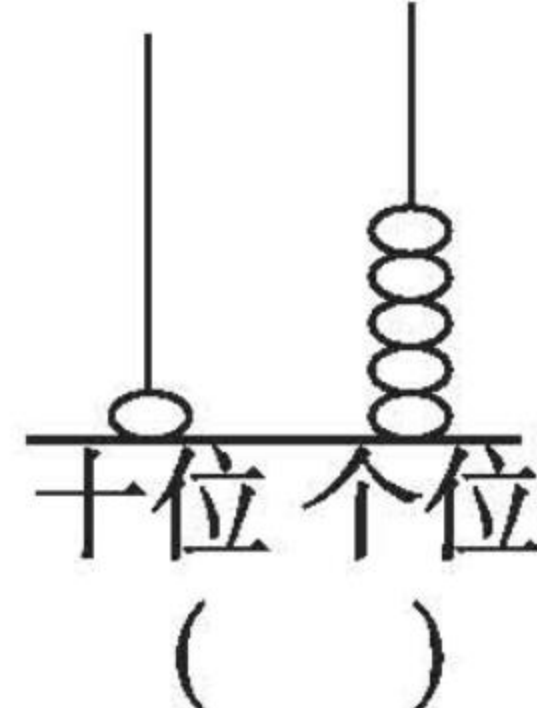
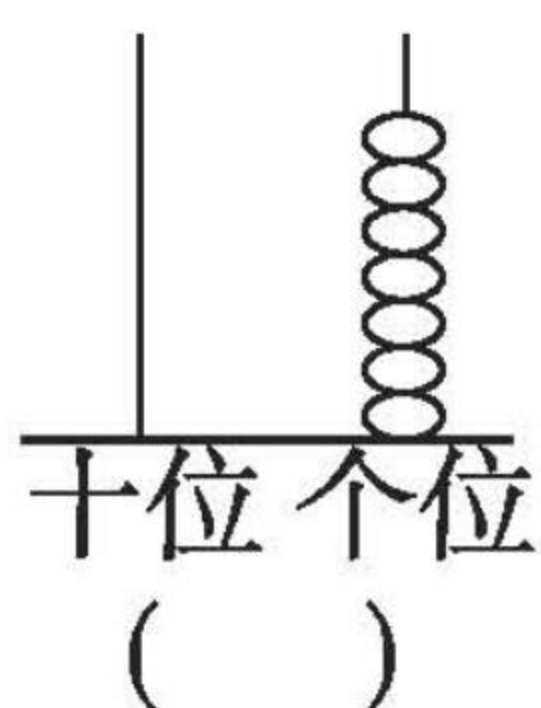
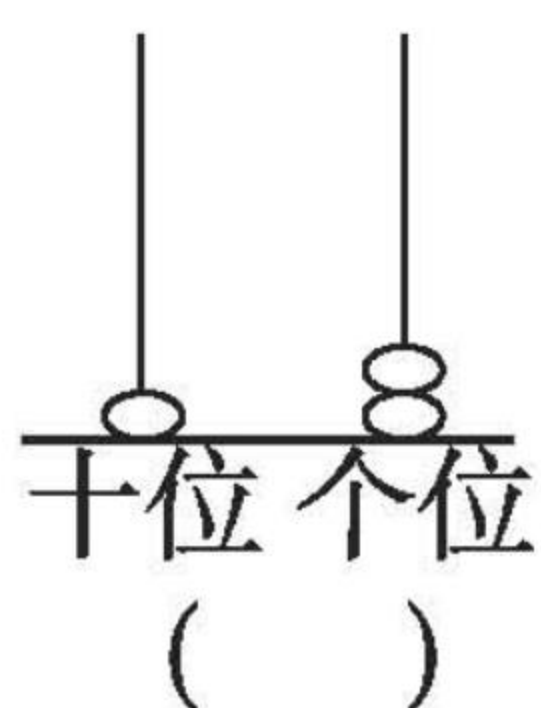
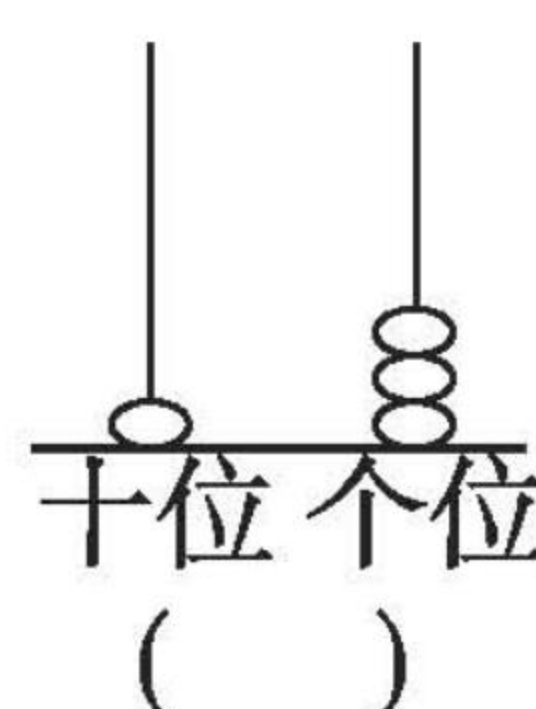
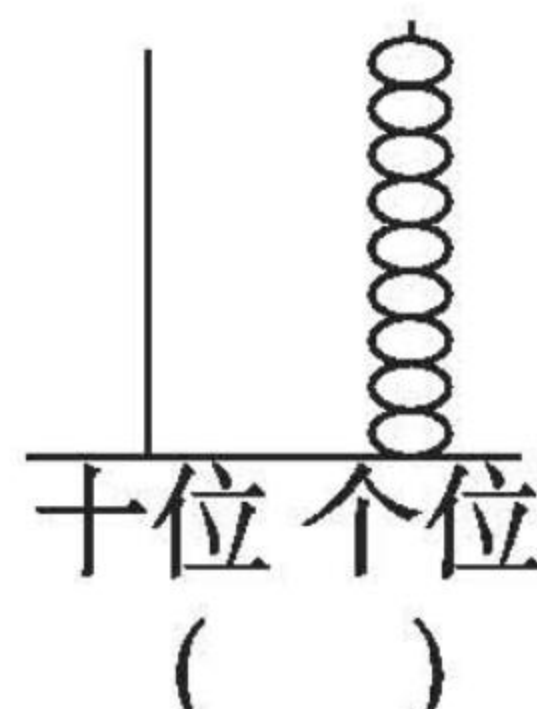
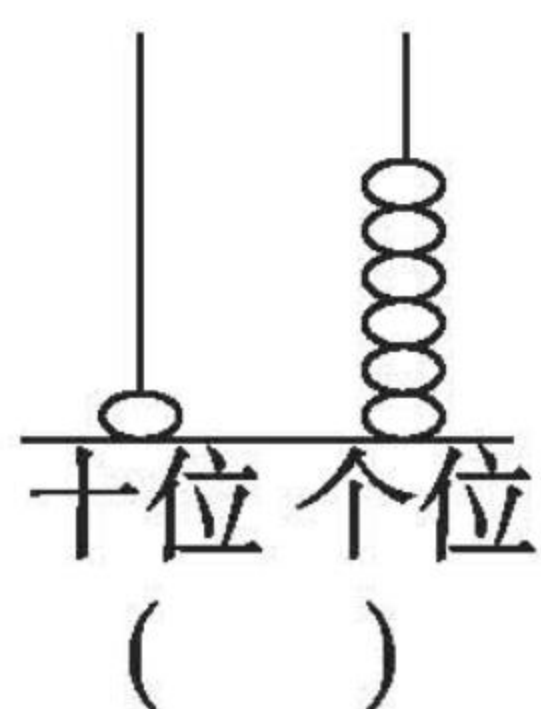
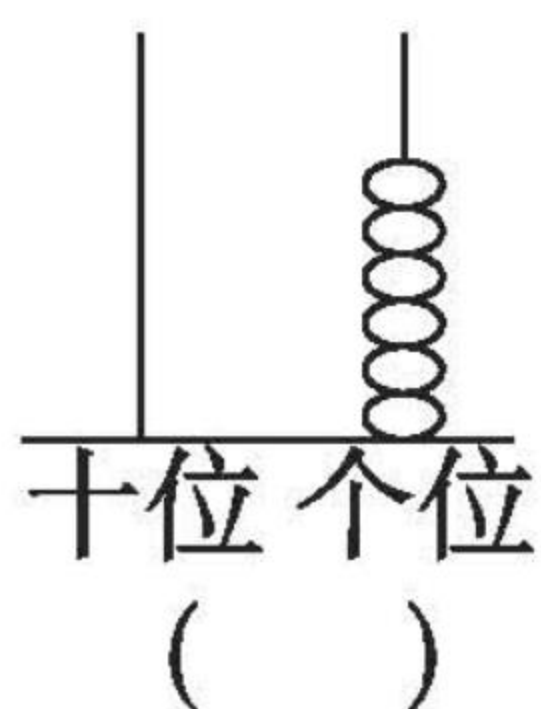
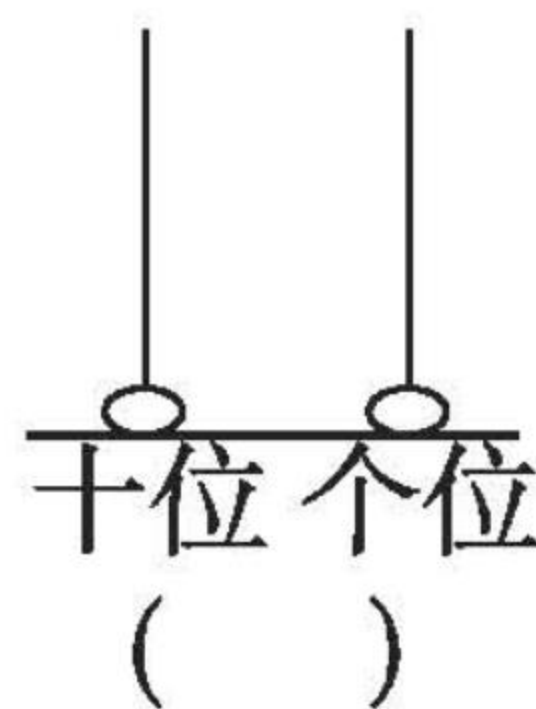
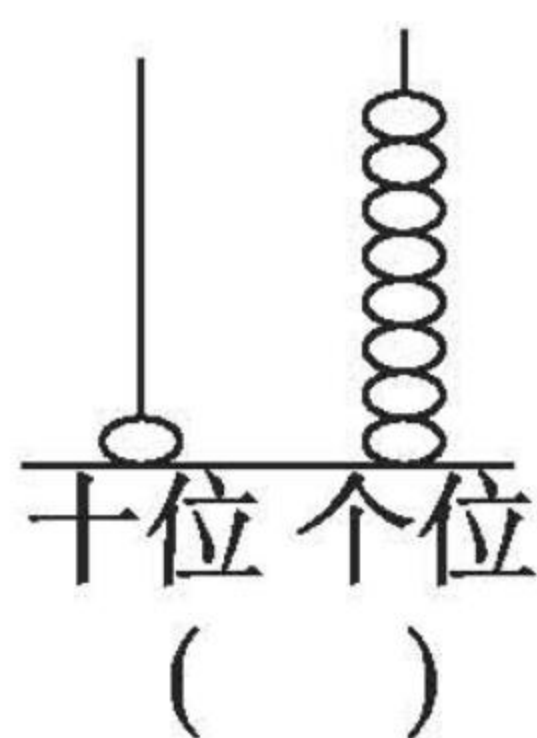
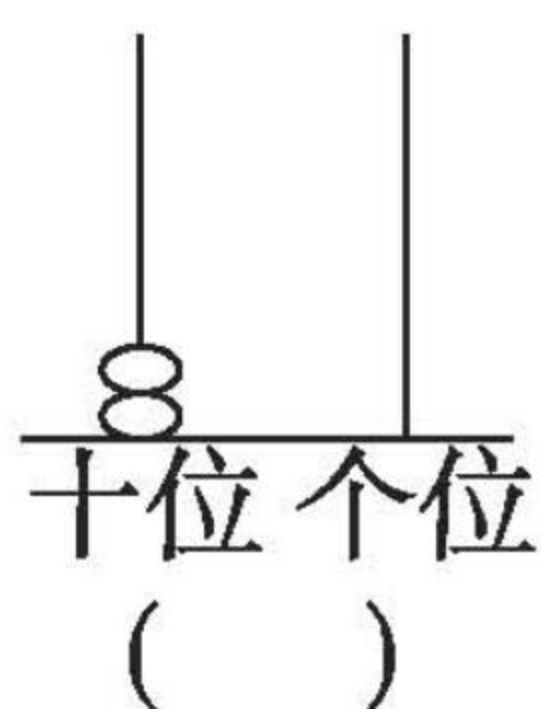
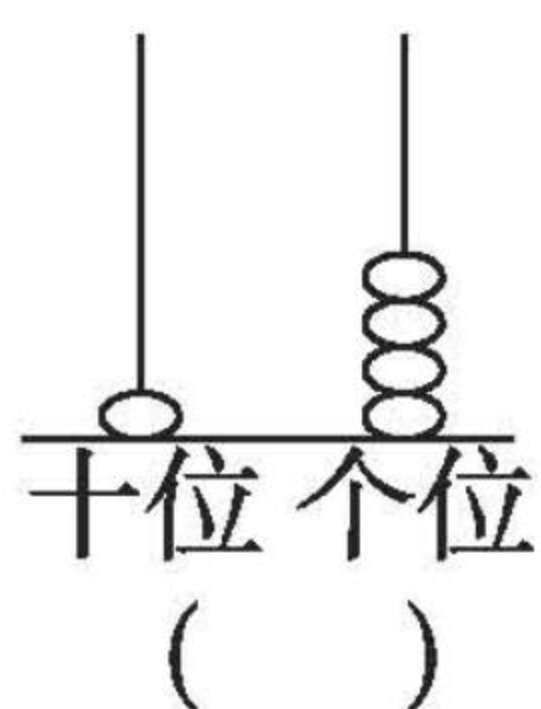


口算题卡

一年级 上册 时间:____分____秒 家长评价:_____

11 ~ 20 各数的认识(1)

读一读,写一写。





11 ~ 20 各数的认识(2)

1. 在○里填上“>”“<”或“=”。

(1) $12 \bigcirc 13$

(2) $18 \bigcirc 19$

(3) $15 \bigcirc 15$

(4) $20 \bigcirc 19$

(5) $15 \bigcirc 16$

(6) $20 \bigcirc 13$

(7) $18 \bigcirc 17$

(8) $12 \bigcirc 16$

(9) $14 \bigcirc 11$

(10) $17 \bigcirc 9$

(11) $18 \bigcirc 20$

2. 在□里填上合适的数。

(1) $\square < 18$

(2) $12 < \square$

(3) $13 < \square$

(4) $17 < \square$

(5) $14 > \square$

(6) $\square < 16$

(7) $12 > \square$

(8) $19 < \square$

(9) $20 < \square$

(10) $\square < 11$

(11) $\square < 15$

3. 松鼠采松果。

我采了15个松果。




小松鼠

我采了17个松果。



松鼠妈妈

谁采得多?



11 ~ 20 各数的认识(3)

1. 口算。

$15 + 3 =$

$18 + 1 =$

$17 - 4 =$

$19 - 3 =$

$16 - 2 =$

$18 - 5 =$

$17 + 2 =$

$16 - 6 =$

$11 + 5 =$

$11 + 4 =$

$19 - 5 =$

$15 + 5 =$

$17 - 2 =$

$12 + 5 =$

$16 - 4 =$

$15 - 3 =$

$10 + 8 =$

$14 - 4 =$

$19 - 6 =$

$18 - 3 =$

$$2. 18 \xrightarrow{+1} () \xrightarrow{-6} () \xrightarrow{-3} () \xrightarrow{-3} () \xrightarrow{-3} ()$$

$$15 \xrightarrow{-3} () \xrightarrow{+6} () \xrightarrow{+1} () \xrightarrow{-5} () \xrightarrow{-3} ()$$

$$16 \xrightarrow{+2} () \xrightarrow{-5} () \xrightarrow{-6} () \xrightarrow{+4} () \xrightarrow{+6} ()$$

$$17 \xrightarrow{-5} () \xrightarrow{-2} () \xrightarrow{+6} () \xrightarrow{-3} () \xrightarrow{-3} ()$$



黄冈360°数学 _____年____月____日 星期____

BSD

口算题卡

一年级 上册 时间:____分____秒 家长评价:_____

11 ~ 20 各数的认识(4)

1. 口算。

$15 + 2 =$

$18 - 3 =$

$13 - 2 =$

$14 - 3 =$

$17 - 3 =$

$14 + 2 =$

$16 - 6 =$

$15 - 3 =$

$14 - 2 =$

$18 - 7 =$

$18 - 5 =$

$16 - 2 =$

$14 + 3 =$

$15 - 10 =$

$18 - 6 =$

$17 + 2 =$

$16 - 4 =$

$12 + 5 =$

$15 - 4 =$

$19 - 7 =$

$17 + 2 =$

$17 - 6 =$

2.



我钓了
5条鱼。

我钓了
13条鱼。



一共钓了多少条鱼?

$\square \bigcirc \square = \square$



11 ~ 20 各数的认识(5)

1. 算一算。

(1) $15 - 1 =$

(11) $18 - 4 =$

(2) $13 + 2 =$

(12) $15 + 3 =$

(3) $17 - 1 =$

(13) $19 - 1 =$

(4) $16 - 6 =$

(14) $16 - 7 =$

(5) $14 + 4 =$

(15) $16 - 4 =$

(6) $18 - 5 =$

(16) $15 + 4 =$

(7) $19 - 8 =$

(17) $18 - 7 =$

(8) $14 + 3 =$

(18) $14 + 5 =$

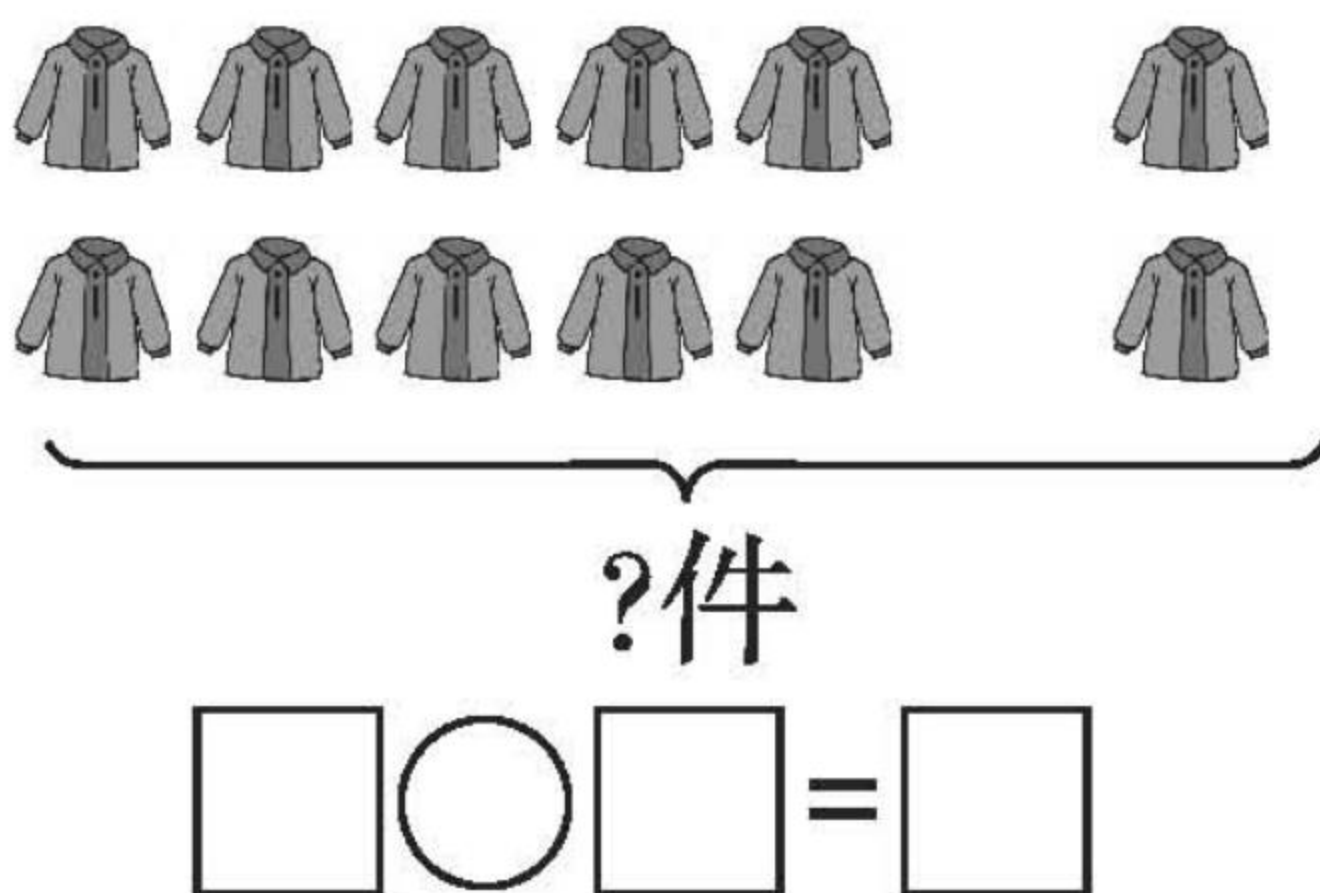
(9) $18 - 6 =$


(19) $18 - 8 =$

(10) $16 - 10 =$

(20) $16 + 2 =$

2. 看图写算式。





11 ~ 20 各数的认识(6)

1. 算一算。

(1) $17 + 2 =$

(11) $18 - 10 =$

(2) $19 - 3 =$

(12) $19 - 9 =$

(3) $15 + 5 =$

(13) $18 - 6 =$

(4) $18 - 1 =$

(14) $19 - 10 =$

(5) $15 + 2 =$

(15) $18 - 5 =$

(6) $17 + 0 =$

(16) $19 - 8 =$

(7) $13 + 2 =$

(17) $13 + 4 =$

(8) $16 - 0 =$

(18) $13 - 10 =$

(9) $18 - 7 =$

(19) $18 - 8 =$

(10) $19 - 6 =$

(20) $13 + 3 =$


2. 看图写算式。

?本



16本

$\square \bigcirc \square = \square$



黄冈360°数学 _____年____月____日 星期____

BSD

口算题卡

一年级 上册 时间:____分____秒 家长评价:_____

11 ~ 20 各数的认识(7)

1. 口算。

$12 + 3 =$

$17 + 1 =$

$17 - 2 =$

$18 - 6 =$

$18 - 4 =$

$18 - 5 =$

$19 - 6 =$

$17 - 3 =$

$12 + 7 =$

$17 - 4 =$

$16 - 3 =$

$17 + 1 =$

$10 + 7 =$

$19 - 8 =$

$17 - 6 =$

$15 + 2 =$

$12 + 5 =$

$13 + 7 =$

$19 - 4 =$

$15 - 10 =$

2.



我们组一共有16人，
其中男生有10人。

女生有多少人？



$\square \bigcirc \square = \square$



11 ~ 20 各数的认识(8)

1. 口算。

$15 + 2 =$

$14 + 2 =$

$14 + 4 =$

$10 + 7 =$

$16 - 2 =$

$17 - 4 =$

$17 - 5 =$

$19 - 8 =$

$18 - 4 =$

$18 + 1 =$

$16 - 6 =$

$16 - 4 =$

$7 + 3 =$

$19 - 9 =$

$16 - 3 =$

$11 + 8 =$

$19 - 7 =$

$12 - 2 =$

$19 - 5 =$

$13 + 4 =$

2.



同学们要种 19 棵树,已经种了()棵,同学们还要种()棵树。

$$\square \bigcirc \square = \square$$



9 加几(1)

1. 算一算,填一填。

$$\begin{array}{r} 9 + 3 = \square \\ \begin{array}{c} \diagup \quad \diagdown \\ \square \quad \square \end{array} \\ \square \end{array}$$

$$\begin{array}{r} 9 + 6 = \square \\ \begin{array}{c} \diagup \quad \diagdown \\ \square \quad \square \end{array} \\ \square \end{array}$$

$$\begin{array}{r} 9 + 8 = \square \\ \begin{array}{c} \diagup \quad \diagdown \\ \square \quad \square \end{array} \\ \square \end{array}$$

$$\begin{array}{r} 9 + 7 = \square \\ \begin{array}{c} \diagup \quad \diagdown \\ \square \quad \square \end{array} \\ \square \end{array}$$

2. 算一算,比一比。

$$9 + 1 + 4 =$$

$$9 + 5 =$$

$$9 + 1 + 1 =$$

$$9 + 2 =$$

$$9 + 1 + 8 =$$

$$9 + 9 =$$

$$9 + 1 + 6 =$$

$$9 + 7 =$$

$$9 + 1 + 5 =$$

$$9 + 6 =$$

$$9 + 1 + 2 =$$

$$9 + 3 =$$

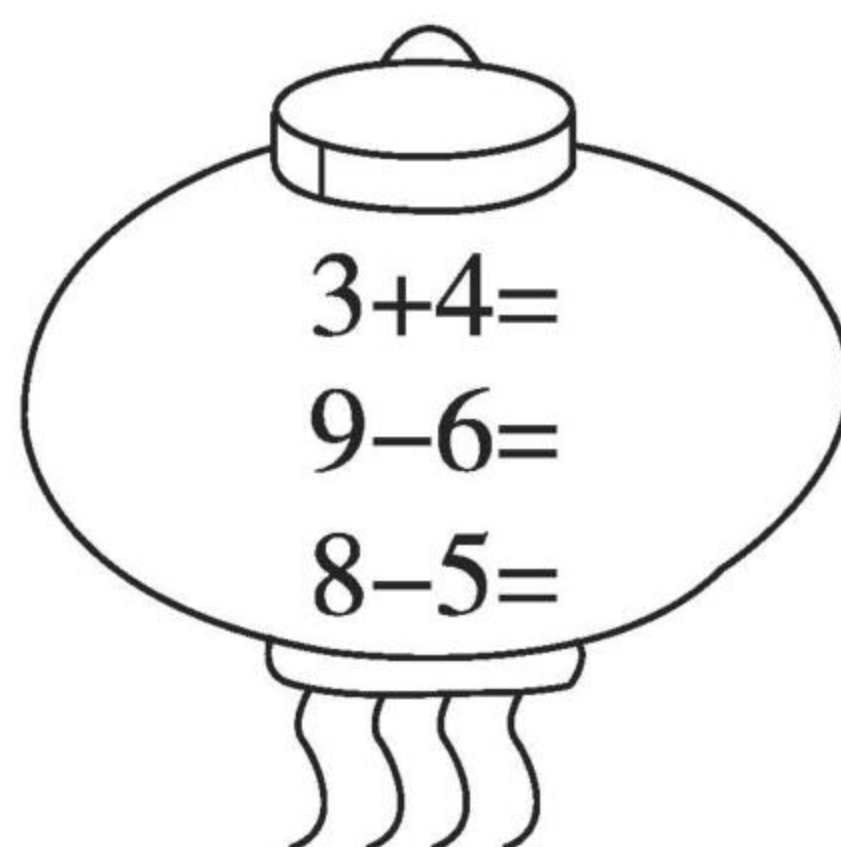
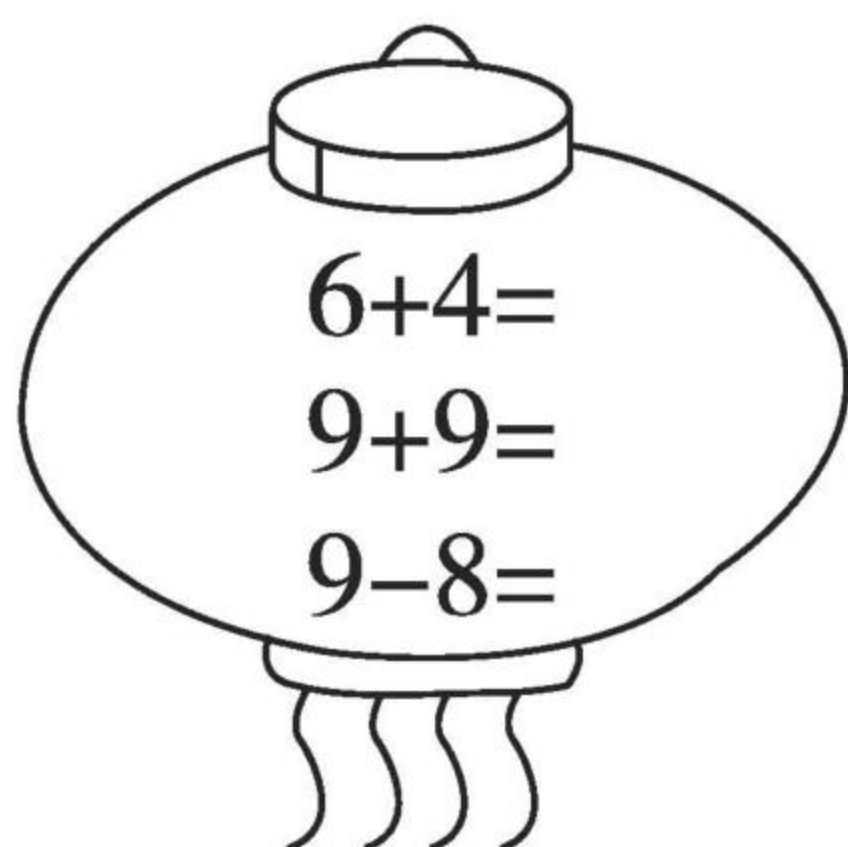


口算题卡

一年级 上册 时间:____分____秒 家长评价:_____

9 加几(2)

1. 口算。



2. 小猴该摘哪个桃? 圈一圈。



$9+8=$



$9+3=$



$9+6=$



3. 在○里填上“>”“<”或“=”。

$9+4 \bigcirc 14$

$9+7 \bigcirc 13$

$9+5 \bigcirc 15$

$9+6 \bigcirc 17$

$9+9 \bigcirc 20$

$9+3 \bigcirc 12$

$9+8 \bigcirc 17$

$9+2 \bigcirc 11$



黄冈360°数学 _____年____月____日 星期____

BSD

口算题卡

一年级 上册 时间:____分____秒 家长评价:_____

9 加/减(3)

1. 口算。

$9 + 3 =$

$11 + 5 =$

$9 + 6 =$

$16 - 2 =$

$9 + 8 =$

$10 + 7 =$

$9 + 5 =$

$15 - 5 =$

$9 + 7 =$

$19 - 4 =$

$9 + 1 =$

$16 + 2 =$

$14 - 2 =$

$17 - 4 =$

$15 - 3 =$

$15 + 1 =$

$18 + 1 =$

$9 + 4 =$

$17 - 3 =$

$17 - 5 =$

2.



现在一共有多少只兔子?

$$\square \bigcirc \square = \square$$



9 加几(4)

1. 口算。

$9 + 5 =$

$9 + 8 =$

$9 + 7 =$

$9 + 9 =$

$9 + 10 =$

$14 - 3 =$

$12 + 5 =$

$11 + 4 =$

$17 - 6 =$

$9 + 2 =$

2. 填括号。

$9 + () = 11$

$2 + () = 11$

$9 + () = 16$

$9 + () = 17$

$9 + () = 18$

$10 + () = 17$

$16 - () = 14$

$15 + () = 17$

$18 - () = 12$

$9 + () = 12$

3.

我有9张邮票。



小红

我的邮票和你同样多。



小明

小红和小明一共有多少张邮票?

$\square \bigcirc \square = \square$




口算题卡

一年级 上册 时间:____分____秒 家长评价:_____

8、7、6 加几(1)

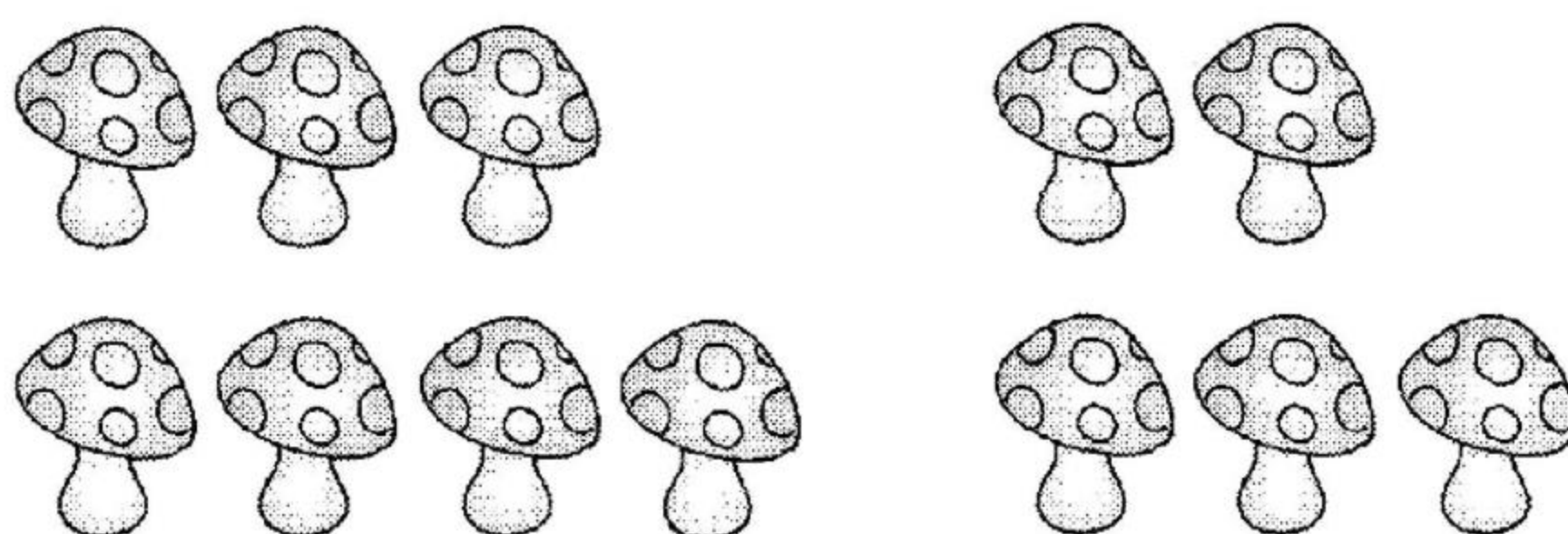
先圈一圈,再算一算。

(1)



$$\begin{array}{r} 8 + 4 = \square \\ \begin{array}{c} \diagdown \quad \diagup \\ \square \quad \square \end{array} \\ \downarrow \\ 10 \end{array}$$

(2)



$$\begin{array}{r} 7 + 5 = \square \\ \begin{array}{c} \diagdown \quad \diagup \\ \square \quad \square \end{array} \\ \downarrow \\ 10 \end{array}$$

(3)



$$\begin{array}{r} 6 + 6 = \square \\ \begin{array}{c} \diagdown \quad \diagup \\ \square \quad \square \end{array} \\ \downarrow \\ 10 \end{array}$$



黄冈360°数学 _____年____月____日 星期____

BSD

口算题卡

一年级 上册 时间:____分____秒 家长评价:_____

8、7、6 加/减(2)

1. 口算。

$9 + 7 =$

$6 + 8 =$

$8 + 8 =$

$7 + 8 =$

$7 + 5 =$

$7 + 4 =$

$8 + 5 =$

$9 + 8 =$

$8 + 4 =$

$8 + 2 =$

$9 + 6 =$

$9 + 9 =$

$9 + 5 =$

$14 + 4 =$

$7 + 7 =$

$17 - 6 =$



$14 + 2 =$

$19 - 5 =$

$7 + 6 =$

$14 - 4 =$

2.



原来有 辆车, 又开来 辆。现在一共有多少辆车?

$\square \bigcirc \square = \square$



口算题卡

一年级 上册 时间:____分____秒 家长评价:_____

5、4、3、2 加几(1)

1. 填一填。

$$\begin{array}{c} 5 + 9 = \square \\ \swarrow \quad \searrow \\ \square \quad \square \\ \quad \quad \quad \downarrow \\ \quad \quad \quad \square \end{array}$$

$$\begin{array}{c} 3 + 9 = \square \\ \swarrow \quad \searrow \\ \square \quad \square \\ \quad \quad \quad \downarrow \\ \quad \quad \quad \square \end{array}$$

$$\begin{array}{c} 4 + 8 = \square \\ \swarrow \quad \searrow \\ \square \quad \square \\ \quad \quad \quad \downarrow \\ \quad \quad \quad \square \end{array}$$

$$\begin{array}{c} 4 + 7 = \square \\ \swarrow \quad \searrow \\ \square \quad \square \\ \quad \quad \quad \downarrow \\ \quad \quad \quad \square \end{array}$$

$$\begin{array}{c} 2 + 9 = \square \\ \swarrow \quad \searrow \\ \square \quad \square \\ \quad \quad \quad \downarrow \\ \quad \quad \quad \square \end{array}$$

$$\begin{array}{c} 5 + 7 = \square \\ \swarrow \quad \searrow \\ \square \quad \square \\ \quad \quad \quad \downarrow \\ \quad \quad \quad \square \end{array}$$

2. 比大小。

$$3 + 9 \bigcirc 14 \quad 3 + 8 \bigcirc 12 \quad 17 - 2 \bigcirc 15 \quad 4 + 9 \bigcirc 12$$

$$6 + 7 \bigcirc 12 \quad 3 + 9 \bigcirc 12 \quad 7 + 7 \bigcirc 15 \quad 6 + 6 \bigcirc 14$$



黄冈360°数学 _____年____月____日 星期____

BSD

口算题卡

一年级 上册 时间:____分____秒 家长评价:_____

5、4、3、2 加/减(2)

1. 口算。

$4 + 8 =$

$8 + 6 =$

$5 + 6 =$

$6 + 7 =$

$8 + 5 =$

$2 + 9 =$

$4 + 7 =$

$4 + 9 =$

$10 + 2 =$

$9 + 5 =$

$1 + 8 =$

$8 + 4 =$

$9 + 4 =$

$7 + 4 =$

$6 + 6 =$

$7 + 5 =$

$6 + 8 =$

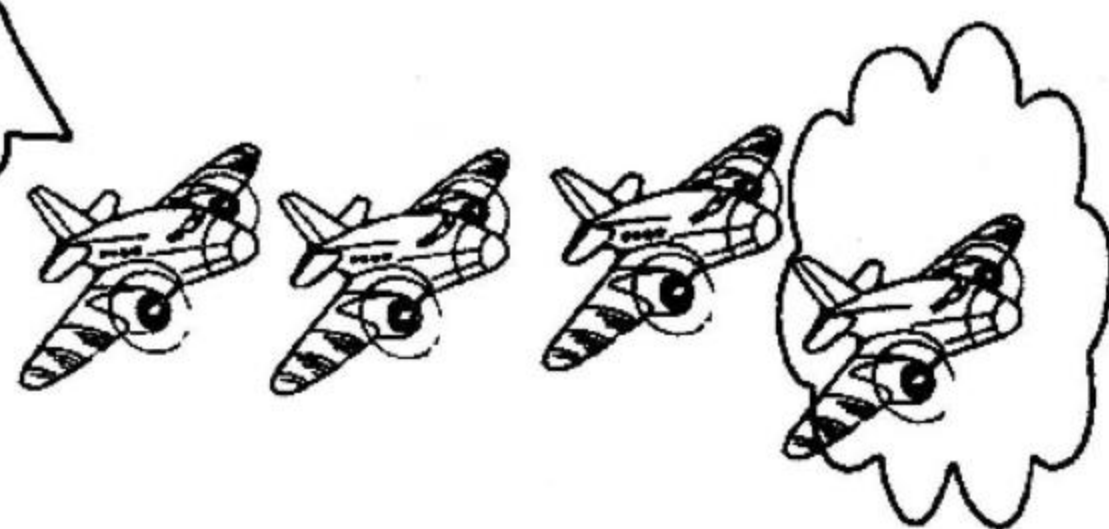
$14 - 2 =$

$7 + 7 =$

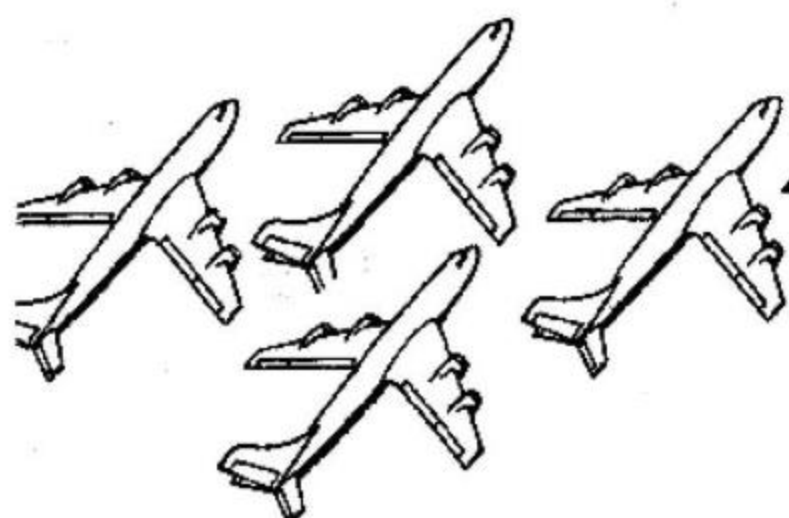
$15 - 3 =$

2.

天空中有8架飞机。



又飞来4架。



现在一共有多少架飞机?

$$\square \bigcirc \square = \square$$



5、4、3、2 加/减(3)

1. 算一算。

(1) $4 + 8 =$

(5) $4 + 7 =$

(8) $9 + 4 =$

(2) $5 + 5 =$

(6) $10 + 3 =$

(9) $2 + 9 =$

(3) $5 + 8 =$

(7) $2 + 8 =$

(10) $6 + 6 =$

(4) $5 + 9 =$

2. 在○里填上“>”“<”或“=”。

(1) $9 + 7 \bigcirc 8 + 7$

(6) $4 + 8 \bigcirc 7 + 7$

(2) $5 + 6 \bigcirc 6 + 5$

(7) $8 + 6 \bigcirc 9 + 6$

(3) $3 + 8 \bigcirc 3 + 9$

(8) $9 + 5 \bigcirc 5 + 10$


(4) $5 + 10 \bigcirc 7 + 4$

(9) $10 + 4 \bigcirc 7 + 8$

(5) $19 - 10 \bigcirc 9 + 0$

(10) $7 + 7 \bigcirc 3 + 10$

3.



他后面这只手里
还有8支铅笔。

一共有多少支铅笔?

$\square \bigcirc \square = \square$



口算题卡

一年级 上册 时间:____分____秒 家长评价:_____

5、4、3、2 加/减(4)

1. 算一算。

$6 + 9 =$

$4 + 9 =$

$8 + 6 =$

$7 + 7 =$

$2 + 9 =$

$7 + 5 =$

$7 + 4 =$

$6 + 7 =$

$9 + 9 =$

$9 + 5 =$

2. 比大小。

$5 + 7 \bigcirc 7 + 5$

$5 + 8 \bigcirc 4 + 3$

$9 - 5 \bigcirc 8 + 4$

$2 + 9 \bigcirc 9 + 2$

$4 + 7 \bigcirc 5 + 6$

$9 + 0 \bigcirc 0 + 9$

$3 + 8 \bigcirc 8 + 3$

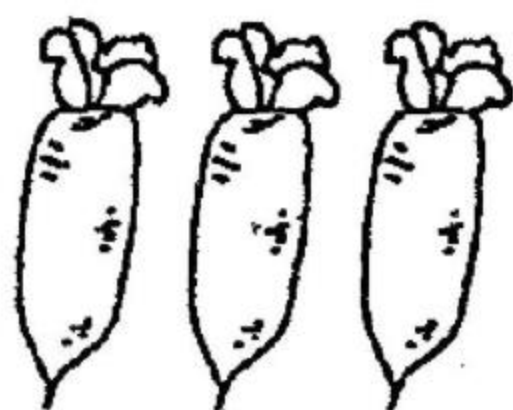
$7 + 5 \bigcirc 14 - 2$

$4 + 9 \bigcirc 7 + 6$

$8 + 8 \bigcirc 16 + 1$


3.

我吃了9个, 还剩3个。



原来一共有多少个?

$\square \bigcirc \square = \square$



口算题卡

一年级 上册 时间：____分____秒 家长评价：_____

认识钟表(1)

写出钟面上所表示的时间。



: _____



: _____



: _____



: _____



: _____



: _____



: _____



: _____




认识钟表(2)

在下面钟表上面画上时针和分针。



5时




1时半




7时半



10时



2时半



6时半



12时半




8时



9时



11时



期末练习(1)

1. 口算。

(1) $8 + 11 =$

(11) $14 + 2 =$

(2) $1 + 17 =$

(12) $17 + 2 =$

(3) $7 + 12 =$

(13) $15 + 3 =$

(4) $4 + 13 =$

(14) $12 + 6 =$

(5) $6 + 13 =$

(15) $16 + 3 =$

(6) $2 + 16 =$

(16) $12 + 5 =$

(7) $5 + 14 =$

(17) $13 + 1 =$

(8) $8 + 11 =$

(18) $10 + 7 =$

(9) $9 + 10 =$

(19) $18 + 1 =$

(10) $5 + 10 =$

(20) $15 + 4 =$

2. 在○里填上“>”“<”或“=”。

(1) $3 + 6 \bigcirc 10$

(6) $15 \bigcirc 13 + 4$

(2) $10 + 7 \bigcirc 7$

(7) $13 \bigcirc 6 + 4$

(3) $3 + 5 \bigcirc 10$

(8) $19 \bigcirc 16 + 2$

(4) $6 + 12 \bigcirc 18$

(9) $17 \bigcirc 13 + 3$

(5) $5 + 11 \bigcirc 16$

(10) $16 \bigcirc 13 + 2$



期末练习(2)

1. 口算。

(1) $18 - 4 =$

(11) $17 - 2 =$

(2) $16 - 3 =$

(12) $19 - 6 =$

(3) $13 - 1 =$

(13) $18 - 5 =$

(4) $15 - 1 =$

(14) $18 - 3 =$

(5) $16 - 4 =$

(15) $19 - 2 =$

(6) $18 - 7 =$

(16) $15 - 0 =$

(7) $12 - 0 =$

(17) $19 - 3 =$

(8) $19 - 0 =$

(18) $13 - 1 =$

(9) $19 + 0 =$

(19) $18 - 2 =$

(10) $18 - 1 =$

(20) $18 - 6 =$

2.

我采了8个松果。

我采的松果和你同样多。



它们一共采了多少个松果?

$\square \bigcirc \square = \square$



期末练习(3)

1. 在○里填上“>”“<”或“=”。

(1) $5 + 3 - 4 \bigcirc 4$

(11) $6 + 2 - 5 \bigcirc 10$

(2) $3 + 3 - 2 \bigcirc 6$

(12) $5 - 0 + 5 \bigcirc 5$

(3) $6 - 4 + 8 \bigcirc 9$

(13) $10 - 6 + 2 \bigcirc 3$

(4) $10 - 7 + 1 \bigcirc 5$

(14) $5 - 2 - 3 \bigcirc 0$

(5) $2 + 5 - 6 \bigcirc 0$

(15) $3 + 1 - 3 \bigcirc 2$

(6) $8 + 2 - 5 \bigcirc 2$

(16) $7 + 1 - 6 \bigcirc 0$

(7) $3 + 0 + 4 \bigcirc 6$

(17) $6 + 1 + 2 \bigcirc 9$

(8) $10 - 5 - 4 \bigcirc 3$

(18) $4 + 1 + 4 \bigcirc 8$

(9) $9 - 8 + 6 \bigcirc 7$

(19) $10 - 6 - 2 \bigcirc 3$

(10) $10 - 4 + 1 \bigcirc 6$

(20) $7 - 6 + 5 \bigcirc 5$

2.



一共有□个☆,把左边6个☆圈起来。从右边数,把第8个☆涂成红色。



期末练习(4)

1. 算一算。

(1) $10 - 7 - 2 =$

(11) $4 + 1 + 2 =$

(2) $9 + 1 + 0 =$

(12) $7 + 3 + 1 =$

(3) $4 + 2 + 6 =$

(13) $8 + 9 - 2 =$

(4) $7 - 1 + 8 =$

(14) $2 + 3 + 1 =$

(5) $8 + 1 + 4 =$

(15) $3 + 2 + 4 =$

(6) $2 + 1 + 3 =$

(16) $7 + 2 + 9 =$

(7) $3 + 4 + 2 =$

(17) $6 + 3 + 2 =$

(8) $7 + 1 + 2 =$

(18) $5 + 6 - 1 =$

(9) $6 - 2 + 9 =$

(19) $10 - 3 - 0 =$

(10) $5 + 1 + 6 =$

(20) $10 - 8 - 2 =$

2. 看图写算式。



$$\square + \square + \square = \square$$



期末练习(5)

1. 口算。

$7 + 8 =$

$7 + 2 =$

$6 + 6 =$

$6 + 8 =$

$9 + 4 =$

$7 + 5 =$

$3 + 8 =$

$4 + 8 =$

$14 - 3 =$

$16 - 4 =$

$6 + 7 =$

$15 + 3 =$

$7 + 7 =$

$19 - 6 =$

$8 + 6 =$

$19 - 8 =$

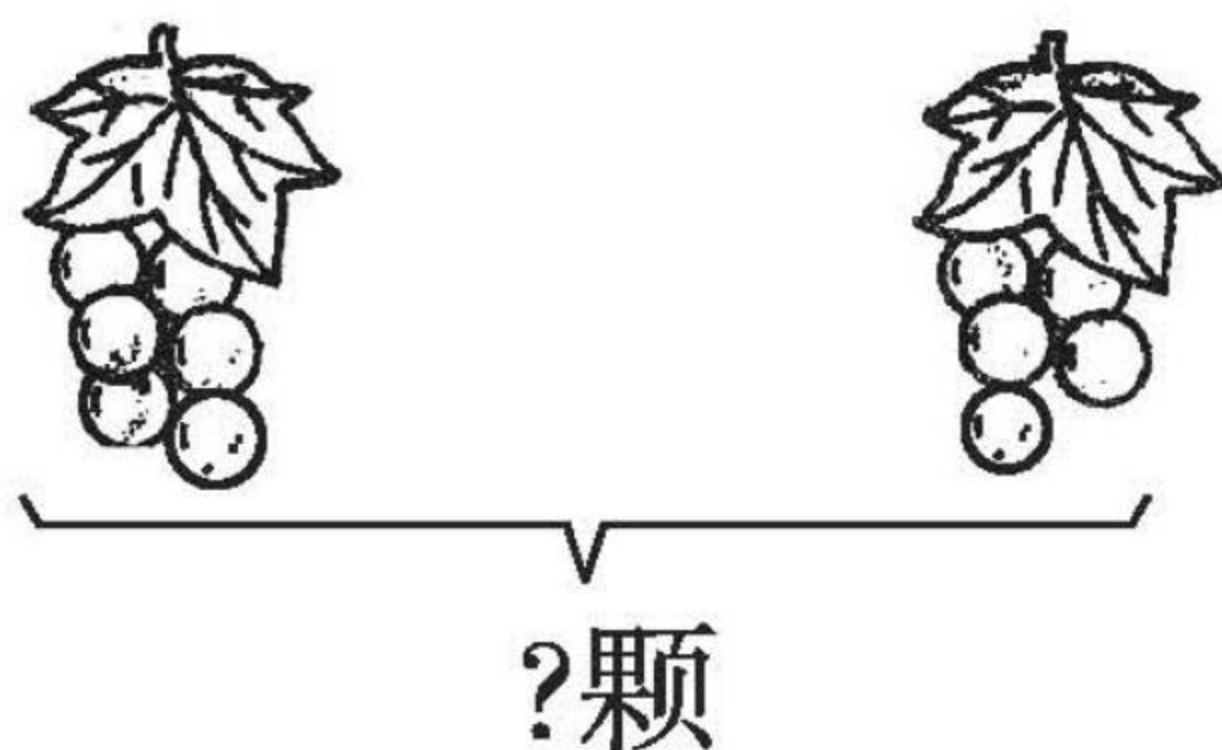
$15 + 3 =$

$7 + 4 =$

$14 + 2 =$

$8 + 8 =$

2. 说说图中的意思,再解答。



左边有 颗葡萄,右边有 颗葡萄。

一共有几颗葡萄?

$$\square \bigcirc \square = \square$$



期末练习(6)

1. 口算。

$8 + 7 - 6 =$

$2 + 3 + 8 =$

$7 + 7 - 2 =$

$3 + 5 + 9 =$

$9 - 3 + 8 =$

$4 + 3 + 7 =$

$7 - 4 + 9 =$

$6 + 8 - 2 =$

$6 + 6 - 2 =$

$14 - 2 - 2 =$

$14 - 2 + 3 =$

$19 - 9 + 6 =$

$15 - 5 + 6 =$

$7 + 8 - 4 =$

$4 + 9 - 3 =$

$15 - 4 + 6 =$


$7 + 7 - 3 =$

$3 + 5 + 8 =$

$6 + 8 - 2 =$

$6 + 2 + 9 =$

2.



地里还剩多少根萝卜?

$$\square \bigcirc \square = \square$$



期末练习(7)

1. 口算。

$8 + 3 =$

$6 + () = 13$

$8 + 8 =$

$9 + () = 14$

$9 + 6 =$

$8 + () = 17$

$9 + 9 =$

$7 + () = 15$

$8 + 5 =$

$7 + () = 12$

$7 + 7 =$

$6 + () = 15$

$6 + 8 =$

$8 + () = 12$

$9 + 3 =$

$8 + () = 16$

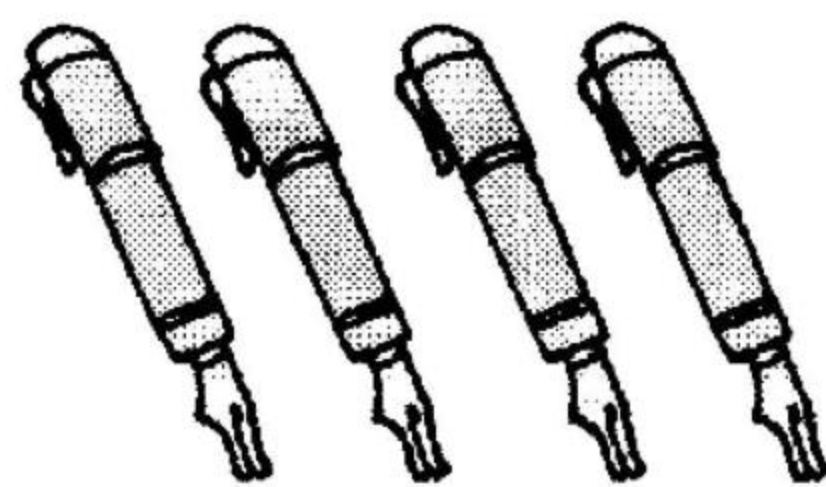

$7 + 5 =$

$7 + () = 16$

$7 + 4 =$

$() + 9 = 15$

2.



17支

$\square \bigcirc \square = \square$



期末练习(8)

1. 口算。

$17 - 3 =$

$6 + 6 - 2 =$

$16 + 4 =$

$7 + 8 - 3 =$

$3 + 12 =$

$4 + 3 + 9 =$

$12 + 5 =$

$6 + 2 + 8 =$

$2 + 11 =$

$7 + 2 + 7 =$

$15 - 5 =$

$6 + 3 + 6 =$

$7 + 7 =$

$14 - 2 + 5 =$

$8 + 6 =$

$18 - 4 - 4 =$

$9 + 4 =$

$7 + 2 + 9 =$

$18 - 8 =$

$6 + 3 + 4 =$

2. 解决问题。



小红和小兰之间有()人。



期末练习(9)

1. 口算。

$14 + 2 =$

$13 + 5 =$

$15 - 3 =$

$18 - 4 =$

$19 - 6 =$

$17 - 3 =$

$10 + 0 =$

$9 + 9 =$

$6 + 8 =$

$9 + 8 =$

$9 + 4 =$

$7 + 6 =$

$7 + 7 =$

$6 + 7 =$

$19 - 4 =$

$8 + 7 =$



$15 + 2 =$

$19 - 5 =$

$9 + 6 =$

$14 + 1 =$

2. 算一算,填一填。

		
小红有	6 支	9 个
小明有	8 支	3 个
一共有	() 支	() 个



黄冈360°数学 _____年____月____日 星期____

BSD

口算题卡

一年级 上册 时间:____分____秒 家长评价:_____

期末练习(10)

1. 口算。

$10 + 7 =$

$5 + 8 =$

$4 + 3 =$

$17 - 5 =$

$12 - 2 =$

$8 + 8 =$

$11 + 3 =$

$6 + 6 =$

$10 - 7 =$

$6 + 7 =$

$3 + 8 =$

$7 + 8 =$

$9 + 6 =$

$9 + 9 =$

$13 + 3 =$

$9 + 4 =$


$8 + 8 =$

$8 - 5 =$

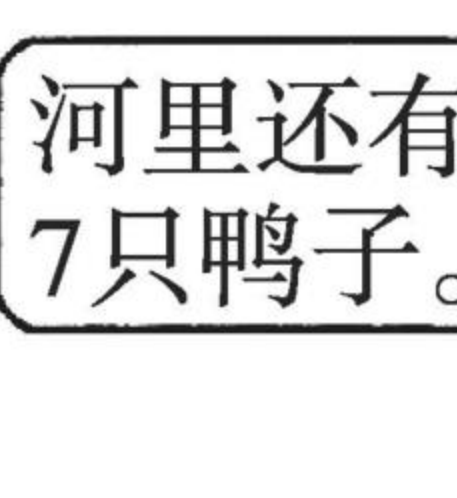
$7 + 4 =$

$17 - 2 =$

2.




有5只鸭子
上岸了。



河里还有
7只鸭子。

一共有多少只鸭子? $\square \bigcirc \square = \square$



期末练习(11)

1. 在○里填上“>”“<”或“=”。

(1) $18 - 10 \bigcirc 18$

(11) $14 - 3 \bigcirc 11$

(2) $13 - 3 \bigcirc 8$

(12) $12 - 2 \bigcirc 5$

(3) $10 - 4 \bigcirc 6$

(13) $8 - 6 \bigcirc 2$

(4) $19 - 10 \bigcirc 9$

(14) $18 - 8 \bigcirc 9$

(5) $14 - 4 \bigcirc 8$

(15) $10 - 5 \bigcirc 6$

(6) $15 - 10 \bigcirc 9$

(16) $17 - 10 \bigcirc 9$

(7) $13 + 6 \bigcirc 18$

(17) $19 - 8 \bigcirc 7$

(8) $15 - 10 \bigcirc 5$

(18) $13 - 10 \bigcirc 5$


(9) $14 - 3 \bigcirc 8$

(19) $11 - 10 \bigcirc 3$

(10) $16 - 6 \bigcirc 5$

(20) $7 + 8 \bigcirc 9$

2.



一共有多少人? $\square \bigcirc \square = \square$



期末练习(12)

1. 口算。

(1) $14 - 0 =$

(11) $19 - 4 =$

(2) $17 - 3 =$

(12) $17 + 2 =$

(3) $15 - 1 =$

(13) $17 - 5 =$

(4) $9 + 8 =$

(14) $18 - 6 =$

(5) $14 - 3 =$

(15) $19 - 5 =$

(6) $13 - 2 =$

(16) $18 - 3 =$

(7) $17 - 4 =$

(17) $16 - 0 =$

(8) $15 - 2 =$

(18) $16 - 3 =$

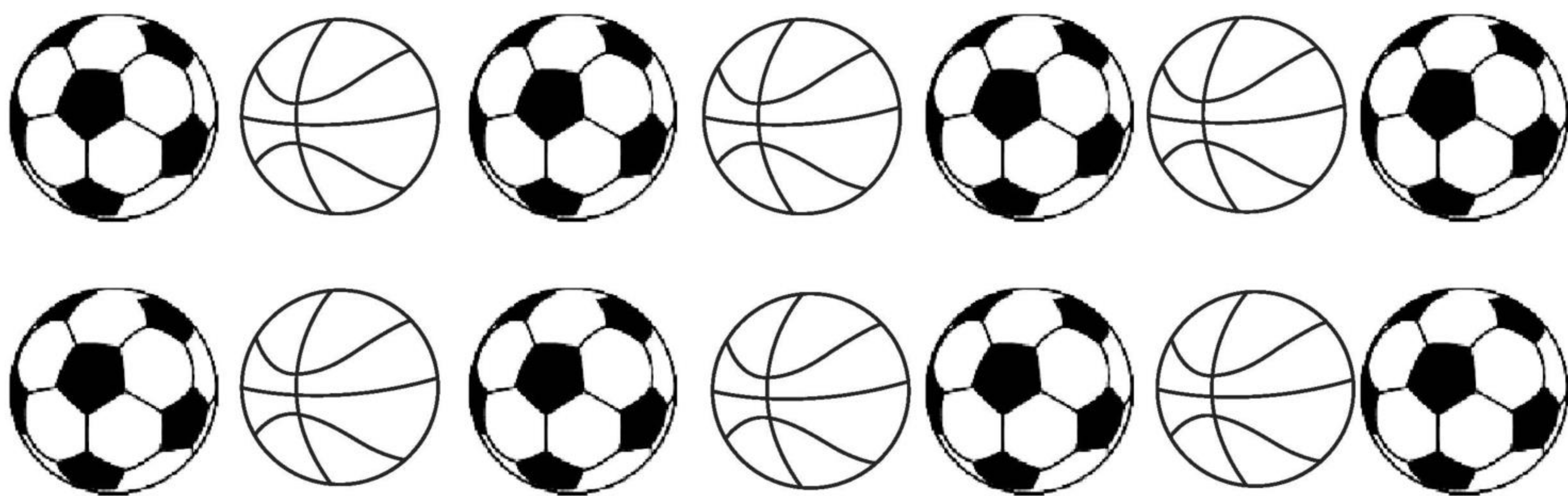
(9) $11 - 0 =$

(19) $16 + 2 =$

(10) $13 - 1 =$

(20) $15 + 2 =$

2.



一共有多少个球?

方法 1: $\square \bigcirc \square = \square$

方法 2: $\square \bigcirc \square = \square$



期末练习(13)

1. 口算。

(1) $9 + 2 =$

(2) $3 + 9 =$

(3) $2 + 8 =$

(4) $3 + 8 =$

(5) $1 + 9 =$

(6) $6 + 5 =$

(7) $6 + 9 =$

(8) $6 + 7 =$

(9) $9 + 7 =$

(10) $6 + 6 =$

(11) $5 + 6 =$

(12) $4 + 8 =$

(13) $8 + 5 =$

(14) $5 + 7 =$

(15) $9 + 9 =$

(16) $9 + 3 =$

(17) $8 + 7 =$

(18) $6 + 8 =$

(19) $6 + 4 =$

(20) $8 + 9 =$

2.

送给了王奶奶5个。



还剩下9个。



原来一共有多少个?

$\square \bigcirc \square = \square$



期末练习(14)

1. 口算。

$2 + 9 =$

$7 + 7 =$

$3 + 8 =$

$7 + 6 =$

$17 - 6 =$

$7 + 5 =$

$16 + 4 =$

$4 + 7 =$

$15 - 3 =$

$4 + 8 =$

$8 + 7 =$

$15 - 3 =$

$8 + 8 =$

$16 - 4 =$

$9 + 4 =$

$10 + 5 =$



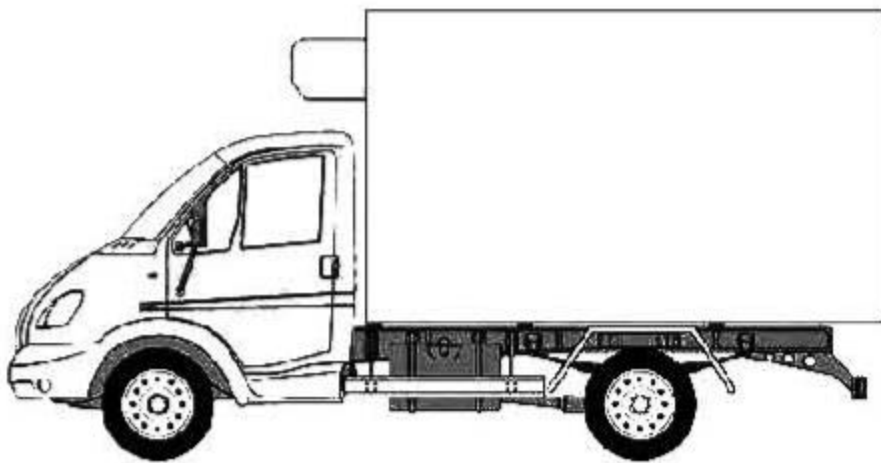
$9 + 6 =$

$9 + 9 =$

$14 - 2 =$

$9 + 3 =$

2. 填一填。

			
原有	9 辆	10 辆	5 辆
又开来	6 辆	4 辆	7 辆
一共有	() 辆	() 辆	() 辆



期末练习(15)

1. 算一算。

(1) $6 + 3 + 2 =$

(2) $4 + 7 + 3 =$

(3) $9 + 3 - 2 =$

(4) $2 + 3 + 8 =$

(5) $7 + 4 + 5 =$

(6) $13 - 3 - 4 =$

(7) $15 + 2 - 6 =$

(8) $4 + 8 - 10 =$

(9) $15 - 5 - 5 =$

(10) $3 + 3 + 0 =$

(11) $7 + 8 + 2 =$

(12) $3 + 9 + 7 =$

(13) $2 + 8 + 3 =$

(14) $14 + 2 + 2 =$

(15) $12 + 2 + 3 =$

(16) $3 + 7 + 4 =$


(17) $13 + 1 + 5 =$

(18) $8 + 7 + 3 =$

(19) $6 + 6 + 6 =$

(20) $7 + 3 + 9 =$

2.



已经进去了8人。



原来一共有多少人?

\bigcirc $=$



期末练习(16)

1. 计算。

(1) $7 + 3 =$

(11) $9 + 5 =$

(2) $13 + 5 =$

(12) $6 + 5 =$

(3) $12 - 10 =$

(13) $4 + 9 =$

(4) $9 + 4 =$

(14) $3 + 7 =$

(5) $0 + 8 =$

(15) $8 + 4 =$

(6) $6 + 8 =$

(16) $6 + 6 =$

(7) $14 - 2 =$

(17) $14 + 4 =$

(8) $10 - 8 =$

(18) $8 + 3 =$

(9) $18 - 0 =$

(19) $9 + 9 =$


(10) $4 + 8 =$

(20) $8 + 5 =$

2.

我俩共折了
9只小鸟。

要折19只才够送给
幼儿园的小朋友。



他俩还需折多少只小鸟才能完成任务?

\bigcirc $=$



期末练习(17)

1. 口算。

$9 + 1 + 2 =$

$9 + 3 =$

$9 + 1 + 5 =$

$9 + 6 =$

$9 + 1 + 8 =$

$9 + 9 =$

$10 - 1 + 2 =$

$10 - 1 + 5 =$

$10 - 1 + 8 =$

$10 - 1 + 0 =$

$9 + 1 + 3 =$

$9 + 4 =$

$9 + 1 + 6 =$

$9 + 7 =$

$9 + 1 + 9 =$

$9 + 10 =$

$10 - 1 + 3 =$

$10 - 1 + 6 =$

$10 - 1 + 9 =$

$10 + 1 - 1 =$

2.



7个



8个



9个

我从左面的鸡蛋中买了2篮。



妈妈可能买了多少个鸡蛋?

$\square \bigcirc \square = \square$



期末练习(18)

1. 口算。

$4 + 6 =$

$1 + 2 =$

$4 + 9 =$

$2 + 9 =$

$5 + 3 =$

$8 + 9 =$

$1 + 9 =$

$6 + 2 =$

$9 + 7 =$

$9 + 9 =$

$4 + 5 + 5 =$

$3 + 6 + 9 =$

$1 + 8 + 2 =$

$7 + 2 + 4 =$

$9 + 4 - 10 =$

$9 + 0 + 9 =$

$9 + 6 - 5 =$

$8 + 1 + 3 =$

$9 + 5 - 4 =$

$9 + 7 - 6 =$

2.



原来一共有多少个蘑菇? $\square \bigcirc \square = \square$



期末练习(19)

1. 口算。

$11 - 1 + 2 =$

$3 + 7 - 4 =$

$6 + 3 + 8 =$

$12 - 10 - 2 =$

$12 - 10 + 2 =$

$1 + 9 + 9 =$

$9 + 1 - 9 =$

$13 - 3 - 3 =$

$14 - 10 + 4 =$

$5 + 5 + 3 =$

$6 + 2 + 4 =$

$15 - 10 + 3 =$

$15 - 10 - 3 =$

$7 + 3 + 6 =$

$7 + 2 + 8 =$

$16 - 10 + 8 =$

$18 - 8 + 6 =$

$3 + 6 + 7 =$

$2 + 9 + 3 =$

$19 - 10 + 0 =$

2. 解决问题。



原来一共有多少个苹果?

$\square \bigcirc \square = \square$



期末练习(20)

1. 口算。

$7 + 3 + 2 =$

$14 - 3 + 7 =$

$6 + 8 + 6 =$

$17 - 7 - 6 =$

$5 + 5 + 5 =$

$18 - 10 - 4 =$

$6 + 4 + 1 =$

$16 - 6 + 7 =$

$5 + 4 + 4 =$

$18 - 8 + 2 =$

$7 + 3 + 5 =$

$11 - 1 + 5 =$

$2 + 7 + 3 =$

$17 - 7 + 6 =$

$5 + 4 + 6 =$

$12 - 2 - 10 =$

$3 + 3 + 6 =$

$16 - 10 + 3 =$

$1 + 8 + 5 =$

$19 - 10 - 9 =$

2.



一共有 条手帕, 王老师已经晾好了 6 条, 还要晾几条?

$$\square \bigcirc \square = \square$$