




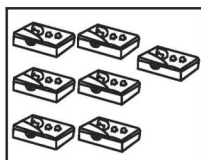
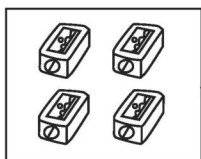


口算题卡

一年级 上册 时间:\_\_\_\_分\_\_\_\_秒 家长评价:\_\_\_\_\_

数一数(1)

数一数,连一连。



3

6

1

8

7


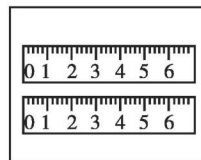
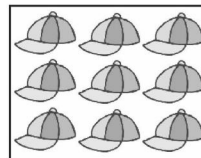
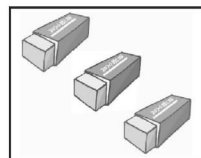

9

2

4

5

10







# 口算题卡

一年级 上册 时间:\_\_\_\_分\_\_\_\_秒 家长评价:\_\_\_\_\_

## 数一数(2)

1. 数一数,照样子画一画。


2. 在正确的点子图下面画“√”。

( )	( )

( )	( )







# 口算题卡


一年级 上册 时间:\_\_\_\_分\_\_\_\_秒 家长评价:\_\_\_\_\_

## 数一数(3)

### 1. 看图涂色。

	★ ★ ☆ ☆ ☆ ☆ ☆ ☆ ☆ ☆
	□ □ □ □ □ □ □ □ □ □
	△ △ △ △ △ △ △ △ △ △
	○ ○ ○ ○ ○ ○ ○ ○ ○ ○

### 2. 小鹿吹了8个泡泡,请帮它都画出来。



微信公众号  
教辅资料站

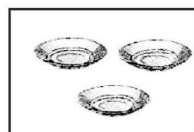
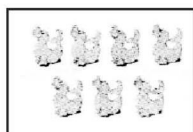
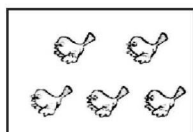

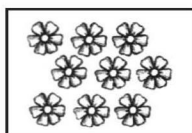
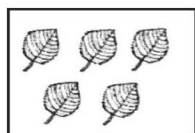


# 口算题卡

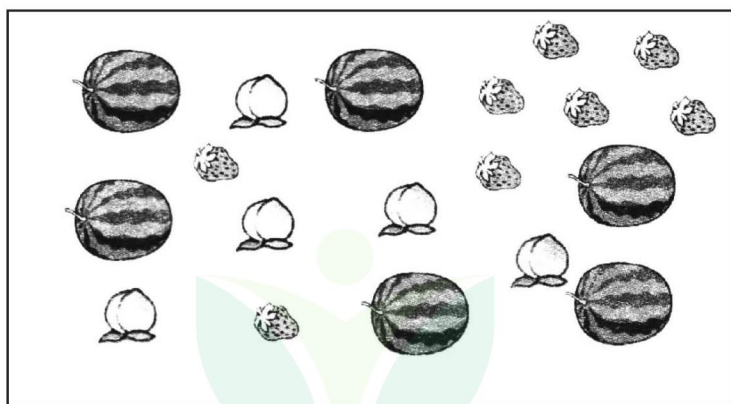
一年级 上册 时间:\_\_\_\_分\_\_\_\_秒 家长评价:\_\_\_\_\_

## 数一数(4)

1. 把同样多的连起来。



2. 最多的画“√”, 最少的画“○”。



( ) ( ) ( )



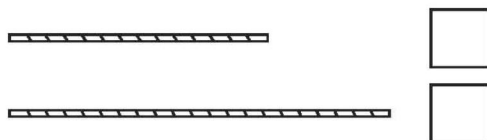


**口算题卡**


一年级 上册 时间:\_\_\_\_分\_\_\_\_秒 家长评价:\_\_\_\_\_

比一比(1)

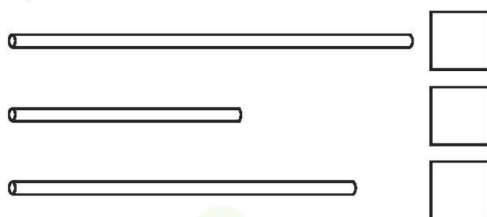
1. 哪根绳子长? 长的画“√”。



2. 哪只动物高? 高的画“○”。



3. 最长的画“√”,最短的画“○”。



4. 最高的画“√”,最矮的画“○”。





**口算题卡**

一年级 上册 时间:\_\_\_\_分\_\_\_\_秒 家长评价:\_\_\_\_\_

比一比(2)

1. 最重的画“√”,最轻的画“○”。

(1)



(2)



2. 同样三杯水,喝了一些,谁喝的水最多? 画“√”。






口算题卡

一年级 上册 时间:\_\_\_\_分\_\_\_\_秒 家长评价:\_\_\_\_\_

比一比(3)

1. 动物画“√”,植物画“○”。

☐☐☐☐☐☐☐☐

2. 哪些放在文具盒里,哪些放在玩具盒里? 连一连。



文具盒



玩具盒





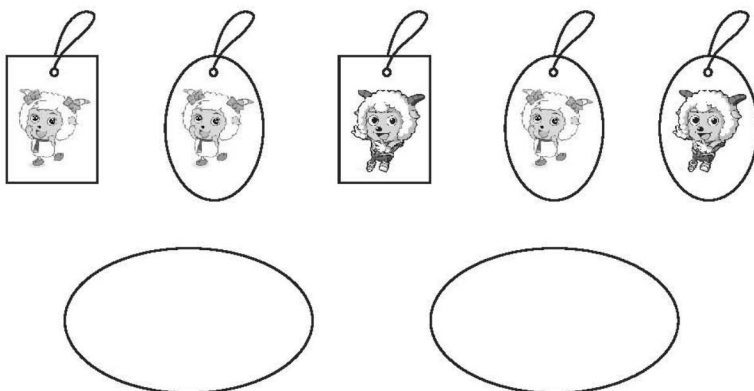


口算题卡


一年级 上册 时间:\_\_\_\_分\_\_\_\_秒 家长评价:\_\_\_\_

分一分(1)

1. 把书签放进两个圈里,可以怎样分? 连一连。



2. 把扑克放进三个盒里,可以怎样分? 连一连。























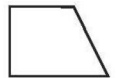





# 口算题卡

一年级 上册 时间:\_\_\_\_分\_\_\_\_秒 家长评价:\_\_\_\_\_

## 分一分(2)

1. 找出每一行中与众不同的一个,把它圈起来。

(1)				
(2)				
(3)				
(4)				
(5)				
(6)				

2. 把下面的卡片分别装在三个袋子里,连一连。






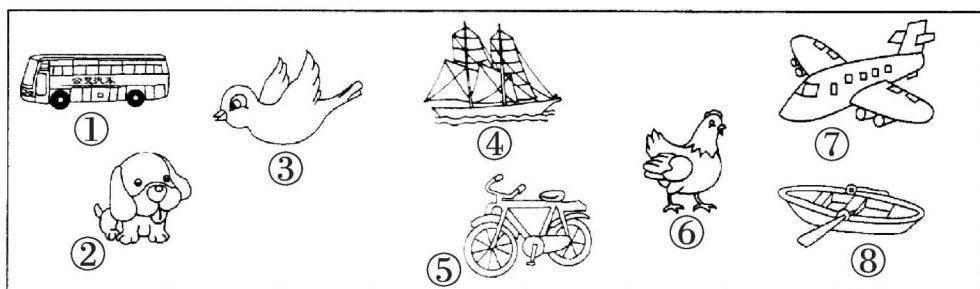


**口算题卡**

一年级 上册 时间：\_\_\_\_分\_\_\_\_秒 家长评价：\_\_\_\_\_

分一分(3)

分一分,把序号填在方框里。



还可以怎样分?



微信公众号  
教辅资料站






口算题卡

一年级 上册 时间:\_\_\_\_分\_\_\_\_秒 家长评价:\_\_\_\_\_

认位置(1)

想一想,照样子圈一圈。



(1)  在  的(上、下)面。

(2)  在  的(左、右)面。


(3)  在  的(前、后)面。



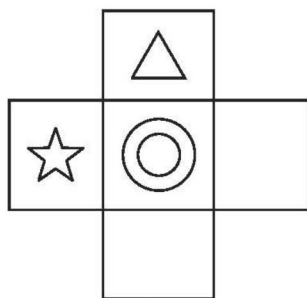
## 认位置(2)

填一填,画一画。

1. 在★的下面画“□”,右面画“○”,左面画“△”。



2.



(1) ◎在☆的( )面, ☆在◎的( )面。

(2) △在◎的( )面。

(3) ◎的下面是□,请画出来。

(4) △在◎的右面,请画出来。



口算题卡

一年级 上册 时间:\_\_\_\_分\_\_\_\_秒 家长评价:\_\_\_\_\_

认位置(3)


1. 按要求在方格里画一画。

在★的上面画○。

在○的右边画△。

在★的左边画☺。

在☺的下面画□。



2. 把每个动物的编号写在相应的横线上。



①



②



③



④



⑤

(1)  的前面是\_\_\_\_\_； 在\_\_\_\_\_  
的后面。


(2)  的前面有\_\_\_\_\_只小动物, 后面有  
\_\_\_\_\_只小动物。








## 认位置(4)

按要求涂色。




1. 给  右边的一个水果涂上紫色。
2. 给  上面的一个水果涂上绿色。
3. 给  左边的一个水果涂上红色。
4. 给  右边的一个水果涂上黄色。



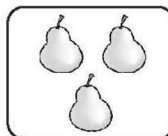
## 认识 1 - 5(1)

1. 连一连。

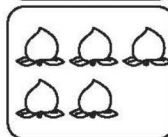
5




4



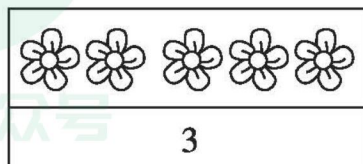



3



2



2. 看数圈一圈。






口算题卡

一年级 上册 时间:\_\_\_\_分\_\_\_\_秒 家长评价:\_\_\_\_\_


认识 1 - 5 (2)


1. 看图写数。












2. 写一写。

1	1	1																	
2	2	2																	
3	3	3																	
4	4	4																	
5	5	5																	

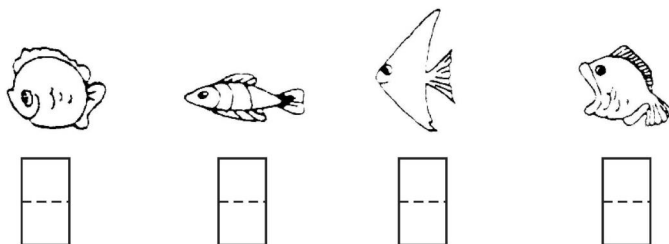



# 口算题卡

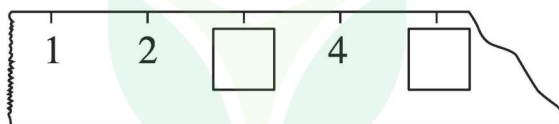
一年级 上册 时间:\_\_\_\_分\_\_\_\_秒 家长评价:\_\_\_\_\_

## 认识 1 - 5(3)

1. 数一数, 写一写。



2. 填一填。



微信公众号  
教辅资料站



## 认识 1-5(4)

1. 看数继续画“○”。

4

○○

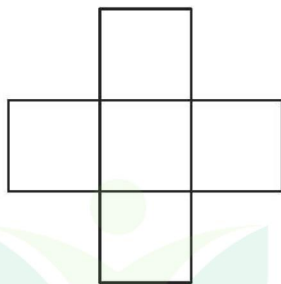
3

○

5

○○○

2. 按要求写一写,中间写 4,左边写 5,右边写 3,上面写 2,1 写在下面。



微信公众号  
教辅资料站





## 认识几和第几(1)


1. ○○□□△○△○△△△

(1)一共有( )种图形,其中有( )个○,有( )个□,有( )个△。

(2)左起第3个图形是( ),右起第4个图形是( )。

(3)从左边数起,第( )个和第( )个都是□。

2.



(1)小猴是第( )名,小兔是第( )名。

(2)小猴前面是( )号运动员,后面是( )号和( )号运动员。

(3)小兔的前面有( )名运动员。



## 认识几和第几(2)

1. 从右边起涂色。


涂3个





涂第3个



2. 填一填。



(1)  的后面有( )只小动物。  的  
前面有( )只小动物。

(2) 从右数,  排第( ); 从左数, 它排第  
( )。



### 认识几和第几(3)

1.



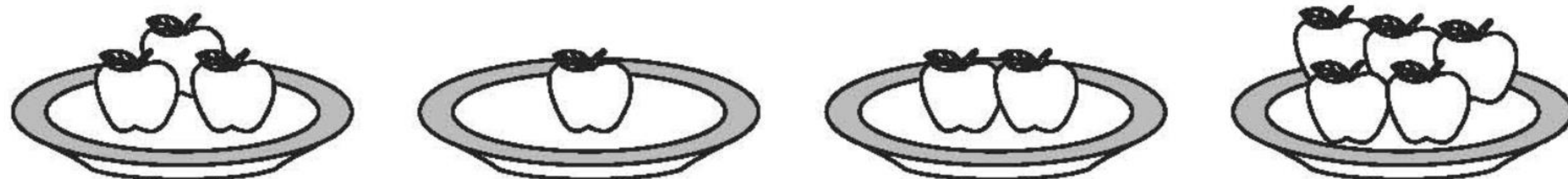
从上往下数,★排第( );

从下往上数,★排第( );

从左往右数,★排第( );

从右往左数,★排第( )。

2.



(1)一共有( )盘苹果。

(2)右起第( )盘有 2 个苹果,第( )盘有 3 个苹果。

(3)左起第 4 盘有( )个苹果。





## 认识几和第几(4)

1. 先连线,再填空。



在



的前面,



坐第( )节。



的后面,



的后面,



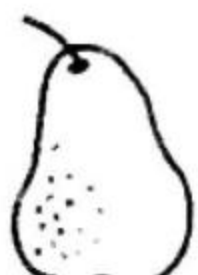
坐

第( )节,





坐第( )节。


2. 填一填。



(1)一共有( )种水果。

(2)从左边起,  排在第( )个, 它的左边有( )个水果, 右边有( )个水果。

(3)从左往右数,  是第( )个; 从右往左数,





是第( )个。

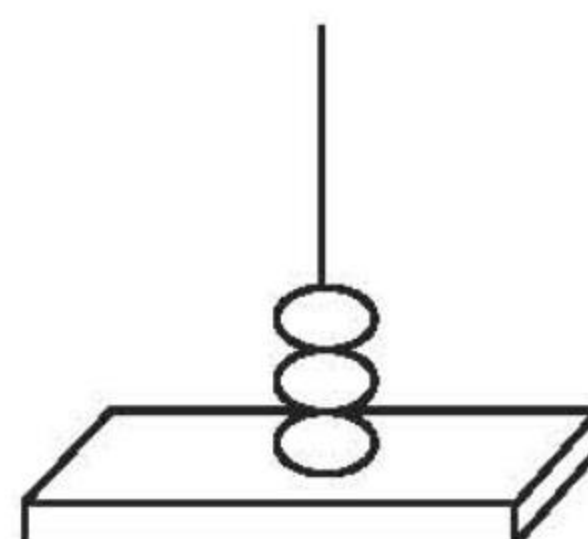
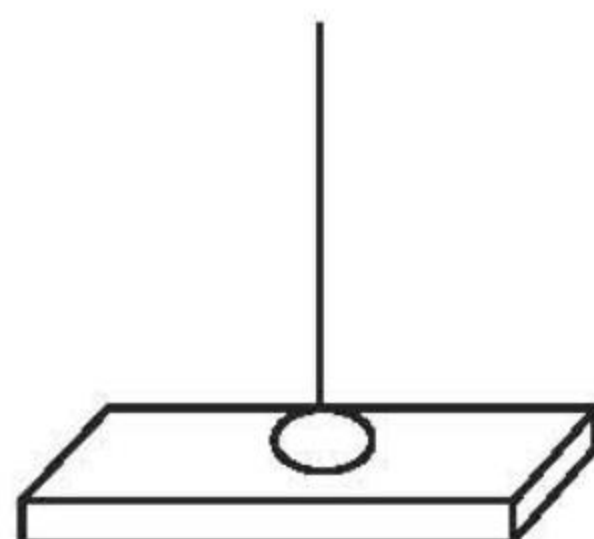
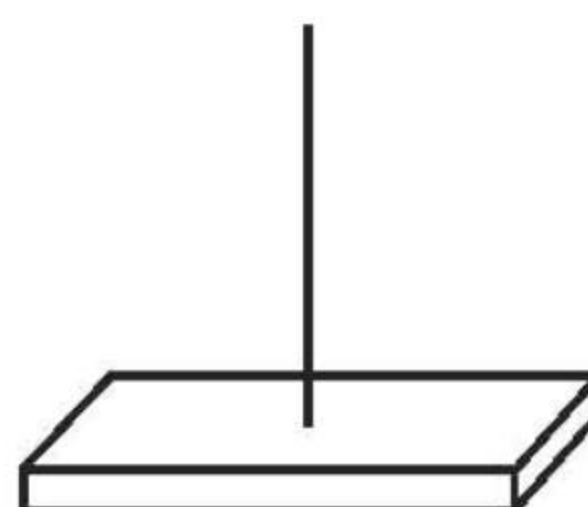
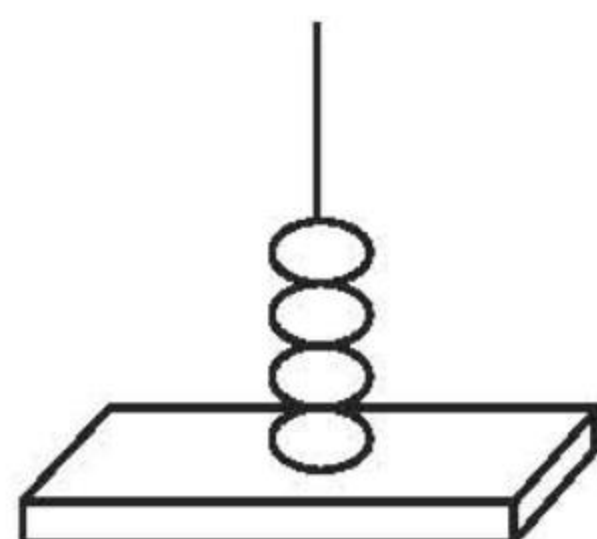


## 认识0(1)

### 1. 数杯子。



### 2. 数珠子。

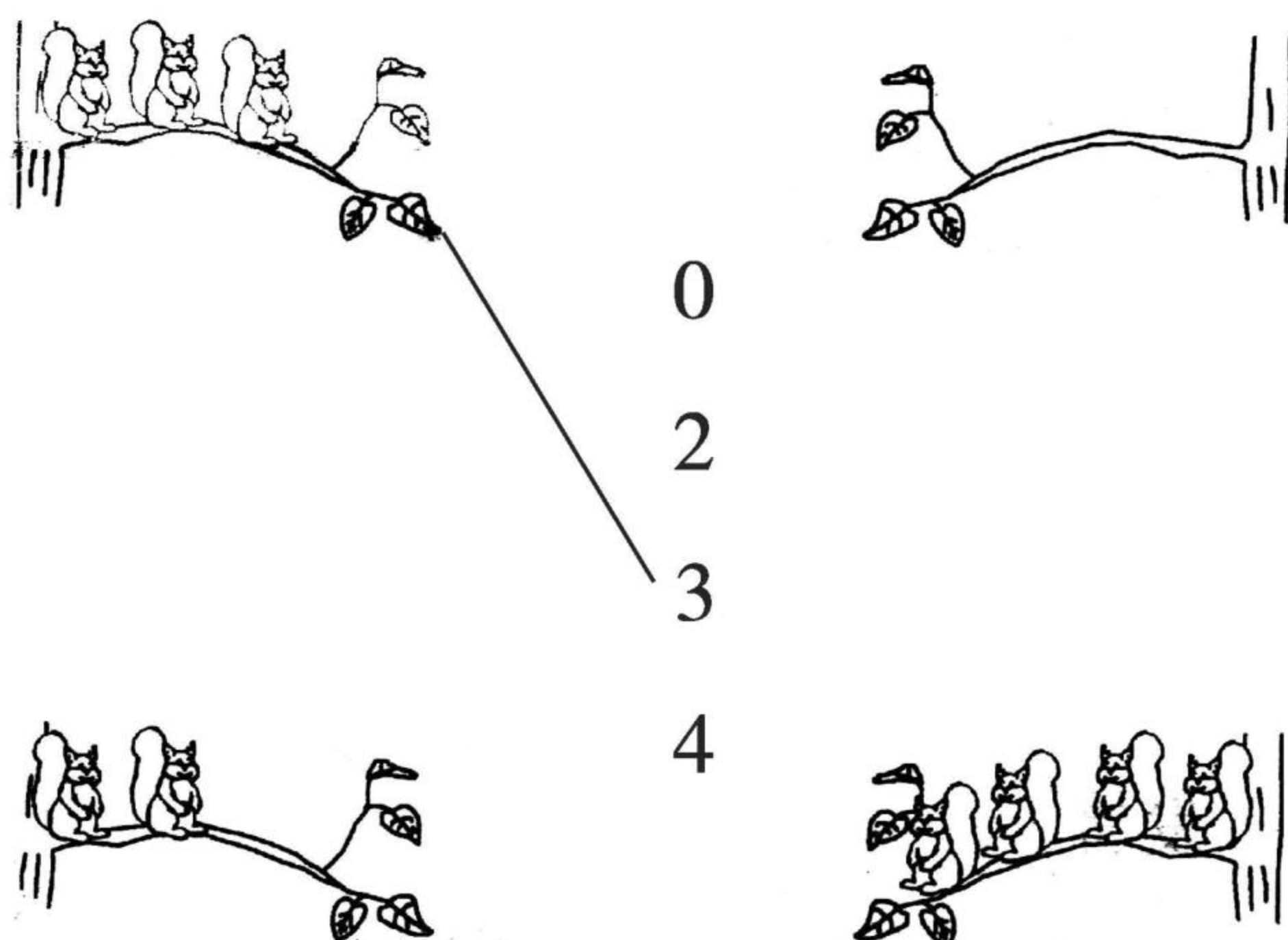




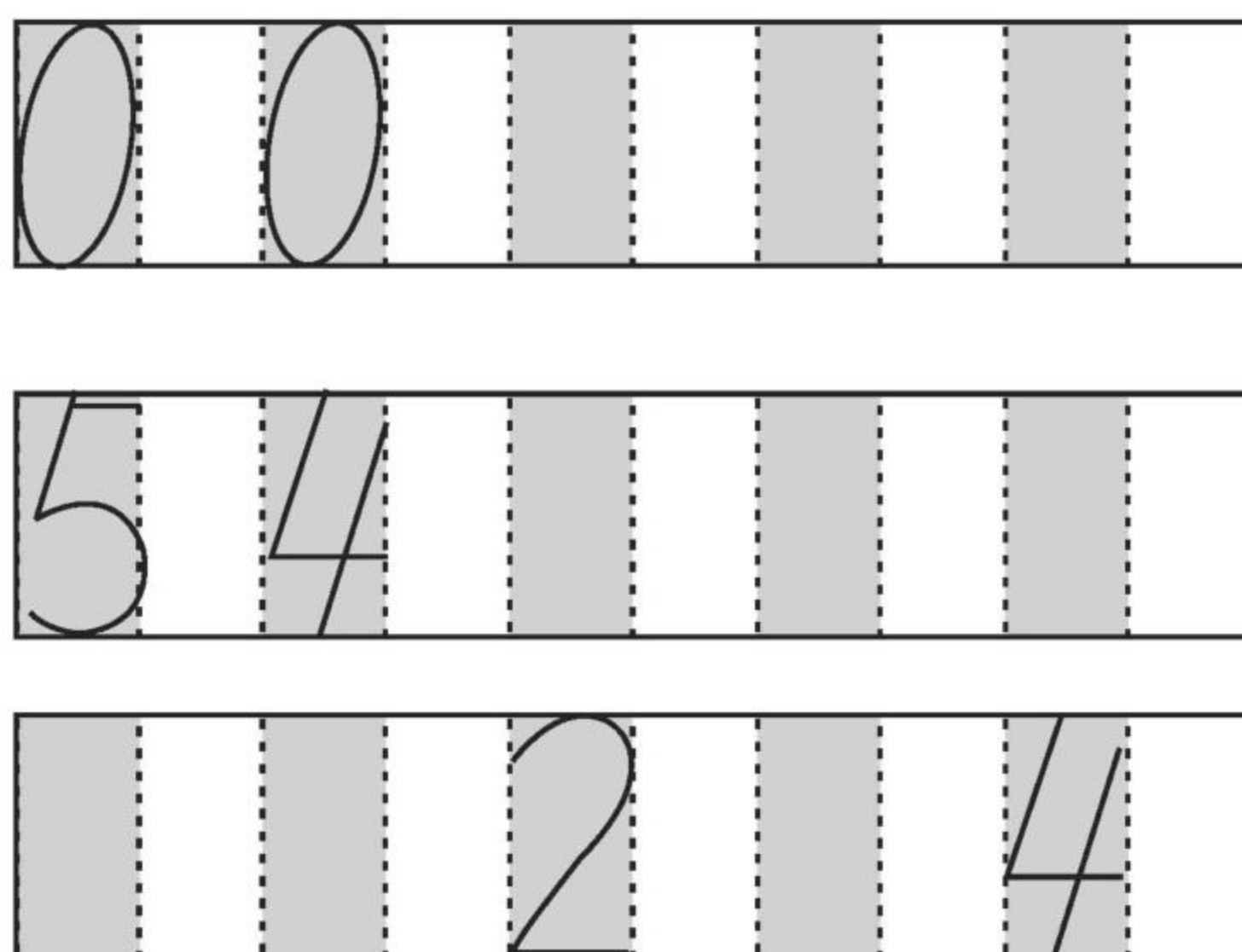


## 认识0(2)

1. 树枝上各有几只松鼠?(连线)



2. 写一写。



3. 填一填。

(1) ( ) 1 ( ) ( ) 4 ( )

(2) 5 [ ] 3 [ ] [ ] [ ] [ ] [ ] 2 3 [ ] [ ]






口算题卡

一年级 上册 时间:\_\_\_\_分\_\_\_\_秒 家长评价:\_\_\_\_\_

认识“>”“<”和“=”(1)

1.



填在○里。

$3 \bigcirc 3$

$2 \bigcirc 1$

$5 \bigcirc 4$

$1 \bigcirc 0$

$0 \bigcirc 4$

$5 \bigcirc 3$

$3 \bigcirc 2$

$2 \bigcirc 4$

2. 画一画。

(1) 画○, 和☆同样多。

☆☆☆☆ \_\_\_\_\_

(2) 画○, 比☆多。

☆☆☆☆ \_\_\_\_\_

(3) 画○, 比☆少。

☆☆☆☆ \_\_\_\_\_

3. 想一想, □里可以填几?

$5 > \square$

$3 = \square$

$4 > \square > \square$

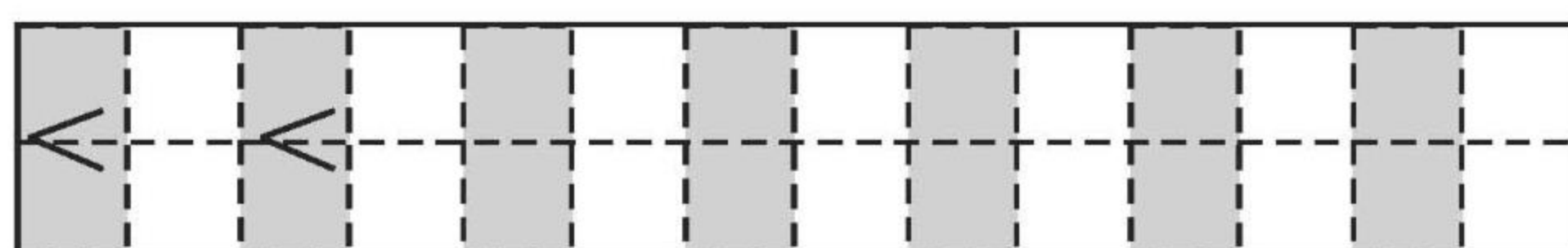
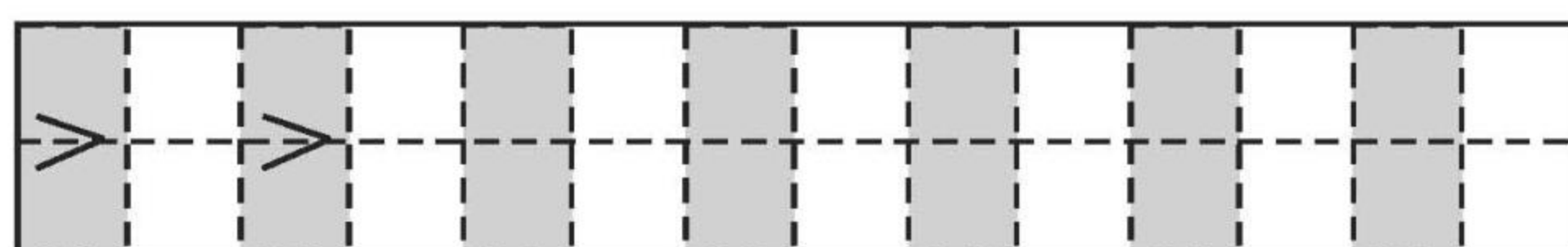
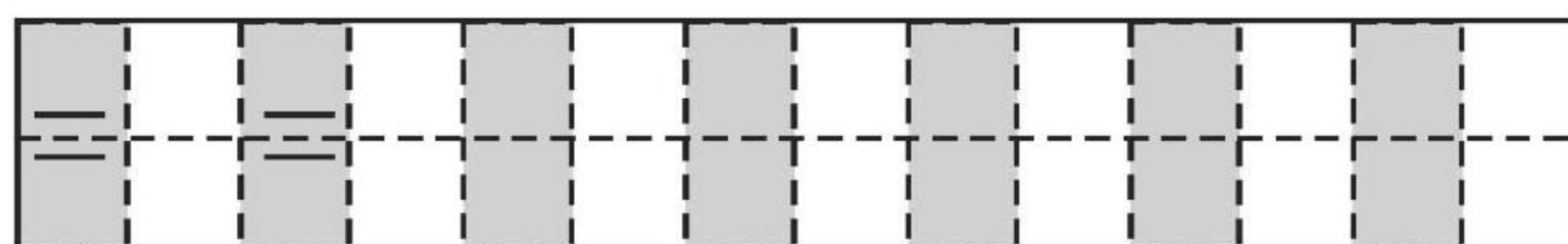


口算题卡

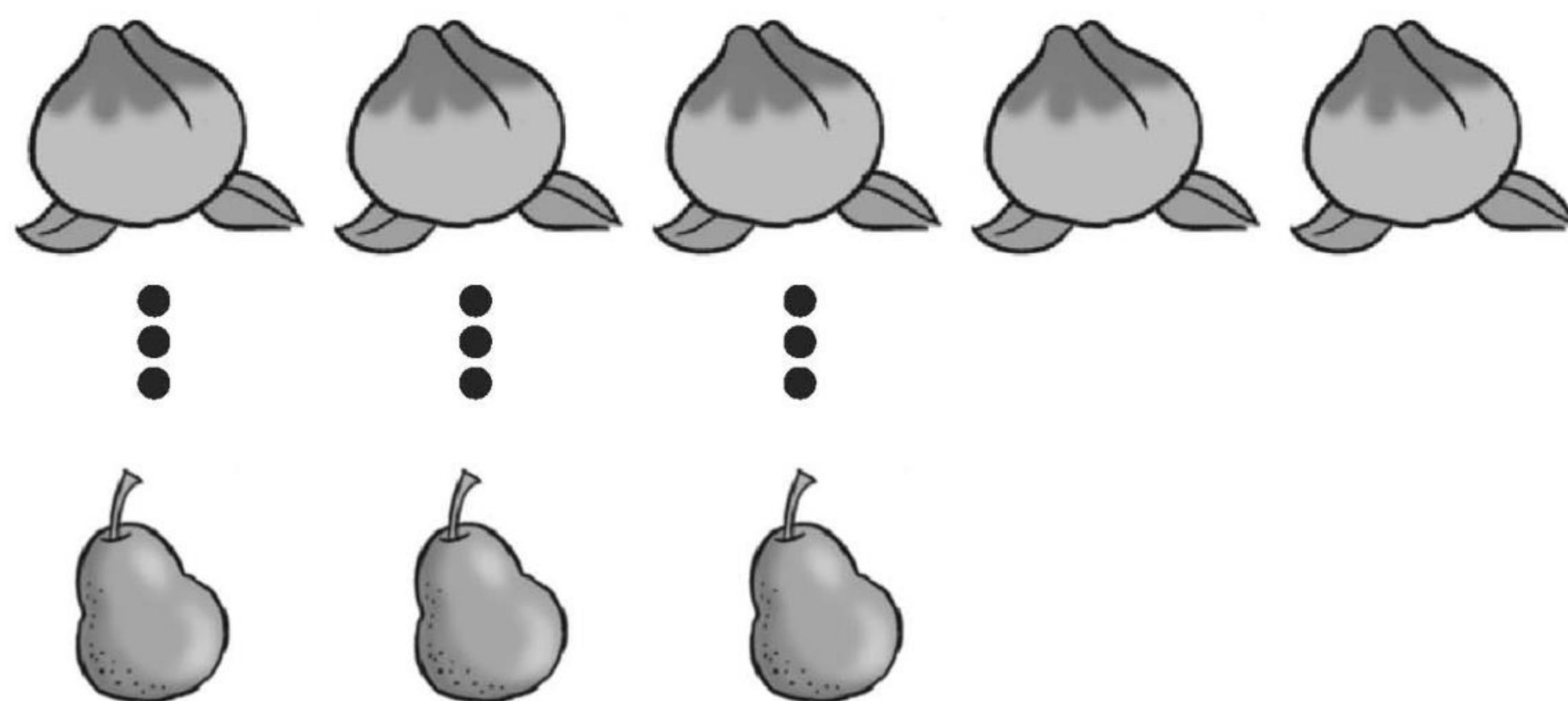
一年级 上册 时间:\_\_\_\_分\_\_\_\_秒 家长评价:\_\_\_\_\_

认识“>”“<”和“=”(2)

1. 写一写。



2. 比一比,填一填。



 比  \_\_\_\_\_。  $5 \bigcirc 3$

 比  \_\_\_\_\_。  $3 \bigcirc 5$







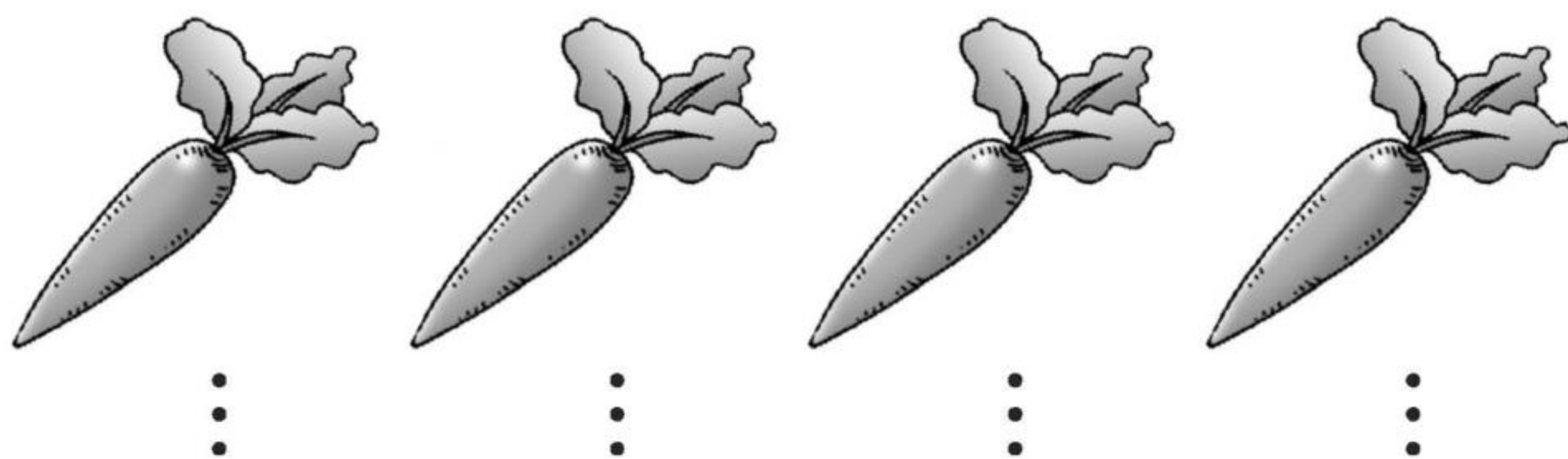
口算题卡

一年级 上册 时间:\_\_\_\_分\_\_\_\_秒 家长评价:\_\_\_\_\_





认识“>”“<”和“=”(3)

比一比,填一填。

1.



2.





口算题卡

一年级 上册 时间:\_\_\_\_分\_\_\_\_秒 家长评价:\_\_\_\_\_

认识“ $>$ ”“ $<$ ”和“ $=$ ”(4)

1. 在横线上画“□”,和上行的“○”同样多。

○ ○ ○

\_\_\_\_\_

○ ○ ○ ○

\_\_\_\_\_

○ ○ ○ ○ ○

\_\_\_\_\_

○ ○

\_\_\_\_\_

2. 比一比,填一填。

(1) △    △    △    △    △

∴    ∴    ∴

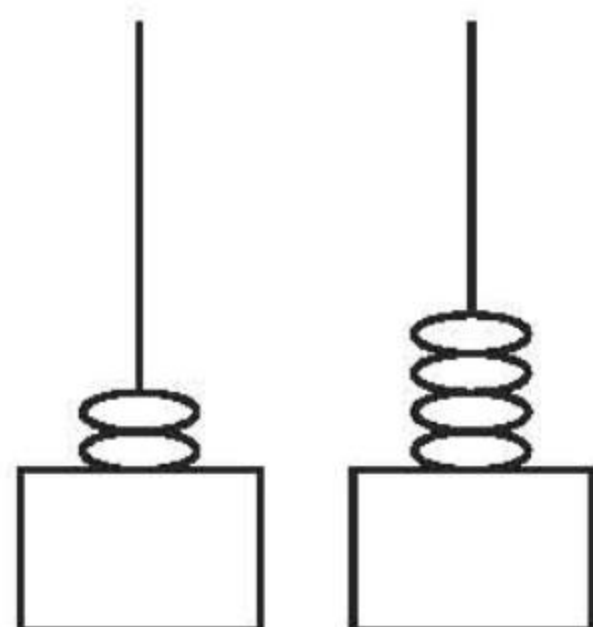
○    ○    ○

(    ) 比 (    ) 多    (    ) 比 (    ) 少

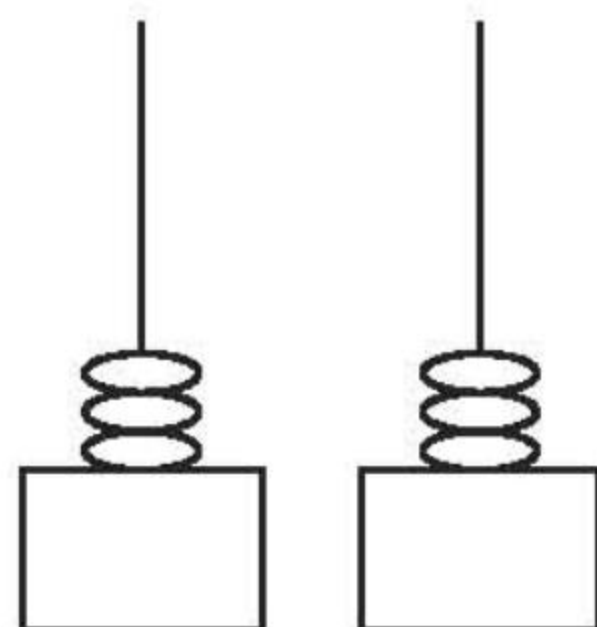
□  $>$  □

□  $<$  □

(2)



(    ) ○ (    )



(    ) ○ (    )

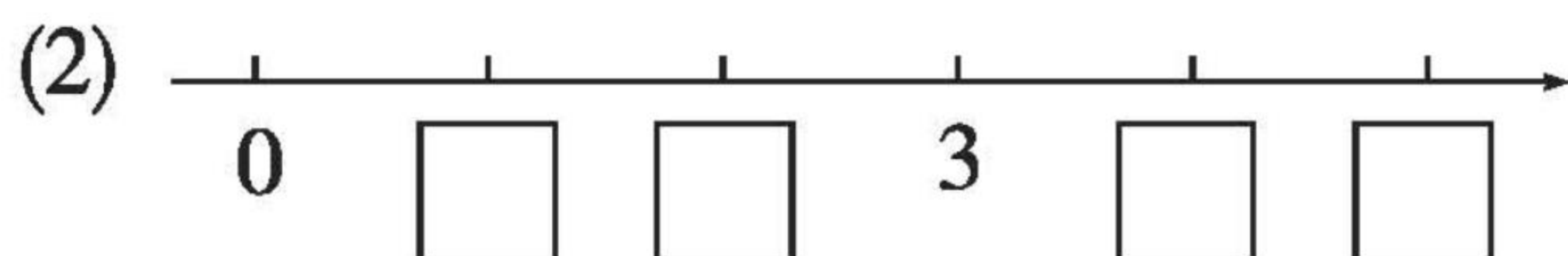
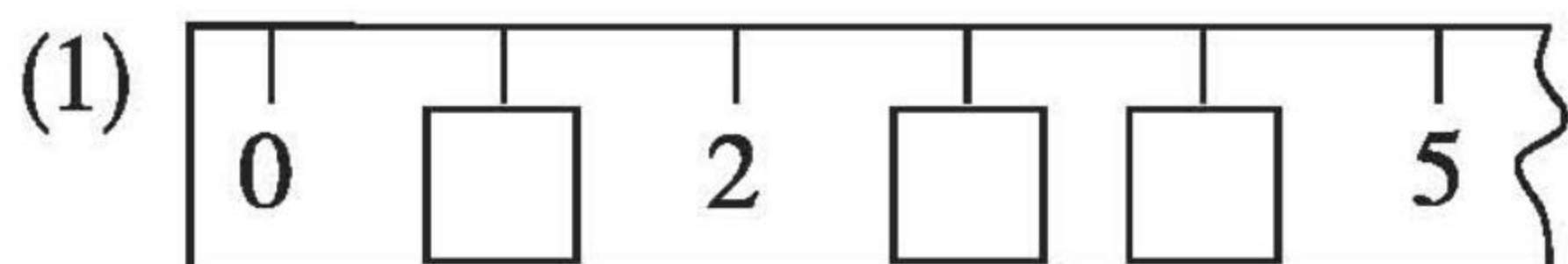


口算题卡

一年级 上册 时间:\_\_\_\_分\_\_\_\_秒 家长评价:\_\_\_\_\_

认识“ $>$ ”“ $<$ ”和“ $=$ ”(5)

1. 填一填,读一读。




2. 在○里填上“ $>$ ”“ $<$ ”或“ $=$ ”。

1 ○ 0      4 ○ 4      3 ○ 2      5 ○ 4

3 ○ 4      5 ○ 5      0 ○ 3      2 ○ 1

3. 按要求画“○”。



○ 和 □ 同样多



○ 比 □ 少





认识“>”“<”和“=” (6)

1. 填一填。



(1)  比  ( )

○

(2)  比  ( )。

○

(3)  比  ( )

○

(4)  比  ( )。

○

2.



(1) 右边拿走( )朵,两边的花同样多。

(2) 左边添上( )朵,与右边的花同样多。



## 认识 6-9(1)

### 1. 写数。

6									
7									
8									
9									

### 2. 看数照样子划去“○”。

9	7	8	6





## 认识6-9(2)

1. 填一填,圈一圈。



(1) 在□里填合适的数。

(2) 上面的数中,( )最小,( )最大。比6大的数有( )、( )、( )。比3小的数有( )、( )、( )。

(3) 4离(0 9)近一些,5离(0 9)近一些。

2. 圈一圈,写一写。



2个2个地圈,圈( )次,共( )个。




4个4个地圈,圈( )次,共( )个。



## 认识6-9(3)

### 1. 看图填空。



(1) 一共有( )只动物。从左数,第2只是

( ),  排在第( )个。  的前面

有( )只动物,后面有( )只动物。

(2) 把从左起第4只动物圈起来,再把右边4只动物圈起来。

### 2. 在○里填“>”“<”或“=”。

$5 \bigcirc 6$

$7 \bigcirc 9$

$8 \bigcirc 8$

$3 \bigcirc 9$

$5 \bigcirc 4$

$8 \bigcirc 6$

$1 \bigcirc 3$

$7 \bigcirc 3$

$4 \bigcirc 8$





## 认识6-9(4)

1. 快把房子按从小到大的顺序排一排。



2. 圈“”。(圈出正确的数)

(1) 比6小的数有:



(2) 比7大的数有:

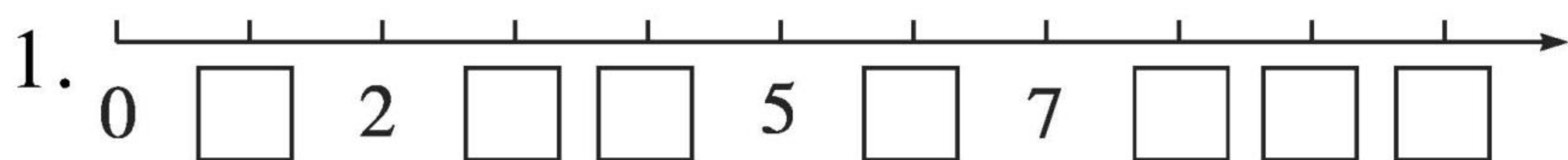


(3) 比4大、比8小的数有:









## 认识 6-9(5)



6 的左边有( )个数,右边有( )个数;比 6 大的数有( )个,比 6 小的数有( )个。

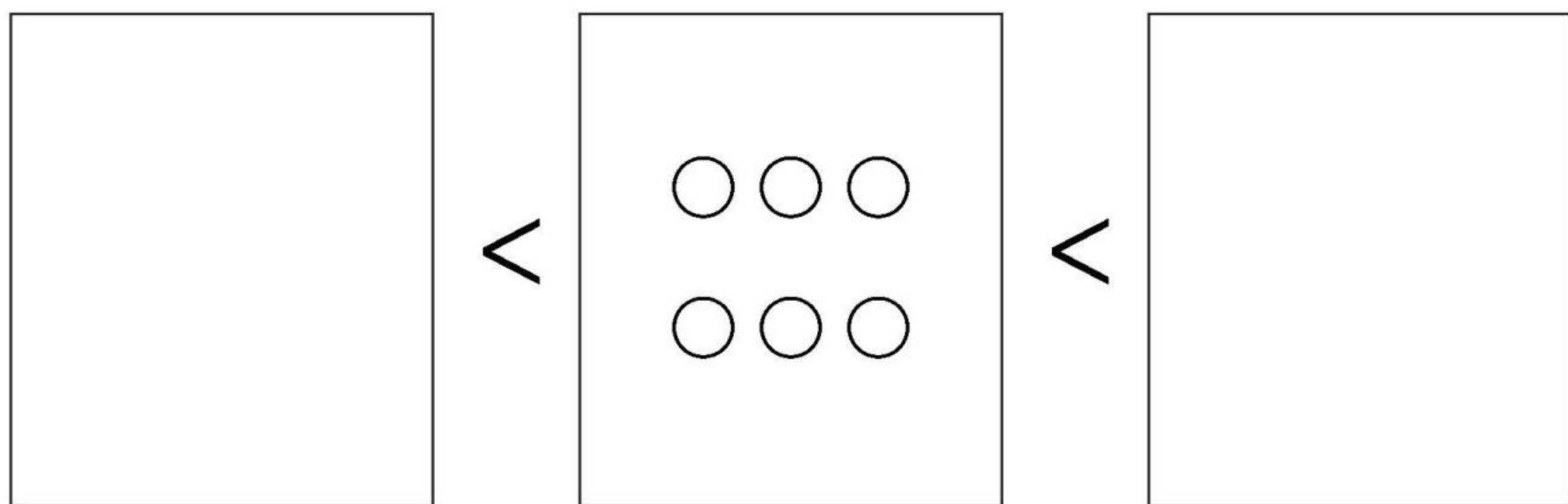


(1)  有( )个,  有( )个,  和  一共有( )个。

(2)  比  ( ),  比  ( )。

(3) 3 个 3 个地圈,可以圈( )次。

3. 想一想,画一画。

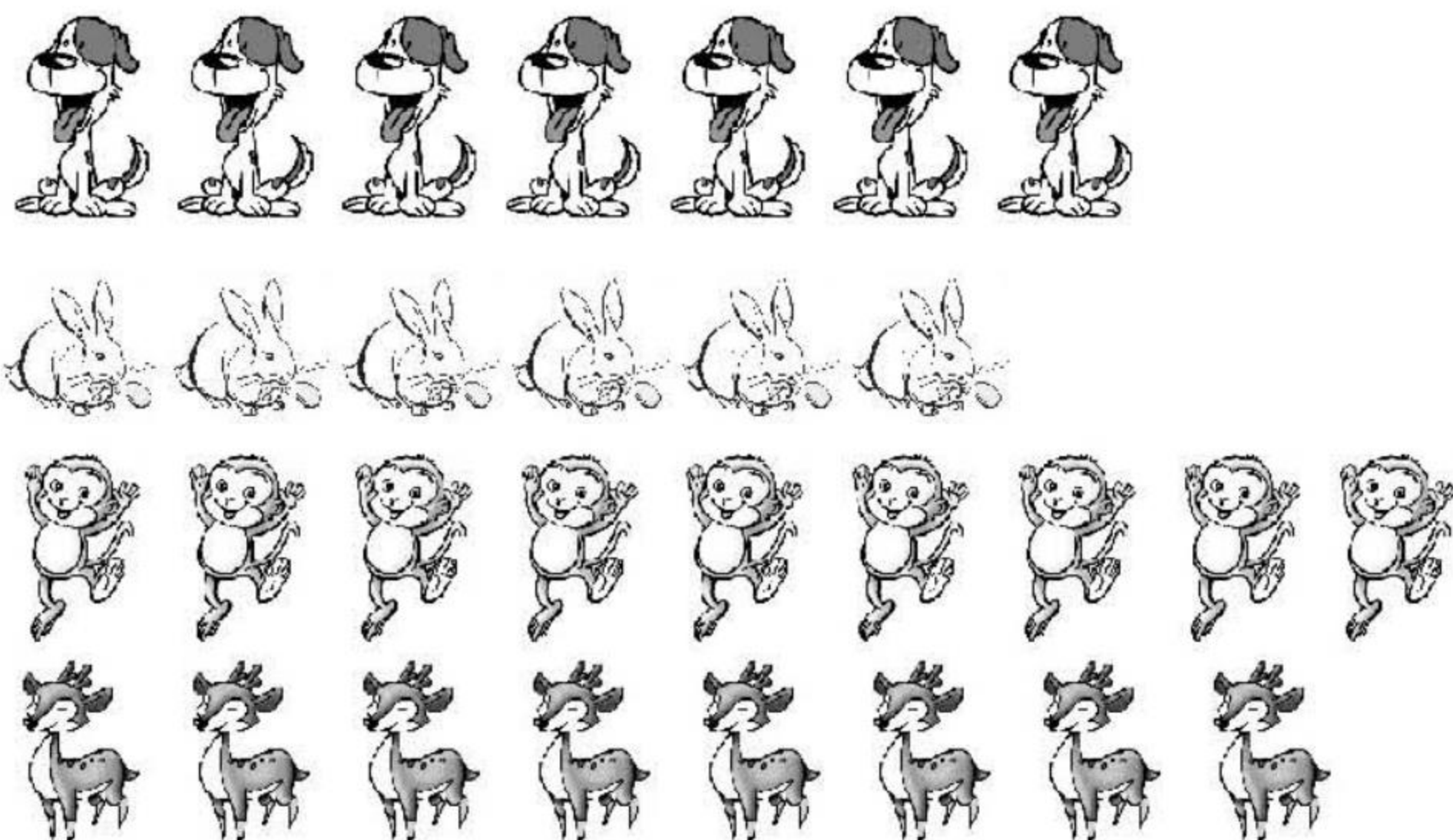










## 认识6-9(6)

### 1. 比一比,填一填。



(1)  比  ( ),  比  ( )。

(2)  比  ( ),  比  ( )。

(3)  添( )只就和  同样多。

(4)  走( )只就和  同样多。

### 2. 在○里填上“>”“<”或“=”。

$7 \bigcirc 4$

$8 \bigcirc 9$

$9 \bigcirc 9$

$6 \bigcirc 8$

$4 \bigcirc 8$

$2 \bigcirc 9$

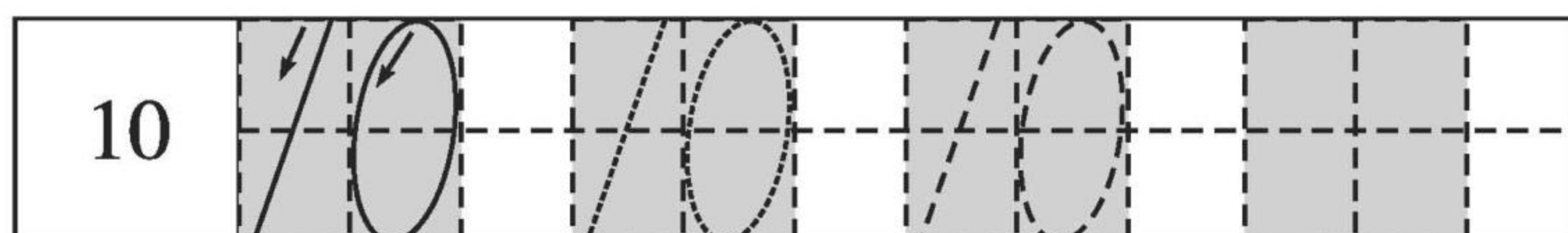
$3 \bigcirc 6$

$4 \bigcirc 4$

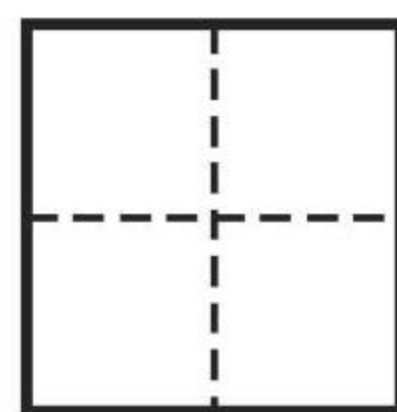

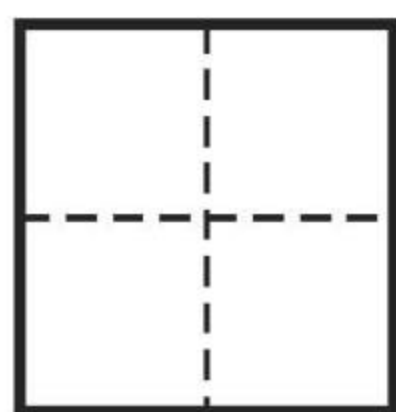



## 认识 10(1)

1. 写一写。



2. 看图填数。



3. 填一填,读一读。







## 认识 10(2)

1. 在○里填“>”“<”或“=”。

$1 \bigcirc 10$

$3 \bigcirc 8$

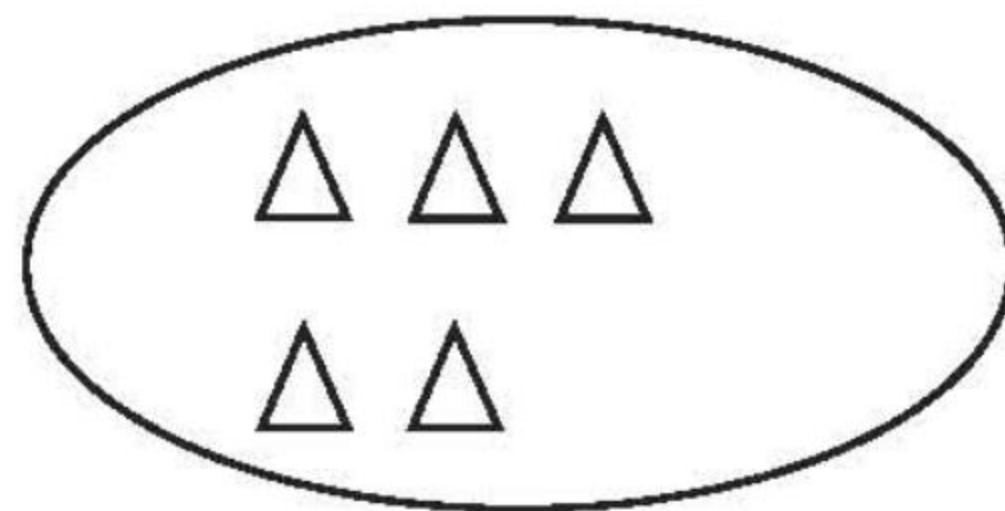
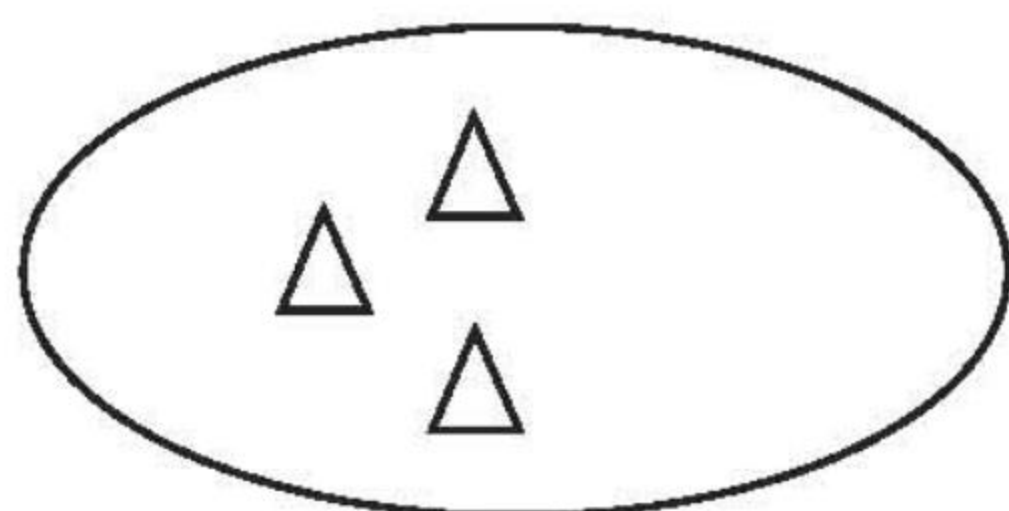
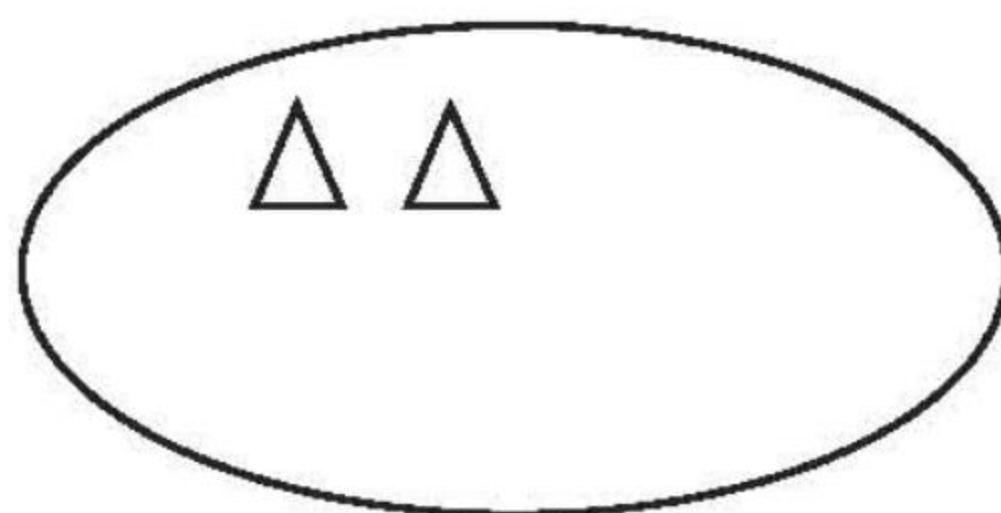
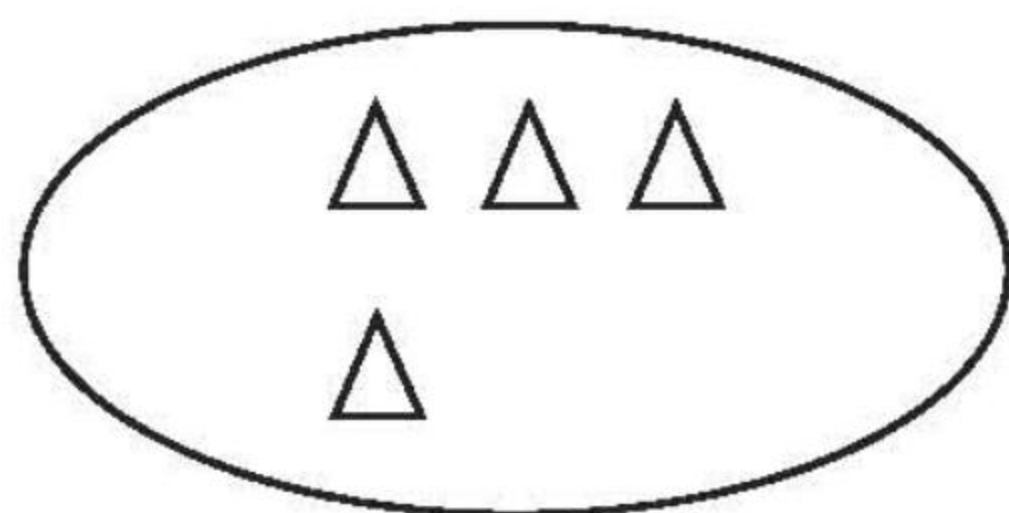
$1 \bigcirc 5$

$6 \bigcirc 9$

$10 \bigcirc 7$

$10 \bigcirc 10$

2. 补画凑成 10。



3.



( ) 根



( ) 根



( ) 根

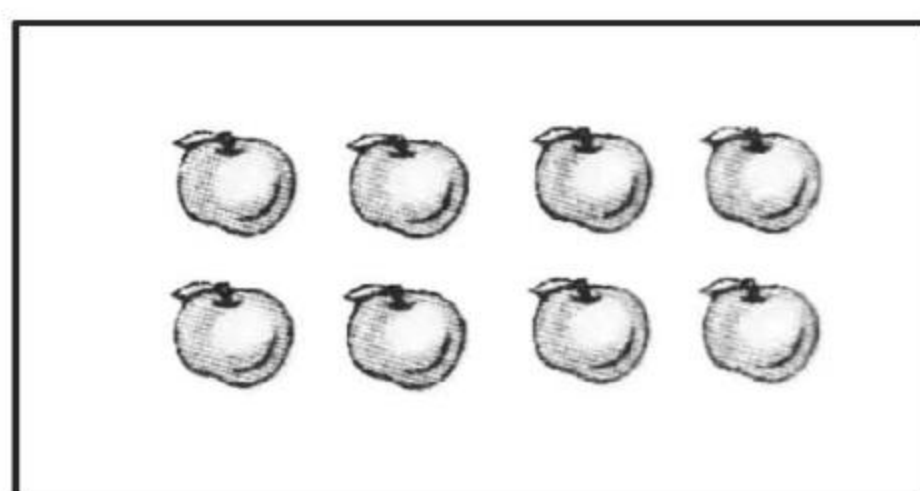


( ) 根




## 认识 10 以内的数(1)

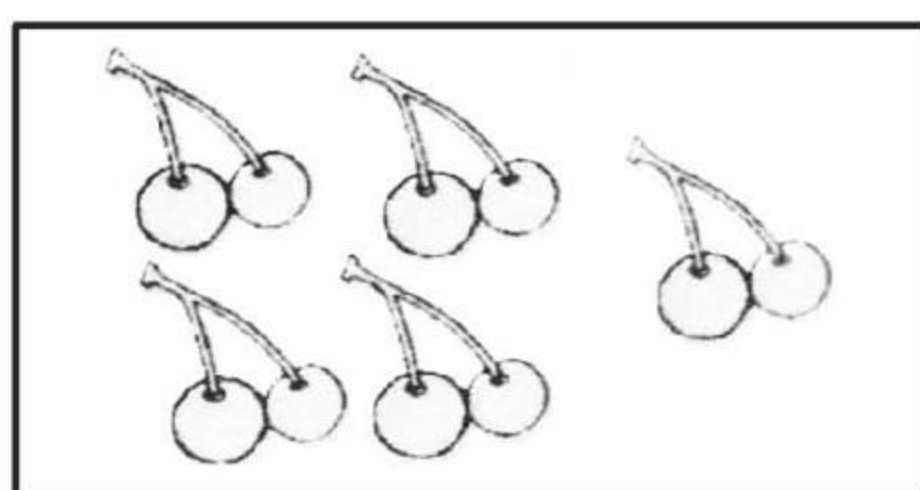
### 1. 看图圈数。




7    8    9    10



7    8    9    10




7    8    9    10



7    8    9    10

### 2. 数一数,填一填。



- (1) 一共有(      )盆花。
- (2) 从左边数起,第 2 盆有(      )朵花,有 2 朵花的  
是第(      )盆。
- (3) 从右边数起,第 3 盆有(      )朵花,有 3 朵花的  
是第(      )盆。
- (4) 左起第(      )盆开的花朵数最多,第(      )盆  
开的花朵数最少。





## 认识 10 以内的数(2)


1.  $\triangle \triangle \triangle \triangle \triangle \triangle \triangle \triangle \triangle \triangle$

$\bigcirc \bigcirc \bigcirc \bigcirc \bigcirc \bigcirc \bigcirc$

$\triangle$ 有( )个, $\bigcirc$ 有( )个;

$\triangle$ 比 $\bigcirc$ 多( )个, $\bigcirc$ 比 $\triangle$ 少( )个。

2.



(1)一共有( )只小动物。

(2)把左边的 9 只小动物圈起来。

(3)把从右数第 10 只小动物涂上蓝色。

3. 观察下面的数字卡片,填一填,画一画。

$\boxed{3}$   $\boxed{8}$   $\boxed{6}$   $\boxed{7}$   $\boxed{10}$   $\boxed{5}$   $\boxed{1}$   $\boxed{9}$   $\boxed{4}$

(1)从左边起第 3 张是  $\square$ ,第 6 张是  $\square$ ;从右边起第 9 张是  $\square$ ,第 3 张是  $\square$ 。

(2)其中最大的数是  $\square$ ,最小的数是  $\square$ 。

(3)把左边的 4 个数圈起来,在右边第 4 个数字上面画“ $\bigcirc$ ”。

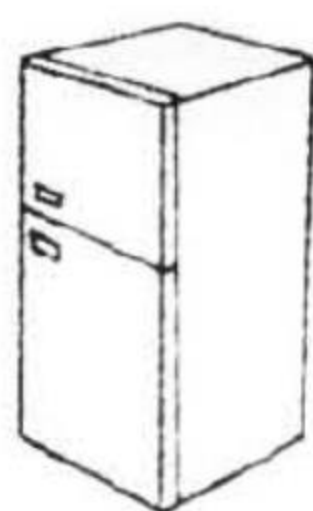
(4)把这些数按从大到小的顺序排列起来。

$\square > \square > \square > \square > \square > \square > \square > \square > \square$



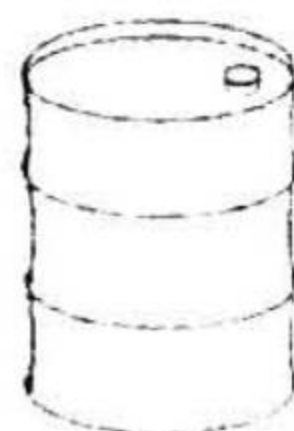
## 认识图形(1)

1. 是长方体的画“√”,是正方体的画“○”。



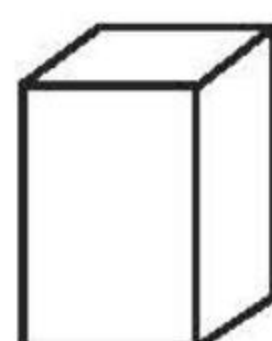
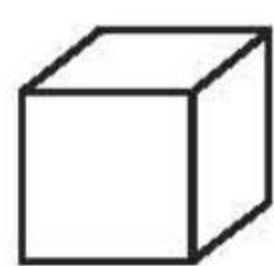

( ) ( ) ( ) ( ) ( )

2. 是圆柱的画“√”,是球的画“○”。



( ) ( ) ( ) ( ) ( )

3.



(1) ②的左边有( )个,右边有( )个。

(2) 从左边数起,第( )个是,第( )个是②。


(3) 从右边数起,第( )个和第( )个是,  
第( )个和第( )个是.









## 认识图形(2)

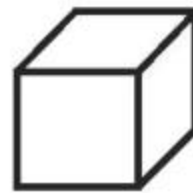



1. 数一数,比一比。




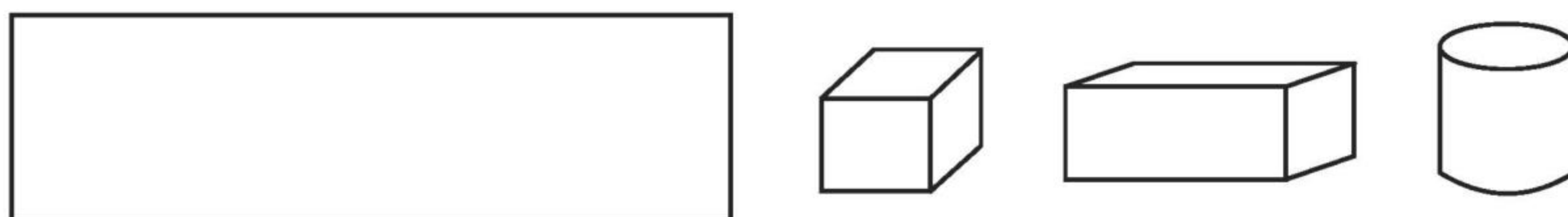
(1)

			
( )个	( )个	( )个	( )个

(2)  比  (多 少),  比  (多 少)。

 比  (多 少),  比  (多 少)。

2. 从左起,  排第 6, 一共有( )个积木。



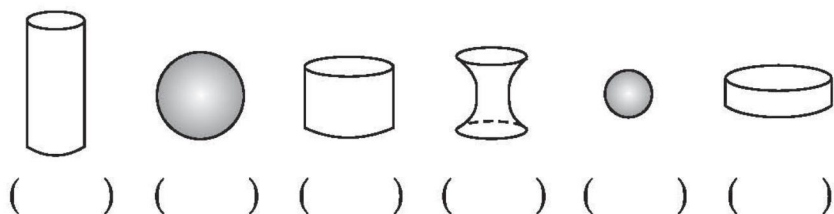


**口算题卡**

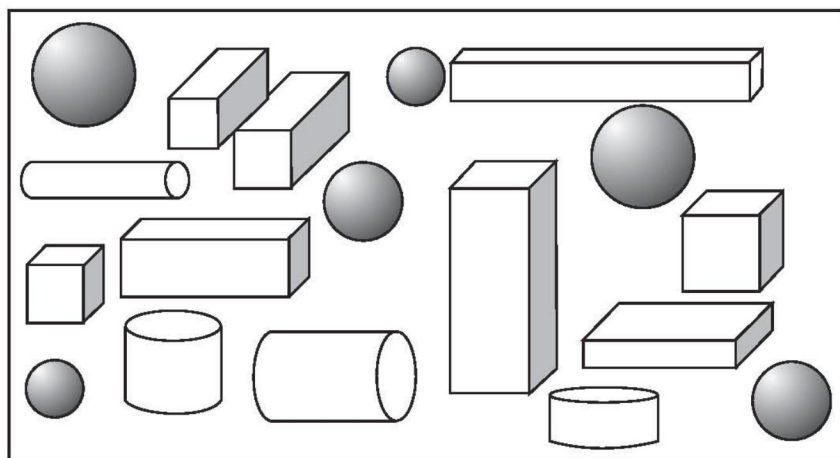
一年级 上册 时间:\_\_\_\_分\_\_\_\_秒 家长评价:\_\_\_\_\_

### 认识图形(3)

1. 下面物体的形状是  的画“√”, 是  的画“○”。



2. 看图数一数, 填一填。

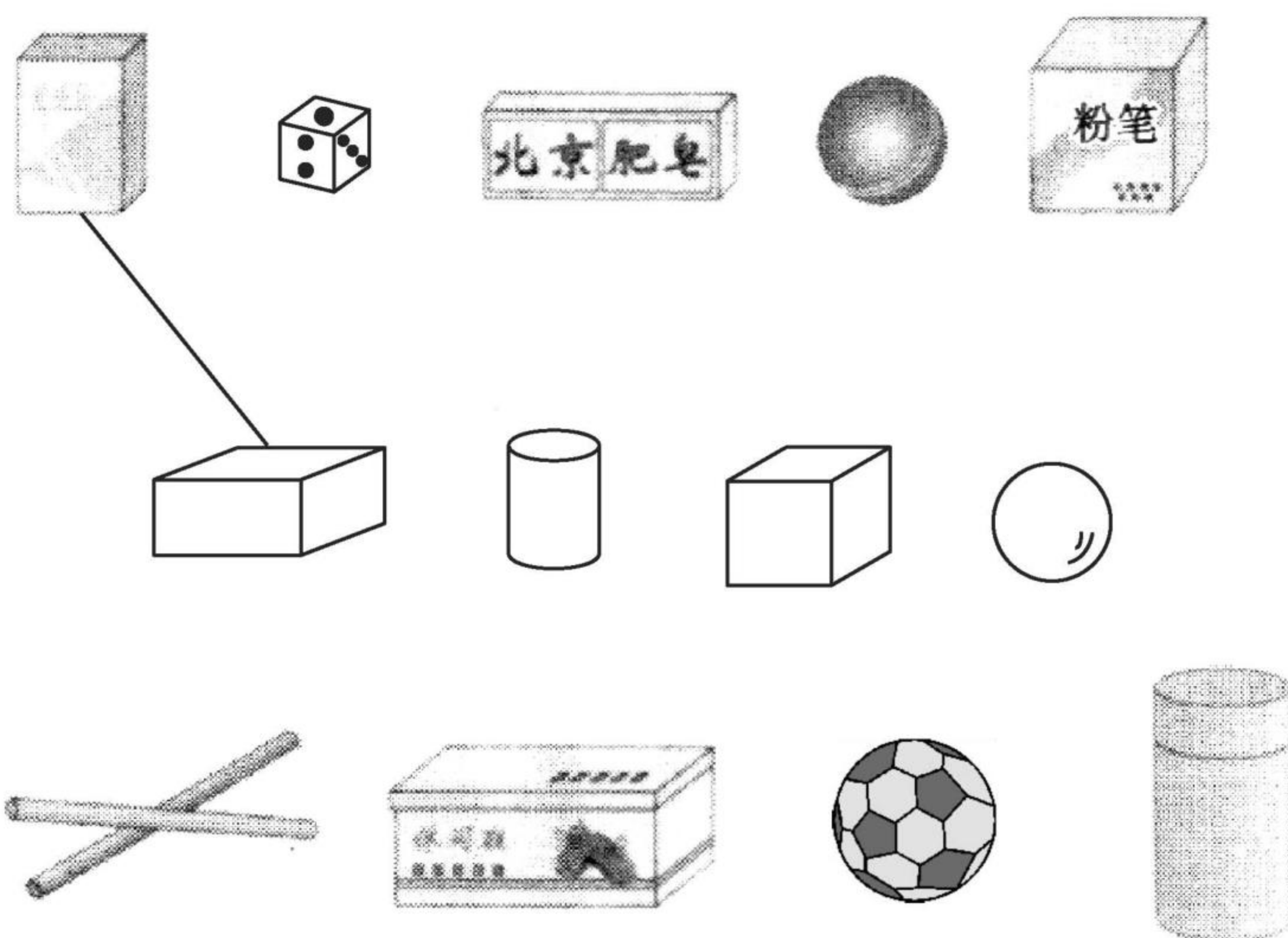


	( ) 个		( ) 个
	( ) 个		( ) 个

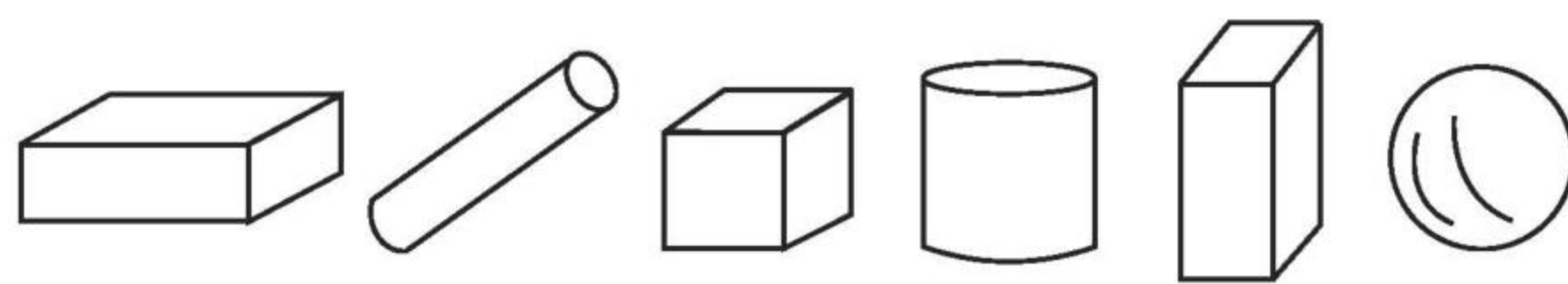


## 认识图形(4)

### 1. 连线。



### 2. 数一数,填一填。



(1) 一共有( )个物体。

(2) 从左起,第( )个是.

(3) 从右起,第( )个和第( )个是.

(4) 把右起第3个物体圈起来。

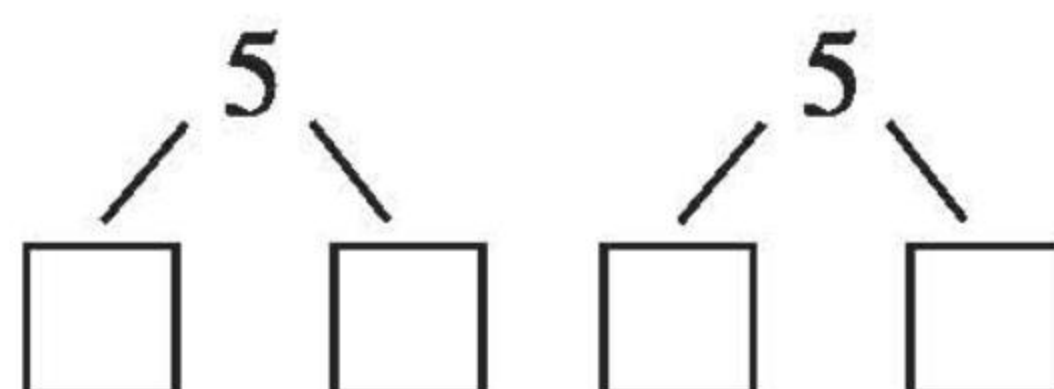
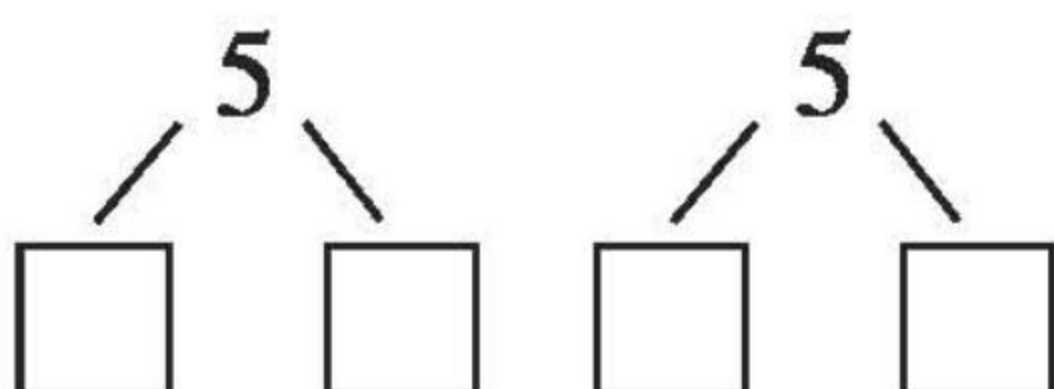
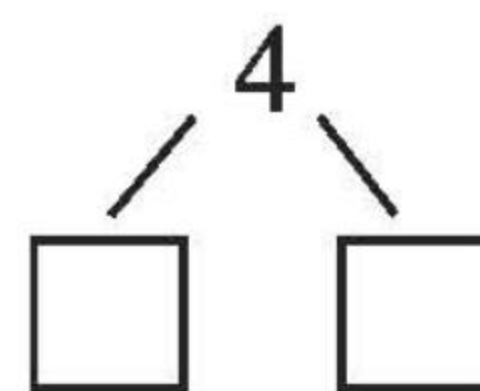
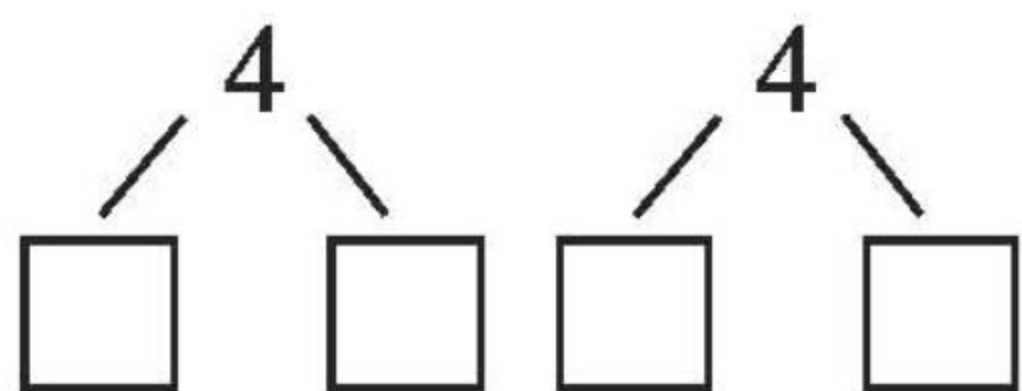
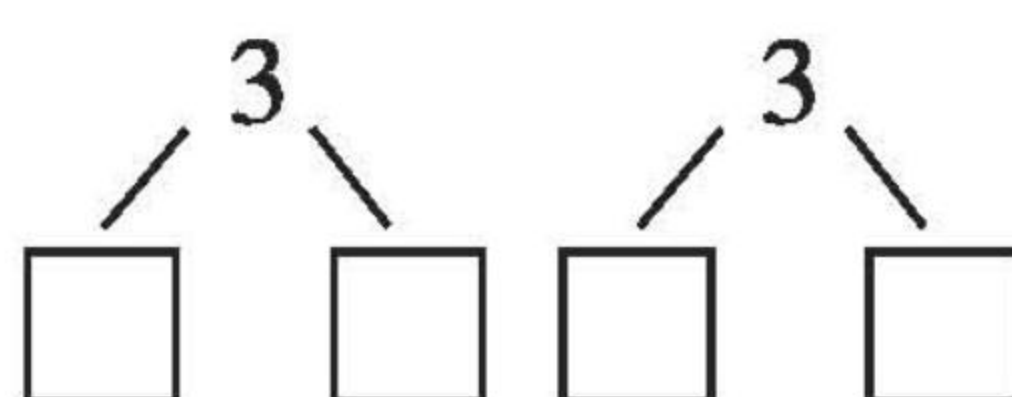
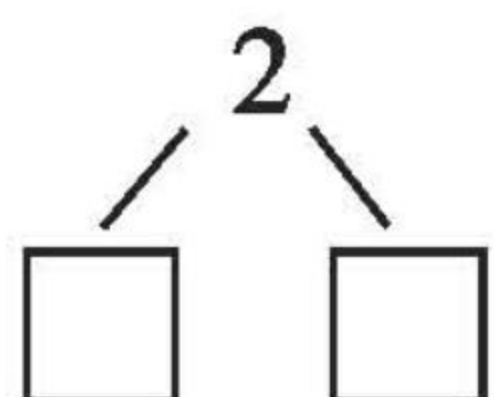


口算题卡

一年级 上册 时间:\_\_\_\_分\_\_\_\_秒 家长评价:\_\_\_\_\_

2-5 的分与合(1)

摆一摆,填一填。









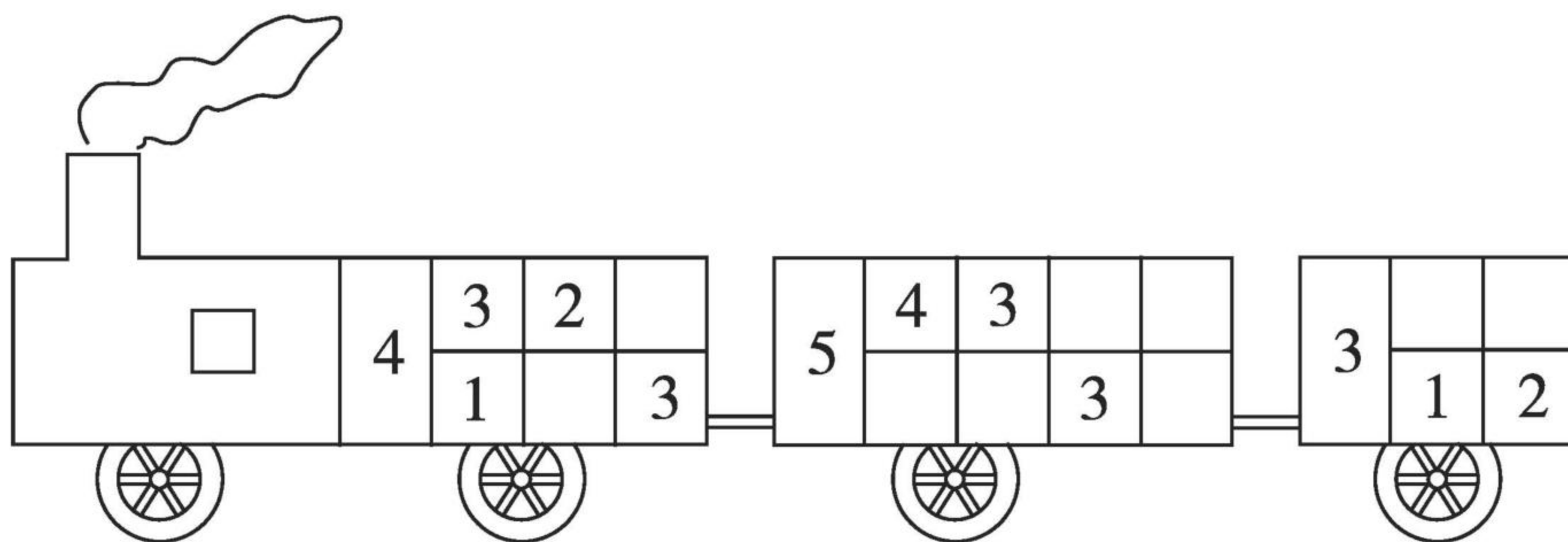


## 2-5 的分与合(2)

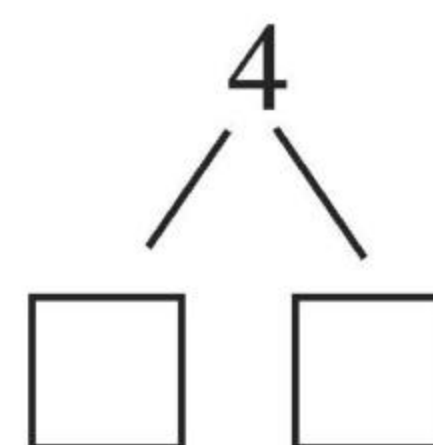
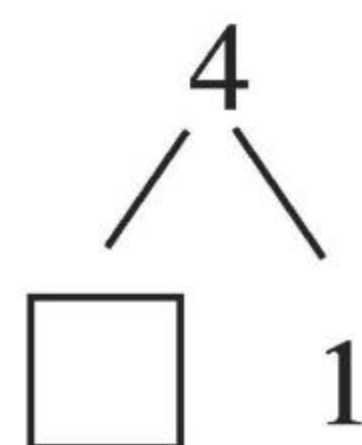
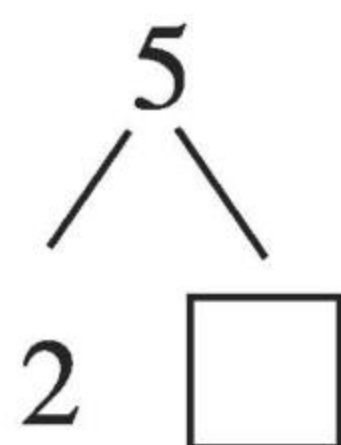

1. 看图填一填。



2. 开火车。



3. 猜一猜,说一说。

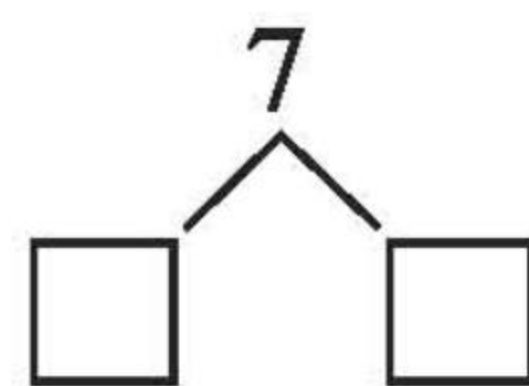
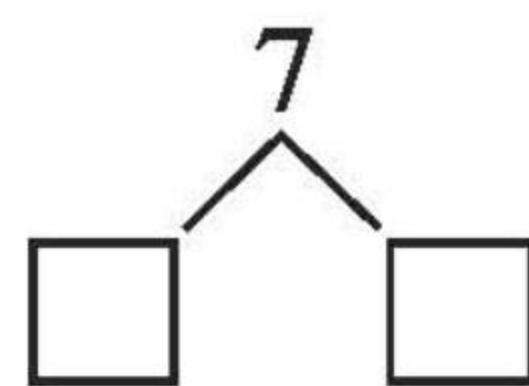
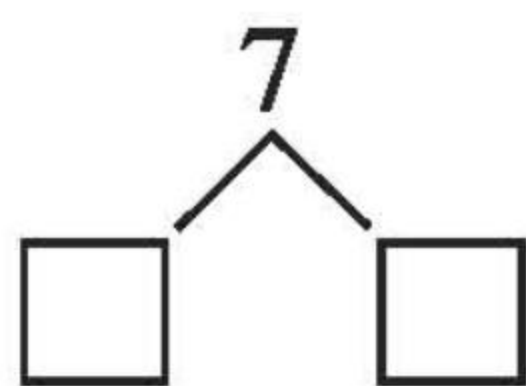
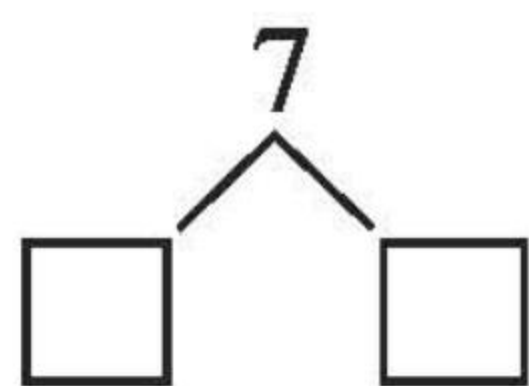
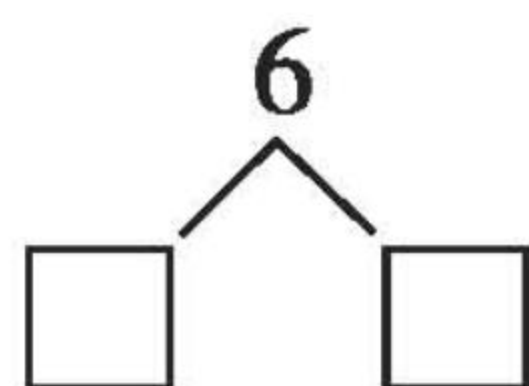
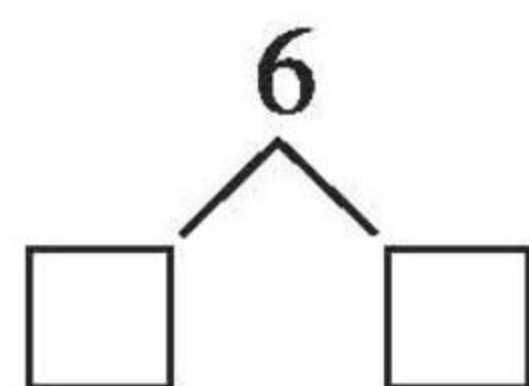
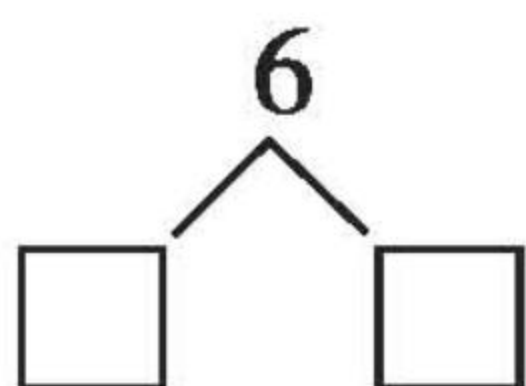
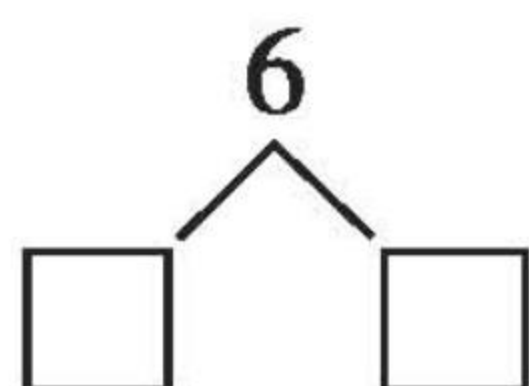






## 6、7 的分与合(1)

1. 涂一涂,填一填。



2. 填表。


6	1		5		
		3		2	4

7	2		4	3		5
		1			6	









## 6、7 的分与合(2)

1. 分一分,填一填。



6	1	2		4	5
			3		

2. 让花儿开得艳。





## 8、9 的分与合(1)

1. 想一想,填一填。

6		
1		5

8		
1		7

7		
1		6

2. 请你接着往下画。

6
☆
☆

7
○
○
○
○

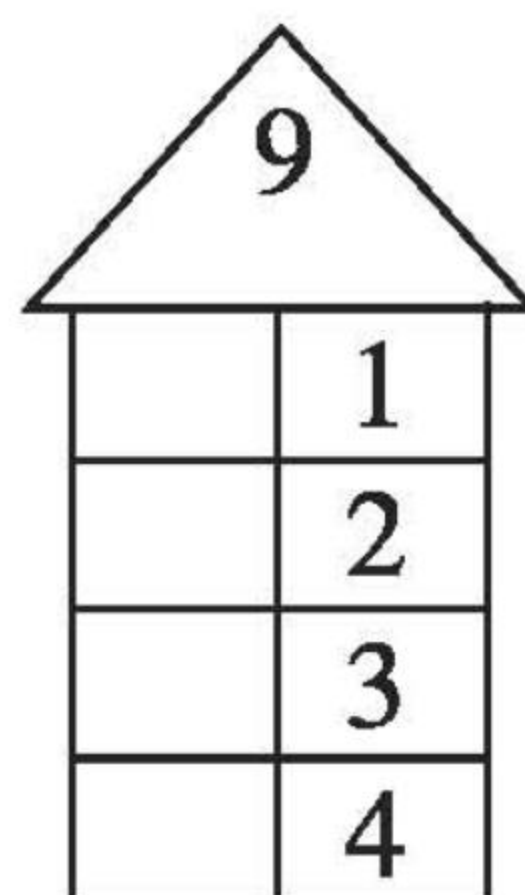
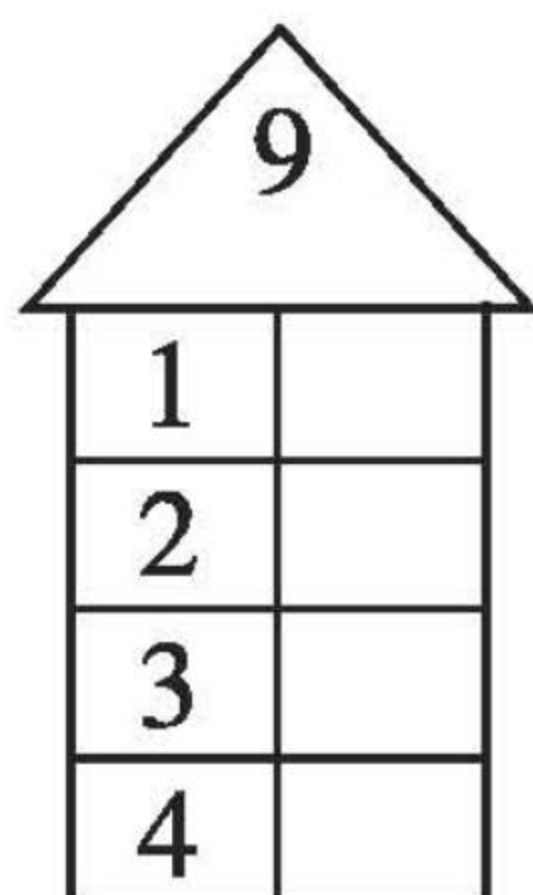

8
□



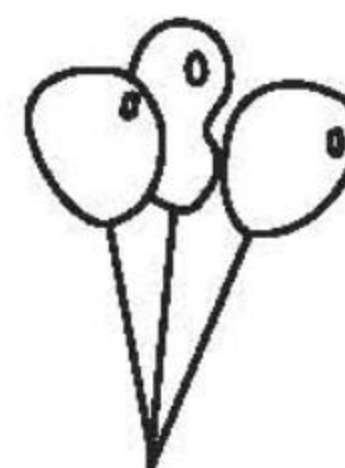
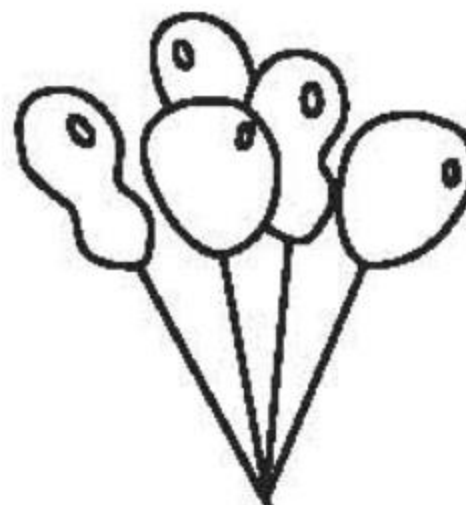






## 8、9 的分与合(2)

1. 看图填一填。



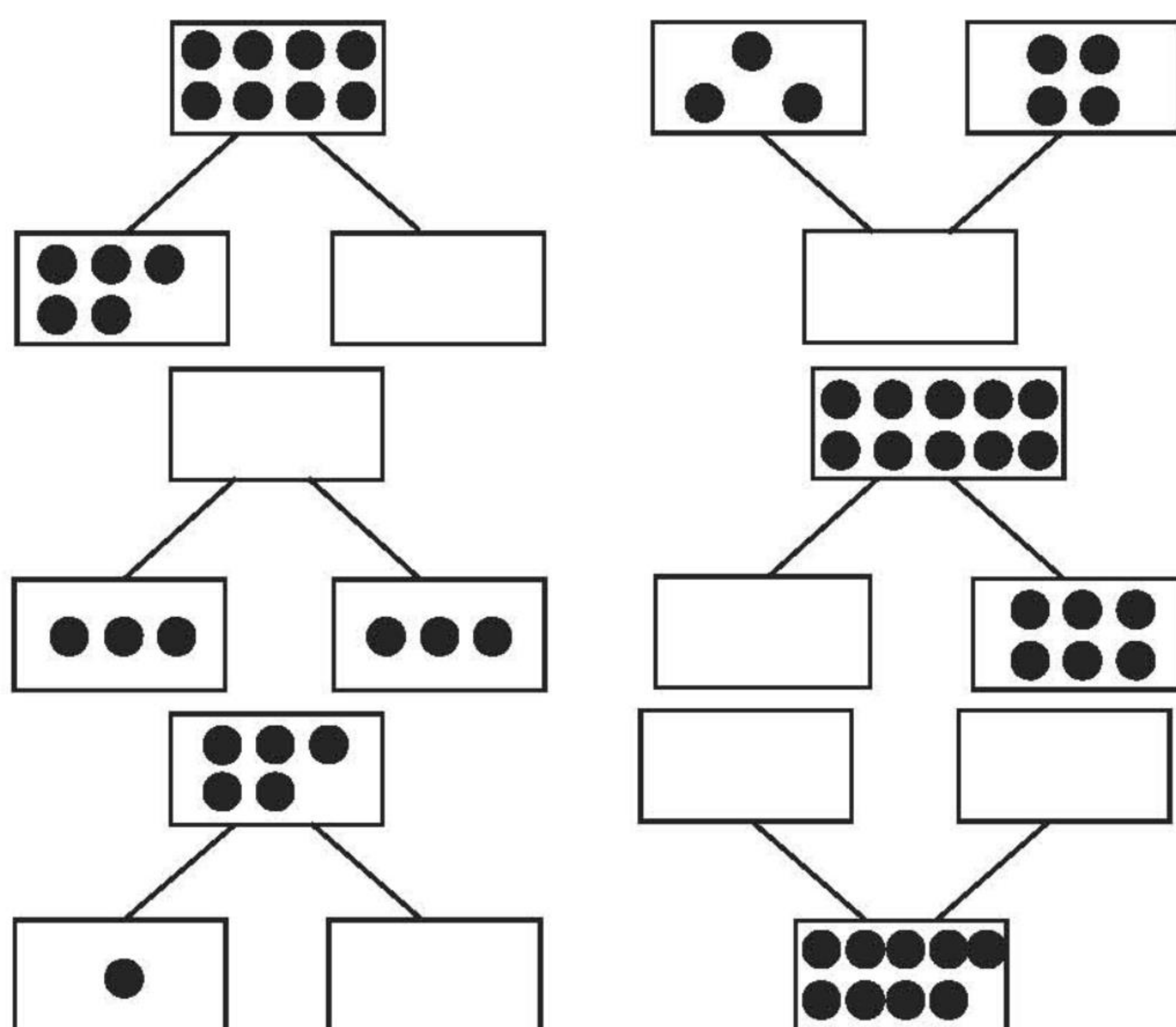
2. 哪两束气球合起来是 9 个? 连一连。






## 10 的分合(1)

1. 画点子。



2. 照样子,填一填。








口算题卡



一年级 上册 时间:\_\_\_\_分\_\_\_\_秒 家长评价:\_\_\_\_\_

10 的分合(2)

1.




2. 哪两张卡片上的数合起来是 10? 连一连。






## 10 的分合(3)

1. 先画满 10 个,再填空。




原有 (     ) 个

画了 (     ) 个




原有 (     ) 个

画了 (     ) 个



原有 (     ) 个

画了 (     ) 个




原有 (     ) 个

画了 (     ) 个

2.



(1)



(2)



(3)



(4)

第 3 盘和第 4 盘合起来有 (     ) 个草莓。第 1 盘和第 (     ) 盘合起来有 9 个草莓。第 (     ) 盘和第 (     ) 盘合起来有 8 个草莓。



## 5 以内的加法和减法(1)

1. 在□里填合适的数。

$$\begin{array}{c} 10 \\ \swarrow \quad \searrow \\ 4 \quad \square \end{array}$$

$$\begin{array}{c} \square \\ \swarrow \quad \searrow \\ 8 \quad 2 \end{array}$$

$$\begin{array}{c} 10 \\ \swarrow \quad \searrow \\ 5 \quad \square \end{array}$$

$$\begin{array}{c} 10 \\ \swarrow \quad \searrow \\ \square \quad 9 \end{array}$$


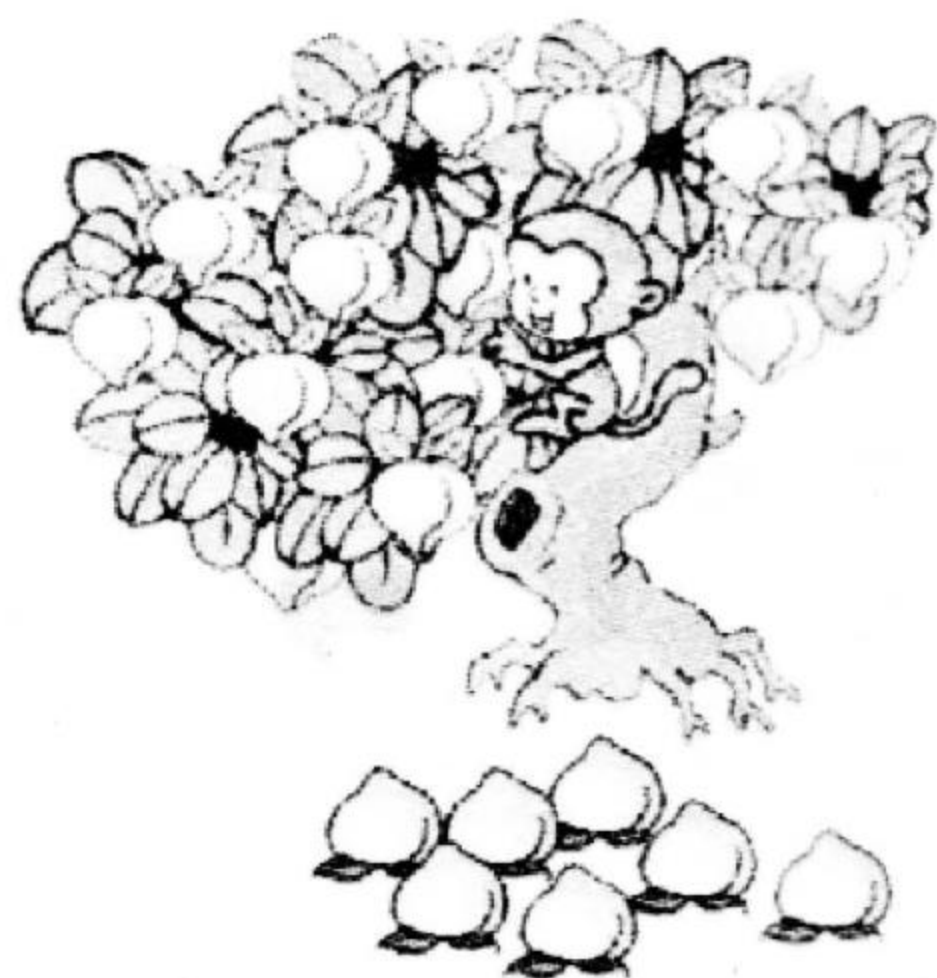
$$\begin{array}{c} \square \\ \swarrow \quad \searrow \\ 7 \quad 10 \end{array}$$

$$\begin{array}{c} \square \\ \swarrow \quad \searrow \\ 1 \quad 10 \end{array}$$

$$\begin{array}{c} \square \\ \swarrow \quad \searrow \\ \quad 10 \end{array} \quad 8$$

$$\begin{array}{c} \square \\ \swarrow \quad \searrow \\ 3 \quad 7 \end{array}$$

2. 边说边写。



摘了( )个 

又摘了( )个 

一共摘了( )个 





## 5 以内的加法和减法(2)

### 1. 基础练。

(1)  $3 - 0 =$

(11)  $1 - 0 =$

(2)  $1 + 0 =$

(12)  $4 + 0 =$

(3)  $2 - 2 =$

(13)  $5 - 4 =$

(4)  $3 - 2 =$

(14)  $4 + 1 =$

(5)  $1 + 1 =$

(15)  $3 - 1 =$

(6)  $0 + 5 =$

(16)  $0 + 3 =$

(7)  $0 + 2 =$

(17)  $4 - 1 =$

(8)  $2 - 1 =$

(18)  $3 + 2 =$

(9)  $1 + 4 =$

(19)  $2 + 2 =$

(10)  $1 + 3 =$

(20)  $4 - 0 =$

### 2. 边说边写。



原有 2 只 , 又飞来( )只, 一共有( )只。

$$2 + \square = \square (\text{只})$$





## 5 以内的加法和减法(3)

### 1. 基础练。

(1)  $1 + 2 =$

(11)  $4 - 3 =$

(2)  $2 + 3 =$

(12)  $5 - 1 =$

(3)  $4 - 4 =$

(13)  $3 - 1 =$

(4)  $1 - 1 =$

(14)  $3 + 1 =$

(5)  $5 - 2 =$

(15)  $2 + 1 =$

(6)  $4 - 1 =$

(16)  $2 + 3 =$

(7)  $4 - 2 =$

(17)  $3 - 0 =$

(8)  $5 - 3 =$

(18)  $3 + 2 =$


(9)  $5 - 4 =$

(19)  $0 + 4 =$

(10)  $4 + 1 =$

(20)  $0 + 3 =$

### 2. 边说边写。



原有4只 , 游走( )只, 还有( )只。

$$\square - \square = \square (\text{只})$$



## 5 以内的加法和减法(3)

## 1. 基础练。

(1)  $2 + 2 =$

(11)  $5 - 4 =$

(2)  $3 - 2 =$

(12)  $5 - 0 =$

(3)  $2 - 0 =$

(13)  $3 - 3 =$

(4)  $1 + 3 =$

(14)  $2 - 1 =$

(5)  $4 - 2 =$

(15)  $0 + 5 =$

(6)  $5 - 5 =$

(16)  $2 + 0 =$

(7)  $5 - 3 =$

(17)  $1 + 4 =$

(8)  $4 + 1 =$

(18)  $5 - 2 =$

(9)  $4 - 1 =$

(19)  $1 + 1 =$

(10)  $1 + 2 =$


(20)  $4 - 4 =$

## 2. 边说边写。

原有 3 只 ,

走了( )只,还有( )只。

$$3 - \square = \square (\text{只})$$





## 10 以内的加法和减法(1)

### 1. 基础练。

(1)  $0 + 7 =$

(11)  $6 - 5 =$

(2)  $4 - 2 =$

(12)  $5 + 1 =$

(3)  $6 - 3 =$

(13)  $7 - 3 =$

(4)  $6 + 1 =$

(14)  $4 - 1 =$

(5)  $5 - 4 =$

(15)  $5 - 3 =$

(6)  $7 - 4 =$

(16)  $6 - 2 =$

(7)  $6 - 1 =$

(17)  $4 - 3 =$

(8)  $3 + 1 =$

(18)  $5 - 1 =$

(9)  $5 - 5 =$

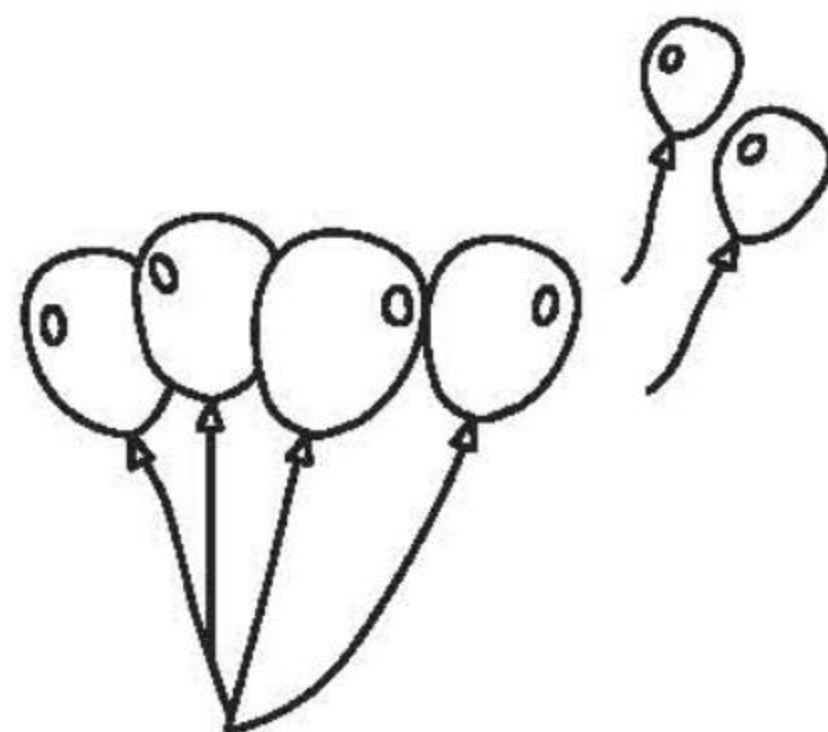
(19)  $4 + 1 =$

(10)  $4 + 3 =$

(20)  $7 - 5 =$

2. 原有 6 个 , 吹走 ( ) 个, 还有 ( ) 个。

$$\square - \square = \square (\text{个})$$







## 10 以内的加法和减法(2)

### 1. 基础练。

(1)  $2 + 3 =$

(11)  $6 + 3 =$

(2)  $7 + 0 =$

(12)  $5 + 4 =$

(3)  $3 - 2 =$

(13)  $9 - 2 =$

(4)  $4 - 4 =$

(14)  $7 + 2 =$

(5)  $7 - 6 =$

(15)  $5 + 3 =$

(6)  $3 + 0 =$

(16)  $2 + 4 =$

(7)  $4 + 2 =$

(17)  $4 + 3 =$

(8)  $3 - 3 =$

(18)  $3 + 6 =$

(9)  $5 - 2 =$

(19)  $6 - 3 =$

(10)  $2 + 5 =$

(20)  $3 + 3 =$

### 2. 边说边写。

( )人当“老鹰”,( )人当“鸡”,  
一共( )人。

$\square \bigcirc \square = \square$  (人)





## 10 以内的加法和减法(3)

## 1. 基础练。

(1)  $8 + 1 =$

(11)  $8 - 3 =$

(2)  $6 + 2 =$

(12)  $7 - 2 =$

(3)  $4 + 4 =$

(13)  $7 - 6 =$

(4)  $9 + 0 =$

(14)  $8 - 4 =$

(5)  $9 - 9 =$

(15)  $6 - 5 =$

(6)  $4 + 5 =$

(16)  $9 - 8 =$

(7)  $9 - 6 =$

(17)  $9 - 5 =$

(8)  $7 - 3 =$

(18)  $8 - 5 =$

(9)  $2 + 7 =$

(19)  $9 - 4 =$


(10)  $9 - 3 =$

(20)  $5 + 2 =$

## 2. 边说边写。

白子有( )枚,黑子有( )枚,一共有( )枚。

$$\square \bigcirc \square = \square (\text{枚})$$





## 10 以内的加法和减法(4)

### 1. 基础练。

(1)  $6 + 3 =$

(11)  $7 - 2 =$

(2)  $8 - 2 =$

(12)  $8 + 1 =$

(3)  $8 + 0 =$

(13)  $6 - 0 =$

(4)  $9 - 4 =$

(14)  $7 - 4 =$

(5)  $9 - 3 =$

(15)  $4 + 2 =$

(6)  $4 + 5 =$

(16)  $8 - 4 =$

(7)  $9 - 2 =$

(17)  $6 - 2 =$

(8)  $8 - 7 =$

(18)  $6 - 4 =$

(9)  $7 - 6 =$

(19)  $9 + 0 =$

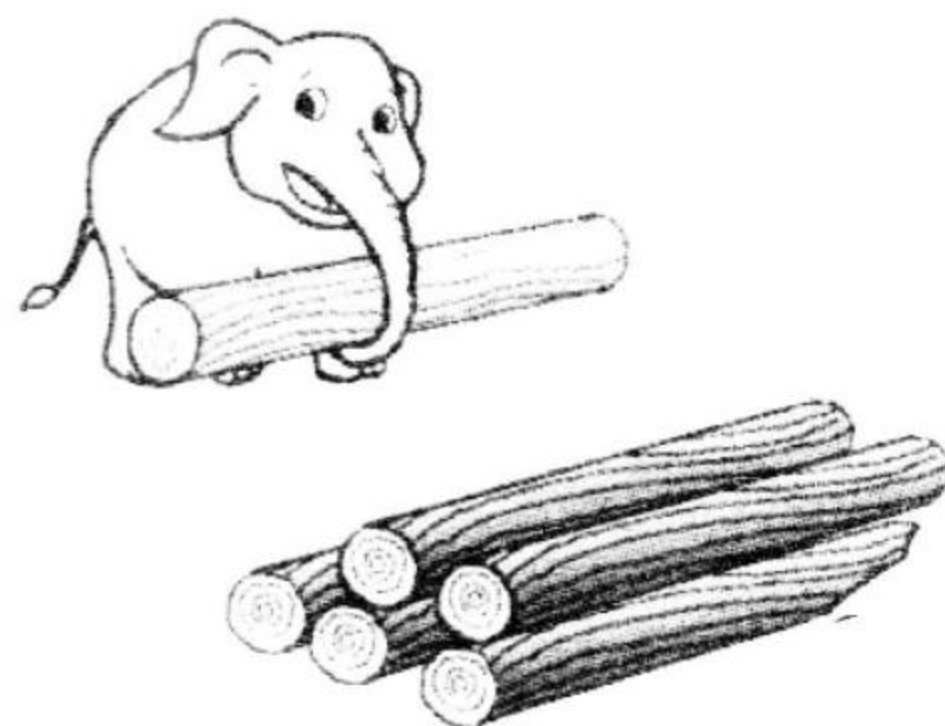
(10)  $9 - 7 =$

(20)  $8 - 5 =$

### 2. 边说边写。

一堆木头有( )根,大象运走  
( )根,还剩( )根。

$$\square - \square = \square (\text{根})$$







## 10 以内的加法和减法(5)

## 1. 基础练。

(1)  $3 + 6 =$

(11)  $7 - 3 =$

(2)  $1 + 8 =$

(12)  $6 - 4 =$

(3)  $9 - 1 =$

(13)  $2 + 4 =$

(4)  $7 - 4 =$

(14)  $8 - 6 =$

(5)  $7 - 5 =$

(15)  $9 + 0 =$

(6)  $8 - 6 =$

(16)  $3 - 2 =$

(7)  $9 - 0 =$

(17)  $8 - 4 =$

(8)  $5 + 4 =$

(18)  $5 + 4 =$

(9)  $9 - 6 =$

(19)  $7 - 1 =$

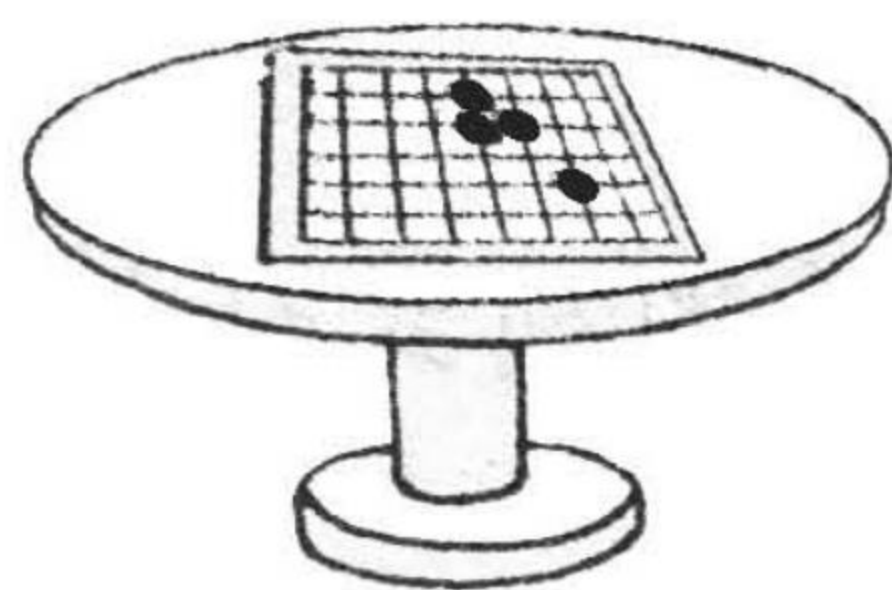
(10)  $8 - 8 =$

(20)  $4 + 4 =$

## 2. 边说边写。

一共有 8 枚黑棋子, 已经放了  
( ) 枚, 还要放( ) 枚。

$$\square \bigcirc \square = \square (\text{枚})$$





## 10 以内的加法和减法(6)

### 1. 基础练。

(1)  $9 - 7 =$

(11)  $8 + 1 =$

(2)  $9 - 6 =$

(12)  $4 + 3 =$

(3)  $2 + 6 =$

(13)  $7 + 2 =$

(4)  $3 + 4 =$

(14)  $6 - 3 =$

(5)  $3 + 6 =$

(15)  $9 - 2 =$

(6)  $0 + 9 =$

(16)  $2 + 5 =$

(7)  $9 - 5 =$

(17)  $7 - 5 =$

(8)  $9 - 4 =$

(18)  $6 + 3 =$


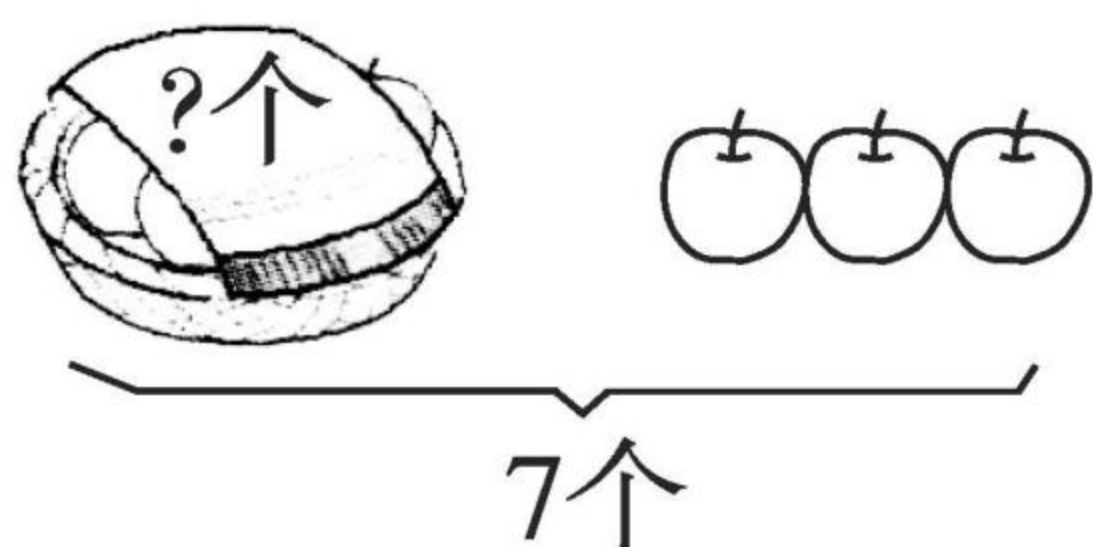
(9)  $9 - 1 =$

(19)  $6 + 1 =$

(10)  $2 + 7 =$

(20)  $8 - 5 =$

2.



$\square \bigcirc \square = \square$  (个)

$\square \bigcirc \square = \square$  (条)



## 10 以内的加法和减法(7)

### 1. 基础练。

(1)  $7 + 2 =$

(11)  $3 + 4 =$

(2)  $4 + 4 =$

(12)  $4 + 5 =$

(3)  $8 - 3 =$

(13)  $7 - 0 =$

(4)  $9 - 7 =$

(14)  $9 + 0 =$

(5)  $0 + 2 =$

(15)  $5 - 3 =$

(6)  $9 - 5 =$

(16)  $5 + 3 =$

(7)  $4 + 1 =$

(17)  $3 + 1 =$

(8)  $8 + 1 =$

(18)  $7 + 1 =$

(9)  $8 + 0 =$

(19)  $2 + 4 =$

(10)  $8 - 6 =$

(20)  $3 + 3 =$

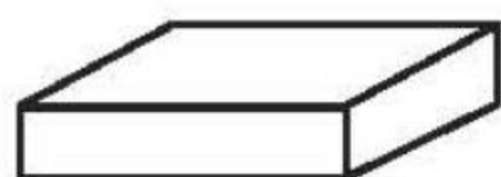
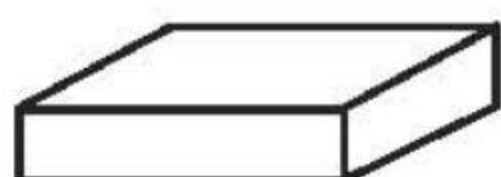
### 2. 连一连,把算式卡片分成两类。

$2+3$

$7-2$

$4+2$

$6-1$



$0+6$

$3+3$

$7-1$

$5+0$





## 10 以内的加法和减法(8)

### 1. 基础练。

(1)  $2 + 7 =$

(11)  $2 + 5 =$

(2)  $7 - 5 =$

(12)  $7 - 1 =$

(3)  $4 + 2 =$

(13)  $5 - 4 =$

(4)  $9 - 6 =$

(14)  $7 - 6 =$

(5)  $6 + 1 =$

(15)  $6 - 3 =$

(6)  $7 - 2 =$

(16)  $4 + 3 =$

(7)  $8 - 8 =$

(17)  $9 - 7 =$

(8)  $6 + 2 =$

(18)  $3 + 2 =$

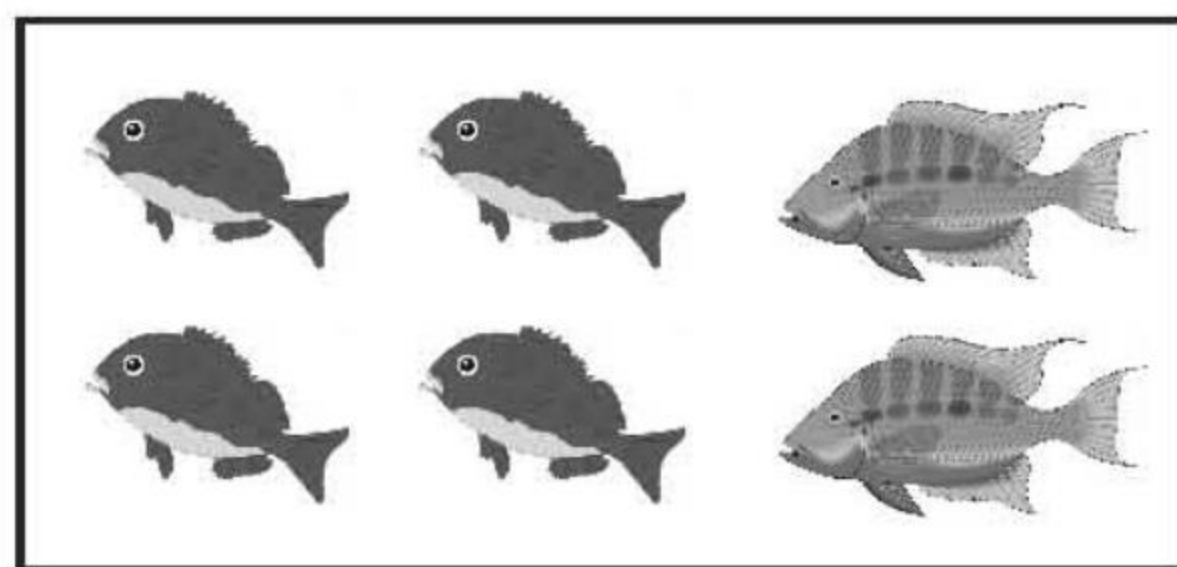
(9)  $0 + 9 =$

(19)  $8 - 7 =$

(10)  $7 - 3 =$

(20)  $8 + 1 =$

### 2. 看图写算式。



$$\square + \square = \square$$

$$\square + \square = \square$$



## 10 以内的加法和减法(9)

### 1. 基础练。

(1)  $9 - 6 =$

(11)  $2 - 2 =$

(2)  $6 - 4 =$

(12)  $5 + 2 =$

(3)  $5 - 3 =$

(13)  $7 - 5 =$

(4)  $6 + 3 =$

(14)  $9 - 5 =$

(5)  $7 + 2 =$

(15)  $5 + 3 =$

(6)  $8 - 3 =$

(16)  $7 - 2 =$

(7)  $7 - 3 =$

(17)  $8 - 6 =$

(8)  $6 + 2 =$

(18)  $5 - 2 =$


(9)  $8 - 4 =$

(19)  $2 + 7 =$

(10)  $3 + 6 =$

(20)  $2 + 3 =$

### 2. 看图写算式。



$7 - \square = \square$



## 10 以内的加法和减法(10)

## 1. 基础练。

(1)  $8 + 2 =$

(11)  $9 - 2 =$

(2)  $10 - 5 =$

(12)  $9 - 5 =$

(3)  $9 + 1 =$

(13)  $8 + 1 =$

(4)  $9 - 8 =$

(14)  $9 - 3 =$

(5)  $9 - 1 =$

(15)  $4 + 6 =$

(6)  $10 - 4 =$

(16)  $3 + 6 =$

(7)  $2 + 7 =$

(17)  $9 - 0 =$

(8)  $10 - 6 =$

(18)  $9 - 4 =$

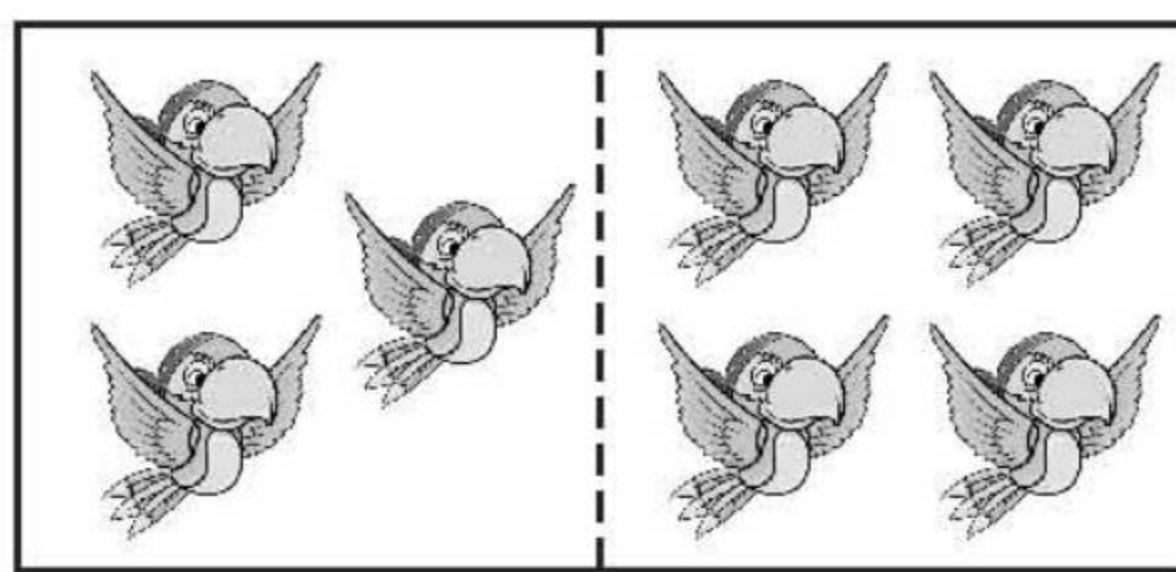
(9)  $8 - 2 =$

(19)  $5 + 4 =$

(10)  $8 - 5 =$

(20)  $10 - 7 =$

## 2.



$7 - \square = \square$

$7 - \square = \square$





## 10 以内的加法和减法(11)

### 1. 基础练。

(1)  $8 - 6 =$

(2)  $7 + 3 =$

(3)  $6 - 3 =$

(4)  $1 + 9 =$

(5)  $2 + 8 =$

(6)  $6 + 3 =$

(7)  $10 - 8 =$

(8)  $7 - 3 =$

(9)  $7 + 2 =$

(10)  $9 - 7 =$

(11)  $10 - 3 =$

(12)  $8 + 2 =$

(13)  $6 + 4 =$

(14)  $8 - 6 =$

(15)  $10 - 2 =$

(16)  $3 + 5 =$

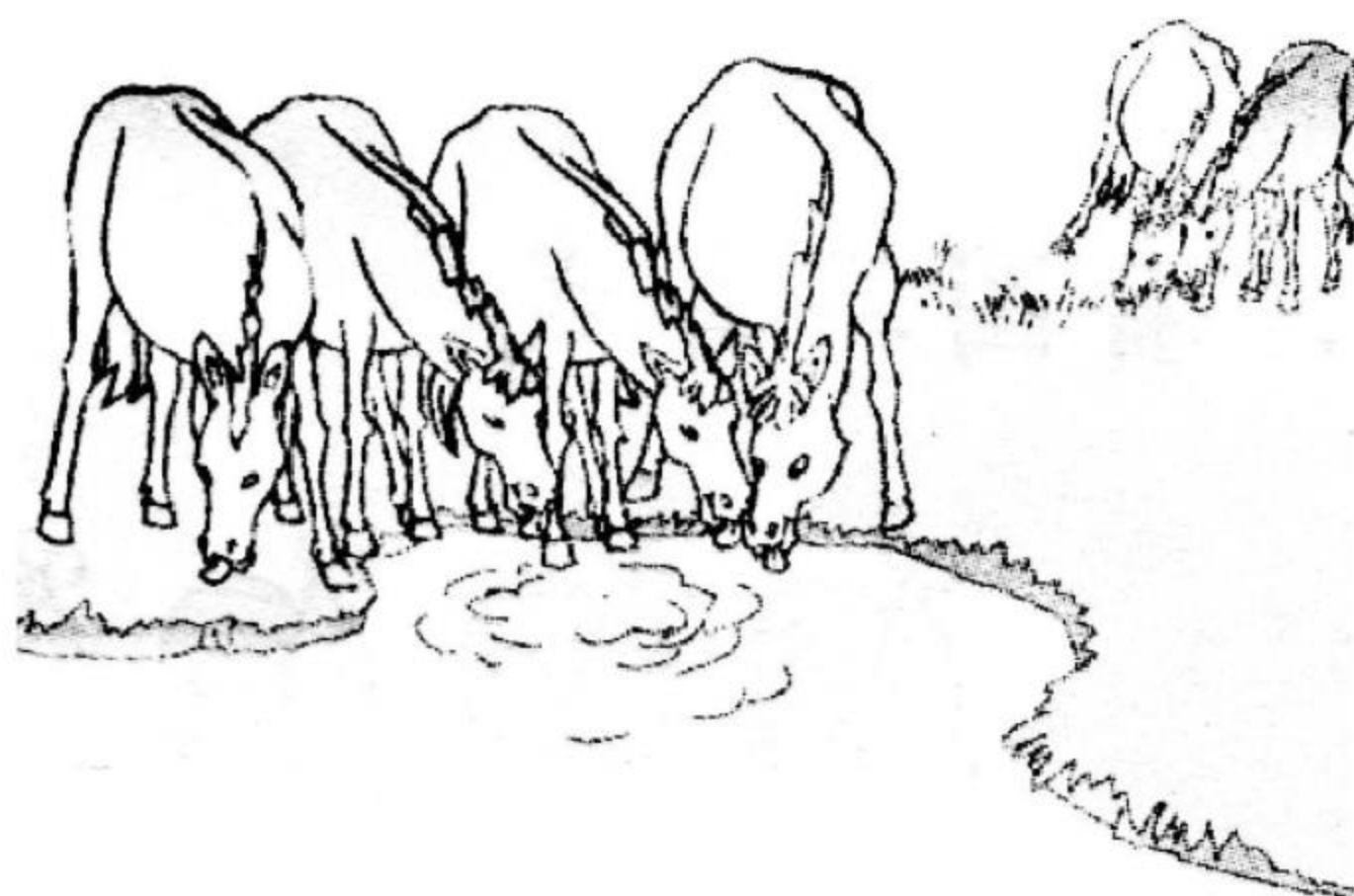
(17)  $2 + 7 =$

(18)  $9 + 1 =$

(19)  $3 + 6 =$

(20)  $9 - 4 =$

### 2. 看图写算式。



$\square + \square = \square$



## 10 以内的加法和减法(12)

### 1. 基础练。

(1)  $7 + 2 =$

(11)  $8 - 5 =$

(2)  $2 + 5 =$

(12)  $9 - 2 =$

(3)  $10 - 4 =$

(13)  $9 - 6 =$

(4)  $8 + 1 =$

(14)  $9 - 8 =$

(5)  $3 + 7 =$

(15)  $5 + 4 =$

(6)  $8 - 7 =$

(16)  $9 - 5 =$

(7)  $2 + 6 =$

(17)  $10 - 6 =$

(8)  $8 - 3 =$

(18)  $5 - 5 =$

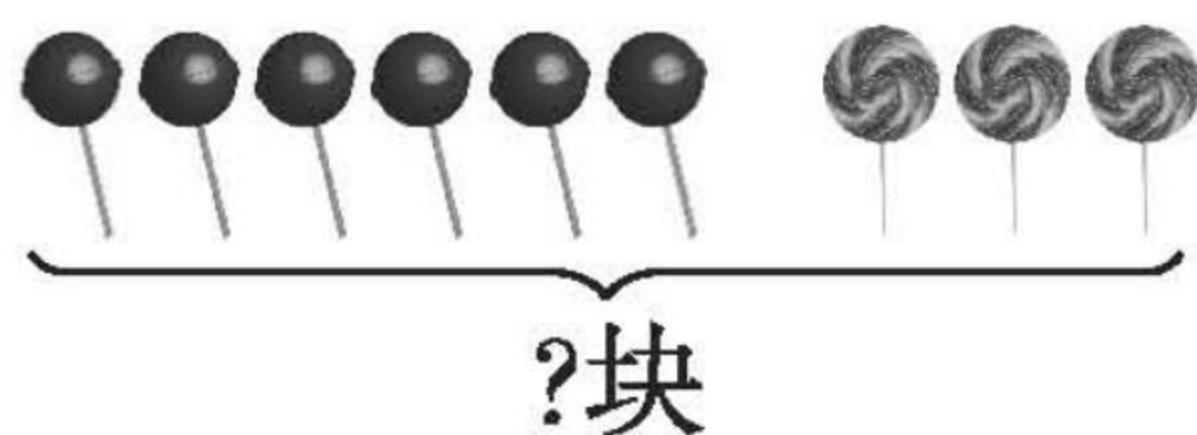
(9)  $6 - 2 =$

(19)  $6 + 3 =$

(10)  $4 + 5 =$

(20)  $9 - 7 =$

### 2. 边说边写。



有( )块,



有( )块,一共有( )块。

$\square \bigcirc \square = \square$  (块)



## 10 以内的加法和减法(13)

## 1. 基础练。

(1)  $8 - 4 =$

(11)  $3 + 6 =$

(2)  $10 - 6 =$

(12)  $1 + 9 =$

(3)  $8 + 2 =$

(13)  $10 - 7 =$

(4)  $9 - 1 =$

(14)  $7 + 3 =$

(5)  $9 - 9 =$

(15)  $9 - 3 =$

(6)  $7 - 3 =$

(16)  $2 + 7 =$

(7)  $10 - 9 =$

(17)  $9 - 8 =$

(8)  $2 + 6 =$

(18)  $9 - 2 =$

(9)  $6 + 3 =$

(19)  $10 - 1 =$

(10)  $3 + 7 =$

(20)  $5 + 4 =$

## 2. 边说边写。

一共有 10 块糖, 袋子外面有

( ) 块, 袋子里面有( ) 块。



10块

$\square \bigcirc \square = \square$  (块)





## 10 以内的加法和减法(14)

### 1. 基础练。

(1)  $6 - 6 =$

(11)  $7 - 3 =$

(2)  $7 + 2 =$

(12)  $8 - 4 =$

(3)  $6 + 4 =$

(13)  $3 + 7 =$

(4)  $7 - 2 =$

(14)  $9 - 6 =$

(5)  $10 - 3 =$

(15)  $7 - 5 =$

(6)  $9 - 5 =$

(16)  $8 - 1 =$

(7)  $10 - 5 =$

(17)  $5 + 5 =$

(8)  $3 + 4 =$

(18)  $3 + 2 =$


(9)  $6 - 5 =$

(19)  $1 + 4 =$

(10)  $1 + 8 =$

(20)  $4 + 4 =$

### 2.



台上有( )人,台下有( )人,一共有( )人。

$\square \bigcirc \square = \square$  (人)



## 10 以内的加法和减法(15)

### 1. 基础练。

(1)  $10 - 4 =$

(11)  $4 + 2 =$

(2)  $8 - 5 =$

(12)  $2 + 3 =$

(3)  $4 + 6 =$

(13)  $4 + 3 =$

(4)  $6 + 4 =$

(14)  $8 - 2 =$

(5)  $6 + 0 =$

(15)  $8 - 7 =$

(6)  $9 - 7 =$

(16)  $5 + 2 =$

(7)  $6 + 1 =$

(17)  $9 - 5 =$

(8)  $3 + 5 =$

(18)  $2 + 7 =$

(9)  $6 - 6 =$

(19)  $8 - 3 =$


(10)  $10 - 6 =$

(20)  $6 + 3 =$

2. 原来有 9 只小鸟,飞走了

( ) 只,还剩( ) 只。

$\square \bigcirc \square = \square$  (只)





## 10 以内的加法和减法(16)

### 1. 基础练。

(1)  $9 - 8 =$

(11)  $5 + 4 =$

(2)  $3 - 3 =$

(12)  $9 - 9 =$

(3)  $4 + 4 =$

(13)  $7 + 3 =$

(4)  $2 + 6 =$

(14)  $8 - 5 =$

(5)  $5 - 1 =$

(15)  $9 - 6 =$

(6)  $4 - 4 =$

(16)  $6 + 3 =$

(7)  $2 + 7 =$

(17)  $8 - 7 =$

(8)  $3 + 6 =$

(18)  $3 + 7 =$


(9)  $9 - 2 =$

(19)  $10 - 7 =$

(10)  $6 + 0 =$

(20)  $1 + 9 =$

### 2.



$\square \bigcirc \square = \square (\text{人})$





## 10 以内的加法和减法(17)

### 1. 基础练。

(1)  $7 + 2 =$

(11)  $8 - 0 =$

(2)  $10 - 4 =$

(12)  $3 + 5 =$

(3)  $2 + 5 =$

(13)  $8 - 1 =$

(4)  $9 + 0 =$

(14)  $8 - 3 =$

(5)  $10 - 5 =$

(15)  $2 + 6 =$

(6)  $9 - 7 =$

(16)  $6 + 1 =$

(7)  $10 - 9 =$

(17)  $10 - 3 =$

(8)  $9 + 1 =$

(18)  $8 + 2 =$

(9)  $7 + 2 =$

(19)  $9 - 3 =$


(10)  $6 + 4 =$

(20)  $6 - 0 =$

### 2. 冰箱里原来有 8 瓶饮料,亮亮拿走

( ) 瓶,冰箱里还剩( ) 瓶。

$\square \bigcirc \square = \square$  (瓶)





## 10 以内的加法和减法(18)

### 1. 基础练。

(1)  $2 + 4 =$

(2)  $8 - 5 =$

(3)  $3 + 2 =$

(4)  $10 - 6 =$

(5)  $3 + 7 =$

(6)  $4 + 4 =$

(7)  $9 - 7 =$

(8)  $9 - 5 =$

(9)  $7 - 3 =$

(10)  $10 - 9 =$

(11)  $0 + 9 =$

(12)  $8 - 2 =$

(13)  $7 - 4 =$

(14)  $10 - 5 =$

(15)  $4 + 3 =$

(16)  $3 + 6 =$

(17)  $2 + 2 =$

(18)  $10 - 3 =$

(19)  $6 - 6 =$

(20)  $8 - 7 =$

### 2.



我吃了3个桃。

一共吃了( )个桃。  $\square \bigcirc \square = \square$  (个)



## 10 以内的加法和减法(19)

### 1. 基础练。

(1)  $9 - 3 =$

(11)  $7 - 7 =$

(2)  $5 - 5 =$

(12)  $9 - 6 =$

(3)  $7 - 2 =$

(13)  $5 - 3 =$

(4)  $4 + 3 =$

(14)  $2 + 5 =$

(5)  $9 + 1 =$

(15)  $8 - 6 =$

(6)  $7 - 4 =$

(16)  $10 - 4 =$

(7)  $10 - 9 =$

(17)  $9 - 2 =$

(8)  $8 + 1 =$

(18)  $2 + 7 =$

(9)  $6 + 4 =$

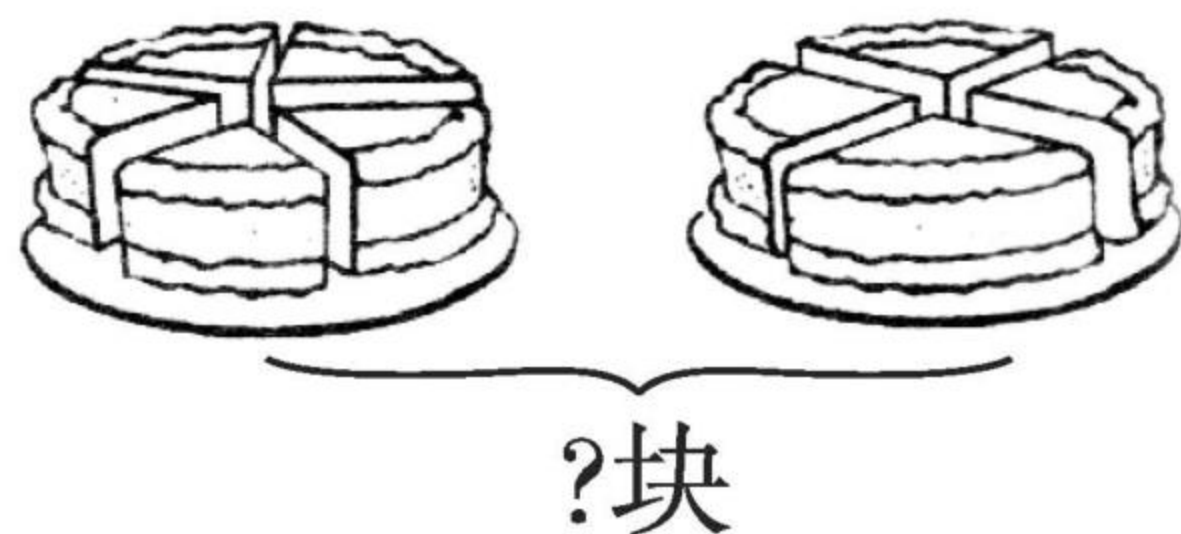
(19)  $7 - 3 =$

(10)  $8 - 2 =$

(20)  $4 + 1 =$

### 2. 边说边写。

左边有( )块,右边有( )  
块,一共有( )块。



$\square \bigcirc \square = \square$  (块)





## 10 以内的加法和减法(20)

### 1. 基础练。

(1)  $10 - 7 =$

(11)  $1 + 6 =$

(2)  $5 + 1 =$

(12)  $7 - 4 =$

(3)  $10 + 0 =$

(13)  $6 + 1 =$

(4)  $5 + 4 =$

(14)  $9 + 1 =$

(5)  $8 + 2 =$

(15)  $7 - 3 =$

(6)  $0 + 10 =$

(16)  $10 - 9 =$

(7)  $9 - 8 =$

(17)  $8 - 1 =$

(8)  $7 + 3 =$

(18)  $10 - 5 =$


(9)  $8 - 8 =$

(19)  $5 + 3 =$

(10)  $10 - 2 =$

(20)  $2 + 7 =$

### 2.



一共有( )块,右边有( )块,左边有( )块。

$\square \bigcirc \square = \square$  (块)



## 10 以内的加法和减法(21)

## 1. 基础练。

(1)  $8 + 1 =$

(11)  $6 - 5 =$

(2)  $9 - 8 =$

(12)  $8 - 6 =$

(3)  $6 + 0 =$

(13)  $3 - 2 =$

(4)  $3 - 3 =$

(14)  $7 - 6 =$

(5)  $6 + 2 =$

(15)  $7 - 2 =$

(6)  $8 - 5 =$

(16)  $2 + 8 =$

(7)  $3 + 5 =$

(17)  $8 - 3 =$

(8)  $7 + 2 =$

(18)  $9 - 3 =$

(9)  $5 - 3 =$


(19)  $2 + 5 =$

(10)  $5 + 4 =$

(20)  $10 - 4 =$

## 2. 填一填,算一算。

毛毛原来有( )张画片,妈妈  
又给他拿来( )张,毛毛现在  
有( )张。



$$\square \bigcirc \square = \square (\text{张})$$



## 10 以内的加法和减法(22)

## 1. 基础练。

(1)  $7 - ( ) = 3$

(11)  $6 + ( ) = 8$

(2)  $8 - ( ) = 3$

(12)  $2 + ( ) = 6$

(3)  $6 + ( ) = 9$

(13)  $9 - ( ) = 0$

(4)  $6 + ( ) = 7$

(14)  $7 + ( ) = 9$

(5)  $3 + ( ) = 8$

(15)  $7 - ( ) = 1$

(6)  $2 + ( ) = 8$

(16)  $7 + ( ) = 8$

(7)  $9 - ( ) = 2$

(17)  $5 - ( ) = 2$

(8)  $2 + ( ) = 9$

(18)  $8 - ( ) = 4$

(9)  $9 - ( ) = 4$

(19)  $5 - ( ) = 4$

(10)  $7 - ( ) = 5$

(20)  $6 - ( ) = 2$

## 2. 边说边写。

小碗有( )个,大碗有( )个,

一共有( )个。

$$\square \bigcirc \square = \square (\text{个})$$







## 10 以内的加法和减法(23)

### 1. 基础练。

(1)  $2 + ( ) = 5$

(11)  $6 + ( ) = 10$

(2)  $8 - ( ) = 6$

(12)  $3 + ( ) = 10$

(3)  $( ) + 4 = 9$

(13)  $( ) + 2 = 8$

(4)  $9 + ( ) = 9$

(14)  $4 + ( ) = 10$

(5)  $5 + ( ) = 9$

(15)  $( ) + 5 = 10$

(6)  $3 + ( ) = 7$

(16)  $5 + ( ) = 7$

(7)  $2 + ( ) = 7$

(17)  $3 + ( ) = 5$

(8)  $9 - ( ) = 6$

(18)  $4 + ( ) = 8$

(9)  $6 - ( ) = 0$

(19)  $10 - ( ) = 9$

(10)  $9 - ( ) = 1$

(20)  $2 + ( ) = 6$

2. 一共有 7 个碗,已经洗好( )  
个,还剩( )个。

$$\square \bigcirc \square = \square (\text{个})$$





## 10 以内的加法和减法(24)

### 1. 基础练。

(1) ( ) + 3 = 7

(11) ( ) + 2 = 6

(2) 3 - ( ) = 1

(12) 10 - ( ) = 3

(3) 3 + ( ) = 9

(13) ( ) + 3 = 9

(4) 7 + ( ) = 10

(14) 9 - ( ) = 6

(5) 4 + ( ) = 6

(15) 1 + ( ) = 10

(6) 9 + ( ) = 10

(16) 10 - ( ) = 8

(7) ( ) + 4 = 10

(17) ( ) + 5 = 8

(8) 2 + ( ) = 8

(18) 5 + ( ) = 8

(9) 5 - ( ) = 3


(19) 3 + ( ) = 7

(10) 10 - ( ) = 6

(20) 6 + ( ) = 8

2. 水中有( )只,岸上还有 3 只,一共有( )只。

○  =  (只)







## 10 以内的加法和减法(25)

## 1. 基础练。

(1)  $4 + ( ) = 9$

(11)  $( ) - 4 = 6$

(2)  $4 + ( ) = 6$

(12)  $2 + ( ) = 7$

(3)  $6 - ( ) = 4$

(13)  $( ) + 4 = 9$

(4)  $9 - ( ) = 7$

(14)  $5 + ( ) = 9$

(5)  $( ) + 5 = 9$

(15)  $4 + ( ) = 10$

(6)  $3 + ( ) = 5$

(16)  $2 + ( ) = 10$

(7)  $3 + ( ) = 10$

(17)  $5 - ( ) = 3$

(8)  $7 + ( ) = 10$

(18)  $3 + ( ) = 9$

(9)  $6 + ( ) = 10$

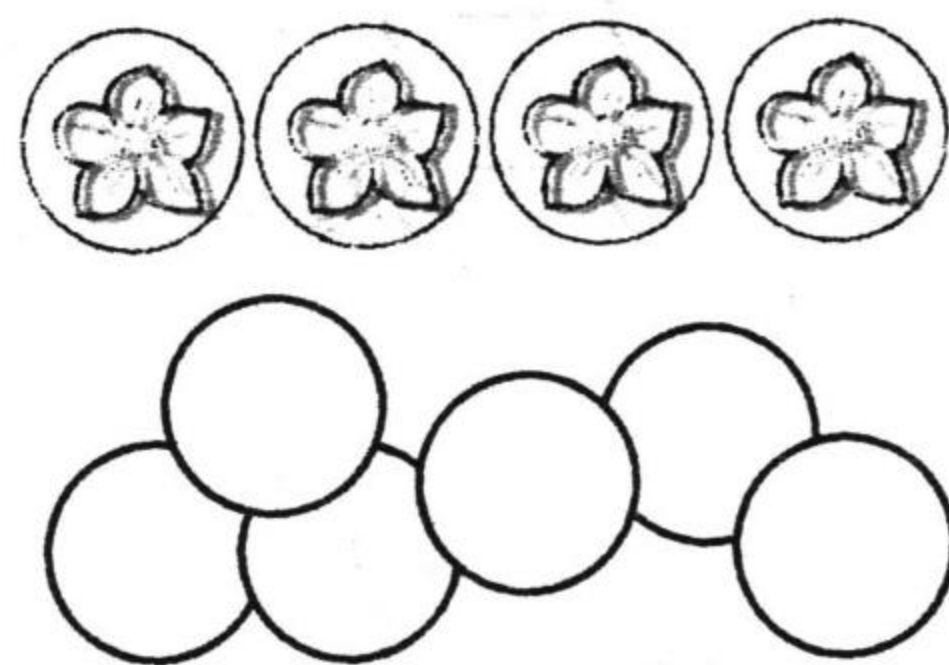
(19)  $( ) + 7 = 7$

(10)  $10 - ( ) = 5$

(20)  $5 + ( ) = 8$

2. 一共有 10 张画片, ( ) 张正面朝上, 还有 ( ) 张反面朝上。

$$\square \bigcirc \square = \square (\text{张})$$







## 10 以内的加法和减法(26)

## 1. 基础练。

(1)  $10 - ( ) = 6$

(11)  $1 + ( ) = 6$

(2)  $7 - ( ) = 5$

(12)  $( ) + 4 = 9$

(3)  $8 - ( ) = 0$

(13)  $( ) - 9 = 1$

(4)  $5 + ( ) = 10$

(14)  $5 + ( ) = 10$

(5)  $( ) + 2 = 6$

(15)  $( ) + 6 = 9$

(6)  $3 + ( ) = 7$

(16)  $4 + ( ) = 7$

(7)  $6 + ( ) = 9$

(17)  $( ) - 6 = 4$

(8)  $9 - ( ) = 3$

(18)  $4 - ( ) = 2$

(9)  $8 - ( ) = 2$

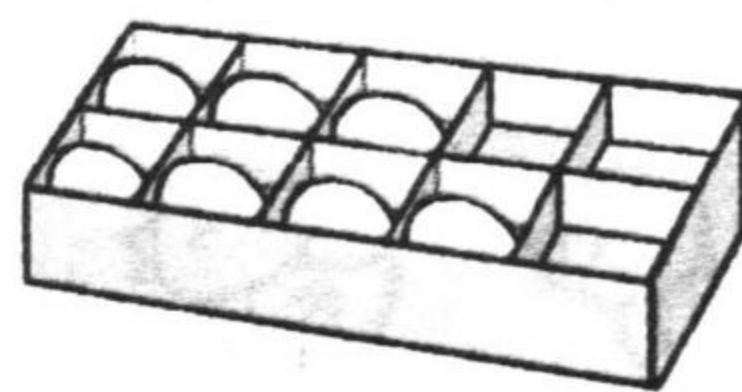
(19)  $6 + ( ) = 10$

(10)  $9 - ( ) = 4$

(20)  $1 + ( ) = 10$

## 2. 边说边写。

已经放了( )个蛋,再放( )个  
就满了。



$7 + ( ) = 10$



## 10 以内的加法和减法(27)

## 1. 基础练。

(1)  $6 - ( ) = 6$

(11)  $( ) + 7 = 8$

(2)  $( ) - 7 = 0$

(12)  $8 - ( ) = 2$

(3)  $6 + ( ) = 8$

(13)  $7 + ( ) = 10$

(4)  $7 - ( ) = 2$

(14)  $2 + ( ) = 8$

(5)  $9 - ( ) = 9$

(15)  $( ) - 5 = 5$

(6)  $8 - ( ) = 5$

(16)  $( ) - 3 = 7$

(7)  $6 + ( ) = 9$

(17)  $5 + ( ) = 9$

(8)  $( ) - 2 = 6$

(18)  $9 - ( ) = 3$


(9)  $2 + ( ) = 10$

(19)  $8 + ( ) = 10$

(10)  $3 - ( ) = 2$

(20)  $3 + ( ) = 6$

## 2. 边说边写。



已经停了( )辆车,再停( )辆就是8辆了。

$6 + ( ) = 8$



## 加减混合(1)

## 1. 基础练。

(1)  $5 + 2 + 0 =$

(2)  $3 - 1 + 4 =$

(3)  $7 - 4 + 2 =$

(4)  $6 + 2 - 4 =$

(5)  $10 - 5 - 2 =$

(6)  $8 + 2 - 7 =$

(7)  $3 + 3 - 4 =$

(8)  $9 - 6 + 2 =$

(9)  $10 - 6 + 3 =$

(10)  $8 - 2 + 3 =$

(11)  $3 + 6 + 1 =$

(12)  $9 - 7 - 2 =$

(13)  $8 - 5 + 3 =$

(14)  $7 - 4 + 6 =$

(15)  $2 + 3 - 3 =$

(16)  $9 - 5 + 1 =$



(17)  $3 + 6 - 3 =$

(18)  $5 - 2 + 4 =$

(19)  $2 + 7 - 5 =$

(20)  $10 - 4 + 2 =$

## 2. 边说边写。



原有 5 辆, 开来 (      ) 辆, 开走 (      ) 辆, 还剩 (      ) 辆。

$$5 + \square - \square = \square (\text{辆})$$





## 加减混合(2)

## 1. 基础练。

(1)  $8 - 3 + 2 =$

(11)  $5 + 3 - 1 =$

(2)  $1 + 7 - 6 =$

(12)  $5 - 2 + 4 =$

(3)  $6 + 3 - 8 =$

(13)  $3 - 2 + 9 =$

(4)  $5 - 2 + 6 =$

(14)  $8 - 1 - 2 =$

(5)  $7 - 3 + 3 =$

(15)  $7 + 3 - 5 =$

(6)  $10 - 4 + 1 =$

(16)  $10 - 6 + 4 =$

(7)  $8 + 1 - 7 =$

(17)  $10 - 7 + 2 =$

(8)  $4 + 5 - 6 =$

(18)  $2 + 6 - 2 =$

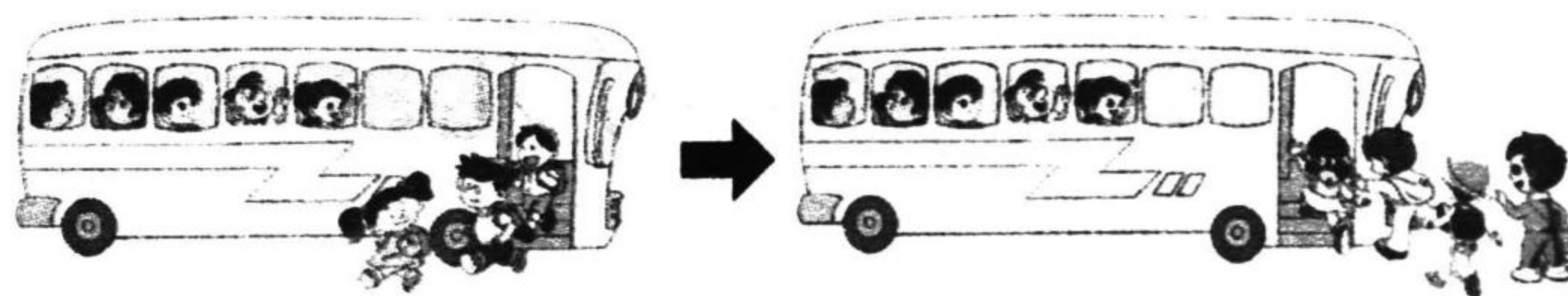
(9)  $3 + 2 + 4 =$

(19)  $10 - 7 - 3 =$

(10)  $4 - 1 + 5 =$

(20)  $8 + 2 - 6 =$

## 2. 边说边写。



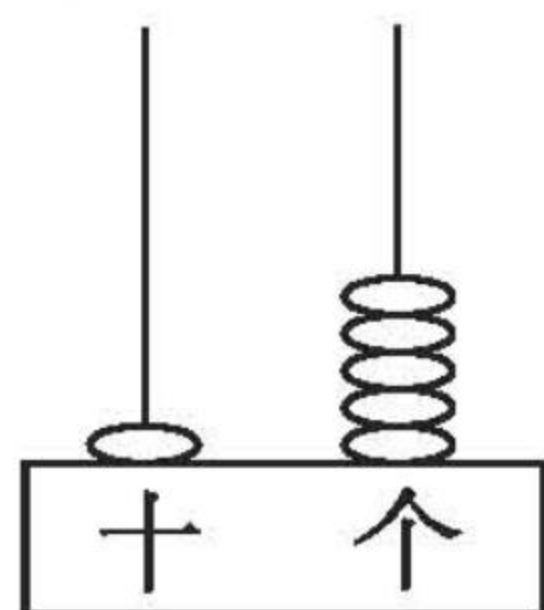
车上原有 8 人,下车( )人,又上车( )人,现在车上有( )人。

$$8 - \square + \square = \square (\text{人})$$

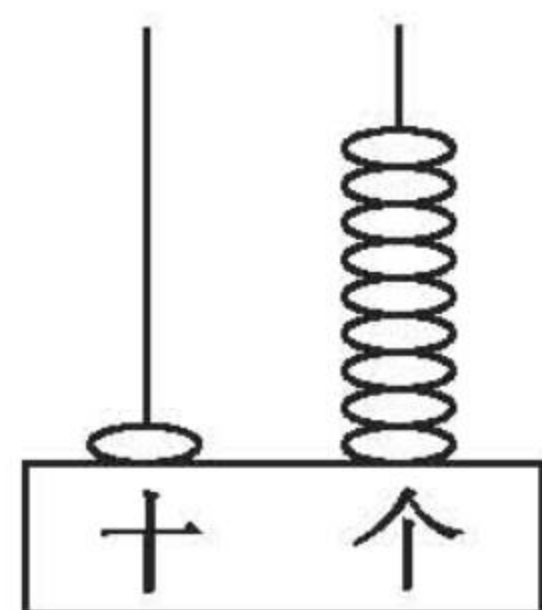


## 认识 11 - 20 各数(1)

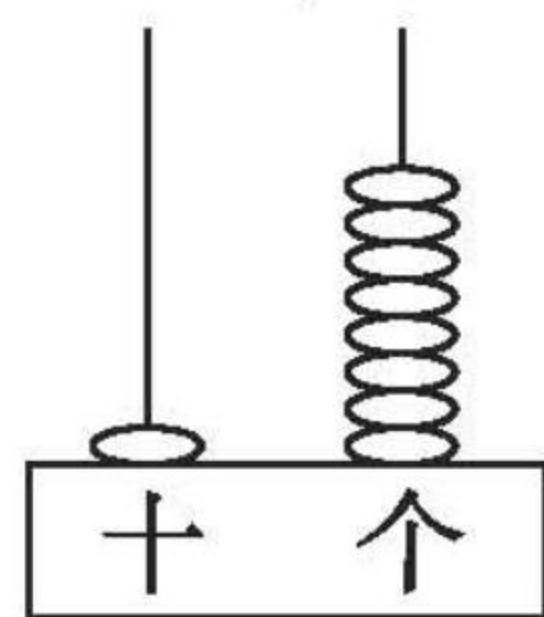
1. 先写数,再填空。



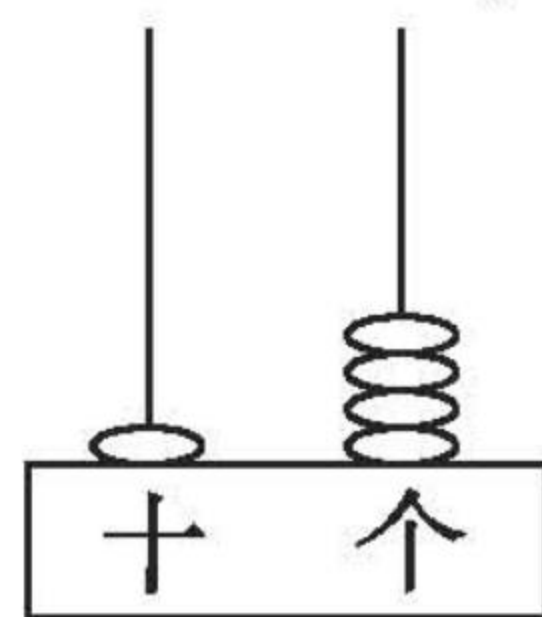
( ) 个十和  
( ) 个一是( )。



( ) 个十和  
( ) 个一是( )。



( ) 个十和  
( ) 个一是( )。



( ) 个十和  
( ) 个一是( )。

2. 在○里填“&gt;”或“&lt;”。

$20 \bigcirc 19$

$16 \bigcirc 15$

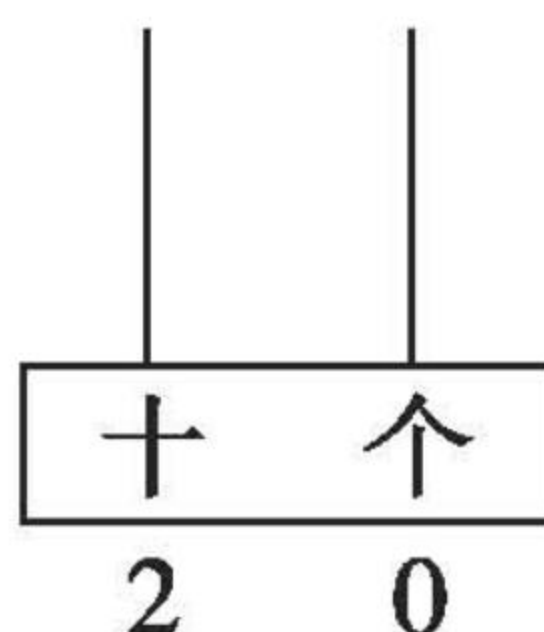
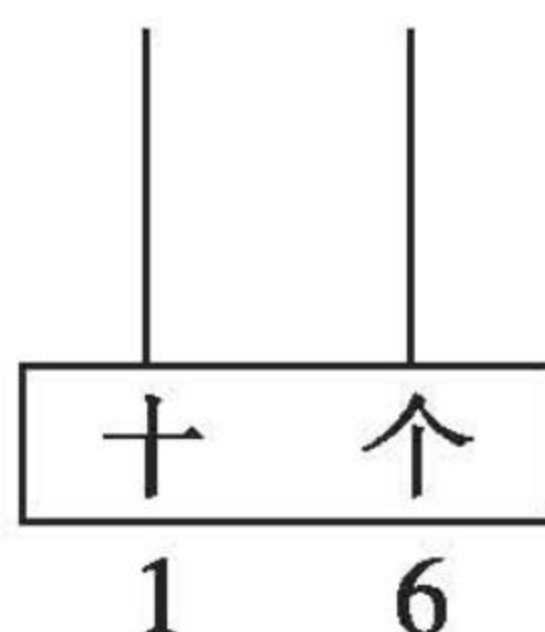
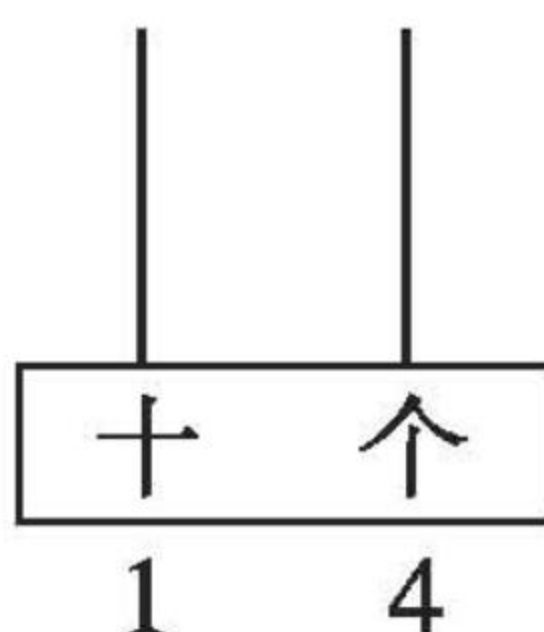
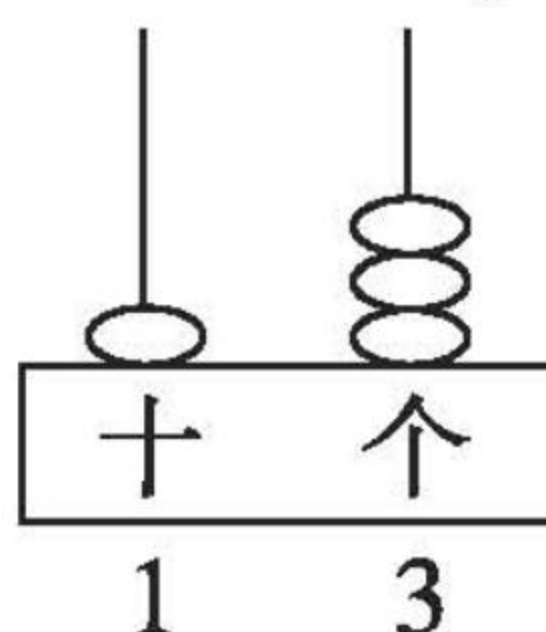
$13 \bigcirc 9$

$12 \bigcirc 11$

$7 \bigcirc 17$

$10 \bigcirc 20$

3. 照样子画一画。







## 认识 11 - 20 各数(2)

1. 在正确答案下面画“√”。

(1) 17 更接近 10 还是 20?

10	20

(2) 下面哪个数大于 13 又小于 16?

13	15	17

(3) 与 15 相邻的是哪两个数?

12	14	16	20

2. 圈一圈, 填一填。



每班分 4 个, 够分( ) 个班。



每班分 8 个, 够分( ) 个班。





## 认识 11 - 20 各数(3)

1. 比 20 小比 15 大的数有 \_\_\_\_\_  
比 18 小比 14 大的数有 \_\_\_\_\_  
比 19 小比 16 大的数有 \_\_\_\_\_  
比 16 小比 12 大的数有 \_\_\_\_\_  
比 14 小比 10 大的数有 \_\_\_\_\_  
比 15 大比 18 小的数有 \_\_\_\_\_  
比 13 大比 17 小的数有 \_\_\_\_\_  
比 14 大比 19 小的数有 \_\_\_\_\_  
比 11 大比 15 小的数有 \_\_\_\_\_  
比 12 大比 16 小的数有 \_\_\_\_\_

2. 画一画。

十	个
1	3
1	5
1	2
2	0



## 认识 11 - 20 各数(4)

### 1. 基础练。

(1)  $12 - 2 =$

(11)  $8 + 10 =$

(2)  $10 + 5 =$

(12)  $19 - 9 =$

(3)  $17 - 7 =$

(13)  $15 - 5 =$

(4)  $1 + 10 =$

(14)  $10 + 6 =$

(5)  $16 - 6 =$

(15)  $10 + 8 =$

(6)  $0 + 10 =$

(16)  $14 - 4 =$

(7)  $7 + 3 + 5 =$

(17)  $9 + 1 + 7 =$

(8)  $13 - 3 + 6 =$

(18)  $16 - 10 - 2 =$

(9)  $7 + 3 + 4 =$

(19)  $6 + 4 + 2 =$

(10)  $15 - 5 - 4 =$

(20)  $17 - 7 + 2 =$

### 2. 在○里填上“>”“<”或“=”。

$6 + 10$  ○  $18$

$10 + 9$  ○  $20$

$17 - 7$  ○  $9$

$11 - 1$  ○  $10$

$13 - 3$  ○  $2 + 7$

$11 - 10$  ○  $1 - 0$

$14 - 4$  ○  $2 + 6$

$10 + 7$  ○  $5 + 2$





## 认识 11 - 20 各数(5)

### 1. 填空。

19 里面有( )个十和( )个一。

1 个十和 3 个一合起来是( )。

5 个一和 1 个十合起来是( )。

20 里面有( )个十。

个位上是 7, 十位上是 1, 这个数是( )。

十位上是 1, 个位上也是 1, 这个数是( )。

十位上是 2, 个位上是 0, 这个数是( )。

### 2. 看谁算得又对又快。

$$10 + 2 =$$

$$5 + 10 - 5 =$$

$$13 - 10 =$$

$$6 + 4 + 3 =$$

$$17 - 7 =$$

$$12 - 2 - 3 =$$

$$10 + 5 =$$

$$16 - 6 - 10 =$$

$$6 + 10 =$$

$$13 - 10 - 2 =$$

### 3. 把 15、9、19、5、10 这几个数按从小到大的顺序排列。

<  <  <  <

这些数中, 有( )个在 11 ~ 20 之间。





## 认识 11 - 20 各数(6)

### 1. 看图写算式。



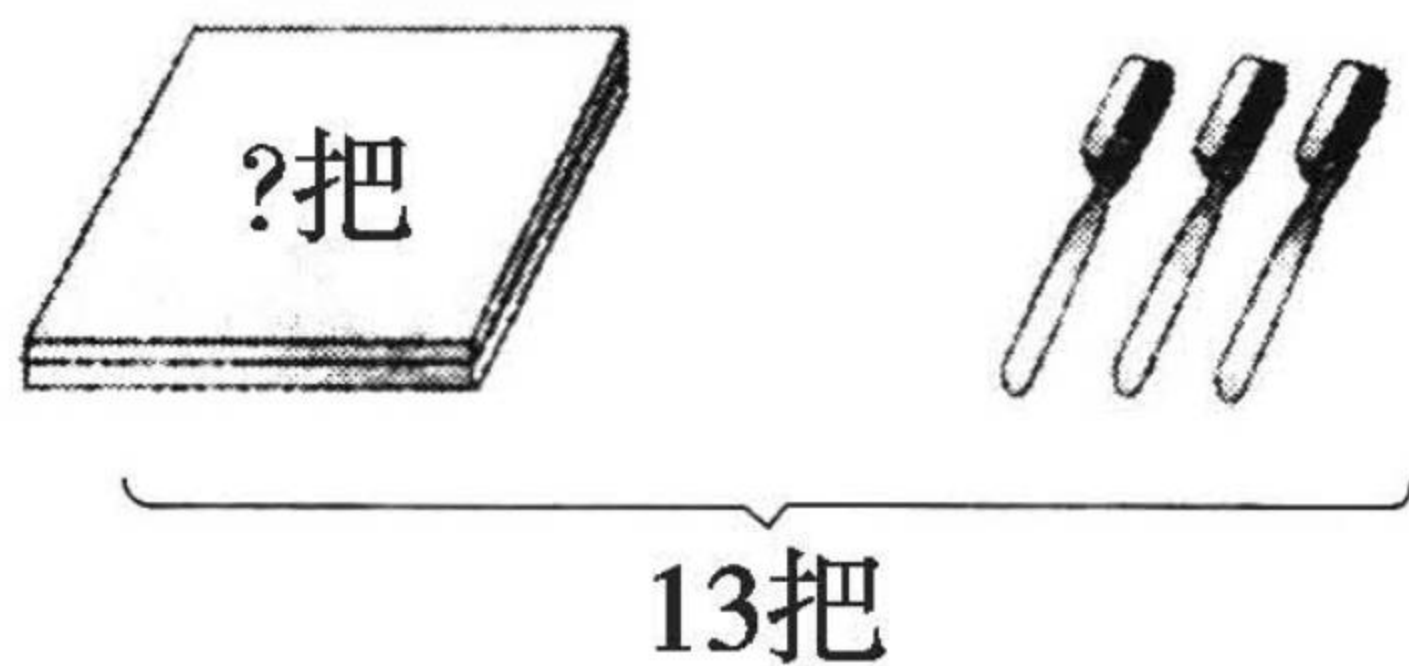
$$\square \bigcirc \square = \square$$

$$\square \bigcirc \square = \square$$

$$\square \bigcirc \square = \square$$

$$\square \bigcirc \square = \square$$

### 2.



$$\square \bigcirc \square = \square \text{ (把)}$$



## 9 加几

## 1. 基础练。

(1)  $9 + 4 =$

(2)  $9 + 6 =$

(3)  $9 + 5 =$

(4)  $9 + 7 =$

(5)  $9 + 8 =$

(6)  $1 + 9 =$

(7)  $3 + 9 =$

(8)  $2 + 9 =$

(9)  $16 - 6 =$

(10)  $7 + 2 + 4 =$

(11)  $3 + 5 + 9 =$

(12)  $10 - 4 + 9 =$

(13)  $14 - 4 + 2 =$

(14)  $6 + 3 + 3 =$

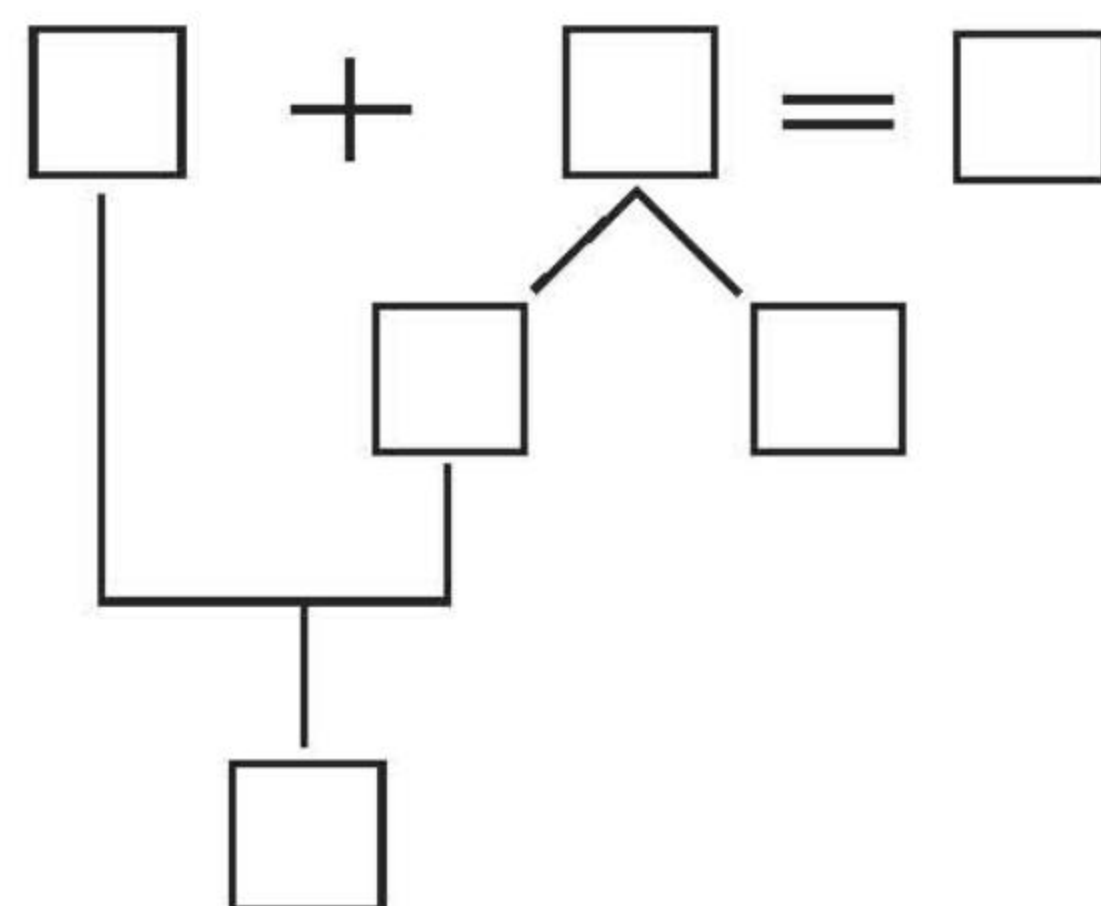


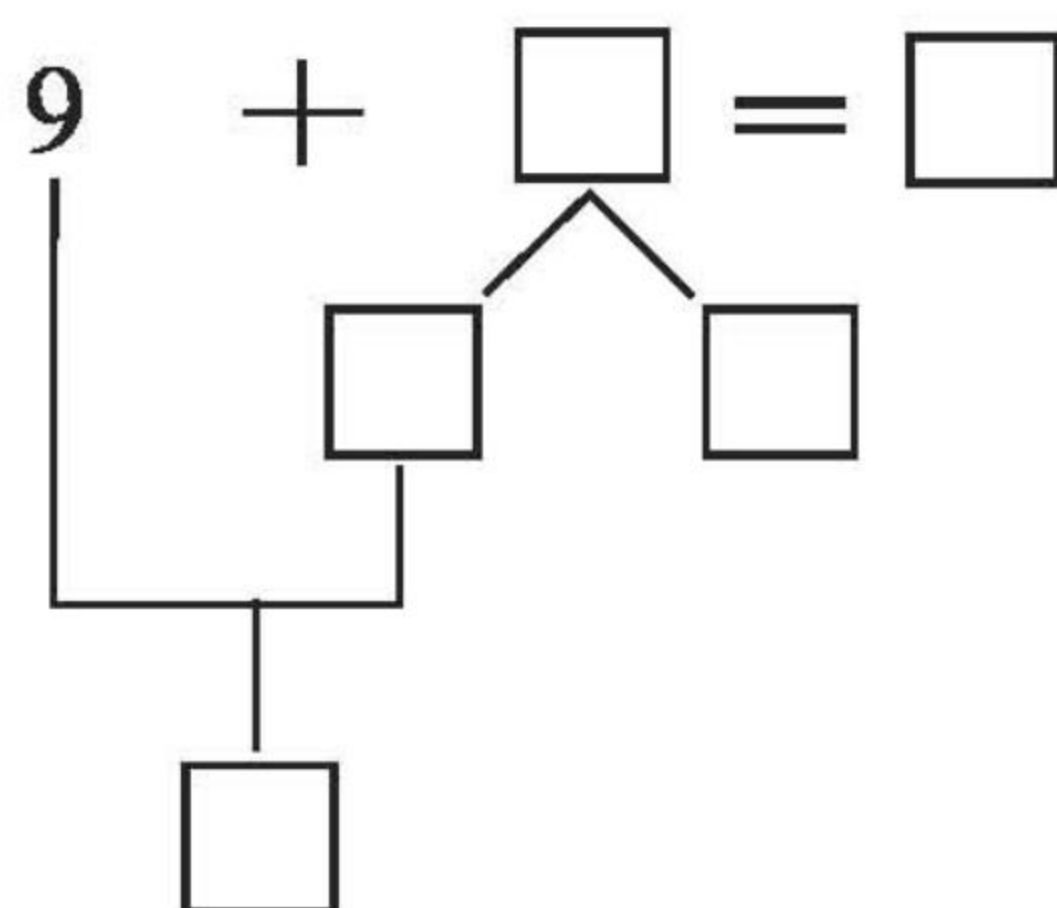

(15)  $3 + 5 + 9 =$


(16)  $15 - 5 + 7 =$

(17)  $6 + 3 + 2 =$

(18)  $2 + 4 + 9 =$

## 2. 先圈出 10 个,再填一填。





口算题卡

一年级 上册 时间:\_\_\_\_分\_\_\_\_秒 家长评价:\_\_\_\_\_

8、7 加几

1. 连线。

$8 + 3$

$7 + 6$

$8 + 9$

$9 + 6$

$8 + 7$

$10 + 7$

$8 + 5$

$7 + 4$

2. 在( )里填上合适的数。

$8 + ( ) = 15$

$6 + ( ) = 13$

$5 + ( ) = 13$

$7 + ( ) = 14$

$7 + ( ) = 16$

$7 + ( ) = 11$

$8 + ( ) = 14$

$8 + ( ) = 11$

$9 + ( ) = 12$

$7 + ( ) = 12$

$8 + ( ) = 13$

$8 + ( ) = 12$

3. 比大小。

$8 + 7 \bigcirc 7 + 6$

$8 + 6 \bigcirc 9 + 6$

$9 + 5 \bigcirc 9 + 6$

$9 + 10 \bigcirc 9 + 9$

$8 + 4 \bigcirc 4 + 8$

$7 + 4 \bigcirc 8 + 3$






口算题卡

一年级 上册 时间:\_\_\_\_分\_\_\_\_秒 家长评价:\_\_\_\_\_

6、5、4、3、2 加/减(1)

填空。



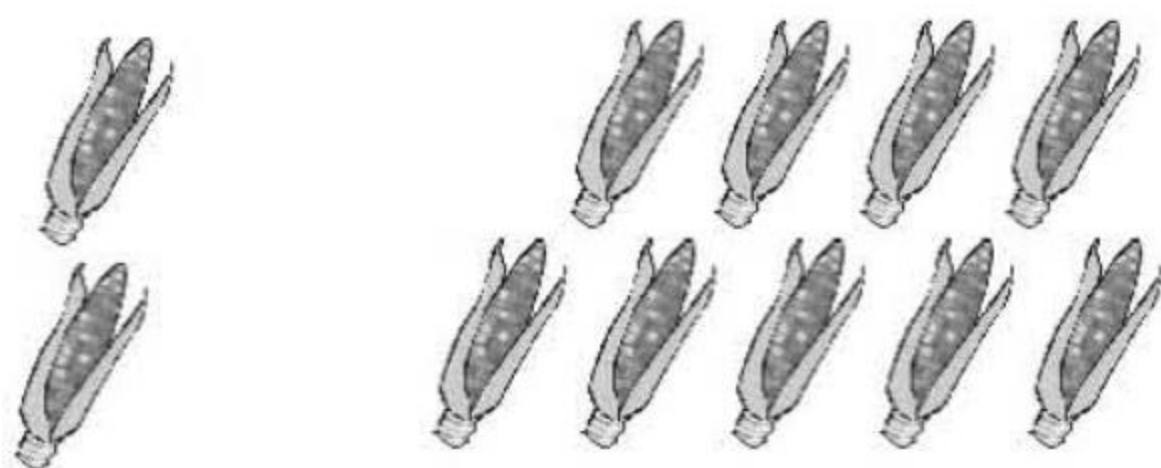
$$\square + \square = \square$$

$$\square + \square = \square$$




$$\square + \square = \square$$

$$\square + \square = \square$$



$$\square + \square = \square$$

$$\square + \square = \square$$



$$\square + \square = \square$$

$$\square + \square = \square$$




口算题卡


一年级 上册 时间:\_\_\_\_分\_\_\_\_秒 家长评价:\_\_\_\_\_

6、5、4、3、2 加/减(2)


1.  $6+9=$   $9+6=$




$3+8=$   $8+3=$




$4+7=$   $7+4=$



$2+9=$   $9+2=$



$5+6=$   $6+5=$



2.  $6+ \begin{matrix} 9 \\ 6 \\ 7 \end{matrix} = \begin{matrix} \square \\ \square \\ \square \end{matrix}$   $5+ \begin{matrix} 8 \\ 6 \\ 9 \end{matrix} = \begin{matrix} \square \\ \square \\ \square \end{matrix}$

$4+ \begin{matrix} 7 \\ 8 \\ 9 \end{matrix} = \begin{matrix} \square \\ \square \\ \square \end{matrix}$   $3+ \begin{matrix} 10 \\ 8 \\ 9 \end{matrix} = \begin{matrix} \square \\ \square \\ \square \end{matrix}$



## 20 以内的进位加法(1)

## 1. 基础练。

(1)  $9 - 6 =$

(11)  $4 + 9 =$

(2)  $3 + 9 =$

(12)  $6 + 2 =$

(3)  $9 + 7 =$

(13)  $0 + 9 =$

(4)  $7 + 2 =$

(14)  $6 + 9 =$

(5)  $9 - 3 =$

(15)  $5 + 5 =$

(6)  $9 + 6 =$

(16)  $9 - 4 =$

(7)  $6 + 3 =$

(17)  $10 + 1 =$

(8)  $2 + 9 =$

(18)  $5 - 3 =$

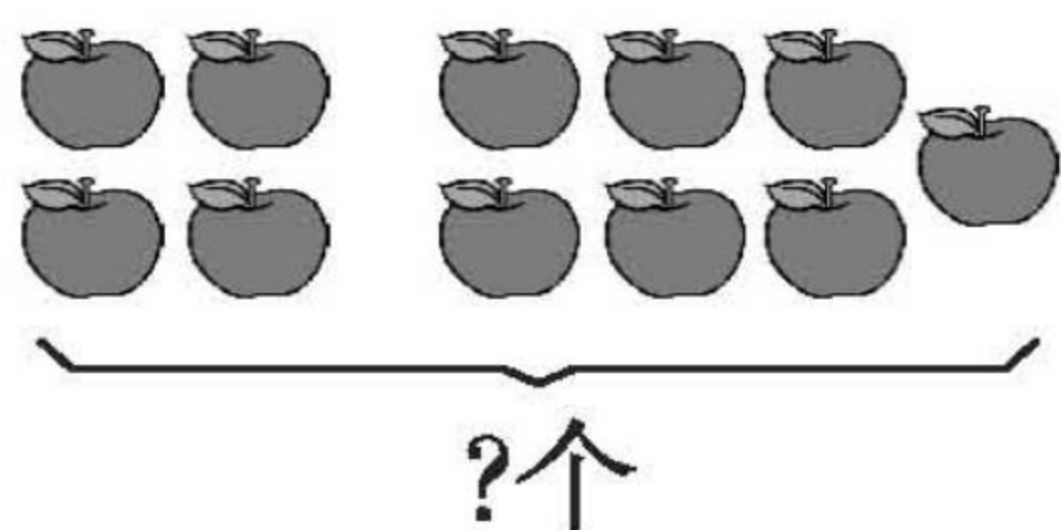
(9)  $9 + 9 =$

(19)  $10 - 9 =$

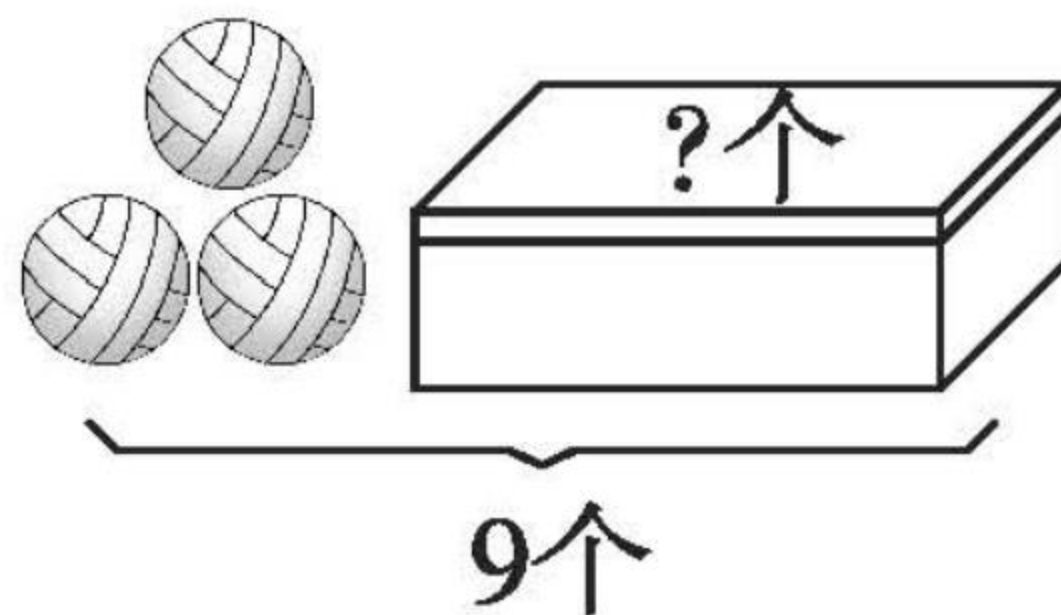
(10)  $8 - 3 =$

(20)  $3 + 11 =$

2.



$\square \bigcirc \square = \square (\text{个})$



$\square \bigcirc \square = \square (\text{个})$





## 20 以内的进位加法(2)

## 1. 基础练。

(1)  $9 + 5 =$

(11)  $13 + 1 =$

(2)  $9 - 5 =$

(12)  $9 + 2 =$

(3)  $3 - 2 =$

(13)  $9 + 6 =$

(4)  $9 + 8 =$

(14)  $9 + 4 =$

(5)  $1 + 9 =$

(15)  $7 + 9 =$

(6)  $7 + 1 =$

(16)  $5 + 4 =$

(7)  $9 + 3 =$

(17)  $6 + 9 =$

(8)  $9 - 2 =$

(18)  $7 + 3 =$

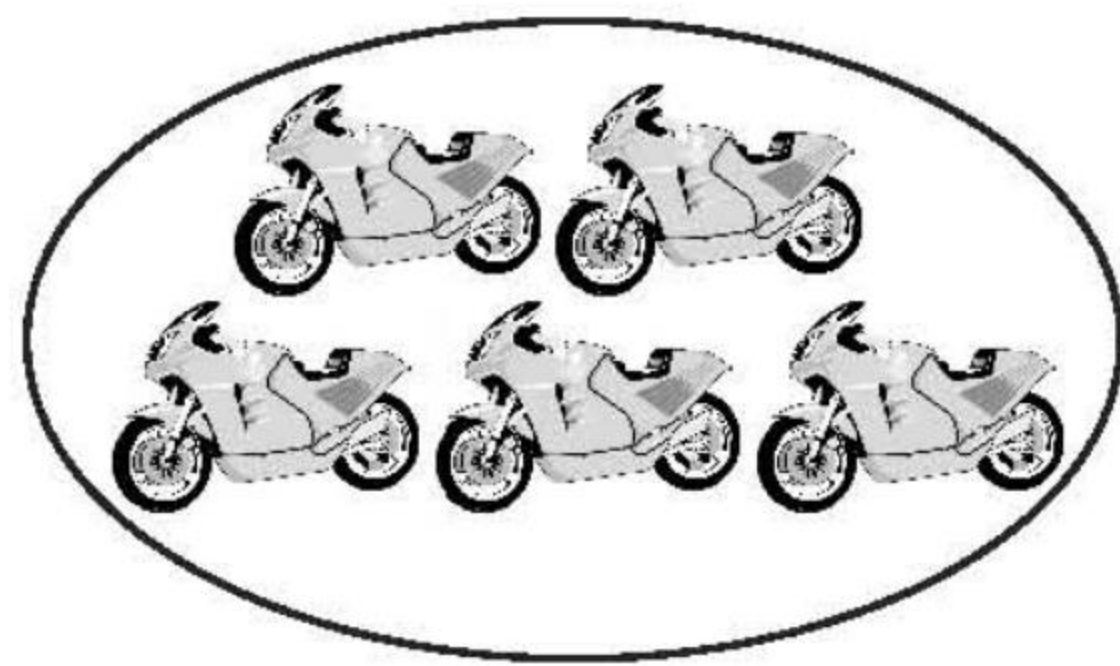

(9)  $2 + 15 =$

(19)  $8 - 4 =$

(10)  $9 + 1 =$

(20)  $2 - 1 =$

2.



原来有( )辆, 又运来( )辆, 现在有多少辆?

$$\square \bigcirc \square = \square (\text{辆})$$



## 20 以内的进位加法(3)

## 1. 基础练。

(1)  $10 + 3 =$

(2)  $9 + 5 =$

(3)  $9 + 0 =$

(4)  $9 + 10 =$

(5)  $9 + 4 =$

(6)  $9 + 7 =$

(7)  $9 + 1 =$

(8)  $0 + 9 =$

(9)  $6 + 1 =$

(10)  $13 + 5 =$

(11)  $12 + 6 =$

(12)  $8 + 5 =$

(13)  $9 - 9 =$

(14)  $9 - 4 =$

(15)  $3 + 2 =$

(16)  $3 + 8 =$



(17)  $4 + 9 =$

(18)  $2 + 9 =$

(19)  $12 + 1 =$

(20)  $9 + 8 =$

2.

原来有 12 辆 , 卖出 2 辆, 现在还有多少辆?

$$\square \bigcirc \square = \square (\text{辆})$$





## 20 以内的进位加法(4)

### 1. 基础练。

(1)  $8 + 1 =$

(2)  $8 + 8 =$

(3)  $8 + 9 =$

(4)  $8 + 7 =$

(5)  $8 + 5 =$

(6)  $11 + 3 =$

(7)  $8 + 4 =$

(8)  $8 + 3 =$

(9)  $8 + 6 =$

(10)  $9 + 7 =$

(11)  $6 + 4 =$

(12)  $6 + 8 =$

(13)  $12 + 4 =$

(14)  $10 + 8 =$

(15)  $15 + 3 =$

(16)  $14 + 5 =$

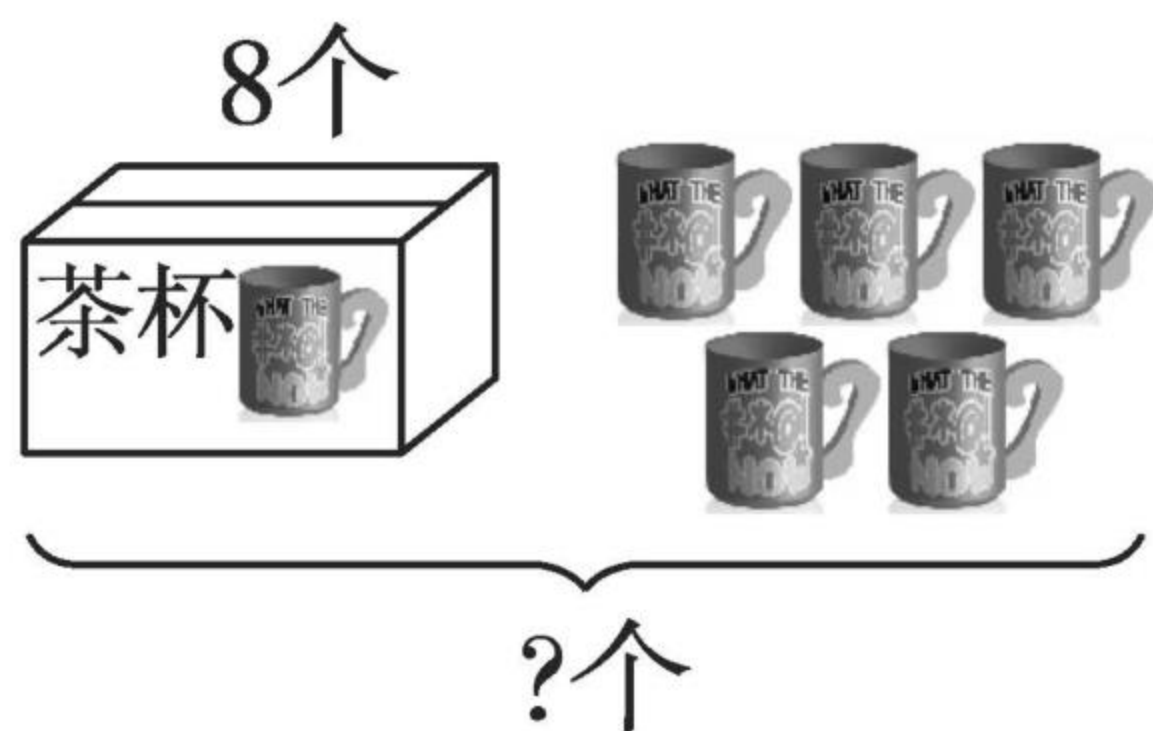
(17)  $8 + 0 =$

(18)  $8 + 10 =$


(19)  $7 + 3 =$

(20)  $16 + 3 =$

### 2.



$\square \bigcirc \square = \square (\text{人})$



$\square \bigcirc \square = \square (\text{人})$





## 20 以内的进位加法(5)

### 1. 基础练。

(1)  $6 + 1 =$

(11)  $8 - 4 =$

(2)  $9 + 8 =$

(12)  $2 + 7 =$

(3)  $8 + 2 =$

(13)  $3 - 2 =$

(4)  $10 - 5 =$

(14)  $10 - 7 =$

(5)  $10 - 6 =$

(15)  $8 - 5 =$

(6)  $3 + 2 =$

(16)  $9 + 2 =$

(7)  $10 - 7 =$

(17)  $9 + 3 =$

(8)  $8 - 3 =$

(18)  $8 + 1 =$

(9)  $3 + 9 =$

(19)  $10 - 4 =$

(10)  $9 + 6 =$

(20)  $9 - 5 =$

### 2.



我拍了6下。

我拍的和你一样多。



两人一共拍了多少下?

$$\square \bigcirc \square = \square (\text{下})$$



## 20 以内的进位加法(6)

### 1. 基础练。

(1)  $7 + 5 =$

(11)  $10 - 9 =$

(2)  $7 + 10 =$

(12)  $9 + 9 =$

(3)  $8 + 4 =$

(13)  $9 + 8 =$

(4)  $6 - 3 =$

(14)  $9 + 4 =$

(5)  $9 + 5 =$

(15)  $7 + 8 =$

(6)  $7 + 3 =$

(16)  $3 + 6 =$

(7)  $7 + 4 =$

(17)  $6 + 8 =$

(8)  $9 - 8 =$

(18)  $7 + 7 =$

(9)  $6 + 6 =$

(19)  $9 - 4 =$

(10)  $2 + 5 =$

(20)  $7 + 6 =$

### 2.



一共有 10 辆车,大客车后面有( )辆。





## 20 以内的进位加法(7)

### 1. 基础练。

(1)  $10 + 7 =$

(2)  $9 + 5 =$

(3)  $8 + 5 =$

(4)  $7 + 9 =$

(5)  $8 + 8 =$

(6)  $7 + 3 =$

(7)  $3 - 3 =$

(8)  $8 + 6 =$

(9)  $8 + 3 =$

(10)  $7 + 8 =$

(11)  $11 + 4 =$

(12)  $6 + 5 =$

(13)  $8 + 9 =$

(14)  $10 - 8 =$

(15)  $10 - 3 =$

(16)  $13 + 6 =$

(17)  $12 + 7 =$

(18)  $6 - 5 =$

(19)  $9 + 10 =$

(20)  $9 + 3 =$

### 2.



$\square \bigcirc \square = \square$  (下)





## 20 以内的进位加法(8)

## 1. 基础练。

(1)  $9 - 2 =$

(11)  $6 + 1 =$

(2)  $7 + 5 =$

(12)  $6 + 0 =$

(3)  $10 + 3 =$

(13)  $2 + 7 =$

(4)  $9 + 2 =$

(14)  $7 + 4 =$

(5)  $7 + 2 =$

(15)  $8 + 6 =$

(6)  $10 + 5 =$

(16)  $5 + 4 =$

(7)  $8 + 7 =$

(17)  $9 - 3 =$

(8)  $11 + 5 =$

(18)  $7 + 3 =$

(9)  $3 + 10 =$

(19)  $3 - 2 =$

(10)  $13 + 4 =$

(20)  $2 + 1 =$

2. 有 17 个同学去春游,每人发一个面包,买哪两袋比较合适? 先把这两袋圈出来,再计算。



$$\square \bigcirc \square = \square (\text{个})$$



## 20 以内的进位加法(9)

### 1. 基础练。

(1)  $4 - 3 =$

(11)  $7 + 6 =$

(2)  $6 + 10 =$

(12)  $8 + 4 =$

(3)  $6 + 4 =$

(13)  $9 + 5 =$

(4)  $10 - 6 =$

(14)  $9 + 8 =$

(5)  $6 + 8 =$

(15)  $9 + 1 =$

(6)  $6 + 7 =$

(16)  $7 + 1 =$

(7)  $6 + 2 =$

(17)  $9 + 2 =$

(8)  $6 + 5 =$

(18)  $8 + 2 =$

(9)  $9 + 3 =$

(19)  $10 + 2 =$

(10)  $6 + 3 =$

(20)  $3 + 5 =$

### 2.

我踢的个数  
是你的一半。



我踢了8个。



(1)  踢了( )个,  踢了( )个。

(2) 他们一共踢了( )个。





## 20 以内的进位加法(10)

### 1. 基础练。

(1)  $8 + 4 =$

(11)  $6 + 3 =$

(2)  $3 + 8 =$

(12)  $10 + 5 =$

(3)  $10 + 8 =$

(13)  $8 + 1 =$

(4)  $10 - 3 =$

(14)  $8 + 6 =$

(5)  $7 + 5 =$

(15)  $10 - 8 =$

(6)  $8 + 5 =$

(16)  $9 - 7 =$

(7)  $9 + 10 =$

(17)  $9 + 8 =$

(8)  $9 + 2 =$

(18)  $2 + 5 =$

(9)  $6 + 9 =$

(19)  $8 + 3 =$

(10)  $7 + 9 =$

(20)  $9 - 3 =$

2.



现在大客车和小轿车一共有多少辆?

$\square \bigcirc \square \bigcirc \square = \square$  (辆)





## 20 以内的进位加法(11)

## 1. 基础练。

(1)  $7 + 8 =$

(11)  $4 + 5 =$

(2)  $4 + 10 =$

(12)  $5 + 5 =$

(3)  $10 - 6 =$

(13)  $5 + 2 =$

(4)  $3 + 4 =$

(14)  $4 + 2 =$

(5)  $10 + 7 =$

(15)  $3 + 4 =$

(6)  $10 + 2 =$

(16)  $9 + 1 =$

(7)  $8 + 8 =$

(17)  $7 + 2 =$

(8)  $7 + 2 =$

(18)  $6 + 3 =$

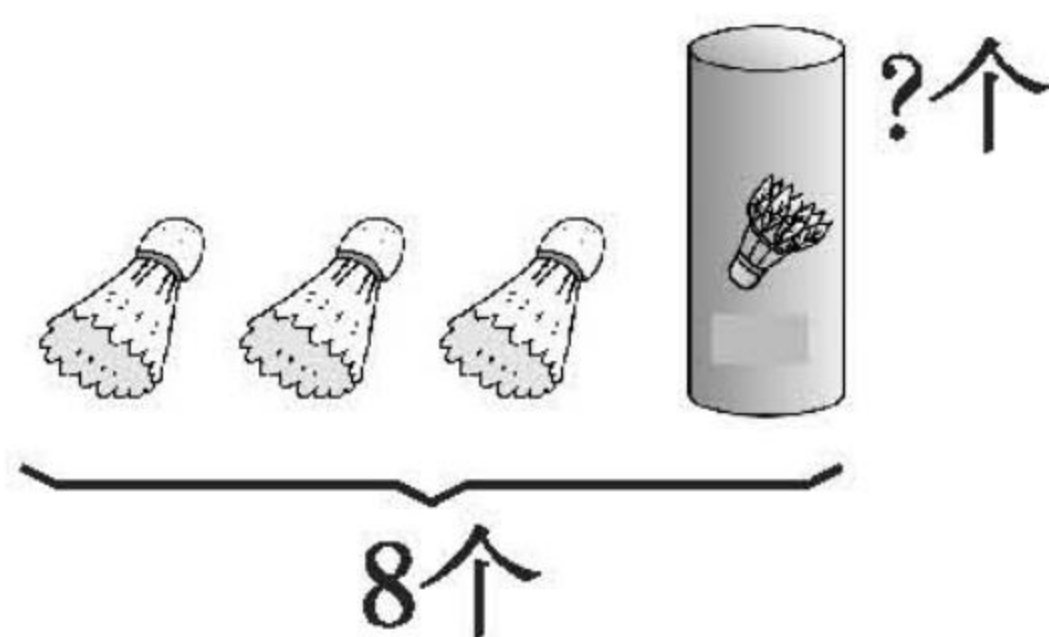
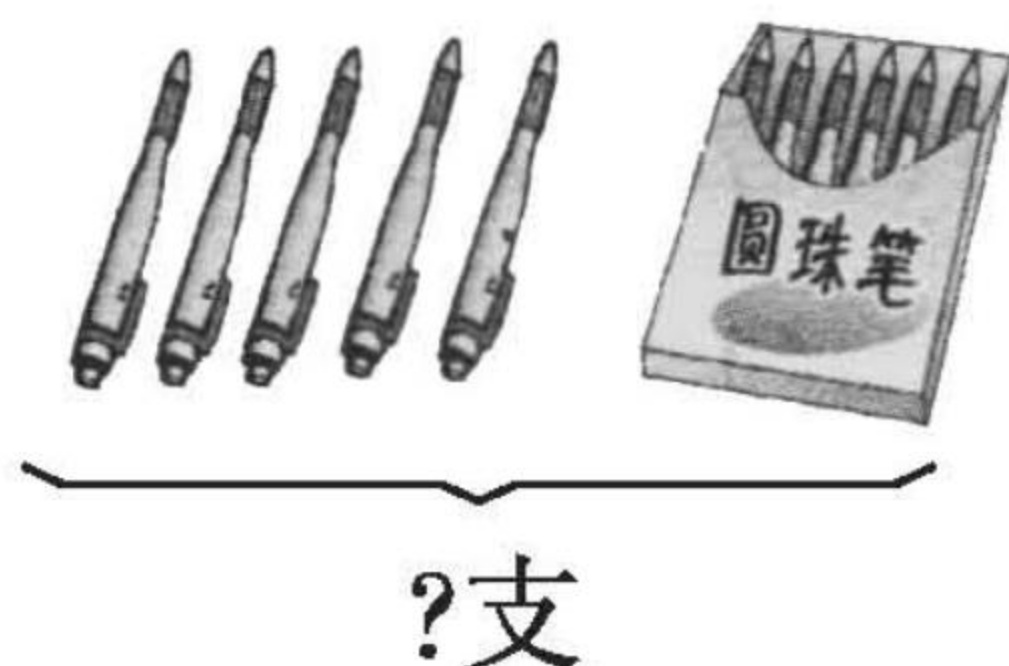
(9)  $6 + 6 =$

(19)  $4 - 3 =$

(10)  $10 - 5 =$

(20)  $3 + 1 =$

## 2.



$\square \bigcirc \square = \square (\text{支})$

$\square \bigcirc \square = \square (\text{个})$



## 20 以内的进位加法(12)

### 1. 基础练。

(1)  $2 + 7 =$

(11)  $3 + 9 =$

(2)  $5 + 7 =$

(12)  $3 + 8 =$

(3)  $4 + 7 =$

(13)  $3 + 5 =$

(4)  $4 + 9 =$

(14)  $2 + 9 =$

(5)  $5 + 9 =$

(15)  $9 + 3 =$

(6)  $10 - 7 =$

(16)  $10 - 9 =$

(7)  $4 + 6 =$

(17)  $3 + 7 =$

(8)  $4 + 8 =$

(18)  $8 + 1 =$

(9)  $5 + 8 =$

(19)  $7 + 5 =$

(10)  $5 + 6 =$

(20)  $3 - 2 =$

2. 图书角原来有 15 本《格林童话》,已经借走 5 本。还剩多少本?

$$\square \bigcirc \square = \square (\text{本})$$





## 20 以内的进位加法(13)

### 1. 基础练。

(1)  $6 - 3 =$

(11)  $7 + 8 =$

(2)  $10 - 6 =$

(12)  $4 + 4 =$

(3)  $0 + 11 =$

(13)  $7 + 9 =$

(4)  $8 + 7 =$

(14)  $2 + 7 =$

(5)  $2 + 9 =$

(15)  $6 + 6 =$

(6)  $10 - 5 =$

(16)  $2 + 10 =$

(7)  $8 + 3 =$

(17)  $10 - 8 =$

(8)  $4 + 8 =$

(18)  $7 - 3 =$

(9)  $1 + 9 =$

(19)  $3 + 2 =$

(10)  $9 + 5 =$

(20)  $8 - 6 =$

2.

我有5张画片。



小兰

我有7张画片。



小娟

我有6张画片。



小军

小军和小兰一共有多少张画片?

$$\square + \square = \square (\text{张})$$





## 20 以内的进位加法(14)

## 1. 基础练。

(1)  $8 + 5 =$

(11)  $8 + 9 =$

(2)  $6 + 9 =$

(12)  $8 + 3 =$

(3)  $4 + 9 =$

(13)  $3 + 7 =$

(4)  $8 + 8 =$

(14)  $7 + 8 =$

(5)  $3 + 5 =$

(15)  $8 + 4 =$

(6)  $8 + 6 =$

(16)  $10 - 2 =$

(7)  $10 - 9 =$

(17)  $2 + 8 =$

(8)  $4 - 4 =$

(18)  $8 - 3 =$

(9)  $8 + 1 =$

(19)  $9 - 6 =$

(10)  $2 - 1 =$

(20)  $7 - 3 =$

2.



停车场原来有( )辆汽车,又开来( )辆,现在一共有多少辆?

$$\square \bigcirc \square = \square (\text{辆})$$



## 20 以内的进位加法(15)

## 1. 基础练。

(1)  $8 + 1 =$

(11)  $3 + 9 =$

(2)  $5 + 8 =$

(12)  $10 - 6 =$

(3)  $5 + 7 =$

(13)  $9 + 7 =$

(4)  $10 - 7 =$

(14)  $9 - 3 =$

(5)  $9 + 9 =$

(15)  $8 + 6 =$

(6)  $6 + 1 =$

(16)  $8 + 7 =$

(7)  $9 + 4 =$

(17)  $10 - 9 =$

(8)  $0 + 7 =$

(18)  $9 + 1 =$




(9)  $9 + 2 =$

(19)  $6 + 9 =$

(10)  $10 - 5 =$

(20)  $8 - 5 =$

## 2. 填表。

			
原来	8 个	7 块	7 个
又买来	5 个	6 块	8 个
现在	( ) 个	( ) 块	( ) 个

先想一想“现在”有多少是怎样算的,再在下面的○里填合适的符号。

原来的○又买来的=现在的





## 20 以内的进位加法(16)

### 1. 基础练。

(1)  $5 + 7 =$

(11)  $8 + 3 =$

(2)  $7 + 7 =$

(12)  $4 + 7 =$

(3)  $6 + 5 =$

(13)  $6 + 4 =$

(4)  $9 + 6 =$

(14)  $8 + 4 =$

(5)  $5 + 6 =$

(15)  $9 + 7 =$

(6)  $7 + 4 =$

(16)  $7 + 3 =$

(7)  $3 + 7 =$

(17)  $6 + 6 =$

(8)  $9 + 4 =$

(18)  $9 + 2 =$

(9)  $7 - 4 =$

(19)  $3 + 9 =$

(10)  $4 + 6 =$

(20)  $10 - 8 =$

### 2.



小红买两袋巧克力,最多买( )块,最少买( )块。

$\square \bigcirc \square = \square$  (块)

$\square \bigcirc \square = \square$  (块)





## 20 以内的进位加法(17)

## 1. 基础练。

(1)  $2 + 9 =$

(11)  $10 + 5 =$

(2)  $9 - 6 =$

(12)  $7 + 5 =$

(3)  $9 - 2 =$

(13)  $6 + 9 =$

(4)  $8 + 6 =$

(14)  $4 + 8 =$

(5)  $8 + 9 =$

(15)  $8 + 5 =$

(6)  $9 + 5 =$

(16)  $10 + 7 =$

(7)  $2 + 8 =$

(17)  $9 + 10 =$

(8)  $9 - 5 =$

(18)  $10 + 2 =$

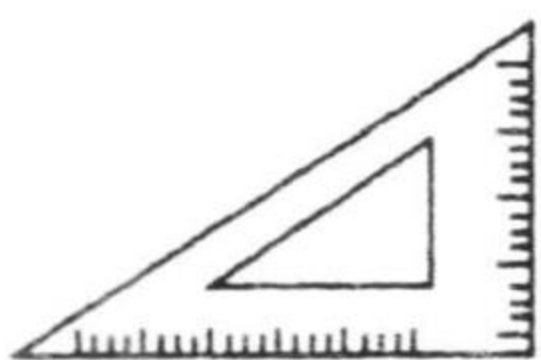


(9)  $9 + 8 =$

(19)  $4 + 9 =$

(10)  $8 + 8 =$

(20)  $7 + 4 =$

## 2. 填一填。

			
原来有	6 把	5 支	9 个
又买来	8 把	7 支	8 个
一共有	( ) 把	( ) 支	( ) 个



## 20 以内的进位加法(18)

## 1. 基础练。

(1)  $4 + 6 =$

(11)  $8 + 6 =$

(2)  $3 + 8 =$

(12)  $7 + 3 =$

(3)  $9 + 2 =$

(13)  $9 + 8 =$

(4)  $7 + 8 =$

(14)  $8 + 10 =$

(5)  $8 + 3 =$

(15)  $7 + 9 =$

(6)  $5 + 8 =$

(16)  $9 + 9 =$

(7)  $6 + 7 =$

(17)  $3 + 7 =$

(8)  $8 + 8 =$

(18)  $2 + 9 =$

(9)  $6 + 6 =$

(19)  $7 + 7 =$

(10)  $9 + 5 =$

(20)  $3 + 6 =$

## 2.



一共有几根萝卜?

$$\square \bigcirc \square = \square (\text{根})$$





## 20 以内的进位加法(19)

## 1. 基础练。

(1) ( ) + 8 = 13

(11) 6 + ( ) = 11

(2) ( ) + 8 = 15

(12) 6 + ( ) = 12

(3) ( ) + 8 = 11

(13) 6 + ( ) = 14

(4) ( ) + 8 = 16

(14) 6 + ( ) = 15

(5) ( ) + 8 = 12

(15) 6 + ( ) = 13

(6) ( ) + 8 = 14

(16) 7 + ( ) = 11

(7) ( ) + 8 = 17

(17) 7 + ( ) = 15

(8) 9 + ( ) = 16

(18) 7 + ( ) = 13

(9) 9 + ( ) = 11

(19) 7 + ( ) = 12

(10) 9 + ( ) = 15

(20) 7 + ( ) = 14

## 2.

我采了7个松果。

我采的松果和你同样多。

它们一共采了多少个松果?  $\square \bigcirc \square = \square$  (个)





## 20 以内的进位加法(20)

## 1. 基础练。

(1)  $9 + ( ) = 12$

(11)  $1 + 9 =$

(2)  $9 + ( ) = 17$

(12)  $7 + 7 =$

(3)  $9 + ( ) = 14$

(13)  $8 + 2 =$

(4)  $9 + ( ) = 13$

(14)  $9 + 5 =$

(5)  $9 + ( ) = 18$

(15)  $2 + 9 =$

(6)  $4 + ( ) = 11$

(16)  $8 + 6 =$

(7)  $5 + ( ) = 13$

(17)  $9 + 6 =$

(8)  $5 + ( ) = 12$

(18)  $9 + 9 =$

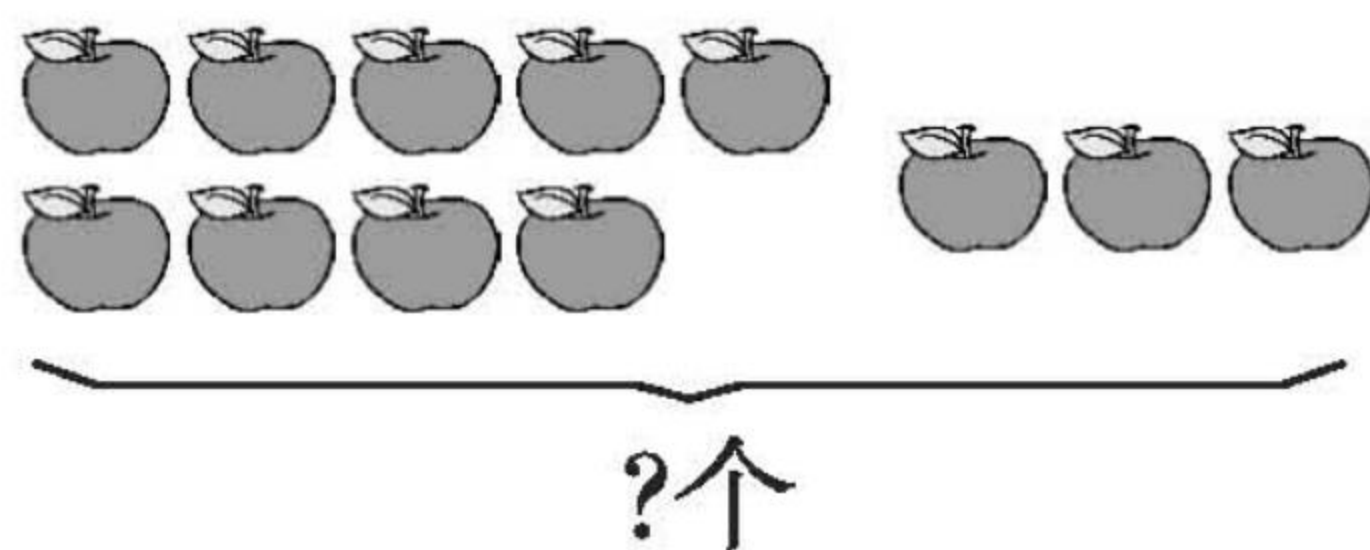
(9)  $5 + ( ) = 10$

(19)  $7 + 9 =$

(10)  $5 + ( ) = 11$

(20)  $9 + 4 =$

## 2. 看图列式计算。



$$\square \bigcirc \square = \square (\text{个})$$



## 20 以内的进位加法(21)

### 1. 基础练。

(1)  $4 + 6 =$

(11)  $8 + 7 =$

(2)  $6 + 9 =$

(12)  $7 + 6 =$

(3)  $6 + 5 =$

(13)  $9 + 8 =$

(4)  $5 + 9 =$

(14)  $8 + 3 =$

(5)  $7 + 8 =$

(15)  $7 + 4 =$

(6)  $9 + 3 =$

(16)  $9 + 7 =$

(7)  $10 + 3 =$

(17)  $8 + 8 =$

(8)  $7 + 5 =$

(18)  $6 + 6 =$


(9)  $6 + 8 =$

(19)  $2 + 8 =$

(10)  $5 + 6 =$

(20)  $8 + 5 =$

### 2.



$\square \bigcirc \square = \square$  (朵)



## 20 以内的进位加法(22)

## 1. 基础练。

(1)  $10 - 7 =$

(11)  $2 + 6 =$

(2)  $2 + 3 =$

(12)  $4 - 3 =$

(3)  $3 + 5 =$

(13)  $10 - 4 =$

(4)  $6 + 7 =$

(14)  $8 + 8 =$

(5)  $10 - 10 =$

(15)  $9 + 8 =$

(6)  $5 + 8 =$

(16)  $9 + 0 =$

(7)  $2 + 7 =$

(17)  $8 + 6 =$

(8)  $9 + 4 =$

(18)  $4 + 2 =$

(9)  $8 + 7 =$

(19)  $3 + 8 =$

(10)  $4 + 7 =$

(20)  $7 + 6 =$

## 2. 算一算,填一填。

	原来有	又买来	现在有
	8 个	4 个	( ) 个
	10 个	5 个	( ) 个
	9 个	5 个	( ) 个





## 20 以内的进位加法(23)

## 1. 基础练。

(1)  $8 + 3 =$

(11)  $9 - 5 =$

(2)  $5 + 9 =$

(12)  $8 + 6 =$

(3)  $3 + 9 =$

(13)  $3 + 9 =$

(4)  $7 + 6 =$

(14)  $7 + 4 =$

(5)  $5 + 6 =$

(15)  $7 + 6 =$

(6)  $7 + 9 =$

(16)  $2 + 1 =$

(7)  $6 + 9 =$

(17)  $8 + 4 =$

(8)  $5 + 7 =$

(18)  $7 - 4 =$

(9)  $9 + 9 =$

(19)  $9 + 4 =$

(10)  $9 + 6 =$

(20)  $6 + 5 =$

2.

	小红折	小军折	一共折
	3 个	8 个	( ) 个
	5 个	( ) 个	10 个
	( ) 个	4 个	9 个



## 20 以内的进位加法(24)

### 1. 基础练。

(1)  $8 - 5 =$

(11)  $4 + 8 =$

(2)  $2 + 7 =$

(12)  $9 + 3 =$

(3)  $2 + 9 =$

(13)  $4 - 3 =$

(4)  $6 + 10 =$

(14)  $3 - 2 =$

(5)  $6 + 2 =$

(15)  $10 - 8 =$

(6)  $10 - 7 =$

(16)  $9 - 7 =$

(7)  $9 + 7 =$

(17)  $3 + 6 =$

(8)  $8 + 2 =$

(18)  $10 - 9 =$

(9)  $0 + 6 =$

(19)  $9 + 8 =$

(10)  $10 - 6 =$

(20)  $10 - 5 =$

### 2.



一共有多少只鸡?

$$\square \bigcirc \square = \square (\text{只})$$





## 20 以内的进位加法(25)

### 1. 基础练。

(1)  $7 + 2 =$

(11)  $5 + 4 =$

(2)  $7 + 4 =$

(12)  $8 + 8 =$

(3)  $13 + 2 =$

(13)  $9 + 6 =$

(4)  $8 - 5 =$

(14)  $7 + 7 =$

(5)  $8 + 3 =$

(15)  $9 + 3 =$

(6)  $9 + 4 =$

(16)  $7 + 3 =$

(7)  $8 + 5 =$

(17)  $7 + 8 =$

(8)  $10 - 1 =$

(18)  $1 + 9 =$


(9)  $8 + 9 =$

(19)  $8 + 10 =$

(10)  $9 + 5 =$

(20)  $3 + 6 =$

### 2.



我和你踢的同样多。



我踢了7下。

他们一共踢了多少下?

$\square \bigcirc \square = \square (\text{下})$





## 20 以内的进位加法(26)

### 1. 基础练。

(1)  $7 + 5 =$

(11)  $3 + 8 =$

(2)  $7 + 6 =$

(12)  $7 + 8 =$

(3)  $10 + 6 =$

(13)  $4 + 8 =$

(4)  $9 + 3 =$

(14)  $6 + 8 =$

(5)  $9 - 9 =$

(15)  $9 + 8 =$

(6)  $7 + 9 =$

(16)  $9 + 6 =$

(7)  $5 + 5 =$

(17)  $9 - 2 =$

(8)  $9 - 2 =$

(18)  $9 + 4 =$


(9)  $10 - 3 =$

(19)  $10 - 9 =$

(10)  $9 + 9 =$

(20)  $2 + 8 =$

### 2.



两层最少有多少本书?



$\square \bigcirc \square = \square$  (本)



## 20 以内的进位加法(27)

## 1. 基础练。

(1)  $8 + 6 =$

(11)  $6 + 6 =$

(2)  $8 + 3 =$

(12)  $7 + 5 =$

(3)  $7 + 3 =$

(13)  $6 + 4 =$

(4)  $8 + 8 =$

(14)  $6 + 5 =$

(5)  $8 + 5 =$

(15)  $7 + 4 =$

(6)  $8 + 7 =$

(16)  $8 + 2 =$

(7)  $8 + 4 =$

(17)  $7 + 7 =$

(8)  $8 + 9 =$

(18)  $10 - 6 =$

(9)  $9 + 3 =$

(19)  $9 + 5 =$

(10)  $5 + 8 =$

(20)  $8 - 7 =$

## 2. 在○里填“&gt;”“&lt;”或“=”。

$9 + 5 \bigcirc 15$

$12 \bigcirc 7 + 6$

$9 - 3 \bigcirc 4$

$14 \bigcirc 3 + 9$

$6 + 8 \bigcirc 15$

$6 + 9 \bigcirc 15$

$9 + 5 \bigcirc 14$

$8 + 3 \bigcirc 12$





## 20 以内的进位加法(28)

### 1. 基础练。

(1)  $7 + 4 =$

(11)  $7 + 8 =$

(2)  $4 + 7 =$

(12)  $8 + 9 =$

(3)  $7 + 6 =$

(13)  $9 + 4 =$

(4)  $6 + 7 =$

(14)  $8 + 4 =$

(5)  $7 + 5 =$

(15)  $6 + 5 =$

(6)  $5 + 7 =$

(16)  $3 + 3 =$

(7)  $7 + 8 =$

(17)  $8 + 8 =$

(8)  $8 + 7 =$

(18)  $1 + 8 =$

(9)  $7 + 9 =$

(19)  $6 + 8 =$

(10)  $9 + 7 =$

(20)  $9 + 9 =$

### 2.



航模组有8人。



我们器乐组的人数和航模组同样多。

两个组一共有多少人?  $\square \bigcirc \square = \square$  (人)