

教辅资料站



电子教辅 试卷练习
知识总结 备课资源

每天10分钟 · 口算很轻松



—— 扫码关注获取更多学习资料 ——

赵 锋◎主 编

黄冈 口算

HUANGGANG
KOUSUAN
TIANTIANLIAN

天天练

升级版



1 年级 上
数学 RJ

沈阳出版发行集团

① 沈阳出版社

黄冈 口算

HUANGGANG
KOUSUAN
TIANTIANLIAN

天天练

升级版



1

一年级 上
数学 RJ

微信公众号

教辅资料站

沈阳出版发行集团

① 沈阳出版社

图书在版编目(CIP)数据

黄冈口算·天天练. 1 年级. 上. 1 / 赵锋主编.
—沈阳: 沈阳出版社, 2018. 6(2020. 6 重印)
ISBN 978-7-5441-9343-6

I. ①黄… II. ①赵… III. ①速算—小学—习题集
IV. ①G624.565

中国版本图书馆 CIP 数据核字(2018)第 120389 号

出版发行: 沈阳出版发行集团|沈阳出版社

(地址: 沈阳市沈河区南翰林路 10 号 邮编: 110011)

网 址: <http://www.sycbs.com>

印 刷: 高青金立印业有限公司

幅面尺寸: 170mm×245mm

印 张: 8.5

字 数: 88 千字

出版时间: 2018 年 6 月第 1 版

印刷时间: 2020 年 6 月第 2 次印刷

责任编辑: 马 驰 鲁 微 王 颖

封面设计: 中辰传媒设计室

版式设计: 中辰传媒设计室

责任校对: 王玉位

责任监印: 杨 旭

书 号: ISBN 978-7-5441-9343-6

定 价: 19.90 元

联系电话: 024-24112447

E - mail: sy24112447@163.com

本书若有印装质量问题, 影响阅读, 请与出版社联系调换。

微信公众号
教辅资料站

第一周

周一	数一数	1
周二	比多少(1)	2
周三	比多少(2)	3
周四	上、下、前、后	4
周五	左、右	5
周末	综合练习	6

第二周

周一	1~5 的认识	8
周二	比大小	9
周三	第几	10
周四	分与合(1)	11
周五	分与合(2)	12
周末	综合练习	13

第三周

周一	加法(1)	15
周二	加法(2)	16
周三	减法	17
周四	0 的认识	18
周五	整理和复习	19
周末	综合练习	20

第四周

周一	认识立体图形(1)	22
周二	认识立体图形(2)	23
周三	认识立体图形(3)	24
周四	立体图形的拼搭(1)	25
周五	立体图形的拼搭(2)	26
周末	综合练习	27

第五周

周一	6 和 7 的认识	29
周二	6 和 7 的组成	30
周三	6 和 7 的加减法(1)	31
周四	6 和 7 的加减法(2)	32
周五	解决问题(1)	33
周末	综合练习	34

第六周

周一	解决问题(2)	36
周二	8 和 9 的认识	37
周三	8 和 9 的组成	38
周四	8 和 9 的加减法(1)	39
周五	8 和 9 的加减法(2)	40
周末	综合练习	41

第七周

周一	解决问题	43
周二	10 的认识	44
周三	10 的加减法(1)	45
周四	10 的加减法(2)	46
周五	10 的加减法(3)	47
周末	综合练习	48

第八周

周一	连加 连减(1)	50
周二	连加 连减(2)	51
周三	加减混合(1)	52
周四	加减混合(2)	53
周五	整理和复习	54
周末	综合练习	55

第九周

周一	期中复习(1)	57
----	---------	----

周二	期中复习(2)·····	58
周三	期中复习(3)·····	59
周四	期中复习(4)·····	60
周五	期中复习(5)·····	61
周末	综合练习·····	62

第十周

周一	11~20 各数的认识(1)·····	64
周二	11~20 各数的认识(2)·····	65
周三	10 加几及相应的减法(1)·····	66
周四	10 加几及相应的减法(2)·····	67
周五	十几加几·····	68
周末	综合练习·····	69

第十一周

周一	十几减几·····	71
周二	解决问题(1)·····	72
周三	解决问题(2)·····	73
周四	认识钟表(1)·····	74
周五	认识钟表(2)·····	75
周末	综合练习·····	76

第十二周

周一	认识钟表(3)·····	78
周二	9 加几·····	79
周三	8、7、6 加几(1)·····	80
周四	8、7、6 加几(2)·····	81
周五	8、7、6 加几(3)·····	82
周末	综合练习·····	83

第十三周

周一	5、4、3、2 加几(1)·····	85
周二	5、4、3、2 加几(2)·····	86
周三	解决问题(1)·····	87
周四	解决问题(2)·····	88
周五	整理和复习·····	89
周末	综合练习·····	90

第十四周

周一	复习准备课和位置·····	92
周二	复习认识图形(一)和认识钟表·····	93
周三	复习 1~10 的认识和加减法·····	94
周四	复习 11~20 各数的认识·····	95
周五	复习 20 以内的进位加法·····	96
周末	综合练习·····	97

第十五周

周一	复习 20 以内的加减法(1)·····	99
周二	复习 20 以内的加减法(2)·····	100
周三	复习 20 以内的加减法(3)·····	101
周四	复习 20 以内的加减法(4)·····	102
周五	复习 20 以内的加减法(5)·····	103
周末	综合练习·····	104

第十六周

周一	复习 20 以内的加减法(6)·····	106
周二	复习 20 以内的加减法(7)·····	107
周三	复习 20 以内的加减法(8)·····	108
周四	复习 20 以内的加减法(9)·····	109
周五	复习 20 以内的加减法(10)·····	110
周末	综合练习·····	111

第十七周

周一	期末复习(1)·····	113
周二	期末复习(2)·····	114
周三	期末复习(3)·····	115
周四	期末复习(4)·····	116
周五	期末复习(5)·····	117
周末	综合练习·····	118
期末检测(一)·····		120
期末检测(二)·····		122
参考答案·····		124



周一 数一数



微信扫码

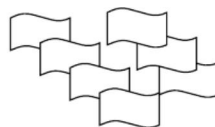
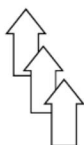
您立即获得的权益主要有：

☆ 本书配套资料包

(例如：配套教案、真题汇编)

☆ 配套线上网课学习工具

shǔ yì shǔ lián yì lián
一、数一数，连一连。



5

7

1

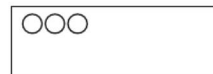
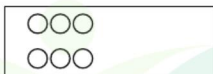
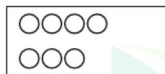
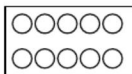
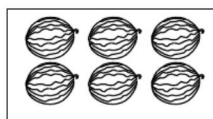
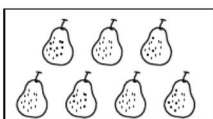
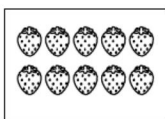

3

6

4



bǎ xiāng tóng shù liàng de lián qǐ lái
二、把相同数量的连起来。



订正栏

微信公众号

教辅资料站

用时 分 错误 道 自我评价 ☆☆☆☆☆

周二 比多少(1)

bǐ yì bǐ quān yì quān
一、比一比，圈一圈。



□多 ☆多 □和☆同样多

bǐ yì bǐ quān yì quān
二、比一比，圈一圈。



△多 ○多 △和○同样多

bǐ yì bǐ quān yì quān
三、比一比，圈一圈。



西瓜少 辣椒少 西瓜和辣椒同样多

订正栏

微信公众号

教辅资料站


用时____分 错误____道 自我评价☆☆☆☆☆




周三 比多少(2)

shǔ yì shǔ zài zhèng què dá àn xià miàn huà


一、数一数，在正确答案下面画“√”。



(2、3、4)



(3、5、9)



(8、9、10)

zài zuì duō de hòu miàn huà

二、在最多的后面画“√”。



()



()



()



()

zài zuì shǎo de hòu miàn huà

三、在最少后面画“√”。



()



()



()



()

订正栏

微信公众号

教辅资料站

用时 分 错误 道 自我评价 ☆☆☆☆☆

周四 上、下、前、后

huà yì huà quān yì quān
一、画一画，圈一圈。



1. 在最前面的小动物下画“△”。

2. 在最后面的小动物下画“○”。

kàn tú shuō hú lí hé wū yā de gù shì zài bǎ zhèng què de dá àn
二、看图说狐狸和乌鸦的故事，再把正确的答案

quān qǐ lái。
圈起来。



1. 在 的(上 下)面。

2. 在 的(前 后)面。

3. 想尽办法，终于让 嘴里的肉从
(上 下)面掉下来。

订正栏

微信公众号

教辅资料站

用时____分 错误____道 自我评价☆☆☆☆☆



周五 左、右

tián yì tián 一、填一填。



①



②



③



④



⑤



⑥

- ③号在④号的()边。(填“左”或“右”)
- ④号在③号的()边。(填“左”或“右”)
- 在②号右边、④号左边的图形是()号。

pàn duàn shuǐ guǒ zài nǎ lǐ quān chū zhèng què de dá àn 二、判断水果在哪里，圈出正确的答案。



小红

小力

桃子在小力的(左、右)手，梨子在小红的(左、右)手。

订正栏

微信公众号

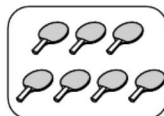
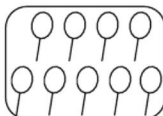
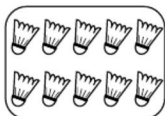
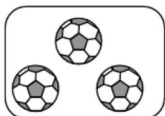
教辅资料站

用时 _____ 分 错误 _____ 道 自我评价 ☆☆☆☆☆

周末 综合练习

shǔ yì shǔ lián yì lián

一、数一数，连一连。



10

3

6

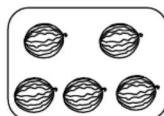
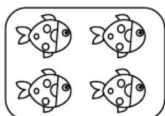
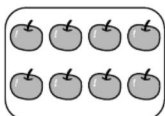
8

4

7

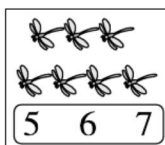
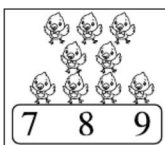

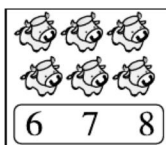

5

9



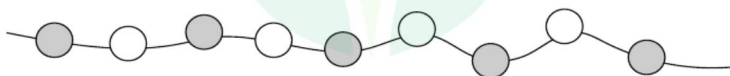
shǔ yì shǔ quān yì quān

二、数一数，圈一圈。



zài duō de hòu miàn huà

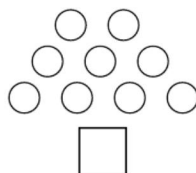
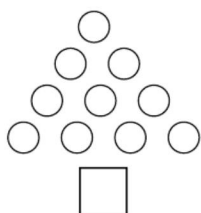
三、在多的后面画“√”。





zài shǎo de xià miàn huà

四、在少的下面画“√”。



huà yì huà

五、画一画。

1. 画○，和△同样多。



2. 画□，比○少 2 个。



3. 画☆，比△多 3 个。



订正栏

微信公众号

教辅资料站

用时 _____ 分 错误 _____ 道 自我评价 ☆☆☆☆☆

周一 1~5 的认识



微信扫码

您立即获得的权益主要有：


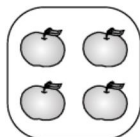
☆ 本书配套资料包

(例如：配套教案、真题汇编)

☆ 配套线上网课 ☆ 学习工具

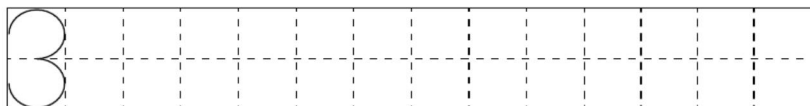
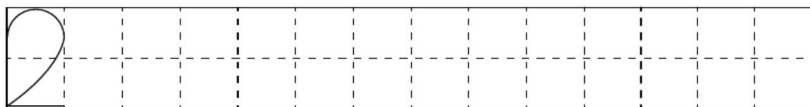
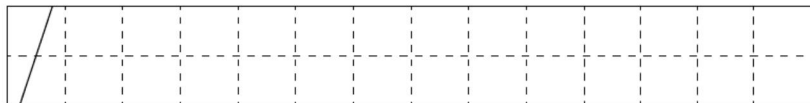
kàn tú xiě shù

一、看图写数。



zhào yàng zǐ xiě yì xiě

二、照样子写一写。



订正栏

微信公众号


教辅资料站

用时____分 错误____道 自我评价☆☆☆☆☆



周二 比大小

shǔ yì shǔ bǐ yì bǐ
一、数一数，比一比。



zài lǐ tián huò
二、在 ○ 里填 “>” “<” 或 “=”。

$1 \bigcirc 2$

$2 \bigcirc 4$

$5 \bigcirc 3$

$3 \bigcirc 2$

$4 \bigcirc 1$

$5 \bigcirc 5$

$3 \bigcirc 3$

$3 \bigcirc 1$

$1 \bigcirc 5$

$2 \bigcirc 3$

$2 \bigcirc 2$

$3 \bigcirc 5$

$4 \bigcirc 5$

$5 \bigcirc 2$

$3 \bigcirc 4$

订正栏

微信公众号

教辅资料站

用时 _____ 分 错误 _____ 道 自我评价 ☆☆☆☆☆

周三 第几

xiǎo dòng wù pái pái duì

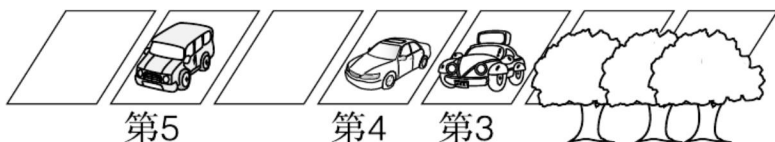
一、小动物排排队。



1. 图中一共有()种动物。
2. 把左边三种动物圈起来。
3. 从左边数,给第3种动物图上你喜欢的颜色。
4. 从右边数,第4种动物跑掉了,这时从左边数,小猴排第()。

tíng chē chǎng

二、停车场。



大树挡住了()辆车,挡住的是第()辆和第()辆。停车场一共停了()辆车。

订正栏

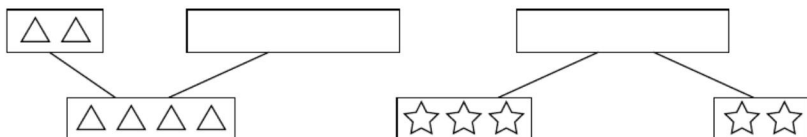
微信公众号

用时____分 错误____道 自我评价☆☆☆☆☆

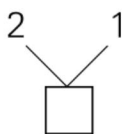
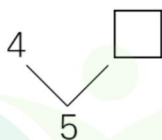
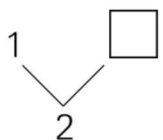
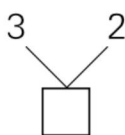
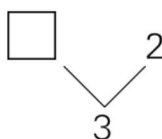
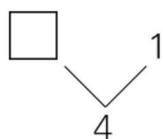
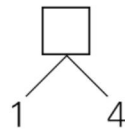
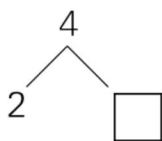
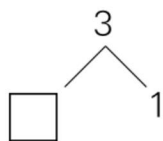
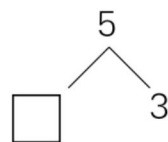
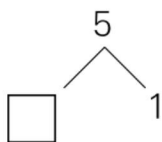
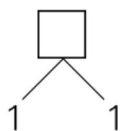


周四 分与合(1)

huà yì huà
一、画一画。



zài lǐ tián shàng hé shì de shù
二、在 里填上合适的数。



订正栏

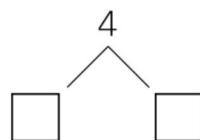
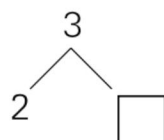
微信公众号

教辅资料站

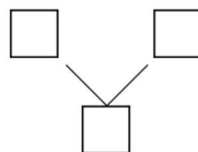
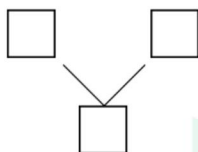
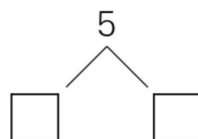
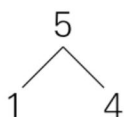
用时 分 错误 道 自我评价 ☆☆☆☆☆

周五 分与合(2)

huà yì huà tián yì tián
一、画一画，填一填。



tú yì tú tián yì tián
二、涂一涂，填一填。



订正栏

微信公众号

教辅资料站




用时____分 错误____道 自我评价☆☆☆☆☆



周末 综合练习

shǔ yì shǔ bǐ yì bǐ

一、数一数，比一比。





$$\square < \square$$

$$\square < \square$$

$$\square > \square$$

$$\square > \square$$



$$\square < \square$$

$$\square < \square$$

$$\square > \square$$

$$\square > \square$$

zài lǐ tián shàng hé shì de shù

二、在 \square 里填上合适的数。

$$5 > \square$$

$$\square < 3$$

$$\square > 4$$

$$2 < \square$$

$$3 < \square$$

$$2 = \square$$

$$3 > \square$$

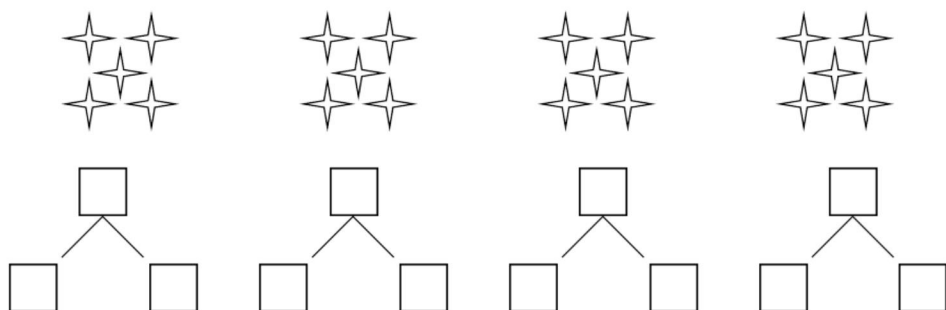
$$4 < \square$$

$$2 < \square$$

微信公众号
教辅资料站

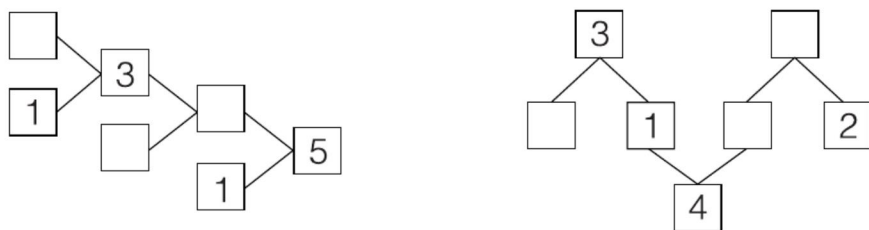
tú yì tú tián yì tián

三、涂一涂，填一填。




fēn yǔ hé

四、分与合。



fēn píng guǒ

五、分苹果。



1. 一共有()个盘子。
2. 左起第 2 盘和第()盘的苹果合起来是 5 个。
3. 右起第()盘和第()盘合起来有 3 个苹果。

订正栏

微信公众号

用时____分 错误____道 自我评价☆☆☆☆☆



周一 加法(1)



微信扫码


您立即获得的权益主要有:

☆ 本书配套资料包

(例如: 配套教案、真题汇编)

☆ 配套线上网课学习工具


kàn tú tián yì tián 一、看图填一填。



$$2 + 3 = \square$$



$$3 + 1 = \square$$



$$2 + 2 = \square$$



$$4 + 1 = \square$$

huà yì huà suàn yì suàn 二、画一画，算一算。

$$3 + 1 = \square$$



$$2 + 3 = \square$$



$$1 + 4 = \square$$



$$1 + 2 = \square$$



订正栏




微信公众号

教辅资料站

用时 分 错误 道 自我评价 ☆☆☆☆☆

周二 加法(2)

xiǎo niǎo huí jiā lián yi lián
一、小鸟回家。(连一连)



xiǎo tù zì cǎi mó gu lián yi lián
二、小兔子采蘑菇。(连一连)



订正栏

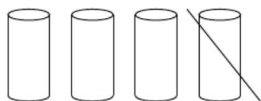
用时____分 错误____道 自我评价☆☆☆☆☆



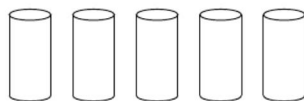
周三 减法

xiān huà yì huà zài xiě chū dé shù

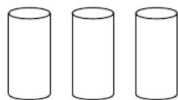
一、先画一画，再写出得数。



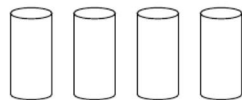
$$4 - 1 = \square$$



$$5 - 3 = \square$$



$$3 - 1 = \square$$




$$4 - 3 = \square$$

kàn tú xiě suàn shì

二、看图写算式。



$$\square \bigcirc \square = \square$$



$$\square \bigcirc \square = \square$$



$$\square \bigcirc \square = \square$$



$$\square \bigcirc \square = \square$$

订正栏

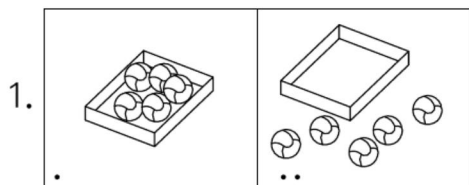
用时 _____ 分 错误 _____ 道 自我评价 ☆☆☆☆☆

周四 0 的认识

xiǎo māo diào le jǐ tiáo yú kàn tú xiě yì xiě
一、小猫钓了几条鱼？(看图写一写)




kàn tú liè shì jì suàn
二、看图列式计算。



$$\square \bigcirc \square = \square$$



$$\square \bigcirc \square = \square$$



$$\square \bigcirc \square = \square$$

订正栏


用时____分 错误____道 自我评价☆☆☆☆☆



周五 整理和复习

kàn tú liè shì jì suàn


一、看图列式计算。



$$\square \bigcirc \square = \square$$



$$\square \bigcirc \square = \square$$



$$\square \bigcirc \square = \square$$



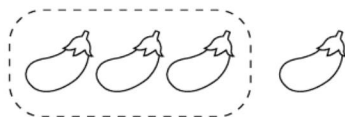
$$\square \bigcirc \square = \square$$

kàn tú liè shì jì suàn

二、看图列式计算。



$$\square + \square = \square$$



$$\square - \square = \square$$

订正栏

用时 _____ 分 错误 _____ 道 自我评价 ☆☆☆☆☆

周末 综合练习

bǎ dé shù děng yú de táo zi tú shàng nǐ xǐ huān de yán sè
一、把得数等于5的桃子涂上你喜欢的颜色。



我吃得数等于5的桃子。



kàn tú liè shì jì suàn
二、看图列式计算。



$$3 - \square = 2$$

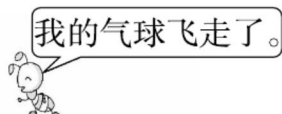


$$3 - \square = 1$$



$$3 - \square = 0$$

qǐng nǐ xiě chū xiǎo dòng wù men fēn bié ná zhe jǐ gè qì qiú
三、请你写出小动物们分别拿着几个气球。





huā hòu miàn cáng zhe nǎ gè shù tián yì tián

四、花后面藏着哪个数？填一填。

$$5 - 0 = \text{花}$$

$$5 - \text{花} = 2$$

$$\text{花} - 2 = 2$$

$$2 + 3 = \text{花}$$

$$\text{花} + 3 = 4$$

$$\text{花} + 5 = 5$$

xiǎng yi xiǎng suàn yi suàn

五、想一想，算一算。



$$4 - 4 = \square$$

xiǎng yi xiǎng chú le biǎo shì yí gè yě méi yǒu yǐ wài hái néng

六、想一想，0除了表示一个也没有以外，还能

biǎo shì shén me yǔ tóng bàn shuō yi shuō

表示什么？与同伴说一说。



我家在102室。



今天气温是0度。

订正栏

用时 _____ 分 错误 _____ 道 自我评价 ☆☆☆☆☆

周一 认识立体图形(1)



微信扫码

您立即获得的权益主要有:

☆ 本书配套资料包

(例如: 配套教案、真题汇编)

☆ 配套线上网课学习工具

kǒu suàn

一、口算。

$0 + 3 =$

$4 + 1 =$

$3 + 1 =$

$2 + 0 =$

$0 + 0 =$

$4 - 1 =$

$2 - 0 =$

$3 - 3 =$

$3 + 0 =$

$0 + 1 =$

$3 - 0 =$

$2 + 2 =$

$3 - 1 =$

$4 - 3 =$

$3 - 2 =$

$3 + 2 =$

$4 - 4 =$

$1 + 1 =$

$5 - 5 =$

$1 + 3 =$

$2 - 2 =$

$5 + 0 =$

$4 + 0 =$

$2 - 1 =$

hòu miàn cáng zhe nǎ gè shù tián yì tián

二、□ 后面藏着哪个数? 填一填。

$5 - 1 = \square$

$5 - \square = 3$

$\square - 2 = 0$

$2 + 1 = \square$

$\square + 2 = 3$

$\square + 4 = 4$

$1 - \square = 1$

$4 + \square = 5$

订正栏

用时____分 错误____道 自我评价☆☆☆☆☆



周二 认识立体图形(2)

kǒu suàn

一、口算。

$4 - 1 =$

$3 - 2 =$

$4 - 3 =$

$1 + 3 =$

$1 + 4 =$

$5 - 5 =$

$4 + 0 =$

$1 + 1 =$

$1 + 0 =$

$5 - 0 =$

$2 - 2 =$

$2 - 1 =$

$2 + 2 =$

$5 - 3 =$

$1 + 2 =$

$4 - 0 =$

$1 - 0 =$

$2 - 0 =$

$2 + 0 =$

$4 + 1 =$

$5 - 1 =$

$1 - 1 =$

$2 + 1 =$

$5 - 4 =$

hòu miàn cáng zhe nǎ gè shù tián yì tián

二、□后面藏着哪个数？填一填。

$\square - 1 = 4 \quad 4 - \square = 2 \quad \square - 3 = 0 \quad 2 + 3 = \square$

$\square + 3 = 4 \quad \square + 1 = 5 \quad 3 - \square = 1 \quad 1 + \square = 5$

订正栏

用时 _____ 分 错误 _____ 道 自我评价 ☆☆☆☆☆

周三 认识立体图形(3)

tián kòng

一、填空。

$(\quad) + 4 = 5$

$(\quad) - 0 = 2$

$(\quad) + 0 = 3$

$(\quad) + 2 = 4$

$(\quad) - 0 = 0$

$(\quad) + 1 = 2$

$(\quad) + 3 = 4$

$(\quad) + 2 = 3$

$(\quad) - 2 = 1$

$(\quad) + 1 = 5$

$(\quad) + 2 = 5$

$(\quad) - 4 = 0$

$4 - (\quad) = 1$

$1 + (\quad) = 1$

$4 - (\quad) = 3$

$3 + (\quad) = 4$

$2 - (\quad) = 1$

$0 + (\quad) = 5$

$1 - (\quad) = 0$

$2 - (\quad) = 0$

$3 - (\quad) = 3$

$2 + (\quad) = 3$

$2 + (\quad) = 5$

$5 - (\quad) = 1$

shǐ biǎo gé lǐ shàng xià liǎng gè shù jiā qǐ lái de hé shì

二、使表格里上下两个数加起来的和是5。

5	4	3	2	1	0

订正栏

用时_____分 错误_____道 自我评价☆☆☆☆☆



周四 立体图形的拼搭(1)

zài lǐ tián shàng huò
一、在 ○ 里填上 “>” “<” 或 “=”。

$4 - 3 \bigcirc 0$

$1 + 0 \bigcirc 0$

$4 - 1 \bigcirc 2$

$3 + 1 \bigcirc 5$

$2 - 1 \bigcirc 2$

$0 + 4 \bigcirc 5$

$1 - 1 \bigcirc 0$

$2 - 2 \bigcirc 0$

$3 - 0 \bigcirc 3$

$2 + 1 \bigcirc 4$

$2 + 3 \bigcirc 5$

$5 - 4 \bigcirc 3$

$4 + 0 \bigcirc 5$

$5 - 3 \bigcirc 1$

$4 - 2 \bigcirc 3$

$1 + 4 \bigcirc 5$

$2 - 0 \bigcirc 3$

$3 + 0 \bigcirc 4$

zài lǐ tián shàng zhèng què de shù
二、在 里填上正确的数。

$\text{花} + 1 = 5$

$\text{花} + 2 = 5$

$\text{花} - 4 = 0$

$\text{花} + 0 = 5$

$\text{花} + 0 = 3$

$\text{花} - 1 = 4$

$4 - \text{花} = 1$

$1 + \text{花} = 1$

$4 - \text{花} = 3$

订正栏

用时 _____ 分 错误 _____ 道 自我评价 ☆☆☆☆☆

周五 立体图形的拼搭(2)

zài lǐ tián shàng huò
一、在 ○ 里 填 上 “+” 或 “-”。

$1 \bigcirc 3 = 4$

$1 \bigcirc 2 = 3$

$3 \bigcirc 2 = 1$

$4 \bigcirc 1 = 5$

$3 \bigcirc 2 = 5$

$4 \bigcirc 4 = 0$

$5 \bigcirc 0 = 5$

$3 \bigcirc 0 = 3$

$5 \bigcirc 1 = 4$

$4 \bigcirc 3 = 1$

$1 \bigcirc 0 = 1$

$4 \bigcirc 1 = 3$

$3 \bigcirc 1 = 4$

$2 \bigcirc 1 = 1$

$0 \bigcirc 5 = 5$

$1 \bigcirc 4 = 5$

$2 \bigcirc 0 = 2$

$0 \bigcirc 3 = 3$

$2 \bigcirc 2 = 4$

$0 \bigcirc 0 = 0$

$1 \bigcirc 1 = 2$

tián yì tián
二、填 一 填。

$4 + 1 = 2 + \square = 0 + \square$

$5 - 4 = 4 - \square = 3 - \square$

$5 + 0 = 3 + \square = 5 - \square$

订正栏

用时 _____ 分 错误 _____ 道 自我评价☆☆☆☆☆



周末 综合练习

kǒu suàn

一、口算。

$2 + 2 =$

$4 + 1 =$

$1 + 3 =$

$0 + 4 =$

$1 + 1 =$

$2 - 1 =$

$2 + 3 =$

$4 - 2 =$

$5 - 3 =$

$3 - 2 =$

$2 - 2 =$

$5 - 1 =$

$3 + 0 =$

$0 + 5 =$

$1 + 0 =$

$3 + 1 =$

$3 + 2 =$

$3 - 1 =$

$1 + 2 =$

$2 + 0 =$

$4 - 1 =$

$5 - 2 =$

$4 - 0 =$

$5 - 4 =$

$0 + 1 =$

$2 + 1 =$

$1 + 4 =$

$0 + 2 =$

$0 + 3 =$

$5 + 0 =$

$4 - 4 =$

$3 - 0 =$

$5 - 5 =$

zài

lǐ tián shàng zhèng què de shù

二、在 里填上正确的数。

$\text{flower} + 0 = 5$

$\text{flower} + 1 = 5$

$\text{flower} - 4 = 1$

$\text{flower} + 0 = 0$

$\text{flower} + 0 = 2$

$\text{flower} - 1 = 1$



$3 - \text{花} = 1$

$1 + \text{花} = 5$

$4 - \text{花} = 2$

$\text{花} + 1 = 2$

$\text{花} + 2 = 4$

$\text{花} - 0 = 0$

$\text{花} + 4 = 5$

$\text{花} + 3 = 3$

$\text{花} - 1 = 2$

$4 - \text{花} = 1$

$1 + \text{花} = 1$

$4 - \text{花} = 3$

zài lǐ tián shàng huò
三、在 ○ 里填上 “+” 或 “-”。

$0 \bigcirc 4 = 4$

$2 \bigcirc 1 = 3$

$3 \bigcirc 2 = 1$

$1 \bigcirc 4 = 5$

$2 \bigcirc 3 = 5$

$4 \bigcirc 4 = 0$

$0 \bigcirc 5 = 5$

$3 \bigcirc 3 = 0$

$5 \bigcirc 1 = 4$

$4 \bigcirc 3 = 1$

$1 \bigcirc 1 = 0$

$4 \bigcirc 1 = 3$

$1 \bigcirc 3 = 4$

$1 \bigcirc 1 = 2$

$5 \bigcirc 0 = 5$

$4 \bigcirc 1 = 5$

$3 \bigcirc 2 = 5$

$2 \bigcirc 0 = 2$

订正栏

用时 _____ 分 错误 _____ 道 自我评价☆☆☆☆☆



周一 6 和 7 的认识



微信扫码

您立即获得的权利主要有：

☆ 本书配套资料包

（例如：配套教案、真题汇编）

☆ 配套线上网课及学习工具

zài lǐ tián shàng huò
一、在 ○ 里填上 “+” 或 “-”。

$4 \bigcirc 1 = 5$

$1 \bigcirc 3 = 4$

$2 \bigcirc 0 = 2$

$3 \bigcirc 1 = 2$

$5 \bigcirc 0 = 5$

$1 \bigcirc 0 = 1$

$2 \bigcirc 2 = 4$

$5 \bigcirc 4 = 1$

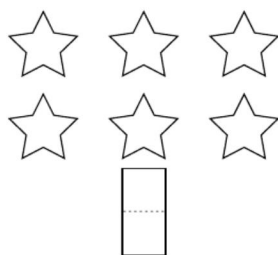

$2 \bigcirc 1 = 3$

$2 \bigcirc 3 = 5$

$5 \bigcirc 5 = 0$

$0 \bigcirc 0 = 0$

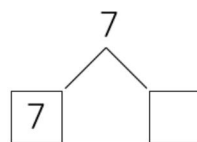
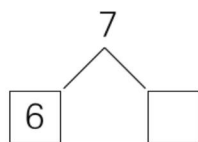
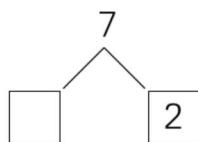
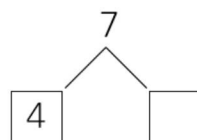
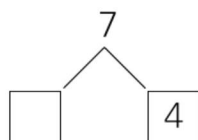
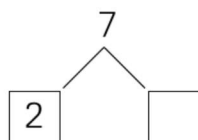
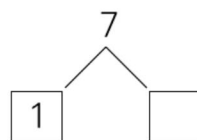
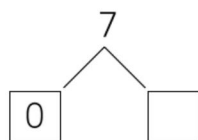
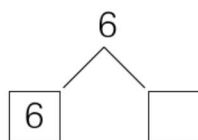
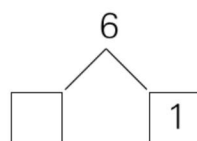
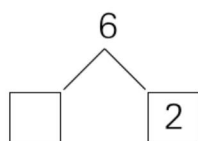
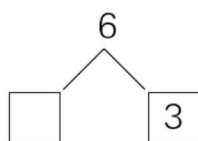
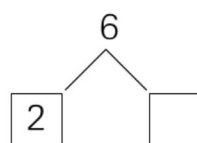
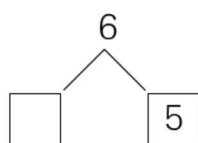
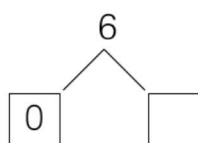
kàn tú xiě shù
二、看图写数。



订正栏

用时 _____ 分 错误 _____ 道 自我评价 ☆☆☆☆☆

周二 6 和 7 的组成



订正栏

用时____分 错误____道 自我评价☆☆☆☆☆



周三 6 和 7 的加减法(1)

kǒu suàn

一、口算。

$6 - 2 =$

$7 - 1 =$

$7 - 0 =$

$2 + 4 =$

$7 - 3 =$

$7 - 6 =$

$3 + 3 =$

$6 - 5 =$

$4 + 2 =$

$2 + 5 =$

$6 - 2 =$

$6 - 4 =$

$0 + 7 =$

$5 + 2 =$

$0 - 0 =$

$3 - 2 =$

$4 + 1 =$

$7 - 2 =$

$1 + 5 =$

$4 + 3 =$

$6 - 6 =$

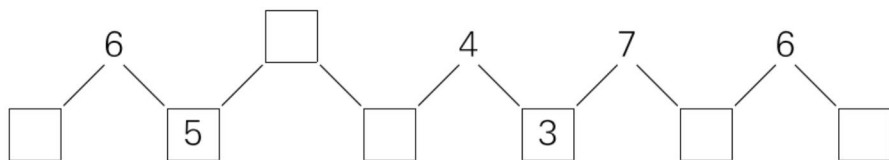
$7 - 5 =$

$6 + 1 =$

$7 - 7 =$

xiǎng yi xiǎng tián yi tián

二、想一想，填一填。



订正栏

用时 _____ 分 错误 _____ 道 自我评价 ☆☆☆☆☆

周四 6 和 7 的加减法(2)

kǒu suàn

一、口算。

$6 - 0 =$

$4 + 1 =$

$0 + 4 =$

$2 + 1 =$

$3 + 2 =$

$3 - 2 =$

$1 + 5 =$

$6 - 2 =$

$6 - 3 =$

$7 + 0 =$

$5 + 2 =$

$0 - 0 =$

$3 - 2 =$

$5 + 1 =$

$4 + 2 =$

$6 - 6 =$

$5 - 1 =$

$7 - 5 =$

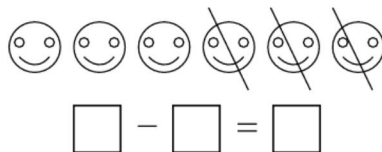
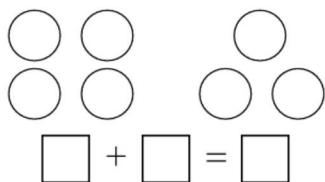
$3 + 4 =$

$6 - 5 =$

$0 + 5 =$

kàn tú liè shì

二、看图列式。



订正栏

用时____分 错误____道 自我评价☆☆☆☆☆



周五 解决问题(1)

kǒu suàn

一、口算。

$5 - 4 =$

$5 - 5 =$

$1 + 1 =$

$2 + 3 =$

$3 + 2 =$

$2 + 1 =$

$5 - 3 =$

$3 + 4 =$

$4 - 3 =$

$4 - 2 =$

$3 + 3 =$

$6 - 2 =$

$4 - 4 =$

$4 - 0 =$

$7 - 7 =$

$1 + 6 =$

$2 + 2 =$


$1 + 3 =$

kàn tú liè shì

二、看图列式。



$(\quad) + (\quad) = (\quad)$



$(\quad) - (\quad) = (\quad)$

订正栏

用时 _____ 分 错误 _____ 道 自我评价 ☆☆☆☆☆

周末 综合练习

kǒu suàn

一、口算。

$6 - 1 =$

$7 - 2 =$

$6 - 3 =$

$2 + 4 =$

$6 + 1 =$

$3 + 4 =$

$6 - 2 =$

$7 - 6 =$

$7 - 4 =$

$4 + 3 =$

$1 + 6 =$

$4 + 2 =$

$6 - 4 =$

$7 - 1 =$

$7 - 3 =$

$3 + 3 =$

$2 + 5 =$

$1 + 5 =$

$0 + 3 =$

$7 - 7 =$

$7 - 0 =$

gēn jù gěi chū de jiā fǎ suàn shì xiě chū lìng yí dào jiā fǎ suàn shì hé

二、根据给出的加法算式写出另一道加法算式和

xiāng yīng de liǎng dào jiǎn fǎ suàn shì

相应的两道减法算式。

$2 + 5 =$

$4 + 3 =$

$1 + 5 =$

$4 + 2 =$

$6 + 1 =$

$4 + 1 =$



gēn jù gěi chū de jiǎn fǎ suàn shì xiě chū lìng yí dào jiǎn fǎ suàn shì
 三、根据给出的减法算式写出另一道减法算式

hé xiāng yīng de liǎng dào jiā fǎ suàn shì
 和相应的两道加法算式。

$7 - 2 =$

$6 - 4 =$

$5 - 3 =$

$7 - 4 =$

$6 - 1 =$

$5 - 4 =$

xiǎng yi xiǎng tián yi tián
 四、想一想，填一填。

$1. (\quad) + 3 = 6 - 2$

$1 + (\quad) = 7 - 2$

$(\quad) - 3 = 2 + 2$

$(\quad) - 4 = 5 - 2$

$2. \triangle + \triangle = 4$

$\text{😊} + \text{😊} = 6$

$\triangle = (\quad)$

$\text{😊} = (\quad)$

$\triangle + \text{😊} = (\quad)$

$\text{😊} - \triangle = (\quad)$

订正栏

用时 _____ 分 错误 _____ 道 自我评价 ☆☆☆☆☆

周一 解决问题(2)



微信扫码

您立即获得的权益主要有:

☆ 本书配套资料包

(例如: 配套教案、真题汇编)

☆ 配套线上网课学习工具

kǒu suàn

一、口算。

$4 + 0 =$

$3 - 1 =$

$7 - 1 =$

$6 - 6 =$

$7 - 5 =$

$7 - 6 =$

$6 - 4 =$

$1 + 2 =$

$6 + 1 =$

$5 - 4 =$

$5 - 5 =$

$1 + 1 =$

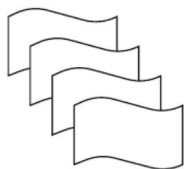
$2 + 3 =$

$3 + 2 =$

$2 + 1 =$

kàn tú xiě shì

二、看图写式。



$(\quad) + (\quad) = (\quad)$

$(\quad) + (\quad) = (\quad)$

$(\quad) - (\quad) = (\quad)$

$(\quad) - (\quad) = (\quad)$

订正栏

用时____分 错误____道 自我评价☆☆☆☆☆



周二 8 和 9 的认识

kǒu suàn

一、口算。

$3 + 2 =$

$7 - 3 =$

$4 + 1 =$

$5 + 0 =$

$4 - 2 =$

$2 + 3 =$

$0 + 3 =$

$2 + 4 =$

$5 - 1 =$

$7 - 1 =$

$0 + 1 =$

$4 - 1 =$

$3 - 3 =$

$3 + 4 =$

$6 - 2 =$

$7 - 5 =$

$5 + 1 =$

$5 - 5 =$

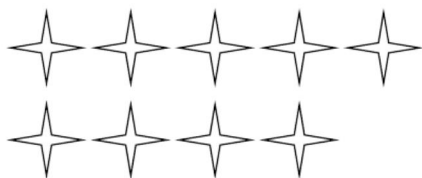

$6 + 1 =$

$5 + 2 =$

$3 - 1 =$

shǔ yì shǔ bǐ yì bǐ

二、数一数，比一比。



() ○ ()

订正栏

用时 _____ 分 错误 _____ 道 自我评价 ☆☆☆☆☆

周三 8 和 9 的组成

kǒu suàn

一、口算。

$7 + 1 =$

$9 + 0 =$

$5 + 2 =$

$1 + 7 =$

$5 + 1 =$

$2 + 7 =$

$2 + 4 =$

$5 + 4 =$

$2 + 6 =$

$3 + 4 =$

$0 + 8 =$

$3 + 5 =$

$4 + 4 =$

$4 + 2 =$

$2 + 3 =$

$3 + 2 =$

$1 + 4 =$

$8 + 1 =$

tián yì tián

二、填一填。

8	1	2	3		5		7
	7						

9	1	2			5		7	8

订正栏

用时____分 错误____道 自我评价☆☆☆☆☆



周四 8 和 9 的加减法(1)

kǒu suàn

一、口算。

$8 + 1 =$

$7 + 1 =$

$7 + 2 =$

$8 - 1 =$

$6 + 3 =$

$9 - 2 =$

$4 + 4 =$

$9 - 8 =$

$2 + 6 =$

$8 - 7 =$

$4 + 5 =$

$8 - 2 =$

$1 + 8 =$

$3 + 5 =$

$8 - 4 =$

$3 + 6 =$

$9 - 1 =$

$2 + 7 =$

$8 - 6 =$

$1 + 7 =$

$6 + 2 =$

kàn tú liè shì

二、看图列式。





订正栏

用时 _____ 分 错误 _____ 道 自我评价 ☆☆☆☆☆



周五 8 和 9 的加减法(2)

kǒu suàn

一、口算。

$1 + 8 =$

$3 + 5 =$

$8 - 4 =$

$3 + 6 =$

$9 - 1 =$

$2 + 7 =$

$8 - 6 =$

$1 + 7 =$

$6 + 2 =$

$9 - 8 =$

$0 + 9 =$

$0 + 7 =$

$5 + () = 9$

$6 + () = 9$

$1 + () = 8$

$4 + () = 8$

$9 - () = 2$

$7 + () = 9$

$() + 3 = 8$

$() - 6 = 3$

$5 + () = 7$

kàn tú liè shì

二、看图列式。



$() + () = ()$

$() + () = ()$

$() - () = ()$

$() - () = ()$

订正栏

用时____分 错误____道 自我评价☆☆☆☆☆



周末 综合练习

kǒu suàn

一、口算。

$2 + 1 =$

$1 + 3 =$

$1 + 8 =$

$9 - 2 =$

$4 + 5 =$

$7 + 2 =$

$9 - 4 =$

$8 - 3 =$

$5 - 2 =$

$9 - 6 =$

$3 - 2 =$

$4 + 3 =$

$6 + 2 =$

$6 + 3 =$

$1 + 6 =$

$7 + 0 =$

$2 + 5 =$

$9 - 5 =$

$2 + 4 =$

$3 + 1 =$

$9 - 7 =$

$0 + 9 =$

$6 - 1 =$

$3 + 6 =$

$5 + 3 =$

$7 - 3 =$

$5 + 4 =$

tián kòng

二、填空。

$5 + (\quad) = 9$

$1 + (\quad) = 9$

$2 + (\quad) = 9$

$4 + (\quad) = 9$

$7 - (\quad) = 2$

$5 + (\quad) = 9$

$(\quad) + 3 = 6$

$(\quad) - 3 = 3$

$7 + (\quad) = 7$

$5 + (\quad) = 8$

$6 + (\quad) = 7$

$1 + (\quad) = 4$

$2 + (\quad) = 8$

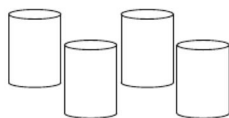

$9 - (\quad) = 5$

$7 + (\quad) = 8$



kàn tú liè shì

三、看图列式。

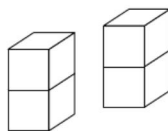
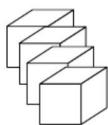


$$(\quad) + (\quad) = (\quad)$$

$$(\quad) + (\quad) = (\quad)$$

$$(\quad) - (\quad) = (\quad)$$

$$(\quad) - (\quad) = (\quad)$$



$$(\quad) + (\quad) = (\quad)$$

$$(\quad) - (\quad) = (\quad)$$



$$(\quad) + (\quad) = (\quad)$$

$$(\quad) + (\quad) = (\quad)$$

$$(\quad) - (\quad) = (\quad)$$

$$(\quad) - (\quad) = (\quad)$$

jiāng

tián rù xià miàn de kuò hào

四、将 1, 2, 3, 4, 5, 6, 7, 8 填入下面的括号

zhōng shǐ děng shì chéng lì

中,使等式成立。

$$(\quad) + (\quad) = (\quad) + (\quad)$$

$$(\quad) + (\quad) = (\quad) + (\quad)$$

订正栏

用时____分 错误____道 自我评价☆☆☆☆☆



周一 解决问题



微信扫码

您立即获得的权益主要有:

☆ 本书配套资料包

(例如: 配套教案、真题汇编)

☆ 配套线上网课学习工具

kǒu suàn

一、口算。

$3+6=$

$2+7=$

$9-9=$

$8-6=$

$2-1=$

$6+3=$

$5+2=$

$8-5=$

$4+3=$

$0+9=$

$6-1=$

$1+8=$

$5+3=$

$7-3=$

$5+4=$

$0+3=$

$8-3=$

$4+4=$

xiān jiāng xià liè shù àn cóng xiǎo dào dà de shùn xù pái yì pái rán hòu

二、先将下列数按从小到大的顺序排一排,然后

zài kuò hào lǐ tián shàng shì dàng de shù zì

在括号里填上适当的数字。

9

3

6

0

8

1

() < () < () < () < () < ()

() + () = () + () = () + ()

订正栏

用时 _____ 分 错误 _____ 道 自我评价 ☆☆☆☆☆

周二 10 的认识

kǒu suàn

一、口算。

$8 - 4 =$

$9 - 3 =$

$9 - 2 =$

$2 + 5 =$

$3 + 4 =$

$9 - 5 =$

$8 - 8 =$

$4 + 3 =$

$6 + 2 =$

$9 - 4 =$

$0 + 9 =$

$4 + 4 =$

$5 - 3 =$

$9 - 7 =$

$3 + 1 =$

$6 + 0 =$

$0 + 8 =$

$9 - 8 =$

$0 + 0 =$

$8 - 0 =$

$6 - 1 =$

$3 - 3 =$

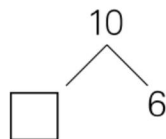
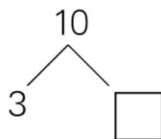
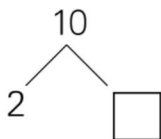
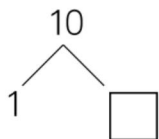
$9 - 1 =$

$3 + 7 =$

zài

lǐ tián shàng hé shì de shù

二、在 里填上合适的数。



订正栏

用时 _____ 分 错误 _____ 道 自我评价☆☆☆☆☆



周三 10 的加减法(1)

kǒu suàn

一、口算。

$7 + 3 =$

$7 + 2 =$

$8 - 4 =$

$2 + 7 =$

$8 - 3 =$

$8 - 5 =$

$10 - 7 =$

$4 + 6 =$

$8 - 2 =$

$9 - 6 =$

$9 - 4 =$

$9 - 0 =$


$5 + 3 =$

$10 - 8 =$

$10 - 5 =$


kàn tú liè shì

二、看图列式。



$(\quad) + (\quad) = (\quad) \quad (\quad) + (\quad) = (\quad)$

$(\quad) - (\quad) = (\quad) \quad (\quad) - (\quad) = (\quad)$



订正栏

用时 _____ 分 错误 _____ 道 自我评价 ☆☆☆☆☆

周四 10 的加减法(2)

kǒu suàn

一、口算。

$10 - 3 =$

$7 + 3 =$

$7 - 3 =$

$6 + 2 =$

$10 - 3 =$

$1 + 6 =$

$7 + 0 =$

$2 + 5 =$

$10 - 4 =$

$3 + 6 =$

$2 + 7 =$

$10 - 9 =$

$8 - 6 =$

$10 - 1 =$

$6 + 3 =$

$5 + 2 =$

$8 - 5 =$

$4 + 3 =$

$4 + 4 =$

$10 - 0 =$

$1 + 9 =$

$0 + 2 =$

$5 + 5 =$

$10 - 10 =$

$1 + 5 =$

$6 + 1 =$

$2 + 8 =$

bǎ

zhè sì gè shù fēn bié tián rù xià miàn de

二、把 7, 8, 9, 10 这四个数分别填入下面的

lǐ shǐ děng shì chéng lì

měi gè shù zhǐ néng yòng yí cì

里, 使等式成立。(每个数只能用一次)

$$\square - \square = \square - \square$$

订正栏

用时____分 错误____道 自我评价☆☆☆☆☆



周五 10 的加减法(3)

$9 - 2 =$

$9 - 4 =$

$3 + 2 =$

$10 - 3 =$

$10 - 0 =$

$4 + 5 =$

$5 - 5 =$

$2 + 7 =$

$6 - 3 =$

$8 + 2 =$

$10 - 9 =$

$7 - 4 =$

$1 + 7 =$

$9 - 7 =$

$8 - 4 =$

$3 + 4 =$

$10 - 1 =$

$2 + 0 =$

$1 + 8 =$

$0 + 5 =$

$0 + 7 =$

$4 - 4 =$

$4 + 0 =$

$1 + 9 =$

$0 + 2 =$

$5 + 4 =$

$10 - 10 =$

$10 - 2 =$

$2 + 7 =$

$0 + 0 =$

$10 - 4 =$

$4 + 6 =$

$1 + 2 =$

$8 - 8 =$

$10 - 5 =$

$9 - 5 =$

订正栏

用时 _____ 分 错误 _____ 道 自我评价 ☆☆☆☆☆

周末 综合练习

zài kuò hào lǐ tián shàng zhèng què de shù

一、在括号里填上正确的数。

- | | | |
|--------------------|--------------------|--------------------|
| $(\quad) - 2 = 4$ | $(\quad) - 2 = 8$ | $(\quad) - 1 = 7$ |
| $(\quad) - 3 = 3$ | $(\quad) - 1 = 8$ | $(\quad) - 2 = 7$ |
| $(\quad) - 3 = 6$ | $(\quad) - 6 = 2$ | $(\quad) - 3 = 0$ |
| $(\quad) - 4 = 3$ | $(\quad) - 6 = 1$ | $(\quad) - 7 = 3$ |
| $(\quad) - 3 = 5$ | $(\quad) - 4 = 6$ | $(\quad) - 5 = 4$ |
| $(\quad) - 5 = 5$ | $(\quad) - 1 = 9$ | $(\quad) - 0 = 10$ |
| $5 + (\quad) = 7$ | $4 + (\quad) = 6$ | $7 + (\quad) = 8$ |
| $2 + (\quad) = 8$ | $2 + (\quad) = 6$ | $6 + (\quad) = 8$ |
| $6 + (\quad) = 7$ | $8 + (\quad) = 10$ | $1 + (\quad) = 7$ |
| $6 + (\quad) = 10$ | $3 + (\quad) = 5$ | $6 + (\quad) = 9$ |
| $3 + (\quad) = 10$ | $4 + (\quad) = 8$ | $2 + (\quad) = 9$ |
| $1 + (\quad) = 10$ | $8 + (\quad) = 9$ | $2 + (\quad) = 5$ |
| $5 + (\quad) = 10$ | $5 + (\quad) = 6$ | $0 + (\quad) = 4$ |
| $4 + (\quad) = 10$ | $5 + (\quad) = 8$ | $4 + (\quad) = 9$ |

二、在 \bigcirc 里填“ $>$ ”“ $<$ ”或“ $=$ ”。

$9 \bigcirc 10$

$7 \bigcirc 5$

$8 \bigcirc 7$



$1 + 6 \bigcirc 7$

$8 + 1 \bigcirc 9$

$5 + 2 \bigcirc 6$

$7 \bigcirc 10 - 4$

$8 \bigcirc 9 - 3$

$3 + 5 \bigcirc 7$

$4 + 6 \bigcirc 10$

$1 + 7 \bigcirc 9$

$5 + 5 \bigcirc 10$

$7 - 7 \bigcirc 1$

$8 - 6 \bigcirc 3 - 1$

$4 + 5 \bigcirc 6 + 3$

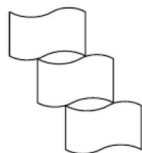
$2 + 7 \bigcirc 10 - 2$

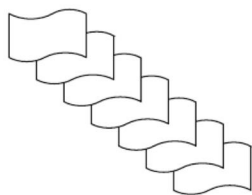
$8 - 8 \bigcirc 9 - 9$

$5 + 0 \bigcirc 0 + 5$

kàn tú liè shì

三、看图列式。





jiē lì sài

四、接力赛。

$7 \xrightarrow{+3} \square \xrightarrow{-4} \square \xrightarrow{+3} \square \xrightarrow{+1} \square \xrightarrow{-10} \square$

$2 \xrightarrow{+8} \square \xrightarrow{-6} \square \xrightarrow{+1} \square \xrightarrow{+3} \square \xrightarrow{-6} \square$

订正栏

用时 _____ 分 错误 _____ 道 自我评价 ☆☆☆☆☆

周一 连加 连减(1)



微信扫码

您立即获得的权益主要有:

☆ 本书配套资料包

(例如: 配套教案、真题汇编)

☆ 配套线上网课+学习工具

$3 - 3 =$

$3 + 5 =$

$6 - 2 =$

$7 - 5 =$

$5 + 1 =$

$5 - 5 =$

$6 + 1 =$

$5 + 2 =$

$3 - 1 =$

$6 - 3 =$

$3 - 2 =$

$7 - 7 =$

$2 - 0 =$

$9 - 2 =$

$2 + 2 =$

$1 + 7 =$

$4 - 3 =$

$2 + 7 =$

$10 - 1 - 2 =$

$5 + 3 + 1 =$

$3 + 2 + 4 =$

$4 + 1 + 5 =$

$5 + 0 + 3 =$

$10 - 2 - 7 =$

$4 + 1 + 4 =$

$10 - 4 - 4 =$

$6 - 3 - 3 =$

$10 - 2 - 3 =$

$7 + 2 + 1 =$

$5 + 1 + 2 =$

$3 + 1 + 2 =$

$5 + 2 + 3 =$

$8 - 3 - 2 =$

$7 - 4 - 0 =$

$9 - 3 - 2 =$

$6 - 4 - 0 =$

订正栏

用时____分 错误____道 自我评价☆☆☆☆☆



周二 连加 连减(2)

$5 - 1 - 0 =$

$2 + 3 + 1 =$

$5 + 4 + 0 =$

$1 + 6 + 2 =$

$3 + 2 + 0 =$

$2 + 1 + 4 =$

$3 + 2 + 4 =$

$10 - 5 - 3 =$

$10 - 1 - 7 =$

$6 + 1 + 2 =$

$8 - 1 - 2 =$

$9 - 6 - 2 =$

$10 - 1 - 2 =$

$5 + 3 + 1 =$

$4 + 2 + 3 =$

$4 + 1 + 5 =$

$5 + 0 + 3 =$

$10 - 2 - 7 =$

$4 + 1 + 4 =$

$10 - 4 - 4 =$

$6 - 3 - 3 =$

$10 - 2 - 3 =$

$7 + 2 + 1 =$

$5 + 1 + 2 =$

$3 + 1 + 2 =$

$5 + 2 + 3 =$

$8 - 3 - 2 =$

$7 - 4 - 0 =$

$9 - 3 - 2 =$

$6 - 4 - 0 =$

$10 - 8 - 2 =$

$5 + 0 + 1 =$

$2 + 2 + 4 =$

$3 + 3 + 4 =$

$2 + 0 + 3 =$

$10 - 3 - 5 =$

订正栏

用时 _____ 分 错误 _____ 道 自我评价 ☆☆☆☆☆

周三 加减混合(1)

$5 + 1 - 2 =$

$3 + 3 + 2 =$

$5 + 4 - 3 =$

$1 + 6 - 2 =$

$3 - 2 + 0 =$

$2 - 1 + 4 =$

$3 + 2 - 4 =$

$10 - 5 + 3 =$

$10 - 9 + 7 =$

$6 - 1 + 2 =$

$8 + 1 - 2 =$

$9 - 6 + 2 =$

$10 - 2 - 2 =$

$5 + 3 - 1 =$

$3 - 2 + 4 =$

$4 + 1 - 5 =$

$5 + 5 - 3 =$

$10 - 9 + 3 =$

$4 + 1 - 4 =$

$10 - 4 + 4 =$

$6 + 3 - 3 =$

$10 - 7 - 3 =$

$7 - 2 + 1 =$

$5 + 1 - 2 =$

$3 - 1 + 2 =$

$5 + 2 - 3 =$

$9 - 3 + 2 =$

$7 - 4 + 5 =$

$9 - 2 - 3 =$

$6 - 4 + 2 =$

$10 - 0 - 2 =$

$5 + 5 - 7 =$

$2 + 2 - 4 =$

$3 - 3 + 4 =$

$2 + 5 + 3 =$

$10 - 3 - 5 =$

订正栏

用时____分 错误____道 自我评价☆☆☆☆☆



周四 加减混合(2)

$6 - 2 + 5 =$

$9 - 1 + 2 =$

$6 - 2 + 4 =$

$9 - 2 - 7 =$

$10 - 4 + 2 =$

$5 - 0 + 4 =$

$8 + 1 - 3 =$

$7 - 2 + 4 =$

$1 + 3 + 4 =$

$9 - 1 - 4 =$

$1 + 7 - 3 =$

$6 - 3 + 4 =$

$5 + 5 - 7 =$

$8 - 2 + 3 =$

$3 + 6 + 1 =$

$2 + 8 - 2 =$

$6 - 2 + 5 =$

$3 + 4 - 2 =$

$9 - 7 + 5 =$

$5 + 5 - 5 =$

$8 - 5 - 1 =$

$2 + 4 + 3 =$

$7 - 5 + 0 =$

$4 + 6 - 1 =$

$6 + 2 - 5 =$

$9 - 1 - 2 =$

$6 + 2 - 4 =$

$9 - 2 - 6 =$

$10 - 5 + 2 =$

$5 - 3 + 4 =$

$8 + 2 - 3 =$

$6 - 2 + 4 =$

$1 + 3 - 4 =$

$9 + 1 - 4 =$

$3 + 7 - 3 =$

$6 - 3 + 6 =$

订正栏

用时 _____ 分 错误 _____ 道 自我评价 ☆☆☆☆☆

周五 整理和复习

$2+5=$

$3+5=$

$3+3+4=$

$8-7=$

$10-3=$

$8-6+2=$

$2-2=$

$8-2=$

$2-1+4=$

$3+6=$

$9-8=$

$5+0+4=$

$5+4=$

$10-5=$

$3+2+4=$

$4+6=$

$10+0=$

$2+0+8=$

$6+1=$

$0+9=$

$6+3+0=$

$5+0=$

$10-10=$

$2+1+5=$

$8-4=$

$9-6=$

$3+2+3=$

$5+3=$

$7+1=$

$8-1-4=$

$10-2-2=$

$5+3-1=$

$3-2+4=$

$4+1-1=$

$10-4+4=$

$6+3-3=$

订正栏

用时____分 错误____道 自我评价☆☆☆☆☆



周末 综合练习

kǒu suàn

一、口算。

$6+3=$

$8-5+6=$

$6+4-8=$

$8-4=$

$4+6-10=$

$10-8+8=$

$3+7=$

$8+0-6=$

$9-6-3=$

$3+2=$

$6+4-10=$

$10-4-4=$

$9+1=$

$7+2-6=$

$4+4-1=$

$5+5=$

$2+8-4=$

$10-9+5=$

$9-4=$

$1+9-6=$

$8-7+6=$

$7-1=$

$10-7+7=$

$7+2-4=$

$5+4=$

$8-4+2=$

$6+3-2=$

$7-3=$

$9-3-4=$

$4+5-3=$

$9-1=$

$7+2-4=$

$4-4+1=$

$5-5=$

$2+8-9=$

$10-8+5=$

$4+5=$

$1+9-2=$

$10-9+6=$

$7+1=$

$10-7+3=$

$2+2-4=$

$5-4=$

$8-4-2=$

$6-3+2=$



二、在 \bigcirc 里填 “ $>$ ” “ $<$ ” 或 “ $=$ ”。

$7+2 \bigcirc 10-1 \quad 2+8 \bigcirc 9+1 \quad 5+5 \bigcirc 6+4$

$8+2 \bigcirc 9-2 \quad 6+4 \bigcirc 9-2 \quad 3+7 \bigcirc 4+5$

$7+2-5 \bigcirc 10-3 \quad 2+8-6 \bigcirc 8+1 \quad 5+4-2 \bigcirc 6+2$

$9-2 \bigcirc 4+1+4 \quad 1+2+7 \bigcirc 10+0 \quad 7+1+2 \bigcirc 10-4$

$6+3-2 \bigcirc 5+3 \quad 9-8+7 \bigcirc 1+5 \quad 8+0-6 \bigcirc 5-3$

三、算一算，填一填。

$7 \xrightarrow{-4} \square \xrightarrow{+2} \square \xrightarrow{-5} \square \xrightarrow{+3} \square$

$10 \xrightarrow{-8} \square \xrightarrow{-2} \square \xrightarrow{+7} \square \xrightarrow{-6} \square$

$9 \xrightarrow{-5} \square \xrightarrow{+4} \square \xrightarrow{+2} \square \xrightarrow{-7} \square$

$4 \xrightarrow{-3} \square \xrightarrow{+8} \square \xrightarrow{-7} \square \xrightarrow{+5} \square$

订正栏

用时 _____ 分 错误 _____ 道 自我评价 ☆☆☆☆☆



周一 期中复习(1)



微信扫码

您立即获得的权益主要有:

☆ 本书配套资料包

(例如: 配套教案、真题汇编)

☆ 配套线上网课+学习工具

$1 + 1 =$

$5 - 4 =$

$2 + 1 =$

$2 + 2 =$

$4 - 2 =$

$1 + 2 =$

$5 - 1 =$

$1 + 3 =$

$5 - 3 =$

$3 + 1 =$

$3 - 1 =$

$4 - 3 =$

$2 + 3 =$

$3 - 2 =$

$4 + 1 =$

$2 - 1 =$

$5 - 2 =$

$1 + 4 =$

$6 - 1 =$

$7 - 2 =$

$6 - 3 =$

$2 + 4 =$

$6 + 1 =$

$3 + 4 =$

$6 - 2 =$

$7 - 6 =$

$7 - 4 =$

$4 + 3 =$

$1 + 6 =$

$4 + 2 =$

$6 - 4 =$

$7 - 1 =$

$7 - 3 =$

$3 + 3 =$

$2 + 5 =$

$5 + 1 =$

订正栏

用时 _____ 分 错误 _____ 道 自我评价 ☆☆☆☆☆

周二 期中复习(2)

$3 - 2 =$

$4 + 1 =$

$7 - 2 =$

$1 + 5 =$

$4 + 3 =$

$6 - 6 =$

$7 - 5 =$

$6 + 1 =$

$7 - 7 =$

$9 - 9 =$

$7 - 4 =$

$9 - 6 =$

$8 - 4 =$

$9 - 3 =$

$9 - 2 =$

$2 + 5 =$

$3 + 4 =$

$9 - 5 =$

$8 - 8 =$

$0 + 3 =$

$6 + 2 =$

$9 - 4 =$

$0 + 9 =$

$4 + 4 =$

$9 + 1 - 1 =$

$10 - 6 + 4 =$

$6 + 3 - 3 =$

$10 - 7 + 3 =$

$7 - 2 + 1 =$

$5 + 1 - 2 =$

$3 + 1 + 2 =$

$5 + 2 - 3 =$

$9 - 3 + 2 =$

$7 - 4 + 3 =$

$10 - 2 - 3 =$

$8 - 4 + 2 =$

订正栏

用时____分 错误____道 自我评价☆☆☆☆☆



周三 期中复习(3)

$6 - 2 + 1 =$

$8 + 1 - 1 =$

$2 + 1 - 2 =$

$1 + 8 + 1 =$

$5 + 1 + 2 =$

$4 - 1 - 1 =$

$2 + 5 + 1 =$

$3 - 2 - 1 =$

$6 + 3 + 0 =$

$5 + 4 + 0 =$

$4 + 3 - 1 =$

$8 - 0 + 1 =$

$6 - 5 + 1 =$

$7 - 4 - 0 =$

$6 + 2 + 1 =$

$9 - 7 - 1 =$

$9 - 2 - 3 =$

$7 - 2 - 1 =$

$3 + 5 + 1 =$

$10 - 4 - 4 =$

$8 + 1 - 2 =$

$1 + 4 + 2 =$

$5 + 1 - 4 =$

$2 - 2 - 0 =$

$1 + 2 + 1 =$

$5 + 4 + 1 =$

$10 - 2 - 4 =$

$2 + 2 + 5 =$

$10 - 5 + 4 =$

$2 + 3 + 4 =$

$1 + 8 - 4 =$

$10 - 5 - 2 =$

$9 - 2 - 7 =$

$8 - 5 + 1 =$

$9 - 3 + 3 =$

$8 - 5 + 5 =$

订正栏

用时 _____ 分 错误 _____ 道 自我评价 ☆☆☆☆☆

周四 期中复习(4)

$10 - 9 + 1 =$

$8 - 2 + 1 =$

$5 - 0 + 4 =$

$3 + 1 - 0 =$

$3 + 3 - 3 =$

$6 - 2 - 1 =$

$9 + 0 + 1 =$

$9 + 1 - 4 =$

$10 - 6 - 3 =$

$4 + 6 - 3 =$

$10 - 2 - 2 =$

$7 - 1 + 2 =$

$6 + 3 - 7 =$

$2 - 0 + 4 =$

$7 - 7 + 2 =$

$3 - 1 + 4 =$

$7 - 4 + 6 =$

$6 + 1 - 7 =$

$6 + 2 - 0 =$

$8 + 0 + 1 =$

$4 + 0 + 2 =$

$1 - 0 + 6 =$

$2 + 8 - 2 =$

$5 + 3 - 2 =$

$8 + 2 + 0 =$

$3 - 1 + 8 =$

$10 - 9 + 8 =$

$9 - 0 - 1 =$

$9 - 1 + 2 =$

$10 - 8 + 3 =$

$4 + 6 - 10 =$

$10 - 6 - 2 =$

$7 + 1 + 2 =$

$7 + 3 - 7 =$

$2 + 0 + 5 =$

$10 - 10 + 9 =$

订正栏

用时____分 错误____道 自我评价☆☆☆☆☆



周五 期中复习(5)

$7 - 0 + 2 =$

$1 + 2 + 5 =$

$4 + 1 - 5 =$

$8 - 3 + 2 =$

$3 + 4 + 1 =$

$3 + 2 + 3 =$

$5 + 3 - 4 =$

$8 - 5 + 3 =$

$3 - 3 + 5 =$

$7 - 5 - 1 =$

$3 + 1 + 2 =$

$4 + 6 - 7 =$

$1 + 0 + 4 =$

$3 + 0 - 2 =$

$5 + 3 - 1 =$

$9 - 3 + 2 =$

$8 - 6 + 4 =$

$7 - 4 + 2 =$

$9 - 8 + 7 =$

$2 + 8 - 6 =$

$9 - 4 - 5 =$

$3 + 5 - 6 =$

$5 - 3 + 6 =$

$2 + 3 + 5 =$

$10 - 8 + 1 =$

$6 + 1 + 3 =$

$1 + 7 - 2 =$

$9 - 8 + 6 =$

$7 + 2 - 9 =$

$8 - 4 - 3 =$

$4 + 5 - 6 =$

$3 + 2 - 4 =$

$9 - 8 + 1 =$

$9 - 3 - 2 =$

$7 - 7 + 3 =$

$1 + 5 + 1 =$

订正栏

用时 _____ 分 错误 _____ 道 自我评价 ☆☆☆☆☆

周末 综合练习

kǒu suàn

一、口算。

$2 + 1 + 7 =$

$9 - 4 + 5 =$

$4 + 3 - 3 =$

$1 + 2 - 3 =$

$4 - 3 + 2 =$

$5 + 4 - 7 =$

$10 - 3 - 4 =$

$10 - 2 - 6 =$

$8 + 2 - 1 =$

$1 + 6 + 2 =$

$9 - 4 + 1 =$

$2 + 4 + 3 =$

$8 - 4 + 6 =$

$8 + 2 - 10 =$

$8 - 8 + 5 =$

$8 - 2 - 4 =$

$7 - 1 + 3 =$

$7 - 4 - 3 =$

$6 - 4 - 1 =$

$6 + 3 - 5 =$

$10 - 3 - 5 =$

$9 - 5 - 3 =$

$2 + 2 + 2 =$

$3 - 2 + 1 =$

$2 - 1 + 1 =$

$6 + 1 + 1 =$

$9 - 6 + 5 =$

$9 - 5 - 2 =$

$2 + 3 + 5 =$

$1 + 2 + 3 =$

$4 + 5 - 3 =$

$7 - 6 + 6 =$

$5 + 4 + 1 =$

$3 - 2 + 5 =$

$5 + 3 - 2 =$

$1 + 4 - 5 =$

zài kuò hào lǐ tián shàng zhèng què de shù

二、在括号里填上正确的数。

$5 + 5 - (\quad) = 3 \quad 8 - 2 + (\quad) = 9 \quad 3 + 6 + (\quad) = 10$



$2+8-(\quad)=8 \quad 6-2+(\quad)=9 \quad 3+4-(\quad)=5$

$9-7+(\quad)=7 \quad 5+5-(\quad)=5 \quad 8-5-(\quad)=2$

$2+4+(\quad)=9 \quad 7-5+(\quad)=2 \quad 4+6-(\quad)=9$

$6+2-(\quad)=3 \quad 9-1-(\quad)=6 \quad 6+2-(\quad)=4$

$9-2-(\quad)=1 \quad 10-5+(\quad)=7 \quad 5-3+(\quad)=6$

$8+2-(\quad)=7 \quad 6-2+(\quad)=8 \quad 1+3-(\quad)=0$

$9+1-(\quad)=6 \quad 3+7-(\quad)=7 \quad 6-3+(\quad)=9$

kuò hào lǐ zuì dà néng tián jǐ

三、括号里最大能填几？

$5+(\quad)<7 \quad 4+(\quad)<10 \quad 3+(\quad)<8$

$6-(\quad)>2 \quad 10-(\quad)>5 \quad 9-(\quad)>1$

$4+(\quad)<10 \quad 5+(\quad)<4+5 \quad 2+(\quad)<10-1$

$9-(\quad)>2+4 \quad 9-(\quad)>10-2 \quad 7-(\quad)>9-8$

$3+(\quad)<4+4 \quad 4+(\quad)<8-1 \quad 5+(\quad)<2+8$

订正栏

用时____分 错误____道 自我评价☆☆☆☆☆

周一 11~20 各数的认识(1)



微信扫码

您立即获得的权益主要有:

☆ 本书配套资料包

(例如: 配套教案、真题汇编)

☆ 配套线上网课及学习工具

zhǎo guī lǜ tián shù

一、找规律填数。

1. 8, 9, _____, 11, _____, _____, 14。

2. 19, _____, _____, 16, _____, _____, 13。

3. 3, _____, 9, 12, _____, 18。

4. _____, 17, 15, _____, _____, 9, 7。

kàn tú tián shù

二、看图填数。



两个两个地数, 一共有_____组。



五个五个地数, 一共有_____组。

订正栏

用时_____分 错误_____道 自我评价☆☆☆☆☆



周二 11~20 各数的认识(2)

kǒu suàn

一、口算。

$3 + 4 + 2 =$

$3 + 3 - 3 =$

$2 + 2 + 6 =$

$3 + 5 + 1 =$

$9 - 3 - 4 =$

$1 + 3 + 4 =$

$7 + 2 + 1 =$

$6 + 3 + 1 =$

$9 - 6 + 5 =$

$9 - 5 - 2 =$

$9 - 3 + 2 =$

$2 - 1 + 1 =$

$4 + 2 - 3 =$

$4 + 5 + 1 =$

$2 + 2 - 1 =$

$10 - 5 - 2 =$

$10 - 3 + 2 =$

$10 - 9 + 1 =$

$10 - 2 - 3 =$

$0 + 10 - 2 =$

$10 - 8 + 1 =$

zài kuò hào lǐ tián shàng shì dàng de shù

二、在括号里填上适当的数。

$8 - () = 2 \quad () + 4 = 10 \quad () - 5 = 5$

$() - 6 = 4 \quad 1 + () = 10 \quad 10 - () = 3$

$7 + () = 3 + 4 \quad 10 = () + 6 \quad 10 - 7 = () - 4$

订正栏

用时 _____ 分 错误 _____ 道 自我评价 ☆☆☆☆☆

周三 10 加几及相应的减法(1)

kǒu suàn

一、口算。

$2 + 2 + 6 =$

$2 + 5 - 2 =$

$5 - 4 + 4 =$

$6 + 1 + 2 =$

$3 - 0 + 7 =$

$7 + 3 + 0 =$

$6 - 4 + 6 =$

$5 - 3 + 6 =$

$10 - 9 - 1 =$

$7 - 5 + 2 =$

$9 - 5 + 4 =$

$9 - 6 + 7 =$

$2 - 2 + 0 =$

$1 + 9 - 10 =$

$6 - 4 - 2 =$

$1 + 1 + 3 =$

$9 + 0 - 3 =$

$8 - 2 - 3 =$

$9 + 1 + 0 =$

$10 - 7 + 6 =$

$10 - 5 + 2 =$

$9 - 9 + 10 =$

$8 - 7 + 9 =$

$4 + 6 - 10 =$

àn shùn xù tián shù

二、按顺序填数。

6				10		
---	--	--	--	----	--	--

14		16				20
----	--	----	--	--	--	----

订正栏

用时____分 错误____道 自我评价☆☆☆☆☆



周四 10 加几及相应的减法(2)

kǒu suàn

一、口算。

$10 + 9 =$

$1 + 10 =$

$9 - 5 =$

$8 - 3 =$

$9 - 3 =$

$8 - 5 =$

$5 + 4 =$

$2 + 3 =$

$8 + 0 =$

$10 + 6 =$

$9 - 4 =$

$10 + 10 =$

$2 + 2 + 6 =$

$2 + 5 - 2 =$

$5 - 4 + 4 =$

$6 + 1 + 2 =$

$3 - 0 + 7 =$

$7 + 3 + 0 =$

$6 - 4 + 6 =$

$5 - 3 + 6 =$

$10 - 9 - 1 =$

tián kòng

二、填空。

$10 + (\quad) = 14 \quad (\quad) + 10 = 16 \quad (\quad) + 10 = 17$

$(\quad) + 10 = 12 \quad 10 + (\quad) = 15 \quad (\quad) + 10 = 11$

$10 + (\quad) = 18 \quad (\quad) + 10 = 20 \quad (\quad) + 3 = 13$

订正栏

用时 _____ 分 错误 _____ 道 自我评价 ☆☆☆☆☆

周五 十几加几

$11 + 7 =$

$15 + 3 =$

$12 + 6 =$

$17 + 1 =$

$14 + 4 =$

$11 + 2 =$

$13 + 3 =$

$14 + 5 =$

$12 + 2 =$

$15 + 1 =$

$11 + 1 =$

$13 + 5 =$

$12 + 1 =$

$14 + 3 =$

$15 + 2 =$

$3 + 5 =$

$10 + 5 =$

$6 + 10 =$

$16 + 2 =$

$11 + 3 =$

$11 + 6 =$

$5 + 5 =$

$2 + 7 =$

$5 + 1 =$

$15 + 4 =$

$16 + 3 =$

$13 + 1 =$

$12 + 5 =$

$17 + 2 =$

$19 + 0 =$

$13 + 4 =$

$12 + 4 =$

$12 + 7 =$

$11 + 5 =$

$14 + 2 =$

$16 + 1 =$

订正栏

用时____分 错误____道 自我评价☆☆☆☆☆



周末 综合练习

kǒu suàn

一、口算。

$3 + 3 =$

$9 - 1 =$

$2 + 7 =$

$7 - 6 =$

$1 + 7 =$

$6 + 2 =$

$10 + 9 =$

$1 + 10 =$

$9 - 5 =$

$8 - 3 =$

$9 - 3 =$

$8 - 5 =$

$5 + 4 =$

$2 + 3 =$

$8 + 0 =$

$17 + 1 =$

$14 + 4 =$

$11 + 2 =$

$13 + 3 =$

$14 + 5 =$

$12 + 2 =$

$15 + 1 =$

$11 + 1 =$

$13 + 5 =$

$12 + 1 =$

$14 + 3 =$

$15 + 2 =$

$3 + 2 =$

$7 + 3 =$

$4 + 1 =$

$9 + 0 =$

$4 + 2 =$

$2 + 8 =$

$1 - 0 + 3 =$

$8 - 7 - 0 =$

$5 - 5 + 1 =$

$9 - 7 - 2 =$

$6 - 4 + 1 =$

$7 - 5 - 0 =$

$4 - 2 + 2 =$

$5 - 1 - 4 =$

$9 - 1 - 0 =$

$2 - 0 + 3 =$

$6 - 3 + 6 =$

$4 - 3 - 0 =$



$5 - 3 + 1 =$

$8 + 1 + 0 =$

$9 - 5 - 4 =$

$3 - 1 + 0 =$

$9 - 9 + 8 =$

$2 - 1 + 0 =$

$9 - 1 - 3 =$

$3 - 2 - 0 =$

$9 - 1 - 4 =$

$2 - 0 + 2 =$

$3 - 1 + 8 =$

$6 + 1 + 1 =$

$8 + 0 - 3 =$

$8 - 7 + 1 =$

$7 + 2 + 1 =$

qǐng àn yāo qiú gěi xià liè shù zì pái duì

二、请按要求给下列数字排队。

20 5 2 14 12 18 17 13

() > () > () > () > () > () >

() > ()

19 11 2 7 16 15 10 17

() < () < () < () < () < () <

() < ()

xiě chū bǐ dà bǐ xiǎo de shù

三、写出比 14 大、比 19 小的数。

订正栏

用时____分 错误____道 自我评价☆☆☆☆☆



周一 十几减几



微信扫码

您立即获得的权益主要有：

☆ 本书配套资料包

（例如：配套教案、真题汇编）

☆ 配套线上网课 ☆ 学习工具

$14 - 14 =$

$19 - 7 =$

$16 - 6 =$

$18 - 7 =$

$19 - 9 =$

$15 - 4 =$

$14 - 10 =$

$12 - 1 =$

$13 - 2 =$

$14 - 0 =$

$10 - 10 =$

$19 - 3 =$

$19 - 8 =$

$17 - 7 =$

$18 - 5 =$

$17 - 5 =$

$19 - 10 =$

$7 - 4 =$

$9 - 6 =$

$17 - 7 =$

$15 - 10 =$

$19 - 5 =$

$18 - 6 =$

$18 - 10 =$

$11 - 1 =$

$15 - 5 =$

$12 - 1 =$

$15 - 3 =$

$16 - 2 =$

$16 - 5 =$

$17 - 10 =$

$12 - 2 =$

$13 - 10 =$

$14 - 1 =$

$14 - 3 =$

$16 - 6 =$

订正栏

用时 _____ 分 错误 _____ 道 自我评价 ☆☆☆☆☆

周二 解决问题(1)

$9 - 1 - 0 =$

$2 - 0 + 3 =$

$6 - 3 + 6 =$

$4 - 3 - 0 =$

$5 - 3 + 1 =$

$8 + 1 + 0 =$

$9 - 5 - 4 =$

$3 - 1 + 0 =$

$9 - 9 + 8 =$

$2 - 1 + 0 =$

$9 - 1 - 3 =$

$3 - 2 - 0 =$

$2 - 0 + 2 =$

$3 - 1 + 8 =$

$6 + 1 + 1 =$

$8 + 0 - 3 =$

$8 - 7 + 1 =$

$7 + 2 + 1 =$

$3 - 3 + 5 =$

$8 - 6 + 0 =$

$3 - 1 - 0 =$

$6 - 4 + 6 =$

$5 - 3 + 6 =$

$10 - 9 - 1 =$

$7 - 5 + 2 =$

$9 - 5 + 4 =$

$9 - 6 + 7 =$

$2 - 2 + 0 =$

$1 + 9 - 10 =$

$6 - 4 - 2 =$

$1 + 1 + 3 =$

$9 + 0 - 3 =$

$8 - 2 - 3 =$

$9 + 1 + 0 =$

$10 - 7 + 6 =$

$10 - 5 + 2 =$

订正栏

用时____分 错误____道 自我评价☆☆☆☆☆



周三 解决问题(2)

zài kuò hào lǐ tián shàng zhèng què de shù

一、在括号里填上正确的数。

$19 - 4 = (\quad) \quad 12 + 7 = (\quad) \quad 15 + 4 = (\quad)$

$16 - 4 = (\quad) \quad 17 - 5 = (\quad) \quad 15 - 1 = (\quad)$

$18 - (\quad) = 14 \quad 13 - (\quad) = 11 \quad 14 - (\quad) = 12$

$11 + (\quad) = 18 \quad 17 + (\quad) = 18 \quad 10 + (\quad) = 15$

$(\quad) + 1 = 11 \quad (\quad) + 10 = 13 \quad (\quad) + 11 = 19$

$(\quad) + 12 = 14 \quad (\quad) + 12 = 17 \quad (\quad) + 13 = 16$

zài □ lǐ tián shàng zhèng què de shù

二、在□里填上正确的数。

$19 - 5 = \square + 10 \quad 12 + 7 = \square - 1 \quad 14 + 4 = 2 + \square$

$16 - 4 = \square - 1 \quad 17 - 5 = 20 - \square \quad 15 - 1 = \square + 7$

$10 + \square = 12 + 7 \quad 16 + \square = 17 - 1 \quad 9 + \square = 19 - 9$

订正栏

用时 _____ 分 错误 _____ 道 自我评价 ☆☆☆☆☆

周四 认识钟表(1)

zài kuò hào lǐ tián shàng zhèng què de shù

一、在括号里填上正确的数。

$13 + 5 = (\quad) \quad 11 + 8 = (\quad) \quad 10 + 4 = (\quad)$

$19 - 2 = (\quad) \quad 13 - 1 = (\quad) \quad 12 + 3 = (\quad)$

$13 + (\quad) = 17 \quad 14 + (\quad) = 16 \quad 8 + (\quad) = 19$

$18 - (\quad) = 12 \quad 13 - (\quad) = 10 \quad 19 - (\quad) = 14$

$10 + (\quad) = 18 \quad 17 - (\quad) = 11 \quad 10 + (\quad) = 19$

$(\quad) + 12 = 17 \quad (\quad) - 10 = 9 \quad (\quad) + 4 = 14$

$(\quad) + 10 = 11 \quad (\quad) + 3 = 13 \quad (\quad) + 11 = 17$

$(\quad) + 2 = 14 \quad (\quad) + 12 = 16 \quad (\quad) + 13 = 15$

kuò hào lǐ zuì dà néng tián jǐ

二、括号里最大能填几？

$(\quad) + 6 < 13 \quad 7 + (\quad) < 16 \quad (\quad) + 9 < 15$

$17 > (\quad) + 6 \quad 13 > 5 + (\quad) \quad 9 + (\quad) < 18$

订正栏

用时_____分 错误_____道 自我评价☆☆☆☆☆



周五 认识钟表(2)

$7-5=$

$9-5=$

$9-6=$

$2-2=$

$1+9=$

$6-2=$

$1+3=$

$9-3=$

$8-3=$

$9+1=$

$10-7=$

$10-5=$

$8+0-3=$

$8-7+1=$

$7+2+1=$

$3-3+5=$

$8-6+0=$

$3-1-0=$

$6-4+6=$

$5-3+6=$

$10-9-1=$

$7-5+2=$

$9-5+4=$

$9-6+7=$

$2-2+0=$

$1+9-10=$

$6-4-2=$

$1+1+3=$

$9+0-3=$

$8-2-3=$

$9+1+0=$

$10-7+6=$

$10-5+2=$

$4+2+3=$

$9-6-3=$

$8-5-3=$

订正栏

用时 _____ 分 错误 _____ 道 自我评价 ☆☆☆☆☆



周末 综合练习

kǒu suàn

一、口算。

$7 - 5 =$

$16 + 1 =$

$7 - 7 =$

$19 - 9 =$

$7 - 4 =$

$19 - 6 =$

$8 - 4 =$

$9 - 3 =$

$9 - 2 =$

$2 + 5 =$

$13 + 4 =$

$9 - 5 =$

$8 - 8 =$

$0 + 3 =$

$16 + 2 =$

$9 - 4 =$

$0 + 9 =$

$4 + 4 =$

$18 - 3 =$

$9 - 3 =$

$8 - 5 =$

$15 + 4 =$

$12 + 3 =$

$8 + 0 =$

$10 + 6 =$

$9 - 4 =$

$10 + 10 =$

$2 + 2 + 6 =$

$2 + 5 - 2 =$

$5 - 4 + 4 =$

$6 + 1 + 2 =$

$3 - 0 + 7 =$

$7 + 3 + 0 =$

$6 - 4 + 6 =$

$5 - 3 + 6 =$

$10 - 9 - 1 =$

$5 - 5 + 1 =$

$9 - 7 - 2 =$

$6 - 4 + 1 =$

$7 - 5 - 0 =$

$4 - 2 + 2 =$

$5 - 1 - 4 =$

$9 - 1 - 0 =$

$2 - 0 + 3 =$

$6 - 3 + 6 =$



zài lǐ tián huò
二、在 里填 “>” “<” 或 “=”。

$7 + 3 \bigcirc 10$

$10 - 3 \bigcirc 9$

$8 - 5 \bigcirc 6$

$17 - 6 \bigcirc 10$

$19 - 7 \bigcirc 5$

$18 - 10 \bigcirc 7$

$11 + 6 \bigcirc 10 + 4$

$18 + 1 \bigcirc 19 - 1$

$15 + 2 \bigcirc 16 - 3$

$17 - 7 \bigcirc 19 - 9$

$14 + 2 \bigcirc 19 - 3$

$13 + 5 \bigcirc 17 + 1$

$4 + 6 \bigcirc 10 + 10$

$11 + 7 \bigcirc 15 + 2$

$15 - 5 \bigcirc 5 + 10$

$17 - 7 \bigcirc 11 + 1$

$18 - 6 \bigcirc 13 - 1$

$14 + 5 \bigcirc 16 + 3$

$2 + 7 \bigcirc 10 - 2$

$18 - 8 \bigcirc 5 + 4$

$15 + 0 \bigcirc 0 + 15$

jì suàn jiē lóng
三、计算接龙。

$$\boxed{13} \xrightarrow{+6-5} \boxed{} \xrightarrow{+4-8} \boxed{} \xrightarrow{+9-10} \boxed{} \xrightarrow{-7+8} \boxed{} \xrightarrow{-3+12} \boxed{}$$

$$\boxed{6} \xrightarrow{+4+8} \boxed{} \xrightarrow{-10+1} \boxed{} \xrightarrow{+1-6} \boxed{} \xrightarrow{+11-2} \boxed{} \xrightarrow{-2-0} \boxed{}$$

订正栏

用时 _____ 分 错误 _____ 道 自我评价 ☆☆☆☆☆

周一 认识钟表(3)



微信扫码

您立即获得的权益主要有:

☆ 本书配套资料包

(例如: 配套教案、真题汇编)

☆ 配套线上网课 ☆ 学习工具

$12 + 5 =$

$19 - 7 =$

$13 + 2 =$

$10 + 1 =$

$19 - 1 =$

$10 + 3 =$

$19 - 2 =$

$10 + 4 =$

$16 - 5 =$

$10 + 5 =$

$10 + 6 =$

$10 + 10 =$

$12 + 7 =$

$14 + 1 =$

$18 - 2 =$

$14 + 2 =$

$13 - 2 =$

$14 + 3 =$

$16 - 10 =$

$11 + 7 =$

$11 + 8 =$

$13 - 3 =$

$14 + 4 =$

$13 - 10 =$

$18 - 7 =$

$14 + 5 =$

$14 - 2 =$

$16 - 3 =$

$10 + 7 =$

$17 - 6 =$

$10 + 8 =$

$18 - 10 =$

$10 + 9 =$

$16 - 1 =$

$17 - 4 =$

$10 + 2 =$

订正栏

用时____分 错误____道 自我评价☆☆☆☆☆



周二 9 加几

$3 + 2 =$

$9 + 2 =$

$3 + 9 =$

$17 - 3 =$

$12 + 6 =$

$12 + 7 =$

$7 + 1 =$

$8 - 3 =$

$9 + 5 =$

$5 + 9 =$

$5 + 2 =$

$9 - 8 =$

$11 + 2 =$

$19 - 4 =$

$11 + 3 =$

$9 + 6 =$

$7 + 9 =$

$9 - 1 =$

$18 - 3 =$

$13 + 1 =$

$3 + 10 =$

$2 + 8 =$

$9 + 10 =$

$1 + 9 =$

$4 + 5 =$

$8 - 2 =$

$9 + 4 =$

$11 + 5 =$

$17 - 10 =$

$11 + 6 =$

$8 + 9 =$

$7 + 3 =$

$9 + 8 =$

$19 - 5 =$

$13 + 3 =$

$17 - 2 =$

订正栏

用时 _____ 分 错误 _____ 道 自我评价 ☆☆☆☆☆

周三 8、7、6 加几(1)

$3 + 6 =$

$9 + 1 =$

$5 + 7 =$

$6 + 8 =$

$8 + 2 =$

$9 + 9 =$

$10 + 2 =$

$6 + 7 =$

$5 + 5 =$

$2 + 8 =$

$15 - 5 =$

$8 + 5 =$

$10 + 9 =$

$11 - 1 =$

$8 + 3 =$

$13 + 3 =$

$14 + 5 =$

$12 + 2 =$

$15 + 1 =$

$11 + 1 =$

$13 + 5 =$

$12 + 1 =$

$14 + 3 =$

$15 + 2 =$

$4 + 5 =$

$3 + 9 =$

$2 + 6 =$

$17 + 1 =$

$14 + 4 =$

$11 + 2 =$

$5 + 6 =$

$12 + 3 =$

$9 + 7 =$

$3 + 8 =$

$7 + 7 =$

$2 + 7 =$

订正栏

用时____分 错误____道 自我评价☆☆☆☆☆



周四 8、7、6 加几(2)

$9 + 5 =$

$0 + 9 =$

$4 + 7 =$

$7 + 9 =$

$9 + 3 =$

$4 + 4 =$

$4 + 8 =$

$7 + 6 =$

$9 + 2 =$

$4 + 3 =$

$1 + 9 =$

$7 + 10 =$

$4 + 9 =$

$0 + 6 =$

$16 + 2 =$

$13 + 7 =$

$8 + 9 =$

$3 + 5 =$

$7 + 5 =$

$6 + 6 =$

$2 + 9 =$

$8 + 1 =$

$5 + 8 =$

$7 + 3 =$

$5 + 7 =$

$8 + 4 =$

$6 + 5 =$

$6 + 4 =$

$6 + 7 =$

$8 + 3 =$

$15 - 1 =$

$8 + 8 =$

$7 + 7 =$

$4 + 9 =$

$5 + 10 =$

$19 - 9 =$

订正栏

用时 _____ 分 错误 _____ 道 自我评价 ☆☆☆☆☆

周五 8、7、6 加几(3)

$9 + 5 =$

$4 + 11 =$

$8 + 3 =$

$5 + 5 =$

$6 + 5 =$

$6 + 6 =$

$19 - 8 =$

$8 + 2 =$

$5 + 8 =$

$8 + 8 =$

$9 + 4 =$

$7 + 6 =$

$6 + 8 =$

$9 + 7 =$

$8 + 4 =$

$13 - 1 =$

$19 - 9 =$

$8 + 7 =$

$7 + 3 =$

$9 + 6 =$

$10 + 9 =$

$14 - 2 =$

$4 + 9 =$

$16 - 3 =$

$4 + 7 =$

$9 + 8 =$

$3 + 7 =$

$15 - 1 =$

$7 + 10 =$

$7 + 9 =$

$14 - 10 =$

$17 + 3 =$

$18 - 8 =$

$17 - 7 =$

$14 - 4 =$

$9 + 9 =$

订正栏

用时____分 错误____道 自我评价☆☆☆☆☆



周末 综合练习

kǒu suàn

一、口算。

$6 + 5 =$

$8 + 5 =$

$5 + 9 =$

$5 + 7 =$

$6 + 4 =$

$17 - 7 =$

$14 - 3 =$

$11 - 1 =$

$16 - 4 =$

$9 + 5 =$

$4 + 7 =$

$8 + 3 =$

$5 + 5 =$

$6 + 13 =$

$6 + 6 =$

$19 - 8 =$

$8 + 2 =$

$5 + 8 =$

$8 + 8 =$

$9 + 4 =$

$7 + 6 =$

$6 + 8 =$

$9 + 7 =$

$8 + 4 =$

$13 - 1 =$

$9 + 9 =$

$8 + 7 =$

$7 + 3 =$

$9 + 6 =$

$10 + 9 =$

$14 - 2 =$

$4 + 9 =$

$16 - 3 =$

$8 - 6 =$

$12 - 2 =$

$9 + 5 =$

$17 - 3 =$

$7 + 5 =$

$5 + 8 =$

$14 - 10 =$

$9 + 3 =$

$18 - 8 =$

$15 - 4 =$

$19 - 6 =$

$15 + 1 =$



zài kuò hào lǐ tián shàng zhèng què de shù

二、在括号里填上正确的数。

$19 - 5 = (\quad) \quad 10 + 8 = (\quad) \quad 19 - 4 = (\quad)$

$13 + 4 = (\quad) \quad 16 - 5 = (\quad) \quad 15 + 4 = (\quad)$

$11 + (\quad) = 17 \quad 12 + (\quad) = 16 \quad 9 + (\quad) = 19$

$19 - (\quad) = 12 \quad 16 - (\quad) = 10 \quad 17 - (\quad) = 14$

$11 + (\quad) = 18 \quad 16 - (\quad) = 11 \quad 14 + (\quad) = 19$

$(\quad) + 12 = 19 \quad (\quad) - 10 = 7 \quad (\quad) + 4 = 19$

$(\quad) + 2 = 17 \quad (\quad) + 12 = 15 \quad (\quad) + 13 = 17$

jì suàn xiǎo néng shǒu

三、计算小能手。

$9 + 8 = (\quad) - 2 = (\quad) + 4 = 10 + (\quad) = (\quad) + 5$

$18 - 6 = (\quad) - 5 = (\quad) - 3 = 16 - (\quad) = 9 + (\quad)$

$13 + 6 - 5 = 19 - 9 + (\quad) = 4 + 8 + (\quad) = 20 - 10 + (\quad)$

订正栏

用时____分 错误____道 自我评价☆☆☆☆☆



周一 5、4、3、2 加几(1)



微信扫码

您立即获得的权益主要有:

☆ 本书配套资料包

(例如: 配套教案、真题汇编)

☆ 配套线上网课学习工具

$6 + 6 =$

$10 + 4 =$

$10 + 2 =$

$6 + 3 =$

$6 + 7 =$

$7 + 4 =$

$10 + 8 =$

$6 + 1 =$

$6 + 8 =$

$8 + 9 =$

$0 + 9 =$

$6 + 0 =$

$6 + 9 =$

$5 + 6 =$

$7 + 7 =$

$7 + 6 =$

$6 + 10 =$

$5 + 2 =$

$9 + 11 =$

$8 + 6 =$

$6 + 2 =$

$4 + 3 =$

$16 + 2 =$

$8 + 8 =$

$2 + 2 + 6 =$

$2 + 5 - 2 =$

$5 - 4 + 4 =$

$6 + 1 + 2 =$

$3 - 0 + 7 =$

$7 + 3 + 0 =$

$6 - 4 + 6 =$

$5 - 3 + 6 =$

$10 - 9 - 1 =$

$5 - 5 + 1 =$

$9 - 7 - 2 =$

$6 - 4 + 1 =$

订正栏

用时 _____ 分 错误 _____ 道 自我评价 ☆☆☆☆☆

周二 5、4、3、2 加几(2)

$16 - 4 =$

$9 + 4 =$

$6 + 9 =$

$7 + 10 =$

$5 + 6 =$

$8 + 5 =$

$7 + 4 =$

$6 + 6 =$

$6 + 8 =$

$10 + 6 =$

$7 + 7 =$

$15 - 5 =$

$13 - 3 =$

$4 + 9 =$

$4 + 7 =$

$9 + 5 =$

$14 - 4 =$

$8 + 8 =$

$8 + 3 =$

$19 - 6 =$

$10 + 10 =$

$17 - 3 =$

$3 + 10 =$

$17 - 7 =$

$2 + 9 =$

$19 - 7 =$

$8 + 5 =$

$5 + 10 =$

$12 - 0 =$

$9 + 9 =$

$9 + 5 =$

$2 + 10 =$

$13 - 2 =$

$16 - 4 =$

$14 - 2 =$

$2 + 14 =$

订正栏

用时____分 错误____道 自我评价☆☆☆☆☆



周三 解决问题(1)

$19 - 4 =$

$9 + 2 =$

$4 + 10 =$

$19 - 8 =$

$5 + 8 =$

$14 - 4 =$

$4 + 7 =$

$12 - 0 =$

$16 - 2 =$

$13 - 1 =$

$17 - 3 =$

$9 + 5 =$

$19 - 9 =$

$3 + 8 =$

$12 - 2 =$

$12 - 1 =$

$6 + 6 =$

$17 - 5 =$

$8 + 6 =$

$17 - 5 =$

$11 - 11 =$

$7 + 7 =$

$9 + 9 =$

$13 - 2 =$

$11 - 1 =$

$18 - 5 =$

$12 + 2 =$

$14 - 3 =$

$4 + 8 =$

$11 - 0 =$

$12 - 10 =$

$18 - 6 =$

$17 - 7 =$

$3 + 9 =$

$16 - 3 =$

$10 + 6 =$

订正栏

用时 _____ 分 错误 _____ 道 自我评价 ☆☆☆☆☆

周四 解决问题(2)

$7 + 7 =$

$8 + 2 =$

$5 + 9 =$

$8 + 8 =$

$15 - 3 =$

$18 - 5 =$

$9 + 2 =$

$12 - 2 =$

$4 + 8 =$

$19 - 3 =$

$18 - 7 =$

$14 - 2 =$

$15 - 2 =$

$8 + 4 =$

$18 - 6 =$

$4 + 7 =$

$12 + 8 =$

$16 - 2 =$

$13 - 3 =$

$19 - 5 =$

$17 - 4 =$

$19 - 9 =$

$9 + 9 =$

$8 + 8 =$

$5 + 7 =$

$4 + 7 =$

$18 - 10 =$

$7 + 9 =$

$8 + 3 =$

$8 + 5 =$

$7 + 8 =$

$17 - 5 =$

$13 + 7 =$

$14 - 2 =$

$5 + 6 =$

$12 + 8 =$

订正栏

用时____分 错误____道 自我评价☆☆☆☆☆



周五 整理和复习

$10 + 9 =$

$16 - 4 =$

$17 - 3 =$

$14 - 4 =$

$17 - 6 =$

$17 - 7 =$

$6 + 7 =$

$6 + 9 =$

$9 + 4 =$

$19 - 1 =$

$6 + 5 =$

$13 + 5 =$

$18 - 7 =$

$3 + 9 =$

$15 - 4 =$

$18 - 6 =$

$7 + 9 =$

$5 + 8 =$

$17 - 4 =$

$1 + 9 =$

$2 + 9 =$

$3 + 8 =$

$17 - 7 =$

$4 + 9 =$

$2 + 8 =$

$19 - 6 =$

$17 - 2 =$

$19 - 4 =$

$6 + 8 =$

$15 - 3 =$

$15 - 5 =$

$19 - 10 =$

$13 + 5 =$

$16 - 3 =$

$14 - 1 =$

$7 + 10 =$

订正栏

用时 _____ 分 错误 _____ 道 自我评价 ☆☆☆☆☆

周末 综合练习

kǒu suàn

一、口算。

$3 + 8 =$

$8 + 9 =$

$0 + 7 =$

$9 + 2 =$

$5 + 7 =$

$2 + 8 =$

$6 + 7 =$

$4 + 11 =$

$2 + 9 =$

$8 + 5 =$

$1 + 9 =$

$3 + 9 =$

$10 + 4 =$

$12 + 5 =$

$9 + 0 =$

$4 + 9 =$

$6 + 9 =$

$9 + 5 =$

$8 + 8 =$

$10 + 3 =$

$6 + 6 =$

$9 + 6 =$

$4 + 2 =$

$8 + 4 =$

$3 + 10 =$

$5 + 6 =$

$5 + 8 =$

$16 - 5 =$

$19 - 5 =$

$18 - 10 =$

$7 + 7 =$

$4 + 7 =$

$15 - 1 =$

$7 + 8 =$

$15 - 2 =$

$20 - 10 =$

$6 + 6 - 2 =$

$6 + 5 + 5 =$

$7 + 2 + 3 =$

$2 + 4 + 4 =$

$4 + 10 + 4 =$

$6 + 7 - 3 =$

$7 + 6 + 5 =$

$5 + 5 - 4 =$

$3 + 8 - 10 =$



zài kuò hào lǐ tián shàng hé shì de shù

二、在括号里填上合适的数。

$5 + () = 3 + 2$

$14 - 4 = 19 - ()$

$15 + 2 = () + 3$

$9 - 6 = 8 - ()$

$() - 3 = 6 + 7$

$17 - () = 5 + 8$

$9 + 2 = 6 + () = 8 + () = 14 - ()$

jì suàn jiē lóng

三、计算接龙。

$$\boxed{4} \xrightarrow{+14} \boxed{} \xrightarrow{-8} \boxed{} \xrightarrow{+9} \boxed{} \xrightarrow{-5} \boxed{} \xrightarrow{-4} \boxed{}$$

$$\boxed{7} \xrightarrow{+5} \boxed{} \xrightarrow{+6} \boxed{} \xrightarrow{-8} \boxed{} \xrightarrow{+6} \boxed{} \xrightarrow{-10} \boxed{}$$

kuò hào lǐ zuì dà néng tián jǐ

四、括号里最大能填几？

$() + 3 < 15$

$7 + () < 18$

$17 > () - 2$

$14 > 6 + ()$

$() + 13 < 19$

$8 + () < 13$

$12 > () - 5$

$16 > () + 6$

$5 + () < 17$

订正栏

用时 _____ 分 错误 _____ 道 自我评价 ☆☆☆☆☆

周一 复习准备课和位置



微信扫码

您立即获得的权益主要有:

☆ 本书配套资料包

(例如: 配套教案、真题汇编)

☆ 配套线上网课+学习工具

$3 + 2 =$

$9 + 2 =$

$9 - 6 =$

$7 + 1 =$

$8 - 3 =$

$9 + 5 =$

$5 + 8 =$

$5 + 2 =$

$9 - 8 =$

$9 + 6 =$

$8 + 2 =$

$9 - 1 =$

$2 + 8 =$

$9 + 7 =$

$8 + 8 =$

$4 + 5 =$

$8 - 2 =$

$9 + 4 =$

$17 - 5 =$

$7 + 3 =$

$10 - 2 =$

$9 + 8 =$

$8 - 6 =$

$19 - 9 =$

$8 + 5 =$

$6 + 13 =$

$5 + 7 =$

$4 + 7 + 2 =$

$6 + 6 + 3 =$

$9 - 3 - 2 =$

$8 + 8 - 10 =$

$3 + 7 - 4 =$

$2 + 3 + 5 =$

$8 + 0 - 6 =$

$8 + 6 + 4 =$

$9 + 8 - 5 =$

订正栏

用时____分 错误____道 自我评价☆☆☆☆☆



周二 复习认识图形(一)和认识钟表

$13 + 6 =$

$8 + 2 =$

$9 - 5 =$

$8 - 4 =$

$19 - 7 =$

$1 + 8 =$

$9 - 8 =$

$10 - 1 =$

$19 - 9 =$

$6 + 2 =$

$8 - 7 =$

$10 - 5 =$

$18 - 5 =$

$0 + 9 =$

$6 + 4 =$

$7 + 3 =$

$13 + 3 =$

$10 - 8 =$

$10 + 5 =$

$9 + 7 =$

$8 + 11 =$

$13 + 6 =$

$8 + 6 =$

$19 - 5 =$

$8 + 4 =$

$17 - 7 =$

$11 + 8 =$

$19 - 8 =$

$16 - 2 =$

$18 - 3 =$

$16 + 2 =$

$8 + 7 =$

$15 - 5 =$

$16 - 4 =$

$10 + 9 =$

$16 - 10 =$

订正栏

用时 _____ 分 错误 _____ 道 自我评价 ☆☆☆☆☆

周三 复习 1~10 的认识和加减法

$3 + 4 =$

$10 - 1 =$

$3 + 0 =$

$1 + 8 =$

$5 + 5 =$

$0 + 7 =$

$4 - 4 =$

$4 + 0 =$

$1 + 9 =$

$0 + 2 =$

$5 + 4 =$

$10 - 10 =$

$10 - 2 =$

$2 + 7 =$

$0 + 0 =$

$10 - 4 =$

$4 + 6 =$

$1 + 2 =$

$8 - 8 =$

$10 - 5 =$

$9 - 2 =$

$11 + 8 - 9 =$

$15 + 2 - 6 =$

$10 + 7 + 2 =$

$14 - 4 + 5 =$

$14 + 2 - 10 =$

$10 + 9 - 8 =$

$10 + 6 - 6 =$

$15 + 4 - 8 =$

$10 - 10 + 10 =$

$10 - 2 + 9 =$

$12 + 7 - 8 =$

$10 - 6 + 9 =$

$10 + 4 + 4 =$

$16 + 3 - 9 =$

$11 + 6 - 7 =$

订正栏

用时____分 错误____道 自我评价☆☆☆☆☆



周四 复习 11~20 各数的认识

$6-3=$

$3-2=$

$7-7=$

$2-0=$

$9-2=$

$2+2=$

$1+7=$

$4-3=$

$2+7=$

$10-1-2=$

$5+3+1=$

$3+2+4=$

$4+1+5=$

$5+0+3=$

$10-2-7=$

$4+1+4=$

$10-4-4=$

$6-3-3=$

$10-2-3=$

$7+2+1=$

$5+1+2=$

$13-3+8=$

$13+5-8=$

$16-2+5=$

$17-5+4=$

$15+1-6=$

$15-5+3=$

$16+1-7=$

$15+2-4=$

$13-1+5=$

$16-3+6=$

$13-2+8=$

$17-7+8=$

$12-10+5=$

$19-2+1=$

$12+2-4=$

订正栏

用时 _____ 分 错误 _____ 道 自我评价 ☆☆☆☆☆

周五 复习 20 以内的进位加法

$11 + 7 - 8 =$

$16 + 3 - 9 =$

$17 - 3 - 4 =$

$14 - 4 + 9 =$

$17 - 6 + 7 =$

$17 - 7 - 6 =$

$6 + 7 - 2 =$

$9 - 7 + 6 =$

$9 + 4 + 5 =$

$19 + 1 - 10 =$

$6 + 5 + 8 =$

$13 + 5 - 8 =$

$18 - 7 + 8 =$

$3 + 9 + 8 =$

$15 - 4 + 5 =$

$18 - 6 + 3 =$

$9 - 8 + 7 =$

$5 + 8 + 6 =$

$17 - 4 - 3 =$

$1 + 9 + 8 =$

$2 + 9 + 5 =$

$8 - 5 + 3 =$

$17 - 6 + 8 =$

$4 + 9 + 6 =$

$2 + 8 + 10 =$

$19 - 6 + 5 =$

$17 - 6 + 2 =$

$19 - 4 - 4 =$

$5 + 8 - 2 =$

$15 - 3 + 5 =$

$15 - 5 - 8 =$

$19 - 10 + 8 =$

$13 + 5 - 8 =$

$16 - 6 - 3 =$

$14 - 1 - 3 =$

$7 + 10 - 2 =$

订正栏

用时____分 错误____道 自我评价☆☆☆☆☆



周末 综合练习

kǒu suàn

一、口算。

$13 - 2 + 4 =$

$8 + 9 - 10 =$

$10 + 7 - 5 =$

$9 + 2 + 8 =$

$7 - 4 + 5 =$

$12 + 5 - 10 =$

$6 + 7 + 5 =$

$14 + 2 - 5 =$

$9 - 8 + 2 =$

$8 + 5 + 6 =$

$1 + 9 - 3 =$

$9 - 6 + 3 =$

$10 + 4 + 5 =$

$12 + 5 - 6 =$

$9 + 0 + 6 =$

$4 + 9 + 6 =$

$6 + 9 - 3 =$

$9 - 5 + 10 =$

$9 - 8 + 7 =$

$10 - 8 + 3 =$

$6 + 6 + 3 =$

$9 - 8 + 6 =$

$4 + 2 + 9 =$

$8 + 4 + 3 =$

$10 - 6 + 3 =$

$5 + 6 + 7 =$

$8 - 6 + 5 =$

$16 - 5 + 3 =$

$19 - 7 + 5 =$

$18 - 10 - 7 =$

$7 + 7 - 3 =$

$8 - 7 + 4 =$

$15 - 10 + 6 =$

$7 - 6 + 8 =$

$15 - 5 - 2 =$

$20 - 10 - 8 =$

$9 - 7 + 6 =$

$7 - 6 + 9 =$

$8 + 1 + 8 =$

$7 - 6 + 5 =$

$19 - 0 - 7 =$

$8 + 10 - 2 =$

$17 - 6 + 5 =$

$6 + 6 + 6 =$

$4 + 8 - 2 =$



zài kuò hào lǐ tián shàng hé shì de shù

二、在括号里填上合适的数。

$13 + () = 3 + 12$

$19 = () + 3$

$14 + 2 = () + 5$

$8 + 10 = () + 6$

$() + 3 = 10 + 7$

$10 - () - 2 = 0$

$7 + 11 = 6 + () = 8 + () = 19 - ()$

jiē lì sài

三、接力赛。

$$\boxed{5} \xrightarrow{+14} \boxed{} \xrightarrow{-8} \boxed{} \xrightarrow{+5} \boxed{} \xrightarrow{-5} \boxed{} \xrightarrow{+4} \boxed{}$$

$$\boxed{7} \xrightarrow{+9} \boxed{} \xrightarrow{+3} \boxed{} \xrightarrow{-8} \boxed{} \xrightarrow{+6} \boxed{} \xrightarrow{-7} \boxed{}$$

kuò hào lǐ zuì dà néng tián jǐ

四、括号里最大能填几？

$() + 13 < 18$

$7 + () < 19$

$13 > () - 2$

$11 > 6 + ()$

$() + 7 < 19$

$8 + () < 14$

$17 > () - 1$

$18 > () + 6$

$20 > () + 15$

订正栏

用时____分 错误____道 自我评价☆☆☆☆☆



周一 复习 20 以内的加减法(1)



微信扫码

您立即获得的权益主要有:

☆ 本书配套资料包

(例如: 配套教案、真题汇编)

☆ 配套线上网课学习工具

$9 + 4 =$

$12 - 0 =$

$15 - 4 =$

$9 + 10 =$

$6 + 2 =$

$15 - 0 =$

$9 + 9 =$

$19 - 9 =$

$13 - 2 =$

$5 + 8 =$

$9 + 0 =$

$13 + 6 =$

$7 + 9 =$

$8 - 2 =$

$13 - 1 =$

$9 - 8 + 7 =$

$17 - 4 + 3 =$

$15 + 1 - 4 =$

$7 + 10 - 6 =$

$11 + 8 - 9 =$

$15 - 5 - 3 =$

$6 + 3 + 8 =$

$12 + 3 - 5 =$

$15 + 2 - 7 =$

$9 + 4 + 5 =$

$12 - 10 - 2 =$

$15 - 4 + 5 =$

$9 + 10 - 6 =$

$16 + 2 - 8 =$

$15 - 10 + 5 =$

$9 + 9 - 10 =$

$19 - 9 - 9 =$

$13 - 2 + 6 =$

$8 - 6 + 5 =$

$19 + 0 - 3 =$

$13 + 6 - 7 =$

订正栏

用时 _____ 分 错误 _____ 道 自我评价 ☆☆☆☆☆

99

周二 复习 20 以内的加减法(2)

$1 + 5 =$

$4 + 3 =$

$6 - 6 =$

$17 - 5 =$

$6 + 1 =$

$7 - 7 =$

$9 - 9 =$

$17 - 4 =$

$9 - 6 =$

$18 - 4 =$

$19 - 3 =$

$9 - 2 =$

$2 + 5 =$

$3 + 4 =$

$9 - 5 =$

$8 - 8 =$

$10 + 3 =$

$6 + 2 =$

$10 - 8 + 7 =$

$15 + 2 - 6 =$

$10 - 0 - 7 =$

$13 - 2 + 6 =$

$14 + 1 + 4 =$

$17 - 2 - 5 =$

$1 + 5 - 6 =$

$4 + 3 + 8 =$

$16 - 6 - 7 =$

$17 - 5 + 4 =$

$16 + 1 - 5 =$

$17 - 7 - 8 =$

$9 - 9 + 9 =$

$17 - 4 + 5 =$

$19 - 9 - 8 =$

$18 - 7 + 4 =$

$19 - 9 - 3 =$

$19 - 9 - 2 =$

订正栏

用时____分 错误____道 自我评价☆☆☆☆☆

100



周三 复习 20 以内的加减法(3)

$10 + 2 =$

$6 + 7 =$

$5 + 5 =$

$2 + 8 =$

$15 - 5 =$

$8 + 5 =$

$10 + 9 =$

$10 - 1 =$

$9 + 3 =$

$13 + 3 =$

$14 + 5 =$

$12 + 2 =$

$15 + 4 =$

$11 + 1 =$

$13 + 5 =$

$10 + 8 =$

$14 + 3 =$

$15 + 2 =$

$9 - 8 + 6 =$

$8 + 2 + 7 =$

$9 + 9 - 10 =$

$10 + 2 + 6 =$

$6 + 7 + 4 =$

$15 - 5 - 7 =$

$2 + 8 + 9 =$

$15 - 5 - 6 =$

$8 - 6 + 5 =$

$10 + 9 - 7 =$

$10 - 1 - 6 =$

$9 - 4 + 3 =$

$13 + 3 - 5 =$

$14 + 5 - 3 =$

$12 + 2 - 4 =$

$15 + 4 - 9 =$

$11 + 1 + 4 =$

$13 + 5 - 4 =$

订正栏

用时 _____ 分 错误 _____ 道 自我评价 ☆☆☆☆☆

周四 复习 20 以内的加减法(4)

$10 + 5 =$

$9 - 8 =$

$17 - 3 =$

$4 + 2 =$

$9 - 7 =$

$15 + 4 =$

$1 + 9 =$

$4 + 5 =$

$1 + 2 + 3 =$

$9 + 2 =$

$9 - 9 =$

$5 + 4 + 6 =$

$4 + 7 =$

$9 - 4 =$

$10 - 6 - 3 =$

$9 + 6 =$

$9 + 3 =$

$11 + 2 + 3 =$

$6 + 7 + 5 =$

$13 - 3 - 4 =$

$17 + 2 - 6 =$

$9 - 4 + 3 =$

$10 + 9 - 7 =$

$15 + 3 - 7 =$

$10 - 7 + 5 =$

$9 - 8 + 7 =$

$17 - 3 - 4 =$

$4 + 2 + 8 =$

$9 - 7 - 2 =$

$15 + 4 - 8 =$

$1 + 9 + 7 =$

$4 + 5 + 6 =$

$11 - 2 + 3 =$

$9 - 5 + 2 =$

$9 - 9 + 10 =$

$15 + 4 - 6 =$

订正栏

用时____分 错误____道 自我评价☆☆☆☆☆



周五 复习 20 以内的加减法(5)

$8 - 3 =$

$19 - 3 =$

$18 - 5 =$

$15 - 5 =$

$12 + 3 =$

$14 + 2 =$

$8 - 7 =$

$6 + 3 =$

$9 - 2 =$

$14 + 4 =$

$9 - 8 =$

$12 + 6 =$

$3 + 7 =$

$4 + 6 =$

$14 - 2 =$

$19 - 6 =$

$19 - 4 =$

$19 - 10 =$

$13 + 6 - 8 =$

$9 - 5 + 11 =$

$12 + 7 - 8 =$

$18 - 6 + 7 =$

$11 + 2 + 4 =$

$16 + 2 - 6 =$

$8 - 3 - 2 =$

$19 - 3 - 6 =$

$18 - 5 - 3 =$

$15 - 5 - 6 =$

$12 + 3 - 5 =$

$14 + 2 - 6 =$

$8 - 7 - 1 =$

$6 + 3 - 8 =$

$9 - 2 - 6 =$

$14 + 4 - 8 =$

$9 - 8 - 0 =$

$12 + 6 - 8 =$

订正栏

用时 _____ 分 错误 _____ 道 自我评价 ☆☆☆☆☆

周末 综合练习

kǒu suàn

一、口算。

$17 - 5 =$

$10 + 2 =$

$2 + 7 - 6 =$

$15 + 3 =$

$11 + 7 =$

$9 - 2 + 2 =$

$16 + 2 =$

$18 - 4 =$

$6 + 3 - 4 =$

$18 - 8 =$

$13 + 5 =$

$7 + 2 + 5 =$

$12 + 6 =$

$11 + 6 =$

$12 - 10 + 3 =$

$10 + 4 =$

$19 - 7 =$

$8 + 1 + 2 =$

$17 - 5 + 3 =$

$18 - 7 + 2 =$

$12 + 7 - 6 =$

$15 + 3 - 7 =$

$15 + 3 - 4 =$

$19 - 2 + 2 =$

$16 + 2 - 8 =$

$18 - 4 + 3 =$

$16 + 3 - 4 =$

$18 - 4 - 4 =$

$13 + 5 - 6 =$

$17 + 2 - 5 =$

$12 + 6 - 7 =$

$11 + 6 - 5 =$

$12 - 10 + 8 =$

$10 - 5 + 4 =$

$19 - 7 - 2 =$

$17 - 7 + 1 =$

$9 - 8 + 7 =$

$17 - 4 + 3 =$

$16 + 1 - 5 =$

$7 + 10 - 6 =$

$11 + 8 - 9 =$

$15 - 5 - 3 =$

$16 + 3 - 8 =$

$13 + 3 - 6 =$

$14 + 2 - 3 =$



zài kuò hào lǐ tián shàng zhèng què de shù

二、在括号里填上正确的数。

$19 - 3 - () = 12$

$16 - 4 - () = 10$

$11 + 2 + () = 18$

$19 - 8 - () = 11$

$() + 12 + 3 = 19$

$() - 8 = 6 + 4$

$() + 4 + 10 = 19$

$() + 1 + 10 = 13$

$() + 3 + 5 = 18$

$() + 11 = 18 - 5$

jì suàn jiē lóng

三、计算接龙。

$$\boxed{8} \xrightarrow{+11} \boxed{} \xrightarrow{-6} \boxed{} \xrightarrow{-3} \boxed{} \xrightarrow{+5} \boxed{} \xrightarrow{-4} \boxed{}$$

$$\boxed{9} \xrightarrow{+9} \boxed{} \xrightarrow{-3} \boxed{} \xrightarrow{+2} \boxed{} \xrightarrow{-6} \boxed{} \xrightarrow{-10} \boxed{}$$

kuò hào lǐ zuì dà néng tián jǐ

四、括号里最大能填几？

$() + 10 < 18$

$15 + () < 19$

$16 > () - 2$

$16 > 6 + ()$

$() + 7 < 13$

$8 + () < 15$

订正栏

用时 _____ 分 错误 _____ 道 自我评价 ☆☆☆☆☆



周一 复习 20 以内的加减法(6)



微信扫码

您立即获得的权益主要有:

☆ 本书配套资料包

(例如: 配套教案、真题汇编)

☆ 配套线上网课及学习工具

$14 - 10 =$

$6 + 10 =$

$7 + 12 =$

$10 - 7 =$

$10 + 7 =$

$6 + 7 =$

$8 + 3 =$

$9 - 5 =$

$3 + 8 =$

$3 + 6 =$

$7 + 2 =$

$11 + 4 =$

$7 + 10 =$

$6 - 2 =$

$9 - 1 =$

$7 + 9 =$

$9 + 3 =$

$17 + 0 =$

$17 - 1 =$

$18 - 10 =$

$18 - 7 =$

$5 + 13 =$

$6 + 13 =$

$7 + 4 =$

$6 + 6 =$

$8 - 6 =$

$9 - 6 =$

$6 + 7 =$

$9 - 4 =$

$3 + 7 =$

$19 - 9 =$

$18 - 3 =$

$15 - 2 =$

$9 + 5 =$

$6 + 12 =$

$7 + 11 =$

订正栏

用时____分 错误____道 自我评价☆☆☆☆☆



周二 复习 20 以内的加减法(7)

$8 + 8 =$

$4 + 7 =$

$6 + 9 =$

$2 + 10 =$

$19 - 8 =$

$17 - 3 =$

$7 + 7 =$

$11 - 1 =$

$8 + 6 =$

$18 - 8 =$

$14 - 3 =$

$2 + 9 =$

$8 + 4 =$

$12 - 2 =$

$12 - 1 =$

$13 - 3 =$

$7 + 3 =$

$19 - 1 =$

$15 - 3 =$

$18 - 3 =$

$6 + 6 =$

$8 + 7 - 1 =$

$8 - 2 + 1 =$

$14 + 5 - 6 =$

$6 + 7 + 4 =$

$2 + 5 + 8 =$

$3 + 9 + 1 =$

$12 - 2 + 4 =$

$7 + 7 + 5 =$

$8 - 4 + 2 =$

$10 - 5 - 5 =$

$8 + 8 - 4 =$

$17 - 6 + 3 =$

$18 - 5 + 4 =$

$15 - 2 - 3 =$

$10 - 3 - 2 =$

订正栏

用时 _____ 分 错误 _____ 道 自我评价 ☆☆☆☆☆

周三 复习 20 以内的加减法(8)

$8 + 4 =$

$9 + 10 =$

$6 + 7 =$

$16 - 6 =$

$9 + 6 =$

$15 - 2 =$

$9 + 8 =$

$3 + 8 =$

$7 + 4 =$

$8 + 3 =$

$19 - 8 =$

$8 + 6 =$

$3 + 9 =$

$17 - 6 =$

$13 - 3 =$

$8 + 2 =$

$8 + 8 =$

$18 - 7 =$

$9 + 5 =$

$4 + 7 =$

$5 + 8 =$

$17 - 6 + 5 =$

$19 - 7 + 2 =$

$7 - 6 + 9 =$

$9 - 8 + 4 =$

$9 - 8 + 5 =$

$6 + 7 - 3 =$

$16 - 6 - 4 =$

$9 - 7 + 6 =$

$15 - 4 + 2 =$

$9 + 8 - 7 =$

$3 + 8 + 4 =$

$7 + 4 - 10 =$

$8 - 4 + 3 =$

$19 - 8 + 3 =$

$8 - 7 + 6 =$

订正栏

用时____分 错误____道 自我评价☆☆☆☆☆



周四 复习 20 以内的加减法(9)

$8 + 7 =$

$8 + 2 =$

$3 + 7 =$

$5 + 6 =$

$18 - 6 =$

$5 + 8 =$

$4 + 8 =$

$8 + 6 =$

$16 - 6 =$

$17 - 5 =$

$6 + 8 =$

$2 + 8 =$

$19 - 7 =$

$7 + 8 =$

$6 + 6 =$

$9 + 9 =$

$5 + 7 =$

$13 - 3 =$

$12 - 2 =$

$17 - 3 =$

$16 - 4 =$

$15 - 4 + 8 =$

$6 - 5 + 7 =$

$4 - 2 + 7 =$

$8 - 6 + 7 =$

$8 + 2 - 7 =$

$3 + 7 + 7 =$

$5 - 4 + 6 =$

$18 - 8 - 6 =$

$8 - 6 + 5 =$

$4 - 3 + 8 =$

$8 - 5 + 6 =$

$16 - 6 - 2 =$

$17 - 7 - 5 =$

$8 - 7 + 6 =$

$2 + 8 - 4 =$

订正栏

用时 _____ 分 错误 _____ 道 自我评价 ☆☆☆☆☆

周五 复习 20 以内的加减法(10)

$5 + 9 + 5 =$

$6 + 9 + 4 =$

$18 - 8 - 2 =$

$3 + 2 + 5 =$

$3 + 6 + 7 =$

$19 - 6 - 3 =$

$13 + 5 - 7 =$

$7 + 3 + 6 =$

$8 + 3 + 2 =$

$14 + 5 - 4 =$

$2 + 5 + 8 =$

$10 + 7 - 5 =$

$6 - 3 + 5 =$

$10 - 8 + 9 =$

$12 + 5 - 6 =$

$14 + 4 - 8 =$

$17 - 7 - 8 =$

$19 - 6 + 5 =$

$9 - 8 + 7 =$

$7 - 6 + 4 =$

$9 - 3 + 2 =$

$10 + 2 + 6 =$

$12 + 5 - 2 =$

$15 - 4 + 4 =$

$16 - 2 + 1 =$

$7 - 6 + 13 =$

$7 + 3 + 10 =$

$16 - 4 + 3 =$

$15 - 3 + 6 =$

$10 - 9 - 1 =$

$15 - 5 + 1 =$

$19 - 7 - 2 =$

$16 - 4 + 1 =$

$17 - 5 - 0 =$

$14 - 2 + 2 =$

$15 + 4 - 9 =$

订正栏

用时____分 错误____道 自我评价☆☆☆☆☆



周末 综合练习

kǒu suàn

一、口算。

$18 - 3 - 3 =$

$19 - 10 - 8 =$

$7 + 10 + 1 =$

$17 - 1 - 5 =$

$10 + 2 + 7 =$

$18 - 10 - 8 =$

$4 + 6 + 8 =$

$4 + 2 + 10 =$

$18 - 7 - 1 =$

$3 + 6 + 6 =$

$15 - 2 + 5 =$

$9 + 2 + 4 =$

$7 + 6 + 4 =$

$15 - 2 - 2 =$

$6 + 6 + 5 =$

$19 - 6 + 5 =$

$18 - 1 + 2 =$

$19 - 3 - 6 =$

$8 - 3 - 5 =$

$14 - 2 - 2 =$

$6 + 9 - 2 =$

$15 + 2 - 3 =$

$6 - 5 + 9 =$

$19 - 6 + 6 =$

$14 - 3 + 7 =$

$18 - 5 - 3 =$

$19 - 5 + 4 =$

$9 + 9 - 8 =$

$18 - 8 + 6 =$

$8 + 6 + 6 =$

$13 + 3 - 6 =$

$11 + 2 + 5 =$

$9 + 7 + 4 =$

$17 - 6 + 4 =$

$13 + 5 - 2 =$

$16 - 6 + 5 =$

$19 - 10 - 5 =$

$15 - 5 + 2 =$

$17 - 6 + 3 =$

$18 - 7 + 5 =$

$10 - 2 - 8 =$

$6 - 2 + 5 =$

$15 + 2 - 3 =$

$17 - 7 + 5 =$

$10 - 6 + 6 =$



zài lǐ tián shàng zhèng què de shù
二、在 里填上正确的数。

$19 - 5 + 3 = \square + 10$

$12 + 7 - 8 = \square - 1$

$14 + 4 - 5 = 2 + \square$

$16 - 4 - 2 = \square - 8$

$17 - 5 + 3 = 10 + \square$

$13 + 5 - 6 = \square + 7$

$4 + 10 + \square = 12 + 7$

$16 + \square = 17 - 1 + 3$

$3 + 9 + \square = 19 - 4$

$18 - \square = 14 + 2 - 5$

$13 - 3 + \square = 8 + 4$

$14 + 6 - \square = 17 - 7$

jì suàn jiē lóng
三、计算接龙。

$13 \xrightarrow{+4-7} \square \xrightarrow{-8+9} \square \xrightarrow{+6-10} \square \xrightarrow{-5+8} \square \xrightarrow{-4+11} \square$

$18 \xrightarrow{-4+5} \square \xrightarrow{-7+5} \square \xrightarrow{-7+9} \square \xrightarrow{-6+4} \square \xrightarrow{-7+4} \square$

订正栏

用时 _____ 分 错误 _____ 道 自我评价☆☆☆☆☆



周一 期末复习(1)



微信扫码

您立即获得的权益主要有:

☆ 本书配套资料包

(例如: 配套教案、真题汇编)

☆ 配套线上网课+学习工具

$9 - 5 + 4 =$

$12 - 0 + 6 =$

$15 - 4 + 3 =$

$9 + 10 - 8 =$

$6 + 2 - 8 =$

$15 - 10 + 5 =$

$9 + 9 - 9 =$

$19 - 5 + 4 =$

$13 - 2 + 3 =$

$8 - 6 + 5 =$

$9 + 0 - 7 =$

$4 + 6 - 9 =$

$7 + 9 + 3 =$

$18 - 2 + 3 =$

$13 - 10 + 4 =$

$9 + 7 - 6 =$

$17 - 4 + 1 =$

$15 + 4 - 8 =$

$7 + 11 - 6 =$

$12 + 8 - 10 =$

$15 - 5 - 5 =$

$16 + 3 - 8 =$

$13 + 3 - 6 =$

$14 + 2 - 5 =$

$9 + 4 + 3 =$

$12 - 10 - 1 =$

$17 - 4 + 5 =$

$19 - 10 - 6 =$

$6 + 1 + 8 =$

$10 - 9 + 5 =$

$9 + 8 - 10 =$

$19 - 4 - 5 =$

$10 - 5 + 9 =$

$5 + 8 - 3 =$

$17 + 0 - 3 =$

$10 - 7 + 6 =$

订正栏

用时 _____ 分 错误 _____ 道 自我评价 ☆☆☆☆☆

113

周二 期末复习(2)

$11 + 5 =$

$4 + 13 =$

$16 - 6 =$

$7 + 8 =$

$6 + 12 =$

$17 - 7 =$

$19 - 9 =$

$8 + 9 =$

$19 - 6 =$

$18 - 5 =$

$13 - 3 =$

$10 - 2 =$

$2 + 15 =$

$13 + 4 =$

$19 - 5 =$

$18 - 8 =$

$7 + 3 =$

$6 + 12 =$

$11 + 7 - 8 =$

$14 + 2 + 2 =$

$10 - 2 - 7 =$

$3 + 7 + 6 =$

$14 + 5 - 7 =$

$17 - 7 + 5 =$

$11 + 5 - 6 =$

$16 + 3 - 5 =$

$16 - 5 + 7 =$

$16 - 5 + 4 =$

$11 + 7 - 8 =$

$10 - 7 + 8 =$

$19 - 9 - 9 =$

$14 - 4 - 8 =$

$19 - 7 + 6 =$

$15 - 4 + 7 =$

$12 + 3 - 5 =$

$10 - 2 + 9 =$

订正栏

用时____分 错误____道 自我评价☆☆☆☆☆



周三 期末复习(3)

$3 + 6 + 2 =$

$9 + 1 - 10 =$

$5 + 7 - 2 =$

$6 + 8 + 5 =$

$8 + 2 - 9 =$

$9 + 9 - 8 =$

$10 + 2 + 4 =$

$6 + 7 + 5 =$

$5 + 5 - 7 =$

$18 - 10 + 2 =$

$15 - 5 + 7 =$

$8 - 7 + 5 =$

$10 + 9 - 6 =$

$10 - 1 - 7 =$

$9 - 8 + 3 =$

$13 + 3 - 6 =$

$14 + 5 - 9 =$

$12 + 2 - 10 =$

$15 + 4 - 10 =$

$11 + 1 + 4 =$

$13 + 5 - 8 =$

$8 - 7 + 12 =$

$14 + 3 - 7 =$

$15 + 2 - 6 =$

$7 - 6 + 13 =$

$9 + 10 - 8 =$

$10 - 7 + 5 =$

$8 - 5 + 6 =$

$18 - 7 + 2 =$

$9 + 9 - 1 =$

$14 + 2 + 3 =$

$16 - 4 + 7 =$

$5 + 5 - 9 =$

$9 - 8 + 2 =$

$15 - 5 + 6 =$

$8 + 6 - 4 =$

订正栏

用时 _____ 分 错误 _____ 道 自我评价 ☆☆☆☆☆



周四 期末复习(4)

$4 + 6 - 8 =$

$18 - 7 + 8 =$

$15 + 4 - 10 =$

$11 + 9 - 10 =$

$4 + 15 - 9 =$

$11 + 2 + 3 =$

$19 - 2 - 10 =$

$9 - 9 + 9 =$

$15 + 4 - 6 =$

$7 - 6 + 4 =$

$18 - 4 - 4 =$

$18 - 6 + 3 =$

$9 + 6 - 3 =$

$9 + 3 + 6 =$

$1 + 12 + 3 =$

$6 + 7 - 2 =$

$13 - 3 - 9 =$

$17 - 4 + 6 =$

$3 + 9 + 5 =$

$10 + 9 - 7 =$

$15 + 4 - 9 =$

$5 + 5 + 10 =$

$8 - 8 + 7 =$

$17 - 7 - 5 =$

$14 + 2 + 2 =$

$19 - 7 - 2 =$

$15 + 3 - 8 =$

$1 + 9 - 7 =$

$14 + 5 - 6 =$

$11 + 2 + 3 =$

$9 + 6 - 10 =$

$19 - 9 + 10 =$

$12 + 4 - 6 =$

$14 + 5 - 7 =$

$6 - 4 + 8 =$

$17 - 6 + 3 =$

订正栏

用时____分 错误____道 自我评价☆☆☆☆☆



周五 期末复习(5)

$18 - 3 =$

$19 - 8 =$

$9 + 8 =$

$13 + 5 =$

$2 + 8 =$

$4 + 6 =$

$18 - 7 =$

$16 + 3 =$

$11 + 2 =$

$14 - 4 =$

$19 - 8 =$

$13 + 6 =$

$3 + 8 =$

$4 + 6 =$

$15 + 2 =$

$5 + 6 =$

$9 + 4 =$

$11 - 10 =$

$13 + 6 - 8 =$

$7 + 11 - 5 =$

$8 - 7 + 13 =$

$8 + 9 - 6 =$

$11 + 3 - 4 =$

$16 + 3 - 9 =$

$18 - 3 - 2 =$

$19 - 8 + 6 =$

$15 - 5 - 9 =$

$15 + 3 - 6 =$

$12 + 7 - 6 =$

$14 + 5 - 6 =$

$18 - 7 + 3 =$

$16 + 3 - 9 =$

$19 - 2 - 6 =$

$14 - 4 - 9 =$

$9 - 8 - 1 =$

$11 + 6 + 2 =$

订正栏

用时 _____ 分 错误 _____ 道 自我评价 ☆☆☆☆☆

周末 综合练习

kǒu suàn

一、口算。

$10 - 5 =$

$11 + 2 =$

$12 + 7 - 6 =$

$13 + 3 =$

$4 + 7 =$

$15 - 2 + 2 =$

$16 - 2 =$

$17 - 4 =$

$18 - 3 - 4 =$

$19 - 9 =$

$20 - 10 =$

$11 + 2 + 5 =$

$2 + 8 =$

$13 + 6 =$

$14 - 10 + 3 =$

$15 + 4 =$

$6 + 7 =$

$17 - 1 - 2 =$

$18 - 5 + 3 =$

$19 - 1 - 7 =$

$20 - 10 - 6 =$

$11 + 3 + 4 =$

$12 + 3 - 4 =$

$13 - 2 + 2 =$

$14 + 2 - 5 =$

$15 - 4 + 3 =$

$16 + 3 - 4 =$

$17 - 7 - 9 =$

$18 - 5 + 6 =$

$19 - 2 - 5 =$

$11 + 6 - 5 =$

$12 + 5 - 7 =$

$13 - 10 + 8 =$

$14 + 4 - 5 =$

$17 - 7 - 8 =$

$16 + 1 - 6 =$

$17 - 7 - 8 =$

$18 - 4 + 3 =$

$19 - 1 - 8 =$

$7 + 11 - 6 =$

$12 + 2 + 4 =$

$13 - 3 - 5 =$

$14 + 3 - 5 =$

$15 + 3 - 6 =$

$16 + 2 - 7 =$



zài kuò hào lǐ tián shàng zhèng què de shù

二、在括号里填上正确的数。

$16 - 3 - () = 12$

$17 - 4 - () = 10$

$12 + 2 + () = 18$

$19 - 5 - () = 11$

$() + 9 + 3 = 19$

$() - 7 = 6 + 4$

$() + 4 + 8 = 19$

$() + 3 + 6 = 13$

$() + 7 + 5 = 18$

$() + 9 = 18 - 5$

jì suàn jiē lóng

三、计算接龙。

$$\boxed{7} \xrightarrow{+11} \boxed{} \xrightarrow{-6} \boxed{} \xrightarrow{-10} \boxed{} \xrightarrow{+11} \boxed{} \xrightarrow{+4} \boxed{}$$

$$\boxed{8} \xrightarrow{+9} \boxed{} \xrightarrow{-3} \boxed{} \xrightarrow{-10} \boxed{} \xrightarrow{+6} \boxed{} \xrightarrow{+2} \boxed{}$$

kuò hào lǐ zuì dà néng tián jǐ

四、括号里最大能填几？

$() + 9 < 18 \quad 11 + () < 19 \quad 13 > () - 2$

$15 > 6 + () \quad () + 7 < 17 \quad 8 + () < 16$

订正栏

用时 _____ 分 错误 _____ 道 自我评价 ☆☆☆☆☆



期末检测(一)

kǒu suàn

一、口算。(36分)

$4 + 5 =$

$8 + 6 =$

$10 - 8 =$

$15 - 5 =$

$2 - 2 =$

$6 + 5 =$

$6 + 9 =$

$14 - 3 =$

$8 + 7 =$

$19 - 9 =$

$3 + 6 =$

$9 + 9 =$

$10 + 4 =$

$8 + 10 =$

$7 + 12 =$

$0 + 14 =$

$10 + 3 =$

$14 + 5 =$

$5 + 9 =$

$8 + 9 =$

$5 + 5 =$

$18 - 4 =$

$7 + 7 =$

$10 + 1 =$

$17 - 4 - 3 =$

$9 - 5 + 4 =$

$9 + 4 - 10 =$

$10 - 2 + 6 =$

$10 - 7 + 6 =$

$9 + 3 + 5 =$

$8 - 7 + 5 =$

$10 - 8 - 2 =$

$15 - 4 + 2 =$

$19 - 5 + 1 =$

$7 + 6 + 5 =$

$7 + 7 - 10 =$

zài kuò hào lǐ tián shàng shì dàng de shù

二、在括号里填上适当的数。(32分)

$(\quad) + 3 = 13$

$(\quad) - 8 = 10$



$6 + () = 14$

$9 + () = 18$

$8 - () = 2$

$() + 4 = 18$

$() - 5 = 5$

$18 = () + 6$

$7 + () = 3 + 4$

$5 + 5 = () - 6$

$() + 7 = 9 + 8$

$9 + 7 = 8 + () = 10 + ()$

$10 - () - 2 = 2$

$9 + 5 = 7 + () = 8 + ()$

jì suàn jiē lóng

三、计算接龙。(20分)

$$\boxed{3} \xrightarrow{+15} \boxed{} \xrightarrow{-8} \boxed{} \xrightarrow{+7} \boxed{} \xrightarrow{-6} \boxed{} \xrightarrow{+4} \boxed{}$$

$$\boxed{10} \xrightarrow{-5} \boxed{} \xrightarrow{+3} \boxed{} \xrightarrow{+7} \boxed{} \xrightarrow{-10} \boxed{} \xrightarrow{+9} \boxed{}$$

zài

lǐ tián shàng

huò

四、在○里填上“+”或“-”。(12分)

$13 > 8 \bigcirc 5$

$6 \bigcirc 4 > 9$

$8 \bigcirc 8 < 16$

$15 \bigcirc 5 = 12 \bigcirc 8$

$4 \bigcirc 5 = 9$

$9 \bigcirc 6 = 13 \bigcirc 2$

订正栏

用时 _____ 分 错误 _____ 道 自我评价 ☆☆☆☆☆

期末检测(二)

kǒu suàn

一、口算。(36分)

$14 + 5 =$

$18 - 6 =$

$16 - 5 =$

$16 - 6 =$

$12 - 2 =$

$8 - 7 =$

$19 - 9 =$

$14 + 5 =$

$9 + 9 =$

$12 + 4 =$

$3 + 6 =$

$7 + 3 =$

$0 + 15 =$

$18 + 1 =$

$15 - 5 =$

$5 + 6 =$

$8 + 8 =$

$5 + 10 =$

$18 - 10 =$

$17 - 7 =$

$19 - 1 =$

$17 - 4 + 3 =$

$19 - 5 + 4 =$

$7 + 4 - 10 =$

$10 - 4 + 6 =$

$12 + 6 - 7 =$

$4 + 3 + 5 =$

$5 + 8 - 2 =$

$15 - 5 - 10 =$

$13 + 4 + 2 =$

$15 - 5 + 1 =$

$7 - 6 + 5 =$

$7 + 7 + 3 =$

$16 + 3 - 8 =$

$17 - 10 + 8 =$

$18 - 6 + 5 =$

zài kuò hào lǐ tián shàng shì dàng de shù

二、在括号里填上适当的数。(32分)

$(\quad) + 3 = 15 - 3$

$(\quad) + 8 = 10 + 4$



$6 + () = 14 - 2$

$9 + () = 8 + 7$

$18 - () = 12$

$() + 14 = 18$

$() + 5 = 8$

$5 + () = 15$

$7 + () = 3 + 14$

$19 = () + 6$

$8 + () = 17$

$7 + 7 = 8 + () = 17 - ()$

$10 - () - 4 = 2$

$9 + 8 = 7 + () = 6 + ()$

jì suàn jiē lóng

三、计算接龙。(20分)

$$\boxed{5} \xrightarrow{+14} \boxed{} \xrightarrow{-8} \boxed{} \xrightarrow{+7} \boxed{} \xrightarrow{-6} \boxed{} \xrightarrow{+4} \boxed{}$$

$$\boxed{18} \xrightarrow{-8} \boxed{} \xrightarrow{-7} \boxed{} \xrightarrow{+5} \boxed{} \xrightarrow{+0} \boxed{} \xrightarrow{+3} \boxed{}$$

zài

lǐ tián shàng

huò

四、在○里填上“+”或“-”。(12分)

$16 - 5 > 6 \bigcirc 5$

$16 \bigcirc 4 > 18$

$12 \bigcirc 5 < 16$

$14 \bigcirc 5 = 12 \bigcirc 7$

$9 \bigcirc 9 = 18$

$15 \bigcirc 5 = 10$

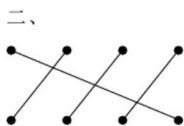
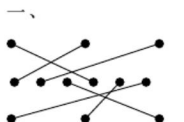
订正栏

用时 _____ 分 错误 _____ 道 自我评价 ☆☆☆☆☆

参考答案

第一周

周一 数一数



周二 比多少(1)

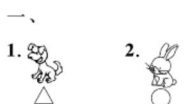


周三 比多少(2)

一、
(2, 3, 4) (3, 5, 9)
(8, 9, 10)



周四 上、下、前、后



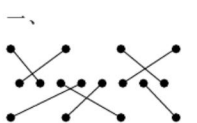
二、
1. 下 2. 后 3. 上

周五 左、右

一、
1. 左 2. 右 3. ③

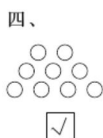
二、
(右) (左)

周末 综合练习



二、
(4) (6) (5) (9) (7)

三、
☒



五、
1. ○○○○
2. □□□□□
3. ☆☆☆☆☆☆☆☆

第二周

周一 1~5 的认识

一、
3 4 2 5

二、略

周二 比大小

一、
4 < 5 3 < 4

二、
< < >
> > =
= > <
< = <
< > <

周三 第几

一、
1. 5 2. 略 3. 略 4. 4

二、
2 1 2 5

周四 分与合(1)

一、
△△ ☆☆☆☆☆

二、
2 4 2
2 2 5
3 1 5
1 1 3

周五 分与合(2)

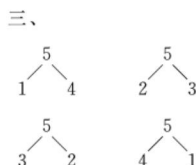
一、
1 1 3

二、略

周末 综合练习

一、
2 < 4 3 < 4
4 > 2 4 > 3
2 < 3 1 < 3
3 > 2 3 > 1

二、
0, 1, 2, 3, 4; 0, 1, 2, 5;
3, 4, 5; 4, 5, 2;
0, 1, 2, 5; 3, 4, 5.



四、
2 1 4; 2 3 5

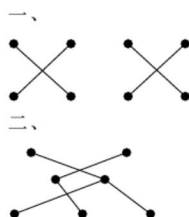
五、
1. 5 2. 5 3. 1 5

第三周

周一 加法(1)

一、
5 4 4 5
二、
4 5 5 3 图略

周二 加法(2)



周三 减法

一、
3 2 2 1
二、
3 + 1 = 4 5 - 2 = 3
3 - 2 = 1 5 - 3 = 2

周四 0 的认识

一、
5 2 0
二、
1. 5 - 5 = 0
2. 0 + 4 = 4
3. 3 - 3 = 0

周五 整理和复习

一、
2 + 0 = 2 5 - 2 = 3
4 - 1 = 3 3 + 1 = 4
二、
3 + 2 = 5 4 - 3 = 1

周末 综合练习

一、
涂色的有: 4 + 1; 1 + 4
二、
1 2 3

三、

3 1 2 0

四、

5 3 4 5 1 0

五、

0

六、

我家的电话号码是
3602104。(答案不唯一)

第四周

周一 认识立体图形(1)

一、

3 5 4
2 0 3
2 0 3
1 3 4
2 1 1
5 0 2
0 4 0
5 4 1

二、

4 2 2 3
1 0 0 1

周二 认识立体图形(2)

一、

3 1 1
4 5 0
4 2 1
5 0 1
4 2 3
4 1 2
2 5 4
0 3 1

二、

5 2 3 5
1 4 2 4

周三 认识立体图形(3)

一、

1 2 3
2 0 1

1 1 3
4 3 4
3 0 1
1 1 5
1 2 0
1 3 4
二、
0 1 2 3 4 5

周四 立体图形的拼搭(1)

一、

> > >
< < <
= = =
< = <
< > <
= < <

二、

4 3 4
5 3 5
3 0 1

周五 立体图形的拼搭(2)

一、

+ + -
+ + -
+(-) +(-) -
- +(-) -
+ - +
+ +(-) +
+ +(-) +

二、

3 5 3 2 2 0

周末 综合练习

一、

4 5 4
4 2 1
5 2 2
1 0 4
3 5 1
4 5 2
3 2 3
3 4 1

1 3 5
2 3 5
0 3 0
二、
5 4 5
0 2 2
2 4 2
1 2 0
1 0 3
3 0 1

三、

+ + -
+ + -
+ - -
- - -
+ + +(-)
+ + +(-)

第五周

周一 6和7的认识

一、

+ + +(-)
- -(-) -(-)
+ - +
+ - -(+)

二、

7 6

周二 6和7的组成

6 1 4
3 4 5
0 7 6
5 3 3
5 1 0

周三 6和7的加减法(1)

一、

4 6 7
6 4 1
6 1 6
7 4 2
7 7 0
1 5 5
6 7 0
2 7 0

二、

1 6 1 4 2

周四 6和7的加减法(2)

一、

6 5 4
3 5 1
6 4 3
7 7 0
1 6 6
0 4 2
7 1 5

二、

4+3=7 6-3=3

周五 解决问题(1)

一、

1 0 2
5 5 3
2 7 1
2 6 4
0 4 0
7 4 4

二、

2+5=7 5+2=7
7-2=5 7-5=2

周末 综合练习

一、

5 5 3
6 7 7
4 1 3
7 7 6
2 6 4
6 7 6
3 0 7

二、

7 5+2=7
7-5=2 7-2=5
7 3+4=7
7-4=3 7-3=4
6 5+1=6
6-5=1 6-1=5
6 2+4=6
6-2=4 6-4=2

$$7 \quad 1+6=7$$

$$7-1=6 \quad 7-6=1$$

$$5 \quad 1+4=5$$

$$5-1=4 \quad 5-4=1$$

三、

$$5 \quad 7-5=2$$

$$2+5=7 \quad 5+2=7$$

$$2 \quad 6-2=4$$

$$2+4=6 \quad 4+2=6$$

$$2 \quad 5-2=3$$

$$2+3=5 \quad 3+2=5$$

$$3 \quad 7-3=4$$

$$3+4=7 \quad 4+3=7$$

$$5 \quad 6-5=1$$

$$1+5=6 \quad 5+1=6$$

$$1 \quad 5-1=4$$

$$1+4=5 \quad 4+1=5$$

四、

1. 1 4 7 7

2. 2 3 5 1

第六周

周一 解决问题(2)

一、

$$4 \quad 2 \quad 6$$

$$0 \quad 2 \quad 1$$

$$2 \quad 3 \quad 7$$

$$1 \quad 0 \quad 2$$

$$5 \quad 5 \quad 3$$

二、

$$4+3=7 \quad 3+4=7$$

$$7-3=4 \quad 7-4=3$$

周二 8和9的认识

一、

$$5 \quad 4 \quad 5$$

$$5 \quad 2 \quad 5$$

$$3 \quad 6 \quad 4$$

$$6 \quad 1 \quad 3$$

$$0 \quad 7 \quad 4$$

$$2 \quad 6 \quad 0$$

$$7 \quad 7 \quad 2$$

二、

$$8 < 9$$

周三 8和9的组成

一、

$$8 \quad 9 \quad 7$$

$$8 \quad 6 \quad 9$$

$$6 \quad 9 \quad 8$$

$$7 \quad 8 \quad 8$$

$$8 \quad 6 \quad 5$$

$$5 \quad 5 \quad 9$$

二、

1	2	3	4	5	6	7
7	6	5	4	3	2	1

1	2	3	4	5	6	7	8
8	7	6	5	4	3	2	1

周四 8和9的 加减法(1)

一、

$$9 \quad 8 \quad 9$$

$$7 \quad 9 \quad 7$$

$$8 \quad 1 \quad 8$$

$$1 \quad 9 \quad 6$$

$$9 \quad 8 \quad 4$$

$$9 \quad 8 \quad 9$$

$$2 \quad 8 \quad 8$$

二、

$$4+5=9 \quad 5+4=9$$

$$9-4=5 \quad 9-5=4$$

周五 8和9的 加减法(2)

一、

$$9 \quad 8 \quad 4$$

$$9 \quad 8 \quad 9$$

$$2 \quad 8 \quad 8$$

$$1 \quad 9 \quad 7$$

$$4 \quad 3 \quad 7$$

$$4 \quad 7 \quad 2$$

$$5 \quad 9 \quad 2$$

二、

$$3+5=8 \quad 5+3=8$$

$$8-3=5 \quad 8-5=3$$

周末 综合练习

一、

$$3 \quad 4 \quad 9$$

$$7 \quad 9 \quad 9$$

$$5 \quad 5 \quad 3$$

$$3 \quad 1 \quad 7$$

$$8 \quad 9 \quad 7$$

$$7 \quad 7 \quad 4$$

$$6 \quad 4 \quad 2$$

$$9 \quad 5 \quad 9$$

$$8 \quad 4 \quad 9$$

二、

$$2 \quad 8 \quad 7$$

$$5 \quad 5 \quad 4$$

$$3 \quad 6 \quad 0$$

$$3 \quad 1 \quad 3$$

$$6 \quad 4 \quad 1$$

三、

$$3+4=7 \quad 4+3=7$$

$$7-3=4 \quad 7-4=3$$

$$4+4=8 \quad 8-4=4$$

$$4+5=9 \quad 5+4=9$$

$$9-4=5 \quad 9-5=4$$

四、

$$1+8=2+7$$

$$3+6=4+5$$

(答案不唯一)

第七周

周一 解决问题

一、

$$9 \quad 9 \quad 0$$

$$2 \quad 1 \quad 9$$

$$7 \quad 3 \quad 7$$

$$9 \quad 5 \quad 9$$

$$8 \quad 4 \quad 9$$

$$3 \quad 5 \quad 8$$

二、

$$0 \quad 1 \quad 3 \quad 6 \quad 8 \quad 9$$

$$9 \quad 0 \quad 3 \quad 6 \quad 8 \quad 1$$

(答案不唯一)

周二 10的认识

一、

$$4 \quad 6 \quad 7$$

$$7 \quad 7 \quad 4$$

$$0 \quad 7 \quad 8$$

$$5 \quad 9 \quad 8$$

$$2 \quad 2 \quad 4$$

$$6 \quad 8 \quad 1$$

$$0 \quad 8 \quad 5$$

$$0 \quad 8 \quad 10$$

二、

$$9 \quad 8 \quad 7 \quad 4$$

周三 10的加减法(1)

一、

$$10 \quad 9 \quad 4$$

$$9 \quad 5 \quad 3$$

$$3 \quad 10 \quad 6$$

$$3 \quad 5 \quad 9$$

$$8 \quad 2 \quad 5$$

二、

$$4+6=10 \quad 6+4=10$$

$$10-4=6 \quad 10-6=4$$

周四 10的加减法(2)

一、

$$7 \quad 10 \quad 4$$

$$8 \quad 7 \quad 7$$

$$7 \quad 7 \quad 6$$

$$9 \quad 9 \quad 1$$

$$2 \quad 9 \quad 9$$

$$7 \quad 3 \quad 7$$

$$8 \quad 10 \quad 10$$

$$2 \quad 10 \quad 0$$

$$6 \quad 7 \quad 10$$

二、

$$8 \quad 7 \quad 10 \quad 9$$

(答案不唯一)

周五 10的加减法(3)

$$7 \quad 5 \quad 5$$

$$7 \quad 10 \quad 9$$

$$0 \quad 9 \quad 3$$

$$10 \quad 1 \quad 3$$

$$8 \quad 2 \quad 4$$

$$7 \quad 9 \quad 2$$

$$9 \quad 5 \quad 7$$

$$0 \quad 4 \quad 10$$

$$2 \quad 9 \quad 0$$

$$8 \quad 9 \quad 0$$

$$6 \quad 10 \quad 3$$

$$0 \quad 5 \quad 4$$

周末 综合练习

一、

6	10	8
6	9	9
9	8	3
7	7	10
8	10	9
10	10	10
2	2	1
6	4	2
1	2	6
4	2	3
7	4	7
9	1	3
5	1	4
6	3	5

二、

<	>	>
=	=	>
>	>	>
=	<	=
<	=	=
>	=	=

三、

$$3+7=10 \quad 7+3=10$$

$$10-3=7 \quad 10-7=3$$

四、10 6 9 10 0

10 4 5 8 2

第八周

周一 连加 连减(1)

0	8	4
2	6	0
7	7	2
3	1	0
2	7	4
8	1	9
7	9	9
10	8	1
9	2	0
5	10	8
6	10	3
3	4	2

周二 连加 连减(2)

4	6	9
9	5	7
9	2	2
9	5	1
7	9	9
10	8	1
9	2	0
5	10	8
6	10	3
3	4	2
0	6	8
10	5	2

周三 加减混合(1)

4	8	6
5	1	5
1	8	8
7	7	5
6	7	5
0	7	4
1	10	6
0	6	4
4	4	8
8	4	4
8	3	0
4	10	2

周四 加减混合(2)

9	10	8
0	8	9
6	9	8
4	5	7
3	9	10
8	9	5
7	5	2
9	2	9
3	6	4
1	7	6
7	8	0
6	7	9

周五 整理和复习

7	8	10
1	7	4
0	6	5

9	1	9
9	5	9
10	10	10
7	9	9
5	0	8
4	3	8
8	8	3
6	7	5
4	10	6

周末 综合练习

一、

9	9	2
4	0	10
10	2	0
5	0	2
10	3	7
10	6	6
5	4	7
6	10	5
9	6	7
4	2	6
8	5	1
0	1	7
9	8	7
8	6	0
1	2	5

二、

=	=	=
>	>	>
<	<	<
<	=	>
<	>	=

三、

3	5	0	3
2	0	7	1
4	8	10	3
1	9	2	7

第九周

周一 期中复习(1)

2	1	3
4	2	3
4	4	2

4	2	1
5	1	5
1	3	5
5	5	3
6	7	7
4	1	3
7	7	6
2	6	4
6	7	6

周二 期中复习(2)

1	5	5
6	7	0
2	7	0
0	3	3
4	6	7
7	7	4
0	3	8
5	9	8
9	8	6
6	6	4
6	4	8
6	5	6

周三 期中复习(3)

5	8	1
10	8	2
8	0	9
9	6	9
2	3	9
1	4	4
9	2	7
7	2	0
4	10	4
9	9	9
5	3	0
4	9	8

周四 期中复习(4)

2	7	9
4	3	3
10	6	1
7	6	8
2	6	2
6	9	0
8	9	6

7	8	6
10	10	9
8	10	5
0	2	10
3	7	9

周五 期中复习(5)

9	8	0
7	8	8
4	6	5
1	6	3
5	1	7
8	6	5
8	4	0
2	8	10
3	10	6
7	0	1
3	1	2
4	3	7

周末 综合练习

一、

10	10	4
0	3	2
3	2	9
9	6	9
10	0	5
2	9	0
1	4	2
1	6	2
2	8	8
2	10	6
6	7	10
6	6	0

二、

7	3	1
2	5	2
5	5	1
3	0	1
5	2	4
6	2	4
3	4	4
4	3	6

三、

1	5	4
---	---	---

3	4	7
5	3	6
2	0	5
4	2	4

第十周

周一 11~20 各数的认识(1)

一、

1. 10	12	13
2. 18	17	15
3. 6	15	
4. 19	13	11

二、

6	3
---	---

周二 11~20 各数的认识(2)

一、

9	3	10
9	2	8
10	10	8
2	8	2
3	10	3
3	9	2
5	8	3

二、

6	6	10
10	9	7
0	4	7

周三 10 加几及相应的减法(1)

一、

10	5	5
9	10	10
8	8	0
4	8	10
0	0	0
5	6	3
10	9	7
10	10	0

二、

7	8	9	11	12
15	17	18	19	

周四 10 加几及相应的减法(2)

一、

19	11	4
5	6	3
9	5	8
16	5	20
10	5	5
9	10	10
8	8	0

二、

4	6	7
2	5	1
8	10	10

周五 十几加几

18	18	18
18	18	13
16	19	14
16	12	18
13	17	17
8	15	16
18	14	17
10	9	6
19	19	14
17	19	19
17	16	19
16	16	17

周末 综合练习

一、

6	8	9
1	8	8
19	11	4
5	6	3
9	5	8
18	18	13
16	19	14
16	12	18
13	17	17
5	10	5
9	6	10
4	1	1
0	3	2
4	0	8

5	9	1
3	9	0
2	8	1
5	1	4
4	10	8
5	2	10

二、

20	18	17	14
13	12	5	2
2	7	10	11
15	16	17	19

三、

15	16	17	18
----	----	----	----

第十一周

周一 十几减几

0	12	10
11	10	11
4	11	11
14	0	16
11	10	13
12	9	3
3	10	5
14	12	8
10	10	11
12	14	11
7	10	3
13	11	10

周二 解决问题(1)

8	5	9
1	3	9
0	2	8
1	5	1
4	10	8
5	2	10
5	2	2
8	8	0
4	8	10
0	0	0
5	6	3
10	9	7

周三 解决问题(2)

一、

15	19	19
12	12	14

4	2	2
7	1	5
10	3	8
2	5	3
二、		
4	20	16
13	8	7
9	0	1

周四 认识钟表(1)

一、

18	19	14
17	12	15
4	2	11
6	3	5
8	6	9
5	19	10
1	10	6
12	4	2

二、

6	8	5
10	7	8

周五 认识钟表(2)

2	4	3
0	10	4
4	6	5
10	3	5
5	2	10
5	2	2
8	8	0
4	8	10
0	0	0
5	6	3
10	9	7
9	0	0

周末 综合练习

一、

2	17	0
10	3	13
4	6	7
7	17	4
0	3	18
5	9	8
15	6	3
19	15	8
16	5	20

10	5	5		
9	10	10		
8	8	0		
1	0	3		
2	4	0		
8	5	9		
二、				
=	<	<		
>	>	>		
>	>	>		
=	=	=		
<	>	<		
<	=	=		
>	>	=		
三、				
14	10	9	10	19
18	9	4	13	11

第十二周

周一 认识钟表(3)

17	12	15
11	18	13
17	14	11
15	16	20
19	15	16
16	11	17
6	18	19
10	18	3
11	19	12
13	17	11
18	8	19
15	13	12

周二 9 加几

5	11	12
14	18	19
8	5	14
14	7	1
13	15	14
15	16	8
15	14	13
10	19	10
9	6	13
16	7	17
17	10	17
14	16	15

周三 8、7、6 加几(1)

9	10	12
14	10	18
12	13	10
10	10	13
19	10	11
16	19	14
16	12	18
13	17	17
9	12	8
18	18	13
11	15	16
11	14	9

周四 8、7、6 加几(2)

14	9	11
16	12	8
12	13	11
7	10	17
13	6	18
20	17	8
12	12	11
9	13	10
12	12	11
10	13	11
14	16	14
13	15	10

周五 8、7、6 加几(3)

14	15	11
10	11	12
11	10	13
16	13	13
14	16	12
12	10	15
10	15	19
12	13	13
11	17	10
14	17	16
4	20	10
10	10	18

周末 综合练习

一、

11	13	14
12	10	10
11	10	12

14	11	11
10	19	12
11	10	13
16	13	13
14	16	12
12	18	15
10	15	19
12	13	13
2	10	14
14	12	13
4	12	10
11	13	16

二、

14	18	15
17	11	19
6	4	10
7	6	3
7	5	5
7	17	15
15	3	4

三、

19	13	7	12
17	15	4	3
4	2	4	

第十三周

周一 5、4、3、2 加几(1)

12	14	12
9	13	11
18	7	14
17	9	6
15	11	14
13	16	7
20	14	8
7	18	16
10	5	5
9	10	10
8	8	0
1	0	3

周二 5、4、3、2 加几(2)

12	13	15
17	11	13
11	12	14
16	14	10
10	13	11

14	10	16
11	13	20
14	13	10
11	12	13
15	12	18
14	12	11
12	12	16

周三 解决问题(1)

15	11	14
11	13	10
11	12	14
12	14	14
10	11	10
11	12	12
14	12	0
14	18	11
10	13	14
11	12	11
2	12	10
12	13	16

周四 解决问题(2)

14	10	14
16	12	13
11	10	12
16	11	12
13	12	12
11	20	14
10	14	13
10	18	16
12	11	8
16	11	13
15	12	20
12	11	20

周五 整理和复习

19	12	14
10	11	10
13	15	13
18	11	18
11	12	11
12	16	13
13	10	11
11	10	13
10	13	15
15	14	12

10	9	18
13	13	17

周末 综合练习

一、

11	17	7
11	12	10
13	15	11
13	10	12
14	17	9
13	15	14
16	13	12
15	6	12
13	11	13
11	14	8
14	11	14
15	13	10
10	16	12
10	18	10
18	6	1

二、

0	9	
14	5	
16	4	
5	3	3

三、

18	10	19	14	10
12	18	10	16	6

四、

11	10	18
7	5	4
16	9	11

第十四周

周一 复习准备课 和位置

5	11	3
8	5	14
13	7	1
15	10	8
10	16	16
9	6	13
12	10	8
17	2	10
13	19	12

13	15	4
6	6	10
2	18	12

周二 复习认识图形 (一)和认识钟表

19	10	4
4	12	9
1	9	10
8	1	5
13	9	10
10	16	2
15	16	19
19	14	14
12	10	19
11	14	15
18	15	10
12	19	6

周三 复习1~10的 认识和加法

7	9	3
9	10	7
0	4	10
2	9	0
8	9	0
6	10	3
0	5	7
10	11	19
15	6	11
10	11	10
17	11	13
18	10	10

周四 复习11~20各 数的认识

3	1	0
2	7	4
8	1	9
7	9	9
10	8	1
9	2	0
5	10	8
18	10	19
16	10	13
10	13	17

19	19	18
7	18	10

周五 复习20以内 的进位加法

10	10	10
19	18	4
11	8	18
10	19	10
19	20	16
15	8	19
10	18	16
6	19	19
20	18	13
11	11	17
2	17	10
7	10	15

周末 综合练习

一、

15	7	12
19	8	7
18	11	3
19	7	6
19	11	15
19	12	14
8	5	15
7	15	15
7	18	7
14	17	1
11	5	11
9	8	2
8	10	17
6	12	16
16	18	10

二、

2	16	
11	12	
14	8	
12	10	1

三、

19	11	16	11	15
16	19	11	17	10

四、

4	11	14
4	11	5
17	11	4

第十五周

周一 复习 20 以内 的加减法(1)

13	12	11
19	8	15
18	10	11
13	9	19
16	6	12
8	16	12
11	10	7
17	10	10
18	0	16
13	10	10
8	1	17
7	16	12

周二 复习 20 以内 的加减法(2)

6	7	0
12	7	0
0	13	3
14	16	7
7	7	4
0	13	8
9	11	3
17	19	10
0	15	3
16	12	2
9	18	2
15	7	8

周三 复习 20 以内 的加减法(3)

12	13	10
10	10	13
19	9	12
16	19	14
19	12	18
18	17	17
7	17	8
18	17	3
19	4	7
12	3	8
11	16	10
10	16	14

周四 复习 20 以内 的加减法(4)

15	1	14
6	2	19
10	9	6
11	0	15
11	5	1
15	12	16
18	6	13
8	12	11
8	8	10
14	0	11
17	15	12
6	10	13

周五 复习 20 以内 的加减法(5)

5	16	13
10	15	16
1	9	7
18	1	18
10	10	12
13	15	9
11	15	11
19	17	12
3	10	10
4	10	10
0	1	1
10	1	10

周末 综合练习

一、		
12	12	3
18	18	9
18	14	5
10	18	14
18	17	5
14	12	11
15	13	13
11	14	19
10	17	15
10	12	14
11	12	10
9	10	11
8	16	12

11	10	7
11	10	13
二、		
4	2	
5	0	
4	18	
5	2	
10	2	
三、		
19	13	10
18	15	17
四、		
7	3	17
9	5	6

第十六周

周一 复习 20 以内 的加减法(6)

4	16	19
3	17	13
11	4	11
9	9	15
17	4	8
16	12	17
16	8	11
18	19	11
12	2	3
13	5	10
10	15	13
14	18	18

周二 复习 20 以内 的加减法(7)

16	11	15
12	11	14
14	10	14
10	11	11
12	10	11
10	10	18
12	15	12
14	7	13
17	15	13
14	19	6
0	12	14
17	10	5

周三 复习 20 以内 的加减法(8)

12	19	13
10	15	13
17	11	11
11	11	14
12	11	10
10	16	11
14	11	13
16	14	10
5	6	10
6	8	13
10	15	1
7	14	7

周四 复习 20 以内 的加减法(9)

15	10	10
11	12	13
12	14	10
12	14	10
12	15	12
18	12	10
10	14	12
19	8	9
9	3	17
7	4	7
9	9	8
5	7	6

周五 复习 20 以内 的加减法(10)

19	19	8
10	16	10
11	16	13
15	15	12
8	11	11
10	2	18
8	5	8
18	15	15
15	14	20
15	18	0
11	10	13
12	14	10

周末 综合练习

一、

12	1	18
11	19	0
18	16	10
15	18	15
17	11	17
18	19	10
0	10	13
14	10	19
18	10	18
10	16	20
10	18	20
15	16	15
4	12	14
16	0	9
14	15	10

二、

7	12	11	18
5	5	5	3
3	7	2	10

三、

10	11	7	10	17
19	17	19	17	14

第十七周

周末 期末复习(1)

8	18	14
11	0	10
9	18	14
7	2	1
19	19	7
10	14	11
12	10	5
11	10	11
16	1	18
3	15	6
7	10	14
10	14	9

周末 期末复习(2)

16	17	10
15	18	10
10	17	13
13	10	8
17	17	14

10	10	18
10	18	1
16	12	15
10	14	18
15	10	11
1	2	18
18	10	17

周末 期末复习(3)

11	0	10
19	1	10
16	18	3
10	17	6
13	2	4
10	10	4
9	16	10
13	10	11
14	11	8
9	13	17
19	19	1
3	16	10

周末 期末复习(4)

2	19	9
10	10	16
7	9	13
5	10	15
12	18	16
11	1	19
17	12	10
20	7	5
18	10	10
3	13	16
5	20	10
12	10	14

周末 期末复习(5)

15	11	17
18	10	10
11	19	13
10	11	19
11	10	17
11	13	1
11	13	14
11	10	10
13	17	1
12	13	13

14	10	11
1	0	19

周末 综合练习

一、

5	13	13
16	11	15
14	13	11
10	10	18
10	19	7
19	13	14
16	11	4
18	11	13
11	14	15
1	19	12
12	10	11
13	2	11
2	17	10
12	18	5
12	12	11

二、

1	3
4	3
7	17
7	4
6	4

三、

18	12	2	13	17
17	14	4	10	12

四、

8	7	14
8	9	7

周末检测(一)

一、

9	14	2
10	0	11
15	11	15
10	9	18
14	18	19
14	13	19
14	17	10
14	14	11
10	8	3
14	9	17
6	0	13
15	18	4

二、

10	18
8	9
6	14
10	12
0	16
10	8
6	6
7	6

三、

18	10	17	11	15
5	8	15	5	14

四、

—	+	—
+	+	+
+	+	

周末检测(二)

一、

19	12	11
10	10	1
10	19	18
16	9	10
15	19	10
11	16	15
8	10	18
16	18	1
12	11	12
11	0	19
11	6	17
11	15	17

二、

9	6
6	6
6	4
3	10
10	13
9	6
3	4
10	11

三、

19	11	18	12	16
10	3	8	8	11

四、

—	+	—	
+	+	+	—



HUANGGANG
KOUSUAN
TIANTIANLIAN

黄冈 口算

天天练

升级版

$+$ $-$ \times \div 天天练，口算速度看得见

重点题型综合练，提升能力很直观

品牌策划：中辰传媒

责任编辑：马 驰 鲁 微 王 颖

封面设计：中辰传媒设计室

上架建议：教育·教辅

ISBN 978-7-5441-9343-6



9 787544 193436

定价：19.90元

关注微信公众号“教辅资料站”获取更多学习资料