



一起 练习

YI QI
LIAN XI

口算通关



1

一年级上₁

数学 RJ

一起 练习

YI QI
LIAN XI

口算通关

1

一年级上₁

数学 RJ

微信公众号

教辅资料站

沈阳出版发行集团

沈阳出版社

目录

CONTENTS


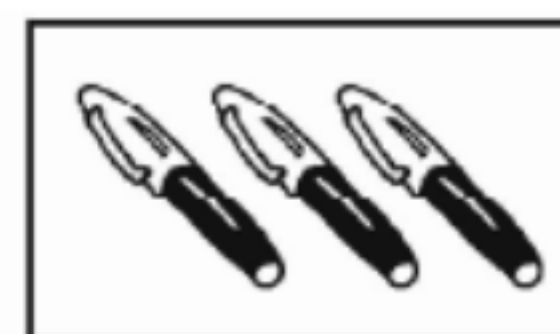
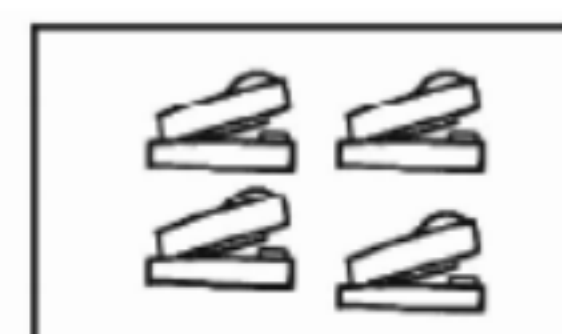
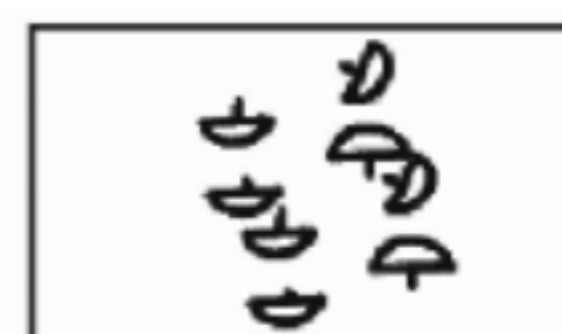
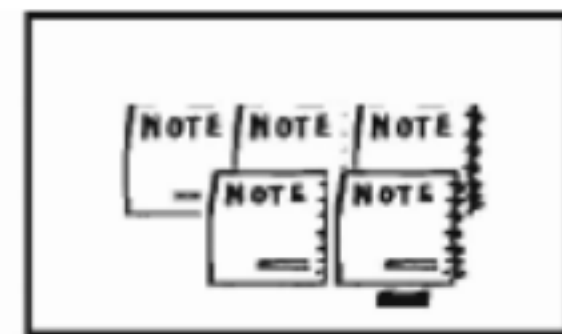
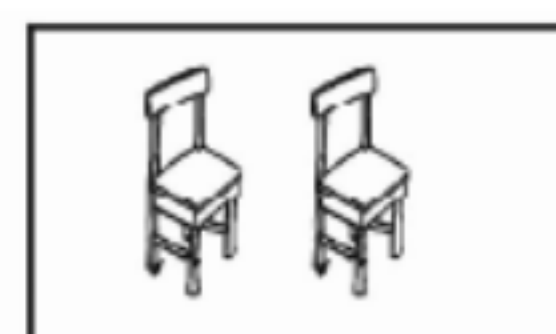


训练 1 数一数	1	训练 24 10 的加减法	12
训练 2 比多少	1	训练 25 10 以内加减法练习	13
训练 3 上、下、前、后	2	训练 26 连加	13
训练 4 左、右	2	训练 27 连减	14
训练 5 1~5 的认识	3	训练 28 加减混合	14
训练 6 比大小	3	训练 29 加减混合练习	15
训练 7 第几	4	训练 30 数数和读数	15
训练 8 2、3、4 的分与合	4	训练 31 数的组成和写数	16
训练 9 5 的分与合	5	训练 32 11~20 的加减法	16
训练 10 5 以内的加法	5	训练 33 11~20 的应用	17
训练 11 5 以内的减法	6	训练 34 认识钟表	17
训练 12 有关 0 的加减法	6	训练 35 9 加几	18
训练 13 认识图形	7	训练 36 8、7、6 加几	18
训练 14 6 和 7 的组成	7	训练 37 9、8、7、6 加几的练习	19
训练 15 6 和 7 的加减法	8	训练 38 5、4、3、2 加几	19
训练 16 6 和 7 的加减法练习	8	训练 39 20 以内进位加法练习(1)	
训练 17 8 和 9 的组成	9	20
训练 18 8 和 9 的组成练习	9	训练 40 20 以内进位加法练习(2)	
训练 19 8 和 9 的加减法	10	20
训练 20 8 和 9 的加减法练习	10	训练 41 总复习(1)	21
训练 21 9 以内加减法练习	11	训练 42 总复习(2)	21
训练 22 10 的组成	11	训练 43 总复习(3)	22
训练 23 10 以内数的组成练习	12	训练 44 总复习(4)	22
		参考答案(见同步练习后)	85

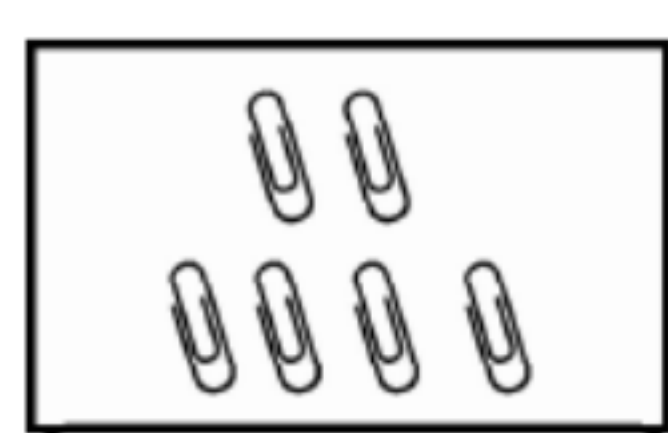
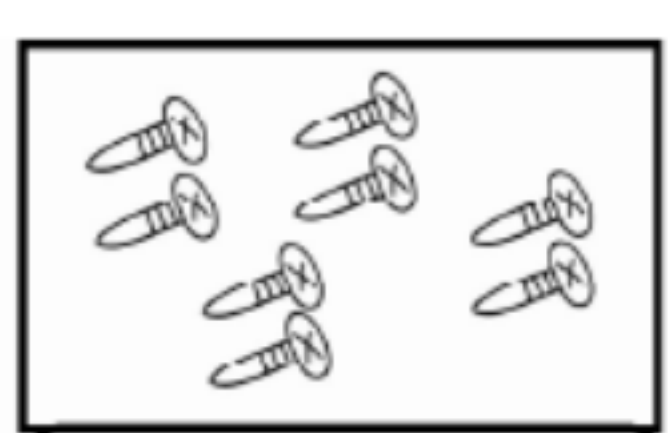
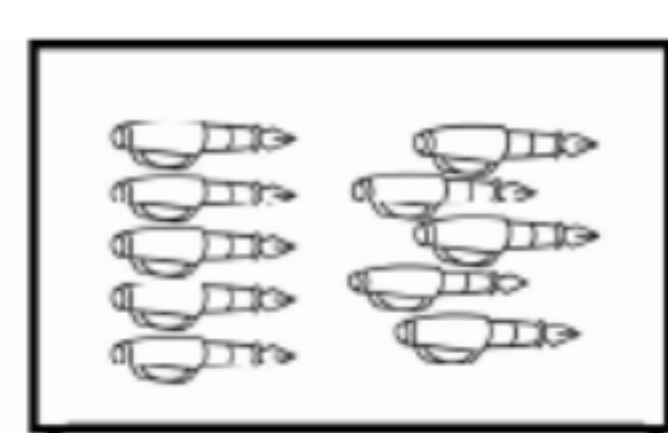
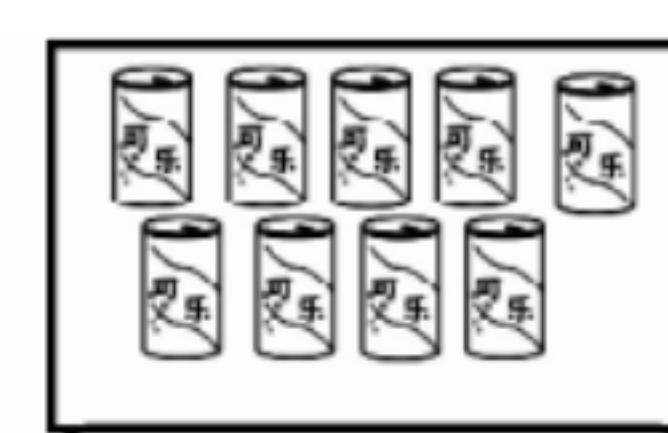
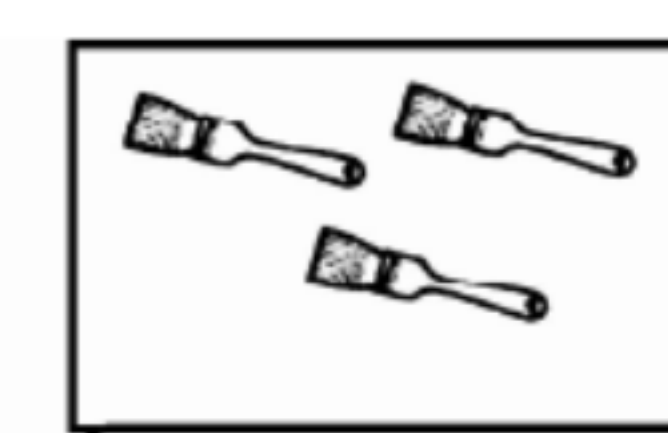
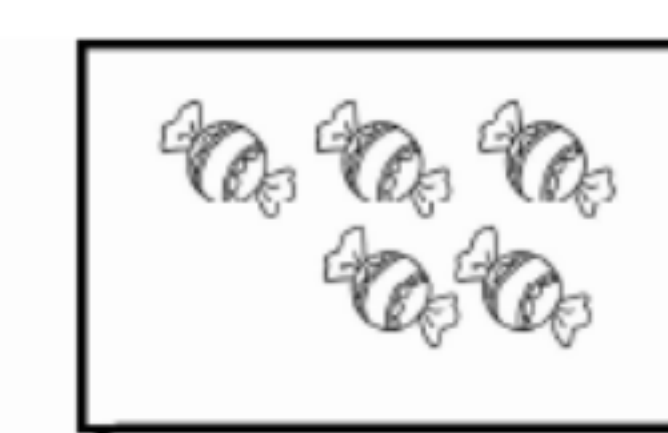
微信公众号
教辅资料站

训练 1 数一数

1. 数一数,连一连。

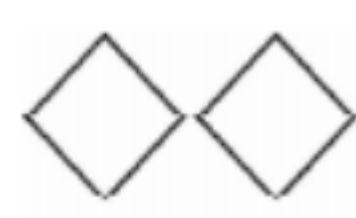
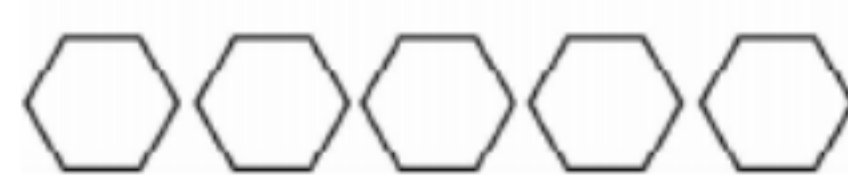
					
	5	3	8	2	1
				4	



2. 圈出正确的答案。

					
4 5 6	7 8 9	8 9 10	8 9 10	3 4 5	3 4 5

训练 2 比多少

1. 在多的后面画“√”。

(1)  ☐
 ☐

(2)  ☐
 ☐

2. 在少的下面画“√”。




	
<input type="checkbox"/>	<input type="checkbox"/>





微信公众号
教辅资料站

训练3 上、下、前、后

1. 圈出正确的答案。



 在  的(前 后)面, 在  的(前 后)面;

 在  的(前 后)面;  在  的(前 后)面。

2. 划去不正确的答案。



礼物在圣诞老人的(前 后)面; 眼睛在鼻子的(上 下)面; 嘴在鼻

子的(上 下)面; 眉毛在眼睛的(上 下)面; 眼睛在眉毛的(上 下)面。

训练4 左、右

1. 连一连。



左手



右手

2. 圈出正确的答案。








(1)  在  的(左 右)边, 在  的(左 右)边。

(2)  在  的(左 右)边;  在  的(左 右)边。






(3)  在最(左 右)边;  在最(左 右)边。

训练 5 1~5 的认识

1. 连一连。

				
4	5	2	1	3

2. 看图写数。







				
()	()	()	()	()

训练 6 比大小

1. 看图写数, 并比一比。

			
() ○ ()	() ○ ()		

2. 选数填一填。

					
() > ()	() > ()	() > ()			



微信公众号
教辅资料站






训练7 第几

1. 看图填空。



一共有()只动物。从左往右数,  排第(),  排

第(); 从右往左数,  排第(),  排第(),  排

第(),  排第()。

2. 填一填。



小力 小平 小龙 小华

一共有()个小朋友。从左往右数, 小力排第(), 小平排第(), 小龙排第(), 小华排第()。

训练8 2、3、4的分与合

$$\begin{array}{c} 2 \\ \swarrow \searrow \\ 1 \quad \square \end{array}$$

$$\begin{array}{c} 3 \\ \swarrow \searrow \\ 1 \quad \square \end{array}$$

$$\begin{array}{c} 3 \\ \swarrow \searrow \\ 2 \quad \square \end{array}$$

$$\begin{array}{c} 4 \\ \swarrow \searrow \\ 1 \quad \square \end{array}$$

$$\begin{array}{c} 4 \\ \swarrow \searrow \\ 2 \quad \square \end{array}$$

$$\begin{array}{c} 4 \\ \swarrow \searrow \\ 3 \quad \square \end{array}$$

$$\begin{array}{c} 2 \\ \swarrow \searrow \\ \square \quad 1 \end{array}$$

$$\begin{array}{c} 3 \\ \swarrow \searrow \\ \square \quad 1 \end{array}$$

$$\begin{array}{c} 3 \\ \swarrow \searrow \\ \square \quad 2 \end{array}$$

$$\begin{array}{c} 4 \\ \swarrow \searrow \\ \square \quad 1 \end{array}$$

$$\begin{array}{c} 4 \\ \swarrow \searrow \\ \square \quad 2 \end{array}$$

$$\begin{array}{c} 4 \\ \swarrow \searrow \\ \square \quad 3 \end{array}$$

$$\begin{array}{c} 1 \quad 1 \\ \swarrow \searrow \\ \square \end{array}$$

$$\begin{array}{c} 1 \quad 2 \\ \swarrow \searrow \\ \square \end{array}$$

$$\begin{array}{c} 2 \quad 1 \\ \swarrow \searrow \\ \square \end{array}$$

$$\begin{array}{c} 1 \quad 3 \\ \swarrow \searrow \\ \square \end{array}$$

$$\begin{array}{c} 2 \quad 2 \\ \swarrow \searrow \\ \square \end{array}$$

$$\begin{array}{c} 3 \quad 1 \\ \swarrow \searrow \\ \square \end{array}$$

$$\begin{array}{c} \square \quad 1 \\ \swarrow \searrow \\ 3 \end{array}$$









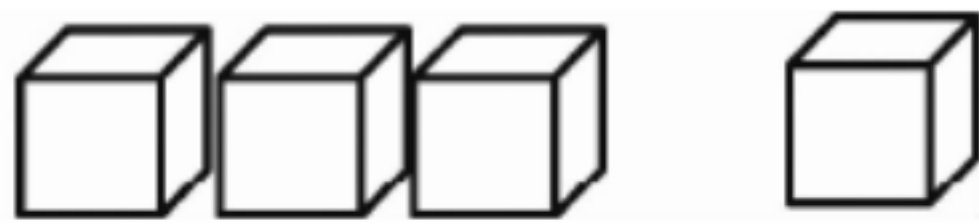
$$\begin{array}{c} \square \quad 3 \\ \swarrow \searrow \\ 4 \end{array}$$

训练 9 5 的分与合

$\begin{array}{c} 5 \\ \swarrow \searrow \\ 1 \quad \square \end{array}$	$\begin{array}{c} 5 \\ \swarrow \searrow \\ 2 \quad \square \end{array}$	$\begin{array}{c} 5 \\ \swarrow \searrow \\ 3 \quad \square \end{array}$	$\begin{array}{c} 5 \\ \swarrow \searrow \\ 4 \quad \square \end{array}$	$\begin{array}{c} 5 \\ \swarrow \searrow \\ \square \quad 3 \end{array}$
$\begin{array}{c} 5 \\ \swarrow \searrow \\ \square \quad 1 \end{array}$	$\begin{array}{c} 5 \\ \swarrow \searrow \\ \square \quad 2 \end{array}$	$\begin{array}{c} 5 \\ \swarrow \searrow \\ \square \quad 4 \end{array}$	$\begin{array}{c} 4 \\ \swarrow \searrow \\ \square \quad 3 \end{array}$	$\begin{array}{c} 1 \quad 4 \\ \swarrow \searrow \\ \square \end{array}$
$\begin{array}{c} 2 \quad 3 \\ \swarrow \searrow \\ \square \end{array}$	$\begin{array}{c} 3 \quad 2 \\ \swarrow \searrow \\ \square \end{array}$	$\begin{array}{c} 4 \quad 1 \\ \swarrow \searrow \\ \square \end{array}$	$\begin{array}{c} 1 \quad 2 \\ \swarrow \searrow \\ \square \end{array}$	$\begin{array}{c} 2 \quad 2 \\ \swarrow \searrow \\ \square \end{array}$
$\begin{array}{c} 2 \quad 1 \\ \swarrow \searrow \\ \square \end{array}$	$\begin{array}{c} 3 \quad 1 \\ \swarrow \searrow \\ \square \end{array}$	$\begin{array}{c} 1 \quad 1 \\ \swarrow \searrow \\ \square \end{array}$	$\begin{array}{c} \square \quad 1 \\ \swarrow \searrow \\ 5 \end{array}$	$\begin{array}{c} \square \quad 3 \\ \swarrow \searrow \\ 5 \end{array}$

训练 10 5 以内的加法

1. 摆一摆, 填一填。

 $2+1=$	 $2+3=$	 $2+2=$
 $1+3=$	 $1+2=$	 $1+4=$
 $4+1=$	 $1+1=$	 $3+1=$

2. 计算。

$3+2=$	$1+4=$	$3+1=$	$1+1=$
$2+2=$	$4+1=$	$2+3=$	$1+2=$

微信公众号
教辅资料站



训练 11 5 以内的减法

1. 划一划, 填一填。



$2-1=$



$3-1=$



$3-2=$



$4-1=$



$4-2=$



$4-3=$



$5-1=$



$5-2=$



$5-3=$

2. 计算。

$5-4=$

$2-1=$

$5-2=$

$3-2=$

$5-3=$

$3-1=$

$4-3=$

$4-1=$

训练 12 有关 0 的加减法

1. 划一划, 填一填。



$2-2=$



$3-3=$



$4-4=$



$5-3=$



$5-4=$



$5-5=$

2. 计算。

$0+0=$

$4+0=$

$5-0=$

$5-5=$

$1+0=$

$0+2=$

$4-4=$

$3-0=$

$5+0=$

$0+3=$

$3-3=$

$2+0=$

$0+4=$

$2-2=$

$1-0=$

$0+5=$

$1-1=$


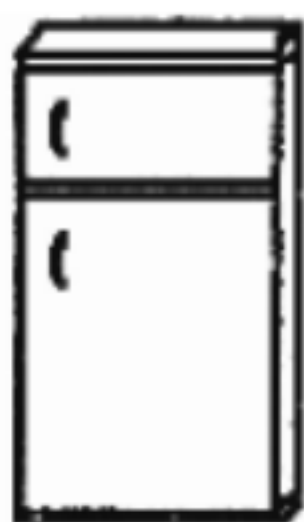


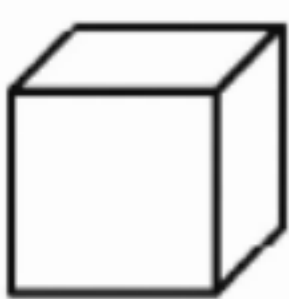

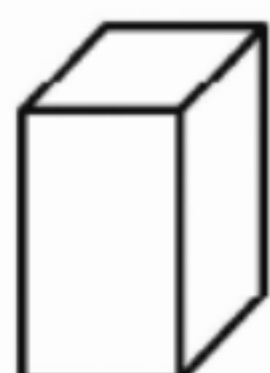

$4-0=$

$3+0=$

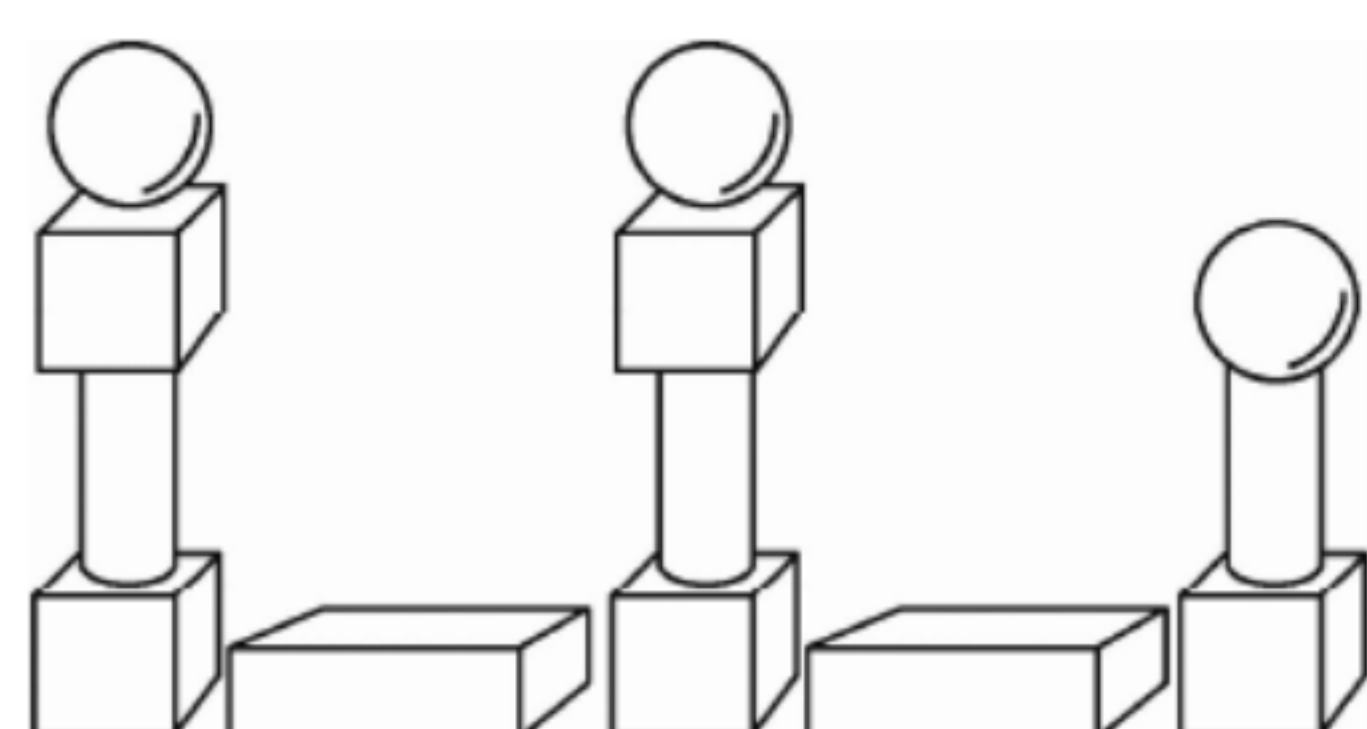
$2-0=$


训练 13 认识图形


1. 连一连。

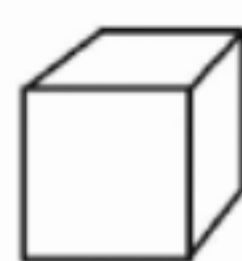
			
长方体	正方体	圆柱	球
			

2. 数一数, 填一填。
























() 个


() 个


() 个


() 个

训练 14 6 和 7 的组成

6 1 	6 2 	6 3 	6 4 	6 5 
 7 1	 7 2	 7 3	 7 4	 7 5
7 1 	 7 6	 3 4	 3 3	 2 5
 5 2	 1 6	 5 1	 2 4	 4 3

微信公众号
教辅资料站

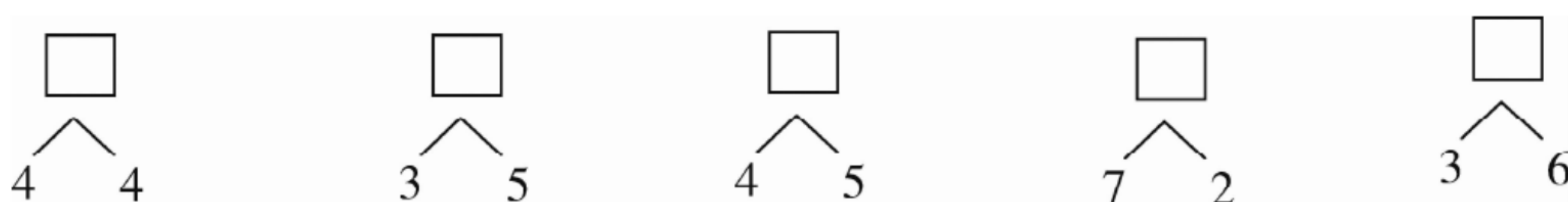
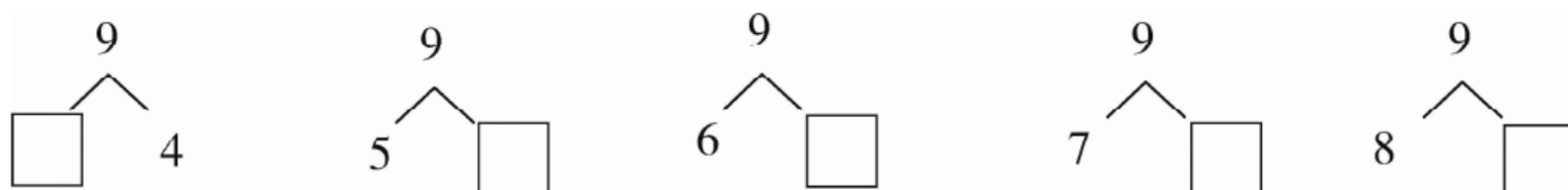
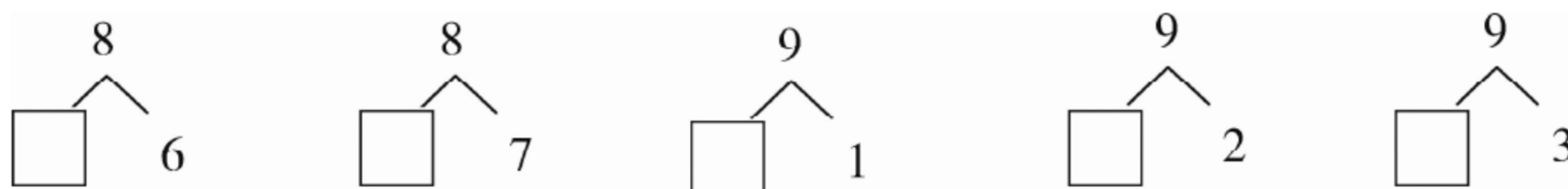
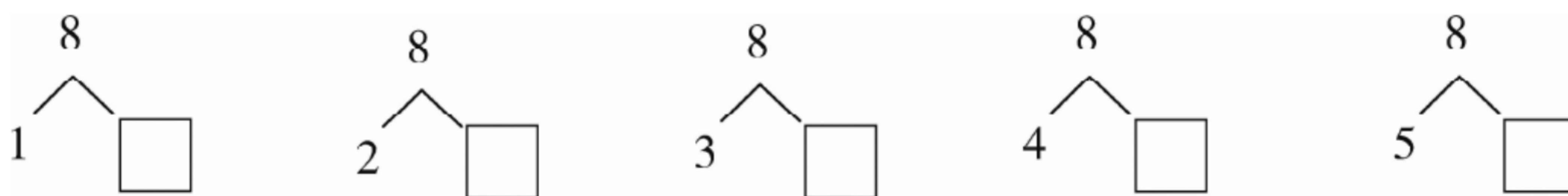
训练 15 6 和 7 的加减法

$0+6=$	$1+6=$	$2+4=$	$7+0=$
$7-0=$	$7-7=$	$4+3=$	$6-2=$
$7-1=$	$5+1=$	$6+1=$	$7-2=$
$6-3=$	$2+5=$	$0+7=$	$6-0=$
$4+2=$	$7-4=$	$6-5=$	$6+0=$
$6-1=$	$7-3=$	$5+2=$	$6-6=$
$7-6=$	$3+3=$	$1+5=$	$7-5=$
$6-4=$	$3+4=$	$4+1=$	$1+3=$
$1-1=$	$3-1=$	$4-2=$	$4-4=$
$3+2=$	$1+4=$	$3-2=$	$4-1=$

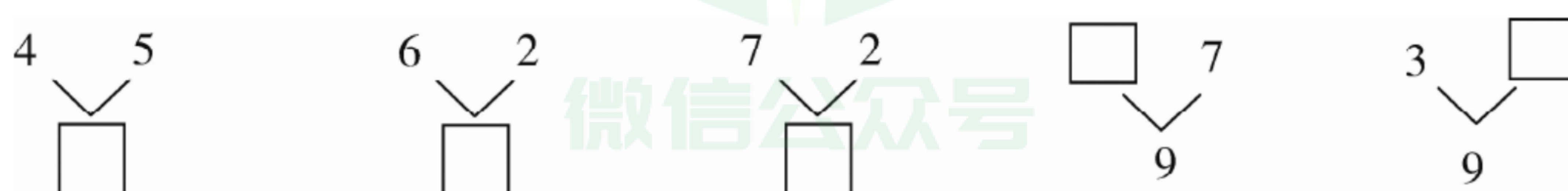
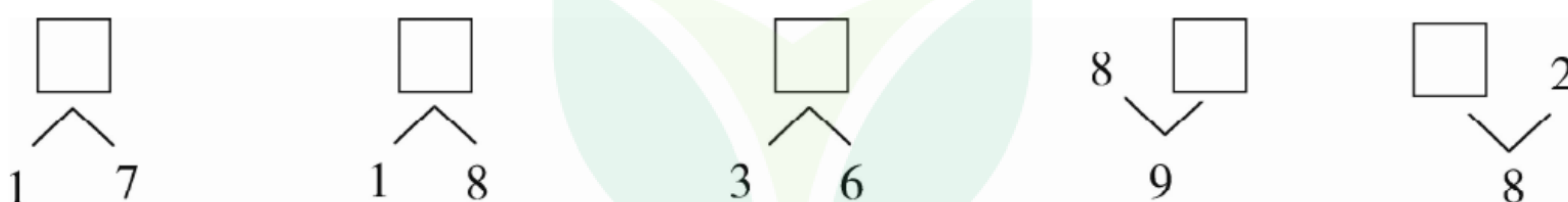
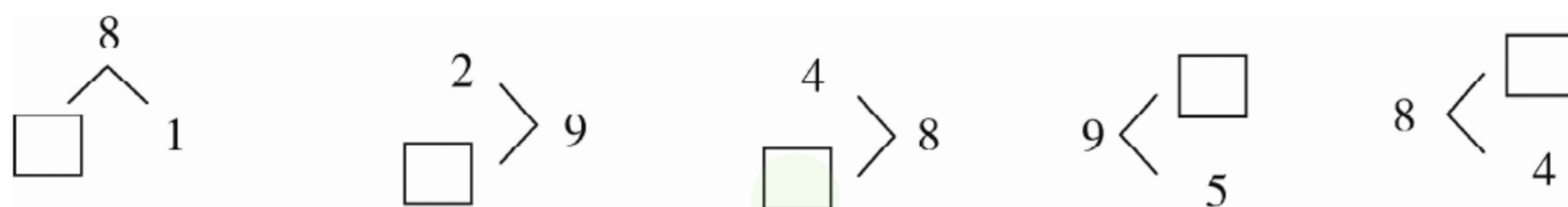
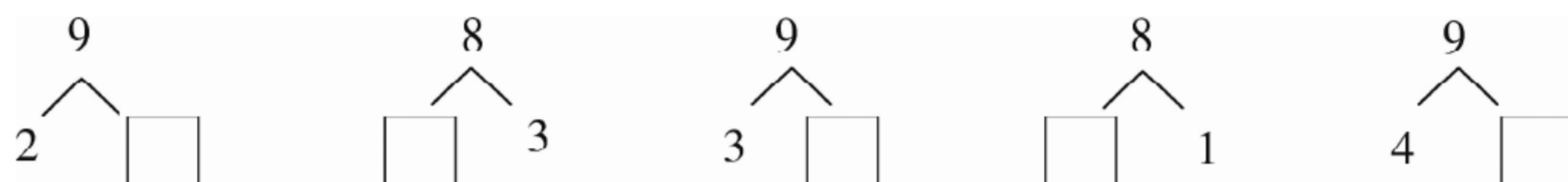
训练 16 6 和 7 的加减法练习

$7-7=$	$6-0=$	$0+7=$	$3+4=$
$7-1=$	$6-1=$	$6-5=$	$2+5=$
$1+6=$	$7-5=$	$7-6=$	$6+1=$
$3+3=$	$6-4=$	$6-6=$	$5+2=$
$7+0=$	$2+4=$	$6-2=$	$7-4=$
$1+5=$	$4+3=$	$0+6=$	$7-2=$
$6+0=$	$5+1=$	$6-3=$	$7-3=$
$4+2=$	$6-5=$	$5-4=$	$5-5=$
$0+5=$	$1+2=$	$0+3=$	$5-0=$
$4-3=$	$3+1=$	$2+3=$	$2-1=$

训练 17 8 和 9 的组成



训练 18 8 和 9 的组成练习



微信公众号
教辅资料站



训练 19 8 和 9 的加减法

$9-4=$

$8-0=$

$8-7=$

$4+4=$

$9-0=$

$8-8=$

$5+3=$

$8-6=$

$8-4=$

$9-5=$

$2+7=$

$7+1=$

$9-1=$

$9-7=$

$0+8=$

$6+2=$

$9-8=$

$8-2=$

$9-6=$

$8-1=$

$9-2=$

$8-5=$

$8-3=$

$9+0=$

$3+6=$

$8+1=$

$9-3=$

$2+6=$

$4+5=$

$3+5=$

$0+9=$

$1+8=$

$9-9=$

$6+3=$

$7+2=$

$5+4=$

$1+7=$

$8+0=$

$3+2=$

$2+5=$

训练 20 8 和 9 的加减法练习

$9-2=$

$8-0=$

$7+2=$

$0+9=$

$8-4=$

$6+3=$

$9-1=$

$8-1=$

$9-6=$

$8-8=$

$8-5=$

$5+4=$

$8+0=$

$8-2=$

$1+7=$

$2+6=$

$9-7=$

$5+3=$

$8-6=$

$9-8=$

$3+5=$

$9-4=$

$8-3=$

$9+0=$

$9-5=$

$4+4=$

$9-9=$

$2+7=$

$8-7=$

$9-3=$

$9-0=$

$0+8=$

$6+2=$

$1+8=$

$7+1=$

$9-5=$

$8+1=$

$3+6=$

$4+3=$

$2+4=$

训练 21 9 以内加减法练习

$9-1=$	$8-5=$	$1+7=$	$4+4=$
$8-7=$	$3+6=$	$8-4=$	$9-8=$
$9-4=$	$8-3=$	$8-1=$	$8+1=$
$2+7=$	$7-5=$	$9-3=$	$4+5=$
$4+1=$	$3+3=$	$9-6=$	$3+1=$
$9-5=$	$9-9=$	$9-2=$	$6+1=$
$8-6=$	$0+9=$	$2+6=$	$2+5=$
$7-7=$	$7-3=$	$8-2=$	$6-3=$
$7-5=$	$6-5=$	$8-8=$	$5-4=$
$9-7=$	$4+3=$	$2+2=$	$4+2=$

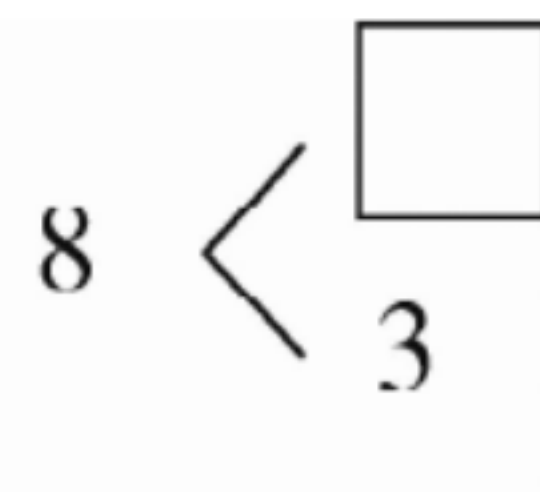
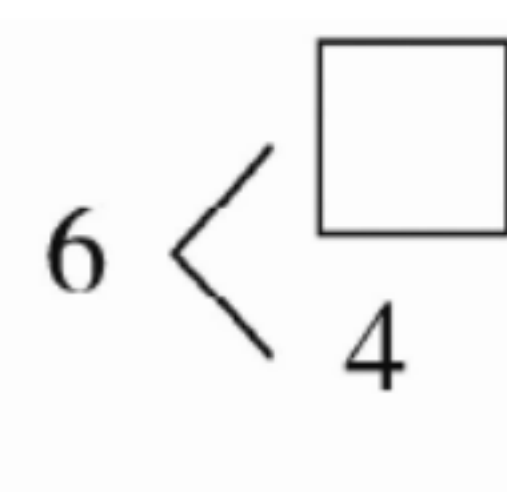
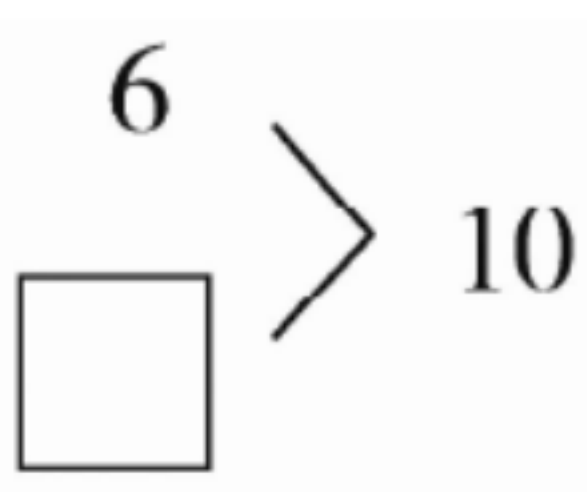
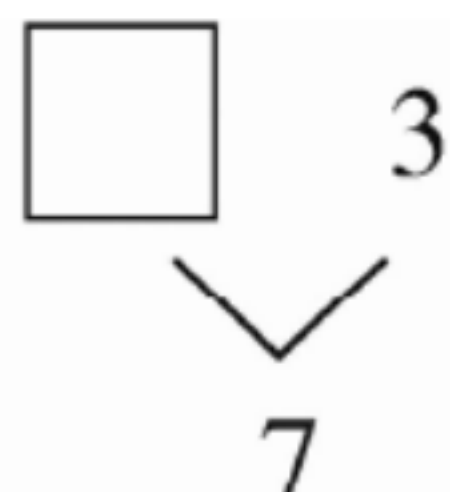
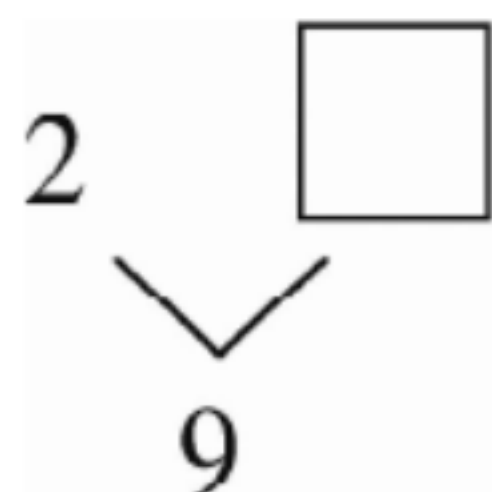
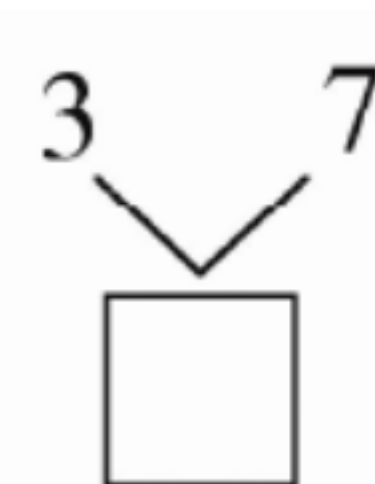
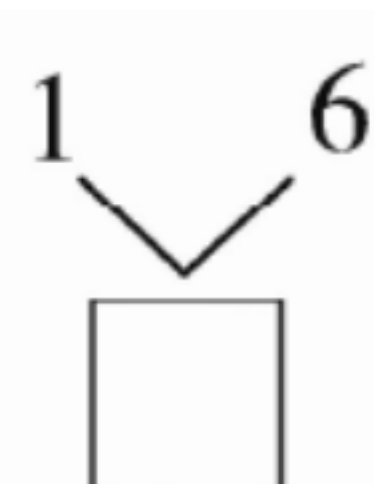
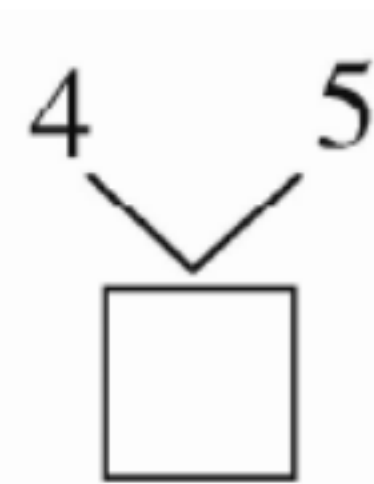
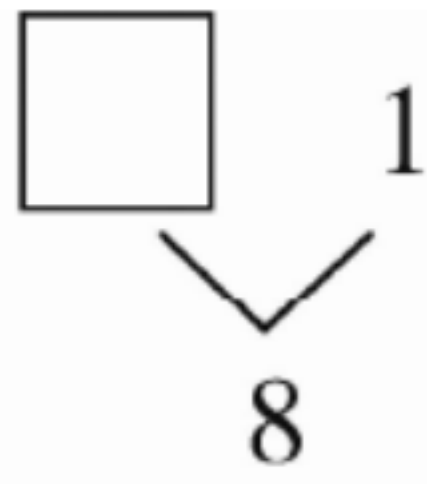
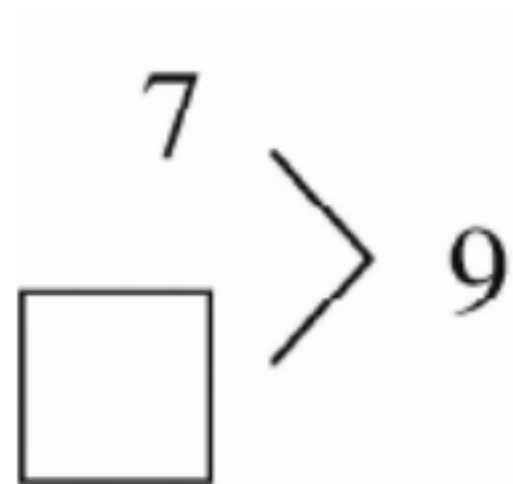
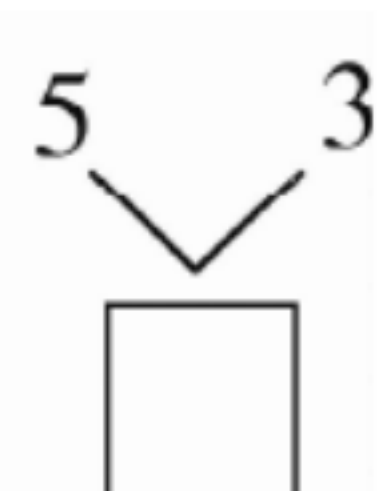
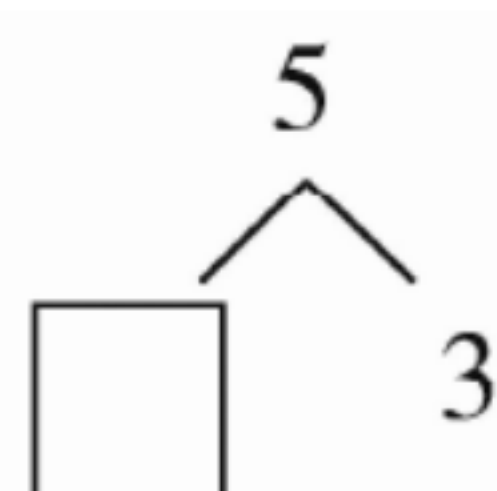
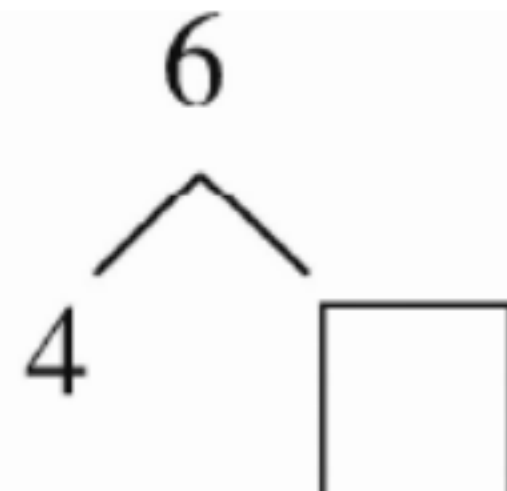
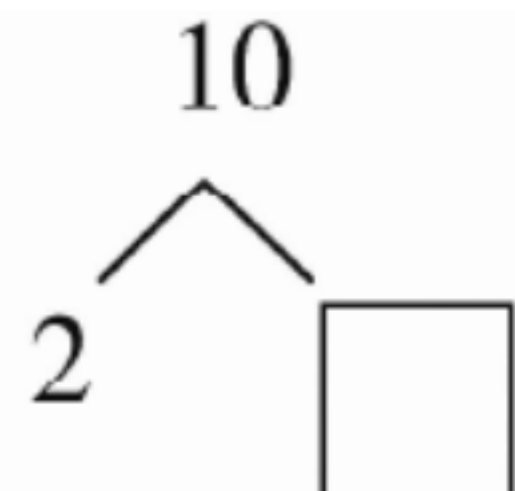
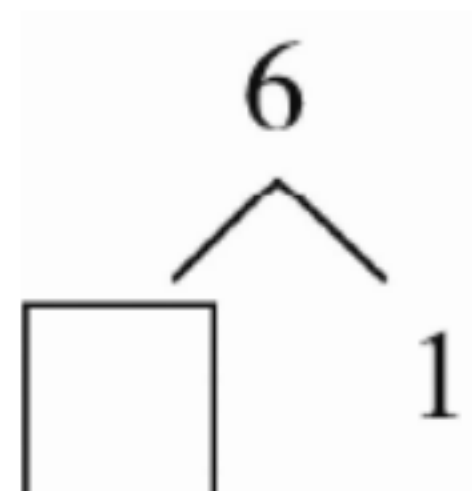
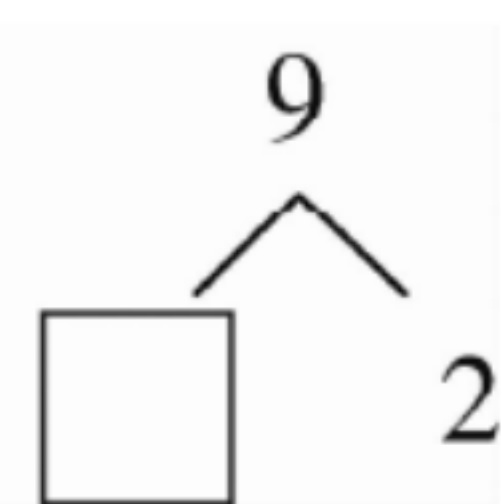
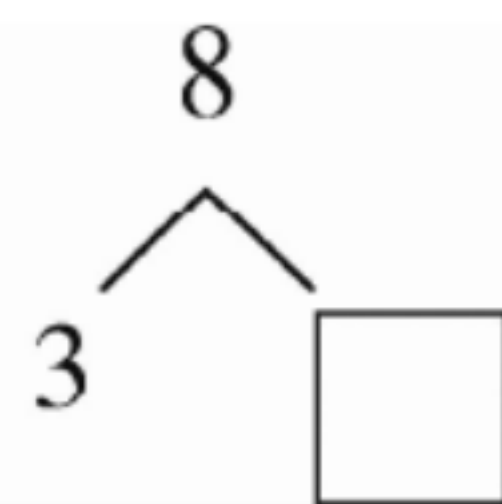
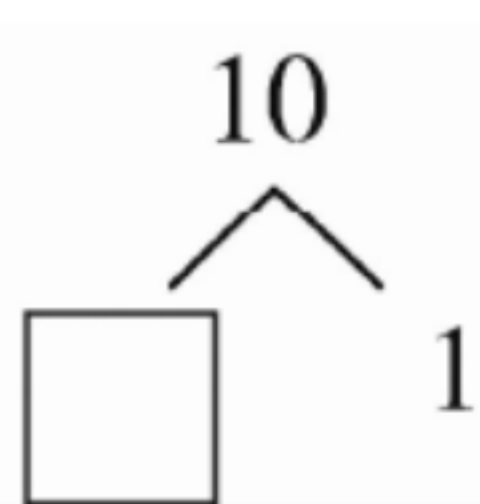
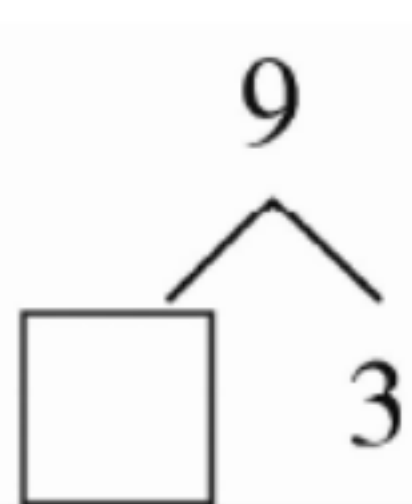
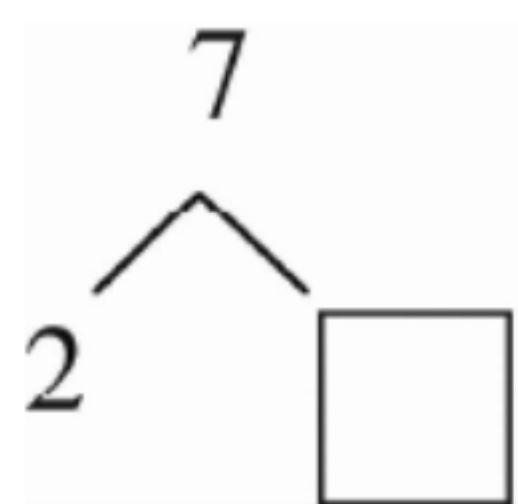
训练 22 10 的组成

$\begin{array}{c} 10 \\ \swarrow \searrow \\ 1 \quad \square \end{array}$	$\begin{array}{c} 10 \\ \swarrow \searrow \\ 2 \quad \square \end{array}$	$\begin{array}{c} 10 \\ \swarrow \searrow \\ 3 \quad \square \end{array}$	$\begin{array}{c} 10 \\ \swarrow \searrow \\ 4 \quad \square \end{array}$	$\begin{array}{c} 10 \\ \swarrow \searrow \\ \square \quad 5 \end{array}$
$\begin{array}{c} 10 \\ \swarrow \searrow \\ \square \quad 6 \end{array}$	$\begin{array}{c} 10 \\ \swarrow \searrow \\ \square \quad 7 \end{array}$	$\begin{array}{c} 10 \\ \swarrow \searrow \\ \square \quad 8 \end{array}$	$\begin{array}{c} 10 \\ \swarrow \searrow \\ \square \quad 9 \end{array}$	$\begin{array}{c} \square \\ \swarrow \searrow \\ 1 \quad 9 \end{array}$
$\begin{array}{c} \square \\ \swarrow \searrow \\ 8 \quad 10 \end{array}$	$\begin{array}{c} 9 \\ \swarrow \searrow \\ \square \quad 10 \end{array}$	$\begin{array}{c} 4 \\ \swarrow \searrow \\ \square \quad 10 \end{array}$	$\begin{array}{c} 10 \\ \swarrow \searrow \\ 10 \quad \square \end{array}$	$\begin{array}{c} 10 \\ \swarrow \searrow \\ 10 \quad \square \end{array}$
$\begin{array}{c} 10 \\ \swarrow \searrow \\ 10 \quad \square \end{array}$	$\begin{array}{c} 10 \\ \swarrow \searrow \\ 10 \quad \square \end{array}$	$\begin{array}{c} 3 \quad 7 \\ \swarrow \searrow \\ \square \end{array}$	$\begin{array}{c} 4 \quad 6 \\ \swarrow \searrow \\ \square \end{array}$	$\begin{array}{c} 2 \quad 8 \\ \swarrow \searrow \\ \square \end{array}$

微信公众号
教辅资料站



训练 23 10 以内数的组成练习



训练 24 10 的加减法

$10 - 2 =$

$10 + 0 =$

$5 + 5 =$

$10 - 10 =$

$0 + 10 =$

$4 + 6 =$

$10 - 1 =$

$10 - 0 =$

$10 - 8 =$

$8 + 2 =$

$2 + 8 =$

$10 - 3 =$

$1 + 9 =$

$10 - 9 =$

$6 + 4 =$

$10 - 6 =$

$7 + 3 =$

$10 - 4 =$

$10 - 7 =$

$9 + 1 =$

$10 - 5 =$

$3 + 7 =$

$9 - 5 =$

$9 - 9 =$

$2 + 7 =$

$6 - 4 =$

$0 + 9 =$

$3 + 6 =$

$8 - 3 =$

$7 - 6 =$

$8 - 7 =$

$4 + 4 =$

$9 - 6 =$

$1 + 8 =$

$5 + 3 =$

$9 - 2 =$

$6 - 1 =$

$8 - 6 =$

$9 - 1 =$

$8 - 4 =$

训练 25 10 以内加减法练习

$6-6=$	$9-7=$	$7-4=$	$5-1=$
$9-3=$	$8-4=$	$5+5=$	$3+6=$
$4+3=$	$2+2=$	$8+2=$	$9+0=$
$8-6=$	$8-2=$	$2+3=$	$7-6=$
$10-4=$	$10-3=$	$6+3=$	$10-7=$
$9-1=$	$9-2=$	$7-2=$	$4+5=$
$9-6=$	$10-5=$	$8-5=$	$10-2=$
$8-7=$	$2+6=$	$10-8=$	$7+3=$
$2+7=$	$4+4=$	$5+3=$	$3+3=$
$6-5=$	$2+5=$	$6-2=$	$1+8=$

训练 26 连加

$3+1+5=$	$6+0+1=$	$5+2+2=$	$3+2+1=$
$1+2+5=$	$4+2+2=$	$5+3+1=$	$2+5+3=$
$3+4+3=$	$7+1+2=$	$5+1+4=$	$5+1+2=$
$9+0+1=$	$6+0+2=$	$6+3+1=$	$1+2+5=$
$1+2+3=$	$0+5+4=$	$0+7+2=$	$8+0+2=$
$8+1+1=$	$6+0+4=$	$1+4+3=$	$6+0+1=$
$2+2+2=$	$4+4+2=$	$4+5+1=$	$3+3+3=$
$1+1+1=$	$8+1+1=$	$1+2+7=$	$3+2+4=$
$2+7+1=$	$3+5+2=$	$6+3+1=$	$3+0+4=$
$3+3+4=$	$2+6+2=$	$1+0+9=$	$5+4+1=$

微信公众
教辅资料站



训练 27 连减

$10-5-3=$

$8-3-2=$

$7-4-3=$

$9-5-2=$

$7-2-3=$

$8-1-2=$

$10-8-2=$

$6-1-4=$

$10-0-9=$

$9-2-0=$

$9-5-2=$

$8-7-1=$

$7-6-1=$

$10-1-2=$

$6-3-3=$

$8-2-3=$

$10-3-5=$

$9-2-4=$

$9-3-5=$

$10-7-2=$

$7-3-1=$

$10-1-6=$

$9-6-1=$

$5-1-3=$

$6-3-0=$

$8-4-4=$

$9-5-1=$

$10-2-3=$

$10-2-5=$

$7-2-2=$

$3-2-1=$

$5-0-4=$

$6-3-2=$

$8-6-1=$

$8-4-0=$

$7-3-0=$

$4-2-2=$

$5-3-1=$

$3-1-1=$

$10-0-8=$

训练 28 加减混合

$9-7+3=$

$5+4-2=$

$9-4+5=$

$10-8+0=$

$6+3-1=$

$5-2+5=$

$4+5-1=$

$5-4+1=$

$3+6-4=$

$5+2-7=$

$10-4+2=$

$2-1+7=$

$6-1+3=$

$8-2+1=$

$4+6-9=$

$5+1-4=$

$4+3-5=$

$4+3-2=$

$5-3+6=$

$2+6-4=$

$2+7-6=$

$7-3+6=$

$2+5-4=$

$5-5+6=$

$4-1+4=$

$8-4+4=$

$6-3+2=$

$10-9+7=$

$4+5-9=$

$5+5-2=$

$9-4+4=$

$8-3+4=$

$10-6+3=$

$3+5-3=$

$10-5+3=$

$1+9-9=$

$5-4+8=$

$9-3+2=$

$2+8-3=$


$7+2-7=$

训练 29 加减混合练习


$7+2-1=$	$10-6+5=$	$9-2+3=$	$5+1-3=$
$10-5-2=$	$3+2-5=$	$8-4+3=$	$3+1-4=$
$6+1-2=$	$8-1+0=$	$5+5-7=$	$10-4+2=$
$9+1-4=$	$10-4+4=$	$6-1-4=$	$3+7-4=$
$10-5+4=$	$9+1-4=$	$8-3+4=$	$4+6-7=$
$2+5-4=$	$8-4+3=$	$9-4+3=$	$7-3+6=$
$8-1+3=$	$6+4-9=$	$8-2+1=$	$3+6-9=$
$5+3-2=$	$10-3+3=$	$6-1+4=$	$3+7-6=$
$7-3+4=$	$6+3-5=$	$9-3+2=$	$10-9+7=$
$3+5-1=$	$10-4+2=$	$8-5+6=$	$2+7-1=$

训练 30 数数和读数

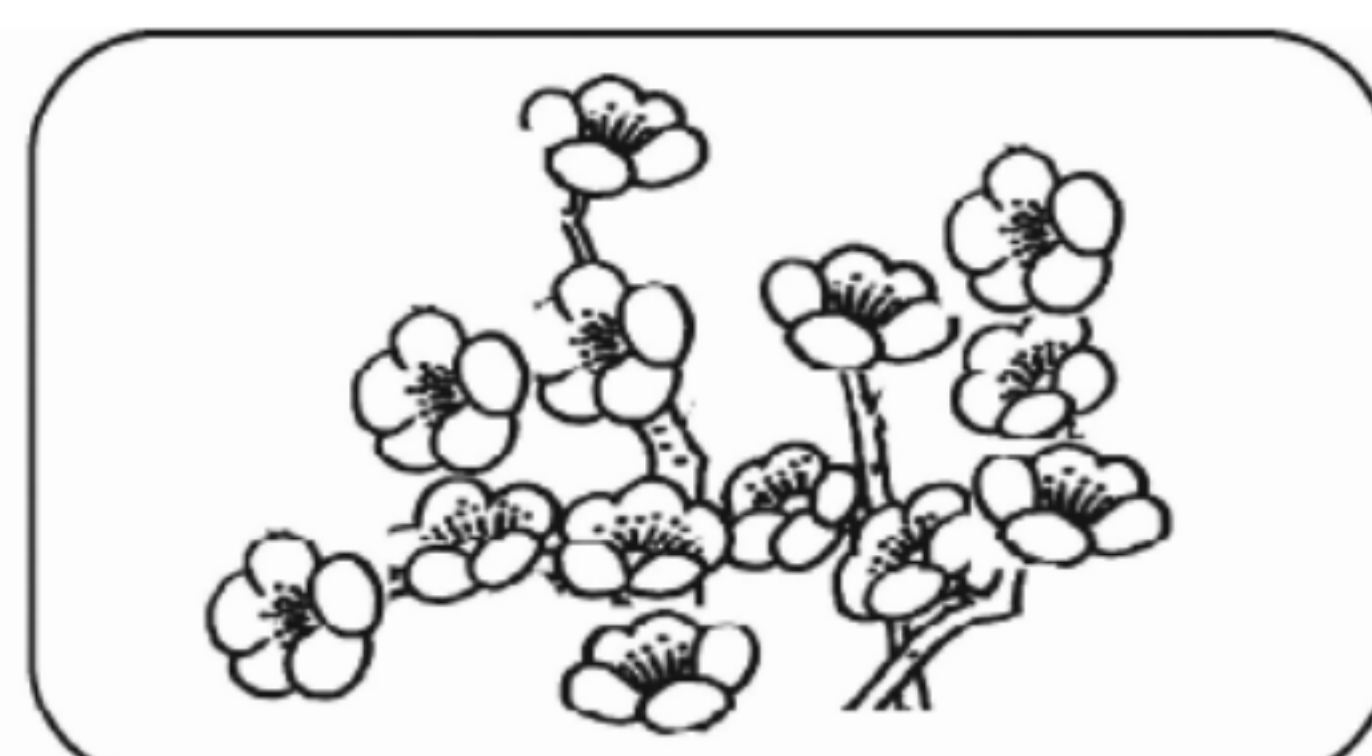
1. 数一数,填一填。



() 片



() 个



() 朵


2. 帮小动物读出下面各数。



读作: _____



读作: _____



读作: _____



读作: _____

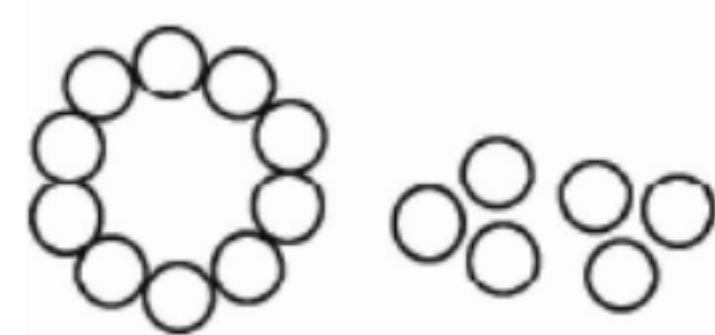


读作: _____

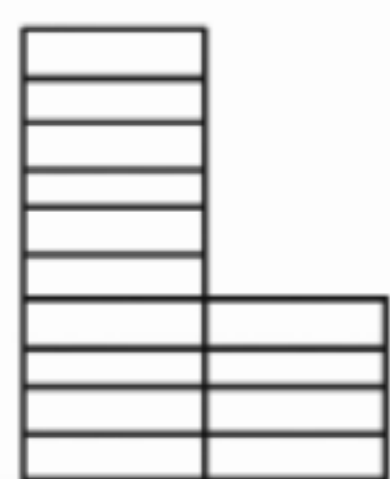
微信公众号
教辅资料站

训练 31 数的组成和写数

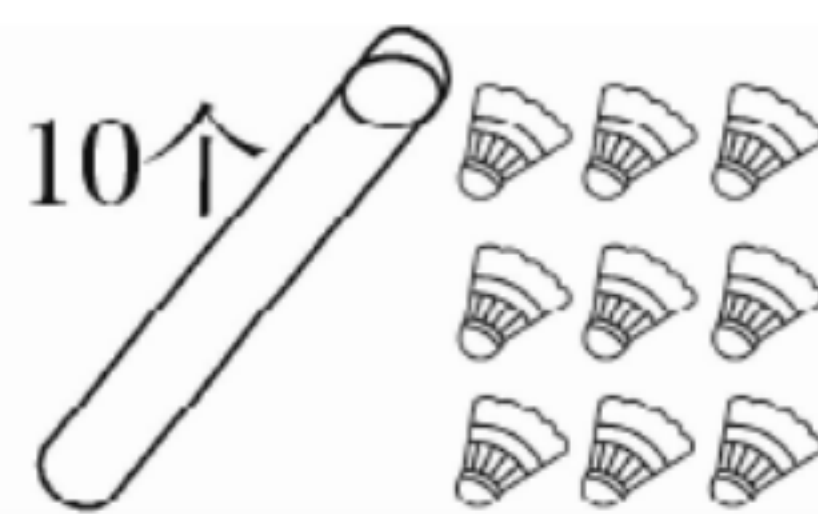
1. 看图写数。



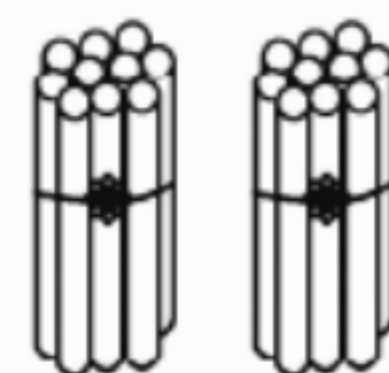
()



()

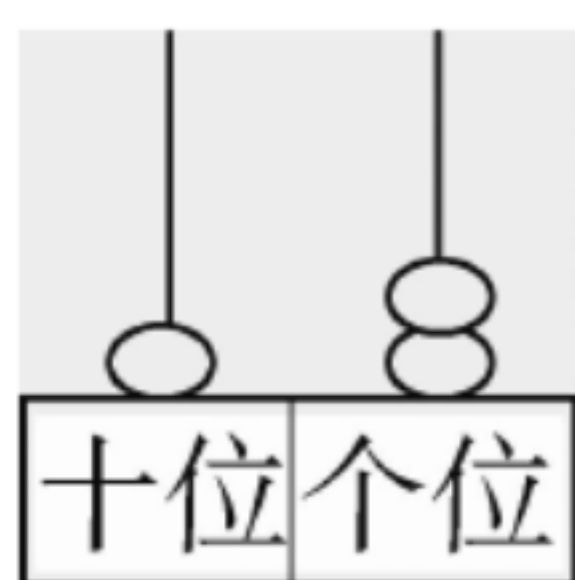


()



()

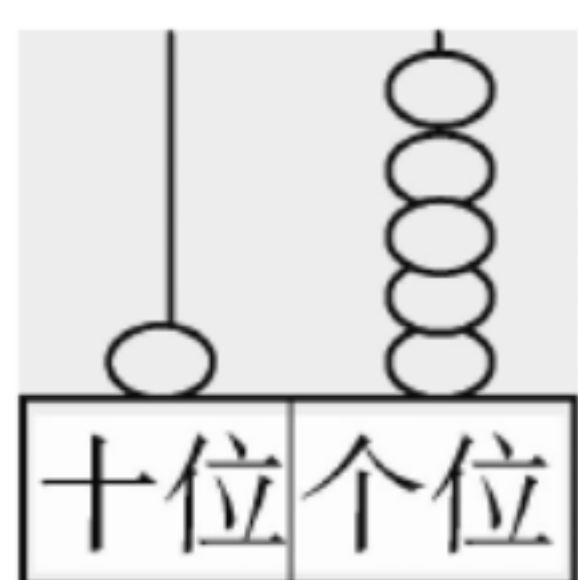
2. 填一填。



写作: _____

读作: _____

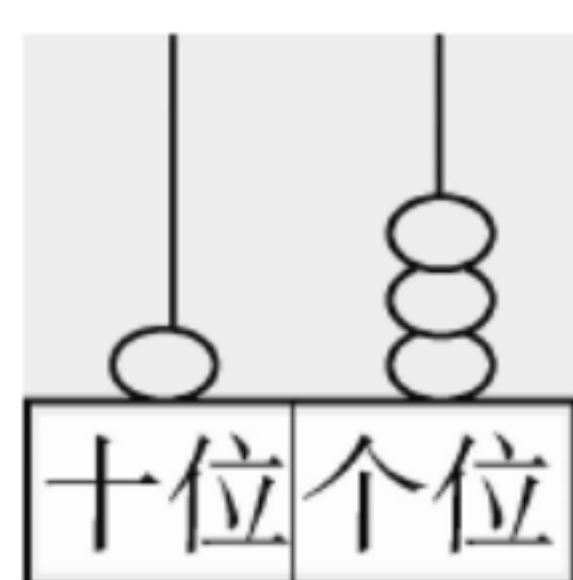
()个十
和()个一



写作: _____

读作: _____

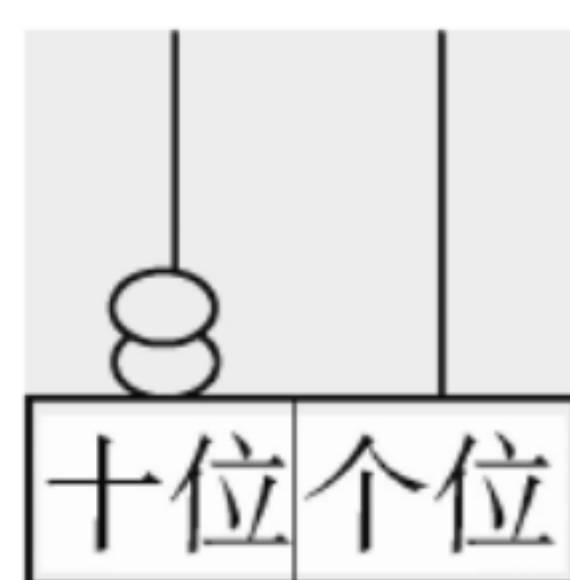
()个十
和()个一



写作: _____

读作: _____

()个十
和()个一



写作: _____

读作: _____

()个十
和()个一

训练 32 11~20 的加减法

$11 - 10 =$

$12 - 2 =$

$10 + 4 =$

$15 + 4 =$

$6 + 10 =$

$7 + 10 =$

$10 + 2 =$

$10 + 5 =$

$17 - 7 =$

$9 + 10 =$

$18 - 8 =$

$17 - 10 =$

$2 + 10 =$

$12 - 10 =$

$18 - 10 =$

$10 + 1 =$

$11 - 1 =$

$5 + 10 =$

$19 - 10 =$

$19 - 9 =$

$10 + 6 =$

$8 + 10 =$

$3 + 10 =$

$10 + 3 =$

$1 + 10 =$

$13 - 3 =$

$13 - 10 =$

$16 - 6 =$

$16 - 10 =$

$4 + 10 =$

$11 + 8 =$

$12 + 5 =$

$19 - 7 =$

$18 - 1 =$

$12 + 4 =$

$11 + 2 =$

$17 - 5 =$

$13 - 2 =$

$19 - 6 =$






$17 - 6 =$

训练 33 11~20 的应用

$5+10=$	$11-10=$	$16-10=$	$10+2=$
$18-5=$	$12+3=$	$14+4=$	$16-3=$
$15-10=$	$4+10=$	$13-1=$	$11+7=$
$16+3=$	$3+14=$	$0+17=$	$7+10=$
$18-2=$	$14-4=$	$17-4=$	$14-10=$
$14+0=$	$10+9=$	$12+6=$	$7+11=$
$16-2=$	$15-5=$	$13-10=$	$18-7=$
$12-10=$	$4+15=$	$11-1=$	$5+14=$
$19-3=$	$8+10=$	$18-6=$	$19-10=$
$8+11=$	$16-1=$	$18-8=$	$3+10=$

训练 34 认识钟表

1. 写出钟面上的时间。

				
_____ 时	_____ 时	_____ 时	_____ 时	_____ 时
<div style="border: 1px solid black; width: 60px; height: 30px; display: flex; align-items: center; justify-content: center;">:</div>	<div style="border: 1px solid black; width: 60px; height: 30px; display: flex; align-items: center; justify-content: center;">:</div>	<div style="border: 1px solid black; width: 60px; height: 30px; display: flex; align-items: center; justify-content: center;">:</div>	<div style="border: 1px solid black; width: 60px; height: 30px; display: flex; align-items: center; justify-content: center;">:</div>	<div style="border: 1px solid black; width: 60px; height: 30px; display: flex; align-items: center; justify-content: center;">:</div>

2. 连一连。

				
<div style="border: 1px solid black; border-radius: 10px; padding: 5px; display: inline-block;">快 8 时了</div>	<div style="border: 1px solid black; border-radius: 10px; padding: 5px; display: inline-block;">9 时</div>	<div style="border: 1px solid black; border-radius: 10px; padding: 5px; display: inline-block;">2 时过一点儿</div>	<div style="border: 1px solid black; border-radius: 10px; padding: 5px; display: inline-block;">4 时</div>	<div style="border: 1px solid black; border-radius: 10px; padding: 5px; display: inline-block;">快 5 时了</div>



训练 35 9 加几

$$9 + 2 = \square$$

$$9 + 3 = \square$$

$$9 + 4 = \square$$

$$9 + 5 = \square$$

$$9 + 6 = \square$$

$$9 + 7 = \square$$

$$9 + 8 = \square$$

$$9 + 9 = \square$$

$$9 + 1 + 1 =$$

$$9 + 1 + 5 =$$

$$9 + 1 + 2 =$$

$$9 + 1 + 6 =$$

$$9 + 2 =$$

$$9 + 6 =$$

$$9 + 3 =$$

$$9 + 7 =$$

$$9 + 1 + 3 =$$

$$9 + 1 + 7 =$$

$$9 + 1 + 4 =$$

$$9 + 1 + 8 =$$

$$9 + 4 =$$

$$9 + 8 =$$

$$9 + 5 =$$

$$9 + 9 =$$

训练 36 8、7、6 加几

$$8 + 3 = \square$$

$$8 + 4 = \square$$

$$8 + 5 = \square$$

$$7 + 4 = \square$$

$$7 + 5 = \square$$

$$7 + 6 = \square$$

$$6 + 5 = \square$$

$$6 + 6 = \square$$

$$8 + 2 + 4 =$$

$$6 + 4 + 1 =$$

$$8 + 2 + 5 =$$

$$6 + 4 + 2 =$$

$$8 + 6 =$$

$$6 + 5 =$$

$$8 + 7 =$$

$$6 + 6 =$$

$$8 + 2 + 6 =$$

$$7 + 3 + 3 =$$

$$7 + 3 + 4 =$$

$$8 + 2 + 2 =$$

$$8 + 8 =$$

$$7 + 6 =$$

$$7 + 7 =$$

$$8 + 4 =$$

训练 37 9、8、7、6 加几的练习

$$9 + 6 = \square$$

$$8 + 8 = \square$$

$$7 + 7 = \square$$

$$6 + 6 = \square$$

$$9 + 3 = \square$$

$$8 + 5 = \square$$

$$7 + 6 = \square$$

$$6 + 5 = \square$$

$8 + 6 =$

$7 + 4 =$

$9 + 9 =$

$9 + 4 =$

$9 + 7 =$

$9 + 8 =$

$8 + 3 =$

$8 + 7 =$

$7 + 5 =$

$9 + 5 =$

$8 + 4 =$

$6 + 5 =$

训练 38 5、4、3、2 加几

$5 + 9 =$

$4 + 9 =$

$2 + 9 =$

$3 + 9 =$

$9 + 5 =$

$9 + 4 =$

$9 + 2 =$

$9 + 3 =$

$3 + 8 =$

$5 + 8 =$

$4 + 8 =$

$4 + 7 =$

$8 + 3 =$

$8 + 5 =$

$8 + 4 =$

$7 + 4 =$

$7 + 6 =$

$8 + 7 =$

$7 + 9 =$

$6 + 8 =$

$6 + 7 =$

$7 + 8 =$

$9 + 7 =$

$8 + 6 =$

$6 + 6 =$

$7 + 7 =$

$8 + 8 =$

$9 + 9 =$

$3 + 2 + 9 =$

$2 + 2 + 8 =$

$4 + 1 + 7 =$

$2 + 2 + 9 =$

$3 + 1 + 9 =$

$3 + 1 + 7 =$

$1 + 2 + 8 =$

$2 + 3 + 7 =$

$1 + 4 + 8 =$

$1 + 1 + 9 =$

$2 + 3 + 6 =$

$2 + 2 + 7 =$



训练 39 20 以内进位加法练习(1)

$2+9=$

$9+3=$

$9+7=$

$8+5=$

$3+8=$

$8+9=$

$7+4=$

$5+9=$

$9+9=$

$8+6=$

$9+2=$

$6+8=$

$8+4=$

$9+5=$

$4+7=$

$8+8=$

$9+8=$

$3+9=$

$8+7=$

$4+8=$

$5+8=$

$7+9=$

$9+4=$

$6+5=$

$4+9=$

$9+6=$

$7+8=$

$8+3=$

$6+9=$

$7+6=$

$7+7=$

$5+7=$

$7+5=$

$6+6=$

$6+7=$

$5+6=$

$2+6+5=$

$3+4+7=$

$1+2+8=$

$3+1+9=$

训练 40 20 以内进位加法练习(2)

$4+7=$

$8+9=$

$7+4=$

$8+7=$

$9+5=$

$9+9=$

$9+3=$

$6+7=$

$5+6=$

$8+6=$

$9+7=$

$9+2=$

$7+9=$

$5+9=$

$2+9=$

$8+4=$

$9+8=$

$3+9=$

$8+5=$

$6+5=$

$8+8=$

$5+8=$

$3+8=$

$9+6=$

$7+7=$

$4+8=$

$7+8=$

$8+3=$

$6+9=$

$7+6=$

$4+9=$

$5+7=$

$9+4=$

$6+6=$

$6+8=$

$7+5=$

$1+1+9=$

$4+4+7=$

$3+4+6=$

$5+4+6=$

训练 41 总复习(1)

$7+7=$	$8+5=$	$10-6=$	$16-3=$
$13+2=$	$5+7=$	$5+4=$	$3+7=$
$0+9=$	$7+4=$	$4+9=$	$3+8=$
$9+3=$	$6+8=$	$10-4=$	$7+6=$
$2+9=$	$10+5=$	$5+8=$	$3+8=$
$3+2=$	$6+11=$	$14-3=$	$16-3=$
$9-6=$	$2+8=$	$19-7=$	$2+7=$
$10-0=$	$15+4=$	$17-7=$	$2+13=$
$3+1=$	$8-4=$	$6+3=$	$10-8=$
$18-10=$	$17+2=$	$10+10=$	$20-10=$

训练 42 总复习(2)

$7+2=$	$5+7=$	$10-4=$	$3+6+4=$
$9+6=$	$4+7=$	$12-10=$	$19-3-5=$
$13-2=$	$8+10=$	$9+3=$	$17-7+3=$
$5+9=$	$18-7=$	$8+9=$	$8+5+2=$
$9-5=$	$5+8=$	$10-9=$	$7+3-8=$
$9+6=$	$4-2=$	$8+8=$	$14-4+6=$
$9+9=$	$7+9=$	$8-6=$	$6+7-2=$
$10-5=$	$3+8=$	$7+9=$	$15-2-3=$
$6+7=$	$0+9=$	$8-0=$	$12+4-6=$
$17+2=$	$18-8=$	$9+9=$	$15-5+6=$



训练 43 总复习(3)

$16+2=$

$9+3=$

$8+8=$

$8-3+4=$

$18-5=$

$10-7=$

$5+6=$

$4+6-7=$

$8+9=$

$12+6=$

$4+10=$

$13+2-4=$

$19-9=$

$11+3=$

$0+18=$

$18-5-2=$

$5+7=$

$7+3=$

$9+6=$

$14+2+2=$

$11-1=$

$8+2=$

$8-6=$

$18-8-2=$

$0+6=$

$11+8=$

$15-5=$

$15-5+7=$

$9-9=$

$14-0=$

$5+4=$

$5+12-4=$

$7+8=$

$3+3=$

$7-6=$

$13-3-5=$

$4+9=$

$6+5=$

$17-10=$

$9+5+3=$

训练 44 总复习(4)

$9+5=$

$13+4=$

$11+2=$

$10-7-3=$

$5-3=$

$15-2=$

$2+9=$

$6-4+7=$

$4+8=$

$9-7=$

$17-5=$

$7+8-5=$

$9-3=$

$9+7=$

$10-9=$

$8+2-4=$

$7-7=$

$6+5=$

$8-0=$

$9-6+2=$

$3+8=$

$0+5=$

$7+6=$

$3+8+6=$

$9+4=$

$6+8=$

$10+9=$

$18-8-4=$

$4+2=$

$11-10=$

$5+13=$

$10-8+9=$

$17-2=$

$16-10=$

$8-8=$

$9+9-9=$

$7+7=$

$5+2=$

$2+12=$

$6+6+5=$

