



# 一起 练习

YI QI  
LIAN XI

口算通关



1

一年级上<sub>2</sub>

数学 <sup>BS</sup>



# 一起 练习

YI QI  
LIAN XI

口算通关

1

一年级上<sub>2</sub>

数学<sup>BS</sup>

微信公众号

教辅资料站

沈阳出版发行集团

沈阳出版社



# 目录

CONTENTS

## ◎一 生活中的数

|      |       |   |
|------|-------|---|
| 训练 1 | 快乐的家园 | 1 |
| 训练 2 | 玩具    | 1 |
| 训练 3 | 小猫钓鱼  | 2 |
| 训练 4 | 文具    | 2 |
| 训练 5 | 快乐的午餐 | 3 |
| 训练 6 | 动物乐园  | 3 |
| 训练 7 | 练习课   | 4 |

## ◎二 比较

|       |     |   |
|-------|-----|---|
| 训练 8  | 过生日 | 4 |
| 训练 9  | 下课啦 | 5 |
| 训练 10 | 跷跷板 | 5 |
| 训练 11 | 练习课 | 6 |

## ◎三 加与减(一)

|       |       |    |
|-------|-------|----|
| 训练 12 | 一共有多少 | 6  |
| 训练 13 | 还剩下多少 | 7  |
| 训练 14 | 可爱的小猫 | 7  |
| 训练 15 | 练习课   | 8  |
| 训练 16 | 猜数游戏  | 8  |
| 训练 17 | 背土豆   | 9  |
| 训练 18 | 跳绳    | 9  |
| 训练 19 | 可爱的企鹅 | 10 |
| 训练 20 | 小鸡吃食  | 10 |
| 训练 21 | 乘车    | 11 |
| 训练 22 | 练习课   | 11 |
| 训练 23 | 做个加法表 | 12 |
| 训练 24 | 做个减法表 | 12 |

## ◎四 分类

|       |       |    |
|-------|-------|----|
| 训练 25 | 整理房间  | 13 |
| 训练 26 | 一起来分类 | 13 |

## ◎五 位置与顺序

|       |     |    |
|-------|-----|----|
| 训练 27 | 前后  | 14 |
| 训练 28 | 上下  | 14 |
| 训练 29 | 左右  | 15 |
| 训练 30 | 教室  | 15 |
| 训练 31 | 练习课 | 16 |

## ◎六 认识图形

|       |      |    |
|-------|------|----|
| 训练 32 | 认识图形 | 16 |
| 训练 33 | 我说你做 | 17 |

## ◎七 加与减(二)

|       |       |    |
|-------|-------|----|
| 训练 34 | 古人计数  | 17 |
| 训练 35 | 搭积木   | 18 |
| 训练 36 | 有几瓶牛奶 | 18 |
| 训练 37 | 有几棵树  | 19 |
| 训练 38 | 有几只小鸟 | 19 |
| 训练 39 | 做个加法表 | 20 |
| 训练 40 | 练习课   | 20 |

## ◎数学好玩

|       |       |    |
|-------|-------|----|
| 训练 41 | 淘气的校园 | 21 |
| 训练 42 | 一起做游戏 | 21 |

## ◎八 认识钟表

|       |       |    |
|-------|-------|----|
| 训练 43 | 小明的一天 | 22 |
|-------|-------|----|

## ◎总复习

|       |      |    |
|-------|------|----|
| 训练 44 | 综合练习 | 22 |
|-------|------|----|






|              |    |
|--------------|----|
| 参考答案(见同步练习后) | 84 |
|--------------|----|



# 一 生活中的数




## 训练 1 快乐的家园

1. 数一数,画一画。

|   |  |   |   |
|---|--|---|---|
|  |  |  |  |
|  |  |   |   |







2. 看一看,圈一圈。



上面一共有(3,4,5)只小动物,第 5 只是( );是第(3,4)只。

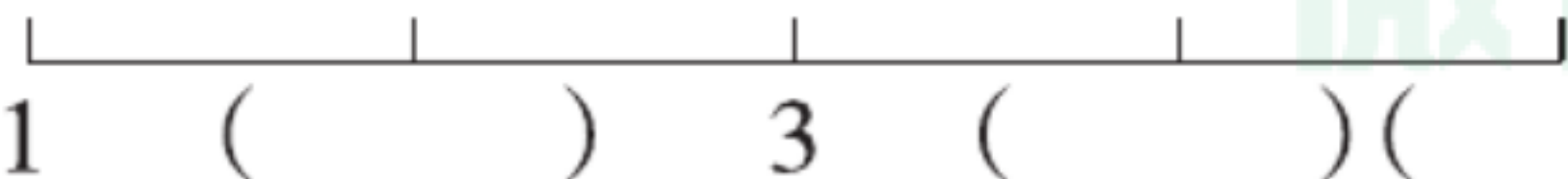
## 训练 2 玩具

1. 画一画。

|   |   |  |   |   |
|---|---|--|---|---|
|  |  |  |  |  |
|  |   |  |   |   |

2. 按顺序写数。

(1) 

(2)  1 ( ) 3 ( ) ( )

微信公众  
教辅资料站





## 训练3 小猫钓鱼

1. 数一数, 写一写。



|  |  |
|--|--|
|  |  |
|  |  |



|  |  |
|--|--|
|  |  |
|  |  |

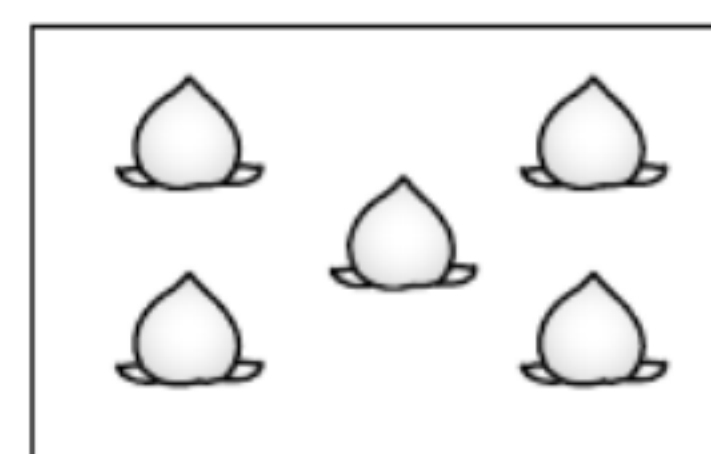
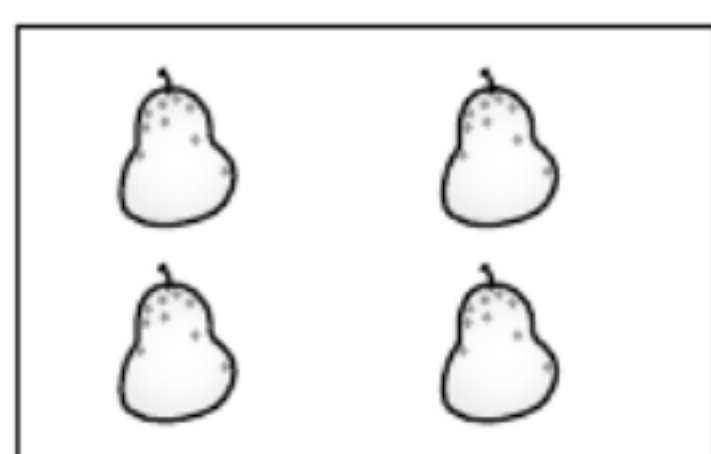



|  |  |
|--|--|
|  |  |
|  |  |



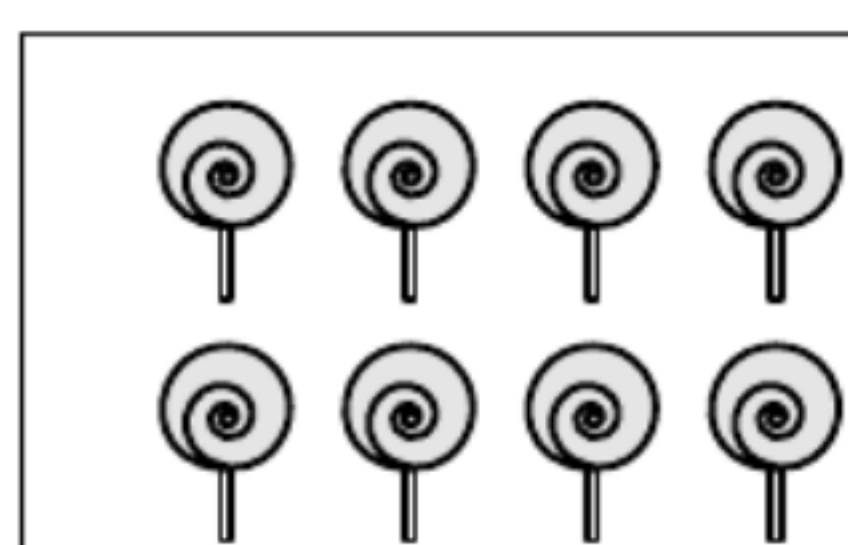
|  |  |
|--|--|
|  |  |
|  |  |

2. 找朋友, 连一连。

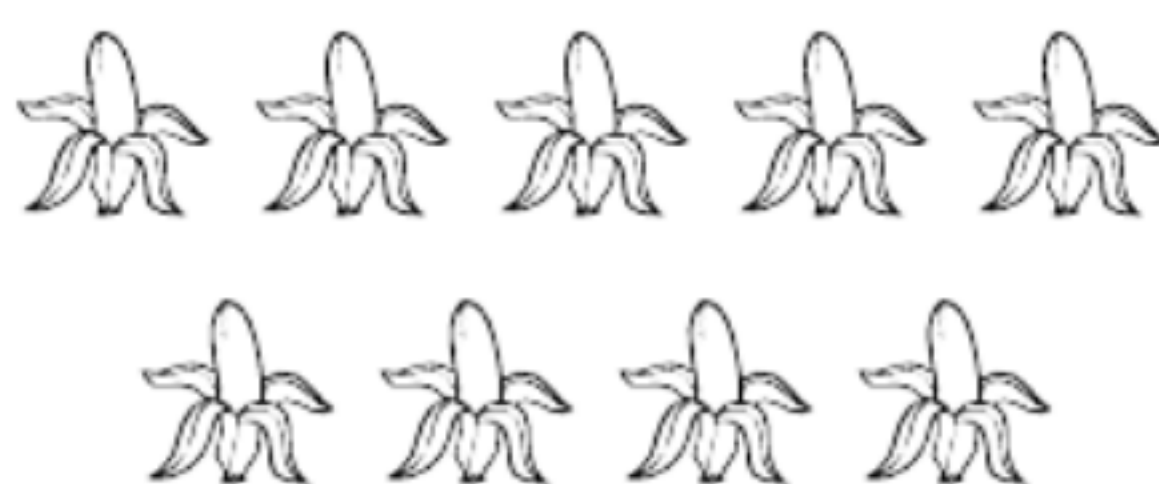


## 训练4 文具

1. 数一数, 写一写。



|  |  |
|--|--|
|  |  |
|  |  |



|  |  |
|--|--|
|  |  |
|  |  |



|  |  |
|--|--|
|  |  |
|  |  |



|  |  |
|--|--|
|  |  |
|  |  |


2. 一共有( )只昆虫。



我排第2。



我排第( )。



我排第( )。




我排第( )。






## 训练5 快乐的午餐

1. 在对的后面画“√”，错的后面画“×”。



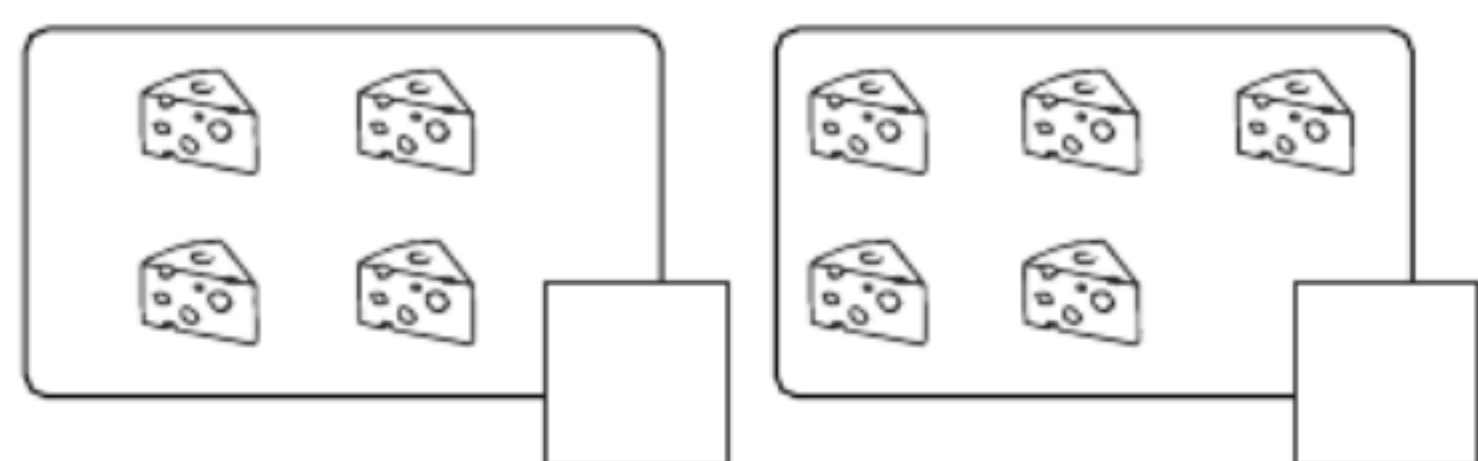
和 同样多。( )



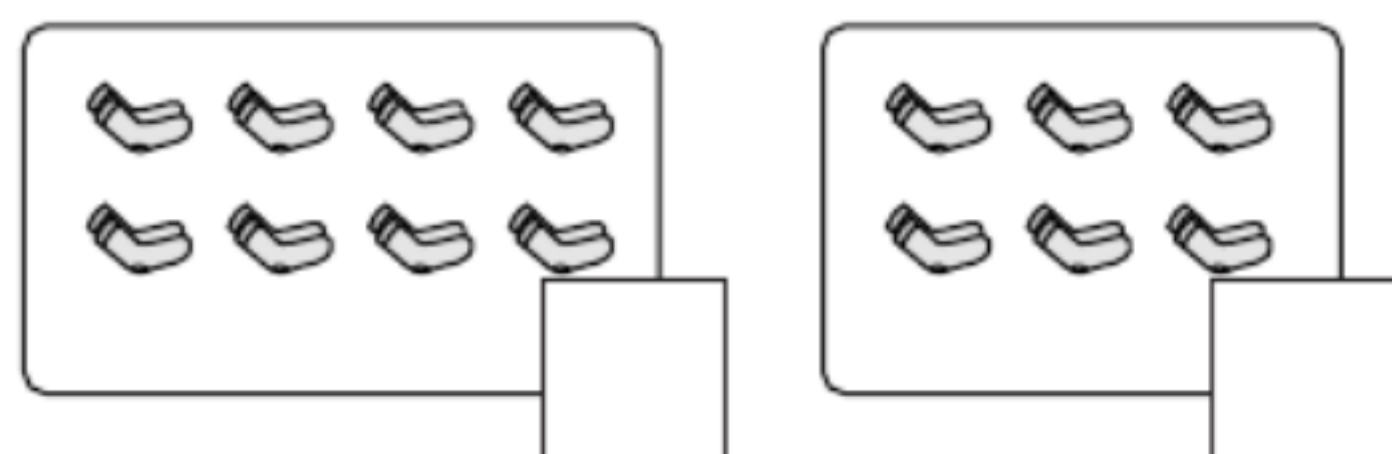

比 多。( )

2. 哪一堆正合适？在后面画“√”。

每只老鼠一块奶酪。



每人一双袜子。



## 训练6 动物乐园

1. 我会填。



有( )顶, 有( )个。



☆ 比 ○ ( )。

2. 在○里填上“>”“<”或“=”，在□里填上合适的数。

$10 \bigcirc 8$

$6 \bigcirc 9$

$2 \bigcirc 2$

$0 \bigcirc 5$

$10 \bigcirc 0$

$4 < \square$

$9 > \square$

$\square < 8$

$\square > 6$

$7 = \square$

3. 把大于6的涂上颜色,把小于7的写下来。

5

1

10

7

9

2

6

8


0





## 训练7 练习课

1. 一共有( )只小动物在比赛跑步。



第1 第  第  第  第  第  第



3. 每个小朋友分一双鞋够吗? 在正确答案后面画“√”。




够 ☐ 不够 ☐

## 二 比较


### 训练8 过生日

1. 比一比。

(1) 大的画“√”。



(2) 哪瓶饮料装得最多? 画“√”。



2. 装得最多的画“√”, 最少的画“○”。



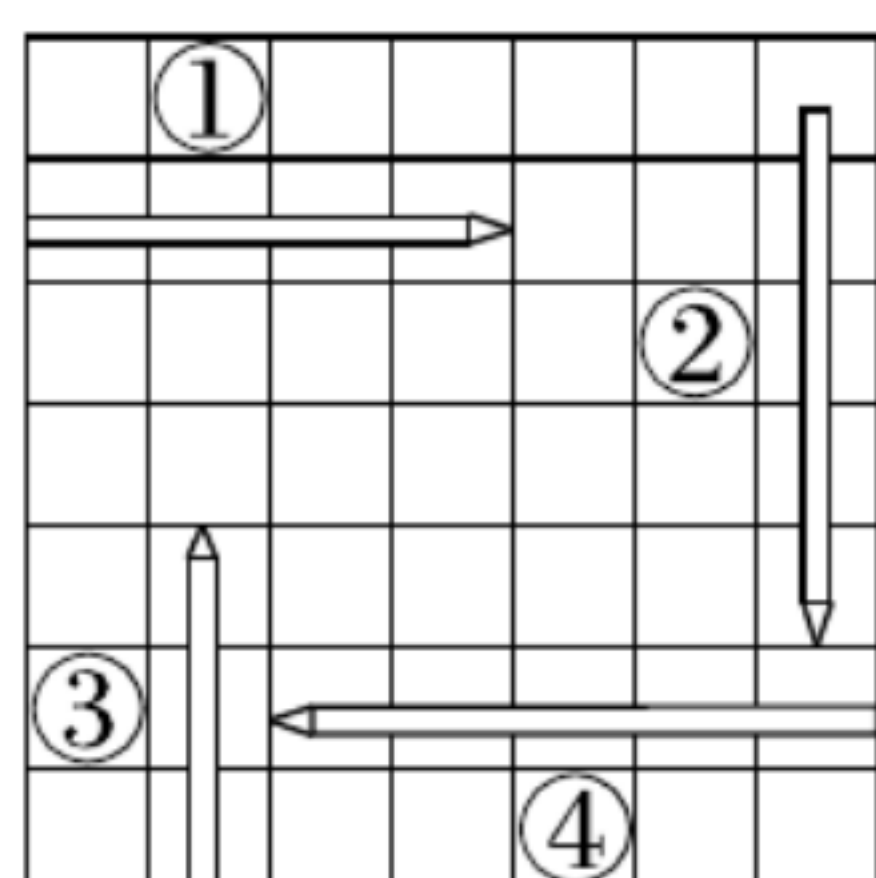


## 训练 9 下课啦

1. 身高最高的在括号里画“√”，最矮的在括号里画“○”。



2. 从长到短依次排起来。

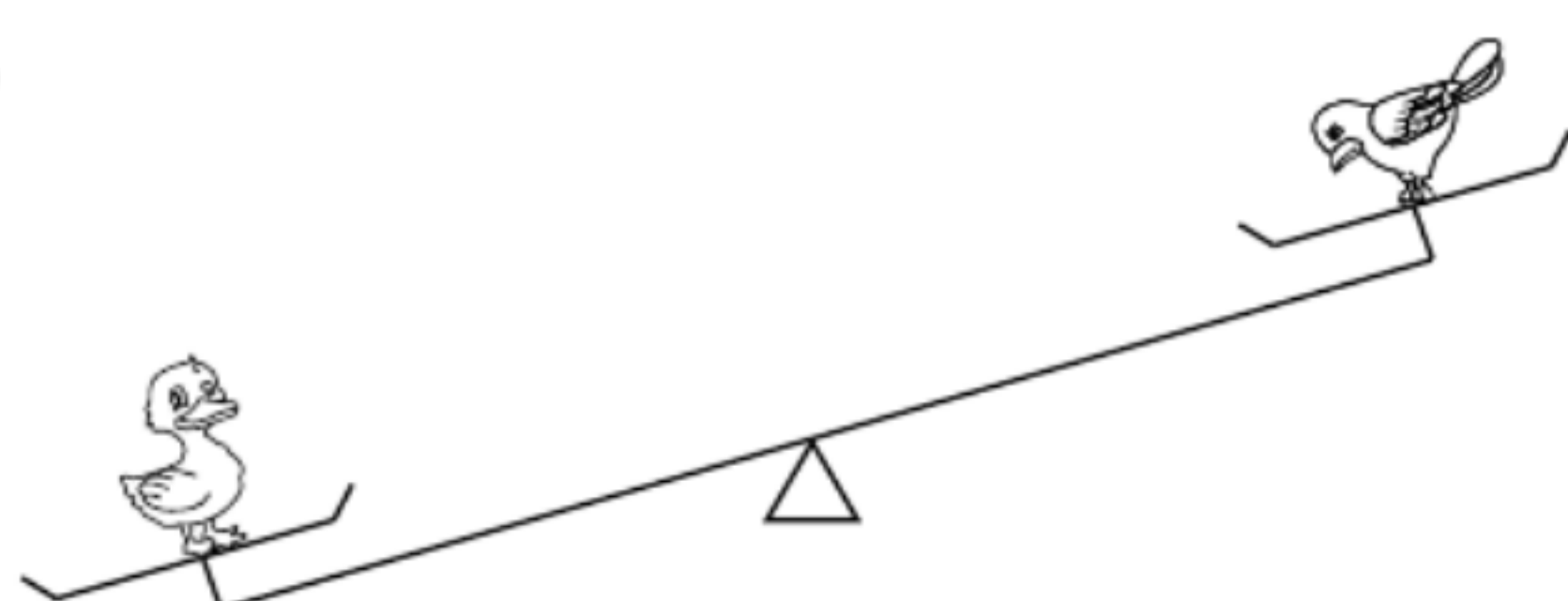


( ) 号 → ( ) 号 → ( ) 号 → ( ) 号

## 训练 10 跷跷板

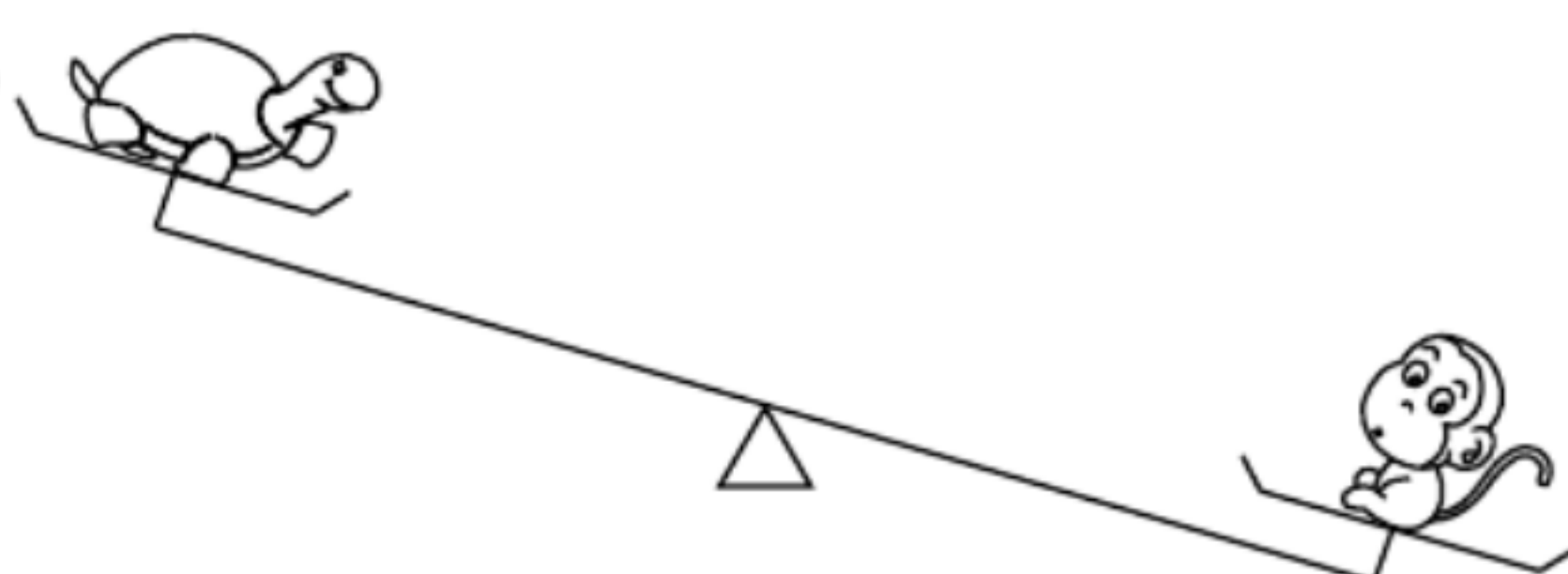
1. 将正确答案的序号填在括号里。

(1)



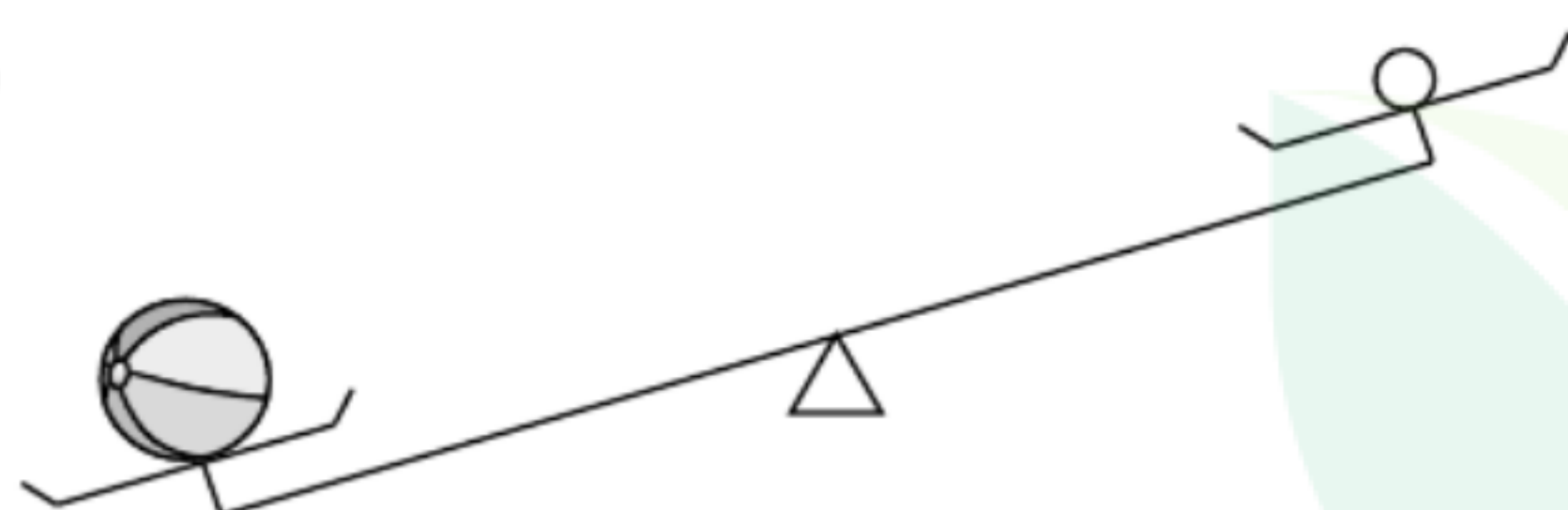
( ) 重。①小鸭 ②小鸟

(2)



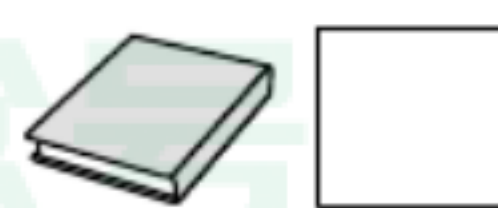
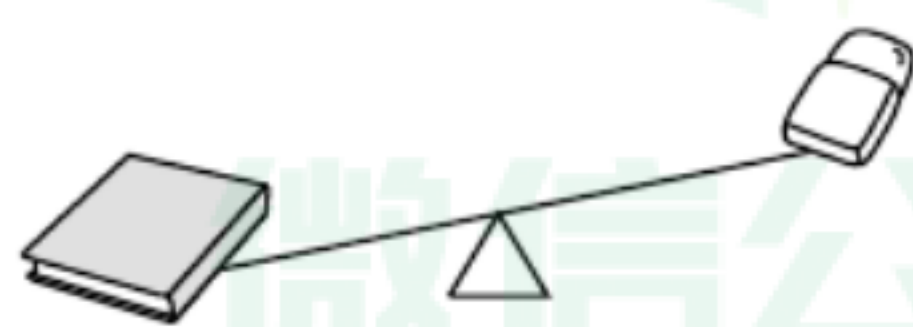
( ) 轻。①小乌龟 ②小猴

(3)



( ) 重。①篮球 ②乒乓球

2. 最轻的画“√”，最重的画“○”。

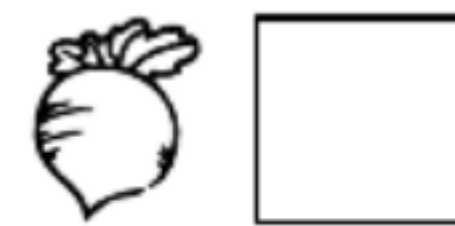
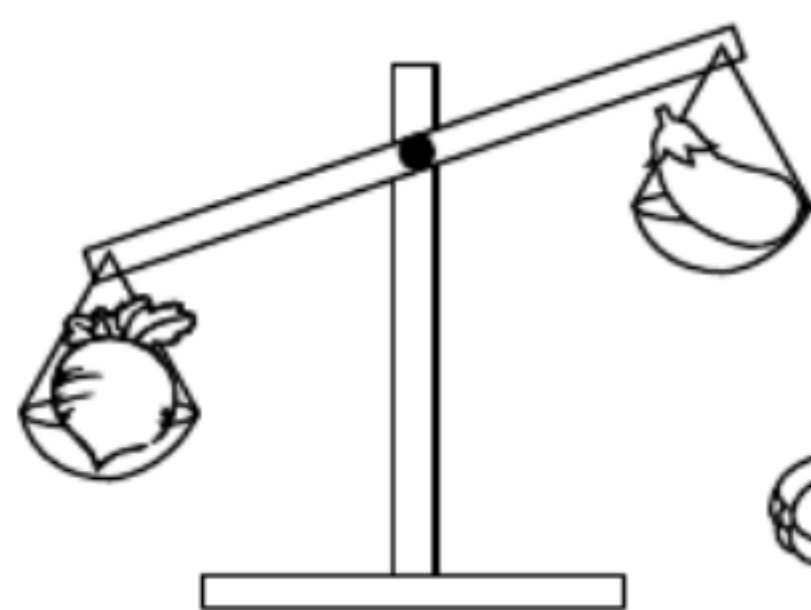
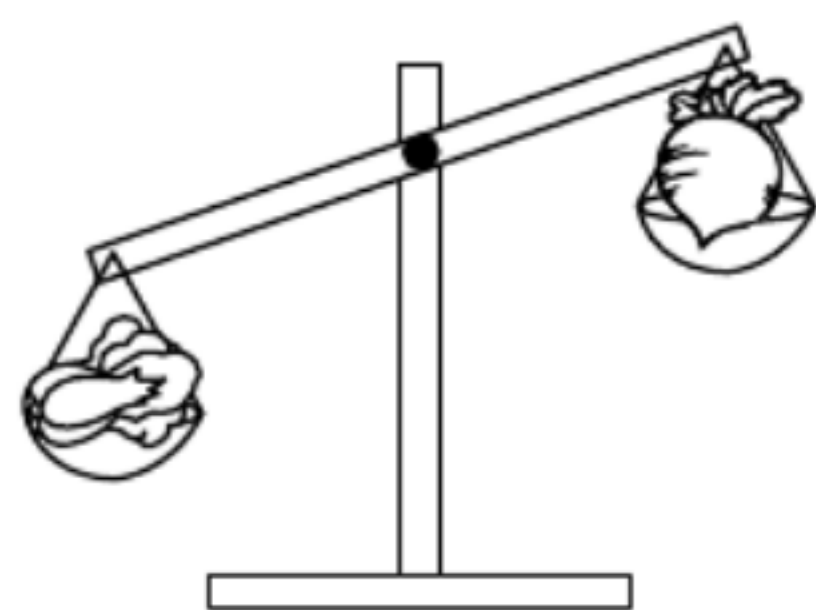




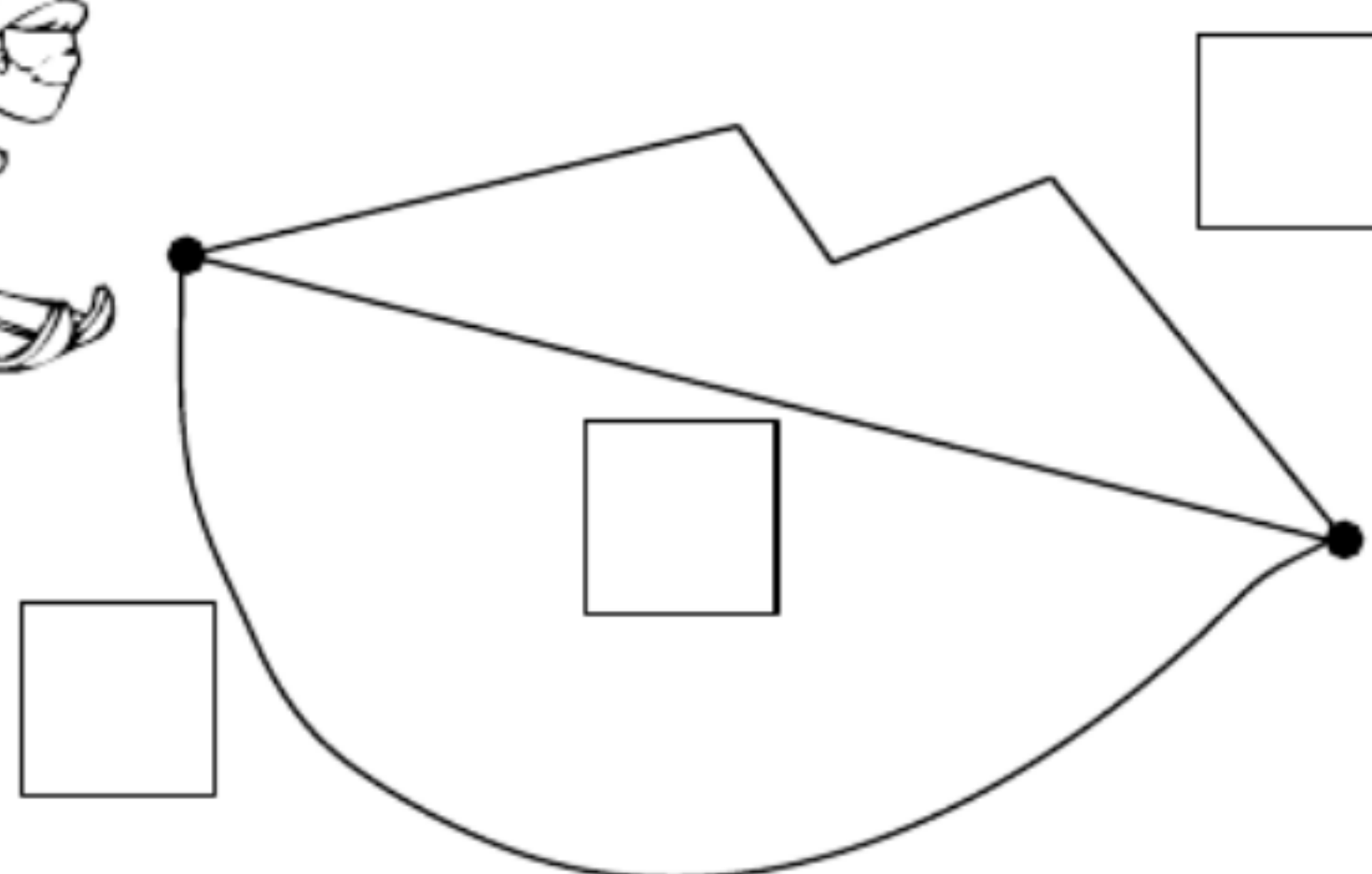


## 训练 11 练习课

1. 哪种蔬菜最轻？在下面画“○”。

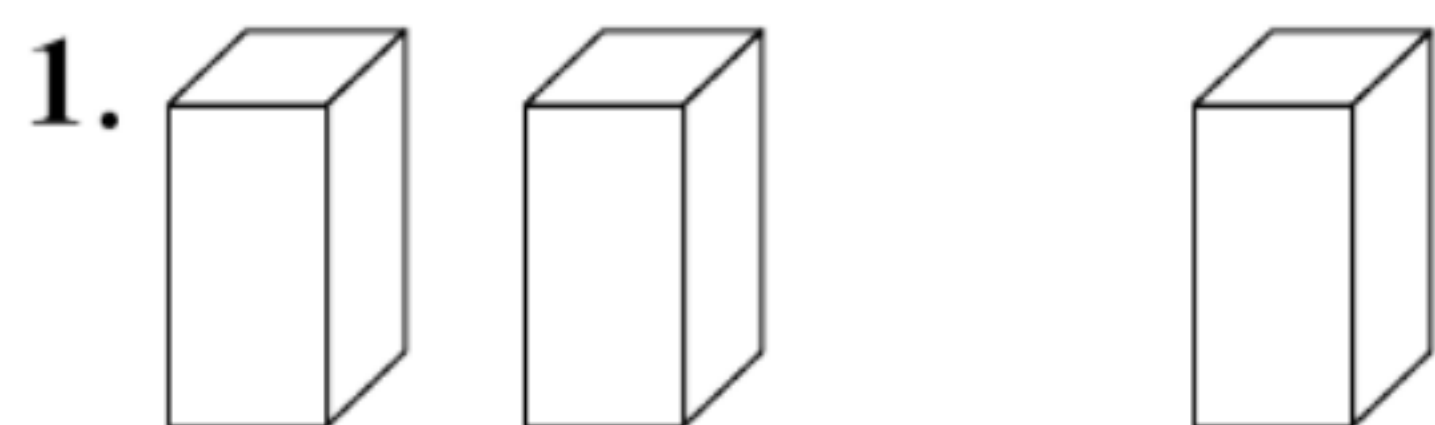


2. 选择哪条滑道最近？画“○”。



## 三 加与减(一)

### 训练 12 一共有多少



$$\square + \square = \square$$



$$\square + \square = \square$$

2. 口算。

$1 + 1 =$

$1 + 2 =$

$2 + 1 =$

$1 + 3 =$

$3 + 1 =$

$1 + 4 =$

$4 + 1 =$

$2 + 2 =$

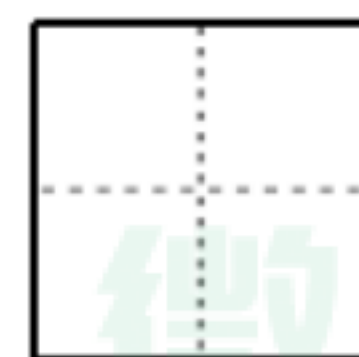
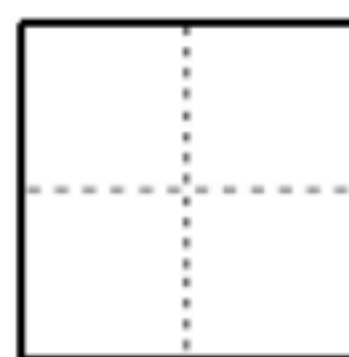
$3 + 2 =$

$2 + 3 =$

3. 填一填。



每次增加( )朵。



微信公众号  
教辅资料站



## 训练 13 还剩下多少

### 1. 口算。

$4-1=$

$5-1=$

$3-1=$

$2-1=$

$5-2=$

$4-2=$







$3-2=$

$5-3=$

$4-3=$

$5-4=$

### 2. 连一连。



### 3. 比一比。

$3-1 \bigcirc 4$

$5-2 \bigcirc 3$

$4-2 \bigcirc 2$

$4-3 \bigcirc 2$

$1+2 \bigcirc 4$

$5-1 \bigcirc 3$

$3-2 \bigcirc 2$

$5-4 \bigcirc 1$

## 训练 14 可爱的小猫

### 1. 口算。

$3+0=$

$2+0=$

$1+0=$

$0+0=$

$0+4=$

$2-0=$

$3-0=$

$4-0=$

$1-0=$

$5-0=$

$0-0=$

$4-4=$

$5-5=$

$2-2=$

$1-1=$

### 2. 连线。

$5-2$

0

$3-1$

4

$4-2$

3

$4-0$

2

$3-2$

2

$0+5$

1

$2-2$

1

$5-4$

5

微信公众  
教辅资料站



## 训练 15 练习课

1. 在○里填上“+”或“-”。

$2 \bigcirc 2 = 4$

$5 \bigcirc 5 = 0$

$4 \bigcirc 1 = 5$

$5 \bigcirc 1 = 4$

$3 \bigcirc 2 = 5$

$0 \bigcirc 1 = 1$

2. 连一连。

$5 - 3$

$4$

$4 - 2$

$4 - 3$

$2$

$1 + 3$

$1 + 2$

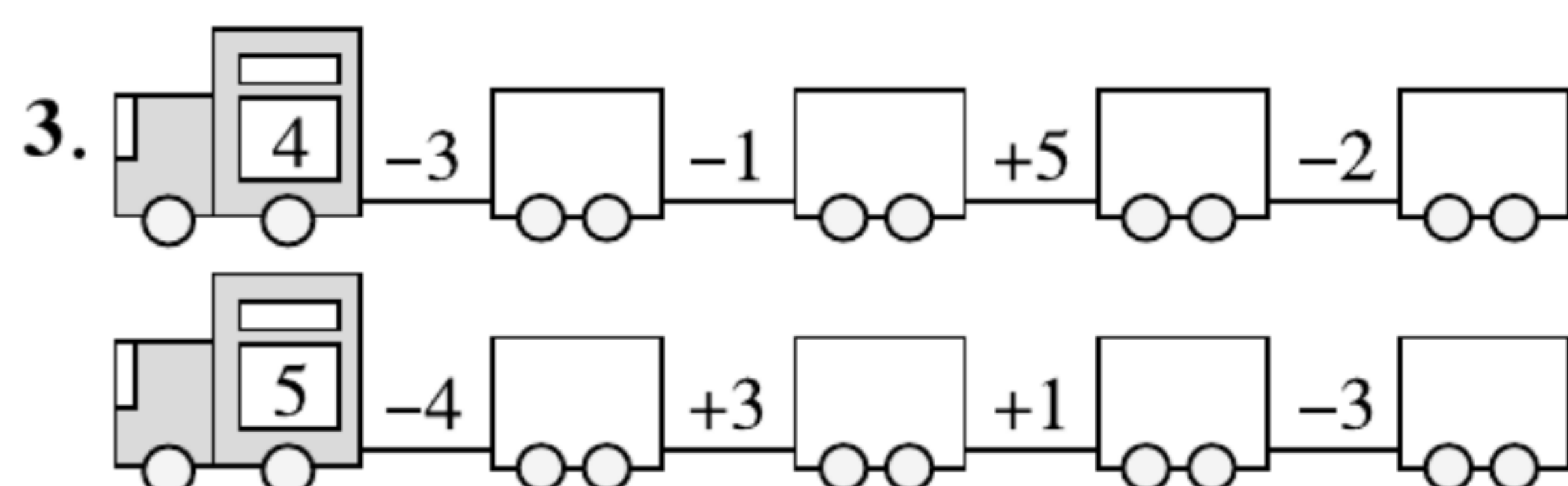
$1$

$5 - 2$

$2 + 2$

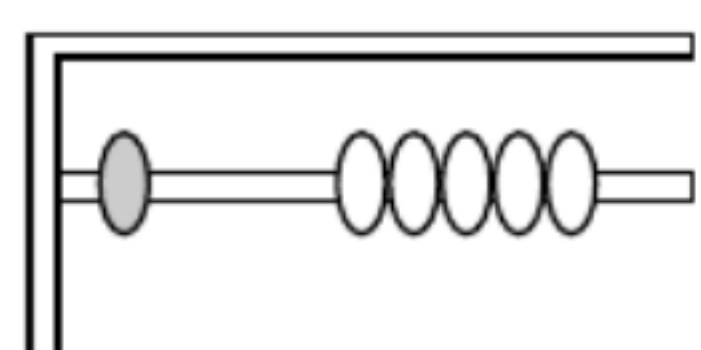
$3$

$5 - 4$



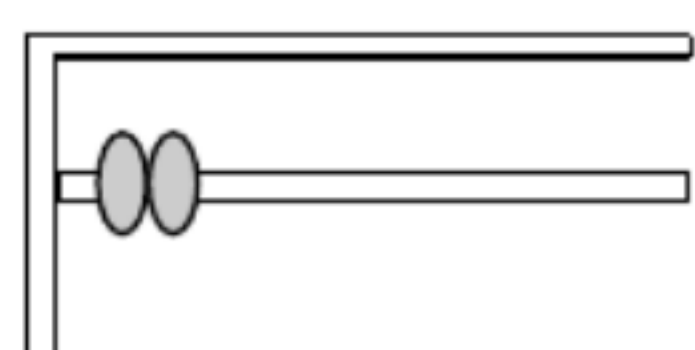
## 训练 16 猜数游戏

1. 画一画, 填一填。



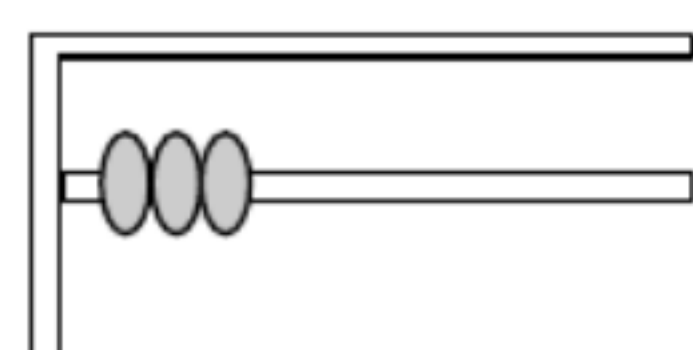
$1 + 5 = \square$

$6 - 1 = \square$



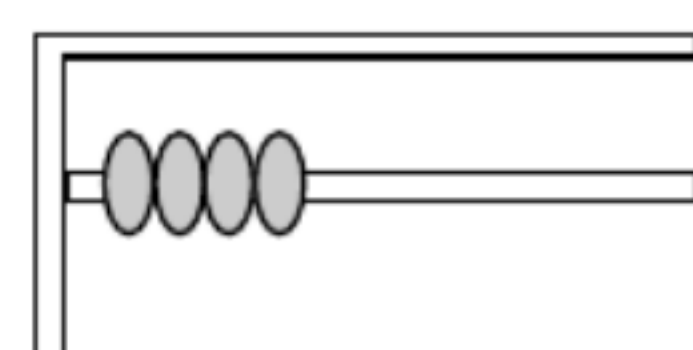
$2 + \square = 6$

$6 - 2 = \square$



$3 + \square = 6$

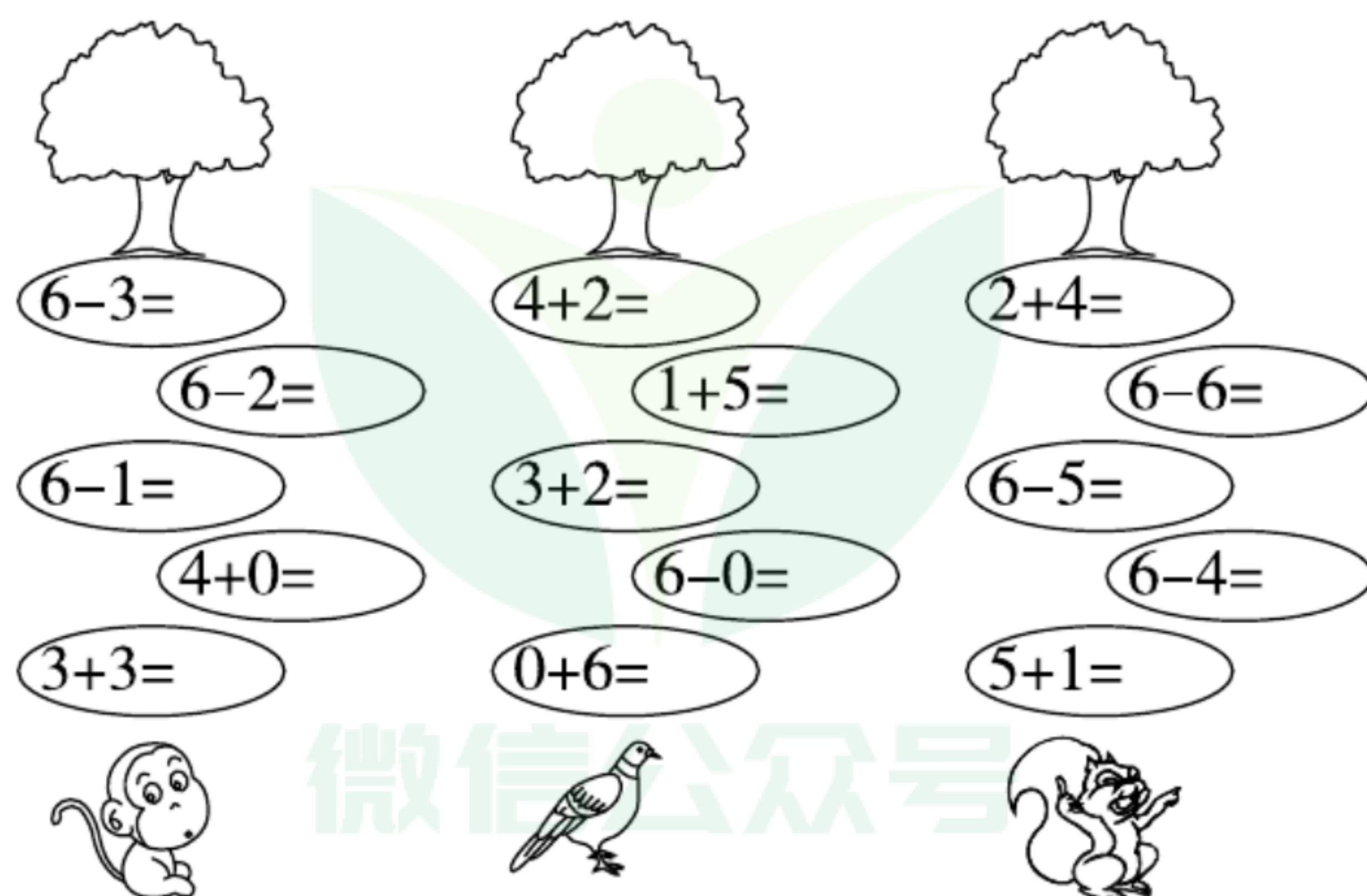
$6 - \square = 3$



$4 + \square = 6$

$6 - 4 = \square$

2. 比比看谁先到家。





## 训练 17 背土豆

### 1. 口算。

$2+4=$

$3+3=$

$2+5=$

$3+4=$

$1+6=$

$6-3=$

$6-4=$

$7-2=$

$7-7=$

$6-5=$

$7-4=$

$7-6=$

$4+3=$


$5+1=$

$5+2=$


### 2. 中有数。


$3+\text{}=7$

$7-\text{}=2$

$\text{}+5=7$

$6-\text{}=1$

$\text{}-4=3$

$\text{}-6=1$

$7+\text{}=7$

$2+\text{}=7$

## 训练 18 跳绳

### 1. 算一算。

$2+6=$

$3+5=$

$9-3=$

$8-2=$

$9-4=$

$8-4=$

$9-2=$

$7+2=$

$1+8=$

$9-7=$

### 2. 在○里填上“>”“<”或“=”。

$2+7 \bigcirc 9$

$3+5 \bigcirc 4$

$4+5 \bigcirc 6$

$9-1 \bigcirc 4$

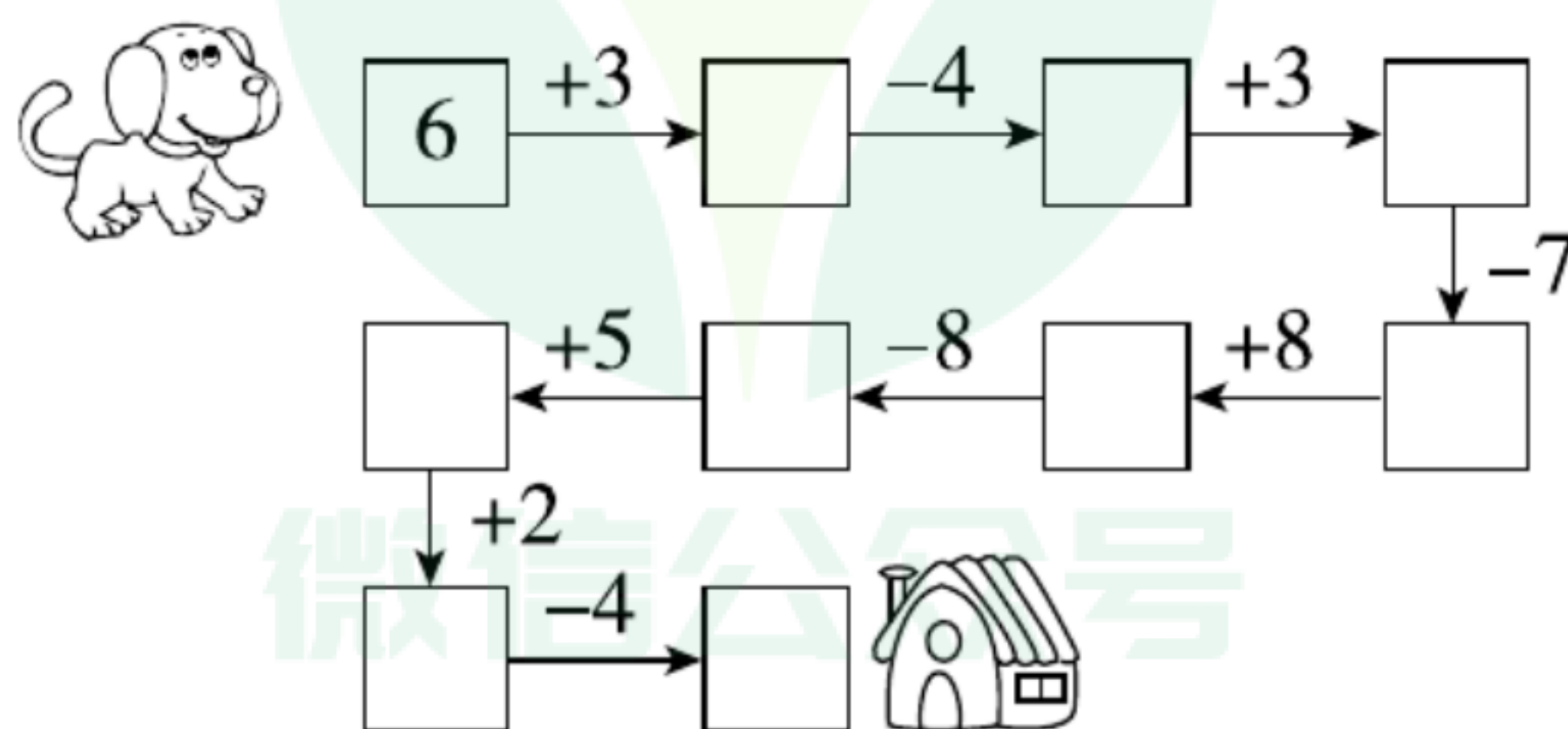
$7-4 \bigcirc 3$

$8-4 \bigcirc 7$

$8-1 \bigcirc 6$

$9-4 \bigcirc 2+3$

### 3. 小狗回家。








## 训练 19 可爱的企鹅

1. 算一算,连一连。



2. 口算。

$2+7=$

$2+6=$

$9-3=$

$9-4=$

$9-2=$

$8+1=$

$6+3=$

$9-5=$

$9-7=$

$9-8=$

## 训练 20 小鸡吃食

1. 口算。

$1+9=$

$2+8=$

$3+7=$

$4+6=$

$5+5=$

$10-5=$

$10-4=$

$10-3=$

$10-2=$

$10-7=$

$10-8=$

$10-9=$

$10-1=$

$9-6=$

$7+3=$

2. 后面藏着几?

$\text{★} + 4 = 6$

$5 + \text{★} = 9$

$8 + \text{★} = 10$

$3 + \text{★} = 4$




$\text{★} + 2 = 7$

$3 + \text{★} = 9$

$1 + \text{★} = 10$

$5 + \text{★} = 5$

3. 连一连。







## 训练 21 乘车

1. 圈出正确的答案。

$$\begin{array}{l} 9-4+3=(7,8) \\ 8+2-6=(4,5) \end{array}$$

$$\begin{array}{l} 4+5-7=(2,4) \\ 6-3+7=(9,10) \end{array}$$

2. 在○里填上“>”“<”或“=”。

$2+3-5 \bigcirc 0$

$6-5+3 \bigcirc 7$

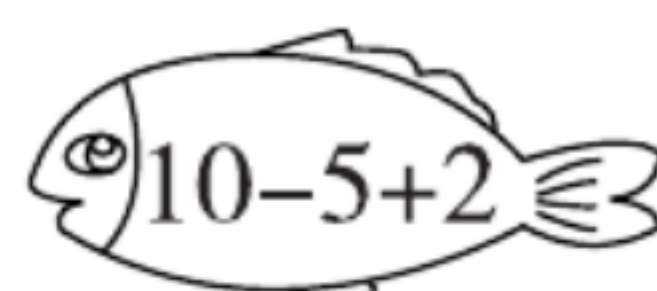
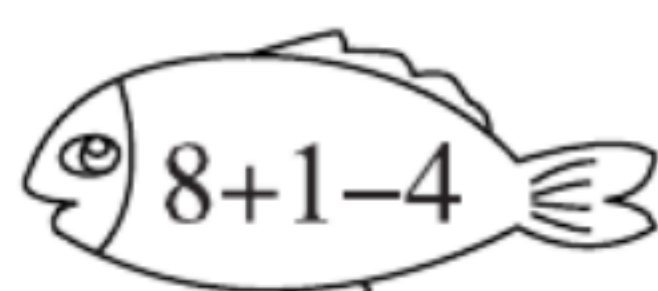
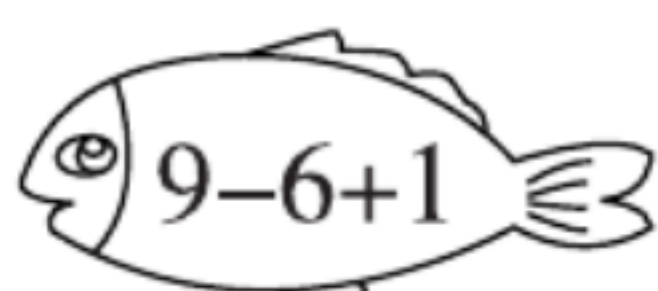
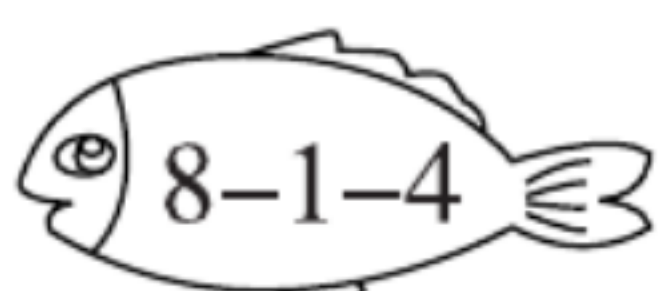
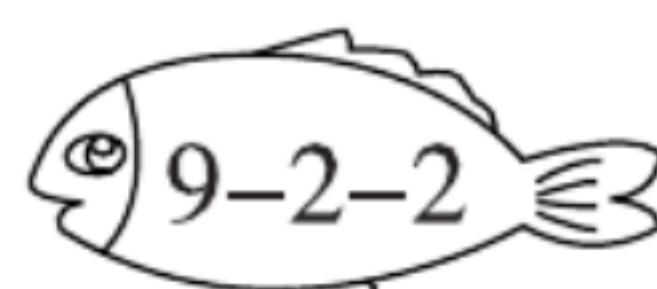
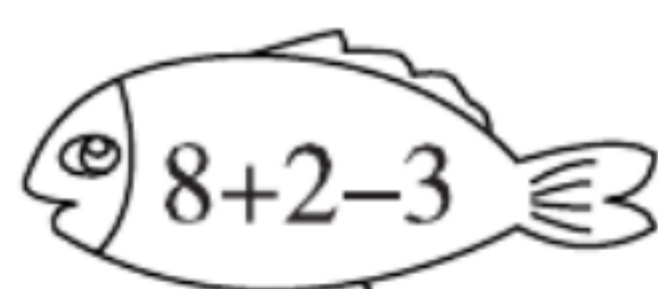
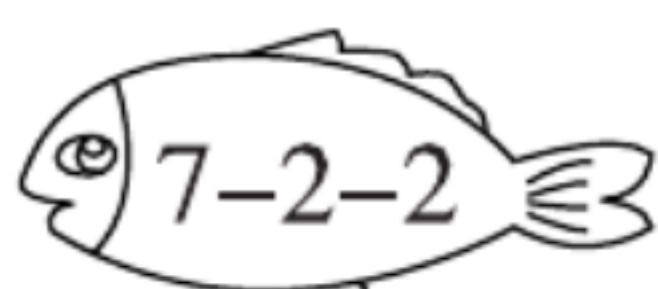
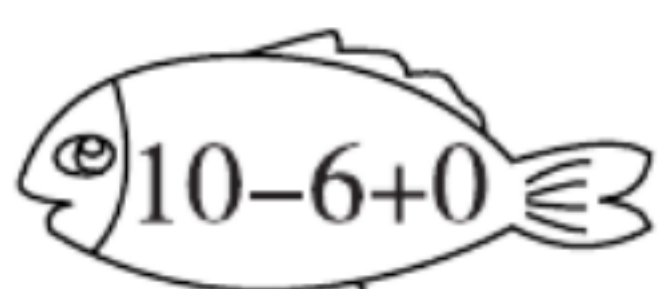
$3+3+2 \bigcirc 6$

$9-8+6 \bigcirc 8$

$10-6+3 \bigcirc 5$

$9-1-0 \bigcirc 7$

3. 把得数相同的鱼连一连。





## 训练 22 练习课

1. 相碰先相加再相减。




和( )

差( )




和( )

差( )



和( )

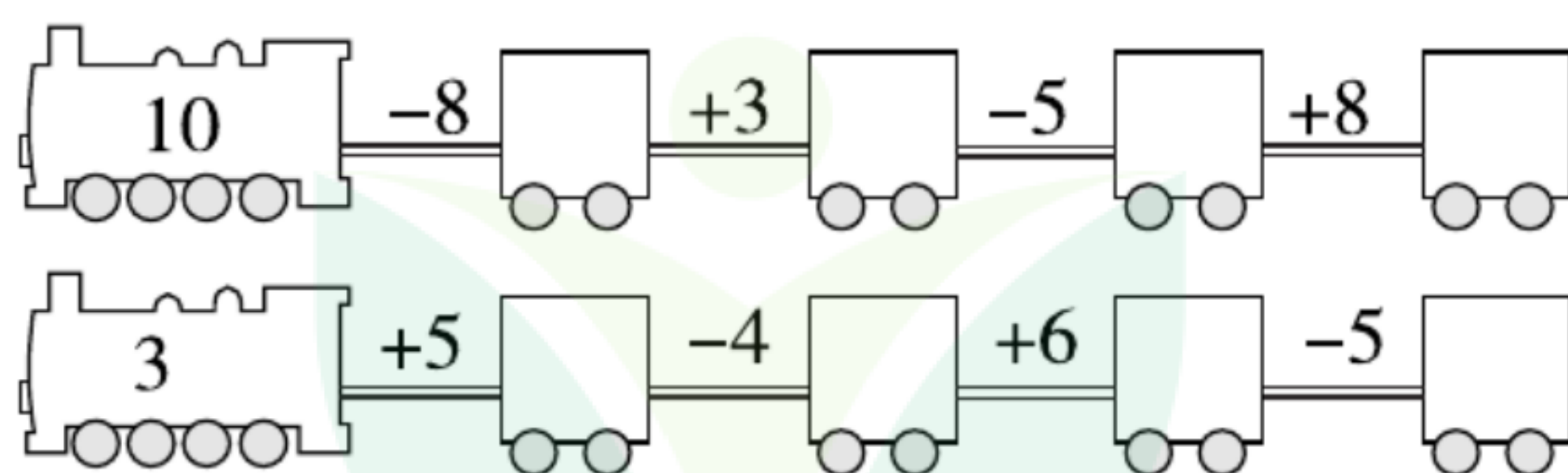
差( )



和( )

差( )

2. 开火车。



3. 在○里填上“>”“<”或“=”。

$4+6 \bigcirc 9$

$2+1+3 \bigcirc 9$

$2+8-5 \bigcirc 8$

$7-4 \bigcirc 3$

$10-3-2 \bigcirc 6$

$9-7+2 \bigcirc 3$

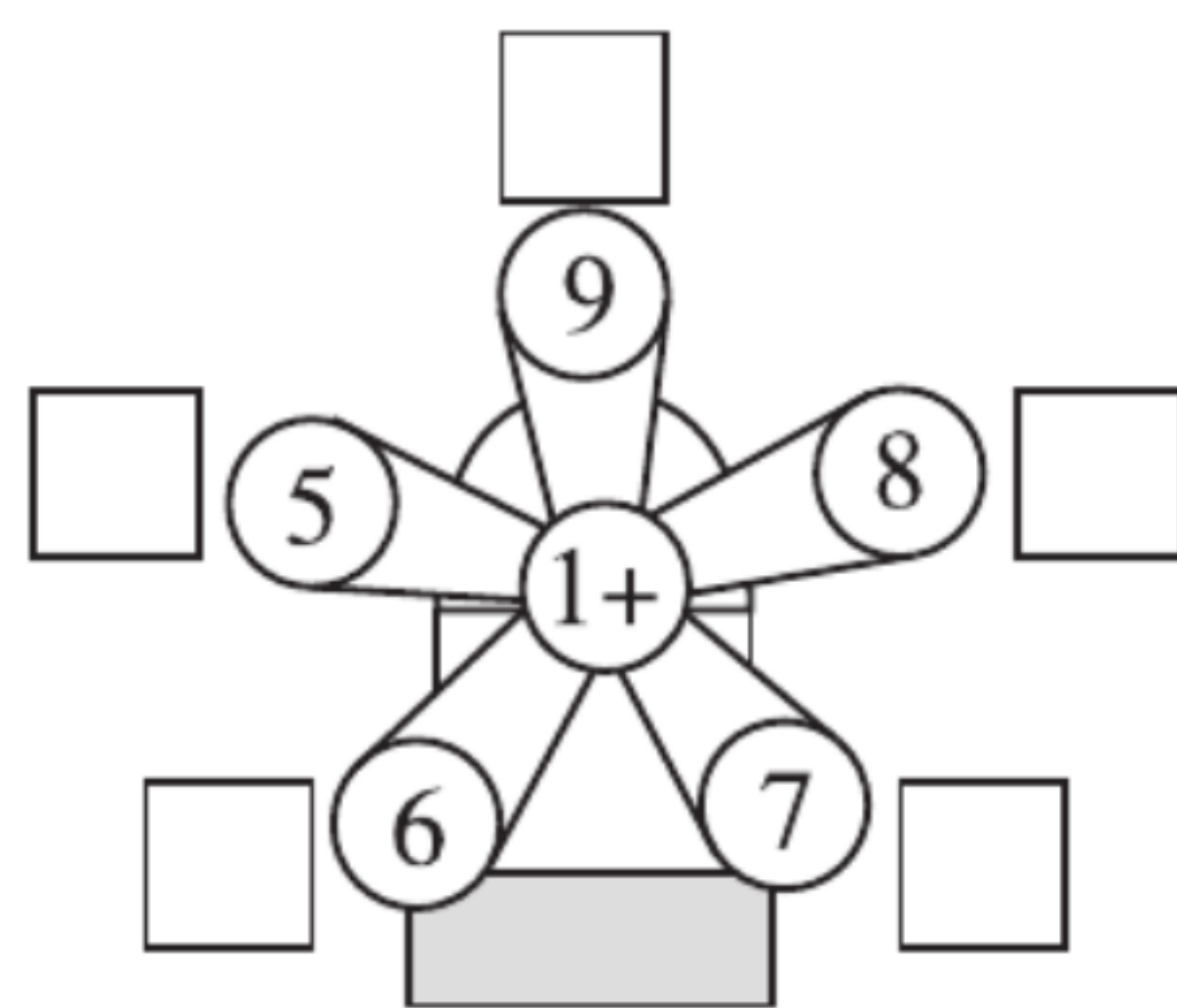
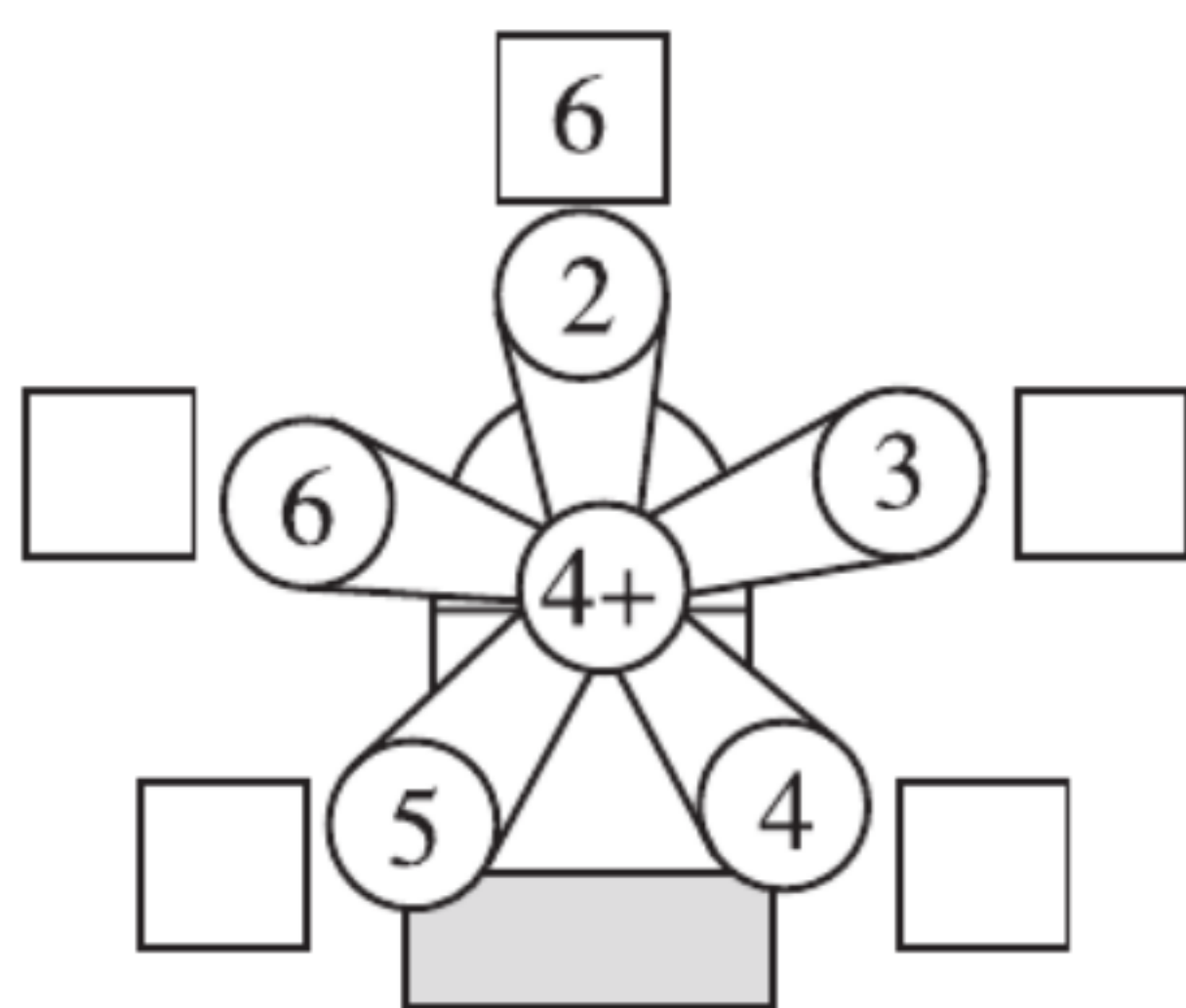
微信公众号  
教辅资料站







## 训练 23 做个加法表

## 1. 摩天轮。



## 2. 照样子写加法算式。



## 3. 在○里填上“&gt;”“&lt;”或“=”。

$10 - 4 - 3 \bigcirc 2$

$9 - 3 - 3 \bigcirc 3$

$7 + 1 - 2 \bigcirc 6$

$8 + 2 - 5 \bigcirc 6$

$7 + 3 - 8 \bigcirc 8$

$10 - 7 - 3 \bigcirc 3$

## 训练 24 做个减法表

## 1. 小马拉车。

|     |   |   |   |   |   |   |   |   |  |
|-----|---|---|---|---|---|---|---|---|--|
| 10- |   |   |   |   |   |   |   |   |  |
| 1   | 2 | 3 | 4 | 5 | 6 | 7 | 8 | 9 |  |
|     |   |   |   |   |   |   |   |   |  |

## 2. 算一算。

$10 - 1 =$

$10 - 2 =$

$10 - 3 =$

$10 - 4 =$

$10 - 5 =$

$9 - 1 =$

$9 - 2 =$

$9 - 3 =$

$9 - 4 =$

$9 - 5 =$

$8 - 1 =$

$8 - 2 =$

$8 - 3 =$

$8 - 4 =$

$8 - 5 =$

## 3. 在括号里填上合适的数。

$9 - ( ) = 4$

$9 = ( ) + 3$

$5 = ( ) + 3$

$8 + ( ) = 9$

$6 - ( ) = 2$

$( ) + 6 = 10$



## 四 分类

### 训练 25 整理房间

#### 1. 计算。

$2+3=$

$3+5=$

$4+6=$

$10-1=$

$10-0=$

$5+5=$

$3+4=$

$4+4=$

$3+3=$

$2+2=$

$1+7=$

$9-7=$

$8-2=$

$8-3=$

$8-4=$

#### 2. 分一分,填序号。



①



②



③



④



⑤




⑥



⑦



⑧



⑨




⑩




⑪



⑫



两条腿的动物



四条腿的动物

### 训练 26 一起来分类

#### 1. 算一算。

$9-7=$

$9-4=$

$8+2=$

$9+1=$

$3+4=$

$7-2=$

$7-6=$

$6+2=$

$5+4=$

$3+7=$

#### 2. 按不同的标准把下面这些树叶分分类。(填序号)



①



②



③



④



⑤



⑥



⑦

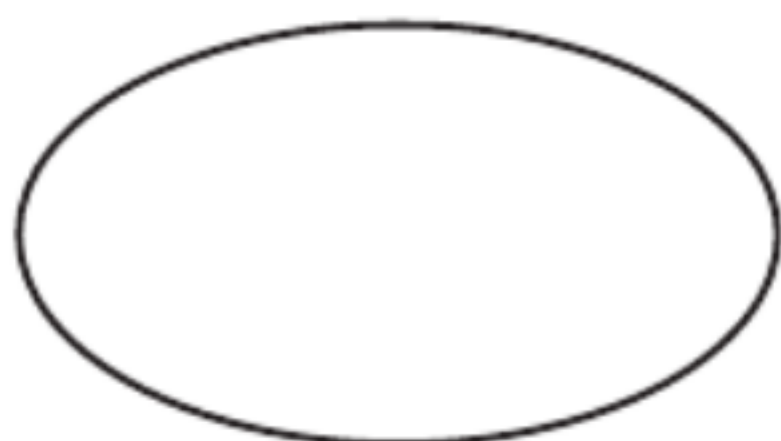


⑧

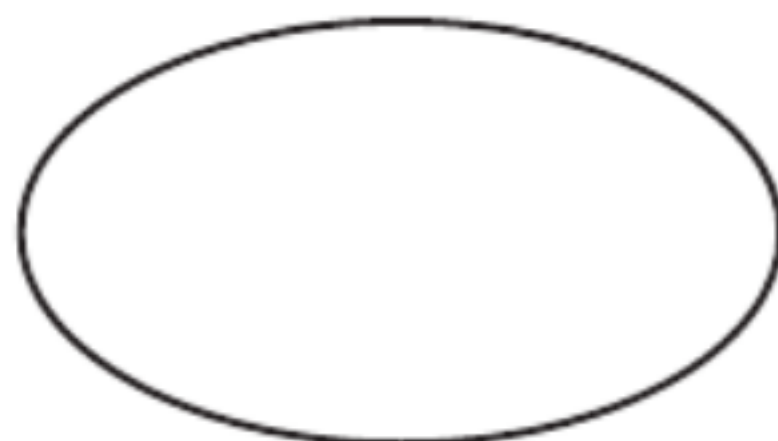
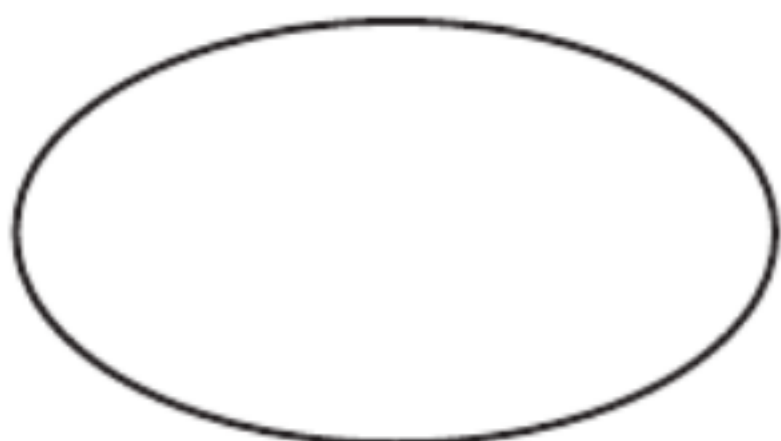


⑨

方法一:



方法二:



微信公众号  
教辅资料站



## 五 位置与顺序

### 训练 27 前后

#### 1. 计算。

|        |        |         |        |           |
|--------|--------|---------|--------|-----------|
| $1+7=$ | $5-3=$ | $6-2=$  | $8+0=$ | $9-2-7=$  |
| $6+2=$ | $2+4=$ | $7-4=$  | $5+2=$ | $2+3+1=$  |
| $3+2=$ | $9-8=$ | $10-4=$ | $3-0=$ | $0+5+4=$  |
| $1+8=$ | $8-4=$ | $2+5=$  | $9-3=$ | $10-2-1=$ |

#### 2. 在森林运动会上,有 4 只小动物赛跑,它们的顺序是:



- (1) ( ) 跑在最前面, ( ) 跑在最后面。
- (2) 小狗在 ( ) 的后面, 是第 ( ) 名。
- (3) 小羊是第 ( ) 名, 前面有 ( ) 和 ( ), 后面是 ( )。
- (4) 小猴在松鼠的 ( ) 面, 松鼠在小猴的 ( ) 面。

### 训练 28 上下

#### 1. 计算。

|        |        |        |        |         |
|--------|--------|--------|--------|---------|
| $2+6=$ | $3+5=$ | $4+4=$ | $7-5=$ | $7-3=$  |
| $3+2=$ | $5+4=$ | $8-7=$ | $6-6=$ | $5-4=$  |
| $4+5=$ | $2+1=$ | $8-5=$ | $9-1=$ | $10-7=$ |
| $1+6=$ | $3+4=$ | $2+2=$ | $8-6=$ | $9-7=$  |

#### 2. 看图填空。

小鸟在松鼠的 ( ) 面, 松鼠在小鸟的 ( ) 面, 松鼠在小兔的 ( ) 面。松鼠和小兔在小鸟的 ( ) 面。蜗牛在 ( ) 的下面, 在 ( ) 的上面。





## 训练 29 左右



### 1. 口算。

|        |        |         |         |           |
|--------|--------|---------|---------|-----------|
| $5+2=$ | $3+4=$ | $1+4=$  | $7+2=$  | $3+3+1=$  |
| $4+2=$ | $8-8=$ | $10-5=$ | $4-0=$  | $0+6+4=$  |
| $2+8=$ | $7-4=$ | $2+6=$  | $10-3=$ | $10-2-4=$ |





### 2. 填一填。





(1) 一共有( )种水果。

(2) 从左数,  排第( ), 从右数,  排第( )。

(3)  在  的( )边,  在  的( )边。

(4)  在  的( )边,  在  的( )边。



(5) 在  的右边,  的左边的水果是什么? 请圈出来。

## 训练 30 教室

### 1. 口算。

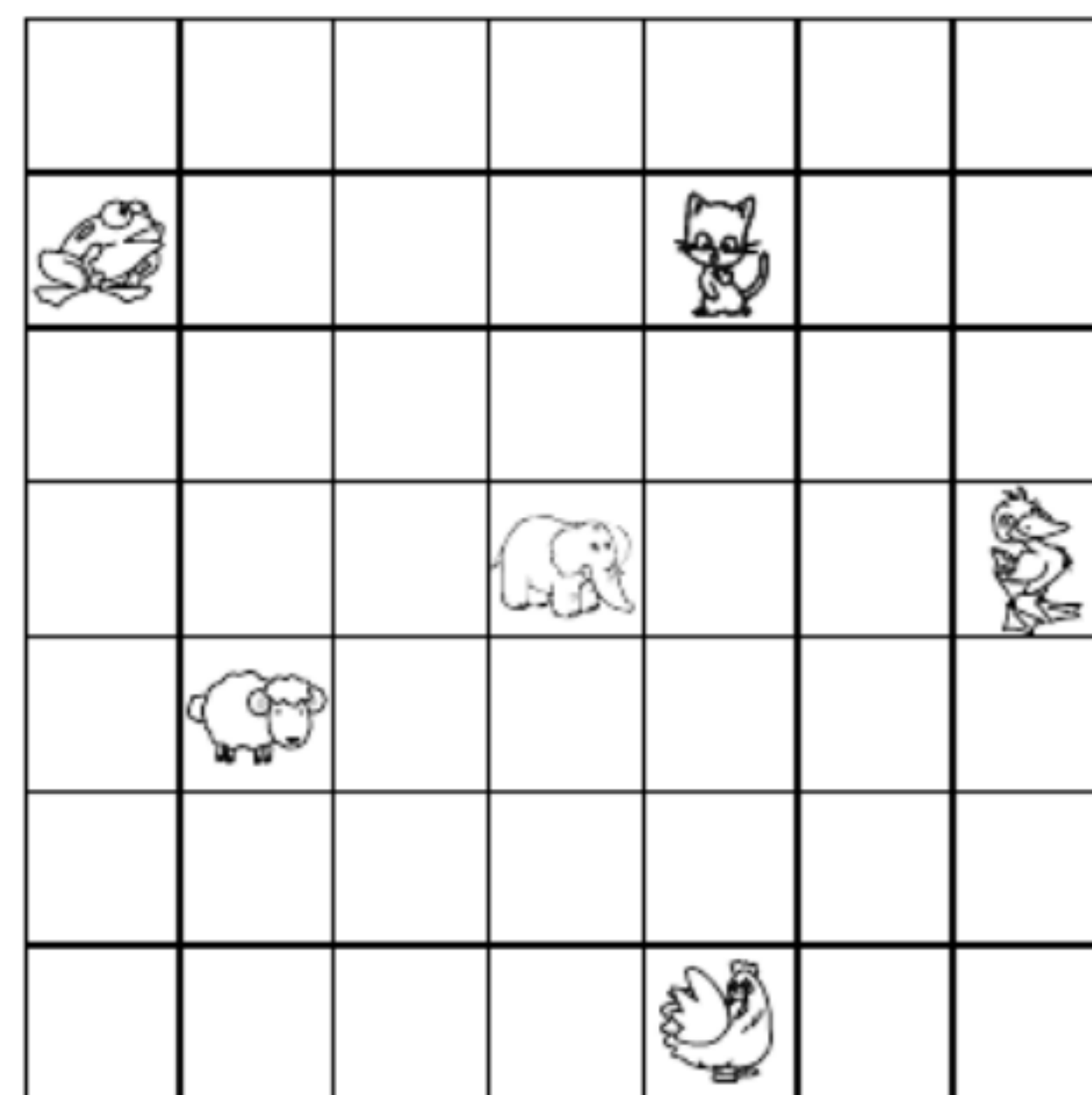
|          |          |          |          |           |
|----------|----------|----------|----------|-----------|
| $7+2=$   | $6+4=$   | $9-7=$   | $9-6=$   | $7-4=$    |
| $8-5=$   | $6+1=$   | $10-5=$  | $8-1=$   | $10-2=$   |
| $7-2-1=$ | $3+2+2=$ | $4-1-0=$ | $5+2+2=$ | $10-3-4=$ |

### 2. 看图填空。

(1)  往上走( )格, 再往右走( )格到  处。

(2)  往下走( )格, 再往左走( )格到  处。

(3)  往( )走( )格, 再往( )走( )格就到  处。



微信公众号  
教辅资料站




## 训练 31 练习课

1. 在括号里填上合适的数。

$$(\quad) + 3 = 5 \quad (\quad) + 5 = 8 \quad (\quad) + 6 = 9 \quad (\quad) + 4 = 8$$

$$9 = 2 + (\quad) \quad 10 = (\quad) + 4 \quad 6 = 1 + (\quad) \quad 5 = 3 + (\quad)$$

2. 看图填空。



在 的( )边,

在 的( )边,

在 的( )面,

在 的( )面。

## 六 认识图形

### 训练 32 认识图形

1. 在○里填上“>”“<”或“=”。

$$6 + 3 \bigcirc 9$$

$$10 - 8 \bigcirc 5$$

$$9 - 9 \bigcirc 2$$

$$1 + 8 \bigcirc 2 + 8$$

$$3 + 6 \bigcirc 10 - 1$$

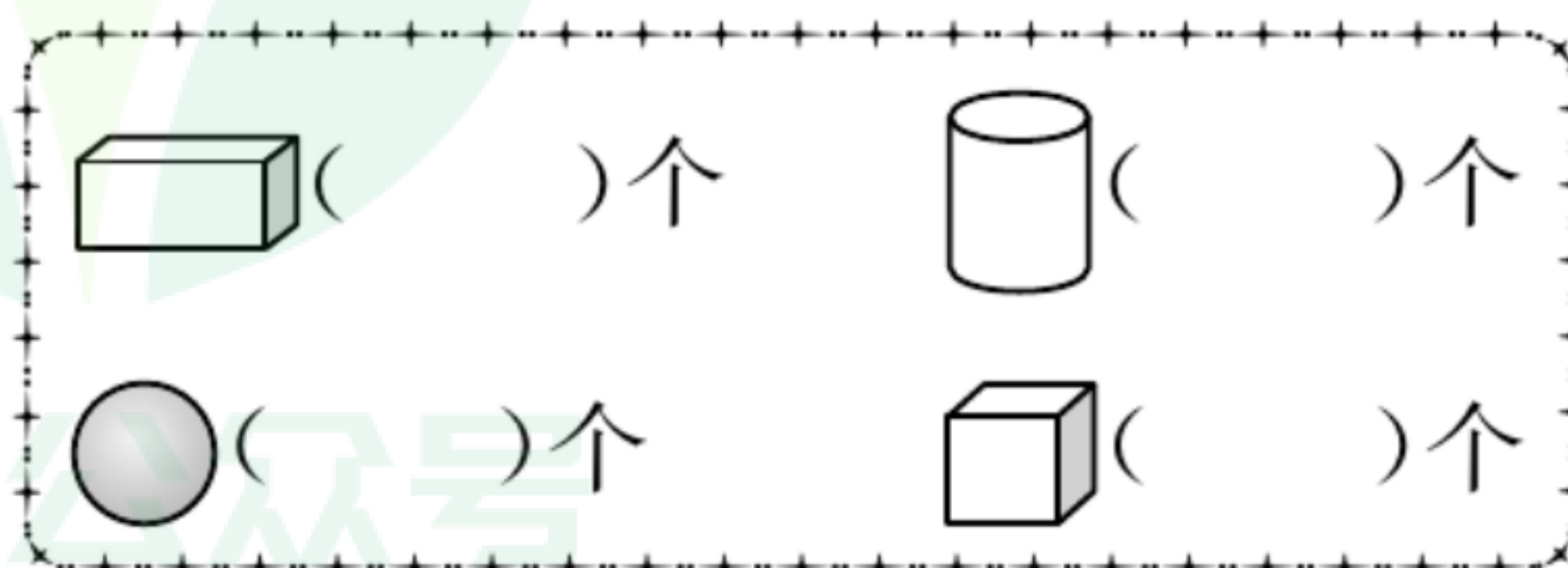
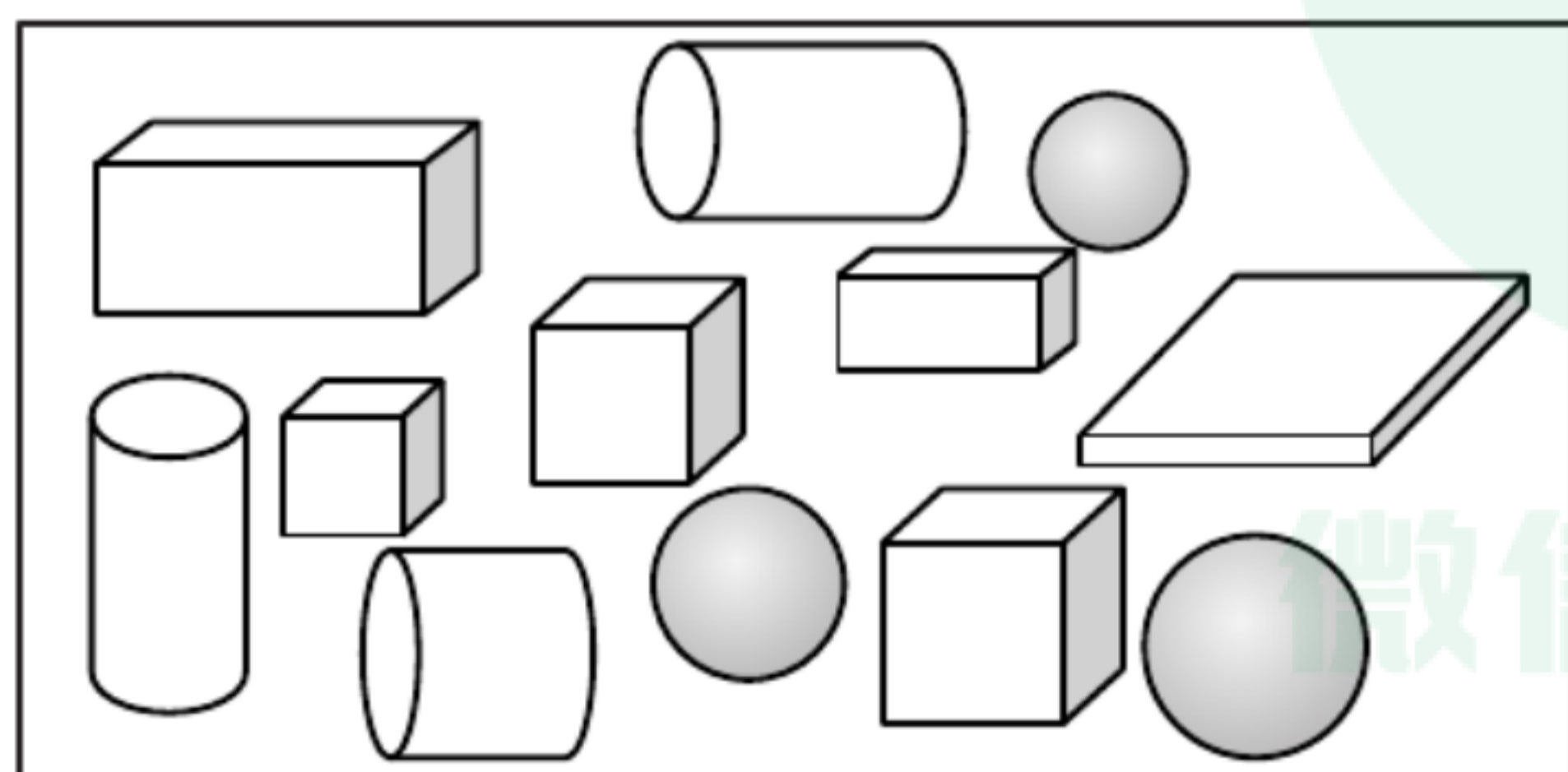
$$10 - 3 \bigcirc 8 + 1$$

$$10 - 4 \bigcirc 10 - 3$$

$$6 + 4 \bigcirc 5 + 5$$

$$9 - 3 \bigcirc 10 - 4$$

2. 认一认,数一数。





## 训练 33 我说你做

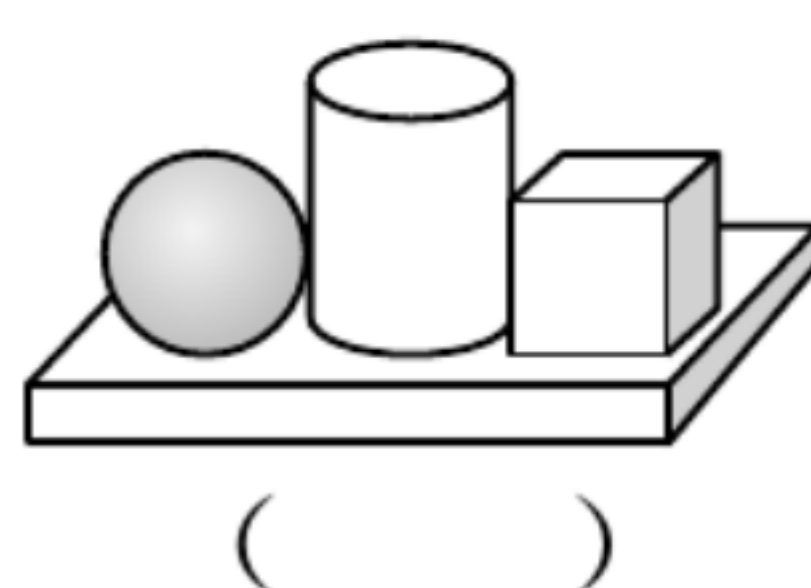
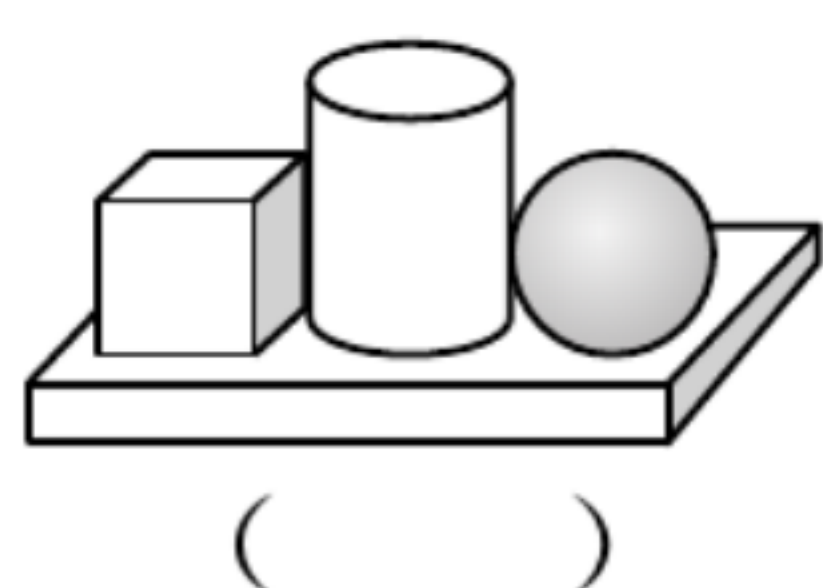
### 1. 按要求填空。

|   |   |   |   |   |   |   |    |
|---|---|---|---|---|---|---|----|
|   | 8 | 3 | 4 | 5 | 1 | 3 | 10 |
| + | 2 | 5 | 6 | 5 | 9 | 7 | 0  |
|   |   |   |   |   |   |   |    |

|   |    |   |    |   |   |   |    |
|---|----|---|----|---|---|---|----|
|   | 10 | 9 | 10 | 9 | 7 | 8 | 10 |
| - | 2  | 6 | 7  | 8 | 3 | 6 | 5  |
|   |    |   |    |   |   |   |    |

### 2. 我说你摆。在正确的下面画“√”。

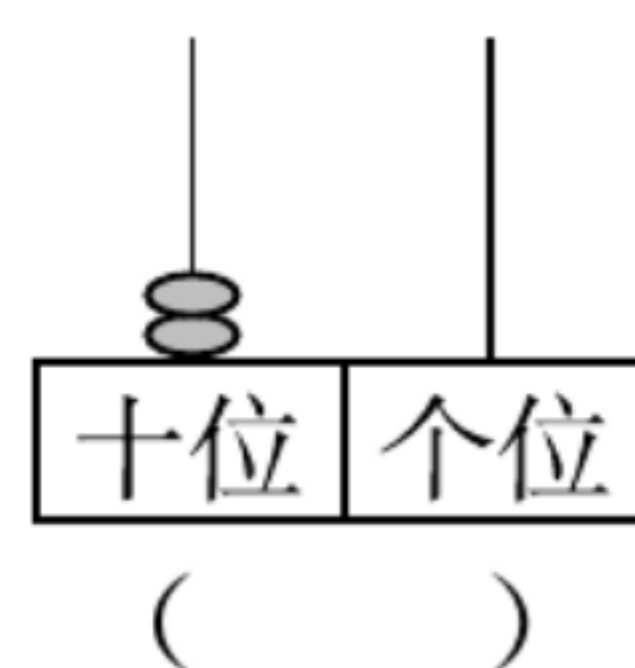
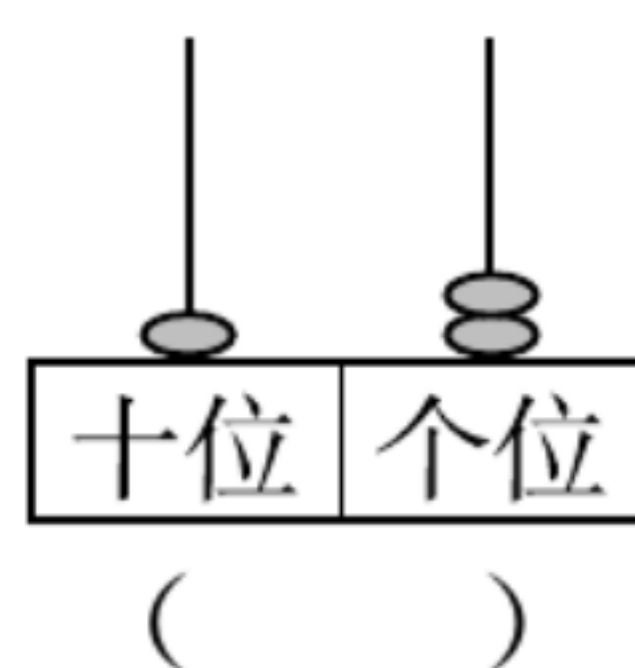
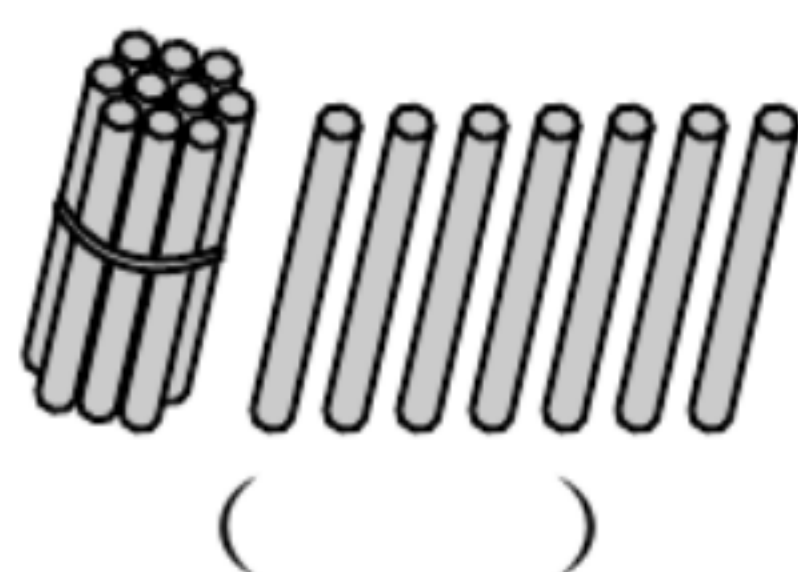

先摆一个长方体，在长方体的上面摆一个正方体、一个圆柱和一个球。正方体摆在圆柱的左边，球摆在圆柱的右边。



## 七 加与减(二)

### 训练 34 古人计数

### 1. 看图写数。



### 2. 在○里填上“>”“<”或“=”。

$10 \bigcirc 20$

$13 \bigcirc 15$

$16 \bigcirc 6$

$18 \bigcirc 17$

$14 \bigcirc 20$

$14 \bigcirc 9$

$13 \bigcirc 20$

$17 \bigcirc 17$

$20 \bigcirc 0$

$16 \bigcirc 14$

### 3. 算一算。

$4 + 10 =$

$10 + 3 =$

$10 + 8 =$

$1 + 10 =$

$10 + 5 =$

$10 + 2 =$

$7 + 10 =$

$10 + 9 =$

$5 + 10 =$

$10 + 6 =$

$10 + 1 =$

$3 + 10 =$

$8 + 10 =$

$10 + 4 =$

$9 + 10 =$



## 训练 35 搭积木

### 1. 算一算。

|         |         |         |         |         |
|---------|---------|---------|---------|---------|
| $10+1=$ | $10+3=$ | $10+6=$ | $11+8=$ | $11+4=$ |
| $15-2=$ | $16-4=$ | $13-2=$ | $17-7=$ | $19-9=$ |
| $15-4=$ | $18-8=$ | $18-7=$ | $18-3=$ | $16-5=$ |

### 2. 连一连。

|         |      |        |      |
|---------|------|--------|------|
| $14-2$  | $15$ | $15-5$ | $13$ |
| $17-10$ | $12$ | $10+3$ | $18$ |
| $12+3$  | $7$  | $8+10$ | $10$ |

### 3. 在○里填上“>”“<”或“=”。


|                |               |               |
|----------------|---------------|---------------|
| $15+2$ ○ $18$  | $10+4$ ○ $12$ | $19-7$ ○ $3$  |
| $18-10$ ○ $10$ | $16+3$ ○ $16$ | $6+10$ ○ $16$ |

## 训练 36 有几瓶牛奶

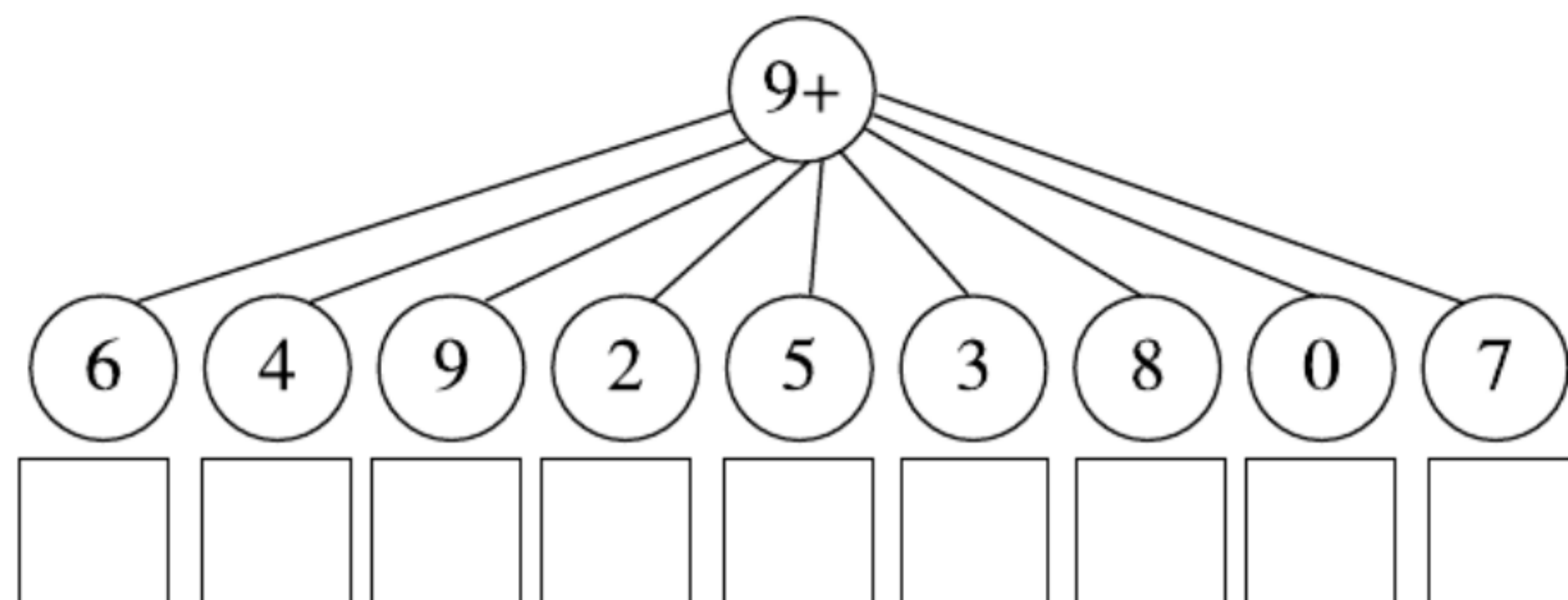
### 1. 算一算。

|        |        |        |        |        |
|--------|--------|--------|--------|--------|
| $9+2=$ | $9+4=$ | $7+9=$ | $9+6=$ | $9+9=$ |
| $4+9=$ | $9+5=$ | $9+8=$ | $3+9=$ | $5+9=$ |

### 2. 连一连。



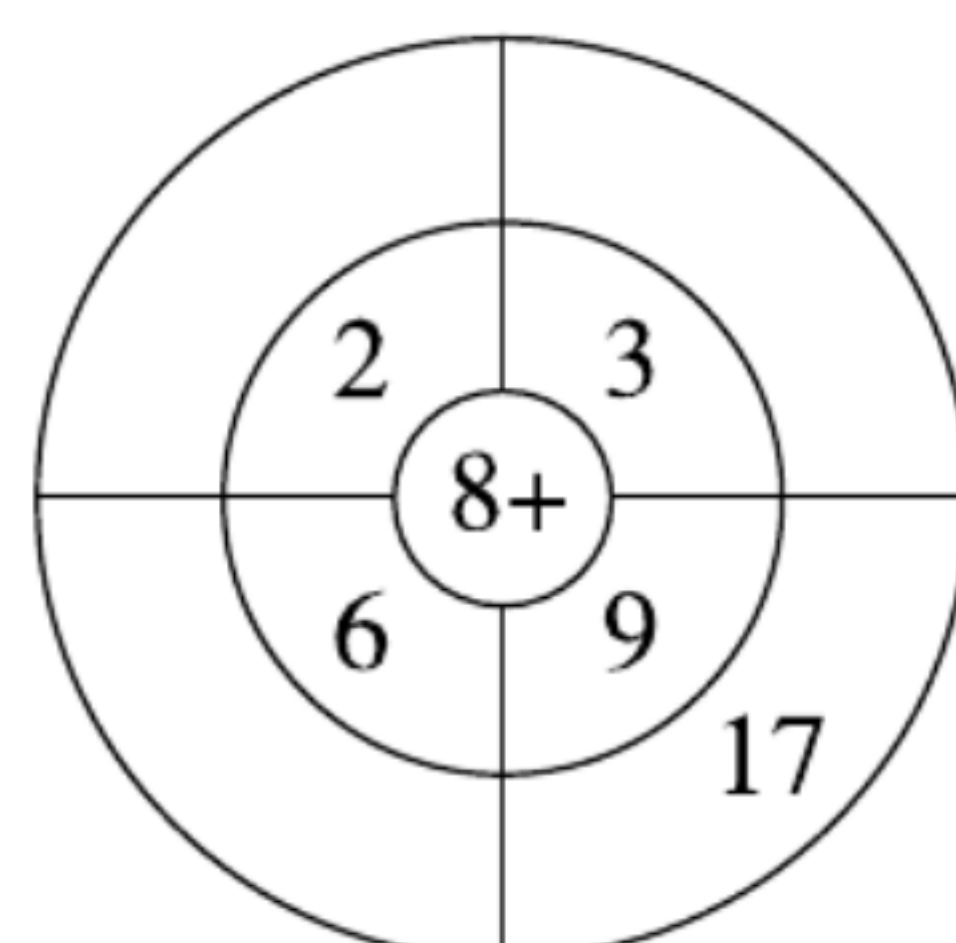
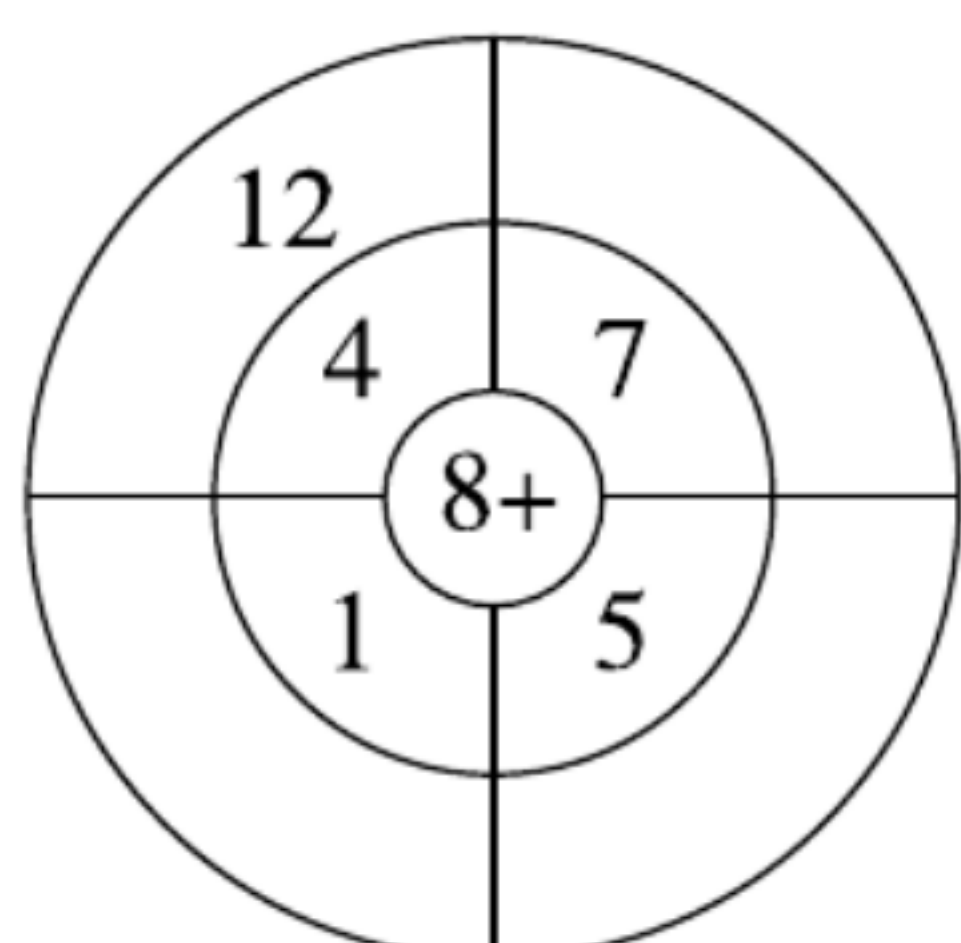
### 3. 在□里填上 9 加各数的得数。





## 训练 37 有几棵树

1. 算一算, 填一填。



2. 不计算, 直接在得数大的后面画“√”。

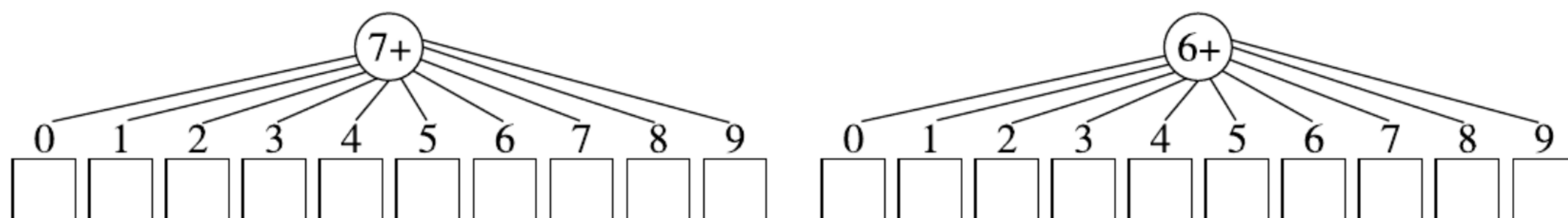
|   |   |   |   |   |
|---|---|---|---|---|
| $\begin{cases} 8+6 \end{cases} \square$ | $\begin{cases} 8+8 \end{cases} \square$ | $\begin{cases} 8+5 \end{cases} \square$ | $\begin{cases} 3+8 \end{cases} \square$ | $\begin{cases} 9+5 \end{cases} \square$ |
| $\begin{cases} 8+9 \end{cases} \square$ | $\begin{cases} 9+9 \end{cases} \square$ | $\begin{cases} 8+7 \end{cases} \square$ | $\begin{cases} 5+8 \end{cases} \square$ | $\begin{cases} 8+4 \end{cases} \square$ |

3. 想一想, 填一填。

|                     |                     |                     |                     |
|---------------------|---------------------|---------------------|---------------------|
| $8 + \text{👜} = 12$ | $8 + \text{👜} = 17$ | $\text{👜} + 8 = 11$ | $\text{👜} + 8 = 15$ |
| $8 + \text{👜} = 14$ | $\text{👜} + 8 = 13$ | $\text{👜} + 8 = 19$ | $\text{👜} + 8 = 16$ |

## 训练 38 有几只小鸟






1. 算一算, 填一填。



2. 连一连。

|       |      |       |      |
|-------|------|-------|------|
| $6+5$ | $15$ | $7+7$ | $17$ |
| $8+7$ | $11$ | $8+8$ | $12$ |
| $7+3$ | $17$ | $9+8$ | $14$ |
| $8+9$ | $10$ | $6+6$ | $16$ |

3. 把下面的算式按得数从大到小的顺序排一排。

|   |   |   |   |   |
|---|---|---|---|---|
|  |  |  |  |  |
| $6+8$   | $4+7$   | $6+6$   | $7+6$   | $8+7$   |

( ) > ( ) > ( ) > ( ) > ( )



## 训练 39 做个加法表

1. 把计算结果相同的算式连起来。

$9+2$

$9+3$

$7+9$

$4+8$

$6+6$

$7+4$

$6+5$

$6+7$

$8+9$

$6+8$

$6+6$

$8+8$

$7+7$

$9+8$

$8+5$

$7+4$

2. 填一填。

$$8 + \begin{array}{|c|} \hline 5 \\ \hline 6 \\ \hline 7 \\ \hline \end{array} = \begin{array}{|c|} \hline \\ \hline \\ \hline \\ \hline \end{array}$$

$$6 + \begin{array}{|c|} \hline 9 \\ \hline 8 \\ \hline 7 \\ \hline \end{array} = \begin{array}{|c|} \hline \\ \hline \\ \hline \\ \hline \end{array}$$

## 训练 40 练习课

1. 算一算。

$5+5=$

$5+6=$

$6+6=$

$6+7=$

$7+8=$

$9+5=$

$9+6=$

$8+4=$

$8+3=$

$8+7=$

$4+7=$

$9+7=$

$4+9=$

$5+7=$

$5+8=$

$3+8=$

$3+9=$

$17-2=$

$5+9=$

$9+9=$

$8+8=$

$7+7=$

$6+8=$

$4+13=$

$10+7=$

2. 在○里填上“>”“<”或“=”。

$7+4 \bigcirc 12$

$8+4 \bigcirc 11$

$6+9 \bigcirc 15$

$6+5 \bigcirc 12$

$7+5 \bigcirc 12$

$8+6 \bigcirc 14$

3. 在括号里填上合适的数。

$8 + ( ) = 12$

$8 + ( ) = 11$

$( ) + 6 = 14$

$7 + ( ) = 13$

$7 + ( ) = 14$

$8 + ( ) = 15$



## 数学好玩

### 训练 41 淘气的校园

#### 1. 算一算。

|         |         |         |         |         |
|---------|---------|---------|---------|---------|
| $9+5=$  | $9+6=$  | $8+8=$  | $8+4=$  | $8+3=$  |
| $10-9=$ | $12-2=$ | $15-4=$ | $13-2=$ | $15-5=$ |
| $2+9=$  | $16-6=$ | $17-4=$ | $12+3=$ | $14+3=$ |

#### 2. 在○里填上“>”“<”或“=”。

|              |              |               |
|--------------|--------------|---------------|
| $4+9$ ○ $12$ | $8+5$ ○ $12$ | $6+6$ ○ $11$  |
| $6+9$ ○ $14$ | $6+6$ ○ $12$ | $2+7$ ○ $7+8$ |

#### 3. 提出两个数学问题并解答。



丢手绢



投沙包



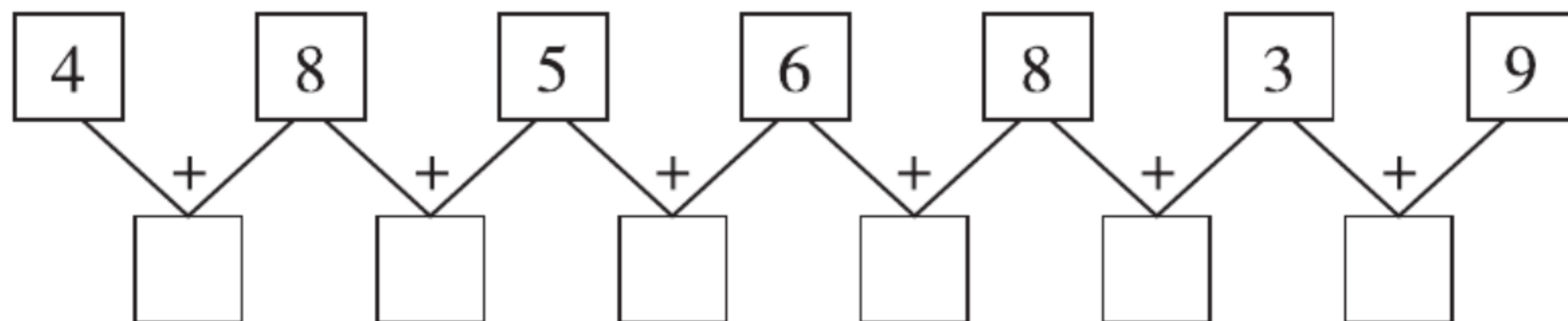
跳绳

### 训练 42 一起做游戏

#### 1. 算一算。

|         |         |         |         |         |
|---------|---------|---------|---------|---------|
| $10+9=$ | $11+4=$ | $13+2=$ | $15-2=$ | $16-4=$ |
| $7+8=$  | $7+7=$  | $8+6=$  | $9+6=$  | $5+9=$  |

#### 2. 填一填。



#### 3. 和下面哪个可以拼成 ? 在□里画“√”。





## 八 认识钟表

### 训练 43 小明的一天

#### 1. 算一算。

$$\begin{array}{ccccc} 2+5= & 6+7= & 8-5= & 4+7= & 6+6= \\ 10+2= & 1+9= & 3+9= & 8+8= & 6+5= \end{array}$$

#### 2. 中有数。

$$\text{heart} + 6 = 10 \quad 5 + \text{heart} = 10 \quad 4 + \text{heart} = 14 \quad \text{heart} + 9 = 17$$


#### 3. 读出下面钟面上的时间,并写出钟面上的时刻。



\_\_\_\_\_

\_\_\_\_\_

\_\_\_\_\_



\_\_\_\_\_

\_\_\_\_\_

\_\_\_\_\_



\_\_\_\_\_

\_\_\_\_\_

\_\_\_\_\_



\_\_\_\_\_

\_\_\_\_\_

\_\_\_\_\_

## 总复习

### 训练 44 综合练习

#### 1. 算一算。

$$\begin{array}{ccccc} 4+5= & 3+6= & 4+8= & 9+7= & 9-3-2= \\ 10+3= & 11+4= & 12+5= & 16+3= & 17-7-4= \\ 8+8= & 9+9= & 3+7= & 10+9= & 5+5+3= \\ 8+7= & 2+9= & 2+8= & 10-7= & 10-3-2= \end{array}$$

#### 2. 把计算结果相同的算式连起来。

|     |     |
|-----|-----|
| 8+3 | 9+6 |
| 9+8 | 8+6 |
| 9+5 | 8+9 |
| 8+7 | 9+2 |

|       |       |
|-------|-------|
| 8+2+4 | 9+8   |
| 8+7+0 | 9+6   |
| 8+2+8 | 7+7   |
| 8+2+7 | 9+1+8 |



