



名师金手指丛书系列

# 智慧 口算

ZHIHUI  
KOUSUAN

同步教材 内容精炼  
紧贴考试 题型热点

思维训练 举一反三  
名师点拨 学霸加冕

主编 \ 王月莲

BS

一年级 \ 上

附应用题卡

吉林出版集团股份有限公司



**BS**      一年级 \ 上      附应用题卡

微信公众号  
教辅资料站

图书在版编目(CIP)数据

智慧口算. 1 年级 / 王月莲主编. — 长春:  
吉林出版集团股份有限公司, 2017.5(2021.5 修订)  
ISBN 978-7-5581-2738-0

I. ①智… II. ①王… III. ①速算—小学—习题集  
IV. ①G624.565

中国版本图书馆 CIP 数据核字(2017)第 100858 号

---


## 智慧口算·一年级

ZHIHUI KOUSUAN YINIANJI (QUANYICE)

---

主 编: 王月莲

责任编辑: 金 昊 陈 曲

装帧设计: 

出 版: 吉林出版集团股份有限公司

发 行: 吉林出版集团社科图书有限公司

印 刷: 聊城市海金源印刷有限公司

开 本: 787mm×1092mm 1/16

字 数: 105 千字

印 张: 6

版 次: 2017 年 5 月第 1 版

印 次: 2021 年 5 月修订

书 号: ISBN 978-7-5581-2738-0

定 价: 28.80 元

## 前言

《智慧口算》依据课本内容,将基础知识进行全面系统的优化设计和编排组合,紧跟教学进度,分层次、多角度地设置各种口算题型,迅速提高小学生口算、心算、速算的技能技巧和基本运算能力,及时帮助小学生理解和掌握课堂内容,锻炼思维能力。

书中每页一个练习,需时约 10 分钟,书后配有详细答案,便于学生自测和老师家长检测。根据答题时间和正确率在每页的下方设置了三个鼓励性的评价标准:“我真棒!”“再接再厉吧!”“需加油哦!”激发小学生练习兴趣,获得成功的喜悦。

我们期待小学生们在《智慧口算》的陪伴下,运算速度和技巧得到明显提高。愿《智慧口算》能够成为同学们学习数学的好帮手!

微信公众号  
教辅资料站





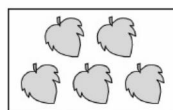
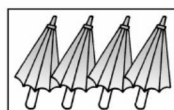

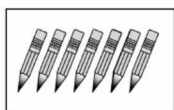
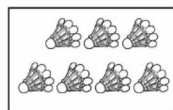
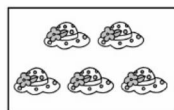
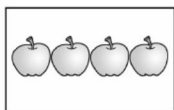

可爱的校园 .....	1
1 生活中的数 .....	2
2 比较 .....	6
第一、二单元综合练习 .....	7
3 加与减(一) .....	8
第三单元综合练习 .....	24
期中综合练习(1) .....	27
期中综合练习(2) .....	28
4 分类 .....	29
5 位置与顺序 .....	30
6 认识图形 .....	31
第四、五、六单元综合练习 .....	32
7 加与减(二) .....	33
数学好玩 .....	46
8 认识钟表 .....	47
第七、八单元综合练习 .....	48
9 总复习 .....	49
期末综合练习(1) .....	53
期末综合练习(2) .....	54
参考答案 .....	55

微信公众号  
教辅资料站




## 可爱的校园

一、把数量相等的连起来。




二、数一数,连一连。




1

2



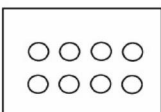
3

4



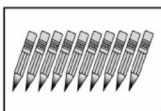
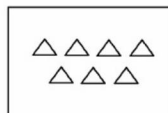
5

6



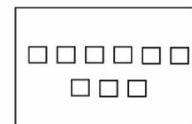
7

8



9

10



微信公众号

教辅资料站



自我评价

我真棒! ☐

再接再厉吧! ☐

需加油哦! ☐

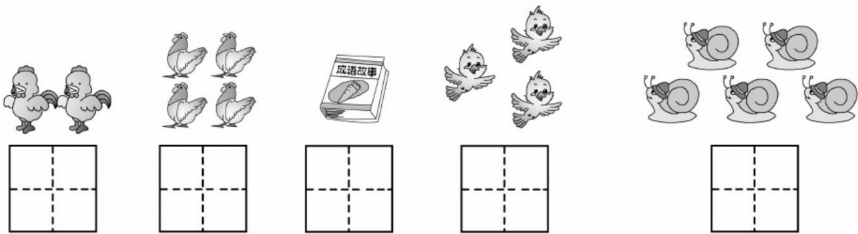


## 1


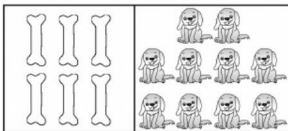

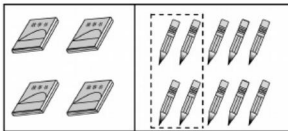
## 生活中的数

## 快乐的家园

## 一、看图写数。



## 二、照样子，圈一圈。



## 三、想一想，填一填。



从前往后数，第( )个是 。第( )个是 。 排

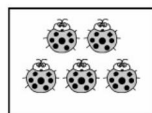

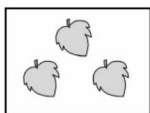
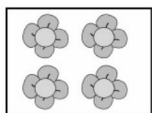
在第( )。 排在第( )。





## 玩具

一、数一数,连一连。





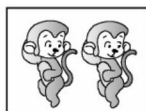

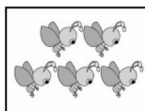
5

2

3

4

二、看图写数。



三、数一数,用画○的形式表示下面物体的数量。



自我评价

我真棒! ☐再接再厉吧! ☐需加油哦! ☐

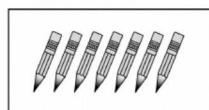

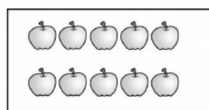
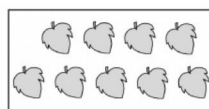
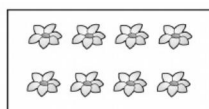


## 小猫钓鱼 文具

## 一、数一数,写一写。



## 二、请把与图中数量相同的○涂上颜色。



## 三、数一数,圈一圈。

△△△ △△△		○○○ ○○○○	□□□□ □□□□
5 ⑥ 7	2 0 5	7 8 9	8 9 10







## 快乐的午餐 动物乐园

## 一、在( )内填上正确的数字。

1.  $\triangle\triangle\triangle\triangle\triangle$  ( )

2.  $\star\star\star$  ( )

3.  $\square\square\square\square\square\square$  ( )

4.  $\bigcirc\bigcirc\bigcirc\bigcirc\bigcirc\bigcirc$  ( )

5.  $\diamond\diamond\diamond\diamond$  ( )

6.  ( )

## 二、在数量多的后面画“√”。

1.  $\triangle\triangle\triangle\triangle\triangle\triangle$  ( )

$\triangle\triangle\triangle\triangle$  ( )


2.  $\square\square\square\square\square$  ( )

$\square\square\square\square$  ( )


3.  $\star\star\star\star\star\star$  ( )

$\star\star\star\star\star\star\star\star$  ( )

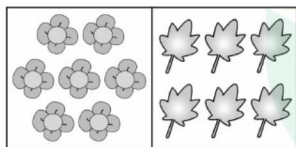
## 三、数一数,比一比。



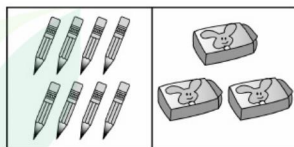
( ) ( )

 $\square \bigcirc \square$ 

( ) ( )

 $\square \bigcirc \square$ 

( ) ( )

 $\square \bigcirc \square$ 

( ) ( )

 $\square \bigcirc \square$ 


自我评价

我真棒! ☐再接再厉吧! ☐需加油哦! ☐




## 比较

一、在最高的树下画“√”，最矮的树下画“○”。



二、重的画“○”，轻的画“√”。



三、在○里填上“>”“<”或“=”。

8 ○ 4

5 ○ 9

7 ○ 4

7 ○ 7

1 ○ 10

8 ○ 6

10 ○ 9

4 ○ 3

3 ○ 8

1 ○ 3

9 ○ 6

10 ○ 8

3 ○ 4

5 ○ 5

4 ○ 1






## 第一、二单元综合练习

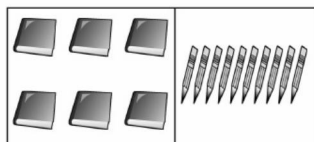
一、数一数,用画○的形式表示下面物体的数量。



二、数一数,比一比。



( ) ( )

 ○ 

( ) ( )

 ○ 

三、在○里填上“&gt;”“&lt;”或“=”。

5 ○ 4

4 ○ 4

3 ○ 2

6 ○ 5

6 ○ 9

10 ○ 9

8 ○ 7

8 ○ 8

9 ○ 8

3 ○ 4

4 ○ 6

3 ○ 8



自我评价

我真棒! ☐再接再厉吧! ☐需加油哦! ☐



## 3 加与减(一)

一共有多少

一、数一数,算一算。

○○ ○○

$2+2=\square$

☆☆☆ ☆

$3+1=\square$

○○○ ○○

$3+2=\square$

☆☆ ☆☆☆

$2+3=\square$

二、直接写得数。

$1+1=$

$2+1=$

$3+1=$

$2+2=$

$2+3=$

$4+1=$

$3+2=$

$1+2=$

$1+4=$

$5-1=$

$5-2=$

$5-3=$

$5-4=$

$4-1=$

$4-2=$

三、连一连。

1+2

2+2

3+2

1+3

1+4

☆

☆☆

☆☆☆

☆☆☆☆

☆☆☆☆☆





## 还剩下多少

## 一、数一数,算一算。



$5 - 2 = \square$



$5 - 4 = \square$



$5 - 5 = \square$



$3 - 2 = \square$



$4 - 2 = \square$



$4 - 3 = \square$



$5 - 1 = \square$



$\square - \square = \square$

## 二、在□里填上合适的数。

$4 - \square = 4$

$1 - \square = 0$

$\square + 4 = 5$

$\square + 2 = 5$

$5 - \square = 1$

$2 - \square = 0$

$3 + \square = 3$

$\square - 2 = 2$

$\square + 0 = 4$

$5 - \square = 3$

$4 - \square = 3$

$4 - \square = 1$

$3 - \square = 2$

$3 - \square = 0$

$\square + 3 = 5$







## 可爱的小猫

### 一、算一算。

$1+2=$

$3-3=$

$3-(\quad)=1$

$1+1=$

$4-1=$

$5-(\quad)=3$

$2+1=$

$5-1=$

$4-(\quad)=2$

$2+2=$

$4-3=$

$(\quad)-2=2$

$3+2=$

$2-0=$

$(\quad)-1=1$

$2+3=$

$5-2=$

$5-(\quad)=4$

$1+3=$

$5-0=$

$(\quad)-0=3$

$3+1=$

$3-2=$

$5-(\quad)=2$

$4+1=$

$5-4=$

$(\quad)-3=1$

### 二、小刺猬背果子。(连一连)





## 练习一

## 一、在□里填上合适的数。

$3+2=\square$

$0+5=\square$

$\square+2=4$

$2+1=\square$

$2-2=\square$

$4-\square=0$

$2+\square=4$

$3-0=\square$

$5-\square=1$

$3+\square=4$

$2+3=\square$

$\square-2=3$

$4+\square=5$

$3-\square=0$

$2+\square=2$

$1+\square=2$

$0+\square=4$

$3+\square=3$

$4-4=\square$

$\square-2=2$

$\square-1=4$

## 二、在○里填上“&gt;”“&lt;”或“=”。

$4-1\bigcirc4$

$1+1\bigcirc3$

$1+2\bigcirc3$

$4-3\bigcirc3$

$2+2\bigcirc4$

$3-1\bigcirc3$

$3+0\bigcirc0$

$1+4\bigcirc5$

$3+2\bigcirc4$

$4-2\bigcirc5$

$5+0\bigcirc4$

$3-3\bigcirc1$

$2+2\bigcirc3$

$3\bigcirc2+1$

$4\bigcirc3+1$



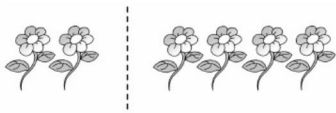
自我评价

我真棒! ☐再接再厉吧! ☐需加油哦! ☐



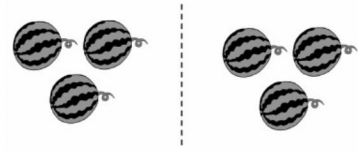
## 猜数游戏

## 一、数一数,填一填。



$$\square + \square = \square$$

$$\square - \square = \square$$



$$\square + \square = \square$$

$$\square - \square = \square$$



$$\square + \square = \square \quad \square - \square = \square$$

$$\square + \square = \square \quad \square - \square = \square$$

## 二、算一算。

$$5 + 1 =$$

$$6 - 5 =$$

$$6 - (\quad) = 3$$

$$4 + 2 =$$

$$6 - 6 =$$

$$4 + (\quad) = 6$$

$$3 + 3 =$$

$$6 - 4 =$$

$$3 + (\quad) = 6$$

$$6 + 0 =$$

$$6 - 3 =$$

$$5 + (\quad) = 6$$

$$0 + 6 =$$

$$6 - 2 =$$

$$6 - (\quad) = 5$$

$$2 + 4 =$$

$$6 - 1 =$$

$$6 - (\quad) = 6$$





## 背土豆

### 一、计算。

$2+5=$

$6-1=$

$7-3=$

$6-5=$

$3+3=$

$7-7=$

$4+2=$

$6-2=$

$7-6=$

$6-3=$

$7-4=$

$6-4=$

$4+3=$

$5+1=$

$5-5=$

$7-2=$

$7-5=$

$5+2=$

$6+1=$

$6+0=$

$4-3=$

$7-1=$

$6-6=$

$2+3=$

$0+6=$

$0+7=$

$6-0=$

### 二、连一连。

$2+4$

$5+2$

$7-1$

$0+7$

$6$

$7$

$1+5$

$2+5$

$4+3$

$6-0$



自我评价

我真棒! ☐

再接再厉吧! ☐

需加油哦! ☐



## 跳绳(1)

### 一、计算。

$4+5=$

$9-4=$

$9-5=$

$2+6=$

$8-2=$

$8-6=$

$3+4=$

$7-3=$

$7-4=$

$5+3=$

$8-5=$

$8-3=$

$7+2=$

$9-7=$

$9-2=$

$1+8=$

$9-8=$

$9-1=$

$6+3=$

$9-6=$

$9-3=$

$1+7=$

$8-1=$

$8-7=$

$8+0=$

$8-0=$

$8-8=$

### 二、连一连。

$9-2$

$7+2$

$8-1$

$5+3$

$9-0$

⑦

⑧

⑨

$4+4$

$8-0$

$3+6$

$2+5$

$4+5$







## 跳绳(2)

## 一、在( )里填上适当的数。

$3 + ( ) = 9$

$( ) + 5 = 8$

$( ) - 2 = 7$

$7 + ( ) = 8$

$8 - ( ) = 5$

$( ) - 4 = 4$

$8 - ( ) = 6$

$9 - ( ) = 9$

$( ) - 5 = 4$

$8 + ( ) = 8$

$( ) + 3 = 8$

$9 - ( ) = 8$

$( ) + 4 = 9$

$( ) - 2 = 5$

$( ) - 1 = 7$

$( ) + 1 = 8$

$( ) + 2 = 9$

$( ) - 4 = 5$

$2 + ( ) = 8$

$( ) + 5 = 7$

$( ) - 3 = 6$

## 二、在○里填上“&gt;”“&lt;”或“=”。

$4 + 5 \bigcirc 8$

$5 - 4 \bigcirc 8$

$8 - 1 \bigcirc 2 + 6$

$4 + 0 \bigcirc 5$

$4 - 0 \bigcirc 5$

$5 + 3 \bigcirc 3 + 3$

$3 + 5 \bigcirc 8$

$7 - 4 \bigcirc 5$

$4 + 5 \bigcirc 4 + 4$

$7 + 0 \bigcirc 7$

$4 + 4 \bigcirc 8$

$6 + 3 \bigcirc 7 + 2$

$4 + 2 \bigcirc 7$

$5 + 2 \bigcirc 8$

$4 + 5 \bigcirc 5 + 4$

$2 + 5 \bigcirc 6$

$6 - 3 \bigcirc 5$

$5 + 3 \bigcirc 4 + 3$



自我评价

我真棒! ☐再接再厉吧! ☐需加油哦! ☐



## 可爱的企鹅

## 一、计算。

$7+1=$

$6+2=$

$7-2=$

$4+4=$

$3+5=$

$4+5=$

$8-1=$

$9-2=$

$9-5=$

$2+7=$

$3+6=$

$9-6=$

$8-4=$

$9-3=$

$8+1=$

$4+2=$

$5+4=$

$9-4=$

$9-9=$

$8-0=$

$9-1=$

$8-6=$

$9-7=$

$8-2=$

$8-7=$

$9-8=$

$8-3=$

## 二、在○里填上“&gt;”“&lt;”或“=”。

$9-1 \bigcirc 6$

$9-7 \bigcirc 5$

$8 \bigcirc 1+6$

$6+3 \bigcirc 7$

$1+8 \bigcirc 7$

$7 \bigcirc 3+4$

$2+3 \bigcirc 7$

$9+0 \bigcirc 6$

$9 \bigcirc 4+4$

$8+1 \bigcirc 6$

$7-2 \bigcirc 9$

$9 \bigcirc 3+5$





## 小鸡吃食(1)

### 一、计算。

$4+6=$

$10-4=$

$10-6=$

$1+9=$

$10-1=$

$10-9=$

$2+8=$

$10-2=$

$10-8=$

$5+5=$

$10-5=$

$4+5=$

$3+6=$

$9-3=$

$9-6=$

$3+5=$

$8-3=$

$8-5=$

$7+2=$

$9-7=$

$9-2=$

$10-10=$

$10-0=$

$10+0=$

### 二、连一连。

$9-2$

$10-3$

$5+5$



$7+3$

$10+0$

$1+6$

$3+4$



$9+1$

$7-0$

$8+2$





## 小鸡吃食(2)

## 一、计算。

$10-8=$

$10-2=$

$7-3=$

$8-1=$

$3+6=$

$5-1=$

$9+1=$

$10-7=$

$6-2=$

$8-6=$

$10-9=$

$9-2=$

$1+5=$

$8-4=$

$10-3=$

$10-4=$

$9-6=$

$8-5=$

$10-6=$

$7-3=$

$9-5=$

$5+5=$

$5+4=$

$10-0=$

$3+4=$

$7+3=$

$10-10=$

## 二、在○里填上“&gt;”“&lt;”或“=”。

$10-3 \bigcirc 2$

$10-7 \bigcirc 3$

$10-3 \bigcirc 8$

$10-3 \bigcirc 5$

$10-2 \bigcirc 5$

$10-1 \bigcirc 9$

$9-3 \bigcirc 4$

$10-0 \bigcirc 10$

$5+5 \bigcirc 8$

$10-4 \bigcirc 6$

$7 \bigcirc 10-4$

$8-3 \bigcirc 6$





## 乘车(1)

$7+1+1=$

$4+3+3=$

$3+5+2=$

$2+2+6=$

$5+0+5=$

$2+5+2=$

$1+1+1=$

$2+1+7=$

$1+8+1=$

$2+2+2=$

$1+2+2=$

$6+2+1=$

$2+4+3=$

$1+4+5=$

$3+1+4=$

$2+6+0=$

$3+3+1=$

$2+4+4=$

$0+3+2=$

$0+7+3=$

$3+2+2=$

$2+6+1=$

$4+0+4=$

$7+2+0=$

$8-3-2=$

$10-2-4=$

$5-1-4=$

$9-5-1=$

$10-3-1=$

$6-2-1=$

$8-1-5=$

$10-8-1=$

$6-6-0=$

$9-6-2=$

$9-8-0=$

$5-3-1=$

$9-1-6=$

$10-7-2=$

$4-1-2=$





## 乘车(2)

$7+1-5=$

$2+7-3=$

$4-4+8=$

$5+4-3=$

$8-8+4=$

$5+5-9=$

$7-2+5=$

$2-1+9=$

$7+0-3=$

$9-7+4=$

$3+5-6=$

$3+7-5=$

$1+8-6=$

$9-4+2=$

$4-2+7=$

$6-4+8=$

$6+3-0=$

$6+4-3=$

$0+9-2=$

$5+2-4=$

$5-1+4=$

$2+6-4=$

$8-5+3=$

$7-5+2=$

$9+1-5=$

$7-4+7=$

$3+3-1=$

$4+3-1=$

$1+6-5=$

$1+7-8=$

$3-2+7=$

$4-2-1=$

$8-6+5=$

$8+2-4=$

$10-1+0=$

$9-5+3=$

$5-5+10=$

$10-8+5=$

$10-6+1=$







## 练习二

$8-6=$

$1+9=$

$6+4-7=$

$2+4=$

$4+6=$

$5-4+2=$

$7-5=$

$8+2=$

$8-0-4=$

$9-3=$

$10-6=$

$8-3-5=$

$6-6=$

$9+1=$

$9-3-4=$

$5-4=$

$10-1=$

$7+2-8=$

$8+2=$

$2+8=$

$10-8+5=$

$10-3=$

$10-8=$

$10-4+2=$

$7+3=$

$10-5=$

$3+5+1=$

$5+4=$

$10-7=$

$5+3-6=$

$6+4=$

$10-9=$

$3+2+4=$

$10-8=$

$2+7=$

$7-3-1=$

$9-4=$

$5-5=$

$5+5-4=$





## 做个加法表

$4+1=$

$7+1=$

$3+2=$

$4+2=$

$7+2=$

$3+3=$

$4+3=$

$7+3=$

$3+4=$

$4+4=$

$8+1=$

$3+5=$

$4+5=$

$8+2=$

$3+6=$

$4+6=$

$9+1=$

$2+1=$

$5+1=$

$10+0=$

$2+2=$

$5+2=$

$0+10=$

$2+3=$

$5+3=$

$1+9=$

$2+4=$

$5+4=$

$2+8=$

$2+5=$

$5+5=$

$1+8=$

$2+6=$

$6+1=$

$3+7=$

$1+1=$

$6+2=$

$2+7=$

$7+0=$





## 做个减法表

$10-9=$

$9-3=$

$7-3=$

$10-8=$

$9-2=$

$7-2=$

$10-7=$

$9-1=$

$7-1=$

$10-6=$

$8-8=$

$7-0=$

$10-5=$

$8-7=$

$6-6=$

$10-4=$

$8-6=$

$6-5=$

$10-3=$

$8-5=$

$6-4=$

$10-2=$

$8-4=$

$6-3=$

$10-1=$

$8-3=$

$6-2=$

$10-0=$

$8-2=$

$6-1=$

$9-9=$

$8-1=$

$5-5=$

$9-8=$

$8-0=$

$5-4=$

$9-7=$

$7-7=$

$5-3=$





## 第三单元综合练习

$6+4=$

$6-5=$

$2+2+4=$

$7+2=$

$7+0=$

$3+6+1=$

$8-5=$

$8+1=$

$4+4+2=$

$2+6=$

$9-2=$

$5+0+5=$

$3+5=$

$6-4=$

$10-3-5=$

$7-1=$

$9-8=$

$9-6-2=$

$10-5=$

$10-4=$

$10-4-2=$

$6+3=$

$10-2=$

$7-0-5=$

$9-6=$

$8+2=$

$3+7-4=$

$8-7=$

$0+10=$

$1+7-6=$

$7-7=$

$5+5=$

$2-1+6=$

$7+3=$

$4+3=$

$4+6-7=$

$5-3=$

$7-5=$

$10-5-3=$





## 整理与复习(1)

$5+5=$

$2+7=$

$10-8=$

$6+4=$

$7+2=$

$10-2=$

$4+6=$

$2+6=$

$9-8=$

$7+3=$

$6+2=$

$9-1=$

$3+7=$

$3+5=$

$8-1=$

$8+2=$

$5+3=$

$8-7=$

$2+8=$

$1+6=$

$7-4=$

$10+0=$

$6+1=$

$7-3=$

$0+10=$

$2+5=$

$6-5=$

$1+9=$

$5+2=$

$6-1=$

$9+1=$

$3+4=$

$7-2=$

$4+5=$

$4+3=$

$7-5=$

$5+4=$

$8-5=$

$7-0=$





## 整理与复习(2)

## 一、在( )里填上适当的数。

$5 + ( ) + 4 = 9$

$8 - 6 - ( ) = 0$

$4 - 4 + 8 =$

$6 - ( ) - 4 = 0$

$2 + ( ) + 2 = 6$

$5 + 5 - 9 =$

$( ) - 2 - 4 = 2$

$5 + ( ) + 2 = 8$

$7 + 0 - 3 =$

$7 - 4 - ( ) = 0$

$3 + ( ) + 1 = 8$

$3 + 7 - 5 =$

$2 + ( ) + 2 = 8$

$8 + 1 + ( ) = 9$

$4 - 2 + 7 =$

$9 - ( ) - 2 = 7$

$7 - ( ) - 3 = 0$

$6 + 4 - 3 =$

$1 + ( ) + 3 = 6$

$7 - ( ) - 2 = 2$

$7 - 5 + 2 =$

$4 + 3 + ( ) = 8$

$5 - 2 - ( ) = 0$

$3 + 3 - 1 =$

$2 + ( ) + 1 = 3$

$2 + 4 + ( ) = 9$

$1 + 7 - 8 =$

## 二、小狗啃骨头。

$9 - 9 + 2$

$10 - 5 + 3$

$7 + 2 - 8$

$3 + 6 - 4$







## 期中综合练习(1)

$3+5=$

$5+4=$

$7+2+1=$

$4+4=$

$4-4=$

$9-6-3=$

$6-3=$

$9-6=$

$8-1+3=$

$7-7=$

$7-5=$

$1+8-9=$

$9-0=$

$8+0=$

$7-6+4=$

$8-3=$

$2+8=$

$5+4-5=$

$3+6=$

$10-5=$

$3+7-8=$

$9-3=$

$5+5=$

$5+2+1=$

$6-5=$

$10-2=$

$8-1-4=$

$7+2=$

$2+7=$

$6-6+3=$

$8+1=$

$0+6=$

$1+9-8=$

$9-4=$

$5+3=$

$3+0+4=$

$4+6=$

$6+2=$

$2+4-0=$





## 期中综合练习(2)

## 一、在( )里填上适当的数。

$7 - ( ) = 7$

$8 + ( ) = 10$

$10 - ( ) = 2$

$6 - ( ) = 6$

$( ) - 8 = 1$

$( ) + 5 = 7$

$( ) - 0 = 8$

$( ) + 1 = 9$

$7 + ( ) = 10$

$( ) - 7 = 0$

$7 + ( ) = 9$

$6 - ( ) = 0$

$8 - ( ) = 1$

$( ) - 6 = 1$

$9 - ( ) = 2$

## 二、计算。

$2 + 8 - 7 =$

$8 - 6 + 4 =$

$10 - 2 - 6 =$

$3 + 2 + 4 =$

$8 + 2 - 6 =$

$5 + 3 + 1 =$

$7 - 3 - 3 =$

$3 + 5 - 4 =$

$7 + 2 - 3 =$

$10 - 5 - 5 =$

$10 - 5 + 2 =$

$1 + 0 + 9 =$

$4 + 4 - 5 =$

$7 - 2 + 5 =$

$8 - 8 + 4 =$

$5 + 4 - 3 =$

$8 - 1 + 3 =$

$9 - 3 + 2 =$

$7 + 3 - 2 =$

$10 - 8 + 5 =$

$2 + 8 - 5 =$





## 分类

整理房间 一起来分类

$2+3=$

$8-2=$

$3+2=$

$6-5=$

$6-3=$

$9- =$

$4+3=$

$4+4=$

$7+1=$

$3+3=$

$10-4=$

$7-1=$

$2+2=$

$5+2=$

$9-8=$

$3+7=$

$6-1=$

$2+7=$

$8-5=$

$8-4=$

$5+4=$

$6-4=$

$6+2=$

$4+5=$

$10-5=$

$3+6=$

$3+3=$

$5+3=$

$7-5=$

$9-4=$

$6+4=$

$7+3=$

$8-1=$

$7+2=$

$2+6=$

$10-8=$





## 5

## 位置与顺序

前后、上下、左右、教室

## 一、计算。

$5-2+1=$

$6-2+1=$

$7+0-3=$

$4-2+2=$

$6-1+2=$

$8-3+2=$

$6+1-4=$

$5-3+1=$

$8-5+3=$

$6+3-4=$

$6-3+1=$

$8+2-6=$

$7-5+1=$

$9-6+3=$

$7+1-4=$

$7+3-2=$

$7-6+0=$

$7+3-1=$

$8-4+3=$

$9-7+4=$

$2-2+8=$

$8+2-5=$

$7+2-3=$

$10-5-0=$

## 二、连一连。

$6-2+3$

5

4

$8-5+4$

$7-4+2$

7

7

$2+4-3$

$5+3-4$

2

3

$10-6+1$

$6+1-5$

4

5

$3+2-1$





## 认识图形

## 认识图形 我说你做

$4+3=$

$3+6-4=$

$9-3-6=$

$5+5=$

$8-7+5=$

$10-6-4=$

$0+8=$

$1+8-5=$

$7-1-4=$

$7-5=$

$8-3-5=$

$7-7+0=$

$4+2=$

$7-3-4=$

$7-3+2=$

$8+1=$

$9-5+6=$

$8-5+1=$

$9-4=$

$4+3+2=$

$10-5+2=$

$6-6=$

$8-2-6=$

$1+6-2=$

$7-6=$

$6+3-8=$

$2-1+6=$

$9-6=$

$10+0-7=$

$3-1+4=$

$9-2=$

$8+2-5=$

$4-2+8=$

$6-5=$

$6-4+7=$

$4-3+7=$





## 第四、五、六单元综合练习

## 一、算一算。

$1+9=$

$5+2+1=$

$5+0+3=$

$7-7=$

$1+3+5=$

$10-3-7=$

$3+4=$

$3+3+2=$

$9-3-3=$

$3+7=$

$8+0+2=$

$7+3-1=$

$4+5=$

$0+9+1=$

$8-4+5=$

$9-2=$

$9-8-1=$

$7-3+6=$

$7+3=$

$5-1-2=$

$8+2-4=$

$6-3=$

$10-2-7=$

$3+5-6=$

$2+8=$

$9-1-5=$

$6+3-8=$

## 二、在○里填上“&gt;”“&lt;”或“=”。

$3+2+5 \bigcirc 8$

$10-6-1 \bigcirc 8$

$7-2-1 \bigcirc 4$

$10-4+2 \bigcirc 1+7-6$

$9+1-4 \bigcirc 1+9-5$

$4+5-9 \bigcirc 4+4-4$

$2+1+5 \bigcirc 10-6+3$

$9-5+3 \bigcirc 4+5-1$

$10-1-7 \bigcirc 3+2+1$







本产品禁止网上销售 违者必究

网购产品不受法律保护

责任编辑：金昊 陈曲

装帧设计：深一度  
DESIGN

上架建议 \ 小学教辅

ISBN 978-7-5581-2738-0



9 787558 127380 >

定价：28.80元