

智能口算

一年级上 RJ

教辅资料站



电子教辅 试卷练习
知识总结 备课资源

—— 扫码关注获取更多学习资料 ——

拍照批改 错题分析

99%的计算题错在过程
错题看分析、提分有方向



拍照批改 错题讲解



文化发展出版社
Cultural Development Press

微信公众号
教辅资料站
小考教辅站
初高教辅站



CONTENTS

目录

数学 1 年级(RJ)上

1 准备课

第 1 课时 数一数 1

第 2 课时 比多少 2

2 位置

第 1 课时 上、下、前、后 3

第 2 课时 左、右 4

3 1~5 的认识和加减法

第 1 课时 1~5 的认识 5

第 2 课时 比大小 6

第 3 课时 第几 7

第 4 课时 分与合(1) 8

第 5 课时 分与合(2) 9

第 6 课时 加法(1) 10

第 7 课时 加法(2) 11

第 8 课时 减法(1) 12

第 9 课时 减法(2) 13

第 10 课时 0 的认识和加减法 14

4 认识图形(一)

第 1 课时 认识立体图形 15

第 2 课时 立体图形的拼搭 16

5 6~10 的认识和加减法

第 1 课时 6 和 7 的认识 17

第 2 课时 6 和 7 的组成 18

第 3 课时 6 和 7 的加减法(1) 19

第 4 课时 6 和 7 的加减法(2) 20

第 5 课时 解决问题——情境图,求总数

或部分(1) 21

第 6 课时 解决问题——情境图,求总数

或部分(2) 22

第 7 课时 8 和 9 的认识 23

第 8 课时 8 和 9 的组成 24

第 9 课时 8 和 9 的加减法(1) 25

第 10 课时 8 和 9 的加减法(2) 26

微信公众号
教辅资料站
小考教辅站
初中教辅站

第 11 课时	解决问题——图文结合,求 部分	27
第 12 课时	10 的认识	28
第 13 课时	10 的加减法(1)	29
第 14 课时	10 的加减法(2)	30
第 15 课时	连加连减	31
第 16 课时	加减混合	32

6 11~20 各数的认识

第 1 课时	数数	33
第 2 课时	11~20 各数的读写	34
第 3 课时	11~20 的加减法	35
第 4 课时	解决问题——用数数的方法	36
☆数学乐园		37

7 认识钟表

认识钟表	38
------------	----

8 20 以内的进位加法

第 1 课时	9 加几	39
第 2 课时	8、7、6 加几(1)	40
第 3 课时	8、7、6 加几(2)	41
第 4 课时	5、4、3、2 加几	42
第 5 课时	解决问题——解题策略的多 样性	43
第 6 课时	解决问题——用画图的策略	44
期末综合练(1)		45
期末综合练(2)		46




1 准备课


第 1 课时 数一数

shǔ yì shǔ lián yì lián


1. 数一数，连一连。



5




1



10



7



9

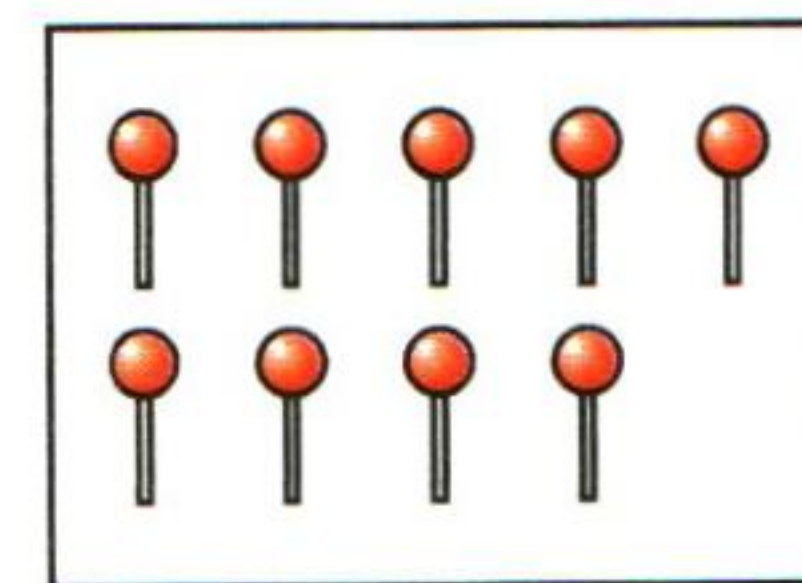
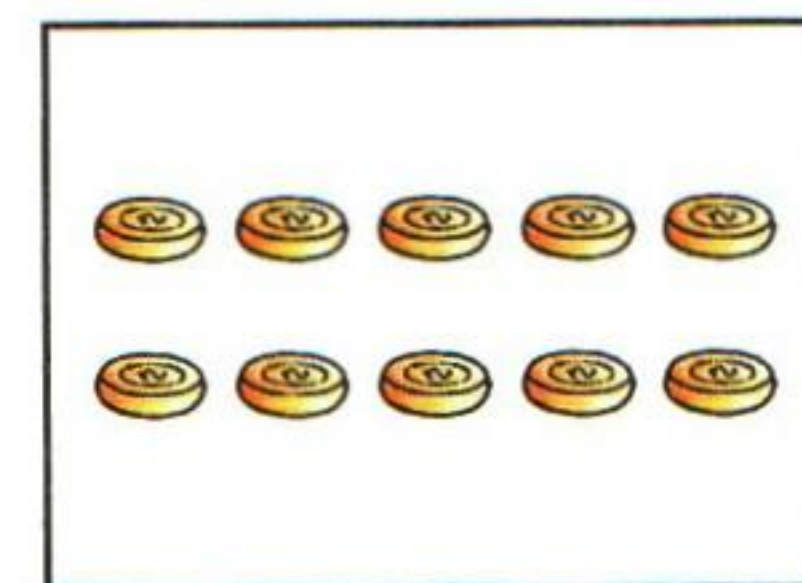



2

4

3

6




8



yòng huà

de fāng fǎ biǎo shì wù tǐ de gè shù

2. 用画○的方法表示物体的个数。










微信公众号
教辅资料站
小考教辅站
初高教辅站



第2课时 比多少

bǎ tóng yàng duō de yòng xiàn lián qǐ lái

1. 把同样多的用线连起来。




bǐ yì bǐ

2. 比一比。

(1) 在多的后面画“√”。



(2) 在少的后面画“√”。





2 位置

第1课时 上、下、前、后

xiǎng yi xiǎng quān chū zhèng què dá àn


1. 想一想，圈出正确答案。

(1) 在 的(上 下)面。

在 的(上 下)面。

(2) 在 的(上 下)面。

在 的(上 下)面。



(3) () 在最上面。() 在最下面。

gēn jù tí shì xiǎng yi xiǎng

dài biǎo shuí

yòng xiàn lián yi lián

2. 根据提示想一想， 代表谁？用线连一连。

我排在 的后面。



我排在 的前面。



我后面有7只动物。



我的前面是 。







第2课时 左、右

zài zhèng què de dá àn shàng quān yì quān

1. 在 正 确 的 答 案 上 圈 一 圈 。




①



②



③



④

(1) (① ② ③ ④) 号小兔排在最左边。







(2) 排在最右边的是(① ② ③ ④)号小兔。

(3) ③号小兔在(① ② ③ ④)号小兔的左边。

(4) 排在①号小兔右边, ③号小兔左边的是(① ② ③ ④)号小兔。

kàn yi kàn tián yi tián

2. 看 一 看 , 填 一 填 。

(1)  的 () 边是  。

(2)  的 () 边是  。

(3)  和  都在  的 () 边。



3 1~5 的认识和加减法

第 1 课时 1~5 的认识

xiě yi xiě

1. 写一写。

1

2







3

4

5

kàn tú huà quān xiě shù

2. 看图，画圈，写数。

图	圈	数
		3
		
		
		
		

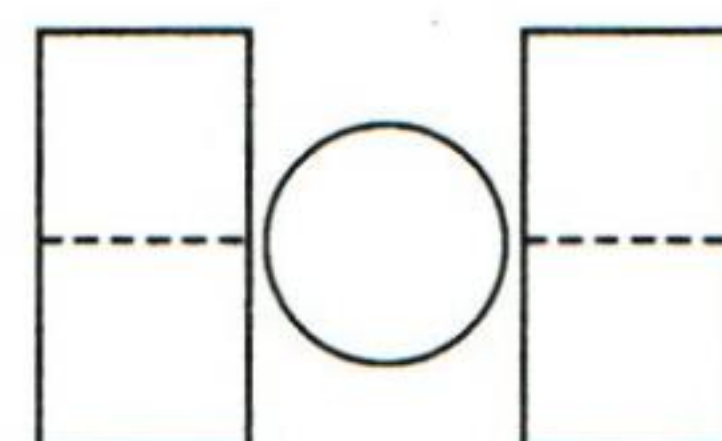
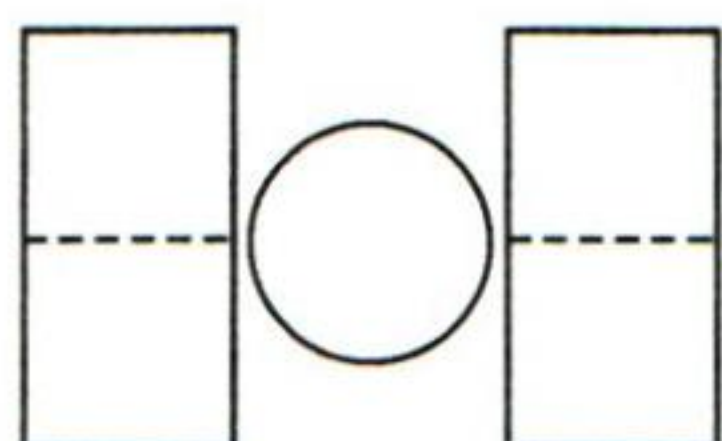
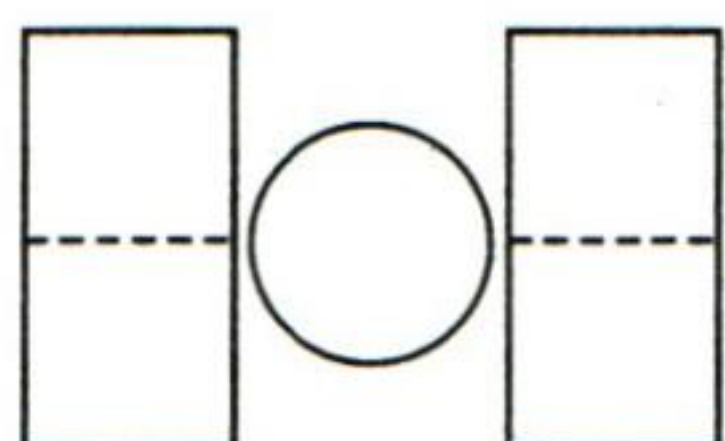
微信公众号
教辅资料站
小考教辅站
初高教辅站



第2课时 比大小

xiān xiě yì xiě zài bǐ yì bǐ

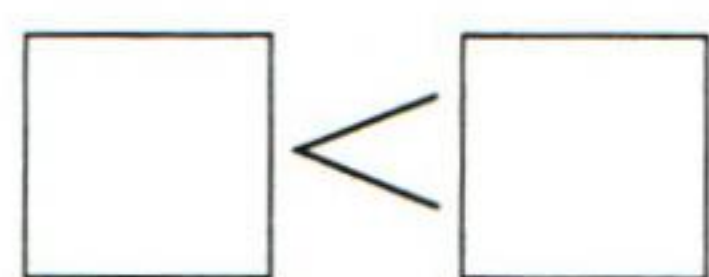
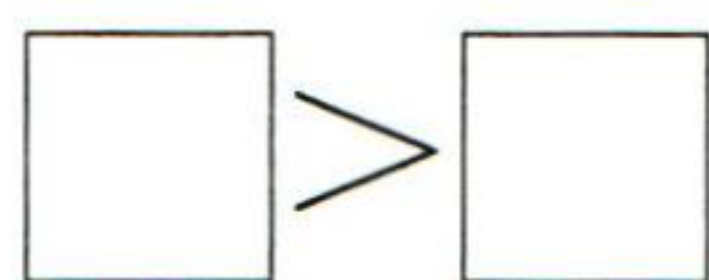
1. 先写一写，再比一比。




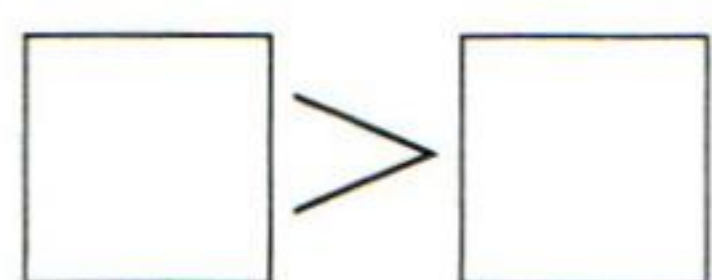
tián yì tián

2. 填一填。

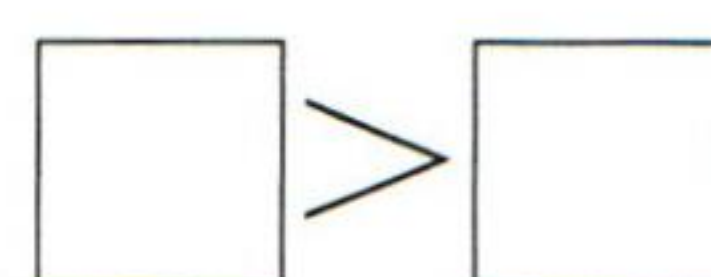
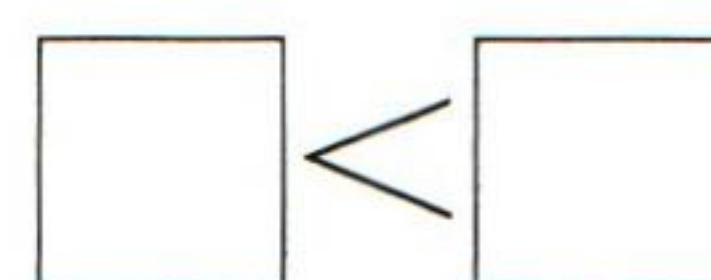
5 和 3



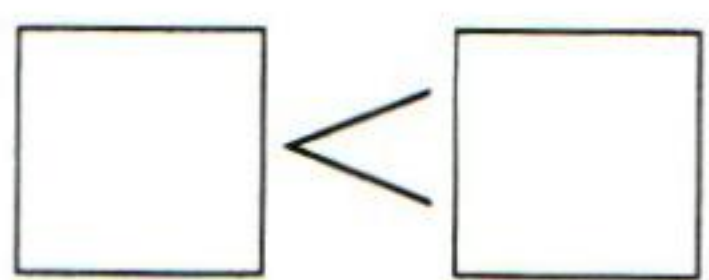
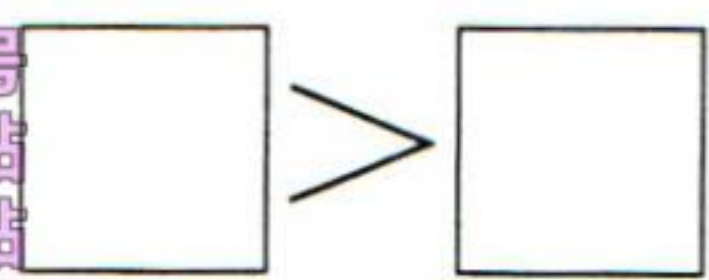
2 和 3



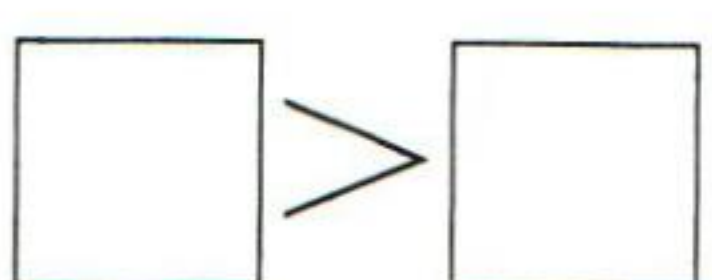

4 和 1



4 和 2



3 和 1



5 和 2



微信公众号
教辅资料站
小考教辅站
初高教辅站



第3课时 第几

1. 在 \bigcirc 里填上 “ $>$ ” “ $<$ ” 或 “ $=$ ”。

$5 \bigcirc 1$

$5 \bigcirc 2$

$3 \bigcirc 2$

$4 \bigcirc 3$

$4 \bigcirc 5$


$2 \bigcirc 1$

$5 \bigcirc 5$

$1 \bigcirc 3$

2. 学校举行运动会，小朋友们都得了第几名？帮

他们排排名次。



3. 看图填一填。



(1) 从左边数， 排在第 () 个，它的左边有 () 个水果，右边有 () 个水果。

(2) 从左边数， 排在第 () 个；从右边数， 排在第 () 个。

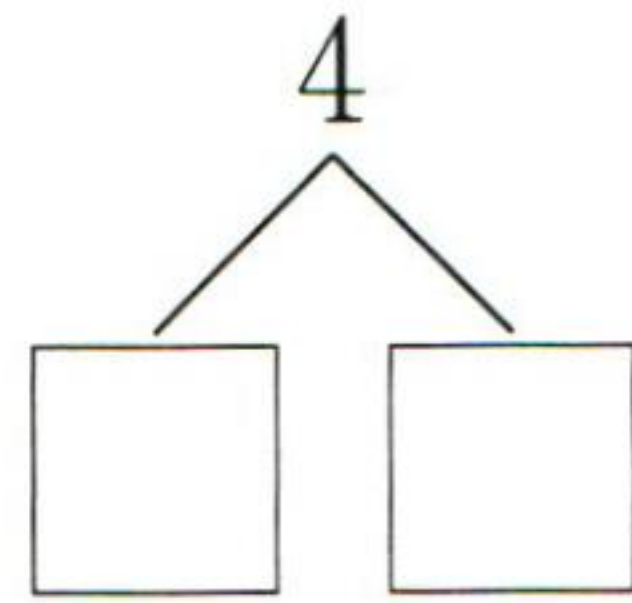
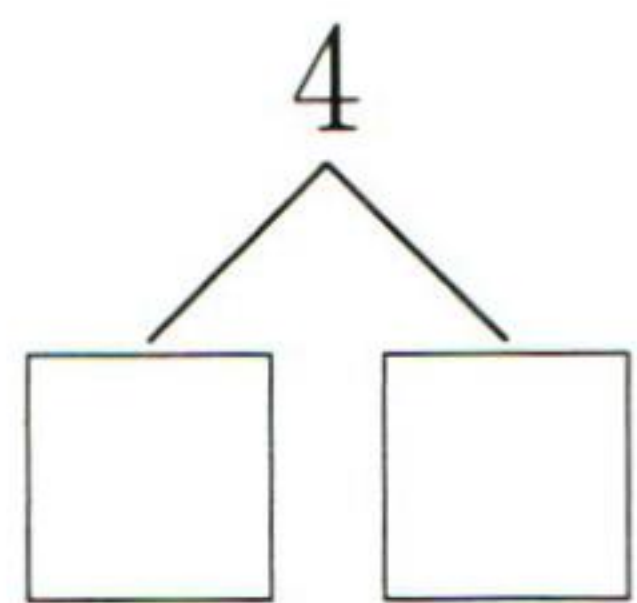
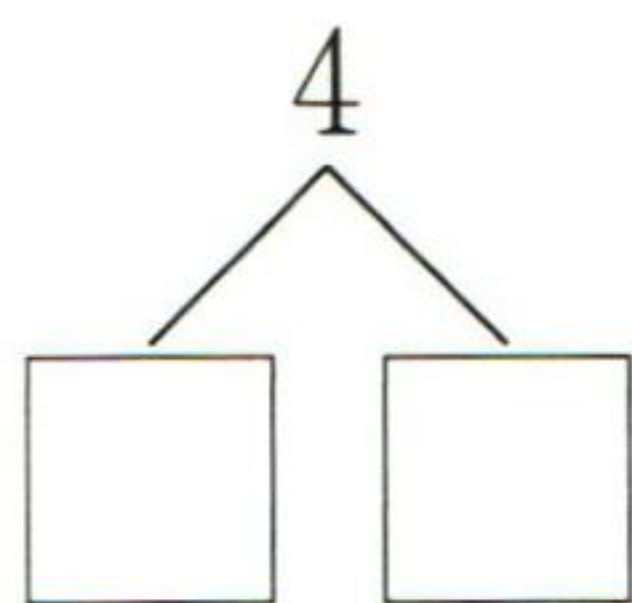
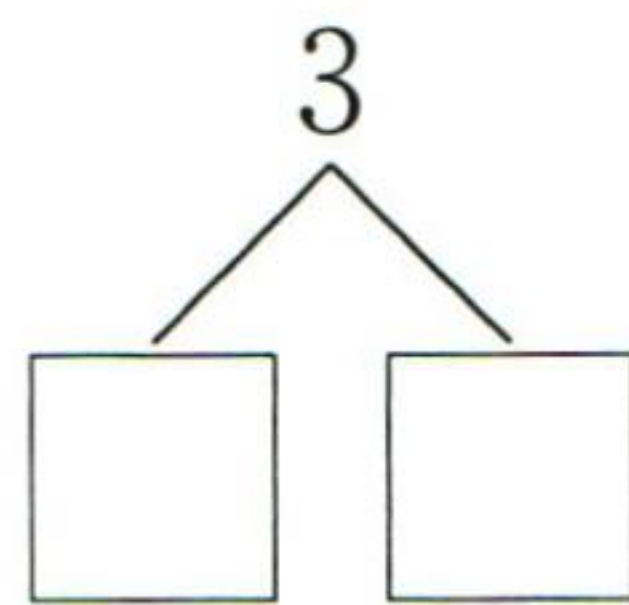
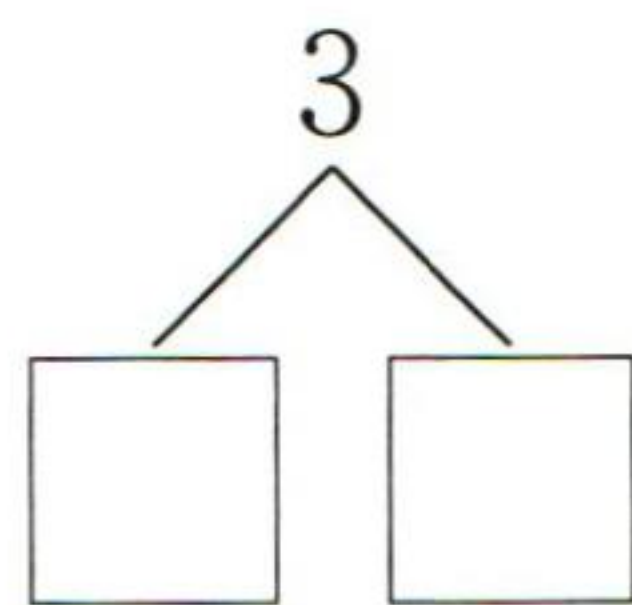

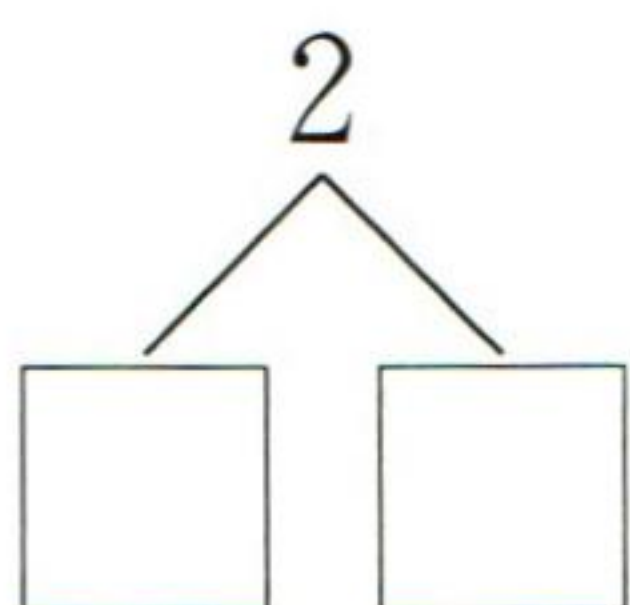

(3) 如果 排在第 1 个，那么 排在第 () 个。



第4课时 分与合(1)

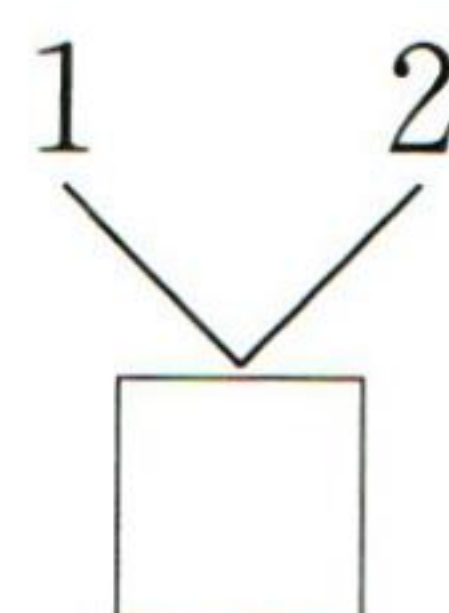
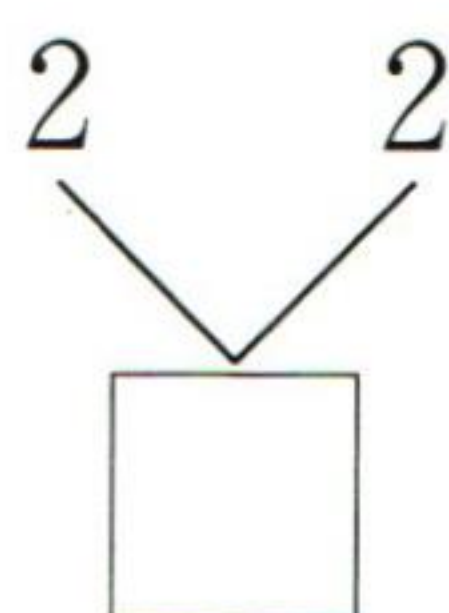
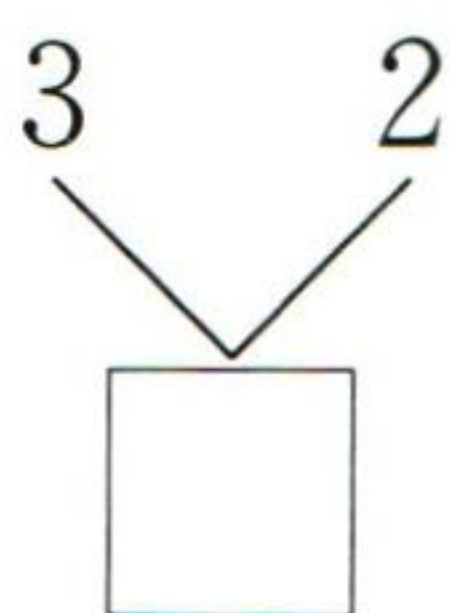
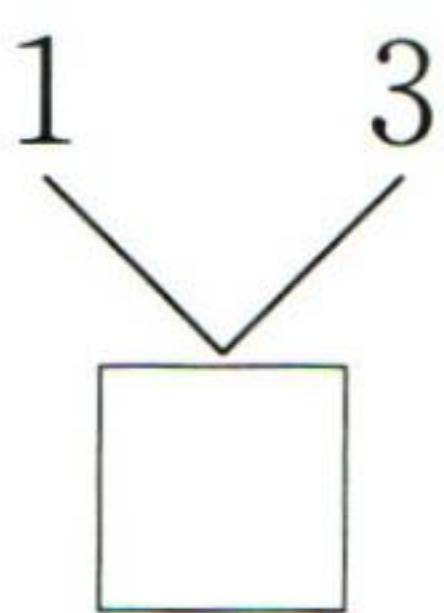
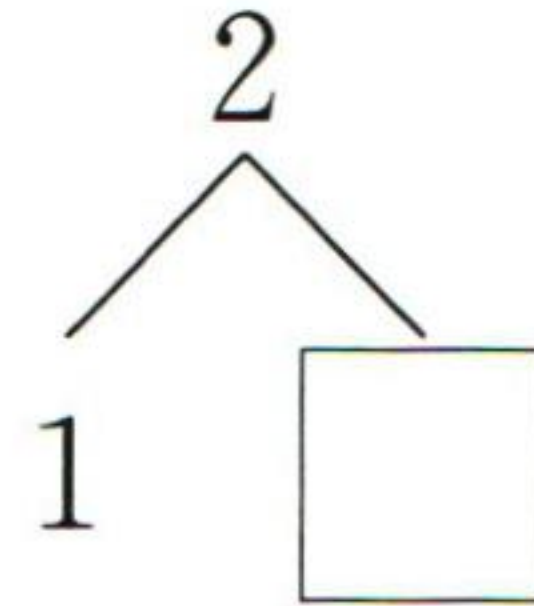
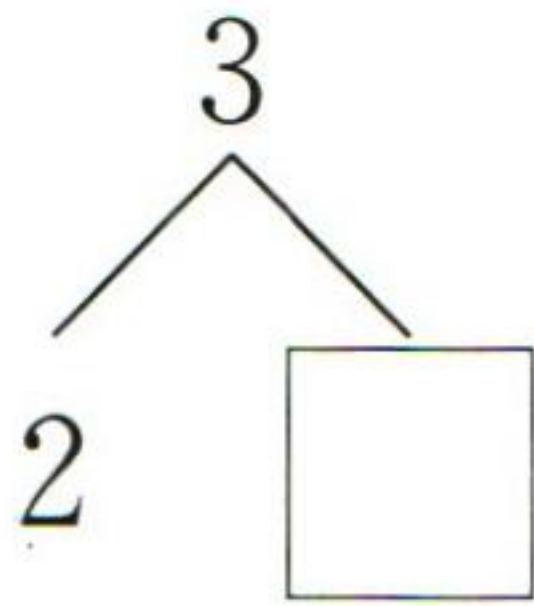
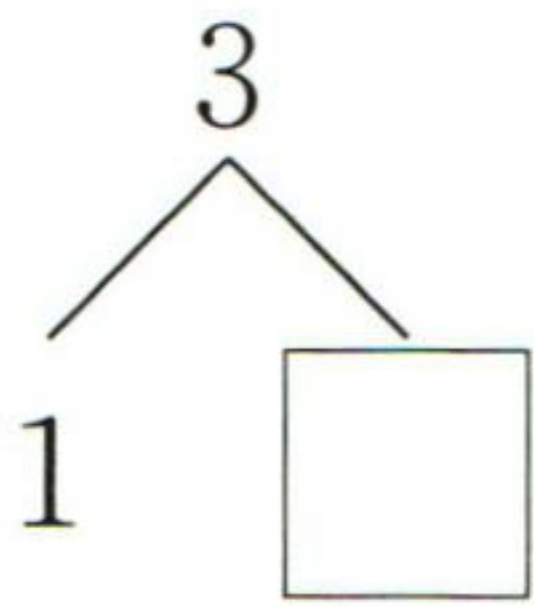
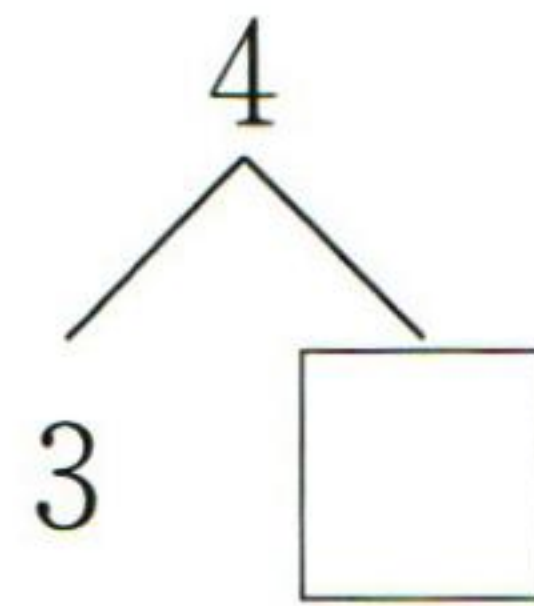
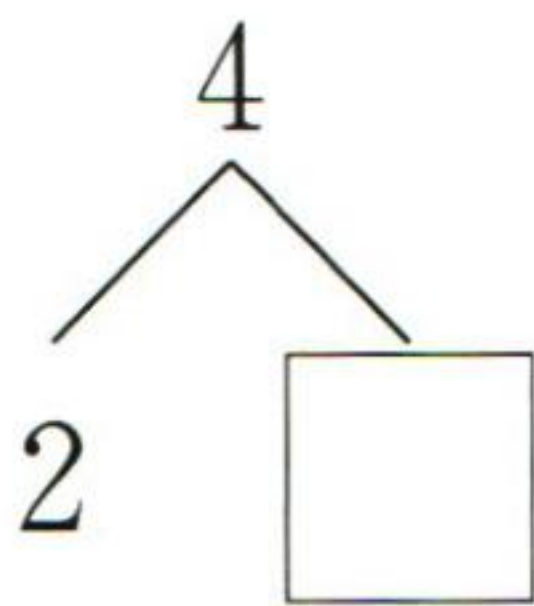
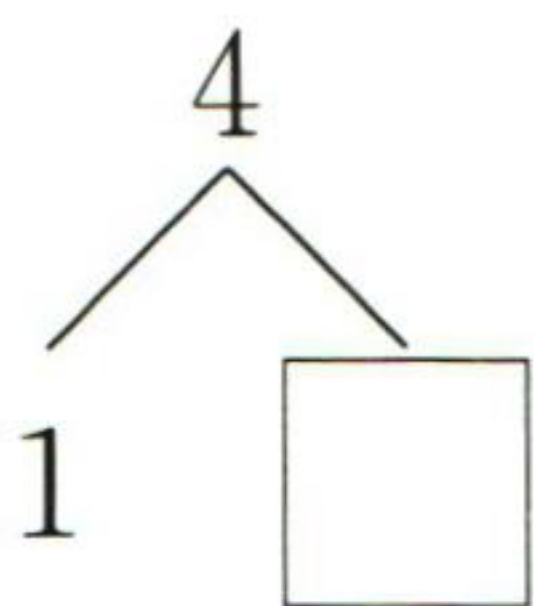
kàn tú tián shù

1. 看图填数。



tián yì tián

2. 填一填。

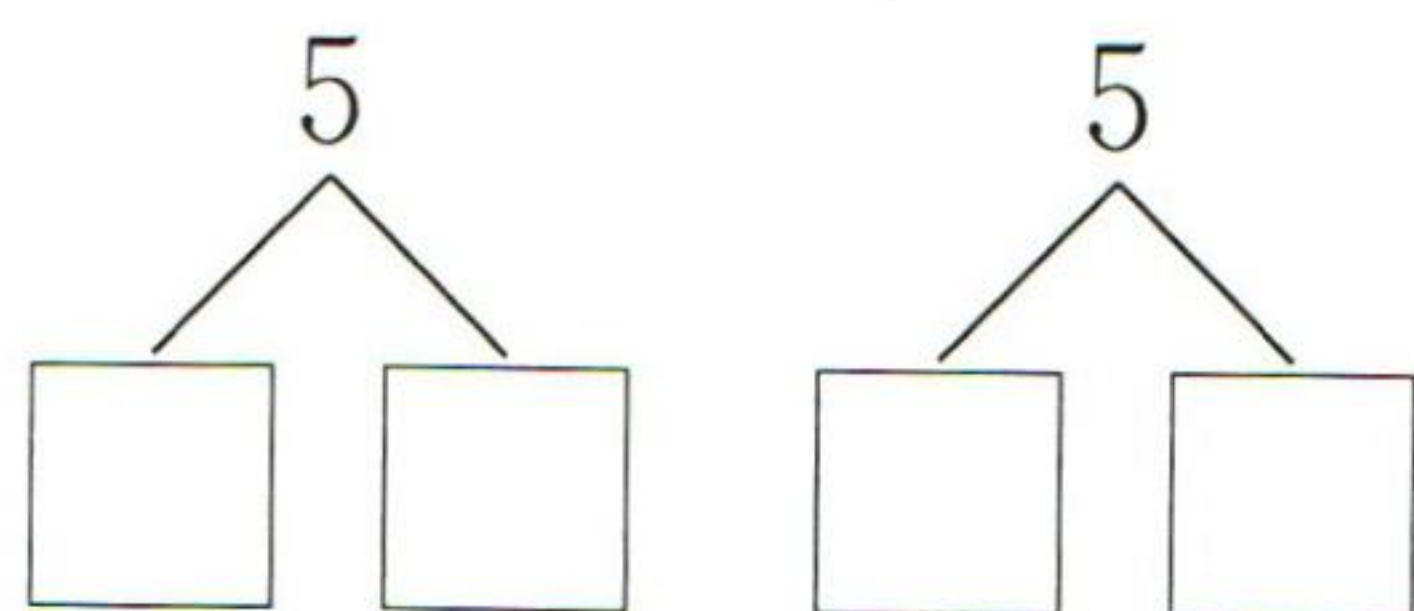
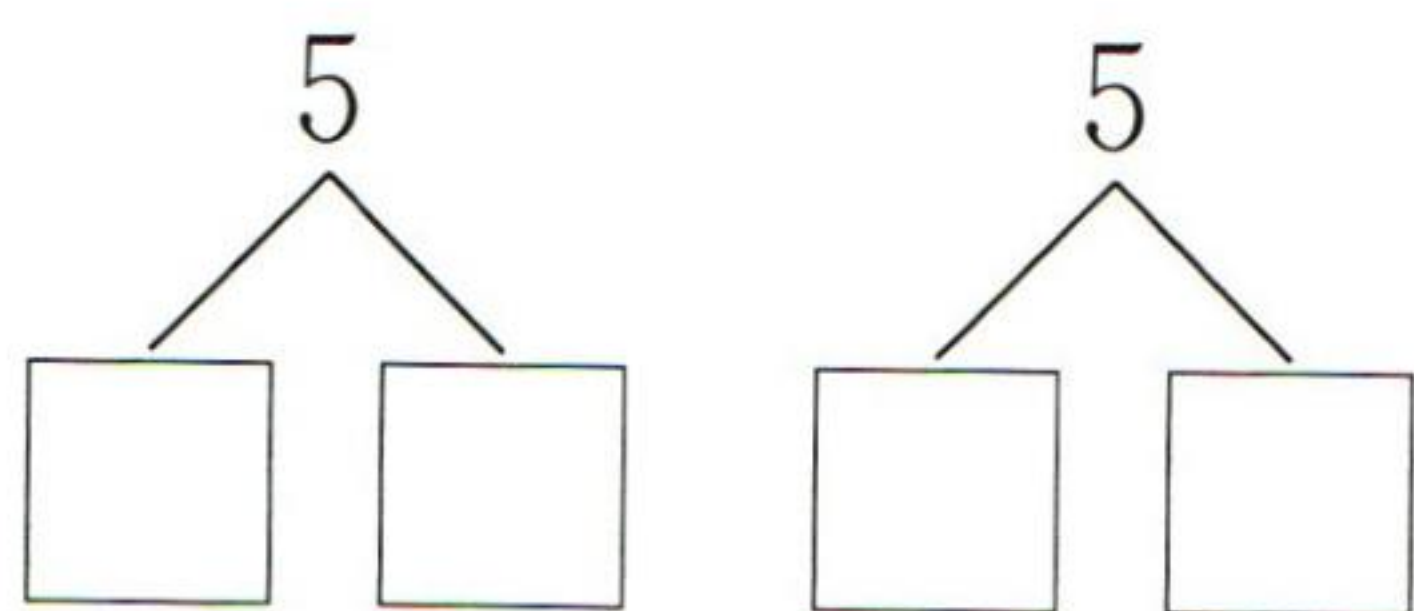




第 5 课时 分与合(2)

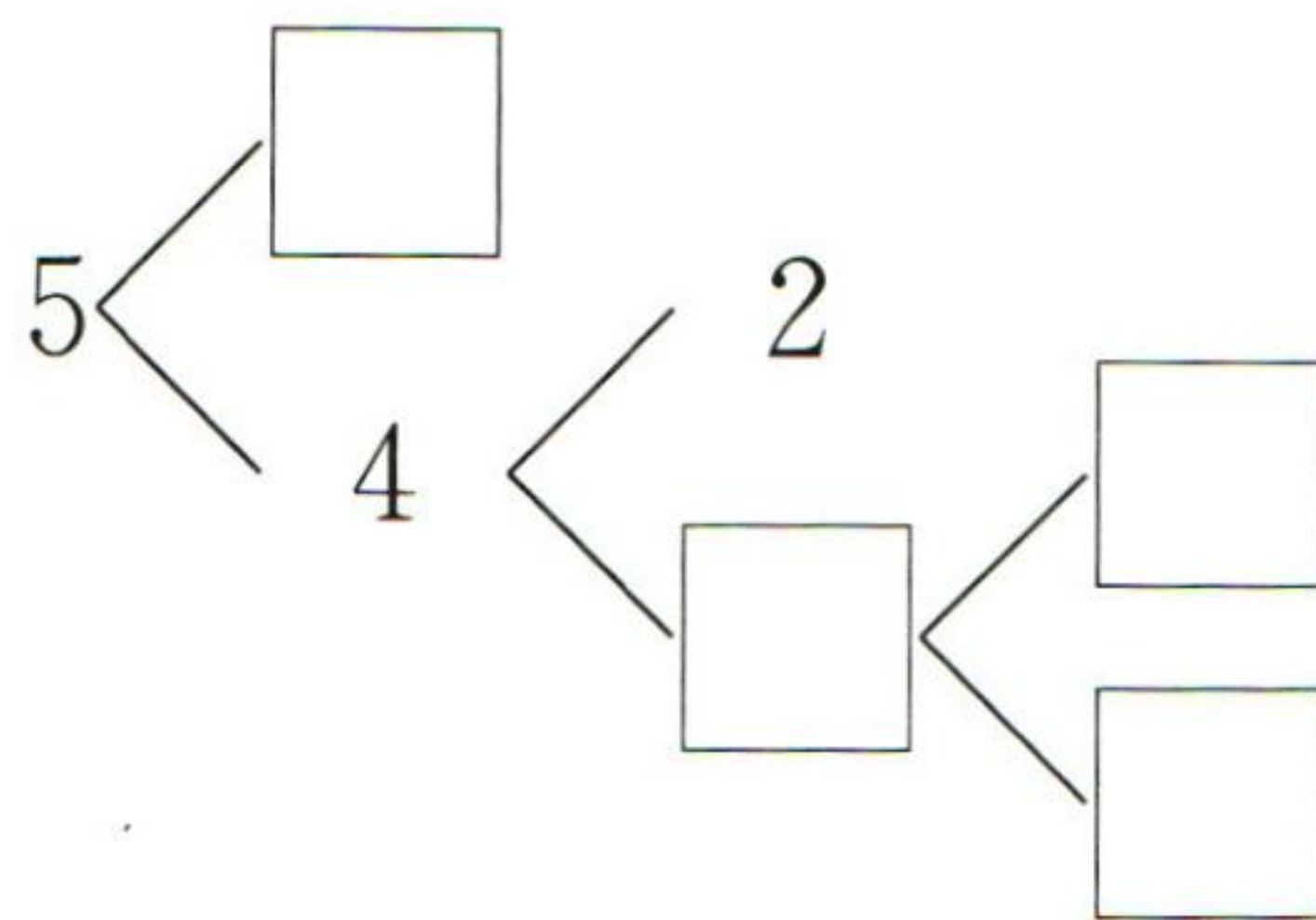
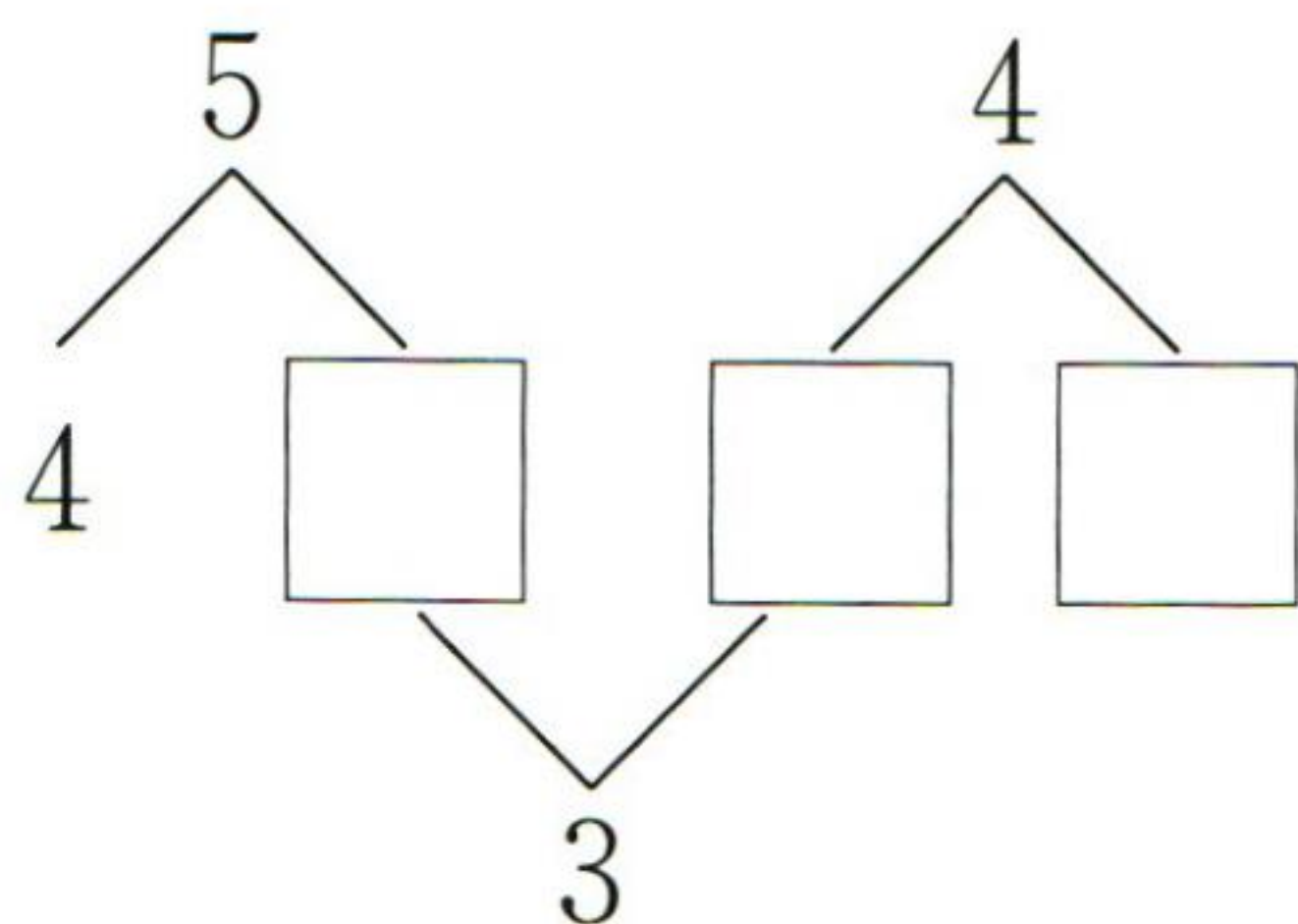
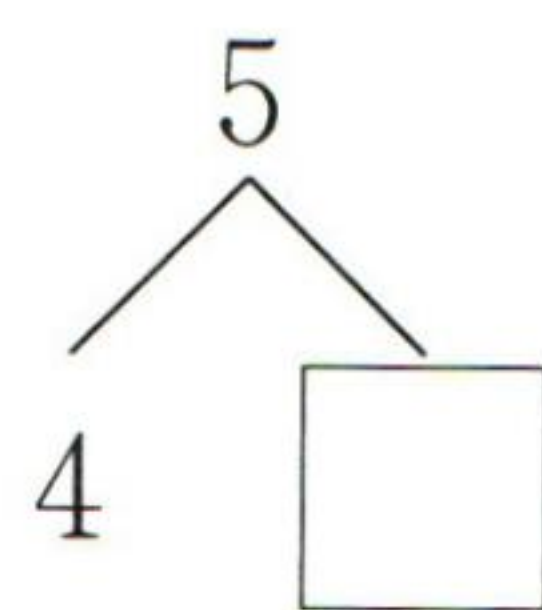
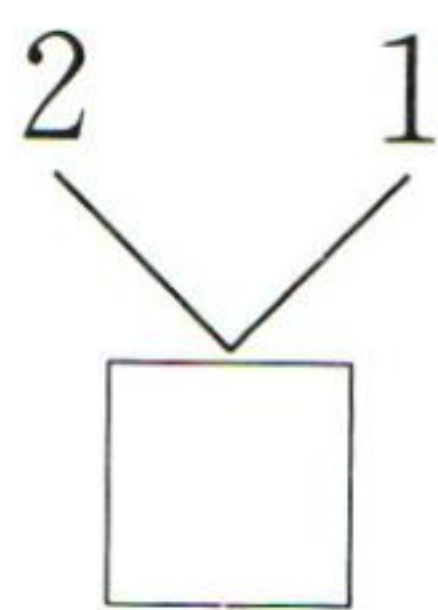
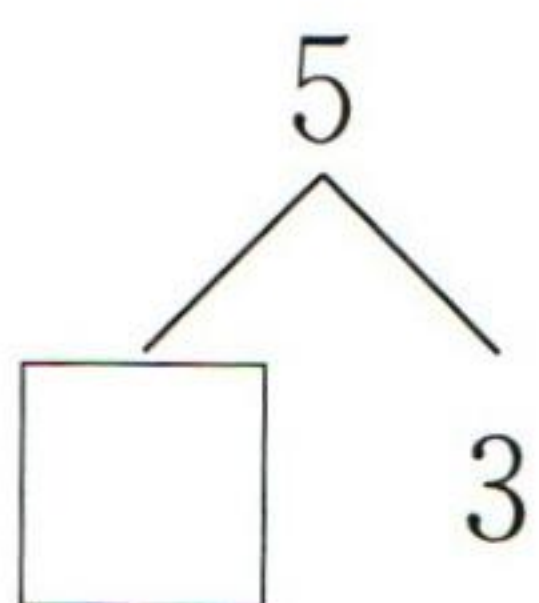
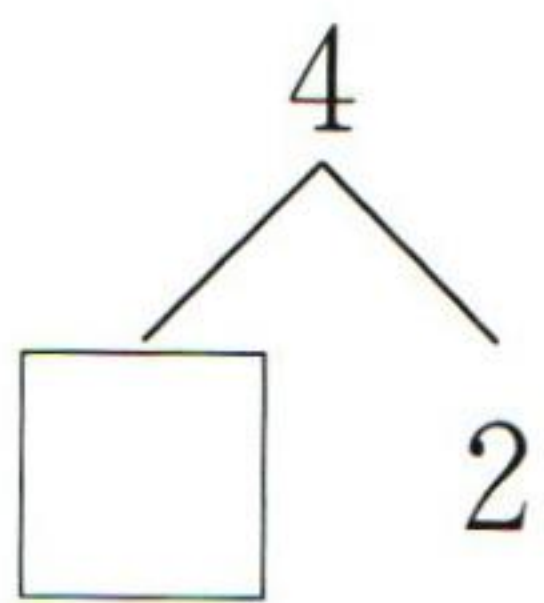
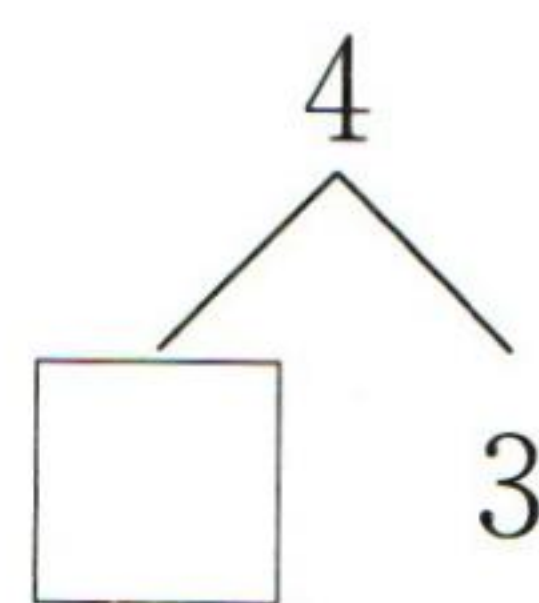
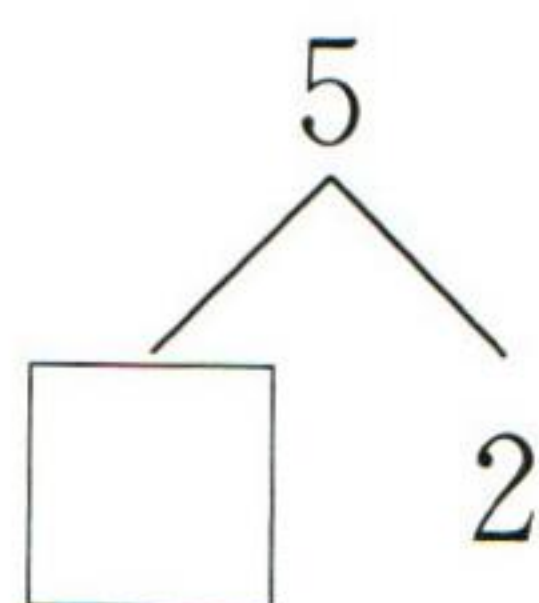
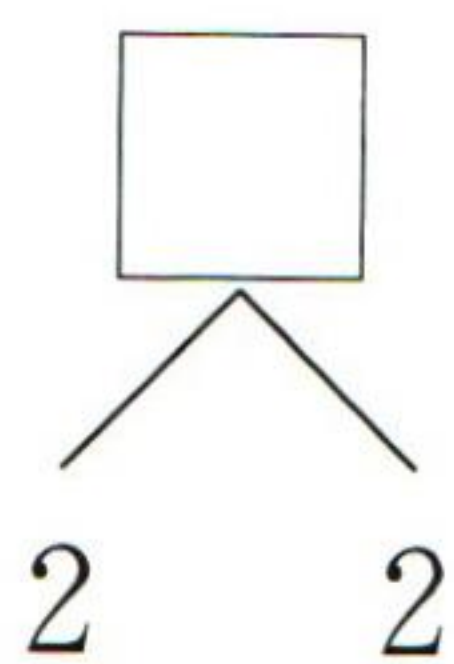
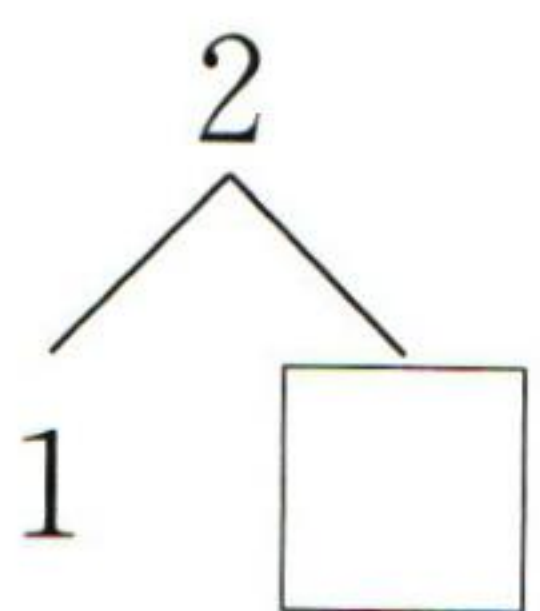
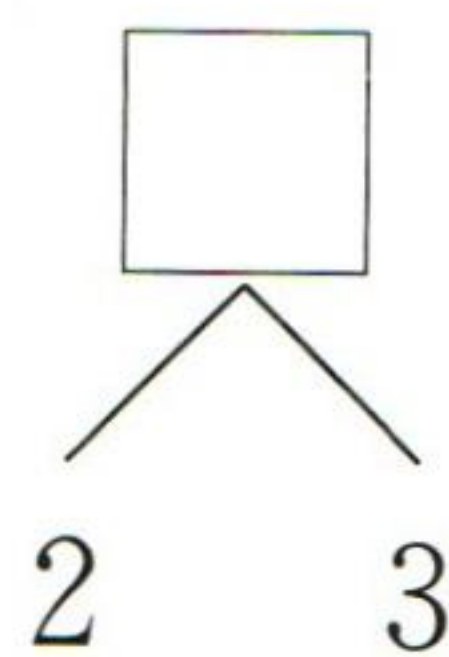
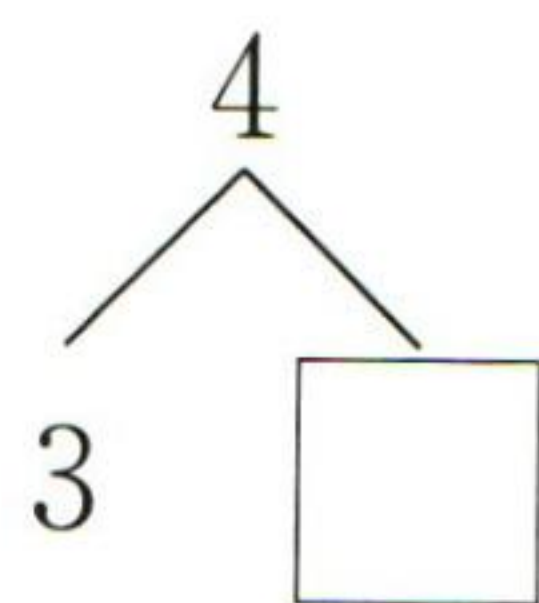
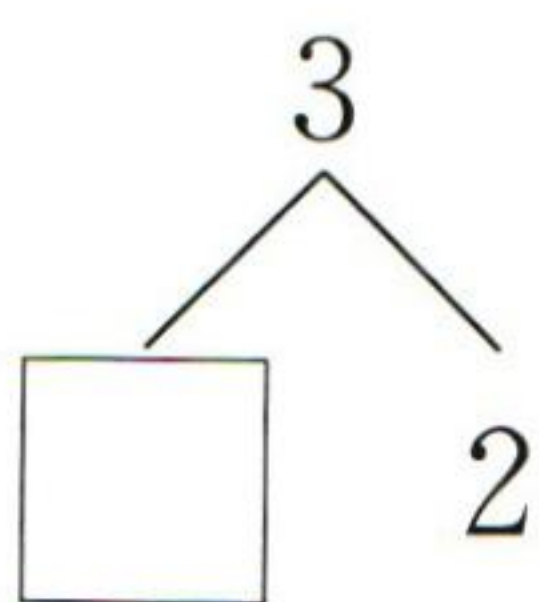
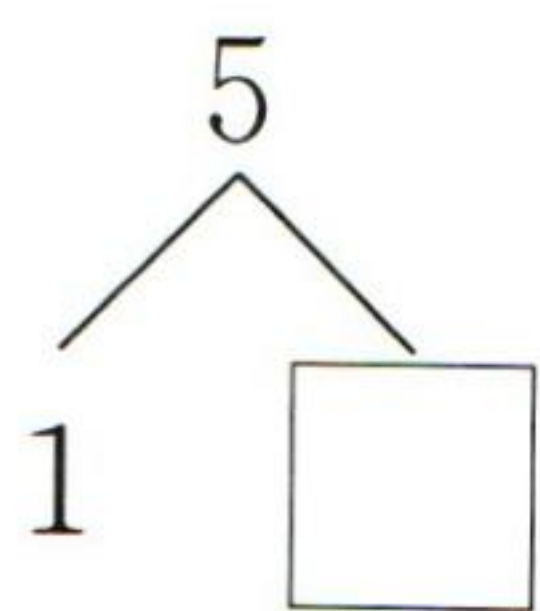
kàn tú tián kòng

1. 看图填空。



tián yì tián

2. 填一填。






第6课时 加法(1)

kàn tú liè shì jì suàn

1. 看图列式计算。




$$4 + \square = \square$$



$$\square + \square = \square$$



$$\square + \square = \square$$



$$\square + \square = \square$$

suàn yì suàn

2. 算一算。

$1 + 3 =$

$4 + 1 =$

$2 + 2 =$

$2 + 3 =$

$1 + 2 =$

$1 + 1 =$




$1 + 4 =$

$3 + 1 =$

$3 + 2 =$

lián yì lián

3. 连一连。





第7课时 加法(2)

xiān zhào yàng zi huà yì huà zài tián dé shù

1. 先照样子画一画,再填得数。

$1+2=\square$

$2+2=\square$

$2+3=\square$

○ ○○

$1+3=\square$

$4+1=\square$

$1+1=\square$

zài _____ lǐ tián shàng hé shì de shù

2. 在 _____ 里填上合适的数。

$\square+1=4$

$1+\square=2$

$\square+4=5$

$2+\square=5$

$\square+2=4$

$1+\square=4$

$\square+3=5$

$2+\square=3$

$\square+3=4$

suàn yì suàn tián yì tián

3. 算一算,填一填。


1+1=			
1+2=	2+1=		
1+3=	2+2=	3+1=	
1+4=	2+3=	3+2=	4+1=



第8课时 减法(1)

kàn tú tián yì tián

1. 看图填一填。




$1 + 4 = \square$

$5 - \square = \square$




$1 + 2 = \square$

$3 - \square = \square$



$\square - \square = \square$



$\square - \square = \square$

suàn yì suàn

2. 算一算。

$2 - 1 =$

$3 - 2 =$

$5 - 2 =$

$5 - 1 =$

$5 - 3 =$

$4 - 1 =$

$4 - 3 =$

$4 - 2 =$

$5 - 4 =$

zài _____ lǐ tián shàng hé shì de shù

3. 在 \square 里填上合适的数。

$3 - \square = 1$

$\square - 1 = 3$

$5 - \square = 1$

$\square - 1 = 2$

$4 - \square = 1$

$\square - 3 = 2$

$5 - \square = 2$

$\square - 2 = 2$

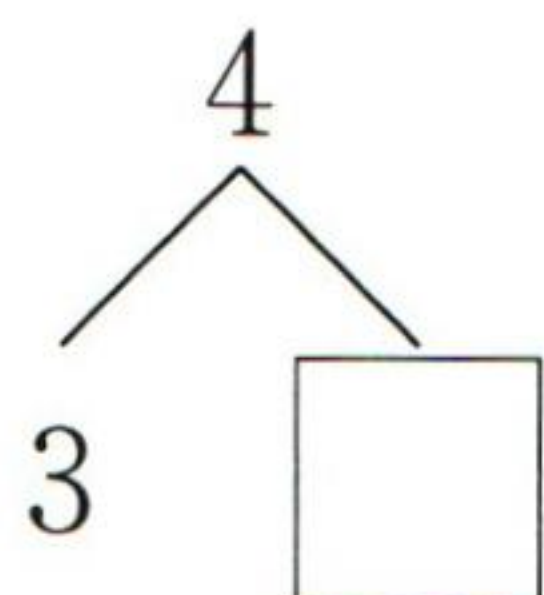
$\square - 1 = 1$



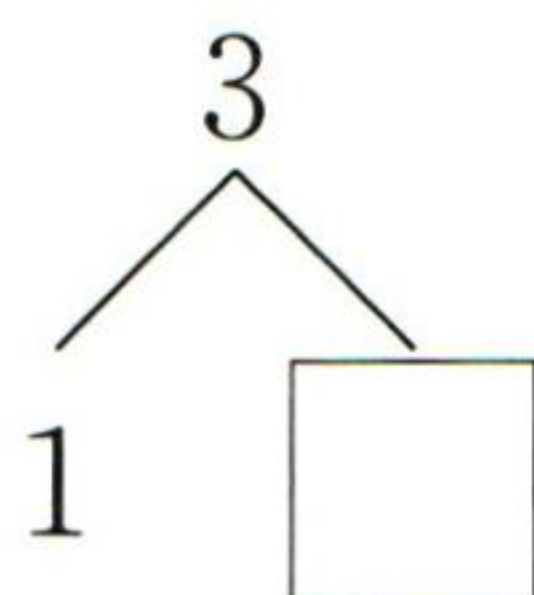
第 9 课时 减法(2)

tián yì tián

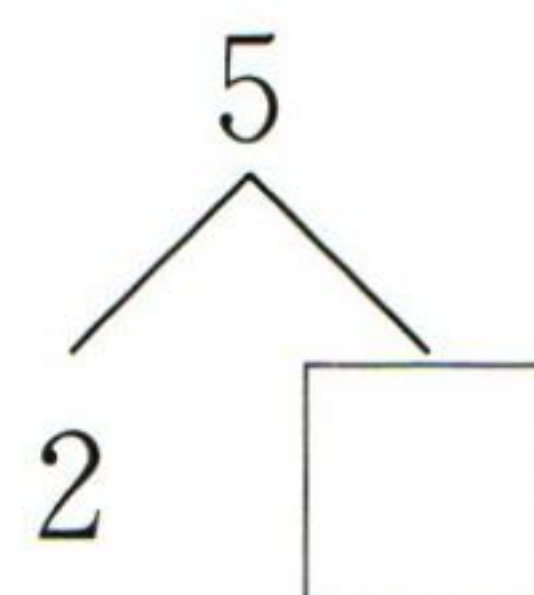
1. 填一填。



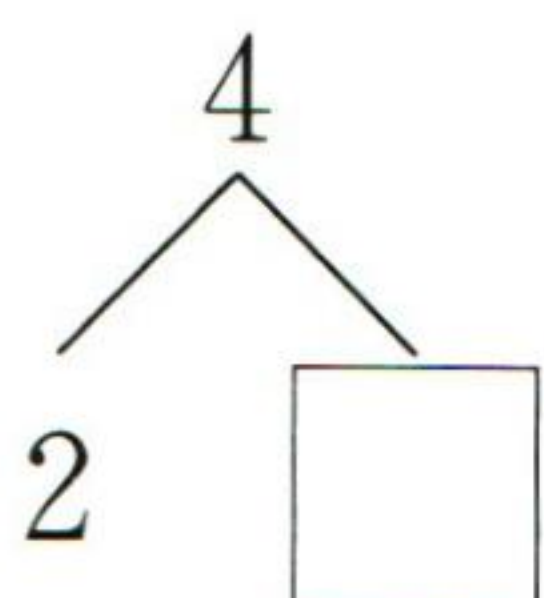
$$4 - 3 = \square$$



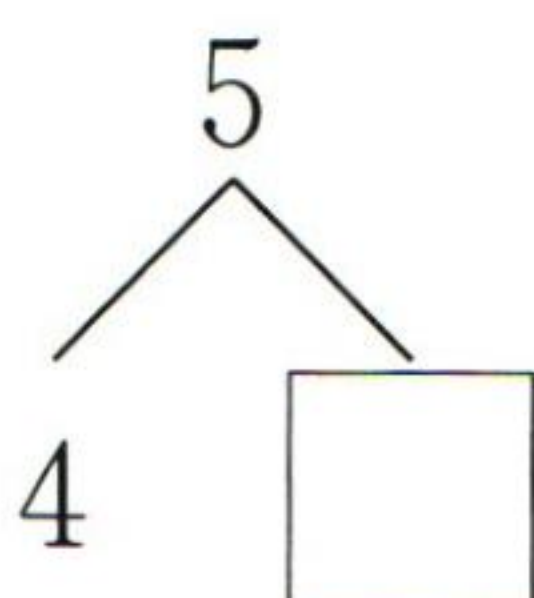
$$3 - 1 = \square$$



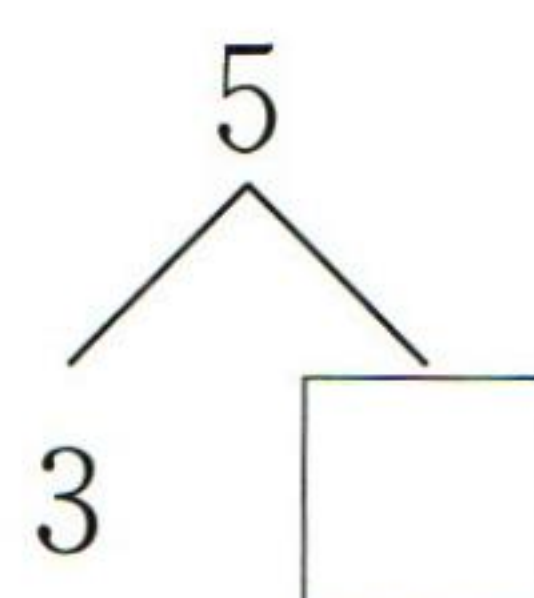
$$5 - 2 = \square$$



$$4 - 2 = \square$$



$$5 - 4 = \square$$



$$\square - \square = \square$$

suàn yì suàn tián yì tián

2. 算一算，填一填。

$$5 - \begin{array}{|c|} \hline 1 \\ \hline 2 \\ \hline 3 \\ \hline \end{array} = \begin{array}{|c|} \hline \\ \hline \\ \hline \\ \hline \end{array}$$

$$\begin{array}{|c|} \hline 5 \\ \hline 4 \\ \hline 3 \\ \hline \end{array} - 1 = \begin{array}{|c|} \hline \\ \hline \\ \hline \\ \hline \end{array}$$

suàn yì suàn tián yì tián

3. 算一算，填一填。

5 - 4 =			
4 - 3 =	5 - 3 =		
3 - 2 =	4 - 2 =	5 - 2 =	
2 - 1 =	3 - 1 =	4 - 1 =	5 - 1 =



第 10 课时 0 的认识和加减法

kǒu suàn

1. 口算。

$5-3=$

$4-4=$

$3-3=$

$1+3=$

$3-1=$

$2+3=$

$3+2=$

$1+2=$

$1+4=$

$5+0=$

$1-1=$

$0-0=$

$2-1=$

$1-0=$

$0+0=$

$2-2=$

$2+2=$

$3+1=$

$4-3=$

$0+3=$

$4-2=$

$5-1=$

$5-5=$

$5-4=$

$5-2=$

$5-0=$

$3+0=$

$4-0=$

$3-2=$

$2+0=$

$4+1=$

$4-1=$

$0+5=$

$0+2=$

$1+1=$

$2+1=$

lián yi lián

2. 连一连。

$4-4$

0

$0+3$

$5-0$

3

$5+0$

$3-0$

5

$2-2$



4 认识图形(一)

第1课时 认识立体图形

kǒu suàn

1. 口算。

$1+1=$

$5-3=$

$0+0=$

$4-2=$

$3+0=$

$5-5=$

$2-1=$

$3+1=$

$1+3=$

$2-0=$

$3+2=$

$3-1=$

$0+5=$

$4+0=$

$2+1=$

$1+2=$

$1+0=$

$1+4=$

$4-0=$

$2+2=$

$3-2=$

$5-2=$

$2+0=$

$5-0=$

$4-3=$

$4-1=$

$0+2=$

tián yì tián

2. 填一填。

$2+\square=5$

$4-\square=2$

$3-\square=0$

$2+\square=2$

$\square+3=5$

$\square-2=2$

$4-\square=4$

$3-\square=1$

$\square+1=4$

$5-\square=3$

$2-\square=1$

$\square+2=2$

$2+\square=4$

$\square-3=2$

$\square-1=4$



第2课时 立体图形的拼搭

suàn yì suàn tián yì tián

1. 算一算, 填一填。

$$2 + \begin{array}{|c|} \hline 2 \\ \hline 0 \\ \hline 1 \\ \hline 3 \\ \hline \end{array} = \begin{array}{|c|} \hline \\ \hline \\ \hline \\ \hline \end{array}$$

$$4 - \begin{array}{|c|} \hline 1 \\ \hline 3 \\ \hline 0 \\ \hline 2 \\ \hline \end{array} = \begin{array}{|c|} \hline \\ \hline \\ \hline \\ \hline \end{array}$$

$$\begin{array}{|c|} \hline 1 \\ \hline 2 \\ \hline 3 \\ \hline 0 \\ \hline \end{array} + 2 = \begin{array}{|c|} \hline \\ \hline \\ \hline \\ \hline \end{array}$$

$$5 - \begin{array}{|c|} \hline 0 \\ \hline 5 \\ \hline 4 \\ \hline 2 \\ \hline 1 \\ \hline \end{array} = \begin{array}{|c|} \hline \\ \hline \\ \hline \\ \hline \end{array}$$

$$\begin{array}{|c|} \hline 0 \\ \hline 2 \\ \hline 3 \\ \hline 1 \\ \hline 4 \\ \hline \end{array} + 1 = \begin{array}{|c|} \hline \\ \hline \\ \hline \\ \hline \end{array}$$

$$\begin{array}{|c|} \hline 5 \\ \hline 3 \\ \hline 2 \\ \hline 4 \\ \hline 1 \\ \hline \end{array} - 1 = \begin{array}{|c|} \hline \\ \hline \\ \hline \\ \hline \end{array}$$

$$0 + \begin{array}{|c|} \hline 1 \\ \hline 2 \\ \hline 4 \\ \hline 5 \\ \hline \end{array} = \begin{array}{|c|} \hline \\ \hline \\ \hline \\ \hline \end{array}$$

$$\begin{array}{|c|} \hline 4 \\ \hline 2 \\ \hline 3 \\ \hline 5 \\ \hline \end{array} - 2 = \begin{array}{|c|} \hline \\ \hline \\ \hline \\ \hline \end{array}$$

$$\begin{array}{|c|} \hline 5 \\ \hline 1 \\ \hline 2 \\ \hline 3 \\ \hline \end{array} - 0 = \begin{array}{|c|} \hline \\ \hline \\ \hline \\ \hline \end{array}$$

bǐ yì bǐ zài dé shù dà de suàn shì hòu miàn huà "√".

2. 比一比, 在得数大的算式后面画“√”。

$$\begin{cases} 3-1() \\ 3-2() \end{cases}$$

$$\begin{cases} 4-1() \\ 3-1() \end{cases}$$

$$\begin{cases} 2+3() \\ 2+2() \end{cases}$$

$$\begin{cases} 4+1() \\ 4-1() \end{cases}$$

$$\begin{cases} 5-4() \\ 5-1() \end{cases}$$

$$\begin{cases} 3+1() \\ 3+2() \end{cases}$$



5 6~10 的认识和加减法

第1课时 6和7的认识

kǒu suàn

1. 口算。

$2+2=$

$0+3=$

$5-5=$

$4-4=$

$4-0=$

$3+1=$

$5-0=$

$1+3=$

$3-3=$

$4+0=$

$5-4=$

$5-2=$

$0+2=$

$5+0=$

$2+0=$

$3-0=$

$5-1=$

$4-3=$

$3+2=$

$0+5=$

$1+1=$

$2-0=$

$3-1=$

$0+4=$

$4+1=$

$2+1=$

$5-3=$

$3-2=$

$4-1=$

$2+3=$

zài lǐ tián shàng

huò

2. 在 \bigcirc 里填上 “ $>$ ” “ $<$ ” 或 “ $=$ ”。

$7 \bigcirc 6$

$6 \bigcirc 6$

$5 \bigcirc 6$

$0 \bigcirc 6$

$5 \bigcirc 7$

$7 \bigcirc 4$

$3 \bigcirc 6$

$2 \bigcirc 7$

$7 \bigcirc 3$

$5 \bigcirc 4$

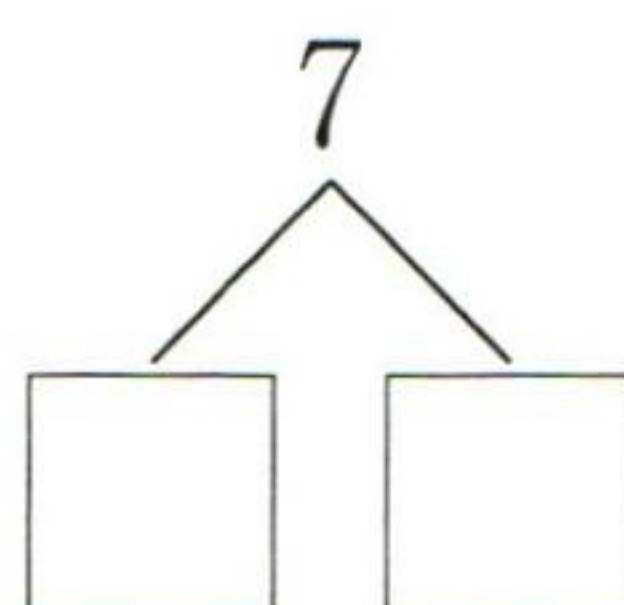
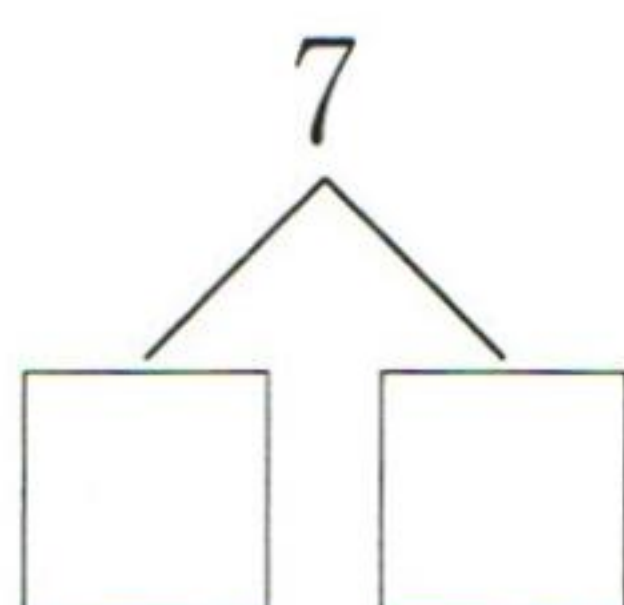
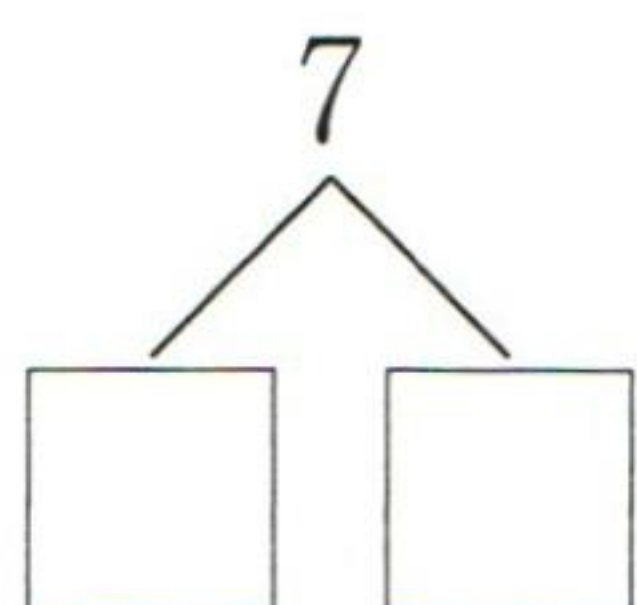
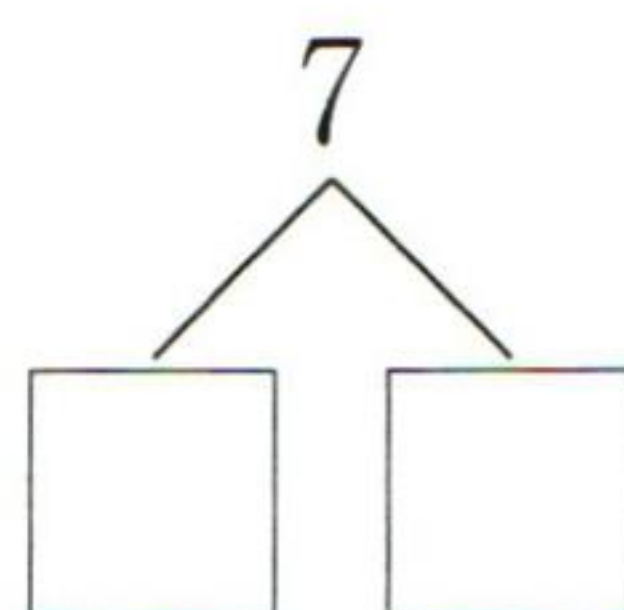
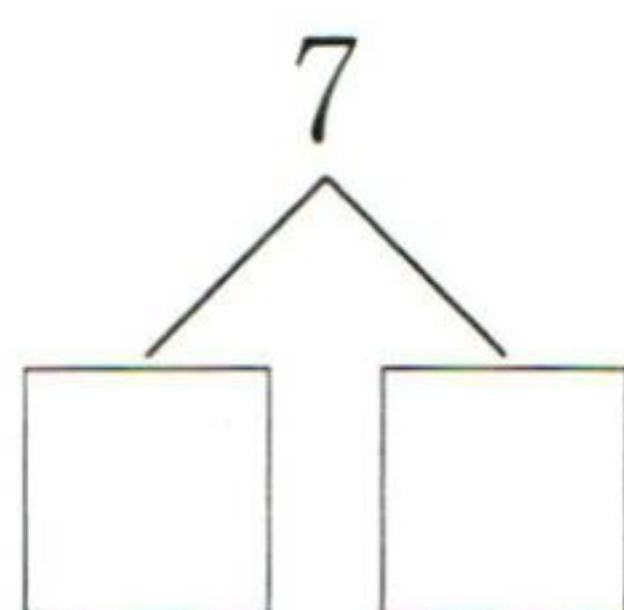
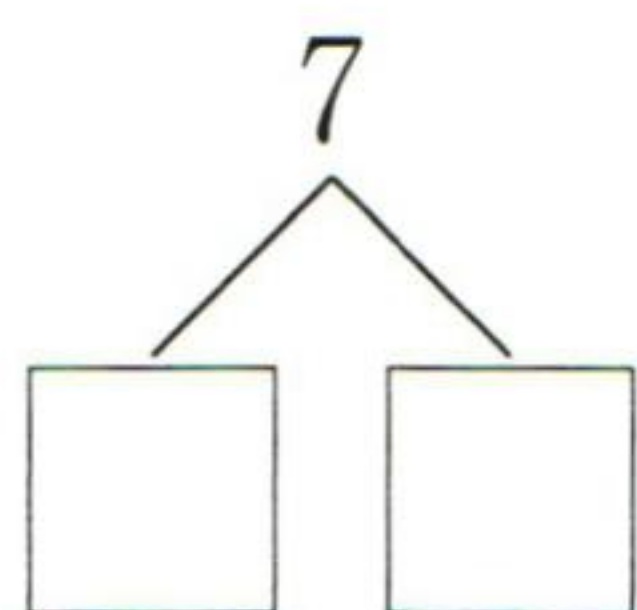
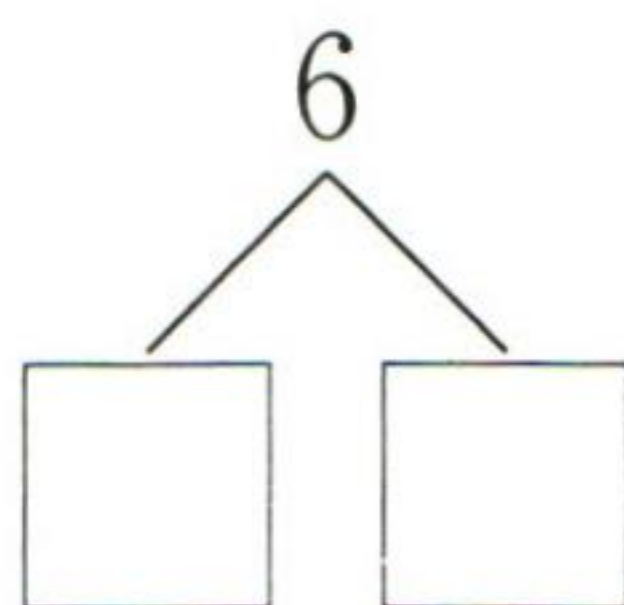
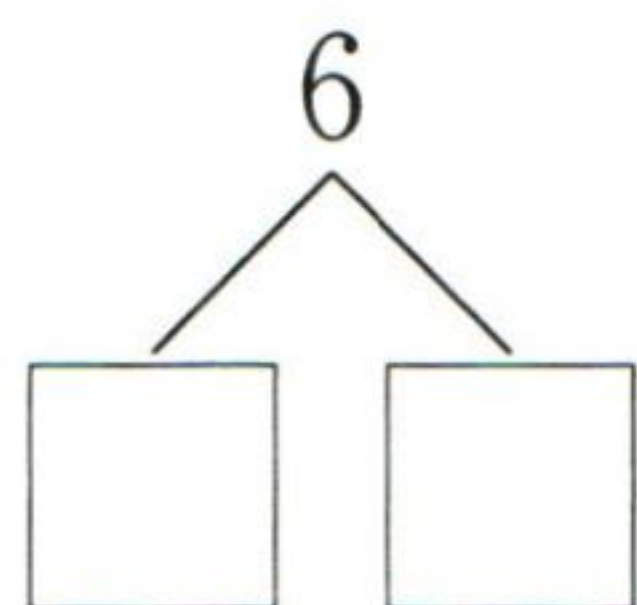
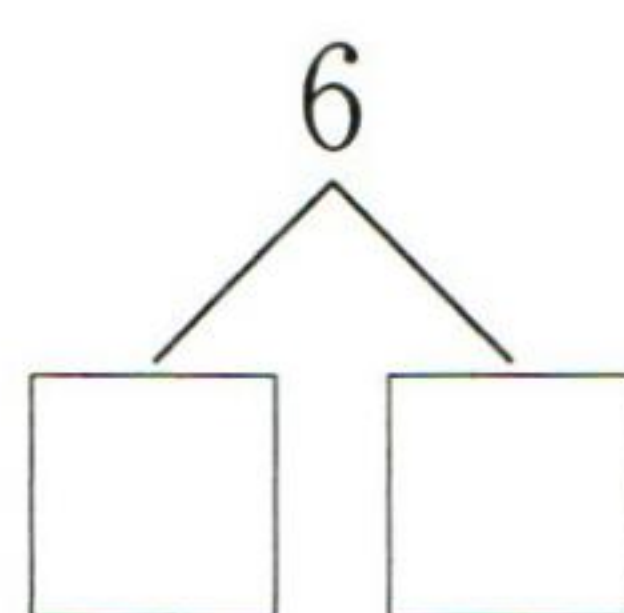
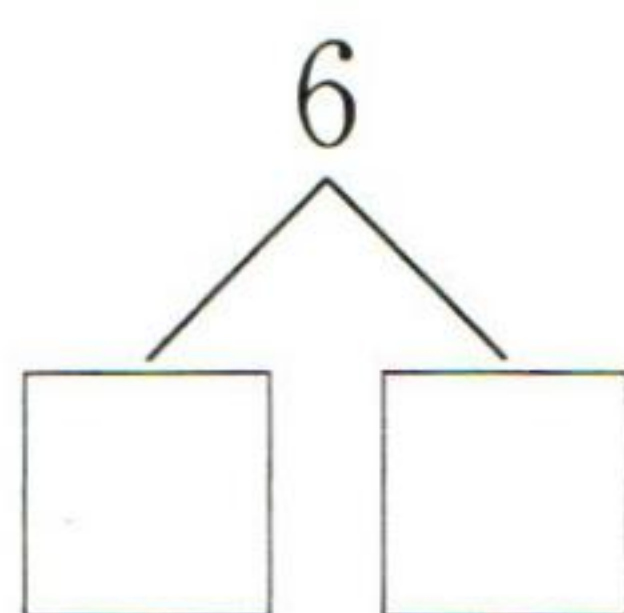
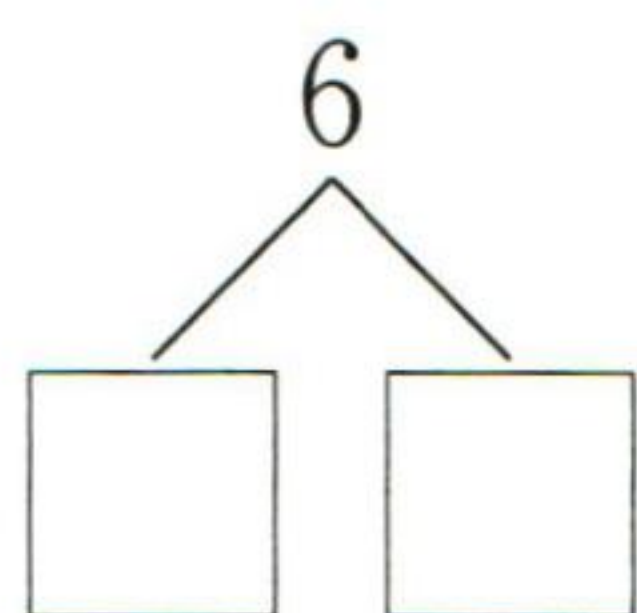
$7 \bigcirc 1$

$6 \bigcirc 4$

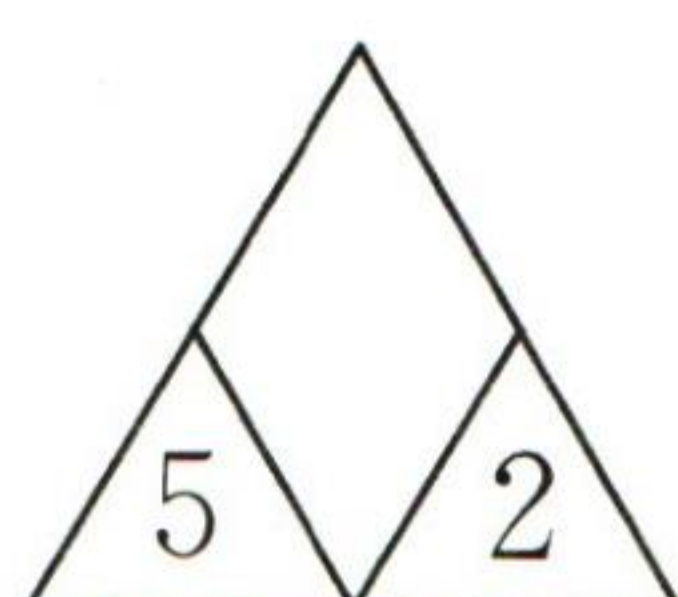
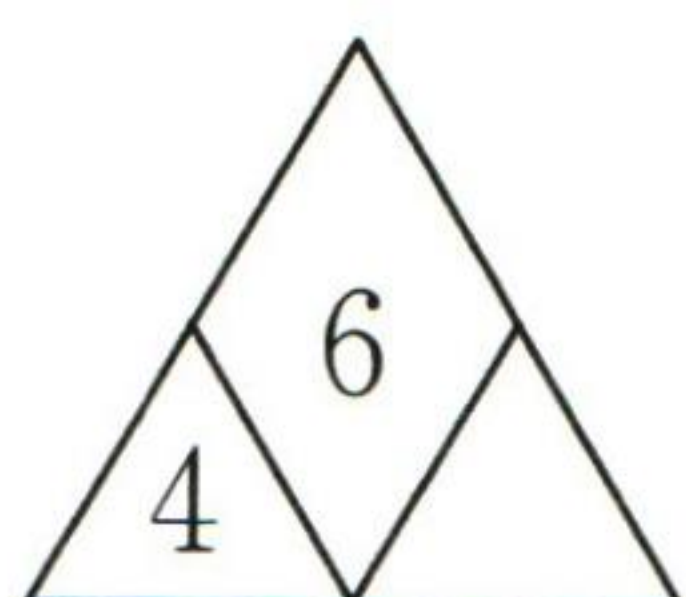
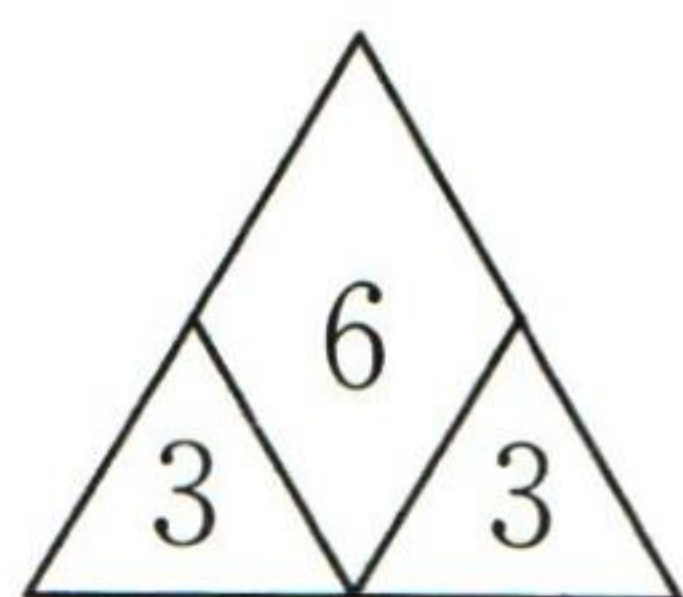


第2课时 6和7的组成

bǎ fàng zài liǎng gè hé zi lǐ kě yǐ zěn yàng fàng
1. 把  放在两个盒子里，可以怎样放？



zhào yàng zi tián yì tián
2. 照样子，填一填。





第3课时 6和7的加减法(1)

kǒu suàn

1. 口算。

$0+4=$

$6-4=$

$4+1=$

$1+6=$

$3+4=$

$6-6=$

$7-4=$

$2+3=$

$5+1=$

$5-3=$

$6-5=$

$5-4=$

$6-2=$

$5+2=$

$3-2=$

$0+7=$

$3+3=$

$4-1=$

$7-5=$

$7-3=$

$1+4=$

$7-1=$

$5-2=$

$0+6=$

$4+2=$

$7+0=$

$2-1=$

$1+5=$

$7-7=$

$7-0=$

zài

lǐ tián shàng

huò

2. 在 里填上“+”或“-”。

$3 \bigcirc 4 = 7$

$6 \bigcirc 5 = 1$

$1 \bigcirc 6 = 7$

$6 \bigcirc 2 = 4$

$2 \bigcirc 5 = 7$

$7 \bigcirc 1 = 6$

$7 \bigcirc 6 = 1$

$7 \bigcirc 4 = 3$

$7 \bigcirc 2 = 5$

$7 \bigcirc 3 = 4$

$5 \bigcirc 1 = 6$

$4 \bigcirc 2 = 6$



第4课时 6和7的加减法(2)

kǒu suàn

1. 口算。

$4+2=$

$1+6=$

$4+3=$

$2+4=$

$6+1=$

$3+4=$

$6-4=$

$7-1=$

$7-3=$

$6-2=$

$7-6=$

$7-4=$

$3+3=$

$2+5=$

$5+1=$

$6-3=$

$7-2=$

$6-1=$

$7+0=$

$6+0=$

$1+5=$

$6-6=$

$7-7=$

$7-0=$

$0+6=$

$0+7=$

$7-5=$

$6-5=$

$6-0=$

$5+2=$

tián yì tián

2. 填一填。

$\square+3=6$

$\square-2=5$

$6-\square=4$

$\square+4=7$

$7-\square=1$

$\square+6=6$

$5+\square=7$

$\square-4=2$

$6-\square=1$

$6-\square=6$

$2+\square=7$

$7-\square=4$

共 _____ 题 答对 _____ 题

20

自我评价: 



第5课时 解决问题——情境图, 求总数或部分(1)

kǒu suàn

1. 口算。

$5-3=$

$7-4=$

$2+4=$

$1+5=$

$3+4=$

$6-1=$

$7-1=$

$6-4=$

$5+2=$

$2+5=$

$7-5=$

$5-0=$

$7-0=$

$1+6=$

$7-6=$

$3+3=$

$7-2=$

$7-3=$

$6-5=$

$4+2=$

$3+2=$

$1+3=$

$7-7=$

$5-4=$

$6-3=$

$5+1=$

$4+3=$

$6-6=$

$5-2=$

$3-2=$

zài

lǐ tián shàng

huò

2. 在 里填上 “>” “<” 或 “=”。

$2+5 \bigcirc 6$

$3 \bigcirc 7-3$

$3+4 \bigcirc 4+2$

$1+6 \bigcirc 5$

$1 \bigcirc 6-5$

$6-1 \bigcirc 1+5$

$7-5 \bigcirc 3$

$6 \bigcirc 7-0$

$7-6 \bigcirc 7-5$



第6课时 解决问题——情境图, 求总数或部分(2)

kǒu suàn

1. 口算。

$6-2=$

$5+1=$

$7-1=$

$4+3=$

$6-5=$

$1+4=$

$7-6=$

$1+6=$

$6-3=$

$2+5=$

$7-4=$

$7-5=$

$6-4=$

$6+0=$

$3+2=$

$4+2=$

$6-1=$

$7-7=$

$7-3=$

$0+7=$

$5+2=$

$3+3=$

$5-2=$

$2+4=$

$4+1=$

$2+3=$

$7-2=$

$5-4=$

$4-1=$

$2+1=$

xiǎng yi xiǎng suàn yi suàn

2. 想一想, 算一算。

(1) $\text{Yellow Circle} + \text{Yellow Circle} = 6$

$\text{Yellow Circle} + \text{Blue Triangle} = 4$

$\text{Blue Triangle} + \text{Red Square} = 3$

$\text{Yellow Circle} = (\quad)$

$\text{Blue Triangle} = (\quad)$

$\text{Red Square} = (\quad)$

(2) $4 - \text{Green Pentagon} = \text{Green Pentagon}$

$\text{Orange Hexagon} + \text{Green Pentagon} = 7$

$\text{Orange Hexagon} + \text{Purple Star} = 6$

$\text{Green Pentagon} = (\quad)$

$\text{Orange Hexagon} = (\quad)$

$\text{Purple Star} = (\quad)$



第7课时 8和9的认识

kǒu suàn

1. 口算。

$1+5=$

$6-4=$

$3+3=$

$7-6=$

$5+2=$

$7-0=$

$2+4=$

$6+1=$

$6-6=$

$0+6=$

$3+2=$

$5-1=$

$6-2=$

$1+3=$

$4-2=$

$2+3=$

$5-2=$

$7-7=$

$7-1=$

$4+2=$

$5-4=$

$1+6=$

$7-3=$

$6-5=$

$7-5=$

$3-2=$

$2+2=$

$3+1=$

$7+0=$

$6-1=$

zài

lǐ tián shàng

huò

2. 在 里填上 “>” “<” 或 “=”。

$2 \bigcirc 6$

$6 \bigcirc 9$

$8 \bigcirc 5$

$9 \bigcirc 7$

$8 \bigcirc 9$

$9 \bigcirc 4$

$3 \bigcirc 8$

$4 \bigcirc 7$

$7 \bigcirc 8$

$9 \bigcirc 9$

$2 \bigcirc 9$

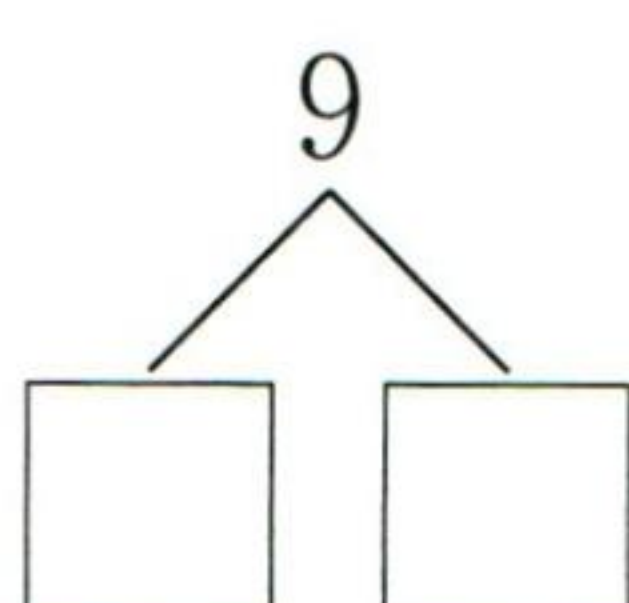
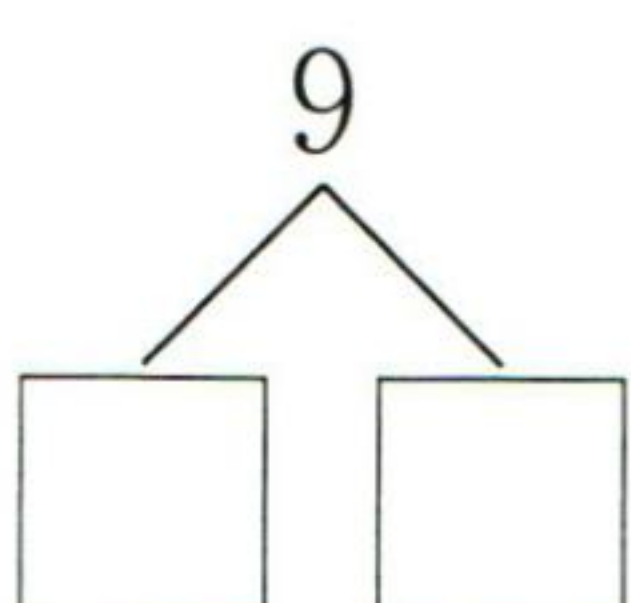
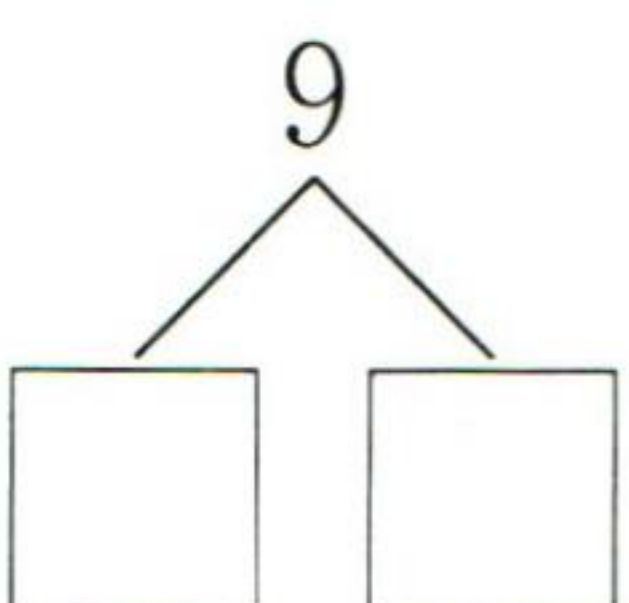
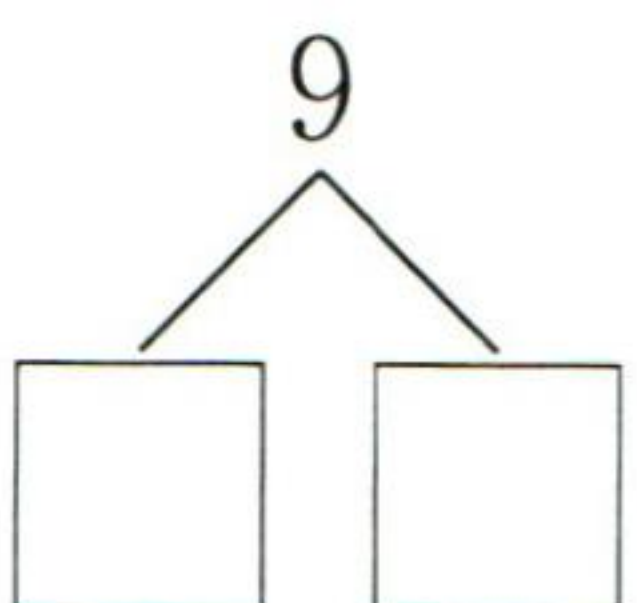
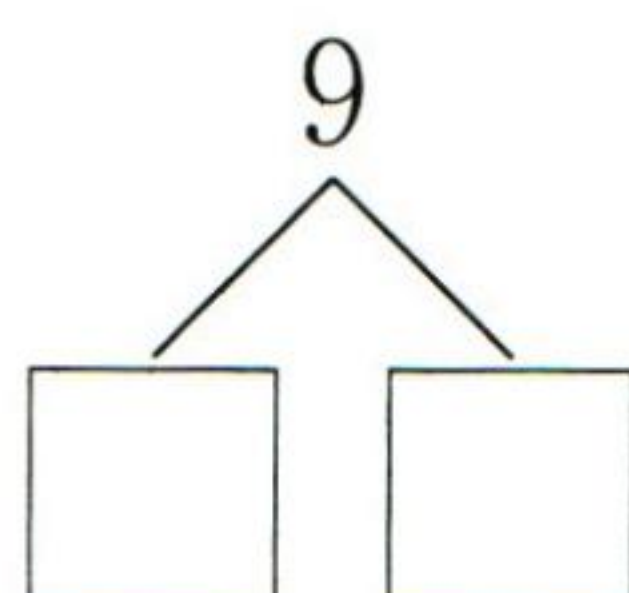
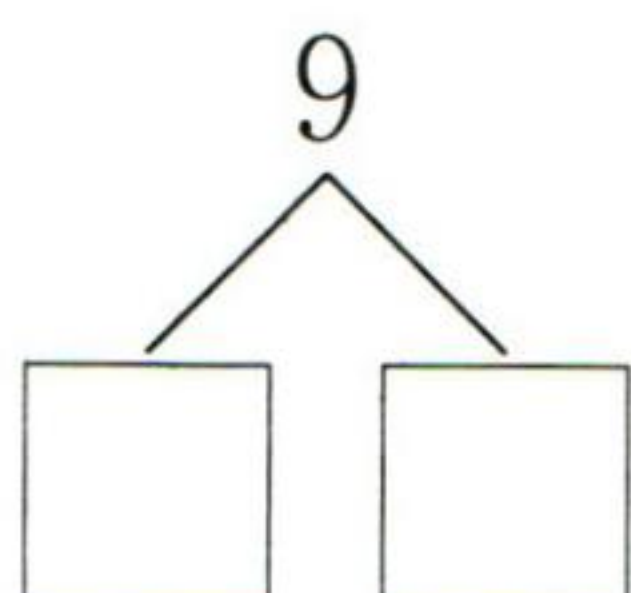
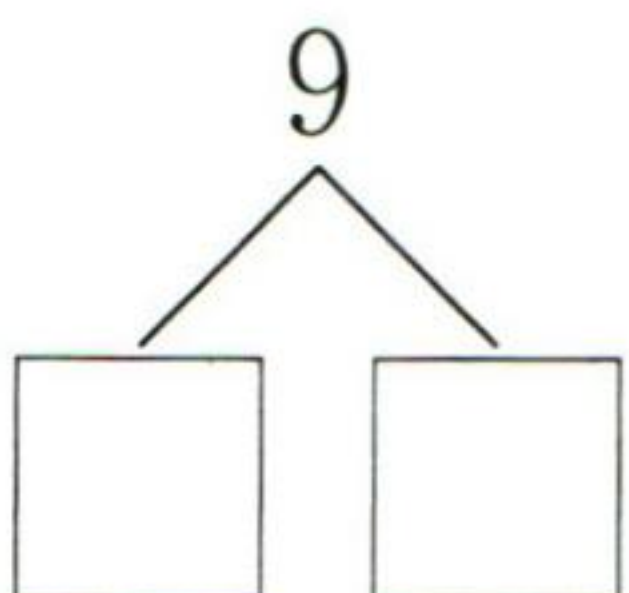
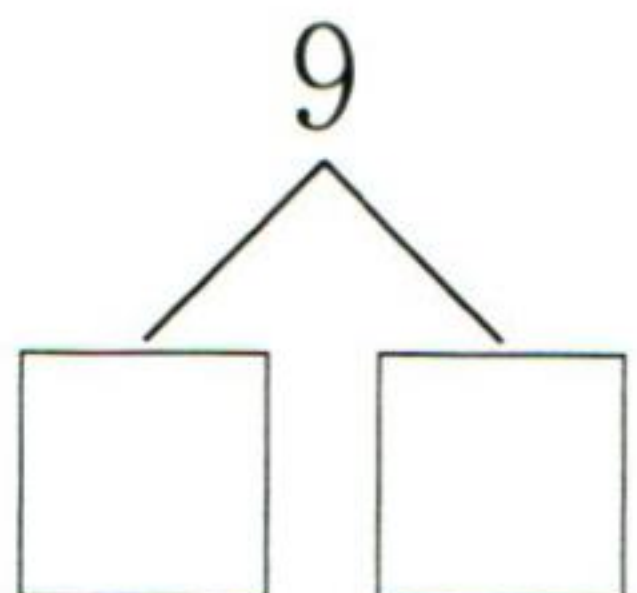
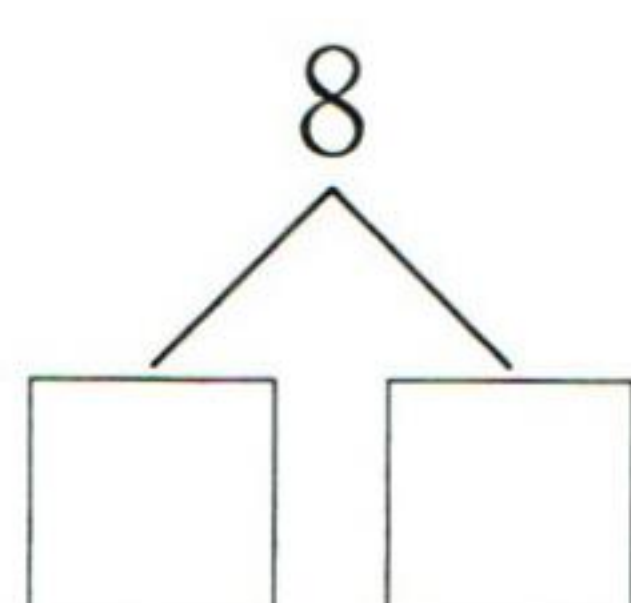
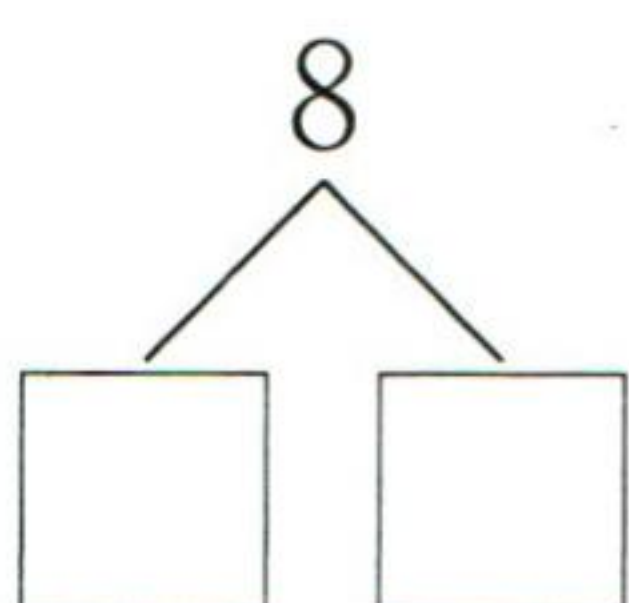
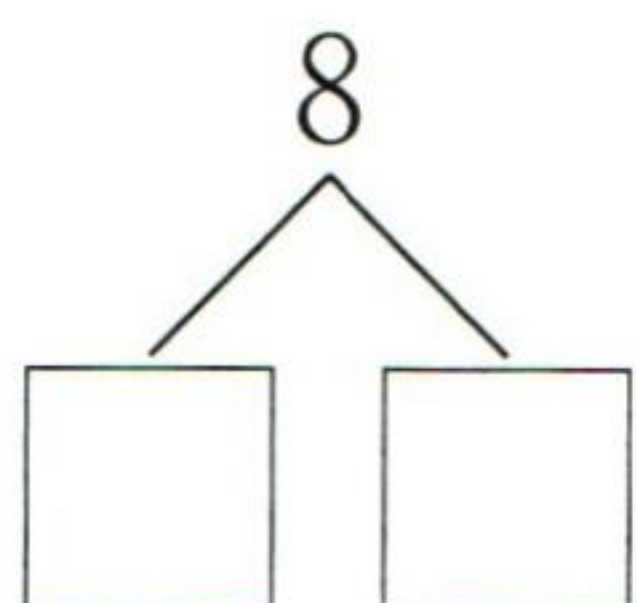
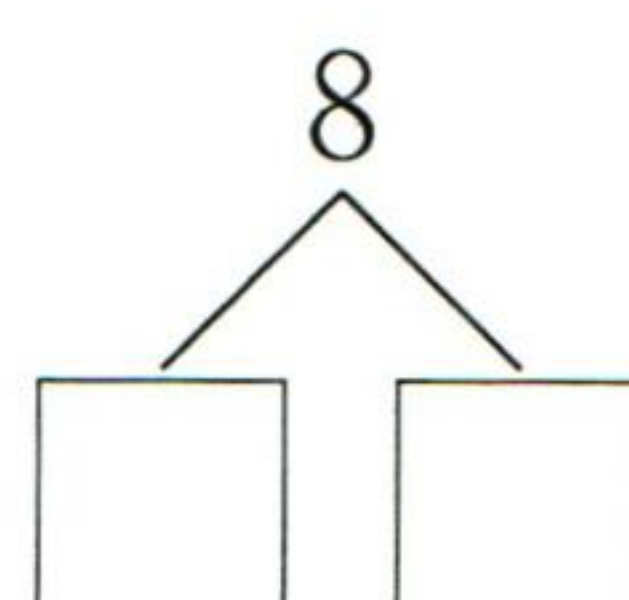
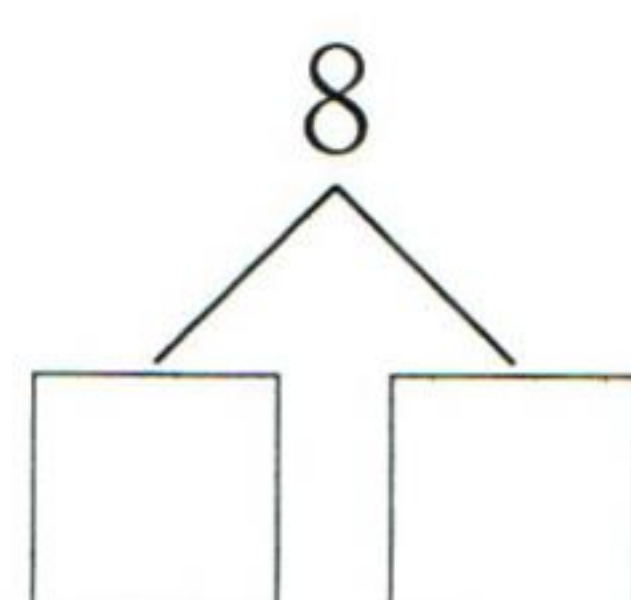
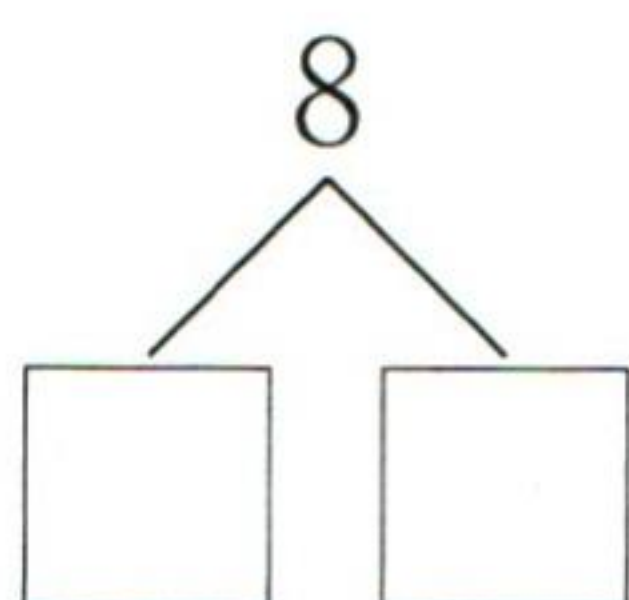
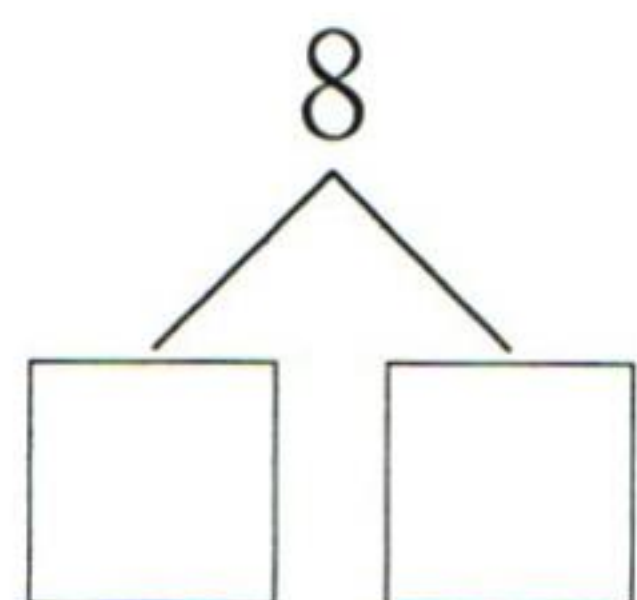
$8 \bigcirc 1$

共 _____ 题 答对 _____ 题



第8课时 8和9的组成

bǎ fàng zài liǎng gè hé zi lǐ kě yǐ zěn yàng fàng
1. 把  放在两个盒子里, 可以怎样放?



zhào yàng zi tián yì tián
2. 照样子, 填一填。

8	
7	1
	2
	3
4	

9	
	1
	2
	3
5	



第9课时 8和9的加减法(1)

kǒu suàn

1. 口算。

$8+1=$

$2+6=$

$3+5=$

$1+8=$

$6+2=$

$5+3=$

$9-1=$

$8-6=$

$8-3=$

$9-8=$

$8-2=$

$8-5=$

$3+6=$

$7+1=$

$4+5=$

$6+3=$

$1+7=$

$5+4=$

$9-3=$

$8-1=$

$9-4=$

$9-6=$

$8-7=$

$9-5=$

$7-2=$

$4+4=$

$9-0=$




$9-2=$




$8-4=$




$2+4=$




gěi zhèng què de dá àn tú shàng yán sè

2. 给正确的答案涂上颜色。




$9-2=$   

$8-5=$   

$2+7=$   

$4+5=$   

$9-8=$   

$2+6=$   

共 _____ 题 答对 _____ 题



第 10 课时 8 和 9 的加减法(2)

kǒu suàn

1. 口算。

$1+7=$

$6-6=$

$6-2=$

$9-0=$

$9-5=$

$5+1=$

$7-3=$

$2+7=$

$7-4=$

$2+6=$

$5-3=$

$7-5=$

$6-4=$

$9+0=$

$5+2=$

$3+6=$

$5+3=$

$7-6=$

$8-4=$

$8-7=$

$4+4=$

$3+3=$

$6-5=$

$5-2=$

$8-5=$

$2+4=$

$6+1=$

$7+0=$

$7-2=$

$5+4=$

zài lǐ tián shàng

huò

2. 在 \bigcirc 里填上 “ $>$ ” “ $<$ ” 或 “ $=$ ”。

$3+5 \bigcirc 7$

$6+2 \bigcirc 8$

$9-6 \bigcirc 8$

$3+4 \bigcirc 9-2$

$8-3 \bigcirc 3+4$

$7-7 \bigcirc 0+0$

$4-2 \bigcirc 8-7$

$6-1 \bigcirc 6$

$9-3 \bigcirc 5$

共 _____ 题 答对 _____ 题

自我评价: 



第 11 课时 解决问题——图文结合, 求部分

kǒu suàn

1. 口算。

$4+5=$

$7-6=$

$6-4=$

$7-1=$

$1+2=$

$6+2=$

$8+1=$

$4-4=$

$8-0=$

$5-4=$

$4+1=$

$2+2=$

$7-7=$

$7-3=$

$9-7=$

$6+1=$

$9-1=$

$1+5=$

$7-5=$

$2+0=$

$3+4=$

$9-6=$

$3+6=$

$6-1=$

$4+4=$

$7-2=$

$6+3=$

$6-3=$

$2+7=$

$9-8=$

tián yì tián

2. 填一填。

$2+\square=5$

$7-\square=5$

$8-\square=8$

$3+\square=8$

$\square+2=8$

$5+\square=7$

$6+\square=8$

$1+\square=7$

$\square+4=8$



第 12 课时 10 的认识

kǒu suàn

1. 口算。

$7 - 4 =$

$1 + 7 =$

$8 - 5 =$

$6 - 5 =$

$8 - 2 =$

$7 - 3 =$

$5 + 4 =$

$2 + 7 =$

$7 - 6 =$

$8 - 3 =$

$9 - 5 =$

$8 - 4 =$

$5 + 3 =$

$8 - 6 =$

$2 + 5 =$

$8 + 1 =$

$9 - 7 =$

$0 + 6 =$

$6 - 2 =$

$1 + 5 =$

$7 - 7 =$

$3 + 3 =$

$7 - 5 =$

$5 - 2 =$

$4 + 4 =$

$8 - 1 =$

$7 + 2 =$

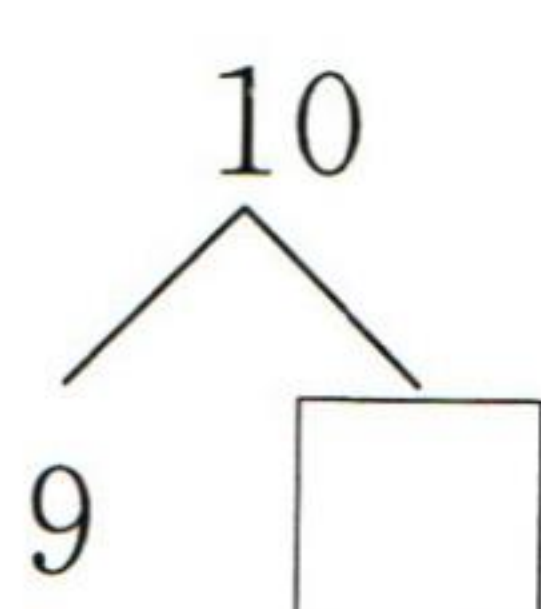
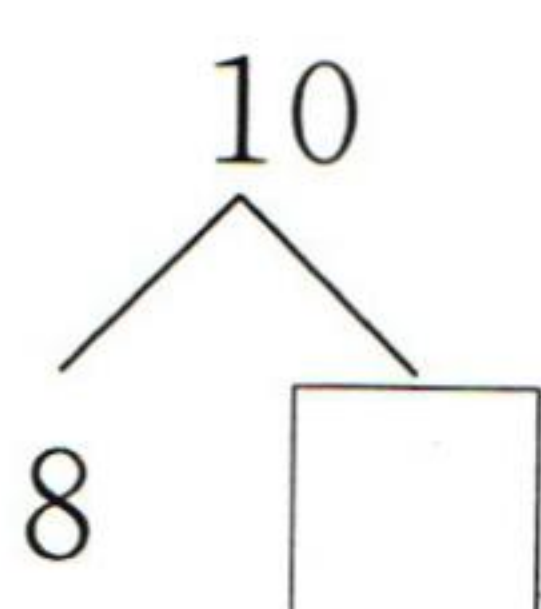
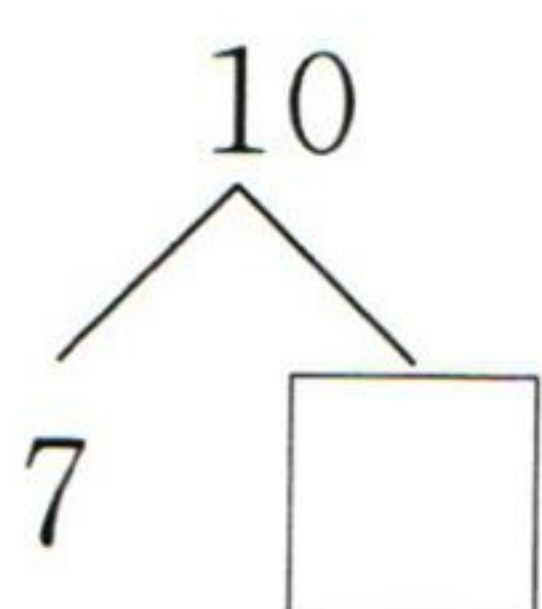
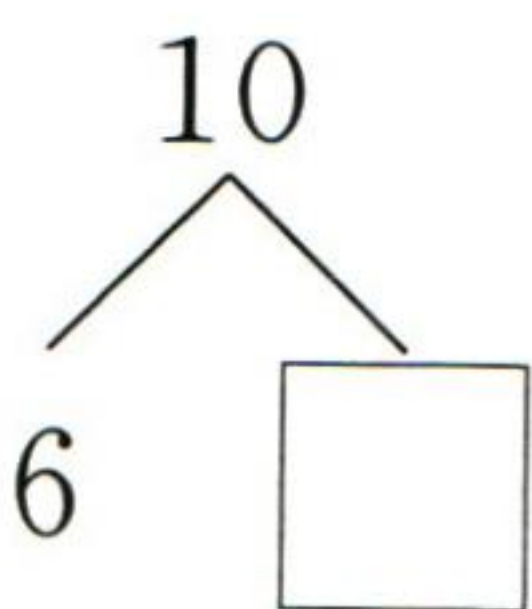
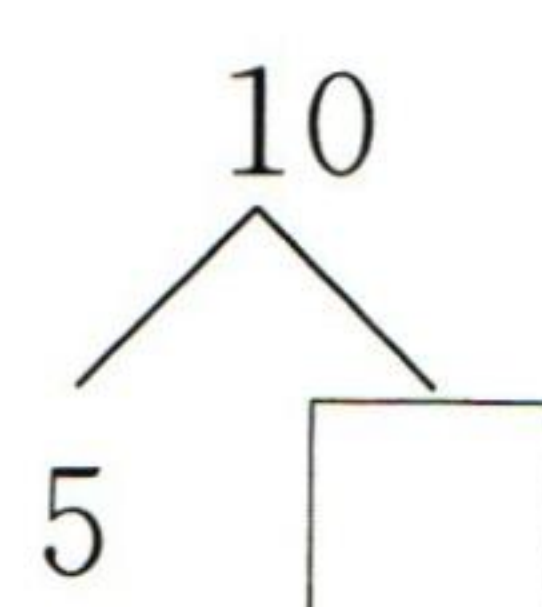
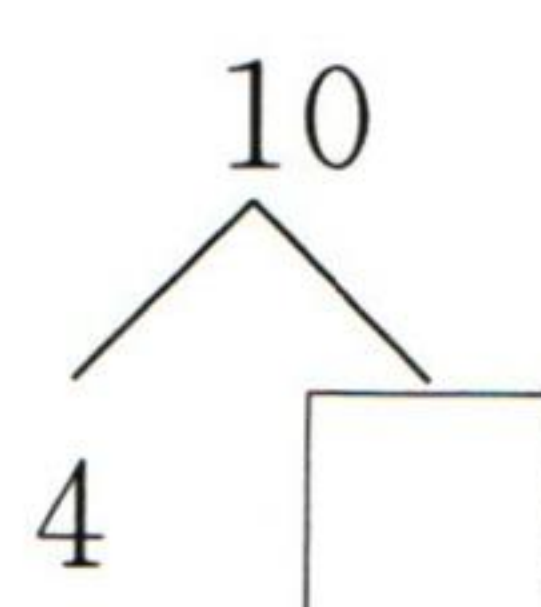
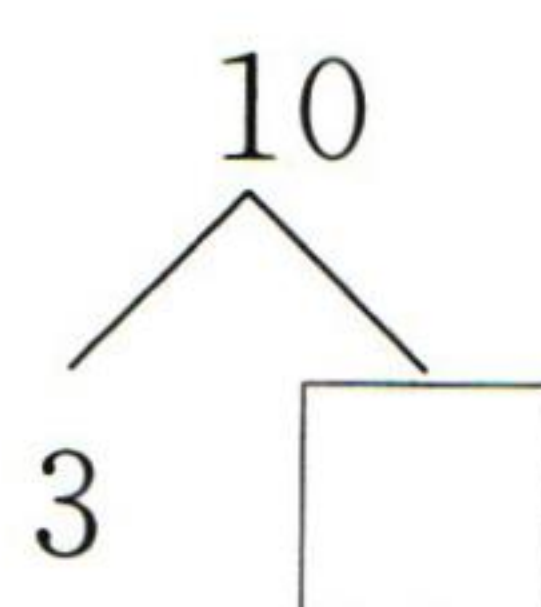
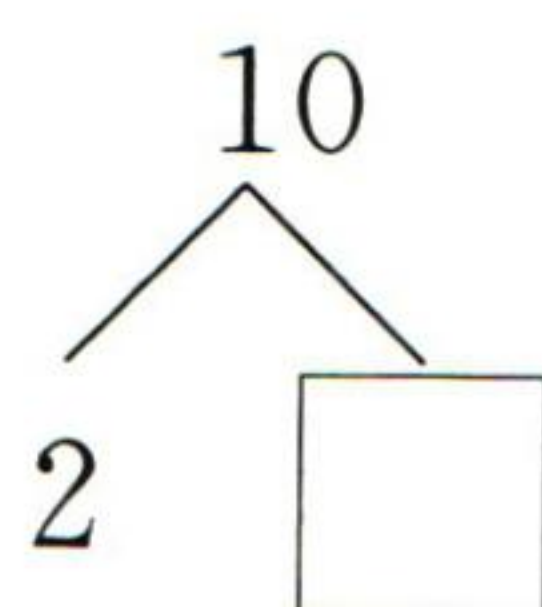
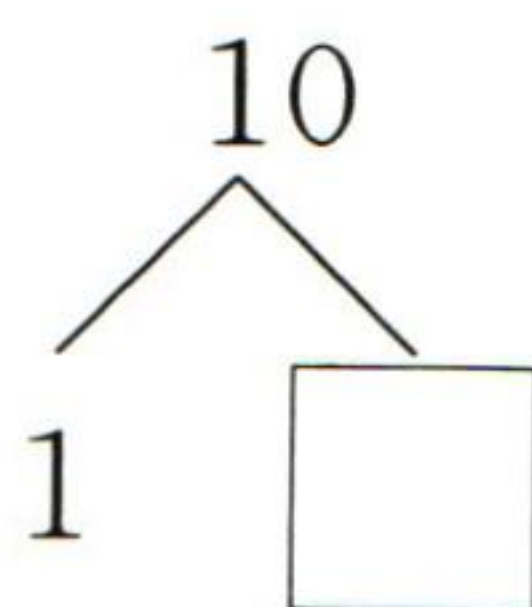
$6 + 2 =$

$1 + 8 =$

$2 + 6 =$

tián yì tián

2. 填一填。



共 _____ 题

答对 _____ 题



第 13 课时 10 的加减法(1)

kǒu suàn

1. 口算。

$8+2=$

$6+4=$

$9+1=$

$2+8=$

$4+6=$

$1+9=$

$10-2=$

$10-6=$

$10-1=$

$10-8=$

$10-4=$

$10-9=$

$3+7=$

$5+5=$

$0+10=$

$10-3=$

$10-5=$

$10-10=$

$7+3=$

$7-2=$

$10-7=$

$9-1=$

$5+4=$

$2+4=$

$3+6=$

$7-7=$

$9-3=$

$10-0=$

$1+8=$

$3+5=$

zài

lǐ tián shàng

huò

2. 在 \bigcirc 里填上 “ $>$ ” “ $<$ ” 或 “ $=$ ”。

$3+7 \bigcirc 9$

$10-2 \bigcirc 8$

$7+2 \bigcirc 10$

$5+5 \bigcirc 10-0$

$9-2 \bigcirc 2+5$

$10-1 \bigcirc 9-2$

$2+6 \bigcirc 10-7$

$4+6 \bigcirc 3+3$

$6+1 \bigcirc 10-2$

$6+3 \bigcirc 7+0$

$7-5 \bigcirc 9-7$

$6+2 \bigcirc 3-3$

共 _____ 题 答对 _____ 题

29

自我评价: 



第 14 课时 10 的加减法(2)

kǒu suàn

1. 口算。

$10 - 1 =$

$10 - 9 =$

$10 - 6 =$

$8 + 1 =$

$10 - 2 =$

$10 - 0 =$

$5 + 2 =$

$10 - 10 =$

$9 - 6 =$

$10 - 8 =$

$0 + 6 =$

$10 + 0 =$

$8 + 2 =$

$9 - 7 =$

$9 - 9 =$

$6 + 3 =$

$7 + 3 =$

$8 - 8 =$

$10 - 3 =$

$10 - 4 =$

$3 + 7 =$

$2 + 4 =$

$6 - 5 =$

$5 + 5 =$

$4 + 6 =$

$10 - 5 =$

$9 - 8 =$

$9 + 1 =$

$9 - 2 =$

$10 - 7 =$

zài lǐ tián shàng hé shì de shù2. 在 里填上合适的数。

$\square + 6 = 10$

$\square - 9 = 1$

$8 + \square = 10$

$10 - \square = 5$

$4 + \square = 10$

$10 - \square = 7$

$3 + \square = 10$

$\square - 8 = 2$

$10 + \square = 10$

共 _____ 题 答对 _____ 题

30

自我评价: 



第 15 课时 连加连减

kǒu suàn

1. 口算。

$10 - 1 - 2 =$

$5 + 0 + 3 =$

$3 + 2 + 4 =$

$4 + 1 + 5 =$

$7 - 2 - 1 =$

$10 - 2 - 7 =$

$10 - 3 - 3 =$

$1 + 2 + 4 =$

$1 + 4 + 5 =$

$2 + 2 + 4 =$

$8 - 3 - 1 =$

$10 - 2 - 0 =$

$8 - 2 - 3 =$

$1 + 6 + 3 =$

$8 + 1 + 1 =$

$4 + 1 + 4 =$

$10 - 4 - 5 =$

$10 - 4 - 2 =$

$9 - 4 - 2 =$

$6 - 3 - 3 =$

$7 + 2 + 1 =$

$3 + 4 + 1 =$

$1 + 3 + 5 =$

$10 - 2 - 3 =$

$10 - 3 - 5 =$

$10 - 4 - 3 =$

$1 + 2 + 3 =$

$2 + 2 + 2 =$

$3 + 3 + 4 =$

$9 - 4 - 5 =$

zài

lǐ tián shàng

huò

2. 在 \bigcirc 里填上 “ $>$ ” “ $<$ ” 或 “ $=$ ”。

$10 - 3 - 7 \bigcirc 0$

$2 \bigcirc 10 - 2 - 4$

$10 - 5 - 3 \bigcirc 3$

$10 - 3 - 4 \bigcirc 4$

$5 \bigcirc 2 + 2 + 1$

$7 + 1 + 1 \bigcirc 10$

$3 + 4 + 3 \bigcirc 8$

$2 \bigcirc 7 - 3 - 4$

$2 + 4 + 1 \bigcirc 8$

共 _____ 题 答对 _____ 题

31

自我评价：





第 16 课时 加减混合

kǒu suàn

1. 口算。

$3+5-4=$

$9-7+5=$

$2+5-3=$

$7-2-2=$

$3+4-2=$

$1+3+4=$

$2+5+3=$

$6-2+5=$

$8+1-3=$

$9-4+2=$

$2+8-2=$

$5-0+4=$

$4+6-1=$

$3+6+1=$

$10-4+2=$

$7-5+0=$

$8-2+3=$

$9-2-7=$

$2+4+3=$

$5+5-7=$

$9+1-2=$

$8-5-1=$

$6-3+4=$

$6+2-5=$

$5+5-5=$

$2+3+4=$

$8-5+4=$

$10-6+2=$

$7-4+6=$

$5+3-7=$

zài

lǐ tián shàng hé shì de shù

2. 在 里填上合适的数。

$$10 \xrightarrow{-4} \square \xrightarrow{+2} \square \xrightarrow{-5} \square \xrightarrow{+1} \square \xrightarrow{+3} \square \xrightarrow{+3} \square$$

$$9 \xrightarrow{-5} \square \xrightarrow{+3} \square \xrightarrow{+2} \square \xrightarrow{-8} \square \xrightarrow{+6} \square \xrightarrow{+3} \square$$

$$6 \xrightarrow{-3} \square \xrightarrow{-2} \square \xrightarrow{+8} \square \xrightarrow{+1} \square \xrightarrow{-7} \square \xrightarrow{+5} \square$$

共 _____ 题 答对 _____ 题

自我评价: ☆☆☆☆☆



6 11~20 各数的认识

第1课时 数数

kǒu suàn

1. 口算。

$8-6=$

$1+9=$

$9-2-4=$

$7-2=$

$5+4=$

$8-1-5=$

$2+7=$

$6+3=$

$7-3-2=$

$4+6=$

$2+5=$

$3+3+2=$

$10-4=$

$7-5=$

$4-2-2=$

$10-7=$

$3+6=$

$6-0-1=$

$9-4=$

$6-5=$

$2+2+3=$

$9-8=$

$7-4=$

$5-2-1=$

$8-3=$

$3+5=$

$10-3-1=$

$2+6=$

$8-5=$

$7-2-2=$

2. 在 \bigcirc 里填上 “+” 或 “-”。

$0 \bigcirc 8 = 8$

$2 \bigcirc 7 = 9$

$10 \bigcirc 5 = 5$

$4 \bigcirc 4 = 8$

$9 \bigcirc 5 = 4$

$6 \bigcirc 3 = 9$

$3 \bigcirc 5 = 8$

$3 \bigcirc 7 = 10$

$1 \bigcirc 3 \bigcirc 5 = 9$

$9 \bigcirc 1 \bigcirc 6 = 2$

$10 \bigcirc 3 \bigcirc 5 = 2$

共 _____ 题 答对 _____ 题



第2课时 11~20 各数的读写

kǒu suàn

1. 口算。

$1+8=$

$9-3=$

$2+1+3=$

$9-2=$

$4+5=$

$8-2-2=$

$4+3=$

$8-2=$

$6-2+3=$

$10-7=$

$9-8=$

$10-5+3=$

$9-7=$

$8-4=$

$5+5-3=$

$10-5=$

$2+8=$

$3+4+2=$

$8-1=$

$3+7=$

$1+1+7=$

$7-3=$

$2+4=$

$3-2+8=$

$10-4=$

$3+6=$

$10-9+5=$

$7+2=$

$2+5=$

$4+6-5=$

zài

lǐ tián shàng

huò

2. 在 里填上 “>” “<” 或 “=”。

$3+5 \bigcirc 4+4$

$8-3 \bigcirc 8-2$

$10-5+2 \bigcirc 5$

$6-3 \bigcirc 6+3$

$1+5 \bigcirc 6+2$

$4+3+2 \bigcirc 10$

$7+2 \bigcirc 10-1$

$9-1 \bigcirc 4+5$

$9-6-2 \bigcirc 2$

共 _____ 题 答对 _____ 题

自我评价: 



第3课时 11~20的加减法

kǒu suàn

1. 口算。

$5+13=$

$3+14=$

$16-10=$

$18-4=$

$12+5=$

$4+12=$

$10+7=$

$19-7=$

$10+2=$

$7+11=$

$12+1=$

$11-1=$

$17-10=$

$15-4=$

$19-10=$

$7+12=$

$17+0=$

$13+5=$

$19-8=$

$18-6=$

$17-5=$

$11+2=$

$2+16=$

$15+4=$

$19-4=$

$18-10=$

$17-3=$

$16+3=$

$11+6=$

$18+1=$

zài

lǐ tián shàng

huò

2. 在○里填上“+”或“-”。

$16 \bigcirc 3 = 13$

$10 \bigcirc 7 = 17$

$19 \bigcirc 9 \bigcirc 4 = 14$

$12 \bigcirc 3 = 15$

$18 \bigcirc 4 = 14$

$10 \bigcirc 8 \bigcirc 6 = 12$

$15 \bigcirc 2 = 13$

$11 \bigcirc 5 = 16$

$14 \bigcirc 3 \bigcirc 5 = 16$

共 _____ 题 答对 _____ 题

35

自我评价：☆☆☆☆☆



第4课时 解决问题——用数数的方法

kǒu suàn

1. 口算。

$18 - 3 =$

$12 + 5 =$

$16 - 4 =$

$15 + 3 =$

$19 - 7 =$

$4 + 12 =$

$18 - 5 =$

$13 + 4 =$

$14 - 2 =$

$7 + 11 =$

$15 - 3 =$

$13 + 5 =$

$16 - 3 =$

$2 + 16 =$

$19 - 6 =$

$1 + 14 =$

$18 - 7 =$

$10 + 2 =$

$18 - 8 =$

$17 + 0 =$

$17 - 1 =$

$11 + 2 =$

$14 - 3 =$

$10 + 5 =$

$14 - 10 =$

$12 + 7 =$

$19 - 4 =$

$16 + 2 =$

$14 + 5 =$

$16 + 3 =$

zài lǐ tián shàng hé shì de shù

2. 在 里填上合适的数。

$\square - 9 = 10$

$14 + \square = 19$

$\square + 6 = 16$

$18 - \square = 11$

$\square - 6 = 13$

$\square - 5 = 12$

$3 + \square = 19$

$\square + 4 = 18$

$17 - \square = 15$

共 _____ 题 答对 _____ 题

自我评价: 



☆ 数学乐园

kǒu suàn

1. 口算。

$10+8=$

$14+2=$

$17-7=$

$14-2=$

$16-6=$

$2+11=$

$10+6=$

$14+5=$

$16-3=$

$8-2=$

$17-10=$

$5+13=$

$3+6=$

$18-5=$

$18-8=$

$12-2=$

$13+3=$

$4+10=$

$4+15=$

$10+1=$

$14-4=$

$15-4=$

$16-1=$

$6+11=$

$0+9=$

$12+6=$

$15-10=$

$19-9=$


$18-10=$

$2+17=$

bāng xiǎo sōng shǔ zhǎo xiàng guǒ

bǎ dé shù xiāng tóng de suàn shì lián qǐ lái

2. 帮小松鼠找橡果。(把得数相同的算式连起来)



$10+5-2$



$6+4+5$



$13+5-7$




$18-6+7$

$19-3-1$




$11+3+5$



$17-5+1$



$5+5+1$



共 _____ 题 答对 _____ 题



7 认识钟表

认识钟表

kǒu suàn

1. 口算。

$1+3=$

$4-1=$

$16-3=$

$6+13=$

$2+4=$

$4-4=$

$18-2=$

$1+7=$

$6-1=$

$8-5=$

$2+13=$

$12+0=$

$0+9=$

$15-3=$

$13-2=$

$5+1=$

$17-4=$

$10-3=$

$7+2=$

$18-8=$

$9-5=$

$6+4=$

$13+3=$

$1+6=$

$8-8=$

$9-9=$

$3+14=$

$10-7=$

$4+4=$

$8+10=$

zài

lǐ tián shàng hé shì de shù

2. 在 里填上合适的数。

$17 - \square = 10$

$10 + \square = 12$

$15 - 4 + \square = 16$

$\square + 13 = 18$

$15 - \square = 11$

$5 + 5 + \square = 17$

$19 - \square = 11$

$14 + \square = 16$

$11 + 8 - \square = 15$



8 20 以内的进位加法

第 1 课时 9 加几

kǒu suàn

1. 口算。

$9 + 1 + 1 =$

$9 + 1 + 2 =$

$9 + 1 + 3 =$

$9 + 2 =$

$9 + 3 =$

$9 + 4 =$

$9 + 1 + 4 =$

$9 + 1 + 5 =$

$9 + 1 + 6 =$

$9 + 5 =$

$9 + 6 =$

$9 + 7 =$

$9 + 1 + 7 =$

$9 + 1 + 8 =$

$9 + 1 + 9 =$

$9 + 8 =$

$9 + 9 =$

$9 + 10 =$

tián yì tián

2. 填一填。

$$9 + 4 = \square$$

$$9 + 6 = \square$$

$$9 + 3 = \square$$

$$9 + 2 = \square$$

$$9 + 5 = \square$$

$$9 + 8 = \square$$



第2课时 8、7、6 加几(1)

kǒu suàn

1. 口算。

$9 + 2 =$

$6 + 6 =$

$6 + 9 =$

$5 + 5 =$

$8 + 4 =$

$4 + 6 =$

$7 + 4 =$

$9 + 8 =$

$7 + 8 =$

$12 + 3 =$

$9 + 5 =$

$6 + 7 =$

$7 + 5 =$

$7 + 7 =$

$6 + 5 =$

$8 + 5 =$

$8 + 10 =$

$8 + 8 =$

$9 + 7 =$

$8 + 7 =$

$8 + 3 =$

$3 + 7 =$

$18 - 10 =$

$15 - 5 =$

$9 + 4 =$

$7 + 9 =$

$11 + 3 =$

$9 + 9 =$

$8 + 6 =$

$17 + 2 =$

tián yì tián

2. 填一填。

$$\begin{array}{c}
 8 + 9 = \square \\
 \begin{array}{cc}
 \swarrow & \searrow \\
 \square & \square \\
 \swarrow & \searrow \\
 \square & \square
 \end{array}
 \end{array}$$

$$\begin{array}{c}
 7 + 5 = \square \\
 \begin{array}{cc}
 \swarrow & \searrow \\
 \square & \square \\
 \swarrow & \searrow \\
 \square & \square
 \end{array}
 \end{array}$$

$$\begin{array}{c}
 6 + 6 = \square \\
 \begin{array}{cc}
 \swarrow & \searrow \\
 \square & \square \\
 \swarrow & \searrow \\
 \square & \square
 \end{array}
 \end{array}$$

共 _____ 题 答对 _____ 题

自我评价：☆☆☆☆☆



第3课时 8、7、6 加几(2)

kǒu suàn

1. 口算。

$7+1=$

$6+7=$

$3+7=$

$11+5=$

$9+6=$

$6+9=$

$12+6=$

$13+3=$

$4+4=$

$8+2=$

$7+7=$

$9+6=$

$8+4=$

$11+8=$

$6+2=$

$7+4=$

$10+7=$

$9+3=$

$3+6=$

$7+3=$

$6+5=$

$9+9=$

$10+9=$

$6+6=$

$16+3=$

$11+6=$

$8+7=$

$11+7=$

$8+6=$

$14+2=$

zài lǐ tián shàng hé shì de shù

2. 在 里填上合适的数。

$7+\square=14$

$\square+7=10$

$8+\square=14$

$\square+9=12$

$8+\square=11$

$7+\square=11$

$6+\square=15$

$\square+7=13$

$\square+8=16$



第4课时 5、4、3、2 加几

kǒu suàn

1. 口算。

$8+3=$

$9+2=$

$6+7=$

$5+9=$

$5+8=$

$4+8=$

$9+3=$

$4+7=$

$6+8=$

$2+8=$

$2+9=$

$4+9=$

$5+6=$

$5+7=$

$3+8=$

$9+4=$

$8+4=$

$6+5=$

$8+5=$

$3+6=$

$9+9=$

$7+4=$

$8+8=$

$6+4=$

$3+9=$

$9+5=$

$8+6=$

$10+3=$

$0+8=$

$7+6=$

zài lǐ tián shàng

huò

2. 在○里填上“>”“<”或“=”。

$5+9 \bigcirc 14$

$13 \bigcirc 6+6$

$2+9 \bigcirc 12$

$8+4 \bigcirc 11$

$5+7 \bigcirc 13$

$6+8 \bigcirc 14$

$2+8 \bigcirc 11$

$3+9 \bigcirc 12$

$4+7 \bigcirc 10$



第5课时 解决问题——解题策略的多样性

kǒu suàn

1. 口算。

$11+4=$

$18-8=$

$4+7=$

$15-1=$

$6+8=$

$16-3=$

$2+13=$

$12-2=$

$2+15=$

$19-5=$

$16-10=$

$18-5=$

$10+9=$

$10+6=$

$9+6=$

$17-3=$

$7+8=$

$16-4=$

$18-7=$

$13-2=$

$7+7=$

$8+9=$

$5+9=$

$9+4=$

$14-4=$

$13-10=$

$17-6=$

$3+15=$

$11+2=$

$2+9=$

2. 在 \bigcirc 里填上 “ $>$ ” “ $<$ ” 或 “ $=$ ”。

$6+7 \bigcirc 14$

$9+4 \bigcirc 14$

$14-2 \bigcirc 15-3$

$19-4 \bigcirc 15$

$18-10 \bigcirc 13$

$19-5 \bigcirc 8+7$

$8+5 \bigcirc 12$

$8+8 \bigcirc 16$

$7+4 \bigcirc 18-8$

共 _____ 题 答对 _____ 题



第6课时 解决问题——用画图的策略

kǒu suàn

1. 口算。

$8+6=$

$10-7=$

$2+3+9=$

$19-5=$

$10+2=$

$15-3+4=$

$7+3=$

$14+4=$

$9+8-7=$

$17-6=$

$9+5=$

$3+6+8=$

$4+8=$

$15+3=$

$16-6-9=$

$18-10=$

$6+7=$

$14-10+4=$

$9+9=$

$10-4=$

$5+7-2=$

$17-4=$

$9+4=$

$14-4-2=$

$9+3=$

$19-3=$

$4+7-10=$

$15-5=$

$6+6=$

$9-3+7=$

zài

lǐ tián shàng hé shì de shù

2. 在 里填上合适的数。

$8+\square=13$

$\square+7=14$

$\square+9=13$

$9+\square=11$

$\square+8=14$

$8+\square=11$

$\square+9=14$

$7+\square=11$

$7+\square=16$



期末综合练(1)

kǒu suàn

1. 口算。

$9+5=$

$17-2=$

$11+7-6=$

$14-10=$

$5+12=$

$14-10+7=$

$11+3=$

$18-7=$

$11+5-10=$

$13-2=$

$11+7=$

$1+5+8=$

$9+6=$

$16-1=$

$18-10-4=$

$12-10=$

$9+4=$

$16-5+7=$

$2+5=$

$17-4=$

$9-4+7=$

$15-5=$

$10+9=$

$9+7-3=$

$7+7=$

$8-4=$

$16-10+7=$

$19-9=$

$5+6=$

$8+4-2=$

zài lǐ tián shàng hé shì de shù

2. 在 里填上合适的数。

$6+\square=10$

$9+\square=17$

$\square+2=12$

$5+\square=11$

$10+\square=10$

$5+\square=6$

$\square+7=15$

$5+\square=12$

$10+\square=19$



期末综合练(2)

kǒu suàn

1. 口算。

$11 + 4 =$

$19 - 5 =$

$9 + 9 - 5 =$

$14 - 4 =$

$5 + 9 =$

$10 - 6 + 8 =$

$9 + 10 =$

$16 - 3 =$

$4 + 5 + 8 =$

$17 - 10 =$

$2 + 17 =$

$18 - 1 - 6 =$

$8 + 9 =$

$9 + 6 =$

$18 - 10 + 4 =$

$17 - 4 =$

$10 - 2 =$

$15 - 4 - 10 =$

$6 + 3 =$

$4 + 9 =$

$10 + 9 - 8 =$

$18 - 2 =$

$10 - 9 =$

$7 - 5 + 9 =$

$8 + 7 =$

$10 + 0 =$

$17 - 7 - 4 =$

$10 - 4 =$

$16 - 5 =$

$16 - 10 + 9 =$

zài

lǐ tián shàng

huò

2. 在○里填上“>”“<”或“=”。

$5 + 6 - 1 \bigcirc 9$

$5 + 5 + 6 \bigcirc 16$

$2 + 6 + 8 \bigcirc 15$

$7 + 6 - 10 \bigcirc 3$

$19 - 9 - 9 \bigcirc 0$

$16 - 10 + 4 \bigcirc 13$

$10 - 5 + 8 \bigcirc 11$

$6 + 3 + 7 \bigcirc 17$

$10 - 3 + 9 \bigcirc 15$

共 _____ 题 答对 _____ 题

自我评价: ☆☆☆☆☆

智能口算



作业检查 1秒批改



题目做错 即刻讲解

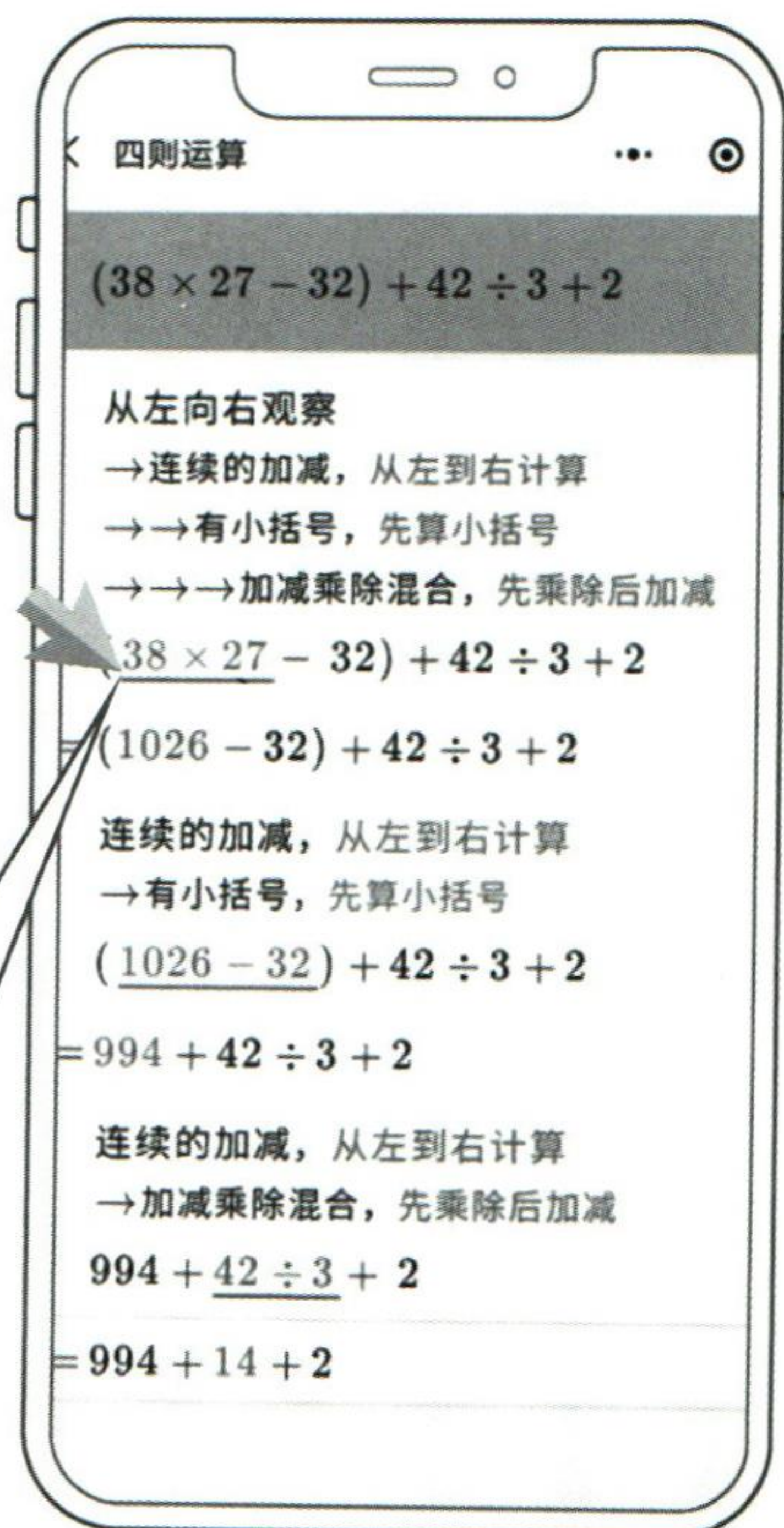
小程序使用说明

一、批改作业

微信扫码打开小程序，无须下载、无须安装。



点击横线查看
此步骤详解



二、错题讲解

1. 点击批改后的错题。
2. 查看讲解过程，掌握正确解题步骤。